



உதயன்

விலை ரூபா 10.00

www.uthayan.com

சுடர் 21 வள்ளுவர் ஆண்டு 2037 ஐப்பசி 12 ஞாயிற்றுக்கிழமை (29.10.2006) UTHAYAN-A Lively National Tamil Daily கதிர் : 333

ஏ-9 பாதையை திறக்க இணங்காவிடில் அடுத்த பேச்சுக்கு புலிகள் சம்மதிக்கார்

அந்த விவகாரம் பேச்சுக்கு அப்பாற்பட்டது என்று அரசு அடித்துச் சொல்கிறது **சிறப்புச் செய்தி**

- ஜெனிவாவிலிருந்து ந.வித்தியாதரன் -

ஜெனிவா, ஒக்டோபர்.29
 ★ அரசாங்கம் முடிவைத்துள்ள ஏ-9 பாதையைத் திறக்கவேண்டும். அதற்கு இப்போதைய பேச்சுக்களில் இணக்கம் தெரிவிக்கவேண்டும். - அவ்வாறில்லையெனின் அடுத்த கட்ட பேச்சுக்கு திகதி நிர்ணயிக்க விடுதலைப் புலிகள் சம்மதிக்கமாட்டார்கள்.
 ★ ஏ-9 பாதையைத் திறப்பது என்ற கேள்விக்கே இடமில்லை; அது பேச்சுக்கு அப்பாற்பட்டது குடாநாட்டு மக்களுக்குத் தேவையான சகல பொருள்களும் கப்பல் மூலம் அனுப்பப்படும் அதற்கு விடுதலைப் புலிகள் ஒத்துழைக்க வேண்டும்.
 ஏ-9 பாதையை திறப்பது சம்பந்தமான விவகாரத்தில் விடுதலைப் புலிகளின் நிலைப்பாடும், அரசாங்கத்தின் நிலைப்பாடும் இவையே என்று மிக நம்பிக்கையாகத் தெரியவந்துள்ளது.
 நேற்று இங்குள்ள வரம்பே மாநாட்டு மண்டபத்தில் நடைபெற்ற ஜெனிவா -2 பேச்சுவார்த்தையில் ஏ-9 பாதை விவகாரம் ஆராயப்பட்ட வேளையில் இரண்டு தரப்புகளும் தத்தமது நிலைப்பாடுகளை வெளியிட்டன என்று அறியவந்தது. (10ஆம் பக்கம் பார்க்க)

அரசியல் தீர்வுத் திட்டத்தை அரசிடம் கேட்கிறார்கள் புலிகள்

- ஜெனிவாவிலிருந்து ந.வித்தியாதரன் -

ஜெனிவா, ஒக்ட.29
 இனப்பிரச்சினைக்கு நிரந்தரத் தீர்வு காண்பதற்கான யோசனையை - தீர்வுத் திட்டத்தை - முன்வைக்குமாறு விடுதலைப் புலிகள் அரசிடம் கேட்டுள்ளனர்.
 உடனடியாகத் தீர்வுத் திட்டத்தை முன்வைக்கமுடியாது அடுத்த கட்டப் பேச்சுக்களில் தீர்வைப்பற்றி ஆராயலாம் என அரசுத் தரப்பில் பதில் அளிக்கப்பட்டுள்ளது.
 ஜெனிவாவில் நேற்று ஆரம்பமான பேச்சுக்களின் போது மக்களின் மனிதாபிமானப் பிரச்சினைகளுக்கு முன்னுரிமை அளித்து அவர்களின் அவலங்களைத் தீர்க்க வேண்டும் என்று விடுதலைப் புலிகளின் பிரதிநிதிகள் விவியுறுத்தினர்.
 அரசியல்தீர்வு - இறுதித்தீர்வு - தொடர்பாகவும் பேச்சுவேண்டும் என்ற யோசனையை அரசுத்தரப்பு முன்வைத்துள்ளது. இந்த யோசனையை ஏற்றுக்கொண்ட விடுதலைப் புலிகளின் பிரதிநிதிகள், தீர்வுத்திட்டம் என்ன? அதை முன்வையுங்கள் என்று கேட்டனர். (10ஆம் பக்கம் பார்க்க)



நேற்றைய பேச்சுக்களில் புலிகள் - நோர்வே - அரசு தரப்புப் பிரதிநிதிகள்....

ஏற்கனவே இணங்கியவற்றை அமுல்படுத்த தவறியதே மோசமான நிலைக்கு காரணம் பேச்சை ஆரம்பித்து வைத்து சொல்றெய்யம் உரை

ஜெனிவா, ஒக்ட.29
 கடந்த பெப்ரவரியில் ஜெனிவாவில் நடைபெற்று பேச்சுகளில் இணக்கம் கண்ட - தங்களுக்குள் இணங்கிக்கொண்ட - விடயங்களை நடைமுறைப்படுத்த தரப்புகள் தவறியமையே இலங்கையின் இன்றைய மோசமான நிலைவரத்துக்குக் காரணமாகும்.
 ஜெனிவா -2 பேச்சுகளை நேற்று ஆரம்பித்துவைத்து விசேட உரையாற்றிய நோர்வேயின் சர்வதேச அபிவிருத்தி அமைச்சர் எரிக் சொல்ஹெய்ம்மேற்கண்டவாறு தெரிவித்தார்.
 ஜெனிவாவில் அரசும் - புலிகளும் ஏற்கனவே இணக்கம் கண்ட விடயங்களை நடைமுறைப்படுத்தத் தவறியமை குறித்து தனது கவலையையும், விசனத்தையும் வெளிப்படுத்தி உரையாற்றிய சொல்ஹெய்ம், தற்போது நடைபெறும் ஜெனிவா -2 பேச்சுகளின் பெறுபெறுகளாக மூன்று முக்கிய விடயங்களை சர்வதேச சமூகம் எதிர்பார்த்துள்ளது என்றும் தெரிவித்தார்.
 பெப்ரவரியில் ஜெனிவாவில் உடன்பட்ட விடயங்களை தரப்புகள் உரிய வழிமுறையில் நடைமுறைப்படுத்த தவறியதன் காரணமாகவே இலங்கையில் வன் செயல்கள் பரவி, மனித உரிமைகள் பெரும் அளவில் மீறப்படுகின்ற நிலைமை உருவாகியது என்றும் எரிக் சொல்ஹெய்ம் சுட்டிக்காட்டினார்.
 ஜெனிவா வந்திருக்கும் அரசுப் பிரதிநிதிகள் குழுவும் விடுதலைப் புலிகளின் குழுவின் குழுமும் இடையிலான சமாதானப் பேச்சுகள் நேற்று கவியில் நேரப்படி முற்பகல் 10 மணிக்கு வைபவரீதியாக ஆரம்பமாகின.
 ஜெனிவாவில் ஐ.நா. மனித உரிமைகள்

ஆணையகம் மற்றும் ஐரோப்பிய ஆணையகத் தலைமையகங்களுக்கு அருகே அமைந்திருக்கும் ஜெனிவா சர்வதேச மாநாட்டு நிலைய மண்டபத்தில் பேச்சுகள் தொடங்கின.
 பேச்சின் அங்குரார்ப்பண வைபவத்துக்கு ஊடகவியலாளர்கள் அனுமதிக்கப்பட்டிருந்தனர். பெரும் எண்ணிக்கையான வெளிநாட்டு மற்றும் இலங்கைச் செய்தியாளர்கள், படப்பிடிப்பாளர்கள் உட்பட (09ஆம் பக்கம் பார்க்க)

கௌரவமான அமைதியை ஏற்படுத்தும் அடிப்படைச் சூழலை பேச்சு உருவாக்கும் ஆரம்ப உரையில் அரசு குழுவின் தலைவர் கூறுகிறார்

ஜெனிவா, ஒக்ட.29
 கௌரவமான அமைதியை நாட்டில் உருவாக்குவதற்கான அடிப்படைச் சூழலைக்கு இந்தப் பேச்சுகள் உதவும். உண்மையான ஜனநாயகம் மற்றும் மனித உரிமைகளின் அடிப்படையில் அமைதி உருவாக்கப்பட வேண்டும்.
 இவ்வாறு தனது ஆரம்ப உரையில் தெரிவித்தார் அரசு பேச்சுக்குழுவின் தலைவர் அமைச்சர் நிமால் சிறிபால டி சில்வா.
 நேற்று ஜெனிவாவில் பேச்சுகள் தொடங்கியவேளை இரண்டுதரப்பு பேச்சுக் குழுக்களினதும் தலைவர்கள் தொடக்க உரையை நிகழ்த்தினர்.
 முதலில் உரையாற்றிய நிமால் சிறிபால டி சில்வா கூறியதாவது:-
 அமைதி முயற்சிகளில் உள்ளகடுபாட்டினால்தான் அனைத்துக்கட்சி மாநாட்டை மலிந்த கூட்டினார். மேலும் தற்போது (09ஆம் பக்கம் பார்க்க)

போர்நிறுத்த உடன்படிக்கையை பலப்படுத்துவதே பேச்சின்மூலம் பெறக்கூடிய உச்சக்கட்ட அடைவு

ஆரம்ப உரையில் தமிழ்ச்செல்வன் தெரிவிப்பு

ஜெனிவா, ஒக்ட.29
 இலங்கைத்தீவில் நிரந்தர சமாதானத்தையும் இனப்பிரச்சினைக்கு நிரந்தரத் தீர்வையும் தரவல்ல போர்நிறுத்த ஒப்பந்தத்தைப் பலப்படுத்துவதே இப்பேச்சின் மூலம் பெறக்கூடிய உச்சக்கட்ட அடைவு ஆகும்.
 நேற்று ஜெனிவாவில் தொடங்கிய பேச்சின் ஆரம்பத்தில் உரையாற்றியபோது இவ்வாறு தெரிவித்தார் தமிழீழ அரசியல்துறைப் பொறுப்பாளர் சு.ப.தமிழ்ச்செல்வன் மேற்கண்டவாறு உதயனுக்குத் தெரிவித்தார்.
 ஜெனிவாவில் நேற்று ஆரம்பமான பேச்சுகளின் போது மக்களின் மனிதாபிமானப் பிரச்சினைகளுக்கு முன்னுரிமை அளித்து அவர்களின் அவலங்களைத் தீர்க்க வேண்டும் என்று விடுதலைப் புலிகளின் பிரதிநிதிகள் விவியுறுத்தினர்.
 அரசியல்தீர்வு - இறுதித்தீர்வு - தொடர்பாகவும் பேச்சுவேண்டும் என்ற யோசனையை அரசுத்தரப்பு முன்வைத்துள்ளது. இந்த யோசனையை ஏற்றுக்கொண்ட விடுதலைப் புலிகளின் பிரதிநிதிகள், தீர்வுத்திட்டம் என்ன? அதை முன்வையுங்கள் என்று கேட்டனர். (10ஆம் பக்கம் பார்க்க)

ஜெனிவா, ஒக்ட.29
 அரசுக்கும் - விடுதலைப் புலிகளுக்கும் இடையில் நேற்று ஆரம்பமான முதல் நாள் பேச்சுக்களில் ஆக்க பூர்வமான முடிவு எதுவும் எட்டப்படவில்லை, பேச்சில் முன்னேற்றம் ஏதுமில்லை.

வாறு தெரிவித்தார் தமிழீழ அரசியல்துறைப் பொறுப்பாளர் சு.ப.தமிழ்ச்செல்வன்.
 தமிழர் தாயகத்தில் இடம்பெற்றுவருகின்ற அரசு வன்முறைகள் மற்றும் அரசினதும் இராணுவத்தினரதும் கடந்தகால, நிகழ்கால செயற்பாடுகளைவி ரிவாக, தெளிவாக விளக்கி தனது ஆரம்ப உரையை நிகழ்த்தினார் தமிழ்ச்செல்வன்.
 அவரது உரையின் விவரம் வருமாறு:-
 இலங்கைத்தீவில் சமாதானத்தை ஏற்படுத்துவதற்காக அயராத முயற்சிகளை மேற்கொண்டுவரும் நோர்வே அரசுக்கும் (09ஆம் பக்கம் பார்க்க)

ஆக்கபூர்வ முடிவு எதுவுமில்லை

தரம் 5 புலமைப் பரீட்சை - 2006

வினாத்தாள் - I

45 நிமிடம்

ஆசிரியர்: திரு வே. அன்பழகன்

பின்வரும் வினாக்கள் ஒவ்வொன்றிலும் தரப்பட்டுள்ள படத்துடன் மிக நெருங்கிய தொடர்புடைய சொற்களைக் கொண்ட விடையின் கீழ்க் கீறிடுக

01. 1) கிளை, குலை, வளர்தல்
2) கனி, உறுதி, நிழல்
3) குலை, உணவு, மடல்



02. 1) அழகு, துணி, அலங்காரம்
2) வியாபாரி, பிள்ளை, விருப்பம்
3) கடை, பானம், நூல்

கீழ்க்காணும் சோடிச் சொற்களில் மூன்றிற்கு ஏதாவது தொடர்புடையன தொடர்பில்லாத சோடிச் சொற்களின் கீழ்க் கோடிடுக.

03. A - வைத்தியர் - வைத்தியசாலை
B - கடல் - கப்பல்
C - சூரியன் - ஆகாயம்
D - பிச்சைகாரன் - தோட்டம்
04. A - விவசாயி - வயல்
B - பிரதானவீதி - பேருந்து
C - நீதிமன்றம் - அச்சுக்கூடம்
D - கைவாளர் - அரசன்

பின்வரும் வினாக்களுக்காக கொடுக்கப்பட்டுள்ள வடிவங்களில் மிகவும் பொருத்தமாக உள்ள வடிவங்கள் இரண்டைக் காட்டும் எழுத்துக்கள் அடங்கிய விடைக்குக் கீழ்க் கீறிடுக.

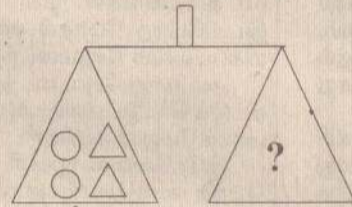
05. i) AD
ii) AE
iii) BF

06. i) AF
ii) BF
iii) CD

குறியீடுகளின் நிறைகளுக்குச் சமமான நிறைகளைக் கொண்ட குறியீடுகளை அவதானித்துக் கேட்கப்பட்ட வினாக்கள் ஒவ்வொன்றுக்குமான விடையின் கீழ்க் கீறிடுக.

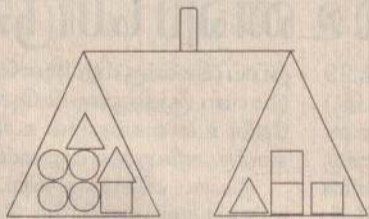
\triangle இன் நிறை = \square இன் நிறை
 \square இன் நிறை = \circ இன் நிறை

07. இதன்படி அருகே உள்ள தராகத் தட்டுக்கள் இரண்டும் சமநிறையில் இருப்பதற்கு தராசின் வலதுபக்கத்தில் சேர்க்கப்பட வேண்டிய நிறையை உள்ளடக்கும் விடை பின்வருவனவற்றுள் எது?



- 1) 2) 3)

08. அருகேயுள்ள தராகத் தட்டுக்கள் இரண்டும் சமநிறையில் காணப்படுவதற்கு தராசின் வலது பக்கத்தில் இன்னும் சேர்க்கப்பட வேண்டிய நிறை எது?



- 1) 2) 3)

முதலிரண்டு சொற்களுக்கும் இடையேயுள்ள தொடர்பை அவதானித்து மூன்றாவது சொல்லுடன் தொடர்புடைய சொல் எது எனத் தெரிந்து கீறிடுக

09. பாலைவனம் - பாவம் மத்தளம் -?
1) தளம் 2) மதம் 3) மனம் 4) தாளம்
10. அந்தரம் - அதரம் ஆராய்ச்சி -?
1) ஆச்சி 2) ஆராச்சி 3) ஆய்ச்சி 4) ஆராய்சி

சரியான விடையின் கீழ்க் கோடிடுக.

11. ஒரு சங்கத்தில் 10 பேர் உறுப்பினராக உள்ளனர். அவர்கள் மாதத்திற்கு ஒரு துணை ஒழுக்கு முறையில் ஒவ்வொரு உறுப்பினரின் வீட்டில் கூடுவர். திரு. குணசேகரன் வீட்டில் சென்ற மாசு மாதம் கூட்டம் நடைபெற்றது. திரு. குணசேகரன் வீட்டில் அடுத்த கூட்டம் எந்த மாதத்தில் நடைபெற்றிருக்கும்?
(1) ஜனவரி (2) பெப்ரவரி (3) நவம்பர்
12. இப்போது எனக்கு வயது 11 ஆண்டுகள் ஆகும். எனது தம்பியின் வயது 4 ஆண்டுகள் ஆகும். இன்னும் எத்தனை வருடங்களில் எனது வயது எனது தம்பியின் வயதைவிட இரு மடங்காக இருக்கும்?
(1) 3 வருடங்கள் (2) 4 வருடங்கள் (3) 8 வருடங்கள்
13. கீழே ஒவ்வொரு வினாவிலும் தரப்பட்ட கருத்தைக் குறிக்கும் பழமொழியைத் தெரிந்து அதன் இலக்கத்தைப் புள்ளிக் கோட்டில் எழுதுக.
14. வீண் செலவு செய்யினும் அக்கணக்கையும் அறிந்திருத்தல் நன்று.
1) விரலுக்குத் தக்கதுதான் வீக்கம் 2) பாத்திரமறிந்து பிச்சையிடு
3) ஆற்றிலே போட்டாலும் அளந்து போடு
15. கிடைக்கின்ற சந்தர்ப்பத்தைப் பயன்படுத்திக் கொள்ள வேண்டும்.
1) ஐயர் வருகிறவரை அமாவாசை காத்திருக்குமா?
2) காற்றுள்ள போதே தூற்றிக்கொள்
3) ஆரியக் கூத்தாடினாலும் காரியத்தில் கண்ணாயிரு
16. கீழ்வரும் பாடல் பகுதியைப் படித்து அதன் கீழுள்ள வினாக்களுக்கு விடை தருக.
சேவல் கூவு காகம் கரையும்
செக்கச் சிவந்த சூரியனும்
ஏவல் புரிய உலகை நோக்கி
எழுந்து வருவான் அதிகாலை

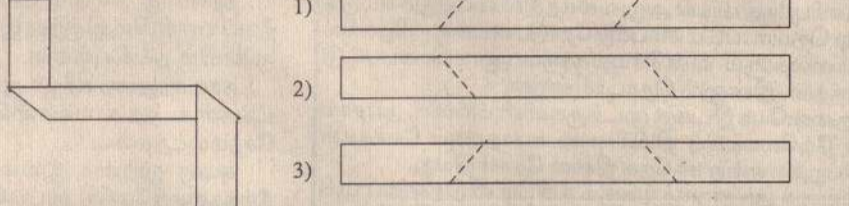
தரும் சொல்லைத் தெரிவு செய்து அதற்குரிய இலக்கத்தைப் புள்ளிக்கோட்டின் மீது எழுதுக.

15. ஏவல் புரிய 1) புண்ணியம் செய்ய 2) கடமையைச் செய்ய 3) ஏவிவிரட்ட
16. எழுந்து வருவன் 1) சந்திரன் 2) ஆகாயம் 3) சூரியன்
17. கீழே தரப்பட்ட மூன்று படிமுறைகளின் கீழ் பூங்கா ஒன்றை அமைக்கத் திட்டமிடப்பட்டிருந்தது.


படிமுறை	எடுக்கும் காலம்
1	2 ஆண்டுகள்
2	படிமுறை 1 இன் இரண்டு மடங்கு
3	படிமுறை 2 இன் அரை மடங்கு

2005ஆம் ஆண்டில் பூங்கா அமைக்கத் தொடங்கப்பட்டது எனின், எந்த ஆண்டு அது அமைத்து முடிக்கப்பட்டிருக்கும்?
1) 2012 2) 2013 3) 2014

18. கீழே முதலில் தரப்பட்டுள்ள உருகடதாசிக் கீற்றினை மடித்து அமைக்கப்பட்டுள்ளது. அதனை அமைக்கப் பயன்படுத்திய கடதாசிக் கீற்றினைக் காட்டும் விடையைத் தெரிவு செய்க.



பின்வரும் கோட்டுப்படங்களின் உதவியுடன் வினாக்களுக்கு விடை தருக.



19. பென்சில் 3 இனதும் பேனைகள் 5 இனதும் விலை யாது?
1) ரூபா 100 2) ரூபா 110 3) ரூபா 124
20. பென்சில் 1 இனதும் பேனை 1 இனதும் விலை யாது?
1) ரூபா 20 2) ரூபா 26 3) ரூபா 32
21. கமலன் ஆண் பிள்ளை ஆவான். கமலனின் அக்காவிற்கு இரண்டு ஆண் சகோதரர்களும் இரண்டு பெண் சகோதரிகளும் உள்ளனர்.
22. கமலனிற்கு எத்தனை ஆண் சகோதரர்கள் உள்ளனர்?
1) 1 2) 2 3) 3

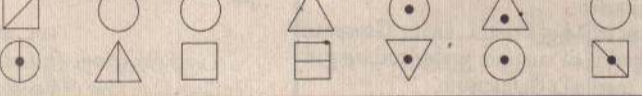
பின்வரும் பாடலை வாசிக்க. இதற்கேற்ப 27ஆம் 28ஆம் வினாக்களுக்கு விடை எழுதுக.

கரம்பு நிலத்தை
கண்டு நன்றாய் உழைத்தனன்
கரும்பும் நெல்லும் விளைந்திடும்
..... மாற்றினன்

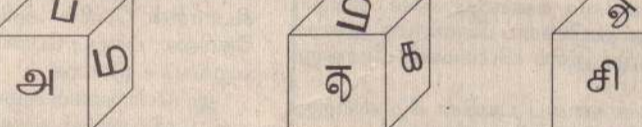
23. என்ற குறியீடு உள்ள இடத்துக்குப் பொருத்தமான சொல்லைத் தெரிவு செய்க.
1) குயவனும் 2) வேலைக்காரனும் 3) உழவனும்
24. என்ற குறியீடு உள்ள இடத்திற்குப் பொருத்தமான சொல்லைத் தெரிவு செய்க.
1) சிற்பமாக 2) தண்ணீராக 3) கழனியாக

25. இங்கு அதிக தடவைகள் குறிக்கப்பட்ட எழுத்து யாது?
ம அ க ம ப ச க அ
ப ட பி ச அ வ த நி

26. இங்கு அதிக தடவைகள் குறிக்கப்பட்ட வடிவம் யாது?

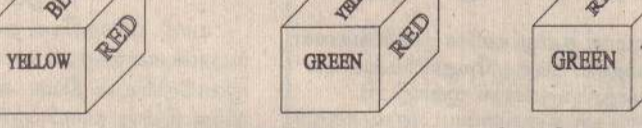


27. ஒரே சதுரமுகியின் பல்வேறு பக்கங்கள் இங்கு காட்டப்பட்டுள்ளன.



எழுத்து சி இற்கு எதிரே இருக்கும் பக்கத்தில் உள்ள எழுத்து யாது?

28. ஒரே சதுரமுகியின் பல்வேறு பக்கங்கள் இங்கே காட்டப்பட்டுள்ளன.



BLACK நிறத்திற்கு எதிரே இருக்கும் பக்கத்தின் நிறம் யாது?

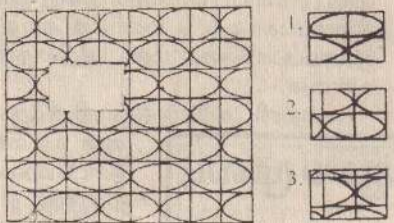



பின்வரும் வினாக்கள் ஒவ்வொன்றுக்குமான சரியான விடையைத் தெரிந்து கீறிடுக.

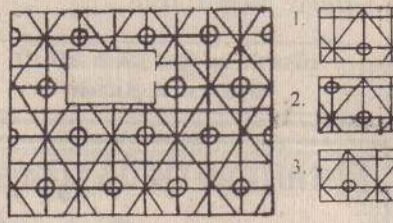



29. பிள்ளைகள் பெற்றோர் சொற்படி நடக்க வேண்டும் என்பதற்கான காரணம் யாது?
1) பெற்றோர் பிள்ளைகளைவிட வயதில் மூத்தவர்கள் என்பதால்
2) பெற்றோர் சொற்படி நடக்காது போனால் தண்டனை கிடைக்கும் என்பதால்
3) பெற்றோர் பிள்ளைகளின் நன்மைக்காகவே எதையும் சொல்வார்கள் என்பதால்.
30. பாடசாலையில் நாம் தினமும் காலைச் சுகப்பயிற்சியில் ஈடுபட வேண்டும் என்பதற்கான காரணம் யாது?
1) உற்சாகமும், உடல் ஆரோக்கியமும் பெறுவதற்காக
2) அதிபரின் கட்டளையை நிறைவேற்றுவதற்காக
3) மற்றப் பாடசாலைப் பிள்ளைகளும் சுகப்பயிற்சியில் ஈடுபடுகின்றனர் என்பதற்காக.
31. பின்வரும் வினாக்கள் ஒவ்வொன்றிலும் தரப்பட்டுள்ள மூன்று வாக்கியங்களுள் திருத்தமான வாக்கியம் எது எனத் தெரிந்து அதன் கீழ்க் கீறிடுக.
31. 1. நவீன தொலைத் தொடர்பு சாதனங்கள் பரிமாறப்பட, செய்திகள் விரைவாக உதவுகின்றன.
2. நவீன செய்திகள் பரிமாறப்பட, தொலைத் தொடர்பு சாதனங்கள் விரைவாக உதவுகின்றன.
3. செய்திகள் விரைவாகப் பரிமாறப்பட, நவீன தொலைத் தொடர்பு சாதனங்கள் உதவுகின்றன.
32. 1. எந்த முயற்சி செய்வோரின் காரியமும் அயராது நிச்சயம் வெற்றி பெறும்.
2. அயராது முயற்சி செய்வோரின் எந்தக் காரியமும் நிச்சயம் வெற்றி பெறும்.
3. நிச்சயம் வெற்றி பெறும் எந்த அயராது முயற்சி செய்வோரின் காரியமும்.
33. காரம் + பேனை = காரணம் அருமை + தவம் =
2. அருதம் 3. அருவம்

34. திருமதி + வலம் = வருமதி பருவம் + உதவி =

1. உருவம் 2. தவம் 3. விபரம்

• பின்வரும் வினாக்களில் உள்ள உருக்களின் வெற்றிடங்களுக்குப் பொருத்தமான பகுதியைத் தெரிந்து கீறிடுக.

35.  1.  2.  3. 

36.  1.  2.  3. 

• அடைப்புக்குள் காணப்படும் எழுத்துக்களையும் இலக்கங்களையும் அவதானித்துக் கேட்கப்பட்ட வினாக்களுக்கான விடையைத் தெரிந்து கீறிடுக.

அ	1	க	இ	அ	து
இ	அ	2	அ	9	க
க	இ	8	3	இ	க
அ	7	அ	அ	4	ப
6	ப	ப	ப	அ	5

37. அடைப்புக்குள் காணப்படும் எழுத்துக்களின் எண்ணிக்கை இலக்கங்களின் எண்ணிக்கையைக் காட்டிலும்,
1) குறைந்தது 2) அதிகமானது 3) *சமமானது

38. இங்கு சமஎண்ணிக்கையில் காணப்படும் எழுத்துக்கள் அடங்கிய விடை,
1) க, இ, ப 2) க, அ, இ 3) ப, க, அ

• பின்வரும் வினாக்களுக்கான விடையைத் தெரிந்து கீறிடுக.

சிறுவன் ஒருவன் மைதானமொன்றில் நடந்து சென்ற பாதையை அருகே உள்ள படம் காட்டுகின்றது. சிறுவன் நடக்க ஆரம்பித்த இடம் A எழுத்தாலும் நடந்து முடிந்த இடம் B எழுத்தாலும் காட்டப்பட்டுள்ளன.

39. சிறுவன் எத்தனை முறை வலது பக்கமாகத் திரும்பியிருப்பான்?
1) 5 2) 6 3) 7

40. சிறுவன் வடக்குத் திசையை நோக்கி எத்தனை முறை நடந்தான்?
1) 3 2) 5 3) 7

வினாத்தாள் - II 1 மணி 45 நிமிடம்

01] பின்வரும் பாடல்களைப்படித்து கேட்கப்பட்ட வினாக்களுக்கு விடை தருக.
எல்லை அறியாப் பெருங்கடலை! நீதான் இரவும் உறங்காயோ? கடலை! அல்லும் பகலும் அலைகடலை! - உனக்கு அலுப்பும் இலையோ? கருங்கடலை!
மலையை வயிற்றடக்கும் கடலை! - எண்ணில் மகர மீனாலும் கடலை! விலைகொள் முத்தளிக்கும் கடலை! - சிப்பி விளையாடற்குதவும் கடலை!

1) கடல் என்பதன் ஒத்தகருத்துச் சொல்லை எழுதுக.
2) மலை என்பதன் எதிர்க்கருத்துச் சொல்லை எழுதுக.
3) பாடலில் வந்துள்ள முன்னிலை ஒருமைப் பெயர்ச் சொல்லை எழுதுக
4) உனக்கு என்பதன் பன்மைச் சொல்லை எழுதுக.
5) பாடலில் இடம்பெற்றுள்ள இணைமொழி ஒன்றை எழுதுக
6) எண்ணில் என்பதாற் கருதப்படுவது யாது?
7) கடலில் உலவுவன எவை?
8) விளையாடுவதற்காக, கடல் எதனைத் தந்து உதவுகிறது?
9) விலைகொள் என்பதாற் கருதப்படுவது யாது?
10) முத்தளிக்கும் என்பதைப் பிரித்து எழுதுக

02] கீழுள்ள வாக்கியங்களை இணைத்து எழுதுக.

01. (அ) ஆசிரியர் வகுப்பறைக்கு வந்தார்.
(ஆ) மாணவர் வணக்கம் தெரிவித்தனர்.

02. (அ) அவன் மேசை மீது ஏறி நின்றான்.
(ஆ) சுவரிலே ஆணி அறைந்தான்.

03] கீழுள்ள சந்தர்ப்பங்களுக்குப் பொருத்தமான பழமொழியைத் தெரிந்து கீறிடுக.

01. துன்பம் வந்தால் அடுத்தடுத்து வரும்.
1) இலையும் பழமும் எங்கும் உண்டு 2) முற்பகல் செய்யின் பிற்பகல் விளையும்
3) பட்ட காலிலே படும், கெட்ட குடியே கெடும்

02. அறிவற்றவர்களின் தொடர்பு துன்பத்தினைக் கொண்டு வரும்
1) கெடு குடி சொற் கேளாது 2) மூடருறவால் கேடு விளையும்
3) தான் ஒன்று நினைக்க தெய்வம் ஒன்று நினைக்கும்



04] பின்வரும் தொடர்களால் உணர்த்தப்படும் கருத்தினை எழுதுக.
1) இலவுகாத்த கிளி போல.....
2) வெந்த புண்ணில் வேல் பாய்ந்தது போல.....

05] பின்வரும் தொடர்மொழிகளின் கருத்தை வெளிப்படுத்தும் தனிச்சொல்லை எழுதுக.
1) ஒன்று போல் இருக்கு வேறொன்று:
2) கடவுள் நம்பிக்கை உடையவன் :



06] பின்வரும் தொடர்களின் கருத்தினைத் தமிழில் எழுதுக.
1) Please be silent.....
2) Please stand up.....
3) May I come in?.....

07] பின்வரும் சொற்களுக்குச் சமமான ஆங்கிலச் சொற்களை (ஆங்கில எழுத்துக்களில்) எழுதுக.
1) நாக்கு 2) சிவப்பு
3) மரங்கள் 4) ஆசிரியர்.....



08] பின்வரும் ஒவ்வொரு ஆங்கிலச் சொல்லினதும் கருத்தை எழுதுக.
1) Ears 2) Pineapple.....
3) Sea 4) Parrot

09] பின்வரும் சிங்களச் சொற்களின் தமிழ்க் கருத்தை எழுதுக
01.  ஓ(B)ப மொணவத பொ(B)ண்ணே?
02.  மம கிரி பொ(B)ணவா



10] பின்வரும் வினாக்களுக்குரிய விடைகளைப் புள்ளிக்கோட்டில் எழுதுக.
விலங்குகள் மூலம் பரவிப் பெருகும் வித்துக்களின் படங்கள் கீழே தரப்பட்டுள்ளன. அவற்றின் பெயர்களை அடைப்பினுள் இருந்து தெரிந்து எழுதுக.
(துத்திரி, ஆடையொட்டி, மரமுந்திரிகை, புலிநகம்)




i)  ii) 

காற்றின் மூலம் பரவிப் பெருகும் வித்துக்களின் படங்கள் கீழே தரப்பட்டுள்ளன. அவற்றின் பெயர்களைப் புள்ளிக் கோட்டில் எழுதுக.
(அச்சு, வேங்கை, எண்ணெய், மகோகனி)




iii)  iv) 


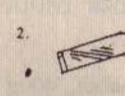

கனி உலர்ந்து பின் வெடிப்பதன் மூலம் வீசப்பட்டுப் பரம்பலடையும் வித்துக்களின் படங்கள் தரப்பட்டுள்ளன. அவற்றின் பெயர்களைப் புள்ளிக் கோட்டில் எழுதுக.
(றப்பர், பொன்னாவரை, காசித்தும்பை, வெண்டை)




v)  vi) 

11] சரியான விடையைத் தெரிந்து கீறிடுக.
1) கலாநிதி டி.பி ஜாயாவின் உருவப்படம் எது?
1)  2.  3. 

2) அருகே காணப்படும் வித்து எதன் மூலம் பரம்பலடையும் இயைபாக் கத்தைப் பெற்றது?
1) காற்றின் மூலம் 2) நீரின் மூலம் 3) விலங்குகள் மூலம்

3) பின்வருவனவற்றுள் எது சீகிரிய ஓவியம் ஆகும்?
1.  2.  3. 

4) பலகையில் குழி குடைய உதவும் உபகரணம் எது?
1.  2.  3. 

5) பின்வருவனவற்றுள் வெப்பத்துட்டு எது?
1.  2.  3. 

6) மன்னன் தாதுசேனனால் கட்டப்பட்ட குளம் எது?
1) கலாவாவி 2) திஸாவாவி 3) மின்னேரியாக் குளம்

7) ஊதா நிறத்தைப் பெறக் கலக்க வேண்டிய நிறங்கள் எவை?
1) சிவப்பு + நீலம் 2) சிவப்பு + மஞ்சள் 3) நீலம் + மஞ்சள்

8) பின்வருவனவற்றுள் முலையூட்டி அல்லாதது எது?
1) பாம்பு 2) குரங்கு 3) வெளவால்

9) மரச் செதுக்கு வேலைகளைக் கொண்ட கலைத்துவப் படைப்பு காணப்படுவது எங்கு?
1) கிதுல்பவ்வ 2) ஹிந்தகல 3) எம்பக்க

10] இரத்தினபுரிக்குச் சப்ரகமுவ என்ற பெயர் வரக் காரணம் யாது?
1) இரத்தினபுரி சப்ரகமுவ மாகாணத்தில் அமைந்திருப்பதால்.
2) அங்கு ஆதிக் குடிகள் காணப்பட்டமையினால்
3) அங்கு சிங்கள மக்கள் அதிகம் வாழ்வதால்

11] பின்வரும் எந்த விளையாட்டை விளையாடக் குறைந்தளவு நிலப்பரப்புத் தேவை யாகும்?
1) எல்லே 2) கரப்பந்து 3) கிரிக்கட்

12] நிலத்தில் படர்ந்து வளரும் கொடி எது?
1) வெற்றிலை 2) கொடித்தோடை 3) வற்றாளை

13] மீன்கள் சுவாசிக்கும் அங்கம் எது?
1) மூக்கு 2) தோல் 3) பூ 4) வாய்

14] இலங்கையின் அரச இலச்சினையில் காணப்படாத அம்சம் எது?
1) தருமச்சக்கரம் 2) நாகமரம் 3) மலரிதழ் 4) சிங்கம்

15] பின்வரும் எதன் குறைபாட்டினால் கண்டமாலை நோய் ஏற்படுகிறது?
1) சோடியம் 2) அயடீன் 3) கல்சியம் 4) பொஸ்பரசு


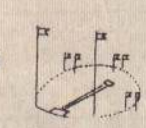
16] கிளைகள் அற்ற தாவரம் எது?
1) பலா 2) கித்துள் 3) ஆமணக்கு 4) நாகமரம்

17] உணவு உண்ணும் போது நாம் செய்யக்கூடாதது எது?
1) இடையிடையே நீர் அருந்துதல் 2) உணவு நிலத்தில் சிந்தாமல் உண்ணுதல்
3) வாயிலிருந்து சத்தம் எழுதவாறு உண்ணுதல் 4) போதுமான அளவு உண்ணுதல்



18] பிரதான போக்குவரத்துப் பாதையில் காணப்படும் ஒளிவிளக்குச் சமிக்கையில் செம்மஞ்சள் நிறவிளக்கினால் உணர்த்தப்படுவது எது?
1) வாகனத்தை மெதுவாகச் செலுத்து 2) வாகனத்தை நிறுத்து
3) வாகனத்தை செலுத்து 4) வாகனத்தைச் செலுத்த ஆயத்தரமாயிரு





19] பின்வருவனவற்றில் பெரிய பூ எது?
1) செவ்வரத்தை 2) மல்லிகை 3) எக்ஸ்சோறா 4) நித்தியகல்யாணி

20] தாவரங்களுக்குத் தீங்கு விளைவிக்கும் பிராணி எது?
1) குளவி 2) தும்பி 3) தேன் 4) வெட்டுக்கிளி

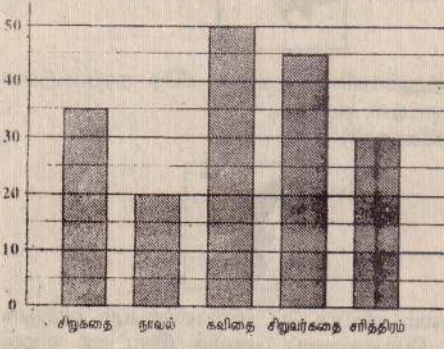

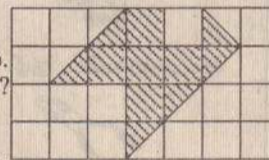
12] பின்வரும் படங்களை அவதானித்து அவை எவ்விளையாட்டுக்களுடன் தொடர்புடையன என எழுதுக.
i)  ii) 

13] பின்வரும் தாவரங்களின் பெயர்களை அடைப்பினுள் இருந்து தெரிந்து புள்ளிக் கோட்டில் எழுதுக.
(ஆடதோடை, ஆனைத்தகரை, கற்றாளை, முடிதும்பை)

1)  2) 

14] பின்வரும் அலகுகள் எந்தப் பறவையினுடையது என்பதை எழுதுக.
1)  2)  3)  4) 

(5 ஆம் பக்கத் தொடர்ச்சி)

- 15] பின்வரும் வினாக்களுக்கான சரியான விடையைப் புள்ளிக் கோட்டின் மீது எழுதுக.
- 
- புத்தக வியாபாரி ஒருவர் குறிப்பிட்ட தினம் ஒன்றில் விற்கு புத்தக வகைகளின் எண்ணிக்கை பற்றிய விபரம் அருகே தரப்பட்ட வரைபில் காட்டப்பட்டுள்ளது. அதனை அவதானித்து வினாக்களுக்கு விடை தருக.
- 1) விற்கப்பட்ட சிறுகதைப் புத்தகங்கள் எத்தனை?
 - 2) குறிப்பிட்ட தினத்தில் 95 சிறுவர்கதைப் புத்தகங்கள் கடையில் இருந்தன. விற்பனைக்குப் பின்னர் கடையில் மீதியாக இருந்த சிறுவர்கதைப் புத்தகங்கள் எத்தனை?
 - 3) விற்கப்பட்ட கவிதைப் புத்தகங்களினதும் சிறுகதைப் புத்தகங்களினதும் மொத்த எண்ணிக்கை யாது?
 - 4) நாவல் புத்தகம் ஒன்றின் விலை ரூபா 120 எனின் குறிப்பிட்ட தினத்தில் நாவல் புத்தக விற்பனை மூலம் கிடைத்த மொத்தப் பணம் எவ்வளவு?
 - 5) விற்கப்பட்ட கவிதைப் புத்தகங்களின் எண்ணிக்கை விற்கப்பட்ட வேறு இரண்டு வகைப் புத்தகங்களின் எண்ணிக்கைகளின் கூட்டுத்தொகைக்குச் சமனாகும். அந்த இரண்டு புத்தகங்களும் எவை?
- 16] பொருத்தமான விடையை எழுதுக
- 1) அருகிலுள்ள உருவில் எத்தனை செவ்வகங்களை இனங் காணலாம்?
- 
- 2) ரூபன் ரூபா 178 பெறுமானமுள்ள பொருட்களை வாங்கினான். வியாபாரியிடம் ரூபா 100 தாள் ஒன்றினையும், ரூபா 50 தாள்கள் இரண்டினையும் கொடுத்தான். அவனுக்கு கிடைக்கவேண்டிய மீதிப்பணம் யாது?
 - 3) செங்கல் அடுக்குபவர் ஒருவர் நாள் ஒன்றிற்கு 1200 செங்கற்களை அடுக்குகிறார். அவர் ஒவ்வொரு 100 கற்களை அடுக்கும் போது ஏறத்தாழ 4 செங்கற்களை உடைக்கிறார். அவர் ஒரு நாளில் எத்தனை செங்கற்களை உடைக்கிறார்?
 - 4) ஒரு பாடசாலை 310 மாணவர்களைச் சுற்றுலா ஒன்றிற்கு அழைத்துச் சென்றது. ஒவ்வொரு பஸ் வண்டியும் 50 மாணவர்களை மட்டும் கொள்ளும். அம்மாணவர்களை ஏற்றுவதற்கு எத்தனை பஸ் வண்டிகள் தேவை?
 - 5) ராணியின் பாட்டி 1939 இல் பிறந்தார். 1999 இல் ராணியின் பாட்டியின் வயது ராணியின் வயதின் 5 மடங்காக இருந்தது. ராணி எப்போது பிறந்தார்?
 - 6) படத்தில் ஒரு கட்டத்தின் நீளம் 1 cm அகலம் 1 cm ஆகும். உருவில் நிறுற்றப்பட்டுள்ள பகுதியின் பரப்பளவு யாது?
- 
- 7) 1kg பருப்பின் விலை ரூபா 60 எனின், 400g பருப்பின் விலை யாது?
 - 8) நீர்த் தாங்கி ஒன்று 20 லீற்றர் நீரைக் கொள்ளக் கூடியது. அதிலுள்ள துவாரத்தினால் 5 லீற்றர் 350 ml நீர் ஓடுகிவிட்டது. இப்போது நீர்த்தாங்கியிலுள்ள நீரின் அளவு யாது?
 - 9) 250 g கடலை ரூபா 18 ஆயின், 2 kg கடலையின் விலை யாது?
 - 10) சிறிய மெழுகுவர்த்தி ஒன்றின் விலை ரூபா 3 ஆகும். பெரிய மெழுகுவர்த்தி ஒன்றின் விலை ரூபா 4.50 ஆகும். 15 சிறிய மெழுகுவர்த்திகளை வாங்கும் பணத்திற்கு எத்தனை பெரிய மெழுகுவர்த்திகளை வாங்க முடியும்?
 - 11) ஒரு மாணவனுக்கு 5 அப்பியாசக் கொப்பிகள் வீதம், 535 கொப்பிகளை எத்தனை மாணவர்களுக்குக் கொடுக்க முடியும்?
 - 12) ஒன்று ரூபா 2.50 வீதம் 30 பென்சில்களை வாங்கத் தேவையான பணம் எவ்வளவு?
 - 13) கூட்டுக: $\frac{1}{2} + \frac{2}{7} = \dots$
 - 14) 1 லீற்றர் 500 ml அளவுடைய போத்தல் ஒன்றை முற்றாக நீரினால் நிரப்பி, 125 ml அளவுடைய சிறிய பாத்திரம் ஒன்றினால் எத்தனை முறை நீருற்ற வேண்டும்?
 - 15) மு.ப 11.30 இற்கு ஆரம்பித்த பரீட்சை ஒன்று 45 நிமிடங்கள் வரை நடைபெற்றது. எனின், பரீட்சை முடிவடைந்த நேரம் யாது?
 - 16) பாடசாலைக்குத் தெற்கே 150m தொலைவில் கோயில் இருக்கிறது. கோயிலுக்கு மேற்கே 150m தொலைவில் சந்தை இருக்கிறது. எனின், சந்தைக்கு என்ன திசையில் பாடசாலை இருக்கிறது?
 - 17) சாந்தன் 500m தூரத்தை நடந்து செல்ல 15 நிமிடங்கள் எடுப்பான் எனின், அவன், 1 மணித்தியாலத்தில் நடந்து செல்லக் கூடிய மொத்தத் தூரம் எவ்வளவு?
 - 18) அம்மா 2kg 800g உருளைக்கிழங்கை வாங்கி வைத்திருந்தாள். அதில் முதல் நாள் 350g உம் இரண்டாம் நாள் 1kg 500g உம் சமையலுக்காகப் பயன்படுத்தப்பட்டன. எனின், எஞ்சிய உருளைக்கிழங்கின் நிறை யாது?
- 17] பாடசாலை விளையாட்டுப் போட்டி ஓட்ட நிகழ்ச்சியில் வெற்றிபெற்ற அமலன், தேசிய மட்டப் போட்டியிலும் பங்குபற்றி முதலிடத்தைப் பெற்றான். அவனது திறமையைப் பாராட்டும் முகமாக பாடசாலையில் விழா எடுத்துக் கொண்டாடினார்கள். ஆயிரக்கணக்கான பார்வையாளர்கள் முன்னிலையில் அமலனுக்கு மேடையில் பெரியோர்களால் விருது வழங்கிக் கௌரவிக்கப்பட்டது.....
- நீர்தான் அமலன் எனின், இச்சந்தர்ப்பத்தில் உமக்கு ஏற்படும் உணர்வுகளை வெளிப்படுத்தும் ஆக்கபூர்வமான ஆறு வாக்கியங்களை எழுதுக.
- 1)
 - 2)
 - 3)
 - 4)
 - 5)
 - 6)

VACANCY

Post : Computer Programmer
(c, c++, Java, V.B)

Salary: Negotiable

விளம்பர இலக்கம் 2930
மே/ப. உதயன்

பரிசளிப்பு விழா

தெல்லிப்பழை மகாஜனக் கல்லூரியின் ஸ்தாபகரும் முன்னாள் அதிபருமான ஜெய ரத்தினத்தின் நினைவுதினமும் கனிஷ்ட பிரிவின் பரிசளிப்பு விழாவும் இன்று ஞாயிற்றுக் கிழமை காலை 9 மணிக்கு கல்லூரியின் துரையப்பாயிள்ளை மண்டபத்தில் நடைபெறவுள்ளன.

கல்லூரி அதிபர் திருமதி சி.அனந்தசய

இளவாலை புனித யூதாதேய ஆலய முகப்பு

திறப்பு விழா

29.10.2006



அன்புடையீர்!

புதிதாக அமைக்கப்பட்ட இளவாலை புனித யூதாதேய ஆலய முகப்பு இன்று [29.10.2006] ஞாயிற்றுக்கிழமை காலை 7 மணிக்கு யாழ். ஆயர் பேரருட் திரு. தோமஸ் சவுந்தரநாயகம் ஆண்டகை அவர்களால் ஆசீர்வதித்து, திறந்து வைக்கப்பட்டு, நன்றித்திருப்பலி ஒப்புக்கொடுக்கப்படும்.

இந் நிகழ்வில் கலந்து சிறப்பித்து புனிதரின் அருளைப்பெற அன்புடன் அழைக்கின்றோம்.

பங்குத்தந்தையும், பங்கு மக்களும்.

(54765)

என் தலைமையில் நடைபெறவுள்ள இந்த நிகழ்வில் நினைவுப் பேருரையை யாழ். பல்கலைக்கழக முகாமத்து வத்துறை விரிவுரையாளர் திருமதி சாந்தரூபி புவனேந்திரராசா நிகழ்த்தவுள்ளார்.

(1-203)

நீவேலி தெற்கு விவசாயத் துறைமுகம்

பல வருடங்களாகப் புனரமைப்புச் செய்யப்படாது இருந்த நீர்வேலி தெற்கு விவசாய வீதியில் இருந்து கோப்பாய் ஆஸ்பத்திரிக்குச் செல்லும் வீதி கிரவல் மக்கி போட்டு புனரமைக்கப்பட்டு வருகின்றது. இவ்வீதி பல வருடமாகப் புனரமைப்புச் செய்யப்படாது இருந்தமையால் மக்கள் இவ்வீதியூடாக போக்குவரத்துச் செய்ய முடியாது கஷ்டமடைந்தனர். தற்போது இவ்வீதி துரிதகதியில் புனரமைப்புச் செய்யப்பட்டு வருகிறது. இவ்வீதி புனரமைக்கப்படுவதால் இப்பிரதேச மக்கள், விவசாயிகள் ஆகியோர் நன்மையடைவர் என்று தெரிவிக்கப்பட்டுள்ளது.

(203-17)

வீட்டுக்கிருத்திய அழைப்பு

17.09.2006 அன்று சிவபதமடைந்த எமது குடும்ப விளக்கு அமர்

லோகநாதன் செல்வக்குமாரன்

தோற்றம்: 14.10.1980
மறைவு: 17.09.2006

அவர்களின் வீட்டுக்கிருத்தியம் 31.10.2006 செவ்வாய்க்கிழமை அன்னாரின் இல்லத்தில் நடைபெறவுள்ளதால் அத்தருணம் எமது உற்றாரர், உறவினர், நண்பர்கள் அனைவரும் வருகைதந்து, ஆத்ம சாந்திப்பிரார்த்தனை யிலும், அதனைத் தொடர்ந்து நடைபெறும் மதியபோசனத்திலும் கலந்து கொள்ளுமாறு அன்புடன் அழைக்கிறோம்.

பாடசாலை வீதி, சிறுப்பிட்டி தெற்கு, நீர்வேலி. குடும்பத்தினர்.

(54758)

தென்மராட்சி மதிப்பீட்டுப்பரிசீலனை

தென் மராட்சி கல்வி வலயப் பாடசாலைகளில் ஈழ ஏதிலியர் மறுவாழ்வுக் கழகத்தின் அனுசரணையுடன் மேற்கொள்ளப்பட்டுவரும் விஞ்ஞானமும் தொழில் நுட்பமும் பாட மதிப்பீட்டுப் பரீட்சை நாளை திங்கட்கிழமை நடைபெறவுள்ளது. பாடத்திட்டத்தில் உள்ள ஒலி, ஒளி ஆகிய பாட அலகில் இம் மதிப்பீட்டுப் பரீட்சைகள் நடத்தப்படும். இப் பரீட்சைக்குரிய வினாத்தாள் களை இன்று ஞாயிற்றுக்கிழமை வலயக் கல்வி அலுவலகத்தில் பெற்றுக்கொள்ளுமாறு பாடசாலை அதிபர்களை வலயக் கல்விப் பணிப்பாளர் திருமதி அ.வேதநாயகம் கேட்டுள்ளார். (202)

நீங்காத நினைவலைகள்

முதலாம் ஆண்டு **18 ஆம் மாதம்**



அமரர் முத்தையா இராசரத்தினம் 27.04.1925 - மலர்வு 09.11.2005

அமரர் இராசரத்தினம் நாகேஸ்வரி 07.04.1940 - உதிர்வு 31.05.2005

அன்புக்கும் பண்புக்கும் இலக்கணமாய் வாழ்ந்து பாரிசிலே எமைப் பெற்று வாழவைத்த தெய்வங்களே! நாதியிலே எமைவிட்டுச் சென்றதேன்? ஆண்டொன்று சென்றாலும் நீங்காது உங்கள் நினைவுகள்.

இ.சிறிகாமராஜ் உங்கள் நினைவில் வாழும்: மக்கள், மருமக்கள், பேரப்பிள்ளைகள், உறவினர்கள்.

(54759)

மாண்புமிகு தேங்காய் திருட்டு

மாண்புமிகு பிரதேசத்தில் தேங்காய் திருட்டு அதிகரித்துள்ளது. திருடர்கள் தேங்காய்களைப் பிடுங்கி வாயினால் கல்விய்படி கீழே இறங்குகின்றனர் எனக் கூறப்படுகிறது. அதனால் சத்தம் சந்தடியின்றி திருட்டு இடம் பெறுகிறது. கடந்த வியாழ்க்கிழமை உச்சியோடே கிராமத்தில் இந்தப்பாணியில் சில வீடுகளிலும் தேங்காய்திருட்டுப் போய்யுள்ளன.

(90-202)

மஹிந்த-ரணில் சந்தித்தும் பேச்சு

கொழும்பு, ஓக்.29

பூர்வ.ச.க. - ஐ.தே.க. இடையிலான புரிந்துணர்வு ஒப்பந்தத்தை அமுல்படுத்துவதைக் கண்காணிக்கும் குழுவொன்றை அமைப்பது தொடர்பாக ஜனாதிபதி மஹிந்த ராஜபக்ஷவுக்கும் ஐ.தே.க. சித்த தலைவர் ரணில் விக்கிரம சிங்கவுக்கும் இடையிலான சந்திப்பொன்று நேற்ற முன்தினம் இடம்பெற்றது.

புரிந்துணர்வு ஒப்பந்தத்தை கண்காணிக்க விரைவில் குழு வொன்றை அமைப்பது என்று இப்பேச்சுகளின் போது தீர்மானிக்கப்பட்டதாக ஜனாதிபதி செயலக ஊடகப்பிரிவு தெரிவித்தது.

புரிந்துணர்வு ஒப்பந்தத்தில் இணக்கம் காணப்பட்ட ஆறு விடயங்களில் சமாதான முன்னெடுப்புக்களுடன் தொடர்புடைய நான்கு விடயங்களுக்கு முன்னுரிமை வழங்கவும் இரு தலைவர்களும் தீர்மானித்துள்ளனர் எனவும் தெரிவிக்கப்படுகிறது.

வரவு - செலவுத் திட்டம் சமர்ப்பிக்கப்படுவதற்கு முன்னர் புரிந்துணர்வு ஒப்பந்தம் அமுல்படுத்துவதைக் கண்காணிக்க குழு அமைக்கப்படும். இரு தரப்பிலிருந்தும் தலா மூவர் அல்லது ஐவர் நியமிக்கப்படவுள்ளனர்.

ஜனாதிபதி மஹிந்த ராஜபக்ஷவுக்கும் ஐ.தே.க. சித்த தலைவர் ரணில் விக்கிரம சிங்கவுக்கும் இடையிலான மற்றொரு சந்திப்பு ஜெனீவா சென்றுள்ள அரசுகுழு நாடு திரும்பியதும் இடம்பெறும். (ஐ)

நீரிழிவு DIABETES

- சிறுநீர் குஞ்சாப் பவுடர் Gymnema Powder
- 2 டி கோலா 2 D cola
- தலைமயிர் நரைத்தல்/உதிர்வு Hair Greying/ falling
- பிபிஜி கெயர் ஓயில் BBG Hair Oil
- திராட்சை Grapes
- திராட்சை வைன் Grape wine
- திராட்சை ரசம் Grape juice
- வினாகிரி Vineger
- இயற்கை அரிசி வினாகிரி Natural rice vineger
- அச்சா மென்பானங்கள் Achcha Soft drinks

BIO TEC ORIENT
131 / 2, பஸ்ஸி வீதி, திருநெல்வேலி, எழும்புமான் 54372

மனிதநேய அடிப்படையில் ஆஸ்திரேலியா, கனேடிய அரசினால் வழங்கப்படுகின்ற நிரந்தர வதிவிடத்திற்கான விசா (VISA) விண்ணப்பப்படிவம் விற்பனையாகின்றது உடன் பெற்றுக் கொள்ளலாம்.

- பூபாலசிங்கம் புத்தகநிலையம் - ஆஸ்பத்திரி வீதி, யாழ்ப்பாணம்.
- கனேசன் கொமினிகேஷன் - கொக்குவில் சந்தி.
- பெஸ்ட் வன் Best one கொமினிகேஷன் - ஆனைக்கோட்டை சந்தி.
- சிறிசரவணாஸ் களஞ்சியம் 610, பருத்தித்தறை வீதி, நல்லூர் சோயில் முன்பாக.
- DTS கொமினிகேஷன் - கே.கே.எஸ் வீதி, தட்டாதெருச் சந்தி அருகில்
- அர்ச்சயன் கொமினிகேஷன் - பொன்னையா லேன் ஆறுகால் மடம்
- தயானிவி வீடியோ சென்ரா - பிடாரி அம்மன் கோயிலடி, கொக்குவில்.
- நாயகபாலன் புத்தகநிலையம் - மானிப்பாய் வீதி, மானிப்பாய்.
- மருதம் கொமினிகேஷன் - நெல்லியடி.
- விநாயகர் கொமினிகேஷன் - சித்தன்கேணி சந்தி.

(54695)

பாக்யா இசைப் பயிலகம்

மணியர் பதி வீதி, கொக்குவில் மேற்கு.

இசை, இசை வாத்திய வகுப்புகள் நடைபெறுகின்றன, பழக விரும்புகிறவர்கள் தொடர்பு கொள்ளவும்.

- ★ மிருதங்கம்
- ★ ஒகன்
- ★ புல்லாங்குழல்
- ★ வயலின்
- ★ வாய்ப்பாட்டும் பண்ணிசையும்

க.மொ.த. (உ/த) சந்தேம் கந்தம் மாணவர்களுக்கு விசே வகுப்புகள் நடைபெறுகின்றன.

பாக்யா காகிதாதிகள், 121, கே.கே.எஸ்.வீதி, கொக்குவில்.

பாராட்டி வாழ்த்துகிறோம்



யா/ நயினாதீவு மகாவித்தியாலயத்தில் இருந்து க.பொ.த. (உ/த) 2006 பரீட்சையில் தோற்றி மூன்று பாடங்களுக்கும் A தரச் சித்தி பெற்ற எமது கனிஷ்ட புத்திரி

செல்வி பத்மநாதன் சுவர்ணலதா

அவர்களை உரிய முறையில் வழிப்படுத்திய அதிபருக்கும் கற்பித்த சகல ஆசிரியர்களுக்கும் எமது மனமார்ந்த பாராட்டுக்களையும் நன்றிகளையும் தெரிவித்துக்கொள்கின்றோம்.

7 ஆம் வட்டாரம், நயினாதீவு. திரு. திருமதி பத்மநாதன் (பெற்றோர்). (54700)

WANTED SCIENCE GRADUATES

ST. PATRICK'S COLLEGE, JAFFNA

Applications are called for Science Graduates to teach Science in English Medium for the G.C.E (O/L) Classes.

Apply giving particulars before the 3rd of November 2006

(51223) -RECTOR.

31^{ம்} நாள் நினைவஞ்சலி



அன்னை மடியில்	06	04	1922
அரன் மடியில்	29	09	2006

திருமதி பாலசிங்கம் சின்னம்மா

அன்பின் அருமருந்தே! ஆருயிர் அம்மாவே! பண்பில் உனை நிகர்க்கும் பாவை காண்போமோ! மண்ணில் எமை மலரவைத்தாய்! விண்ணுறையும் மலரானாய்! எண்ணியுமை ஏங்குகிறோம்! ஏதில்களானோம்! கண்ணிலுமைத் தாங்குகிறோம்! - தன்ம காலையிலே வணங்குகிறோம்!

என்றும் தனைவால் மயதனம் பின்னங்கள், மருமக்கள், பேரப்பிள்ளைகள்.

சிலம்பிலாட்டி, ஏறாலை மேற்கு, கன்னாகம்.

31 ஆம் நாள் நினைவஞ்சலி

மலர்வு	02	05	1930
உதிர்வு	01	10	2006



பெரியதம்பி கனோஸ்

(இளைப்பாறிய Foreman, சிமெந்துக் கட்டுத்தாயன், காங்கோய்துறை)

எமது குடும்பத்தலைவரின் வீட்டுக்கிருத்திய வைபவம் நாளை [30.10.2006] திங்கட்கிழமை முற்பகல் 11 மணியளவில் எமது இல்லத்தில் நடைபெறும். அத்தருணம் எமது உற்றார், உறவினர்கள், நண்பர்கள் அனைவரும் வருகைகொண்டு அன்னாரின் ஆத்ம சாந்திப் பிரார்த்தனையிலும் அதனைத் தொடர்ந்து இடம்பெறும் மதிய போசனத்திலும் கலந்து சிறப்பிக்கும் வண்ணம் அன்புடன் அழைக்கின்றோம்.

வன்னியசிங்கம் வீதி, கோண்டாவில் கிழக்கு. மக்கள், மருமக்கள், பேரப்பிள்ளைகள். (54694)

இண்டாம் தவணைப்பரிசீலனை

தென்மராட்சி, ஓக்.29

தென்மராட்சி கல்வி வலயப் பாடசாலைகளில் தரம் 10,11 ஆகிய வகுப்புகளில் கற்கும் மாணவர்களுக்கான இரண்டாம் தவணைப் பரீட்சைகள் நடைபெற்று செல்வாய்க்கிழமை ஆரம்பமாகவுள்ளன.

இப்பரீட்சைக்குரிய வினாத்தாள்களை அந்தந்த பரீட்சை இணைப்பு நிலையங்களில் பெற்றுக் கொள்ளுமாறு பாடசாலை அதிபர்களை வலயக் கல்விப்பணிப்பாளர் திருமதி. அ. வேதநாயகம் கேட்டுள்ளார். (202)

மாணவர் கோரவிப்பு

தென்மராட்சி, ஓக்.29

அண்மையில் வெளியான ஜி.சீ.ஈ. உயர்தரப் பரீட்சையில் மூன்று பாடங்களிலும் அதிசிறப்பு சித்தி பெற்ற 7 மாணவர்கள் சாவச்சேரி லயன்ஸ் கழகத்தினரால் கௌரவிக்கப்பட்டனர்.

சாவச்சேரி இந்துக் கல்லூரியில் கழகத் தலைவர் லயன் வ.பூரீபிரகாஸ் தலைமையில் நடைபெற்ற இந்த நிகழ்வில் ஏழு மாணவர்கள் கேடயங்கள் வழங்கிக் கௌரவிக்கப்பட்டனர்.

நிகழ்வில் முதன்மை விருந்தினராக சர்வதேச லயன்ஸ் கழக 306 பி.மாவட்டத்தின் லயன்ஸ் தலைவர் லயன் முப்தமநாதன் கௌரவிக்கப்பட்டார்.

மாணவர் களஞ்சியம், பரிசில்களை வழங்கினார். (202)

திருமண அழைப்பு

சுவமயம்

நிகழும் விய வருடம் ஐப்பசித் திங்கள் 15ஆம் நாள் (01.11.2006) புதன்கிழமை காலை 10 மணிமுதல் 11.30 மணி வரையுள்ள சுபமுகூர்த்தவேளையில்

எமது சிரேஷ்ட புத்திரன் திருநிறை செல்வன் **இராசசுரேந்திரன்** அவர்களுக்கும்

எமது ஏக புத்திரி திருநிறை செல்வி **சுபாஸ்சினி** அவர்களுக்கும்

இறைவன் திருவருளால் தெகிவனை வெங்கடேஸ்வர மகா விஷ்ணு மூர்த்தி தேவஸ்தான திருமண மண்டபத்தில் திருமணம் செய்யப் பெரியோர்கள் நிச்சயித்திருப்பதால் அத்தருணம் தாங்கள் குடும்ப சுகிதம் வருகை தந்து மணமக்களை ஆசீர்வதித்து விருந்துபசாரத்திலும் கலந்து சிறப்பிக்குமாறு அன்புடன் அழைக்கின்றோம்.

தங்கள் நல்வரவை இனிதே நாடும்

திரு.திருமதி. இராசேந்திரன் 'திருப்பரங்குன்றம்' சன்னதி வீதி, அச்சவேலி, யாழ்ப்பாணம். தொ.பே:- 077 6660253, 0112599239, 0776852691
சுகோதரர்கள்:- இராசசுரேந்திரன் (சிலிங்கோ) இராசநவேந்திரன் (நவீன் செரமிக்)

திரு.திருமதி. செல்வேந்தன் சுதர்சன் (சுகோதரன்) கண்டா 77, இராசாவின் தோட்டம் வீதி, யாழ்ப்பாணம். தொ.பே:- 0777 252152 011 4614993

(51228)

VNC கொங்கிறீற் கற்கள்

கல் அறுப்பதற்கான கலவை அளவு

1 பைக்கெற் சிமெந்து, நீர்	1 கடகம் கருங்கல் தூள்	4 கடகம் மண்	8 கடகம் 1 1/2" சல்லிக்கல்	5 கடகம் 3/4" சல்லிக்கல் or 3/8" ரூல் சல்லிக்கல்	மொத்தம் 18 கடகம் 55 - 60 கல்	1 அடி நீள 4" அகல கல் ஒன்றின் நிறை 10 kg விலை 39/-
தூண் அறுப்பதற்கான கலவை அளவு	1 பைக்கெற் சிமெந்து, கம்பி வகைகள்	2 கடகம் கருங்கல் தூள், நீர்	2 கடகம் மண்	3 கடகம் 1 1/2" சல்லிக்கல் or 1" சல்லிக்கல்	4 கடகம் 3/8" ரூல் சல்லிக்கல்	மொத்தம் 11 கடகம்

தூண்களுக்குள் ஒற்றைக் கம்பி புகுத்துதல் தவிர்க்கப்படுகிறது.

ஒரே நேரத்தில் 50 இற்கும் மேற்பட்ட இரும்பு அச்சுக்களில் தரமான முறையில் விகிதாசாரத்திற்கு அமைவாக மண்ணின் விகிதத்தை குறைத்து சல்லிக்கற்களின் விகிதத்தையும் நீரின் விகிதத்தையும் சாட்டி 45 நிமிடத்திற்குள் கலவைகள் கொங்கிறீற் பொருள்களாக சமதரைத் தொட்டிகளில் உற்பத்தி செய்யப்படுகின்றது. காலை 6.30 - 12.30 மணி வரை நேரடியாகப் பார்வையிடலாம்.

குறிப்பு: நாம் கட்டட தீர்மான வல்லுநர்களினால் சிபார்சு செய்யப்பட்ட வரம்புகளுக்குக் கட்டட சிமெந்து கற்களையும் தூண்களையும் உற்பத்தி செய்து வழங்குகின்றோம்.

We manufacture concrete blocks and pillars in accordance to the recommended specifications of construction specialists

எமது கொங்கிறீற் பொருள்களை கொள்வனவு செய்ய விரும்புவோர் தொடர்பு கொள்ள வேண்டிய இடங்களும், ரெஸிபோன் நம்பரும்

மாணிப்பாய் மருதுடிப் பிள்ளையார் கோயிலுக்கு அருகில் ரஞ்சன் கட்டப் பொருள்கள் விற்பனை நிலையம், துவாரகன் ஹாட்லெயர்-ஸ்ரேசன் ரோட், சிவன் கோயிலுக்கு அருகில் கன்னாகம், தொ.பே.: 021 4591833, த. மகேஸ்வரன்-சாயி மருந்துக்கடை, புகையிரத வீதி மல்லாகம், அ.இராசா-ஐக்கியசங்கம், சைவ வித்தியாசாலை முன்பாக, சுழிபுரம் மத்தி, சுழிபுரம் தொ.பே.: 060 221 3209, ஜெயம் பல்பொருள் வாணிபம், மணற்புலம், அளவெட்டி கிழக்கு, அளவெட்டி தொ.பே.: 060 221 3236, தற்போது இந்த முகவர்கள் தவிர்ந்த எவரும் எமக்கு முகவர்கள் இல்லை என்பதை தெரிவித்துக்கொள்கின்றேன். தரமான கொங்கிறீற் பொருள்களை கொள்வனவு செய்வோர் மட்டுமே எம்மை நாடவும்.

VNC, சும்பழாவளைப் பிள்ளையார் கோயில் சதுரக்கம், அளவெட்டி மத்தி, அளவெட்டி. (54602)

பேச்சுக்களுக்கு வரையறை சர்வதேச சமூகம் விதிப்பு

கொழும்பு, ஒக்.29 இலங்கை இனநெருக்கடிக்குத் தீர்வு காண்பதற்காக நோர்வே அரசின் அனுசரணையுடன் 2002ஆம் ஆண்டு முதல் நடத்தப்பட்டு வரும் சமாதானப் பேச்சுக்கள் ஆக்கபூர்வமான பெறுபேறு ஏதனையும் எட்டாமல் நண்கொண்டு செல்வதும், போர்நிறுத்த உடன்பாட்டை மதிக்காமல் இரு தரப்புகளும் தத்தமது பாட்டில் வன்முறை வழியில் நாட்டம் செலுத்துவதும் கண்டு ஏமாற்றமடைந்திருக்கும் சர்வதேச சமூகம், பேச்சுக்களுக்கு வரையறை ஒன்றை விதிக்கும் கட்டத்துக்கு வந்திருக்கின்றது.

இணைத் தலைமைகள் உட்பட சர்வதேச சமூகம் இது விடயத்தில் முன்வைக்கவிருக்கும் வரையறை தொடர்பாக பிணக்கில் சம்பந்தப்பட்ட இரண்டு தரப்புகளுக்கும் இம்முறை பேச்சு மேசையில் விளக்கப்படும் என்றும் தெரியவந்திருக்கின்றது.

★2002 முதல் 2003 வரை நடைபெற்ற ஆறு சுற்றுப் பேச்சுக்கள் அதன் பின் கடந்த பெப்ரவரியில் இடம் பெற்ற ஜெனிவா - 1 பேச்சுக்கள் என்பவற்றில் இணக்கம் கண்ட விடயங்களின் அடிப்படையிலேயே ஜெனிவா-2 பேச்சுக்கள் நடத்தப்படவேண்டும்-

★போர்நிறுத்த உடன்படிக்கையை மேம்படுத்திப் பேணுவதுடன் எல்லாவகையான மோதல்களையும் முடிவுக்குக் கொண்டு வருதல்-

★ தமிழர்கள், முஸ்லிம்கள் உட்பட நாட்டின் சகல தரப்பினர்களினதும் அபிலாஷைகளைப் பூர்ந்தி செய்கின்ற வகையிலான அரசியல் தீர்வு ஒன்றை 2003இல் ஒஸ்லோவில் நடைபெற்ற பேச்சின் முடிவில் வெளியிடப்பட்ட கூட்டறிக்கைக்கு அமைவாக உருவாக்குதல்-


இந்த முக்கிய விடயங்களைக் கவனத்தில் எடுத்துள்ள சர்வதேச சமூகம் இந்த அடிப்படையில் பேச்சுகளை முன்னெடுத்து ஒரு தீர்வை எட்டுவதற்கான கால வரையறை ஒன்றை எதிர்பார்க்கின்றது. இது தொடர்பாக அனுசரணைத்தரப்பான நோர்வேயிடம் சர்வதேச சமூகத்தின் நிலைப்பாடு தெளிவுபடுத்தப்பட்டிருக்கிறது - என்று ஜெனிவாவில் ராஜதந்திர வட்டாரங்கள் தெரிவித்திருக்கின்றன.

பேச்சுக்குச் சர்வதேச சமூகம் விதிக்கும் வரையறை இரண்டு தரப்புகளுக்கும் இம்முறை அழுத்தம் தருவதாக இருக்கும் என்றும் அந்த வட்டாரங்கள் தெரிவித்தன.



இராணுவத் தளபதி நேற்று யாழ். விஜயம்

யாழ்ப்பாணம், ஒக்.29 இராணுவத் தளபதி லெப் ஜெனரல் சரத் பொன்சேகா விஜய மொனரை மேற்கொண்டு நேற்று பலாலிக்கு வருகை தந்தார். இராணுவத்துக்கு எதிராக தாக்குதல் இடம்பெறும் பகுதிகளில் துருப்பினரை எவ்வாறு பணிக்கமர்த்துவது மற்றும் அவர்களது நடமாட்டம் குறித்து கலந்துரையாடும் வகையில் இராணுவத் தளபதியின் வார இறுதி யாழ்.விஜயம் அமைந்தது என்று இராணுவ இணையத்தளம் நேற்றிரவு தெரிவித்தது. யாழ்.மாவட்ட கட்டளைத் தளபதி மேஜர் ஜெனரல் ஜி.ஏ.சந்திரசிநி மற்றும் 51, 52, 53, 55 ஆகிய படைப்பிரிவுகளின் தளபதிகளுடன் இராணுவத் தளபதி விரிவான கலந்துரையாடல் களை நடத்தினார் என்றும் - படைத்தளபதிகளுடனான சந்திப்பில் சிரேஷ்ட பாதுகாப்பு அதிகாரியும் கலந்துகொண்டார் என்றும் அந்த இணையத்தள செய்தியில் மேலும் தெரிவிக்கப்பட்டுள்ளது.



அரசு - புலிகள் பேச்சு நடைபெற்ற ஜெனிவா சர்வதேச மாநாட்டுநிலையம் இது தான். மெரிக்கா மற்றும் சோவியத் யூனியன் இடையே பனிப்போரை முடிவுக்குக் கொண்டு வருவதற்காக ரஷ்ய அதிபர் மிக்கேல் கொர்ப்பச்சேவிர்கும் அமெரிக்காவின் அதிபர் ரொனால்ட் ரீகனுக்கும் இடையிலான வரலாற்று முக்கியத்துவம் வாய்ந்த பேச்சுவார்த்தை இந்த மண்டபத்திலேயே நடைபெற்றது என்பது குறிப்பிடத்தக்கது. இந்தப் பேச்சுகளே சோவியத் யூனியன் பல நாடுகளாக உடைவதற்கும் வழிவகுத்தது.

கடும் மறையால் பாவலாகப் பாதிப்புகள் 45 ஆயிரம் குடும்பங்கள் இடம்பெயர்வு

கொழும்பு, ஒக். 29 தற்போது பெய்துவரும் கடும்மழை காரணமாக நாட்டின் பல பகுதிகளிலும் ஏற்பட்ட வெள்ளத்தினால் பாதிக்கப்பட்டு 45 ஆயிரம் குடும்பங்கள் இடம்பெயர்ந்துள்ளன என தேசிய இடர் முகாமைத்துவ நிலையம் தெரிவித்தது. மழையினால் ஏற்பட்ட வெள்ளம் காரணமாக வத்தளை, கெரவலப்பிட்டிய, நீர்கொழும்பு, கட்டான, ஜாஎல, களனி மற்றும் அத்தனைகல் பகுதிகளில் பலத்த பாதிப்புகள் ஏற்பட்டுள்ளன. கட்டுநாயக்க விமானநிலையத்தை அண்மித்துள்ள வீதிகள் பலவும் நீரில் மூழ்கியுள்ளன. கட்டுநாயக்க - மினுவாங்கொடை வீதியில் நைக்கந்தப் பகுதியில் பெரும் வெள்ளம் தேங்கியுள்ளது. இதன் காரணமாக இந்த வீதியால் பல்கள் தவிர்ந்த ஏனைய வாகனங்கள் யாத நிலை ஏற்பட்டுள்ளது. இதனால், கட்டுநாயக்க விமான நிலையத்திற்கு இந்த வீதியால் செல்வோர் பெரும் அசௌகரியங்களுக்கு உள்ளாகியுள்ளனர். இதேவேளை - வெள்ளத்தினால் பாதிக்கப்பட்ட மக்களுக்கு நிவாரண உதவிகளை வழங்கும்பொருட்டு, மாவட்ட செயலாளர்களுக்கு 7 மில்லியன் ரூபா ஒதுக்கீடு கொடுக்கப்பட்டுள்ளதாகத் தேசிய இடர் முகாமைத்துவ நிலையம் தெரிவிக்கின்றது. தலைநகர் கொழும்பின் பல பிரதான வீதிகள் மற்றும் உபவீதிகளிலும் ஆங்காங்கே வெள்ளம் தேங்கியுள்ளது. கால்வாய்கள் நிரம்பிவிட்டதால் வெள்ளம் ஏற்பட்டுள்ளது. தாழ்ந்த பகுதிகளில் வீடுகளுக்குள் வெள்ளம் புகுந்துள்ளது. (ஐ-12)

ஆணைக்குழுவில் விவரம்பதிவு

யாழ். செம்மணிப் பகுதியில் வைத்து கடந்த 25ஆம் திகதி காணாமற்போன தாக்கக் கருதப்பட்ட என். வி.டி.ஏ.ஜி. என்ற தொண்டு நிறுவனத்தின் பணியாளர் தியாகராஜா சஜிந்தன் (வயது - 28) நேற்றுமனித உரிமை ஆணைக்குழுவின் யாழ். அலுவலகத்துக்குச் சென்று தமது விவரங்களைத் தெரிவித்தார்.

அரசியல் தீர்வு...

(முதலாம் பக்கத் தொடர்ச்சி) கடந்த 30, 40 வருடங்களாக தமிழ் மக்கள் தமது அபிலாஷைகளை முன்வைத்துப் போராடுகிறார்கள். அவர்கள் ஏற்கக் கூடிய தீர்வை அரசு முன்வைக்க வேண்டும். என்று புலிகளின் குழுவினர் கோரினர். இப்போதுதான் எதிர்க்கட்சியான ஐ.தே.கட்சியுடன் இணக்கத்துக்கு வந்த

கிரனேட் வெடித்ததனால் சாரையடியில் பதற்றம்

பருத்தித்துறை சாரையடி முகாம் பகுதியில் நேற்றுக்காலை கிரனேட் வெடிப்புச் சத்தம் ஒன்று கேட்டது. இதனையடுத்து, சாரையடி பகுதியில் பெரும் பதற்றம் ஏற்பட்டதுடன் மக்கள் வீடுகளுக்குள் முடங்கிக்கொண்டனர். சாரையடி முகாமில் இருந்த சிப்பாய் ஒருவர் வைத்திருந்த கிரனேட்டே தவறுதலாக வெடித்தது என்பது தெரிய வந்ததும் நிலைமை வழமைக்குத் திரும்பியது. (115)

துள்ளோம். சகலரும் இப்போது தீர்வு தொடர்பாக ஆராய்கிறார்கள். 90 சதவீதமானவர்கள் இந்தத் தீர்ப்புக்கு ஆதரவாக இருக்கிறார்கள். இந்த தீர்வை தயாரித்துக் கொண்டிருக்கிறோம். அடுத்த கட்டப் பேச்சின் போது அந்தத் தீர்வை முன்வைக்கிறோம் - என்ற அரசுத் தரப்புப் பதில் அளித்ததாக அறிய வந்தது. (அ-உ-1)



ஜெனிவாவில் நேற்று சமாதானப் பேச்சு ஆரம்பமாகியபோது அரசு பேச்சுக் குழுவின்தலைவர் நிமால் சிறிபாலடி சில்வாவும், விடுதலைப் புலிகளின் பேச்சுக் குழுவின்தலைவர் சு.ப.தமிழ்ச்செல்வனும் ஊடகவியலாளர்கள் முன்பாக கை குலுக்கிக்கொண்ட காட்சி....

ஏ-9 பாதையைத் திறக்க....

(முதலாம் பக்கத் தொடர்ச்சி) ஏ-9 பாதையை மூடிவைத்திருப்பது போர்நிறுத்த ஒப்பந்தத்தை மீறும் செயலாகும். அந்தப் பாதை மூடப்பட்டதால் யாழ்ப்பாணக் குடாநாட்டில் பெரும் மனிதப் பேரவலம் உண்டாகி உள்ளது. இது ஒரு மனிதாபிமானப் பிரச்சினை. - ஏ-9 பாதையை திறப்பதற்கு இன்றைய (29 ஆம் திகதிய) பேச்சுக்களில் அரசாங்கம் இணக்கம் தெரிவிக்கவில்லை என்றால் அடுத்தசுற்றுப் பேச்சுக்கான திசையை நிர்ணயிக்கச் சம்மதிக்கப் போவதில்லை - என்று புலிகள் தரப்பில் நேற்றைய பேச்சுக்களில் உறுதியாகத் தெரிவிக்கப்பட்டது. இதற்கு அரசாங்கத் தரப்பில் கருத்துத் தெரிவித்த வர்த்தக வாணிபத்துறை அமைச்சர் ஜெயராஜ் பெர்ணான்டோ புள்ளே ஏ-9 வீதியைத் திறப்பது என்ற கேள்விக்கே இடமில்லை எனத் தெரிவித்தார்.

குடாநாட்டுமக்களுக்குத் தேவையான சகல பொருள்களையும் கப்பல் மூலம் அனுப்பி வைக்க அரசாங்கம் தயாராக உள்ளது. விடுதலைப் புலிகள் அதற்கு ஒத்துழைப்புத் தந்தால் இது ஒரு விவகாரமாக இருக்காது. ஏ-9 பாதையைத் திறக்கும் எண்ணம் அரசுக்கு இல்லை என்று கூறினார். அதனை தொடர்ந்தே விடுதலைப் புலிகள் தரப்பு பேச்சுக் குழுவின்தலைவர் சு.ப.தமிழ்ச்செல்வன் இன்றைய பேச்சுக்களில் போது அரசுதரப்பு உடன்பாடு தெரிவிக்கவில்லையானால் அடுத்த கட்டப் பேச்சுக்கு திகதி ஏதனையும் நிர்ணயிக்க தமது தரப்பு இணங்கமாட்டாது என்று கூறியதாக 'உதயன்' - 'சுடரொளி' பத்திரிகைகளின் பதிவிடப்பட்ட தரப்பினர் செய்தியாக அறியவந்தது.

ஆக்கபூர்வ முடிவு...

(முதலாம் பக்கத் தொடர்ச்சி) சமாதானப் பேச்சுக்களில் முதல் நாள் பேச்சுக்களின் முடிவில் பேச்சுத்தொடர்பாகக் கருத்து வெளியிடுகையில் அவர் இதனைத் தெரிவித்தார். தமிழ்ச்செல்வன் மேலும் கூறியதாவது:- தமிழ்மக்கள் எதிர்நோக்கும் அன்றாடப் பிரச்சினைக்குத் தீர்வு காணவேண்டும் என்று நாம் கோரினோம். ஜெனிவாவில் ஏற்கனவே காணப்பட்ட இணக்கப்பட்ட நடைமுறைப்படுத்துமாறு கேட்டுக்கொண்டோம். யுத்த நிபந்தனைகளை மீட்டும் முடியுமாயின் பணிக்கு ஒத்துழைப்பு வழங்கத் தயார் எனத் தெரிவித்தோம். யுத்தநிறுத்த உடன்படிக்கையை நூறு வீதம் நடைமுறைப்படுத்தத் தயாராக இருக்கின்றோம் - என்றும் தெரிவித்தோம். மக்களின் அன்றாடப் பிரச்சினைக்குத் தீர்வுகாண அரசு முன்வரவேண்டும் என்று கோரினோம். ஆனால், அரசுத் தரப்பில் இருந்து ஆக்கபூர்வமான பதில் எதுவும் எமக்குக் கிடைக்க வில்லை. மக்களின் வாழ்வாதாரப் பிரச்சினைகளுக்குத் தீர்வுகாண வேண்டும் என்பதே எமது முக்கிய கோரிக்கையாக இருந்தது - என்றார் தமிழ்ச்செல்வன். (அ-உ-1)

பரிசை விவாதம்
நாம் 5 புலமைப்பரிசில் 2006 திரு. கணேசலிங்கம் அவர்களின் விடே. வேற்றித் தேர்வு 2 வெளிவந்து விட்டது. கலைக்குறிப்புகள் - யூ.அலரிங்கம் - யாழ். நகர். தூக்கா பத்திரிகையைக் கவனிக்க. மெய்டேன் பத்திரிகையை நேல்லியடி. அருள் பத்திரிகையை - சாவக்கோளி. விடே. வேற்றித் தேர்வு-1 இரண்டு தரவிலை கிடைக்கும். துள்ளி, தரிசனம், சந்திரன், புன் வழியைப் பற்றி உத்தரவுகள். 3ஆம் தலையை பரிசை விவாதம் தேவையான தொடர்பு கேள்விகள் 222 9016