



தினகரன்

THINAKARAN

2022 ஓகஸ்ட் 5 வெள்ளிக்கிழமை



கிடைச்ச

வரு. 90 இல. 183

Friday 05, August, 2022

16 பக்கங்கள்

40/-

நபுறவை தொர்ந்தும் பேணுவோம்

ஜனாதிபதிக்கு எலிசபெத் மகாராணி வாழ்த்து!



06

உலகளாவிய பதற்றங்களை அதிகரிக்கும் ஆத்திரமூட்டல்களை நாடுகள் தவிர்த்துக் கொள்ள வேண்டும்

சீனத் தூதுவரிடம் ஜனாதிபதி ரணில் கருத்து

லோரன்ஸ் செல்வநாயகம்

உலகளாவிய பதற்றங்களை மேலும் அதிகரிக்கும் வகையிலான ஆத்திரமூட்டல்களை நாடுகள் தவிர்த்துக் கொள்ள வேண்டும் என ஜனாதிபதி ரணில் விக்கிரமசிங்க தெரிவித்துள்ளார். 'ஓரே சீனா' கொள்கை



லேக் ஹவுஸ் நிறுவனத்தின் 'தினகரன்' News Alert சேவை ஆரம்பித்து வைப்பு

'தினமின', 'டெம்லி நியூஸ்' சேவைகளும் ஆரம்பம்

வாசகர்களுக்கு உடனடி செய்திகளை வழங்கும் நோக்கத்துடன், லேக்ஹவுஸ் மூன்று மொழிகளிலும் SMS



இன்று மாலை வரையான காலக்கெடு ஆர்ப்பாட்டக்காரர்கள் பலர் நேற்று காலிமுசுத்திலிலிருந்து வெளியேற்றம்

லோரன்ஸ் செல்வநாயகம்

காலிமுசுத்திலில் 100 நாட்களுக்கு மேல் ஆர்ப்பாட்டத்தில் ஈடுபட்டுவந்த தரப்பினர் நேற்று அங்கிருந்து வெளியேற்றத் தொடங்கியுள்ளனர். நேற்றும் நேற்று முன்தினமும் அங்கிருந்த பல கூடாரங்கள் அகற்றப்பட்டுள்ள துடன் நேற்று நண்பகல் சில



சிறுதொழில் முயற்சியாளர்களின் கோரிக்கைக்கு செவிசாய்ப்பு சிறிய மற்றும் நடுத்தர நிறுவன முயற்சிகளுக்கு அரசு உதவும்

மூலப்பொருட்களை இறக்குமதி செய்ய வரிச்சலுகை வழங்க முடிவு

லோரன்ஸ் செல்வநாயகம்

சிறு மற்றும் நடுத்தர கைத்தொழில் துறையினருக்கு வரிச்சலுகை உள்ளிட்ட பல்வேறு நிவாரணங்களை வழங்குவதற்கு அரசாங்கம் தீர்மானித்துள்ளது. நாட்டின் சிறு மற்றும் நடுத்தர கைத்தொழில் துறையினர் தமது உற்பத்திக்கான மூலப்பொருட்களை கொள்வனவு செய்வதற்கு தேவையான டொலரைப் பெற்றுக் கொள்ளவும் உதிர்ப்பாகங்களை இறக்குமதி செய்யவும் மற்றும் வங்கிக் கடன்களைப் பெற்றுக்கொள்வது தொடர்பிலும் விடுதலையளிக்கும் வகையில் கவனத்திற் கொண்டு அதற்கான அனுமதியை பெற்றுக்கொள்வதற்கு கைத்தொழில் அமைச்சர் ரமேஷ் பத்திரனவினால் அமைச்சரவைப் பத்திரமொன்று அமைச்சரவைக்கு சமர்ப்பிக்கப்பட்டு அதற்கான அனுமதி அமைச்சரவையினால் வழங்கப்பட்டுள்ளது. அதற்கிணங்க, தேசிய ஆடைத்தொழில் உற்பத்தித் துறைக்கு தேவையான மூலப்பொருட்களை கொள்வனவு செய்வதற்காக வரிச்சலுகைகளை வழங்குவதற்கும் தீர்மானிக்கப்பட்டுள்ளது. ஆடைத்தொழிறுறையாளர்கள் எதிர்நோக்கும் மூலப்பொருள் விலை அதிகரிப்பு மற்றும் நாட்டில் நிலவும் நெருக்கடி நிலை



பொதுநலவாய போட்டியில் யுயனுக்கு வெண்கலம்

பேர்மிங்காமில் நடைபெற்றகொண்டிருக்கும் பொதுநலவாய விளையாட்டுப் போட்டியில் இலங்கையின் யுயன் அபேகோன் ஆண்களுக்கு

கான 100 மீற்றர் ஓட்டப் போட்டியில் வெண்கலப் பதக்கம் வென்றுள்ளார். பரிதிவட்டம் எறிதல் போட்டியில் பாலித்தண்டார



அரிசிக்கு அதிக விலை: சிலிண்டர் பதுக்கல் யாழில் மூன்று வர்த்தகர்களுக்கு தலா ஒரு இலட்சம் ரூபா அபராதம்

யாழ். நீதவான் நீதிமன்றம் அதிரடி தீர்ப்பு

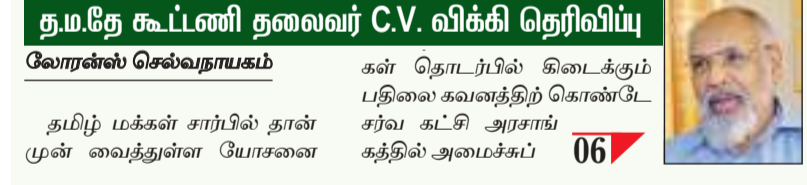
யாழில் அரிசியின் நிர்ணய விலையை விட அதிக விலையை விற்பனை செய்கின்ற வர்த்தகர்களுக்கு, ஒரு இலட்சம் ரூபா அபராதம் வழங்கும் தீர்ப்பை வழங்கியுள்ளது.

தமிழரின் கோரிக்கைகளை ஏற்றால் அமைச்சு பதவிக்கு பரிசீலனை

கு.ம.தே கூட்டணி தலைவர் C.V. விக்கி தெரிவிப்பு

லோரன்ஸ் செல்வநாயகம்

கன் தொடர்பில் கிடைக்கும் பதிலை கவனத்திற் கொண்டு சர்வ கட்சி அரசாங்கத்தில் அமைச்சுப் பதவிக்கு பரிசீலனை செய்யப்படும்.



ஆகக்குறைந்த கட்டணம் 34 ரூபா பஸ் கட்டணங்கள் நேற்று நள்ளிரவு முதல் குறைப்பு

தேசிய போக்குவரத்து ஆணைக்குழு

லோரன்ஸ் செல்வநாயகம்

பஸ் கட்டணங்கள் நேற்று நள்ளிரவு முதல் குறைக்கப்பட்டுள்ளது. தேசிய போக்குவரத்து

ER முறையிலான டீசல் நாள் ஒன்றுக்கே போதாது பஸ் சங்கங்கள் வேலை நிறுத்தத்தில் குதிப்பு

நாடு தழுவிய ரீதியில் பஸ் வேலைநிறுத்தத்தை ஆரம்பிக்க பஸ் சங்கங்கள் பேச்சுவார்த்தை நடத்தி வருகின்றன. தேசிய எரிபொருள் விநியோக முறையான



எதிர்வரும் 11ஆம் திகதி வியாழனன்று ஜனாதிபதியை TPA தனியாக சந்திக்கும்

SJBயுடனான சந்திப்பிலும் பங்கேற்கும்

தமிழ் முற்போக்கு கூட்டணியின் குழு, ஜனாதிபதி ரணில் விக்கிரமசிங்க கவை எதிர்வரும் 11ஆம் திகதி நேரடியாக சந்தித்து மலையக தமிழ் இலங்கை யர்களின் அபிலாசைகள் தொடர்பில் குறிப்பாகவும், தென்னிலங்கையில் வாழும் தமிழ் மக்களின் பிரச்சினைகள் தொடர்பில்



சாட்சிக் கூண்டில் நின்றவர் மீது குடு கல்கிள்ச நீதிமன்றத்தில் துப்பாக்கிப் பிரயோகம்

துப்பாக்கிதாரி தப்பியோடி தலைமறைவு

லோரன்ஸ் செல்வநாயகம்

நீதிமன்றத்தில் சாட்சிக் கூண்டில் நின்ற நபர் மீது துப்பாக்கிச் சூடு நடத்தப்பட்ட சம்பவம் ஒன்று நேற்று கல்கிள்சையில் இடம் பெற்றுள்ளது. துப்பாக்கிச் சூட்டை நடத்தியவர்



ஜனாதிபதியின் உரையின் எதிரொலி கொழும்பு பங்கு விலை சுட்டெண் அதிகரிப்பு

முதலீட்டாளர்கள் நம்பிக்கை வெளியீடு

லோரன்ஸ் செல்வநாயகம்

ஜனாதிபதி ரணில் விக்கிரமசிங்கவினால் அரசாங்கத்தின் நேர்மறையான கொள்கை விளக்கம் பாராளுமன்றத்தில் முன்வைக்கப்பட்ட பின் கொழும்பு பங்குச் சந்தையில் பாரிய அதிகரிப்பு ஏற்பட்டுள்ளது.



சுகாதார முறைகளை கடைப்பிடிக்க பணிப்பு நாட்டில் கொவிட் மரணங்கள் மேலும் அதிகரிக்கும் அபாயம்

கொவிட் நோய் தொடர்பில் சுகாதார திணைக்களத்தினால் வழங்கப்படும் அறிவுறுத்தல்கள் மற்றும் வழிகாட்டுதல்களை பின்பற்றாவிட்டால் நோயாளிகளின் எண்ணிக்கை அதிகரிப்பதுடன் இறப்பு எண்ணிக்கையும் அதிகரிக்கும் என சுகாதார சேவைகள் பணிப்பாளர் நாயகம் டொக்டர் அசேல



கொரோனா பரவல் தீவிரமாகிறது மாணவர்களுக்கு கொவிட் தடுப்பூசிகள் விரைவில்

கொரோனா நோயாளிகளின் எண்ணிக்கை நாளுக்கு நாள் அதிகரித்து வரும் நிலையில் மாணவர்களுக்கு கொரோனா தடுப்பூசிகளை துரிதமாக வழங்க தீர்மானிக்கப்பட்டுள்ளது. பிரதி சுகாதார சேவைகள் பணிப்பாளர் நாயகம், விசேட வைத்திய



சர்வகட்சி அரசில் இணைய குமார வெல்கமவும் இணக்கம் தெரிவிப்பு

சர்வகட்சி அரசாங்கத்தில் இணைந்து முழு ஆதரவை வழங்குவதாக ஆக்கிய மக்கள் சக்தியின் கருத்துரை மாவட்ட பாராளுமன்ற உறுப்பினர் குமார வெல்கம தெரிவித்துள்ளார். இது சம்பந்தமாக ஜனாதிபதியை நேற்று அவர் சந்தித்துப் பேச்சுவார்த்தையும் நடத்தியுள்ளார். 'நான் அமைச்சுப் பதவிகளுக்காக



நாமலுக்கு எதிரான வழக்கு டிசம்பர் 8 ஆம் திகதி மீள் விசாரணைக்கு

பாராளுமன்ற உறுப்பினர் பதவியை வகித்துக் கொண்டு சட்டவிரோதமாக 15 மில்லியன் ரூபாவை சம்பாதித்து அதனை முதலீடு செய்த ததான குற்றச்சாட்டு தொடர்பில் முன்னாள் அமைச்சர் நாமல் ராஜபக்ஷ உள்ளிட்ட நான்கு



கடந்த 22 நாட்களில் சுமார் 25 இலட்சம் எரிவாயு சிலிண்டர்கள் விநியோகம்

கடந்த 22 நாட்களில் 25 இலட்சம் சமையல் எரிவாயு கொள்கலன்கள் விநியோகிக்கப்பட்டுள்ளதாக விற்பனை நிறுவனம் தெரிவித்துள்ளது. அத்துடன் பிரதேச விற்பனையாளர்களுக்கு தொடர்பும் எரிவாயு கொள்கலன்கள் விநியோகிக்கப்பட்டு வருவதாகவும் அதன் தலைவர் முதித்த பீரில் தெரிவித்துள்ளார். இன்றைய தினத்தில் 140,000 சமையல் எரிவாயு கொள்கலன்களை சந்தைக்கு விநியோகிக்க எதிர்பார்த்துள்ளதாகவும் அவர் குறிப்பிட்டுள்ளார்.

பாராளுமன்ற பாதுகாப்பின்போது விபத்துக்குள்ளான ட்ரோன் கண்டுபிடிப்பு

பாராளுமன்ற கூட்டத் தொடர் ஆரம்ப நிகழ்வு தினமான கடந்த 3 ஆம் திகதி, பாதுகாப்புக்காக ஈடுபடுத்தப்பட்டிருந்தபோது தியவன்னா ஓயாவில் வீழ்ந்த ட்ரோனை கடற்படைமீனர் கண்டுபிடித்துள்ளனர். திடீரென ஏற்பட்ட இயந்திரக்



பொருளாதார நெருக்கடியில்

சுகாதார வழிமுறைகளை கடைபிடியத்து நெருக்கடியை குறைக்க வழிவகுக்கும்...

யாழ். போதனா வைத்தியசாலை பணிப்பாளர் வைத்தியர் தங்கமுத்து சத்திய மூர்த்தி

யாழ். போதனா வைத்தியசாலையின் பணிப்பாளர் வைத்தியர் தங்கமுத்து சத்திய மூர்த்தி, தற்போதைய பொருளாதார நெருக்கடியான சூழலில் பொது சுகாதார வழிமுறைகளையும் தமது உடல் ஆரோக்கியத்தையும் எவ்வாறு பாதுகாத்துக் கொள்ள வேண்டுமென்பதை எளிதெளிவு இன்மையால் தமது வைத்தியசாலையில் கடமைபுரியும் பல்வேறு மட்டத்திலுள்ள சுகாதார சேவையாளர்களும் தமது கடமைகளைச் செய்வதற்கும் பணிக்கு வரவதற்கும் மற்றும் அவர்களுடைய பொருளாதார நெருக்கடி நிலையை குறைப்பதற்கான புதிய திட்டங்களுடன் வைத்தியத் துறையில் தியாகத்தோடு செயற்படும் ஒரு நிர்வாகத் திறன் வாய்ந்த இயக்குனர் இவர் மர தன் ஓட்டப் போட்டியில் ஆர்வத்துடன் ஈடுபட்டிருப்பதும் இவர் லண்டனில் நடைபெற்ற மரதன் ஓட்டப் போட்டியில் உயர்ந்த மட்டத்தில் போட்டி செய்து வெற்றி பெற்றது இப்போது பொருளாதார வைத்தியசாலையின் பிரதான இயக்குனர் சத்திய மூர்த்தி தினகரன் பத்திரிகைக்கு வழங்கிய கலந்துரையாகும்....

இங்கிலாந்தில் நீங்கள் உயர்விலி பெற்றது இப்போது மக்களுக்கு புதிய நம்பிக்கையை ஏற்படுத்தியுள்ளது. அது தொடர்பில் உங்கள் கருத்து?

நான் ஒரு வருடம் இங்கிலாந்து வெட்போசியா வைத்தியசாலையில் (என். எச். எல்) யூசு வைத்தியசாலையில் பரிந்துரை முடித்து விட்டு நாடு திரும்பியுள்ளேன். என்னுடைய படிப்பு "எம். டி" மருத்துவப் பின் பட்டம்

படிப்பாகும். நிர்வாகத் துறை சார்ந்தது. இக்கற்கை நெறியைப்பூர்த்தி செய்த பின்பு வெளிநாட்டினரில் பரிந்துரைப் பெற்றிருக்க வேண்டும். அங்குள்ள வைத்தியசாலைக்கும் இங்குள்ள வைத்தியசாலைக்கும் ரொம்ப வித்தியாசம். ஏனென்றால் வசதிகள் கூடிய வைத்தியசாலைகள். அங்குள்ள வைத்தியசாலைகளையும் இங்குள்ள வைத்தியசாலைகளையும் ஒப்பிட்டுப் பார்க்கும் போது அங்குள்ள வைத்தியசாலைகள் எப்படி சிறப்பாக இயக்குவது என்றால் நோயாளிகளுக்கு எப்படிப் பாதுகாப்பு வழங்குவது என்பதே மிக முக்கியமானதாக நோக்கப்படுகிறது. அங்கு எவ்வாறான நிர்வாக கட்டமைப்புகளை மேற்கொள்ளுகிறார்கள் என்பதை நன்கு நான் அறிந்து கொண்டேன். அவை எனக்கு பயனுள்ளதாக இருக்கிறது. பெற்ற பரிந்துரையை இங்கு நோயாளிகள் அமுல்படுத்த இயலாது.

சுவால்களை எதிர்த்தோக்குவார்கள். ஆனால் அங்குள்ள அனைத்து உத்தியோகத்தர்களும் சிறப்பாகவும் அவதானமாகவும் நேரத்தியாகவும் செய்து முடிப்பார்கள். இங்கே பல பற்றாக்குறைகள் காணப்படுகின்றன. ஆனால் விளையாட்டிற்கான சேவைகளை செய்து முடிப்பதற்கு இடையில் சில சமயங்களில் நோயாளிகளுக்கும் உத்தியோகத்தர்களுக்கும் மிடையே சில பிரச்சினைகள், முரண்பாடுகள் தோன்றும். இதனால் ஒரு பக்கம் வைத்தியசாலையைப் பற்றி குறை கூறுபவர்களாக இருப்பார்கள். ஆனால் உண்மையில் இங்கே பார்த்தால் உத்தியோகத்தர்களுடைய வேலைப் பளு மிக அதிகம். அதனை ஒரளவேணும் மட்டுப்படுத்தி சந்தோசத்தோடு கடமைகளைச் செய்வதற்கான வழிகளை ஏற்படுத்தலாம்.

பொருளாதார தாக்கம் மருத்துவத்தையிலும் தாக்கத்தை ஏற்படுத்தியுள்ள நிலையில் உங்கள் பணி எவ்வாறு இருக்கிறது?

பொருளாதார நெருக்கடியில் எளிதெளிவு மட்டுப்படுத்தப்பட்டுள்ளதால் போக்குவரத்துக்கும் பெரும் சிக்கல் ஏற்பட்டுள்ளது. தனியார் வாகனங்களை தவிர்ந்து பொதுப் போக்குவரத்து அல்லது துவீச்சு வண்டியில் உத்தியோகத்தர்கள் கடமைக்கு சமூகமணிப்பதற்கான வழிகளைகளையும் மற்றும் ஏனைய கடமைகள் தடைப்பட்டால் இயங்குவதற்கான ஊக்குவிப்பை செய்து வருகின்றோம். பொருளாதார நிலையில் ஊழியர்கள் பாதிப்படையாத வகையில் வேலைத்திட்டங்களை ஏற்படுத்தி வழிகாட்டுதல்களையும் ஆலோசனைகளையும் வெகுவிரைவில் வழங்குவோம். 2100 பேர் இருக்க ஏல்லா மட்டத்திலும் கடமையாற்றும் ஊழியர்கள் இருக்கிறார்கள். இத்திட்டங்கள் அவர்களுக்கு பெரும் பயனாக அமையும் என எதிர்பார்க்கின்றேன்.

அதேவேளையில் வைத்தியசாலையிலுள்ள உத்தியோகத்தர்கள் மிகவும் முக்கியமானவர்கள். அவர்கள் சிறந்த மனநிலையோடு சேவையாற்றுவதற்கும் போட்டிகளை நடத்தி அவர்களுக்கு பரிசீலனை வழங்கி ஊக்குவிக்கலாம் என்று கருகின்றேன்.

போதுவாக அரசு நினைக்கக்கூடிய கற்றல் காண்பதும் குறை மிடிப்பதும் ஒரு பொதுவான வாடிக்கையாக இருக்கிறது. குறைகளைக் கேட்டறிந்து நடவடிக்கை எடுப்பதோடு அவைகளுக்கப்பால் அவர்களை ஊக்குவித்து அவர்களுடைய பங்களிப்போடுதான் இவ்வாறான பாரிய நிறுவனங்கள் இயங்க முடியும்.

பல இக்கட்டான காலகட்டத்தில் நீங்கள் மக்கள் பணி செய்து மக்கள் மனதை வென்றவராக கருதப்படுகிறீர்கள். இந்த பொருளாதார நெருக்கடியான சூழ்நிலையில் மக்கள் எவ்வாறான சுகாதார நடைமுறைகளை பேண வேண்டுமென நினைக்கிறீர்கள்?

இவ்வாறான சூழ்நிலையில் ஒவ்வொருவரும் கண்டிப்பாக ஆரோக்கியமாக இருந்து கொள்ள வேண்டும். நிறைவு உணவு, உடற் பயிற்சி செய்ய வேண்டும். நோய்கள் தொற்றாமல் மிக அவதானமாக இருக்க வேண்டும். 40 வயதிற்கு மேற்பட்டவராக இருந்தால் உடல் குருதியோட்டத்தை பரிசோதனை செய்து கொள்ள வேண்டும். ஏதாவது சிறிய பிரச்சினைகள் இருந்தால் அருகிலுள்ள சிறிய வைத்தியசாலையில் கடமையாற்றுகின்ற வைத்தியரை நாடி உரிய ஆலோசனைகளைப் பெற்றுக் கொள்ள வேண்டும்.

40 வயதுக்கு மேற்பட்டவருக்கு நெடுங்காலமாக உயர் குருதி அழுத்தம் இருந்தால் அந்தந்த வைத்தியசாலைக்குச் சென்று மருந்து எடுத்திருந்தால் பிரச்சினை இல்லை. ஆனால் இறுதியில் மாறாட்டி, இரத்த அழுத்தம் இருந்தால் கவனம் செலுத்த வேண்டும்.

அதாவது ஒரு மனிதனுடைய ஆரோக்கியத்திற்கு 7 மணி முதல் 9 மணித்தியாலம் நித்திரை கொள்ள வேண்டும். சீரான நித்திரை, உணவு அருந்தாமல் இருந்தால் உடலில் மாற்றங்கள் ஏற்பட்டு பாதிப்படையக்கூடும்.

ஒருவர் சுகதேகியாக இருப்பதற்கு சில நல்ல காரியங்களைக் கடைப்பிடித்தால் நோய்களைத் தவிர்ந்துக் கொள்ள முடியும். உதாரணமாக ஒப்பூ, உடற்பயிற்சி, பொருத்தமான உணவு, போதைப் பொருள் பாவனை, புகைத்தல் அல்லது வேறு ஏதாவது தவறான பழக்க வழக்கங்களில் இருந்து மற்றும் தமக்கு தீங்கு இழைக்கக் கூடிய உணவு வகைகளில் இருந்து மிகவும் அவதானமாக நடந்து கொள்ள வேண்டும்.

அவை தவிர வீதி விபத்துக்களும் முக்கியமான பிரச்சினைகளில் ஒன்றாக காணப்படுகின்றது. விபத்துக்களைத் தவிர்ந்துக் கொள்ள வேண்டும். இதில் மிகமிக அவதானமாக இருக்க வேண்டும்.

விபத்துக்களின் போது ஒரு குடும்பத்தில் இருப்பவருக்கு திடீரென ஏதாவது ஒரு அளவீரம் ஏற்பட்டால்



மாணவர்கள் இந்த கடன் திட்டத்தில் இணைந்து உதவியைப் பெற்றுக் கொள்ளுகின்றார்கள். சுமார் 600 க்கும் மேற்பட்ட மாணவர்கள் இந்த கடன் திட்டத்தில் பயன்பெற்று பயிற்சியை முடித்தவர்கள் பல தொழில் வாய்ப்புகளைப் பெற்றுக்கொண்டார்கள். தொழில் வாய்ப்பை பெற்றவர்கள் அவர்கள் பெற்ற பணத்தை அவர்களுக்கு ஏற்றவாறு கிராமமாக கட்டி முடிப்பதன் ஊடாக ஏனைய மாணவர்களுக்கு உதவித் தொகை சேர்வதற்கான வழி மேற்கொள்ளப்படுகிறது. குறிப்பாக ஆரம்பத்தில் இருந்து இன்று வரையிலும் புலம்பெயர்ந்தவர்கள் இங்குள்ள நிறுவனத்தின் ஊடாக ஒரு திட்டமிட்ட அடிப்படையில் செய்து வருகின்றோம். இது வெற்றிகரமாக நடைபெற்று வருகின்றது.

100க்கு மேற்பட்ட மாணவர்கள் தாம் பெற்ற கடனை மீளவும் திரும்பிச் செலுத்தி வருகிறார்கள். இதனை வெற்றிகரமாகச் செய்வதற்கு சில நன்கொடையாளர்கள் ஊடாகவும் நன்கொடை அமைப்பின் ஊடாகவும் இந்த செயற்திட்டம் வெற்றிகரமாக முன்னெடுக்கப்பட்டு வருகிறது. கல்வி வளர்ச்சி அறக்கட்டளைக்கான அலுவலகம் இருக்கிறது. அதில் நான்கு பேர் கடமை புரிகின்றார்கள். இது மாணவர்களுக்கு மிகவும் பிரயோசனமாக அமைந்திருக்கிறது. பொருளாதார வலுவில் பின்னடைவுகளிலுள்ள மாணவர்களுக்கு இந்த உதவித் திட்டம் வழங்கப்படுகிறது. குடும்ப சமைகள் அதிகமாக இருக்கின்ற பல்கலைக்கழக மாணவர்கள் தொடர்பு கொண்டால் நாங்கள் அவர்களுக்கு கொடுப்பனவை எங்களால் வழங்க முடியும்.

மரதன் ஓட்டத்தில் தீராத ஆர்வமுடன் ஈடுபட்ட நீங்கள் அது தொடர்பில்

நான் கடந்த காலங்களில் விளையாட்டுத் துறையை ஊக்குவித்து வருகின்றேன். வைத்தியசாலைகளுக்கிடையே விளையாட்டுப் போட்டி, உதைப்பந்தாட்டப் போட்டி, ஓட்டப் போட்டி, எல்லே, கிரிக்கெட் என நடத்தி வருகின்றேன்.

கலந்துரையாடியவர்: இக்கால் அலி

திகதி 03.08.2022 புதன் கிழமை
உத்தியோகப்பூர்வ முடிவுகள் www.nib.lk

மலையாள சமீபம்
சீட்டியூப்பர் இலக்கம்: 4836
சீட்டியூப்பர் வெல்லப்பட்டுள்ள சமீபம் பரிசுகள்
ரூ. 7,443,060.00

அடுத்த சீட்டியூப்பின் சுப்பர் பரிசு
ரூ. 29,393,276.60

தன நிதானம்
சீட்டியூப்பர் இலக்கம்: 8666
சீட்டியூப்பர் வெல்லப்பட்டுள்ள சமீபம் பரிசுகள்
ரூ. 1,827,500.00

அடுத்த சீட்டியூப்பின் சுப்பர் பரிசு
ரூ. 120,194,057.60

கொவிசுகு
சீட்டியூப்பர் இலக்கம் 3078
சீட்டியூப்பர் வெல்லப்பட்டுள்ள சமீபம் பரிசுகள்
ரூ. 3,490,900.00

அடுத்த சீட்டியூப்பின் சுப்பர் பரிசு
ரூ. 66,908,206.00

ராசிசு பவல்
சீட்டியூப்பர் இலக்கம்: 145
சீட்டியூப்பர் வெல்லப்பட்டுள்ள சமீபம் பரிசுகள்
ரூ. 5,129,480.00

அடுத்த சீட்டியூப்பின் சுப்பர் பரிசு
ரூ. 3,566,304.20

மீகா பவர்
சீட்டியூப்பர் இலக்கம் 1184
சீட்டியூப்பர் வெல்லப்பட்டுள்ள சமீபம் பரிசுகள்
ரூ. 12,516,580.00

அடுத்த சீட்டியூப்பின் சுப்பர் பரிசு
ரூ. 263,999,214.00

அந்தக் குடும்பம் ஒரு இக்கட்டான சூழ்நிலைக்குத் தள்ளப்படுகின்றது. வெளிநாட்டில் இவ்வாறு விபத்து ஏற்பட்டால் அவர்கள் அரச செலவில் பராமரிக்கப்பட்டு அரச செலவில் அவர்களுக்கு நிறைய வசதிகள் வழங்கப்படுகிறது. இலங்கையில் அவ்வாறான வசதிகள் மிகவும் குறைவு. ஒரு குடும்பத்தலைவர் ஒருவருக்கு இப்படியான ஒரு நிலை ஏற்பட்டால் அந்தக் குடும்பத்திற்கு வருமானத்தைப் பெற வழி இருக்காது.

மருந்து தட்டுப்பாடுகள் தொடர்பில் உங்கள் வைத்தியசாலையின் நிலைப்பாடு என்ன?

நான் கடமைகளைப் பொறுப்பேற்று ஒரு சில நாட்கள்தான். மருந்து விநியோகப் பிரிவுக்கு அரசாங்கத்தின் ஊடாக மருந்துகள் வருகின்றது. எனினும் கடந்த காலங்களிலும் எதிர்ப்பாடு காலங்களிலும் சில நன்கொடையாளர்களின் ஊடாக மருந்துகளைப் பெற்றுக் கொள்ளுகின்ற வேலைகளை வைத்தியசாலையில் நலன்புரிச் சங்கம் மற்றும் வைத்தியசாலையின் அபிவிருத்திச் சபை என்ற அமைப்பின் ஊடாகப் பெற்றுக் கொள்வதற்கு வழி வகை மேற்கொள்ளப்படுகிறது.

கடந்த சில திங்களில் வைத்தியசாலைக்கு ஒருசிறகுதி மருந்துகள் வந்தடைந்தன. நான் இல்லாத காலங்களிலும் இவ்வாறு பெறப்பட்டிருக்கிறது. ஆகவே அவற்றையும் ஊக்கப்படுத்தி இல்லாத மருந்து வகைகளை கிராமமாகப் பெற்றுக் கொள்வதற்கான வழிகளைக் கண்டு பிடித்து அமுல்படுத்த வேண்டும். ஏனெனில் இலங்கையில் பொருளாதார நெருக்கடி நிலைவராதல் அவதானம் அவசியம். இது ஒரு பாரிய வைத்தியசாலை. மருந்துகள் இல்லாமல் போனால் நோயாளிகளுக்கு சிகிச்சை செய்ய முடியாமற் போய் விடும்.

ஆகவே நன்கொடையாளர்கள், அமைப்புகள் குறிப்பாக புலம்பெயராளர்கள், இந்த உதவிகளை பொதுவாக எங்களுக்குச் செய்கிறார்கள். மருந்துகளை இல்லாமல் போனால் நோயாளிகளுக்கு சிகிச்சை செய்ய முடியாமற் போய் விடும்.

பல்கலைக்கழகம் புகு மாணவர்களுக்கு உங்களுடைய கிளிநொச்சி அறக்கட்டளை பாரிய சமூகத் தொண்டுப் பணிகளை ஆற்றி வருகின்றது-அது தொடர்பில் சில கருத்துக்கள்...

கிளிநொச்சியில் கல்வி வளர்ச்சி அறக்கட்டளை என்ற நிறுவனத்தை பல வருடங்களுக்கு மேலாக நடத்தி வருகின்றோம். அங்கே இருக்கின்ற கல்வி வளர்ச்சி அறக்கட்டளை உறுப்பினர் சகிதம் பல்கலைக்கழகம் புகு மாணவர்களுக்கு மதாந்தம் ஒரு கொடுப்பனவை கடன் திட்டத்தின் ஊடாக பெற்றுக் கொள்வதற்கான வழி வகைகளைச் செய்கின்றோம். இந்த வருடமும் 150 க்கும் மேற்பட்ட



புலமைக் கதிர்

தரம்-5 வகுப்பு மாணவர்களுக்கான



திருமதி.பத்மா சந்திரமோகன்
புனித அந்தோனியார் கல்லூரி
கொழும்பு - 13

புலமைப் பரிசில் பரீட்சை மாதிரி வினாத்தாள் - I

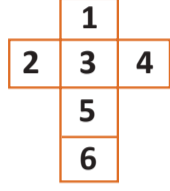
1 மணித்தியாலம்

எல்லா வினாக்களுக்கும் விடையளிக்கുക.
சரியான விடையின் கீழ்க் கோடிடுக.

1. + =
 + =
 + ? =

- i. ii. iii.

2. இவ்வமைப்பின் படி இலக்கம் 1க்கு எதிரான இலக்கம் எது?
i. 5
ii. 6
iii. 4



3. பசு - கன்று எனில் பூனை

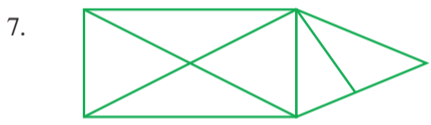
- i. கன்றி ii. குட்டி iii. கன்று

4. அசானின் தந்தை நவிக்சனின் தந்தைக்கு மகனாவார் எனவே அசான் நவிக்சனுக்கு என்ன முறை?

- i. மகன் ii. அப்பா iii. தாத்தா

5.
i. 32 ii. 64 iii. 28

6. 1kg கத்தரிக்காய் ரூ. 240.00 எனவே 1kg 250g கத்தரிக்காயின் விலை என்ன?
i. ரூபாய் 200.00 ii. ரூபாய் 280.00 iii. ரூபாய் 300.00



இவ்வருவிலுள்ள செங்கோணங்களின் எண்ணிக்கை யாது?

- i. 6 ii. 4 iii. 2

8. 20 மாணவர்கள் 20 நிமிடத்தில் ஒரு km ஓடுவார்கள். 40 மாணவர்கள் அதே தூரத்தை எத்தனை நிமிடத்தில் ஓடுவார்கள்?
i. 20 நிமிடத்தில் ii. 40 நிமிடத்தில் iii. 60 நிமிடத்தில்

9. யசிக்கின் நிறை 37kg, ஜோயலின் நிறை 32kg 750g இருவரினதும் மொத்த நிறை யாது?
i. 70 kg 250g ii. 69kg 750g iii. 68kg 750g

10. காற்று வீசினால் வெப்பம் குறையும். காற்று வீசவில்லை எனவே
i. வெப்பம் அதிகரிக்கின்றது ii. வெப்பம் குறைகின்றது
iii. வெப்பம் மாறாதிருக்கின்றது



- i. ii. iii.

12. 3, 7, 9, 13, 15, இவ்வெண் கோலத்தில் அடுத்து வரும் எண் யாது?
i. 19 ii. 17 iii. 15

13. 480 மாம்பழங்களில் 40 மாம்பழங்கள் அழுகிவிட்டன. மிகுதியை 4 சம பகுதியாக பிரித்து பொதியிட்டால் ஒரு பொதியில் உள்ள மாம்பழங்களின் எண்ணிக்கை யாது?
i. 105 ii. 110 iii. 120

14. 78021 இவ்வெண்ணில் 0 குறிக்கும் இடமானது
i. நூறினிடம் ii. ஆயிரத்தினிடம் iii. பத்தினிடம்

15. 4/10 இதன் தசம வடிவம் யாது?
i. 4.0 ii. 0.4 iii. 0.04

16. நேற்று முன்தினம் புதன்கிழமை எனில் நாளை மறுதினம் என்ன கிழமை?
i. திங்கள் ii. சனி iii. ஞாயிறு

17. இவ்வருவின் விளிம்புகளின் எண்ணிக்கை யாது?
i. 8 ii. 10 iii. 12

18. ரூபாய் 1000 த்தினை ஆகக் குறைந்த எத்தனை நானாயத்தாள்களின் மூலம் மாற்றலாம்?
i. 2 ii. 4 iii. 10

19. $XX - V + X = ?$

- i. 10 ii. 25 iii. 35

20.
i. 49 ii. 14 iii. 72

21. பத்தாயிரத்து நூற்று பத்து என்பதனை இலக்கத்தில் எழுதினால்
i. 11110 ii. 10110 iii. 10100

22. நான்கு நபர்களுக்கு ஆறு புத்தகங்கள் வீதம் கொடுத்த போது இரண்டு புத்தகங்கள் எஞ்சியது எனில் மொத்த புத்தகங்கள் எத்தனை?
i. 22 ii. 24 iii. 26

23. BIRD = 8367 எனில் ROD என்பது

- i. 673 ii. 657 iii. 687

24. பின்வருவனவற்றுள் சமச்சீர் அற்ற உரு எது?



25. ஒரு ஒற்றை எண்ணுடன் ஒரு ஒற்றை எண்ணையும் ஒரு இரட்டை எண்ணையும் கூட்டினால் பெறப்படுவது யாது?

- i. ஒற்றை எண் ii. இரட்டை எண் iii. கூறமுடியாது

26. இக்கடிகார முகத்தில் நிமிடமுள் இன்னும் 5 முறை சுழன்றால் பெறப்படும் நேரமென்ன?

- i. 8 மணி ii. 7 மணி iii. 6 மணி



27. ஒரு பண்ணையில் 30 மாடுகளும் 15 கோழிகளும் 3 ஆடுகளும் இருந்தன. இவற்றின் கால்களின் மொத்த எண்ணிக்கை யாது?

- i. 48 ii. 177 iii. 162

28. அண்ணாவை விட தம்பிக்கு 4 வயது குறைவாகும். தம்பியின் வயது 8 எனில் இன்னும் 3 வருடங்களில் இருவரினதும் வயதுகளின் கூட்டுத்தொகை யாது?
i. 12 ii. 20 iii. 26

29. மூன்று பாத்திரங்களில் இருந்த பாலின் அளவுகள் முறையே 350 ml, 720 ml, 1330 ml எனில் மொத்த பாலின் அளவு யாது?
i. 2450 ml ii. 2400 ml iii. 2410 ml

30. இவ்வருவில் நிழற்றப்பட்ட பகுதி முழு உருவத்தின் என்ன பங்கு?
i. 3/8 ii. 3/4 iii. 4/8

31. டிவோன் வீட்டிலிருந்து மு.ப. 10.30க்கு புறப்பட்டு 11.25க்கு தனது மாமாவின் வீட்டை அடைந்தான். அவன் பி.ப. 3.30க்கு மீண்டும் வீட்டுக்கு திரும்பினான். அவன் தனது வீட்டுக்கு வெளியே கழித்த கால அளவு எவ்வளவு நேரம்?
i. 4 மணித்தியாலம் ii. 5 மணித்தியாலம் iii. 6 மணித்தியாலம்

32. இரண்டு டசன் பேனாவின் விலை ரூபாய் 480.00 எனில் ஒரு பேனாவின் விலை என்ன?
i. ரூபாய் 20.00 ii. ரூபாய் 40.00 iii. ரூபாய் 60.00

33. 300m நாடா ஒன்றிலிருந்து 115m நீளமான துண்டொன்று வெட்டி எடுக்கப்பட்டால் எஞ்சிய துண்டின் நீளம் யாது?
i. 185m ii. 285 m iii. 175 m

34. பதினாறாவது ஒற்றை எண் யாது?
i. 17 ii. 25 iii. 31

35. இக்கூட்டினுள் இருந்து எந்த இலக்கத்தை நீக்கினால் மற்ற இலக்கங்களின் கூட்டுத் தொகை 21 ஆக வரும்?
i. 6 ii. 4 iii. 7

36. $10000 - 10 = ?$ i. 10001 ii. 9910 iii. 9990

37. $P = 7, Q = 6, R = 5$ எனில் $P + Q - R = ?$
i. 8 ii. 10 iii. 11


38. சதுரங்களுக்கு கோணங்கள் உண்டு இவ்வருவக்கு கோணமில்லை எனவே,
i. இது ஒரு வட்டம் ii. இது சதுரமல்ல iii. கூறமுடியாது

39. ஒவ்வொன்றும் 100g நிறையுள்ள 20 சவர்க்கார கட்டிகள் 2kg நிறையுள்ள ஒரு பெட்டியில் அடைக்கப்பட்டன எனில் தற்போது பெட்டியின் மொத்த நிறை யாது?
i. 3kg ii. 4 kg iii. 6 kg

40. வேறுபட்ட சொல்லை தெரிக.
தம்பி, தங்கை, அக்கா, அம்மா, மாமி
i. தம்பி ii. அம்மா iii. மாமி

வினாத்தாள் ii இற்கான விடைகள் (29.06.2022)

I.	1. நட்சத்திரங்கள்	IV.	13. கரும்பலகை	ii. வடலி	22. i. 300m	29. 1.30 மணித்தியாலம்	41. 2	54. 3
	2. அம்பும், ஆம்பல்		14. மன்னிப்பு	iii. கன்றி	ii. 650 m		42. 1	55. 2
	3. வெள்ளி, ஓடம்		15. பயிற்சி	VII. 19. i. School		IX. 30. 1	43. 2	56. 1
	4. கூரியன் மறைந்து விட்டதால், இரவானதால்			ii. Chair		31. 2	44. 1	57. 1
	5. i. சமுத்திரம் ii. தாமரை			iii. Lion		32. 2	45. 3	58. 2
	6. களிக்குத்தம்மா			iv. Ship		33. 3	46. 3	59. 1
II.	7. சுளை			20. i. சொல்லுங்கள்		34. 1	47. 2	
	8. நகருக்குச்			ii. தங்கை		35. 3	48. 2	
	9. மணம்			iii. தண்ணீர்		36. 2	49. 3	
	10. வளியை			iv. மீன்		37. 1	50. 2	
III.	11. நட்பம்			VIII. 21. i.		38. 2	51. 1	
	12. காலைவிடாதே			ii.		39. 1	52. 2	
						40. 3	53. 1	



100 மீற்றரில் யுபன் வெண்கலம் வென்று சாதனை: பாலித்தவுக்கு வெள்ளிப்பதக்கம்

இங்கிலாந்தின் பெர்மிங்ஹாமில் நடைபெற்று வரும் பொதுநலவாய விளையாட்டுப் போட்டியில் இலங்கையின் பெரும் எதிர்வாழ்ப்பாசு இருந்த குறுந்தூர ஓட்ட வீரர் யுபன் அபேகோன் 100 மீற்றர் ஓட்டப் போட்டியில் வெண்கலப் பதக்கம் வென்றார்.

இலங்கை நேரப்படி நேற்று (04) அதிகாலை 2 மணிக்கு நடைபெற்ற இறுதிப் போட்டியில் ஆண்களுக்கான 100 மீற்றர் ஓட்டப் போட்டியில் யுபன் 10.14 விநாடிகளில் பூர்த்தி செய்து மூன்றாம் இடம் பிடித்தார்.

இந்தப் போட்டியில் கென்யா வீரர் பெர்மிங்ஹாம் ஓட்டப் போட்டித் தூரத்தை 10.02 விநாடிகளில் கடந்து தங்கம் வென்றிருந்ததால், தென்னாபிரிக்க வீரர் அகாவி சிம்பைன் 10.13 விநாடிகளில் போட்டித் தூரத்தை கடந்து வெள்ளிப்பதக்கத்தை வென்றார். இதில், 00.01 விநாடி வித்தியாசத்தில் யுபன் அபேகோன் வெள்ளிப்பதக்கத்தை தவறவிட்டிருந்தார்.

முன்னதாக யுபன் அபேகோன் அரையிறுதியின் போட்டித் தூரத்தை 10.20 விநாடிகளில் நிறைவு செய்து நான்காவது இடத்தை பிடித்துக் கொண்டதுடன் இறுதிப் போட்டிக்கு நேரடியாக தகுதிபெறும் வாய்ப்பை தவறவிட்டிருந்தார். எனினும் சிறந்த நேரப்பிரதியை பதிவு செய்த காரணமாக அவருக்கு இறுதிப் போட்டியில் பங்கேற்கும் வாய்ப்பு கிடைத்திருந்தமை குறிப்பிடத்தக்கது.

இதன்மூலம் பொதுநலவாய விளையாட்டுப் போட்டியின் 100 மீற்றர் ஓட்டப் போட்டியில் பதக்கம் ஒன்றை வென்ற முதல் ஆசிய வீரராக யுபன் சாதனை படைத்தமை குறிப்பிடத்தக்கது.

இது மட்டுமன்றி பொதுநலவாய விளையாட்டுப் போட்டியின் தடகாய் போட்டியில் இலங்கை

வெல்லும் நான்காவது பதக்கம் இதுவாகும். எனினும் 1998க்குப் பின்னர் தடகாய் போட்டியில் வெல்லும் முதல் பதக்கம் இதுவாகும்.

இதற்குமுன் டன்கன் வைட் 1950ஆம் ஆண்டு நடைபெற்ற பொதுநலவாய விளையாட்டு விழாவின் ஆண்டுகளுக்கான 440 மீற்றர் தடைதாண்டி ஓட்டத்தில் தங்கம் வென்றிருந்ததுடன், அதன் பின்னர் ஸ்ரீயாவி குலவன்சு வெள்ளி பதக்கத்தையும் (1998 - பெண்களுக்கான 100 மீற்றர் தடைதாண்டி ஓட்டம்), அதே ஆண்டில் சுகத் திலகரன் வெண்கலப் பதக்கத்தையும் (ஆண்களுக்கான 400 மீற்றர் ஓட்டம்) வென்றுக்கொடுத்திருந்தனர்.

இதேவேளை இலங்கை சார்பில் பொதுநலவாய விளையாட்டு விழாவின் மாற்றுத்திறனாளிகளுக்கான பரா பரிதி வட்டம் எரிதல் எப்42 பிரிவு போட்டியில் பங்கேற்ற



பாலித்த பண்டார, இலங்கைக்கு முதல் வெள்ளிப்பதக்கத்தை வென்று கொடுத்துள்ளார்.

அவர் முதல் முயற்சியில் 39.54 மீற்றர் தூரத்துக்கு பரிதி வட்டத்தை எறிந்து குறைந்த தூரத்துடன் போட்டியை ஆரம்பித்திருந்தாலும், அடுத்தடுத்த வாய்ப்புகள் ஒவ்வொன்றிலும் தூரத்தை அதிகரித்துக் கொண்டு 44.20 மீற்றர் தூரம் வீசி வெள்ளிப்பதக்கத்தை வென்றுகொடுத்துள்ளார்.

இந்தப் போட்டியில், வேல்லைச் சேர்ந்த அலெட் டேவீஸ் மற்றும் ஹெரிஸன் லோவ்ஸ் ஆகியோர் முறையே தங்கம் மற்றும் வெண்கலப் பதக்கத்தை வெற்றிக்கொண்டனர்.

இந்த வெற்றிகளுடன் இம்முறை பொதுநலவாய விளையாட்டுப் போட்டிகளில் இலங்கை இதுவரை ஒரு வெள்ளி மற்றும் இரண்டு வெண்கலப் பதக்கங்களை வென்றுள்ளது.

இந்தப் போட்டியில் 0.02 விநாடிகளில் வே. அவர் மூன்றாவது இடத்தை தவறவிட்டார். எனினும் நேரடி தகுதி பெறாத வீரர்கள் இடையே வேகமான காலத்தை பதிவு செய்ததன் மூலமே அவரால் அரை மிறுதிக்கு முன்னே முடிந்தது.

இந்நிலையில் அவர் அரையிறுதியில் தனது சிறந்த காலமான 45.73 விநாடிகளை நெருங்கும் பட்சத்தில் அவரால் இறுதிப் போட்டிக்கு முன்னேற்றம் காண முடியாமல் இருக்கும்.

ஆண்களுக்கான 400 மீற்றர் ஓட்டப் போட்டியின் இறுதிப் போட்டி ஓகஸ்ட் 7ஆம் திகதி பி.பி. 3.15க்கு நடைபெறவுள்ளது.

காலிங்க குமாரவின் 400 மீற்றர் அரையிறுதிப் போட்டி நாளை

இங்கிலாந்தின் பெர்மிங்ஹாமில் நடைபெற்று வரும் பொதுநலவாய விளையாட்டுப் போட்டியின் ஆண்களுக்கான 400 மீற்றர் ஓட்டப் போட்டியில் அரையிறுதியில் காலிங்க குமாரகே பங்கேற்கவுள்ளார்.

குமாரகே பங்கேற்கும் அரையிறுதிப் போட்டி இலங்கை நேரப்படி நாளை சனிக்கிழமை அதிகாலை 1.30 மணிக்கு இடம்பெறவுள்ளது.

கடந்த பதன்கிழமை நடைபெற்ற ஆரம்ப சுற்றின் முதல் தெரிவுப் போட்டியில் கலந்துகொண்ட குமாரகே 46.53 விநாடிகளில் போட்டியை முடித்து நான்காவது இடத்தை பிடித்ததோடு அரையிறுதிப் போட்டிக்கு முன்னேற்றம் கண்டார்.

இந்தப் போட்டியில் 0.02 விநாடிகளில் வே. அவர் மூன்றாவது இடத்தை தவறவிட்டார். எனினும் நேரடி தகுதி பெறாத வீரர்கள் இடையே வேகமான காலத்தை பதிவு செய்ததன் மூலமே அவரால் அரை மிறுதிக்கு முன்னே முடிந்தது.

இந்நிலையில் அவர் அரையிறுதியில் தனது சிறந்த காலமான 45.73 விநாடிகளை நெருங்கும் பட்சத்தில் அவரால் இறுதிப் போட்டிக்கு முன்னேற்றம் காண முடியாமல் இருக்கும்.

ஆண்களுக்கான 400 மீற்றர் ஓட்டப் போட்டியின் இறுதிப் போட்டி ஓகஸ்ட் 7ஆம் திகதி பி.பி. 3.15க்கு நடைபெறவுள்ளது.



சர்வதேச செய்திகள்

பொலேசியின் வருகையை அடுத்து:

தாய்வாளை சூழ சீனாவின் போர் ஒத்திசைவுகள் தீவிரம்

அமெரிக்க அரசியல்வாதி நான்சி பொலேசி தாய்வாளுக்கு விஜயம் மேற்கொண்ட நிலையில் அந்த தீவை கழுவீருக்கும் கடல் பகுதியில் சீனா பாரிய போர் ஒத்திசைவுகளை முடுக்கிவிட்டுள்ளது.

உள்ளூர் நேரப்படி நேற்று நண்பகல் ஆரம்பமான இந்தப் போர் ஒத்திசைவுகள் தாய்வாளை இருந்து 1.2 மைல்களுக்குள் இடம்பெறுகின்றன.

இந்தப் பிராந்தியத்தின் அந்தஸ்தை சீனா மாற்ற முயற்சிப்பதாக தாய்வாளை குறிப்பிட்டுள்ளது.

பொலேசி சிறிது காலமே தாய்வாளுக்கு பயணித்திருந்தபோதும், அது பெரும் சர்ச்சைக்குரிய ஒன்றாக மாறியுள்ளது. தாய்வாளை தனது பிரிந்து சென்ற மாகாணமாகவே சீனா கருதுகிறது.

இந்நிலையில் சீனாவின் பதில் நடவடிக்கையாகவே தாய்வாளை கழ இந்த மிகப்பெரிய போர் ஒத்திசைவு நடைபெறுவதோடு, தாய்வாளுடனான சில வர்த்தகங்களையும் சீனா முடக்கியுள்ளது.

பரபரப்பான கடல் பகுதியில் இடம்பெறும் இந்த ஒத்திசைவில், நீண்டதூர வெடிகுண்டு தாக்குதல்களும் இடம்பெறும் என்று சீனா குறிப்பிட்டுள்ளது.

தாய்வாளை கடல், ஆகாய எல்லைகளை



இந்த இராணுவ ஒத்திசைவுகள் பொறுப்பற்ற செயல் என்றும் கட்டுப்பாட்டை மீறிச் செல்லக்கூடும் என்றும் அமெரிக்க தேசிய பாதுகாப்பு ஆலோசகர் ஜெக் சல்விவான் எச்சரித்துள்ளார்.

சீனா இந்த இராணுவ ஒத்திசைவுகளை நடத்தும் பகுதிகள் பற்றி ஜப்பான் கவலை வெளியிட்டுள்ளது. அதன் பிரத்தியேக பொருளாதார வலயத்துக்குள் அத்துமறலாம் என்று அது குறிப்பிட்டுள்ளது.

தாய்வாளை, தென்கிழக்கு சீனாவின் கடற்கரையிலிருந்து சுமார் 100 மைல் தொலைவில் ஒரு தீவு.

அமெரிக்க வெளியுறவுக் கொள்கைக்கு முக்கியமான அமெரிக்க நட்பு நாடுகள் பட்டியலான 'முதல் தீவு சங்கிளி' என்றழைக்கப்படும் பட்டியலில் தாய்வாளை உள்ளது.

சீனா தாய்வாளை கைப்பற்றினால், மேற்கு பசிபிக் பிராந்தியத்தில் அதன் அதிகாரத்தைச் சுற்ற தீவிரமாக காட்ட முடியும் என்றும் குவாம் மற்றும் ஹவாய் வரையிலான அமெரிக்க இராணுவ தளங்களை அது அச்சுறுத்தக் கூடும் என்றும் சில மேற்கத்திய வல்லுநர்கள் கூறுகின்றனர்.

ஆனால், சீனா தனது நோக்கங்கள் முழுவதும் அமைதியானது என்று வலியுறுத்துகிறது.

எண்ணெய் உற்பத்தியை சற்று அதிகரிக்க முடிவு

ஒவெக் பிளஸ் என அழைக்கப்படும் பெற்றோலிய ஏற்றுமதி நாடுகளின் அமைப்பு மற்றும் அதன் கூட்டணி நாடுகள் செப்டம்பரில் எண்ணெய் உற்பத்தியை சற்று அதிகரிக்கும் அறிவிப்பை வெளியிட்டுள்ளது. எனினும் மசூ எண்ணெய் விலையை கட்டுப்படுத்த உற்பத்தியை விரைவாக அதிகரிக்கும் அழைப்புக்கு இது முரணாக உள்ளது.

இதன்படி செப்டம்பர் மாதத்தில் நாளளளாளுக்கு 100,000 பீப்பாய்களை அதிகரிப்பதற்கு ஒவெக் பிளஸ் அமைப்பு தீர்மானித்துள்ளது. ஒவெக் மற்றும் ஒவெக் அல்லா அமைச்சர்களின்



கூட்டத்தின்போதே இந்த முடிவு எடுக்கப்பட்டுள்ளது.

எனினும் இந்த அதிகரிப்பு சர்வதேச தேவையின் 0.1 வீதத்துக்கு இணையானதாக உள்ளது. அமெரிக்க ஜனாதிபதி ஜோ டையன் அண்மையில் மத்திய கிழக்கு விஜயம் மேற்கொண்டு சவுதி அரேபியாவுக்கு ஏவுகணை பாதுகாப்பு அமைப்பை விற்பதற்கு ஒப்புந்தமான நிலையில் உலக சந்தைக்கு மேலும் எண்ணெய் கிடைக்கும் என்ற எதிர்பார்ப்பு அதிகரித்திருந்தது.

இந்நிலையில் இந்த முடிவு டையனின் முயற்சிக்கு பெரும் பின்னடைவாக பார்க்கப்படுகிறது.

44th OBSERVER SLT-MOBITEL SCHOOL CRICKETER OF THE YEAR 2022

Recognizing talent, inspiring greatness.

44th OBSERVER SLT-MOBITEL மிகவும் பிரபல்மான பாடசாலை கிரிக்கெட் வீரர் / வீராங்கனை-2022

உங்களுக்கு விருப்பமான பாடசாலை கிரிக்கெட் வீரர்/வீராங்கனைக்கு வாக்களித்து அவரை இந்த ஆண்டின் OBSERVER SLT-MOBITEL மிகவும் பிரபல்மான பாடசாலை கிரிக்கெட் வீரர்/வீராங்கனையைத் தெரிவு செய்யுங்கள்.

மிகவும் பிரபல்மான பாடசாலை கிரிக்கெட் வீரர்-2022

இலங்கை பாடசாலைகள் கிரிக்கெட் சங்கத்தின் 19 வயதிற்குட்பட்ட அனைத்து பாடசாலை மட்டப் போட்டிகளில் 2021/2022 பிரிவு I, II, III களில் பூர்த்தி செய்த வீரர்கள் மட்டுமே வாக்களிக்கலாம்.

மிகவும் பிரபல்மான பாடசாலை கிரிக்கெட் வீராங்கனை-2022

தேசிய ரீதியில் இலங்கை பாடசாலைகள் கிரிக்கெட் சங்கத்தின் 19 வயதிற்குட்பட்ட அனைத்து பாடசாலை மட்டப் போட்டிகளில் 2021/2022 தேசிய மட்டத்தில் பூர்த்தி செய்த வீராங்கனைகளை மட்டுமே வாக்களிக்கலாம்.

வாக்கினை அளிப்பது : _____

வீரர்களுக்கான பிரிவு : பிரிவு I பிரிவு II பிரிவு III

தேசிய மட்ட வீராங்கனை : _____

(ஒரு கூப்பன் ஒரு வாக்குக்கு மட்டுமே செல்லுபடியாகும்)

பாடசாலை : _____

வாக்களித்தவர் பெயர் : _____

முகவரி : _____

மொழைப் இல. : _____

Vote: schoolboycricketer.lk இணையத்தளத்திற்குள் பிரவேசித்து வாக்களிக்க முடியும்

வாராந்த சீட்டிழப்பில் பரிசுகளை வெல்லுங்கள்:

1வது பரிசு : ரூ. 2,500	2வது பரிசு : ரூ. 1,500
3வது பரிசு : ரூ. 1,000	

44வது ஒப்சவர்-மொபிடெல் மிகவும் பிரபல்மான பாடசாலை கிரிக்கெட் வீரரை தெரிவு செய்யும் போட்டி தற்போது ஆரம்பமாகியுள்ளது. கூப்பனை நிரப்பி விளையாட்டு ஆசிரியர், சண்டே ஒப்சவர், லேக் ஹவுஸ், மொழைப்பு10 எனும் முகவரிக்கு அனுப்பி வைப்புகள்.

நிபந்தனைகள்:

SLT-MOBITEL நிறுவன ஊழியர்கள், அவர்களது குடும்பத்தினர், லேக்ஹவுஸ் நிறுவன ஊழியர்கள், அவர்களது குடும்பத்தினர் இந்தப் போட்டியில் பங்கு பெற முடியாது.

ஒரு கூப்பனில் ஒரு பிரிவில் ஒருவருக்கே வாக்களிக்கலாம். போட்டி தொடர்பில் சண்டே ஒப்சவர் விளையாட்டு நிர்வாகத்தினரின் முடிவே இறுதியானது.

திகதி **06-08-2022** இல. **19**

MOBILE BOOSTER 505

ஒவ்வொருவரும் TALK TEXT DATA

உள்ளூர் BOOST உள்ளூர்

Voice 1777 நிமிடங்கள்

Text 1777 sms

Data 2GB anytime data

SLT Mobitel