

பக்கங்கள் :- பன்னிரண்டு

Registered as a News paper in Sri Lanka

வாழ்ச்சி நூலகம்  
மாழ்ப்புலனம்



# வலம்புரி

VALAMPURI

விலை ரூபா. 7.00

சங்கு 05 வள்ளூர் ஆண்டு 2035 ஆனி 18 வெள்ளிக்கிழமை (02.07.2004) தொலைபேசி - 2223378 ஒலி 196

**ராம்கோ**  
சிமென்ட்  
MADRAS CEMENTS LTD  
RAMCO  
CEMENT  
ஆசியாக் கண்டத்தில்  
முதலாம் தரத் தொழிற்சாலையில்  
இருந்து தயாரிக்கப்பட்டது.



நயினை நாகபூஷணி அம்பாள் ஆலய தேர்த்திருவிழாவான நேற்று பல்லாயிரக்கணக்கான பக்தர்கள் புடைசூழ்ந்து நிற்க தேர் வீதியுலாவரும் திருக்காட்சி.  
(படங்கள்-சதீபன், ஐங்கரன்)

## யுத்த நிறுத்தம் தொடரும் கருணாவுக்கு இராணுவம் பாதுகாப்பு வழங்கவில்லை

### ஜனாதிபதி சந்திரிகா மறுப்பு

(நமது நிருபர்)  
தமிழ்நாடு விடுதலைப் புலிகளினால் விலக்கப்பட்ட கருணாவிற்கு இராணுவம் பாதுகாப்பு அளித்து வருகின்றதென்ற விடுதலைப் புலிகளின் குற்றச்சாட்டுக்களை ஜனாதிபதி சந்திரிகா குமாரதுங்கா முற்றாக மறுத்துள்ளார்.

இலங்கையின் சமாதான முயற்சி களின் அனுசரணையாளராகச் செயற்படும் சிறப்புக் காகுலன் ஊர் திருந்தார். குமாரதுங்கா மேலும் தெரிவித்தி நேற்றுக் காலை இடம் பெற்ற ரூப்பதாவது;

### புதிய அதிபருக்கு எதிராக மராணவர்கள் மறியற் போர் மீசாலை விக்னேஸ்வராவில் சம்பவம்

(மந்துவில்)  
மீசாலை விக்னேஸ்வரா வித்தி யாலய மீணவர்கள் நேற்றுக் காலை 8 மணி முதல் பிற்பகல் 2 மணிவரை கல்விப் பணிப்பாளர் சமரச முயற் சிளில் ஈடுபட்டார். எனினும் மாண வர்களுக்குச் சாதகமான பதில் துடைக்கப் பெறாததால் மீண்டும்

குற்றச்சாட்டுகளை ஜனாதிபதி சந்திரா கா குமாரதுங்கா முறையாக மறுத்துள்ளார்.

இலங்கையின் சமாதான முயற்சிகளின் அனுசரணையாளராகச் செயற்படும் சிறப்புத் தூதுவர் எரிக் சோல் ஹெய்ம் நேற்று முன்தினம் கிளிநொச்சியில் விடுதலைப் புலிகளைச் சந்தித்த பின் ஜனாதிபதி சந்திரா கா குமாரதுங்காவை நேற்றுக் காலை சந்தித்தபோது அவரிடம் ஜனாதிபதி மேற்கண்டவாறு தெரிவித்துள்ளார்.

விடுதலைப் புலிகளால் விலக்கப்பட்ட கருணாவை வைத்துக் கொண்டு சமாதான முயற்சிகளுக்கும் யுத்த நிறுத்த உடன்படிக்கைக்கும் ஊறுவிளைவிக்கும் செயற்பாடுகளை அரசாங்கம் உடனடியாகத் தவிர்க்க வேண்டுமென்றும் விடுதலைப் புலிகளின் அரசியல் துறைப் பொறுப்பாளர் சு.ப.தமிழ்ச்சேல்வன் எரிக் சோல் ஹெய்மிடம் தெரிவித்

திருந்தார். நேற்றுக் காலை இடம் பெற்று எரிக் சோல்ஹெய்முடனான சந்திப்பின் போது ஜனாதிபதி சந்திரிகா

குமாரதுங்கா மேலும் தெரிவித்திருப்பதாவது; கடந்த ஐன் மாதம் 12ஆம் (12ஆம் பக்கம் பார்க்க)

## நான் அல்ல; நாய்களே அத்துமீறி நடந்துள்ளன

நீதிபதியின் கேள்விக்கு சதாம் பதில்



(பாக்தாத்) ஈராக்கின் முன்னாள் ஜனாதிபதி சதாம் ஹுசைன் நேற்று ஈராக்கிய நீதிமன்றத்தில் ஆஜர் செய்யப்பட்டார். கடந்த டிசம்பர் கைது செய்யப்பட்ட சதாம் ஹுசைன் கறுப்பு உடையுடன் இடுப்பிற்கு மேலாகச் சங்கிலிகளால் பிணைக்கப்பட்ட நிலையில் நேற்று நீதிமன்றத்திற்கு அழைத்து வரப்பட்டார்.

சதாமிற்கு எதிராக எழு குற்றச்சாட்டுக்கள் சுமத்தப்பட்டிருந்தன. நீதிமன்றில் சதாம் ஹுசைனிடம் பெயரைக் (12ஆம் பக்கம் பார்க்க)

## சமாதான முன்னெடுப்புக்களை

## கருணா ஸ்வகாரம் பார்த்துள்ளது



### புதிய இராணுவத் தளபதி கொட்டே கொட

(கொழும்பு) தமிழீழ விடுதலைப் புலிகள் மத்தியில் ஏற்பட்டுள்ள கருணா பற்றிய பிரச்சினை சமாதான முன்னெடுப்புக்களுக்குப் பாரிய தாக்கத்தை ஏற்படுத்தியிருப்பதாகப் புதிய இராணுவத் தளபதி சாந்த் கொட்டே தெரிவித்துள்ளார். நேற்றுத் தனது பெற்றோர்களை

ஏற்றுக் கொண்டு உரை நிகழ்த்தும் போது அவர் இதனைத் தெரிவித்துள்ளார். தமிழீழ விடுதலைப் புலிகளைப் பொறுத்தவரையில் கிழக்கு மாகாணத்தில் இடம் பெற்ற பிளவு நிகழ்வுகளுக்கு இராணுவமே உரணமென விடுதலைப் புலிகள் கருது (12ஆம் பக்கம் பார்க்க)

(மீதுவல்) மீசாலை விக்னேஸ்வரா வித்தியாலய மாணவர்கள் நேற்றுக் காலை 8 மணி முதல் பிற்பகல் 2 மணிவரை மறியற்போராட்டம் ஒன்றை நடத்தியுள்ளனர்.

மேற்படி பாடசாலையின் அதிபர் ஓய்வு பெற்றுச் சென்றதையடுத்து அவரது இடத்திற்குப் புதிய அதிபர் ஒருவர் நியமிக்கப்பட்டிருந்தார்.

நேற்றைய தினம் புதிய அதிபர் தனது கடமையைப் பொறுப்பேற்கச் சென்றவேளை பாடசாலை மாணவர்கள், பழைய மாணவர்கள் மற்றும் பெற்றோர்களாகியோர் ஒன்றிணைந்து போராட்டத்தில் ஈடுபட்டதுடன் வீதியில் குப்பைகளைப் போட்டுத் தீயிட்டுக் கொளுத்தினர். சம்பவத்தையடுத்து பாடசாலைக்குச் சென்ற தென்மராட்சி வலயக்

கல்விப் பணிப்பாளர் சமரச முயற்சியில் ஈடுபட்டார். எனினும் மாணவர்களுக்குச் சாதகமான பதில் கிடைக்கப் பெறாததால் மீண்டும் திங்கட்கிழமை போராட்டம் தொடருமெனவும் தெரிவிக்கப்பட்டுள்ளது.(த-56)

## எரிக் சோல் ஹெய்ம் இன்று நாடு திரும்புகிறார்

(கொழும்பு) நோர்வேயின் இலங்கைக்கான விசேட சமாதானத் தூதுவர் எரிக் சோல் ஹெய்ம் இன்று நாடு திரும்புகின்றார்.

சமாதான நடவடிக்கைகளை முன்னெடுப்பதற்கான அடுத்த கட்டப் பணியை மேற்கொள்வதற்காக திங்கட்கிழமையன்று இலங்கை வந்தி (12ஆம் பக்கம் பார்க்க)

## கருணா ஜனநாயக வழிக்கு திரும்புவதைத் தடுக்க முடியாது

ஐ.தே.கட்சி எம்.பி. கூறுகிறார் (கொழும்பு)

தமிழீழ விடுதலைப் புலிகளினால் விலக்கப்பட்ட கருணா ஜனநாயக வழிக்கு வந்து அரசியல் நடத்துவாரானால் அதனை எவராலும் தடை செய்யவோ அதற்கு எதிராகச் செயற்படவோ முடியாது. இதுவே ஐக்கிய தேசியக் கட்சியின் நிலைப்பாடாக இருப்பதாக ஐக்கிய தேசியக் கட்சியின் பேச்சாளரும் எம்.பியுமான ரவீந்திரத்தெனிய தெரிவித்துள்ளார்.

நடைபெற்ற செய்தியாளர் மாநாடொன்றிலேயே அவர் மேற்கண்டவாறு தெரிவித்துள்ளார்.

அச் செய்தியாளர் மாநாட்டில் அவர் மேலும் தெரிவித்திருப்பதாவது,

எதர்க் கட்சித் தலைவரின் அலுவலகத்தில் நேற்று முன்தினம்

கருணா ஜனநாயக வழிக்குத் திரும்பி அரசியல் கட்சி ஒன்றை ஆரம்பிக்குவீர்கள். இதற்கு எதிராக எவரும் செயற்பட முடியாது. கருணா அல்ல வேறு எவராவது ஜனநாயக வழிக்கு வரலாம் இதனையாரும் தடுக்க முடியாது இதுவே ஐக்கிய தேசியக் கட்சியின் நிலைப்பாடாகும் என்றார். (ம)

நடுவு நிலை தவறா நன்னெறி காக்கும் உங்கள் நாளிதழ்





## ஹொங்கொங்கில் ஆர்ப்பாட்டம்!

## லட்சக்கணக்கானோர் பேரணியில்!

(ஹொங்கொங்)

ஹொங்கொங் சீனாவுடன் இணைக்கப்பட்ட ஏழாவது ஆண்டு நிறைவையொட்டி இலட்சக்கணக்கான



ஹொங்கொங் பிரஜைகள் கலந்து கொண்ட ஜனநாயக ஆதரவு ஆர்ப்பாட்டம் ஒன்று நேற்று நடைபெற்றது. பத்திரிகைகள், துண்டுப் பிரசுரங்கள், போஸ்டர்கள் மூலமாக மதக்குழுக்களும் மனித உரிமை அமைப்புகளும் ஜனநாயக ஆர்வலர்களும் விடுத்த வேண்டுகோளை ஏற்று இலட்சக்கணக்கான பொதுமக்கள் நேற்று வீதியிலிறங்கி ஆர்ப்பாட்டத்தில் ஈடுபட்டனர். சீனாவின் கைப்பொம்மையான ஹொங்கொங் ஆளுநர் டிங் - சீ - ஹுவா பதவிலிலகவேண்டுமென்றும் ஹொங் கொங் கில் ஜனநாயகத்திற்கு இடமளிக்கவேண்டுமென்றும் ஆர்ப்பாட்டக்காரர்கள், சீனாவின் பார்வையில் மிகவும் அதிர்ச்சிகரமான இந்நாளின் நடப்புகள் பற்றி அறிவதற்காக விசேட குழுவொன்று ரகசிய கண்காணப்பில் ஈடுபட்டிருந்தது. ஹொங்கொங் பிரச்சினைகளில் சீனா மென்போக்கைக் கடைப்பிடிக்கின்ற போதும், ஜனநாயக ஆர்ப்பாட்டங்கள் சீனாவின் பிரதான நிலப்பரப்பிலும் தொற்றிக் கொள்ளுமோ எனும் பயப்பிராந்தி கம்யூனிஸ்ட் ஆட்சியாளர்களிடம் காணப்படவே செய்கிறது.

(யே)

## ஐரோப்பிய ஒன்றிய தலைவர்

## போர்த்துக்கல் பிரதமர் ஜொஸ்

(லண்டன்)

ஐரோப்பிய ஒன்றியத்தின் புதிய தலைவர் பதவியை போர்த்துக்கல் பிரதமர் ஜொஸ் மனுவுலுக்கு வழங்க அவ் அமைப்பு ஏகமனதாக முடிவு செய்துள்ளதாக ஐரிஸ் பிரதமர் அறிவித்துள்ளார்.



இருபத்தைந்து நாடுகள் அங்கம் வகிக்கும் ஐரோப்பிஸ்ஸல் பயணமானார். ஐரோப்பிய ஒன்றியத்தின் புதிய வெளிநாட்டு அமைச்சராக ஸ்பெயின் பிரதமர் ஜொரோவியர் சொலானா நியமிக்கப்பட்டுள்ளார்.

ஐக்கியமானதும் செயலூக்கமுள்ளதும் மிக ஸ்திரமானது மான் ஐரோப்பிய சமூகம் ஒன்றைக் கட்டி யெழுப்புகமக தாம் இப் பதவியை ஏற்றுக் கொள்வதாக போர்த்துக்கல் பிரதமர் அறிவித்தார்.

மிகவும் சர்ச்சைக்குரியதாகக் கருதப்பட்டு வந்த இப்பதவி தொடர்பான பிரச்சினைகள் முடிவுக்கு வந்துள்ளதையிடும் பல் ஐரோப்பிய நாட்டுத் தலைவர்கள் மகிழ்ச்சியும் திருப்தியையும் வெளியிட்டமை குறிப்பிடத்தக்கது.

(யே)


## நேட்டோத் துருப்புக்களை

## ஆப்கானுக்கு அனுப்புங்கள்

## ஹமீட் கராஸி வேண்டு கோள்

(இஸ்ரான்புல்)

எதிர்வரும் செப்டெம்பர் மாதம் ஆப்கானிஸ்தானில் நடைபெற



விருக்கும் பொது தேர்தலில் பாதுகாப்பு வழங்கு முகமாக மேலதிக நேட்டோத் துருப்புக்களை உடனடியாக அனுப்புமாறு ஆப்கான் ஜனாதிபதி முஹமட் கராஸி வேண்டுகோள் விடுத்துள்ளார்.

ஆப்கானிஸ்தானுக்கு மேலதிகமாக 1,500

துருப்பினரை அனுப்புவதென்று கடந்த திங்கட்கிழமை நேட்டோ எடுத்த தீர்மானத்தை வரவேற்ற கராஸி அதற்காகத் தாம் நன்றி தெரிவிப்பதாகவும் காலந்தாழ்த்தாமல் உடனடியாகத் துருப்புக்களை அனுப்புமாறு வேண்டுகோள் விடுத்தார்.

ஆப்கானிஸ்தானில் 6,500 நேட்டோத் துருப்புக்கள் ஏற்கனவே பணியில் மர்த்தப்பட்டுள்ளனர். மேலதிக துருப்புக்கள் அங்கு அனுப்பிவைக்கப்படுவதால் ஆப்கான் பொதுமக்கள் சுதந்திரமாக வாக்களிக்க அது வழி சமைக்கும். என்று ஜனாதிபதிமேலும் தெரிவித்துள்ளார்.

(யே)

## தாய்வாளை நோக்கி தை. யுன்

(தைபே)

அண்மையில் ஐப்பான் நாட்டைத் தாக்கிய தை. யுன் புயற் காற்றுத் தாய்வாளை நோக்கி மணிக்கு 145 கிலோமீற்றர் வேகத்தில் நகர்ந்து

வருவதாக அறிவிக்கப்படுகிறது.

தாய் வானுக்குத் தென் கிழக்கே 350 கிலோமீற்றர் தொலைவில் நிலை கொண்டிருக்கும் இப்புயற்காற்று கிழக்காசியப் பிராந்தியத்தில் மட்டுமே உருவாகுவதாகும். மணிக்கு 180 கிலோமீற்றர் சுழிகாற்று மற்றும் பலத்த மழை என்பவற்றோடு வரும்



தை. யுன் புயல்காற்றால் இவ் வருடம் பாரிய மண்சரிவுகள் ஏற்பட வாய்ப்புண்டு என்று தாய்வான் அறிவித்துள்ளது.


2001ஆம் ஆண்டு இப் புயற்காற்றுத் தாய்வானைத் தாக்கிய பொழுது சுமார் 200 பொதுமக்கள் இறந்தனர். மீண்டும் அதே வருடம் ஓரிருமாதங்களின் பின் விசிய இப்புயலால் தாய்வானில் கரும் வெள்ளப் பெருக்கும் நூற்றுக்கு மேற்பட்ட உயிரிழப்பும் ஏற்பட்டது. இது குறித்த செய்திப் படங்களை வெளியிட்டுத் தாய்வான் அரசு நாட்டு மக்களை எச்சரித்துள்ளது.

(யே)

## புதிய பிரதமர் லீ ஹய்-சான்

(சியோல்)

தென் கொரியாவின் புதிய பிரதமராக லீ-ஹய்-சான் பொறுப்பேற்றுள்ளார். கடந்த மே மாதம் இறுதியில் கோ. குன் பிரதமர் பதவியை



ராஜினாமாச் செய்த பிற்பாடு இவர் ஜனாதிபதி ரோ-மூஹி யூனால் இப்பதவிக்கு நியமிக்கப்பட்டுள்ளார்.


299 ஆசனங்கள் கொண்ட தென் கொரியப் பாராளுமன்றத்தின் 200 அங்கத்தவர்கள் இவரது நியமனத்தை அங்கீகரித்தனர்.

1988ஆம் ஆண்டுகிம்-டே-யுங்கின் அரசாங்கத்தில் கல்வியமைச்சராகப் பணியாற்றிய லீ, ஆரம்ப காலத்தில் மாணவர் அமைப்புக்களில்

தீவிர அரசியல் பணிபுரிந்தார். அதன் காரணமாக 1970களிலும் 80களிலும் முந்தாள் இராணுவ அரசால் சிறையில் அடைக்கப்பட்டார்.

ஜனாதிபதி ரோ-மூவுடன் இணைந்து புதிய யூரிக்கட்சியை உருவாக்கி அதனை ஆளும் கட்சியாக மாற்றுவதில் இவர் பெரும் பங்காற்றினார். தென் கொரியாவில் ஜனாதிபதியே சகல அதிகாரமும் கொண்டவராக விளங்குகிறார். பிரமதர் பதவி சம்பிரதாயமானதாகும் ஆயினும் இது இரண்டாவது பெரும் பதவியாகக் கருதப்படுகிறது.

(யே)



## ஐலாபாத்தில் குண்டு வெடிப்பு

## ஆப்கானிஸ்தானில் தொடரும் வன்முறை

(ஐலாபாத்)

ஆப்கானிஸ்தானின் கிழக்கு நகரான ஐலாபாத்தில் இடம்பெற்ற இரண்டு குண்டு வெடிப்புச் சம்பவங்களில்



ஒருவர் கொல்லப்பட்டதோடு இருபத்தைந்திற்கு மதிக்கமானவர்கள் காயமடைந்தனர்.

காயமடைந்தவர்களில் ஐந்து சிறுவர்களும் மூன்று பொலிஸாரும் அடங்குவர். இத்தாக்குதல்கள் பொலிஸ் சோதனைச் சாவடிகளை இலக்கு வைத்தே நடந்தப்பட்டதாக அங்கிருந்துவரும் தகவல்கள் தெரிவிக்கின்றன.

கந்தகாரில் இடம்பெற்ற மற்றுமொரு சம்பவத்தில் பன்னிரண்டு பேர் ஆயுததாரிகளால் பிடித்துச் செல்லப்பட்டனர். அத்துடன் ஒரு அவஸ்திரேலிய பத்திரிகையாளர் ஒருவர் காணாமற்போய்விட்டதாகவும் அறிவிக்கப்படுகிறது.

ஆயினும் தலிபான் பேச்சாளர் அப்துல் லத்தீப் கருத்துத் தெரிவிக்கையில், பத்திகையாளரைத் துன்புறுத்துவது தலிபான்களின் கொள்கையல்ல

என்றார். இன்னுமொரு பேச்சாளரான ஹமீட் அக்ஹா கூறுகையில், கார்மிலா எனப்படும் எஸ்.பி.எஸ். தொலைக்காட்சி நிருபரைத்தாம் கடத்தவில்லை என்றார்.

(யே)





நர்வேலி அருள்மிகு செல்லக் கதிர்காம சுவாமி கோவில்

# “குமார புஷ்கரணி”

## கீர்க்கோற்சவச் சிறப்புக்குழி 02.07.2004

### பிரார்த்தனை உரை

நர்வேலியில் எழுந்தருளி அருளாட்சி நல்கும் செல்லக் கதிர்காம சுவாமியின் தீர்த்தோற்சவம், எம்பெருமானின் கிருபையால் இம்முறை சிறப்புற நடைபெறத் திருவருள் பாலித்துள்ளது. “கந்தஸ்ய அதுலாம் கீர்த்திம் கலி. கல்மஷ நாசிம்” என்று வடமொழி சுலோகம் கூறுவது போல கலிபுக தன்பங்கள் யாவும் கந்தனை வழிபடுவதால் நீங்கிவிடும்.

சித்துக்களில் வல்ல இரு தபஸ்வினிகள் உண்டாக்கிய இவ் ஆலயத்தில் குமரன் அருள் மழை சொரிகின்றான். எம்பெருமானை நாடிவரும் அடியார் திருக்கூட்டத்தின் சிறப்பே இதற்குச் சான்றாகும்.

இவ்வாண்டு புதிதாக “குமார புஷ்கரணி” என்ற திருக்குளம் பிரதிஷ்டை செய்வப்பட்டிருப்பது கோவிலுக்கு மேலும் சிறப்பைத் தருகிறது. இவ்வாண்டு மகாமக வருடம் ஆகும் மாசி மக தினத்தில் திருக்குள நீர் முருகனுக்கு அர்ப்பணிக்கப்பட்டமை அவன் செயலே யாகும்.

பஞ்ச கிருத்தியங்களுள் ஒன்றான அருளலை இன்று குமரன் செய்யும் வேளையில் அவனடி பணிந்து அவனருளுக்குப் பாத்திரமாவோமாக.

“லோகா சமஸ்தா சுகினோ பவந்து”

**சிவமூர்த்தி தியாகராஜக் குருக்கள்**  
(நர்வேலி)  
பிரதம குரு

### வேலுண்டே துணை

நர்வைப் பதியின் அருள்நிதி தரவரும் ஆனந்த மலையாம் செல்லக் கதிர்காம சுவாமியின் தீர்த்தோற்சவம் இன்று சிறப்பாக நடைபெறுகிறது. ஆலயக் குருக்கள் நர்வை மணி ஐயாவின் வழிகாட்டலும் அடியவர்களின் முயற்சியும் எம் பெருமானின் கிருபையும் சங்கமித்ததன்மூலம் ஓராண்டுக்காலப் பகுதிக்குள் “குமார புஷ்கரணி” என்ற அழகிய திருக்குளம் அமைக்கப்பட்டுள்ளது.

மூலவராக வேற்பெருமான் அமைந்து அருளாட்சி நல்கும் ஆலயங்கள் அருட்சக்தி மேம்பட்ட ஆலயங்களாக விளங்குவதைக் காண்கிறோம். செல்லக் கதிர்காம சுவாமி வேற பெருமானாக - மூலவராக அமைந்து அருள் சுரக்கிறார்.

திருமுருகாற்றுப் படையில் எம்பெருமான் “எய்யா நல்லி சைச் செவ் வேற சேய்” எனச் சிறப்பிக்கப்படுகின்றான். வேல்வகுப்பில் வேலின் பெருமை தனித்தெடுத்தப் புகழ்ப்படுகின்றது. முருகனை நினைந்து அவன் வேலினைப் போற்றிய பலர் நற்கதி பெற்றுய்ந்தனர். கருணைசெய் கந்தன் வேறு ஞானவேல் வேறு அன்று வெற்றி வேற பெருமான் எமக்குத் துணையாக நின்று, எம் நாட்டில் சாந்தியும் சமாதானமும் நிலைக்கத் துணை செய்ய வேண்டுமெனப் பிரார்த்திப்போம்.

விவேல் தரை வேல் வீணார் சீறமீட்ட

தீவேல் சவ்வைத் தீர்க்கை வேல்-

வாசுதந்த வேல் காரை வேல் சூர்யாரும் குன்றும் துணைத்தவேல் உண்டே துணை.

சிவத்தமிழ் சொல்லுரை ச. லக்ஷ்மி  
(ஆசிரியர், சூரேசுவரன் கந்தக் கல்லூரி புத்தூர்)

### குமார புஷ்கரணி


குமார புஷ்கரணியே குவலயம் புகழ் தீர்த்தமாக அமரர்களுள் அழகு ஞான சக்தியே முர்த்தியாக குமரனாரையும் நெல்லிபுடன் கடம்பு விருட்சமாக கிம்பார் கிறைஞ்ச நீவைக் கதிர்காம தலமுள்ளதே

அப்பன் மடியில் அன்புடன் வீற்றிருந்து தப்பின்றி பிரனைவ பொருள் தந்தோனே கிம்பார் உள் நீவை கதிர்காமமுறையும் முப்பகை நீக்கு முத்தமிழ் மன்னவன்

பிரம்மமூர் தி. மயூரகிரி, நர்வேலி.



ஆலய திருமுகப்புத் தோற்றம்



புதிதாக அமைக்கப்பெற்ற குமார புஷ்கரணி தீர்த்தத்தின் கவினுறு தோற்றம்

### திருத்தல வரலாறு

புகழ் பூத்த நர்வையூரின் வடபால் அருளொளி வீசுகின்ற மூர்த்தி, தலம், தீர்த்தம், விருட்சம் என யாவிலும் சிறப்புற்று காண்படுகின்ற திருத்தலமே செல்லக் கதிர்காமசுவாமி கோயிலுக்கும் இந்தத் தலத்தின் இணைந்து “குமாரபுஷ்கரணி” எனும் தீர்த்தம் காணப்படுகின்றது. இங்கு கந்தன் ஆனி, ஆடி மாதங்களில் தீர்த்த உற்சவம் கண்டருளுவது கண்டகொள் ளாக் காட்சி யாகும். இந்தத் தலத்தில் முலாலயத்தில் ஞானவேல் காட்சி தருவதும், முருகப் பெருமானுக்கே உற்சவ காலங்களில் தனிச் சிறப்பு அளிப்பதும் இவ்வாலயத் திற்குரிய சிறப்பாகும்.

இத்தலத்தினுடைய தலவிருட்சமாக பழமை மிகு நெல்லி மரமும் கடம்ப மரமும் திகழ்கின்றது. இங்கு சில தசாப்த வருடங்களுக்கு முன்னர் இரு தபஸ்வினிகள் முருகனருள் பெற்று இவ்வாலயத்தினை புனருத்தாரணஞ் செய்து கும்பாபிடேகம் செய்வித்ததாக கூறுவர். இந்தத் திருத்தலம் இன்று மிகப் பெரிய முருகனருள் நிறைந்த தலமாக மிளர்கின்றது. இந்தத் தலத்தில் வள்ளி தேவசனோ சமேத அறுமுகப் பெருமான் அழகே யுருவாகத் திகழ்கின்றான். இவ்வாலய கந்தன் மீது பலர் கீர்த்தனைகள், தோத்திர பாமாலை, திரு வஞ்சல, கவி தாஞ்சலி முதலிய செந்தமிழ் கவிதை களாக்கியுள்ளார்கள். இங்கு ஆனி மாத மஹோற் சவம், கந்த ஷஷ்டிப் பெருவிழா, திருக்கார்த்திகை உற் சவம் முதலிய விழாக்கள் பெருவிழாக் களாக கொண்டாடப்படுகின்றன. இந்தத் தலத்தில் அழகிய வலஞ்சுழி விநாயகர் காணப்படுகின்றார்.

நர்வேலி கதிர்காம சுவாமிக்கு 1997ஆம் ஆண்டு வைகாசி மாத புனர்பூச நட்சத்திரத்தில் இறுதியாக கும்பாபிடேகம் நிகழ்ந்து இத்தலம் எழுச்சியோடு அமுகுறத் திகழ்கின்றது. இவ்வகைச் சிறப்புகள் யாவின்னையையும் தவிர அருணகிரிநாத சுவாமிகளது நினைவு நன்நாளாம். ஆனி பூரணையில் தீர்த்த விழா காணும் தலமாக இது காட்சி தருகின்றது. முருகனடியார்கள் மனதில் நீங்காது நிறைந்திருக்கும் தலமாக இந்த நர்வேலி கதிர்காம சுவாமி கோயில் நிலைத் திருக்கமெனின் அது மிகையாகாது.

### இந்து சமய கலாசார அலுவல்கள் திணைக்களத்தின் உதவிப் பணிப்பாளர் சீவத்தமிழ் வந்தகர் சீவமகாலங்கம் வீடுக்கும் வாழ்த்துச் செய்தி

சிவபூமியாகிய ஈழமணித் திருநாட்டில், யாழ்ப்பாணக் குடாநாடு ஞானபூமியாகத் திகழ்கின்றது. கலியுகவர தனாகிய கந்தவேள் பெருமானின் ஞான ஆட்சிக்கு உட்பட்ட பிரதேசம் யாழ்ப்பாணக் குடாநாடு ஆகும். அபிடேகக் கந்தனாக மாவிட்டபூரம் முருகன் ஆலயமும், அலங்காரக் கந்தனாக நல்லூர் முருகன் ஆலயமும், அன்னதானக் கந்தனாக செல்வச்சந்நிதி முருகன் ஆலயமும் காணப்படுகின்றன. யாழ்ப்பாணக் குடாநாட்டில் சைவமும் தமிழும் சிறப்புற்று விளங்கும் கிராமங்களில் நர்வேலிப் பதி முக்கிய இடத்தினைப் பெறுகின்றது. முப்பொழுதும் திருமேனி தீண்டிப் பக்தி சிரத்தையோடு பூசிக்கின்ற சிவாச்சாரியப் பெருமக்கள் பலர் நர்வேலிக் கிராமத்தில் வாழையடி வாழையாக வாழ்ந்து வருகின்றார்கள். அருள் மிக்க பெரிய ஆலயங்களில் பல இக் கிராமத்தில் காணப்படுகின்றன. சிவசங்கர பண்டிதர் போன்ற சைவத்தையும், தமிழையும் வளர்த்த சான்றோர்கள் பலர் இக் கிராமத்திலே வாழ்ந்து வந்தார்கள். இக்கிராமத்திலே இருந்து அருளாட்சியுரியும் ஆலயங்களிலே செல்லக் கதிர்காம முருகன் ஆலயமும் ஒன்றாகும். இந்த ஆலயம் மிகக் குறுகிய காலத்திலே பெரும் வளர்ச்சி அடைந்துள்ளது. இவ் ஆலயத்தின் பூசராகிய நர்வை மணி ஐயா அவர்களின் அயராது பணியினாலே இவ் ஆலயம் அருள் ஒளியினை வீசும் பேராலயமாக வளர்ச்சி அடைந்துள்ளது. ஒரு ஆலயத்

தின் சிறப்பிற்கு மூர்த்தி, தலம், தீர்த்தம் ஆகிய மூன்றும் அவசியம் ஆகும். ஐயா அவர்களின் பெரு முயற்சினாலும், பக்தர்களின் உதவியினாலும் “குமார புஷ்கரணி” என்ற பெயரில் தீர்த்தத் தடாகம் இவ் ஆலயத்திற்குப் புதிதாக அமைக்கப்பட்டுள்ளது. இந்த வருடத் தீர்த்தத் திருவிழா குமாரபுஷ்கரணித் தீர்த்தத்திலே இடம் பெறவுள்ளது.

கந்தவேள் பெருமான் ஞானபண்டிதன் தன்னை நாடிவரும் அடியார்கள் திணை துயரைப் போக்கி அவர்களுக்கு சகல செல்வ யோசுமிக் பெருவாழ்வினை வழங்க வேண்டுமென்று பிரார்த்திக்கிறேன்.

உதவிப் பணிப்பாளர்  
இந்து சமய கலாசார அலுவல்கள்  
திணைக்களம்,  
மாவட்ட அலுவலகம்,  
மாவட்ட செயலகம்,  
யாழ்ப்பாணம்.

### விளம்பர அலுவலர்

நர்வையூர்ச் செல்லக்கதிர்காமக் கந்தன் திருவருளுக்காகப் பிரார்த்திக்கிறோம்.

உலோகமுகைப் பூங்கா

கஸ்தூரியார் வீதி,  
யாழ்ப்பாணம்.

“குருவாய் வருவாய் அருள்வாய் குகனே” தீர்த்தோற்சவம் சிறக்க வருத்திக்கின்றோம்

வானி களஞ்சியம்

இராச வீதி,  
நர்வேலி.

# முதலமைச்சர்கள் கலந்து கொண்ட

## கிராமிய மேம்பாட்டு மாநாடு

வருவாயைப் பெருக்கவும் வறுமையை ஒழிக்கவும் மத்திய, மாநில அரசுகள் ஒன்றிணைந்து பாடுபட வேண்டுமென்று பிரதமர் மன்மோகன் சிங் அழைப்பு விடுத்த



துள்ளார். கிராமப்புற மேம்பாடு குறித்துப்

புதுடில்லியில் நடைபெற்ற முதலமைச்சர்கள் மாநாட்டில் பேசிய அவர், கிராம வளர்ச்சிக்கு உள்ளூராட்சிமன்றங்களே திட்டங்களை வகுக்க அதிகாரம் வழங்கப்பட வேண்டுமெனத் தெரிவித்தார்.

கிராமப்புற மேம்பாடு தொடர்பான முதலமைச்சர்களின் இரண்டு நாள் மாநாடு டில்லியில் கடந்த செவ்வாய்க்கிழமை நடைபெற்றது.

இதில் தொடக்கவுரையாற்றிய பிரதமர் மன்மோகன் சிங் கிராமங்களின் வளர்ச்சிக்காக விவசாய உற்பத்தியை அதிகரிக்க வேண்டும் என்றார். ஊரகப் பகுதிகளின் வருவாயைப் பெருக்கவும் வறுமையை ஒழிக்கவும் மத்திய - மாநில அரசுகள் ஒன்றிணைந்து செயற்படவும், இதற்கான நிதியை உபயோகமாகச் செலவிடவும் வேண்டுமென அவர் வலியுறுத்தினார்.

இதற்காக, உள்ளூராட்சி மன்றங்கள் தாமாகவே திட்டங்களை வகுத்துச் செயற்படுத்த அதிகாரம் அளிக்கப்பட வேண்டுமென்று

மன்மோகன் சிங் கூறினார். கிராம மக்களுக்கு வேலை வாய்ப்பு வழங்குவதும் வறுமையை ஒழிப்பதும் நம்முன்னுள்ள மிகப் பெரிய சவால் என்றார் அவர், ஊரக வருவாயைப் பெருக்க சீனாவைப் போலவே கிராமப்புற மையங்களை உருவாக்கவேண்டுமென்று பிரதமர் போசனை கூறினார். உள்ளூராட்சி மன்றங்களின் திட்டங்களுக்குத் தேவைப்படும் நிதியை, மாநில அரசுகள் உடனே ஒதுக்கவேண்டும் என அவர் வலியுறுத்தினார்.

ஊரகப் பகுதிகளில் கல்வி, சுகாதாரம், சத்துணவு, பாதுகாக்கப்பட்ட குடிநீர், துப்புரவு, சமூகப்பாதுகாப்பு ஆகிய திட்டங்களுக்கு முன்னுரிமையளிக்க வேண்டுமென்றும் மன்மோகன் சிங் கேட்டுக் கொண்டார். பல்வேறு மாநில முதலமைச்சர்களும் இம் மாநாட்டில் கலந்துகொண்டு தங்கள் கருத்துக்களைத் தெரிவித்தனர். (து)

# 70 கோவில்களின் குடமுழுக்கு ஒத்திவைக்க அரசின் உத்தரவு

(சென்னை) சென்னை மயிலாப்பூர் கபாலீஸ்வரர் திருக்கோவில் உட்பட தமிழகம் முழுவதும் 70க்கும் மேற்பட்ட கோவில்களில் நடைபெறவிருந்த குடமுழுக்கு திடீரென ஒத்திவைக்கப்பட்டுள்ளது. திருவாரணையூர் மருதஸ்வரர் கோவில், மயிலாப்பூர் கபாலீஸ்வரர் கோவில் ஆகியவற்றுக்கு வரும் 4ஆம் திகதியும், திருச்சியை அடுத்துள்ள குணசீலம் பிரசன்ன வெங்கடாசலபதி கோவிலுக்கு 5ஆம் திகதியும் குடமுழுக்கு நடத்த அந்தந்தக் கோவில் நிர்வாகிகள் திட்டமிட்டிருந்தனர்.

இதே திகதிகளில் மேலும் சுமார் 70 கோவில்கள் குடமுழுக்குக்குத் தயாராகி வந்தன. ஆனால் இவை அனைத்தையும் ஒத்திவைக்குமாறு தமிழக அரசின் இந்து சமய அறநிலையத்துறை அதிகாரிகளிடமிருந்து கோவில் நிர்வாகிகளுக்கு வாய்மொழி உத்தரவு பிறப்பிக்கப்பட்டிருப்பதாகத் தகவல்கள் வந்துள்ளன. ஜூலை முதல் வாரத்தில் குடமுழுக்கு விழாக்களை நடத்தினால் ஆட்சி மேலூடத்தில் இருப்பவர்களுக்கு நல்லதல்லவென்று ஜோதிடர் ஒருவர் சொன்னதையடுத்து குடமுழுக்கு விழாக்களை

ஒத்திவைக்க உத்தரவிட்டுள்ளதாகக் கூறப்படுகிறது. ஆட்சியில் இருப்பவர்கள் தங்களுக்கு ஆகாது என்றால் கோவில் குடமுழுக்கைக் கூட ஒத்திவைக்க உத்தரவிடுவது என்ன நியாயம் என்று கோவில் நிர்வாகிகள் சிலர் கேள்வியெழுப்பியுள்ளனர். குடமுழுக்குகளை ஒத்திவைக்க உத்தரவிட்டிருப்பது பக்தர்களைக் கவலை கொள்ளச் செய்துள்ளது (து)

# ஊரக மேம்பாட்டு மாநாட்டில் தமிழக முதல்வர் பங்குபற்றாது ஏன்?

(சென்னை) புதுடில்லியில் நடைபெற்ற ஊரக மேம்பாடு பற்றிய இரண்டு நாள் முதலமைச்சர்கள் மாநாட்டில் தமிழக முதலமைச்சர் ஜெயலலிதா பங்கேற்காதது தமிழக மக்களின் நலனுக்கு உகந்த தல்ல என்று தமிழ்நாடு காங்கிரஸ் கமிட்டித் தலைவர் ஜி.கே.வாசன் கூறியிருக்கிறார். சென்னையில் அவர் வெளியிட்டிருள்ள அறிக்கையில் ஊரக வேலை வாய்ப்பு, பஞ்சாயத்துராஜ் சட்டம், வறுமை ஒழிப்பு போன்ற முக்கியமான மக்கள் பிரச்சினைகள் குறித்துக் கலந்தாலோசிக்கப்படும் இந்த மாநாட்டில் தமிழக முதலமைச்சர் கலந்துகொண்டு, தமிழக நலன் குறித்து ஆலோசனை செய்யாமல், கூட்டத்தில் தமிழகத்தின் சார்பில் பங்கேற்க அமைச்சர்களை அனுப்பி வைத்திருப்பது சரியல்ல என்று குறிப்பிட்டுள்ளார். (து)

மறுத்துவ மேற்படிப்புக்கான மாணவர் சேர்க்கை முறைகேடு நடந்ததாக உயர் நீதிமன்றில் மனு



இந்தியா வந்துள்ள பாகிஸ்தான் வெளியுறவுத்துறை செயலர் ரியாஸ் கோக்கர் பிரதமர் மன்மோகன் சிங்கை புதுடில்லியில் அவரது கில்லத்தில் சந்தித்துப் பேசினார்.


# இந்தியச் செய்திகள்



# சட்டக் கல்வூரிக் கட்டண அதிகரிப்பு

(சென்னை) சட்டக் கல்வூரிகளின் கல்வி மற்றும் பயிற்சிக் கட்டணங்களை ரத்துச் செய்யவேண்டுமென்று ம.தி.மு.க.பொதுச் செயலாளர் வை.கோ. தமிழக அரசைக் கேட்டுக் கொண்டிருக்கிறார். சென்னையில் அவர் வெளியிட்டிருள்ள அறிக்கையில் சட்டக் கல்வூரிக் கல்விக் கட்டணம் 15 ஆயிரம் ரூபாவால் அதிகரித்திருப்

பதாகவும், இது கடந்த ஆண்டு களைவிட 8 மடங்கு அதிகம் என்றும் குறிப்பிட்டுள்ளார். மேலும் பயிற்சிக்கட்டணமாக ஆண்டுக்கு 10 ஆயிரம் ரூபா செலுத்தவேண்டுமென்று அறிவிக்கப்பட்டிருப்பது ஏழை, எளிய மக்களுக்கு இனிச் சட்டப்படிப்பு எட்டாக் கனியாகிவிடும் குமுலை ஏற்படுத்துமென்று வை.கோ. தெரிவித்துள்ளார். (து)



டாக்டர் எம்.ஜி.ஆர்.மருத்துவக் கல்லூரியின் 14 ஆவது பட்டமளிப்பு விழாவில் தமிழக ஆளுநர் ராம்மோகன் ராவ் கலந்துகொண்டு மாணவ, மாணவிகளுக்குச் சான்றிதழ்களை வழங்கினார். சுகாதாரத்துறை அமைச்சர் தளவாய் சுந்தரம் உடனும் உள்ளார்

# பூட்டுப் போடும் போராட்டம் பா.ம.க.வின் ஒருமாதக் கெடு

கிராமப் புறங்களிலுள்ள அரசு மதுபானக் கடைகளை அடுத்த மாதத்துக்குள் மூடவிட்டால் அக் கடைகளுக்குப் பூட்டுப்போடும் போராட்டம் நடத்தப் போவதாகப் பா.ம.க. அறிவித்துள்ளது. சென்னையில் அக் கட்சியின் மகளிரணி சார்பில் நடைபெற்ற அரசு மதுக்கடை ஒழிப்பு மாநாட்டில் இதற்கான தீர்மானம் நிறைவேற்றப்பட்டது.

இதனைச் செய்தியாளர்களிடம் விளக்கிய அக்கட்சியின் நிறுவநர் டாக்டர் ராமதாஸ், அரசு மதுபானக் கடைகளால் கிராமப்புறப் பொருளாதாரம் சீரழிந்து வருவதாகக் கூறினார். 3500 டெஸ்மா கடைகளைக் கிராமத்தில் அரசு திறந்திருக்கின்றது என்றும் இக் கடைகளை ஜூலை 31 ஆம் திகதிக்கு முன்னர் மூடவிட்டால் ஆகஸ்ட் 15 ஆம்

திகதி மதுக்கடைகளுக்குப் பூட்டுப் போடும் போராட்டத்தை மகளிரணியினர் ஆரம்பிப்பார்கள் என்றும் அவர் தெரிவித்தார். ஆகஸ்ட் 15 ஆம் திகதி போராட்டத்தில் தாமும் பங்கேற்கப்போவதாக அவர் தெரிவித்தார். லாட்டரிச் சீட்டு விற்பனையை தமிழக அரசு மீண்டும் கொடுவதால் அதை எதிர்த்து பா.ம.க. போராடும் என்றும் அவர் கூறினார். (து)

# மருத்துவ மேற்படிப்புக்கான மாணவர் சேர்க்கை முறைகேடு நடந்ததாக உயர் நீதிமன்றில் மனு

(சென்னை) தமிழ்நாட்டில் மருத்துவ மேற்படிப்புக்கான மாணவர் சேர்க்கையில் முறைகேடு நடந்துள்ளதாகக் கூறிச் சென்னை உயர்நீதிமன்றத்தில் வழக்குத் தொடரப்பட்டுள்ளது. மருத்துவ மேற்படிப்பு மாணவர் சேர்க்கையை ரத்துசெய்ய வேண்டுமென்று அம்மனுவில் கோரப்பட்டுள்ளது. மனுவை விசாரித்த உயர்நீதிமன்றம் குறிப்பிட்ட டாக்டர்களை மருத்துவ மேற்படிப்பில் சேர்க்க இடைக்காலத் தடை விதித்துள்ளது. எம்.டி.,எம்.எஸ்.போன்ற மருத்துவ மேற்படிப்புக்கான கவுன்சில்கள் கடந்த மாதம் 21 ஆம் திகதி தொடர்பில் போதே சர்ச்சைகள்

எழுந்தன. மருத்துவ மேற்படிப்புக்கான நுழைவுத் தேர்வில் முறைகேடுகள் நடந்துள்ளதாக டாக்டர்கள் தெரிவித்துவரும் புகார் பெரும் பரபரப்பை ஏற்படுத்தியுள்ளது. இதனிடையே, கவுன்சிலிங்குக்குப் பின் நடந்த மாணவர் சேர்க்கையில் மோசடிகள் நடந்துள்ளதாக டாக்டர் சதீசுமார் என்பர் சென்னை உயர்நீதிமன்றத்தில் மனுவொன்றைத் தாக்கல் செய்துள்ளார். கவுன்சிலிங்கின் போது ஒதுக்கப்பட்ட பாடப்பிரிவை மாணவர் சேர்க்கையின் போது வழங்காமல் வேறு பாத்நெறிகளை தேர்வுக் குழுச் செயலாளர் ஒதுக்கியுள்ளதாகவும் அம் மனுவில் அவர்

தெரிவித்துள்ளார். இது போன்று குறிப்பிட்ட 4பெண் டாக்டர்களுக்குப் பாடநெறி ஒதுக்கியதற்கான ஆதாரங்களை நீதிமன்றத்தில் தாக்கல் செய்துள்ளதாகவும் மனுதாரரின் வழக்கறிஞர் கூறினார். இந்த மனுவை விசாரித்த நீதிபதி பாலசுப்பிரமணியம் மனுதாரர் குறிப்பிட்டுள்ள 4 பெண் டாக்டர்களும் மருத்துவ மேற்படிப்பில் சேர அனுமதி வழங்கப்பட்டதற்கு இடைக்காலத் தடை விதித்தார். அவர்களது மாணவர் சேர்க்கையை மருத்துவப் பல்கலைக் கழகம் அங்கீகரிக்கக் கூடாது என்றும் நீதிபதி தெரிவித்தார். (து)





## கல்விப் பொதுத் தராதர (சாதாரண)

## மாதிரிப் பரீட்சை - 2004

General Certificate of Examination (Ord. Level)  
Model Examination - 2004

கணிதம் I ஆக்கம் :

மணி - 1

குணநாயகம் மனோரஞ்சன் ஆசிரியர்,  
யா/ அச்செழு சைவப் பிரகாச வித்தியாலயம், நீர்வேல்.

எல்லா வினாக்களுக்கும் விடை தருக.

1. ஒரு பொருளை ரூபாய் 100 இற்கு விற்பதால் ரூபாய் 10 நட்டம் ஏற்பட்டால் அப்பொருளின் கொள்விலை யாது?

2. சுருக்குக  $1 - 0.01$ 3.  $\frac{5}{20}$  ஐ சதவீதமாகத்தருக

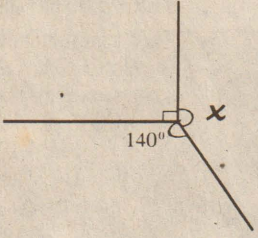
4. காரணிகளைக் காண்க.

$$xy^2 - x^2y$$

5.  $A = \{1, 3, 5, 7, 9\}$  என்ற தொடையில் தொடை A இன் முதலிமை யாது?

6. 0.006754 என்பதை இரண்டு பொருளுடைய இலக்கங்களிற்கு மட்டந் தட்டுக.

7.

உருவில்  $x$  ஐக் கணிக்க.

8. என்னிடம் P மாபிள்கள் உண்டு. அவற்றில் 5 மாபிள்களை எனது தம்பிக்குக் கொடுத்தபின் என்னிடம் மீதியாக உள்ள மாபிள்களின் எண்ணிக்கையை ஒரு அட்சர கணிதக் கோவையாகத் தருக.

9. ரூபா 10 வீதம் விற்கப்படும் ரூபா 15 பங்குகளில் 60 ஐ வாங்க எவ்வளவு பணம் முதலீடு செய்யவேண்டும்.

10. சுருக்குக

$$\frac{x}{3} - \frac{x}{6}$$

11. சுருக்குக

$$\frac{2}{3} + \frac{1}{4} \text{ இன் } \frac{4}{5}$$

12. 8, 3, 5, 11, 4, 9, 4, 7, 4 என்ற எண்களின் ஆகாரம், இடையம் என்பவற்றைக் காண்க.

13. பொ.ம.சி. காண்க

$$2ab, 3bc, 6ac$$

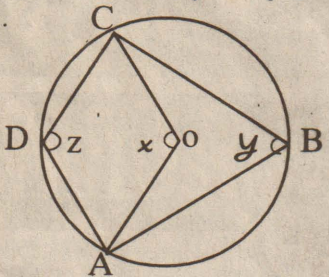
14. சுருக்குக  $\sqrt{50} \times \frac{1}{\sqrt{2}}$ 15.  $x = -2, y = 3$  எனின்

$$3x^2 - 2y \text{ இன் பெறுமானம் யாது?}$$

16. ஒவ்வொன்றும் ரூபா 7.50 வீதம் 24 அப்பியாசக் கொப்பிகளை வாங்கத் தேவையான அதேயளவு பணம் 18 குமிழ் முனைப்பேனாக்களின் விலைக்குச் சமம் எனில், ஒரு குமிழ் முனைப் பேனாவின் விலை என்ன?

17. சுருக்குக :  $\frac{6}{x-y} + \frac{3}{y-x}$ 

18.

தரப்பட்ட உருவில் ABCD ஒரு வட்ட நாற்பக்கலாகும்.  
O வட்டத்தின் மையமாகும்.(i)  $x$  இற்கும்  $y$  இற்கும் இடையேயுள்ள தொடர்பையும்(ii)  $y$  இற்கும்  $z$  இற்கும் இடையேயுள்ள தொடர்பையும் எழுதுக

19. தீர்க்க

$$(3x+7) - (x-1) = 2$$

20. சுருக்குக

$$\log_2 8 + \log_2 25$$

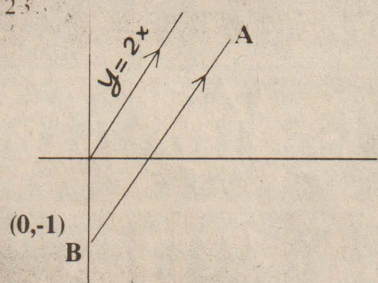
21.



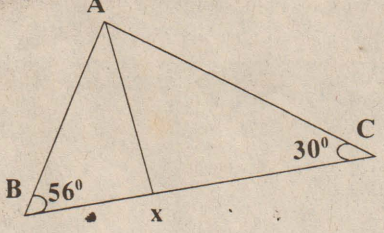
உருவில் காணப்படும் சதுரத்தின் மையத்தினூடாக இரு அரைவட்டங்கள் வரையப்பட்டுள்ளன. அதில் நிழற்றிய பகுதியின் பரப்பளவு யாது?

22.  $a, b, c, 14, x, 22$  ஆகிய உறுப்புக்கள் ஒரு கூட்டல் விருத்தியில் அமையும் எனின்  $a$  இன் பெறுமானத்தைக் காண்க.

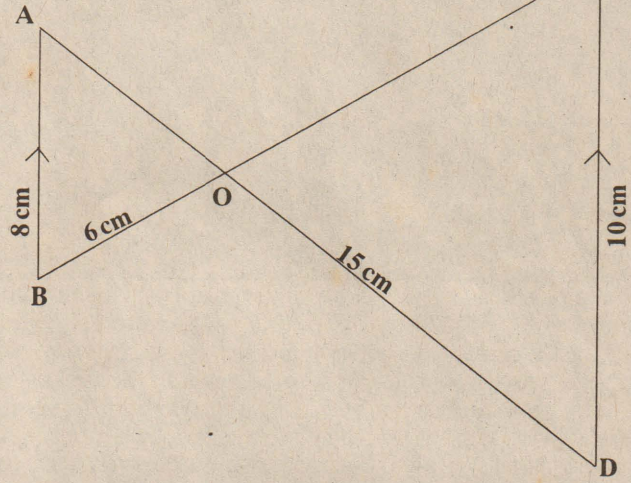
23.

உருவில் காட்டப்பட்ட நேர்கோடு AB ஆனது  $y=2x$  இற்குச் சமாந்தரமாக வரையப்பட்டு  $(0,-1)$  என்னும் புள்ளிக் கூடாகச் செல்கின்றது. நேர்கோடு AB இன்  
(i) படித்திறன் யாது?  
(ii) வெட்டுத்துண்டு யாது?  
(iii) அதன் சமன்பாட்டை எழுதுக

24.

உருவில் காட்டப்பட்டுள்ள முக்கோணி ABC இல்  $\angle B = 56^\circ, \angle C = 30^\circ$  ஆகும்.  
 $\angle BAC$  இன் இருகூறாக்கி AX ஆனது BC ஐ x இல் வெட்டுகின்றது. AX, BX, CX என்னும் பக்கங்களை அவற்றின் நீளங்களுக்கு அமைய ஏறுவரிசையில் ஒழுங்குபடுத்துக.

25.

உருவில் முக்கோணிகள் AOB, COD என்பன இயல்பொத்தவை.  
 $AB = 8 \text{ Cm}, BO = 6 \text{ Cm}, OD = 15 \text{ Cm}, CD = 10 \text{ Cm}$  ஆகும்.

(i) AO (ii) CO ஆகியவற்றின் நீளங்களைக் காண்க

26. A, B, C என்பவர்களுக்கிடையில் ஒரு குறித்த தொகைப் பணம் 1:2:3 எனும் விகிதத்திற் பங்கிடப்பட்டது.

(i) பணத்தொகையின் எப்பின்னம் C இற்குக் கிடைக்கின்றது.

(ii) A யிலும் பார்க்க ரூபா 80 கூடுதலாக C இற்குக்கிடைக்குமாயின் C இற்குக் கிடைக்கும் பணத் தொகை எவ்வளவு?

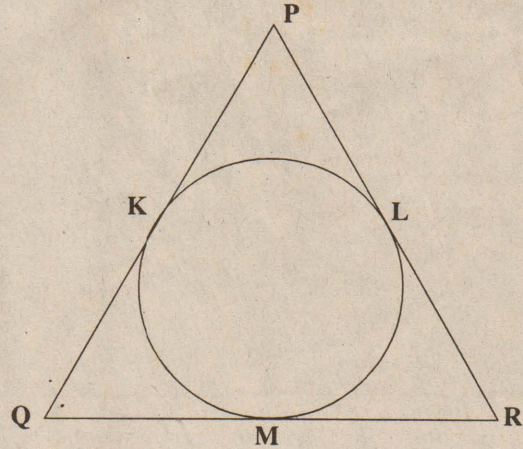
(iii) பங்கிடப்பட்ட மொத்தத் தொகைப்பணம் எவ்வளவு?

27.

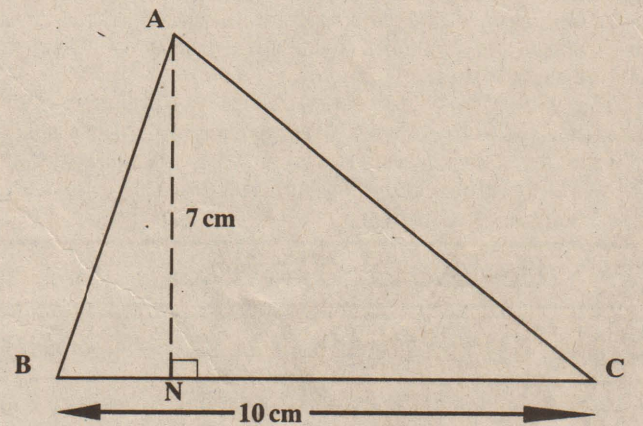
ரவி 2004ம் ஆண்டு ஆரம்பத்தில் ஒரு காணியை ரூபா 800, 000 இற்கு வாங்கினார். அக்காணியின் பெறுமதி ஓர் ஆண்டில் 10% இனால் அதிகரிக்குமெனின் 2005ம் ஆண்டு ஆரம்பத்தில் அதன் பெறுமானத்தைக் காண்க

28. தீர்க்க:  $x^2 + x - 2 = 0$ 

29.

உருவில் முக்கோணி PQR இல் உள்ள வரைந்த வட்டம், முக்கோணியின் பக்கங்களை K, L, M என்னும் புள்ளிகளிலே தொடுகின்றது.  
 $PL = 3 \text{ Cm}, LR = 5 \text{ Cm}, QK = 7 \text{ Cm}$  எனின் முக்கோணி PQR இன் சுற்றளவைக் காண்க

30.



முக்கோணி ABC இன் பரப்பளவும் பக்கம் BC இன் நீளமும் மாறா திருக்குமாறு உச்சி A இயங்கும் எனின் A இன் ஒழுக்கு யாது?

திங்கட்கிழமை கணிதம் பகுதி - I இற்கான  
விடையுடன், பகுதி - II இற்கான  
வினாக்களும் வெளிவரும்.

# யூரோக்கிண்ணைம் - 2004

## ஹொலண்டை வெற்றி கொண்டு

### இறுதிப் போட்டியில் போர்த்துக்கல்

நேற்று நடைபெற்ற யூரோக்கிண்ணைத்திற்கான முதலாவது அரையிறுதியாட்டத்தில் ஹொலண்ட் அணியை வீழ்த்திப் போர்த்துக்கல் அணி இறுதியாட்டத்திற்குத் தெரிவுசெய்யப்பட்டுள்ளது.




2:1 எனும் கோல் கணக்கில் இப் போட்டியில் வெற்றிபெற்ற போர்த்துக்கல் அணியின் கையே பெரும்பாலும் மேலொங்கியிருந்தபோதும் ஹொலண்ட் அணியின் நட்சத்திர வீரர் ரூட்நிஸ்ரல் றூய் இடைவேளைக்குச் சற்று முன்னர் போட்ட ஒரு கோல், ஓ.பு முறையில் போடப்பட்டதாக நடுவர் அறிவித்தமையால் போட்டியின் போக்கே மாறியது.

போர்த்துக்கலின் இந்த வெற்றியைத் தொடர்ந்து, இப்போட்டிகளை நாடாத்தம் அந்நாட்டின் வெற்றிவாய்ப்பு அதிகரித்திருப்பதாக உதைபந்து அவதானிகள் கருத்துத் தெரிவிக்கின்றனர். போர்த்துக்கலின் தலைநகரும் ஏனைய நகரங்களும் விழாக்கோலம் பூண்டுள்ளன. உதைபந்து விளையாட்டில் ஊறிப்போன இந்நாட்டவர்களில் 98 சதவீதமானவர்கள் ரோமன் கத்தோலிக்கராவர் இந்நாட்டிலிருந்தே உலகின் பெரும்பாலான நாடுகளில் அம்மதம் பரவியது. போர்த்துக்கலுக்கு வெற்றிவேண்டி கத்தோலிக்க தேவாலயங்களில் விஷேட வழிபாடுகளும் நடைபெறுகின்றன. (யே)

# விம்பிள்டன் ரெனிஸ் - 2004

## ஹென்மன் அதிர்ச்சித் தோல்வி ரொஜ பெடர் அரையிறுதியில்

2004ஆம் ஆண்டு விம்பிள்டன் போட்டிகளின் அதிர்ச்சிகரமான தோல்வி ரிம் ஹென்மனுக்குக் கிடைத்துள்ளது. டெனிஸ் தரப்படுத்தலில் இடம்பெறாத குரோவிய வீரர் மரியோன் அன்சிக்



ஹென்மனின் கனவைச் சிதறடித்தார். 20வயது நிரம்பிய அன்சிக் 7:6, 6:4, 6:2 எனும் செற்களில் ஹென்மனுக்கு அதிர்ச்சித் தோல்வியை வழங்கினார். விம்பிள்டன் இறுதிப் போட்டிக்குத் தெரிவாகக்கூடியவர் என்று கருதப்பட்ட பிரித்தானிய வீரர் ரிம்ஹென்மனுக்குத் தனது தோல்வியை நம்ப முடியவில்லை. மறுபுறத்தில் நடப்புச் சம்பியனான ரொஜ பெடர் லெயிற்றன் ஹெய்லிற்றுடனான காலிறுதியாட்டத்தில் 6:1, 6:7(1:7), 6:0, 6:4 எனும் செற்களில் வென்றார். 2002 சம்பியனான ஹெய்லிற்று இரண்டாவது செற்றில் அற்புதமாக ஆடியபோதும் பெடருக்கு ஈடுகொடுக்க அவரால் முடியவில்லை. அரையிறுதியாட்டத்தில் செபஸ்ரியன் குரோஸ்ஜீனை எதிர்கொள்ளவிருக்கும் பெடர் இம்முறையும் இறுதியாட்டத்திற்கு வருவார் என்று பொதுவாக எதிர்வு கூறப்படுவதோடு பட்டத்தை வெல்லக்கூடிய சந்தர்ப்பங்களும் அவருக்கே இருப்பதாக அறிவிக்கப்படுகிறது. (யே)

### கே.சி.சி.சி. கிண்ணை

### அரையிறுதிப் போட்டி இன்று

கொக்குவில் மத்திய சனசமூக நிலைய விளையாட்டுக் கழகத்தால் நடாத்தப்பட்டுவரும் கிரிக்கெற் சுற்றுப்போட்டியின் அரையிறுதி ஆட்டங்கள் இன்று இடம்பெறுகின்றன. முதலாவது அரையிறுதி ஆட்டத்தில் யங்ஸரார் விளையாட்டுக்கழகம் பற்றிசீயன் விளையாட்டுக்கழகத்தை எதிர்த்து காலை 8.30 மணிக்கு மோதும். மாலை 1.30 மணிக்கு இரண்டாவது அரையிறுதியில் கே.சி.சி.சி. விளையாட்டுக்கழகம் பல்கலைக்கழக அணியை எதிர்த்து விளையாடும் என்று போட்டி அமைப்பாளர்கள் அறிவித்துள்ளனர். நீண்ட நாட்களாக நடைபெற்றுவுள்ள இச் சுற்றுப்போட்டியின் அரையிறுதி ஆட்டங்கள் மிக விறு விறுப்பாக இடம்பெறும் என்று பார்வையாளர்கள் கருதுகின்றனர். இவ் ஆட்டத்தைக் கண்டு களிப்பதற்கு பெருந்தொகையான கிரிக்கெற் ரசிகர்கள் கூடுவர் என்றும் எதிர்பார்க்கப்படுகிறது. (யே)

# முதலாவது டெஸ்டில்

## அவுஸ்திரேலிய அணி 75-2


இலங்கைக்கும் அவுஸ்திரேலிய அணிக்கும் இடையில் நேற்று ஓவல் மைதானத்தில் ஆரம்பமான முதலாவது டெஸ்ட் போட்டியின் முதல் நாள் ஆட்ட மதியபோசன இடைவேளையின் போது ஆஸி. அணி 75 ஓட்டங்களுக்கு 2 விக்கட்டுக்களை இழந்திருந்தது.



நானய சுழற்சியில் வெற்றி பெற்ற இலங்கை அணித் தலைவர் மாவன் ஆஸி. அணியைத் துடுப்பெடுத்தாட அழைத்தமை தவறானது என்று எண்ணும் வகையில் 70 ஓட்டம் வரை அவ்வணி விக் கட் இழப்பின்றி ஆடியது. ஆயினும் மதிய போசனத்திற்கு சிறிது நேரமிருந்த போது 11 பந்துகள் இடைவேளையில் ஒரு ஓட்டத்திற்கு ஜஸ்டின் லாங்கரும் மத்திய எலியட்டும் ஆட்டமிழந்து சென்றனர். ஜந்துவருட இடைவேளிக்குப்பின் களமிறங்கிய எலியட் ஏழு நிமிடங்களே களத்திலிருந்து ஒரு ஓட்டத்தைப் பெற்றார். (யே)

# போர்மியூலா ஒன்றில் மக்-லரன் புதிய கார்

போர்மியூலா ஒன்று கிராண்ட் பிரிக்ஸ் பந்தயங்களில் MP4-19 ரக மக்லரன் காரர்கள் மிகுந்த பின்னடைவை எதிர்நோக்க



வந்தமையால் அக்கம்பனி புதிய கார் ஒன்றை அறிமுகம் செய்துள்ளது. MP4-19B என்று பெயர் வழங்கப்பட்டுள்ள இந்தக் கார் இவ் வார இறுதியில் இடம்பெறவிருக்கும் பிரெஞ்சுக் கிராண்ட் பிரிக்ஸ் போட்டிகளில் பங்கேற்கவிருக்கின்றது. மக்லரன் அணியின் நட்சத்திர சாரதிகளான டேவிட் கோல்தாட்டும் கிம்ரிக் கொனனும் இந்தக் காரில் பரீட்சார்த்த பயணம் செய்து திருப்தி தெரிவித்துள்ளனர். மேர்சிடஸ் என்ஜின் பொருத்தப்பட்டுள்ள இக்காரின் செசியில் புதிய மாற்றங்கள் செய்யப்பட்டுள்ளது. ஓயில் சிஸ்ரத்திலும் மாற்றங்கள் செய்யப்பட்டுள்ளதும் குறிப்பிடத்தக்கது. (யே)

# விளையாட்டுச் செய்திகள்

ATHENS 2004  
XXVIII OLYMPICS 13-29 AUGUST  
ஒலிம்பிக்கிற்கு இன்னும் 42 தினங்கள்

# ஒலிம்பிக் வரலாறு 17

## 1972ல் மூனிச் நகரில்

## இடம்பெற்ற 17வது ஒலிம்பிக்

1972ல் மூனிச் நகரில் போட்டிகள் ஆரம்பமான அன்றே இஸ்ரேலிய ஒலிம்பிக் குழுவினர் மீது இஸ்லாமிய பயங்கரவாதிகள் தாக்குதல் நடாத்தினர். பதினொரு வீரர்களும் ஐந்து பயங்கரவாதிகளும் இதில் கொல்லப்பட்டதைத் தொடர்ந்து இஸ்ரேல் உடனடியாக நாடு திரும்பியது அதனை தொடர்ந்து நெதர்லாந்து, நோர்வே பிலிப்பைன்ஸ் ஆகிய நாடுகளின் அணிகளில் இருந்து பலர் வீடு திரும்பினர்.



அடுத்த நாள் போட்டிகள் நிறுத்தப்பட்டு இறந்தவர்களுக்கு அஞ்சலி நிகழ்ச்சி இடம் பெற்றது. அன்று மாலையே இஸ்ரேலின் அனுமதியுடன் போட்டிகள் மீண்டும் ஆரம்பமாகின. ரொடிசியா என்று அழைக்கப்பட்ட சிம்பாப்வே அதன் இனவெறி ஆட்சி காரணமாக தடைசெய்யப்பட்டு போட்டிக்கு வந்திருந்த அந்நாட்டு வீரர்கள் திரும்பி அனுப்பப்பட்டனர்.

195 போட்டிகள் இடம்பெற்றன. அம்பும் வில்லும் உள்ளக கைப்பந்துப்போட்டியும் அறிமுகமாயின. 4தங்கம், 3அஞ்சல் போட்டித்தங்கங்களுடன் நீச்சலில் மார்க் ஸ்பிற்ஸ்ட்நட்சத்திரமாக ஜொலித்தார். சோவியத் ஜிம்நாஸ்டிக் தாரகை ஒரு இரவிலே மூன்று தங்கங்களும் ஒரு வெள்ளியும் வென்று எல்லோரது அன்பையும் வென்றார். (யே)



