

வாழ்வு நூலகம்
யாழ்ப்பாணம்



வலம்புரி

VALAMPURI



விலை ரூபா. 7.00

சங்கு 05

வள்ளுவர் ஆண்டு 2035

ஆடி 29

வெள்ளிக்கிழமை

(13.08.2004)

தொலைபேசி - 2223378

ஒலி 238

மூன்றாம் தரப்பு மத்தியஸ்தம் இன்றி

புலிகளின் தலைவர் பிரபாஷுடன் நேரில் பேசுவதற்கு விரும்புகிறேன்



சர்வதேச செய்தி ஊடகத்திற்கு ஜனாதிபதி சந்திரிகா செவ்வி

(நமது நிருபர்)

இலங்கையின் இனப்பிரச்சினைத் தீர்விற்கு தமிழீழ விடுதலைப் புலிகளின் தலைவர் வேலுப்பிள்ளை பிரபாகரனுடன் மூன்றாம் தரப்பு மத்தியஸ்தம் எதுவுமின்றி நேரடியாக பேச்சுவார்த்தை நடத்தவே விரும்புவதாக ஜனாதிபதி சந்திரிகா குமாரதுங்க தெரிவித்துள்ளார்.

தற்போதைய அரசியல் சூழ்நிலை தொடர்பாக ஜனாதிபதி சந்திரிகா குமாரதுங்க சர்வதேச செய்தி ஸ்தாபனம் ஒன்றுக்கு வழங்கிய விசேட பேட்டி ஒன்றிலேயே மேற் கண்டவாறு தெரிவித்துள்ளார். அப்பேட்டியில் அவர் மேலும் தெரிவித்திருப்பதாவது, இலங்கையின் இனப்பிரச்சினை (12 ஆம் பக்கம் பார்க்க)



கருணா குழுவுக்கு உதவிய இருவர் விளக்கமறியலில்!

கருணா குழுவினருக்கு உதவினார்கள் என்ற சந்தேகத்தின்பேரில் இருவர் கைதுசெய்யப்பட்டு விளக்கமறியலில் வைக்கப்பட்டுள்ளனர். குருநாகல் ஜஸ்கிரீம் உற்பத்தி தொழிற்சாலையொன்றை நடத்தி வந்த ஏறாவுரைச் சேர்ந்த பரீட், அவரது உதவியாளரான பாவா

தாஹீர் ஆகிய இருவரையும் எதிர்வரும் 16 ஆம் திகதிவரை விளக்கமறியலில் வைக்குமாறு மாவட்ட நீதிவான் சுமுது பிரேமச்சந்திர உத்தரவிட்டார்.

இவர்கள் இருவரும் மட்டு - அம்பாறை விசேட தளபதி ரமேஸ் செல்லும்வழியில் கிளைமோர் குண்டை வெடிக் கச்செய்து கொலைசெய்ய திட்டமிட்ட கருணா அணியினர் மூவருக்குப் பாதுகாப்பு வழங்கி உதவி நல்கியிருந்ததாகக் குற்றஞ்சாட்டப்பட்டுள்ளது.

இந்தச் சம்பவத்தில் ஏற்பட்ட தவறு காரணமாக கைக்குண்டு ஒன்று வெடித்தமையால் ஒருவர் உயிரிழந்ததும், ஏனைய இருவரும் தப்பியோடி இருந்தமையும் (12 ஆம் பக்கம் பார்க்க)

பல்கலை அனுமதிக்கு வண்ணப்பக்கலாம்

(யாழ்ப்பாணம்)
2004/2005ம் கல்வி ஆண்டிற்கான பல்கலைக்கழக அனுமதிக்கான விண்ணப்பம் பல்கலைக்கழக மானியங்கள் ஆணைக்குழுவால் கோரப்பட்டுள்ளது.

விண்ணப்பப் படிவங்களை 150 ரூபா செலுத்தி தபால் மூலமும் மானியங்கள் ஆணைக்குழுவிலும், முகவர்களிடமிருந்தும் பெற்றுக் கொள்ளலாமென மானியங்கள் ஆணைக் குழு தெரிவித்துள்ளது. விண்ணப்பங்கள் எதிர்வரும் செப்டெம்பர் 3ந் திகதிக்கு முன்னர் அனுப்பப்படவேண்டும்.

இதேவேளை விண்ணப்பப் படிவங்களை யாழ். நகரிலுள்ள பூபால் சிங்கம் புத்தகசாலையில் நாளை பெற்றுக்கொள்ளலாம் என புத்தக சாலையின் முகாமையாளர் தெரிவித்தார். (9)

புங்குதீவு மக்கள் இன்று ஆர்ப்பாட்டம் -மறியற்போர்

(யாழ்ப்பாணம்)
புங்குதீவு மாவட்ட வைத்தியசாலைக்கு அண்மையில் நியமிக்கப்பட்ட டாக்டர் கா.உமாபதி சிவம் இடமாற்றம் செய்யப்பட்டுள்ளதைக் கண்டித்து இன்று ஆர்ப்பாட்டப் பேரணி மற்றும் அடையாள மறியல் போராட்டம் என்பன இடம்பெறவுள்ளன.

கடந்த 14 வருடங்களாக இயங்காமல் இருந்த புங்குதீவு மாவட்ட வைத்தியசாலை பெரும் முயற்சியின் பயனாக கடந்த 20 நாட்களாக இயங்கிவந்த நிலையில், இவ் வைத்தியசாலைக்கு நியமிக்கப்பட்ட புதிய வைத்தியர் இடமாற்றம் செய்யப்பட்டிருப்பதாக சுகாதார சேவைகள் மாகாணப் பிரதிப் பணிப்பாளர் பணி

மனை அறிவித்துள்ளது. இதனைக் கண்டித்தே பாதிக்கப்பட்ட மக்கள் இன்று காலை 8 மணிக்கு யாழ்ப்பாணம் சத்திரத்துச் சந்தியிலிருந்து ஆர்ப்பாட்டப் பேரணியாக புறப்பட்டு சுகாதார சேவைகள் மாகாணப் பிரதிப் பணிமனைமுன் மறியல் போராட்டத்தில் ஈடுபடவுள்ளனர். (உ)

தமிழ்ச்செல்வனுடன் ஜப்பானியத் தூதுவர் நாளை சந்திப்பு

(கொழும்பு)
இலங்கைக்கான ஜப்பானியத் தூதுவர் ஹக்கி யூசூடாநாளை சனிக்கிழமை சிளிநொச்சிக்கு விஜயம் செய்யவுள்ளார்.

ஈ.பி.டி.பி.யினர் ஆர்ப்பாட்டம்

(திருகோணமலை)
ஈ.பி.டி.பி. அமைப்பின் திருகோணமலை மாவட்ட இணை அமைப்பாளர் ரமணி கடந்த செவ்வாய்க்கிழமை இலங்கை

(கொழுப்பு)
இலங்கைக்கான ஜப்பானியத் தூதுவர் ஹக்கி யூசூடா நாளை சனிக்கிழமை கிளிநொச்சிக்கு விஜயம் செய்யவுள்ளார்.

கிளிநொச்சி செல்லும் ஹக்கி யூசூடா தமிழீழ விடுதலைப் புலிகளின் அரசியற்துறைப் பொறுப்பாளர் சு.ப.தமிழ்ச்செல்வனைச் சந்தித்து, ஜப்பானிய நிதி உதவித் திட்டத்தின்கீழ் வடக்கு-கிழக்கு மாகாணங்களில் மேற்கொள்ளப்படவுள்ள அபிவிருத்தித் திட்டங்கள் குறித்து பேசவுள்ளார். (உ-க)

ஞாயிற்றுக்கிழமை காலை தனியார் வகுப்புகளுக்கு தடை

(கொழுப்பு)
ஞாயிற்றுக் கிழமைகளில் காலைவேளைகளில் தனியார் வகுப்புகளை நடத்துவதினைத் தடைசெய்வதற்கு அமைச்சரவை அங்கீகாரம் கிடைத்திருப்பதாக அமைச்சரவைப் பேச்சாளர் மங்கள சமரவீர தெரிவித்தார்.

ஞாயிற்றுக் கிழமைகளில் அனைத்து மதங்களையும் சேர்ந்த மாணவர்களுக்கு சமய வகுப்புகள் நடத்தப்படுவதால் மாணவர்களது சமயக் கல்வி பாதிக்கப்படுவதனால் ஞாயிற்றுக் கிழமைகளில் காலைநேர வகுப்புகள் நடத்தப்படுவது தடைசெய்யப்பட்டு (12 ஆம் பக்கம் பார்க்க)

தீவிரமான யாழ். நகரத்தை மீட்டல் சிங்கம் புத்தகசாலையில் நாளை பெற்றுக்கொள்ளலாம் என புத்தக சாலையின் முகாமையாளர் தெரிவித்தார். (ச)

கூட்டமைப்பு பாராளுமன்ற உறுப்பினர்கள் இளம்பரிதியுடன் நேற்று முக்கிய சந்தியு!

(யாழ்ப்பாணம்)
விடுதலைப் புலிகளின் யாழ் மாவட்ட அரசியற்துறைப் பொறுப்பாளர் சி.இளம்பரிதியை யாழ். மாவட்டப் பாராளுமன்ற உறுப்பினர்கள் சந்தித்துக் கலந்துரையாடினர். இச்சந்திப்பு நேற்று மாலை 4 மணியளவில் பொற்பதி வீதியிலுள்ள அரிசியந்துறை நடுவப் பணியகத்தில் இடம்பெற்றது. இச்சந்திப்பின்போது பல முக்கிய தீர்மானங்களும் எடுக்கப்பட்டன.

✦ அரசாங்கத்தின் பன்முகப் படுத்தப்பட்ட நிதி யாழ். மாவட்டத்திலுள்ள வறிய மக்களை சென்றடையக்கூடிய வகையில் திட்டங்களை வகுத்து நடைமுறைப்படுத்தல்.

**அன்பு மாணவர்களே!
உள்ளே!**
சந்திரன் 5ஆம் தர மாணவர்களுக்கான புலமைப் பரிட்சை மாதிரி வினாத்தாள்கள்



✦ சிறுக்கத்தொழில் முயற்சியை ஊக்குவித்தல்.
✦ முன்பள்ளி, விளையாட்டுத் துறை மற்றும் நலன்புரி நிலையங்களில் உள்ள மக்களுக்கு உதவும் வகையில் ஒவ்வொரு பாராளுமன்ற உறுப்பினர்களும் தலா ஒரு லட்சம் ரூபா ஒதுக்குதல்.
✦ தீவ்ப்பகுதி மக்களின் நலன்

கருதி அம்புலன்ஸ் வண்டி வழங்குதல்.
✦ தீவ்ப்பகுதி மக்களின் குடிநீர் மற்றும் போக்குவரத்துப் பிரச்சினைகளுக்குத் தீர்வுகாணல்.
✦ விதவைப் பெண்களுக்கு கைத்தொழில் வாய்ப்பை முன்னுரிமை அடிப்படையில் வழங்குதல் (12 ஆம் பக்கம் பார்க்க)

(திருகோணமலை)
ஈ.பி.டி.பி. அமைப்பின் திருகோணமலை மாவட்ட இணை அமைப்பாளர் ரமணி கடந்த செவ்வாய்க்கிழமை இரவு சுட்டுக் கொல்லப்பட்டமையைக் கண்டித்து ஈ.பி.டி.பி. அமைப்பினர் நேற்று திருகோணமலை மாவட்டப் போர் நிறுத்தக் கண்காணிப்புக்குழு அலுவலகத்தின் முன்பாக ஆர்ப்பாட்டத்தில் ஈடுபட்டனர்.
கண்காணிப்புக்குழு அலுவலகத்தின் பிரதான வாயிலுக்கு முன்பாக கொலையுண்ட ரமணியின் சடலம் வைக்கப்பட்டு ஆர்ப்பாட்டம் இடம்பெற்றது.
இதேவேளை மாவட்டப் போர் நிறுத்தக் கண்காணிப்புக் குழுவின் தலைவர் டாக்ஸிற்றிடம் ஆர்ப்பாட்டக்காரர்கள் மகஜர் ஒன்றைக் கையளித்தனர். (த-121,08)

அதாவல்ல அணியுடன் அமீர் எம்.பி. இணைவு

மட்டக்களப்பு மாவட்ட நாடாளுமன்ற உறுப்பினர் அமீர் அலி முஸ்லிம் காங்கிரஸிலிருந்து விலகி அமைச்சர் அதாவல்லாவுடன் இணைந்து செயற்படவுள்ளதாக தெரியவருகின்றது.
முஸ்லிம் காங்கிரஸ் தலைவர் ரஷிப் ஹக்கீமிற்கும், அமீர் அலிக்கும் இடையிலான கருத்து முரண்பாடுகள் வலுப்பெற்றுவருவதனாலேயே அவர் இம்முடிவு (12 ஆம் பக்கம் பார்க்க)

நடுவு நிலை தவறா நன்னெறி காக்கும் உங்கள் நாளிதழ்

ஒலிம்பிக் இன்று கோலாகல ஆரம்பம்


தங்கம், வெள்ளி, வெண்கலம்... இதற்காகத்தானே காத்திருந்தார்கள் உலகெங்கிலும் உள்ள விளையாட்டு ரசிகர்கள்...? எதென்ஸ் ஒலிம்பிக் கோலாகலமாக இன்று தொடங்குகிறது. போட்டிகளுக்கான அனைத்து ஏற்பாடுகளும் முழுமையாக முடிந்து விட்டன. இன்று பதக்கவேட்டை தொடங்குகிறது. கலா-கலலையா?

அமெரிக்க முன்னாள் அதிபர் ஜோர்ஜ் புஷ் (தற்போதைய அதிபர் அபா) பிரிட்டன் பிரதமர் டோனபிளேயர், பிரான்ஸ் அதிபர் ஜாக்ஸ் சிராக் உட்பட பன்னாட்டு பிரதமர்கள், அதிபர்கள், முக்கிய பிரமுகர்கள் இன்று வரப்போகின்றார்கள்.

பயமேயில்லை. எதென்ஸ் நகரை நேற்றுமாலை சுற்றி வந்தபோது, ஒலிம்பிக் போட்டிக்கு ஆங்காங்கே எதிர்ப்பும் இருப்பதை காணமுடிந்தது. கம்யூனிஸ்ட் அமைப்புகள் சில, 'இத்தனை கோடிகளைக் கொட்டி, விளையாட்டு நடத்தவேண்டுமா? இது அவசியம்தானா?' என்று கண்டனக் குரல் எழுப்பிக்கொண்டிருந்தன.

குகறார்கள். அதுபோதுமே! தன்னம்பிக்கைதானே வெற்றிக்கு முதல் பட! உலகின் மிகப் பிரமாண்ட சொகுசுக் கப்பல் குயின்மேரி -2' பற்றிக் கேள்விப் பட்டிருக்கலாம். அது இப்போது எதென்ஸில் தான் இருக்கிறது. ஒலிம்பிக் காணவரும் வி.ஐ.பி.கள் பாதுகாப்பாகத்

சாத்தியமான அனைத்து ஏற்பாடுகளையும் கிரிஸ் அரசு திறம்படச் செய் திருக்கிறது. ஒலிம்பிக் ஏற்பாடுகள், பாதுகாப்புப் பணிகள் என அனைத்தும் திருப்திகரமாக இருக்கின்றன. அமெரிக்கத் தாக்குதல், ஈராக் போர் என்று பல முக்கிய சம்ப



அவர்களை அருமையாக வரவேற்று உபசரிக்க வேண்டும். பாதகப்புவும் வேண்டும். வீரர், வீராங்கனைகளுக்கு ஒரு குறையும் இல்லாமல் கவனிக்க வேண்டும். எந்தச் சர்ச்சையும்

எதிர்ப்பும், ஆதரவும், மகிழ்ச்சியும், உற்சாகமும் கொண்ட ஒரு கலவையை எதென்ஸ் நகர வீதிகளில் பார்க்கமுடிகிறது. எல்லாம் சரி... என்ன செய்கிறார்கள் அங்கு இந்திய வீரர்கள்? 'கவலையே வேண்டாம். பதக்கத்துடன் திரும்புவோம்' என்கிறார் இந்திய ஒலிம்பிக் குழுத் தலைவர் ஹரிஷ் சர்மா. அவர் தவிர, லியாண்டர் பயஸ், மகேஷ் பூபதி, அஞ்சலி பகவத், அஞ்சு ஜாஜ், ஹாக்கி அணி வீரர்கள் அனைவரும் தன்னம்பிக்கையுடன் இந்த ஒலிம்பிக்கை அணு

'தங்குவதற்காக நிறைய சொகுசுக்கப்பல்களை கிரிஸ் அரசு வரவழைத்துள்ளது. இதுவரை 5 கப்பல்கள் (குயின்மேரியையும் சேர்ந்து) வந்து விட்டன. இன்னும் 3 இன்று வந்து சேரும். மொத்தம் 10 ஆயிரத்துக்கும் அதிகமான விஜயிகள் இந்தக் கப்பல்களில் தங்குவார்கள் குயின்மேரி - 2 கப்பலில் மொத்தம் ஆயிரத்து 310 சொகுசு



பாடுகளும் முழுமையாக முடிந்து விட்டன. இன்று பதக்கவேட்டை தொடங்குகிறது. கலா-கலலையா?

குளறுபடியும் வந்து விட வேண்டாம். இப்படி அவர்களுக்கு நிறையவேலை.

தங்கம், வெள்ளி, வெண்கலம் எங்கும் இதே பேச்சு!

தங்கம், வெள்ளி, வெண்கலம் - இந்த 3 வார்த்தைகள் தான், வரும் 29 ஆம் திகதி வரை உலகில் மிக அதிகம் உச்சரிக்கப்படுவையாக இருக்கும். 4 ஆண்டுகள் உலக விளையாட்டு இரசிகர்கள் மிக ஆவலுடன் காத்திருந்த ஒலிம்பிக் போட்டிகள், அதன் தாய் மண்ணில், இன்று அமர்க்களமாகத் தொடங்குகிறது. பங்கேற்கும் வீரர், வீராங்கனைகள் ஒருபக்கம் ஒலிம்பிக் கிராமத்தை முற்றுகையிடுகிறார்கள் என்றால், மறுபுறம் ரசிகர்கள் கூட்டம் அலைகூடல் போல. பாதுகாப்பு, தீவிரவாதிகள் அபாயம் இப்படி நிறையப் பிரச்சினைகள் முன்பு விவாதிக்கப்பட்டன. இப்போது அதையெல்லாம் சுத்தமாக மறந்து விட்டார்கள் ரசிகர்கள். அவர்களுக்கு இனி எல்லாமே விளையாட்டு மட்டும்தான். எதென்ஸ் நகர வீதிகளில் ஒலிம்பிக் வளையம் பதித்த சட்டை போட்டுக்கொண்டு, பாதுகாப்புக் கெடுபிடிகளுக்குச் சற்றும் கவலை இல்லாமல் வட்டம் அடித்துக் கொண்டிருக்கின்றனர். சர்வதேச ஒலிம்பிக் சங்கத் தலைவர் ஜாக்ஸ் ரோகி தலைமையில் ஒரு குழு பம்பரமாகச் சுற்றிக் கொண்டிருக்கிறது.

உலகமெங்கும் வலம் வரும் ஒலிம்பிக் ஜோதி, இப்போது கிரிஸ் நாட்டுக்குள்ள்தான் சுற்றிக் கொண்டிருக்கிறது. எதென்ஸ் நகருக்கு 40 கி.மீ. வடக்கே உள்ள புராத்தன மாரத் தான் பகுதியை நேற்று முன்தினம் வந்தடைந்தது ஜோதி. அங்கு அமர்க்கள வரவேற்பு அளிக்கப்பட்டது. அங்கிருந்து நேற்றுக் கிளம்பியது. சரியாக இன்று அது ஒலிம்பிக் கிராமம் வந்தடையும். பின்னர், போட்டி முடியும் வரை அதற்கு சிறிதும் ஓய்வில்லை. பாதுகாப்புப் பணியில் சர்வதேசப்படைகள் கண்ணில் விளக்கெண்ணெய் ஊற்றிக் கொண்டு கண்காணிப்பதால்,



'கேபின்கள் உள்ளன. இதற்கு வாடகை கொஞ்ச நஞ்சமல்ல, ஒரு கேபினுக்கு ஒரு நாள் வாடகை ரூ.35 ஆயிரத்துக்கும் அதிகமாக. மொத்தக் கேபின்களில் 30 சதவீதத்தை ஒலிம்பிக் சங்கம், தனது வி.ஐ.பி. விருந்தினர்களுக்காக முன்பதிவு செய்து வைத்திருக்கிறது. (பிரான்ஸ் அதிபர் ஜாக்ஸ் சிராக், அமெரிக்க முன்னாள் அதிபர் ஜோர்ஜ் புஷ் ஆகியோர் இங்கு தான் தங்கப்போகிறார்களாம்). கிரிஸ் நேரப்படி நேற்றுமுன்தினம் காலை 8.30 மணிக்கு எதென்ஸில், பைராயஸ் துறைமுகத்தை வந்தடைந்த குயின்மேரிக்கு சிறப்பான வரவேற்பு அளிக்கப்பட்டது. முக்கிய பிரமுகர்கள் தங்கப்போகும் கப்பல் என்பதால் பாதுகாப்புக்கெடுபிடிகள் மிக அதிகம். ஒலிம்பிக் போட்டிகளுக்காக 7 ஆண்டுகளாக கிரிஸ் நாடு உழைத்த உழைப்பு, இன்று வெளிச்சத்துக்கு வரப்போகிறது. மனித முயற்சிக்குச்

வங்களுக்குப் பிறகு நடக்கும் மிகப் பெரிய சர்வதேச நிகழ்ச்சி என்பதால், தீவிரவாதிகளின் தாக்குதல் அபாயம் இருக்கலாம் என்று அஞ்சப்படுகிறது. ஆகவே, பாதுகாப்பு ஏற்பாடுகளுக்காக மிகக் கடினமாக உழைத்திருக்கிறது கிரிஸ். சர்வதேச பாதுகாப்புத் தவிர ஒலிம்பிக் பாதுகாப்புப் பணியில் 70 ஆயிரம் பொலிஸாரை ஈடுபடுத்தி இருந்தது இப்போது மேலும் 35 ஆயிரம் இராணுவ வீரர்களை ஒலிம்பிக் பாதுகாப்பில் இறக்கியிருக்கிறது. எதென்ஸ் நகரம் பாதுகாப்பு வளையத்தில் முற்றுகையிடப்பட்டிருக்கிறது. பாதுகாப்பு வீரர்களைத் தாண்டி ஒரு கொசு கூட நகருக்குள் பறந்து வடமுடியாது அந்தளவுக்குக் கெடுபிட்ப் பாதுகாப்பு, இந்தப் பாதுகாப்புப் பணிகளுக்கு மட்டும் கிரிஸ் அரசு செலவளித்துள்ள தொகை எவ்வளவு தெரியுமா? ரூ.7ஆயிரம் கோடி. இதுவே ஒரு புதிய ஒலிம்பிக் சாதனை. இதற்கு முன்பு பாதுகாப்புக்கு இந்த அளவுக்கு வாடகை செலவு செய்ததில்லை.

(நன்றி இணையத்தளம்)


மதுரையில் முதியவர் கோரக் கொலை

(மதுரை) மதுரையில் வீட்டில் தனியாக இருந்த ஒரு முதியவரின் வாயை துண்டால் இறுக்கி மரம் நடர்கள் அவரைப் படுகொலை செய்துள்ளனர். மதுரை புறநகர்ப் பகுதியான சக்தி நகரைச் சேர்ந்தவர் 83 வயதான இராமசாமி. சம்பவம் நிகழ்ந்த தினத்தன்று காலை இவர் வீட்டில் தனியாக இருந்தார். பி.ப.2மணியளவில் வெளியே சென்றிருந்த அவரது மருமகள் கிருஷ்ணவேணி திரும்பிவந்தார். அப்போது வீட்டுக்குள்ளிருந்து இரண்டு போர் வேகமாக வெளியேறியதைப் பார்த்தார்.

வீட்டுக்குள் நுழைந்ததும் வாயில் துண்டு இறுக்கப்பட்டு மாமனார் கொலை செய்யப்பட்டுக் கிடந்ததைப் பார்த்து அதிர்ச்சியடைந்தார். கொள்ளையடிப்பதற்காகவே இந்தக் கொலை நடந்ததாகத் தெரிகிறது. இதற்கிடையே அண்ணா நகரில் வசிக்கும் மோகன் ராம் என்பவர் பொலிஸில் ஒரு புகார் கொடுத்தார். அதில் தமது வீட்டிலிருந்த 32 சவரன் தங்க நகைகளும் 10 ஆயிரம் ரூபா ரொக்கமும் களவு போயிருப்பதாகத் தெரிவித்துள்ளார். (து)

றையின் படையினரை வரபஸ் பெற முடிவு

(மணிப்பூர்) மணிப்பூர் மாநிலத்தில் சர்ச்சைக்குள்ளாகியிருக்கும் அசாம் றையின் படையினரை வரபஸ் பெறவுள்ளதாக உள்துறை அமைச்சர் சிவராஜ் பட்டேல் தெரிவித்துள்ளார். மணிப்பூரில் தீவிரவாதிகளை யொடுக்க ஆயுதப்படையினருக்குச் சிறப்பு அதிகாரம் வழங்கியுள்ள சட்டத்தை அவர்கள் தவறாகப் பயன்படுத்தி வருவதாகப் புகார்கள் எழுந்துள்ளது. விசாரணைக்காக இளம் பெண் ஒருவரைப் பிடித்துச் சென்ற றையின் படையினர் அவரைப் பாலியல் பலாத்காரம் செய்துகொண்டு விட்டதாகக் கூறப்படுகிறது. இதைப்படுத்த மணிப்பூரில் ஆயுதப்படையினருக்கு எதிராகப் பல்வேறு தரப்பினரும் போராட்டம் நடத்தி வருவதால், அங்கு பதற்றம் நிலவுகிறது. (து)



வழக்கறிஞர்கள் சங்கத்தின் கிரு பிரிவினரிடையே நேற்று முன்தினம் ஏற்பட்ட மோதலில் 3 வழக்கறிஞர்கள் தாக்கப்பட்டதையடுத்து, சென்னை உயர்நீதிமன்றம் எதிரே வழக்கறிஞர்கள் ஆர்ப்பாட்டம் நடத்தினர். அப்போது அவர்களை கலைந்து போகமாறு கூறிய காவல்குறையினருடன் மோதல் ஏற்பட்டது.

இந்தியச் செய்திகள்



புகழில்லியல் பிரதமர் மன்மோகன் சிங்கை சந்திக்க வந்த பள்ளிச் சீழுவர்களுடன் பிரதமர்.

ஜெயலலிதாவின் வீம்பு வீழ்ந்துவிட்டது. தி.மு.க.தலைவர் கருணாநிதி அறிவிப்பு

(சென்னை) தி.மு.க.ஆட்சியில் வழங்கப் பட்டு, அதி.மு.க. ஆட்சியில் பறிக்கப்பட்ட சலுகைகள், உரிமைகள் திரும்பக் கிடைத்ததற்கு மக்களவைத் தேர்தலில் கிடைத்த வெற்றி தான் காரணமென்றும், இந்தச் சிறப்பான வெற்றிகள் தொடர்ச்சேலம் சிறப்பு மாநாட்டுக்கு வரவேண்டும் என்றும் தி.மு.க.வினருக்கு அக் கட்சியின் தலைவன் கருணாநிதி அழைப்பு விடுத்ததுள்ளார். பொடாலை திரும்பப் பெற

வலியுறுத்தியும், ம.தி.மு.க. பொதுச் செயலாளர் வை.கோ.வை விடுவிக்கக் கோரியும் தி.மு.க. சார்பில் உண்ணா நோன்பு, கண்டனக் கூட்டங்கள், ஆர்ப்பாட்டங்கள் நடைபெற்றதையும், இதற்கு மத்திய, மாநில அரசுகள் அசைந்து கொடுக்காததையும் அவர் வெளியிட்ட ஓர் அறிக்கையில் சுட்டிக்காட்டியுள்ளார். மக்களவைத் தேர்தல் வெற்றிக்குப் பிறகு மத்தியில் ஐக்கிய முற்போக்குக் கூட்டணி ஆட்சி ஏற்பட்டதால் இப்பொழுது பொடா போகி

றது என்றும், ம.தி.மு.க பொதுச் செயலாளர் வை.கோ.. மீதான வழக்கை முதலமைச்சர் வாஸ்வாங்க முன்வந்துள்ளார் என்றும் அவர் தெரிவித்துள்ளார். விழுப்புரம் - விருதுநகர் மாநாட்டுக்கும் சேலம் மாநாட்டுக்கும் இடையேயிருந்த காலத்தில் மக்கள் சக்தியைத் திரட்டி வெற்றி பெற்றதனால் தான் ஜெயலலிதா வின் வீம்பு வீழ்ந்துள்ளது என்றும் கருணாநிதி குறிப்பிட்டுள்ளார். (து)

இந்தியாவுக்கு பதக்க வாய்ப்பு உறுதி; பி.டி.உஷா பேட்டி

இந்தியாவின் தங்க மங்கை என்று அழைக்கப்பட்டவர் பி.டி.உஷா. ஆசிய போட்டியில் தங்கப்பதக்கங்களை வாரிக்குவித்த அவர் 1984ஆம் ஆண்டு லொஸ் ஏஞ்சல்சில் நடந்த ஒலிம்பிக்கில் 400 மீற்றர் தடை தாண்டி ஓட்டத்தில் 4வது இடத்தை பிடித்தார்.



எதென்ஸ் ஒலிம்பிக்கில் இந்தியாவின் வாய்ப்பு குறித்து பி.டி.உஷா கூறிய தாவது.

இந்தியாவுக்கு பதக்க வாய்ப்பு உறுதியாக இருக்கிறது என்று எந்த விளையாட்டிலும் கூறமுடியாது. மிகக் குறைந்த வாய்ப்பே உள்ளது. டென்னிஸ், துப்பாக்கி சுடுதலில் வெண்கல பதக்கம் கிடைக்கலாம் என்று எதிர்பார்க்கிறேன் இவ்வாறு அவர் கூறினார்.

1960ஆம் ஆண்டு ஒலிம்பிக்கில் 400 மீற்றர் ஓட்டத்தில் 4வது இடத்தை பிடித்த மில்காசிங் கூறும்போது,

“எதாவது அதிகம் நிகழ்ந்தால்தான் பதக்கம் கிடைக்கும். இவ்வளவு அதிகமான வீரர்கள், வீரங்களைகளை அனுப்புவது தேவையற்ற பணச் செலவுதான். டென்னிஸ், துப்பாக்கி சுடுதல் (அஞ்சலி அல்லது ரத்தோர்), தடகளம் (அஞ்சலி) ஆகியவற்றில் வெண்கல பதக்கம் கிடைக்கலாம் என்று எதிர்பார்க்கிறேன் என்றார்.


முன்னாள் ஆக்கி கப்படன் அஜிதமில்சிங் இந்தியாவுக்கு 6 பதக்கங்கள் (ஆக்கி, துப்பாக்கி சுடுதல் (3), டென்னிஸ், நீளம் தாண்டுதல்) கிடைக்கும் என்றும், துப்பாக்கி சுடும் வீரர் மொராக் அலிகான் இந்தியாவுக்கு 8பதக்கங்கள் (ஆக்கி, துப்பாக்கி சுடுதல் (4), டென்னிஸ், நீளம் தாண்டுதல், பளு தூக்குதல் (மல்லேஸ்வரி அல்லது குஞ்சராணி) கிடைக்கும் என்றும் தெரிவித்தார்.

முன்னாள் ஒலிம்பிக் வீரர், பில்பீர்சிங் பாட்டியா கூறும்போது, டென்னிஸ், பளு தூக்குதல் ஆகியவற்றில் தலா ஒரு பதக்கமும், துப்பாக்கி சுடுதலில் 3 பதக்கமும் கிடைக்கும் என்றார்.

எதென்ஸ் ஒலிம்பிக்கில் இந்தியா 14விளையாட்டுக்களில் பங்கேற்கிறது. 75வீரர், வீராங்கனைகள் பங்கேற்கிறார்கள்.

ஒலிம்பிக் கால்பந்து எதென்ஸ்ல் ஆரம்பம்

ஒலிம்பிக் கால்பந்து போட்டிகளில் ஆயிரிக்காவின் ஆதிக்கத்திற்கு முற்றுப்புள்ளி வைக்க ஐரோப்பிய அணிகள் காத்திருக்கின்றன.




கடந்த இருமுறைகள் தங்கப் பதக்கத்தை தட்டிச்சென்ற ஆயிரிக்க நாடுகளே தொடர்ந்து மூன்றாம் முறையாக சாதிக் கத் தயாராக உள்ளன. கிரிஸ் தலைநகர் எதென்ஸில் இன்று ஒலிம்பிக் போட்டி அதிகாரபூர்வமாக தொடங்குகிறது. இதற்கு முன்னதாக ஆண்கள், பெண்களுக்கான கால்பந்து லீக் சுற்றுப் போட்டி நேற்று ஆரம்பமாகியது. இவ்வாறு 8 போட்டிகள் எதென்ஸ் நகருக்கு வெளியே நடக்கவிருக்கின்றன.

நீளம் தூண்டும் சாதனை வீரர் ஒலிம்பிக் வாய்ப்பை இழந்தார்

இந்திய ஒலிம்பிக் அணியில் இருந்து நீளம் தூண்டும் வீரர் அம்ரித்பால் நீக்கப்பட்டுள்ளதாக இந்திய தடகள கூட்டமைப்பு அறிவித்துள்ளது.

கிரிஸ் தலைநகர் எதென்ஸில் இன்று ஒலிம்பிக் போட்டிகள் தொடங்க இருக்கின்றன. இதில் பங்கேற்கும் இந்திய அணியின் வீரர், வீராங்கனைகள் பட்டியல் சமீபத்தில் அறிவிக்கப்பட்டது. இந்த அணியில் இடம்பெற்றிருந்த முன்னாள் தேசிய சாதனையாளரான அம்ரித்பால் (நீளம் தாண்டுதல்) தற்போது நீக்கப்படுவதாக இந்திய தடகள கூட்டமைப்பு செயலாளர் லலித்பனோட் நேற்று முன்தினம் அறிவித்துள்ளார்.




கூடைப்பந்து என்றாலே மேஜிக் ஜான்சனையும், மைக்கேல் ஜோர்டனையும் தெரியாதவர்கள் இருக்கமாட்டார்கள். கனவு அணி என வர்ணிக்கப்பட்ட அமெரிக்க குழுவில் கிவர்கள் கிடம்பெற்று 1992 பார்சிலோனா போட்டியில் பங்கேற்றனர். அதில் தங்கப்பதக்கம் யாருக்கு

விருந்துக்கு கலாம் அழைப்பு

இந்தியாவின் நட்சத்திர கிரிக்கெட் வீரர் வீரேந்திர சேவாக்கிற்கு இந்திய ஜனாதிபதி அப்துல் கலாம் அழைப்பு விடுத்ததுள்ளார்.

சுதந்திர தின விழாவையொட்டி இந்திய ஜனாதிபதி பல துறைகளில் சாதனை படைத்தவர்களுக்கு விருது வழங்கியும், விருந்து வழங்கியும் கௌரவிப்பது வழக்கமாகும் இந்திய கிரிக்கெட் வீரரான வீரேந்திர சேவாக்கு



டெஸ்ட் போட்டியில் 300 ஓட்டங்களை எடுத்து சாதனை படைத்தவர். இதனைப் பாராட்டும் வகையிலேயே ஜனாதிபதி கலாம் சேவாக்கிற்கு அழைப்பு விடுத்திருப்பது குறிப்பிடத்தக்கது.



எதென்ஸ் ஒலிம்பிக்கைக் குறிக்கும் வகையில் ஒரிசாவில் உள்ள புரி கடற்கரையில் தனது திறமையை வெளிப்படுத்துகிறார் சர்வதேசப் புகழ் பெற்ற சிற்பக் கலைஞர் சுதர்ன் பட்நாயக்.

சொீனாவுக்கு மூட்டு வலி ஒலிம்பிக்கை விட்டு விலகினார்

“இது கால் மூட்டுவலி காரணமாக எதென்ஸ் ஒலிம்பிக் மகளிர் ஒற்றையர் டென்னிஸிலிருந்து விலகுகிறார் அமெரிக்காவின் சொீனா வில்லியம்ஸ். அதையடுத்து, அவுஸ் திரேலியர்வின் சமந்த் ஸ்டெளசுக்கு எதென்ஸ் ஒலிம்பிக்கில் பங்கேற்கும் வாய்ப்பு கிடைத்துள்ளது.”

மகளிர் இரட்டையர் பிரிவில் முத்த சகோதரி வீனஸ்டன் இணைந்து விளையாடுவதாக இருந்தார் சொீனா.

தற்போது அவருக்குப் பதிலாக யார் இப் பிரிவில் பங்கேற்பார்கள் என்பது குறித்து அமெரிக்கா ஆலோசித்து வருகிறது.

2000 சிட்னி ஒலிம்பிக்கில் வீனஸ், சொீனா சகோதரிகள் இரட்டையர் பிரிவில் தங்கம் வென்றனர். ஒற்றையர் பிரிவில் வீனஸ் தங்கம் வென்றார்.

விளையாட்டு செய்திகள்

ATHENS 2004
XXVIII OLYMPICS 13-29 AUGUST

ஒலிம்பிக் இன்று ஆரம்பம்

முரளி தனிமைப்படுத்தப்பட்டு பலிக்கடாவாக்கப்படுகிறார்

ரவிசாஸ்திரி குற்றச்சாட்டு

இலங்கையின் சுழற்பந்து வீச்சாளர் முத்தையா முரளிதரன் ஆசியாவைச் சேர்ந்தவர் என்பதாலும், வெற்றிகரமான பந்துவீச்சாளராக இருப்பதாலும் தனிமைப்படுத்தப்படுகிறார், பலிக்கடாவாக்கப்படுகிறார் என்று இந்திய முன்னாள் கிரிக்கெட் வீரரான ரவிசாஸ்திரி குற்றஞ்சாட்டியிருக்கிறார்.

முன்னாள் கிரிக்கெட் வீரரும், தொலைக்காட்சி வர்ணனையாளருமான ரவிசாஸ்திரி பெங்களூரில் நிருபர்களைச் சந்தித்தபோது மேற்கண்டவாறு தெரிவித்தார்.

அவர் மேலும் கூறுகையில், இலங்கையின் சுழல் பந்துவீச்சாளரான முத்தையா முரளிதரன் தனது அபாரமான பந்துவீச்சால் டெஸ்ட் மற்றும் ஒருநாள் போட்டியில் இலங்கை அணிக்கு பலமுறை வெற்றிபெற்றுத் தந்திருக்கிறார்.

தவிர டெஸ்ட் மற்றும் ஒருநாள் போட்டிகளில் பல சாதனைகளையும் படைத்திருக்கிறார். டெஸ்ட் போட்டியில் அவர் அதிக விகிதவாசனைகளை வீழ்த்தி உலக சாதனை படைத்துள்ளமை குறிப்பிடத்தக்கது.


இலங்கை அணியின் முக்கிய வீரர் மற்றும் முத்த வீரர்களில் ஒருவராக திகழும் முத்தையா முரளிதரன் தனது அபாரமான சுழற்பந்துகளால் எதிரணி தடுப்பாட்டக்காரர்களை திணறடிக்கக் கூடியவர்.

இலங்கை அணிக் கப்டன் அர்ஜுன ரணதுங்க தலைமையில் வென்ற உலகக் கோப்பை அணியில் முரளிதரன் இடம்பெற்றிருந்தமை குறிப்பிடத்தக்கது.

முத்தையா முரளிதரன் வலதுகையால் பந்துவீசும் வழக்கமுடையவர். சிறுவயதில் அவருக்கு போலியோ நோய் தாக்கப்பட்டதால் வலதுகையில் சிறிது பாதிப்பு ஏற்பட்டது. எனவே அவரது பந்துவீச்சு சர்ச்சையை கிளப்பியது. ரணதுங்க கப்டனாக இருந்தபோது, இலங்கை அணி, அவுஸ்திரேலியாவிற்குச் சற்றுப்பயணம் மேற்கொண்டது. அப்போது அவுஸ்திரேலிய நடுவர், முரளிதரன் பந்தை வீசவில்லை, பந்தை எறிகிறார் என்று குற்றஞ்சாட்டினார்.

பின்னர், கப்டன் அர்ஜுனரணதுங்க அதற்கு கரும் கண்டனம் தெரிவித்தார். அணி வீரர்களின் ஒருமித்த ஆதரவால் அப்போது முடிவுக்கு வந்தது. பின்னர் இடையிடையே இப்பிரச்சினை கிளம்பி வருகிறது. அவரது பந்துவீச்சு குறித்து இன்னும் சர்ச்சைகள் எழுந்துகொண்டே தான் இருக்கின்றன.

முத்தையா முரளிதரன் ஆசிய நாட்டைச் சேர்ந்தவர் என்பதாலும், அவர் ஒரு வெற்றிகரமான பந்துவீச்சாளர் என்பதாலும், அவரது புகழையும், முன்னேற்றத்தையும் மறைக்கவே அவர்மீது குற்றஞ்சாட்டப்பட்டு தனிமைப்படுத்த முயற்சி நடக்கிறது. அவரை பலிக்கடாவாக்கப் பார்த்துக்கொள்ளும் என்று கூறினார்.



மெய் சிலிரிக்கத் தொண்டாற்று மெய் சிலிரிக்க வாழாதே

கண்ணடியின் பின் புறத்தில்
பாதரசம் இருந்தால் தான் எமது



முகம் அதில் தெரியும். அந்தப்
பாதரசம்தான் இறைவனின் அருள்.
கண்ணாடி நிழலில் இருந்தால் பின்
புறம் உள்ள பாதரசம் நீண்டநாள்
நீடிக்கும். வெயிலில் நீண்டநாட்கள்
நீடிக்காது. உன்முகமும் தெரியாது.
அதுபோல் எமது வெளி வேஷமும்
நீண்ட நாளுக்கு நிலைக்காது.

ஆலயமணி தலை கவிழ்த்திருந்
தாலும் அதன் நாதமோ தொலை
தூரம் வரை கேட்கும். அதைப்போல்
நாமும் அடக்கமானவராகவே
இருக்க வேண்டும். ஆத்திகம் பேசிக்
கொண்டு பேர், புகழ், சுயநலம் என்ப
வற்றிற்காக அலைபவனைவிட,
பொதுநலம் கருதி அடக்கமாக

உழைக்கின்ற நாத்திகள் மேலான
வன். அடக்கமாக உழைக்கின்ற
நாத்திகள் மேலானவன்.

தூய உணர்வோடும், பயபக்தி
யோடும், தனி உரிமைகோராமலும்
தொண்டு செய்யவேண்டும். பொன்,
பொருள், பந்தம் என்ற மூட்டை
களைச் சமக்காமல் பொறுப்புணர்
வோடு தொண்டு செய்யவேண்டும்.
ஆன்மீகத்தில் கசப்பும் உண்டு.
எதிர்ப்பும் உண்டு. இவற்றைப்
பொருட்படுத்தாமல் ஆன்மீக ஈடு

என் குடும்பம், என் பிள்ளை என்று
நினைப்பதுபோல மற்றோரையும்
நினைத்தல் வேண்டும். அடுத்தவர்
கள். எம்க்கு என்ன செய்தனர் என்று
நினைப்பதை விடுத்து நான் அடுத்த
வருக்கு என்ன செய்தேன் என்று
நினைக்கவேண்டும்.

எல்லோரையும் இணைத்துக்
கொண்டே தொண்டாற்று
வேண்டும். இவனால் என்ன நன்மை
என்று நினைத்தல் கூடாது.
செல்லாத காசாயினும் அதிலும்

வேள்ளி நற்சிந்தனை

பாட்டுடன் தொண்டு செய்யவேண்
டும். தொண்டு தொண்டாக இருக்க
வேண்டுமே தவிர தொழிலாக
இருக்கக் கூடாது.

ஏற்றத் தாழ்வு இல்லாமலும்,
தாழ்வு மனப்பான்மை இல்லாமலும்
தொண்டு செய்யவேண்டும். ஆண்ட
வனுக்காகவும், அடிகளாருக்காக
கவும் தொண்டு செய்கிறேன் என்று
நினைக்கக் கூடாது. பலகோடி பக்
தர்களுக்காகத் தொண்டு செய்கி
றோம் என்று நினைக்கவேண்டும்.
யாரிடத்திலும் காழ்ப்புணர்ச்சி காட்
டக் கூடாது. அது எம் கைக்கு விவக்
காக அமையும்.

செப்பு உண்டு அல்லவா?

என்றைக்கும் தொண்டனாகவே
இரு. எஜமானாக மாற்றினைத்து
எனனாக மாறாதே. மாறாகத் தொண்
டனுக்கும் தொண்டனாகத்
தொண்டு செய்தால் என்னுக்கே
எனனாக மாறிவிடுவாய்.

குளித்தால் உடம்பில் உள்ள
அழுக்குத்தான் நீங்கும். மன
அழுக்குகள் போகாது, அந்த மன
அழுக்குகள் நீங்கி உள்ளத்
தூய்மையை அடைவதற்கு ஆன்
மீக ஈடுபாடே மிகச்சிறந்தது.

எல்லாப் பாவங்களையும் இறை
வன் மன்னித்துவிடுவான். ஆனால்

இராஜதந்திரிகள் சேவைக்கு பட்டதாரிகளை நியமிக்கமுடிவு

வெளிநாட்டலுவல்கள் அமைச்சு அறிவிப்பு

(கொழும்பு)

இராஜதந்திரிகள் சேவைக்கான
ஆட்சேர்ப்புக்காகப் புதிய கொள்கை
வகுக்கப்பட்டுள்ளதாக வெளிநாட்டு
வல்கள் அமைச்சுத் தெரிவித்துள்ளது.

கடந்த காலத்தில் முறையற்ற
விதத்தில் பல நியமனங்கள் வழங்க
கப்பட்டதால், இராஜதந்திரிகளுக்
கான சேவையின் செயல்திறன்,
ஆக்கத்திறன் ஆகியவற்றில் எதிர்
மறைத்தாக்கங்கள் ஏற்பட்டன.

இதனால், எதிர்வருங்காலங்
களில் வெளிநாடுகளில் உள்ள
இலங்கைத் தூதரகங்களில் பணி
யாற்றும் ஊழியர்களின் எண்ணிக்
கையைக் குறைத்து 50 கோடி
ரூபா முதல் 80 கோடி ரூபாவரை
சேமிப்பதற்கு திட்டமிடப்பட்டுள்ளது.

அரசியல் தலையீட்டால் நிய
மனம் பெற்றவர்களும் போதிய
தகைமைகள் இல்லாதவர்களும்
திருப்பி அழைக்கப்படுவார்கள்.

வெளிநாடுகளில் உள்ள
இலங்கைத் தூதரகங்களில் பணி
யாற்றுவதற்கு தகுதிவாய்ந்த பட்ட
தாரிகளை அனுப்புவதற்கு
அமைச்சு முடிவு செய்துள்ளது.

இதற்கான விண்ணப்பங்களை
விரைவில் அமைச்சு கோரும் என
வெளிநாட்டு அலுவல்கள்
அமைச்சு மேலும் தெரிவித்துள்
ளது. (உ.-க-60)

மட்டு, அம்பாறை மாவட்டங்களில் 25 பேர் இதயவரை சுட்டுக்கொலை

(மட்டக்களப்பு)

இவ்வருட ஆரம்பத்திலிருந்து
நேற்றுமுன்தினம் வரை மட்டக்
களப்பு அம்பாறை மாவட்டங்களில்
25 பேர் சுட்டுக்கொல்லப்பட்டுள்ள
ததாகத் தெரிவிக்கப்படுகின்றது.

நேற்றுமுன்தினம் மாலை இராணுவ
வத்திரால் வெளிப்பிட்ட அறிக்கை
யில் இததகவல் வெளியாகியுள்ளது.
இதில் 13 பொதுமக்கள், 8 அரசியல்வாதிகள், இராணுவத்திற்கு
தகவல் வழங்கிய ஒருவர், புலனாய்வு
த்துறை அதிகாரிகள் இருவர் மற்றும்
ஒரு பொலீஸர் அடங்குவர் என அவை
அறிக்கையில் குறிப்பிடப்பட்டுள்ளது.

இதேவேளை, புரிந்துணர்வு ஒப்ப
ந்தம் கைச்சாத்தான காலப்
பகுதியிலிருந்து நேற்று முன்தினம்
வரை 223 பேர் சுட்டுக் கொல்லப்
பட்டுள்ளனர். இதில் 7பேர் புலனாய்வு
த்துறையைச் சேர்ந்தவர்கள், 11
பேர் படைத்தரப்பினர் என இராணுவ
வத்திரால் வெளிப்பிட்ட அறிக்கை
யில் தெரிவிக்கப்பட்டுள்ளது. (ச)

இலங்கை மக்களின் விருப்பப்படி யே

இறுதித் தீர்வு அமைய வேண்டும்

இந்திய மாக்ஸ்ஸீட் கம்யூனிஸ்ட் கட்சி

(கொழும்பு)

இலங்கை மக்களின் தேவை
கள், தீர்மானங்கள் என்பவற்றின்
அடிப்படையிலேயே அந்நாட்டின்
இனப்பிரச்சினைக்கு இறுதித்
தீர்வுகள் உருவாக்கப்பட வேண்
டும்.

அத்துடன் இந்தத் தீர்வு இலங்
கையின் ஐக்கியம், ஆப்புல ஒரு
மைப்பாடு, இறைமை ஆகியவற்
றையும் சிறுபான்மையினரின்
கௌரவத்தையும் கட்டிக் காப்ப

தாக அமையவேண்டும் என இந்
திய மாக்ஸ்ஸீட் கம்யூனிஸ்ட்
கட்சியின் அரசியல் பீட உறுப்பின
ரான கீத்தாராம் யஸ்வே தெரிவித்
துள்ளார்.

இலங்கை கம்யூனிஸ்ட் கட்சி
யின் ஏற்பாட்டில் கொழும்பில்
நடத்தப்பட்ட கருத்தரங்கில் கலந்து
கொண்டு உரையாற்றுகையி
லேயே அவர் இதனைத் தெரிவித்
தார்.

அவர் அங்கு தொடர்ந்தும் கூறு

கையில்,

இலங்கையின் இனப்பிரச்சினை
க்கு சமாதானப் பேச்சுவார்த்தை
முலமே தீர்வு காணப்படவேண்டும்.

இந்த வகையில், இலங்கை
அரசு தமிழீழவிடுதலைப்புலிகளை
பேச்சுவார்த்தை மேசைக்கு உடன
டியாக கொண்டு வரவேண்டும்.

இலங்கை அரசின் சமாதான
நடவடிக்கைகளுக்கு இந்தியா
புரண ஒத்துழைப்பை வழங்கும்
என்றார். (உ.-க-60)

பி.கூ. ஊழியர்கள் ஆர்ப்பாட்டம்

(மட்டக்களப்பு)

மட்டக்களப்பு பெற்றோலியக்
கூட்டுத்தாபன ஊழியர்கள் நேற்று
முன்தினம் நண்பகல் ஒரு மணி
நேர ஆர்ப்பாட்டத்தில் ஈடுபட்டனர்.

ஊழியர்களின் சம்பள உயர்வு,
தற்காலிக ஊழியர்களை நிரந்தர
மாக்குதல் ஆகிய கோரிக்கை
களை முன்வைத்தும், இந்திய நிறு
வனம் ஒன்றிற்கு பெற்றோலியக்
கூட்டுத்தாபனத்தைக் கையளித்
தமைக்கு எதிர்ப்புத் தெரிவித்துமே
ஊழியர்கள் ஆர்ப்பாட்டத்தில் ஈடு
பட்டனர்.

முற்பகல் 12 மணி முதல் 1
மணிவரை நடைபெற்ற இந்த ஆர்ப்
பாட்டத்தில் பெரும் எண்ணிக்கை
யிலான ஊழியர்கள், கூட்டுத்தாபன
அலுவலகத்திற்கு முன்னாள் இந்த
ஆர்ப்பாட்டத்தை நடத்தினர். (ச)

கால் விவையேற்றும்

கண்டித்து ஆர்ப்பாட்டம்

கால் விவையின் அதிகரிப்பைக்
கண்டித்து நேற்றுமுன்தினம் அனு
ராதபுரம் பெற்றோலியக் கூட்டுத்
தாபனத்திற்கு முன்னாள் அங்கு
பணிபுரியும் பணியாளர்கள் ஆர்ப்
பாட்டத்தில் ஈடுபட்டனர். ஆர்ப்பாட்டத்
தில் ஈடுபட்டவர்கள் பதார்த்தகாரிணை
ஏந்தியவாறு அரசாங்கத்திற்கும்
ஜே.வி.பிக்கும் எதிராக கோஷங்
களை எழுப்பினார்கள்.

அரசாங்கம் கொடுத்த உறுதி
மொழிகளை நிறைவேற்றாது அத்தி
யாவசியப் பொருட்களின் விலை
களை அதிகரிப்பதாகவும் செலவு
அதிகரித்துள்ள வேளையில்
காலின் விலையும் அதிகரிக்கப்பட்டு
இருப்பதாகவும் ஆர்ப்பாட்டத்தில்
ஈடுபட்டவர்கள் சுட்டிக்காட்டினர்.

(உ)

மணிக் கூட்டுக் கோபுரம்

(பருத்தித்துறை)

வடமராட்சி கிழக்கு அம்பன்
பெரியமான் விநாயகராலயத்
திற்கு சுமார் 5 இலட்சம் ரூபா
செலவில் மணிக்கூட்டுக் கோபுரம்
நிர்மாணிக்கப்பட்டு வருகின்றது.

டென்மார்க்கில் வசிக்கும் அம்
பனைச் சேர்ந்த ஒருவர் இந்த நிதி
புதலியை வழங்கியுள்ளார். (உ-52)

ஆங்கிலதினப் போட்டிகள்

(யாழ்ப்பாணம்)

யாழ்ப்பாணம் ஆங்கிலதினப்
போட்டிகளுக்கான தனி நிகழ்வு
கள் யாவும் எதிர்வரும் 23 ஆம்
திகதி வேம்படி மகளிர் கல்லூரி
யிலும் குழு நிகழ்வுகள் யாவும்
மறுதினம் யா/சன்கூட்டுக்குழி மகளிர்
கல்லூரியிலும் நடைபெறுமென
யாழ்ப்பாணம் வலயக் கல்விப் பணிப்பாளர்
அறிவித்துள்ளார். (உ-19)

அமைச்சரின் அலுவலகம் அருகே

வெடி வொருட்கள் மீட்டி

(நுவரெலியா)

நுவரெலியா மாவட்ட தோட்ட
உட்கட்டமைப்பு அமைச்சு ரி.பி.
ரத்தனாயக்காவின் அமைச்சு அலுவலகத்திற்கு அருகில் வெடி
வொருட்கள் மீட்கப்பட்டுள்ளன.

அமைச்சின் அலுவலகத்திற்கு
அருகில் வெடிவொருட்கள் இருப்ப

தாக பொலீஸாருக்குக் கிடைத்த
தகவலையடுத்து அங்கு சென்ற
பொலீஸார் அதனை மீட்டுள்ளது
டன் இது தொடர்பாக விசாரணை
களை ஆரம்பித்துள்ளதாகவும் நுவ
ரெலியா பொலீஸ் அத்தியட்சகர்
தெரிவித்தார். (உ.-க)

பகுதி நேர ஆங்கில

ஆசிரியருக்கு ஆட்சேர்ப்பு

(யாழ்ப்பாணம்)

யாழ்ப்பாணம் பாடசாலைகளில்
நிலவும் ஆங்கில ஆசிரியர் பற்றாக்
குறையை நிவிர்த்தி செய்யும்
நோக்கில் க.பொ.த. உயர்தரப்
பரீட்சையில் சித்தியும், சாதாரண
தர ஆங்கில மொழியில் 'ஐ'
அல்லது 'ஏ' தரத்தில் சித்தியும்
கொண்டவர்களிடமிருந்து பகுதி

நேர ஆங்கில ஆசிரியர் பதவிக்
கான விண்ணப்பங்கள் கோரப்பட்டுள்ளன.

விரும்புவோர் சுயவிபரங்களு
டன் விண்ணப்பங்களை இம்
மாதம் 25 ஆம் திகதிக்கு முன்
தமக்கு அனுப்பிவைக்கும்படியும்
யாழ்ப்பாணம் வலயக் கல்விப் பணிப்பாளர்
அறிவித்துள்ளார். (உ-19)

தரம்-5 புலமைப்பரிசில்

பயிற்சி வினாத்தாள்

இல: 24 ஆக்கம்: சுந்தர் வெளியீடு

01. விழித்தெழுவிர்!

கூழலைப் பாதுகாப்பேறும்

சுற்றப்புறச் கூழலைப் பாதுகாக்கும் வழிமுறைகள்

காடுகளை அழிப்பதைத் தடை செய்ய வேண்டும்.

வீட்டுக்கு இரண்டு மரங்களை வளர்க்க வேண்டும்.

நகரங்களில் இருக்கும் தொழிற்சாலைகளை நகரங்களில் இருந்த வெளியே அமைத்த சுற்றப்புறச் கூழலைப் பாதுகாக்க வேண்டும்.

தொழிற்சாலைகளில் இருந்த வெளியாகும் தீங்கு விளைவிக்கும் புகை மற்றும், இரசாயனத்தைக் குறைக்க வேண்டும்.

தொழிற்சாலைகளில் இருந்த வரும் இரசாயனக் கழிவுகள் நீர் நிலைகளில் சேருவதற்குத் தடை விதிக்க வேண்டும்.

-சுற்றப்புறச் சூழல் பாதுகாப்பு அமைப்பு

(i) இங்கு காட்டப்பட்டுள்ளது

1) விளம்பரம் 2) சுவரொட்டி 3) கட்டுரை 4) அழைப்பிதழ்

(ii) இது வலியுறுத்தும் பிரதான கருத்து

1) மரப் பாதுகாப்பு 2) சூழல் பாதுகாப்பு
3) கழிவுகளின் பாதுகாப்பு 4) கழிவுக் கால்வாய்களின் பாதுகாப்பு

(iii) இங்கு குறிப்பிடப்பட்டுள்ள "விழித்தெழுவிர்" என்பதன் கருத்து

1) அதிகாலையில் நித்திரை விட்டுமலல்
2) எப்போதும் விழிப்பாக இருத்தல்
3) சூழல் பாதுகாப்பின் அவசியம் பற்றி தெளிவான விளக்கத்துடன் செயற்படல்
4) சூழல் பாதுகாப்பு பற்றி சபையோருக்கு எடுத்துச் சொல்லல்

(iv) கீழ்வரும் செய்திபாடுகளில் எது சூழல் பாதுகாப்புடன் ஒத்துப்போகின்றது.



(1)



(2)



(3)



(4)

(v) கீழ்வரும் கூற்றுக்களுள் எது மேலே தரப்பட்டுள்ள கருத்துடன் ஒத்துப்போகின்றது

1) பாரிய தொழிற்சாலைகளை நகரங்களில் அமைத்தல்
2) வீடுகளில் காணப்படும் பெரிய மரங்களைத் தறித்தல்
3) வீட்டுக் கழிவுகளை வீட்டுக்கண்மையில் கொட்டுதல்
4) வீட்டைச் சூழ்ந்து காணப்படும் திறந்த நிலையில் நீண்ட காலமாக நிர் தேங்கியுள்ள பாத்திரங்கள், சிரட்டைகளை அழித்தல்

02. கீழ்வரும் சொற்களின் கருத்தை வெளிப்படுத்தும் சொற்கள் மேலே உண்டு. அவற்றைத் தெரிவு செய்து புள்ளிக் கோட்டில் எழுதுக.

(i) வனம் :

(ii) விருட்சம் :

(iii) தகுந்த :

(iv) அபாயம் :

03. கீழ்வரும் சொற்களின் எதிர்க் கருத்தை வெளிப்படுத்தும் சொற்களை மேலே உள்ள பகுதியில் கிருந்து தெரிவு செய்து எழுதுக.

(i) ஆக்குதல் : (ii) பாவனை :

(iii) கிராமம் : (iv) அதிகரித்தல் :

04. கீழே உள்ள கிடைவெளிகளைச் சரியான சொல்லைக் கொண்டு நிரப்புக.

(i) நாளை வீட்டுக்கு வருவேன்.
(ii) இன்று பாடசாலைக்கு வரமாடான்.
(iii) இன்று கோவிலுக்கு வருவாயா?
(iv) எல்லோரும் ஓடி விளையாடினார்கள்.
(v) வரிசையாகச் செல்லுங்கள்.

05. கீழே உள்ள வாக்கியங்களில் தடித்த எழுத்தில் உள்ள சொற்கள் சார்பாக சரியான விடையைத் தெரிவு செய்க.

(i) வரன் பாடசாலைக்குச் சென்றான்
1) ஆண்பால் 2) பெண்பால் 3) ஒன்றன் பால்
(ii) வயல் வெளியில் மாடு புல் மேய்ந்தது
1) ஆண்பால் 2) பெண்பால் 3) ஒன்றன்பால்
(iii) கலை விழாவில் கஸ்தூரி பாட்டுப் பாடினாள்
1) ஆண்பால் 2) பெண்பால் 3) பலர்பால்
(iv) துரையப்பா விளையாட்டரங்கில் விளையாட்டு வீரர்கள் அணியணியாகச் சென்றார்கள்.
1) ஒருமை 2) பன்மை 3) அ.றிணை
(v) மேசையின் மீது புத்தகம் விரித்தபடி இருந்தது
1) ஒருமை 2) பன்மை 3) உயர்திணை

06. கீழ்வரும் சொற்களை ஒழுங்குபண்ணி கருத்து நிறைந்த வாக்கியம் அமைக்க.

(i) காயம்பட்டி/ வைத்தியர்கள்/ கவனமாகப் / நோயாளியை/ பரிசோதித்தனர்

(ii) கோயிலுமில்லை/ சிறந்ததொரு/ தாயிற் / மந்திரமில்லை / மிக்க / தந்தை சொல்

07. கீழே சில பாடல்களின் முதல்வரி தரப்படுகின்றது. கிடை என்ன பாடல் வகை என அருகே உள்ள கிடைவெளியில் எழுதுக.

(i) வாழ்க நிரந்தரம் வாழ்க தமிழ் மொழி
வாழிய வாழியவே
(ii) சிறீ லங்கா தரயே - நம் சிறி லங்கா
நமோ நமோ நமோ நமோ தாயே
(iii) சிறு நண்டு மணல் மீது படமொன்று கீறும்
சிலவேளை அதை வந்து கடல் கொண்டு போகும்

08. கீழ்வரும் கூற்றுக்கள் சரியாயின் (✓) எனவும், பிழையாயின் (x) எனவும் எதிரேயுள்ள கூட்டுக்குள் அடையாளமிடுக?

(i) பொருட்களுக்கான விளம்பரம் அப்பொருட்களின் விற்பனையை அதிகரிக்கும்
(ii) கிராமங்களைவிட நகரங்களில் குறைந்தளவு வசதிகளே காணப்படுகின்றன.
(iii) அமாவாசையன்று இரவில் சந்திரனின் முழுமையான பிரகாச மான பாகத்தைக் காணலாம்
(iv) எல்லா வகையான பூச்சி இனங்களும் தாவரங்களுக்கு தீமையையே விளைவிக்கின்றன.
(v) துவிச்சக்கர வண்டி ஓட்டும்போது தலைக்கவசம் அணிதல் வேண்டும்

09. மிகவும் சரியான விடையைத் தெரிவு செய்து அதன் கீழ்க் கோடுக.

(i) ஜப்பான் நாட்டின் தலைநகரம்
1) புதுடில்லி 2) டோக்கியோ 3) ஸ்ரீ ஜெயவர்த்தனபுர 4) திம்பு
(ii) மத்திய மாகாணத்தில் உள்ள நகரம்
1) யாழ்ப்பாணம் 2) கொழும்பு 3) கண்டி 4) குருநகல்

(iii) காற்றினால் இசைக்கக்கூடிய இசைக்கருவி




(1)




(2)





(3)


(vi)  அருகே உள்ள படத்தின் மூலம் வெளிக்காட்டப்படும் அமைப்பு


(vi)  அருகே காட்டப்பட்டுள்ள கருவி பயன்பாடு?


1) காற்றடித்தல் 2) மருத்துவம் 3) எண்ணெய் சேமிப்பு 4) தீயணைப்பு


10. (i)  பெயர்: பயன்:


(ii)  பெயர்: பயன்:


(iii)  பெயர்: பயன்:

(iv)  பெயர்: பயன்:

(v)  பெயர்: பயன்:

(vi)  பெயர்: பயன்:


(vii)  பெயர்: பயன்:


(viii)  பெயர்: பயன்:


(ix)  பெயர்: பயன்:


(x)  பெயர்: பயன்:


(xi)  பெயர்: பயன்:

(xii)  பெயர்: பயன்:


(xiii)  பெயர்: பயன்:


(xiv)  பெயர்: பயன்:


(xv)  பெயர்: பயன்:

(xvi)  பெயர்: பயன்:


(xvii)  பெயர்: பயன்:


(xviii)  பெயர்: பயன்:

(xix)  பெயர்: பயன்:

(xx)  பெயர்: பயன்:

(xxi)  பெயர்: பயன்:

(xxii)  பெயர்: பயன்:

(xxiii)  பெயர்: பயன்:

(xxiv)  பெயர்: பயன்:

(xxv)  பெயர்: பயன்:

எல்லோரும் ஓடி விளையாடினார்கள்.
வரிசையாகச் செல்லுங்கள்.
எவாக்கியங்களில் தடித்த எழுத்தில் உள்ள
பாக சரியான விடையைத் தெரிவு செய்க.
பாலைக்குச் சென்றான்
2) பெண் பால் 3) ஒன்றன் பால்
ளியில் மாடு புல் மேய்ந்தது
2) பெண் பால் 3) ஒன்றன்பால்
ழாவில் கஸ்தூரி பாட்டுப் பாடினான்
2) பெண் பால் 3) பலர்பால்
பா விளையாட்டரங்கில் விளையாட்டு
ணியணியாகச் சென்றார்கள்.
2) பன்மை 3) அ.றிணை
மீது புத்தகம் விரித்தபடி இருந்தது
2) பன்மை 3) உயர்திணை
சொற்களை ஒழுங்குபண்ணி கருத்து நிறைந்த
மைக்க.
/ வைத்தியர்கள்/ கவனமாகப் /நோயாளியை/
னர்
மில்லை/ சிறந்ததொரு/ தாயிற் /மந்திரமில்லை
தை சொல்
பாடல்களின் முதல்வரி தரப்படுகின்றது. இவை என்ன
என அருகே உள்ள கிடைவெளியில் எழுதுக.
ந்தரம் வாழ்க தமிழ் மொழி
பவே
தாயே - நம் சிநி லங்கா
நமோ நமோ தாயே
டு மணல் மீது படமொன்று கீறும்
தை வந்து கடல் கொண்டு போகும்
கூற்றுக்கள் சரியாயின் (✓) எனவும், பிழையாயின்
தரேயுள்ள கூட்டுக்குள் அடையாளமிடுக?
நக்கான விளம்பரம் அப்பொருட்களின்
யை அதிகரிக்கும்
களைவிட நகரங்களில் குறைந்தளவு வசதிகளை
டுகின்றன.
செயன்று இரவில் சந்திரனின் முழுமையான
ன பாகத்தைக் காணலாம்
கையான பூச்சி இனங்களும் தாவரங்களுக்கு
பயே விளைவிக்கின்றன.
கர வண்டி ஓட்டும்போது தலைக்கவசம் அணிதல்

ரியான விடையைத் தெரிவு செய்து அதன் கீழ்க்
பாட்டின் தலைநகரம்
2) டோக்கியோ 3) ஸ்ரீ ஜெயவர்த்தனபுர 4) திம்பு
பாகாணத்தில் உள்ள நகரம்
எம் 2) கொழும்பு 3) கண்டி 4) குருநகல்

- வெளிக் காட்டப்படும் அமைப்பு யாது?
1) காற்றாடி 2) காற்று வேகமானி
3) அழுக்கமானி 4) காற்றுத் திசைகாட்டி
அருகே காட்டப்பட்டுள்ள கருவிகளின்
பயன்பாடு?
1) காற்றடித்தல் 2) மருந்து விசிறுத்தல்
3) எண்ணெய் சேமிப்பு 4) தீயணைத்தல்
10. (i) பெயர்:
பயன்:
- (ii) பெயர்:
பயன்:
- (iii) பெயர்:
பயன்:
- (iv) பெயர்:
பயன்:
- (v) பெயர்:
பயன்:

	வாகனங்கள் செல்லாமல் வாகனங்கள் செல்ல முடியாது. தரித்து நிற்கவும் புறப்பட ஆயத்தமாகுமா
--	---

அருகே உள்ள படத்தில் விதிப்போக்குவரத்தைக் கட்டுப்படுத்தும்
விதிச்சமிக் கை மின்விளக்கும் அவை மூலம் வெளிப்படுத்தப்படும்
கட்டளைகளும் தரப்பட்டுள்ளன. ஆனால், இவை ஒழுங்கு முறைப்படி
தரப்படவில்லை. கீழே தரப்பட்டுள்ளவாறான மின்குமிழ் ஒளிர்வுகள்
வெளிப்படுத்தும் கட்டளைகளை எழுதுக?
11. (i) சிவப்பு விளக்கு ஒளிர்ந்தல்
(ii) சிவப்பு விளக்குடன் மஞ்சள் விளக்கும் ஒளிர்ந்தல்
(iii) பச்சை விளக்கு ஒளிர்ந்தல்
(iv) சிலவேளைகளில் படத்தில் உள்ள
வாறு சிவப்பு வெளிச்சத்துடன்
பச்சை அம்பு வெளிச்சமும் காணப்
படும். இவ்வாறு தென்படும் போது யாது செய்தல் வேண்டும்?
(v) விளக்குகளினால் விதிப்போக்குவரத்து ஒழுங்கு கட்டுப்படுத்த
படுவது போன்று வேறு எம்முறையால் விதிப்போக்குவரத்து கட்டு
ப்படுத்தப்படுகின்றது?
12) கீழே கிரு நிரல்களில் தகவல்கள் தரப்பட்டுள்ளன. அதில் முத
லாவது நிரலில் சில தொழில் முயற்சிகளும் கிராண்டாவது நிரலில் அத்
தொழிலின் விளை பொருட்களும் தரப்பட்டுள்ளன. தொழிலுடன் விளை
வுப் பொருட்களை கிணைக்குக. இதற்கு குறித்த தொழிலுக்குரிய
விளைபொருளின் கிணைக்கத்தை நடுவேயுள்ள கூட்டிலுள் எழுதுக.
நிரல் 1 நிரல் 2
(1) கால்நடை வளர்ப்பு 1.கடல் அட்டை,மீன் எண்ணெய்
(2) மீன் பிடிக்கைத்தொழில் 2. தும்புத்தடி, விளக்குமாறு
(3) தும்புக்கைத்தொழில் 3 யோகட், வெண்ணெய்
(4) பின்னூதல், இழைத்தல் 4. பெட்சீட், சாரம்
(5) நெசவுத்தொழில் 5பாய், பெட்டி கடகம்

14) கீழே மின்னளவின் உடல் நிகழும் தொழில்களும் அவற்றைத் தொடர்புடைய அளக்களும் உள்ளு
தரப்பட்டுள்ள தொழில்களுக்குரிய சரியான அளக்கத்தை குறிக்கும் விடையின் எண் (X) புள்ளி குக.

	1 இதயம்	2 முளை	3 இரைப்பை	4 நரையீரல்	5 தோல்
(i) சமீபாடு	1	2	3	4	5
(ii) கவாசம்	1	2	3	4	5
(iii) இரத்தடி	1	2	3	4	5
(iv) சிந்தனை	1	2	3	4	5
(v) பாதுகாப்பு	1	2	3	4	5

மீள்வரும் வினாக்களுக்கு விடை எழுத கீழ்வரும் அட்டவணையை அவதானிக்குக.

ரூப 56.00	ரூப 38.00	ரூப 52.00	ரூப 62.00

(i) 1 கிரோவிராம் பூசனியின் விலை யாது?
(ii) 1 கிரோவிராம் கத்தரிக்காயின் விலை யாது?
(iii) 1 கிரோவிராம் தக்காளிக்காயின் விலை யாது?
(iv) 1 கிரோவிராம் மிளகாயின் விலை யாது?
(v) மிகவும் குறைந்த விலையுடைய மரக்கறி எது?
(vi) கூடிய விலையுடைய மரக்கறி வகையில் இரண்டு கிரோவிராம்
வாங்குவதற்கு எவ்வளவு பணம் தேவைப்படும்?
(vii) மேற்படி மரக்கறிவகையில் ஒரு கிரோவிராம் வாங்கும் போது
எந்த மரக்கறி எண்ணிக்கையில் அதிகமாகக் கிடைக்கும்?
(viii) மேற்படி மரக்கறி வகைகளுள் கொடியின் மரக்கறிவகை எது?
(ix) மேற்படி மரக்கறி வகைகளுள் மூலையில் விளையாடக்கூடியது எது?
(x) 100 ரூப பணத்தைக் கொடுத்து மிளகாய் ஒரு கிரோவிராம் தக்காளிக்காய்
1 கிரோவிராம் வாங்கினால் கடை முதலாளி மீதியாக எவ்வளவு தருவார்?
(xi) இம்மரக்கறி வகைகளில் பூசனி 1 கிரோவிராம் தக்காளிக்காய் 2
கிரோவிராம் வாங்க எவ்வளவு பணம் தேவை?

16) வெவ்வேறு தொலைக்காட்சி வகைகள் பற்றிய விபரத்தை கீழ் வரும்
அட்டவணை தருகின்றது. இதன் மூலையோடு கீழ்வரும் விடை எழுதுக.

மாதிர்	விலை	திரை அளவு	தயாரிக்கும் நாடு
A	12 000.00	14 அங்குலம்	தென்கொரியா
B	16 000.00	14 அங்குலம்	கொங்கொங்
C	22 000.00	20 அங்குலம்	கொங்கொங்
D	40 000.00	26 அங்குலம்	ஐப்பான்
E	42 000.00	26 அங்குலம்	மெற்கு ஜெர்மனி

(i) மாதிர் A யும் மாதிர் B யும் எவ்வகையில் வேறுபடுகின்றது?
(ii) மாதிர் B யும் மாதிர் C யும் எவ்வகையில் ஒத்தநன்மையைக் காண்பிக்கின்றது
(iii) மாதிர் D யும் மாதிர் E யும் சமமான திரை அளவைக் கொண்டிருந்த போதும் அவற்றின் விலை
வேறுபடுவதற்கு காரணம் யாது?
(iv) மிகவும் விலை கூடிய மாதிர் யாது?
(v) ஒருமாதம் ரூப 42 000.00 உள்ளது. ஆனால் அவர் 3 தொலைக்காட்சிப் பெட்டிகளை வாங்கவேண்டி
உள்ளது. அவர் எவ்வகையான தொலைக்காட்சிகளை வாங்கியிருப்பார்? அவருக்கு ஏற்பட செலவு
யாது?
(vi) ஒருவர் 26 அங்குல ஐப்பான் T. V ஒன்றையும் 14 அங்குல கொங்கொங் T. V ஒன்றையும்
கொள்வனவு செய்தார். இதற்காக ரூப 60 000.00 வந்த கடைக்காரரிடம் கொடுத்தார். அவருக்கு
கிடைத்த மீதிப்பணம் எவ்வளவு?

17) உயது சிந்தனை திறந்தவகுப்பு வகுப்பு உயது நன்முறைக்குக் கீழ்க் குறைந்த அளவு உயது உயது
கீழ்க்குக் குறைந்தவகுப்பு சரியான எழுப்பின் மயலிணைப்புடன் அமைந்திருக்கவேண்டும்.

இவ்வினாத்தாள் கருத்துரிய விடைகள் நாளை விளைய நும்.

தரம்-5 புலமைப்பரிசில்

பயிற்சி வினாத்தாள்

இல:23 ஆக்கம்: சுந்தர் வெளியீடு

◆ கீழே விபரிக்கப்பட்டுள்ள கூற்றுக்களுடன் சரியாகத் தொடர்புபடும் படத்தின் இலக்கத்தை அருகேயுள்ள கூட்டினுள் எழுதுக.

01. ✱ இம்மரத்தின் கிளைகள் பிரிந்து காணப்படுகின்றன
✱ மூலவேர் நீண்டு செல்ல கிளை வேர்கள் தோன்றியுள்ளன
✱ அகண்ட தட்டையான இலை
✱ பூக்களும் காய்களும் காணப்படுகின்றன



02. ✱ இவர் ஒரு மாணவி ஆவார்
✱ இவர் எப்போதும் கழுத்துப்பட்டி அணிந்துள்ளார்
✱ இவருக்கு மெல்லிய நீண்ட முகம் ஆகும்
✱ இவர் எப்போதும் தலைமயிரை இரட்டைப் பின்னலாக பின்னி இருப்பார்



◆ கீழே உள்ள வினாக்களில் செயற்பாடு ஒன்று கூட்டுக்குள் தரப்படுகின்றது. அதைத் தொடர்ந்து அந்த செயற்பாட்டுக்கான மூன்று காரணங்கள் தரப்படுகின்றன. அந்தக் காரணங்களில் மிகவும் பொருத்தமான காரணத்தினைக் குறிக்கும் இலக்கத்தை கூட்டுக்குள் எழுதுக.

03. கறிக்கு உப்புப் போடுகின்றார்கள்

- 1) உப்பு விலை குறைவான பண்டம்
2) உப்பு இல்லாத பண்டம் குப்பையில் ஆகையால்
3) உப்பு கறிக்கு சுவையூட்டுகின்றது.

04. வியாபாரிகள் தக்காளிப் பழத்தை சிவப்பு பொலித்தினால் முடிவைக்கின்றார்கள்

- 1) தக்காளிப்பழம் வெளியே தெரிவதற்காக
2) தக்காளிப்பழம் சிவப்பு - பொலித்தினும் சிவப்பு - வியாபாரக் கவர்ச்சிக்காக
3) தக்காளிப்பழத்தை வாங்குவோர் தொடராமல் இருக்க

05. மின்கம்பிகள் வெயில் காலங்களில் வளைந்து காணப்படுகின்றன.

- 1) மின்கம்பிகள் நன்கு இழுத்துப் பூட்டப்படவில்லை
2) மின்கம்பிகளாக வளையாத மரம், பிளாத்திக்கு பொருத்தப்படாமை
3) மின்கம்பிகள் வெயில் சூட்டுக்கு விரிவடைந்தமை.

◆ கீழே முதலாவது பெரிய கூட்டினுள் சில உடற்பாகங்கள் தரப்பட்டுள்ளன. இவை பொருத்தக் கூடிய விலங்கின் உடலின்

பகுதியும் இரண்டாவதாக உள்ள பெரிய கூட்டினுள் தரப்பட்டுள்ளது. வினாவுக்கருகே தரப்பட்டுள்ள பிராணியின் உடலின் அருகே அதன் பகுதிக்குரிய இலக்கத்தை எழுதுக.



06. [] 07. [] 08. [] 09. [] 10. []



◆ சரியான விடையைப் புள்ளிக்கோட்டில் எழுதுக.

11. உருவில் உள்ளவாறு மாபிள்களை அடுக்கின் 10வதாக அடுக்கப்படும் குவியலில் எத்தனை மாபிள்கள் இருக்கும்.....
12. A B C D இந்த பற்சில்லுகள் சுற்றும்போது ஒரே திசையில் சுற்றும் பல்சில்லுகள் எவை?

13. இங்கு தரப்பட்டுள்ள பாடல்களை நன்கு வாசித்து விளங்கிக் கொள்ளுங்கள்
குருவிக் குஞ்சே குருவிக் குஞ்சே சின்ன அணில் பிள்ளை நீயும்
எங்கே போகிறாய்? எங்கே போகிறாய்?
கொத்திக் கொத்திக் தானியத்தை வண்ண மாம்பழத்தை நானும்
தின்னப் போகிறேன். தின்னப் போகிறேன்.

ஆட்டுக்குட்டி ஆட்டுக்குட்டி
எங்கே போகிறாய்?
ஆலிலையும் கோரைப் புல்லும்
தின்னப் போகிறேன்.

பாடலின்படி பின்வரும் உணவை உண்போர் பெயரை எழுதுக.

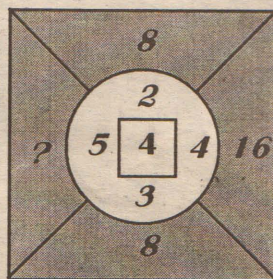
- 1) தானியம் 2) மாம்பழம்
3) ஆலிலையும் கோரைப் புல்லும்

◆ 1", 2" உருக்களுடன் மிகவும் நெருங்கிய தொடர்புடைய பொருத்தமான சொல்லைத் தெரிவு செய்து அதற்குரிய இலக்கத்தைப் புள்ளிக்கோட்டின் மீது எழுதுக.

14. [] 1) குளிர்மை 15. [] 1) தாவரம்
2) வெப்பம் 2) விலங்கு
3) வெதுவெதுப்பு 3) அனைத்தும்
(.....) (.....)

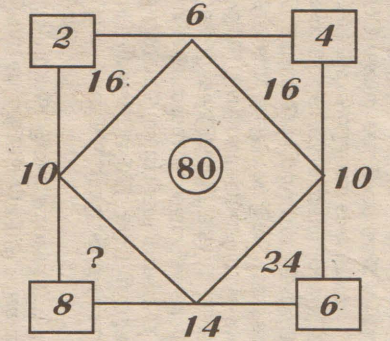
◆ கீழ்வரும் கோலத்தை விளங்கிக் கொண்டு கிடைவெளிக்குப் பொருத்தமான எண்ணை அருகேயுள்ள முன்று விடைகளில் இருந்து தெரிவு செய்க.

16.



- 1) 9
2) 20
3) 14

17.

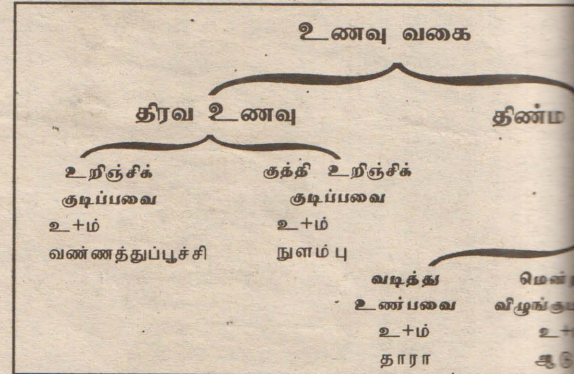


- 1) 10
2) 16
3) 24

◆ மிகவும் சரியான விடையைப் புள்ளிக்கோட்டில்

18. இயற்கையாகவும் சுயமாகவும் பகலில் ஒளியை எது?
19. இலங்கையில் புழக்கத்தில் உள்ள காய்க்காய் உயர் பெறுமதி என்ன?
20. இலங்கையில் அரசு பாடசாலைகளில் கொள்ளும் கல்வியை எப்படி அழைப்பார்கள்?

◆ கீழே உணவு வகைகளும் அவற்றை உண்ணும் வகைப்படுத்தப்பட்டுள்ள விதத்தை கீழ்ப்படம் கவனமாக அவதானித்து சரியான விடையைத் தெரிவு செய்து கீழ்க் கோட்டுக.



21. உணவு எத்தனை வகையாகப் பிரித்துக் கொள்ளலாம்?

- 1) மூன்று வகை 2) இரண்டு வகை 3) ஐந்து வகை

22. திரவ உணவை உண்ணும் உயிரினம்

- 1) ஆடு 2) தவளை 3) நுளம்பு

23. திண்ம உணவை உண்ணும் உயிரினம்

- 1) வண்ணத்துப்பூச்சி 2) தாரா 3) நுளம்பு

24. உணவை மெல்லாமல், முழுமையாக விழுங்கும் உயிரினம் எது?

- 1) நுளம்பு 2) ஆடு 3) தவளை

25. உணவை உறிஞ்சிக் குடிக்கும் உயிரினம்

- 1) தாரா 2) வண்ணத்துப்பூச்சி 3) நுளம்பு

◆ இங்கு தரப்பட்டுள்ள முதல் இரு சொற்களுக்கும் பொருத்தமான சொல்லைத் தெரிவு செய்து அதன் கீழ்க் கோட்டுக.

26. தேன் : தேன் கூடு :- கறையான்

- 1) ஈசல் 2) கறையான் கூடு 3) புற்று 4) மூலம்

27. இனிமை : சீனி :- புளிப்பு

- 1) மாம்பழம் 2) எலுமிச்சம்பழம் 3) சர்க்கரை 4) கைப்பு

படாவதாக உள்ள பெரிய கூட்டினுள் தரப்பட்டுள்ளது. க தரப்பட்டுள்ள பிராணியின் உடலின் அருகே அதன் லக்கத்தை எழுதுக.



07. 08. 09. 10.



கடையைப் புள்ளிக்கோட்டில் எழுதுக.

உருவில் உள்ளவாறு மாபிள்களை அடுக்கின் 10வதாக அடுக்கப்படும் குவியலில் எத்தனை மாபிள்கள் இருக்கும்?

இந்த பற்சில்லுகள் சுற்றும்போது ஒரே திசையில் சுற்றும் பல்சில்லுகள் எவை?

தரப்பட்டுள்ள பாடல்களை நன்கு வாசித்து கீழ்க் கொள்ளுங்கள்

சே குருவிக் குஞ்சே சின்ன அணில் பிள்ளை நீயும் நறாய்? எங்கே போகிறாய்?

காத்தித் தானியத்தை வண்ண மாம்பழத்தை நானும் கறேன். தின்னப் போகறேன்.

டி ஆட்டுக்குட்டி கிறாய்? கோரைப் புல்லும் கறேன்.

பின்வரும் உணவை உண்போர் பெயரை எழுதுக.

1) மாம்பழம்

புயர் கோரைப் புல்லும்

க்களுடன் மிகவும் நெருங்கிய தொடர்புடைய பொருத் லலைத் தெரிவு செய்து அதற்குரிய கிலக்கத்தைப் டின் மீது எழுதுக.

1) குளிர்மை 15.  1) தாவரம்

2) வெப்பம் 2) விலங்கு

3) வெதுவெதுப்பு 3) அனைத்தும்

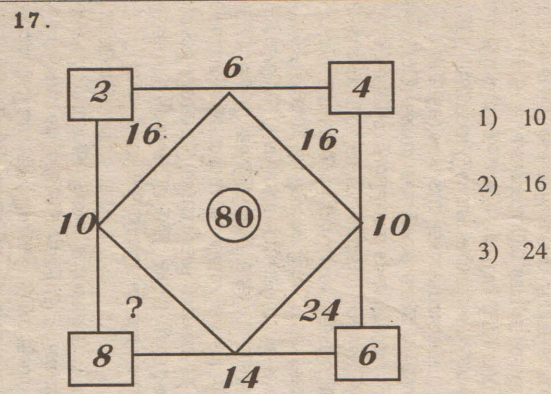
கோலத்தை விளங்கிக் கொண்டு கிடைவெளிக்குப் எண்ணை அருகேயுள்ள முன்று விடைகளில் கிருந்து

4 16

1) 9

2) 20

3) 14



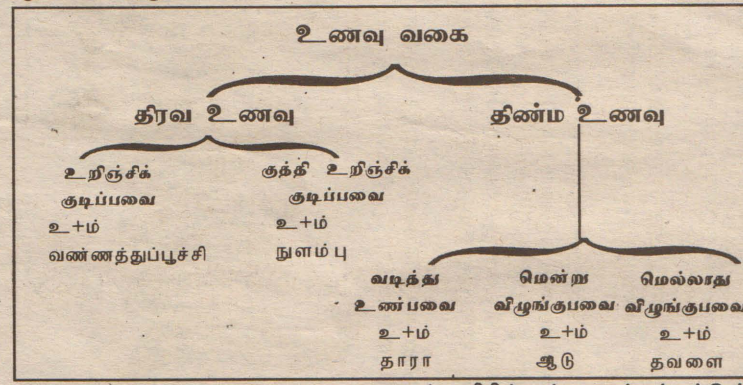
◆ மிகவும் சரியான விடையைப் புள்ளிக்கோட்டில் எழுதுக.

18. இயற்கையாகவும் சுயமாகவும் பகலில் ஒளியைத் தருவது எது?

19. இலங்கையில் புழக்கத்தில் உள்ள காசுத் தாளின் உயர் பெறுமதி என்ன?

20. இலங்கையில் அரச பாடசாலைகளில் நீர் பெற்றுக் கொள்ளும் கல்வியை எப்படி அழைப்பர்

◆ கீழே உணவு வகைகளும் அவற்றை உண்ணும் உயிரினங்களும் வகைப்படுத்தப்பட்டுள்ள விதத்தை கீழ்ப்படம் காண்பிக்கிறது. கவனமாக அவதானித்து சரியான விடையைத் தெரிவு செய்து அதன் கீழ்க் கோட்டுக.



21. உணவு எத்தனை வகையாகப் பிரித்துக் காட்டப்பட்டுள்ளது?

1) மூன்று வகை 2) இரண்டு வகை 3) ஐந்து வகை

22. திரவ உணவை உண்ணும் உயிரினம் எது?

1) ஆடு 2) தவளை 3) நுளம்பு

23. திண்ம உணவை உண்ணும் உயிரினம் எது?

1) வண்ணத்துப்பூச்சி 2) தாரா 3) நுளம்பு

24. உணவை மெல்லாமல், முழுமையாக விழுங்கும் உயிரினம் எது?

1) நுளம்பு 2) ஆடு 3) தவளை

25. உணவை உறிஞ்சிக் குடிக்கும் உயிரினம் எது?

1) தாரா 2) வண்ணத்துப்பூச்சி 3) நுளம்பு

◆ கீழ்க் தரப்பட்டுள்ள முதல் கிரு சொற்களுக்குக் கீடையேயுள்ள தொடர்பை அவதானித்து கிடைவெளிக்குரிய சொல்லைத் தெரிவு செய்து அதன் கீழ்க் கோட்டுக.

26. தேன் : தேன் கூடு :- கறையான்

1) ஈசல் 2) கறையான் கூடு 3) புற்று 4) மழை காலம்

27. இனிமை : சீனி :- புளிப்பு

1) மாம்பழம் 2) எலுமிச்சம்பழம் 3) சர்க்கரை 4) கைப்பு

28. ஆடு : குட்டி :- பசு

1) பிள்ளை 2) குட்டி 3) கன்று 4) காளை

29. நாய் : குரைக்கும் :- குயில்

1) பாடும் 2) கத்தும் 3) ரீங்காரமிடும் 4) கூவும்

30. முக்கோணம் : 3 பக்கம் :- சதுரம்

1) 4 பக்கம் 2) 4 உச்சி 3) 4 விளிம்பு 4) பக்கம் சமன்

◆ ஒரு விருந்துபசாரத்திற்காக F,G,H,I,N,O,P என்ற ஏழு பெருந்தகையாளர்கள் அழைக்கப்பட்டிருந்தனர். அவர்கள் ஒன்றுக்குப் பின்னால் ஒன்றாக ஒழுங்குபடுத்தப்பட்டுள்ளதும் முன்னால் ருந்து பின்னாக்கி 1-7 வரைக்கும் தொடர்ச்சியாக கிலக்கமிடப் பட்டுள்ளதுமான ஏழு கதிரைகளில் அமருதல் வேண்டும். அவர்கள் அமரும் ஒழுங்குகள் பின்வரும் வித்களுடன் கிணங்குதல் வேண்டும்.

◆ O வின் கதிரைக்கு உடனடியாக பின்னால் கிருக்கும் கதிரை யில் F அமருதல் வேண்டும்.

◆ N கின் கதிரைக்கு உடனடியாக முன்னால் கிருக்கும் கதிரை யிலும் N கின் கதிரைக்கு உடனடியாக பின்னால் கிருக்கும் கதிரையிலும் G அமர முடியாது.

◆ H கின் கதிரைக்கும் P கின் கதிரைக்கும் கிடையே செப்பமாக கிரு கதிரைகள் கிருத்தல் வேண்டும்.

◆ I கின் கதிரைக்கும் P கின் கதிரைக்குமிடையே குறைந்த பட்சம் ஒரு கதிரையேனும் கிருத்தல் வேண்டும்.

◆ கதிரை 3 இல் N அமருதல் வேண்டும்.

31. கதிரை 3 இல் அமர்ந்திருப்பவர் யார்?

1) P 2) O 3) N 4) I

32. O இன் கதிரைக்கு முன்னால் கிருக்கும் கதிரையின் அமர முடியாதவர்

1) P 2) N 3) I 4) F

33. 4^{வது} கதிரையில் அமரமுடியாதவர்

1) G 2) P 3) I 4) F

34. கதிரை 1 தொடக்கம் கதிரை 4 வரை அமர்ந்திருப்ப வர்களை சரியாகக் குறிக்கும் ஒழுங்கு

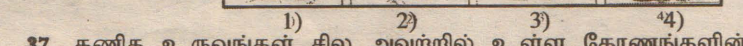
1) P,G,N,F 2) G,P,N,I 3) G,P,I,F 4) P,O,N,H

35. F கதிரை 6 இலும் H கதிரை 7 இலும் அமர்ந்தால் எவர் கதிரை 2இல் அமருதல் வேண்டும்

1) P 2) I 3) N 4) G

◆ சரியான விடையின் கீழ்க் கோட்டுக.

36.  அருகேயுள்ள கடிக்கார முகப்புடன் பொருத்தக் கூடிய சரியான உரு எது?



1) 2) 3) 4)

37. கணித உருவங்கள் சில அவற்றில் உள்ள கோணங்களின் அடிப்படையில் பெயரிடப்படும். கீழ்வரும் உதாரணத்தை அவதானித்து செயற்படுக.

முக்கோணி ▲ நாற்கோணி ▭ ஐங்கோணி ⬠

கீழ்வரும் உருக்களில் எண்கோணி எது?



1) 2) 3) 4)

38. முன் பின்னாகவும் பின் முன்னாகவும் வாசிக்கும் போது ஒரே சொல்லாக அமைந்துள்ள எழுத்துக்களைக் கொண்ட சொல் அல்லாதது

1) விகடகவி 2) நீதிபதி 3) மகரகம் 4) திகதி

39. "Ball" என்னும் சொல்லுடன் தொடர்புடைய உரு.



1) 2) 3) 4)

40. "Apple" என்னும் சொல்லுடன் தொடர்புடைய உரு.



1) 2) 3) 4)

ஈராக்கில் உள்ள அமெ.படைகள் வாபஸ்!


ஜோன் ஹெரி திட்டம் ஜோர்ஜ் புஷ் எதிர்ப்பு

(புளோரிடர்)

ஈராக்கில் இருந்து அமெரிக்கப் படைகளை விலகிக்கொள்ளும் ஜனநாயகக் கட்சி வேட்பாளரான ஜோன் ஹெரியின் திட்டத்தை அமெரிக்க அதிபர் ஜோர்ஜ் டபிள்யூ புஷ் நிராகரித்துள்ளார்.



புளோரிடா மாநிலத்தில் கடந்த செவ்வாய்க்கிழமை தேர்தல் பிரசாரத்தில் ஈடுபட்டிருந்த புஷ் இது பற்றிக் கூறிய தாவது, ஈராக் போருக்கு ஆதரவாக 2 ஆண்டுகளுக்கு முன்பு ஹெரி வாக்களித்தார். 220 நாட்களுக்கு முன்பாக தன்னை போருக்கு எதிரான வேட்பாளராக அறிவித்துக் கொண்டார். ஈராக் போர் குறித்த நிலைப்பாட்டை ஜோன் ஹெரி அடிக்கடி, மாற்றிக் கொள்கிறார். அதிபர் தேர்தலுக்கு இன்னும் 83 நாட்கள் இருக்கின்ற போதிலும் நிலைப்பாட்டை ஹெரி மீண்டும் மாற்றிக் கொள்ளப்போதீய கால அவகாசம் இருக்கிறது. ஈராக்கில் அமெரிக்கப் படைகள் தங்கள் பணியை முடிக்காமல் திரும்புவதை நாங்கள் விரும்பவில்லை. அரசியல் இப்பிரச்சினையை



முடிவு செய்யக்கூடாது என்றார் புஷ். 2002 ஓக்டோபரில் ஈராக் போருக்கு ஆதரவாகக் ஹெரி வாக்களித்தார். ஆனால், தனக்குக் கிடைத்த ஆதரவை, புஷ் தவறாகப் பயன்படுத்திக் கொண்டார் என்றும் போதீய கூட்டணி ஆதரவு போரை முடிவுக்குக் கொண்டுவரும் திட்டம் ஆகியவை இல்லாமல் போரில் குதித்தார் என்றும் ஜோன் ஹெரி குற்றம் சாட்டி இருப்பது குறிப்பிடத்தக்கது. (உ-யே)

இந்திய - பாக். கிரிமினல்களின் பட்டியல் பரஸ்பரம் ஒப்படைப்பு

மும்பை தொடர் குண்டு வெடிப்பில் முக்கிய குற்றவாளியான தாவுத்இப்ராகிம் உட்பட இந்தியா தேடிவரும் 25 கிரிமினல்களின் பட்டியலை பாகிஸ்தானிடம் இந்தியா ஒப்படைத்தது.

இந்தியா-பாகிஸ்தானிடையே பயங்கரவாதம் மற்றும் போதைப்பொருள் கடத்தல் தொடர்பான இரண்டுநாள் மாநாடு இஸ்லாமாபாத்தில் நடைபெற்றது.

இந்த மாநாட்டில் கடந்த 1993ஆம் ஆண்டு மும்பையில் நடைபெற்ற தொடர்குண்டு வெடிப்புகள் தொடர்பாக தேடப்படும் முக்கிய குற்றவாளியான தீவிரவாதி தாவுத்இப்ராகிம் உட்பட இந்தியா தேடிவரும் 25 கிரிமினல் குற்றவாளிகளின் பட்டியலை பாகிஸ்தானிடம் இந்தியா ஒப்படைத்தது.

பல்வேறு குற்றங்களுக்காக தேடப்பட்டு வரும் இக் குற்றவாளிகள் பாகிஸ்தானுக்குத் தப்பி ஓடிவிட்டனர். இவர்களது பெயர்கள் அடக்கிய பட்டியலை பாகிஸ்தானிடம் வழங்கிய இந்தியா, இந்தக் குற்றவாளிகளை கைது செய்து இந்தியாவுக்கு அனுப்பிவைக்குமாறு பாகிஸ்தானை கேட்டுக்கொண்டுள்ளது.

இந்தியா அளித்த பட்டியல் குறித்து பாகிஸ்தான் அதிகாரிகள் கருத்துத் தெரிவிக்கும் போது, "இந்தியா தேடிவரும் தாவுத்இப்ராகிம் உட்பட எந்த ஒரு கிரிமினல் குற்றவாளியும் பாகிஸ்தானில் இல்லை" என்று தெரிவித்தனர். கடந்த 2001 ஆம் ஆண்டு டிசம்பர் மாதம் இந்தியப் பராளுமன்றம் மீது பாகிஸ்தான் தீவிரவாதிகள் தாக்குதல் நடத்திய பிறகு லஸ்கரி-இ-தொய்பா தீவிரவாத அமைப்பின் தலைவர் ஹபீஸ் சயீத், ஜெய்ஸ்-இ-முகமது தீவிரவாத அமைப்பின் தலைவர் மவுலானமுகுத் ஆசார் ஆகியோரை நாடு கடத்துமாறு பாகிஸ்தானுக்கு இந்தியா வேண்டுகோள் விடுத்துள்ளது.

தற்போது பாகிஸ்தானில் உள்ள லஸ்கரி-இ-தொய்பா தலைவர் ஹபீஸ் சயீத், ஜெய்ஸ்-இ-முகமது அமைப்பின் தலைவர் மவுலானா முகுத் ஆசார் ஆகியோரது பெயர்கள் இந்தியா அளித்த பட்டியலில் இடம் பெற்றுள்ளதா இல்லையா? என்பது தெரியவில்லை. ஆனால், வெளிநாட்டு விசாரணைக்காக பாகிஸ்தான் நாட்டினரை இந்தியாவிடம் ஒப்படைக்கமாட்டோம். இந்தியா ஆதாரம் அளித்தால் நாங்கள் விசாரணை நடத்துவோம் என்று பாகிஸ்தான் கூறி உள்ளது. இதேவேளை பாகிஸ்தானும் தம்மால் தேடப்பட்டுவரும் 53 குற்றவாளிகள் பட்டியலை இந்தியாவிடம் வழங்கி உள்ளமையும் இங்கு குறிப்பிடத்தக்கது. (உ-ப)

அல்-கெய்தாவால் ஆபத்து; உயர் அங்கீகரிக்கக் கவனம்!

அமெ. மத்திய புலனாய்வுப் பிரிவு எச்சரிக்கை

(வாஷிங்டன்)

அமெரிக்க நாடாளுமன்ற உறுப்பினர்களையும் உயர் அதிகாரிகளையும் கொல்லுவதற்கு அல்-கெய்தா தீவிரவாதிகள் திட்டமிட்டிருப்பதாக அமெரிக்க மத்திய புலனாய்வுப் பிரிவு எச்சரிக்கை விடுத்துள்ளது.

வாஷிங்க்டன் அல்லது வேறு நகரங்களுக்கு பயணம் செய்யும் போதே இவ்வாறு நாடாளுமன்ற உறுப்பினர்களையும் உயர் அதிகாரிகளையும் கொல்ல அல்-

கெய்தா தீவிரவாதிகள் திட்டமிட்டிருப்பதாகவும்,

இதனால் நாடாளுமன்ற உறுப்பினர்களும் உயர் அதிகாரிகளும் தமக்கான பாதுகாப்பை உறுதி செய்து கொள்ள வேண்டும் எனவும் மத்திய புலனாய்வு பிரிவு மேலம் அறிவுறுத்தியுள்ளது.

அத்துடன் நியூயோர்க், வாஷிங்டன், நோவோர்க் ஆகிய இடங்களில் உள்ள நிதி நிறுவனங்கள் மீதும் முக்கிய கட்டடங்கள் மீதும் அல்-கெய்தா தீவிரவாதிகள்

தாக்குதல் நடத்தலாம் எனவும் புலனாய்வு பிரிவு எச்சரித்துள்ளது. (உ-ப)

பாக்-இந்திய நல்லுறவின் வெளிப்பாடாக

449 இந்தியக் கைதிகளை விடுவிக்க பாகிஸ்தான் அரசு இணக்கம்

(இஸ்லாமாபாத்)

பாகிஸ்தான் சிறையில் அடைத்து வைக்கப்பட்டிருக்கும் 449 இந்தியச்

விதமாகவும் தீவிரவாதம், போதைப்பொருள் கடத்தல் போன்றவற்றைத் தடுக்கும் விதமாகவும்,

அரசு தங்கள் நாட்டுச் சிறையில் அடைக்கப்பட்டிருக்கும் 449 இந்தியச் சிறைக் கைதிகளை விரைவில் விடுவிக்க விருப்பம் தெரிவித்துள்ளது.

இந்த 449 சிறைக் கைதிகளில் மீனவர்கள், போலி விசாவில் சிக்கியவர்கள் மற்றும் பாகிஸ்தானுக்கு சென்று கொலை, கொள்ளை, மற்றும் கடந்தல் முயற்சிகளில் ஈடுபட்டவர்கள் ஆகியோர் அடங்குவர்.

இவ்வாறு விடுவிக்கப்படவுள்ளவர்களில் போலி பாஸ்போர்ட் மற்றும் விசா போன்றவைகளால் கைது செய்யப்பட்ட 41 பேரும்.

பாகிஸ்தான் கடற்பகுதியில் நுழைந்து மீன்பிடிக்கும் போது கைது செய்யப்பட்டு, கராச்சியில் சிறை வைக்கப்பட்டிருக்கும் 408 மீனவர்களும் இதில் அடங்குவர் என்று அதிகாரப்பூர்வ வட்டாரங்கள் தெரிவித்துள்ளன. (உ-ப)



பரேசில் நாட்டில் நீட்டியோப் பகுதியில் திமிங்கலம் ஒன்று கடந்த கிரண்டு நாட்களுக்கு முன் கரை ஒதுங்கியது. கிதை உயிரோடு மீண்டும் கடலில் கொண்டுவிட்டால், கடல் ஆராய்ச்சியாளர்கள் முயன்றனர். பல்வேறு சாதனங்களைக் கொண்டு 58 மணிநேரம் போராடி கடலுக்குள் திமிங்கலத்தை கொண்டு செல்ல முயன்றனர். ஆனால், கடைசியில் இந்த திமிங்கலம் உயிரை விட்டு விட்டது.




சிறைக் கைதிகளை விரைவில் விடுவிக்க இருப்பதாக பாகிஸ்தான் அரசு அறிவித்துள்ளது.

இந்திய-பாகிஸ்தான் இடையே சமீபகாலமாக சமாதாகப் பேச்சுவார்த்தையும், நல்லுறவை வலுப்படுத்தும் முயற்சிகளும் தொடர்ந்தும் நடத்துவருகின்றன.

இருநாடுகளிடையேயான பரஸ்பர உறவுகளை வலுப்படுத்தும்

சமீபத்தில் 2 நாட்களாக பாகிஸ்தான் உள்துறை அமைச்சரான பைசல் சலேஹ்யத்தைச் சந்தித்து இந்திய உள்துறை செயலாளர் திரேந்திராசிங் பேச்சுவார்த்தை நடத்தினார்.

இந்தப் பேச்சுவார்த்தையின் விளைவாகவும், தனது நல்லெண்ணத்தை வெளிப்படுத்தும் விதமாகவும், பாகிஸ்தான்



கொக்குவில் இந்துக் கல்லூரியில் அண்மையில் நடைபெற்ற தமிழ் விழாவில் மாணவன் செல்வன் தே. விதுஷன் பாடுவதையும் மாணவர்களின் கலை நிகழ்வுகளையும் படங்களில் காணலாம்

கிருபாணந்தவாரியர் வாழ்க்கை வரலாறு

இத்திருக்கோயிலின் முன் சரவணப் பொய்கை பழுது பட்டுக் கிடந்தது. நகரசபையர்கள் அதைத் தூர்த்துவிட முயன்றார்கள். நான் அதைத்தடுத்து நிறுத்தி சரவணப் பொய்கைத் திருப்பணியை மேற்கொண்டேன். இத்திருப்பணிக்கு நண்பர் சிவாஜி கணேசன் 5000 ரூபாய் வழங்கினார். போன் மூலமாகச் சொல்ல கவிஞர் கண்ணதாசன் 5000 ரூ. வழங்கினார். அன்பர் திரு எஸ்.ஜி. ரத்தினம் ஐயர் அவர்கள் தொடர் விரிவுரை அமைத்து வசூல் செய்து ரூபாய் 40,000 வழங்கினார். இந்தச் சரவணப் பொய்கை பூர்த்தி பெற ஒரு லட்ச ரூபாய்க்கு மேல் ஆயிற்று. இந்தச் சரவணப் பொய்கையில் முருகப் பெருமானுடைய தெப்பவிழா மின் விளக்க அலங்காரத்துடன் வெகுசிறப்பாக நடைபெற்றது.

இந்தக் குயப்பேட்டை ஷண்முக ஞானபுரம் முருகப் பெருமான் மீது பாம்பன் சுவாமிகள் திருப்பதிகம் பாடியிருக்கிறார்கள். இந்த முருகன் வரதமான முருகன்.

மோகனூர் திருப்பணி

1940-ல் மோகனூரில் விரிவுரை செய்ய என்னை அழைத்தார்கள். மோகனூர் என்பது காவிரிக்கு வட கரையில் விளங்குகின்ற சிறந்த திருத்தலம். இந்த ஊர் வாசீச கலாநிதி சிவம் பெருக்கும் சீலர் திரு. கி.வா. ஐக்கந்நாத ஐயர் அவர்கள் அவதரித்த புண்ணிய நகரமாகும். இந்த ஊரில் சிவாலயம் சிறப்புடையது.

இதன் அருகில் காந்தமலை என்ற சிறிய குன்றில் கந்தப் பெருமான் எழுந்தருளியிருக்கின்றார். இந்த முருகப்பெருமான் மீது "கி.வா.ஐ." அவர்களுக்குத் தணியாத காதல் உண்டு. சென்னையிலுள்ள அவர் இல்லத்திற்குக் "காந்த மலை" என்று பெயரிட்டிருக்கிறார்.

இங்கு காந்த மலை அடிவாரத்தில் அருணகிரிநாதர் அறச்சாலை என்ற ஒரு திருப்பணி செய்தேன். இதற்காக மாதந்தோறும் மோகனூருக்குச் சென்று விரிவுரை செய்தும், அருகிலுள்ள ஊர்களுக்குச் சென்று வசூல் செய்தும் ஒரு லட்ச ரூபாய் செலவில் இந்த அறச்சாலை நிறுவப் பெற்றது. என்னுடைய தந்தையார் வந்து திறப்புவிழா செய்தார். இதில் காஞ்சி காமகோடி மகாசன்னிதானம் அவர்கள் தங்கி சந்தர் மௌளீசுவரர் வழிபாடு செய்தார்கள். இதில் சேர்ந்தாற்போல் 6,7 திருமணங்கள் செய்யலாம். புரோகிதர், மேளம், பூமாலை உட்பட ஒரு திருமணத்திற்கு 11 ரூபாய் தான் கட்டணம். காவேரி வெள்ளத்தில் அடித்துக்கொண்டு கரையில் ஒதுங்கிய ஒரு பெரிய மரம் கட்டிட வேலைக்கு ஒரு பகுதிக்கு உதவியது. இத்திருப்பணி செய்யும்பொழுது ஒரு மூட்டை சிமிட்டி 15 அணாதான். அக்காலத்தில் 1 லட்ச ரூபாய் என்றால் இக் காலத்தில் பல லட்சமாகும்.

காந்தமலை கோயிலிலுள்ள எல்லா மூர்த்திகளுக்கும் வெள்ளிக் கவசம் செய்து அணிவிக்கப் பெற்றது. இங்கு ஆனி மூலம் பெளர்ணமி கூடிய நன்னாளில் அருணகிரிநாதர் ஆராதனை விழா வெகு சிறப்பாக நடைபெறும். இத்திருப்பணியில் முக்கியமான பங்கு பெற்றவர் திரு ஆர். பழநியப்ப முதலியார்.

வடலூர் திருப்பணி

1936-ல் வடலூர் கோயில் மகாகும்பாபிஷேக விழா நடைபெற்றது. ஹிந்து பத்திரிகையில் வடலூர் என்பதை வடலூர் திருப்பணி என்று தவறாக வெளியிட்டு விட்டார்கள். இதனைப் பார்த்த திருச்சிராப்பள்ளி எனது ஆப்த நண்பர், முனிசிபல் மனேஜர் திரு வி.எஸ். லோகநாதப்பிள்ளை அவர்கள் "ஐயா! வடலூர் திருப்பணியை நீங்கள் தான் செய்யப் போகின்றீர்கள்" என்று என்னைப் பார்த்துக் கூறினார். நான் வடலூர் திருப்பணியைப் பற்றிச் சிந்திக்காத காலம். "அது நம்மால் ஆக்கக்கூடிய காரியமா?" என்று கேட்டேன்.

வடலூரில் வள்ளலார் மூன்று நிறுவனங்கள் அமைத்தார்கள். உடம்பு தழைக்க சத்திய தருமச்சாலையும், உணர்வு தழைக்க சத்திய வேத பாடசாலையும், உயிர் தழைக்க சத்திய ஞான சபையும் நிறுவினார்கள். இவற்றுள் சத்தியஞான சபை பழுதடைந்து விட்டது.

பாலாலயம் செய்து பல ஆண்டுகளாக யாரும் திருப்பணியை மேற்கொள்ளாமல் சத்திய ஞானசபை பழுதுற்றுக் கிடந்தது. பாடகச்சேரி இராமலிங்க சுவாமிகள் மற்றும் பலர் முயன்றும் திருப்பணி நடைபெறவில்லை. கடலூர் ஜில்லாபோர்டு தலைவர் திரு கே. சீதாராம ரெட்டியார் அவர்களின் தலைமையில் ஒரு திருப்பணிக்குழு அமைக்கப் பெற்றது. இடையில் அமாவாசைப் பரதேசி அவர்கள் "நான் திருப்பணி செய்வேன்" என்று சிறிது வசூல் செய்து செப்புத் தகடுகள் வாங்கி ஒரு சிறிது பணிசெய்யத் தொடங்கினார். திருப்பணிக் குழுவினரிடம் வசூல் செய்த கணக்குத்தர மறுத்தார். அதனால் அத்துடன் அது நின்றது.

அப்பொழுது திருச்சியிலிருந்து மதுரைக்கு மாறுதலாகி மதுரையில் முனிசிபல் மனேஜராகப் பணிபுரிந்த லோகநாதப்பிள்ளை அவர்கள் வடலூர் வள்ளலாரிடம் அளவு கடந்த அன்பு புண்டவர். அவர் என்னைப் பார்த்து "ஐயா! வடலூரில் திருப்பணி தொடங்கியிருக்கிறீர்கள். நாம் ஏதாவது அதில் ஈடுபடவேண்டும்" என்று கூறி, மதுரையில் ஞாயிறு தோறும் நானும், அவரும் வசூல் செய்தோம். திருப்பணிக்குப் பணம் கொடுத்து வாருங்கள் என்று என்னை வடலூருக்கு அனுப்பினார். 700 ரூபாய் எடுத்துக்கொண்டு வடலூருக்குச் சென்றேன். அங்கு சத்தியஞான சபையைப் பூசனை செய்யும் சிவலி பாலசுப்பிரமணிய சிவாச்சாரியாரைக் கண்டு அவரிடம் தங்கினேன். பின்னலூர் வாசீசம் பிள்ளை அவர்களின் தந்தையார் திரு கணபதிப்பிள்ளையும் அங்கு வந்திருந்தார். நான் சிவாச்சாரியாரைப் பார்த்து "திருப்பணிக்குப் பணம் கொண்டு வந்திருக்கிறேன்" என்று சொன்னேன். குருக்கள் "யாரும் இங்கு பொறுப்பாக இருந்து திருப்பணி செய்வாரில்லை. கணபதிப்பிள்ளை என்ற இவர் சிறந்த அறப்பெருஞ் செல்வர். உங்களுக்கு நம்பிக்கையிருந்தால் இவரிடம் பணம் கொடுத்து விட்டுப் போங்கள்" என்று கூறினார்.

நான் அதுபடியே கணபதிப்பிள்ளையிடம் ரூபாய் 700 கொடுத்துவிட்டு மதுரைக்குச் சென்றேன். இவ்வாறு மாதந்தோறும் 700, 800 என்று எடுத்துக் கொண்டுபோய் பாலசுப்பிரமணிய சிவாச்சாரியாரிடம் கொடுத்துவந்தேன்.

அவருடைய மேற்பார்வையில் 3000 ரூபாய் அளவில் ஜோதி மேடைக்குத் தூண்கள் செய்யப்பட்டன. மதுரையிலிருந்து முனிசிபல் மனேஜர் ஒரு இன்ஜினியரை அனுப்பித் திருப்பணியைப் பார்வையிடச் செய்தார். அந்த இன்ஜினியர் வந்து பார்த்து செய்த தூண்பாரம் தாங்காது எனக் கூறிவிட்டார். அதனால் செய்தவேலைகள் வீணாகிவிட்டன. அப்பொழுது சிதம்பரத்தில் திருப்பணிக் குழுவினர்கள் ஒரு கூட்டம் போட்டு நடாத்தினார்கள். அதற்கு என்னையும் அழைத்திருந்தார்கள். நான் அந்தக் கூட்டத்தில் திருப்பணிக் குழுத் தலைவரைப் பார்த்து "திருப்பணியைப் பொறுப்பாகப் பார்க்க ஒருவரை நியமிக்க வேண்டும். இப்பொழுது செய்த வேலைகள் வீணாகிவிட்டன" என்று கூறினேன்.

தொடர் இல: 13



சிமரர் குமார் பொன்னம்பலத்தின் பிறந்த தின விழா நேற்று அகில இலங்கைத் தமிழ்க் காங்கிரஸ் யாழ். அலுவலகத்தில் இடம்பெற்றது.

இதல் யாழ். மாவட்ட நாடாளுமன்ற உறுப்பினர் மாவை சேனாதிராஜா உரையாற்றுவதையும், நகழ்வில் கலந்து கொண்டோரில் ஒரு பகுதியினரையும் படங்களில் காணலாம்.

படம்: அலுவலக நிருபர்.

குவைத் செல்லும் இலங்கைப்

பெண்களின் பாதுகாப்புக்கு

தூதுவர் உத்தரவாதம்

(கொழும்பு)

வேலை வாய்ப்புத் தேடி குவைத் துக்குச் செல்லும் இலங்கைப் பணிப் பெண்கள் மீதான பாலியல் பலாத்காரங்கள் மற்றும் சித்திரவதைகள் இனிமேலும் இடம் பெறாத வண்ணம் சட்ட நடவடிக்கைகளை எடுப்பதாக இலங்கைக் தான குவைத் தூதுவர் அப்துல்லா அல் சலாஹி உறுதியளித்துள்ளார்.

வேலைவாய்ப்புக்காக அங்கு செல்லும் இலங்கைப் பணிப் பெண்கள் மீது மேற்கொள்ளப்படும் சித்திரவதைகள் மற்றும் கடவுச் சீட்டுப் பிரச்சினை போன்ற காரணங்களால், பணிபுரியும்

இடங்களிலிருந்து இலங்கைத் தூதரகத்திற்குச் சென்று அவர்கள் தஞ்சம் கோருகின்றனர். இவ்வாறான பெண்களின் நிலைமை குறித்து விசாரணை நடாத்தி உரிய சட்ட நடவடிக்கை எடுக்கப்படவுள்ளது.

குவைத்தில் பணிபுரியும் இலங்கைப் பணிப்பெண்களைச் சாயான முறையில் பராமாத்து பூணை தொழில் உரிமையுடன், பாதுகாப்பையும் வழங்குவதற்கு குவைத் அரசாங்கம் தற்போது துரித முன்னேற்பாட்டு நடவடிக்கைகளை மேற்கொண்டு வருகிறது என குவைத் தூதுவர் மேலும் தெரிவித்துள்ளார்.

(உ-ற)

விவாத அரங்கு -4

விடயம்

சமூக, கலாசாரப் பிறழ்விற்குக்

காரணமாக அமைபவர்கள் தற்கால

இளைஞர்களே! யுவதிகளே!

நடுவர் : சிவசரவணபவன் (சிற்பி)

(முன்னாள் யா/வைத்தல்வரா கல்லூரியின் அதிபர்)

உங்கள் வாதங்களை எழுதி அனுப்பி வைப்புகள்

அனுப்பவேண்டிய முகவரி

விவாத அரங்கு

வலம்புரி

இல.15, வெள்ளாந்தெரு,

யாழ்ப்பாணம்.

க.பொ.த (சா/த)

மாணவர்களே! வலம்புரியில்

தொடர்ந்து பயிற்சி

வினாத்தாள்கள் வெளிவருகின்றன.

(தொடரும்)

