

செய்தியாளர்கள் தூக்கப்பட்ட சம்பவம்; ஆராய நேற்று முத்தரப்புச் சந்திப்பு!



சந்திப்பில் கலந்துகொண்ட யாழ்.இராணுவத் தளபதி மேஜர் ஜெனரல் சரத்பொன்சேகா கண்காணிப்புக்குழு அதிகாரியுடன்.

யாழ். குடாநாட்டில் செய்தி சேகரிக்கச் செல்லும் செய்தியாளர்கள் தூக்கப்படுவது தொடர்பாக ஆராய, முத்தரப்புச் சந்திப்பு நேற்று யாழ். மாவட்ட போர்நிறுத்தக் கண்காணிப்புக் குழு அலுவலகத்தில் நடைபெற்றது. காலை 10 மணிக்கு ஆரம்பமான இந்தச் சந்திப்பில், இராணுவத்தினர் தரப்பில் யாழ். மாவட்ட இராணுவத் தளபதி மேஜர் ஜெனரல் சரத்பொன்சேகா, பலாலி இராணுவத் தலைமையகத்தைச் சேர்ந்த கேணல் அல் விஸ் ஆகியோரும், பொலிஸ் தரப்பில் யாழ். மாவட்ட பொலிஸ் அத்தியட்சகர் விதாரணகே, உதவிப் பொலிஸ் அத்தியட்சகர் லயனல் ஜெயசேகரா ஆகியோரும், வடஇலங்கைப் பத்திரிகையாளர் சங்கத்தின் சார்பில், அதன் தலைவர் என்.கதிர்காமத்தம்பி, செயலாளர் சதீஸ், உறுப்பினர் இ.தயாரன் ஆகியோரும், கண்காணிப்புக் குழுவின் பிரதிநிதியும், கலந்துகொண்டனர். இந்த சந்திப்பில் யாழ். குடாநாட்டில் செய்தி சேகரிக்கச் செல்லும் செய்தியாளர்கள்(10 ஆம் பக்கம் பார்க்க)

நிமலராஜன் படுகொலைக்கு அரசியல் கட்சியே காரணம்!

யாழ்.இராணுவத் தளபதி சரத் பொன்சேகா பத்திரிகையாளர் மயில்வாகனம் நிமலராஜன் கொலை ஒரு அரசியல் படுகொலை. இந்தச் சம்பவத்துக்கு அரசியல் கட்சித் தலைவர்களே காரணம் என அறிக்கைகள் மூலம் தெரியவந்துள்ளது. இவ்வாறு யாழ் மாவட்ட இராணுவத் தளபதி மேஜர் ஜெனரல் சரத் பொன்சேகா தெரிவித்தார். நேற்று யாழ். மாவட்ட போர்நிறுத்தக் கண்காணிப்புக்குழு அலுவலகத்தில் இடம்பெற்ற பத்திரிகையாளர்களுடனான சந்திப்பிலேயே அவர் மேற்கண்டவாறு தெரிவித்தார். அவர் அங்கு மேலும் கூறுகையில், பத்திரிகையாளர் மயில்வாகனம் நிமலராஜன் படுகொலைச் சம்பவத் தால், அவரது நண்பர்களாகிய நீங்கள் மனக்கவலை அடைந்துள்ளீர்கள். இதனை எம்மால் புரிந்துகொள்ள முடிகின்றது. ஆனால் இந்தப் படுகொலை அரசியல் ரீதியான கொலையாகும். தென் இலங்கையிலுள்ள சில அரசியல் கட்சிகளும், அரசியல் தலைவர்களும், மறைமுகமாகச் செய்த அரசியல் படுகொலை இதுவாகும். அரசியல் ரீதியான மாறுபாடுகள் காரணமாகவே இந்தப் படுகொலை நடந்துள்ளதை சம்பவம் தொடர்பாக கிடைத்துள்ள அறிக்கைகள் மூலம் தெரியவந்துள்ளதாகத் தெரிவித்த சரத்பொன்சேகா, நிமலராஜன் படுகொலைக்கு அரசு உரிய நடவடிக்கை எடுக்கவில்லை. இதற்கு இராணுவம் பொறுப்பல்ல எனக் கூறினார்.(111,202)

முக்கிய பாதுகாப்பு விவகார ஒப்பந்தங்களில்

இந்திய - இலங்கை பிரதமர்கள் கைச்சாத்து!

பாதுகாப்புச் சூழலில் முக்கிய மாற்றம் ஏற்படுமாம்

(புதுடெல்கி)
இலங்கையும் இந்தியாவும் நெருங்கிய பாதுகாப்பு ஒத்துழைப்புக்களுக்கு வழிவகுக்கும் இரண்டு முக்கியமான ஒப்பந்தங்களில் கைச்சாத்திட்டுள்ளன. இந்தியாவுக்கு விஜயம் செய்துள்ள பிரதமர் ரணில் விக்கிரமசிங்க - இந்தியப் பிரதமர் அடல் பிஷாரி வாஜ்பாயுடன் நேற்று இந்த ஒப்பந்தங்களில் கைச்சாத்திட்டார்.

இந்த ஒப்பந்தங்கள் இலங்கையின் வடக்கு - கிழக்கு பகுதிகளின் பாதுகாப்பு நிலவரங்களில் பாரிய விளைவுகளை ஏற்படுத்தும் என இந்திய அதிகாரிகள் தெரிவித்தனர். அண்மையில் இந்தியாவுடன் செய்து கொள்ளப்பட்ட பொருளாதார உடன் படிக்கையிலிருந்து, தற்போது செய்யப்பட்டுள்ள பொருளாதார உடன் பாடு மிகவும் மேம்பட்டதெனவும் தெரிவிக்கப்படுகிறது.

இந்த உடன்பாட்டின்படி - இரு நாடுகளுக்கும் மிடையேயான வான் பரப்பைப் பயன்படுத்துதல், போக்கு (10 ஆம் பக்கம் பார்க்க)

புலிகளின் தீர்வுயோசனை நியாயபூர்வமாக இருக்கும்!

இந்திய அரசாங்கம் நம்பிக்கை தெரிவிப்பு


இலங்கையில் விடுதலைப் புலிகளுக்கும் அரசுக்கும் இடையே தற்போது தேக்கநிலை காணப்படுவதை முடிவுக்குக் கொண்டுவருவதற்கான தீர்வை இந்தியா வரவேற்கும். இலங்கை அரசு விடுதலைப் புலிகளுக்கு அளித்த யோசனைகளுக்கு விடுதலைப் புலிகளின் பதில் நியாயமானதாகவும் விரிவானதாகவும் இருக்குமென இந்தியா எதிர்பார்க்கின்றது. இவ்வாறு பிரதமர் ரணில் விக்கிரமசிங்கவின் இந்தியாவுக்கான மூன்று நாள் விஜயத்தின் முடிவில், நேற்று இரு நாடுகளும் இணைந்து 41 பக்கத்தில் வெளியிட்ட கூட்டுறிக்கை (10 ஆம் பக்கம் பார்க்க)

மட்டு. போதனா வைத்தியசாலையில் ஒரு சூலில் 4 பிள்ளைகள் பிரசவம்!

பெண் ஒருவர் நான்கு குழந்தைகளை ஒரேசூலில் பிரசவித்த சம்பவம் மட்டக்களப்பு போதனா வைத்தியசாலையில் நிகழ்ந்தது. இது வைத்தியசாலை வட்டாரத்தில் பெரும் பரபரப்பை ஏற்படுத்தியுள்ளது. இதுவே வைத்தியசாலையில் இடம்பெற்ற முதல் நிகழ்வாகும். இதற்கு முன்னர் இந்த வைத்தியசாலையில் மூன்று பிள்ளைகளை பிரசவித்த வரலாறே உண்டு. மட்டக்களப்பு - பாவுறகொடிச் சேனையைச் சேர்ந்த கதிர்காமப் போடி மலர் என்ற கம்பிணித் தாய்க்கு நேற்று நண்பகல் முதலாவது பெண் குழந்தை 12.27 மணிக்கும், நான்காவது பெண்குழந்தை 12.43 மணிக்கும் பிரசவமாகியுள்ளது. இந்தக் குழந்தைகள் நிறை (10 ஆம் பக்கம் பார்க்க)

பின்லாந்து தூதுவருடன் தமிழ்ச்செல்வன் சந்திப்பு!

நேற்று கிளிநொச்சியில் நடந்தது



தமிழ்ச்செல்வனுடனான சந்திப்பின்போது பின்லாந்துத் தூதுவர்.

தமிழ் அரசியல்துறைப் பொறுப்பாளர் க.ப.தமிழ்ச்செல்வனுடன் - பின்லாந்து நாட்டுத் தூதுவர் நேற்றுச் சந்தித்து கலந்துரையாடல் ஒன்றை நடத்தினார். நேற்றுக்காலை 8 மணிமுதல் 9 மணிவரை இந்தக் கலந்துரையாடல் இடம்பெற்றது. பின்லாந்து நாட்டின் சார்பில் - இலங்கை இனவிவகாரம் மற்றும் தற்போதைய நிலைப்பாடு தொடர்பான தகவல்களைத்(10 ஆம் பக்கம் பார்க்க)

EXPOAIR இலங்கையில் முன்னணி வகிக்கும் உள்ளூர் விமான சேவை....
 ஒதுக்கீடுகளுக்கு அழையுங்கள் 021 - 2223891 2226297
 0712348888 0712349999 074512666 012360290 012360291
 email . jaffna @ expoavi . com. (சி -1620)
எக்ஸ்போஏயர்
 வான் வெளியில் உங்கள் தேர்துன்...

திறந்த பல்கலை பரீட்சையில் சித்தியடைந்தோர் விபரம்

இலங்கைத் திறந்த பல்கலைக் கழக இறுதி ஆண்டுப் பரீட்சையில் தோற்றி சித்தியடைந்தோர் விபரங்கள் பாடரீதியாக தரப்படுகின்றது.

அருள்ஞானம், செல்வி.ஆர். பாலசுந்தரம், பி.தர்மினி, கே.கௌரி, செல்வி. ரி.தருமகிண்டனர், வி.விஜய லக்மி, பி.ஜெகநாதன்,

1) தொழில்நுட்ப மாணிப்பட்டம் (பொறியியல்)

விஞ்ஞானமாணிப்பட்டம் 2002 (பழையபாடத்திட்டம்)

சி.வாசுதேவன், தி.சுகுமாரன், எம்.யோகேஸ்வரன், ஆர்.சிறீதரன்

பி.எம்.முரளிதரன், 6) தாதியர் பட்டத் திட்டம்

2) மாண்டிவியல் சமூக விஞ்ஞான பட்டம்

இரண்டாம் வகுப்பு (மேற்பிரிவு) ஆர்.தேவாமிர்ததேவி

சமூக விஞ்ஞான கலைமாணிப்பட்டம் 2002, 2003

வருடாந்த

பரிசளிப்பு விழா

வ.பத்மநாதன், சி.சந்திரசேகரம், ஆர்.தியாகலிங்கம்,

சுழிபுரம், காட்டுப்புலம் அரசினர் தமிழ்க் கல்வன் பாடசாலையின், வருடாந்த பரிசளிப்பு விழா 2.00 மணிக்கு பாடசாலை மண்டபத்தில் நடைபெறவுள்ளது.

3) கலைமாணிப்பட்டம் சட்டக் கொள்கை

பாடசாலையின் அதிபர் நா.தனபாலசிங்கம் தலைமையில் நடைபெறும் நிகழ்வில் யாழ்ப்பல்கலைக் கழக சமுதாய மருத்துவத்துறைத் தலைவர் கலாநிதி என்.சிவராசா பிரதம விருந்தினராக கலந்து கொள்வார்.

4) முகாமைத்துவமாணிப்பட்டம் 2002, 2003

வலிகாமம் கல்வி வலய பிரதிக் கல்விப் பணிப்பாளர் கோகிலாமகேந்திரன், வைத்திய கலாநிதி எஸ்.சிவகணேசன், கலாநிதி தாரணி சிவகணேசன், ஆகியோர் சிறப்பு விருந்தினராக கலந்துகொள்வார்.

இரண்டாம் வகுப்பு கீழ்ப் பிரிவு

5) விஞ்ஞானமாணிப்பட்டம் (2002)

இரண்டாம் வகுப்பு மேற்பிரிவு

எஸ்.பி.ஜெயக்குமார், எஸ்.பிரதீபா, பி.ரி. நவனிதக் கிருஸ்தினன்,

இரண்டாம் வகுப்பு கீழ்ப் பிரிவு

எஸ்.கவிதா, ஈ.என்.தங்கராஜ், எஸ்.கலாதேவி, எஸ்.ஏ.பிராங்கின்

செல்வி.கே.மார்க்கண்டு, கே.வாகினி, ஏ.சுதாமதி, திருமதி.கே. ரட்ணகலா, செல்வி.எஸ்.எஸ். ராஜ சிங்கம், எஸ்.சுதர்சினி, செல்வி.எவ் ஆர்.

யாழ்ப்பாணத்தில் தீபாவளித் திருநாளன்று குடிசைக்குடி வைத்தியநாதன் அவர்களின் வயலின் இசைவிருந்தி



உலகப் புகழ்பெற்ற இசை மேதை வயலின் சக்கரவர்த்தி குன்னக்குடி வைத்தியநாதன் அவர்களின் வயலின் இசை விருந்து தீபாவளித் திருநாளன்று (24.10.2003) மாலை 5 மணிக்கு நல்லூர் தூர்க்கா மணிமண்டபத்தில் நடைபெறும்.

“தங்கமதில் வைரத்தைப் பதித்தாற்போன்று தன் நெஞ்சில் இசையினையே பதித்து வைத்து” வயலின் என்ற அற்புத இசைக்கருவியில் பத்து விரல்களும் விளையாடப் பயிற்சி பெற்று நாதப்பிரம்மமாக வாழ்ந்து இசை மழையைப்பொழியும் குன்னக்குடி வைத்தியநாதனின் இசைவிருந்தினைக் காண அனைத்து இசைப்பிரியர்களையும் திரண்டுவருமாறு இந்து சமய விவகார அலுவலர்கள் அமைச்சினர் அன்புடன் அழைக்கின்றார்கள்.

(சி-1716)

நமது ஈழநாடு நடாத்தும்

5 ஆம் ஆண்டு புலமைப்பரிசில் பரீட்சைக்கான இலவச முன்னோடிக் கருத்தரங்கு 2003

விபரங்கள் வெகுவிரைவில் நமது ஈழநாடு நாளிதழில் வெளிவரும்.

அனுசரணை வழங்குவோர்

ஹரிஹரணான் பிறிண்டிடர்ஸ்	ஆல்சிலோன் டிஸ்ரிபியூடர்ஸ்
செலான் வங்கி டிக்கிரீ கணக்கு	இலங்கை வங்க தேசத்தின் வங்கியாளர்

SHARP

எமது வாடிக்கையாளர்களே! Superior Japanese Technology

புதிய ஒரு தொகுதி கையிருப்புக்கள் வந்துவிட்டன

உங்களது பழைய கறுப்பு / வெள்ளை (Black & White) அல்லது கலர் தொலைக் காட்சியை எங்களிடம் தந்து புத்தம் புதிய தொலைக்காட்சி ஒன்றை இன்றே ஷார்ப் (SHARP) எங்களிடம் பெற்றுக்கொள்ளுங்கள்.

ரூபா 10 000/= வரைக்கும்

விஷேட கழிவுடன் அதி உன்னத யப்பானிய தொழில்நுட்பத்துடன் கூடிய தொலைக்காட்சியை 5 வருட உத்தரவாதத்தில் இன்றே ஷார்ப் (SHARP) வாங்குங்கள்.

தாமதத்தால் தோல்வி நிச்சயம். ஏனைய பொருள்களுக்கு இம் மாதம்

விஷேட கழிவு விலையில்

விபரங்களுக்கு : முகாமையாளர்

பிறவுண் அன்ட் கம்பனி

பிறவுண்ஸ் காட்சியறை
இல.89, ஸ்ரான்லீ வீதி, யாழ்ப்பாணம்
T.P: 021-2225150, 0777-110791

(சி-1710)

திருவிழாக்களில் சங்கானை

விஜயகரன், சங்கீதா நடத்த

அலிக்சாண்டர்

காட்சி நேரம்: 11.00, 2.45, 6.00 (ப.நே.)
வெள்ள, சனி, குாயறு இரவு 8.45 (ப.நே.)

WAR LOCK -II

ராஜா

யாழ்ப்பாணம்.

இன்றும் நாளையும்

எம்.ஜி.ஆர், சரோஜாதேவி நடத்த

எங்கவீட்டுப்பிள்ளை

காட்சிநேரம் 10.30, 2.30, 6.30, 9.30 (ப.நே.)

24 ஆம் தகவல் முதல்

பீதாமகன்

ஆசனங்களை முற்பதவு செய்துகொள்ளலாம்.

தீயாவளி திருநாளை முனிவிட்டு...

Carina Brassieres

வாங்கும் சகல வாடிக்கையாளர்களுக்கும் அளப்பரிய பெறுமதியான பரிசுகள் மேலும் விபரங்களுக்கு நாடுங்கள்

ஸ்ரீமுருகன்

303, கே.கே.எஸ் வீதி, யாழ்ப்பாணம்
T.P. No: 021 222 5392

அரிய சந்தர்ப்பத்தை தவறவிடாதீர்கள் இச் சலுகை 22, 23, 10.2003.

இரு தினங்கள் மட்டுமே. (சி-1712)

நூல் அறிஞ்சுகம்

ஒரு பேராசிரியரின் வாழ்க்கையும் கல்விச் சிந்தனைகளும் (சுயசரிதை)

ஆக்கியோன் :- பேராசிரியர் வி.கே.கணேசலிங்கம் (தென்கிழக்கு பல்கலைக்கழகம்)

இடம் :- நெல்லை முருகன் திருமண மண்டபம்

காலம் :- 2003.10.25 சனிக்கிழமை மு.11.10 மணி

தலைமை :- திரு.க. அம்பலவாணர் (கோட்டக் கல்விப் பணிப்பாளர் கரவெட்டி)

பிரதம அதிதி :- திரு இ.த.விக்னராஜா (யாழ்.மாவட்ட நீதிபதி)

கௌரவ அதிதி:- திரு.இ.தயா (வடமராட்சி அரசியற்குறை பொறுப்பாளர்)

அந்நூல்களின் சிறப்புரைகளும், நலவுரைகளும் இடம்பெறும்.

கட்டிடவேலி - நெல்வியடி
ப.நோ.கூ.சங்க கலாசாரக் கூட்டுறவுப் பெருமன்றம்

பிரதி அன்பளிப்பு ரூபா.250 ஆகும். பிரதிகள் மண்டபத்தில் பெற்றுக்கொள்ளலாம்.

(சி-1708)

அரசின் கல்விக் கொள்கைகளின் காரணமாகவே தமிழ் மாணவர் கல்வி திட்டமிட்டு அழிக்கப்பட்டது

நூல் வெளியீட்டு விழாவில் மாலை சேனாதிராஜா

(யாழ்ப்பாணம்)
மாணவர்கள் - தமது கல்வியைச் சுதந்திரமான முறையிலே கற்கக்கூடிய சூழ்நிலை உருவாக்கப்பட வேண்டும். இராணுவத்தினரால் ஆக்கிரமிக்கப்பட்டுள்ள எமது பாடசாலைகள் மீட்கப்பட வேண்டும் என, யாழ்.மாவட்ட நாடாளுமன்ற உறுப்பினர் மாலை.சேனாதிராஜா தெரிவித்தார்.

யாழ்.உயர் தொழில்நுட்ப கல்வி நிறுவனத்தில் நேற்று முன்தினம் நடைபெற்ற 'வித்தகம்' நூல் வெளியீட்டு விழாவில், சிறப்பு விருந்தினராகக் கலந்துகொண்டு உரையாற்றும்போதே, அவர் இவ்வாறு தெரிவித்தார். அவர் தொடர்ந்து உரையாற்றுகையில் -

எமது தமிழினத்தின் கல்வி - போரின் காரணமாக அழிவடைந்ததை விட, அரசின் கொள்கைகள் காரணமாக அழிந்த சந்தர்ப்பங்களே ஏராளம். தரப்படுத்தல், வெட்டுப்புள்ளிகள் எனப் பல்வேறு வகையிலும் திட்டமிட்டு, தமிழ் மாணவர்களுடைய கல்வி அழிக்கப்பட்டது.

இன்று மேற்கூல நாடுகள் கல்வி, தொழில்நுட்ப ரீதியில் பல மடங்கு முன்னேறியுள்ளன. அங்கு சாதாரணமான சிகை அலங்கரிப்பு, ஆடை அலங்காரம் என்பவற்றிற்கே பட்டப் படிப்புகள் அறிமுகப்படுத்தப்பட்டுள்ளன. ஆனால், இங்கு பல்கலைக்கழக அனுமதியை ஓரிரண்டு புள்ளிகளால் தவறவிட்ட மாணவர்களில் பலர், அடுத்தது என்ன செய்வது எனத் தெரியாமல் தவிக்கிறார்கள். அத்தகைய மாணவர்களைக் கவனத்திற்கொண்டு, இத்தகைய தொழில்நுட்ப

பக் கல்வி நிறுவனங்கள் அமைக்கப்பட வேண்டும். அத்தோடு, அவை சிறந்த முறையிலே தமது சேவையை வழங்கக்கூடியவையாகவும் இருக்க வேண்டும்.

எமது மாணவர்கள் மத்தியிலே அத்தமான திறமைகள் மறைந்துள்ளன. புலம்பெயர்ந்து வாழும் எமது தமிழ்மக்களின் பிள்ளைகளில் பலர் - இன்று அங்குள்ள பிள்ளைகளை விட, கல்வித்துறையிலே முன்னணியிலே திகழ்கிறார்கள்.

எமது மாணவர்களுக்குத் தகவல் தொழில்நுட்பம் சார்ந்த அறிவுகள் நிறைபப் போதிக்கப்பட வேண்டும். இதற்கு விரிவுரையாளர்களும், பேராசிரியர்களும் முதலில் அது தொடர்பான கல்வியைப் பெற்று பின், மாணவர்களுக்குப் புகட்ட வேண்டும்.

இந்தத் தொழில்நுட்ப உயர் கல்வி நிறுவனத்திற்கு நிர்ந்தரக்காணியில்லை. அதனைப் பெற்றுக் கொள்வதற்கான நடவடிக்கைகள் எடுக்கப்பட்டுள்ளன.

இன்று சமாதானத்திற்காக விடுதலைப் புலிகள் - சர்வதேசமெங்கும் சென்றுவருகின்றார்கள். அதேவேளை, சில தியசக்திகள் போரை ஆரம்பிப்பதற்கான நடவடிக்கைகளிலும் ஈடுபட்டுவருவதை நீங்கள் அனைவரும் அறிவீர்கள். மக்கள் போராட்டங்களின் மூலம்தான் அவர்களின் நடவடிக்கைகளை முறியடிக்கவேண்டும்.

உயர்பாதாதுபு வலயத்தினுள் எமது மக்களின் வீடுகள், எமது கல்விச் சொத்தான பாடசாலைகள் எல்லாம் முட்ப்பட்டுள்ளன. அண்மையில் பிரதமர் ரணிலுடன் இது தொடர்பான

பாக நாம் பேசியபோது, இராணுவத்தினரோடு இன் இதுபற்றிப் பேசுவதில் பயனில்லை எனக் குறிப்பிட்டோம்.

அரசியலமைப்பு ரீதியாக, மனிதாபிமானரீதியாக இந்தப் பிரச்சினைக்குத் தீர்வு காணப்படவேண்டும். அதற்கும் அரசு தயாரில்லை எனின், மக்கள் போராட்டங்களை முன்னெடுத்து, எமது நிலத்தை மீட்கவும் தயங்கமாட்டோம் எனவும் பிரதமருக்குத் தெளிவாகக் கூறியுள்ளோம் எனத் தெரிவித்தார்.

இந்த நிகழ்வில் - பெருமளவிலான மாணவர்கள், விரிவுரையாளர்கள், வர்த்தகர்கள் எனப் பலரும் கலந்துகொண்டமை குறிப்பிடத்தக்கது.

சதுரங்கப் போட்டி

(சதுமலை)
மாண்புமயம் பரிஸ் லியோக் கழகத்தினால் கழக எல்லைக்குட்பட்ட பாடசாலை மாணவர்களிடையே நடத்தப்பட்டவள்ள சதுரங்கம், கரம் ஆகிய போட்டிகள் இன்றும், நாளையும் மாண்புமயம் மகளிர் கல்லூரியில் நடைபெறவுள்ளது.

இந்தப் போட்டிகளில் பங்குபற்ற விரும்பும் மாணவர்கள், தமது விபரங்களைப் பாடசாலை அதிபருடாகக் கழகத் தலைவருக்கு அனுப்பி வைக்குமாறு கேட்கப்பட்டுள்ளது.

இதற்கான பயிற்சிகள் கடந்த வியாழன், வெள்ளி ஆகிய இரு தினங்களிலும் பயிற்சி ஆசிரியர்களான - வித்தியாதரன், பிரதீபன் ஆகியோரால் வழங்கப்பட்டது. (91)

மாதாந்தப் பொதுக்கூட்டம்

(யாழ்ப்பாணம்)
நீர்வேலி சேவி கண்ணாடித் தொழிற்சாலை ஊழியர்களின் மாதாந்தப் பொதுக்கூட்டம் - எதிர்வரும் 26 ஆம் திகதி ஞாயிற்றுக்கிழமை காலை 11 மணியளவில், நீர்வேலி சனசமூக நிலையத்தில் நடைபெறவுள்ளது.

ஆலயங்களில் திருட்டு சம்பவங்கள் அதிகரிப்பு

(யாழ்ப்பாணம்)
சங்கானை கூடதடி மனோன் மணி அம்மன் கோயிலில் கடந்த தங்குகிழமை இரவு பெருந்தொகைப் பணம் களவுபோயுள்ளது. இதேவேளை, சதுமலை வடக்கு ஈஞ்சடி ஞானவைரவர் கோயிலுள்ள பிள்ளையார் விக்கிரகம் - கடந்த சனிக்கிழமை காணாமற்போயுள்ளது. இவ்வாறான திருட்டுச் சம்பவங்கள் அண்மைக் காலமாக அதிகளவில் இடம்பெறுவது குறிப்பிடத்தக்கது. (91)

சதுரங்க வீரர் சீவோதயன் தேசிய அணிக்குத் தெரிவு

கொழும்பில் கடந்த சில வாரங்களாகத் தேசிய சதுரங்க வீரர்களைத் தெரிவுசெய்வதற்கான போட்டிகள் இடம்பெற்றன. இவற்றில் கலந்துகொண்டு, சிறப்பாக விளையாடிய யாழ்ப்பாண சதுரங்க வீரர்- சிவானந்தன் சீவோதயன் தேசிய அணிக்குத் தெரிவுசெய்யப்பட்டுள்ளார். எட்டுப் புள்ளிகளைப் பெற்று, அணியில் நான்காவதாக இவர் வந்துள்ளார்.

யாழ்ப்பாணம் இந்துக் கல்லூரியின் பழைய மாணவரும், சதுரங்கப் பயிற்றுநருமான சீவோதயன், யாழ்ப்பாண பல்கலைக்கழகத்தின் விஞ்ஞானப் பட்டதாரியுமாவார். கடந்த பத்து வருடங்களாக யாழ்ப்பாண மாவட்ட சதுரங்கப் போட்டிகளில் பங்குபற்றியதுடன், பல போட்டிகளில் முதலாமிடத்தையும் பெற்றுள்ளார். சென்ற வருடத் தேசிய சதுரங்க அணியின் குழாமில் (pool) இவர் இருந்தமையும், சென்ற வருட சதுரங்க சாம்பியன் நிரோஸ் டி சில்வாவைப் போட்டியொன்றில் தோற்கடித்தமையும் குறிப்பிடத்தக்கது. கொழும்பு இஸ்பத்தான கல்லூரியில் அண்மையில் நிகழ்ந்த சதுரங்கப் போட்டியில், தங்கப்பதக்கத்தைப் பெற்ற இவர், நல்லூரைச் சேர்ந்த டொக்டர் சிவானந்தன் கமலராணி தம்பதிகளின் புதல்வராவார்.

உயர் தொழில்நுட்ப நிறுவனத்துக்கு நீரந்தரமான காணி கொள்வனவு

(யாழ்ப்பாணம்)
யாழ்ப்பாணம் உயர் தொழில்நுட்ப கல்வி நிறுவனத்திற்கெதிரான நீரந்தர காணியொன்று பெறப்பட்டுள்ளது. கோப்பாய் பகுதியிலேயே யாழ்.கல்வியியற் கல்லூரி அமைந்துள்ள பகுதிக்கு அருகிலேயே இந்தக்காணி அமைந்துள்ளது.

சேர்.பொன்.இராமநாதனுக்குச் சொந்தமான இந்தக் காணியைத் தமிழீழ கல்வி மேம்பாட்டுப் பேரவையும், நாடாளுமன்ற உறுப்பினர் மாலை சேனாதிராஜாவும் எடுத்துக்

கொண்ட முயற்சியின் பயனாகவே பெறப்பட்டுள்ளது.

சேர்.பொன்.இராமநாதன் நம்பிக்கை நிதியத்தின் பொறுப்பிலிருந்த இந்தக் காணியை நம்பிக்கை நிதியத்தினர் உயர் தொழில்நுட்ப நிறுவனத்திற்காக வழங்கியுள்ளமை குறிப்பிடத்தக்கது.

மிகவிரைவில் இந்தப் புதிய காணியில் விடுதி வசதி உட்படப் பல நவீன வசதிகளைக் கொண்ட கூட்டம் ஒன்று அமைக்கப்படவுள்ளதாகவும் தெரிவிக்கப்படுகிறது.

மின்பிறப்பாக்கி பழுது; அனலைதீவு இருளில்!

அனலைதீவு பிரதேசத்திற்கு இதுவரை மின்னை வழங்கிவந்த இலங்கை மின்சாரசபையின் மின் பிறப்பாக்கி பழுதடைந்தமையால் - இப்பிரதேசம் கடந்த இரு வாரகாலமாக இருளில் மூழ்கியுள்ளதாகத் தெரிவிக்கப்படுகிறது.

இப்பிரதேசத்திற்கு - மின்சார சபையினால் மாலை 7 மணிமுதல் 11 மணிவரையும், காலை 5 மணி முதல் 6 வரையும் பகுதிநேர மின்சாரம் வழங்கப்பட்டது. ஆனால், கடந்த இருவாரங்களாக மின்பிறப்பாக்கி பழுதடைந்த காரணத்தினால், மின்விநியோகம் முற்றாகத் தடைப்பட்டுள்ளது.

இப்பிரதேசத்திற்கு மீண்டும் மிக விரைவில் மின் விநியோகத்தை ஆரம்பிக்குமாறு, இந்தப் பிரதேசத்தின் சமூக நிறுவனங்கள் கோரிக்கை விடுத்துள்ளன.

அத்துடன், இங்குள்ள மக்கள் பலர் - வீட்டுமின்வேலைகளைப் பூர்த்தி செய்துவிட்டு, மின்சாரத்தைப் பெற்றுக்கொள்வதற்காக காத்திருப்பதாகவும், ஆனால் மின்சார சபையினர் தற்பொழுதுள்ள மின்பிறப்பாக்கியின் வலுக்குறைவாக உள்ளதாகக் கூறி, புதிய மின்னிணைப்புகளை வழங்கமறுத்துவருவதாக, பொதுமக்கள் தரப்பில் விசனம் தெரிவிக்கப்படுகிறது. (83)



பருத்தித்துறை மெதடித்த பெண்கள் உயர்தரப் பாடசாலையின் ஆசிரியர் தினவிழாவை பழைய மாணவர் சங்க செயலாளர் திருமதி ஜி.தவரட்ணம் மங்கள விளக்கேற்றி ஆரம்பித்துவைப்பதையும், அருகில் பதில் அதிபர் எஸ்.சண்முகநாதன் விழா தலைவர் எஸ்.என்.திருச்செல்வம் ஆகியோரையும் படத்தில் காணலாம்.

வாழ்க வளமுடன்

12 கீனிய பிறந்தநாள் வாழ்த்துக்கள்

முதலாது அகவை 01



பெயர்:
ஜெ. லக்ஷாயினி

முகவரி:
சீவன் புதுவீதி,
நல்லூர்.

இரண்டாது அகவை 02

பெயர்:
க. பானுஜா

முகவரி:
சரஸ்வதி வாசம்,
அல்வாய் தெற்கு.



மூன்றாது அகவை 03



பெயர்:
சீ. குளசீகா

முகவரி:
கோண்டாவில் மேற்கு,
நந்தாவில்.

ஆறாது அகவை 06

பெயர்:
ஆ. கிருஷ்ணவேணுகள்

முகவரி:
அல்லையம்பதி,
துன்னாலை.



ஒட்டாது அகவை 08




பெயர்:
நி. சபீனா

முகவரி:
ஜேர்மனி.

ஒட்டாது அகவை 08

பெயர்:
பு. புகழியா

முகவரி:
கனடா.



பல்லாண்டு காலம் வாழ்கவென வாழ்த்துகின்றோம்

விஞ்ஞானமும் தொழில்நுட்பவியலும் கல்ஸ் லபலூத்ரரூபந்தீர் (சுரணந்தர) பரிசைக்கான முன்னோடி வினாநாள் - 2003

- அழகத்தை அளக்கப் பயன்படுத்தும் நியம அலகு பின்வருவன வற்றுள் எது?
1. நியூட்டன் மீற்றர் 2. பாஸ்கல் 3. வார்டு 4. யூல்
- பிறப்பிமைப்பிலின் தந்தை எனப் போற்றப்படுபவர்?
1. திமித்திரி மெண்டலீவ் 2. கிரகட் மெண்டல் 3. சார்லஸ் டார்வின் 4. ஜேம்ஸ் ஜோஹன்சன்.
- அபயன் சேர்க்கப்பட்ட உப்பைப் பயன்படுத்துவதால், பின்வரும் எந்த நிலைமை ஏற்படுவதைத் தவிர்த்துக்கொள்ளலாம்?
1. நிரிழிவு 2. தொண்டைக்கழலை 3. சருமநோய் 4. இதயநோய்
- பின்வரும் எக்காரணி அதிகரிக்கும்போது, தாவர இலைகளில் இருந்து வளிமண்டலத்துள் விடுவிக்கப்படும் நிராவியின் அளவு குறைவடையும்?
1. மண்ணின் அளவு 2. வளிமண்டல ஈரப்பதன் 3. காற்றின் வேகம் 4. சூழல்வெப்பம்
- பின்வருவனவற்றில் எதில் வேகவிகிதம் ஒன்றைவிடக் குறைவாக இருக்கும்?
1. பாக்டுவெட்டி 2. சாவணம் 3. சோடாபூடி திறப்பான் 4. ஒற்றைச்சில்லுவெண்டி
- பொட்டாசியம் மங்கனேற்றின் இரசாயனச் சூத்திரம் K_2MnO_4 ஆக இருப்பின், கல்சியம் மங்கனேற்றின் சூத்திரத்தைத் தருக?
1. Ca_2MnO_4 2. $CaMnO_4$ 3. $Ca(MnO_4)_2$ 4. $Ca_2(MnO_4)_2$
- பின்வருவனவற்றில் எது நெஜிபோமின் இரசாயனக் கட்டமைப்பைச் சரியாகத் தருகின்றது?
1. $\begin{matrix} H & H & H & H \\ | & | & | & | \\ -C- & -C- & -C- & -C- \\ | & | & | & | \\ H & C & H_2 & H \end{matrix}$ 2. $\begin{matrix} H & H & H & H \\ | & | & | & | \\ -C- & -C- & -C- & -C- \\ | & | & | & | \\ H & C & H_2 & H \end{matrix}$ 3. $\begin{matrix} F & F & F & F \\ | & | & | & | \\ -C- & -C- & -C- & -C- \\ | & | & | & | \\ H & H & H & H \end{matrix}$ 4. $\begin{matrix} H & CH_3 \\ | & | \\ -C- & -C- \\ | & | \\ H & H \end{matrix}$
- சட்டவல வாயுக்கள் பற்றிய கூற்றுக்களுள் பிழையானது?
1. இவற்றின் வாயுவளிவு பூச்சியமாகும். 2. இவற்றின் வாயுவளிவு பூச்சியமாகும். 3. இவை ஏனைய முலகங்களுடன் அயனிப்பிணைப்பில் ஈடுபடும். 4. இம் முலகங்களின் இறுதிச் சத்திரம் எட்டாம் எட்டாம் நிரம்பியிருக்கும்.
- 50 கிகி திணிவுடைய ஒரு பொருளில் $4ms^{-2}$ எனும் ஆர்முடுகலை ஏற்படுத்தவல்ல விசை பின்வருவனவற்றுள் எது?
1. 100n 2. 12.5n 3. 200n 4. 800n
- கீழே தரப்பட்டுள்ள அயன்களுள் எந்தெந்த அயன்களின் இலத்திரன் நிலையமைப்பு சோடியம் அயனின் (Na^+) இலத்திரன் நிலையமைப்புக்குச் சமமானது?
a. Cl^- b. O^{2-} c. Mg^{2+} d. Ca^{2+}
1. a யும் b யும் 2. b யும் c யும் 3. a யும் c யும் 4. b யும் d யும்
- குருதியிலுள்ள வெண்குருதிச் சிறுதுணிக்கைகள் அசாதாரணமாகப் பெருக்கடைவதால் ஏற்படும் நோய் நிராய் நிலைமை?
1. ஈமோபிலியா 2. இலுக்கேமியா 3. தரம்போசிஸ் 4. அனீமியா
- வெட்டுத்துண்டங்களின் மூலம் தாவர இனப்பெருக்கலின்போது, வேர்வளர்ச்சியைத் தூண்டுவதற்குப் பயன்படுத்தப்படும் இரசாயனப் பொருள்?
1. யூரியா 2. தொலமைற் 3. யூரட்டோன் 4. மலத்தியோன்
- இரப்பர் மரத்தில் பாலை உற்பத்தி செய்யும் பார்வைக்கான பின்வரும் எவ்விழையத்தில் இருந்து விபத்தமடைந்தது?
1. காழ் இழையம் 2. உரிய இழையம் 3. கல்கட்டு மாறிழையம் 4. மையலிழையம்

இங்கே மடிக்கவும்

- 25 தொடக்கம் 30 வரையான வினாக்களுக்கு வரவு, செலவு அதிகரிப்பு, குறைவு ஆகிய பதங்களை எழுதுக.
25. சொத்து அதிகரித்தால்.....ஆகும்.
26. பொறுப்பு.....செலவு ஆகும்.
27. வருமானம் அதிகரித்தால்.....ஆகும்.
28. செலவு அதிகரித்தால்.....ஆகும்.
29. பொறுப்பு.....வரவு ஆகும்.
30. உரிமை.....செலவு ஆகும்.
31. இறுதியிடுபுக்கான சரியான இரட்டைப் பதிவு.
1. இருப்புக் கணக்கு வரவு, விபாயக் கணக்கு செலவு
2. விபாயக் கணக்கு வரவு, இருப்புக் கணக்கு செலவு
3. இருப்புக் கணக்கு வரவு, இலாபநட்டக் கணக்கு செலவு
4. இலாபநட்டக் கணக்கு வரவு, இருப்புக் கணக்கு செலவு
- கீழ்வரும் தகவலை 32 வினாவில் இருந்து 35 வினாவரை பயன்படுத்துக
காணி கட்டடம் ரூ. 75000
சரக்கிருப்பு ரூ. 30000
கடன் பட்டேர் ரூ. 15000
காச மீதி ரூ. 10000
32. மேற்படி தரவிலிருந்து மொத்த பொறுப்பின்பெறுமதி யாகு?
1. ரூ. 180000 2. ரூ. 130000
3. ரூ. 125000 4. ரூ. 55000
34. 100% திரவத்தன்மை உடைய சொத்து எது?
1. சரக்கிருப்பு 2. கடன்பட்டேர்
3. காசமீதி 4. காணி கட்டடம்
35. திரவத்தன்மை குறைந்த சொத்து எது?
1. சரக்கிருப்பு 2. மோட்டார்
3. கடன்பட்டேர் 4. காணி கட்டடம்.
36. இலாபநோக்கற்ற நிறுவனத்தில் சந்தா முற்பணம் ஒரு
1. நடைமுறைச்சொத்து 2. நடைமுறைப் பரிப்பு
3. நீண்டகாலப்பொறுப்பு 4. திரண்டநீதி
37. இலாபநோக்கற்ற நிறுவனத்தின் கொள்ளல் கொடுத்தல் கணக்கு, இலாபநோக்குடைய நிறுவனத்தில் எக்கணக்கை ஒத்தது?
1. இலாபநட்டக் கணக்கு 2. காசக் கணக்கு
3. விபாயக் கணக்கு 4. சந்தாக் கணக்கு
38. இயந்திர பெறுமானத்தேய்வு ஒரு
1. தொழில்சாலை மேன்தலை செலவாகும்.
2. நேர் செலவாகும்.
3. பயன்படுத்தப்பட்ட முலப்பொருள் செலவாகும்.
4. நிலையநீர்வாக செலவாகும்.
39. சில்லறைக் காசாளர் ஜனவரிமாத இறுதியாக இருந்த மீதித் தொகை ரூ. 1350. வசக்கட்டு மீள் நிரம்பல் 1650 எனின், சில்லறைக் காசாளரின் ஆரம்பத்தில் இருந்ததொகை யாகு?
1. ரூ. 3000 2. ரூ. 1350 3. ரூ. 1650 4. ரூ. 300
40. நிறுவனத்தில் இறுதிக்கடன்பட்டேர் 35000 ரூபாவாகும். ஜயகடன் ஏற்பாடு ரூ. 3000 எனின், அறவிடமுடியாத கடனாக ரூ. 5000 பதிவுக்கப்பட்டது எனக் கருதும்வேளை, ஜயக் கடன் ஏற்பாட்டு 5% எனின், ஜயக்கடன் மீதி யாகு?
1. ரூ. 1000 2. ரூ. 1250 3. ரூ. 3000 4. ரூ. 1500

மு.சிவப்பிரகாசம் B.B.A(Spl)
கனி/அக்கராயன் மகா வித்தியாலம்

மாணவர்களைப் பாடசாலைகளுக்குத் தேர்ந்தெடுப்பதற்கும், மாணவர்களுக்கு உதவிப்பணம் வழங்குவதற்குமாகத் தரம் 5 மாணவர்களுக்கு நடாத்தப்படும் மாதிரிப் பரிசை - 2003

பிறந்தநாள் அழைப்பிதழ்
அன்புடையீர்,
எதிர்பார்ப்புக்கிழமை 24.11.2002 அன்று பிற்பகல் 5 மணிக்கு எனது பிறந்த நாள் வைபவத்தைச் சிறப்பாக விட்டில் கொண்டாட வுள்ளேன். அதற்கும் தாங்களும் வருகை தந்து, விருந்துபசாரத்தில் பங்கு பற்றிச் சிறப்பிக்குமாறு பணிவுடன் வேண்டுகின்றேன்.

இல 35/1 A, பெரேரா லேன், இப்படிக்கு
வெள்ளத்தலை, தங்கள் நல்வரவை நாளும்
கொழும்பு - 06 க. மயூரன்.

- மேலேயுள்ள அழைப்பிதழைக் கவனமாக வாசித்தபின், இலக்கம் 01 முதல் 10 வரையுள்ள வினாக்களுக்கு விடை எழுதுக.
(1) பிறந்தநாள் வைபவத்தைச் சிறப்பாகக் கொண்டாடியவர் யார்?
(2) இவரின் பிறந்தநாள் வைபவம் எப்போது நடைபெறவுள்ளது?
(3) பிறந்தநாள் வைபவம் எங்கே நடைபெறவுள்ளது?
(4) பிறந்தநாள் என்பதை ஆங்கிலத்தில் எழுதுக?
(5) பிறந்தநாள் வைபவத்தை மிகச்சிறப்பாகக் கொண்டாடுபவர். ஓர் ஆணை அல்லது பெண்ணா? காரணம் தருக.
(6) ஒத்தசொல் தருக.
(7) வீடு.....
(8) பரிந்துரை எழுதுக.
(9) பிறந்தநாள் கொண்டாட்டம் விடுமுறை நாளிலா, கிழமை நாளிலா நடைபெறுகிறது?
(10) "கொண்டாட்டவள்ளேன்" என்பது குறிக்கும் காலம் யாகு?

- இல 11 முதல் 20 வரையுள்ள வினாக்களைக் கவனமாக வாசித்து விடையைப் புள்ளிக்கோட்டில் எழுதுக.
(11) மிகச்சிறிய எண்ணை வட்டமிடுக.
345, 453, 560, 290, 605
(12) $9875 = 9000 + 800 + \square + 5$. வெற்றுக்கட்டில் வரவேண்டிய எண்ணை எழுதுக.
(13) இவ்வெண்சட்டம் காட்டும் எண் யாகு?
ஆ நூ ப ஓ

- (14) 8, 16, 24, 32, \square , \square இவ்வெண் கோலத்தில் வெற்றுக்கட்டு களில் வரவேண்டிய இடு எண்களையும் எழுதுக?
(15) 2924 என்ற எண்ணில், இலக்கம் முன்றின் இடப்பெறுமானம் யாகு?
(16) 4, 9, 2, 7 என்ற எண்களைக் கொண்டு எமைக்கக்கூடிய மிகச்சிறிய எண் யாகு?



- (17) XXV என்ற உரோமன் எண்ணை, இந்த உரோமிய எண்களில் எழுதுக?
(18) 3/4 ஐ தசம எண்ணில் எழுதுக?
(19) 4m 25cm நீளமான நாடாவில் 1m 15cm துண்டு வெட்டப்பட்டது. பின்னர் எஞ்சியுள்ள பகுதியின் நீளமென்ன?



- (20) 8, 30 மணியை இம்மணிக்கு முகப்பில் வரைந்து காட்டுக?
இல. 21 முதல் 25 வரையுள்ள வினாக்களில் மிகப்பொருத்தமான விடையின் கீழ் கோடுக.
(21) இலங்கையிலுள்ள மிக உயர்ந்த மலை.
1. சிவனொளிபாதமலை 2. பீதுறுதாலகாலமலை 3. சிகிரியா
(22) நீரில் கரையக்கூடிய பொருட்களில் ஒன்று.
1. மண்ணெய் 2. உப்பு 3. பெற்றோல்
(23) கண்ணாக்கும், காதுக்கும் விருந்தளிக்கும் தொலைத்தொடர்புச் சாதனம்.
1. ரேடியோ 2. பத்திரிகை 3. தொலைக்காட்சி
(24) $\frac{1}{2} + \frac{1}{3}$ இக்குறியீடு உணர்த்தும் பொருள்
1. மின்குமிழ் 2. மின்கலம் 3. மின்கூள்
(25) சுற்றாடலில் இலகுவாகப் பெற்றுக்கொள்ளக்கூடிய கீரை வகை களில் ஒன்று.
1. பொன்னாங்காணி 2. பருப்பு 3. கத்தரிக்காய்

- இல. 26 முதல் 35 வரையுள்ள வினாக்களில் சரியான "சரி" எனவும், பிழையான "பிழை" எனவும் எழுதுக.
(26) வெண்கட்டி, கரும்பலகை, துடைப்பம் போன்றன கற்பித்தல் உபகரணங்களாகும்.
(27) தபாலதீர் புகையிரத நிலையத்தில் கடமையாற்றுகிறார்.
(28) பத்திரிகைகள் உள்நாட்டு, வெளிநாட்டுச் செய்திகளை வாசகர்களுக்குத் தருவதில்லை.
(29) தையல் வகைகளில் சோம் தையலும் ஒன்றாகும்.
(30) நாம் வசிக்கும் வதிவிடத்தை உறுதி செய்பவர், தாதி ஆவார்.
(31) சந்திரன் முழுமையாகத் தெரியும் நாள் பெளர்ணமி ஆகும்.
(32) கத்தரிக்கோல் 3 ஆம் வகை நெம்பு கோலாகும்.
(33) நாம் இலகுவாகப் பெறக்கூடிய பாவிப்பது சிறந்தது.
(34) நிலவழிப் போக்குவரத்துச் சாதனங்களில் கப்பலும் ஒன்று.
(35) சக்தமான நீரின் கியல்புகளில் ஒன்று மணமற்றது ஆகும்.
இல. 36 முதல் 40 வரையுள்ள சொற்களை ஆங்கிலத்தில் (ஆங்கில எழுத்துக்களில்) எழுதுக.
(36) Black board.....
(37) Monitor.....
(38) Brother.....
(39) Train.....

(40) Woodapple.....

இல. 41 முதல் 46 வரையுள்ள தமிழ்ச் சொற்களை ஆங்கில மொழியில் (ஆங்கில எழுத்துக்களை) உபயோகித்து எழுதுக.



- (41) பத்தகம்.....
- (42) நானை.....
- (43) நெய்.....
- (44) எழு.....
- (45) மேசை.....
- (46) வைத்தியர்.....

பின்வரும் பாடலைப் படித்து இல. 47 - 54 வரையான வினாக்களுக்கு விடை தருக.

வெள்ளை நிறத்தொரு புனை - எங்கள் வீட்டில் வளரூது கண்டார்
பின்னாகள் பெற்றதப் புனை - அலை பேருக்கு கொரு நிறமாகும்
சாம்பல் நிறமொரு சூட்டி - கருஞ் சாந்து நிறமொரு சூட்டி - வெள்ளைப் பார்பின் நிறமொரு சூட்டி

- (47) இந்தப் பாடல் கூறப்படும் விவங்கு எது?
- (48) இந்தப் பிராணி எந்தநுமுடையது?
- (49) புனைச்சூட்டிகள் எந்தநுமுடையவை?
- (50) வீடு என்பதற்கு ஒத்தகருத்துள்ள சொல் எழுதுக?
- (51) வெள்ளை என்பதற்கு எதிர்க்கருத்துச் சொல்லை எழுதுக?
- (52) நிறமொரு என்ற சொல்லைப் பிரித்து எழுதுக?
- (53) பாடலிலுள்ள அடிகாட்டிப் பன்மைச்சொல் ஒன்றினை எழுதுக?
- (54) வெள்ளைநிறப் புனைச்சூட்டி ஒன்று வந்தது. அதிலுள்ள எழுவாய் அடைமொழி யாது?

இல. 55 தொடக்கம் 60 வரையுள்ள வினாக்களிலுள்ள படங்களுக்குப் பொருத்தமான சொல்லை இடங்களில் எழுதுக?



- (55)
- (56)
- (57)
- (58)
- (59) ஒரு பறவையின் பெயரை எழுதுக.
- (60) ஒரு நகரின் பெயரை எழுதுக.
- (61) ஒரு பெண்பிள்ளையின் பெயரை எழுதுக.
- (62) ஒரு மிருகத்தின் பெயரை எழுதுக.

(63) பாடலையில் பயன்படும் இடத்தின் பெயரை எழுதுக.

இல. 64 முதல் 68 வரையுள்ள வினாக்களிலுள்ள வெற்றிடங்களை, அடைபிட்டுள்ள உள்ள பொருத்தமான சொல் கொண்டு நிரப்புக.

- (64) கமலா தனது குழந்தையைக் கண்ணை (முடி, புருவம், இமை) காப்பதுபோலக் காத்து வந்தாள்.
- (65) வாக்கு. (அகத்தம், சுத்தம், சுகம்) சுகம் தரும் என்பது முனாபாயார்புள்விக்கோட்டில் எழுதுக.
- (66) (ஒளையார், கம்பார், பாரதியார்) ஒரு பெண் புலவர் ஆவார்.
- (67) கருமம் தொடங்கும்போது..... பார்த்த வேண்டும். (கண்ணீர், கஷ்டம், காலம்)
- (68) நாம் ஒவ்வொருநாளும் இருக்க வேண்டும். (காட்டுமோண்டியாக, சுத்தமாக, கோபமாக)

இல. 69 முதல் 77 வரையுள்ள வினாக்களுக்குப் பொருத்தமான விடையைப் புள்ளிக்கோட்டில் எழுதுக.

- (69) இக்கோலத்தில் அடுத்ததாக வரவேண்டிய உருவை வரைக.
- (70) ஒரு பாத்திரத்தில் 5 l, 550 ml நீர் இருந்தது. அப்பாத்திரத்தில் மேலும் 3 l, 650 ml நீர் சேர்க்கப்பட்டது. தற்போது அப்பாத்திரத்திலுள்ள நீரின் மொத்த அளவு யாது?
- (71) இன்று சூரியநக்சுமையாயினை நானே மறுதினம் என்ன கிழமை?
- (72) ரூபா 100 ஐ எத்தனை ஐந்து ரூபா நாணயங்களாக மாற்றலாம்?
- (73) 8071, 7001, 8837, 4925, 4810 இவ்வெண்களை இறங்குவரிசைப்படி எழுதுக?
- (74) 2 l, 780 ml ஐ மில்லிற்றில் எழுதுக?
- (75) 815 cm ஐ, cm இல் தருக?
- (76) ஒரு பிள்ளைக்கு 5 பீஸ்கட்டுகள் கிடைக்கக்கூடியதாக, 152 பீஸ்கட்டுக்களைப் பங்கிட்டால், மீதமாக இருப்பது எத்தனை?
- (77) 1 kg தேயிலையின் விலை ரூபா 220.00 எனின், 150g தேயிலையின் விலை யாது?

இல. 78 முதல் 82 வரையுள்ள வினாக்களுக்குப் பொருத்தமான விடையைப் புள்ளிக்கோட்டில் எழுதுக.

- (78) யானையின் ஆண் கன்று என்பதுபோல, யானையின் பெண்.....
- (79) ஆட்டின் இளையது சூட்டி என்பதுபோல, பனையின் இளையது.....
- (80) கணவனை இழந்த பெண்..... ஆவாள்.
- (81) விரும்பியவற்றைத் தரும் தெய்வீகப் பசு
- (82) நாய் குரைக்கும் என்பதுபோல குதிரை

நான் ஒரு தயாராகாரன் என்ற தலைப்பில் ஆறு வாக்கியங்கள் எழுதுக. ஒவ்வொரு வாக்கியமும் நான்கு சொற்களுக்குக் குறையாமல் இருப்பதுடன், அந்த வாக்கியத்தின் எழுவாய், பயனிலையும் திருத்தமான முறையில் அமைந்த திருந்தல் வேண்டும்.

- (63)
- (64)
- (65)
- (66)
- (67)
- (68)
- (69)
- (70)
- (71)
- (72)
- (73)
- (74)
- (75)
- (76)
- (77)
- (78)
- (79)
- (80)
- (81)
- (82)

M.செழுவராமன் B.Ed Tamil Sp. Trd ஆசிரியர் ஆலோசகர், மேல்மாசாரணம்

வணிகக்கல்வியும் கணக்கீடும்

ஸ்பர்ஷ் வெலித் ஜாஸ்ப் பத்திர ஸாஸாரண மாதிரி பரீட்சை

பொருத்தமான விடையைத் தெரிச

01. ஆதிசார மனிதன் தேவைகளை எவ்வாறு நிறைவு செய்யுது சொண்டார்?
 1. நேர் உற்பத்தி
 2. நேரில் உற்பத்தி
 3. பண்டமாற்று
 4. பணத்தின் முலம்
02. மனிதவாழ்வுக்கு அவசியமானவை எவ்வாறு அழைக்கப்படும்?
 1. விருப்பங்கள்
 2. தேவைகள்
 3. வியாபாரம்
 4. வணிகம்
03. மனித தேவைகளையும், விருப்பங்களையும் பூர்த்தியேசும் கருமம் எவ்வாறு அழைக்கப்படும்?
 1. குணைச்சேவைகள்
 2. சந்தைப்படுத்தல்
 3. வர்த்தகம்
 4. வணிகம்
04. அவெல்திரேலியா நாட்டின் பண அலகின் பெயர் என்ன?
 1. லொலர்
 2. ஸ்ரேலிங் பவுண்ட்
 3. பிராங்
 4. மாரக்
05. ஒரு லக்ஸ் சவர்க்காரத்தின் விலை 20 ரூபா எனக் குறிக்கப்பட்ளது. இது பணத்தின் எத்தொற்றிபாட்டுடன் தொடர்புடையது?
 1. பரிமாற்று கம்
 2. பிற்போட்டிடொடுபனவு நியம்
 3. அளவு கோல்
 4. பெறுமானத் திரட்டு
06. தொலைக்காட்சி உற்பத்தி நிறுவனம் - முதியோர் இல்லத்தில் ஒரு தொலைக்காட்சியை இலவசமாக வழங்கியது. இது எவ்வகையான உபாயம் ஆகும்?
 1. பரிசீலனம் செய்ய்தல்
 2. விளம்பரம்
 3. விற்பனை மேம்படுத்தல்
 4. தனிப்பட்ட விற்பனை
07. 1 ஆம் நிலை உற்பத்தித் துறையில் அடங்குவது யாது?
 1. மன்பிடி
 2. சரங்கமகழ்த்தல்
 3. நீர் மின் வாயு வழங்கல்
 4. களஞ்சிய சேவை
08. தொழில் தேடுவோரும், தொழில் கொள்வோரும் தொடர்பு கொள். நாம் சந்தை எவ்வாறு அழைக்கப்படும்?
 1. முலதனச் சந்தை
 2. ஊழியச் சந்தை
 3. பணச்சந்தை
 4. பங்குச்சந்தை.
09. "சம்பளமட்டம்" எவ்வகையான புறச்சூழல் ஆகும்?
 1. சமூக கலாசார சூழல்
 2. விஞ்சான தொழில்நுட்பச் சூழல்
 3. பொருளாதாரச் சூழல்
 4. அரசியல் சட்ட சூழல்.
10. தகவல் எழுத்துருவில் வான் அலை முலம் அனுப்பப்படும் முறை எவ்வாறு அழைக்கப்படும்?
 1. பக்ஸ்
 2. டெலிக்ஸ்
 3. கூரியர் சேவை
 4. இன்ராகொம்
11. காப்புறுதி தொடர்வில் 3 ஆம் கட்சி எனப்படுவோர் யார்?
 1. காப்புறுதிகுவோர்
 2. காப்புறுதி சேய்வோர்
 3. பாத்தசாரர்
 4. வணிகர்கள்.
12. நடைமுறைவைப்பு உட்பட்ட வைப்புக்களை ஏற்று, கடனை வழங்கும் வங்கி யாது?
 1. சேயிப்புலங்கி
 2. மத்திய வங்கி
 3. வணிக வங்கி
 4. ஆசிய அபிவிருத்தி வங்கி
13. மோசடி வர்த்தகருக்கு எதிராக, நுகர்வோர் கூட்டாக நடவடிக்கை எடுப்பதற்கான சங்கம் எது?
 1. நுகர்வோர் சங்கம்
 2. ஐக்கிய நாணய சங்கம்
 3. பலநோக்கு கூட்டுறவுச்சங்கம்
 4. உணவென்போர் சங்கம்.
14. காசோலையின் முன்பக்கத்தில் பெயர் குறிக்கப்பட்டவர் அல்லது உரித்தானவர் - காசோலையின் பின் பக்கத்தில் தனது ஒப்பத்தைஎழுதும்முறை எவ்வாறு அழைக்கப்படும்?
 1. குறுக்குக் கோட்டிகள்
 2. சாட்டுதல்
 3. புறக்குறிப்புகள்
 4. ஆலோசனை வழங்கல்
15. பணத்தாடு நிறுவனங்களில் ஒன்று
 1. யோன்கீல்ஸ்
 2. மகாராஜா லீசீங்கம்பனி
 3. வரையறுத்த மேக்கன்ரைல் லீசீங்கம்பனி
 4. தேசிய சேயிப்பு வங்கி
16. ஜாஸா என்பது
 1. ஓர் வன்கட்டடு
 2. ஓர் வீசைப்பலகை
 3. ஓர் சட்டி
 4. ஒரு கண்ணிமொழி
17. ஒரு முயற்சியானதுக்கு இருக்கவேண்டிய பண்பு அல்லாதது எது?
 1. தலைமைத்துவ ஆற்றலைக் கொண்டிருத்தல்.
 2. நட்புப் பொறுப்புக்களைத் துணைவுடன் ஏற்றல்.
 3. நிறுவனத்தில் ஏற்படும் பணக்குகளில் தலையிடாது இருத்தல்.
 4. வியாபாரச் சூழலை இனம் காணும் திறன்.
18. தன் கீழ் பணியிலுருக்குச் சிறந்த வழிகாட்டலை ஏற்படுத்த, நிறுவனத்தின் விருப்பம், நம்பிக்கை, பொறுப்புணர்ச்சியை ஏற்படுத்தி, நிறுவன நோக்கத்தை அடையச் செய்ய்தல்.
 1. தலைமைத்துவம்
 2. தொடர்பாடல்
 3. ஊக்குவித்தல்
 4. செயற்படுத்தல்
19. நிறுவனத்தின் பெளதீக வளங்களைபும், மனித வளங்களைபும் ஒன்றிணைக்கும் கருமம் எது?
 1. கிட்டமிடுதல்
 2. ஒழுங்கமைத்தல்
 3. கட்டுப்படுத்தல்
 4. செயற்படுத்தல்
20. பணத்தினைப் பயன்ருவழிகளில் வைப்பிலிடுதல்..... எனப்படும்.
 1. உட்திரும்பல் நாளோட்டில் பதிவதற்கான முல ஆவணம்.
 1. வரலத்தாளர்
 2. செலவுத்தாளர்
 3. பற்றுச்சிட்டடு
 4. கைச்சாத்து
21. முதன்மை ஏடாகவும், பேரீடாகவும் பயன்படுத்தப்படும் ஏடு எது?
 1. காசேடு
 2. கொள்வனவுநாளோடு
 3. விற்பனைநாளோடு
 4. பொதுத்தினசரி ஏடு
22. தொடக்கப் பதிவுகள் முதலில் பதிப்பப்படும் ஏடு எது?
 1. பொதுத் தினசரி ஏடு
 2. கொள்வனவுத் தினசரி
 3. விற்பனை தினசரி
 4. காசேடு
23. கொடுத்த கழிவு நிரல் காசேட்டின் எந்தப்பக்கத்தில் காட்டப்படும்?
 1. காசேட்டின் செலவுப் பக்கத்தில்.
 2. காசேட்டின் வரவுப் பக்கத்தில்
 3. காசேட்டில் வரவு - செலவு இரு பக்கத்திலும்
 4. காசேட்டில் எப்பக்கத்திலும் காட்டுவதில்லை.

ஈழநாடு

267, Navalar Road, Jaffna.
T.P. - 021-2225107 www.eezhanadu.com

சின்தனைக்கு
எண்ணித் துணிக் கருமம் - துணிந்தபின்
எண்ணுவதென்பதிழுக்கு.
-திருக்குறள்.

நமது நோக்கு

வீதிப் புனரமைப்பு எப்போது?

மழைகாலம் ஆரம்பமாகியுள்ள இந்தச் சூழலில், வீதி விபத்துக்களும் அதிகமாக இடம்பெற்று வருகின்றன. கிராம வாகன விபத்துக்களால் ஏற்படுகின்ற மரணங்கள், காயங்கள் ஒருபுறமிருக்க- ஏனைய வாகனங்களால் ஏற்படும் விபத்துக்களும் அதிகரித்துவருகின்றன.

சமீப நாட்களாக, வீதிவிபத்துக்கள் அதிகமாக இடம்பெறத் தொடங்கியுள்ள நிலையில், பொலிஸாரும் வீதிக் கண்காணிப்பை தீவிரமாக்கியுள்ளனர். வீதி ஒழுங்குமுறைகளைப் பேணுவதிலும், வாகனச் சாரதிகளிடம் அனுமதிப்பத்திரங்களைக் கோருவதிலும் பொலிஸார் ஈடுபட்டுவருகின்றனர்.

கிடைக்காதே - வீதிவிபத்துக்களைக் குறைக்கவோ, தவிர்த்தவோ போதுமான நடவடிக்கைகளாக இருக்கப்போவதில்லை.

தேர்ச்சி பெற்ற சாரதிகள்கூட, எத்தனையோ விபத்துக்களில் சிக்கியிருக்கிறார்கள். இதற்குப் பல்வேறு காரணங்கள் இருக்கின்றன.

வீதிகளின் தரங்கூட, விபத்துகளுக்குக் காரணமாக உள்ளதென்ற உண்மை - அநேகருக்குப் புலப்படாமலேயே இருந்துவருகின்றது. குறிப்பாக, யாழ்.குடாநாட்டைப் பொறுத்த வரையில், வீதிகளின் நிலையைச் சொல்லித்தெரியவேண்டியதில்லை.

குடாநாட்டில் உள்ள முதல்தர வீதிகளில் இருந்து, சாதாரண சிறிய வீதிகள் வரை, மிகமோசமான நிலையில்தான் இருந்து வருகின்றன.

பல வருடங்களிற்கு முன்னர் செப்பனிடப்பட்ட வீதிகள் - அதற்குப்பின்னர் ஏதோ பெயருக்கு, ஆங்காங்கே இருந்த சிறிய சிறிய கிடங்குகளை அடைத்ததைத் தவிர, முறையாகப் புனரமைக்கப்படவில்லை.

ஏ-9 வீதி புனரமைப்புப் பற்றி பொரிதாசுப் பேசப்பட்டாலும், கின்னமும் முடிவில்லாத நிலையில் தான் உள்ளது. இந்த வீதிப் புனரமைப்பாவது, குறிப்பிட்ட காலத்துக்குள் நிறைவேறுமென்ற நம்பிக்கை இருந்தாலும், குடாநாட்டிலுள்ள வீதிகள் எப்போது புனரமைக்கப்படும் என்பதற்கு, எந்தவொரு உத்தரவாதமும் கூறமுடியாது.

பலவருடங்களுக்கு முன்னர் போடப்பட்ட வீதிகள் - இப்போது, குன்றும் குழியுமாகக் காணப்படுகின்றன. இந்த வீதிகள் தற்போதைய மழையால் பெரிதும் பாதிக்கப்பட்டு வருகின்றன. இந்தநிலையிலேயே, விபத்துக்கள் ஏற்படுவது அதிகமாகி வருகின்றது.

குன்றும் குழியுமாகக் கிடக்கும் பிரதான வீதிகளின் நிலையை சீர்செய்யப்படாதுள்ளநிலையில், சிறிய வீதிகளைச் செப்பனிடுவதற்கு நடவடிக்கை எடுக்கப்படுமா எனக் கேள்வியெழுப்புவதில் அர்த்தமில்லைத்தான்.

ஆனாலும், தொடர்ந்தும் இதே பாராமுகமான நிலை நீடித்தால்- அதனால் பொதுமக்கள் எதிர்கொள்ளும் பிரச்சனைகள், அசௌகரியங்களை சம்பந்தப்பட்ட தரப்பினர் - கண்டும்காணாமல் இருந்துவிட முடியாது.

பல இடங்களில் வீதிகளைப் புனரமைப்பதற்கென, ஒப்பந்தகாரர்களுடன் ஒப்பந்தங்கள் செய்யப்பட்டுள்ளன. ஆனால், அந்த ஒப்பந்தகாரர்களின் அசிரத்தையால், வீதிகள் செப்பனிடும் பணிகள் மந்தகதியில் இடம்பெறுவதையும் காணமுடிகின்றது.

கற்கள் வீதியோரமாகக் குவிக்கப்பட்டு பல மாதங்களாகி விட்டாலும், பிரதான வீதிகள் சீர்செய்யப்படாமல் உள்ளன. இதனாலும், வீதி விபத்துக்கள் மிகவும் தாராளமாகவே இடம்பெற்றுவருகின்றன.

அரசாங்க அதிகாரிகள், மழைகாலத்துக்கு முன்னரே இந்த வீதிகளைப் புனரமைக்க நடவடிக்கை எடுத்திருக்கவேண்டும். ஆனால், வழமை போலவே இந்த அதிகாரிகள்- அரசாங்கம் நிதி ஒதுக்கவில்லை என்று குற்றச்சாட்டுக்களை கூறி, தாம் தப்பித்துக்கொள்ள முற்படக்கூடும்.

இந்த நிலைதான் பல காலமாக நீடிக்கின்றது. இந்த நிலையை மாற்ற என்ன நடவடிக்கை எடுக்கப்பட்டது? இதன் விளைவுகள் என்ன என்பதை இந்த அதிகாரிகள் மக்களுக்கு சொல்ல வேண்டாமா?

பொதுமக்களைப் பாதிக்கின்ற இத்தகைய விடயங்களில் கூடிய கவனம் செலுத்தப்பட வேண்டியது அவசியம் என்பதை அதிகாரிகள் இனியாவது உணர்ந்து கொள்ள வேண்டும்.

ஊடகங்களுக்கான சுதந்திரம் வீழ்ச்சியடைந்து வருகின்றது!

எல்லைகளற்ற ஊடகவியலாளர் சங்கம்

பாரிஸில் இயங்கிவருகின்ற எல்லைகளற்ற ஊடகவியலாளர்கள் சங்கம் ஊடகவியலாளர்களுக்கு வழங்கப்படும் சுதந்திரம் தொடர்பான ஆய்வினை சர்வதேச ரீதியாக மேற்கொண்டுள்ளது. ஆண்டு தோறும் இவ்வாறான ஆய்வு இடம்பெற்று வருவதாகவும், இந்த ஆய்வுகளின் முடிவுகளின்படி ஊடகவியலாளருக்கு கொடுக்கப்படுகின்ற சுதந்திரங்களின் அளவு வீழ்ச்சி அடைந்து வருவதாகவும், குறிப்பிடப்பட்டுள்ளது.

இந்த வகையில் 2002 ஆம் ஆண்டு 51 சதவீதமாக இருந்த ஊடகவியலாளருக்கு அளிக்கப்படும் சுதந்திரத்தின் வீதமானது, 2003 ஆம் ஆண்டு 81 சதவீதமாக வீழ்ச்சியடைந்துள்ளது. இந்த அடிப்படையில் இந்தியாவில் 80 சதவீதத்தில் இருந்து 120 சதவீதமாகவும், பாகிஸ்தானில் 119 சதவீதத்தில் இருந்து 129 சதவீதமாகவும், அமெரிக்காவில் 135 சதவீதமாகவும்,

படையிலிருந்து தப்பியோடியோருக்கு கம்பஹாவில் விலகல் சான்றிதழ்!

படைகளில் இருந்து தப்பியோடியோரை நிரந்தரமாகச் சேவையில் இருந்து நீக்கும் திட்டம் கம்பஹா மாவட்டத்தில் நேற்று முதல் நடைமுறைப்படுத்தப்பட்டுவருகிறது.

கம்பஹா மாவட்டத்தில் மட்டும் ஐயாயிரத்திற்கும் மேற்பட்டோர் தப்பி ஓடியுள்ளனர். இவர்களைச் சேவையில் இருந்து நீக்கி, விலகல் சான்றிதழ் வழங்கும் திட்டமே நேற்று முன்தினம் ஆரம்பிக்கப்பட்டது.

இத்திட்டத்துக்கமைய கம்பஹா மாவட்டச் செயலகத்தில் நியமிக்கப்பட்ட விசேட கருமபீடத்தில் இராணுவத்திலிருந்து தப்பிச் சென்றோர் தமது ஆவணங்களைச் சமர்ப்பித்து விலகல் சான்றிதழுக்கு விண்ணப்பித்து வருகின்றனர்.

இஸ்ரேலில் 149 சத வீதமாகவும் ஊடகவியலாளருக்கு கொடுக்கப்படுகின்ற சுதந்திரம் வீழ்ச்சியடைந்துள்ளது. இவ்வாறு பாரிஸில் இயங்கிவருகின்ற எல்லைகளற்ற ஊடகவியலாளர் சங்கம் தெரிவித்தது.

இதேவேளை, ஊடகவியலாளருக்கு உரிய முக்கியத்துவம் கொடுக்கப்படும் நாடுகளில் பின்லாந்து முதலிடத்தையும், அயர்லாந்து இரண்டாவது இடத்தையும், நெதர்லாந்து மூன்றாவது இடத்தையும், நேர்வே நான்காவது இடத்தையும் பெறுகின்றன. கடந்த ஆண்டு நேர்வே ஊடகவியலாளருக்கு அளிக்கும் முக்கியத்துவத்தில் மூன்றாம் இடத்தை வகித்தது என்பது குறிப்பிடத்தக்கது. (01)

பொலிஸ்மா அதிபர் நியமனம் அடுத்த வாரம் இடம்பெறும்!

புதிய பொலிஸ்மா அதிபருக்கான நியமனம் அடுத்தவாரம் இடம்பெறும் என, சுயாதீன பொலிஸ் ஆணைக்குழு தெரிவித்துள்ளது. பொலிஸ்மா அதிபர் ரி.ஈ.ஆனந்தராஜா ஓய்வு பெற்றதை அடுத்து, ஜனாதிபதியால் - இந்திரா டி சில்வா புதிய பொலிஸ்மா அதிபராகப் பரிந்துரைக்கப்பட்டார்.

எனினும், இதனை அரசியலமைப்பு நிர்ணயசபை ஏற்றுக் கொள்ளவில்லை. இவருடன் இணைந்த தரங்கொண்ட மேலும் மூன்று சிரேஷ்ட உதவிப் பொலிஸ்மா அதிபர்கள் சேவையில் இருப்பதால், அவர்களுடைய அனுபவம் குறித்த தகவல்கள் திரட்டப்படவேண்டும் என அரசியலமைப்பு தெரிவித்திருந்தது.

இந்தநிலையில் இந்தத் திட்டத்தின் பணிகள் நடைபெற்று வருவதாகச் சுயாதீன பொலிஸ் ஆணைக்குழு தெரிவித்துள்ளது.

மைத்திரிபால சிறிசேன அனுப்பிய கடிதத்தில்

பொது இணக்கப்பாடு பற்றி குறிப்பிடவில்லை

ஜே. வி. பி வட்டாரங்கள் தெரிவிப்பு

சிறிலங்கா சுதந்திரக் கட்சியின் செயலாளர் மைத்திரிபால சிறிசேனா - ஜே.வி.பிக்கு அனுப்பிவைத்த கடிதத்தில், பொது இணக்கப்பாடு தொடர்பான எந்தவிதமான கருத்தையும் தெரிவிக்கவில்லை என்று ஜே.வி.பி வட்டாரங்கள் தெரிவித்துள்ளன. அக்கடிதத்தில், அரசாங்கத்துக்கு எதிராக மேற்கொள்ள இருக்கும் எதிர்ப்பு நடவடிக்கைகளுக்கு ஆதரவு தருமாறே,

சிப்பாயின் வீட்டிலிருந்து வெடிபொருட்கள் மீட்பு!

அனுராதபுரம், நுவரெலியா பிரதேசத்தில் உள்ள இராணுவச் சிப்பாயின் வீடொன்றிலிருந்து, பல வெடிப்பொருட்கள் மீட்கப்பட்டுள்ளன.

மூன்று கைக்குண்டுகள், 75 பல வகைப்பட்ட ரவைகள், சீனத்தயாரிப்புத் தப்பாக்கியும் பல பொருட்களும் மீட்கப்பட்டுள்ளன. பொலிஸாருக்குக் கிடைத்த தகவல் அடிப்படையில் இவ் வீடு சோதனையிடப்பட்டதெனவும், ஆயுதங்களோடு சயணை வில்லைகளும் கைப்பற்றப்பட்டுள்ளன.

இவர் நிதிமன்றத்தில் பொலிஸாரால் ஆஜர்படுத்தப்பட்ட போது நிதிபதி இவருக்கு பிணை வழங்குவதற்கு மறுப்புத் தெரிவித்ததோடு, சந்தேகநபரை இம்மாதம் 31 ஆம் திகதி வரை விளக்கமறியலில் வைக்குமாறு உத்தரவிட்டுள்ளார்.

கந்தரோடைப் பகுதியில் கசிப்பு உற்பத்தி முறியடிப்பு

கடந்த ஒரு வாரகாலமாக கந்தரோடைப் பகுதியில் கசிப்பு உற்பத்தி நடைபெற்று வந்ததை அவதானித்த பொதுமக்கள், அதை முறியடித்துள்ளனர். இதுபற்றி தெரியவருவதாவது கந்தரோடை மேற்கில் உள்ள, சங்கப்புலவு இந்து மயானத்திற்கு அண்மையிலுள்ள பற்றைக்காணி ஒன்றில் இரவு வேளைகளில் கசிப்பு உற்பத்தி நடைபெற்றுவந்தது. ஆரம்பத்தில் இதையாரும் அறிந்திருக்கவில்லை. அப்பிரதேசத்தில் புதிய நபர்களின் நடமாட்டத்தை அவதானித்த விவசாயிகளும், பொது மக்களும் ஞானவைரவ சனசமூக நிலையத்திற்கு உடனடியாக இத்தகவலை எடுத்துக்கூறினர். விழிப்புடைந்த நிர்வாகத்தினரும், அங்குள்ள இளைஞர்களுமாக ஒன்று சேர்ந்து சுமார் 50 பேர் உட்பட அப்பிரதேசத்தின் பகுதிகளை நோட்டமிட்டனர்.

இதன்பொழுது அங்கு கசிப்பு உற்பத்தியில் ஈடுபட்டதற்கான தடயங்களும், உபகரணங்களும் காணப்பட்டன. அத்தோடு அங்கு பாவித்த கிணறு 20 வருடங்களுக்கு மேல் பாவணையற்று இருப்பதாகவும், தெரியவருகிறது. பொதுமக்கள் விழிப்புடைந்ததை அறிந்த கசிப்பு உற்பத்தியாளர்கள் அன்றிரவே அகப்பட்ட பொருட்களுடன் தலைமறைவாகியுள்ளனர். சங்கப்புலவு மயானத்தை சுற்றியுள்ள பற்றைகள், வயல் வெளிகள் போன்ற இடங்கள் மாலை நேரங்களிலும், சனி, ஞாயிறு தினங்களிலும் காதல் ஜோடிகளின் உல்லாசகனமாகவும் பயன்படுகின்றது. மேற்கூறப்பட்ட பல சம்பவங்கள் இப்பகுதியில் அதிகரித்துள்ளதால் அப்பகுதி மக்கள் விசனம் தெரிவிக்கின்றனர். (42)

கோரப்பட்டுள்ளதாகத் தெரிவிக்கப்படுகிறது. பொது இணக்கப்பாடு தொடர்பான, எந்தவிதமான கருத்தும் தெரிவிக்காததால், அதில் என்ன பிரயோசனம் என்று குறிப்பிட்டு ஜே.வி.பியின் பிரதான செயலாளர் ரில்வின் சில்வா சிறிலங்கா சுதந்திரக் கட்சிக்கு கடிதம் ஒன்றினை அனுப்பியுள்ளதாக ஜே.வி.பியின் வட்டாரங்களில் இருந்து அறிய வருகிறது.

சிறிலங்கா சுதந்திரக் கட்சியால் ஆர்ப்பாட்டப் பேரணியில் பங்குபற்றுவதா இல்லையா என்பது பற்றி ஜே.வி.பி தீர்மானிக்கவில்லை என்றும் ரில்வின் சில்வா மேலும் தெரிவித்துள்ளார்.

இந்திய இராணுவத்தால் கொல்லப்பட்ட

வைத்தியசாலை ஊழியர்களின் 16வது ஆண்டு நினைவு நாள்

நேற்று அனுஷ்டிப்பு

கடமையில் இருந்த 1987 ஆம் ஆண்டு இந்திய இராணுவத்தினரால் சுட்டுக்கொல்லப்பட்ட வைத்தியசாலை ஊழியர்களின் 16 ஆவது ஆண்டு நினைவுதினம் நேற்று யாழ். போதனா வைத்தியசாலையில் அனுஷ்டிக்கப்பட்டது.

வைத்தியசாலை உத்தியோகத்தர் ப.மகேந்திரதாசன் தலைமையில் நடைபெற்ற இந்நிகழ்வில் இறந்த ஊழியர்களின் உறவினர்களால் ஈகச்சுடர் ஏற்றிவைக்கப்பட்டன.

யாழ்போதனா வைத்தியசாலைப் பணிப்பாளர் வைத்திய கலாநிதி எஸ்.சதர்முகம் கொல்லப்பட்டவர்களின் உருவப்படத்திற்கு, மலர்மாலை அணிவித்து அஞ்சலி செலுத்தினார். பின்னர் வைத்தியசாலை ஊழியர்கள் வைத்தியர்கள் என்பவரும் மலர்ஞ்சலி செலுத்தினர்.

நினைவுரைகளை வைத்தியசாலையின் நிர்வாக உத்தியோகத்தர் இ.பத்மநாதன், தலைமை மேற்பார்வையாளர் ஜே.கைலாசபிள்ளை, தாதிய உத்தியோகத்தர் க.அருட்செல்வி, பரிசோதகர் வ.கந்தசாமி ஆகியோர் நிகழ்த்தினார்கள்.

1987 ஆம் ஆண்டு ஒக்டோபர் 25 ஆம் நாள் இந்திய இராணுவத்தினர் நடத்திய தாக்குதலில் வைத்திய கலாநிதி ஒருவர் உட்பட 21 ஈழியர்கள் படுகொலை செய்யப்பட்டமை குறிப்பிடத்தக்கது.

ஐந்து கொள்ளையர்கள் பொலிஸாரல் கைது

இதுவரை சுமார் 146 கொள்ளைச் சம்பவங்களில் ஈடுபட்டதாக கூறப்படும் ஐந்து பேர், நேற்றுப் பொலிஸாரால் கைது செய்யப்பட்டுள்ளனர்.

கொழும்பிலும், அதன் சுற்றுப்புறங்களிலும், இருந்தே இவர்கள் கைது செய்யப்பட்டுள்ளனர். இக் கொள்ளையர்கள் 1992 ஆம் ஆண்டு முதல் சுமார் 60 கோடி ரூபா பெறுமதியான பணம் மற்றும் பொருட்களை இவர்கள் கொள்ளையிட்டிருப்பதாக பேலிய கோட பொலிஸார் தெரிவித்துள்ளனர். (01)

ஈரான் அணுசக்தித் திட்டத்தில் புதிய திருப்பம்: யுரேனியத்தின் செறிவைக் குறைக்க அரசாங்கம் இணக்கம் தெரிவிப்பு!



ஈரானின் சர்ச்சைக்குரிய, அணு உலைத் திட்டத்தில் புதிய திருப்பம் தோன்றியுள்ளது. அணுவாயுத உற்பத்திக்கு, அடிப்படையிலான யுரேனியத்தின் செறிவைக் குறைத்துக் கொள்ளவும்,

அது தொடர்பான ஆவணங்களில் கையெழுத்திடுவதற்கும் ஈரான் முன் வந்துள்ளது.

ஈரானில் நடைபெற்ற வெளிநாட்டு அமைச்சர்களுக்கான கூட்டத்தில் இதற்கான ஏற்பாடுகள் செய்யப்பட்டிருந்தன.

மேலும், இந்தத் தகவல்களை சர்வதேச அணுசக்தி அமைப்பு கண்காணிப்பதற்கு, ஈரான் அனுமதி அளித்தால், அணுசக்தியை ஆக்கபூர்வமான செயற்பாடுகளுக்கு அனுமதிப்பதென, ஐரோப்பிய வெளிநாட்டமைச்சர்கள் அந்தக் கூட்டத்தில் முடிவு கண்டிருந்தனர்.

இதனிடையே - லீயன்னாரில்

அமைந்துள்ள சர்வதேச அணுசக்தி அமைப்பின் பிரிவு, அணுவாயுதங்களை பயன்படுத்தப்போவதில்லை என்ற உறுதிப்பாட்டை ஓக்ரோபர் 31 ஆம் திகதிக்கிடையே ஈரான் வழங்க வேண்டுமென, காலக்கெடு விதித்திருந்தது.

மேலும், இந்த ஆண்டு ஆரம்பத்தில் - ஈரான் நடத்திய அணுசக்தி பரிசோதனையின்போது, அதிசெறிவுள்ள யுரேனியம் காணப்பட்டமைக்கு, விளக்கம் கோரியிருந்தது.

இறக்குமதி செய்யப்பட்ட உபகரணங்களில் அந்தப் படிவு இருந்ததாக ஈரான் பதிலளித்திருந்தது.



பயங்கரவாதத்திற்கு எதிரான தாக்குதல்களை நடத்த, நாய்களை எவ்வாறு ஹெலிகாப்டர் கிணங்கி கொண்டு வரப்படுகிறது என்ற பயிற்சியில் இந்தோனேஷிய போர் வீரர்கள்.

தகவல் படப்பிடிப்புக்கு நேபாளம் சென்றிருந்த பிரிட்லிஷ் படை அதிகாரிகள் குழுவினர் மாவோ போராளிகளால் தடுத்துவைப்பு!



நச்சவாயுத் தாக்குதல்களை எவ்வாறு எதிர்கொள்வது என்பது பற்றிய பயிற்சியில், விமானநிலையம் ஒன்றில் தென்கொரிய போர்வீரர்கள் ஈடுபட்டிருப்பதையும், பயணி ஒருவர் இவர்களைக் கடந்துசெல்வதையும் படத்தில் காணலாம்.

நேபாளத்தின் தலைநகர் காட்மண்டூவின் மேற்குப் பகுதியான பாகலூங் என்ற பின்தங்கிய பகுதிக்கு தகவல் படப்பிடிப்பொன்றுக்குச் சென்றிருந்த பிரிட்லிஷ் படை அதிகாரி ஒருவரும், நேபாளத்தைச் சேர்ந்த இருவரும் மாவோ தீவிரவாதிகளால் சூயிற்றுக்கிழமை இரவு முதல் தடுத்து வைக்கப்பட்டுள்ளனர்.

இந்தச் சம்பவம் நடைபெற்றபோது, பி.பி.ஸி.யின் குழுவொன்றும் அந்த

இடத்தில் இருந்ததாகத் தெரிவிக்கப்பட்டுள்ளது.

படப்பிடிப்பை நிறுத்திவிட்டு தம்முடன் வந்து தமது தலைவரை சந்திக்குமாறு கோரி போராளிகள் அவர்களை அழைத்துச் சென்றதாகவும், இவர்கள் அனைவரும் எதிர்வரும் செவ்வாய்க்கிழமை விடுவிக்கப்படவுள்ளதாகவும் அறியவருகிறது.

இதனிடையே - பிரிட்லிஷ் அரசு இராணுவ உதவிகளையும், பயிற்சி

யையும், நேபாள படைகளுக்கு வழங்கிவருகிறது.

சூர்க்கா படையணி எனப்படும் படைப்பிரிவொன்று, கடந்த 200 ஆண்டுகளாக பிரிட்டனில் இயங்கி வருகிறது.

இந்தப் படைப்பிரிவுக்கு, நேபாளத்தில் இருந்து ஆட்கள் சேர்த்துக் கொள்ளப்படுவதை மாவோ தீவிரவாதிகள் எதிர்த்துவந்துள்ளமை குறிப்பிடத்தக்கதாகும்.

பாங்கொக்கில் பயங்கரவாத எதிர்ப்பு உச்சிமாநாடு

ஒடுபக் அமைப்பின் ஆசிய பசுபிக் தலைவர்கள் - பாங்கொக்கில் அண்மையில் நடைபெற்ற உச்சி மாநாட்டில்- பயங்கரவாதம், பாரிய அழிவைத்தரும் ஆயுதங்கள் ஆகியவற்றைக் கட்டுப்படுத்துவது தொடர்பாக எடுக்கவேண்டிய நடவடிக்கைகள் குறித்து ஆராய்ந்துள்ளனர். இம்மாநாட்டுக்கு தாய்லாந்து பிரதமர் தக்ஷின் சினவத்ரா தலைமை தாங்கியிருந்தார்.

உலக நோக்கு

பலஸ்தீனம் மீதான இஸ்ரேலின் தாக்குதல்களை சர்வதேசம் எதிர்க்க வேண்டும் என்கிறார் அரபாதி!



(காஸா)
காஸாப் பகுதியில் கடந்த திங்கட்கிழமை இஸ்ரேல் நடத்திய வான் தாக்குதலில் 10 பலஸ்தீனியர்கள் கொல்லப்பட்டிருந்தனர். இது தொடர்பாக உலகநாடுகளை நடவடிக்கை எடுக்குமாறு, உலகத் தலைவர்களை பலஸ்தீன அதிபர் யசீர் அரபாத் வலியுறுத்தியிருந்தார். பலஸ்தீனத்தின் உயர்மட்டக் குழுவினரின் கூட்டத்தில் அவர் மேலும் தெரிவிக்கும்போது - குவாட் ரெற் அமைப்பு என வர்ணிக்கப்படும் அமெரிக்கா, ஐ.நா. சபை, ஐரோப்பிய யூனியன், ரஷ்யா ஆகிய நாடுகள் இந்த விடயத்தில் தலையிடவேண்டும் எனக் கேட்டிருந்தார். இஸ்ரேலின் இவ்வாறான தாக்குதல்கள், சமாதான முயற்சிகளின் வெற்றிக்குப் பெருந்தடையாக அமையுமென பலஸ்தீனப் பிரதமர் அஹமட் குரூரி குறிப்பிட்டுள்ளார்.

முக்கிய தலைவர்களைக் கொல்ல முயன்ற சந்தேகநபர்கள் பதினொரு பேர் கைதாகினர்!

ஐவரீக்கோஸ்ட் அரசாங்கம் நடவடிக்கை



அரசியல்வாதிகள், நிர்வாக அதிகாரிகள், இராணுவ அதிகாரிகள் ஆகியோரைக் கொல்வதற்குத் திட்டமிட்டதாகக் கருதப்பட்ட 11 சந்தேகநபர்களை ஐவரீக்கோஸ்ட் அரசாங்கம் கைதுசெய்துள்ளது. தமது அங்கத்தவர்களே கைது செய்யப்பட்டதாகவும், கடத்தப்பட்டதாகவும் இரு பிரதான எதிர்க்கட்சிகள் தெரிவித்துள்ளன. இதனிடையே பொது உள்வலங்களை சென்ற வாரம் அரசு தடை செய்திருந்தமை குறிப்பிடத்தக்கது. பல இனங்களைக் கொண்ட அரசு ஒன்று ஐவரீக்கோஸ்டில் ஆட்சியில் இருந்தும், முஸ்லிம்களைக் கொண்ட வடபகுதி தீவிரவாதிகளின் கட்டுப்பாட்டிலும், ஜனாதிபதி லேரான்டா காபக்கோவின் ஆட்சியில் தென்பகுதியும் அமைந்துள்ளன.

ஜோர்தானின் பிரதமர் பதவி விலகினார்!

ஜோர்தானிய பிரதமர் அலி அப்துல் ராக்கெட் தனது பதவியை திங்கட்கிழமை இராஜினாமா செய்துள்ளதாக, தலைநகர் அம்மானிலிருந்து அறிவிக்கப்பட்டிருந்தது.

இவரது ஆட்சியில் ஊழல் அதிகரித்துள்ளதாகத் தெரிவிக்கப்பட்டதன் எதிரொலியாகவே, அவர் தனது இராஜினாமாவைச் சமர்ப்பித்திருந்தார்.

2000 ஆம் ஆண்டு ஜூன் மாதம் பெரும்பான்மை வாக்குகளின் மூலம் பிரதமர் பதவிக்கு தேர்ந்தெடுக்கப்பட்ட அலி அப்துல் ராக்கெட், அந்நிய முதலீடுகளை அதிகரிப்பதும், பொருளாதாரத்தை வளர்ப்பதையே தனது முக்கிய பணியாகக் கொண்டிருந்தார்.

இவர் பதவியேற்ற காலத்தில் இருந்து 6 முறை அமைச்சரவையில் மாற்றங்களைச் செய்திருந்தமை குறிப்பிடத்தக்கது.



அமெரிக்கப் படையினரால் தாம் உடர்சோதனைக்கு உட்படுத்தப்படக்கூடாது எனக்கோரி, ஈரானின் எரிபொருள் அமைச்சின் கட்டடத்துக்கு முன்னால் தமது எதிர்ப்பை வெளிப்படுத்தும் அரசு ஊழியர்கள்.

சோனியா - ரணில் நேற்று சந்தித்தனர்!


The Leading Daily of Tamils' Homeland

மாகாணசபை வெற்றிடங்களுக்கு வேலையற்ற பட்டதாரிகள் நியமனம் ஜனாதிபதி தெரிவிப்பு

மாகாண சபைகளில் ஏற்படும் வெற்றிடங்களுக்கு, வேலையற்றிருக்கும் பட்டதாரிகளை நியமிப்பது என்று, ஜனாதிபதி சந்திரிகா பண்டாரநாயக்க குமாரதங்க உறுதியளித்துள்ளார். ஜனாதிபதி மாளிகையில் நேற்று இடம் பெற்ற, வேலையற்ற பட்டதாரிகளைச் சந்தித்தபோது, இந்த உறுதிமொழியை வழங்கினார் 'மாகாணசபை முதலமைச்சர்களுடன், அடுத்த இருவாரங்களில் பேச்சுக்கள் நடாத்திய பின்னர்- பட்டதாரிகளை வேலைக்கு அமர்த்துவது தொடர்பாக, தகுந்த நடவடிக்கை எடுக்கப்படும் என்று ஜனாதிபதி செயலக அதிகாரிகள், வேலையற்ற பட்டதாரிகள் சங்கப் பிரதிநிதிகளிடம் தெரிவித்தனர்.

(கொழும்பு)
இந்தியாவுக்கான விஜயத்தை மேற்கொண்டுள்ள பிரதமர் ரணில் விக்கிரமசிங்க - அந்த நாட்டின் எதிர்க்கட்சித் தலைவி சோனியா காந்தியை, நேற்றுப் பிற்பகல் சந்தித்துப் பேச்சுவார்த்தை நடத்தினார். இந்தப் பேச்சுவார்த்தையின்போது, இலங்கையின் சமாதான நடவடிக்கைகள் குறித்து விரிவாக ஆராயப்பட்டது. அத்துடன், இலங்கை - இந்திய உடன்படிக்கையை அடையாளப் படுத்திக்கொண்டு இரண்டு நாட்களுக்கிடையில், எதிர்கால உறவுகள் விரிவுபடுத்தப்படுவது குறித்தும், நேற்றைய சந்திப்பில் கவனம் செலுத்தப்பட்டது. இந்த உடன்படிக்கையின் பிரகாரம் திருகோணமலையில் உள்ள

எண்ணெய்தாங்கி தொகுதியை இந்திய நிறுவனம் ஒன்றுக்கு வழங்கியமை குறித்து, சோனியாகாந்தி தனது நன்றியைத் தெரிவித்தார். இந்தப் பேச்சுவார்த்தையின் போது, அமைச்சர் மிலிந்த மொறையமே குறித்து, சோனியாகாந்தி யோரும் பிரசன்னமாகியிருந்தனர்.



புலிகளின் தீர்வு யோசனை...

யில் தெரிவிக்கப்பட்டுள்ளதாவது, சமாதான நடவடிக்கைகள் விரைவில் தொடங்கவேண்டுமென்று இந்தியா கூறியுள்ளது. தற்போதைய தேக்கநிலைக்கு ஒரு தீர்வை இந்தியா வரவேற்கும். ஜுலை மாதம் இலங்கை அரசு அளித்த யோசனைகளுக்கு விடுதலைப் புலிகளின் பதில் நியாயமானதாகவும் விரிவாகவும் இருக்குமென்று இந்தியா எதிர்பார்க்கிறது. இலங்கைப் பிரதமர் ரணில் விக்கிரமசிங்கவின் இந்தியாவிற்கான மூன்று நாள் பயணமுடிவில் புதுடில்லியில் நேற்று விடுக்கப்பட்ட கூட்டறிகையில் இவ்வாறு தெரிவிக்கப்பட்ட

ள்ளது. பயங்கரவாதத்தை பலமாக எதிர்க்கவேண்டும். எந்தவொரு பயங்கரவாத இயக்கத்துக்கும் நிதியுதவியோ அடைக்கலமோ அளிக்காது ஐ.நாவின் தீர்மானத்தை முழுமையாகச் செயற்படுத்தவேண்டும் என்றும் இந்த இரு நாட்களும் விடுத்துள்ள கூட்டறிகையில் மேலும் குறிப்பிடப்பட்டுள்ளது. நடைபெற்றுக்கொண்டிருக்கும் யுத்தம், ஒத்துழைப்பு, இலங்கை பாதுகாப்பு படைகளுக்கு போர்த்தளபாடம் வழங்கல் போன்றவை பேச்சுவார்த்தையில் இடம்பெற்றன என்று தெரிவிக்கப்படுகிறது. பாதுகாப்பு ஒத்துழைப்பு உடன்

படிக்கையென்று உருவாக்குவதற்கு பேச்சுவார்த்தையை விரைவில் ஆரம்பிப்பதற்கு இரு தரப்பினரும் இணங்கியிருக்கின்றனர். இரு நாட்களினதும் கடற்பிரதேசங்களுக்குள் பிரவேசிக்கின்ற மீனவர்கள் மனிதாபிமானமாக அனுதாபத்துடன் எடுக்கும் நடவடிக்கைகள் குறித்து தெரிவிக்கப்பட்டுள்ளது. இரு நாட்களுக்கும் இடையில் விமானப் போக்குவரத்து அதிகரிக்கப்பட்டதற்கு அவர்கள் மகிழ்ச்சி தெரிவித்தனர். கொழும்பையும் கேரளாவையும் இணைக்கின்ற கப்பல் சேவையை நடத்துவதற்கும் பிளோதிருப்பதாகத் தெரிவிக்கப்படுகிறது.

இராணுவத்தினரை....

சந்திப்பு, நேற்று போர்நிறுத்தக் கண்காணிப்புக்குழு அலுவலகத்தில் நடைபெற்றது. காலை 11 மணிமுதல் பிற்பகல் 1.30 மணிவரை நடைபெற்ற இந்தச் சந்திப்பினை கண்காணிப்புக் குழுவைச் சேர்ந்த கெர்னா ஏற்பாடு செய்திருந்தார். விடுதலைப் புலிகளின் தரப்பில் யாழ். மாவட்ட அரசியற் துறைப் பொறுப்பாளர் சி.இளம்பரிதி, மாவட்ட துணை அரசியற் துறைப் பொறுப்பாளர் செம்மணன் மற்றும் இமையவன், பாலையா, கவியன்பன் ஆகியோரும், படைத்தரப்பில்- யாழ். மாவட்ட கட்டளைத் தளபதி மேஜர் ஜெனரல் சரத் பொன்சேகாவும் அவரது உதவியாளர்களும் கலந்துகொண்டனர்.

அத்துடன், மாணவர்கள் கல்வி கற்கும் குழுவையும், ஆசிரியர்கள் கல்வி கற்பிக்கும் குழுவையும் இராணுவம் ஏற்படுத்திக் கொடுக்கவேண்டும். பாடசாலைகளுக்கும், அருகிலும் இருக்கும் முகாம்கள், காவலரண்களால் கல்விச் செயற்பாடுகள் மகிழ்ச்சிகரமானதாக அமையவில்லை. இதனால், கல்வித்தரம் குறைவடைவதையும் அவதானிக்க முடிகிறது.

செய்தியாளர் தாக்கப்பட்ட சம்பவம்...

தாக்கப்படுவது தொடர்பாக விரிவாக ஆராயப்பட்டது. இதன்போது யாழ். மாவட்ட இராணுவத் தளபதி மேஜர் ஜெனரல் சரத் பொன்சேகா தெரிவித்ததாவது, எந்த உட்கட்டுவதையும் தாக்கும் எண்ணம் இராணுவத்தினருக்கு ஒருபோதும் கிடையாது. சில ஊடகங்கள் உண்மைக்கு புறம்பான செய்திகளை வெளியிடுகின்றன. செய்தியைத் திரித்துக் கூறுவதன் மூலம் இராணுவத்தினருக்கு எதிராக மக்களை தூண்டுகின்றன. இதன் மூலமாக உண்மை நிலையை அறிய முடியாதுள்ளது. ஊடகவியலாளர்களும் சில வெளி அழுத்தங்களின் காரணமாக உண்மைகளை வெளிக்கொணராமல் இருக்கலாம். இதனுடைய மறுபக்கத்திலே பாதுகாப்புப் படையினருக்கும் மக்களுக்கும் இடையிலான உறவு பாதிக்கப்படுகின்றது. இதற்கு ஆதாரமாக கூறாத மாதங்களில் வெளிவந்த செய்திகளை நான் உங்களிற்கு குறிப்பிட்டுச் சொல்ல முடியும். சயாதீனமாக எது வித அழுத்தங்களும் இன்றி செயற்பிள்ளாந்து...

பட ஊடகவியலாளர்கள் முன்வர வேண்டும். ஊடகவியலாளர்கள் சிலர் படையினரால் தாக்கப்பட்டுள்ளனர். அவை வன்முறை நடைபெற்ற இடங்களிலேயே இடம்பெற்றுள்ளன. இவ்வாறான சீர்தரப்பங்கள் தவிர்க்க முடியாதவை. இராணுவத்தினர் ஆகக் குறைந்த தமது பலத்தையே பிரயோகித்துள்ளார்கள். கண்ணீர் புகைகூண்டு, தடியடி போன்றவற்றை மட்டுமே நிகழ்த்தியுள்ளனர். ஒருபோதும் அவர்கள் மக்களை நோக்கி துப்பாக்கிப் பிரயோகம் செய்யவில்லை. சில ஊடகவியலாளர்கள் தாக்கப்பட்டது பற்றி பல செய்திகள் வெளியாகியிருந்தன. ஆனால் இச்சம்பவங்களில் படையினர் தாக்கப்பட்டுள்ளார்கள். அது பற்றிய செய்திகள் மிகக் குறைவாகவே வெளிவந்தன. வன்முறையில் ஈடுபடும் கும்ப

லுடன் சேர்ந்து ஊடகவியலாளர்கள் நிற்கும்போது அடையாளம் காண்பது படையினருக்கு சிரமம். அதே வேளை, வன்முறைச் சம்பவங்களின் போது தம்மை படம்பிடிப்பதை இராணுவத்தினர் ஒருபோதும் விரும்ப மாட்டார்கள். வன்முறைச் சம்பவங்களின்போது செய்தி சேகரிக்கும் செய்தியாளர்கள், முன்கூட்டியே அறிவிப்பது இவ்வாறான அசம்பாவிதங்கள் நடப்பதை தடுக்கும். சில வேளைகளில் நீங்கள் ஒரு குழுவாகக் கூட இயங்கலாம். அது பற்றி நிச்சயமாக எமக்கு அறிவிக்க வேண்டும். உங்கள் கடமையை செய்ய படையினர் தடையாக இருக்கக் கூடாதென நீங்கள் எதிர்பார்ப்பது போல படையினரும் தங்கள் கடமையைச் செய்யத் தடையாக இருக்காதீர்கள். இராணுவத்தினர் தொடர்பான செய்திகளை பெறுவதற்கு இணைப்பாளர் ஒருவரை நியமிக்க முடியுமா எனக் கேட்டதற்கு, அது தொடர்பாக பாதுகாப்பு அமைச்சுத்தான் முடிவெடுக்க வேண்டும் எனத் தெரிவித்தார். (111,202)

வாசனங்களால் ஏற்படும் விபத்துக்களின்போது, அதனுடன் சம்பந்தப்பட்ட இராணுவத்தினர், இறந்த பொதுமக்களின் உடல்களை அப்படி நம்புத்தியும், அதனுடன் தொடர்புடைய வாகனங்களை அகற்றுவதுமே பொதுமக்களுக்கு ஆத்திரத்தை உண்டு பண்ணுகிறது. சட்டம், ஒழுங்கைப் பேணவேண்டிய பொலிஸாரும்- இராணுவத்தினருடன் சேர்ந்து தடயங்களை அகற்றும் நடவடிக்கை பொதுமக்களை சீண்ட வைக்கிறது. எனவே, இவ்வாறான சம்பவங்கள் இனிமேல் இடம்பெறாமல் தவிர்க்கவேண்டும்.

எனவே, இராணுவ நெருக்குவாரங்கள் தவிர்க்கப்படவேண்டும். இதன் மூலம் - மாணவர்களது கல்விச் சூழல் நன்றாக அமைய இராணுவம் ஒத்துழைப்பு வழங்கவேண்டும். பருத்தித்துறை ஹாட்லிக் கல்லூரி, மெதடிஸ்த உயர்தர பெண்கள் பட்டசாலை, தெல்லிப்பளை யூனியன் கல்லூரி போன்ற பாடசாலைகளில் இராணுவ நெருக்குவாரங்கள் அகற்றப்படவேண்டும். இவ்வாறு, விடுதலைப் புலிகளால் இராணுவத்தரப்புக்குத் தெரிவிக்கப்பட்டது. இது தொடர்பாக கருத்துத் தெரிவித்த சரத் பொன்சேகா, பாடசாலைகளுக்கு அருகிலுள்ள மற்றும் பாடசாலைகளில் உள்ள முகாம்களையும், காவலரண்களையும் தற்போதைய சூழ்நிலையில் அகற்றமுடியாது. இராணுவ வாகன விபத்துக்கள் தொடர்பான விசாரணைகளை, பொலிஸாரே நடத்தவேண்டுமெனவும் தெரிவித்தார்.

பின்லாந்து... திரட்டுவதே தமது சந்திப்பின் நோக்கம் என, பின்லாந்து நாட்டுத் தூதுவர் தெரிவித்தார். இது குறுகியகால பயணமாக அமைந்துள்ளதால், கொழும்பில் ஒருநாள் தங்கி அரசியல் பிரதிநிதிகளையும் சந்தித்து விபரங்களைத் தான் திரட்டவுள்ளதாகவும், அவர் மேலும் தெரிவித்தார்.

மட்டு. போதனா... குறைவாகவும், ஆரோக்கியமில்லாமலும் இருப்பதாக வைத்திய அதிகாரி தெரிவித்தார். எனினும், நோய் தொற்றாமல் இருப்பதற்கும், பாதுகாப்பிற்குமாக குழந்தைகள் அவசர சிகிச்சைப் பிரிவில் அனுமதிக்கப்பட்டு சிகிச்சையளிக்கப்படுவதாக வைத்தியசாலை வட்டாரங்கள் தெரிவித்தன. குழந்தைகளைப் பிரசவித்த தாய் மகப்பேற்று விடுதியில் அனுமதிக்கப்பட்டுள்ளார். இவருக்கு ஏற்கனவே 3 பிள்ளைகள் உள்ளனர் என்பது குறிப்பிடத்தக்கது

முக்கிய... வரத்து, உல்லாசப் பயணம், வெளிநாட்டு முதலீடு அத்துடன் மற்றும் பல வர்த்தக நடவடிக்கைகளையும் ஏற்படுத்தியுள்ளது. இதுவரையில், இவ்வாறானதொரு ஒப்பந்தம் -இலங்கை எந்தவொரு நாட்டுடனும் செய்துகொள்ளவில்லை எனவும், இது ஒரு வித்தியாசமான ஒப்பந்தம் எனவும் தெரிவிக்கப்படுகிறது. பாதுகாப்பு தொடர்பான உடன்பாட்டில் - இலங்கை பாதுகாப்புப் படையினரைச் சேர்ந்தோர் இந்தியாவில் பயிற்சி பெறவும், இலங்கையில் பாதுகாப்பு நடவடிக்கைகளை நிலை நிறுத்துவது குறித்தும் இந்த ஒப்பந்தங்களில் கவனம் செலுத்தப்பட்டதாகவும் தெரிவிக்கப்பட்டுள்ளது.

மஹஜன சம்பத பெறுபெறுகள்
 சீட்டிழுப்பு இல: 1557 திகதி: 21.10.2003
 வெற்றி இலக்கங்கள்
 Q 4 2 8 5 6 5

SINHALA GATEWAY BY MR. MALWANA
 சிங்கள மொழியைப் பேச / எழுத / வாசிக்க முன்றே மாதங்களில் பயிற்சி பெறலாம்.
வழிகாட்டல் ஆசிரியர்
திரு. மல்வான
 நேரில் வாருங்கள் (சி.1713)
 இல.56, அம்மன் வீதி கந்தர்மடம், யாழ்ப்பாணம்.

யாழ் நகரில் விஸ்டா விஷன் டிஜிட்டல் கலர் லாப்..!!!!
 1.பழுதடைந்த பழைய படங்களை நவீன முறையில் புதுப்பித்து மெருகூட்டல்
 2.நெகட்டின் இல்லாமல் படத்தில் இருந்து படத்தைப் பிரதியாக்கம்செய்தல்
 3.டிஜிட்டல் கமராவில் இருந்து எடுக்கப்படும் படங்களைப் பிரதியாக்கம் செய்தல்
 4.அஸ்பத்திற்கான முகப்பு அட்டைப்படங்களைத் தயாரித்தல்

Vista Vision
 விஸ்டா விஷன் டிஜிட்டல் கலர் லாப்,
 52,பலாலி வீதி,யாழ்ப்பாணம்.
 :021-2225187 ஆகிய சேவைகளை வாடிக்கையாளர்களின் நன்மை கருதி விஸ்தரித்துள்ளது.