

நமது அழநாடு

தமிழர் தாயகத்தின் முன்னோடி நாளிதழ்

யாழ். மக்களின் நன்மைக்கருதி


EXPO AVIATION
LION AIR
SERENDIB EXPRESS

யாழ். - கொழும்பு - யாழ்.

முன்று விமானங்களுக்கான ரிக்கெற்றுக்களையும்
ஒரே கிடத்தில் பெற்றுக்கொள்ள...
ஹெப்பி இம்பெக்சஸ்
புதிய உயர் கல்வாரி
95, பருத்தித்துறை வீதி (ஆரியகுளம் முன்பாக)
யாழ்ப்பாணம். 021 - 2226144
24 மணி நேர சேவைக்கு 077-6038505

மலர் : 01 திருவள்ளூர் ஆண்டு : 2034 ஆவணி 10 ஆம் நாள், ஹிஜ்ரி 1425 ஜ.ஆகர் 28 (27.08.2003) புதன்கிழமை இதழ் : 327

புலிகளுடன் கலந்தாயிரையாடுவதற்கு சொல்ஹெய்யம் பாரிஸ்'க்கு பயணம்!



நேற்று நடைபெற்ற நல்லைக் கந்தன் ஆலய கிரதோற்சவத்தில் பல்லாயிரக்கணக்கான மக்கள் திரண்டிருப்பதை படத்தில் காணலாம்.

இடைக்கால நிர்வாகசபை குறித்து பேசுவார் (கொழும்பு)

வடக்கு - கிழக்கு இடைக்கால நிர்வாகம் தொடர்பான, திட்டவரையு குறித்து ஆராய்ந்து வரும் விடுதலைப் புலிகளின் அரசியல்துறைப் பொறுப்பாளர் சு.ப.தமிழ்ச்செல்வன் தலைமையிலான - சர்வதேச சட்டவல்லுனர் களை, நோர்வேயின் சமாதானத் தூதுவர் எரிக் சொல்ஹெய்யம் சந்தித்து பேச்சுவார்த்தை நடத்தவுள்ளார்.

இதற்காக எரிக் சொல்ஹெய்யம் நேற்று பாரிஸ்'க்கு பயணமாகியுள்ளார். அரசாங்கம் விடுதலைப் புலிகளிடம் சமர்ப்பித்துள்ள வட - கிழக்கு கிழக்கான இடைக்கால நிர்வாகம் தொடர்பாக, பாரிஸ் சென்றுள்ள அரசியல்துறைப் பொறுப்பாளர் சு.ப.தமிழ்ச்செல்வன் தலைமையிலான அரசியல் விவகாரக் குழு சர்வதேச சட்டவல்லுனர்களுடன் ஆராய்ந்து வருகின்றது.

கடந்த 21 ஆம் திகதி ஆரம்பமாகிய இடைக்கால நிர்வாகத்திற்கான திட்டவரையு தயாரிக்கும் பணி புர்த்தியாகும் நிலையை எட்டியிருப்பதனால், தயாரிக்கப்பட்டுவரும் இடைக்கால திட்ட வரையு குறித்து, இவர்களுடன் பேச்சு வார்த்தை நடத்தவதற்காக கவே எரிக் சொல்ஹெய்யம் அங்கு சென்றுள்ளதாக நோர்வே வெளிவிவகார அமைச்சின் பேச்சாளர் ஒருவர் தெரிவித்தார்.

பொலிஸ் ஆட்சேர்ப்பு நிலைப்பாட்டில் எந்தவிதமான மாற்றமும் இல்லை! பிரதமர் ரணில் - ஹக்கீமிடம் தெரிவிப்பு

(கொழும்பு)
கிழக்கு மாகாணத்தில் பொலிஸ் சேவைக்குப் புதிதாக ஆட்களைச் சேர்த்துக்கொள்ளும் நிலைப்பாட்டில் எவ்வித மாற்றமும் இல்லை என்று, பிரதமர் ரணில் விக்கிரமசிங்க தெரிவித்துள்ளதாக - துறைமுக அபிவிருத்தி, கப்பல்துறை அமைச்சு விடுத்த அறிக்கையில் தெரிவிக்கப்பட்டுள்ளது.

சிறிலங்கா முஸ்லிம் காங்கிரஸ் தலைவரும், அமைச்சருமான ரவூப் ஹக்கீம் நேற்று பிற்பகல் பிரதமர் ரணில் விக்கிரமசிங்கவை அலரி மாளிகையில் சந்தித்தபோதே - பிரதமர் இவ்வாறு கூறியதாகத் தெரிவிக்கப்படுகிறது.

இதேவேளை - தமிழ் நாடாளுமன்ற உறுப்பினர்கள் இந்த விடயம் தொடர்பாக, ஏதாவது யோசனைகளை முன்வைத்தால் - அவை குறித்தும் கவனம் செலுத்தப்படும் என்றும் பிரதமர் கூறியுள்ளார்.

இனப்பிரச்சினைக்கான நிரந்தரத்

சுகாதார சேவை ஊழியர்கள் வேலைநிறுத்தப் போராட்டம்

(கொழும்பு)
சுகாதார சேவை ஊழியர்களின் சுகாய்ன லீவு உட்பட அனைத்து விடுமுறைகளையும் - சுகாதார அமைச்சு ரத்துச்செய்த போதிலும், சம்பள முரண்பாடுகளைத் தீர்ப்பதில் அரசு கொடுத்த பரிந்துரைகளில் பல திருத்தங்கள் உள்ளதாகக் கூறி, அத்திருத்தங்களை உடனடியாக மேற்கொள்ள வேண்டுமென்ற கோரிக்கையை முன்வைத்து, அடையாள வேலைநிறுத்தம் ஒன்றை நேற்று சுகாதார சேவை ஊழியர்கள் மேற்கொண்டனர்.

மகரகம புற்றுநோய் வைத்தியசாலை, கொழும்பு டி.சொய்சா வைத்தியசாலை தவிர்த்த, நாட்டின் சகல (10 ஆம் பக்கம் பார்க்க)

விண்ணாவளி விநாசியர்



எம்பியும் குழப்பிறதெண்டே இருக்கணம்.

புலிகளிடம் இடைக்கால நிர்வாகமா? எதிர்த்து அம்பாறையில் ஆர்ப்பாட்டம்!

(அம்பாறை)
இடைக்கால நிர்வாகம் புலிகளுக்கு வழங்கப்படுவதை எதிர்த்து, இன்று காலை 10 மணிக்கு அம்பாறையில் ஆர்ப்பாட்டப் பேரணி ஒன்று நடைபெறவுள்ளது.

கிழக்கைப் பாதுகாக்கும் அமைப்பு - இந்தப் பேரணிக்கு அழைப்பு விடுத்தள்ளது.

வடக்கு - கிழக்கை உடனடியாகப் பிரிக்கக் கோரியும், புலிகளுக்கு இடைக்காலநிர்வாகத்தை வழங்கக் கூடாதெனவும், மக்களை ஒன்றுபட்டு மாறு இந்த அமைப்பு அழைப்பு விடுத்தள்ளது. (07)

இடைக்கால நிர்வாக சபைக்கு எதிராக பிக்குகள் முன்னணி கண்டனக்கூட்டம்!


வடக்கு - கிழக்குப் பகுதியில் இடைக்கால நிர்வாகம் ஏற்படுத்துவதனை எதிர்த்து தேசிய பிக்குகள் முன்னணி எதிர்ப்புக் கூட்டமொன்றினை நடத்தியுள்ளது.

கொழும்பு பண்டாரநாயக்க சர்வதேச மாநாட்டு மண்டபத்தில் இந்தக் கூட்டம் நேற்று நடைபெற்றது.

விடுதலைப் புலிகள் இடைக்கால நிர்வாகத்தை தமது 'தமிழ்ஈழம்' என்ற கோட்பாட்டை அடைவதற்குப் பயன்படுத்துவார்கள். இது நீண்டகால நோக்கில் நாட்டின் ஒற்றுமைக்கு நன்மை தரக்கூடியதல்ல.

சமாதானப் பேச்சுவார்த்தை மூலம் நாட்டின் பாதுகாப்பு, இறையாண்மை ஆகியவற்றை மதிப்பளிக்க அரசு தவறிவிட்டது. இதன்மூலம் நிலையான வருங்காலத்தை அமைக்க அரசிற்கு இவையோன்ற செயற்பாடுகள் வழிவகுக்கிறது.

வடக்கு - கிழக்குப் பகுதியில் இடைக்கால நிர்வாகம் அமைப்பதனை எதிர்த்து நாட்டின் ஐம்பது நகரங்களிலுள்ள 1500 புத்தவிகாரைகளில் எதிர்ப்புக் கூட்டங்கள் நடைபெறுமென இந்த முன்னணி அறிவித்துள்ளது.



எதிர்ப்புக் கூட்டத்துக்குச் செல்லும் பிக்குகள்.

EXPOAIR இலங்கையில் முன்னணி வகிக்கும் உள்நாள் விமான சேவை...
ஓதக்கீடுகளுக்கு அழைப்புகள் 021 - 2223891 2226297
0712348888 0712349999 074512666 01360290 01360291
email . jaffna @ expoavi . com. (சி -1139)

எக்ஸ்போஏயர்
வான் வெளியில்
உங்கள் தோழன்...

முதலாம் ஆண்டு நிறைவைவொட்டி



நடாத்தம்

**பாடசாலை மாணவர்களுக்கான
கட்டுரைப்போட்டி**

உயர்தரப் பிரிவு - (க.பொ.த. உயர்தர வகுப்பு மாணவர்கள்)

தலைப்பு - '21 ஆம் நூற்றாண்டில் அறிவியலின் வளர்ச்சி'

முதலாம் பரிசு - ரூபா 3,000
இரண்டாம் பரிசு - ரூபா 2,000
முன்றாவது பரிசு - ரூபா 1,000

கீழ்ப் பிரிவு - (க.பொ.த. சாதாரண தரமும் அதற்குக் கீழ் கற்பவர்களும்)

தலைப்பு - 'சூழல் மாசடைதலைத் தடுப்பதில் நமது பங்கு'

முதலாம் பரிசு - ரூபா 3,000
இரண்டாம் பரிசு - ரூபா 2,000
முன்றாவது பரிசு - ரூபா 1,000

நிபந்தனைகள்

- கட்டுரைகள் சொந்த ஆக்கமாக இருத்தல் வேண்டும்.
- கட்டுரைகள் அனுப்பும் போது பாடசாலையில் கற்கும் தரம் குறிப்பிட்டு, அதிபரால் உறுதிப்படுத்தப்படல் வேண்டும்.
- கட்டுரைகள் ஆகக் குறைந்தது 300 சொற்களுக்குக் குறையாமல் இருத்தல் வேண்டும்.
- கட்டுரைகளைத் தேர்ந்தெடுப்பதில் நடுவர்களுவினது ஆசிரியரின் முடிவே கிறுதியானது.
- கட்டுரைகள் "நமது ஈழநாடு" 267, நாவலர் வீதி, யாழ்ப்பாணம் என்ற முகவரிக்கு அனுப்பிவைக்கப்படவேண்டும்.

போட்டி முடிவுதிக்கதி - 10.09.2003

சிறுவர் இலக்கியப்போட்டி

ராஜாஸ் புத்தக நிலையத்தின் ஆதரவுடன் எழுத்தாளர் ஊக்குவிப்பு மையத்தின் 11 ஆவது ஆண்டு நிறைவைவொட்டி அகில இலங்கை ரீதியில் சிறுவர் இலக்கியச் சிறுகதைப் போட்டி நடத்தப்படவுள்ளது. வயது வேறுபாடின்றி போட்டிகளில் அனைவரும் கலந்துகொள்ளலாம். ஆக்கங்களை - ஐப்பசி மாதம் 31 ஆம் திகதிக்கு முன்பதாக, எழுத்தாளர் ஊக்குவிப்பு மையத்திற்கு அனுப்பிவைக்குமாறு கேட்கப்பட்டுள்ளது.

சிறுவிளம்பரம்

இந்திய ஸ்தல யாத்திரை

யாத்திரையில் பங்குபற்ற விரும்புவர்கள் 01.09.2003 இற்கு முன்பு பதிவு செய்துகொள்ளவும். 15.09.2003 அளவில் யாத்திரை ஆரம்பமாகும். தொடர்பு - ராகவேந்திர ஆலயம், நல்லூர். T.P-0777 110 329 (சி-461)

மணமகள் தேவை

கொழும்பை சொந்த இடமாகக் கொண்ட இந்து உயர்குல 32 வயதுடைய (பட்டதாரி) அரசாங்க எழுது வினைஞரான மகனுக்கு பெற்றோர் தகுந்த மணமகளை எதிர் பார்க்கின்றார்கள். (நட்சத்திரம் அவிட்டம் 3 ஆம் பாதம், உயரம் 5'6") சீதனம் எதிர்பார்க்கப்படும். தொடர்பு தொலைபேசி எண் - 012935797 (சி-462)


திறைஞ்சுவாஸ் சங்கானை

முற்காந், தர்ஷா நடத்த
மனசெவ்வாய்
காட்சி நேரம்: 11.00, 2.45, 6.00 (ப.நெ.)
வெள்ளி, சனி, சூயிறு தினங்களில் மட்டுமே
JUDGE AND JURY
கிரவுக் காட்சி: 8.45 (ப.நெ.)

ராஜா யாழ்ப்பாணம்

28 ஆம் திகதி வரை
விஜயகாந், கரண் விவேக் நடத்த
தெவ்வவன்
காட்சி நேரம் 10.30, 2.30, 6.30, (ப.நெ.)
29 ஆம் திகதி முதல்
பாய்ஸ்

கந்தனருள் இரந்து தீர்த்தமாடு!



செந்தமிழர் வளமோடு வாழ்ந்திருந்த நல்லைவளர் கந்தனருள் நனைந்து தீர்த்தமாடு!

வந்ததுயர் போக்கியின் வருந்துயர்கள் விலகும் நல்லைக் கந்தனருள் இரந்து தீர்த்தமாடு!!

சீந்தையெல்லாம் குகன்நனைவாய்க் செயலெல்லாம் குகன்பணியாய்க் கந்தனருள் சுரக்கத் தீர்த்தமாடு!!

வளம்மிக்க வாழ்விறந்தோம் மீண்டும்வள வாழ்வருளக் குமரனருள் நனைந்து தீர்த்தமாடு!!

கந்தா வென்றழைத்த கணத்தினிலெம் அருகல்வரும் கடம்பனருள் வியந்து தீர்த்தமாடு!!

வேண்டுவார் வேண்டுவன வேண்டும் வண்ணம் அருளுகின்ற வேலனருள் வியந்து தீர்த்தமாடு!!

பட்டதெல்லாம் போதுமினித் தொட்டதெல்லாம் துலங்கும்படி கடம்பனருள் சுரக்கத் தீர்த்தமாடு!!

கோடிசெல்வம் நாமிறந்தோம் ஓடியோடி நாமலுத்தோம் குகனருளைச் சுரக்கத் தீர்த்தமாடு!!

கண்ணிறந்து கையிறந்து கருத்திறந்து தவிக்குமெமைக் காக்கவருள் இரந்து தீர்த்தமாடு!!

கண்ணீரில் குளக்குமெமைச் சென்றீரில் மிதக்குமெமைக் காக்கும் வண்ணம் இரந்து தீர்த்தமாடு!!

மற்றவர்கள் எமையாளும் அவலநிலை தடுக்கும்வண்ணம் முருகனருள் இரந்து தீர்த்தமாடு!!

தமிழரெனத் தலைநிர்ந்து தரணியிலே நாம்வாழ குகனருளை இரந்து தீர்த்தமாடு!!

வருமாண்டில் இந்நாளில் எம்வாழ்வு வளம்கொழிக்க முருகனருள் சுரக்கத் தீர்த்தமாடு!!

குறவள்ளி குஞ்சரியார் கணபதி சண்டேசுரரும் குகனுமருள் சுரக்கத் தீர்த்தமாடு!!

வயலூர் முருகன்



**இரண்டு நிறைவைவொட்டி நடத்தப்படும்
சிறுகதை; கவிதைப் போட்டிகள்**

சிறுகதை - முதலாம் பரிசு - 6,000 ரூபா
இரண்டாம் பரிசு - 4,000 ரூபா
முன்றாவது பரிசு - 2,000 ரூபா

கவிதை - முதலாம் பரிசு - 6,000 ரூபா
இரண்டாம் பரிசு - 4,000 ரூபா
முன்றாவது பரிசு - 2,000 ரூபா

நிபந்தனைகள்

- எழுதுபவரின் சொந்த ஆக்கமாக இருக்க வேண்டும். ஏறகனவே பத்திரிகையிலோ, ஏனைய உட்களங்களிலோ வெளிவராதவையாக இருக்க வேண்டும்.
- மொழிபெயர்ப்பு ஆக்கங்கள் ஏற்றுக்கொள்ளப்படமாட்டாது.
- கதைகள் ஈழநாடு பத்திரிகையின் ஒரு பக்கத்துக்குள் அடங்குவதாக இருக்கவேண்டும். தட்டச்சில் பொறிக்கப்பட்டவையாக இருந்தால் 5 பக்கங்களுக்குள்ளும் கையால் எழுதப்பட்டதானால் 7 பக்கங்களுக்குள்ளும் இருத்தல் வேண்டும்.
- கதைகள், கவிதைகள் சமகால, சமூகப் பிரச்சினைகளை மையமாக வைத்து எழுதப்படல் வேண்டும்.
- ஆக்கங்கள் யாவும் 10.09.2003 ஆம் திகதிக்குள் "நமது ஈழநாடு" 267, நாவலர் வீதி, யாழ்ப்பாணம் என்ற முகவரிக்கு அனுப்பி வைக்கப்படவேண்டும்.
- நமது ஈழநாடு பத்திரிகையில் கடமைபுரிபவர்களோ, அவர்கள் குடும்பத்தவர்களோ இப்போட்டியில் பங்குபற்ற முடியாது.
- பரிசுக்குரிய ஆக்கங்களை தேர்வு செய்வது நடுவர் குழுவினதும், ஆசிரியரினதும் முடிவாகும்.

**யாழ். மாநகரசபை
மீள் கேள்வி அறிவித்தல் - 2003**

கீழ் குறிப்பிட்ட வித வேலைகளுக்கான மீள் கேள்விகள் 'இக்ராட்' நிறுவனத்தில் தரம் '10' அல்லது அதற்கு மேற்பட்ட தரத்தில் பதிவு செய்யப்பட்டுள்ள ஒப்பந்தகாரர்களிடமிருந்து என்னால் கோரப்படுகின்றன.

கேள்விப்பத்திரங்கள் வழங்கப்படும் கடைசிக்கதி:- 3.9.2003 பி.ப. 3.00 மணி
கேள்விகள் ஏற்றுக்கொள்ளப்படும் திகதி :- 5.9.2003 மு.ப. 10.00 மணி
மீள் கேள்விகள் திறந்து பரிசீலிக்கும் திகதி :- 5.9.2003 மு.ப. 10.30 மணி
புரண்படுத்தப்பட்ட கேள்விப்பத்திரங்கள் யாவும் அரக்கு முத்திரையிடப்பட்ட கடித உறையில் வைக்கப்பட்டு, மாநகர ஆணையாளர், மாநகரசபை, யாழ்ப்பாணம் என முகவரியிடப்பட்டு, கேள்விகள் ஏற்றுக்கொள்ளப்படும் கடைசீ திகதிக்குமுன்பு கிடைக்க கூடியதாக பதிவுத் தபாலில் அனுப்பப்படவேண்டும் அல்லது இதற்கென இவ்வலுவலகத்தில் வைக்கப்பட்டுள்ள கேள்விப்பெட்டியில் கிடப்படவேண்டும். கேள்விப்பத்திரத்தைக் கொண்டுள்ள கடித உறையின் கிடது பக்க மேல் முலையில் கேள்வியின் பெயர் குறிப்பிடப்பட வேண்டும். கேள்விகள் திறந்து பரிசீலிக்கும் தினத்தில் கேள்வி சமர்ப்பித்தவர் அல்லது அவரது அங்கீகரிக்கப்பட்ட பிரதிநிதி சமூகமளிக்க முடியும். கிது தொடர்பான மேலதிக விபரங்களை அலுவலகத்தில் அலுவலக நேரத்தில் பெற்றுக்கொள்ளலாம்.

வேலையின் பெயர்	மீளளிக்கக்கூடிய கேள்வி தவப்புப்பணம்	மீளளிக்கப்படாத கேள்விப்பத்திர கட்டணம் வறு உட்பட
1. கொழும்புத்துறை 1ம் குறுக்குத்தெரு	2000/-	300/-
2. கொழும்புத்துறை 2ம் குறுக்குத்தெரு	2000/-	300/-
3. கொழும்புத்துறை 4ம் குறுக்குத்தெரு (மதகு உட்பட)	2000/-	300/-
4. உப்புக்குளம் வீதி, கொழும்புத்துறை	2000/-	300/-
5. கொழும்புத்துறை 5ம் குறுக்குத்தெரு	2000/-	300/-
6. அருளம்பலம் லேன்	2000/-	300/-
7. பொன்னம்பலம் வீதி	2000/-	300/-
8. சின்னாலன் கண்டு வீதி	2000/-	300/-
9. குகன் வீதி	2000/-	300/-
10. முள்ளி வீதி	2000/-	300/-
11. ஆள்காட்டி லேன்	2000/-	300/-
12. அம்பாள்வீதி, நாயன்மார்க்கட்டு	2000/-	300/-
13. பெஸ்கி சனசமூகநிலைய ஒழுங்கை	2000/-	300/-
14. தேவர்க்குளம் லேன்	2000/-	300/-
15. சீனிவாசகம்வீதி	2000/-	300/-

**மாநகரசபை,
யாழ்ப்பாணம்
26.8.2003**

(சி-1412)

**இ.இராமலிங்கம்
மாநகர ஆணையாளர்
யாழ்ப்பாணம்.**

மாகாணசபைத் தேர்தல் குறித்து ஆராய பொ.ஐ.முன்னணி மத்திய குழு கூடுகிறது



மாகாண சபைகளுக்கான தேர்தலை, குறித்த காலத்துக்கு முன்னர் நடத்துவதா அல்லது சபைகளின் ஆயுட்காலம் முடிவடைந்த பின்னர் நடத்துவதா என்பது குறித்து, பொது

ஜன ஐக்கிய முன்னணியின் மத்திய குழு கூடி ஆராயவுள்ளதாகக் கட்சியின் பொதுச் செயலாளர் டி.எம். ஜெயரட்ண தெரிவித்தார். மாகாணசபைத் தேர்தல்கள் குறித்து முடிவுகளை எடுப்பதற்காக, பொ.ஐ.முன்னணியின் மத்திய குழு எதிர்வரும் செப்டம்பர் முதலாம் திகதி கூடவுள்ளது. பொ.ஐ.முன்னணியின் முன்னாள் அறு மாகாணசபைகளுக்கான தேர்தல், அடுத்த வருட முற்பகுதியில் இடம் பெறவேண்டும் என்பதால், கூட்டணியிலுள்ள கட்சிகள் - வேட்பாளர்களைத் தெரிவுசெய்யும் பணியை ஆரம்பித்துள்ளன. முன்கூட்டியே மாகாணசபைகளைக் கலைத்து, ஜனாதிபதி சந்திரிகா குமாரதுங்க

தேர்தல் நடத்தலாம் என்பதால், வேட்பாளர்களைத் தெரிவுசெய்யும் பணியை இக்கட்சி ஆரம்பித்துள்ளது. பொ.ஐ.மு. மத்தியகுழுக்கூட்டத்தில் - மாகாணசபைத் தேர்தல்கள் நடத்துவது குறித்து ஆராய்வதற்கு முன்னோடியாக, தமது கட்சியின் ஆட்சியிலுள்ள ஆறு மாகாணங்களின் முதலமைச்சர்களுக்கும் - ஜனாதிபதி சந்திரிகா குமாரதுங்க அனுப்பியுள்ள கடிதத்தில்

மாகாணசபைக்கு உடனடியாகத் தேர்தல்களை நடத்துவதா அல்லது ஆயுட்காலம் முடிந்த பின்னர் தேர்தல் நடத்துவதா நல்லது என்று தமது கருத்துக்களைத் தெரிவிக்கும்படி கேட்டுள்ளார். முதலமைச்சர்களின் கருத்தின் அடிப்படையிலேயே தேர்தல்கள் நடத்துவது குறித்து, ஜனாதிபதி சந்திரிகா குமாரதுங்க தீர்மானிப்பாளத் தெரியவருகிறது.

சகோதரருக்கிடையான காணித் தகராறு கைகலப்பில் முடிவு!

(யாழ்ப்பாணம்) காணித் தகராறு கைகலப்பில் முடிந்த சம்பவம் ஒன்று நல்லூரில் இடம்பெற்றுள்ளது. சகோதரர்கள் இருவருக்கிடையில் நீண்ட காலமாக நிலவிவந்த காணித் தகராறு கைகலப்பில் முடிந்ததில் தம்பி, அண்ணனைத் தாக்கிக் காயப்படுத்தினார். தாக்குதலுக்குள்ளானவர் - கையிலும் நெஞ்சுப் பகுதியிலும் பலமாகத் தாக்கப்பட்டுள்ளதாகத் தெரிவிக்கப்படுகிறது. இந்தச் சம்பவத்தில் - சம்பந்தப்பட்ட தம்பிக்கு எதிராக, அண்ணன் யாழ்ப்பாணம் பொலிஸ் நிலையத்தில் முறைப்பாடு செய்துள்ளார்.

சுயவிருப்பின் பேரில் ஓய்வுபெறுவோரின் சுற்றறிக்கை திருத்தப்பட்டதால் ஊழியர்கள் பெரிதும் பாதிப்பு!

அரசாங்க திணைக்களங்கள், நியதிச்சபைகளில் இருந்து சுயவிருப்பின் பேரில் ஓய்வுபெறுவோர் பற்றிய சுற்றறிக்கை திருத்தம் செய்யப்பட்டதனால், பல அரச ஊழியர்களுக்குப் பாதிப்பு ஏற்பட்டுள்ளது என்று தெரிவிக்கப்படுகிறது. ஏற்கனவே நடைமுறையிலுள்ள சுற்றறிக்கையின் பிரகாரம், - ஓய்வு பெறும் வயது 60 ஆகக் கணிக்கப்பட்டு, நஷ்டஈட்டுத்தொகை வழங்கப்பட்டுவந்தது. தற்போது திருத்தம் செய்யப்பட்ட சுற்றறிக்கையின் பிரகாரம், ஓய்வு பெறும் வயதெல்லை அவர்களது நியமனக் கடிதத்தில் குறிப்பிட்டுள்ளவாறு, 55 ஆக அல்லது 60 ஆகக் கணிக்கப்பட்டு, நஷ்டஈடு வழங்கப்படும் என்று தெரிவிக்கப்பட்டுள்ளது. இதனால், 1975 ஆம் ஆண்டின் பின்னர் அரச சேவையில் உள்வாங்கப்பட்ட 55 வயதில் ஓய்வுபெறவேண்டிய ஊழியர்கள் பாதிக்கப்பட்டுள்ளதாக, சம்பந்தப்பட்ட ஊழியர்கள் கவலை தெரிவித்துள்ளனர்.

கிழக்கு பொலிஸ் ஆட்சேர்ப்பு; நேர்முகத்தேர்வுக்கு 2000 பேர்!

(கொழும்பு) தமிழக கட்சிகள் எதிர்த்தாலும், அதைப் பொருட்படுத்திக் கொள்ளாமல், அரசு - கிழக்கிலங்கையில் மேற்கொண்ட பொலிஸ்படைக்கான நேர்முகத் தேர்வில், இரண்டாயிரம் பேர் கலந்துகொண்டுள்ளதாகத் தெரிவிக்கப்படுகிறது. இந்த 2000 பேரில், சிங்கள இனத்தவர்கள் கூடிய அளவிலும், முஸ்லிம் இனத்தவர் அதற்கடுத்த நிலையிலும், மிகக்குறைந்த அள

வில் சில தமிழ் இளைஞர்களும் கலந்துகொண்டதாகச் செய்திகள் தெரிவிக்கின்றன. கிழக்கில் இடம்பெற்ற இரு முஸ்லிம் இளைஞர்களின் கொலைகளைச் சாட்டாக வைத்து, முஸ்லிம் அரசியல்வாதிகள் கொடுத்த அழுத்தத்தை ஏற்றுக்கொண்டு, ரணில் அரசு புதிதாக அமைப்பதற்கு, இனக்கிய 500 பொலிஸ் உத்தியோகத்தர்களையும், 50 பொலிஸ் இன்ஸ்பெக்டர்களையும் உள்ளடக்கிய புதிய

பொலிஸ்படைக்கான நேர்காணல், கடந்த சில நாட்களாக இடம்பெற்றது. முதல் இரண்டு நாட்களிலும், கிழக்கு மாகாணத்தில் 2000 இளைஞர்கள் கலந்து கொண்டதாகவும், இதிலே 98 விதமானவர்கள் சிங்கள இளைஞர்கள் என்றும், இரண்டாவது நிலையில் சிங்களத்தை முதல் மொழியாகக் கொண்ட முஸ்லிம் இளைஞர்களே அடங்கியிருந்ததாகவும் கிழக்கிலங்கை செய்திகள் தெரிவிக்கின்றன.

இ.தொ.கா. முக்கியஸ்தர்கள் மீண்டும் ஐ.தே.கட்சியில்!

(கொழும்பு) ஜனாதிபதி சந்திரிகா தலைமை தாங்கும் பொ.ஐ.முன்னணியில் இதுவரை காலமும் அங்கம் வகித்த, ஐந்து இலங்கைத் தொழிலாளர் காங்கிரஸ் உறுப்பினர்கள் - பிரதமர் ரணில் விக்கிரமசிங்க தலைமையிலான ஐக்கிய தேசியக் கட்சிக்கு மாறியுள்ளனர். ஐ.தே.கவுக்கு மாறியுள்ள பி.பி. தேவராஜ், டி.எம்.ராஜன் ஆகியோர் தேசியப் பட்டியலிலும், ரி.வி.செனன்,

எஸ்.சதாசிவம், ஆர்.ராஜரட்ணம் ஆகியோர் தங்களது பிரத்தியேகத் தொகுதிகளிலும், ஐக்கிய தேசியக் கட்சியின் சார்பில் எதிர்வரும் தேர்தலில் போட்டியிடவுள்ளதாகத் தெரிவிக்கப்படுகிறது. முன்னைய நாடாளுமன்றத்தில் ஒன்பது ஆசனங்களை வைத்திருந்த இலங்கை தொழிலாளர் காங்கிரஸ் கட்சி, அப்போது ஐக்கிய தேசியக் கட்சியில் அங்கம் வகித்தாலும், பின்னர் அக்கட்சியிலிருந்து விலகி,

சந்திரிகா தலைமையிலான பொ.ஐ.முன்னணியில் இணைந்து கொண்டது. பின்னர் நாடாளுமன்றம் கலைக்கப்பட்டபோது பொ.ஐ.முன்னணியிலேயே தொடர்ந்தும் அங்கம் வகித்த இவர்கள், தற்போது மீண்டும் ஐக்கிய தேசியக் கட்சியில் இணைந்துகொண்டுள்ளதன், எதிர்வரும் தேர்தலில் ஐக்கிய தேசியக் கட்சியின் சார்பில் போட்டியிட முன்வந்துள்ளனர்.

பொ.ஐ.முன்னணி ஆட்சியை ஏற்படுத்த அனைவரும் ஒன்றிணைய வேண்டும்!

எதிர்க்கட்சித் தலைவர் மகிந்த ராஜபக்ஷ

அரசாங்கத்தினால், கடந்த பொதுத் தேர்தலின்போது, மக்களுக்கு அளித்த வாக்குறுதிகளை நிறைவேற்ற முடியாமற்போயுள்ளதாக, எதிர்க்கட்சித் தலைவர் மகிந்த ராஜபக்ஷ தெரிவித்தார். தேரணியகலையில் - இடம்பெற்ற, சிறிலங்கா சுதந்திரக் கட்சியின் பிரதேசமட்ட சம்மேளனத்தின் கூட்டத்

தில் உரையாற்றும்போதே அவர் இதனைத் தெரிவித்தார். தமது எல்லா குறைகளையும், சமாதான முன்னெடுப்புகளைக் காரணங்காட்டி - அரசாங்கம் மறைத்துக் கொள்வதாகவும் அவர் கூறினார். அப்பாவிப் பொதுமக்களின் பொருளாதார நிலையை உயர்த்துவதாகக் கூறிய அரசாங்கம், அவர்களை

மேலும் கஷ்டங்களுக்கு உள்ளாக்கியுள்ளது. இவ்வாறான சூழ்நிலையில் - சிறிலங்கா சுதந்திரக்கட்சி தலைமையிலான பொதுஜன ஐக்கிய முன்னணியின் ஆட்சியை ஏற்படுத்த, சகல இன மக்களும் ஒன்றிணைய வேண்டிய அவசியம் ஏற்பட்டுள்ளதாகவும் அவர் சுட்டிக்காட்டினார்.

முஸ்லிம்களை ஆயுதமேந்த ஐ.தே.மு. வழிசெய்கின்றது! அனூரா பண்டாரநாயக்க குற்றச்சாட்டு

முஸ்லிம்கள் ஆயுதமேந்த, ஐக்கிய தேசிய முன்னணி அரசாங்கம் வழிசெய்கின்றது. கிழக்கு முஸ்லிம்களின் பாதுகாப்பு நிலைமைகள் மோசமடைந்து வருகின்றது. இதற்கான பொறுப்புகளை, தற்போது ஆட்சியில் உள்ள அரசாங்கம் ஏற்றுக் கொள்ளவேண்டும் என, பொதுஜன ஐக்கிய முன்னணியின் கம்பகாமாவட்ட, நாடாளுமன்ற உறுப்பினர் அனூரா பண்டாரநாயக்க தெரிவித்தார். மல்வத்தை என்ற பிரதேசத்தில் அமைந்த சேனவத்தையில் இரண்டு முஸ்லிம் மக்கள் அண்மையில் கொல்லப்பட்டுள்ளார்கள். அரசு, முஸ்லிம்கள் மீதான தாக்குதல்களுக்கு எதிராக நடவடிக்கைகள்

எடுக்கத் தவறிவிட்டது. மக்களின் கௌரவத்தையிட்டு ஐக்கிய தேசியக் கட்சிக்கு எதுவிதத்திலும் ஈடுபாடு கிடையாது. வடக்கு கிழக்கு மாத்திரம் அல்லாது, தெற்கும் சீழிவுகளுக்கு உள்ளாகியிருக்கிறது. 1983 ஆம் ஆண்டில் - ஐக்கிய தேசியக் கட்சியினால் உருவாக்கப்பட்ட தமிழர்களுக்கெதிரான கசப்புணர்வு, 'ஜூலைக் கலவரத்துக்கு' வித்திட்டது. அதேபோன்று ஜே.வி.பியை அர

சியலில் பங்குகொள்ளப்பாது தடுத்தமையே, ஆயுதக் கிளர்ச்சிக்குத் துணைபுரிந்தது. முஸ்லிம் மக்களுக்குப் பாதுகாப்புக் கொடுக்கத் தவறினால், தம்மைப் பாதுகாப்பதற்கு அவர்கள் ஆயுதமேந்த வேண்டி ஏற்படலாம் என, அனூரா பண்டாரநாயக்க தெரிவித்தார். விடுதலைப் புலிகளின் நலன்களை மாத்திரம் கருத்தில் கொள்வதால், வடக்கு - கிழக்கில் முஸ்லிம்கள் ஆயுதமேந்த வழிவகுக்கும் என அவர் மேலும் தெரிவித்தார்.

சமரச முயற்சிகளுக்கு அப்பாலும் கண்காணிப்புக்குழு செயற்படவேண்டும்!

சர்வதேச மன்னிப்புச்சபை கோருகிறது போரிற்றுத்தக் கண்காணிப்புக்குழு - அரசாங்கத்துக்கும், விடுதலைப் புலிகளுக்கும் இடையில் சமரசம் செய்வதன் மட்டும் நின்று விடாமல், இதற்கு அப்பாலும் செயற்படவேண்டும் என்று, சர்வதேச மன்னிப்புச் சபை அதிகாரி ஒருவர் தெரிவித்தார்.

சமரச நடவடிக்கைக்கு அப்பாலும் செயற்படுவதற்கு ஆட்பற்றாக்குறையைக் கண்காணிப்புக்குழு எதிர்நோக்கினால், நோர்வே அரசாங்கத்தின் மூலம் இதற்குத் தீர்வு காணலாம் எனவும், சர்வதேச மன்னிப்புச் சபை அதிகாரி தெரிவித்தார்.



அரசாங்கத்துக்கும், சமாதான முயற்சிகளுக்கும் எதிராக, ஜே.வி.பியினர் நேற்றுமுன்தினம் காலியில் ஆரம்பித்த நான்குநாள்களான பாதயாத்திரையில் சில காட்சிகள்.

தரம் 5 புலமைய்பரிசில் பரீட்சை

மாணவருக்கான முன்னாயத்தப் பயிற்சிகள்



மாணவர் மலர்

இப்பகுதியை வாசித்து இல. 1 முதல் 17 வரையுள்ள வினாக்கூறிய விடைகளை புள்ளிக்கோட்டின் மீது எழுதுக.

மரக்கிளையின் மேலிருந்த மாம்பழக்குருவியானது, மலர்ப் போகும் ஒரு மொட்டைப் போன்று காட்சி அளித்தது. இடையிடையே தன் தலையை அசைத்து சுற்றும் முற்றும் பார்த்து குருவி, ஆபத்து என எண்ணும் அதனையும் காணவில்லை. எனினும், துரதிஷ்டமாக அக்குருவி பார்க்காத ஒரு பக்கம் இருந்தது. அது சிறிதேனும் அப்பக்கத்தைப் பார்த்திருந்தால், தன்னை கிரையாக்குவதற்கு, தனக்கு மிக அருகில் குறி பார்த்திருக்கும் சாரைப் பாய்ப்பைக் கண்டிருக்கும். பழைய தேய்ந்த சைக்கிள் ரயரைப் போன்ற, கறுப்பு நிறமான சாரைப்பாய்ப்பு - சிறிய பூ மொட்டைப் போன்ற மாம்பழக்குருவியை அவ்வேளையில் பிடித்துக் கொண்டது. குருவி கீச், கீச் எனப் புலம்பியது.

1) இப்பந்தியில் குறிப்பிட்ட ஒரு பிராணி சாரைப்பாய்ப்பு ஆகும். இங்கு குறிப்பிட்ட இன்னொரு பிராணியின் பெயரை எழுதுக. (.....)

2) சாரைப்பாய்ப்பு எங்கே இருந்தது? (.....)

3) சாரைப்பாய்ப்பு என்ன செய்தது என்பதை உமது வசன நடையில் எழுதுக? (.....)

4) கீழே தரப்பட்டுள்ள சொற்களில் பன்மைச் சொற்களை எழுதுக?

- 4) கிளை
- 5) பிராணி
- 6) மேலே
- 7) கறுப்பு

5) கீழே தரப்பட்டுள்ள சொற்களின் ஒத்த கருத்துச் சொற்களை எழுதுக?

- 8) மொட்டு
- 9) நிறம்

6) மேலே தரப்பட்டுள்ள பந்தியில் அடைமொழிச் சொற்கள் இரண்டு எழுதுக?

- 10)
- 11)

7) மேலே தரப்பட்டுள்ள பந்தியில் உள்ள உவமைகள் இரண்டு எழுதுக?

- 12)
- 13)

8) கீழே தரப்பட்டுள்ள ஒவ்வொரு சொல்லுக்கும் பொருத்தமான ஆங்கிலச் சொல்லை (ஆங்கில எழுத்துக்களில்) எதிரே உள்ள

1) இல எவ்வளவு?
2. 700 ரூபா. 3. 1000 ரூபா. 4. 370 ரூபா.
பாரந்து வழங்குவதற்கு ஏதுவான கணக்கு.
2. கேள்விக் கணக்கு.
வைப்புக்கணக்கு. 4. மேற்கூறியவை யாவும்.
முறை ஒன்றில் அடிப்படைக் கூறுகள் தொடர் தமற்றது.

2. ஊடகம். 3. வசதி. 4. நிலையம்.
முள்ள காப்புறுதிக் கோட்பாடொன்றாக அமை வர்க்கை.
2. காப்புறுதி செய்யும் உரிமை.
உத்தரவாதம். 4. காப்புறுதியின் பெறுமானம்.
த தொடர்பாடல் ஊடகமாகக் குறிப்பிடக்

1) உலக ஒளிபரப்பு.
2) ஒளிபரப்பு.
3) இணையம் (Inter Net) அமைப்பு.
4) இணையம் அலைவரிசை.
5) இணையம் ஒன்று அல்லாதது.
6) எச்சரிக்கும் உரிமை.
7) உரிமை.
8) உரிமை.

9) தரநிர்ணய சான்று வழங்கும் நிறுவனம்.
10) ல், விஞ்ஞான ஆராய்ச்சிக் கழகம்.
11) கட்டளை நிறுவனம்.
12) கல் அபிவிருத்திச் சபை.
13) சபை.

14) மைக்கப்பட்டு முதலீட்டு வழிகள் அல்லாதது.
15) திறைச்சரிமுறி.
16) திறைச்சரிமுறி.
17) திறைச்சரிமுறி.
18) திறைச்சரிமுறி.
19) திறைச்சரிமுறி.
20) திறைச்சரிமுறி.
21) திறைச்சரிமுறி.
22) திறைச்சரிமுறி.
23) திறைச்சரிமுறி.
24) திறைச்சரிமுறி.

25) திறைச்சரிமுறி.
26) திறைச்சரிமுறி.
27) திறைச்சரிமுறி.
28) திறைச்சரிமுறி.
29) திறைச்சரிமுறி.
30) திறைச்சரிமுறி.
31) திறைச்சரிமுறி.
32) திறைச்சரிமுறி.
33) திறைச்சரிமுறி.
34) திறைச்சரிமுறி.
35) திறைச்சரிமுறி.

36) திறைச்சரிமுறி.
37) திறைச்சரிமுறி.
38) திறைச்சரிமுறி.
39) திறைச்சரிமுறி.
40) திறைச்சரிமுறி.
41) திறைச்சரிமுறி.
42) திறைச்சரிமுறி.
43) திறைச்சரிமுறி.
44) திறைச்சரிமுறி.
45) திறைச்சரிமுறி.

46) திறைச்சரிமுறி.
47) திறைச்சரிமுறி.
48) திறைச்சரிமுறி.
49) திறைச்சரிமுறி.
50) திறைச்சரிமுறி.
51) திறைச்சரிமுறி.
52) திறைச்சரிமுறி.
53) திறைச்சரிமுறி.
54) திறைச்சரிமுறி.
55) திறைச்சரிமுறி.

56) திறைச்சரிமுறி.
57) திறைச்சரிமுறி.
58) திறைச்சரிமுறி.
59) திறைச்சரிமுறி.
60) திறைச்சரிமுறி.
61) திறைச்சரிமுறி.
62) திறைச்சரிமுறி.
63) திறைச்சரிமுறி.
64) திறைச்சரிமுறி.
65) திறைச்சரிமுறி.

66) திறைச்சரிமுறி.
67) திறைச்சரிமுறி.
68) திறைச்சரிமுறி.
69) திறைச்சரிமுறி.
70) திறைச்சரிமுறி.
71) திறைச்சரிமுறி.
72) திறைச்சரிமுறி.
73) திறைச்சரிமுறி.
74) திறைச்சரிமுறி.
75) திறைச்சரிமுறி.

76) திறைச்சரிமுறி.
77) திறைச்சரிமுறி.
78) திறைச்சரிமுறி.
79) திறைச்சரிமுறி.
80) திறைச்சரிமுறி.
81) திறைச்சரிமுறி.
82) திறைச்சரிமுறி.
83) திறைச்சரிமுறி.
84) திறைச்சரிமுறி.
85) திறைச்சரிமுறி.

86) திறைச்சரிமுறி.
87) திறைச்சரிமுறி.
88) திறைச்சரிமுறி.
89) திறைச்சரிமுறி.
90) திறைச்சரிமுறி.
91) திறைச்சரிமுறி.
92) திறைச்சரிமுறி.
93) திறைச்சரிமுறி.
94) திறைச்சரிமுறி.
95) திறைச்சரிமுறி.

புள்ளிக்கோட்டின் மீது எழுதுக?

- 14) பறவை
- 15) மலர்
- 16) தலை
- 17) கண்

9) கீழே தரப்பட்டுள்ள பந்தியை வாசித்து வினா 18 முதல் 28 வரையிலான வினாக்களுக்கு விடைகளை எழுதுக?

கோகுலம் ஆரம்பப் பாடசாலையின் மாணவான இந்திரன், கெட்டிக்காரச் சிறுவன். பத்து வயதுடைய அவன், ஐந்தாம் தரத்தில் கல்வி கற்கிறான். குடும்பத்தில் முத்தவனான அவனுக்கு - ஆனந்த் என்னும் சகோதரியும், ஆனந்தன் என்னும் சகோதரனும் உள்ளனர். சித்தார்த்தன் என்ற பெயருடைய அவனின் அப்பா ஒரு விவசாயி. மாலினி என்ற பெயருடைய அவனது அம்மா - வீட்டு வேலைகள் செய்வதிலும்; பிள்ளைகளைப் பராமரிப்பதிலும் முழுநாளையும் செலவழிப்பார்.

10) இப்பந்தியின் பிரதான நபர் பற்றிய விவரங்களைத் தரப்பட்டுள்ள அட்டைப்பத்திரத்தில் எழுதி நிரப்புக.

அட்டைப்பத்திரம்

- 18) முழுப் பெயர் :
- 19) வயது :
- 20) தந்தையின் பெயர் :
- 21) தந்தையின் தொழில் :
- 22) தாயின் பெயர் :
- 23) தாயின் தொழில் :
- 24) குடும்பத்தினுள்ள பிள்ளைகளின் எண்ணிக்கை :

11) கீழே தரப்பட்டுள்ள ஒவ்வொரு ஆங்கிலச் சொல்லுக்கும் பொருத்தமான தமிழ்ச் சொல்லை - மேலுள்ள பந்தியில் இருந்து தெரிந்து புள்ளிக் கோட்டில் எழுதுக?

- 25) Child (.....)
- 26) Farmer (.....)
- 27) Grade (.....)
- 28) Clever (.....)

12) கீழே தரப்பட்டுள்ள ஒவ்வொரு கூற்றும் சரியாயின் சரி அடையாளத்தையும், பிழையாயின் பிழை அடையாளத்தையும், எதிரேயுள்ள புள்ளிக்கோட்டின் மீது எழுதுக?

29) நுளம்புகள் விரும்பி உண்ணும் ஒரு செடி - துளசி ஆகும். (.....)

இங்கே மடிக்கவும்

பகுப்பு: V.பிரகலாதன்

19. தனிவியாபார உரிமையானது மிக அதிகளவில் பரந்திருப்ப தற்கான காரணம் யாது?
1. பதிவு செய்யவது முக்கியமல்ல என்பதால்.
 2. வியாபாரத்தைக் கொண்டு நடத்துவது இலகு என்பதால்.
 3. தீர்மானம் எடுப்பதில் பிரச்சினைகளில்லை என்பதால்.
 4. உரிமையாளர் எல்லையற்ற இலாபத்துக்கு உரித்துடையவர் என்பதால்.
20. பங்குடைமை ஒன்று நிலைத்திருப்பதனை (சிறப்பாக) உறுதிப்படுத்தக்கூடியதாக இருப்பது.
1. பங்காளர் முலதனத்திற்குச் சமமான பங்களிப்பைச் செய்யும்போது.
 2. எல்லாப் பங்காளரும் உற்சாகமாக முகாமதைத்துவத்தில் ஈடுபட்டிருக்கும்போது.
 3. எழுதப்பட்ட ஒப்பந்தம் ஒன்றின் முலமாகப் பங்குடைமையில் இணைவதனால்.
 4. பங்குடைமையைப் பதிவு செய்வதனால்.
21. வரையறுக்கப்பட்ட பொதுக்கம்பனி ஒன்று அதிகளவு முலதனத்தைச் சேர்த்துக் கொள்ளக்கூடிய நிலையில் இருப்ப தற்கான காரணம்
1. இது ஒரு சட்டபூர்வ அமைப்பாக இருப்பதாகும்.
 2. அங்கத்தவர் எண்ணிக்கையில் எல்லையில்லாமல் இருப்பதாகும்.
 3. பங்குதாரர்களது பொறுப்பு வரையறுக்கப்பட்டதாக இருப்பதாகும்.
 4. இது தொகுக்கடன்களை வழங்குவதற்கு அதிகாரம் இருப்பதாகும்.
22. கூட்டுறவுச் சங்கங்கள் தொடர்பான பிழையான கூற்று யாது?
1. இலாப நோக்கமற்றது.
 2. அங்கத்தவர் நலனுக்கு முன்னுரிமை வழங்குவது.
 3. சமூக சேவையிலும், பொதுநல சேவையிலும் மிகுந்த ஈடுபாடு கொண்டுள்ளது.
 4. குறித்த ஒரு குழுவுக்கு அல்லது பிரதேசத்துக்கு அங்கத்துவமானது.
23. பின்வரும் முகவர்களின் மிகுந்த அதிகாரத்தைத் தன்னகத்தே கொண்டிருப்பவர்.
1. ஏலவர்.
 2. காரண்கர்.
 3. தரகு முகவர்.
 4. பொறுப்பு முகவர்.
24. அரச அமைப்புக்கள் தமக்குரிய பொருட்களை வாங்க, விற்க பின்பற்றும் பொதுவானமுறை.
1. கேட்பு விற்பனை.
 2. ஏல விற்பனை.
 3. நேர் விற்பனை.
 4. கடன் விற்பனை முறை.
25. சில்லறைக் காசேட்டு முற்பண முறைமை என்பதால் கருதப்படுவது.
1. சில்லறைக் காசாளருக்கு முற்பணம் வழங்குதல்.
 2. சில்லறைக் காசாளர் செலவுகளுக்கு முற்பணம் வழங்கல்.
 3. சில்லறைக் காசாளர் குறிப்பட்ட வரைதான் செலவுசெய்ய முடியும்.
 4. எப்போதும் ஒரு உச்ச தொகையளவு பேணப்படும்.
- 26) பின்வருவனவற்றுள் பொதுக் குறிப்பேட்டில் பதியப்படும் கொடுக்கல் வாங்கல்களில் ஒன்று.
1. காசுக்கு விற்பனை 40,000 ரூபா.
 2. தேறிய இலாபம் 5,000 ரூபா முலதனக் கணக்கிற்கு மாற்றியது.
 3. அமலனுக்கு விற்பனை 40,000 ரூபா.
 4. கடனுக்குக் கொள்வனவு 9,000 ரூபா.
27. உயர்தொழில் முயற்சி இலங்கையில் பொதுவாகப் பின்வரும் எந்த வகை அமைப்பினூடாக மேற்கொள்ளப்படும்.
1. தனி வியாபாரி.
 2. தனிக்கம்பனி.
 3. பங்குடைமை.
 4. பொதுக்கம்பனி.
28. கடன்படுநர் ஒருவருக்கு 10 % கழிவு கொடுத்தபின், அவரிடமிருந்து கிடைத்த காசு 6,300 ரூபா. கடன்படுநருக்குக்

- கொடுத்த கழிவு எவ்வளவு?
1. 630 ரூபா.
 2. 700 ரூபா.
 3. 1000 ரூபா.
 4. 370 ரூபா.
- 29) காசோலை வரைந்து வழங்குவதற்கு ஏதுவான கணக்கு.
1. சேமிப்புக் கணக்கு.
 2. கேள்விக் கணக்கு.
 3. நிலையான வைப்புக்கணக்கு.
 4. மேற்கூறிப்பவை யாவும்.
- 30) போக்குவரத்துமுறை ஒன்றில் அடிப்படைக் கூறுகள் தொடர்பான பொருத்தமற்றது.
1. பாதை.
 2. ஊடகம்.
 3. வசதி.
 4. நிலையம்.
31. பின்வருவனவற்றுள் காப்புறுதிக் கோட்பாடுடொன்றாக அமை யாதது.
1. மிக்குயர் நம்பிக்கை.
 2. காப்புறுதி செய்யும் உரிமை.
 3. நட்பு உத்தரவாதம்.
 4. காப்புறுதியின் பெறுமானம்.
32. நவீன பல்வழித் தொடர்பாடல் ஊடகமாகக் குறிப்பிடக் கூடியது.
1. ருவாஹினி உலக ஒளிபரப்பு.
 2. தூரதர்ஷன் ஒளிபரப்பு.
 3. வலைப்பின்னல் (Inter Net) அமைப்பு.
 4. ருவாஹினி டிஸ்கவரி அலைவரிசை.
33. நுகர்வோர் உரிமைகளில் ஒன்று அல்லாதது.
1. வியாபாரியை ஏச்சரிக்கும் உரிமை.
 2. தெரிவு செய்யும் உரிமை.
 3. கவன ஈர்ப்பு உரிமை.
 4. தகவல்களை அறிந்து கொள்ளும் உரிமை.
34. இலங்கையில் தரநீர்ணய சான்று வழங்கும் நிறுவனம்.
1. கைத்தொழில், விஞ்ஞான உராய்ச்சிக் கழகம்.
 2. இலங்கைக் கட்டளை நிறுவனம்.
 3. கைத்தொழில் அபிவிருத்திச் சபை.
 4. முதலீட்டுச் சபை.
35. முறைசார் (அமைக்கப்பட்ட) முதலீட்டு வழிகள் அல்லாதது.
1. வங்கிவைப்பு.
 2. திறைசேரிமுறி.
 3. சீட்டு.
 4. திறைசேரி உண்டியல்.
36. பங்குகள் தொடர்பான சட்டகளை (INDEX) வழங்கும் பணியை மேற்கொள்வது.
1. திறைசேரி.
 2. மத்தியவங்கி.
 3. முலதனச்சந்தை.
 4. பங்குப் பரிமாற்றகம்.
37. வியாபார வங்கிச் சேவையல்லாதது.
1. வைப்புக்களை ஏற்றல்.
 2. குத்தகைச் சேவை.
 3. ஆலோசனைச்சேவை.
 4. ஒப்புறுதிச் சேவை.
38. வங்கி இணைக்ககற்றில் இடம்பெறும் காரணி அல்லாதது.
1. தேறாத காசோலை.
 2. வைப்பிட்டு மறுத்த காசோலை.
 3. மாற்றப்படாத காசோலை.
 4. வங்கிக்கற்றில் தவறுதலாகச் செலவில் காணப்பட்ட பிரிதொருவருக்குரிய தொகை.
39. கிரயத்தின் பிரதான கூறுகளாய் அமைவது.
1. நேர் பொருட் கிரயம், நேர் கூலிக் கிரயம், நேர் செலவுக் கிரயம்.
 2. நேர் பொருட் கிரயம், நேர் கூலிக் கிரயம், நேரீற் கிரயம்.
 3. நேர் பொருட் கிரயம், நேர் செலவுக் கிரயம், நேரீற் பொருட் கிரயம், நேரீற் செலவுக் கிரயம்.
 4. நேர் பொருட் கிரயம், நேர் கூலிக் கிரயம், நேர் செலவுக் கிரயம், நேரீற் கிரயம்.
40. ஆரம்ப முலப்பொருள் இருப்பு 10,000 ரூபா, முலப் பொருட் கொள்வனவு 50 ஆயிரம் ரூபா, மின்சாரம் 6,000 ரூபா, உட் சமைக் கூலி 4,100 ரூபா, நேர்ச் செலவு 10,000 ரூபா, இறுதி முலப்பொருள் இருப்பு 14,000 ரூபா.
1. முலக் கிரயம் எவ்வளவு?
 2. 60,000 ரூபா.
 3. 66,000 ரூபா.
 4. 54,000 ரூபா.

தொகுப்பு: V.நிகலாதன்

தரம் 5 புலமை முன்னாயத்தல்

இப்பகுதியை வாசித்து இல. 1 வினாக்குரிய விடைகளை பள்ள

மரக்கிளையின் மேலிருந்த மாம்ப போகும் ஒரு மொட்டைப் பே இடையிடையே தன் தலையை பார்த்த குருவி, ஆபத்து என எ வில்லை. எனினும், துரதிஷ்டம் ஒரு பக்கம் இருந்தது. அது சி பார்த்திருந்தால், தன்னை இண மிக அருகில் குறி பார்த்திருக்கும் ருக்கும். பழைய தேய்ந்த சைக்கி நிறமான சாரைப்பாம்பு - சிறி மரம்பழுக்குருவியை அவிவேளைப குருவி கீச், கீச் எனப் புலம்பித்

- 1) இப்பந்தியில் குறிப்பிட்ட ஒரு இங்கு குறிப்பிட்ட இன்றொரு
- 2) சாரைப்பாம்பு எங்கே இருந்தது
- 3) சாரைப்பாம்பு என்ன செய்தது நடையில் எழுதுக?

கீழே தரப்பட்டுள்ள சொற்களில் பக் கிளை
பிரணி
மேலே
கறுப்பு

கீழே தரப்பட்டுள்ள சொற்களின் எழுதுக?

- 8) மொட்டு
- 9) நிறம்

மேலே தரப்பட்டுள்ள பந்தியில் அ எழுதுக?

- 10)
- 11)

மேலே தரப்பட்டுள்ள பந்தியில் எ எழுதுக?

- 12)
- 13)

கீழே தரப்பட்டுள்ள ஒவ்வொரு 6 ஆங்கிலச் சொல்லை (ஆங்கில எழு

இங்கே மடிக்கவும்

30) பச்சை நிறத்தையும், சிவப்பு நிறத்தையும் கலந்து கபில நிறத்தைப் பெறலாம்.

31) ஒரு சாதாரண கடிதத்தை அஞ்சலில் போடுவதற்குத் தம்போது ரூ.3.50 சத முத்திரை ஒட்டுதல் வேண்டும்.

32) தேயிலை ஒரு நாட்டுக்கே உரிய பயிராகும்.

33) வாய் பேசாது, உபகரணங்களைப் பயன்படுத்தாது, நடத்தைகளீழலம் நடத்தல் - சைசை நடிப்பு எனப்படும்.

சரியான விடையின் கீழ் கோடிடுக?

34) நீருடன் நன்கு கலக்கக்கூடிய திரவம் யாது?

1. மண்ணெண்ணெய்
2. வினாகிரி
3. பெற்றோல்
4. தேங்காயெண்ணெய்

35) குழந்தைப்பருவத்தில் பால் குடித்து வளரும் பறவை எது?

1. தீக்கோழி
2. ஆந்தை
3. வெள்ளவால்
4. ஆட்காட்டிக்குருவி

36) நெத்தலியை உண்பதனால் உடலுக்குக் கிடைக்கும் போசணைப் பொருள் யாது?

1. புரதம்
2. கொழுப்பு
3. வீற்றமின் A
4. கல்சியம்

37) ஒரு காந்தத் துண்டின் முனையை, இன்னொரு காந்தத் துண்டின் முனைக்கு அருகில் பிடித்தபோது, முனையை காந்தத் துண்டு லிசுசுசென்றது. இதனைக் குறிக்கும் சொல்.

1. கவர்சல்
2. கடத்துதல்
3. விரிவடைதல்
4. தள்ளுதல்

38) ஆரம்பத் தையல் முறையின் கீழே வரும் ஒரு தையல் முறை?

1. சோம் தையல்
2. வெட்டுக் குத்துத் தையல்
3. நரம்புத் தையல்
4. மீள்முள்ளுத் தையல்

சரியான விடையின் கீழ் கோடிடுக?

1. மண்ணெண்ணெய்
2. வினாகிரி
3. பெற்றோல்
4. தேங்காயெண்ணெய்

39) ஈக்கள் உணவில் அமடுகின்றன.

40) அசுத்தமான உணவை உண்பதனால் குழிமீகள் உணவில் சேருகின்றன.

41) குப்பை கூழாங்கனினால் ஈக்கள் பெருகுகின்றன.

42) சிலர் வீடுகளின் அருகில் குப்பை கூழாங்களை குவித்து வைக்கின்றனர்.

43) உடலினுள் கிருமிகள் செல்வதால், வயிற்றுலி ஏற்படுகிறது.

44) ஈக்களின் காலில் இருக்கும் அசுத்தங்கள் உணவில் சேருகின்றன.

சரியான விடையின் கீழ் கோடிடுக?

1. மண்ணெண்ணெய்
2. வினாகிரி
3. பெற்றோல்
4. தேங்காயெண்ணெய்

கெரிந்து, 45 முதல் 49 வரையிலான வினாக்களின் இடைவெளிகளை நிரப்புக.

பாரதூக்கி, துருக்கி, மட்டியலை, தூக்குக்குண்டு, சீஷி, கப்பலை, வள்ளி, தூறியணை.

45) நெருப்பு எரியக் காற்றை வழங்கும் உபகரணம்.

46) மரப்பலகையை அழுத்தமாக்கப் பயன்படும் உபகரணம்.

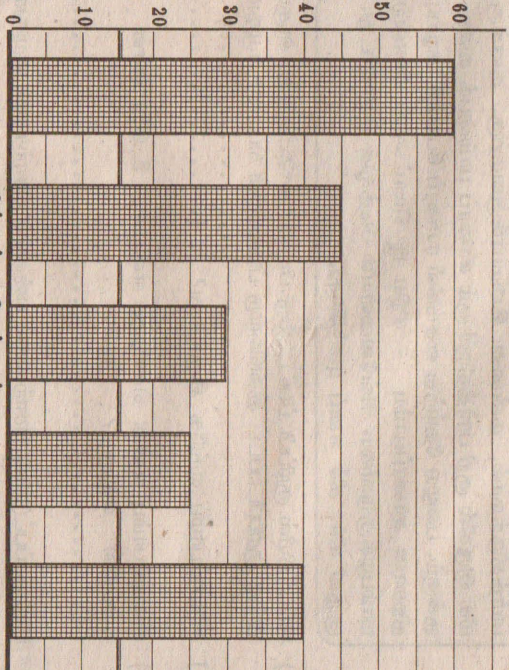
47) பாரங்களை மேலே உயர்த்தப் பயன்படும் கருவி.

48) வயலில் சேற்றை மட்டமாக்கப் பயன்படும் உபகரணம்.

49) ஒரு சுவரை நிலைக்குத்தாக்கக் கட்டியெழுப்பப் பயன்படும் உபகரணம்.

சரியான விடையின் கீழ் கோடிடுக?

1. மண்ணெண்ணெய்
2. வினாகிரி
3. பெற்றோல்
4. தேங்காயெண்ணெய்



50) திங்கட்கிழமை விற்க பாலின் அளவு எவ்வளவு?

51) ஞாயிறு, திங்கள் ஆகிய இரு நாள்களிலும் விற்க பாலின் அளவு எவ்வளவு?

52) புத்தன்மைவழி ஞாயிறுக்கிழமை எவ்வளவு பால் கூடுதலாக விற்கப்பட்டுள்ளது?

53) ஒரு லீற்றர் பால் ரூ.32 எனில், செவ்வாய்க்கிழமை விற்க பாலினால் பெற்ற வருமானம் யாது?

54) பால் நிரப்பப்பட்ட பாத்திரங்கள் 2 லீற்றர் கொள்ளக்கூடியவை எனின், வியாழக்கிழமை விற்க பால் பாத்திரங்களின் தொகை எவ்வளவு?

55) ஞாயிறுக்கிழமை விற்கப்பட்ட பாலின் அளவு வேறு இரண்டு நாட்களில் விற்கப்பட்ட பாலின் அளவை விட, மிகவும் அதிகமாகும். அந்த இரு நாட்களின் பெயரையும் எழுதுக?

சரியான விடையின் கீழ் கோடிடுக?

1. மண்ணெண்ணெய்
2. வினாகிரி
3. பெற்றோல்
4. தேங்காயெண்ணெய்

சரியான விடையின் கீழ் கோடிடுக?

1. மண்ணெண்ணெய்
2. வினாகிரி
3. பெற்றோல்
4. தேங்காயெண்ணெய்

சரியான விடையின் கீழ் கோடிடுக?

1. மண்ணெண்ணெய்
2. வினாகிரி
3. பெற்றோல்
4. தேங்காயெண்ணெய்

க.வா.சீ.

வணிகக் கல்வியும் கணக்கும்

01. வியாபாரம் என்பது.

1. இலாபத்தை உழைத்தல்.
2. பொருட்களை விற்கல்.
3. பொருட்களை வாங்குதல்.
4. பண்பெறுமதி அடிப்படையில் பொருட்கள் உரிமையை மாற்றல்.

02. வணிகம் என்பதன் இறுத்தத் தொழிற்பாடு

1. நுகர்வு.
2. விற்பனை.
3. பங்கீடு.
4. வியாபாரம்.

03. வணிகச் சூழலானது அகச்சூழல், புறச்சூழல் என இருபகுதிகளாகப் பிரிக்கப்படும். புறச்சூழலுக்கு உதவியாக முடியாததொன்றை பின்வருவனவற்றில்

1. தொழிலுட்பம்.
2. சமூகமும்
3. சனத்தொகை.
4. நிலத்தின் நிலம்.

04. பின்வருவனவற்றுள் கடைபிடிக்க வேண்டியவை

1. சட்டம்.
2. தொலைத்
3. சுகநெய்.
4. தளபாடம்

05. திறந்த சந்தையின் அலகுகளில் ஒன்று

1. நுகர்வோர் தெரிவித்த காரணப்படி.
2. போளவு உற்பத்தியின் நன்மை கிடைக்க
3. புதிய கண்டுபிடிப்புகள், புதுமை படைக்க
4. உலகின் சகல பகுதிகளுக்கும் அறிவு வழங்கல்.

06. உள்நாட்டு உற்பத்தி அதிகரிப்பின் ஒரு பகுதி

1. அதிகரிக்கும்.
2. குறையும்.
3. மாறாது.
4. மேற்கூறியவை

07. நுகர்வோரின் சேமிப்பு நாட்டின் அக்சுரிப்பின் ஒரு பகுதி

1. கேள்வி குறையும்.
2. கேள்வி அதிகரிக்கும்.
3. நிரம்பல் அதிகரிக்கும்.
4. நிரம்பல் குறையும்.

08. அரசாங்கமானது வணிகத்தைக் கட்டுப்படுத்தும்

1. ஒழுங்குபடுத்துவதாக.
2. வழங்குவதாக.
3. வாடிக்கையாளராக.
4. மேற்கூறியவை

09. வணிகத்தின் ஒரு சமூகப்பொறுப்பு யாது

1. பங்குதாரர்களுக்கு நன்மைகளை அளிப்பது.
2. சூழலைப் பாதுகாத்தல்.
3. உழியர்களுக்கு நியாயமான சம்பளத்தை வழங்குதல்.
4. வணிகத்தை விரிவுபடுத்துதல்.

❖ பின்வரும் கொடுக்கல் வாங்கல்களை கொண்டு, 10 ஆம் 11 ஆம் 12 ஆம் வினாக்களுக்கு

A. பணத்தின் ரூபா 200,000 என்னும் தொகை முதலீடு செய்யப்பட்டுள்ளது.

B. இயந்திரம் ஒன்று ரூபா 100,000 என்னும் தொகை விலை செலவழிக்கப்பட்டுள்ளது.

க. பொ. ச. சாதாரணத் தரப் பரீட்சை

மாநில விஷயத் தர்ப் பரீட்சை - I

வணிகக் கல்வியும் கணக்கீடும் - I

01. வியாபாரம் என்பது.
1. இலாபத்தை உழைத்தல்.
 2. பொருட்களை விற்கல்.
 3. பொருட்களை வாங்குதல்.
 4. பணப்பெறுமதி அடிப்படையில் பொருட்கள், சேவைகளின் உரிமையை மாற்றல்.
02. வணிகம் என்பதன் இறுதித் தொழிற்பாடு.
1. நுகர்வு.
 2. விற்பனை.
 3. பங்கீடு.
 4. வியாபாரம்.
03. வணிகச் சூழலானது அதச்சூழல், முச்சூழல், என இரு வகைகளாகப் பிரிக்கப்படும். முச்சூழலுக்கு உரீபதாகக் கருதப்பட முடியாதகாரண பின்வருவனவற்றில் எது?
1. தொழிலூட்டம்.
 2. சமூகமும் பண்பாடும்.
 3. சனத்தொகை.
 4. மூலதனம்.
04. பின்வருவனவற்றுள் கடையில் பண்டம் அல்லாதது.
1. சட்டை.
 2. தொலைக்காட்சிப் பெட்டி.
 3. சீக்ரெட்.
 4. தளபாடத் தொகுதி.
05. திறந்த சந்தையின் அலகுகளில் ஒன்று அல்லாதது.
1. நுகர்வோர் தெரிவுரிமை காணப்படல்.
 2. பேரளவு உற்பத்தியின் நன்மை கிடையாது.
 3. புதிய கண்டுபிடிப்புகள், புதுமை படைப்புகள் ஏற்படல்.
 4. உலகின் சகல பகுதிகளுக்கும் அபிவிருத்திப் பார்வை விழுகல்.
06. உள்ளூர் உற்பத்தி அதிகரிப்பின், ஒரு பண்டத்தின் கேள்வி
1. அதிகரிக்கும்.
 2. குறையும்.
 3. மாறாது.
 4. மேற்கூறிய யாவும் சரி.
07. நுகர்வோரின் சேம்பு நாட்டம் அதிகரிப்பின், ஒரு பண்டத்திற்கான
1. கேள்வி குறையும்.
 2. கேள்வி அதிகரிக்கும்.
 3. நிரம்பல் அதிகரிக்கும்.
 4. நிரம்பல் குறையும்.
08. அரசாங்கமானது வணிகத்தைக் கட்டுப்படுத்தும் வழிகள்.
1. ஒழுங்குபடுத்துபவராக.
 2. வழங்குனராக.
 3. வாடிக்கையாளராக.
 4. மேற்கூறிய யாவும்.
09. வணிகத்தின் ஒரு சமூகப்பொறுப்பு யாது?
1. பங்குதாரர்களுக்கு நன்மைகளை அளித்தல்.
 2. சூழலைப் பாதுகாத்தல்.
 3. ஊழியர்களுக்கு நியாயமான சம்பளத்தைச் செலுத்துதல்.
 4. வணிகத்தை விரிவுபடுத்துதல்.
- ❖ பின்வரும் கொடுக்கல் வாங்கல்களை அடிப்படையாகக் கொண்டு, 10 ஆம் 11 ஆம் 12 ஆம் வினாக்களுக்கு விடை தருக.
- A. பணத்தின் ரூபா 200,000 என்னும் தொகை மூலதனமாக முதலீடு செய்யப்பட்டுள்ளது.
- B. இயந்திரம் ஒன்று ரூபா 100,000 என்னும் தொகைக்குக் கொள்வனவு செய்யப்பட்டது.
- C. வியாபாரத்தின் வாடகைக் கட்டணமாகச் செலுத்தப்பட்ட தொகை ரூபா 8,000.
- D. வாடிக்கையாளரான கமலிடம் ரூபா 35,000 இற்குப் பண்டங்கள் கொள்வனவு செய்யப்பட்டன.
- E. பெற்றுக்கொள்ளப்பட்ட வாங்கிக் கடன் ரூபா 40,000.
10. சொத்தின் மீது நேரடியாக மட்டும் செலுத்திய கொடுக்கல் வாங்கல் எது?
1. A
 2. B
 3. C
 4. D
11. வணிகத்தின் மூலதனம், சொத்துக்கள் என்பவற்றின் மீது தாக்கம் செலுத்திய கொடுக்கல் வாங்கல் எது?
1. A
 2. B
 3. C
 4. E
12. இலாபத்தின் மீது நேரடியாக தாக்கம் செலுத்திய கொடுக்கல் வாங்கல் எது?
1. A
 2. B
 3. C
 4. D
13. பின்வரும் நிகழ்வுகளுள் கணக்குகளில் பதியப்படுவது எது?
1. கடனுக்கு பொருட்களை விற்பனை செய்வது எனத் தீர்மானித்தல்.
 2. வணிகக் கட்டடவளவிற்கான வாடகை கொடுப்பனவு.
 3. பொறத்தொகுதியை நிறுவுதற்குரிய இடத்தைத் தெரிவு செய்தல்.
 4. முகாமையாளரின் முகமைத் திறனை மதிப்பிடல்.
14. இறுதி நுகர்வோருக்குப் பண்டங்களை அல்லது சேவைகளை விற்கும் நபர்?
1. உற்பத்தியாளன்.
 2. மொத்த வியாபாரி.
 3. முகவர்.
 4. சில்லறை வியாபாரி.
15. ஒரு சில்லறை வியாபாரக் கொடுக்கல் வாங்கல் சம்பந்தமான, மிகப்பிரதானமான ஆளை அல்லது அமைப்பைத் தேர்ந்தெடுக்குக.
1. கனி வியாபாரி.
 2. நுகர்வோர்.
 3. போக்குவரத்து முகவர்.
 4. கூட்டுறவுச் சில்லறைக்கடை.
16. இலங்கை தேயிலையைப் பெருமளவில் கொள்வனவு செய்யும் நாடு.
1. பாசிஸ்தான்
 2. பிரான்ஸ்
 3. ஈராக்
 4. ஜப்பான்
17. கொள்வனவு திரும்பல்களைப் பதிவுசெய்வதற்குப் பயன்படுத்தப்படும் மூல ஆணை.
1. பற்றுச்சீட்டு.
 2. செலவுத்தாள்.
 3. கிரயப்பட்டியல்.
 4. வரவுத்தாள்.
18. இறக்கமதி செய்யப்பட்ட பொருளை உரிமை கோருவதற்குப் பயன்படுத்தப்படும் பிரதானமான ஆணை.
1. கட்டடையிட்டவணை.
 2. இறக்குமதி அனுமதிப்பத்திரம்.
 3. வார்ப்பாடம் (சுமைச்சீட்டு).
 4. மூலச்சான்றிதழ்.

அத்துமீறி நுழையும் இந்திய மீன்பிடி ட்ரோலர்கள்; எதிர்காலத்தில் மீன்வளம் அற்றுப்போகும் ஆபத்து!

வடமாகாண கடற்கொழிலாளர் சங்கத் தலைவர் தவரட்ணம்

(யாழ்ப்பாணம்)
அத்துமீறி நுழையும் இந்திய ட்ரோலர்களினால், எதிர்காலத்தில் மீன்வளம் அற்றுப்போகும் அபாயம் தோன்றக்கூடிய சூழ்நிலை உருவாகி வருவதாக, வடமாகாணக் கடற்கொழிலாளர் சமாசத்தின் தலைவர் தவரட்ணம் தெரிவித்தார்.

அண்மையில் இலங்கையின் கடற்பகுதிக் குள் - இந்திய மீனவர்களின் மீன்பிடிப்புகள் அத்துமீறி நுழைந்து, கடல் வளங்களை அள்ளிச் செல்வதை, வழக்கமாகக் கொண்டிருக்கின்றனர்.

இவ்வாறான செயற்பாடுகளைக் கண்டிக்கும் நோக்கில் - இலங்கை, குறிப்பாக வடபகுதி மீனவர்கள் நடவடிக்கைகளில் ஈடுபட்டிருந்தனர்.

அத்துமீறி நுழையும் ட்ரோலர்களை, மடக்கிப் பிடித்து, அதில் பயணம் செய்த மீனவர்களையும், படகுகளையும் கைப்பற்றி இருந்தனர். இவ்வாறான சம்பவங்கள் - நெடுந்தீவு, மாதகல், வடமராட்சி, சுழிபுரம், குருநாகல் ஆகிய பகுதிகளில் நடைபெற்றன.

மீனவர்களால் மடக்கிப் பிடிக்கப்பட்ட இந்திய மீனவர்களை விடுவிப்பதற்குப் பலதரப்பினரும், "அக்கறையோடு" செயற்பட்டு, அவர்களை விடுவித்தனர். இந்திய மீனவர்களை - இந்தியக் கரைவரை சென்று வழியனுப்பி வைத்திருந்தனர்.


இந்த நடவடிக்கைகளால், இந்திய மீனவர்கள் பாதிப்பு எதுவும் அடைந்ததாகத் தெரியவில்லை. தண்டனைக்கு உட்பட்டதாக அறிய முடியவில்லை.

ஆனால், யாழ்ப்பாண மீனவர்கள் - தம்முடைய கடல் வளங்கள் சூறையாடப்படுவதைக் கண்டு, நாளாந்தம் கண்ணீர் வடிக்கும்

நிலையே காணப்படுகின்றது.

இந்த நிலைமை தொடர்ந்தால், யாழ்ப்பாணப் பிரதேசத்துக் கடல்வளம் இல்லாது, வெறும் சிமெந்துத் தரைபோல - கடல் ஆகி

டால், விளைவுகள் மோசமாகும். இலங்கைக் கடல் - 9 பாகம் ஆழமுடைய கடற்பிரதேசத்தை உடையது. இதில், ட்ரோலர்களைப் பாவிப்பதால் ஏற்படும் பிரச்சினைகள் அளவிடமுடியாது.



தடுத்து வைக்கப்பட்ட இந்திய மீன்பிடிப்புகள் விடும்.

ட்ரோலர்கள் மீன்பிடிக்கும்போது, கடலில் எந்தவிதமான எச்சங்களையும் விட்டுவைக்காது, மீன் வளங்களை அள்ளிச்செல்வது வழமையாகும். ஆழ்கடல் பகுதிகளுக்கென - மீன்பிடித் தொழிலை மேற்கொள்ள உதவியாகவே, ட்ரோலர்கள் பயன்படுத்தப்படுகின்றமை வழமையாகும்.

இந்த வழமைக்கு மாறாகச் செயற்பாட்டின்

மீன்கள் இடம்பெயர்ந்து, வேறு பிரதேசத்துக்குச் சென்று, இனங்களை உருவாக்கும் நடவடிக்கைகளில் ஈடுபடுகின்றன. இந்தப் பிரதேசங்களில் ட்ரோலர் மீன்பிடிக்கும் பகுதிகளில் - மீன்பிடிக்க முடியாதநிலை, மீன்களின் இனப்பெருக்கம் நடைபெறமுடியாதநிலையே இதற்குக் காரணமாக இருக்கின்றது.

இலங்கை அரசாங்கம் - தமிழ் மக்களை அழிப்பதற்காக, யுத்தத்தை நடத்திக்கொண்டு

வந்தது. அது தற்போது, யுத்தம் ஓய்ந்து, யுத்தநிறுத்த ஒப்பந்தம் ஏற்பட்டபோது, தமிழர்களை எவ்வாறு ஒடுக்குவது என்று இலங்கை அரசு சிந்தித்தவண்ணம் உள்ளது.

இந்தநிலையில், இந்திய மீனவர்களின் அத்துமீறிய செயற்பாடுகள் - இலங்கை அரசை மகிழ்ச்சிப்படுத்தவே செய்கின்றன. அதற்கு ஒத்துழைப்பும் வழங்குவதுபோலத் தெரிகின்றது.

தமிழ் மக்களின் வளங்கள் சுரண்டப்படுவதைக் கண்டு, இலங்கை அரசு மகிழ்ச்சி கொள்கின்ற நிலைமையில் - இலங்கை அரசிடம் எவ்வாறு எடுத்துக் கூறுவது என்பதே, வடபகுதி மீனவர்களின் தற்போதைய பிரச்சினையாகவுள்ளது.

இந்தப் பிரச்சினைக்குத் தீர்வுகாண வேண்டி, கடற்கொழிலாளர் சங்கம் - சம்பந்தப்பட்ட அதிகாரிகளிடம் எவ்வளவோ முறைப்பாடுகளையும், மகஜர்களையும் கையளித்திருக்கின்றது. வெளிநாட்டுப் பிரஜைகள், முக்கிய பிரமுகர்கள் - வடபகுதிக்கு விஜயம் செய்யும் போது, மகஜர் கையளிப்பு என்பது ஒரு சம்பிரதாய நடவடிக்கையாக இடம்பெறுகின்றது.

மகஜரைப் பெற்றுக்கொண்டு, நடவடிக்கை எடுப்பதாகக்கூறிக் செல்பவர்கள் - அதற்குரிய நடவடிக்கை எடுப்பதாகத் தெரியவில்லை.

இந்தநிலைமையில், உரிய நடவடிக்கை எடுக்கப்படுமானால், இந்திய ட்ரோலர்கள் - ஓடுவதற்கு எரிபொருள் பெற்றுக்கொள்ளக் கூடத் திண்டாடும் நிலைமை ஏற்படும். அதே வேளை, நடவடிக்கைகள் எடுக்கப்பட்டிருந்தால், வடபகுதி மீனவர்களின் வாழ்க்கைத் தரம் உயர்வதற்கு வசதி ஏற்படும். பொருளாதார வளர்ச்சியில் மீன்பிடித்தொழிலின் பங்கு உயர்வடைய, வசதியேற்படும்.

இந்திய மீனவர்களின் அத்துமீறிய நடவடிக்கைகளால் பாதிக்கப்பட்ட வடபகுதி மீனவர்களுக்கு, உரிய நியாயம் பெற்றுக் கொடுப்பது - சம்பந்தப்பட்டவர்களின் முதன்மை விடயமாகத் தற்போது அமைகின்றது.

அடிப்பணியாத இனமாக தமிழினம் இன்று உலகில் மாற்றம் பெறுகிறது!

திலீபன் நினைவுத்தூபி திறப்பு விழாவில் இளம்பரிதி

அடிக்க அடிக்க அடிவாங்கிய ஒரு இனம், இன்று அடிப்பணியாத ஒரு இனமாகியுள்ளது. அழித்து, அழியும் என்று நினைத்த சிங்களவருக்கு, இது அழியாத ஒரு வீரத்தமிழினம் என்று நிரூபித்து நிற்கின்றது.

இவ்வாறு கூறினார் யாழ்ப்பாண அரட்சியற்றதரைப் பொறுப்பாளர் இளம்பரிதி.

நல்லூர் பின் வீதியில், நேற்று முன்தினம் நடைபெற்ற தியாகி திலீபன் நினைவுத்தூபி திறநீர்க்கத்தின் போதே, அவர் இவ்வாறு தெரிவித்தார்.

இடித்து இடித்து இவர்களுடைய வாழ்வும், நினைவும், நினைவுத்தூண்களும் இடியுமென எதிரி நினைத்தான். ஆனால், இடித்தாலும் அது தொடர்ந்து உறுதியாக நிற்கும் என்பதை இந்நிகழ்வு எடுத்துக் காட்டுகின்றது.

மக்களுக்காக வாழ்ந்து, மக்களுக்காகப் போராடி, மக்களுக்காக மாவிரான ஒரு வரலாற்றில், மாவீரருடைய நினைவுச் சின்னத்தையும் தோற்றுவித்தவன் தியாகி திலீபன்.

1988 ஆம் ஆண்டு இந்திய இராணுவம் சூழ்ந்து நின்றகாலம். அந்தக் காலத்தில் மக்களின் விடுதலை, எழுச்சியை யாரும் தடுத்து நிறுத்த முடியவில்லை. மக்களின் எழுச்சிக்காக மாவீரனாகிய இந்த வீரனுடைய எழுச்சியையும் யாராலும் தடுக்கமுடியவில்லை.

நினைவுச் சின்னத்தை அப்போது இடித்தார்கள் எமது எதிரிகள். இன்று இடித்த அதே இடத்தில், இந்த மாவீரனுடைய நினைவுச் சின்ம் நிறுவப்பட்டுள்ளது.

இங்குதான் தமிழ் வரலாற்றில் தமிழன் சிறப்பு அடைகின்றான். அந்தச் சிறப்புக்குக் காரணமாயிருந்து, அடித்தளம் இட்ட அனைவருக்கும் நான் பாராட்டுத் தெரிவிக்கின்றேன்.

இங்குதான் மக்கள் ஒவ்வொரு கட்டத்திலும், ஒவ்வொரு விதமான பங்களிப்பைச் செய்து நிற்கின்றார்

கள். வரலாற்றுப் பங்களிப்பைத் தாமகவே செய்திருக்கின்றார்கள்.

அரசியல் நடவடிக்கைகள் மூலமும், இராணுவ நடவடிக்கைகள் மூலமும் ஒரு இயக்கம் தனது இலக்கை அடையமுடியும். இராணுவ நடவடிக்கை மூலமும், அரசியல் நடவடிக்கை மூலமும் தன்னுடைய ஆற்றலை வெளிப்படுத்தி, இராணுவ அரசியலரீதியான போராடியாகத் திலீபன் விளங்கினான்.

மக்களின் அபிலாஷைகளுக்காக, மக்களின் மேம்பட்டுக்காகவே ஒரு விடுதலைப் போராளி செயற்படுவான். சிந்திக்கும்பாணி என்பதற்குச் சான்றாகத் தியாகி திலீபன் விளங்கி நிற்கின்றான்.

எங்களுடைய தமிழ்த் தேசியத்தை வலுப்படுத்தி, அந்தச் சூழ்நிலைக்கு வழிப்படுத்தி, தமிழ் மக்களுடைய விடுவை - எதிர்காலத்தில் நாங்கள் காணவைக்கும் இன்றைய சூழ்நிலைக்குக் காரணமாக அமைந்தவன் தியாகி திலீபன்.

தேசியப் போராட்டம் - தாயகத்தைக் கடந்து, உள்நாட்டு எல்லைகளைக் கடந்து, சர்வதேச அளவில் விடுதலைப் போராட்டம் விரிவுபடுத்தப்படுமானால், அந்தப் போராட்டத்தின் உறுதியான வெற்றியை யாராலும் தடுக்கமுடியாது.

இந்தநிலையை எமது போராட்டம் அடைந்துகொண்டிருக்கிறது.

இடைக்கால நிர்வாகத்தைத் தரக்கோரி, திலீபன் உண்ணாவிரதம் மேற்கொண்டபோது, இந்திய அரசாங்கம் அதைத் தாக்கி எறிந்தது. இன்று இடைக்கால நிர்வாகம் பற்றி சர்வதேச அளவில் பேச்சுக்கள் நடைபெறுகின்றன. சர்வதேச ரீதியாகவும் எமது போராட்டத்தின் நியாயப்பாடு சரியானது என வெளிப்படுத்துகின்றனர். இதை யாராலும் தடுக்கமுடியாதிருக்கின்றது.

தமிழர்கள் தேசியரீதியாகவும், சர்வதேச அடிப்படையிலும் பலமாக இருக்கின்றார்கள். வரலாறு இதைத்

தடுக்கமுடியாமல் உள்ளது.

சரியான கொள்கையில் சென்று கொண்டிருக்கும்போது, சரியான தலைமைத்துவம் எம்மை வழிநடத்திச்செல்கின்றது. இன்று மக்களின் வாழ்க்கையை முன்னெடுக்கும் வகையிலான போராட்டத்தை நடத்திக்கொண்டிருக்கிறோம்.

மக்களின் விழிப்பும், தெளிவும் திலீபனின் கனவில் உருவானது. மக்களுக்கிடையே எத்தனையோ தீவிரமும், மில்லர்களும் வாழ்ந்து கொண்டிருக்கின்றார்கள் என்பது எமக்குத் தெரியும்.

வீறுகொண்டிருக்கின்ற மக்களே! நாங்கள் எதற்கும் தயாராக இருப்போம். நல்லதே நடக்கும் என்று நம்புவோம். அது நடந்தால், இலங்கைத் தீவுள்ள மக்கள் அனைவரும் மகிழ்ச்சியாக இருப்பார்கள்.

எதிரியும், எதிரிக்குத் துணை நிற்கும் சக்திகளும் துணை போகாமல், மாற்று முடிவுகளை எடுப்பார்கள். ஆனால், தமிழினம் மேலும் பலப்படும். அப்போது மக்கள் தங்களுக்குரிய தீவைத் தாமே பெற்றுக் கொள்வார்கள் என்று மேலும் அவர்தனது உரையில் குறிப்பிட்டார்.




விமானப்படைத்தளபதி பாகிஸ்தானுக்கு விஜயம்

(இஸ்லாமாபாத்)

விமானப்படைத் தளபதி எயர் மார்ஷல் டொனால்ட் பெரோ ஒரு வரகால விஜயத்தை மேற்கொண்டு பாரிஸுக்குச் சென்றுள்ளார். இவர் பாகிஸ்தான் விமானப்படையின் வீரத்தினராக அங்கு தங்கியிருப்பார்.

இவர் பாகிஸ்தான் பாதுகாப்பு அமைச்சர், கூட்டுப்படை நடவடிக்கைத் தளபதிகளின் தலைவர் மற்றும் பாகிஸ்தானிய விமானப்படைத் தளபதியையும் சந்தித்துப் பேச்சுக்களை நடத்துவார் எனக் கூறப்படுகிறது.

நல்லூர் இரதோற்சுவத்தில் சில காட்சிகளின் பதிவுகள்



3 வருடங்களுக்கு முன் கொல்லப்பட்ட

2 லெபனானியரின் சடலங்களை இஸ்ரேல் நேற்றுக் கையளித்தது!

இஸ்ரேலுக்கும் லெபனானுக்கும் இடையில் கடந்த 3 ஆண்டுகளுக்கு முன்னர் நடைபெற்ற சண்டையில் கொல்லப்பட்ட 2 போர்வீரர்களின் சடலங்களை இஸ்ரேல் தற்போது லெபனானிடம் கையளித்துள்ளது. மீண்டும் இஸ்ரேலுக்கும் லெபனானுக்கும் இடையில் சமாதான முயற்சியை ஆரம்பிக்கும் நோக்கிலேயே இந்தச் சடல்கள் கையளிப்பு

இடம்பெற்றதாகத் தெரிவிக்கப்படுகிறது.

இந்தச் சடல்கள் கையளிப்புக்கு லெபனானில் இயங்கும் ஹிஸ்புல்லா இயக்கத்தின் தலைவர் ஷேக் ஹசன் நஸரலியா என்பவரே முன்னின்று செயற்பட்டார் என்று கூறப்படுகிறது.

இந்தச் சமாதானத்தின் நோக்கம் கைதிகள் பரிமாற்றத்திற்காகவே

முதலில் ஆரம்பிக்கப்பட்டுள்ளது.

இஸ்ரேல் எல்லையில் வைத்து ஹிஸ்புல்லா இயக்கத்தால் கைது செய்யப்பட்ட இஸ்ரேலியப் படை வீரர்களை மீட்பதும் - இஸ்ரேலியச் சிறைகளில் இருக்கும் 10 இறந்த மேற்பட்ட லெபனானியர்களை மீட்பதும் இந்தச் சடல்கள் கையளிப்பின் முக்கிய நோக்கம் என்று தெரிவிக்கப்படுகிறது.

கொலம்பியா

விண்கல அறிக்கை

செவ்வாய் வெளியிடப்படும்!


கொலம்பியா விண்கலம், விண்ணிலிருந்து நாஸா விண்வெளிநிலையத்திற்குத் திரும்பிக்கொண்டிருந்த போது, இடதுபக்க இறக்கையில் ஏற்பட்ட வெடிப்பால் நடுவானில் வெடித்துச் சிதறி, 7 விண்வெளி வீரர்கள் கொல்லப்பட்ட சம்பவம் தொடர்பான அறிக்கை, வரும்



செவ்வாயன்று வெளியிடப்படும் என்று நாஸா விண்வெளி ஆய்வு நிறுவனம் தெரிவித்துள்ளது.

இந்த அறிக்கை 20 மில்லியன் அமெரிக்க டொலர்கள் செலவில் 248 பக்கங்களில் தயாரிக்கப்பட்டிருப்பது குறிப்பிடத்தக்கதாகும்.

2 பிரெஞ்சுப் படையினர் ஐவரிகோஸ்டில் பல!



ஐவரிகோஸ்டில் நாட்டில் பிரெஞ்சுப் படைகளுக்கும் அங்கிருக்கும் தீவிரவாத அமைப்பிற்கும் இடையில் நடைபெற்ற சண்டையில் 2 பிரெஞ்சுப் படைவீரர்கள் கொல்லப்பட்டனர்.

பிரெஞ்சிலிருந்து ஐவரிகோஸ்டிற்கு அனுப்பப்பட்ட சமாதானப்படையில், தீவிரவாத அமைப்பு நடத்திய தாக்குதலில் பிரெஞ்சுப் படைவீரர்கள் இருவர் கொல்லப்பட்டிருப்பது இதுவே முதன்முறையாகும். ஐவரிகோஸ்டில் கொசு என்ற ஏரியில் காவல் கடமையில் இருந்தபோதே இந்தத் தாக்குதல் நடைபெற்றது என்றும் - தாக்குதலை நடத்திய தீவிரவாதிகள் மதுபோதையிலேயே இந்தத் தாக்குதலை நடத்தினார்கள் என்றும் தெரிவிக்கப்படுகிறது.

இதேவேளை - கடந்த ஒரு வருடத்திற்கு முன்னர் ஐவரிகோஸ்டில் தீவிரவாதிகளால் நடத்தப்பட்ட சதிப்புரட்சி முறியடிக்கப்பட்ட பின்னரே பிரெஞ்சுப் படைகள் அங்கு சமாதானப் பணிக்காகச் சென்றமை குறிப்பிடத்தக்கது.

ஈராக்கில் சட்டம் - ஒழுங்கு சீர்குலைவு 400 பெண்கள் கடத்தப்பட்டு கற்பழிப்பு!

ஈராக்கில் சட்டம் ஒழுங்கு சீர்குலைந்ததால், 400 இறந்த மேற்பட்ட பெண்கள் கடத்தப்பட்டு கற்பழிக்கப்பட்டனர் என ஈராக்கின் விடுதலை அமைப்பு தெரிவித்துள்ளது.

இது தொடர்பாக அந்த அமைப்பு மேலும் கூறுகையில் -

ஈராக்கில் சதாம் ஹுசைன் தலைமையிலான ஆட்சி அகற்றப்பட்டு அமெரிக்கப் படையினரின் நிர்வாகம் கடந்த நான்கு மாதங்களாக நடைபெற்று வருகிறது.



நிர்வாகக் கட்டுப்பாடு இல்லாத காரணத்தால் சட்டம் - ஒழுங்கு சீர்குலைந்துவிட்டது. மகளிருக்கு

எதிரான குற்றங்கள் வரலாறு காணாத அளவுக்கு நடந்து வருகின்றன. சமூக விரோதிகளால் 400 இறக்கும் மேற்பட்ட பெண்கள் கடத்தப்பட்டு கற்பழிக்கப்பட்டுள்ளனர். பல இடங்களில் பெண்களை சமூக விரோதிகள் கடத்தி விற்பனை செய்து வருகின்றனர். பெண்களுக்கு எதிராக நாள்தோறும் நடந்துவரும் இத்தகைய குற்றச் செயல்களைத் தடுக்க அமெரிக்கப் படையினரால் இயலவில்லை என்றும் அந்த அமைப்பு தெரிவித்துள்ளது.

டேவிர் கெலி தற்கொலை விவகாரம்; புலனாய்வுத்துறை அதிகாரி சாட்சியம்!



பிரிட்டிஷ் ஆயுத நிபுணர் டேவிட் கெலி தற்கொலைசெய்துகொண்ட சம்பவம் தொடர்பாக அமைக்கப்பட்ட விசாரணைக் குழுவின் முன், பிரிட்டிஷ் பிரதமர் ரொனி பிரேயரின் பிரதம புலனாய்வு ஆலோசகர் ஜோன் ஸ்காலர் நேற்று சாட்சியம் மளித்தார். இவர் 30 ஆண்டுகளாக

பிரிட்டிஷ் புலனாய்வுத் துறையில் பதவி வகித்துள்ளார்.

கெலி தற்கொலை செய்வதற்கு 3 நாட்களுக்கு முன்னர் இந்தப் புலனாய்வு அதிகாரி கெலியைத் தடுவித்துநடுவி விசாரணை செய்தார் என்றும் -

சதாம் ஹுசைனால் பிரித்தானியாவுக்கு ஆயுத்து வருமா என்ற கருத்தை, இந்தப் புலனாய்வு அதிகாரியிடம் பிரித்தானிய அரசின் பிரதம அலுவலக அதிகாரிகள் கேட்டிருப்பதாகவும் தெரிவிக்கப்படுகிறது.

ஈராக்கின் ஆயுதங்கள் பற்றிய தகவல்கள் கெலிக்குத் தெரியும் என்ற செய்தியையும் இந்தப் புலனாய்வு அதிகாரிதான் பகிரங்கப்

படுத்தினாரா என்ற சந்தேகமும் தற்போது எழுந்துள்ளமை குறிப்பிடத்தக்கதாகும்.

பங்களாதேஷ் எதிர்க்கட்சித் தலைவர் இனந்தெரியாதோரால் சுட்டுக்கொலை!

பங்களாதேஷில் பிரதான எதிர்க்கட்சியான அவாமி லீக் கட்சியின் உயர் தலைவர் மொஞ்சுருல் இமாம் சுட்டுக் கொல்லப்பட்டார்.

பங்களாதேஷின் தென்மேற்கு நகரமான குல்னாவில் நேற்றுமுன்தினம் இச்சம்பவம் நிகழ்ந்தது. அவாமி லீக் கட்சியின் குல்னா பகுதி தலைவராக இருந்தவந்த அவர் - வழக்கறிஞராகவும் பணியாற்றி வந்தார். குல்னா நகர நிதிமன்றத்துக்குச் செல்ல முற்பட்டபோது அடையாளம் தெரியாத நபர்கள் அவரை சுட்டுக்கொலை செய்ததாகத் தெரிவிக்கப்படுகிறது.


படமும் செய்தியும்



இந்தோனேஷியாவின் ஜகார்த்தாவில் சேர்ப்புறங்களில் வாழும் மக்களின் குடியிருப்புக்களை நகர அதிகாரிகள் அகற்ற மக்களை வெளியேற்றுவதையும் - வெளியேறும் பெண்ணொருவர் தன்குழந்தையுடன் அழும் காட்சி.




இந்தியாவின் மும்பாய் நகரில் நடந்த குண்டுத் தாக்குதலில் 50 பேர் கொல்லப்பட்டதைக் கண்டித்து, பயங்கரவாதத்துக்கு எதிரான அமைப்பு மும்பாய் நகரில் ஆர்ப்பாட்டம் நடத்துவதைப் படத்தில் காணலாம்.



பிரேசீலின் அல்கன்ரா விண்வெளித் தளத்தில், அண்மையில் இடம்பெற்ற ரொக்கட் விபத்தில் ஏற்பட்ட சேதத்தைத் தொழில்நுட்பவியலாளர்கள் பார்வையிடும் காட்சி.

இரு முஸ்லிம் தீவிரவாதிகள் இஸ்ரேல் படையினரால் கைது!



மேற்குக்கரை நகராகிய நப்லஸில் வைத்திய சாலை ஒன்றில் சிகிச்சை பெற்றுக்கொண்டிருந்த வேளை - இரு பலஸ்தீனிய முஸ்லிம் தீவிரவாதிகள் இஸ்ரேல் படையினரால் கைதுசெய்யப்பட்டார்கள்.

இஸ்ரேலியப் படையினருடன் நடந்த சண்டையில் இருவரும் காயமடைந்து வெள்ளியன்று வைத்திய சாலையில் அனுமதிக்கப்பட்டிருந்தார்கள்.

கைதுசெய்யப்பட்ட இருவரும் வல் அகுசா தியாகிகள் அமைப்பைச் சேர்ந்தவர்கள் எனவும் - பலஸ்தீனியத் தலைவர் யசீர் அராபத்தின் பற்றா இயக்கத்துடன் தொடர்புடையவர்கள் என்றும் தெரிவிக்கப்படுகிறது.

நடலஷ் என்ற இயக்கத்தின் தலைவர் காலெட் நம்நூடி வைத்தியசாலையின் கூரையினூடாக வெளியேற முயன்றபோது சுட்டுக்கொல்லப்பட்டார்.

கைதுசெய்யப்பட்டவர்கள் இஸ்ரேலியர்களுக்கு எதிரான தாக்குதலில் ஈடுபட்டுள்ளார்கள் எனவும் - 10 பேர்வரை கொல்லப்பட்டதற்கு காரணமாக இருந்தார்கள் எனவும் தெரிவிக்கப்பட்டுள்ளது.

