

நமது அ.மு.நாடு

தமிழர் தாயகத்தின் முன்னோடி நாளிதழ்

இன்றைய நாகரீகம்! நாளைய நாகரீகம்!

மகாராசி சில்க்ஸ்

சகல நிகழ்வுகளுக்கும் மகாராசியான ஸ்தாபனம்

மகாராசி சில்க்ஸ்

59, நவீன சந்தை உட்புறம், யாழ்ப்பாணம்.
T.P No - 0777286247

(c-2203)

மலர்: 03 திருவள்ளூர் ஆண்டு :2035 கார்த்திகை 23 ஆம் நாள் ஹிஜ்ரி 1427 வூவ்வால் 25 (08.12.2004) புதன்கிழமை இதழ்:68



தமிழீழ விடுதலைப் புலிகளின் இராணுவ பயிற்சிக் கல்லூரியில் பயிற்சியை நிறைவுசெய்து வெளியேறிய சிறப்பு அணிகளுக்கான தகைமைச் சான்றிதழ் வழங்கும் நிகழ்வில் தேசியத் தலைவர் பயிற்சியை நிறைவு செய்த போராளி ஒருவருக்கு சான்றிதழ் வழங்குவதையும் போரியல் நுட்பங்கள் குறித்து கருத்துரை வழங்குவதையும் படத்தில் காணலாம்.

சமாதான முயற்சிகள் பலவீனம்;

மீண்டும் போர் முறையும் ஆயத்தம்!

சர்வதேச ஊடகங்கள் கருத்து புலிகளின் சிறப்பு அணிகள்

(கொழும்பு) பயிற்சி பலவீனம் வெளியேறிய...

மீண்டும் போர் முறையும் ஆயத்து!

சர்வதேச ஊடகங்கள் கருத்து

(கொழும்பு)

கிடைக்காத நிர்வாக யோசனைகளின் அடிப்படையில் உடனடியாகப் பேச்சுக்கு வருமாறு மாவீரர் தின உரையில் தமிழீழ தேசியத் தலைவர் வே.பிரபாகரன் விடுத்த அழைப்புக்கு - அரசாங்கம் கீதுவரை பதிலளிக்காத நிலையில் மீண்டும் யுத்தம் ஏற்படுவதற்கான அறிகுறிகள் தென்படுவதாக சர்வதேச செய்தி நிறுவனங்கள் செய்தி வெளியிட்டுள்ளன.

பொறுமையின் எல்லைக்கு வந்து விட்டதாகவும் உடனடியாக அரசு கிடைக்காத நிர்வாக யோசனைகளை அடிப்படையாக வைத்து நியந்தனையற்ற பேச்சுக்கு வருமாறு தமிழீழ தேசியத் தலைவர் வே.பிரபாகரன் மாவீரர் நாள் உரையில் அழைப்பு விடுத்திருந்தார். (12 ஆம் பக்கம் பார்க்க)

சென்னை ஈ.என்.டி.எல்.எவ் அலுவலகம் கியூ பிரிவு பொலிஸாரினால் முற்றுகை; பரந்தன் ராஜனும் கூட்டாளிகளும் கைது!

சிறப்பு முகாமில் அடைக்கப்பட்டனர்

(கொழும்பு)

ஈ.என்.டி.எல்.எவ் இன் தலைவரும், தமிழீழ மக்கள் விடுதலைப் புலிகளின் முக்கியஸ்தராகக் கருதப்படுபவருமான பரந்தன் ராஜன் என அழைக்கப்படும் ஜி.ஞானசேகரம் உட்பட 9 பேர் இந்திய கியூபிராஞ் பொலிஸாரால் கைது செய்யப்பட்டு செங்கல்பட்டு சிறப்பு முகாமில் அடைக்கப்பட்டுள்ளனர்.

கடந்த ஞாயிற்றுக்கிழமை இரவு தமிழ் நாட்டின் கோடம்பாக்கத்தில் உள்ள இவரது வீட்டைச் சுற்றிவளைத்த இந்திய கியூபிராஞ் பொலிஸார் இவர்களைக் கைது செய்ததாகத் தெரிவிக்கப்படுகிறது.

அண்மையில் விடுதலைப்புலிகள் அமைப்பிலிருந்து வெளியேற்றப்பட்ட கருணாவுடன் இணைந்து தமிழீழ மக்கள் விடுதலைப் புலிகள் மற்றும் தமிழீழ ஐக்கிய விடுதலை முன்னணி அமைப்புக்களை உருவாக்குவதில் முன்னின்ற பரந்தன் ராஜன் எனப்படும் ஞானசேகரம் தனது சகோதரரான ஞானரா ஜாவை அந்தக்கட்சிகளின் செயலாளராக நியமித்திருந்தார்.

கைது செய்யப்பட்ட இவர்கள் சிறப்பு முகாமில் வைக்கப்பட்டுள்ளமை தொடர்பில்

பலதரப்பட்ட தகவல்கள் வெளியாகியுள்ளன. கருணாவின் குழுவையும் இவர்களினதும் பெயரைப்பாவித்து விடுதலைப்புலிகள் தமிழ் நாட்டில் ஊடுருவிவிட்டார்களென இந்திய புலனாய்வுத் துறையினர் எச்சரித்திருந்தமையை அடுத்து இவர்கள்மீது எழுந்த சந்தேகமே இவர்கள் கைதுசெய்யக் காரணமென ஒருதகவலும், மற்றைய தகவல் இவர்களுடைய பாதுகாப்புக்கு விடுதலைப் புலிகளால் அச்சுறுத்தல் ஏற்படலாம் என்ற ஐயமே எனவும் தெரிவிக்கின்றன.

எவ்வாறாயினும் இந்திய சிறப்பு முகாமில் ஒருவர் வைக்கப்பட்டால் அவரது அனைத்துச் செயற்பாடுகளும் முடக்கப்படுவதோடு இந்திய அதிகாரிகளுக்குத் தெரியாமல் எந்த நடவடிக்கைகளையும் அவர் மேற்கொள்ள முடியாது எனத் தெரிவிக்கப்பட்டுள்ளது.

இதேவேளை, அண்மையில் இவரது அமைப்பின் பொதுச் செயலாளரான மனோ மாஸூர் கொழும்பில் காணாமற்போனதுடன் அவருடன் இருந்ததாகக் கருதப்பட்ட றங்கப்பா இனம் தெரியாதவர்களால் சுட்டுக் கொல்லப்பட்டார்.

(12 ஆம் பக்கம் பார்க்க)

புலிகளின் சிறப்பு அணிகள் பயிற்சி முடித்து வெளியேற்றம்

நிகழ்வில் பிரபா பங்கேற்பு

(கிளிநொச்சி)

தமிழீழ விடுதலைப் புலிகளின் இராணுவப் பயிற்சிக் கல்லூரியில் சிறப்புப் பயிற்சிகளை நிறைவுசெய்து வெளியேறிய சிறப்பு அணிகளுக்கான தகைமைச் சான்றிதழ் வழங்கும் நிகழ்வு நேற்றுமுன்தினம் இடம்பெற்றது.

சிறப்புப் பயிற்சியை நிறைவுசெய்து வெளியேறிய அணிகளுக்கான சான்றிதழ்களை

யும், பரிசீலனையும் தேசியத் தலைவர் வே.பிரபாகரன் வழங்கினார்.

அத்துடன் இந்த நிகழ்வில் பயிற்சிகளை நிறைவுசெய்து வெளியேறிய சிறப்பு அணிகளுக்குப் போரியல் நுட்பங்கள் தொடர்பான ஆழமான கருத்துரைகளை தேசியத் தலைவர் வழங்கினார்.

இந்த நிகழ்வில், கட்டளைத் தளபதிகள், (12 ஆம் பக்கம் பார்க்க)

நீதிமன்றை அவமதிக்க குற்றத்திற்கு எஸ்.பிக்கு 2 வருட கடுழியச்சிறை



(கொழும்பு)

நீதிமன்றத்தை அவமதித்த குற்றத்திற்காக முன்னாள் அமைச்சரும் ஐ.தே.க. நாடாளுமன்ற உறுப்பினருமான எஸ்.பி.திஸநாயக்கா விற்கு நேற்று கொழும்பு உயர் நீதிமன்றம்

இரண்டு வருட கடுழியச் சிறைத்தண்டனை விதித்துள்ளது.

கடந்த வருடம் நவம்பர் மாதம் 3 ஆம் திகதி ஹபராதுவ தொகுதியில் நடைபெற்ற வைபவமொன்றில் கலந்துகொண்டு உரையாற்றிய எஸ்.பி.திஸநாயக்கா நீதிமன்றத்தை அவமதிக்கும் வகையில் உரையாற்றியதாக அந்தப்பிரதேச வாக்காளர்கள் மூவரினால் குற்றம் சுமத்தப்பட்டு வழக்குத்தாக்கல் செய்யப்பட்டது.

இதற்கு ஆதாரமாக அவரது உரையடங்கிய ஒலிப்பதிவு நாடாளுமன்றத்தில் சமர்ப்பிக்கப்பட்டது.

பிரதம நீதியரசர் சரத் என்.டி.சில்வா மற்றும் நீதியரசர்கள் சிரானி பண்டாரநாயக்கா, ரி.பி.வீரகுரிய, ராஜா பெர்னாண்டோ, நிமால் திஸநாயக்கா ஆகியோர் இந்த மனுவை விசாரித்தனர்.

இந்த மனு தொடர்பான தீர்ப்பை வழங்கிய பிரதம நீதியரசர், 'உயர் நீதிமன்றத்தில் ஜனாதிபதி தொடர்பான பரிசீலனைக்கு எடுக்கப்பட்ட சம்பவம் தொடர்பாக பொறுப்பு வாய்ந்த அமைச்சரொருவர் தெரிவித்த கருத்து நீதிமன்றத்தை அவமதிப்பது மட்டுமன்றி நீதிமன்றமீது மக்கள் வைத்திருக்கும் நம்பிக்கைக்கு பெரும் தாக்கத்தை ஏற்படுத்தியுள்ளதால் பிரதிவாதியை நீதிமன்றம் குற்றம்

(12 ஆம் பக்கம் பார்க்க)

சகலதுறை விளையாட்டு வீரர் விருது செல்வி தயாளினி செல்வராசாவுக்கு!

(வடமராட்சி)
விளையாட்டுத்துறையில் பெண் களுக்கான அனைத்துப் போட்டி களிலும் பங்குபற்றி, வெற்றி பெற்று வரும் தயாளினி செல்வராசாவை, பருத்தித்துறை பிரதேச செயலகம், இன்று 'சகல துறை விளையாட்டு வீரர்' என்ற விருது வழங்கிக் கௌரவிக்கவுள்ளது.
பிரதேச, மாவட்ட, மாகாண, தேசிய, சர்வதேச போட்டிகளில்- வலைப்பந்தாட்டம், எல்லை, கரப் பந்தாட்டம், மென்பந்து துடுப்பாட் டம், தடகளம் போன்ற போட்டி களில் பங்குபற்றி சிறந்த பரிசில் களை தயாளினி செல்வராசா பெற் றுள்ளார்.
பருத்தித்துறை பிரதேச செய லர் எஸ்.வசந்தகுமார் தலைமை யில் நடைபெறவுள்ள இந்த நிகழ் வில் - மாவட்ட விளையாட்டு அதி

காரி ரொகான் இராஜசிங்கம் மற் றும் மாவட்டப் பயிற்சியாளர்கள் ஆகியோர் பங்குபற்றுகின்றனர். (20)

பொது விரிவுரைகள் தொடரில் இன்று

(யாழ்ப்பாணம்)
யாழ்ப்பாணம் பல்கலைக்கழக கலைப் பீடத்தின் ஏற்பாட்டில் மதக் கல்வி யில் புதிய கருத்துக்கள் விரிவு ரைத் தொடரில் - இன்று மாலை 3 மணிமுதல் 4.30 வரை புவியியற் துறை விரிவுரை மண்டபத்தில், யாழ்ப்பாணம் பல்கலைக்கழக இந்து நாகரிகத்துறைத் தலைவர் நாச்சியார் செல்வநாயகம் குடியேற்ற நாட்டுக் காலத்திற்கு முந்திய தமிழகத்தில் தமிழர் என்ற பொருளில் உரை நிகழ்த்தவுள்ளார்.

கல்வியியற் கல்லூரி இறுதியாண்டு பரீட்சை
(யாழ்ப்பாணம்)
யாழ்ப்பாணம் தேசிய கல்வியி யற் கல்லூரியின் இரண்டாம் வருட மாணவர்களுக்கான இறுதியாண்டு பரீட்சை எதிர்ப்பு 13 ஆம் திகதி ஆரம்பித்து 17 ஆம் திகதி வரை நடைபெறவுள்ளதாகத் தேசிய கல்வியியற் கல்லூரி பீடாதிபதி தெரிவித்தார்.

அடிக்கல் நாட்டுவிழா ஒத்திவைப்பு

(யாழ்ப்பாணம்)
கலாசார சபையினால் 50 லட் சம் ரூபா செலவில் யாழ்ப்பாணம் வெளிப்பகுதியில் அமைக்கப்பட வுள்ள கலாசார மண்டபத்திற்கான அடிக்கல் நாட்டுவிழா இன்று நடை பெறவுள்ளதென அறிவித்தபோதும், தவிர்க்கமுடியாத காரணத்தினால் நிகழ்வு பிற்போடப்பட்டுள்ளது. இந்த அடிக்கல் நாட்டுவிழாக்கான திகதி பின்னர் அறிவிக்கப்படுமென யாழ்ப்பாணம் மாநகரசபை ஆணையாளர் தெரிவித்தார்.

கண்டெடுத்த நகையை ஒப்படைத்தவர் கௌரவிப்பு

பெறுமதிமிக்க தங்கநகையைக் கண்டெடுத்து கொடுத்தமைக்காக, கண்டெடுத்து கொடுத்தவர் - பருத்தித்துறை பிரதேச செயலகத்தினால் இன்று கௌரவிக்கப்பட்டுள்ளார்.
பருத்தித்துறை ஸ்ரீவல்லிபுர ஆழ்வார் சுவாமிகோயிலின் கடந்த சமுத்திர தீர்த்தோற்சவத்தின்போது கட்டப்பிராயச சேர்ந்த தனபால சிங்கம் என்பவர் பெறுமதிமிக்க தங்கநகையினை ஆலயச் சூழலில் கண்டெடுத்து பருத்தித்துறை பிரதேச செயலக உற்சவகாலப் பணி மனையில் ஒப்படைத்தார்.
பின்னர் உரியவரிடம் பிரதேசச் செயலகம் கையளித்தது. இவரின் இந்தச் செயலைப் பருத்தித்துறை பிரதேச செயலகம் பாராட்டி கௌர விக்கவுள்ளது. (20)

கர்ப்பிணித் தாய்மாருக்கான சிறுவர் பராமரிப்பு கருத்தரங்கு

உலக உணவுத் திட்டத்தின்கீழ் கோப்பாய் பொதுச்சுகாதார வைத் திய அதிகாரி பணிமனைக்குட்பட்ட கர்ப்பிணித் தாய்மாருக்கான விசேட கருத்தரங்கு இன்றுமுதல் மூன்று தினங்கள் நடைபெறவுள்ளது. இந்தக் கருத்தரங்கில் ஆரம்ப சிறுவர் அபிவிருத்தியும் போசாக்கு வளர்ச்சியும், தொற்றுநோய்கள்,

இலவச பாடநூல் விநியோகம்

கோப்பாய் கல்விக்கோட்டத்தின் கீழுள்ள பாடசாலைகளுக்கு 2005 ஆம் ஆண்டுக்கான ஒரு தொகுதி இலவச பாடநூல்கள் நேற்றும், நேற்றுமுன்தினமும் வழங்கப்பட்டுள் ளன. எனினும் ஏதாவது பாட சாலைகள் இலவசப் பாடப் புத் தகங்களைப் பெறத் தவறியிருந் தால், உடன் கோட்டக் கல்விப் பணிமனையுடன் தொடர்பு கொள் ளுமாறு கோட்டக் கல்வி அதிகாரி பாடசாலை அதிபர்களைக் கேட்டுள் ளார். (90)

நாதன்ஸ் யாழ்ப்பாணம்.
(சுவிட்சுட்டி)
இளைய தளபதி விஜய், சங்கமி நடித்த
கோயம்புத்தூர் மாப்பிள்ளை
காட்சி நேரம்: 10.30.2.30 (பு.தே)
தினசரி இலவு 6.30, 9.00 [பு.தே]
ஆங்கிலப்படம்
VANHelsing (நகல படம்) (ரூ.119)

திறைஞ்சனாலை சங்கானை
சுரேஸ், சௌந்தர்யா நடித்த
அம்மன்
காட்சி நேரம்: 11.00, 2.45, 6.00 (பு.தே)
வெள்ளி, சனி, குாயிறு இலவு 8.45 (பு.தே)
VANHelsing (நகல படம்) (ரூ.119)
அடுத்த வெளியீடு சரத்ஜனார் நடித்த சூப்பர்

ராஜா யாழ்ப்பாணம்.
5 முதல் 9 வரை
சிறுவர்களுக்கான சிறந்த ஆங்கிலச் சித்திரம்.
SPIDERMAN-2
புது நேரம்: 10.30, இரவு 9.30, 10.00ம்
புலகம், சீனேகா, கலாபவன்மன் நடித்த
போஸ்
புது நேரம்: 2.30, 6.30, 10.00ம் (ரூ.119)

நாகம்ஸ் கன்னகம்
சுவிட்சுட்டி இயக்கினார்,
புது மற்றும் நடித்த
அட்டகாசம்
(ரூ.119)
கா.நே 11.00, 3.00, 7.00 (பு.தே)

ஏழாவது பிறந்த தின வாழ்த்து
08.12.2004
செல்வி சி. துசானினி
கொக்குவில் மேற்கு உறாக் சிம்மன் கோயிலடியைச் சேர்ந்த சிறிதான் - பாமினி தம்பதிகளின் செல்வப் புதல்வி சி. துசானினி
ஏழாவது பிறந்த நாளை தனது இல்லத்தல் இன்று (08/12/2004) வெகு குதூகலமாகக் கொண்டாடுகின்றார்.
இவரை அப்பா சந்திரன், அம்மா பாமினி, தம்பிமாறா - ஜனா, தவண், அப்பப்பா, அப்பம்மா, அத்தைமாரான சந்திரன், சந்திரபாபுஜி, சத்தப்பாமாரான சந்திரன், சச்சார், மகன்ஷோ, பிரகலாதன், சாரங்கன் மற்றும் அமுதா அனார், கலா அனார், ராசானாணை, ஜயா, அம்மா, அண்ணை, அம்மம்மா, அம்மப்பா ஆகியோர் வருகை அம்மன் அருள் பெற்று பல்லாண்டுகாலம் வாழ்க என வாழ்த்துகின்றனர்.
தகவல் - சி.சிறிவன், இ.சசிகம்.

நல்லூர் பிரதேசசபை

சந்தைகள், இறைச்சிக் கடைகள் குத்தகைக்கு விடுவதற்கான மீள் கேள்வி அறிவித்தல் - 2005

01.01.2005 ஆம் திகதி முதல் 31.12.2005 ஆம் திகதிவரையான காலப்பகுதிக்குப் பின்வரும் சந்தைகள், இறைச்சிக் கடைகளைக் குத்தகைக்கு விடுவதற்கான மீள்கேள்வி கோரப்படுகிறது.

சந்தைகள், இறைச்சிக் கடைகள்	மீளளிக்கப்படாத கேள்வி வைப்புப்பணம்	மீளளிக்கப்படும் கேள்வி வைப்புப்பணம்	ஏற்றுக்கொள்ளக்கூடிய ஆகக் குறைந்ததொகை (VAT தவிர்த்தது)
நல்லூர் உப அலுவலகம்			
திருநெல்வேலிச் சந்தை (துவிச்சக்கர வண்டிப் பாதுகாப்பு நிலையத்துடன்)	1000.00	15000.00	3911430.00
கொக்குவில் உப அலுவலகம்			
கொக்குவில் குளப்பிட்டிச் சந்தை (துவிச்சக்கரவண்டிப் பாதுகாப்பு நிலையத்துடன்)	1000.00	10000.00	177265.00
கொக்குவில் சந்தை மாட்டிறைச்சிக் கடை	500.00	5000.00	173470.00
கொக்குவில் உப அலுவலக ஆட்டிறைச்சிக்கடை	500.00	5000.00	68250.00
கோண்டாவில் வடக்கு அரசடி வீதி மீள்சந்தை	200.00	500.00	1000.00

கேள்விப் பத்திரம் வாழங்கும் திகதி : 14.12.04 ஆம் திகதி செவ்வாய் பி.ப. 2.00 மணிவரை
கேள்விப் பத்திரம் ஏற்றுக்கொள்ளும் திகதி : 15.12.04 ஆம் திகதி புதன்கிழமை பி.ப. 1.00 மணிவரை
கேள்வி திரங்கும் திகதி : 15.12.04 ஆம் திகதி புதன் பி.ப. 3.00 மணி

மேற்படி கேள்விகள் தொடர்பான மேலதிக விபரங்களை காரியாலய நேரத்தில் அலுவலகத்தில் பெற்றுக்கொள்ளலாம்.

நல்லூர் பிரதேசசபை
திருநெல்வேலி
06.12.2004
(சி-3447)

பொன்னையா வைரமுத்து
செயலாளர்
நல்லூர் பிரதேசசபை
Digitized by Noolaham Foundation.
noolaham.org@gmail.com

அறிவித்தல்

யாழ்ப்பாணம் மாநகரசபை 2005 ஆம் ஆண்டுக்கான வியாபார வரி, வியாபார உரிமக் கட்டணம் தொழில் மீதான வரி செலுத்துதல்

யாழ்ப்பாணம் மாநகரசபையின் எல்லைக்குட்பட்ட சகல வியாபார நிலையங்களும் உற்பத்தி நிறுவனங்கள், துறியார் கல்வி நிலையங்கள் வைத்திய ஆலோசனை நிலையங்கள், துறியார் வைத்திய நிலையங்கள் போன்ற உயர் தொழில் நிறுவனங்களும், வியாபார வரிகளையும் வியாபார உரிமக் கட்டணங்களையும் தொழில் மீதான வரிகளையும் எதிர்வரும் 31.03.2005 ஆம் திகதிக்கு முன் செலுத்தி அதற்கான உத்தரவுப் பத்திரங்களைப் பெற்றுக்கொள்ளுமாறு கேட்டுக்கொள்கின்றோம்.

அத்துடன் தொழில் மாற்றம் செய்யவர்களும், புதிய தொழில் ஆரம்பிப்பவர்களும் தொழில் நிலையங்களை மூடுபவர்களும் உடனுக்குடன் சபைக்கு அறியத்தகுந்த ஒத்துழைக்கும்படியும் கேட்டுக்கொள்கின்றோம்.

தவறுபவர்கள் மீது மாநகரசபைக் கட்டணச் சட்டம் 576 பிரிவு 512 இன் கீழ் சட்ட நடவடிக்கை எடுக்கப்படும் என்பதை அறியத் தருகின்றோம்.

மாநகரசபை அலுவலகம்
யாழ்ப்பாணம்
02.12.2004
(சி-3445)

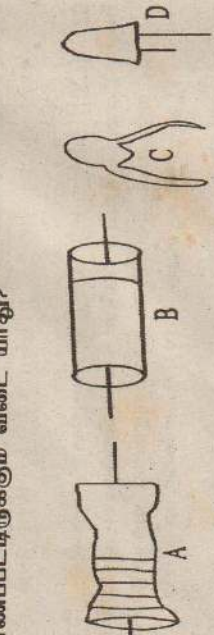
கலாநிதி க.குணராசா
மாநகர ஆணையாளர்,
மாநகரசபை,
யாழ்ப்பாணம்

16. வரிகளை கொண்டு இருப்பவை
 i) A, B ii) B, C iii) A, C iv) A மட்டும்
17. மனித கருப்பையில் அதிகம் காணப்படுவது
 i) A ii) B iii) C iv) B, C
18. பின்வருவனவற்றில் முவனு வாயு எது?
 i) கீல்யம் ii) ஐதரசன் iii) ஒட்சிசன் iv) காபனீரொட்சைட்டு
19. 20, 21, 22 ஆம் வினாக்கள் பின்வரும் சமன்பாட்டினை அடிப்படையாகக் கொண்டவை
 $xN_2 + yH_2 \rightarrow zNH_3$
20. மேலே NH_3 இல் N, H இன் வலுவளவுகள் முறையே
 i) 1, 3 ii) 3, 1 iii) 2, 3 iv) 3, 2
21. NH_3 யிலுள்ள பிணைப்பு எத்தகையது
 i) அயன் பிணைப்பு ii) பங்கிட்டு வலுப் பிணைப்பு iii) சுதர் பங்கிட்டு வலுப் பிணைப்பு iv) மேற்கூறிய யாவும் சரி
22. NH_3 யிலுள்ள N இன் சதவீதம் ($N=14, H=1$)
 i) $\frac{14}{17} \times 100$ ii) $\frac{17}{14} \times 100$
 iii) $\frac{17}{17} \times 100$ iv) $\frac{28}{17} \times 100$
23. நேராக ஏற்றப்பட்ட பொன்னிலை மின்காட்டிக்கு அருகில் இன்வருமாறு ஏற்றமுடைய பொருட்கள் கொண்டு வரப்படுகின்றன. பொன்னிலை விநிவ பற்றிய சரிபாண கூற்று என்பது பொன்னிலை இடைக்கோணம்)

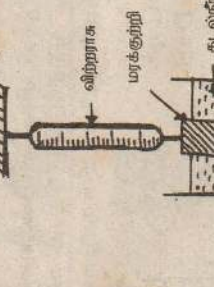


24. x எனும் மூலகம் பற்றிய சரிபாண கூற்று
 a) அணு எண் - 27
 b) தனிவினா - 13
 c) டிரோத்திரன் - 27
 d) நியூத்திரன் - 14
 i) a, d ii) b, c iii) c மட்டும் iv) d மட்டும்
25. ஒரு மனிதனின் நிறை 550 N அவனது பாதமொன்றின் பரப்பு $0.0125 m^2$ எனின் அவன் பாதம் மூலம் தரையில் பிரயோசுக்கும் அழுக்கம் யாது?
 i. $\frac{550}{0.0125} Nm^{-2}$ ii. $\frac{550}{0.0125 \times 2} Nm^{-2}$
 iii. $\frac{0.0125}{550} Nm^{-2}$ iv. $\frac{550}{0.0125} \times 2 Nm^{-2}$

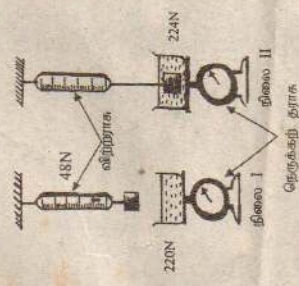
26. கூட்டுநிலைக்குக் காட்டி ஒன்றின் கண் வில்லை $X \ 10$, பொருள் வில்லை $X \ 50$ பொருளின் உருப்பெருக்கம் யாது?
 i) 50 மடங்கு ii) 500 மடங்கு
 iii) 5 மடங்கு iv) 250 மடங்கு
27. X எனும் உலோகம் வளியில் வெப்பமேற்றும் போது பிரகாசமான பொன் மஞ்சள் நிறகவாலைபுடன் எரிந்து X ஆக இருக்கக் கூடியது எது?
 i) Na ii) K iii) Mg iv) Ca
28. இலத்திரனியற் சுற்றுக்களில் பயன்படும் நாளுக்கு துணைச் சாதனங்கள் கீழேயுள்ளன. இவை முறையே சரிபாக கிணம் காணப்பட்டிருக்கும் விடை யாது?
 i) தடை, இருவாயி, ஒளிகளும் இருவாயி, கொள்ளளவி
 ii) இருவாயி, தடை, கொள்ளளவி, ஒளிகளும் இருவாயி.
 iii) தடை, இருவாயி, கொள்ளளவி, ஒளிகளும் இருவாயி.
 iv) தடை, இருவாயி, திரான்சில்டர், ஒளிகளும் இருவாயி



29. $2400 Kg m^{-3}$ அடர்த்தியும் $2 \times 10^{-2} m^3$ கனவளவுடைய துமான ஓர் மரக்குற்றி அதன் மொத்த கனவளவின் முக்காற்பங்கு $1200 Kg m^{-3}$ அடர்த்தியுடைய கடல்நீரிலுள் கீழுள்ள பட்டதிலுள்ள எவாறு உள்ளதெனின் விற்றராசின் வாசிப்பைக் காண்க.
 i) 480N ii) 180N iii) 300N iv) 660N



30. அருகிலுள்ள நெருக்கற் தராக, விற்றராக ஆகியவற்றின் வாசிப்புக்களைத் தெளிவாக அவதானித்து நிலை ஐஜல் விற்றராசின் வாசிப்பைக் காண்க.



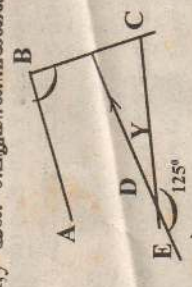
சி. சிவதாசன்
 OD வள நிலையம் கோப்பாய்

இங்கே மழக்கவம்

மாணவர் மலர்
 கல்வியியல்
 மலர்

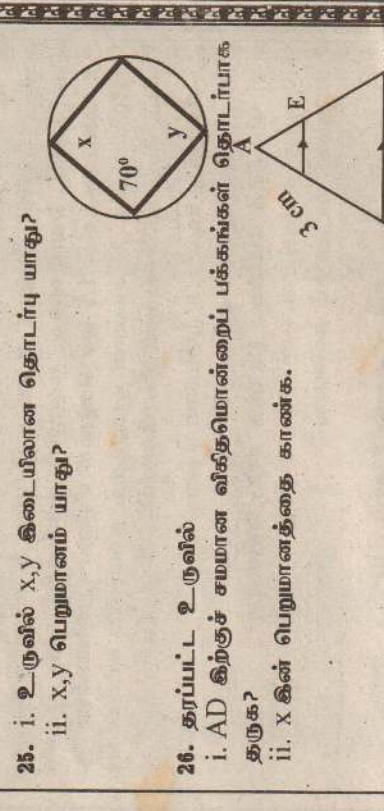
பகுதி I

1. 1 kg தேயிலையின் விலை 240.00 ஆகும் 150 g தேயிலையின் விலை யாது?
 2. $(-4) - (-5)$
 3. $0.7 + 0.064 - 0.0023$
 4. $\sqrt{3} - 2 = 0$
 5. $(-4)^2$ பெறுமானம் யாது?
 6. $91^2 - 4^2$ காரணி அறிவுகொண்டு விடையக் காண்க?
 7. 73° இன் மிகைநிற்பி கோணம் யாது?
 8. 0.00573 என்பதை விஞ்ஞான முறையிலிருந்து தருக.
 9. $0.25; 1/2; 3/4$ என்பதை கிறங்கு வரிசைப்படுத்துக?
 10. $3\sqrt{2} + \sqrt{2}$
 11. $(X \times 2)(x-7) = 0$ என்ற இருபடிச் சமன்பாட்டை தீர்க்க
 12. $S = ut + \frac{1}{2} at^2$ என்ற சமன்பாட்டில் U ஐ எவ்வாயாக மாற்றுக.
 13. $a = -2, b = 3$ எனின், $a^3 - a^2 b$ இன் பெறுமானங்களைக் காண்க.
 14. சுருக்குக $[2\sqrt{6} - 1/2] 3\sqrt{1/2}$
 15. உருவில் X, Y இன் பெறுமானங்களைக் காண்க.

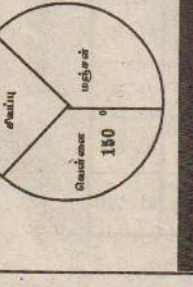


16. 4 மனிதர்கள் 14 நாட்களில் செய்யும் வேலையை 7 மனிதர்கள் செய்ய எத்தனை நாட்கள் எடுக்கும்?
 17. 14m ஆரையுடைய சில்லொன்று 880 m தூரம் செல்வதற்கு எத்தனைமுறை சுழலவேண்டும்?
 18. 231 நாளுக்கு என்ற எண்ணை
 i. அடி பத்தில் தருக?
 ii. துவித எண்ணாக மாற்றுக.
 19. காரணி பற்றிய அறிவைப் பயன்படுத்தி பெறுமானம் காண்க.
 $63 \times 7 + 3 \times 63$
 20. AB, BC எனும் சமாந்தரமற்ற கோடுகளில் இருந்து சம தூரத்தில் அசையும் புள்ளியின் ஒழுக்கை பருமட்டான படம் மூலம் காட்டுக.
 21. $\frac{3}{x-2}$
 $\frac{x-5}{x-2}$
 22. கம்பளி ஒன்றின் ரூ. 10 பங்குகளை 15 படிவாங்குவதற்கு ஒருவர் 7800 முதலீடு செய்கிறார். கம்பளி வறுங்கிய பங்கு லாபம் 8% ஆகும்.

- i. வாங்கிய பங்குகளின் எண்ணிக்கை யாது?
 ii. மொத்தப் பெயர்மாத்ந்திரப் பெறுமானம் யாது?
 iii. வருமானம் எவ்வளவு?
 23. தரப்பட்ட வெள்ளுகுவைப் பயன்படுத்தி
 i. A இன் மூலகங்களை எழுதுக?
 ii. $n(A \cup B)$
 iii. $B \cap A$ நிறுத்திக் காட்டுக?
 24. $\sin A = \frac{5}{13}$ எனின் COSA இன் பெறுமானம் யாது?
 $\sqrt{41}$
 25. i. உருவில் X, Y இடையிலான தொடர்பு யாது?
 ii. X, Y பெறுமானம் யாது?
 26. தரப்பட்ட உருவில்
 i. AD கிற்றுச் சமமான வித்தொன்றைப் பக்கங்கள் தொடர்பாக தருக?
 ii. X இன் பெறுமானத்தை காண்க.



27. $x \geq 2, Y < -4$ எனும் சமனிலிகளை ஆள்கற்றறத் தளத்தில் வரையுபடுத்துக?
 28. 200 m/s என்றும் வேகத்துடன் செல்லும் வாகனம் ஒன்று 2 நிமிடத்தில் சென்ற தூரத்தை Km கில் தருக?
 29. $2y = 3x - 5$ எனும் நேர்கோட்டின் படித்திறன் வெட்டுத்துண்டு யாது?
 30. கடை ஒன்றில் கூடுதலாக விற்பனை செய்யப்பட்ட துணியின் நிறங்கள் வரையில் காட்டப்பட்டுள்ளது. வெள்ளை நிறத்துணி 480m விற்பனையானது எனின், விற்பனை யாகிய மஞ்சள் நிறத் துணியின் அளவு யாது?



பகுதி II

01. $Y = 5 - 2x^2$ என்ற சார்பின் வரையை x கிஸ் பெறுமானங்களைக் கொண்ட பூரணமற்ற அிட்டவளை கீழே தரப்பட்டுள்ளது.
- | | | | | | | | |
|---|-----|-----|-----|-----|---|----|-----|
| X | -3 | -2 | -1 | 0 | 1 | 2 | 3 |
| Y | -13 | ... | ... | ... | 3 | -3 | -13 |
- a) அிட்டவளையின் வெற்றிடங்களை நிரப்புக?
 x அச்ச வழியே 10 சிறு பிரிவுகளை 1 அலகாகவும், அச்ச வழியே 10 சிறு பிரிவுகளை 2 அலகாகவும் எடுத்து சார்பின் வரையை வரைக?

மாணவர் மலர் - i
 கல்வியியல் தராதரப் பத்திர (சாத) யட்சை - 2004
 ப. ச. குகநாதன்
 கலைக் குச்சியர் OD வள நிலையம்
 கோப்பாய் கிராமத்தின் கல்சாரி

மனித உரிமைகள் தினத்தை முன்னிட்டு வினாடிவினா போட்டி

சர்வதேச மனித உரிமைகள் தினத்தை முன்னிட்டு, யாழ். பிராந்திய மனித உரிமைகள் ஆணைக்குழு யாழ்.மாவட்டத்தில் உள்ள அரசு சார்பற்ற நிறுவனங்களுடன் இணைந்து நடமாடும் சேவைமூலம் கிராமத்தோறும் வினாடிவினா போட்டியை நடத்தவுள்ளது. இந்தப் போட்டி உள்நாட்டில் இடம்

பெயர்ந்தோருக்கும், மீள்குடியமர்ந்தோருக்குமான தேசிய பாதுகாப்புக்கு நிலையான தீர்வுக்குமான விசேட செயற்திட்டமாகும். இந்தப் போட்டி நாளை மறுதினம் நடைபெறும். எனவே இன்று தொடக்கம் நாளை மறுதினம் வரையாழ்.மாவட்டத்தில் வெளிவரும் சகல பத்திரிகைகளிலும், மனித

உரிமைகள் ஆணைக்குழுவால் பிரசுரிக்கப்படும் மனித உரிமைகள் சார்ந்த கட்டுரைகளை வாசித்து நடைபெறவுள்ள வினாடிவினாப் போட்டியில் அனைவரையும் கலந்து, வெற்றியிட்டுப் பரிசில்களைப் பெற்றுக்கொள்ளுமாறு இலங்கை மனித உரிமைகள் ஆணைக்குழுவின் கேட்டுள்ளனர்.

யாழ்.நாடாளுமன்ற உறுப்பினர்கள் கழகங்களுக்கு நிதி ஒதுக்கீடு!

(யாழ்ப்பாணம்) யாழ்.மாவட்ட நாடாளுமன்ற உறுப்பினர்கள் தமது பன்முகப் படுத்தப்பட்ட வரவு - செலவுத் திட்ட நிதியிலிருந்து வடமராட்சி வடக்கு விளையாட்டுக் கழகங்களுக்கு கழக மைதானம் பராமரிப்பு, மதில் அமைப்பு, கழக அரங்கு அமைத்தல் மற்றும் விளையாட்டு உபகரணம் கொள்வனவு செய்வதில் போன்ற தேவைகளுக்காக நிதி ஒதுக்கீடு செய்துள்ளனர்.

இந்த வகையில் சிவாஜிவிங்கம் அல்லாய் நண்பர் விளையாட்டு கழகத்துக்கு ஒரு லட்சம் ரூபா, வல்லை விளையாட்டுக் கழகத்துக்கு 50 ஆயிரம் ரூபா, பருத்தித்துறை லீக் கழகத்துக்கு 50 ஆயிரம் ரூபாவும் பருத்தித்துறை ஐக்கிய விளையாட்டுக்கழகத்திற்கு 30 ஆயிரம் ரூபாவும் என தமது நிதியிலிருந்து ஒதுக்கியுள்ளனர். கஜேந்திரன் எம்.பி பருத்தித்துறை ஐக்கிய விளையாட்டு

கழகத்துக்கு 10 ஆயிரம் ரூபாவும், தம்பசிட்டு உதயதாரகை விளையாட்டுக் கழகத்துக்கு 5 ஆயிரம் ரூபாவும், துன்னாலை வல்லியானாதம் விளையாட்டுக் கழகத்துக்கு 5 ஆயிரம் ரூபாவும் தமது நிதியிலிருந்து ஒதுக்கியுள்ளனர். பத்மினி சிதம்பரநாதன் எம்.பி-ஆதிசக்தி விளையாட்டுக் கழகத்துக்கு 40 ஆயிரம் ரூபா தமது நிதியிலிருந்தும், சுரேஸ் பிரேமச சந்திரன் எம்.பி. வியாபாரிமூலை கலைமணி விளையாட்டுக் கழகத்துக்கு இரண்டு லட்சம் ரூபாவும் ஒதுக்கியுள்ளார் என பருத்தித்துறை பிரதேச விளையாட்டு உத்தியோகத்தர் தெரிவித்தார். (20)



குருநகர் நெய்தல் விழா - 2004 இல் இடம் பெற்ற கலை நிகழ்ச்சிகளில் மாணவிகளின் மீனவ நடனக் காட்சியைக் காணலாம். (206)



அண்மையில் வடக்கு - கிழக்கு விவசாய நிர்ப்பாசனத் திட்டத்தின்கீழ் கரவெட்டி பிரதேச செயலகப் பிரிவுக்குட்பட்ட அந்தனத்திடல் கிராமத்துக் கெனக் கட்டி முடிக்கப்பட்ட பொது மண்டபத்தை யாழ். அரசு அதிபர் செ. பத்மநாதன் பிரதம விருந்தினராகக் கலந்துகொண்டு திறந்துவைத்தார். இந்தப் பொது மண்டபத்தைச் சம்பந்திய பூர்வமாக அந்தனத்திடல் கிராம அபிவிருத்திச் சங்கத் தலைவரிடம் அரசு அதிபர் ஒப்படைப்பதையும், விழாவுக்குத் தலைமைதாங்கிய பிரதேச செயலர் அருகில் நிற்பதையும் படத்தில் காணலாம் (13)



பருத்தித்துறை ஹாட்லிக் கல்லூரியில் ஆசிரியர்களால் நடத்தப்பட்ட ஆசிரியர் தின விழாவில் குருபி.ம் என்ற நாடகத்தில் ஆசிரியர் நாகேந்திரராஜா தோன்றும் ஒரு காட்சியை படத்தில் காணலாம் (17)

ஒற்றுமைக்கான மக்கள் அரங்க செயற்திட்டம்!



(யாழ்ப்பாணம்) யாழ்.பல்கலைக்கழக நாடகமும் அரங்கியலும் 2 ஆம் வருட மாணவர்கள் தமது பாடத்திட்டத்தின் ஒரு பகுதியான அரங்க செயற்திட்டத்தை மேற்கொள்வதற்காகப் பதினொருபேர் கொண்ட குழுவாக இணைந்து பாடசாலைகளிலும், கிராமங்களிலும் ஒற்றுமைக்கான மக்கள் அரங்க செயற்திட்டத்தை நடாத்திவருகின்றனர். தமிழர்களின் ஒற்றுமையையும், பலத்தையும் அழித்து தமிழர்களைத் தனிமைப்படுத்த முயற்சிக்கும் அரசும், அரசுக்கு ஆலோசனையும் உதவியும் வழங்கிவருகின்ற சர்வதேச சமூகங்களின் நடைமுறைகளையும், அவற்றின் உண்மையான உள்நோக்கங்களையும் வெளிப்படுத்தி நிற்பதுடன், தமிழர்களின் ஒற்றுமையையும், தேசியத்தின் மீதான உறுதிப்பாட்டையும் வலியுறுத்தும் வகையில் தமது அரங்கச் செயற்பாடுகளை இவர்கள் மேற்கொண்டுவருகின்றனர்.

ளைத் தனிமைப்படுத்த முயற்சிக்கும் அரசும், அரசுக்கு ஆலோசனையும் உதவியும் வழங்கிவருகின்ற சர்வதேச சமூகங்களின் நடைமுறைகளையும், அவற்றின் உண்மையான உள்நோக்கங்களையும் வெளிப்படுத்தி நிற்பதுடன், தமிழர்களின் ஒற்றுமையையும், தேசியத்தின் மீதான உறுதிப்பாட்டையும் வலியுறுத்தும் வகையில் தமது அரங்கச் செயற்பாடுகளை இவர்கள் மேற்கொண்டுவருகின்றனர்.

புலமைப் பரிசிலில் சித்தியடைந்த மாணவர்கள் கௌரவிக்கப்பட்டனர்

(யாழ்ப்பாணம்) கொமர்ஷல் வங்கியில் அருணலு சிறுவர் சேமிப்புக் கணக்கில் பணம் வைப்புசெய்திருந்த சிறுவர்களில் - இந்த ஆண்டு நடைபெற்ற புலமைப்பரிசில் பரிட்சையில் பாடசாலை நீதியாக முதல் மூன்று இடங்களையும் பெற்றுச் சித்தியடைந்தவர்களுக்கான பரிசில் வழங்கும் நிகழ்வு கடந்த ஞாயிற்றுக்

கிழமை நடைபெற்றது. கொமர்ஷல் வங்கி முகாமை யாளர் இரவீந்திரா தலைமையில் நடைபெற்ற இந்த நிகழ்வில் - புலமைப்பரிசில் பரிட்சையில் பாடசாலை மட்டத்தில் முதலாம், இரண்டாம், மூன்றாம் இடங்களைப் பெற்ற மாணவர்களுக்கு தலா 10 ஆயிரம், 7500, 5 ஆயிரம் ரூபா பணப்பரிசுகள் வழங்கப்பட்டன.

கட்டாக்கால் கால்நடைகளால் பயிர்ச்செய்கை நாசம்!

(சுழிபுரம்) சுழிபுரம் மேற்கு உயர் பாதுகாப்பு வலயப் பிரதேச வயல் நிலங்களில் பயிரிடப்பட்ட நெற்பயிர்களை கட்டாக்காலிக் கால்நடைகள் நாசமாக்குகின்றன. நெல் பயிரிடப்படும் வயல்களின் பரப்பளவு குறைவாக உள்ளதாகவும், இவ்வாறு கட்டாக்காலிக் கால்நடைகள் சேதம் விளைவிப்பதால் நெற்பயிரை அறுவடை

செய்யமுடியாமல்போகும் நிலை உருவாகிவிடும் என நெற்பயிர்ச்செய்கையாளர்கள் கவலை தெரிவித்தனர். இவ்வாறு கட்டாக்காலிக் கால்நடைகள் இராணுவ உயர் பாதுகாப்பு வலயங்களில் இருந்து விளைநிலப்பரப்புக்குள் வருவதாகவும், சுழிபுரம் மேற்கு விவசாய சம்மேளன உறுப்பினர் திருமதி சி.பத்மலோசனி தெரிவித்தார்.

கால்நடைகளின் எச்சங்களால் மருதங்கேணி சந்தையில் சுகாதாரச் சீர்கேடு

(மருதங்கேணி) மருதங்கேணி பொதுச் சந்தைக்கு சுற்று மதில் இல்லாத காரணத்தால், கட்டாக்காலிக் கால்நடைகள் இரவு நேரங்களில் தங்கியிருந்து போடும் எச்சங்களால் சந்தைப்பகுதி பெரும் துர்நாற்றம் வீசுவதால் வியாபாரிகள் பெரும் சிரமங்களை எதிர்நோக்குகின்றனர். இதனால் சந்தைப் பகுதியில் வியாபாரம் செய்யமுடியாத நிலை ஏற்பட்டிருக்கிறது. தற்காலிக கொட்டகையில் இயங்கும் இந்தப் பொதுச் சந்தை, இரவு நேரங்களில்

கால் நடைகளின் தங்குமிடமாகவே மாறிவருகிறது. இந்தச் சந்தை கிழமையில் மூன்று நாட்கள் மாத்திரமே இயங்கிவருகிறது. மற்றைய நாட்களில் கால்நடைகளின் தங்குமிடமாகவே காட்சியளிக்கிறது. பருத்தித்துறை பிரதேச சபையால் நிர்வகிக்கப்பட்டுவரும் இந்தப் பொதுச் சந்தையைப் புனரமைப்புச் செய்யுமாறும், இதற்குச் சுற்றுமதில் அமைத்துத் தரும்படியும் இந்தப் பகுதி மக்கள் கோரிக்கை விடுத்துள்ளனர். (17)

ஸ்கிரீன் பிறிள்ரிங் கண்காட்சியும் சான்றிதழ் வழங்கும் வைபவமும்!

(யாழ்ப்பாணம்) யாழ். கலாநிதி ஆ.தியாகராஜா ம.ம.வித்தியாலய முறைசாராக் கல்விப் பிரிவின் ஸ்கிரீன் பிறிள்ரிங் (திரை அச்சு) கண்காட்சியும், சான்றிதழ் வழங்கும் நிகழ்வும் இன்று மதியம் 12 மணிக்கு இந்த கல்வியறிவின் நடராஜா மண்டபத்தில் நடைபெறவுள்ளது. இதில் பிரதம விருந்தினராக

தீவகக் கல்விப் பணிப்பாளர் வி.மகேந்திரனும், சிறப்பு விருந்தினராக முறைசாராக் கல்விப் பிரிவு பணியாளர் கணபதியும் கலந்து கொள்ளவுள்ளனர். இந்த நிகழ்வில் முறைசாராக் கல்விப் பிரிவு - கணினிப்பிரிவு மாணவர்களுக்கும் சான்றிதழ்கள் வழங்கப்படவுள்ளதாக அறிவிக்கப்பட்டுள்ளது. (52)

கிளிப் பிறந்தநாள் னாழ்த்துக்கள்

முதலாவது சிவ்வாழி



பெயர் : நெ.நொடாணி முகவரி : வவுணியா

இரண்டாவது சிவ்வாழி



பெயர் : ர.சாதுவிகன் முகவரி : பொலிகண்டி

வாழ்க வளமுடன்

சிறான பெயர் : முகவர் : பிறந்த ஆண்டு :

சுகாதாரம் சம்பந்தமான வேலைத்திட்டத்திற்கென வவுனியா மாவட்டத்தில் 17 மில்லியன் ரூபா கையளிப்பு

வவுனியா மாவட்டத்தில் நிகொட் திட்டத்தின் கீழ் சுகாதாரம் சம்பந்தமான வேலைத்திட்டங்கள் மேற்கொள்ளப்பட்டு வருகின்றன. இவ்வாறு செய்து முடிக்கப்பட்ட வேலைத்திட்டங்கள் கையளிக்கும் வைபவம் நேற்றுமுன்தினம் வவுனியாவில் வெவ்வேறு பிரதேசங்களில் இடம்பெற்றன.

இந்தத் திட்டத்தின் கீழ் நான்கு வேலைத் திட்டங்கள் முன்னெடுக்கப்பட்டதுடன், வேலைகளுக்கென நிகொட் நிறுவனத்தால் 17 மில்லியன் ரூபா நிதி ஒதுக்கீடு செய்யப்

பட்டுள்ளது. இந்தத் திட்டத்தின்கீழ் செட்டிகுளம் சுகாதார வைத்திய அதிகாரிகாரியாலயத்துக்கு 4.4 மில்லியன் ரூபாவும், செட்டிகுளம் வைத்திய அதிகாரி அலுவலகம் மற்றும் செட்டிகுளம் வைத்தியசாலை நீர் விநியோகம் என்பவற்றுக்கு 7.7 மில்லியன் ரூபாவும், உளுக்குளம் பிரதேச வைத்திய பிரசவ விடுதிக்கு 4.1 மில்லியன் ரூபாவும், தாதிமார் தங்கும் விடுதிக்கு 1.4 மில்லியன் ரூபாவும், சிதம்பரபுரப் பிரதேச வைத்தியசாலையின்

வைத்திய அதிகாரி விடுதிக்கு 2.1 மில்லியன் ரூபாவும் உத்தியோக பூர்வமாகக் கையளிக்கப்பட்டிருப்பதாக வவுனியா பிரதி மாகாண சுகாதார சேவைப் பணிப்பாளர் வைத்திய கலாநிதி ஏ.கேதீஸ்வரன் தெரிவித்தார்.

கிளிநொச்சி மாவட்ட அரசு செயலகத்தின் பதிவாளர் பிரிவின் நிழற்பட இயந்திரம் பழுது

(கிளிநொச்சி) கிளிநொச்சி மாவட்ட செயலகத்தின் பதிவாளர் பிரிவின் நிழற்பட இயந்திரம் பழுதடைந்துள்ள நிலையில், பதிவுகள் மேற்கொள்ள முடியாதநிலை ஏற்பட்டுள்ளது. இதனால் பதிவுகள் தேக்கமடைந்துள்ளன.

கடந்த வரும் ஜூலை மாதம் யுனிசெப் நிறுவனத்தால் இந்த நிழற்பட இயந்திரம் வழங்கப்பட்டது. இந்த இயந்திரம் தகுந்த பராமரிப்பு வசதியின்மையால் பழுதடைந்து, இயங்கமுடியாத நிலையிலுள்ளது. இதனைத் திருத்துவதற்கான எந்த நடவடிக்கையையும் உரியவர்கள்

மேற்கொள்ளாமையாலேயே பெரும் சிரமங்கள் ஏற்பட்டுள்ளதென, கிளிநொச்சி மாவட்ட மேலதிக பதிவாளர் நாகேஸ்வரி செல்வராசா தெரிவித்தார்.

அவர் மேலும் தெரிவிக்கையில் - இந்தச் செயலகம் நீண்ட நாட்களாக நிரந்தர எழுதுவினைஞர் இன்றிப் பயிலுநர் உதவியுடனேயே இயங்குகிறது. அத்துடன் பதிவுகளை மேற்கொள்ளவரும் மக்கள் உரிய ஆவணங்களின்றி வருவதாகவும், தாம் பெரும் சிரமங்களை எதிர்கொள்ளவதாகவும் அவர் மேலும் தெரிவித்தார்.

வடமராட்சி கிழக்கு பிரதேசத்தில் அபிவிருத்திப் பணிகள் இடம்பெறவில்லை

(வடமராட்சி) வடமராட்சி கிழக்கு வெற்றிலைக்கேணி, கட்டைக்காடு வத்திராயன் ஆகிய பிரதேச மக்கள் அடிப்படை வசதிகளைப் பெற்றுக் கொள்வதில் பெரும் சிரமங்களை எதிர்நோக்கிவருகின்றனர்.

கடந்த காலங்களில் ஏற்பட்ட இராணுவ நடவடிக்கையின்போது, இந்தப் பிரதேசம் விடுதலைப் புலி

களால் கைப்பற்றப்பட்டு, மக்கள் மீள்குடியமர்ந்து மூன்று ஆண்டுகள் கழிந்த நிலையிலும் எந்தவிதமான அபிவிருத்திப் பணிகளும் மேற்கொள்ளப்படாதுள்ளது.

இந்தப் பிரதேச மக்கள் தமது அடிப்படை வசதிகளைப் பெற்றுக் கொள்வதில் பெரும் சிரமங்களை எதிர்நோக்கிவருகின்றமை குறிப்பிடத்தக்கது.

முழங்காவில் பிரதேசத்தின் முயற்சியாளருக்கு சுயதொழில் முயற்சிக் கடன்வழங்கல்!

கிளிநொச்சி - முழங்காவில் பிரதேசத்தில் சுயதொழில் முயற்சிக் கடன் வழங்கும் நிகழ்வு அண்மையில் இடம்பெற்றது.

கிளிநொச்சி மாவட்ட பெண்கள் அபிவிருத்தி புனரமைப்பு நிறுவனத்தால், யு.என்.டி.பி நிறுவன நிதியுதவியுடன் தெரிவுசெய்யப்பட்ட சுய தொழில் முயற்சியாளர்கள் 25 பேருக்கு - மூன்று லட்சத்து 75 ஆயிரம் ரூபா சுயதொழில் முயற்சிக்

கடனாக வழங்கப்பட்டது. முழங்காவில் பிரதேச பெண்கள் மேம்பாட்டு நிறுவன இணைப்பாளர் தலைமையில் இடம்பெற்ற இந்த நிகழ்வில் - கருத்துரைகளை முழங்காவில் பிரதேச அரசியற்புறப்பொறுப்பாளர், முழங்காவில் பிரதேச பெண்கள் மேம்பாட்டுத் தலைவி, மாதர் சங்கத் தலைவி, முழங்காவில் கிராம அலுவலர் ஆகியோர் நிகழ்த்தினர்.

கால்நடை வளர்ப்போருக்கு இன்று பயிற்சி வகுப்பு!

(கிளிநொச்சி) கால்நடை வளர்ப்போர் கூட்டுறவுச் சங்கத்தின் அனுசரணையுடன், இன்று காலை சி.ஐ.சி தீவன மற்றும் கால்நடை வைத்திய நிபுணர்களால் கால் நடைவளர்ப்போருக்கான பயிற்சி வகுப்பு கரைச்சிப் பிரதேச செயலகத்தில் நடைபெறவுள்ளது.

இந்தப் பயிற்சி வகுப்பு - கிளிநொச்சி மாவட்ட கால்நடை

வளர்ப்பு கூட்டுறவுச் சங்கத்தினரின் அனுசரணையுடன், கால்நடை வளர்ப்புக்கும் நவீன முறைகள் பற்றியும், கால்நடைகளுக்கான நோய்களை இனங்காண்பது பற்றியும், கால்நடை வளர்ப்புப் பற்றிய விரிவான அறிவுறுத்தல்களும் இடம்பெறவுள்ளன.

இதில் கால்நடை வளர்க்கும் பண்ணையாளர்கள் கலந்துகொண்டு பயன் பெறுமாறு கேட்டுக்கொள்ளப்படுகின்றனர்.

செம்பியன்பற்று சுண்டிக்குளம் வீதி புனரமைப்பு வேலைகள் மந்தகதியில்

வடமராட்சி கிழக்கு செம்பியன்பற்று சுண்டிக்குளம் வீதி மந்தகதியிலே புனரமைக்கப்பட்டுவருகிறதென அந்தப் பகுதி மக்கள் விசனம் தெரிவித்துள்ளனர்.

நீண்ட நாட்களாக இந்த வீதி

யின் புனரமைப்பு வேலைகள் நடைபெறுவதால் மக்கள் பெரும் சிரமங்களை எதிர்நோக்கிவருகின்றனர்.

அத்துடன் தற்போது பெய்துவரும் மழையால் இந்த வீதி சேராமல் சகதியுமாகக் காணப்படுகிறது.

பூநகரி நான்காம் கட்டைப் பிரதேசத்தில் கட்டாக்காலி நாய்களின் தொல்லை!

கிளிநொச்சி - பூநகரி 4 ஆம் கட்டைப் பகுதியில் கட்டாக்காலி நாய்களின் தொல்லை அதிகரித்துள்ளது. இதேபோன்று ஏனைய குடியிருப்பு பகுதிகளிலும் மக்கள் பயணிக்கமுடியாத அளவுக்குக் கட்டாக்காலி நாய்களின் தொல்லை அதிகரித்துக் காணப்படுகிறது.

இந்தக் கட்டாக்காலி நாய்களை

அழிப்பதற்கு சம்பந்தப்பட்டவர்கள் கவனமெடுக்கவேண்டும் என இந்தப் பகுதி மக்கள் கோரிக்கை விடுத்துள்ளனர்.

இதேவேளை நேற்றுமுன்தினம் கிளிநொச்சி நகரை அண்டிய பகுதிகளில் கட்டாக்காலி நாய்களை அழிக்கும் நடவடிக்கைகள் மேற்கொள்ளப்பட்டன.

பொருண்மிய மதியுரையகத்தால் சீமெந்துக்கல் தொழிற்சாலை திறப்பு

பொருண்மிய மதியுரையக நிறுவனத்தால் சீமெந்துக்கல் உற்பத்தித் தொழிற்சாலை திறப்பு விழா நிகழ்வு நேற்றுமுன்தினம் நடைபெற்றது.

இந்த நிகழ்வு கிளிநொச்சி மாவட்ட இணைப்பாளர் சி.விஜேந்திரா தலைமையில் நடைபெற்றது. இந்த நிகழ்வில் மக்கள் விளக்கை பெருண்மிய மதியுரையகத்தின் தலைவர் பேராசிரியர் நவரட்ணராஜா, பொருண்மிய மதியுரையகப் பணிப்பாளர் சுந்தரமூர்த்தி, செல்வரட்ணம், பாலச்சந்திரன் ஆகியோர் ஏற்றிவைத்தனர்.

தொழிற்சாலைக் கட்டடத்தை பொருண்மிய மதியுரையகத் தலைவர் பேராசிரியர் நவரட்ணராஜா நாடாமைவெட்டித் திறந்துவைத்தார். தொடர்ந்து இயந்திரங்களை

பாலச்சந்திரன், மனோகரன், நேசநாதன் ஆகியோர் நாடாமை வெட்டி இயக்கி வைத்தனர். இறுதி நிகழ்வாக பொருண்மிய மதியுரையகத்தின் பணியாளர் சிவபாலமுகுந்தன் நன்றியுரை நிகழ்த்தினார்.

பாலச்சந்திரன், மனோகரன், நேசநாதன் ஆகியோர் நாடாமை வெட்டி இயக்கி வைத்தனர். இறுதி நிகழ்வாக பொருண்மிய மதியுரையகத்தின் பணியாளர் சிவபாலமுகுந்தன் நன்றியுரை நிகழ்த்தினார்.

கிளிநொச்சி மாவட்டத்தில் கால்நடைகளை கட்டுப்படுத்த நடவடிக்கை

கிளிநொச்சி மாவட்டத்தில் கால்நடை நெற்செய்கை மேற்கொள்ளப்படுவதால், கால்நடைகளை கட்டுப்படுத்தி வளர்க்குமாறு கால்நடை வளர்ப்போருக்கு அறிவித்தல் விடப்பட்டுள்ளது.

இந்த அறிவித்தலை பெரும்பாலானோர் கடைப்பிடிக்கத் தவறுகின்றனர். இதனால் பூவலாக பல பிரதேசங்களில் பயிரழிவுகள் ஏற்பட்

டுள்ளன. சிலர் தனிப்பட்ட முறைப்பாடுகளை அடிப்படையாகக் கொண்டு, கால்நடைகளைக் கட்டுப்படுத்தத் தவறுகின்றனர். பொதுவாக முரண்பாட்டைத் தவிர்த்து அணைவரும் கால்நடைகளைக் கட்டுப்படுத்தி விசைய நடவடிக்கைக்கு உதவுமாறு விவசாயத்துடன் சம்பந்தப்பட்டவர்கள் கேட்டுக்கொள்கின்றனர்.



விஞ்சிப் பதிகங்கள் எதயற் பயிற்சி நிலையம் திறப்பு

முல்லைத்தீவு - பாண்டியன் குளம் பகுதியில் எதயற் பயிற்சி நிலையம் ஒன்று ஆரம்பிக்கப்பட்டுள்ளது.

எதிர்வரும் ஜனவரி மாதம் இந்தப் பயிற்சி நிலையம் ஆரம்பிக்கப்படவுள்ளதால், இந்தப் பிரதேசத்தில் உள்ள தொழில் வாய்ப்பற்ற யுவதிகளுக்கு பெரிதும் பயனுள்ளதாக அமையுமென எதிர்பார்க்கப்படுகிறது.

எதிர்வரும் ஜனவரி 3 ஆம் திகதிமுதல் ஆரம்பிக்கப்பட்டு ஒருவருட பயிற்சி நெறியாக இது அமையும். இதற்கான கொடுப்பனவுகள் வழங்கப்படவுள்ளது. இந்தப் பயிற்சியை பயிலவிரும்பும் யுவதிகள் தமது கிராம சேவை உத்தியோகத்தர் ஊடாக விண்ணப்பிக்கும்படி மாந்தை கிழக்கு உதவி அரசாங்க அதிபர் ம.ஜெகன் தெரிவித்தார்.



வவுனியா மாவட்டத்தில் தேசியத் தலைவரின் பிறந்த தினத்தன்று வவுனியா மகளிர் அரசியற்குறை அலுவலகத்தில் நடைபெற்ற நிகழ்வில் - தம்புழித் தேசிய கொடியை தம்புழி மகளிர் அரசியற்குறைப் பொறுப்பாளர் தம்புழி ஏற்றுவைத் முதலாவது படத்திலும், பொதுச் சுடரை வவுனியா மாவட்டத் தேசிய எழுச்சு பேரவை அமைப்பின் தலைவர் செ.சபாநாதன் ஏற்றிவைப்பதை கிரண்டாவது படத்திலும், மாதர் சங்கத்தால் - தேசியத் தலைவருக்கான வாழ்த்துப் பாலை மாதர் சங்கப் பிரதிநிதி மகளிர் அரசியற்குறைப் பொறுப்பாளரிடம் வழங்குவதை முன்றாவது படத்திலும் காணலாம். (படங்கள்: கனகரவி)

க.பொ.த சாதாரண தூரம் மாதிரிப் பரீட்சை - 2004

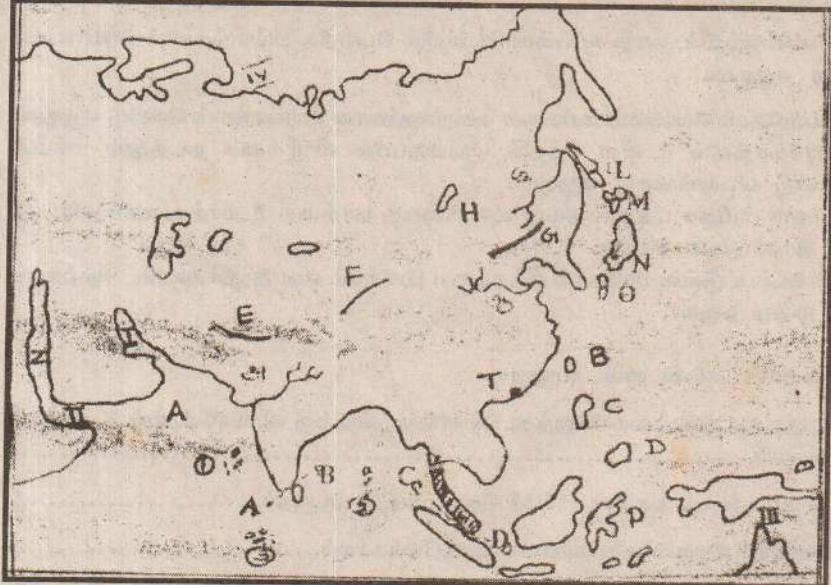
சி. ஸ்ரீனிவாஸ்
சென்பந்திரீக்ஸ் கல்லூரி

வரலாறும் சமூகக்கல்வியும்

பகுதி - 1

எல்லா வினாக்களுக்கும் விடை தருக.

பின்வரும் தேசப்படத்தைப் பயன்படுத்தி 1-10 வினாக்களுக்கு விடை எழுதுக.



- 1) A -- B, C -- D என்பன குறிப்பன.
 1. பாக்குத்தொடுகடல், மலாக்காத் தொடுகடல்
 2. பாக்குத்தொடுகடல், குத்தொடுகடல்
 3. பாக்குத்தொடுகடல், கினியா விரிகுடா
 4. மலாக்காத்தொடுகடல், பாக்குத்தொடுகடல்
- 2) பாரசீகக் குடாவைக் குறிக்கும் இலக்கம் எது?
 1. 1
 2. 2
 3. 3
 4. 4
- 3) H என்ற எழுத்தால் குறிப்பிடப்படுவது
 1. விக்டோரியா ஏரி
 2. அயர் ஏரி
 3. பெயிக்கால் ஏரி
 4. சிலேவ் ஏரி
- 4) அ, ஆ, இ என்பன குறிக்கும் நதிகள் முறையே
 1. குவாங்கோ, அமுர், சிந்து
 2. சிந்து, அமுர், குவாங்கோ
 3. குவாங்கோ, சிந்து, அமுர்
 4. சிந்து, குவாங்கோ, அமுர்
- 5) சுலைமான் மலை, ரியான் சான் மலை, கிங்கான்மலை என்பவற்றைக் குறிக்கும் ஆங்கில எழுத்துக்கள் முறையே
 1. EGF
 2. EFG
 3. GFE
 4. FGE
- 6) படத்தில் நிழற்றப்பட்டுள்ள பிரதேசம் எது?
 1. திபெத் மேட்டுநிலம்
 2. யூனான் மேட்டுநிலம்
 3. தார் பாலைவனம்
 4. டவுன்ஸ் புல்வெளி
- 7) 2 ஆம் உலகப் போரின்போது அணுகுண்டு வீசப்பட்ட கிரோசியா, நாகசாகி ஆகிய இரு நகரங்களைக் குறிக்கும் எழுத்துக்களாவன.
 1. O,N
 2. M,L
 3. N,O
 4. M,N
- 8) மாலைதீவுகள், அந்தமான் தீவுகள், இலட்ச தீவுகள் என்பவற்றைக் குறிக்கும் இலக்கங்கள் முறையே
 1. 1,2,3
 2. 2,3,1
 3. 3,1,2
 4. 3,2,1
- 9) அரபிக்கடலையும், தாய்வானையும் குறிக்கும் எழுத்துக்கள் முறையே
 1. A,B
 2. Z,C
 3. Z,B
 4. A,P
- 10) தென்னாசியாவில் மிகவும் பிரசித்தமான ஒரு நகரை T என்பது குறிக்கிறது. அந்நகரத்தின் பெயர் எது.
 1. தாய்வான்
 2. ரங்கூன்
 3. கொங்கொங்
 4. சிங்கப்பூர்
- 11) பாராளுமன்றக் கருமங்களின் ஒழுங்கமைப்பு, அவற்றை நடைமுறைப்படுத்தல் ஆகிய பணிகளுக்குப் பொறுப்பானவர்.
 1. சபாநாயகர்
 2. சபைமுதல்வர்
 3. செயலாளர் நாயகம்
 4. பிரதம மந்திரி
- 12) பின்வருவனவற்றுள் இலங்கையின் ஈரவைப்பாராளுமன்ற முறையை இல்லா தொழித்த சீர் திருத்தம் எதுவாகும்.
 1. 1931 டொனமர் சீர்திருத்தம்
 2. 1974 சோல்பரித்திட்டம்
 3. 1972 முதலாம் குடியரசு யாப்பு
 4. 1978 சனநாயக சோசலிசக் குடியரசு யாப்பு
- 13) மலையகப் பகுதியில் 1815 இல் ஆரம்பித்த பிரித்தானியர் ஆட்சிக்கு எதிராக மக்கள் அதிருப்தி காண்டமைக்குக் காரணமாக அமைந்தது பின்வருவனவற்றுள் எது.
 1. கண்டி மக்களின் பாரம்பரியங்களுக்கும் பழக்கவழக்கங்களுக்கும் பிரித்தானியர் மதிப்பளிக்கும்மை.
 2. சிறி விக்கிரம ராசசிங்கனை நாடுகடத்தியமை.
 3. நாயக்கர், பிரதானிகளின் அதிகாரங்களை நீக்கியமை.
 4. புதிய வரிவகைகளை நடைமுறைப்படுத்தியமை.
- 14) உலக சனத்தொகைக்கு போதுமான உணவு உற்பத்தியானபோதும், பூமியில் வாழும் எல்லா மனிதர்களுக்கும் போதுமான அளவு உணவு கிடைப்பது இல்லை எனக்கூறப்படுவதற்கான பிரதான காரணமாக அமைவது.
 1. உற்பத்தியாகும் உணவில் பல்வகை இன்மை.
 2. களஞ்சியப்படுத்துவதில் உள்ள குறைபாடுகளினால் உணவு பெருமளவு வீணாகுதல்.
 3. உற்பத்தியாகும் உணவு ஒழுங்குமுறையில் பகிர்வு செய்யப்படாமல்.
 4. சில அபிவிருத்தியடைந்த நாடுகள் அவற்றுக்கு உணவைப் பெருமளவு நுகர்வு செய்தல்.
- 15) மனித உரிமைகள் பாதுகாக்கப்படுவது முக்கியத்துவம் பெறுவதற்கான காரணம்.
 1. அவை புரட்சிகள் மூலம் பெறப்பட்டவை என்பதாகும்.
 2. அவற்றை மீறினால் தண்டனை அனுபவிக்க நேரிடும் என்பதாகும்.
 3. அவை தனி ஆளினதும், சமுதாயத்தினதும் நல்வாழ்வுக்கு வழிவகுக்கின்றன என்பதாகும்.
 4. அபிவிருத்தியடைந்துவரும் நாடுகள் அவற்றுக்கு விசேட கவனம் செலுத்து கின்றனயாகும்.
16. சனநாயக ஆட்சி முறையுள்ள நாடுகளில் எதுவாகும்?
 1. அமெரிக்கா
 2. பிரான்ஸ்
 3. சீனா
 4. ரஷ்யா

1. அரசாங்கத்துக்கு எதிரான கொள்கைகளை மக்களிடம் வளர்க்க வேண்டும்.
 2. சகல அரசாங்க நடவடிக்கைகள் மீதும் எதிரான கருத்துக்களை வெளியிட வேண்டும்.
 3. தேர்தலில் மக்களால் தெரிவு செய்யப்பட்ட அரசாங்கம் மக்களுக்கு வழங்கிய உறுதிமொழிகளை நடைமுறைப்படுத்த நடவடிக்கை மேற்கொள்ள வேண்டும்.
 4. அரசாங்கம் மேற்கொள்ளும் எல்லா நடவடிக்கைகளிலும் பிழைகளை எடுத்துக் காட்டுவதற்கு முன்னின்று உழைக்கவேண்டும்.
- 17) தென்கிழக்காசியாவில் அமைந்துள்ள சர்வதேச ஆராய்ச்சி நிலையம் எதுவாகும்.
 1. நெல் ஆராய்ச்சி நிலையம்
 2. மிருகவள ஆராய்ச்சி நிலையம்
 3. பயிர் ஆராய்ச்சி நிலையம்
 4. நிலவள ஆராய்ச்சி நிலையம்.
 - 18) அபிவிருத்தியடைந்துவரும் நாடுகளில் இறப்பு வீதத்தில் வீழ்ச்சி ஏற்பட்ட மைக்கான பிரதான காரணம் எதுவாகும்.
 1. வைத்தியத்துறையில் ஏற்பட்ட வளர்ச்சி
 2. எழுத்தறிவில் ஏற்பட்ட வளர்ச்சி
 3. பெண்களின் சமூக அந்தஸ்தில் ஏற்பட்ட வளர்ச்சி
 4. பொருளாதார வளர்ச்சி
 - 19) கண்டி இராசதானியில் சித்திர, சிற்பக் கலைகளின்போது பெருமளவுக்கு கையாளப்பட்ட கலை வடிவங்களை உள்ளடக்கிய விடையினைத் தெரி்க.
 1. அன்னப்பறவையின் பிணைப்பு, மலர்க்கன்னி, அன்னாசிமலர், கலசம்
 2. மரச்செதுக்கல் கலை, சிற்பக்கலை, தையற்கலை, செதுக்கல் கலை
 3. மரச்செதுக்கல் கலை, மலர்க்கன்னி, அன்னாசிமலர், கலசம்.
 4. அன்னப்பறவையின் பிணைப்பு, கலசம், சிற்பக்கலை, நூல் நூற்றல் கலை.
 - 20) சோல்பரி யாப்பு முறைச் சீர்திருத்தங்களினால் புகுத்தப்பட்ட மாற்றம் பின்வருவனவற்றுள் யாது?
 1. சர்வசன வாக்குரிமை வழங்கப்பட்டமை.
 2. பாராளுமன்ற அரசாங்கமுறை அறிமுகப்படுத்தப்பட்டமை
 3. நிர்வாகக்குழு முறைமை புகுத்தப்பட்டமை
 4. பிரதேச வாரிப்பிரதிநிதித்துவமுறை புகுத்தப்பட்டமை.
 - 21) வெளிநாட்டவரான போர்த்துக்கேயர் கோட்டை இராட்சியத்தைத் தமது கட்டுப்பாட்டிற்குள் கொண்டு வருவதற்கு உதவிய பயனுறுதி வாழ்ந்த காரணி.
 1. இலங்கையானது பல இராட்சியங்களாக பிரிக்கப்பட்டிருந்தமை காரணமாக நிலவிய ஒற்றுமையின்மை.
 2. படைகளை வழிநடத்திச் செல்வதில் இளவரசர் பலவீனமாக இருந்தமை.
 3. காலத்திற்கு ஒவ்வாத படைக்கலங்களை இந்நாட்டு மக்கள் வைத்திருந்தமை.
 4. கிறிஸ்தவர்களாவதில் மக்கள் காட்டிய ஆர்வம்.
 - 22) தற்போதைய இலங்கை அரசியல் யாப்புக்கு இணங்க அமைச்சரவை சம்பந்தமான பின்வரும் கூற்றுக்களுள் சரியானது எது.
 1. சனாதிபதியே அமைச்சரவையின் தலைவர் ஆவார்.
 2. எல்லா அமைச்சர்களும் அமைச்சரவையில் இடம்பெறுவர்.
 3. மாகாண முதலமைச்சர்கள் யாவரும் அமைச்சரவையில் இடம்பெறுவர்.
 4. அமைச்சரவைக்கு அமைச்சர்களை நியமிப்பது பிரதம அமைச்சரேயாவார்.
 - 23) பின்வருவனவற்றில் பெருமளவுக்கு சூழலை மாசுடையச் செய்யாத சக்திப்பொருட் தொகுதி யாது?
 1. சூரியசக்தியும், நீர் மின்சாரமும்
 2. நீர் மின்சாரமும், கனிய எண்ணெயும்
 3. அணுசக்தியும், இயற்கை வாயுவும்.
 4. நிலக்கரியும் கனி எண்ணெயும்
 - 24) ஒவ்வொரு தனிப்பட்டவருக்கும் கிடைக்கும் நிலம் குறைந்துசெல்லும்போது எடுக்க வேண்டிய புத்திசாலித்தனமான நடவடிக்கைகளின் பொருத்தமற்றது யாது?
 1. ஏற்கனவே பயிர்செய்யப்படும் நிலத்திலிருந்து அதிக விளைச்சலைப் பெறுதல்.
 2. புதிய நிலங்களைப் பயிர் செய்கைக்கு கொண்டு வருதல்.
 3. அதிக விளைச்சலைத் தரக்கூடிய விதைகளை பயன்படுத்துதல்.
 4. சுழற்சிமுறைப் பயிர்ச்செய்கையை மேற்கொள்ளல்.
 - 25) சட்டத்துக்குமாறாக தடுத்து வைக்கப்பட்டுள்ள ஒருவரை, நீதிமன்றத்துக்கு கொண்டு வரும்படி கோருவதற்கு பின்வருவனவற்றுள் எதனைப் பயன்படுத்தலாம்.
 1. தற்காலிகக் கட்டளை
 2. ஜனாதிபதியின் விதிப்பு
 3. மேன்முறையீட்டு நீதிமன்றத்தின் கட்டளை
 4. ஆட்கொணர்வுச் சட்டம்
 - 26) பின்வருவனவற்றுள் ஜனநாயக ரீதியான தொழிற்பாடாக எதனைக் குறிப்பிடலாம்.
 1. ஒருவர் தனது எதிரிகளைக் கடுமையாகக் கண்டனம் செய்வது.
 2. ஆக்கபூர்வமான கண்டனமும், எதிர்மாறான கருத்துக்களை சகிக்கும் தன்மையும்
 3. ஒருவர் தனது அபிப்பிராயங்களை பொதுமக்களிடையே பகிரப்படுத்துவது.
 4. தமது எதிரிகள் கருத்துக்களை வெளிப்படுத்தும் மார்க்கங்களை தடை செய்வது
 - 27) பின்வரும் கூற்றுக்களில் நிலைக்கக்கூடிய அபிவிருத்தி என்ற எண்ணக் கருவினை விளக்குவது யாது.
 1. மக்கள் தேவையை கவனத்திற்கு எடுத்து, அதிக அளவில் உற்பத்தி செய்தல்
 2. மனித உழைப்புக்கு முக்கியத்துவம், இயந்திர சாதனங்களை மிகக் குறைந்த அளவில் பயன்படுத்துதல்.
 3. சூழலையும், எதிர்காலத்தையும் கவனத்திற்கு எடுத்து நாட்டின் வளங்களை கவனமாகப் பயன்படுத்தல்.
 4. அபிவிருத்தியடைந்த நாடுகள்போல் தொழில் நுட்பங்களையும், தொழில் நுணுக்கங்களையும் பயன்படுத்தல்.
 - 28) பின்வரும் எச்சந்தர்ப்பங்களில் இலங்கை மக்கள் எல்லோரும் ஒரு தேர்தல் தொகுதியின் வாக்காளராகச் செயற்படுவர் என்பதைக் குறிக்கும் விடையைத் தெரிவு செய்க.
 - A. நாடாளுமன்றத் தேர்தலின்போது
 - B. மாகாணசபைத் தேர்தலின்போது
 - C. ஜனாதிபதித் தேர்தலின்போது
 - D. குடியொப்பத்தை மேற்கொள்ளும்போது
 1. AB
 2. BC
 3. CD
 4. DA
 - 29) பிரித்தானியர் ஆட்சியில் பெருந்தோட்டப் பயிர்ச்செய்கைப் பரம்பலின் விளைவாக மலைநாட்டு மக்கள் எதிர்நோக்கிய பிரச்சினைகளில் முக்கியமானதை பின்வருவனவற்றிலிருந்து தெரிவு செய்க.
 1. தன்னிறைவுடைய பொருளாதாரம் அழிந்தமை
 2. காணிப்பற்றாக்குறை உக்கிரமடைந்தமை.
 3. பெருந்தோட்டப் பயிர்களுக்காக காடுகள் அழிக்கப்பட்டமையால் மண்ணரிப்பு அபாயம் ஏற்பட்டமை.
 4. வெளிநாட்டவரின் பெருந்தோட்டங்களில் தொழிலாளர் குறைந்த கூலியில் வேலை செய்யும் நிலைமை ஏற்பட்டமை.
 - 30) பின்வரும் எச்சந்தர்ப்பங்களில் இலங்கை மக்கள் பட்டியல் முறையின்கீழ் வாக்களிப்பது என்பதைக்குறிக்கும் விடையைத் தெரிவு செய்க.
 1. அமெரிக்கா
 2. பிரான்ஸ்
 3. சீனா
 4. ரஷ்யா

- A. நாடாளுமன்றத் தேர்தலின்போது B. மாகாணசபைத் தேர்தலின்போது
C. சனாதிபதித் தேர்தலின்போது D. குடியொப்பத்தை மேற்கொள்ளும்போது
1. AB 2. BC 3. CD 4. DA

- 31) கீழ்வரும் விடயங்களில் ஜனநாயக ஆட்சிமுறை ஒன்றிற்கு அத்தியா வசியமான இலட்சணம் எது?
1. நிறைவேற்று அதிகாரத்துடனான சனாதிபதி ஒருவர் இருத்தல்
2. மந்திரிசபையின் கூட்டுப்பொறுப்பு நிலவுதல்.
3. அரசியல் கட்சிகளின் எண்ணிக்கை வரையறுக்கப்பட்டிருத்தல்.
4. அபிப்பிராயத்தை வெளிப்படுத்தக்கூடிய தேர்தல் முறையிருத்தல்.
32) அபிவிருத்தி அடைந்துவரும் நாடுகளில் உற்பத்தி நடவடிக்கைகள் தொடர்பாக தொழில்நுட்பவியலை பயன்படுத்தும்போது சிறந்த பயனளிக்கக்கூடியது பின்வருவன வற்றுள் எது?
1. உற்பத்திச் செலவை முடியுமானவரை குறைப்பதற்கு மனித உழைப்பைக் குறைவாகக் கொண்ட தொழில்நுட்பவியல் முறைகளைப் பயன்படுத்துதல்.
2. அந்தந்த நாடுகளில் முற்காலந்தொட்டு நடைமுறையில் உள்ள தொழில் நுட்பவியல் முறைகளை விருத்திசெய்ய பயன்படுத்துதல்.
3. தொழிநுட்பவியல் முறைகளை அந்தந்த நாடுகளின் பொருளாதார சமூக நிலைமைகளுக்கு பொருந்தும் வகையில் மாற்றியமைத்துப் பயன்படுத்துதல்.
4. உச்ச அளவு இலாபத்தைப்பெற நவீன தொழிநுட்பவியல் முறைகளை உற்பத்திச் செயற்பாடுகளில் பயன்படுத்துதல்.

தரப்பட்டுள்ள இலங்கைப்படத்தைப் பயன்படுத்தி பின்வரும் 33 - 37 வினாக்களுக்கு விடை எழுதுக.

- 33) மகாவலி அபிவிருத்தித்திட்டத்தின்கீழ் நிர்மாணிக்கப்பட்ட பெரிய நீர்த்தேக்கமான ரந்தனிகலையை குறித்துக்காட்டும் எழுத்து.
1. A 2. B
3. C 4. D



- 34) இலங்கையின் தலைநகரங்களாக விளங்கிய இடங்கள் இப்படத்தில் குறிக்கப்பட்டுள்ளன. இவற்றுள் இலங்கையின் தலைநகரமாக மிக நீண்ட காலம் விளங்கிய நகரத்தைக் குறிக்கும் எழுத்து.
1. L 2. M 3. N 4. P
35) H என்ற எழுத்தினால் குறிப்பிடப்பட்டுள்ள பிரதேசம் காட்டுவது.
1. முத்துக்கள் காணப்படும் மன்னார் குடாவிற்கு அண்மையிலுள்ள பகுதி
2. மீன்கள் அதிகமாகக் கிடைக்கும் பேதுரு கண்டமேடை
3. தற்போது இந்தியாவுக்கு சொந்தமான வேர்ஜ் கண்டமேடை.
4. சங்குகள் அதிகமாக கிடைக்கும் பாக்கு நீரிணை.
36) கரையோர மண்ணரிப்பு பெரும் பிரச்சினையாகியுள்ள பிரதேசத்தை குறித்து நிற்கும் எழுத்து எது.
1. அ 2. ஆ 3. இ 4. ஈ
37) தென்மேற்குப் பகுதியில் வரிக்கோடுகளால் காட்டப்பட்ட பகுதி
1. கொழும்பு கொமாண்டார் பிரிவு 3. றைகம பிரிவு
2. சீதாவாக்கை பிரிவு 4. கோட்டை பிரிவு

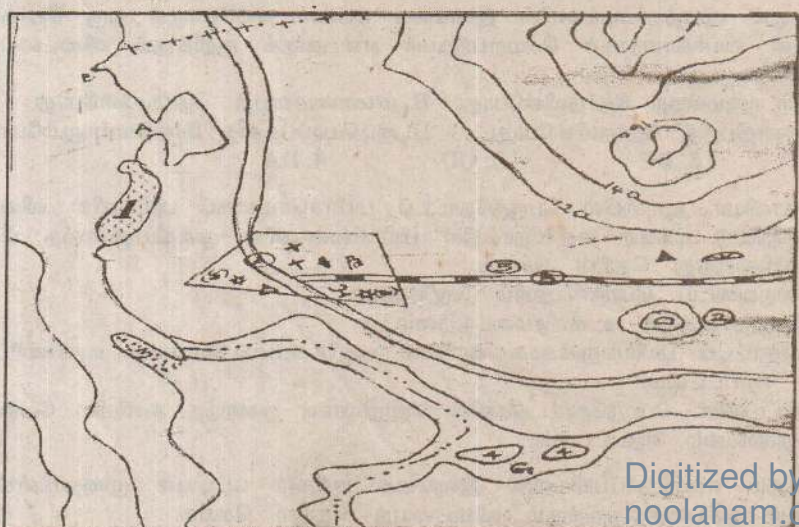
38 - 40 வரையிலான வினாக்களுக்கு அட்டவணையை அடிப்படையாகக் கொண்டு விடை தருக.

நாடு	தலாவருமானம்	பெள.வா.ப. கட்டெண்	ஆயுள் எதிர்பார்ப்பு	சிசுமரணம் (1000க்கு)	எழுத்தறிவு
A	9890	96	76	8	99
B	13360	30	56	15	15
C	480	82	66	8	82
D	380	29	40	26	20

38. மேற்கூறப்பட்ட தகவல்களின்படி அபிவிருத்தியடைந்த நாடுஎன எதைக்கூறலாம்.
1. A 2. B 3. C 4. D
39. கல்வியில் பின்தங்கியுள்ள நாடு எது?
1. A 2. B 3. C 4. D
40. வறிய நாடாக இருப்பினும் மருத்துவ, சுகாதார வசதிகளைக் கொண்ட நாடுஎன எதைனைக் கூறலாம்.
1. A 2. B 3. C 4. D

பகுதி II

01. அ. 1: 50000 என்ற அளவுத் திட்டத்தில் வழங்கப்பட்டுள்ள கிப்பிரதேசத்தின் தேசப்பட பகுதியினை பரிசீலித்து கீழ்வரும் வினாக்களுக்கு விடை தருக.



- தேசப்படத்தில் 1, 2, 3, 4, 5 எனக்காட்டப்பட்டுள்ள இடங்களில் உள்ள தரைத்தோற்ற அம்சங்கள் எவை என தெரிவு செய்க.
அ. கண்டல் நிலம் / கழிமுகம் / கரையோர நிலம்
ஆ. வட்டக்குன்று / கூம்புக்குன்று / சிறு குன்று
இ. மணற்றிடர் / பாதுகாக்கப்பட்ட வனம் / முனை
ஈ. சிறுகுன்று / ஆற்றிடைத்தீவு / தனிக்குன்று
உ. நேர்கோட்டுக்குடியிருப்பு/ அமைக்கப்படும் பிரதானவீதி/ பிரதான கட்டடங்கள்
II. அ. கிப்பிரதேசத்தில் அமைந்துள்ள கணவாய்களின் எண்ணிக்கை யாது?
ஆ. கிப்பிரதேசத்தில் உள்ள எல்லைகள் கிரண்டின் பெயர்களை குறிப்பிடுக.
இ. வடகிழக்கு முலையிலுள்ள பரந்த பௌதீக அம்சத்தின் பெயர் யாது?
ஈ. கிங்கு காணப்படும் ஆற்றுக்கு வழங்கப்படும் சிறப்புப் பெயர் யாது? (G பிரதேசம்)
02. A, B என்பவற்றின் முலம் சுட்டிக்காட்டப்படும் பௌதீக அம்சங்களின் பெயர்களை முறையாக எழுதுக.
III. அ. கிப்பிரதேசம் வெளிநாட்டவர்களை கவருவதற்கான காரணங்கள் கிரண்டு எழுதுக.
ஆ. கிப்பிரதேசத்தில் உள்ள சந்திக் குடியிருப்பில் வாழ்க்கை நடத்தும் மக்கள் பற்றி கிரண்டு விடயங்களை எழுதுக.
இ. கரையோர பிரதேச மக்கள் தமது வாழ்க்கைத் தரத்தை உயர்த்துவதற்குரிய ஏற பாடுகள் கிரண்டினை கூறுக.
ஈ. கட்டம் கிடப்பட்டுள்ள பிரதேசம் எத்தகைய பிரதேசம் என ஊகிக்கலாம். அதற்கான காரணம் ஒன்று தருக.

பொருத்தமான விடையை எழுதுக.

- 01) ஒல்லாந்தரை இலங்கையிலிருந்து வெளியேற்றுவதற்கு ஆங்கிலேயரின் உதவியை நாடிய மன்னன்
02) கண்டி உடன்படிக்கையின் (1815) தொடர்புடைய ஆளுநர்
03) பிரித்தானியர் கிழக்கிந்திய கம்பனியின் ஆட்சிக்காலம்
04) இலங்கையின் முதலாவது ஆங்கிலேய ஆளுநர்
05) 1833 கின் சட்ட சபையின் உறுப்பமைவு
06) இலங்கையில் வெளியான முதலாவது சிங்களப்பத்திரிகை
07) 1818 கில கைப்பற்றிப்பொல தலைமை தாங்கிய கிளர்ச்சியின் பெயர்
08) கிராசகாரிய முறையை மீண்டும் அறிமுகப்படுத்திய ஆங்கிலேயன்
09) கண்டி கிராட்சியத்தின் கிறித்தி மன்னன்
10) கிரட்டை ஆட்சி முறையின்கீழ் செயலாற்றிய பிரித்தானிய ஆளுநர்
11) பௌத்த சமய வளர்ச்சிக்காக உழைத்த ஐக்கிய அமெரிக்க நாட்டவர்
12) கியூ கடிதத்துடன் தொடர்புடைய கிளவரசன்

விரும்பிய ஐந்து வினாக்களுக்கு விடை எழுதுக.

02. I. கீழ் தரப்பட்டுள்ள விடயங்களுடன் தொடர்புடைய தனியாள்களின் பெயர்களைக் குறிப்பிடுக.
A- போர்த்துகேயர் கிந்தநாட்டிற்கு வந்தபோது யாழ்ப்பாண கிராச்சியத்தை ஆட்சி செய்தவர்
B - முல்லேரியாப் போரில் போர்த்துகேயரை தோல்வியடையச் செய்த சீதாவாக்கை கிராச்சியத்தை ஆட்சி செய்தவர்.
C - கண்டியரசர் கிவருக்கு மனைவியாகி அவர்களுக்கு அரச உரிமையை பெற்றுக்கொடுத்த கிளவரசர்.
II. 1818 ஆம் ஆண்டு சுதந்திர போராட்டத்திற்கான காரணங்கள் கிரண்டினைக் குறிப்பிடுக.
III. இலங்கையின் கரையோரப்பகுதிகளிலிருந்து ஒல்லாந்தர் பொருளாதார நன்மைகளை எவ்வாறு பெற்றுக்கொண்டனர் என்பதை கிரண்டு உதாரணங்களுடன் விளக்குக.
III. பிரித்தானியரால் கிந்தநாட்டில் ஏற்படுத்தப்பட்ட பெருந்தோட்ட பயிச்செய்கை காரணமாக இலங்கையின் மக்கள் சமூகத்திடையே ஏற்பட்ட மாற்றங்கள் கிரண்டினை விளக்குக.
03. ஜப்பான், சுவீடன், கிந்தியா, ஆப்கானிஸ்தான், சவுதிஅரேபியா, ஈரான், கித்தாலி, பிரான்ஸ்.
I. மேலே கூறப்பட்ட நாடுகளில் அபிவிருத்தியடைந்த ஐரோப்பிய நாடுகள் முன்றை தெரிவு செய்க.
II. அபிவிருத்தியடைந்துவரும், நாடுகளுக்கும் அபிவிருத்தியடைந்த நாடுகளுக்கும் பொதுவான கியல்புகள் நான்கினை குறிப்பிடுக.
III. செல்வந்த நாடுகள் என கிணங்காணப்பட்ட நாடுகள் அபிவிருத்தியடைந்த நாடுகள் பட்டியலில் சேர்க்கப்படாமக்கான காரணங்கள் கிரண்டை விளக்குக.
IV. அபிவிருத்தி செயன்முறைகளில் அரசியல் அமைதியின்மை எவ்வாறு தாக்கத்தை ஏற்படுத்துகின்றது என்பதை கிரு காரணிகளை உதாரணமாக கொண்டு விளக்குக.

04. I. பின்வரும் வளங்களிடையே பயன்படுத்தும்போது குறைந்து முடிவடையும் முன்று வளங்களை தெரிவு செய்யு எழுதுக. (கனிய ரெய், தங்கம், சூரியசக்தி, நிலக்கரி, நீர், கியற்கை வாயு)
II. இலங்கையில் நீர்மீன்சக்தி உற்பத்தியை வரையறுக்கும் கிரண்டு காரணிகளை குறிப்பிடுக.
III. இலங்கை போன்ற நாடுகளில் மாற்றுச் சக்தி வலுக்களாக சூரிய ஒளி, காற்று என்பவற்றை பயன்படுத்துவதால் பெறக்கூடிய கிரண்டு அனுசூலங்களை விளக்குக.
ஐஏ. இலங்கையைச் சுற்றியுள்ள கடற்கரையில் கனியரெய் படிவுகள் கிருப்பதாக நம்பப்படுகிறது. எவ்வாறாயினும் கிவ்வளத்தை பயன்படுத்தமுடியுமானால் அதனால் இலங்கையின் அபிவிருத்தியில் ஏற்படத்தக்க கிரண்டு செல்வாக்குகளை விளக்குக.