

# நமது தமிழ்நாடு

## தமிழர் தாயகத்தின் முன்னோடி நாளிதழ்

**Dialog சென் டயலாக்**
**Kit**

100/-, 400/-, 1000/- விலைகளில் கையடக்கத் தொலைபேசி அட்டைகளையும் மற்றும் சலுகைபடிமான தொலைபேசி அட்டைகளையும் SIM இணைப்புகளையும் (Connection) மொத்தமாகவும் சிலைநாயாகவும் பெற்றுக்கொள்ளவும் சலுகை நபால் அலுவலக சேவைகள், தூரித நபால் சேவைகள் உரிநாட்டு வெளிநாட்டுப் பொதிகள் (Parcel) சேவைகளுக்கும்

**எங்கேயும் என்னுடன்...**
**WESTERN UNION பணப் பரிமாற்றம்**

உலகின் எப்பாகத்திலிருந்தும் ஒருசில நிமிடங்களில் பணத்தைப் பெற்றுக்கொள்ளவும் இன்னும் பல சேவைகளையும் ஒரு கூரையின் கீழ் பெற்றுக்கொள்ள நாடுங்கள்

Sri Murugan  
Tele Communication & Agency  
Post Office.  
303, K.K.S. Road, Jaffna.

T.P: 021 222 5392,  
Fax: 222 3214

E-Mail: srimumugan@eureka.lk

மலர்:03 திருவள்ளூர் ஆண்டு: 2036 ஆவணி- 29 ஆம் நாள் ஹிஜ்ரி 1428 சஃபான் 09 [14.09.2005] புதன்கிழமை இதழ்:349

## சிறப்பிடம் பெற்ற மாணவர்களுக்கு தேசியத் தலைவரின் பரிசில்கள்!



கிளிநொச்சி

கல்விப் பொதுத்தராதர உயர்தரப் பரீட்சையில் சிறப்புச் சித்தி பெற்ற தமிழ் மாணவர்களுக்கு தமிழீழ தேசியத் தலைவரின் சார்பில் நேற்று பரிசில்கள் வழங்கப்பட்டன.

கிளிநொச்சியிலுள்ள தமிழீழ விடுதலைப் புலிகளின் சமாதான செயலகத்தின் நேற்றுக்காலை நடைபெற்ற நிகழ்வில் இந்தப் பரிசில்கள் வழங்கப்பட்டன.



தமிழீழ தேசியத் தலைவரின் சார்பில் அரசியல்துறைப் பொறுப்பாளர் சு.ப.தமிழ்ச்செல்வன் இந்தப் பரிசில்களை வழங்கினார். சிவப்பிரகாசம் மயூரன், நாகேந்திரன் பானுகோபன், சபாநாதன் தனிசன் ஆகியோர் கணிதபாடத்தில் அகில இலங்கை ரீதியாக 1ஆம், 4ஆம், 5ஆம் இடம்பெற்றிருந்தனர்.

உயிரியல் பிரிவில் பொன்னுத்துறை சிவபாண்டன் சிறப்பிடம் பெற்றிருந்தார் இவர்களுக்கே தமிழீழ தேசியத்தலைவர் சார்பில்



பரிசில்கள் வழங்கப்பட்டன.

தமிழீழ கல்விக்கழக பொறுப்பாளர் வெ.இளங்குமரன், தமிழீழ அரசியல் துறை துணைப்பொறுப்பாளர் சோ.தங்கன், தமிழீழ விளையாட்டுத்துறைப் பொறுப்பாளர் பாப்பா, சர்வதேச மாணவர் பேரவை பொறுப்பாளர் கண்ணன், யாழ் மாவட்ட அரசியல்துறை துணைப் பொறுப்பாளர் கண்ணன் ஆகியோர் நிகழ்வில் பங்கேற்றனர்.

## ஐ.தே.கட்சியுடன் இணைந்து தேசிய அரசு

## நிறுவுவதற்கு ஜனாதிபதி சந்திரிகா முயற்சி!

### 22 ஆம் திகதி பேச்சு நடத்தவும் அழைப்பு

கொழும்பு

எதிர்வரும் ஜனாதிபதித் தேர்தலில் பிரதமர் மஹிந்த ராஜபக்ஷ, ஜே.வி.பி. ஜாதிக ஹெல உறுமய போன்ற சிங்களத் தீவிரவாத சக்திகளுடன் கூட்டணி சேர்ந்துள்ள நிலையில் -

ஐக்கிய தேசியக் கட்சியுடன் இணைந்து தேசிய அரசு

அமைப்பது தொடர்பாக பேச்சுக்களை நடத்த ஜனாதிபதி சந்திரிகா திட்டமிட்டிருப்பதாக கொழும்புத் தகவல்கள் தெரிவித்தன.

எதிர்வரும் 18 ஆம் திகதி அமெரிக்காவிலிருந்து ஜனாதிபதி சந்திரிகா திரும்பிய பின்னர் - தேசிய அரசு அமைப்பது மற்றும் ஐக்கிய (12 ஆம் பக்கம் பார்க்க)

### இன்று சந்திப்பு

கிளிநொச்சி

தமிழீழ விடுதலைப் புலிகளின் அரசியல் துறைப் பொறுப்பாளர் சு.ப.தமிழ்ச்செல்வனுக்கும், தமிழ்த் தேசியக் கூட்டமைப்பு நாடாளுமன்ற உறுப்பினர்களுக்கும் இடையிலான சந்திப்பு இன்று காலை நடைபெறவுள்ளது.

கிளிநொச்சி சமாதான செயலகத்தில் நடைபெறவுள்ள இந்தச் சந்திப்பில் - எதிர்வரும் ஜனாதிபதி (12 ஆம் பக்கம் பார்க்க)

# 22 ஆம் திகதி பேச்சு நடத்தவும் அழைப்பு

கொழும்பு

எதிர்வரும் ஜனாதிபதித் தேர்தலில் பிரதமர் மஹிந்த ராஜபக்ஷ, ஜே.வி.பி. ஜாதிக ஹெல உறுமய போன்ற சிங்களத் தீவிரவாத சக்திகளுடன் கூட்டணி சேர்ந்துள்ள நிலையில் -

ஐக்கிய தேசியக் கட்சியுடன் இணைந்து தேசிய அரசு

அமைப்பது தொடர்பாக பேச்சுக்களை நடத்த ஜனாதிபதி சந்திரிகா திட்டமிட்டிருப்பதாக கொழும்புத் தகவல்கள் தெரிவித்தன.

எதிர்வரும் 18 ஆம் திகதி அமெரிக்காவிலிருந்து ஜனாதிபதி சந்திரிகா திரும்பிய பின்னர் - தேசிய அரசு அமைப்பது மற்றும் ஐக்கிய (12 ஆம் பக்கம் பார்க்க)

# இன்று சந்திப்பு

கிளிநொச்சி

தமிழீழ விடுதலைப் புலிகளின் அரசியற் துறைப் பொறுப்பாளர் சு.ப.தமிழ்ச்செவ்வனும், தமிழ்த் தேசியக் கூட்டமைப்பு நாடாளுமன்ற உறுப்பினர்களுக்கும் இடையிலான சந்திப்பு இன்று காலை நடைபெறவுள்ளது.

கிளிநொச்சி சமாதான செயலகத்தில் நடைபெறவுள்ள இந்தச் சந்திப்பில் - எதிர்வரும் ஜனாதிபதி (12 ஆம் பக்கம் பார்க்க)

## தமிழ்த்தேசிய எழுச்சி நிகழ்வு இன்று புதுக்குடியிருப்பில்!

முல்லைத்தீவு

வவுனியா பிரகடனத்துக்கு வனுச்சேர்க்கும் வகையில் 'தமிழீழமே எங்கள் மூச்சு' என்ற தொனிப்பொருளில் முல்லை மாவட்ட தமிழ்த் தேசிய எழுச்சி மாநாடு இன்று மாலை 3 மணிக்கு புதுக்குடியிருப்பு மாலதி விளையாட்டரங்கில் நடைபெறவுள்ளது.

இன்றைய இந்தப் பேரெழுச்சி மாநாட்டை

யொட்டி புதுக்குடியிருப்பு பகுதி எங்கும் சிவப்பு மஞ்சள் கொடிகள் கட்டப்பட்டு விழாக் கோலம் பூண்டுள்ளது.

இன்றைய மாநாட்டிற்கான அனைத்து ஏற்பாடுகளும் பூர்த்திசெய்யப்பட்டுள்ளதாக மாநாட்டின் செயலணிக்குழு தெரிவித்துள்ளது.

இந்த எழுச்சி மாநாட்டுக்கு முன்னேற்பாடாக (12 ஆம் பக்கம் பார்க்க)

## தியாக தீபம் தீல்பனின் நினைவுநாள் நாளை உணர்வெழுச்சியுடன் ஆரம்பம்!

யாழ்ப்பாணம்


ஐந்து அம்சக் கோரிக்கைகளை முன்வைத்து இந்திய வல்லாதிக்கத்திற்கு எதிராக ஒரு துளி நீர் கூட அருந்தாமல் அகிம்சா வழியில் உண்ணா நோன்பிருந்து தியாகச் சாவடைந்த டி.பி.கே.ணல் தீல்பனின் 18 ஆம் ஆண்டு நினைவு நாள் நிகழ்வுகள் நாளை தமிழர் தாயகப் பகுதியெங்கும் உணர்வெழுச்சியுடன் ஆரம்பமாகவுள்ளது.

பமாகவுள்ளது.

நாளை காலை 9.55 மணிக்கு பொதுச் சுடரேற்றி தேசியக் கொடியேற்றப்படும். அடுத்து, தியாகி டி.பி.கே.ணல் தீல்பனின் திருவுருவப்படத்துக்கு சுடரேற்றி மாலை அணிவித்து, மலர் தூவி வணக்கம் செலுத்தப்பட்டு, அகவணக்க நிகழ்வுகள் இடம்பெறும்.

(12 ஆம் பக்கம் பார்க்க)

## புதிய அரசு பதவியேற்றதும் சமாதான முயற்சிகள் தொடரும்!



### எளிக் சொல்வெய்யம் தெரிவிப்பு

கொழும்பு

புதிய அரசாங்கம் பொறுப்பேற்றதும் இலங்கை சமாதான முயற்சிகள் எந்த மாற்றமும் இன்றி முன்னெடுக்கப்படும் என்றும், இந்தச் சமாதான முயற்சிகளுக்கு தற்போதைய நோர்வே பிரதிவெளிவிவகார அமைச்சர் விதார் ஹெல் கிஸ்டே (12 ஆம் பக்கம் பார்க்க)

## உடுவில் வர்த்தகர் ஒருவர் நேற்றுமாலை சுட்டுக்கொலை!

யாழ்ப்பாணம்

உடுவில் - வைலேன் பகுதியில் இனத்தொரியாத நபர்களால் குடும்பஸ்தர் ஒருவர் சுட்டுக் கொல்லப்பட்டார்.

நேற்று மாலை 4.30 மணியளவில் இடம்பெற்ற இந்தச் சம்பவத்தில் பாஸிங்கம் சிவனேசன் (வயது 38) என்ற வர்த்தகரே சுட்டுக்கொல்லப்பட்டவராவார்.

சம்பவம் தொடர்பாக மேலும் தெரியவருவதாவது -


உடுவில் மகளிர் கல்லூரிக்கு முன்பாக பான்சி கடை வைத்திருக்கும் மேற்படி வர்த்தகர் வைலேன் தோட்டவெளிச்சந்திக்கு அண்மையில் வெங்காயத் (12 ஆம் பக்கம் பார்க்க)

## ஹெல உறுமய - மஹிந்த உடன்பாடு துலதா மாளிகையில் பரிமாற்றம்!

கொழும்பு

ஜனாதிபதித் தேர்தலில் ஜாதிக ஹெல உறுமயவின் ஆதரவை சிறிதளவு சாதாரண திரக் கட்சி வேட்பாளர் பிரதமர் மஹிந்த ராஜபக்ஷ பெற்றுக்கொள்வதற்காக செய்து கொள்ளப்பட்ட உடன்பாட்டின் பிரதிகள் நேற்று இரு தரப்பாலும் பரிமாறப்பட்டன.

கண்டி - தைதா மாளிகையில் நேற்றுக் காலை 11.30 மணியளவில் மத வழிபாடுகளுடன் (12 ஆம் பக்கம் பார்க்க)



ஒதுக்கீடுகளுக்கு அழைப்புகள்

021-2223891, 2226297, 077-2349099, 011-2372952/3, 011-2360290/1

email: jaffna@expoavi.com, reservations@expoavi.com.

Your friend in the skies...

இலங்கையில் முன்னணி வகிக்கும் உங்கள் உள்நாள் விமான சேவை...



ஒருங்கிணைப்பு குழுக்கூட்டம்

நெடுந்தீவு
நெடுந்தீவு பிரதேச மாதாந்த அபிவிருத்தி குழுக்கூட்டம் நான்கு மணி முதல் 11 மணிக்கு உதவி அரசாங்க அதிபர் ம.பற்றிக்ழைஞ்சன் தலைமையில் பணிமனை மண்டபத்தில் இடம்பெறவுள்ளது.

ஆசிரிய மாணவர்களுக்கான பரீட்சை 22 இல்

யாழ்ப்பாணம்
பாலி ஆசிரிய கலாசாலையில் கல்விக்கற்று வெளியேறிய முதலாம், இரண்டாம் வருட ஆசிரிய மாணவர்களுக்கான பரீட்சைகள் யாவும் பாலி ஆசிரிய கலாசாலையில் எதிர்வரும் 22 ஆம் திகதி காலை 9 மணிக்கு ஆரம்பமாகவுள்ளது.

ஏகாதசி விரதம்

யாழ்ப்பாணம்
அளவெட்டி தெற்கு நாகேஸ்வரம் ஸ்ரீநாகவரத நாராயணர் ஆலயத்தில் இன்று ஏகாதசி விரத பூசை பக்தி பூர்வமாக நடைபெறவுள்ளது.

அவசர கலந்துரையாடல்

யாழ்ப்பாணம்
யாழ்ப்பாணம் பக்கலைக்கழக மருத்துவப் பிள்ளைகளுக்கான அவசர கலந்துரையாடல் இன்று மாலை 5 மணிக்கு மருத்துவப் பிள்ளைகளுக்கான மண்டபத்தில் நடைபெறவுள்ளது.

யாழ் நகரில்...யாழ் மருந்தகத்தில் (WESCO) றிசசாட் அப்பியாசப் புத்தகம்

- \* 1200 இற்கு மேற்பட்டவைகளை 4 விதமான தரங்கள்
\* அத்துடன் பல வகையான புத்தகங்கள், வரைதல் கொப்பிகள், பல வகைக் குறிப்புப் புத்தகங்கள், வெளிக்கொள் புத்தகங்கள், விஞ்ஞான, தாவரவியல், கணிதம், உயிரியல், பாடங்களுக்கான புத்தகங்கள், கணக்குப் புத்தகங்கள், லைஜர் வகைகள், கடிதம் எழுதும் புத்தகங்கள்.
\* போட்டோப் பிரதித் தாள்கள், ரைப்பிங் தாள்கள், பைல் மட்டிகள், பிரிஸரல் போட், அழிப்பர்கள், அடிமட்டங்கள், பென்சில், சீவுளி, கல்விசார் வெளியீடுகள்
\* மொத்தமாகவும், சில்லறையாகவும் பெற்றிட நாடேவண்டிய ஒரேயிடம்

பாடசாலைக்குச் செல்லாத மாணவர்களை ஐந்து நாட்களுக்கு இடைநிறுத்திய அதிபர்!

யாழ்.நகர் பாடசாலையில் சம்பவம்

ஐந்து தினங்கள் பாடசாலைக்கு அனுப்ப வேண்டாம் என தெரிவித்தார்.
இதேவேளை, மடுமாதா தேவாலயத்தில் அண்மையில் நடைபெற்ற திருநாள் திருப்பலிப் பூசைக்கு சென்ற மாணவர்கள் இரண்டு வாரத்திற்கு பாடசாலையில் கல்வி கற்கவிடாது தடுத்து நிறுத்தப்பட்டதாக கூறப்படுகிறது.

புலிகளின் குரல் ஒலிபரப்பு நாளை முதல் நேரம் நீடிப்பு

புலிகளின் குரல் நேரங்கள் அனைவரது வேண்டுகோளுக்கிணங்க நாளை காலை முதல் புலிகளின் குரல் காலை ஒலிபரப்பு காலை 9 மணி வரையும், தமிழ்நூலானாலி வழமையான ஒலிபரப்போடு காலை 9 மணி யிலிருந்து பகல் 11 மணி வரையும், சிங்கள மொழியிலான ஒலிபரப்பு வழமையான ஒலிபரப்போடு பகல் 11 மணியிலிருந்து 11.30 மணி வரையும் நீடிக்கப்பட்டுள்ளது.

நல்லூர் லயன்ஸ் கழகம் தகவல் தொழில்நுட்பமும் முகாமைத்துவமும் தொழில்சார் பயிற்சிப்பட்டறை-2005
யாழ். மாவட்டத்தில் உள்ள பாடசாலைகளில் இயங்கும் சேவைக்கழகங்களில் உள்ள மாணவர்கள் மத்தியில் தகவல் தொழில்நுட்பம், மற்றும் தலைமைத்துவம் என்பவற்றை விருத்தி செய்யும் நோக்குடன் நல்லூர் லயன்ஸ் கழகம் யா/ மத்திய கல்லூரி, யா/ வேம்படி மகளிர் உயர்நர் பாடசாலை வியோககழகங்களில் உதவியுடன் பயிற்சிப்பட்டறை ஒன்றினை ஒழுங்கு செய்துள்ளது.

நாகம்ஸ் குன்னாகம்
ரவிகிருஷ்ணா, கோபிகா, பிரகாஷ்வாஜ், ரேவதி மற்றும் பலர் நடத்த
பொன்னியின் செல்வன்
காட்சிகள் - 11.00, 3.00, 7.00, 10.00 (புதுபுது நேரம்)
நாகம்ஸ் யாழ்ப்பாணம்
அஜித், ஜோதிகா, வடிவேல் மற்றும் பலர் நடத்த
ராஜா
காட்சிகள் - 10.30, 2.30, 6.30, 9.30 (4:00)
ராஜா யாழ்ப்பாணம்
இந்தியாவிலும், இலங்கையிலும் ஒரே திண வெளியீடு - நியூ புகழ் - எஸ்.ஜே.சூர்யா, நிளை
அன்பே ஆருயிரே
ரிக்கத் துறையிலே செய்து கொள்ளலாம்
பு.நே. 10.30, 2.30, 6.30, 9.30
மனோகரா யாழ்ப்பாணம்
சிம்பு, கோபிகா மற்றும் பலர் நடத்த
ஜெயாஜெயா
காட்சிகள் - 10.30, 2.45, 6.50 (4:00)
நினைவுச்சாஸ் சங்கரண
ஜெயம் புகழ் ரவி, ரேனுகா மேனன், நடத்த
தாஸ்
காட்சிகள் - 11.00, 2.45, 6.50 (4:00)

பட்டதாரி பயிலுநர் ஆசிரியர்கள் நேற்று இரண்டாவது நாளாக மறியல் போராட்டம்
யாழ்ப்பாணம்
பட்டதாரி பயிலுநர் ஆசிரியர்களாக பாடசாலைகளில் பணியாற்றும் தமக்கு நிரந்தர நியமனம் வழங்கும்படி பாதிக்கப்பட்ட பட்டதாரிப் பயிலுநர்கள் நேற்று முன்தினம் காலை 7 மணியளவில் யாழ். கல்வி வலயத்தின் செயற்பாடுகளை முடக்கி தமது போராட்டத்தை ஆரம்பித்தனர்.

# சிங்களத் தீவிரவாதிகளின் பிடியில் மகிந்த: பகிரங்கமாக குற்றச்சாட்டுகிறார் அவுரா!



கொழும்பு

எங்களது சுதந்திரக் கட்சியின் வேட்பாளராக நியமிக்கப்பட்ட மகிந்த ராஜபக்ஷ, சிங்களத் தீவிரவாதிகளுடன் கைகோர்த்துவிட்டதில் நாங்கள் மிகவும் வருத்தத்தில் உள்ளோம் என்று வெளிவிவகாரத்துறை அமைச்சர் அனுரா பண்டாரநாயக்க கடுமையாக விமர்சனம் செய்துள்ளார்.

லண்டனிலிருந்து கொழும்பு ஊடகம் ஒன்றுக்கு அளித்த பேட்டியிலேயே அவர் இவ்வாறு தெரிவித்தார்.

அவர் மேலும் தெரிவிக்கையில் -

தற்போது நடைபெறவுள்ள ஜனாதிபதித் தேர்தல் தொடர்பாக நாம் அக்கறை கொள்ளவில்லை. கட்சியின் அடிப்படைக் கொள்கைகளுக்கு கட்சியின் வேட்பாளராகிய மகிந்த ராஜபக்ஷ துரோகம் இழைத்துவிட்டார். அவர் கட்சியை அசிங்கப்படுத்திவிட்டார்.

சிங்களத் தீவிரவாதிகளுடன் அவர் உடன்பாடு வைத்துக்கொண்டுள்ளார். நானும் என் சகோதரியுமாகிய ஜனாதிபதி சந்திரிகாவும், மகிந்த ராஜபக்ஷவின் செயற்பாடுகளால் மிகவும் வருத்தப்படுகிறோம்.

நாட்டை யுத்தப் பாதைக்கு அழைத்துச் செல்கிறது ஜே.வி.பி. அந்தக் கட்சிக்கும் எனக்கும் இடையே முரண் ஏற்பட்டுவிட்டது. அது குறித்து நான் இப்போது விளக்க விரும்பவில்லை. ஜனாதிபதி செய்யச் சொன்னதையே நான் செய்தேன். அந்தச் சம்பவம் குறித்து இன்றும் வருத்தமாகவே இருக்கிறேன்.

இலங்கை தொழிலாளர் காங்கிரஸ் தலைவர் தொண்டமானுடன் சந்திரிகா குமாரதுங்க நடத்திய பேச்சு விவரங்கள் எதுவும் எனக்கு தெரியாது. நியூயோர்க்கிற்குச் செல்கிறேன். அப்போது தான் அவர்களின் பேச்சு விடயங்கள் தெரியும். அதன் பிறகு கூறுகிறேன்.

மகிந்த ராஜபக்ஷவின் செயற்பட்டால் வெளிவிவகார அமைச்சர் என்ற நிலையில் அமெரிக்கத் தலைவர்களுடன் பேசுகிற போது நான் அவமானமானதாகவே உணருகிறேன்.

சந்திரிகா குமாரதுங்கவுடன் அமெரிக்க ஜனாதிபதி புஷ், வெளிவிவகார அமைச்சர் கொண்டலீலா ஹைஸ் உள்ளிட்டோரை நானும் சந்திக்க உள்ளேன். ஹெல் உறியை கொண்டு வந்த மதமாற்றத் தடுப்புச் சட்டமசோதா ஒரு சிறுபான்மை விரோத நடவடிக்கை என்று ஏற்கனவே அமெரிக்கா கருத்துத் தெரிவித்துள்ளது.

ஹெல் உறியை ஒரு உண்மையை நிராகரித்து வருகிறது. அமெரிக்காதான் இன்று உலகின் வல்லரசு என்பதை ஏற்றுக் கொள்ளவேண்டும். சுதந்திரக் கட்சியின் ஒழுங்கமை ஏற்கனவே கட்சியின் மூத்த உறுப்பினர்களும் மீறி, இருக்கிறார்கள். இது



தொடர்பாக கட்சியின் நிர்வாகி சிறிபதி சூரியாராட்சிக்கு கடிதம் ஒன்றை அனுப்ப உள்ளேன் என அவர் மேலும் கூறியுள்ளார்.

## புலிகளை தடைசெய்யும் முயற்சி; நோர்வேயின் தலையீட்டால் நிறுத்தம்

கொழும்பு

ஐரோப்பிய ஒன்றியம் விடுதலைப் புலிகளைத் தடைசெய்ய எடுத்த முயற்சியை நோர்வே தலையிட்டு தடுத்துவிட்டதாக கொழும்பிலிருந்து வெளிவரும் ஆங்கில ஊடகமொன்று செய்தி வெளியிட்டுள்ளது.

ஐரோப்பிய யூனியனின் விசேடகுழு - விடுதலைப் புலிகளை பயங்கரவாதப் பட்டியலில் இணைத்து தடைசெய்வதற்கான கலந்துரையாடலில் ஈடுபட்டவேளை நோர்வே தலையிட்டு அந்தத் தடையை ஏற்படுத்தவேண்டாம் எனத் தெரிவித்துள்ளது.

இதனால் இந்தக் கலந்துரையாடலில் எவ்வித முடிவுகளும் எடுக்கப்படவில்லை. இந்தக் கூட்டத்தில் கலந்து கொண்ட பிரிட்டன் பிரதிநிதிகள் விடுதலைப் புலிகளின் நடவடிக்கைகள் தொடர்பாக தகவல்கள் சேகரித்தனர் எனினும், ஐரோப்பிய ஒன்றியத்தின் விசேட குழுவிற்கும் பிரிட்டன் இந்த தகவல்களை வழங்கியுள்ளதான ஆசிய மற்றும் ஆபிரிக்க நாடுகளின் இராஜதந்திரிகள் சந்தேகம் கொண்டுள்ளதாகவும் அந்தப் பத்திரிகை மேலும் தெரிவித்துள்ளது. (1)

## ஐக்கிய இலங்கைக்குள் தீர்வு என்ற கருத்தை சர்வதேசம் மாற்றவேண்டும்!

### ஆசிரியர் தலையங்கத்தில் 'தமிழ்க் காாடியன்' வலியுறுத்தல்

லண்டன்

இலங்கை இனப்பிரச்சினைக்கு ஐக்கிய இலங்கை என்ற கட்டமைப்பிற்குள் தீர்வுகொண்டேண்டுமென வலியுறுத்துவதை சர்வதேச சமூகம் கைவிடவேண்டும் என்று லண்டனிலிருந்து வெளியாகும் தமிழ்க் காாடியன் பத்திரிகை வலியுறுத்தியுள்ளது.

தமிழ்க் காாடியன் பத்திரிகை இது தொடர்பாக தனது ஆசிரிய தலையங்கத்தில் மேலும் குறிப்பிடுகையில் -

நோர்வே அனுசரணையில் அடித்தளத்தில் உருவாக்கப்பட்ட அமைதி முயற்சியை ஒட்டு

மொத்தமாக சீர்குலைப்பதுதான் ஜே.வி.பி. - மகிந்த ராஜபக்ஷ ஒப்பந்தம்.

ஜனாதிபதித் தேர்தலில் போட்டியிடும் மகிந்த ராஜபக்ஷ, ஜே.வி.பியுடன் இணைந்து சிங்களப் பேரினவாதத்தை உயர்த்திப் பிடிக்கிறார். அதைப் போலவே ரணில் விக்கிரமசிங்கவும் தேசியக் கோட்பாடு குறித்து அதிகம் பேசத் தொடங்கியுள்ளார்.

இலங்கைத் தீவில் இரத்தத்தெறிப்புக்களுக்கு முற்றுப்புள்ளி வைத்து, அமைதிப் பேச்சுக்களை நடத்துவதில் அர்ப்பணிப்புடன் கடமையாற்றும் நோர்வே அனு

சரணையாளர்கள் மீது சிங்களப் பேரினவாதம் - தேச இறையாண்மை என்ற பெயரில் சிங்கள மக்களை தவறாகவழிநடத்துகிறது. அதிகாரத்தைப் பற்றிக் கொண்டு எந்தவித சமரசமான போக்குக்கும் இணங்கிவராமல் இருப்பதில் இலங்கையின் பெரும் பான்மைச் சமூகம் தீவிரம் காட்டி வரும் நிலையில், சர்வதேச சமூகம் இதை அவதானிக்க வேண்டும்.

ஐக்கிய இலங்கைக்குள் தீர்வு காணுங்கள் என்ற சர்வதேச சமூகத்தின் பார்வையில் மாற்றம் அவசியம் தேவை என்றும் தெரிவிக்கப்பட்டுள்ளது.

## வன்முறைகளற்ற முறையில் தேர்தல் நடத்த நடவடிக்கை எடுக்கவுள்ளோம்!

### பவ்ரல் தலைவர் கிங்ஸ்லீ ரொடன்கோ

கொழும்பு

வடக்கு - கிழக்கு பகுதியில் ஜனாதிபதி தேர்தலை வன்முறைகளற்ற விதத்தில் நடத்துவதற்கு நடவடிக்கை எடுக்கவிருப்பதாக பவ்ரல் அமைப்பு தெரிவித்துள்ளது.

கடந்த பொதுத்தேர்தலில் வடக்கு - கிழக்குப் பகுதிகளில் கூடுதலான தேர்தல் வன்முறைச் சம்பவங்கள் இடம்பெற்றிருப்பதாகவும், இம்முறை 125 வெளி

நாட்டு தேர்தல் கண்காணிப்புக் குழுவினரை இந்தப் பகுதிகளில் ஈடுபடுத்த விருப்பதாகவும் பவ்ரல் அமைப்பின் தலைவர் கிங்ஸ்லீ ரொடன்கோ தெரிவித்தார்.

கடந்த 2004 ஆம் ஆண்டு தேர்தலில் அம்பாறை மாவட்டத்திலும், யாழ்ப்பாண மாவட்டத்திலும் கூடுதலான தேர்தல் வன்முறைச் சம்பவங்கள் இடம்பெற்றமை தொடர்பாக தேர்தல் வன்முறைகளைக் கண்காணிக்கும் மத்திய நிலையத்தில் குற்றச்சாட்டுகள் முன்வைக்கப்பட்டிருந்தமையே சுட்டிக்காட்டிய அவர், எனினும் இந்தக் குற்றச் சாட்டுகளை தேர்தல் திணைக்களம் மறுத்திருந்ததாகவும் கூறினார்.

எதிர்வரும் ஜனாதிபதித் தேர்தலுக்கு முன்னர் வன்முறைகள் கூடுதலாக இடம்பெற்ற பிரதேசங்களுக்குப் பொறுப்பான இராணுவ அதிகாரிகளைச் சந்தித்துப் பேச்சுவார்த்தை நடத்தவுள்ளோம் எனத் தெரிவித்த அவர் - சுனாமி அனர்த்தத்தால் பாதிக்கப்பட்ட மாவட்டங்களிலும் தேர்தல் கண்காணிப்பாளர்களை கடமையில் ஈடுபடுத்துவது அவசியமெனவும் கூறினார்.

## நாடு கடத்தும் முடிவில் இந்தோனேசிய அரசாங்கம்

ஐகார்த்தா

தீவிரவாதம் தொடர்பான ஆய்வுகளை மேற்கொள்ளும் இலங்கையரான றொகான் குணரட்னவை சிங்கப்பூருக்கு நாடு கடத்துவதற்காக இந்தோனேசியாவின் மலுக்கு மாகாண பொலிலாரால் குடிவரவு - குடியகல்வுத் திணைக்களத்திடம் கையளிக்கப்பட்டார்.

இது குறித்து மலுக்கு மாகாண பொலிஸ் பேச்சாளர் தகவல் தருகையில் -

மலுக்கு குடிவரவு - குடியகல்வு அலுவலகத்தில் கடந்த

வெள்ளியன்று விசா இல்லாமல் இருந்ததால் றொகான் குணரட்ன கைதுசெய்யப்பட்டிருந்தார். சிங்கப்பூரைத் தளமாக் கொண்ட பாதகாப்புத் தந்திரோபாயத்துக்கான பல்கலைக் கழகத்தில் இவர் பணியாற்றி வருகிறார். சுற்றுலா விசாவுடன் மலுக்குவில் ஆய்வின் ஈடுபட்டிருந்தபோதே இவர் விசா காலாவதியான நிலையில் கைது செய்யப்பட்டிருந்தார்.

இவர் ஜகார்த்தாவிலிருந்து சிங்கப்பூருக்கு நாடு கடத்தப்பட்டவுள்ளதாகத் தெரியவருகிறது.

## பிரதீயமைச்சர் சிறிபதி சூரியாராட்சியும் சுதந்திரக் கட்சியிலிருந்து நீக்கம்!

கொழும்பு

சிறிலங்கா சுதந்திரக் கட்சியிலிருந்து மகிந்த ராஜபக்ஷ மற்றும் மங்கள சமரவீரவின் தீவிர ஆதரவாளரான பிரதி அமைச்சர் சிறிபதி சூரியாராட்சி மீது ஒழுங்கு நடவடிக்கை மேற்கொள்ளப்படக்கூடும் எனத் தகவல்கள் வெளியாகியுள்ளன.

கம்பஹா மாவட்ட தேர்தல் பிரசாரக் கூட்டத்தில் தனது அனுமதியின்றி பாரிய விளம் பரங்கள் செய்யப்பட்டுள்ளதாகக் கூறி கண்டனத்தைத் தெரிவிக்கும் வகையில் சிறிபதி சூரியாராட்சிக்கு கடந்த 10 ஆம் திகதி அனுரா கடிதம் எழுதியுள்ளார்.

இந்த விடயம் தொடர்பாக சூரியாராட்சி மீது ஒழுங்கு நடவடிக்கை எடுக்கப்பட்டகூடும் என்றும் கொழும்பு ஊடகங்கள் கூறுகின்றன. இருப்பினும் அனுராவின் கடிதம் குறித்து தனக்கு எதுவும் தெரியாது என்றும் அப்படியான கடிதம் தனக்குக் கிடைக்கவில்லை என்றும் சூரியாராட்சி கூறியுள்ளார். (1)

## ரணிலின் தேர்தல் பிரசாரப் பதாகைகள் இனந்தெரியாதோரால் சிழிப்பு



கொழும்பு

அனுராதபுரத்தில் வைக்கப்பட்டிருந்த எதிர்க்கட்சித் தலைவர் ரணில் விக்கிரமசிங்கவின் இரண்டு தேர்தல் பிரசார உரு

வப் பதாகைகள் இனந்தெரியாதோரால் சேதமாக்கப்பட்டது. வாகனம் ஒன்றில் சென்ற சிலர் உருவப் பதாகைகளைச் சேதப்படுத்திச் சென்றதாக நேரில் கண்டோர் தெரிவித்ததாகப் பொலிலார் கூறினர்.

ஜனாதிபதித் தேர்தலுக்கான வேட்புமனுக்கூட தாக்கல் செய்யப்படாத நிலையில் அரசாங்க தரப்பினர் இவ்வாறான வன்முறைச் செயல்களில் ஈடுபடுவது சட்டத்தை மீறும் நடவடிக்கையென -

ஐக்கிய தேசியக் கட்சியின் மாவட்ட நாடாளுமன்ற உறுப்பினர்கள் தெரிவித்தனர்.

## புதிய பதாங்குக்குழிகளை புலிகள் அமைப்பதாக படைத்தரப்பு மறையீடு!


திருகோணமலை

மூதூர் வெருகல் ஆற்றுப் பகுதியில் விடுதலைப் புலிகள் புதிதாக பதாங்குக்குழிகள் அமைத்து வருவதாக கண்காணிப்புக்குழுவிடம் - இராணுவத் தரப்பு முறைப்பாடு செய்துள்ளது.

கடந்த 10 ஆம் திகதி முதல் சுமார் 30 விடுதலைப் புலிகள் தற்காலிக கூடாரங்களை அமைத்துக்கொண்டு பதாங்குக்குழிகளை அமைக்கும் பணியில் ஈடுபட்டிருப்பதாக அந்த முறைப்பாட்டில் தெரிவிக்கப்பட்டுள்ளது.

# அவுஸ்ரேலியாவின் ஆதிக்கத்தைத் தகர்த்து

# ஆஷஸ் தொடரை கைப்பற்றியது இங்கிலாந்து



லண்டன்

மைக்கல் வோன் தலைமையிலான இங்கிலாந்து அணி, சொந்த மண்ணில் 18 ஆண்டு களுக்கு பின்னர் ஆஷஸ் கிண்ணத்தைக் கைப்பற்றிச் சாதித்தது. பீற்றர்சன் அபாரமான சதமடிக்க, ஓவல் டெஸ்ட் சமனிலையில் முடிவற்றது. தொடரை இங்கிலாந்து 2-1 என்ற கணக்கில் கைப்பற்றியது.

இங்கிலாந்து சென்றுள்ள அவுஸ்ரேலிய அணி 5 போட்டிகள் கொண்ட வரலாற்று சிறப்பு மிக்க ஆஷஸ் டெஸ்ட் தொடரில் பங்கேற்றது. தொடரில் இங்கிலாந்து 2-1 என்ற முன்னிலையில் இருக்க, முக்கியமான ஐந்தாவது டெஸ்ட் லண்டன் ஓவல் அரங்கில் நடந்தது. இந்தப் போட்டியை சமனிலை செய்தாலே தொடரை

வெல்லாம் என்ற கனவுடன் இங்கிலாந்து களம் புகுந்தது. அவுஸ்ரேலியாவோ வென்றாக வேண்டிய கட்டாயத்தில் இருந்தது.

முதல் இனிங்ஸில் இங்கிலாந்து 373, அவுஸ்ரேலியா 367 ஓட்டங்களை எடுத்தன. நான்காம் நாள் ஆட்டமுடிவில் இங்கிலாந்து இரண்டாம் இனிங்ஸில் ஒரு விக்கெட் இழப்புக்கு 34 ஓட்டங்களை எடுத்திருந்தது. நேற்று முன்தினம்-ஐந்தாம் நாள் ஆட்டம் நடந்தது. மீண்டும் மிரட்டினார் வோன். இவரது சுழலில் ட்ரெஸ்கொதிக்க (33), பிளீன்ரொப் (8), கொலிங் வூட் (10) ஓட்டங்களுடன் ஆட்டமிழந்தனர்.

மக்ராவின் வேகத்தில் கப்டன் வோன் (45), பெல் (0) வெளியேற இங்கிலாந்துக்கு நெருக்கடி ஆரம்பமானது. ஆனாலும், அதிரடி ஆட்டத்தை வெளிப்படுத்திய பீற்றர்சன் சதம் அடித்து அணியைக் காப்பாற்றினார். 158 ஓட்டங்களை எடுத்த இவர், மக்ராவின் பந்தில் ஆட்டமிழந்தார். ஐஜல்ஸ் அரைச்சதம் (59) அடித்தார். இறுதி




யில் இங்கிலாந்து இரண்டாம் இனிங்ஸில் 335 ஓட்டங்களுக்கு சகல விக்கெட்டுக்களையும் இழந்தது. அவுஸ்ரேலிய தரப்பில் வோன் 6, மக்ரா 3 விக்கெட்டுக்களை வீழ்த்தினார்.

பின்னர் 342 என்ற வெற்றி இலக்குடன் அவுஸ்ரேலியா களமிறங்கியது. ஹர்மிசன்



நான்கு பந்துகள் வீசிய நிலையில் போதிய வெளிச்சமில்லாமல் ஆட்டம் முடிக்கப்பட்டது. அவுஸ்ரேலியா இரண்டாம் இனிங்ஸில் விக்கெட் இழப்பின்றி 4 ஓட்டங்களை எடுக்க,



போட்டி சமனிலையில் முடிந்தது. இங்கிலாந்து 2-1 என்ற கணக்கில் தொடரைக் கைப்பற்றியது. தென்னாபிரிக்காவில் பிறந்த பீற்றர்சன், இங்கிலாந்தின் புதிய ஹீரோவாக ஜொலித்தார். இக்கட்டான நேரத்தில் களமிறங்கி ஆபத்தான வனாகக் கலக்கிய இவர், 187 பந்துகளில் 158 ஓட்டங்களை விளாசி - போட்டி சமனிலையா வதை உறுதி செய்தார். டெஸ்ட் வாழ்வில் முதல் சதமடித்த இவர் 15 பவுண்டரிகள், 7 சிக்ஸர்கள் விளாசி சாதித்தார். ஆட்டநாயகன் விருதையும் தட்டிச் சென்றார்.

இந்தத் தொடரில் 40 விக்கெட்டுக்களை வீழ்த்திய அவுஸ்ரேலியாவின் வோன், சகல துறை ஆட்டக்காரராக அசத்திய இங்கிலாந்தின் பிளீன்ரொப் ஆகியோர் தொடர் நாயகன்

விருதைப் பெற்றனர். தொடரின் சிறந்த வீரருக் காக முதல் முறையாக அறிமுகப்படுத்தப்பட்ட கப்டன் மில்னர் விருதையும் பிளீன்ரொப் பெற்றார்.

நேற்றுமுன்தினம் டெஸ்ட் கிரிக்கெட்டில் 10 ஆவது முறையாக 10 விக்கெட்டுக்களை வீழ்த்திய வேன், இந்தத் தொடரில் 40 விக்கெட்டுக்களை வீழ்த்தியுள்ளார். இதன் மூலம் இங்கிலாந்துக்கு எதிராக அதிக விக்கெட்டுக்களை வீழ்த்திய சக நாட்டு வீரரான டெனிஸ் லில்லியின் (167 விக்கெட்டுக்கள்) சாதனையை முறியடித்தார். வோன் தற்போது 172 விக்கெட்டுக்களைக் கைப்பற்றியுள்ளார். இங்கிலாந்து மண்ணில் தனது கடைசி டெஸ்ட் தொடரில் விளையாடிய இவர், தொடரை இழந்த சோகத்துடன் விடைபெற நேர்ந்தது.

1986-87 இற்கு பின்பு, முதல் முறையாக ஆஷஸ் கிண்ணத்தைக் கைப்பற்றியது மைக்கல் வோன் தலைமையிலான இங்கிலாந்து



அணி. அடுத்த பொத்தம் என வர்ணிக்கப்படும் பிளீன்ரொப், இளம் பீற்றர்சன், சைமன் ஜோன்ஸ், கப்டன் வோன் என அனைவரின் கூட்டு முயற்சியால் 18 ஆண்டுகளுக்கு பின்பு சாதிக்க முடிந்தது. இந்த வரலாற்றுச் சாதனையை இங்கிலாந்து ரசிகர்கள் கொண்டாடி மகிழ்ந்தனர்.

# பங்களாதேஷ் அணிக்கு எதிராக

# இலங்கை அணி 370 ஓட்டங்கள்



கொழும்பு

கொழும்பில் நடைபெறும் முதலாவது டெஸ்ட் ஆட்டத்தின் முதல் இனிங்ஸில் இலங்கை அணி 9 விக்கெட் இழப்புக்கு 370 ஓட்டங்களைப் பெற்றநிலையில், முதல் இனிங்ஸ் ஆட்டத்தை டிக்கோர் செய்தது.

முதல்நாள் ஆட்டத்தில் பங்களாதேஷ் அணியை 188 ஓட்டங்களுக்குள் சுருட்டிய இலங்கை அணி, தொடர்ந்து விளையாடி 44

# உதைபந்தாட்ட போட்டி

யாழ்ப்பாணம் - நவக்கிரி எல்லா என் விளையாட்டுக் கழகம் 14 ஆவது ஆண்டு நிறைவு தினத்தை முன்னிட்டு யாழ். மாவட்ட ரீதியில் நடத்திவரும் உதைபந்தாட்டச் சுற்றுப் போட்டி எல்லா என் விளையாட்டுக் கழக மையத்தனத்தில் நடைபெற்று வருகின்றது.

இந்தச் சுற்றுப் போட்டியில் இன்று நடைபெறவுள்ள ஆட்டத்தில் மாதகல் சென். தோமஸ் விளையாட்டுக் கழகத்தை எதிர்த்து வளர்மதி விளையாட்டுக் கழகமும், 4.30 மணிக்கு நடைபெறும் ஆட்டத்தில் சென். நீக்கில்ஸ் விளையாட்டுக் கழகத்தை எதிர்த்து சென். மைக்கல் விளையாட்டுக் கழகமும் மோதவுள்ளன.

ஓவர்களில் 3 விக்கெட் இழப்புக்கு 160 ஓட்டங்களைப் பெற்றிருந்தது. நேற்று இரண்டாவது நாள் ஆட்டம் தொடங்கியது. சமரவீர 33 ஓட்டங்களுடனும் ஜெயவர்தன 17 ஓட்டங்களுடன் ஆட்டத்தைத் தொடர்ந்தனர். இவர்கள் இருவரும் தொடர்ந்து சிறப்பாக ஆடி ஓட்டங்களைக் குவித்தனர்.

ஸ்கோர் 231 ஆக இருந்தநிலையில் நான் காவது விக்கெட்டாக ஜெயவர்த்தனவை வீழ்த்தினார் மொகமட் ரபீக். ஜெயவர்த்தன 120 பந்துகளில் 7 பவுண்டரிகள், 1 சிக்ஸருடன் 63 ஓட்டங்களை எடுத்தார்.

அடுத்து சமரவீரவுடன் டில்ஷான் இணைந்து கொண்டார். இவர்கள் இருவரும் நிதானமாக ஆடி ஓட்டங்களைக் குவித்தனர். எனினும், ஸ்கோர் 295 க் எட்டியபோது - சமரவீர ஆட்ட



மிழந்தார். இவர் 198 பந்துகளில் 7 பவுண்டரிகளுடன் 78 ஓட்டங்களைக் குவித்தார். அடுத்து வான் களம் புகுந்தார்.

ஆனால், ஸ்கோர் 306 ஆக இருந்தபோது வான் 6 ஓட்டங்களுடன் ஆட்டமிழந்தார். இதையடுத்து, களமிறங்கிய ஹேரத்தும் 13 ஓட்டங்களுடன் பவிலியன் திரும்பநேரிட்டது.

டில்ஷான் மட்டும் நிதானமாக ஆடிகொண்டிருக்க மறுமுனையில் ஜோடி சேர்ந்துகொண்டிருந்த வீரர்கள் ஓவ்வொருவராக ஆட்டமிழந்து சென்றுகொண்டிருந்தனர்.



அடுத்து களமிறங்கிய முரளிதரனும் 3 ஓட்டங்களுடன் வெளியேறினார். பின்னர் டில்ஷானுடன் டில்ஹார பெர்னாண்டோ இணைந்தார்.

ஸ்கோர் 370 க் எட்டியபோது - டில்ஷான் 86 ஓட்டங்களுடன் ஆட்டமிழக்க நேரிட்டது. 124 பந்துகளில் 8 பவுண்டரிகளுடன் டில்ஷான் இந்த ஓட்டங்களை எடுத்தார்.

டில்ஹார 1 ஓட்டத்துடன் ஆட்டமிழக்காமல் இருக்க 9 விக்கெட் இழப்புக்கு 370 ஓட்டங்கள் என்ற நிலையில் இலங்கை அணி ஆட்டத்தை டிக்கோர் செய்தது.

பந்துவீச்சில் மொகமட் ரபீக் 5, ரசல் 2, ஹுசைன் 2 விக்கெட்டுக்களை வீழ்த்தினார்.

அடுத்து பங்களாதேஷ் அணி இரண்டாவது இனிங்ஸில் துடுப்பெடுத்தாடியது. ஸ்கோர் 9 ஆக இருந்தபோது ஜாவிட் ஓமரும், ஸ்கோர் 35 ஆக இருந்தபோது நவீன் மற்றும் அஷ்ரஃபுலும் ஆட்டமிழந்தனர்.

மலிங்க ஒரு விக்கெட்டையும், முரளிதரன் 2 விக்கெட்டுக்களையும் வீழ்த்தினார். ஓமர் 9, நவீன் 13, அஷ்ரஃபு 0 ஓட்டங்களுடன் ஆட்டமிழந்தனர். பசார் 13 ஓட்டங்களுடன் ஆட்டமிழக்காமல் இருந்தார்.

9 ஓவர்களில் பங்களாதேஷ் அணி 3 விக்கெட் இழப்புக்கு 36 ஓட்டங்களைப் பெற்ற நிலையில் இரண்டாம் நாள் ஆட்டம் நிறுத்தப்பட்டது.

# நூப்பந்தாட்டப் போட்டி

யாழ்ப்பாணம் - வர்த்தக வங்கி யாழ்ப்பாணம், நெல்லியடி கிளைகளின் அனுசூலையுடன் யாழ். மாவட்ட பூப்பந்தாட்ட சங்கம் நடத்தும் கனிஷ்ட, தேசிய பூப்பந்தாட்ட மாவட்ட மட்டப் போட்டி நாளை காலை 9 மணிக்கு 11 வயது, 13 வயது பெண்களுக்கும் - மாலை 3 மணிக்கு 11, 13 வயது ஆண்களுக்கும் சுண்டுக்குளி மகளிர் கல்லூரியில் நடைபெறவுள்ளது.

நாளை மறுதினம் வெள்ளிக்கிழமை காலை 9 மணிக்கு 15, 17, 19 வயதுப் பெண்களுக்கும், மாலை 3 மணிக்கு 15, 17, 19 வயது ஆண்களுக்குமான போட்டிகள் சுண்டுக்குளி மகளிர் கல்லூரியில் நடைபெறவுள்ளது.



# வடமாகாண இளைஞர்களுக்கான சதுரங்கப் போட்டி

யாழ்ப்பாணம் - இலங்கையில் இவ்வருடம் நடத்தப்படவிருக்கும் ஆசிய இளைஞருக்கான சதுரங்க சம்பியல் போட்டியில் கலந்துகொள்வதற்கான போட்டியாளர்களைத் தெரிவு செய்வதற்கு தேசிய மட்டத்தில் நடத்தப்படும் தெரிவுப் போட்டியில் கலந்து கொள்வதற்காக 9 மாகாண மட்டங்களில் தெரிவுப் போட்டிகள் நடைபெறவுள்ளன.

வடமாகாணத்தில் இந்தப் போட்டிகள் எதிர்வரும் 17 ஆம், 18 ஆம் திகதிகளில் யாழ். இந்து ஆரம்பப் பாடசாலைகளில் காலை 9.00 மணிக்கு ஆரம்பமாகும்.

இதில் 2005-01-01 திகதிப்படி 20 வயதுக்குட்பட்ட ஆண், பெண் போட்டியாளர்கள் பங்குபற்ற மாம். வயதுப் பிரிவுகளாக 2005-01-01 திகதிப் படி 9, 11, 13, 15, 20 வயதுக்குட்பட்ட ஆண், பெண் பிரிவுகளில் போட்டியாளர்கள் தேர்ந்தெடுக்கப்படுவர்.

விண்ணப்பக் கட்டணம் 150 ரூபாவாகும். போட்டியாளர் எதிர்வரும் 17 ஆம் திகதி காலை 9.00 மணிக்கு முன் நேரடியாக யாழ். இந்து ஆரம்பப் பாடசாலைக்குச் சமூகமளித்து விண்ணப்பக் கட்டணத்தைச் செலுத்திப் பங்குபற்ற மாம்.

ஓவ்வொரு வயதுப் பிரிவினும் 1 ஆம், 2 ஆம், 3 ஆம் இடத்தைப் பெறும் வீரர்களுக்கு முறையே தங்கம், வெள்ளி, வெண்கலப் பதக்கங்கள் இலங்கை சதுரங்கச் சம்மேளனத்தினால் வழங்கப்பட்டு சான்றிதழ்களும் வழங்கப்படவுள்ளன. போட்டியாளர்கள் ஆர்வத்துடன் பங்குபற்ற மாறு யாழ்ப்பாண சதுரங்கச் சம்மேளனம் கேட்டுள்ளது.

# ஜி.சி.ந.சாதாரண தர மாதிரி வினாத்தாள்

## விஞ்ஞானம்

01. கிறப்பர் எனப் பெயர்வரக் காரணம் யாது?
02. பரம்பரை அலகுப் பொறியியலினால் ஏற்படும் தீமை யாது?
03. அங்கிகளின் இயல்புகள் ஊடுகடத்தப்படல் தொடர்பாகப் பரிசோதனை மேற்கொண்டவர் யார்?
04. இவர் தனது பரிசோதனைக்குப் பட்டாணித் தாவரத்தைத் தெரிவு செய்தமைக்கான காரணம் யாது?
05. பண்படுத்தப்படாத எண்ணெய் சுத்திகரிக்கப்படும் இடம் இலங்கையில் எங்குள்ளது?
06. பல் பகுதியம் என்றால் என்ன?
07. சதுப்பு நில வாயு என அழைப்பது எதனை?
08. பார்வகலன்கள் செறிவாகக் காணப்படும் பிரதேசம் எது?
09. இழைய வளர்ப்பின் படிமுறைகளைத் தருக?
10. நிலக்கீழ் தண்டின் வகைகள் 2 ஐக் குறிப்பிட்டு அவற்றிற்கு உதாரணம் தருக?
11. நாகமானது சல்பூரீகமிலத்துடன் தாக்கத்தில் ஈடுமுறையைக் காட்டி ஈடு செய்த சமன்பாட்டைத் தருக?
12. தாக்க விதம் என்றால் என்ன?
13. கூர்ப்புக் கொள்கையின் தந்தை என அழைக்கப்படுபவர் யார்?
14. இயற்கைத் தேர்வுக் கொள்கையை விளக்கப் பயன்படும் 4 படிமுறைகளையும் தருக?
15. நிலை மாற்றிற்கும், தூண்டற் சுருளிற்ும் இடையேயான வேறுபாட்டைத் தருக?
16. கண்ணாடியின் வகைகள் 2 தருக?
17. கண்ணாடியின் சிறப்பியல்புகள் எவை?
18. கலப்புப் பிறப்பாக்கத்தால் ஏற்படும் நன்மைகள் எவை?
19. அங்கியின் இயல்பைத் தீர்மானிக்கும் காரணிகள் எவை?
20. பொலித்தீனின் கட்டமைப்பை வரைந்து காட்டுக?
21. இனப்பெருக்கம் என்றால் என்ன?
22. திரவ அழுக்கம் தங்கியுள்ள காரணிகள் எவை?
23. விசைத் திருப்பம் வேலை, சக்தி, வலு ஆகியவற்றின் அலகுகளைத் தருக?
24. கனிய நெய் முதலில் என் நாட்டில் அறிமுகம் செய்யப்பட்டது?
25. கிறப்பரின் இயல்புகளைத் தருக?

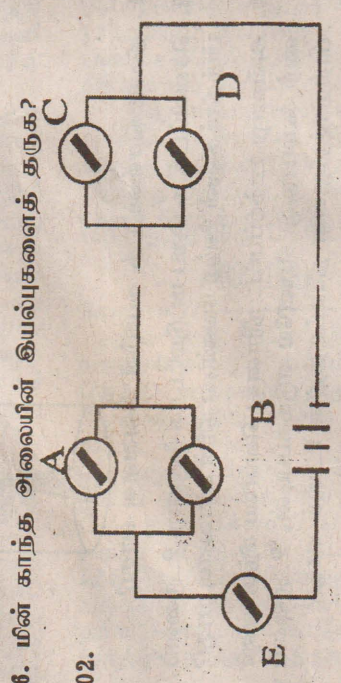
01. தரப்பட்ட மின்கற்றில் A, B எவ்வாறு இணைக்கப்பட்டுள்ளது? ஒவ்வொன்றும்  $\Omega$  தடையைக் கொண்டது எனின், சமவலுத் தடை யாது?
02. சுற்றலூடாகப் பாயும் மின்னோட்டம் யாது? C யிலூடாகச் செல்லும் மின்னோட்டம் யாது? ஓமின் விதியைத் தருக? மின் குழி E யின் வலு யாது? E யிற்கு குறுக்கே மின் அழுக்கம் அளக்க வேண்டுமாயின், அதற்குப் பயன்படுத்தும் கருவியை இணைத்துக்காட்டுக?
03. பரம்பரை அலகுப் பொறியியல் மூலம் எமக்குக் கிடைக்கும் நன்மைகள் 2 தருக?
04. தற்போது அழகான நீண்ட நாட்கள் வாடாமல் இருக்கும் முதிய இயல்பு கொண்ட பூக்கும் தாவர வர்க்கங்கள் எவ்வாறு உருவாக்கப்படுகின்றன?
05. விகாரம் என்றால் என்ன?
06. சார்ள்ஸ் டார்வீனால் முன்வைக்கப்பட்ட கூர்ப்புக்கொள்கை யாது?
07. அழிந்து போன "மம்மத்" என்ற விலங்கின் DNA தற்கால எந்த விலங்கின் DNA உடன் ஒத்துள்ளதாகக் கண்டு பிடிக்கப்பட்டுள்ளது?
08. மனிதனில் காணப்படும் பரம்பரை நோய்கள் 2 தருக?
09. பரம்பரை அலகுப் பொறியியலுக்கு பயன்படுத்திய பக்றியா எது?
04. புலியில் இருந்து பெறக்கூடிய பயன்மிகு பொருட்கள் பலவாகும். இவற்றில் பெரும்பாலானவை மனித செயற்பாடு காரணமாக விரைவில் தீர்ந்து போகக் கூடியவையாகும். புலியில் இருந்து பெறக்கூடிய பயன்மிகு பொருட்களில் 1. தின்மம் 2. திரவம் 3. வாயு நிலைப் பொருட்கள் ஒவ்வொன்று தருக. இலங்கையில் விரைவில் தீர்ந்து போகக் கூடிய வளங்களுக்கு இது உதாரணங்கள் தருக? இலங்கையில் பெறப்படும் உரத் தயாரிப்போடு தொடர்புடைய வளங்களுக்கு ஒவ்வொரு உதாரணம் தருக. செயற்கை பிறிதியீட்டுப் பதார்த்தங்கள் கிரண்டு தந்து அவை எவற்றுக்கு பிறிதியீடாகின்றன எனக் குறிப்பிடுக. மப்பர் பாலில் காணப்படும் கூறுகளைத் தருக? மப்பர் பாலின் DRC பெறுமானம் என்பதிலிருந்து நீர் வீளங் கிக் கொள்வது யாது?

## பகுதி II

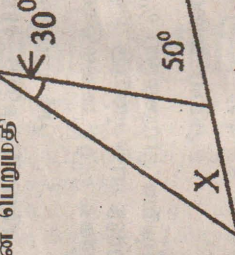
1. வானிலை அலை ஊடுகடத்தல் செயற்பாடு நடைபெறுவதை அம்புகுறி படம் மூலம் காட்டுக.
2. ஒலி பெருக்கி, நுணுக்குப்பின்னி என்பவற்றில் நடைபெறும் சக்தி மாற்றங்களைத் தருக?
3. மட்டிசைப்பு என்றால் என்ன? மட்டிசைப்பின் வகைகளைத் தருக?

தருக?

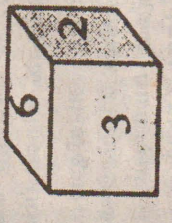

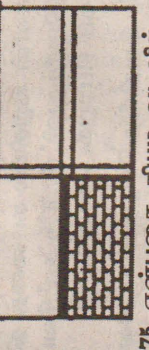
4. நாடாப்பதிப்ச் செயற்பாட்டைச் சுருக்கமாகத் தருக?
5. முதலாவது தொலைக்காட்சி ஒளிபரப்பு யாரால் மேற்கொள்ளப்பட்டது?
6. மின் காந்த அலையின் இயல்புகளைத் தருக?



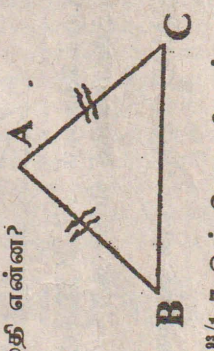
01. 1Kg சீனியின் விலை ரூபா 28 எனின் 1 1/2Kg சீனியின் விலை என்ன?
02.  $2y/x - y/x$  சுருக்குக?
03. X இன் பெறுமதி



04. நிற்ப்பட்ட பகுதி எத்தனை நூற்று விதம்?
05. 0.0075 என்பதை நியம வடிவில் தருக?
06. கீர்ட்ட இடத்தில் எழுதப்பட வேண்டிய இலக்கங்கள் யாது?



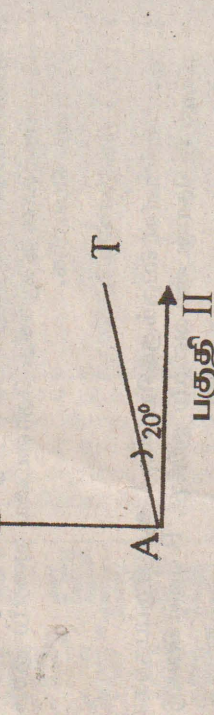

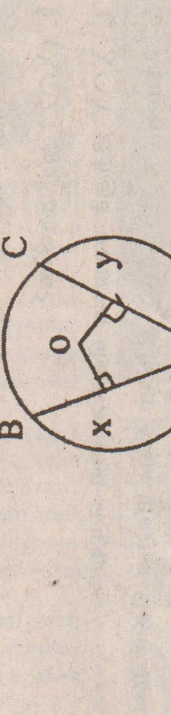
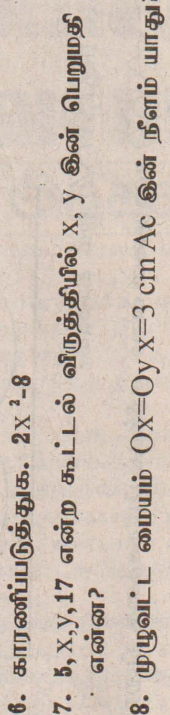
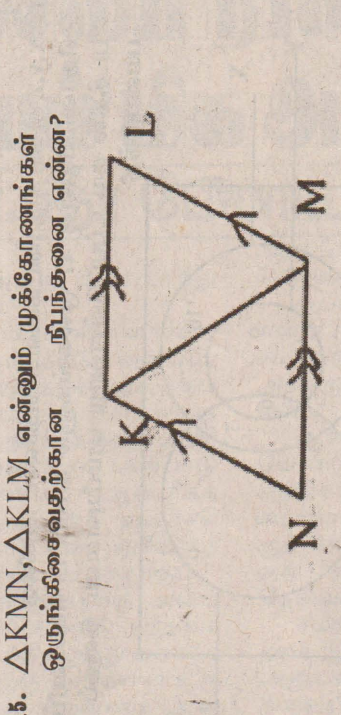
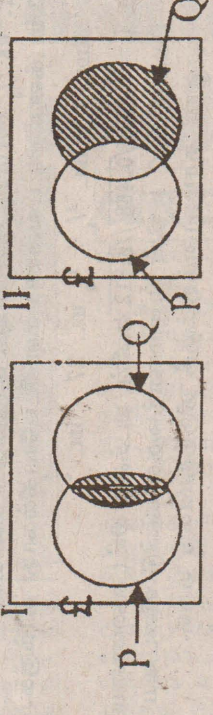
07.  $\log_8 64$  இன் பெறுமதி என்ன?
08. 1 முதல் 6 வரையிலான தாயக்கட்டையில் 4 கிலும் கூடிய எண் பெறுவதற்கான நிகழ்தகவு யாது?
09. தரப்பட்ட உருவின் சுற்றளவு யாது?
10. நிலையான புள்ளி ஒன்றிலிருந்து மாறாத தூரத்தில் இயங்கும் புள்ளியின் ஒழுக்கை படம் வரைந்து எழுதுக.
11. சுருக்குக:  $11/2 - 1/2$  இன்  $2/3$
12. தரப்பட்டுள்ள உருவில்  $AB = AC < B + C = A$  எனின் A இன் பெறுமதி என்ன?
13.  $17 \times 29 = 493$  எனின்  $4.93/1.7$  இன் பெறுமதி என்ன?



## மாணவர் மலர் கணரிதம்

### பகுதி I

01. நழற்றிய பகுதிகளை தொடைக் குறியீட்டில் தருக.
02.  $\Delta KMN, \Delta KLM$  என்னும் முக்கோணங்கள் ஒருங்கிசைவதற்கான நிபந்தனை என்ன?
03. காரணிப்படுத்துக.  $2x^2 - 8$
04.  $x, y, 17$  என்ற கூட்டில் விருத்தியில்  $x, y$  இன் பெறுமதி என்ன?
05. முழுவட்ட மையம்  $Ox = Oy = 3 \text{ cm}$   $AC$  இன் நீளம் யாது?
06.  $y = (x-2)^2 + 1$  என்னும் வரையின் கீழிவழி புள்ளியையும் சமச்சீர் கோட்டின் சமன்பாட்டையும் தருக?
07. A யிலிருந்து T இன் திசை கோள் யாது?



1. காரணிப்படுத்துக.  $25y - xy$
2. பின்வரும் ஒருங்கமை சமன்பாடுகளைத் தீர்க்க.  $x - y = 4$   $2x + y = 5x + 2z = 1$
3. செவ்வக வடிவ புற்றரை ஒன்றின் நீளம், அகலத்தை விட 12m கூடியதாகும். செவ்வகப்புற்றரையின் பரப்பளவு  $85 \text{ m}^2$  ஆகும்.
3. புற்றரை அகலம்  $x \text{ m}$  ஆயின் நீளத்தை  $x$  இன் சார்பில் தருக?

### (01)

1. காரணிப்படுத்துக.  $25y - xy$
2. பின்வரும் ஒருங்கமை சமன்பாடுகளைத் தீர்க்க.  $x - y = 4$   $2x + y = 5x + 2z = 1$
3. செவ்வக வடிவ புற்றரை ஒன்றின் நீளம், அகலத்தை விட 12m கூடியதாகும். செவ்வகப்புற்றரையின் பரப்பளவு  $85 \text{ m}^2$  ஆகும்.
3. புற்றரை அகலம்  $x \text{ m}$  ஆயின் நீளத்தை  $x$  இன் சார்பில் தருக?

- மேலேயுள்ள தரவுகளை அடியடிபடையாகக் கொண்டு, X இலான இருபடிச் சமன்பாட்டை உருவாக்குக.
- நீர்பெற்ற இருபடிச் சமன்பாட்டின் தீர்வுகளைக் காண்க.
- முற்றையின் அகலத்தையும், நீளத்தையும் தருக?

(02)

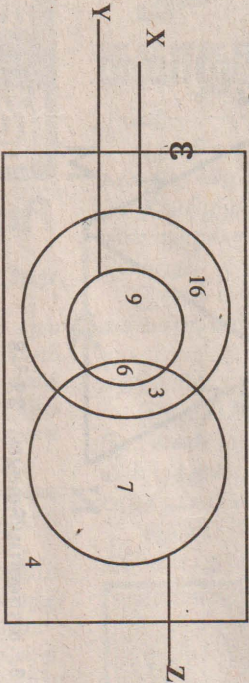
- $64 \frac{1}{2} \times (0.2)^{-2}$  இன் பெறுமானத்தைக் காண்க.
- மடக்கை அட்டவணைகளை உடயோகிக்காது தீர்க்குக.

2மட X = மட  $\frac{1}{2} + \frac{1}{4}$  மட 27 - மட  $\frac{1}{2}$

- $T = 6.28 \times \sqrt{468} / 9.812$  என்ன, மடக்கை அட்டவணையை பயன்படுத்தி T இன் பெறுமானத்தைக் கண்டு விடையை முதலாம் தசமத்தானதற்குத் திருத்தமாகத் தருக.

(03)

- X, Y, Z ஆகிய தொடைகளைக் கொண்ட அகிலத் தொடையிலுள்ள 47 மூலகங்களும் தரப்பட்ட வெள்வரிப் படத்தில் காட்டப்பட்டுள்ளவாறு பரம்பிள்ளன. இதைப் பயன்படுத்தி



- $n(X \cap Y \cap Z)$  ஐக் காண்க?
- $n(X \cap Z)$  என்பதனை வகை குறிக்கும் பிரதேசத்தை நிறுற் க்காட்டுக.
- $(X \cap Z)$  ஐக் காண்க?
- $X \cap Y$  இற்குச் சமமான தொடையை எழுதுக.
- தொடை X இற்கும், Y இற்கும் இடையிலான தொடர்பை தொடைக் குறியீட்டில் தருக?

- 1, 1, 2, 2, 3, 3 என இலக்கமட்ப்பட்டுள்ள ஒழுங்கான சதுரமுக்குத் தாயக்கட்டை அடுத்தடுத்து இருமுறை உருட்டப்பட்டது.  
1. இரு முறைகளிலும் பெறப்படும் இலக்கங்கள் காட்டும் மாதிரி வெளியை புள்ளி வரைபில் காட்டுக?
  - இலக்கங்களின் பெருக்குத் தொகை ஓர் இரட்டை எண்ணாக இருப்பதற்கான நிகழ்ச்சித் தொடையை வரைபில் குறித்து, B எனப் பெயரிடுக. A எனப் பெயரிடுக.
  - P(A) ஐக் காண்க?
  - இலக்கங்களின் பெருக்குத்தொகை 1 ஆக இருப்பதற்கான நிகழ்ச்சித்தொடையை வரைபில் குறித்து, B எனப் பெயரிடுக.
  - A யும் B யும் தம்முள் புறநிங்குவனவா? காரணம் தருக?
  - P(AUB) ஐக் காண்க?
- (04) நீர்வீழ்ப்பு, கவராயம் cm/mm அளவு கோல் ஆகியவற்றை உபயோகிக்கும், அமைப்புகள் யாவற்றையும் காட்டி, yும் CD ஆகியவற்றின் நரம்பக்கல் ABCD ஐ அமைக்குக. (முதலில் நரம்பக்கங்கள் ABCD இன் பருமட்டான பட மொன்றை வரைக)
- BC இன் நீளத்தை அளந்தெழுதுக.

- DC ஐ X வரையும், DB ஐ Y வரையும் நீட்டுக.
- BC ஐ தொட்டுச் செல்லும் முக்கோணம் BCD இன் வெள்வட்டத்தை அமைக்க.
- அவ்வட்டத்தின் ஆரையை அளந்தெழுதுக.

(05)

அ) ஒருவன் ரூபா 13200 ஆண்டு பெறுமதியாகவுள்ள வீட்டை, ரூபா 9800 இற்கு வருட வாடகைக்கு வீட்டான வாடகைப் பணத்தில் 15% மீள் கட்டணத்திற்கும், 25% ஐ திருத்த வேலைக்கும் செலவு செய்த பின்னர், அவ்வாண்டுக்குரிய வீட்டு வரியையும் செலுத்தினான்.

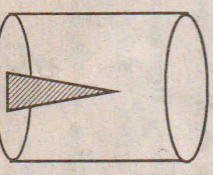
- இறுதியில் அவளிடம் ரூபா 2364 எஞ்சியிருந்தது எனின் என்ன நூற்று வீத வரி அறவிடப்பட்டது?
- ஆ) ரூபா 10 பெறுமதியான பங்குகளை 10% சமத்திலும் கூடிய வீலைக்கு வாங்குவதற்கு ஒருவர் ரூபா 88000 ஐச் செலவு செய்தார். கம்பளி 14% பங்கிலையும் வழங்கியது.
- பங்கு ஒன்றின் வாங்கிய வீலை யாது?
- அவர் வாங்கிய பங்குகளின் எண்ணிக்கை யாது?
- அவர் பெறும் வருமானம் யாது?

- ஒருவன் 2 ஆண்டுகளின் இறுதியில் கடனைத் திருப்பிச் செலுத்துவதாக உறுதியளித்துவிட்டு, 6% காட்டுவட்டிக்கு ரூபா 8500 ஐ கடனாகப் பெற்றுக் கொண்டான்.
- முதலாம் ஆண்டின் இறுதியில் செலுத்தப்படவேண்டிய வட்டியைக் காண்க?
- இரு ஆண்டுகளின் இறுதியில் கடனைத் திருப்பிக் கொடுக்கும்போது செலுத்தவேண்டிய தொகையைக் காண்க?
- தான் வாக்குறுதியளித்தபடி 2 ஆண்டுகளின் பின் கடனைத் திருப்பிக் கொடுக்கத் தவறுகிறான்.

கடனிலிருந்து தர்ணனை விடுவித்துக் கொள்வதற்கு மேலும் 3 மாதங்களின் பின்னர் வட்டியுடன் பணமாக ரூபா 477.53 செலுத்த வேண்டியதாயிற்று. மேலதிக காலத்துக்காக அறவிடப்பட்ட ஆண்டு வட்டியினை யாது?

- ஒரே அடியிலும், ஒரே இரு சமாதானத் தொகைக் கொடுக்கக்கூடியும் அமைந்துள்ள இணைகரங்களின் பரப்பளவுகள் சமமாகும் என சூத்திரங்கள் எதையும் பயன்படுத்தாது நிறுவுக.
- ABCD என்பது AB//DC ஆகவுள்ள சரிவகம். அதன் முலை விட்டங்கள் M இல் இடைவெட்டுகின்றன. M இனிக்குது AB க்குச் சமாதானமாக வரையப்பட்ட கோடு AD ஐ இல் வெட்டுகிறது. தரப்பட்ட வரிப்படத்தை வரைந்து
- 
- முக்கோணம் NMB இற்குப் பரப்பளவில் சமமான முக்கோணியின் பெயர் தருக.
  - AMD=BMC எனக் காரணங்களுடன் காட்டுக.
  - BNC=2AMD என நிறுவுக.

- அ) வரிப்படத்தில் காட்டியபடி 24 cm ஆரையுள்ள செவ்வட்ட உருளைப் பாத்திரமொன்றின், அதன் மத்தியில் 9cm ஆரையுள்ள திண்ம செவ்வட்டக் கூம்பு வைக்கப்பட்டுள்ளது. இதன் உயரம் 14cm ஆகும்.



- திண்ம செவ்வட்டக் கூம்பின் கனவளவு யாது?
- செவ்வட்டக் கூம்பை மட்டுமட்டாக முழுமறு உருளைப் பாத்திரத்தினுள் ஊற்ற வேண்டிய நீரின் கனவளவு யாது?
- அவ்வாறு ஊற்றப்பட்ட நீரானது வெளியே சிந்தாவண்ணம் கூம்பானது வெளியே எடுக்கப்படின், உருளைப் பாத்திரத்தினுள் நீர்மட்டத்தின் உயரம் யாது?

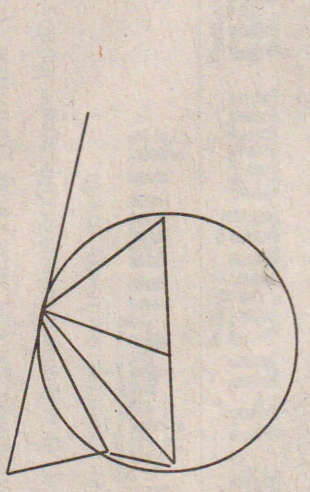
- 9cm<sup>2</sup> குறுக்கு வெட்டுப் பரப்பளவைக் கொண்ட குழாய் ஒன்றினூடாக 32cm/s எனும் சீரான கதியில் நீர் செலுத்தப்படுகிறது. இந்தக் குழாயைப் பயன்படுத்தி 6.336 வீற்ற நீரை எவ்வளவு நேரத்தில் பெற்றுக் கொள்ளலாம்.

(08)

அ) காட்டு இலாகாவிலுள்ள சிறுதோம்பொன்றிலுள்ள 300 மரங்களின் சுற்றளவுகளை அளக்கின்றார். தரையிலிருந்து குறிப்பிடவொரு உயரத்தில் மரம் ஒவ்வொன்றினதும் சுற்றளவுகளை அளந்து கிட்டிய cm இல் கொடுக்கப்படுகிறது. இதன் மீடறன் பரம்பல் பின்வரும் அட்டவணையில் தரப்பட்டுள்ளது.

சுற்றளவு	மரங்களின் எண்ணிக்கை
65 - 69	4
60 - 64	22
55 - 59	34
50 - 54	67
45 - 49	96
40 - 44	48
35 - 39	29

- இந்தப் பரம்பலில் எந்த வகுப்பாயிடை இடையத்தைக் கொண்டுள்ளது.
  - வகுப்பாயிடை 50 - 54 இன் நடுப்பெறுமானத்தை எடுக்கொண்ட இடையாகக் கொண்டு, இயற்காணியின் இடையகை காண்க. விடையை கிட்டிய முழு எண்ணில் தருக.
  - 54cm இலும் கூடிய சுற்றளவுடைய மரங்களின் சத வீதத்தைக் காண்க.
  - முன்றாம் காலணை
  - முன்றாம் காலணை இடைவீச்சு என்பவற்றைக் காண்க.
- 08) ஒருவன் மையமாகக் கொண்ட வட்டத்தின் AC விட்டமாகும். A, B, D, C வட்டத்தின் பரிதியிலுள்ள நான்கு புள்ளிகளாகும். வட்டத்துக்கு B மிலுள்ள தொடல் நீட்டிய CD ஐ E இல் சந்திக்கிறது. தரப்பட்ட வரிப்படத்தைப் பரிந்து நியாயங்களுடன்



- ABC இன் பெறுமானத்தைத் தருக?
- BAC இனது மீகை நிரப்புக் கோணத்தைத் தருக.
- DBE இற்குச் சமமான கோணமொன்றைப் பெயரிடுக.
- BAO, BOC ஆகியவற்றிற்கான தொடர்பை எழுதுக.
- முக்கோணிகள் BED யும், BEC யும் சமகோணமானவை என நிறுவுக.

- முக்கோண ஒன்றின் அடிக்குச் சமாதானமாக வரையப்படும் நோக்கோடு மற்ற இரு பக்கங்களையும் விசைசாரமாகப் பிரிக்கும் என்பதன் மறுதலைத் தேற்றத்தை எழுதுக.



- XY ஆனது AC இற்குச் சமாதானமான கோணங்கள் இரண்டைப் பெறுக.
  - XY ஆனது AC இற்குச் சமாதானமாகும் என நிறுவுக.
- 09) அ. வரிப்படத்தில் காட்டியபடி 24cm ஆரையுள்ள செவ்வட்ட உருளைப் பாத்திரமொன்றின், அதன் மத்தியில் 9 cm ஆரையுள்ள திண்ம செவ்வட்டக் கூம்பு வைக்கப்பட்டுள்ளது. இதன் உயரம் 14cm ஆகும்.
  - திண்ம செவ்வட்டக் கூம்பின் கனவளவு யாது?
  - செவ்வட்டக் கூம்பை மட்டுமட்டாக முழுமறு உருளைப் பாத்திரத்தினுள் ஊற்றவேண்டிய நீரின் கனவளவு யாது?
  - அவ்வாறு ஊற்றப்பட்ட நீரானது வெளியே சிந்தாவண்ணம் கூம்பானது வெளியே எடுக்கப்படின், உருளைப் பாத்திரத்தின் நீர்மட்டத்தின் உயரம் யாது?

ஆ. 9cm<sup>2</sup> குறுக்கு வெட்டுப் பரப்பளவைக் கொண்ட குழாய் ஒன்றினூடாக 32cm/s எனும் சீரான கதியில் நீர் செலுத்தப்படுகிறது. இந்தக் குழாயைப் பயன்படுத்தி, 6.336 வீற்ற நீரை எவ்வளவு நேரத்தில் பெற்றுக் கொள்ளலாம்.





# சமாதானம் என்ற போர்வையில் நின்று அரசு போலி நாடகமாடுவதை அனுமதிக்க முடியாது

## முல்லைத்தீவு அன்னைபார் முன்னணி

முல்லைத்தீவு

சமாதானம் என்ற போர்வைக்குள் நின்று சிங்களவர்களின் போலி நாடகம் அரங்கேறுவதை அனுமதிக்க முடியாது என்பதை தமிழ் மக்களாகிய நாம் சர்வதேசத்திடம் உரத்த குரலில் தெரிவிப்போம் என முல்லைத்தீவு அன்னைபார் முன்னணியினர் அறைகூவல் விடுத்துள்ளனர்.

முல்லைத்தீவில் இன்று நடைபெறவுள்ள எழுச்சி மாநாட்டை முன்னிட்டு முல்லை அன்னைபார் முன்னணி வெளியிட்ட அறிக்கையிலேயே இவ்வாறு தெரிவிக்கப்பட்டுள்ளது.

காலம் காலமாக அடக்கப்பட்டு, ஒடுக்கப்பட்டிருந்த தமிழினம். தமிழீழ தேசியத் தலைவரின் சிந்தனைக்கு வடிவம் கொடுத்து, உயிர்விலை கொடுத்து, சொத்து இழந்து விடுதலைக்காய் போராடி, விடுதலையின் விளிம்பில் நின்ற வேளை - சர்வதேச சமூகத்தின் பார்வையின் முன்னும், மூன்றாம் தரப்பின் அனுசரணையுடனும் யுத்தவெறி பிடித்த சிங்கள அரசை சமாதானத்துக்கு அழைத்தோம்.

சிங்களப் பேரினவாதம் சமாதான விதிமுறைகளை மீறி சமாதான காலத்திலும் நிராயுத பாணிகளாக நிற்கும் எமது போராளிகளையும், மக்களையும் கொன்று கொடுமைப்படுத்தி வருகிறது. நாம் சமாதானத்தைக் காப்பதற்காக நிறைந்த உயிர்விலை கொடுத்த வேளையிலும் பொறுமை காத்துக் கொண்டிருக்கின்றோம்.

துக் கொள்வதால் தான் சமாதானம் உயிர் வாழ்ந்து கொண்டிருக்கின்றது.

தமிழ் மக்களாகிய நாம் பொறுமையின் எல்லையில் நின்று அறை கூவுகின்றோம். இனியும் சமாதானம் என்ற போர்வையில் நின்று சிங்களத்துப் போலிநாடகம் அரங்கேறுவதை அனுமதிக்க முடியாது. கடந்த கால அரசின் சமாதானப் போக்குகள் எமக்கென்றொரு தீர்வைத் தராததால், தமிழ் மக்களாகிய நாம் அரசின் மீது நம்பிக்கை இழந்த நிலையில் சர்வதேசத்திடம் உரத்துக் குரல் கொடுக்கின்றோம்.

எங்கள் சுயநிர்ணய உரிமை எமக்கு வேண்டும், சர்வதேச சமூகம் எமது நியாயப்பாட்டை உணர்ந்து சிங்கள அரசுக்கு அழுத்தம் கொடுக்க வேண்டும். தமிழர்களின் தலைவதியை நிர்ணயிக்கின்ற, தமிழர்களின் விடுதலையைப் பெற்றுத்தரும் ஒரே அமைப்பு விடுதலைப் புலிகள் என்பதையும், அதன் தலைவர் வே. பிரபாகரன் ஒருவரே எனவும் நாம் நம்புகின்றோம்.

எனவே வரலாற்று சிறப்பு மிக்க வவுனியா மாநாட்டு பிரகடனத்திற்கு வலுச்சேர்க்கும் வகையிலும், சர்வதேசம் எமது கோரிக்கையை அங்கீகரிக்கக் கோரியும் முல்லைத்தீவில் இன்று நடைபெறவுள்ள மாபெரும் எழுச்சி நிகழ்விற்கு அனைவரும் குரல் கொடுப்போம் வாரீர் என அந்த அறிக்கையில் குறிப்பிடப்பட்டுள்ளது. (ந)

# வாகனத் தரிப்பிடம் தொடர்பான அறிவிப்பு

முல்லைத்தீவு

முல்லைத்தீவு - புதுக்குடியிருப்பு மாலதி விளையாட்டு மைதானத்தில் இன்று நடைபெறவிருக்கும் தமிழ் தேசிய எழுச்சிப் பிரகடன நிகழ்வுக்கு வருகை தருவோருக்கான வாகனத் தரிப்பிட வசதிகள் ஏற்பாடு செய்யப்பட்டுள்ளன.

இதனடிப்படையில் மல்லாவி, பாண்டியன்குளம், மாங்குளம், விசுவமடு, உடையாக்கட்டு, தேவிபுரம் ஆகிய பிரதேசங்களிலிருந்துவரும் மோட்டார் சைக்கிள்கள், சைக்கிள்கள் மற்றும் வாகனங்கள் என்பன பரந்தன் வீதி,

புதுக்குடியிருப்பில் அமைந்துள்ள நகரசபை பொது விளையாட்டு மைதானத்திலும், ஒட்டுசுட்டான், தண்டுவான், மல்லாவி, பாண்டியன்குளம், மாங்குளம் ஆகிய பிரதேசங்களிலிருந்து வரும் மோட்டார் சைக்கிள்கள், சைக்கிள்கள் மற்றும் வாகனங்கள் என்பன ஐயன் கோவில் மைதானத்திலும், முல்லைத்தீவு, முள்ளியவளை ஆகிய பிரதேசங்களிலிருந்து வரும் வாகனங்கள் ஆர்.சீ.பாடசாலை மைதானத்திலும், பொக்கணை, இரணைப்பாலை, வலைஞன் மடம் ஆகிய பிரதேசங்களிலிருந்துவரும் வாகனங்கள் உதய சூரியன் கலாமன்ற மைதானத்திலும், முல்லைத்தீவு, முள்ளியவளைப் பிரதேசங்களிலிருந்து வரும் மோட்டார் சைக்கிள்கள், சைக்கிள்கள் என்பன மைதானத்திலும், மாத்தளன், புதுக்குடியிருப்பு பிரதேசத்திலிருந்து வரும் மோட்டார் சைக்கிள்கள், சைக்கிள்கள் என்பன சுப்பிரமணியம் வித்தியாசாலை மைதானத்திலும் தரிப்பதற்கான ஒழுங்குகளை முல்லைத்தீவு மாவட்ட தமிழ்த் தேசிய எழுச்சிச் செயலணி ஏற்பாட்டுக் குழுவினர் செய்துள்ளனர்.

# கள்ளப்பாடு கிராம மக்களுக்கு நிரந்தர வீடுகளுக்கான அடிக்கல் நாட்டுவீழா!

முல்லைத்தீவு

முல்லைத்தீவு மாவட்டத்தில் சுனாமியால் பாதிக்கப்பட்டு தமது வாழ்விடங்களை இழந்த கள்ளப்பாடு கிராம மக்களுக்கு தமிழர் புனர்வாழ்வுக் கழகத்தினரால் நிர்மாணிக்கப்படும் நிரந்தர வீடுகளுக்கான அடிக்கல் நாட்டுவீழா - கடந்த சனிக்கிழமை காலையில் 10 மணிக்கு நடைபெற்றது.

கள்ளப்பாடு கிராமத் தலைவர் மா.குணசிங்கராசா தலைமையில் நடைபெற்ற இந்த நிகழ்வில் தமிழீழ தேசியக் கொடியை முல்லைத்தீவு மாவட்ட துணை

அரசியற் துறைப் பொறுப்பாளர் செல்வம் ஏற்றி வைத்தார்.

தமிழர் புனர்வாழ்வுக் கழகக் கொடியை சுனாமித் திட்ட கட்டமைப்பு தமிழர் புனர்வாழ்வுக் கழகப் பணிப்பாளர் வினசன் ஏற்றிவைத்தார்.

பெயர்ப் பலகையை திட்டமிடல் பணிப்பாளர் றஞ்சன் திரைநீக்கம் செய்துவைத்தார்.

தொடர்ந்து முதலாவது வீட்டுக்கான அடிக்கல்லை யுனிசெப் பிரதிநிதி ஜெனி, திட்டமிடல் செயலக முல்லைத்தீவு கிளைப் பணிப்பாளர் யாழமுதன், கரைத்துறைப்பற்று முன்னாள் உதவி அரசு அதிபர் மு.காசிப்பிள்ளை ஆகியோர் நாட்டிவைத்தனர்.

## வவுனியா - தேக்கங்காட்டில்

# திறந்த பல்கலைப்பள்ளி கட்ட வேலை தற்காலிகமாக நிறுத்தப்பட்டுள்ளது!

வவுனியா

வவுனியா-தேக்கங்காட்டில் உள்ள வவுனியா வலயக்கல்வி அலுவலகக் காணியில் திறந்த பல்கலைக்கழக கட்டடம் அமைப்பதற்குத் தற்காலிகத் தடை விதிக்கப்பட்டுள்ளது.

1994 ஆம் ஆண்டு வவுனியா பிரதேச செயலாளரால் வவுனியா கல்வித் திணைக்களத்துக்கு 139 தேர்ச்சி காணி ஒதுக்கப்பட்டது. இந்தக் காணி 1998 ஆம் ஆண்டு ஒரு லட்சத்து 37 ஆயிரத்து 784 ரூபா செலவில் திருத்தி அமைக்கப்பட்டது.

கடந்த 29 ஆம் திகதி வவுனியா அரசு செயலக மாநாட்டு மண்டபத்தில் வடக்கு - கிழக்கு மாகாண ஆளுநர் டி.ரோன் பெர்

ண்டோ தலைமையில் நடைபெற்ற வவுனியா மாவட்ட ஒருங்கிணைப்புக் குழுக் கூட்டத்தில் - இந்தக் காணியில் நிகொட் நிதியுதவியுடன் ஆசிரியர் மத்திய நிலையம் அமைப்பதற்கு இணக்கம் காணப்பட்டது.

இந்த நிலையில் கடந்த 31 ஆம் திகதி இந்தக் காணியில் திறந்த பல்கலைக்கழகத்துக்கான கட்டடம் அமைக்கும் வேலை ஆரம்பமானது. இது குறித்து வவுனியா கோட்டக் கல்வி அதிகாரி வீ. கணேசராஜா வவுனியா பொலிஸாரிடம் முறையிட்டமைக்கமைய இந்தக் கட்டட வேலைகள் தற்காலிகமாக இடைநிறுத்தப்பட்டுள்ளன.

## தொகுப்பு - சந்தாடு

# பூநகரி - வாடியடிப் பகுதியில் சுகாதார விழிப்புணர்வு செயற்பாடு

பூநகரி

பூநகரி வாடியடிப் பகுதியில் சுகாதார விழிப்புணர்வுச் செயற்பாடு தமிழீழ சுகாதார சேவைகளின் ஒழுங்குபடுத்தலில் நடைபெற்றது.

இந்தப் பகுதிகளிலுள்ள உணவகங்கள், வர்த்தக நிலையங்கள் மூடப்பட்டு சுற்றாடல் பகுதி சுத்திகரிப்பு செய்யப்பட்டன.

இந்தப் பகுதியிலுள்ள பொது இடங்கள் பூநகரி பிரதேச சபையின் ஒத்துழைப்புடன் தூய்மைப்படுத்தப்பட்டது.

கழிவுப் பொருட்கள் அகற்றப்பட்டதுடன், மருந்து தெளி

கருவி மூலம் தொற்று நீக்கி மருந்து விசிறப்பட்டது.

சந்தை மற்றும் பொது இடங்களில் கழிவுப் பொருட்கள் இடுவதற்கான பரல்கள் வைக்கப்பட்டுள்ளன.

## சுகாதாரக் குழு கூட்டம்

கிளிநொச்சி

கிளிநொச்சி மாவட்ட கல்வி சுகாதாரக் குழுக் கூட்டம் - எதிர்வரும் 19 ஆம் திகதி பிற்பகல் 2 மணிக்கு நடைபெறவுள்ளது என கிளிநொச்சி அரசாங்க அதிபர் தி.இராசநாயகம் தெரிவித்துள்ளார்.

## சுகாதாரக் குழு கூட்டம்

**செப்டம்பர் - 14** தின்று நாளில் அன்று நிகழ்ந்தவை

1852 : வார்ட்டுலு போரில் நெப்போலியனைத் தேற்கடித்து பெரும் வெற்றி தேடிக்கொடுத்த பிரிட்டிஷ் தளபதி டியூக் ஆப் வெல்லிங்டன் ஆர்தர் வெஸ்லி மரணமானார்.

1882 : உலர் மின்கலத்தைக் கண்டுபிடித்து புகழ்பெற்ற பிரெஞ்சு விஞ்ஞானியும், பொறியியலாளருமான ஜோர்ஜ் லெக்ளாக் காலமானார்.

1901 : நான்காவது தமிழ்ச் சங்கம் பாண்டித்துரைத் தேவரால் ஆரம்பிக்கப்பட்டது.

1905 : இத்தாலியில் மாண்டரெஸ்ஸோ என்ற இடத்தில் மிகப் பெரிய நில நடுக்கம் ஏற்பட்டது. மூவாயிரத்துக்கும் மேற்பட்டவர்கள் இறந்தனர்.

1917 : ரஷ்யா குடியரசு நாடாளுக்கூட்டப் பேரவை அறிவிக்கப்பட்டது.

\*: பிரிட்டனுக்கு, இத்தாலி பதினொரு நாசகாரக் கப்பல்களைக் கொடுக்க ஒப்புக் கொண்டது. பிரிட்டனும் இத்தாலிக்கு மாதாந்தம் 70,000 தொன் நிலக்கரி அனுப்ப உடன்பட்டது.

1919: ஆயுதங்கள் வாங்குவதற்காக ஆறு இலட்சம் பவுண்ட்ஸ் களைப் போலந்துக்கு ரஷ்யா தந்தால், ஐந்து இலட்சம் படை வீரர்களை ரஷ்யாவுக்கு அனுப்பி உதவுவதாகப் போலந்துப் பிரதமர் ரஷ்யப் பிரதமரிடம் கூறினார்.

1923 : ஸ்பெயினில் இராணுவப் புரட்சி இன்று முடிவுக்கு வந்தது. மன்னரின் இரகசிய ஒத்துழைப்புடன் மைக்கல் பிரைமோ டி திவெரா அந்த நாட்டின் சர்வாதிகாரி ஆனார்.

1929: அமெரிக்கா சர்வதேச நிதிமன்றத்தில் இணைந்து கொண்டது.

1930 : ஜேர்மனியில் தேர்தல் நடந்தது. ஹிட்லரது நாஜிக் கட்சி மிகப்பெரும் வெற்றியை அடைந்தது.

1933 : முதன் முதலாக பொலிஸ் காவலர்களுக்கு வானலைத் தகவல் தொடர்புக் கருவி வழங்கப்பட்டது. இது இங்கிலாந்திலேயே நடைமுறைக்கு வந்தது.

1939 : ரஷ்யப் பொறியியலாளரான இகார் சிகோர்ஸ்கியால் வடிவமைக்கப்பட்ட முதலாவது ஹெலிகொப்டரின் வெள்ளோட்டம் நடைபெற்றது.

1978 : வெனீரா - 12 என்ற விண்கலம் ரஷ்யாவால் ஏவப்பட்டது. இது வெள்ளிக் கிரகத்தில் இடி முழக்கங்களைப் பதிவு செய்து அனுப்பியிருந்தது.

1981 : முதன் முதலாக உலகிலேயே மிக வேகமாகச் செல்லும் புல்லட் புகையிரத சேவை பாரிஸில் ஆரம்பிக்கப்பட்டது.

1982 : லெபனான் ஜனாதிபதி பஷீர் கெமாயிலுக் அரசியல் கட்சி ஒன்றின் தலைமையகத்தில் நடந்த குண்டு வெடிப்பில் படுகொலை செய்யப்பட்டார்.

1991: தென் ஆபிரிக்காவில் இன வன்முறைகளைத் தவிர்ப்பதற்காக தென்னாபிரிக்க அரசும், ஆபிரிக்க தேசிய காங்கிரஸ், இலங்காதா சுதந்திரக்கட்சி ஆகிய மூன்று தரப்பினரும் சமாதான உடன்படிக்கை ஒன்றில் ஒப்பமிட்டன.

1993: வெள்ளை மாளிகையில் ஜனாதிபதி பில் கிளிண்டன் தலைமையில் நடைபெற்ற வைபவம் ஒன்றின்போது, இஸ்ரேலும், பலஸ்தீன விடுதலை இயக்கமும் உடன்படிக்கை ஒன்றில் ஒப்பமிட்டன.



உயிரோடு கிருப்பவர்களுக்கு உதவிசெய்;  
சிறந்தவர்களிடத்தில் நம்பிக்கை வை.

## நமது நோக்கு

### பிரதமரின் சுயம் வெளியீடுகிறது!

கடல்கோள் அனர்த்தத்தின் பின்னரான நிவாரணப் பணிகளுக்கான பொதுக்கட்டமைப்பு நேர்மையானதாகக் காணப்படாததாலேயே அதற்குத்தான் ஒத்துழைப்பு வழங்கப்போவதில்லை எனவும், இதனைத்தான் ஆரம்பத்திலேயே தெளிவாக உணர்ந்து கொண்டதாகவும் "புதுக்கதை" ஒன்றை அறிவித்து வட்டிருக்கிறார் - ஜனாதிபதி வேட்பாளரும் தற்போதைய பிரதமருமான மஹிந்த ராஜபக்ஷ.

உண்மையில் பொதுஜன ஐக்கிய முன்னணி சார்பில் அவரை ஜனாதிபதி வேட்பாளராக நியமித்த பின்னர் பிரதமர் அவர்கள் தன்னை ஜனாதிபதியாகவே கற்பிதம் செய்து கொண்டு, அதனை நிஜமாக்கப் படும்பாடு பரிதாபத்திற்கும் நகைப்பிற்கும் இடமானதாகும்.

ஒரு கட்சியின் உறுப்பினராக கிருந்துகொண்டு, அதே வேளை ஒரு கூட்டணி அமைப்பிலும் தன்னை கிணைத்துக் கொண்டு, அவற்றின் கொள்கைகளுக்கும் நோக்கங்களுக்கும் கட்டுப்பட்டு கியங்கவேண்டிய - அதுவும் ஒரு நாட்டின் பிரதமர் என்ற பொறுப்பு வாய்ந்த பதவியை - அதுவும் உயர் கௌரவம் மிக்க பதவியை வகிக்கும் மஹிந்த ராஜபக்ஷ அவர்களின் அண்மைக்கால செயற்பாடுகள், பேச்சுக்கள், அவர் மேற்கொள்ளும் அரசியல் சுயநலத்தின் அடிப்படையிலான உடன்பாடுகள் என அனைத்துமே அவர் மீதான அபிப்பிராயங்களை அடிமட்டத்திற்கு கிறக்குபவையாகவே உள்ளன.

ஒரு உயர்பதவியை மட்டுமே குறிக்கோளாகக் கொண்டு, அதனை எட்டிப்பிடித்து ஆட்சி கதிரையில் அமர எதை வேண்டுமானாலும் செய்யத்தயாராக கிருக்கும் - அதற்காக தனது கட்சியின் கொள்கைகளையே புறந்தள்ளி ஒதுக்கி விட்டு, கட்சியின் தலைமைப்பிடித்தை - தலைவியை அவ மதித்து கொச்சைப்படுத்தும் எதிர்சக்திகளுடன் சுயேட்சையாக - அவர்களின் தேசிய நலனை நிராகரிக்கும் சமாதான விரோத கருத்துக்களைக் கொண்ட நபந்தனைகளுக்குக் கட்டுப்பட்டு உடன்பாடொன்றில் கையெழுத்திட்டு அளவுக்கு மிக மோசமான அதிகார ஆசை கொண்ட நபராக ஒரு நாட்டின் பிரதமர் தன்னை கிணங்காட்டுவதை விடவும் அசிங்கம் வேறொன்றும் கிருக்கவே முடியாது.

கிட்சியப்பிடிப்பும், கொள்கையில் உறுதியும், தேசிய நோக்கும் ஒரு தலைவராக - தலைமுறையினருக்கு தன்னை அடையாளப்படுத்த வேண்டிய பிரதமரும், தனக்குக் கீழ் உள்ள தலைவர்களையும் கட்சி முக்கியஸ்தர்களையும், ஒரே கருத்து மற்றும் நலைப்பாட்டில் செயற்பட வைக்க முடியாத நிறைவேற்று அதிகார வலுக்கொண்ட ஜனாதிபதியும் தங்களுக்கிடையே தற்போது மேற்கொண்டுவரும் நியூயுத்தமானது - இந்த நாட்டையும், மக்களையும் அவல நிலைக்குள் தள்ளிப்போகின்றது என்பது சர்வநிச்சயமாகும்.

தனக்கு அடுத்தபடியாக, அதே பதவிக்குப் போட்டியிடும் கருதி யாருக்கு முழுமையாகவுள்ளது என்பதை ஆய்வு செய்து தீர்மானிக்கும் பொறுப்பு ஜனாதிபதிக்கே உண்டு. அவரே தனது கட்சியின், கூட்டணியின் கொள்கைகளில் பற்றுறுதியும், தேசிய நலனில் பொறுப்புடன் கூடிய அக்கறையைச் செலுத்தக் கூடிய ஒருவரை தனது கடந்தகால அனுபவ அறிவின் அடிப்படையில் தேர்வு செய்யவேண்டிய பொறுப்பினையும் கொண்டவர். ஆனால், அவர் தெரிவுசெய்த ஜனாதிபதி வேட்பாளர் இப்போது அவரைச் செல்லாக்காசு என வெளிப்படையாகவே விமர்சிக்கும் குழுவினருடன் கூட்டுச் சேரும் அளவுக்கு உடன்பாடுகளுக்கு வந்துள்ளார்.

அதுவும் கட்சியின் கொள்கைகளை நிராகரிக்கும் நபந்தனைகளுக்குட்பட்டு...

பொதுக் கட்டமைப்பு நேர்மையானதாக கில்லை என்று இப்போது கூறும் பிரதமர் ராஜபக்ஷதான், அது தொடர்பான பிரேரணையை நாடாளுமன்றில் சமர்ப்பித்தவர் என்பதே கிங்கு முக்கியமாகக் கருத்தில் கொள்ளவேண்டிய விடயமாகும்.

அப்போது இந்தப் பொதுக்கட்டமைப்பு அவருக்கு நியாய புர்வமான ஒன்றாகப்பட்டதா? அல்லது அது தொடர்பான விபரம் எதனையும் படித்துப் பார்க்காமலேயே நாடாளுமன்றில் சமர்ப்பித்ததா? கில்லையேல் தற்போது ஜே.வி.பி.யின் விளக்க மளித்த பின்னர்தான் அது நேர்மையற்ற ஒன்று என்பதைப் புரிந்து கொண்டாரா?

அல்லது ஜே.வி.பி.யின் ஆதரவைப் பெறுவதற்காக, ஜனாதிபதிப் பதவியை எப்படியாவது கைப்பற்றிவிடவேண்டுமென்ற வெறியில் அவர்களின் நபந்தனைகளுக்கெல்லாம் "ஆமாம்சாம்" போடுகிறாரா?


- அவர் பிரதமராக கிதுநாள்வரை கதிரையில் ஒட்டிக் கொண்டிருந்த காலம் வரையும், போர் நிறுத்த உடன்பாட்டை மீள் பரிசீலனை செய்யவேண்டும் என்று கூறியதில்லையே!

- நோர்வேயின் அனுசரணை தவறானது என்று சொன்னதில்லையே!

- ஒற்றையாட்சியின் கீழ்தான் கிணப்பிச்சினைக்குத் தீர்வு காணமுடியும் என்ற எண்ணம் அவருக்கு எட்டவில்லையே! எல்லாமே ஜனாதிபதி பதவிக்கதிரை மீதான ஆசை தோன்றியும் அதனை எப்படியாவது அடைந்துவிடவேண்டியதும் என்ற வெறி தோன்றியும் தெளிவானது என்பது அதிசயம்தான்!

எதுவானாலும் பிரதமர் ராஜபக்ஷவின் ஆழ்மனப் பேரீனவாத கொள்கைகளும், மேல் மன பதவியாசையும் கிணைந்து கொண்டுள்ள கிவவேளையில் அவர் அவராக தன்னை கிணங்காட்டத் தொடங்கியுள்ளார். அவ்வளவுதான்!

## நாடும் நடப்பும்



## 'உவர்சற்றி' யார் யார்வையில்...

# பண்ட காலப் புரட்சிக்கு மகிந்தா போகலாம் தமிழர் அன்று போல் இன்று இல்லையே!

ஒப்பந்தங்களும் உடன்படிக்கைகளும் இலங்கை அரசியலில் முக்கிய இடம்பெறுவது இப்போதுதான் முதல் தடவையல்ல. சிங்களத் தலைவர்களுக்கும், தமிழ்த் தலைவர்களுக்குமிடையில் பேச்சுவார்த்தைகள் நடந்து ஒப்பந்தங்கள் கைச்சாத்திடப்பட்டிருக்கின்றன. 1930களில் யாழ்ப்பாணத்தில் சேர்.வைத்திலிங்கம் துரைசாமியின் இல்லத்தில் வைத்தும் சிங்களத்தலைவர்களுடன் ஒப்பந்தம் கைச்சாத்திடப்பட்டது. இந்த இல்லத்துக்கு "மகேந்திரவாசா" என்று பெயர். இந்த ஒப்பந்தத்துக்கும் மகேந்திர ஒப்பந்தம் என்று பெயர் சூட்டப்பட்டது. இந்த ஒப்பந்தம் பின்னர் செயல்படுத்தப்படவில்லை.

பின்னர் 1956ஆம் ஆண்டில் சிங்களத்தை ஆட்சி மொழியாக்குவதாக வாக்களித்து நாட்டில் சிங்கள மக்களுக்கு இனவெறியை ஊட்டி ஆட்சிக்கு வந்த எஸ். டபிள்யூ.ஆர்.டி.பண்டாரநாயக்கா தமது ஆட்சியை நிம்மதியாக நடத்துவதற்காக தமிழரசுக்கட்சித் தலைவர்களுடன் பேச்சு நடத்தி ஓர் ஒப்பந்தத்தில் கைச்சாத்திட்டார். இதை ஜே.ஆர்.ஜெயவர்த்தனா தலைமையில் யு.என்.பி எதிர்த்தது. இத்துடன் தமது கட்சிக்குள்ளும் எதிர்ப்புக் கிளம்பியது. புத்தபிக்குகளும் எதிர்த்தனர். அந்த ஒப்பந்தத்தை பண்டாரநாயக்காவே கிழித்தெறிந்தார். தொடர்ந்து தமிழரசுக் கட்சித் தலைவர் செல்வநாயக்கதுடன் ட்லிசேனநாயக்கா இரகசியப் பேச்சு நடத்தி ஓர் ஒப்பந்தமும் செய்தார். இது இடதுசாரித் தலைவர் என்.எம்.பெரேராவினால் அம்பலப்படுத்தி எதிர்ப்புத் தெரிவிக்க அதுவும் கிழித்தெறியப்பட்டது. இதெல்லாம் உமக்கு நினைவிருக்கா என்று எதிரிலிருந்த நண்பர் பரமசிவம் கேட்டார்.

இப்போது ஜனாதிபதித் தேர்தலில் ஆளும் சுதந்திரக் கட்சியின் வேட்பாளராகப் போட்டியிடும் பிரதம மந்திரி மகிந்த ராஜபக்ஷ ஜே.வி.பி யுடனும் ஹெல உறுமய பிக்குகளுடனும் ஒப்பந்தங்களில் கைச்சாத்திட்டு வருவதால் உமக்குப் பழைய ஒப்பந்தங்கள் நினைவுக்கு வருகதாகும் என்று கேட்டேன்.

தமிழ்த் தலைவர்களுடன் சிங்களத் தலைவர்கள் செய்து கொண்ட ஒப்பந்தங்கள் எல்லாம் சிங்களத் தலைவர்களாலேயே கிழித்தெறியப்பட்டன. இதன் பின் இதற்கு முன்னரும் கூட சிங்களத் தலைவர்கள் வாக்குறுதிகள் அளித்து வந்தார்கள். அவை காற்றில் பறக்க விடப்பட்டதால்தான் எழுத்தில் ஒப்பந்தம் செய்தார்கள். இவையும் நிலைத்து நிற்கவில்லை. செயல்படுத்தப்படவில்லை. இதன்பின் பேச்சுவார்த்தைகளிலேயே தமிழ் மக்கள் நம்பிக்கை இழந்தனர். இதனால் இனப்பிரச்சினையில் விடுதலைப்புலிகளுடன் பேச்சுவார்த்தை நடத்துவதற்கு ஜனாதிபதி சந்திரிகா அம்மையார் விடுதலைப் புலிகளை அழைத்த போது அதற்குச் சம்மதம் தெரிவித்த விடுதலைப்புலிகள் மூன்றாந்தரப்பாக ஒரு நாடு மத்தியஸ்தத்துக்கு வந்தால் தான் பேச்சு வார்த்தைக்கு வருவோம் என்று சொன்னார்கள். இதற்கு அம்மையாரும் இணங்கினார். பிரான்சைச் சேர்ந்த ஒருவரின் பெயரை அம்மையார் நடுநிலையாளராக சிபார்சு செய்தார். இதைப் புலிகள் ஏற்கவில்லை. பின்னர் நோர்வேயின் பெயரை இரு தரப்பும் ஏற்றுப் பேச்சு வார்த்தைக்கு இணங்கினர். இதன்பின் புரிந்து

ணர்வு ஒப்பந்தமும் இலங்கை அரசாங்கத்துக்கும் விடுதலைப் புலிகளுக்குமிடையில் கைச்சாத்திடப்பட்டது என்று பரமசிவம் சொன்னார்.

இப்பொழுது ஜனாதிபதித் தேர்தலில் ஆளும் சுதந்திரக் கட்சி வேட்பாளராகப் போட்டியிடும் பிரதம மந்திரி மகிந்தராஜபக்ஷ தமது வெற்றிக்கு ஆதரவு தேடினார். ஜனாதிபதி சந்திரிகா அம்மையார் சீனாவுக்குச் சென்றிருந்த சமயம் ஜே.வி.பியும் மகிந்தவும் பேச்சு நடத்தி உடன்பாட்டுக்கு வந்தனர். அம்மையார் நாடு திரும்பிய பின்னர் விபரம் சொல்லாமல் 12 நிபந்தனைகளை ஏற்று ஜே.வி.பியுடன் ஒப்பந்தம் செய்து கொண்டார். இப்பொழுது இது ஆளும் கட்சிக்குள்ளும் நாட்டிலும் பிரச்சினையைக் கிளப்பியிருக்கிறது என்றேன்.


நோர்வேயின் அனுசரணையுடன் கைச்சாத்திடப்பட்ட புரிந்துணர்வு ஒப்பந்தத்தை திருத்த வேண்டுமென்றும் ஆளும் கட்சியின் அமைச்சரவை அங்கீகரித்து பிரதம மந்திரியினால் நாடாளுமன்றத்தில் சமர்ப்பித்த கடற்கோளினால் பாதிக்கப்பட்ட மக்களுக்கு உதவியைப் பங்கிடும் பொதுக்கட்டமைப்பை கலைத்து விடவேண்டுமென்றும் நோர்வேயின் அனுசரணையையே மாற்றி அமைப்பதற்கும் ஜே.வி.பி தெரிவித்த நிபந்தனைகளையும் மகிந்த ஏற்றிருக்கிறார். இப்போது மகிந்தவுக்கும் ஜனாதிபதிக்கும் முறுகலும் இழுபறியும் ஏற்பட்டிருக்கிறது. ஜனாதிபதியின் தம்பியாரும் வெளி விவகார அமைச்சருமான அனுராவும், அக்காவின் பக்கம் நிற்கிறார் என்று சொன்ன பரமசிவம் எப்படி இருந்தாலும் இது சிங்கள ஆதிக்கச் சக்திகளுக்கிடையில் நடைபெறும் போட்டியும் கொளுவலுமாக இருப்பதால் கைச்சாத்திட்ட ஒப்பந்தங்கள் கிழித்தெறியப்படமாட்டாதென்று நம்பலாம் என்றார்.

ஜே.வி.பியுடன் செய்து கொண்ட ஒப்பந்தத்தினால் நாட்டை மீண்டும் ஐம்பதாண்டுகளுக்குப் பின்னால் மகிந்தா கொண்டுபோய் விட்டார் என்று எதிர்க்கட்சியினரும் அரசியல் ஆய்வாளர்களும் சொல்லிக் கொண்டிருக்கிறார்கள் என்று சொன்னேன்.

மகிந்தராஜபக்ஷவும் இதைத்தானே வேறுவிதமாகச் சொல்லியிருக்கிறார். கொழும்புக்கருகில் கிரிபத் கொடையில் நடந்த பிரச்சாரக் கூட்டத்தில் பேசிய மகிந்த 1956ஆம் ஆண்டில் களனித் தொகுதியில் ஜே.ஆர்.ஜெயவர்த்தனாவைத் தேர்தலில் தோற்கடித்த பண்டார நாயக்கா தலைமையிலான முற்போக்குச் சக்திகள் இன்னமும் இப்பகுதியிலிருக்கிறார்களென்று கூறியிருக்கிறார். முற்போக்கான சக்திகள் இன்று மேலும் பலம் பெற்றிருக்கின்றன. 1956ஆம் ஆண்டில் ஏற்பட்ட புரட்சியை இன்றைய சந்ததியினருக்கு நினைவுட்ட வேண்டும். நாங்கள் எங்கள் பழம்பெரும் கலாசாரத்தைப் பாதுகாக்க வேண்டும் என்று மகிந்தா பேசியிருக்கிறார். மீண்டும் பண்டாரநாயக்கா காலத்துக்கு இனவெறியைத்தான் தனது தேர்தல் வெற்றிக்கு மகிந்த நம்பியிருக்கிறார் என்று தெரிகிறது. ஆனால் 1956ஆம் ஆண்டில் இருந்த தமிழ் மக்கள் போல் இன்றைய தமிழர்கள் இல்லையென்பதை அவர் நினைவுகொள்வது நல்லதென்று சொல்லி நடந்தார் பரமசிவம்.

# ஸ்ரீ தர்க்காதேவி தேவஸ்தாவம் தெல்லிப்பனை தேர் சிறப்பு மலர் - 14.09.2005

தேவஸ்தாவம் தாத்திக்குத் தேவத்தில் தெல்லி நகர் தர்க்கை தேரேறி வருகிறார்



மர் இந்தியாவில் காசி யாத்திரையை முடித்துக் கொண்டு காங்கேசன்துறை திரும்பி கிரிமலையில் தீர்த்தமாடி தெல்லிப்பனை நோக்கி நடந்து வந்த போது களைப்பினால் இலுப்பை மரத்தடியில் இளைப்பாறினார்.

அம்பாள் திருவுளங்கொண்டு சோதி வடிவமாகத் தோன்றி அவர் கொண்டு வந்த இயந்திரத்தை அந்த இடத்திலேயே ஸ்தாபிக்குமாறு ஆணையிட்டதாகக் கூறப்படுகிறது. இவ்வாறு வழிபட்டு வந்த ஆலயம் தான் இன்று அருள்மிகு தர்க்காதேவி ஆலயமாக அமைந்து அருள்பாலிக்கின்றது.

இந்த ஆலயத்தில் எழுந்தருளி அருள் பாலிக்கும் அன்னை தர்க்கா மதுரையில் மீனாட்சியாகவும், காஞ்சியில் காமாட்சியாகவும், தஞ்சையில் முத்து மாரியாகவும், நயினையில் நாக பூஷணியாகவும், திருகோணமலையில் ஸ்ரீ பத்திரகாளியாகவும், நல்லூரில் வீர மாகாளியாகவும், மாத்தளையில் முத்து மாரியாகவும், காரைநகரில் கும்ப நாயகியாகவும், வற்றாப்பாளையில் கண்ணகியாகவும், மட்டுவில் பன்றித் தலைச்சியாகவும் பல திரு நாமங்களைக் கொண்டு அன்னை அருள் பாலிக்கின்றாள்.

இன்று (2005.09.14) ஸ்ரீ தர்க்கா தேவி தெல்லிப்பனையில் தேரேறி வரும் காட்சி அற்புதமான இந்திர விழாப்போல் காணப்படுகிறது. பல்லாயிரக்கணக்கான அன்பர்கள் தெல்லிப்பனையில் கூடுகின்றனர். "அம்பிகையைச் சரண்புகுந்தால் அதிக வரம் பெறலாம்" என்பதற்கிணங்க அடியார்கள் பலரும் எந்தவித பேதமுமின்றி ஒன்று சேர்ந்து தேரின் வடத்தை இழுக்கும் போது தேர் நகர்ந்து செல்லுகின்றது. இதனால் சமுதாயத்தில் கூட்டுமுயற்சியின் முக்கியத்துவம் உணரப்படுகிறது. எல்லாம் வல்ல தர்க்காதேவி நாட்டில் சமாதான வாழ்வை எழுத்தமிழ் மக்கள் காலாகாலமாக எதிர் பார்த்திருக்கும் தீர்வினைத் தரவேண்டும் என இந்த நன்னாளிலே வேண்டுவோமாக.

**மதுரகவி காரை எம்.பி அருளானந்தன்**

**ஓர் கையின் தோற்றம்**  
சகல தேவதைகளின் சக்தியிலிருந்து தோன்றிய தோன்றிய தேஜோமய ரூபினி அருள் மிகு அஷ்டதசபுஜ மகாலட்சுமி தர்க்கை. மூன்று சக்திகளும் அடங்கிய இந்த மூலதர்க்கைக்கு அழகிய திருக்கோயில் தெல்லிப்பனை உழுமுடைப்பதியிலே அமைந்துள்ளது.

அசுரர்களின் அதிபதியாக இருந்த மகிஷாசுரன் இந்திராதி தேவர்களைப் போரில் வென்று இந்திர பதவியைக் கைப் பற்றி தேவர்களைத் துன்புறுத்தத் தொடங்கினான். தேவர்கள் பிரம்ம தேவன் தலைமையில் சர்வேசுவரனிடம் சென்று முறையிட கோபம் கொண்ட ஈசனது முகத்தினின்றும் மற்றும் அருகில் நின்ற மகாவிஷ்ணு - பிரம்ம தேவன் இருவரிடமிருந்தும் தேஜவுடன் கூடிய ஒளிதோன்றி ஒன்றாகச் சேர்ந்தது. அத்துடன் தேவர்களிடமிருந்து தோன்றிய ஒளியும் கலந்து ஒரு பெண் உருவமாகியது. ஈசனது ஒளி அவளது முகமாக மாற, யமனது அம்சம் அவளது கேசமாகத் தோன்றி அதில் சூரிய தேவன் தன் கிரணங்களை நிரப்பினான். விஷ்ணு வின் தேஜஸ் அவளது கைகளாக மாறியது. சந்திரனது ஒளி மார்க்கங்களாகவும், இந்திரனது ஒளி அவளது மெல்லிய இடையாகவும், வருணனது அம்சம் அவளது தொடையாகவும் முழங்கால்களாகவும் உருவாகி நிற்க பூமியின் அம்சம் அவளது பிருஷ்டமாகவும் மாறின. பிரம்ம மனது ஒளியால் உருவான அவளது இரு பாதங்களில் சூரியனது அம்சம் கால்விரல்களாகி நின்றன. வளக்கனின் ஒளி அவளது கைவிரல்களாகவும் குபேரனது அம்சம் அவளது மூக்காவும் உருவாயின.

பிரஜா பதியின் ஒளியால் அவளது பல்வரிசைகள் தோன்றின. அவளது முக்கண்கள் அக்னி தேவனது ஒளியினால் பிரகாசித்தன. வாயுவின் அம்சம் அவளது காதுகளாக மாறி அழகு செய்தது.

**ஓர் கைக்கு ஈசனே சூலத்தைக் கொடுத்தான்.**

இத்துணை சிறப்புகள் ஒருங்கே சேர்ந்தமைந்து உருவான அந்தத் தெய்வீகப் பெண்ணுக்கு ஈசன் சூலத்தையும், மகா விஷ்ணு சக்கரத்தையும், வருணன் சங்கையும், பாசத்தையும், வாயுவில்லும் பாணங் களும், இந்திரன் வஜ்ராயத்தையும், யமன் தண்டத்தையும் பிரமன் அட்சமாலை மற்றும் கமண்டலத்தையும், காலன் கத்தி - கோடயம் இரண்டையும், ஆயுதங்களாக அளித்தனர். குபேரன் என்றும் குறை யாத மதுபாத்திரத்தை அளிக்க ஆதிசேஷன் மணிகளால் அலங்கரித்த நாகமாலையை அவளுக்கு அணிவிக்க யம தேவன் சிம் மத்தை வாகனமாக அளித்து - ரத்தினங்களையும் அளித்து அவளை சர்வ-ஆபரண பூஷிதையாகிய பொழுது மும்மூர்த்திகளும் தேவர்களான வரும் மகிழ்ந்தனர்.

இவ்வாறு தேஜஸ்வரூபினியாக உருவான அந்தத் தெய்வப் பெண் மகிஷாசுரனுடன் கடுமையாகப் போர் தொடுத்து அந்த அசுரராஜனை வதம் செய்து அவளது சிரத்தை தன் காலடியில் கிடத்தி அதன் மீது மகிஷாசுர மரத்தினியாக நின்றாள் என மார்க்கண்டேய புராணத்தில் லலாவரணிக மன்வந்திரத்தில் எழுநூறு மந்திரங்களாக அமைந்த ஸ்ரீதேவி மகாத் மியம் வர்ணனை செய்கிறது.

முக்குணங்களின் வடிவமான ஆதி

சக்தி, மகாலட்சுமி, தாமஸ என்ற மஹாகாளி, ஸாத்வீக என்ற மஹாசர்ஸ்வதியாகவும் இருந்து சர்வ சண்டிகா, தர்க்கா பத்ரா, பகவதி என்ற திருநாமங்கள் ஏந்தி நவராத் திரியின் ஒன்பது தினங்களிலும் பூஜிக்கப்படுகிறாள்.

தர்க்கை தன் பதினெட்டு கைகளிலும் சங்கு, சக்கரம், திரிகுலம், பாசம், அங்குசம், அட்சமாலை, தாமரைப்பூ, வில், அம்பு, கத்தி, கோடயம், வஜ்ரம், கதை, கோடரி, தண்டம், மணி, பாண பாத்திரம், கமண்டலம் ஆகியவற்றை ஏந்தி நின்று காட்சி தருகிறாள்.

இத்தகு தத்துவார்த்த வடிவ இலட்சணங்களைக் கொண்ட தர்க்கைக்கு இப்பொழுது உலகமெங்கும் பல கோயில்கள் எழுந்துள்ளன. கலியுகத்தில் வழிபாட்டுக்குரிய கண்கண்ட தெய்வமாக விளங்குவளும் தர்க்கையே.

இவளே! தெல்லிப்பழையிலுள்ள உழுமுடைப் பதியில் திருக்கோயில் கொண்டு அருள பாலிக்கின்றாள். இந்த ஆலயம் கதிர்காமர் என்னும் சைவப் பெரியாரால் 1760 ஆம் ஆண்டு இந்தியாவில் இருந்து எடுத்துவரப்பட்ட தர்க்காதேவி இயந்திரம் ஒன்றையும், வெண்கலத்தினால் அமைந்த திருமுகக்கெண்டி ஒன்றையும் இலுப்பை மரத்தடியில் வைத்து வழிபட்டதாகக் கூறப்படுகிறது. கதிர்கா

**அன்னை கடைக்கண்கள் அகிலத்தைக் காக்கும்**  
நவீன வடிவமைப்புக்களில் சிறப்பான நகரகளை செயல்படுத்தும் கொள்ள நாடவேண்டிய லட்சியம்.  
**ஸ்ரீ கரம் நகரகரணிகை**  
கே.கே.எஸ் வீதி, சன்னாகம்

**எல்லாம் வல்லவளே எம் துயர் போக்கும் தாயே**  
**றுஸ்றி புத்தக ரூங்கா**  
மாணவர் மனங்கவர்த்த புத்தகசாலை  
205, தே.கே.எஸ் வீதி, சன்னாகம்

**தர்க்கையின் அருள் அனைவருக்கும் கிடைப்பதாக!**  
திருமதி பாக்கியலட்சுமி - நடராஜா  
**பூபாலகிருஷ்ண ஆச்சிரமம்**  
224 கே.கே.எஸ் வீதி, சன்னாகம்.

**தேவியைப் போற்றுவோம் தேறுதலடைவோம்**  
**சன்யோ சோபி & சூல்பார்**  
(குளிர்மானம் பிரியர்களின் சொர்க்கம்)  
**தரமான சிற்றுண்டிகள் குளிர்மானங்களுக்கு எம்மை நாடுங்கள்.**  
இல 18 பஸ் நிலையம் முன்பாக, சன்னாகம்.

**தேறும் தேவியே சரணம் தாயே!**  
**ஸ்ரீ கரன் பக்ஷிசர்வர்**  
புத்தக வியாபாரத்தில் புக்கி பெற்றவர்கள்.  
ஸ்ரீசன் றோட, சன்னாகம்.

அருள் பொழியும் அம்பாள் தேரில் பவனி சிறப்பு வேண்டுகிறோம்.  
**மாதாநீக் கோயில் & கூல்பார்**  
சிதி சிறந்த சிற்றுண்டிகளுக்கும் குளிர்மானங்களுக்கும் நாடவேண்டிய இடம்.  
பஸ் நிலையம் முன்பாக, சன்னாகம்

**எங்கும் பங்களும் பெரிக்க வழி காட்டுமேல்**  
**லாண் விளாஸ்**  
(சிற்றுண்டிப் பிரியர்களின் சொர்க்கம்)  
தலைசிறந்த சைவ உணவகம்.  
இல 65, கே.கே.எஸ் வீதி, சன்னாகம்.

**தர்க்கையைத் துன்புறர்க்குத் துன்பமேயல்லை.**  
**மங்கை 205**  
மாங்கையர் மனங்கவர்த்த ஜவுளி மாளிகை.  
இல 8, நவீன சந்தை, சன்னாகம்

**தமிழர் துயர் போக்கும் தாயவளே போற்றி!**  
**சுந்தர் பெய்கர் ஹவுஸ்**  
வர்ணமிகு தீர்த்தைகள் ஜால மாளிகை.  
63, கே.கே.எஸ் வீதி, சன்னாகம்.

**அண்ணா தொழிலகம்**  
ஹவுஸ்

தேறும் தேவியவன் திருப்பாதம் போற்றுவோம்.  
**லக்சி - கர்பி**  
கரமான சிற்றுண்டி வகைகளுக்கும் எம்மை நாடுங்கள்.  
கே.கே.எஸ் வீதி, மல்லாகம்.

சக்தியைப் போற்றுவோர் சகல பிணியுமகலும்.  
**யாழ். பெயிஸ் காடிள்**  
வர்ணக்த பெயின் வகைகளுக்கும்.  
இல 32 Dr. சுப்ரமணியம் வீதி, சன்னாகம்

தேரிலே வறும் எம் துயர் போக்கும் தாயே நவீன நகைகளுக்கும் பக்கையாளர்கள்  
**யாழ். பெயிஸ் டுகைப் பூங்கா**  
பஸ்நிலையம் முன்பாக, சன்னாகம்.

**தெல்லிப்பனை பலநோக்கு கூட்டுறவுச் சங்கம்**  
தெல்லிப்பனை.

# நடிகர் விஜயகாந்தின் அரசியல்கட்சி இன்று மதுரையில் அறிவிக்கப்படும்!



யோர் முன்னிலை வகிக்கின்றனர். மாநில அமைப்புச் செயலர் முத்து வரவேற்கிறார்.

காலை 10 மணிக்கு விஜயகாந்த் புதிய அரசியல் கட்சியைத் தொடங்கிக் கட்சியின் பெயரை அறிவிப்பார். மாநில அமைப்புச் செயலர்கள் வாழ்த்துரையையும், மாலை சிறப்புப் பேச்சாளர்கள் உரையும் இடம்பெறும். மாநில

பொதுச்செயலர் ராமு வசந்தன் ஏற்புரை ஆற்றுகிறார். பின்னர் விஜயகாந்த் புதிய கட்சியின் கொள்கை, கோட்பாடுகளை விளக்குவார். மாநில பொருளாளர் விஜய் ஈஸ்வரன் நன்றியுரை நிகழ்த்துவார்.

மாநாட்டிற்காக விஜயகாந்த் மன்றத்தினர் பிரமாண்டமான ஏற்பாடுகளை செய்துள்ளனர். திருநகர் அருகே 70 ஏக்கர் பரப்பில் பந்தல் அமைக்கப்பட்டு இருக்கை மற்றும் விளக்கு வசதிகள் செய்யப்பட்டுள்ளன. மேடையில் பெரியார், காமராஜர், அண்ணாத்துரை, எம்.ஜி.ஆர் ஆகியோரின் படங்களுடன் விஜயகாந்தின் படமும் வைக்கப்பட்டுள்ளது. மேடையில் புரட்சிக் கலைஞர் விஜயகாந்தின் முதல் அரசியல் மாநில மாநாடு என்ற வாச

கங்கள் இடம்பெற்றுள்ளன. மாநாடு அரங்கையடுத்து கோட்டை வடிவிலான பந்தலும், அதையடுத்து கலை நுணுக்கங்களுடன் கூடிய எம்.ஜி.ஆர் நுழைவு வாயிலும் அமைந்துள்ளன.

மாநாட்டிற்காக விஜயகாந்த் மன்றத்தினர் பிரமாண்டமான ஏற்பாடுகளை செய்துள்ளனர். திருநகர் அருகே 70 ஏக்கர் பரப்பில் பந்தல் அமைக்கப்பட்டு இருக்கை மற்றும் விளக்கு வசதிகள் செய்யப்பட்டுள்ளன. மேடையில் பெரியார், காமராஜர், அண்ணாத்துரை, எம்.ஜி.ஆர் ஆகியோரின் படங்களுடன் விஜயகாந்தின் படமும் வைக்கப்பட்டுள்ளது. மேடையில் புரட்சிக் கலைஞர் விஜயகாந்தின் முதல் அரசியல் மாநில மாநாடு என்ற வாச

## மூளை செயலிழந்த இளம்பெண் பெற்றெடுத்த குழந்தை மரணம்!



நியூயோர்க்

அமெரிக்காவில் மூளை இறந்த பெண் பெற்றெடுத்த குழந்தையும் இறந்துவிட்டதாக குடும்பத்தினர் தெரிவித்துள்ளனர்.

சுசான் ஆன் கதர்னா ரொறான் என்ற குழந்தையை மூளை இறந்த நிலையிலிருந்து தாயாரான சுசான் ரொறான் 13 வாரங்களுக்கு முன் பெற்றெடுத்தார். இந்தக் குழந்தை சுசான் ரொறானின் வயிற்றிலிருக்கும்போது அவரது மூளை இறந்துவிட்டது. இதனை அறியாத இறந்தக் குழந்தைக்காக தாயாருக்கு செயற்கை முறையில் இயக்கம் அளிக்கப்பட்டது. பின்னர் குழந்தை பிறந்தவுடன் செயற்கை இயக்கம் வைத்தியர்களால் அகற்றப்

பட்டதால் தாயார் இறந்தபோதிலும் குழந்தை நலமாக இருப்பதாக அறிவிக்கப்பட்டது.

தற்போது குழந்தை சுசான் கதர்னா வயிற்றில் ஏற்பட்ட கோளாறினால் பாதிக்கப்பட்டு கிருமிக் தொற்று உடல் முழுவதும் பரவியிருந்ததாக வைத்தியர்கள் தெரிவித்தனர்.

எனினும் வைத்தியர்கள் தீவிர சிகிச்சையளித்த போதிலும் குழந்தையை காப்பாற்ற முடியாமல் போய் விட்டதாகத் தெரிவிக்கப்படுகிறது.

இதேவேளை, தாயாருக்கும் மகளுக்கும் மருத்துவச் செலவை ஈடு செய்யும் வகையில் உதவுமாறு சர்வதேச ரீதியில் விடுக்கப்பட்ட வேண்டுகோளுக்கு கடந்த மாதம் வரை 6 லட்சம் அமெரிக்க டொலர் சேர்ந்துள்ளதாக ஏபி செய்தி நிறுவனம் தெரிவித்தது.




## நியூ ஓர்லியன்ஸ் மாகாணத்தின் வைத்தியசாலை ஒன்றிலிருந்து 45 சடலங்கள் மீட்கப்பட்டன!

அமெரிக்க கதர்னா சூறாவளியால் மிக மோசமாகப் பாதிக்கப்பட்ட நியூ ஓர்லியன்ஸ் மாகாணத்திலுள்ள வைத்தியசாலையிலிருந்து நோயாளிகளில் 45 பேரின் சடலங்கள் மீட்கப்பட்டுள்ளதாக தகவல்கள் தெரிவிக்கின்றன.

இந்த நோயாளிகள் எவ்வாறு உயிரிழந்தனர் என்பது தெரியவரவில்லை. சூறாவளிக்குப் பின்னர் ஏற்பட்ட கடுமையான வெப்பம் காரணமாக இந்த நோயாளிகள் உயிரிழந்திருக்கலாமென வைத்தியசாலை அதிகாரி ஒருவர் தெரிவித்தார்.

இதனால் இந்த நோயாளிகளில் சிலர் சூறாவளி ஏற்படுவதற்கு முன்னர் உயிரிழந்தனர் என வைத்தியசாலையின் மற்றொரு அதிகாரி தெரிவித்தார். இந்த வைத்தியசாலையில் இருந்த நோயாளிகள் எவரும் உணவு, நீர் மற்றும் மின்சார வசதிகளின்றி உயிரிழக்கவில்லையென வைத்தியசாலையின் அதிகாரியான ஸ்டீபன் கம்பானி தெரிவித்தார்.

இதேவேளை, அமெரிக்க அவசரகாலப் பணியின் இயக்குனர் மைக்கல் பிறவுன் அந்தப் பதவியிலிருந்து விலகியுள்ளார். சூறாவளியால் பாதிக்கப்பட்ட மக்களுக்கான உதவிகளை இவர் சரியாக மேற்கொள்ளாத



நிலையிலேயே அவர் அமெரிக்க கடலோர காவற்படை அதிகாரியான வைஸ் அட்மிரல் தாட் அலனால் அந்தப் பதவியிலிருந்து நீக்கப்பட்டார்.

நியூ ஓர்லியன்ஸ் மாகாணத்தின் யாராவது உயிரிழந்துள்ளாரா என விட்டிற்கு விடு தேடுதல் நடத்தப்பட்டு வருகிறது. இதுவரை உறுதிப்படுத்தப்பட்ட தகவல்களின்படி கதர்னாவால் 500 இற்கு மேற்பட்டவர்களே உயிரிழந்துள்ளதாகவும் ஆயிரக் கணக்கானவர்கள் உயிரிழந்திருக்கலாமென அஞ்சப்படும் நிலையில் இந்த எண்ணிக்கை குறைவடைந்துள்ளதாகவும் அதிகாரிகள் தெரிவித்தனர்.

கதர்னா சூறாவளியால் பாதிக்கப்பட்ட நியூஓர்லியன்ஸின் மத்திய பகுதிக்கு அமெரிக்க ஜனாதிபதி ஜோர்ஜ் புஷ் நேற்று முன்தினம் விஜயம் செய்து அழிவுகளைப் பார்வையிட்டார்.

## ஈராக்கில் 200 கிளர்ச்சிவாதிகள் பலி!

பாக்தாத் ஈராக்கின் மறுசீரமைப்புப் பணிகளில் ஈடுபட்டு வரும் வெளிநாட்டவர்களுக்கு எதிராக சதாம் ஆதரவு தீவிரவாதிகளின் தாக்குதல்களில் தினந்தோறும் ஏராளமானவர்கள் கொல்லப்படுகிறார்கள்.

இந்தத் தீவிரவாதிகளுக்கு எதிராக கடந்த சில நாட்களாக அமெரிக்க ராணுவமும், ஈராக் பொலிஸாரும் அதிரடித் தாக்குதல் நடத்தி வருகிறார்கள். இதில் 200 இற்கும் மேற்பட்ட தீவிரவாதிகள் கொல்லப்பட்டதுடன், முகாம்களும் அழிக்கப்பட்டன. இது குறித்து தீவிரவாதிகளின் தலைவர் அபு முசாப் அல் சர்காவி கூறும் போது - அமெரிக்கப் படையினர் விஷவாயு செலுத்தியும், விஷவாயு குண்டுகளை வீசியும் எங்கள் இயக்கத்தினரை கொல்கிறார்கள். இந்த தாக்குதலில் அப்பாவி பொதுமக்களும் பலியாகி வருகின்றனர். அமெரிக்க படையினருக்கு எதிரான எங்கள் தாக்குதல் நீடிக்கும் எனத் தெரிவித்தார்.

## சமாதான வாரம் 15.09.2005 - 21.09.2005

“வன்முறையற்ற வழிகளில் சமாதானத்தையும், நல்லிணக்கத்தையும் நோக்கி”

ஐ.நா ஸ்தாபனம் புரட்டாதி மாதம் 21ம் திகதியை சர்வதேச சமாதான தினமாகப் பிரகடனப்படுத்தியுள்ளது. இதையொட்டி யாழ்ப்பாணத்திலுள்ள சமாதானத்திற்கும் நல்லிணக்கத்திற்குமான நிறுவனம் ஒரு வார காலத்தை சமாதான வாரமாக அனுஷ்டிக்க தீர்மானித்துள்ளது. இதற்காக பின்வரும் நான்கு நிகழ்வுகளில் பங்குகொள்ள உங்களை அழைத்து நிற்கின்றது.

**சமாதான வாரப் போட்டிகள்**  
கவிதை, கட்டுரை, சுவரொட்டிகள். கடந்த 5ம் திகதிய உதயன் பத்திரிகையை பார்க்கவும்  
**முடிவுத் திகதி 15-9-2005 பரிசளிப்பு 21-9-2005**

### சமாதான வாரக் கருத்துரைகள்

தலைப்புகள்	கருத்துரை வழங்குபவர்	நேரம்	கிடம்
மனித உரிமைகளும் கலாசாரத் தொடர்புகளும்: எவ்வாறு பெண்களின் வாழ்வில் சீதனமுறைமை தாக்கம் செலுத்துகின்றது?	திரு.மரியசெல்வம் சட்ட உதவி யாளர் - நோர்வே அகதிகள் உளவளத் துணையகம்	15.09.2005 பி.ப 3.00 -5.00	தொடர்பகம், 657/1, வைத்தியசாலை வீதி, யாழ்ப்பாணம்
சமாதானத்திற்கு அடிப்படையான தொடர்பாடல் திறன்களை விருத்த செய்தல்	பேராசிரியர் என்.சண்முகலிங்கன் தலைவர் சமூகவியல் துறை யாழ் பல்கலைக்கழகம்	16.09.2005 பி.ப 3.00 - 5.00	தொடர்பகம், 657/1, வைத்தியசாலை வீதி, யாழ்ப்பாணம்
மக்களின் மகிழ்ச்சிகரமான சமாதான வாழ்வுக்கு அடிப்படை மனித உரிமைகளின் பங்களிப்பு	திரு G.M.செபஸ்டியாம் பிள்ளை ஓய்வு பெற்ற யாழ்-கிழக்கு - தென்கிழக்கு பல்கலைக்கழக விரிவுரையாளர். சமூகவியலாளர்	17.09.2005 பி.ப 2.00 - 4.00	தொடர்பகம், 6571, வைத்தியசாலை வீதி, யாழ்ப்பாணம்
எமது பொருளாதார அரசியல் மாற்றத்திற்கும் முன்னேற்றத்துக்கும் தொடக்கமாக இருப்பது இலங்கை அரசாங்கத்திற்கும் தமிழ் விடுதலைப்புலிகளுக்கும் இடையிலான எதிர்கால பேச்சுவார்த்தை ஆகும்.	திரு G.M.செபஸ்டியாம் பிள்ளை ஓய்வுபெற்ற யாழ்-கிழக்கு - தென்கிழக்கு பல்கலைக்கழக விரிவுரையாளர். சமூகவியலாளர்	18.09.2005 பி.ப 2.00-4.00	தொடர்பகம்,657/1, வைத்தியசாலை வீதி, யாழ்ப்பாணம்
நல்லிணக்கப்பாடுள்ள சமுதாயத்துக்கு வழிவகுக்கும் நிபந்தனைகள் அல்லது படிமுறைகள் எவை?	திரு. A. E. நிச்சேட் சமூகவியலும் சமூக ஆய்வு முறையியலும் விரிவுரையாளர் யாழ்.பல்கலைக்கழகம்.	19.09.2005 பி.ப 3.00 - 5.00	தொடர்பகம், 657/1, வைத்தியசாலை வீதி, யாழ்ப்பாணம்
சமாதான உருவாக்கத்திற்கான கருவியாக பங்குகொள்ளல் செயற்பாட்டு ஆய்வு	திரு. A. E. நிச்சேட் சமூகவியலும் சமூக ஆய்வு முறையியலும் விரிவுரையாளர் யாழ். பல்கலைக்கழகம்	20.09.2005 பி.ப 3.00 - 5.00	தொடர்பகம், 6571, வைத்தியசாலை வீதி, யாழ்ப்பாணம்

### பாடசாலைகளில் கொடிகளைப் பகிர்ந்தளித்தல்

யாழ்.குடாநாட்டிலுள்ள பாடசாலைகளுக்கு 150000 கொடிகளை பகிர்ந்தளித்தல் சமாதானத்திற்கான ஆர்வத்தை வலியுறுத்தும் வகையில் சகல மாணவர்களும் சர்வதேச சமாதான தினமான புரட்டாதி மாதம் 21ம் திகதியில் இக் கொடியை அணியுமாறு கேட்டுக்கொள்ளப்படுகின்றார்கள். மேலதிக விபரங்களுக்கு:- சமாதானத்திற்கும் நல்லிணக்கத்திற்குமான நிறுவனம், இல 08, குருசோ வீதி, கண்டிக்குளி, யாழ்ப்பாணம். தொலைபேசி இல - 021 222 8131 (2055)

## சமாதான வாரம் 15.09.2005 - 21.09.2005

“வன்முறையற்ற வழிகளில் சமாதானத்தையும், நல்லிணக்கத்தையும் நோக்கி”

ஐ.நா ஸ்தாபனம் புரட்டாதி மாதம் 21ம் திகதியை சர்வதேச சமாதான தினமாகப் பிரகடனப்படுத்தியுள்ளது. இதையொட்டி யாழ்ப்பாணத்திலுள்ள சமாதானத்திற்கும் நல்லிணக்கத்திற்குமான நிறுவனம் ஒருவார காலத்தை சமாதான வாரமாக அனுஷ்டிக்க தீர்மானித்துள்ளது. இதற்காக பின்வரும் நான்கு நிகழ்வுகளில் பங்குகொள்ள உங்களை அழைத்து நிற்கின்றது.

### சமாதானப் பயிற்சிநெறி

- வன்முறையற்ற தொடர்பாடல் அறிமுகம் - புரட்டாதி 16ம் திகதியில் நடைபெறவுள்ள தனிநபர் வாழ்வில் மாற்றம் ஏற்படுத்தக்கூடியதான புதிய தொடர்பாடலின் தன்மையைப் பயிற்றுவிக்கும் ஒரு நாள் பயிற்சி நெறி பங்குபற்றினார்கள் - பதினான்கு
- பிணக்குகளை தீர்ப்பது எப்படி? - புரட்டாதி 18ம் திகதி சனிக்கிழமை “Greenfield” விளையாட்டு மைதானத்தில் நடைபெறவுள்ள சிறுவர்களுக்கான இரு மணித்தியால விளையாட்டுப்பயிற்சிகள். 6-10 வயதுக்குட்பட்ட சிறுவர்களை பி.ப 3.00 மணிக்கு ஒன்றுசூடும்படி அழைக்கின்றோம்.
- முரண்பாடுகளை விளங்கிக்கொள்ளல் - புரட்டாதி 19ம் - 20ம் திகதிகளில் நடைபெறவுள்ள சமாதான முன்னெடுப்பிற்கான அடிப்படைப் பயிற்சி இரு தினங்களில் புதிய அனுபவம் - வயது, சமயம், ஆண் பெண் வேறுபாடின்றி சமாதானம் என்றால் என்ன என்பதை அறியும் ஆவல் கொண்ட பதினைந்து பேர் கலந்து கொள்ளலாம். பணம் அறவிடப்படமாட்டாது. உணவு வழங்கப்படும்.
- தலைமைத்துவ பங்கேற்பு- முதல் மாதிரி-அனுசரணையாளருக்குரிய கலை தலைமைத்துவத்தில் மகிழ்ந்திருத்தல்- ஆசிரியர்கள், முகாமையாளர்கள், அரசு சார்பற்ற நிறுவனங்களின் தலைவர்களுக்கான பயிற்சி நெறி, பாரம்பரியமாக தொடர்ந்து வரும் உயர்நட்புச் சத்தியை நோக்கில் கொண்டு மனிதருக்குள் இருக்கும் திறன்களை வெளிக்கொணரும் புதிய வழிகளைக் காணல்.

மேற்கூறப்பட்ட நான்கு பயிற்சிகளும் பங்குபற்ற விரும்பும் விண்ணப்பதாரர்கள் நிர்வாகக் குழுவுடன் விண்ணப்பிப்பதில் மேலதிகமாக இப்பயிற்சி தொடர்பான தகவலைப் பெறவிரும்புவர்கள் கீழ்க்கூறப்பட்ட முகவரியுடன் தொடர்புகொள்ளுமாறும்.

நிர்வாகி, சமாதானத்திற்கும் நல்லிணக்கத்திற்குமான நிறுவனம், இல 08 குருசோ வீதி, கண்டிக்குளி, யாழ்ப்பாணம். தொலைபேசி இல. 021 222 8131

திருமறைக்கலாமன்றத்தில் நடைபெறவுள்ள சமாதான தின நிகழ்வுகள் நாம் சமாதான தினத்தை சர்வதேச சமாதான தினமான புரட்டாதி மாதம் 21ம் திகதியன்று பி.ப 6.30 மணியளவில் கலாசார நிகழ்வுகளுடன் கொண்டாடவுள்ளோம். இந்நிகழ்வில் கூத்து, நாடகங்கள், நடனம், இசைநிகழ்வுகளும் நடைபெறவுள்ளன.

**மேலதிக விபரங்களுக்கு:-**  
சமாதானத்திற்கும் நல்லிணக்கத்திற்குமான நிறுவனம், இல 08, குருசோ வீதி, கண்டிக்குளி, யாழ்ப்பாணம். தொலைபேசி இல-021 222 8131 (2055)







**மீசாலையில் சீவலிங்க அமைப்பில்  
ஸ்ரீ காயத்ரி அம்மன் ஆலய  
மஹா சும்பாபிஷேக விஞ்ஞாபனம்**

பேரன்புடையீர்!  
மீசாலை மேற்கில் அமைந்துள்ள அன்னை ஆதிபராசக்தி பஞ்ச பூதங்களான ஸரஸ்வதி, சாவித்ரி, காயத்ரி முன்று அம்சங்களாக இருக்கின்ற பஞ்ச லோகங்களான ஸ்ரீ காயத்ரி அம்மன், மஹா மேரு, பஞ்ச விநாயகர், வள்ளி, தெய்வானை சமேத ஸ்ரீ ஆறுமுகப்பெருமான், கிராஜர்ஷி விஸ்வாமீத்திரர் ஸ்வாமி, கால பைரவர், அன்னை கமலாம்பாள் ஆகிய முர்த்திகளுக்கு ஆவணி மாதம் 30ஆம் நாள் (15.09.2005) தினத்தன்று திருவோண நகன்திரத்தில் காலை 09.15 மணிமுதல் 10 மணிக்குள் அமைந்த சுபமுர்த்தவேளையில் மஹா சும்பாவிஷேகம் வேத ஆகம முறைப்படி ஸ்ரீ காயத்ரி காமகோடி பீடாதிபதி ஸ்தாபகர் ஸ்வாமி ஸ்ரீராஜகுமார் அவர்கள் தலைமையில் நடைபெற திருவருள் கைகூடியுள்ளது. ஸ்ரீ வித்யாம்பா சரஸ்வதி (ஸ்ரீமாதாஜி) ஸ்ரீ ராஜராஜேஸ்வரி ஆச்சிரமம், நாமக்கல் மாவட்டம் வேலூர் ஸ்ரீ வித்யாம்பா சரஸ்வதி (ஸ்ரீ மாதாஜி), ஸ்ரீ நிர்மலாம்பா சரஸ்வதி (ஸ்ரீ மாதாஜி) மற்றும் சந்நயாசிகளும் மகச் சிறப்பாக வேத பாராயணம், திருமுறைப்பாராயணம், மஹா யாகமும், பூர்ணா ஸூதியும் நடைபெறவுள்ளது. பக்த கோடிகள், பொது மக்கள் அனைவரும் கலந்து கொண்டு இவ்வழிவனைச் சிறப்பித்து ஸ்ரீ ஜகன் மாதாவாகிய அன்னை ஸ்ரீ காயத்ரி தேவியின் அருளினையப் பெற்று ஏகுமாறு அழைக்கிறோம்.

<b>ஸ்ரீ வித்யாம்பா சரஸ்வதி</b> ஸ்ரீ லலிதா மஹாலா சமாஜத் தலைவர், திருசங்கோய் மலை, முசீர், திருச்சி. ஸ்ரீ காயத்ரி காமகோடி பீடத்தின் பீடாதிபதியும், நிர்வாகசபையும.	<b>ஆசியுரை வழங்குபவர்கள்</b> <b>ஸ்ரீ நிர்மலாம்பா சரஸ்வதி</b> ஸ்ரீ லலிதா மஹாலா சமாஜச் செயலாளர், திருசங்கோய் மலை, முசீர், திருச்சி. அனைவரும் வருக! அன்னை அருள் பெறுக...	<b>வேதாகம சிரோன்மணி சீவஸ்ரீ</b> <b>சுவாமி சிறீஸ்கந்தராஜக் குருக்கள்</b> அகில கிலங்கை சமாதான ந்தவான் டச்சு விதி, மீசாலை மேற்கு, சாவகச்சேரி.
--	---	---

(4580)



**இன்று யாழ்.நகரில் மிகப் பிரமாண்டமான காட்சியறை  
கிறந்து வைக்கப்படுகின்றது**

**மங்களா காட்சியறை**

அன்பர்கள், நண்பர்கள், ஆதரவாளர்கள் அனைவரையும்  
ஓம் மங்களா நிகழ்வில் கலந்துகொள்ளுமாறு அன்புடன்  
கேட்டுக் கொள்கிறோம்.