

நமது

அ.மு.நா.டு

தமிழர் தாயகத்தின் முன்னோடி நாளிதழ்

கீழைய நூல்கள்! நூலைய நூல்கள்!

சுவாமிநாதருக்கும் ராஜ்யான லட்சுமிநாதர்

மகாராஜி
சிலக்கம்

ரோஜி
சிலக்கம்



10 நாள் சந்தை உட்பட
வாழ்ப்பாணம்.

05. சுவாமிநாதர்
வாழ்ப்பாணம்.

TEP-0777 286247

மலர்: 03 திருவள்ளூர் ஆண்டு: 2036 மாசி - 25 ஆம் நாள் ஹிஜ்ரி 1428 முஹர்ரம் 27 (09.03.2005) புதன் கிழமை இதழ்: 160

சொல்ஹெய்யம் இன்று லண்டன் பயணம்!

(ஒஸ்லோ)

நோர்வே வெளிவிவகார அமைச்சின் விசேட ஆலோசகர் எளிக் சொல்ஹெய்யம் இன்று லண்டனுக்குச் சென்று தமிழீழ விடுதலைப் புலிகளின் அரசியல் ஆலோசகர் கலரநிதி-அன் ரன் பாலசிங்கத்தைச் சந்தித்து பேச்சு நடத்தவிருப்பதாகத் தெரியவருகிறது.

நோர்வே அரசாங்க வட்டாரங்கள் இந்தத் தகவலை வெளியிட முன்வருகின்றன. விடுதலைப் புலிகளுக்கும் இலங்கை அரசாங்கத்துக்கும் இடையிலான சமாதானப் பேச்சுக்களை மீள ஆரம்பிப்பது குறித்து பேச்சு (12 ஆம் பக்கம் பார்க்க)

புலிகள் ஊடாக நிதியுதவி; ஐ.தே.கட்சி வரவேற்கிறது!

(கொழும்பு)

சனாமி அனர்த்தத்தினால் பாதிக்கப்பட்ட வடக்கு - கிழக்குப் பகுதி மக்களுக்கான நிவாரண நடவடிக்கைகள் விடயத்தில் அரசாங்கம் நிதியான முறையைக் கொண்டிருக்கவில்லை. திட்டமிட்டு இந்தப் பிரதேசங்கள் புறக்கணிக்கப்பட்டன.

எனவே, விடுதலைப் புலிகளிடம் நேரடியாக நிதியுதவி வழங்குவதே நியாயமானது என்று ஐக்கிய தேசியக் கட்சி நாடாளுமன்ற உறுப்பினர் ராஜித சேனாரத்ன தெரிவித்தார். புலிகளின் கட்டுப்பாட்டுப் பகுதி (12 ஆம் பக்கம் பார்க்க)

மட்டக்களப்பு பகுதியில் பாதுகாப்பு அதிகரிப்பு!

(கொழும்பு)

மட்டக்களப்பு மாவட்டத்தில் அதிகரித்துள்ள துப்பாக்கிச் சூட்டுச் சம்பவங்களை அடுத்து நகரப்பகுதி மற்றும் பல பிரதேசங்களில் பாதுகாப்பு அதிகரிக்கப்பட்டுள்ளதாக கிழக்குப் பிராந்திய பிரதிப் பொலிஸ் மா அதிபர் நெவில் விஜேசிங்க தெரிவித்தார்.

பொலிஸாரும் விசேட அதிரடிப்படையினரும் மாவட்டத்தின் பல பிரதேசங்களில் நிலைநிறுத்தப்பட்டுள்ளனர். நகரின் கேந்திர முக்கியத்துவம் வாய்ந்த இடங்களில் பொலிஸார் விசேட சோதனைச்சாவடி (12 ஆம் பக்கம் பார்க்க)

விரைவில் நாடாளுமன்றத்துக்குத் தேர்தல் கொழும்பு அரசியல் ஆய்வாளர்கள் கணிப்பு!

(கொழும்பு)

ஐக்கிய மக்கள் சுதந்திர முன்னணி அரசாங்கம் அமைக்கப்பட்டு ஒரு வருடம் நிறைவடையும் நேரத்தில் நாடாளுமன்றம் கலைக்கப்பட்டு மற்றொரு தேர்தல் நடத்தப்படுவதற்கான வாய்ப்புகள் அதிகரித்துள்ளதாக அரசியல் ஆய்வாளர்கள் கருத்து வெளியிட்டுள்ளனர்.

ஐக்கிய மக்கள் சுதந்திர முன்னணி கூட்டணியில் பிரதான பங்கு வகிக்கும் ஜே.வி.பியுடன் தொடர்ந்தும் இணக்கப்பாட்டுடன் அரசாங்க

கத்தை நடத்திச் செல்ல முடியாதென ஜனாதிபதி சந்திரிகா குமாரதுங்க கருதுவதே இதற்குக் காரணமெனத் தெரிவிக்கப்படுகிறது.

இதேவேளை - அடுத்த தேர்தல் விரைவில் நடைபெறுமென முஸ்லிம் காங்கிரஸ் தலைவர் ரவூப் ஹக்கீமும் கூறியிருந்தார். ஐக்கிய மக்கள் சுதந்திர முன்னணிக்குள் நிகழும் உள்ளகப் பிரச்சினையால் அரசாங்கம் நீண்டநாட்களுக்கு நிலைத்திருக்காது.

அண்மைய சம்பவங்களும் இதனையே எடுத்து

துக்காட்டுகின்றன. எனவே, ஜனாதிபதி சந்திரிகாவும் பிறிதொரு தேர்தலுக்குத் செல்வதையே விரும்புகின்றார். இவ்வாறு அவர் தேர்தலை நடத்துவாராக இருந்தால் அது ஜனநாயகத்திற்குள் நடத்தப்படும் நான்காவது தேர்தலாக இருக்குமெனவும் அந்த வட்டாரங்கள் மேலும் தெரிவித்துள்ளன. ஐக்கிய மக்கள் சுதந்திர முன்னணி தலைமையிலான அரசாங்கம் அமைக்கப்பட்டு அடுத்த மாதம் 2 ஆம் திகதி ஒரு வருடம் பூர்த்தியாவது குறிப்பிடத்தக்கது.

கதிர்காமர் - ஜே.வி.பி. கூட்டணியே
போர்நிறுத்தத்துக்கு அச்சுறுத்தல்!
குற்றம் சாட்டுகிறது ஐக்கிய தேசியக் கட்சி

(கொழும்பு)

தான் பிரதமராக வேண்டும் என்பதற்காகவே லக்ஷ்மன் கதிர்காமர் - ஜே.வி.பியுடன் இணைந்து செயற்படுவதாக ஐக்கிய தேசியக் கட்சி குற்றம் சாட்டியுள்ளது.

நேற்று கொழும்பில் நடைபெற்ற செய்தி

போர்நிறுத்த உடன்படிக்கையை உறுதியாகக் கடைப்பிடிப்பதாக சமாதான செயலகப் பணிப்பாளர் ஜயந்த தனபால தெரிவிக்கும் அதேநேரம் - அதற்கெதிரான செயற்பாடுகளை லக்ஷ்மன் கதிர்காமரும் ஜே.வி.பியினரும் எடுத்து வந்திருக்கின்றனர்.

படுகொலைகளைத் தடுக்க
ஆயுததாரிகளிடம் ஆயுதங்கள்
முதலில் களையப்பட வேண்டும்!
மட்டு - அம்பாறை சிறப்புத்தளபத் கேணல் பாணு

(லண்டன்)

இது குறித்து மட்டு - அம்பாறை மாவட்ட மட்டக்களப்பில் இடம்பெறும் படுகொலை சிறப்புத் தளபதி கேணல் பாணு பி.பி.சியின்

கதிர்காமர் - ஜே.வி.பி. கூட்டணியே போர்நிறுத்தத்துக்கு அச்சுறுத்தல்!

குற்றம் சாட்டுகிறது ஐக்கிய தேசியக் கட்சி

(கொழும்பு)

தான் பிரதமராகவேண்டும் என்பதற்காகவே லக்ஷ்மன் கதிர்காமர் - ஜே.வி.பியுடன் இணைந்து செயற்படுவதாக ஐக்கிய தேசியக் கட்சி குற்றம் சாட்டியுள்ளது.

நேற்று கொழும்பில் நடைபெற்ற செய்தியாளர் மாநாட்டிலேயே ஐ.தே.க. நாடாளுமன்ற உறுப்பினர் பந்துல குணவர்த்தன இவ்வாறு குற்றம் சாட்டினார்.

அவர் அங்கு மேலும் தெரிவிக்கையில் - லக்ஷ்மன் கதிர்காமரும் ஜே.வி.பியினரும் இணைந்து சமாதான முன்னெடுப்புக்களுக்கு பாதங்களை ஏற்படுத்தி வருகின்றனர்.

போர்நிறுத்த உடன்படிக்கையை உறுதியாகக் கடைப்பிடிப்பதாக சமாதான செயலகப் பணிப்பாளர் ஜயந்த தனபால தெரிவிக்கும் அதேநேரம் - அதற்கெதிரான செயற்பாடுகளை லக்ஷ்மன் கதிர்காமரும் ஜே.வி.பியினரும் எடுத்து வருகின்றனர்.

இது - சமாதான செயலகப் பணிப்பாளரும் வெளிவிவகார அமைச்சர் லக்ஷ்மன் கதிர்காமருக்கும் இடையிலான தனிப்பட்ட விரோதத்தின் வெளிப்பாடாகும்.

லக்ஷ்மன் கதிர்காமர் மற்றும் ஜே.வி.பியினரின் செயற்பாடுகளால் இன்று போர்நிறுத்த (12 ஆம் பக்கம் பார்க்க)

படுகொலைகளைத் தடுக்க - ஆயுததாரிகளிடம் ஆயுதங்கள் முதல் களையப்பட வேண்டும்!

மட்டு - அம்பாறை சிறப்புத்தளபதி கேணல் பானு

(லண்டன்)

மட்டக்களப்பில் இடம்பெறும் படுகொலைகள் இராணுவக் கட்டுப்பாட்டுப் பிரதேசத்திலேயே நடந்துவருகின்றன. இந்தப் படுகொலைகளைத் தடுத்து நிறுத்த வேண்டுமானால், இராணுவக் கட்டுப்பாட்டுப் பிரதேசத்திலுள்ள ஆயுததாரிகளின் ஆயுதங்கள் களையப்பட வேண்டும். அவர்கள் கைது செய்யப்பட வேண்டும் என்று மட்டக்களப்பு - அம்பாறை மாவட்ட சிறப்புத்தளபதி கேணல் பானு தெரிவித்தார்.

இது குறித்து மட்டு - அம்பாறை மாவட்ட சிறப்புத் தளபதி கேணல் பானு பி.பி.சியின் தமிழோசைக்கு வழங்கிய பேட்டியில் மேலும் கூறியிருப்பதாவது -

தற்போது மட்டக்களப்பு - அம்பாறை மாவட்டங்களில் பல்வேறு ஆயுதக் குழுக்கள் இருக்கின்றன. இராணுவக் கட்டுப்பாட்டுப் பகுதியில் பொதுமக்களிடம் கூட ஆயுதங்கள் இருப்பதை நாங்கள் அறியக்கூடியதாக இருக்கிறது. (12 ஆம் பக்கம் பார்க்க)

ஆயுதக்குழுவுடன் தொடர்புடைய இருவர் சுட்டுக்கொல்லப்பட்டனர்!

(மட்டக்களப்பு)

மட்டக்களப்பு நகரிலும், தளவாயிலும் நேற்றுமுன்தினம் இரவும் நேற்று அதிகாலையும் இரண்டு பேர் இனந்தொரியாதோரால் சுட்டுக்கொல்லப்பட்டனர்.

நேற்றுமுன்தினம் இரவு தளவாயில் வேலாயுதபிள்ளை இலங்கேஸ்வரன் (வயது 25) என்ற இளைஞர் இனந்தொரியாத நபர்களால் அவரது வீட்டிலிருந்து அழைத்துச் செல்லப்பட்டார்.

இவர் இராணுவத்தினருடன் இணைந்து இயங்கும் ஆயுதக்குழு வொன்றுடன் தொடர்புடையவர்

எனத் தெரியவருகிறது.

நேற்று அதிகாலை 5.30 மணியளவில் மட்டக்களப்பு பொலிஸ் நிலையத்திலிருந்து 50 மீற்றர் தொலைவில் கொக்கட்டிச்சோலையைச் சேர்ந்த அழகையா கிருபை ராஜா என்பவர் சுட்டுக்கொல்லப்பட்டார்.

இராணுவத்துக்கு தகவல் கொடுப்பவராகச் செயற்பட்டுவந்த இவர், அண்மையில் வெளிநாட்டிலிருந்து திரும்பி மீண்டும் நேற்று அதிகாலை கொழும்பு செல்வதற்காக பஸ் நிலையம் வந்தபோது இந்தச் சம்பவம் இடம்பெற்றது.

விண்வானம் விநாசியர்



தேர்த்தருஷ்யா மாதர் தேர்தல் தருஷ்யாவும் வரப்போகுதுபோல...!

கிழக்கில் தொடரும் படுகொலைகள் சமாதான முயற்சிகளுக்கு ஆபத்து!

கண்காணிப்புக்குழுத் தலைவர் எச்சரிக்கை

(கொழும்பு)

கிழக்கில் இடம்பெற்றுவரும் படுகொலைச் சம்பவங்கள் போர்நிறுத்த உடன்படிக்கைக்கும் மற்றும் சமாதான முயற்சிக்கும் அச்சுறுத்தலாக அமைந்துள்ளதாக இலங்கை போர்நிறுத்தக் கண்காணிப்புக்குழு எச்சரித்துள்ளது.

இது தொடர்பாக போர்நிறுத்தக் கண்காணிப்புக்குழுவின் தலைவர் ஹக்ரப் ஹொக்லன்ட் தெரிவித்துள்ளதாவது -

காட்டுமிராண்டித்தனமானது, ஈனிரக்கமற்றதுமான இந்தப் படு

கொலைகளை நாம் வன்மையாகக் கண்டிக்கிறோம். வன்செயல்கள் அதிகரித்துச் செல்வதானது இந்த நாட்டை நிச்சயமில்லாத நிலைக்கு கொண்டுவந்துள்ள சமாதான முயற்சிகளுக்கும் இடையூறுகளை ஏற்படுத்தும்.

எனவே - இது தொடர்பாக நாம் இலங்கை அரசாங்கத்தையும் விடுதலைப் புலிகளை கோருவது என்ன வெனில் இவ்வாறான செயல்களை செய்வதன்மூலம் போர்நிறுத்த உடன்படிக்கையை பாதிப்பதைய செய்ய (12 ஆம் பக்கம் பார்க்க)



இலங்கையில் முன்னணி வகிக்கும் உள்ளூர் விமான சேவை...

ஒதுக்கீடுகளுக்கு அழையுங்கள் 021-2223891, 2226297, 077-2349999, 011-2372952-3, 011-2360290, 011-2360291
email: jaffna@expoavi.com, reservations@expoavi.com.



விடுதலைப் போராட்டத்தின் நியாயப்பாட்டை சர்வதேசத்துக்கு உணர்த்தவேண்டும்!

ஒஸ்லோவில் புலிகளின் குரல் பொறுப்பாளர் தமிழன்பன்

தமிழீழ தேசிய விடுதலைப் போராட்டத்தின் நியாயப்பாட்டை பன் தெரிவித்தார். கடந்த மாதம் 7ஆம் திகதி



வெலிக் கந்த பகுதியில் படுகொலை செய்யப்பட்ட மட்டு அம்பாறை அரசியற் துறைப் பொறுப்பாளர் லெப்.கேணல் கௌசல்யன் உட்பட நான்கு போராடிகள், மாமனிதர் சந்திரநேரு அரியநாயகம் மற்றும் சனாமி அனர்த்தத்தால் உயிரிழந்த செந்தளிரர் இல்ல

உலகின் மனச்சாட்சிக்கு உணர்த்தும் பணியில் - தமிழ்த் தேசிய ஊடகங்கள் பலமடையவேண்டும். இந்த ஊடகங்களின் வளர்ச்சிக்கு மக்கள் உறுதுணையாக நிற்க வேண்டுமென, புலிகளின் குரல் வானொலிப் பொறுப்பாளர் தமிழன்பன்

சிறுவர்களின் நினைவாக கடந்த சனிக்கிழமை நோர்வேயில் நடைபெற்ற நினைவு வணக்க நிகழ்வில் கலந்துகொண்டு பேசுகையிலேயே அவர் இவ்வாறு தெரிவித்தார். ஒஸ்லோவில் நடைபெற்ற இந்த நிகழ்வில் லெப்.கேணல் கௌசல்

யனின் விடுதலைப் பற்றுறுதியிடுக்க உறுதியான போராட்ட வாழ்வுப் பகுதிக்குப் பிட்டு தமிழன்பன்-தமிழீழத் தேசியத் தலைவர் போராட்டத்தை எவ்வாறு நேர்த்தியுடன் வழிகாட்டி நடத்திக் கொண்டிருக்கிறார் என்பது பற்றிய ஆழமான கருத்துக்களைப் பகிர்ந்து கொண்டார்.

இந்த நிகழ்வில் செந்தளிரர் சிறுவர் நலவாழ்வு நிதிக்காக ஆண்டு தோறும் உண்டியல் மூலம் நிதி சேகரித்து வழங்கும் நோர்வே தமிழ் சிறார்கள்க்கு சான்றிதழ்களும் வழங்கப்பட்டன.

போர் நிறுத்தத்துக்கு உற்பத்தாம்!

(கொழும்பு) அரசு படைகளுக்கும், விடுதலைப் புலிகளுக்கும் இடையிலான போர் நிறுத்த உடன்பாட்டுக்கு அச்சுறுத்தல் ஏற்பட்டுள்ளதாக இலங்கைப் போர் நிறுத்தக் கண்காணிப்புக்குழு எச்சரிக்கை விடுத்துள்ளது.

கடந்த வார இறுதிக்குள் 10 பேர் வரை கொலை செய்யப்பட்ட சம்பவங்களைத் தொடர்ந்து, வன்முறைகள் மோசமடைந்து வருகின்றன. இதைத் தடுப்பதற்கு விடுதலைப் புலிகளும், அரசாங்கமும் ஓன்வர வேண்டும் எனவும் போர்நிறுத்தக் கண்காணிப்புக் குழுவின் கேட்டுள்ளனர்.

அரசாண்பற்ற நிறுவனங்களுடன் சர்யான கருத்துப் பர்மாற்றம் இல்லை!

(கொழும்பு) நாட்டுக்குள் இயங்கிக் கொண்டிருக்கும், அரசாண்பற்ற நிறுவனங்களுக்கும் அரசாங்கத்துக்கும் இடையில் கருத்துப்பரிமாறல் சரியாக நடைபெறவில்லை என நிதி அமைச்சர் சரத்அமுனுகம தெரிவித்தார். இது தொடர்பாக செய்தியாளர்களிடம் கருத்துத் தெரிவித்த நிதி அமைச்சர் - அரசாண்பற்ற நிறுவனங்களுக்கும், தமக்கும் இடையில் சரியான முறையில் கருத்துப் பரிமாறல் நடைபெறவில்லை. அதன் காரணமாகக் கடந்த நாட்களில் சிலசில கருத்து முரண்பாடுகள் ஏற்பட்டன. அதனைச் சரி செய்வதற்குத் தான் அரசாண்பற்ற நிறுவனங்களின் பிரதிநிதிகளை சந்தித்ததாகவும் தெரிவித்தார்.

அழிவுகளுக்குள்ளான பாடசாலைகளை கட்டிவெழுப்ப போதுமான நிதி உள்ளது

தாரா டி.மெல் தெரிவிப்பு

(கொழும்பு) சனாமி அனர்த்தத்தால் அழிவுக்குள்ளான பாடசாலைகளை மீளக்கட்டி எழுப்புவதற்கு வேண்டிய அனைத்து ஏற்பாடுகளும் செய்யப்பட்டுள்ளதாக, கல்வி அமைச்சின் செயலாளர் தாரா டி.மெல் தெரிவித்தார்.

இது தொடர்பாகக் கருத்து தெரிவித்த கல்வி அமைச்சின் செயலாளர் தாரா டி.மெல் - சனாமி அனர்த்தத்தால் நாடு முழுவதும் பல பாடசாலைகள் முழுமையாகவும், பகுதியளவிலும் அழிவுக்குள்ளாகியுள்ளன. இவற்றைக் கட்டி எழுப்புவதற்கு அரசாங்கம் எந்த நிதியையும் ஒதுக்க வேண்டிய அவசியம் ஏற்படவில்லை.

காரணம் சனாமிக்கான உதவிகளில் பாடசாலைகளை மீளக்கட்டி எழுப்புவதற்கு வேண்டிய நிதி முழுமையாக கிடைத்துள்ளது எனத் தெரிவித்தார்.

கோதுமை மாலை 27 ரூபாவுக்கு மேல் விற்கக்கூடாடுவன அரசு அறிவிப்பு!

(கொழும்பு) யாழ்ப்பாணம் தவிர்ந்த நாட்டின் ஏனைய பிரதேசங்களில் அரசினால் இறக்குமதி செய்யப்பட்டு பட்டப்படும் ஒரு கிலோ மா 27 ரூபாவுக்குமேல் விற்பனை செய்யக்கூடாடுவென்று, வர்த்தக வாணிப மற்றும் பாவனையாளர்கள் அலுவல்கள் அமைச்சர் ஜெயராஜ் பெர்ணாண்டோ புள்ளே தெரிவித்துள்ளார். இது தொடர்பாக அவர் மேலும் தெரிவிக்கையில் - யாழ்ப்பாணப் பிரதேசத்துக்குத் தேவையான கோதுமை மாலை முழுமையாக அனுப்பிவைப்பதற்கு அமைச்சு நடவடிக்கை எடுத்துள்ளது. இதன்படி 450, 400 கிராம், 350 கிராம், 300 கிராம் என்ற அளவுகளில் பாண் உற்பத்தி செய்வது பற்றி வெதுப்பக் உரிமையாளர்களோடு கலந்துபேசி, கட்டுப்பாட்டு

கல்விச் சீர்திருத்தக் கூட்டத்தில் ஜே.வி.பியினர் பங்கேற்கவில்லை

கல்விச் சீர்திருத்தக் கூட்டம் தொடர்பான கலந்துரையாடலொன்று, கடந்த வெள்ளிக்கிழமை ஜனாதிபதி சந்திரிகா தலைமையில் ஜனாதிபதி மாளிகையில் நடைபெற்றபோது, அந்தக் கூட்டத்தில் ஜே.வி.பியின் தலைவர் உட்பட முக்கிய உறுப்பினர்கள் எவரும் கலந்து கொள்ளவில்லையெனத் தெரிவிக்கப்படுகிறது. இந்தக் கலந்துரையாடலில் - ஜே.வி.பியின் தலைவர் சோமவன்ச அமரசிங்க, பொதுச் செயலர் லின் சில்வா, நாடாளுமன்ற உறுப்பினர் விமல் வீரவன்ச, நந்தன குணதிலக மற்றும் விவசாய அமைச்சர் அநுர திஸநாயக்க ஆகியோரே கலந்து கொள்ளவில்லை. இவர்களுக்குப் பதிலாகக் கலாசார அமைச்சர் விஜித ஹேரத், பிரதி விவசாய அமைச்சர் பிமல் ரத்னாயக்க, கிராமிய, பொருளாதார அபிவிருத்திப் பிரதி அமைச்சர்

புல்மோட்டைசம்பவம் ஜனாதிபதி சந்திரிகாவால் விசாரணைக்குழு அமைப்பு!

(திருகோணமலை) புல்மோட்டையில் முஸ்லிம்களின் மையவாடியில் புதைக்கப்பட்டிருந்த சடலங்களை இராணுவத்தினர் தோண்டியெடுத்தமை குறித்து உடன் விசாரணை செய்து அறிக்கை சமர்ப்பிக்குமாறு, இந்தச் சம்பவம் தொடர்பாக நியமிக்கப்பட்ட விசாரணைக் குழுவுக்கு ஜனாதிபதி சந்திரிகா உத்தரவிட்டுள்ளார். இந்த விசாரணைக்குழு பிரி கேடியர் எம். ஷகீர் தலைமையில் அமைக்கப்பட்டுள்ளது. இதில் இராணுவ விசேட புலனாய்வு அதிகாரி மேஜர் புஜித் கோனாவல, கெப்பிடிக் கொல்லாவ உதவிப் பொலிஸ் அத்தியட்சகர் சரத் படேவல மற்றும் பிரிகேட் கொமாண்டர் கேணல் யு.விஜயரத்ன ஆகியோர் இடம் பெற்றுள்ளனர்.

புலிகளுடன் வாதுக்கட்டமைப்பு அரசின் முயற்சிக்கு ஜே.வி.பி எதிர்ப்பு

(கொழும்பு) தமிழீழ விடுதலைப் புலிகளுடன் பொதுக்கட்டமைப்பு ஒன்றை உருவாக்கும் அரசின் முயற்சிக்கு ஜே.வி.பி எதிர்ப்புத் தெரிவித்துள்ளது. ஜே.வி.பியின் நாடாளுமன்ற உறுப்பினர் நந்தன குணதிலக இந்தக் கருத்தை வெளியிட்டார். சர்வதேச நாடுகளில் தடை செய்யப்பட்டுள்ள விடுதலைப் புலிகள் அமைப்புடன் அரசாங்கம் இணைந்து செயற்படத் தீர்மானிப்பது - சர்வதேச அங்கீகாரத்தை விடுதலைப் புலிகளுக்குப் பெற்றுக் கொடுக்கும் ஒரு நடவடிக்கையே. விடுதலைப் புலிகளுடன் பொதுக் கட்டமைப்பு ஒன்றை உருவாக்குவது தொடர்பாக அரசாங்கத்தில் அங்கம் வகிக்கும் தனது கட்சியுடன் ஜனாதிபதி இதுவரை கலந்துரையாடவில்லை என்றும் அவர் கூறியுள்ளார்.

இராணுவ அதிகாரியின் சடலம் கிணற்றிலிருந்து மீட்கப்பட்டது!

(வவுனியா) வவுனியா இராணுவ முகாமில் இராணுவச் சிப்பாய்கள் சிலருக்கு வெடிமருந்தை உண்பதற்கு கட்டளையிட்ட இராணுவ அதிகாரியின் சடலம் கண்டுபிடிக்கப்பட்டுள்ளது. இராணுவ பயிற்சி முகாமின் பின்னால் அமைந்திருக்கும் பாழடைந்த கிணறு ஒன்றுக்குள்ளிருந்து இந்தச் சடலம் கண்டுபிடிக்கப்பட்டது. சீ. 4 வகையான வெடி மருந்தை உட்கொண்டதால் 17 இராணுவத்தினர் வைத்தியசாலையில் அனுமதிக்கப்பட்டனர். உயிரிழந்துள்ள இராணுவ அதிகாரியே தம்மை வெடிமருந்தை உட்கொள்ள பணித்ததாக சிப்பாய்கள் தெரிவித்தனர் அதை அடுத்து இந்த இராணுவ அதிகாரி காணாமல் போயிருந்தமை குறிப்பிடத்தக்கது. (01)

193 தொண்டர் ஆசிரியர்களை நிரந்தரமாக்க நடவடிக்கை

(கொழும்பு) வடக்கு - கிழக்கில் உள்ள பாடசாலைகளில் நிலவும் வெற்றிடங்களை நிரப்புவதற்கு, அங்கு தற்பொழுது கட்டமை புரியும் 193 தொண்டர் ஆசிரியர்களை நிரந்தரமாக்குவதற்கு கல்வி அமைச்சு நடவடிக்கை எடுத்துள்ளது. இந்தப் பிரதேசங்களில் நிலவும் ஆசிரியர் பற்றாக்குறையை நிவர்த்தி செய்து சிறந்த முறையில் அபிவிருத்தி செய்வதற்கான கல்வி அமைச்சு அறிமுகப்படுத்தியுள்ள விசேட வேலைத் திட்டங்களுக்கு அமைய இவர்கள் நிரந்தரமாக உள்ளவாங்கப்பட இருப்பதாகவும் தெரிவிக்கப்படுகிறது. வடக்கு - கிழக்குப் பாடசாலைகளில் தமிழ் மொழி மூலம் சிங்களம் கற்பிப்பதற்கும், சிங்கள மொழி மூலம் மாணவர்களுக்கு தமிழ் கற்பிப்பதற்கும் தொண்டர் ஆசிரியர் நியமிப்பது சம்பந்தமாக ஜனாதிபதியால் அமைச்சுரவைப் பத்திரம் தயாரிக்கப்பட்டுள்ளது. இவர்களில் நிரந்தரமான சேவையில் உள்ளவாங்குவதற்கு அரசு சேவை ஆணைக்குழு வுக்குச் சமர்ப்பிப்பதாக அதன் செயலாளருக்கு இது அனுப்பிவைக்கப்பட்டுள்ளது. (தே)

மாணவர் மலர்



மாணவர்களைப் பாடசாலைக்குத் தேர்ந்தெடுப்பதற்கும், உதவியுள்ள வழங்குவதற்குமாக தரம் 5 மாணவர்களுக்கு நடத்தப்படும் மாதிரிப் பரீட்சை வினாத்தாள் - 2005

36. 500ml தேங்காய் எண்ணெயின் விலை ரூபா 55.00 ஆனால் தேங்காய் எண்ணெயின் விலை தற்போது லீற்றருக்கு 10.00 ரூபாவாக கூடியது. இப்போது 5 லீற்றர் தேங்காய் எண்ணெய் வாங்கத் தேவையான பணம் எவ்வளவு?

37. கம்பியால் ஆன உரு ஒன்றை அமைப்பதற்கு 75cm நீளமான 8 கம்பித்துண்டுகளும் 1 m 25cm நீளமான 10 கம்பித்துண்டுகளையும் மாலா வாங்கினாள். அவள் வாங்கிய கம்பித் துண்டுகள் யாவற்றினதும் மொத்த நீளம் எவ்வளவு?

38. மீற்றர் ஒன்று ரூபா 25.00, 12m 50cm கம்பி ஒன்றை வாங்குவதற்காக ரூபன் 1000.00 ரூபாத்தான் ஒன்றைக் கொடுத்தான். ரூபனுக்கு கிடைக்க வேண்டிய மீதப்பணம் எவ்வளவு?

39. வெள்ளைத்தையில் வாழ்ந்த 1000 குடும்பங்களில் 1/2 பங்கினர் தமிழ் பேசுவர். மிகுதியின் 1/2 பங்கினர் சிங்களம் பேசுவர். மீதியாக உள்ளோரில் 2/5 பங்கினர் ஆங்கிலம் பேசுவர். ஆங்கிலம் பேசும் குடும்பங்கள் எத்தனை?

40. சதுரமுகி வடிவில் அமைக்கப்பட்டுள்ள நீர்த்தாங்கி ஒன்றின் வெளிப்பகுதிக்கு வர்ணம் (பெயின்ட்) பூசப்படவுள்ளது. ஒரு சதுரமீற்றர் பரப்பளவுக்கு வர்ணம் பூச ரூபா 120.00 செலவாகும். அதன் ஒரு பக்கம் 9 சதுர மீற்றர் பரப்பளவுடையது. முடிய பகுதி தவிர எல்லா வெளிப்பகுதிக்கும் பெயின்ட் பூசப்பட வேண்டும். எனின் பெயின்ட் பூச ஆகும் செலவை காண்க?

41. நடுகதி முலைக்கும், வாயு முலைக்கும் கிடையே அமைந்துள்ள திசைக்கு எதிராக அமைந்துள்ள திசை எது?

42. ஒரு வாங்கில் இருவர் அருகருகாக அமர்ந்துள்ளனர். ஒருவர் மற்றவரின் தாய், ஆனால் மற்றவரின் தாயின் மகனல்ல. அவ்வாறாயின் மற்றையவருக்கும், அவருக்கும் உள்ள உறவு என்ன?

43.

 25 cm² எனின் இவ்வருவின் பரப்பளவு என்ன?

44. மாணவன் ஒருவன் கணிதபாடச் சோதனையில் 6 மாதங்கள் பெற்ற புள்ளி வீரம் 50, 55, 60, 65, 70, 75 இதன் பிரகாரம் அடுத்தமாதச் சோதனையில் அவன் பெறத்தக்க புள்ளி எவ்வளவு?

45. சதுரம் ஒன்றுக்கும், சமபக்க முக்கோணி ஒன்றுக்கும் கிடையேயான ஒற்றுமை ஒன்றை எழுதுக?

T. அம்மிகையாகன B.Ed Tamil Sp.Trd
ஆசிரிய ஆலோசகர் மேல்மார்க்காணம்

27. மனித வாழ்க்கையில் உணவுக்கு அடுத்தபடியாக நாம் முக்கியத்துவம் உடையவர்களாக உள்ளோம். மனிதன் உயிரிலும் மேலாக நேசுக்கும் அவன் மானத்தை நாம் காக்கின்றோம். சூட்டாலும், குளிர்ராலும் மனிதனைப் பாதுகாத்து, அவனை அழகு படுத்தி அவனுக்கு சீரந்த உருவமைப்பைக் கொடுக்கின்றோம்.

28. நான் சக்திகளுக்கெல்லாம் முலச சக்தியாவேன். நான் உலகில் ஜீவராசிகள் எல்லாவற்றுக்கும் பெரும் உதவி செய்கின்றேன். ஆயினும் விவசாயிகளுக்கே நான் அதிகம் உதவுவதாக சொல்கின்றார்கள். கை முதலாம் திகதி உழவர்கள் எனக்குப் பொங்கிப் படைப்பார்கள்.

29. நான் சூழல் கழிவுகளை உண்டு வாழ்கின்றேன். என்னால் எழுந்த சூழல் சக்திகளாகப்படும். அதனால் என்ன சக்திகளாயினால் எனவும் அழைப்பார்கள். எங்களிடம் கூடியவாறு பண்பு உண்டு. ஒரு சிறு உணவு கிடைத்தாலும் பங்கிட்டு உண்போம். எங்கள் நிறம்தான் உங்களுக்குப் பிடிக்காது.

தரை, சுவர், கரும்பலகை, நீர் மேற்பரப்பு, திரை, மேசை மேற்பரப்பு

30. மேலுள்ளவற்றுள் நிலைக்குத்துத் தளத்திற்கு உதாரணம் தருக?

31. மேலுள்ளவற்றுள் கிடைத்தளத்திற்கு உதாரணம் தருக?

சரியான விடையைப் புள்ளிக் கோட்டில் எழுதுக.

32. XX+XII என்பதன் பெறுமதியை உரோமன் இலக்கத்தை எழுதுக?

33. குறுக்காகவும், மேலிருந்து கீழும், முலையில் இருந்து முலைக்கும் கூட்டும் போது விடை 18 ஆகுமாறு 2, 4, 8, 9, 10 ஆகிய எண்களைப் பயன்படுத்தி வெற்றுக் கட்டங்களை நிரப்புக.

3	7
6	
5	

34. இவ்வருவின் சுற்றளவைக் காண்க?

5 cm

2 cm	2 cm
2 cm	3 cm

35. கம்பளி ஒன்றில் மா வாங்கிய பணத்தொகை ரூபா 3750 இனை கண்ணன் செலுத்த வேண்டும். ஆனால் அவரால் அப்பணத்தொகையின் 4/5 பங்கினை மட்டுமே செலுத்தமுடிந்தது. கின்னும் செலுத்துவதற்கு எஞ்சியுள்ள பணத்தொகை எவ்வளவு?

◆ மிகவும் பொருத்தமான விடையைத் தெரிவு செய்து அதற்குரிய இலக்கத்தை அருகேயுள்ள புள்ளிக் கோட்டின் மீது எழுதுக?

01. 50/100 என்னும் பகுதி நிறுப்படுத்தப்பட்டுள்ள உரு

	(1)
	(2)
	(3)
	(4)

02. பொருட்கள் வெப்பத்தினால் விரிவடையும் பண்புடையவை. இந்த இயல்பை அடிப்படையாகக் கொண்டு நாளாந்த வாழ்வில் பல்வேறு கருமங்கள் நடைபெறுகின்றன. கீழ்வரும் சந்தர்ப்பங்களில் வெப்பத்தின் விரிவு பயன்படாத சந்தர்ப்பம் எது?

i) வண்டியில் சில்லுக்கு வளையமீடும் போது வளையத்தைச் சூடாக்கல்.
ii) ரயில் தண்டினைகளுக்கிடையே இடைவெளி வீட்டிட்டுத்தல்.

iii) மோதிரத்தை வீரலில் இருந்து கழற்றுவதற்காக மோதிரத்தைச் சூடாக்கல்.

iv) சோடா மென்பானங்கள் போத்தலில் முழுமையாக நிரப்பப்படாது விடுதல்.

03. விழா ஒன்றில் கலந்து கொண்ட பித்தாசா மயக்கம் டைந்து விழ அவரை விழ விடாது ஆயுக்கர் தாங்கிப் பிடித்தார். இதை அறிந்த பரலகப்பிரமணியம் குளிர்நீருடன் பித்தாசாவை நோக்கி வந்தார். ஸ்ரீபின் பித்தாசாவை தனது காரில் வைத்தபித்தாசாவைக் கொண்டு வரும் தமீழ்ராவார்.

i) அந்த விழாவில் கலந்து கொண்ட யாவரும் தமீழ்ராவார்.
ii) அந்த விழாவில் முஸ்லிம்கள் எனும் கலந்து கொள்ளவில்லை.
iii) அந்த விழாவில் கலந்துகொண்டவர்கள் பித்தாசாவின் உறவினர்கள்.

iv) அந்த விழாவில் பல இன மக்களும் கலந்து கொண்டனர்.

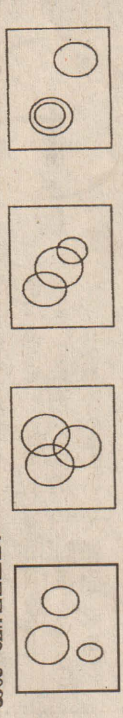
04. மயூன், கலாசரன், பிந்தூரன் ஆகிய முலரும் உயரமான ஆண்கள், சதாமதி, காந்திமதி, கிருவரும் உயரம் குறைவான பெண்கள். சதாமதி பிந்தூரன் ஆகிய இருவரும் ஜல்கீரீம் உண்பதில்லை. இவர்களில் எவர் ஜல்கீரீம் உண்பவரும் உயரம் குறைவானவரும் ஆவார்.

i) சதாமதி ii) காந்திமதி iii) மயூன் i v) கலாசரன்

05. கீழ்வரும் உருக்களில் வித்தியாசமான உரு எது?

--	--	--	--

06. தானியங்கள், அரிசி, மண்ணெய் என்பவற்றுக்குரிய அடங்கல் வரிப்படம்.



◆ கோலத்தை இனங்கண்டு கிடைவெளியில் அமையப் பொருத்தமான எண்ணுக்குரிய விடையின் இலக்கத்தை அருகே உள்ள புள்ளிக் கோட்டில் எழுதுக?

07.

5	30	15
8	48	24
6	4	40

 (1) 5 (2) 6 (3) 9

08.

6	8	14
8	10	22
10	12	20

 (1) 100 (2) 120 (3) 144

09.

6	16	4
8	20	4
10	4	6

 (1) 24 (2) 28 (3) 32

10.

6	18	27
9	120	81
2	80	34

 (1) 100 (2) 130 (3) 160

11.

3	9	25
5	5	64


 (1) 7 (2) 8 (3) 9

◆ சரியான விடையைப் புள்ளிக் கோட்டின் மீது எழுதுக.
12. கண்ணன் கடைக்குச் சென்று 100 ரூபா தான் ஒன்றைக் கொடுத்து 1 கிலோ சீனி, 750 கிராம் அரிசி, 1/2 கிலோ பருப்பு, 1 கிலோ உப்பு ஆகியவற்றை வாங்கினான். கடைக்காரர் அவனுக்கு மீதிப்பணமாக கிரண்டு கிரண்டு ரூபாய் குற்றுகளையும் கிரண்டு 1.00 நாணயம் ஆகியவற்றை வாங்கினான். ஒரு கிலோ சீனி 31.00 ரூபாவும், ஒரு கிலோ அரிசி 36.00 ரூபாவும், ஒரு கிலோ பருப்பும் 51.00 ரூபாவும் எனின் ஒரு கிலோ உப்பின் விலை என்ன?

13. 29 என்னும் எண் குறிக்கும் உரோமன் இலக்கத்தைப் பெறுவதற்கு 7 திக்குச்சிகள் தேவை. 40 என்னும் எண் குறிக்கும் உரோமன் இலக்கத்தைப் பெறுவதற்கு எத்தனை திக்குச்சிகள் தேவை?

14. ஒரு குற்றச் செயல் இதனைச் செய்ய முயற்சி செய்தால் தண்டனை கிடைக்கும். ஆனால் செய்து முடிந்தாலோ தண்டனை இல்லை. இது என்ன குற்றம்?

15. 4m நீளமும், 2m அகலமும், 5m உயரமும் கொண்ட குழி ஒன்றில் இருந்து வெட்டி எடுக்கக்கூடிய மண் எவ்வளவு?



அருகே உள்ள மணிக்குட்டின் மணிக் கம்பிக்கும், நழிடக் கம்பிக்கும் இடையிட்ட பகுதி பின்வருவனவற்றில் எக்கோணத்தால் காட்டப்படும்.

- i) காங்கோமை ii) செங்கோமை
iii) வீரகோமை iv) நேர்கோமை

17. பின்வரும் படங்களில் பொருத்தமற்ற சொற்கள் காணப்படுமடடத்தின் கீழ்க் கீறிடுக.



18. i) புனை, ஆடு அளவு பெரியதெனின் கூட்டில் S என எழுதுக.
ii) ஆடு, புனையிலும் சிறியதெனின் கூட்டில் P என எழுதுக.

19. i) கறுப்பு நிறமானவையெல்லாம் காகம் எனின் இறக்கு நீறிடுக.
ii) மாணவர்களுக்கு 50 வயது இருக்கும் எனின் இறக்கு நீறிடுக.
iii) குவிச்சக்கர வண்டிக்கு 4 சீல்கு இருக்குமெனின் இறக்கு நீறிடுக.
iv) மண்தீர்கள் ஆண்பெண் வேறுபாடு உண்டெனின் இறக்கு நீறிடுக.

20. இங்கே காட்டப்பட்டுள்ளது.



i) எங்கள் தேசிய இலச்சனை எனின் புள்ளிக்கோட்டில் மரியாதை என எழுதுக?
ii) தேசிய கொடியெனின் புள்ளிக்கோட்டில் வீரம் என எழுதுக.
iii) மதச் சின்னம் ஒன்று எனின் புள்ளிக்கோட்டில் வழிபாடு என்று எழுதுக.

iv) எல்லா இனத்தவரையும் குறிப்பது எனின் புள்ளிக்கோட்டில் ஒற்றுமை என எழுதுக.

கீழ்வரும் படமானது பாடசாலை வாரமொன்றில் பாடசாலை ஒன்றிற்கு வருகை தந்த மாணவர்களைக் குறிக்கின்றது. இங்கு $\uparrow = 20$ மாணவர்கள்

திங்கள்	↓	↓	↓	↓	↓	↓	↓	↓	↓	↓	↓
செவ்வாய்	↑	↑	↑	↑	↑	↑	↑	↑	↑	↑	↑
புதன்	↑	↑	↑	↑	↑	↑	↑	↑	↑	↑	↑
வியாழன்	↑	↑	↑	↑	↑	↑	↑	↑	↑	↑	↑
வெள்ளி	↑	↑	↑	↑	↑	↑	↑	↑	↑	↑	↑

இந்தப் படத்தை வெதானித்துச் சரியான விடையைப் புள்ளிக்கோட்டில் எழுதுக.

21. எந்த நாளில் அதிக எண்ணிக்கையான மாணவர்கள் வருகை தந்தார்கள்?

22. வியாழன் வருகை தந்த மாணவர்களின் எண்ணிக்கை எவ்வளவு?

23. வியாழன் வருகையிலும் எவ்வளவு மாணவர்கள் அதிகமாக திங்கள் வருகை தந்துள்ளார்கள்?

24. மாணவர் வருகை மீதக் குறைவான நாள் எது?

25. இவ்வாரத்தில் வருகை தந்த மாணவர் எண்ணிக்கையை எழுதுக.

கீழே தரப்பட்டுள்ள உருக்களில் முதலாவதாகத் தரப்பட்டுள்ள உருவடின் மிகவும் நெருங்கிய தொடர்பைக் காட்டும் உருவின் இலக்கத்தை தரப்பட்டுள்ள புள்ளிக்கோட்டின் மீது எழுதுக.



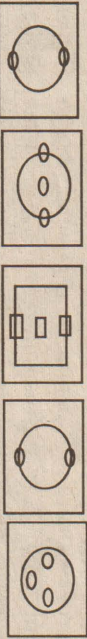
(1) (2) (3) (4) (5)

27.



(1) (2) (3) (4) (5)

28.



கீழ்வரும் சொற்கூட்டங்களில் ஒன்று வித்தியாசமானது. வித்தியாசமான சொல்லினைக் குறிக்கும் இலக்கத்தைப் புள்ளிக் கோட்டில் எழுதுக?

29. i) உடும்பு ii) பல்லி iii) புலி iv) ஓணான்

30. i) விராமம் ii) சூரியன் iii) காகம் iv) பட்டம்

வியாபாரி ஒருவர் பொருட்களின் விலையைக் குறிப்பதற்கு இரகசியக் குறியீடாக பின்வருமாறு எழுதி வைத்தார்.

உ	ற	வு	க	கு	ப	கை	க	ட	ன்
1	2	3	4	5	6	7	8	9	10

இதன் அடிப்படையில் சரியான விடையைத் தெரிந்து அதன் இலக்கத்தைப் புள்ளிக்கோட்டில் எழுதுக.

32. சேட் ஒன்றின் விலை மருவின் எண்க் குறியீட்டி நும்தது. எனவே அதன் விலை?

i) 500.00 ii) 350.00 iii) 250.00 iv) 125.00

33. சேலை ஒன்றின் விலை உகுபன். ன்ன் என குறிக்கப்பட்டிருப்பின் அதன் விலை?

i) 1480.00 ii) 1580.00 iii) 1780.00 iv) 1570.00

34. ரூபா 2709.25 பெறுமதியான பொருள் எவ்வாறு குறிக்கப்பட்டிருக்கும்?

i) நகைக்க.றகு ii) நகைக்க.றகு
iii) நகைன்ட.றகு iv) நகைட்.றகு

35. ரூபா 828.12 விலை குறிக்கப்பட்ட பொருளில் பழுது காரணமாக அது ரூபா 800.12 ஆக விற்பனை செய்யப் படவுள்ளது. எனவே மாற்றம் செய்ய வேண்டிய எழுத்தும் புதிதாக சேர்க்கப்பட வேண்டிய எழுத்தும் முறையே

40. ரூபா 828.30 பெறுமதியான சேட்டு ஒன்றின் விலையைக் குறிக்கும் போது பறக. க்ன் என்னும் குறியீடு பயன்படுத்தப்பட்டது. இதில் ஓர் எழுத்து தவறாதலாக எழுதப்பட்டு விட்டது. அவ்வெழுத்து எது?

i) ப ii) க iii) ன் iv) க

இப்பாடலைக் கவனமாக வாசித்து அதன் கீழ் தரப்பட்ட வினாக்களுக்கு விடை எழுதுக.

பாலைப் போல நல்லவ வாணில்
பவளவிரப் போலது
கொலக்கடல் அலைக்கை தட்டிக்
குதூகலிக்கப் போகுது
நல்லொளும் கண்சிறிட்டு நன்று பார்க்கப் போகுது
மாலை வேளை மலர்ந்து கங்குல்
மங்கை தோன்றப் போகிறார்.

01. நல்ல என்பதற்கு ஒத்ததொல் தருக?
02. கொலம் என்பதற்கு எதிர்தொல் தருக?

கீழ்வரும் சொற்களில் ஒத்ததொல் தருக.
03. குதூகலம்
04. கங்குல்
05. கடல்
06. வானம்
07. மாலை என்பதற்கு எதிர்தொல்.

கீழே தரப்பட்டுள்ள சொற்களை பெயர்ச் சொல், வினைச் சொல் என இனங்கண்டு, அவற்றுக்கெதிரே எழுதுக.
08. நல்ல
09. மலர்தல்
10. பால்

11. போகுது
12. கண்சிறிடி என்பதைப் பரிந்து எழுதுக.

13. கற்ற கீழ்வரும் கருத்தைத் தரும் பழமொழிகளை எழுதுக?
14. எல்லாரும் வெளிநாடு நல்லதென்று சொல்லுகிறார்கள்.

15. இளமையிலேதான் கருத்தோடு கற்க வேண்டும்.

கீழ்வரும் சொற்களை அவற்றின் பொருள் விளங்குமாறு வாக்கியம் அமைக்க.
16. அன்னம்
17. அன்னம்

அரவம் எனும் சொல்லை வெவ்வேறு கருத்தைத் தருமாறு இரு வாக்கியங்களில் அமைக்க.
18. அரவம்
19. அரவம்

20. தேவீர் என்னும் சொல்லை பரிந்து எழுதுக?
21. மாலா பால் படுகினார் என்பதில் உள்ள படுகினார் என்பதன் எதர்மரைச் சொல்லை எழுதுக?

22. அரவம் கேட்டு அரவம் ஒடியது இங்கு அரவம் என்னும் சொல்லின் பொருள்கள் வெவ்வேறானவை. வெறுபட்ட அந்தச் சொற்களினது சரியான கருத்தின் கீழ்க் கோட்டுக?
1. பாம்பு, சத்தம் 2. சத்தம், பாம்பு 3. பாம்பு, பாம்பு ஆடியது.

24. வரன் பாடசாலைக்கு சென்றான். நன்றாக விளையாடினான்.
25. கமலா விளையாடினாள். மாலா விளையாடினாள்.

கீழே தரப்படும் விவரத்தைத் தன் வாக்கித்து விளங்கிக் கொண்டு, விவரணம் விபரிக்கும் பொருளை எழுதுக.
26. நான் பிறந்த இடம் வாழச்சேனை. வயல்களில் வைக கொலாக இருந்தேன். வைக்கோலை ஒன்று சேர்த்து சறுசிந்து சேர்த்து பல மணித்தியாலங்களாக காய்ச்சி கூழ் ஆக்கி குண்டுகளாக வெட்டி பல மருந்து வகைகளையும் என்னோடு கொள்கள். பின் பல இயந்திரங்களினூடாக பாய்விட்டு இப்போது நங்கள் காலும் நிலைக்கு என்னை மாற்றினார்கள். இப்போது என்னை எல்லாரும் வீரும்புகிறார்கள்.

திருநெல்வேலியில் வயோதிபரை இராணுவத்தினரே சுட்டனாம்!

பொலிஸ் தரப்பு வாக்குமூலம்

(யாழ்ப்பாணம்)
பிரமேஸ்வராச் சந்தியில் வைத்து கடந்த வெள்ளிக்கிழமை முதியவர் ஒருவர் சுட்டுக் கொலை செய்யப்பட்ட சம்பவம் தொடர்பான புலன் விசாரணைகளில் - நான்கு இராணுவத்தினரே துப்பாக்கிப் பிரயோகம் மேற்கொண்டதை தான் கண்டதாக பொலிஸார் ஒருவர் சாட்சியமளித்திருப்பதாகத் தகவல்கள் வெளியாகியுள்ளன.

மன் வஸ்தர்ப்பு பணிகள் நெடுநீவில் ஆரம்பம்

(நெடுநீவு)
நெடுநீவு மேற்குப் பகுதிக்கான மின்சார விஸ்தரிப்பு வேலைகள் கடந்தவாரம் முதல் ஆரம்பிக்கப்பட்டுள்ளன. 2003 ஆம் ஆண்டுக்கான பின்னங்கிய கிராமங்களுக்கென பகிர்ந் தளிக்கப்பட்ட நிதி ஒதுக்கீட்டின் மூலம், பத்து லட்சம் ரூபா இந்தப் பகுதி மின்விநியோகத்துக்கென ஒதுக்கப்பட்டபோதும், பல காரணங்களால் இழுத்தடிக்கப்பட்டுவந்தது. இரண்டு ஆண்டுகளின் பின்பு கடந்த வாரம் முதல் மின்கம்பங்கள் நாட்டுவதற்கான குழிகள் தோண்டப்பட்டு வருவதுடன், மின்சாரசபை அதிகாரிகள் வந்து நிலைமையை ஆராய்ந்து சென்றமையும் குறிப்பிடத்தக்கது. (113)

வீடுகளில் பறித்த மணலை திருடிச் செல்லும் விஷமிகள்

அரியாலைப் பகுதியில் வீடுகள் கட்டுவதற்காக மக்கள் கொள்வனவு செய்த மணலை, இரவு வேளைகளில் உழவு இயந்திரங்களில் வரும் விஷமிகள் திருடிச் செல்வதாக அந்தப் பகுதி மக்கள் தெரிவித்தனர். அரியாலை இராஜேஸ்வரி வீதிச் சந்தி, அரியாலை புலனேஸ் வரி

அம்பாள் வீதி மற்றும் ஆசிரி வாதப்பர் வீதி ஆகிய பகுதிகளில் வீடுகள் கட்டுவதற்காக வீதியருகே குவிக்கப்பட்டிருந்த மணலையே-இரவுவேளைகளில் உழவு இயந்திரங்களில் வரும் விஷமிகள் எடுத்துச்சென்று, அதனைக் கூடியளவு விலைக்கு விற்பனை செய்கின்றனர்.

இதனால் இந்தப் பகுதிகளில் அதிசய விளையல் மணலைக் கொள்வனவு செய்த மக்கள், இரவு வேளைகளில் அவற்றைப் பாதுகாப்பதற்காக விழிப்புடன் இருக்க வேண்டிய நிலை ஏற்பட்டுள்ளது. அரியாலைப் பகுதிகளில் உழவு இயந்திரம் மூலம் சட்ட விரோதமாக மண் கடத்திச் செல்வாரின் தொகை அண்மைக்காலமாக அதிகரித்து வருகின்றமை குறிப்பிடத்தக்கது. (55)

கஷ்டப் பிரதேச பாடசாலை மாணவருக்கு புலமைப் பரிசில் வழங்க நடவடிக்கை

நாட்டில் உள்ள பாடசாலைகளில் இடைநிலைக் கல்வி பயிலும் மாணவர்களில் வறிய மாணவர்கள் மற்றும் கஷ்டப் பிரதேச மாணவர்கள் ஆகியோருக்கு கல்வி அமைச்சின் ஊடாக ஆசிய அபிவிருத்தி வங்கி புலமைப்பரிசில் வழங்குவதற்காகக் கல்வி அமைச்சின் அதிகாரி ஒருவர் தெரிவித்துள்ளார். இந்தப் புலமைப் பரிசில் திட்டத்துக்கு 'சிசசுவிய' எனப் பெயரிடப்பட்டுள்ளது. இந்தத் திட்டத்தின் மூலம் 2005 ஆம் ஆண்டு 10 ஆம் தரத்தில் கல்வி பயிலும் 4 ஆயிரத்து 800 மாணவர்களும், 13 ஆம் தரத்தில் கல்வி பயிலும் 7 ஆயிரத்து 200 மாணவர்களும் நன்மையடைய உள்ளனர். இதன் போது தெரிவு செய்யப்படும் மாணவர்களுக்கு மாதாந்தம் 500 ரூபா வீதம் வருடத்தில் 10 மாதங்களுக்கு வழங்கப்படும். இந்தப் புலமைப்பரிசில் திட்டத்துக்கு வருட வருமானம் 24 ஆயிரம் ரூபாவுக்கும் குறைந்த வருமானமுடைய சமூர்த்தி குடும்பங்களைச் சேர்ந்த வேறு எந்தப் புலமைப் பரிசிலும்பெறாத மாணவர்கள் விண்ணப்பிக்கலாம் என அறிவிக்கப்பட்டுள்ளது. அத்துடன், இந்தப் புலமைப் பரிசில் திட்டம் தொடர்பான மேலதிக விபரங்களை வலயக் கல்விப் பணிப்பாளர்களிடம் இருந்து பெற்றுக் கொள்ளலாம் எனவும் அறிவிக்கப்பட்டுள்ளது.

சுனாமியில் உயிரிழந்தோருக்கு கொடுப்பனவு

நல்லூர் பிரதேச செயலகப் பிரிவில் வசித்துக் கொண்டு, அலுவல்கள் நிமித்தம் வெளியூர்களுக்குச் சென்ற சமயம் சுனாமி அனர்த்தத்தால் பாதிக்கப்பட்டு, உயிரிழந்தவர்களுக்கு மரணச்செலவுக் கொடுப்பனவாக தலா 15 ஆயிரம் ரூபா வீதம் 5 குடும்பங்களுக்கு நல்லூர் பிரதேச செயலகத்தால் வழங்கப்பட்டுள்ளது. (63)

அதிபர் பதவிக்கு விண்ணப்பங்கள் கோரல்

தீவக கல்வி வலயத்துக்குட்பட்ட ரோமன் கத்தோலிக்க வித்தியாலயத்தில் அதிபர் பதவி வெற்றிடம் ஏற்பட்டுள்ளது. இந்தப் பதவிக்குத் தகுதியானவர்களிடமிருந்து விண்ணப்பங்கள் கோரப்பட்டுள்ளன. இலங்கை அதிபர் சேவை தரத்தைச் சேர்ந்தவர்களும், ஆசிரியர்களும் 31.03.2005 ஆம் திகதிக்கு முன்னர் தமது விண்ணப்பங்களை தீவக வலயக் கல்விப் பணிமனைக்கு அனுப்பிவைக்குமாறு வலயக் கல்விப் பணிப்பாளர் அறிவித்துள்ளார்.

சுனாமியால் பாதிக்கப்பட்ட மாணவருக்கு அகதிகள் புனர்வாழ்வு நிறுவனம் உதவி


சுனாமி அனர்த்தத்தால் பாதிக்கப்பட்டு, நலன்புரி நிலையங்களில் தங்கியுள்ள மக்களுக்கான அடிப்படைத் தேவைகளை நிறைவு செய்வதில் அகதிகள் புனர்வாழ்வு நிறுவனம் பெரிதும் பங்காற்றி வருகிறது. இந்தவகையில் அனர்த்தத்தால் பாதிக்கப்பட்ட பாடசாலை மாணவர்களின் கல்வி வளர்ச்சியை மேம்படுத்தும் வகையில்- அகதிகள் புனர்வாழ்வு நிறுவனமும், சிறுவர் பாதுகாப்பு நிதியமும் இணைந்து கற்றல் உபகரணங்களை வழங்கியுள்ளன. இதன் முதற்கட்டமாக கடந்த மாதம் வடமராட்சிப் பகுதியில் திக்கம், நாகர் கோவில் ஆகிய

இடைத்தங்கல் நலன்புரி நிலையங்களிலுள்ள 289 மாணவர்களுக்கு கற்றல் உபகரணங்களை வழங்கினர். இதனைத் தொடர்ந்து 2 ஆம் கட்டமாகக் கடந்த வாரம் தும்பளை கிழக்கு, கற்கோவளம் ஆகிய இடைத்தங்கல் நலன்புரி நிலையங்களைச் சேர்ந்த 191 பாடசாலை மாணவர்களுக்கு கற்றல் உப

கரணங்கள் வழங்கப்பட்டுள்ளன. மேலும் பருத்தித்துறை பெண்கள் உயர்தரக் கல்லூரி, ஆண்கள் உயர்தரக் கல்லூரி ஆகிய பாடசாலைகளில் சுனாமி அனர்த்தத்தால் பாதிக்கப்பட்ட மாணவர்களுக்கு எதிர்வரும் நாட்களில் இவை வழங்கப்படவுள்ளமை குறிப்பிடத்தக்கது.

இல்லமியம்வல்லுநர் போட்டி

நெடுநீவு சீக்கிரியாம்பள்ளம் அரசினர் தமிழ் கலவன் வித்தியாலயத்தின் வருடாந்த இல்லமெய்வல்லுநர் போட்டி இன்று பிற்பகல் 2.30 மணிக்கு சீக்கிரியாம்பள்ளம் பொது விளையாட்டு மைதானத்தில் இடம்பெறவுள்ளது. வித்தியாலய அதிபர் கே. அன்ரன் மரியதாஸ் தலைமையில் இடம்பெறும் இந்த நிகழ்வில் நெடுநீவு உதவி அரசாங்க அதிபர் ம.பற்றிக் டிறஞ்சன் பிரதம விருந்தினராகக் கலந்து கொள்ளவுள்ளார். (113)



சர்வதேச மகளிர் தினத்தை முன்னிட்டு அகதிகள் புனர்வாழ்வு நிறுவனத்தின் பெண்கள் அபிவிருத்தி திட்டப் பிரிவின் நேற்று கைலாசபதி கலையரங்கில் நடத்திய 'பால்நிலை சமத்துவத்தைப் பேணுவோம்' நிகழ்வில் தவில், நாத்தஸ்வர பெண்கலைஞர்களின் திறன் வெளிப்பாடும், பூச்சிகள் அரிக்கும் கண்ணிமைகள் நாடகத்தின் ஒரு காட்சியையும் படங்களில் காணலாம்.

சாரதி அனுமதிப்பத்திரம் வழங்க நடமாடும் சேவை எந்நெடுநீவில்

நெடுநீவு பிரதேச செயலகப் பகுதிக்குட்பட்டவர்களுக்கான சாரதி அனுமதிப்பத்திரம் வழங்கலுக்கான நடமாடும் சேவை, இந்தமாதம் இறுதிப்பகுதியில் நெடுநீவில் இடம்பெறவுள்ளது. இதுதொடர்பான பயிற்சி நெறி கடந்தவாரம் நெடுநீவு மகா வித்தியாலய மண்டபத்தில், உதவி-அரசாங்க அதிபர் ம.பற்றிக் டிறஞ்சன் தலைமையில் இடம்பெற்றது. பயிற்சி நெறியை யாழ். மாவட்ட மோட்டார் போக்குவரத்து திணைக்கள உதவி ஆணையாளர் எஸ்.பத்மநாதனும், திணைக்கள ஊழியர்களும் நடத்தினர். இந்தப்பயிற்சி வகுப்பில் சுமார் நூறுபேர் கலந்து கொண்டமை குறிப்பிடத்தக்கது. சாரதி அனுமதிப்பத்திரம் பெறுவதற்கென நெடுநீவு உதவி அரசாங்க அதிபர் பணிமனையில் பெற்ற விண்ணப்பங்களை, உரிய ஆவணங்களுடன் எதிர்வரும் 11 ஆம் திகதி வெள்ளிக்கிழமைக்குள் ஒப்படைக்குமாறு கேட்டுக் கொள்ளப்பட்டுள்ளதுடன், மோட்டார் சைக்கிளுக்கான சாரதி அனுமதிப்பத்திரம் மட்டுமே வழங்கப்படவுள்ளமை குறிப்பிடத்தக்கது. (113)

கடற்தொழில் செய்யும் பெண்களுக்கு வலை பின்னலுதல் பயிற்சி நெறி

நெடுநீவுப் பகுதியில் உள்ள கடற்தொழில்சார் குடும்பங்களைச் சேர்ந்த பெண்களுக்கு வலை பின்னலுதல் தொடர்பான பயிற்சி நெறி ஒன்று படடினிக்கெதிரான நிறுவனத்தால் நடத்தப்பட்டது. கடந்த 4 ஆம் திகதி தொடக்கம் 6 ஆம் திகதி வரைக்குமான மூன்று தினங்கள் சுமார் 30 யுவதிகளுக்கு நெடுநீவு கடற்தொழிலாளர் சங்க வளாகத்தில் வைத்து இந்தப் பயிற்சி வழங்கப்பட்டது. இதேவேளை - கடற்தொழிலில் ஈடுபடும் இளைஞர்கள் 30 பேருக்கு கடந்த வரும் வெளியிணைப்பு இயந்திரம் திருத்தல் தொடர்பான பயிற்சி நெறியை இந்த நிறுவனம் வழங்கியிருந்தமை குறிப்பிடத்தக்கதாகும். (113)

கச்சேரி - நல்லூர் வீதியில் கூடும் இளைஞர்களால் அசௌகரியம்

(யாழ்ப்பாணம்)
கச்சேரி - நல்லூர் வீதியில் நாயன்மார் வீதிச் சந்தி அருகில் கூடும் இளைஞர்களின் தொல்லைகளால், அந்த வீதியால் செல்வோரும், அந்தப் பகுதி மக்களும் பெரும் இடையூறுகளை எதிர்நோக்கி வருகின்றனர். இந்தப் பகுதியில் மாலை வேளைகளில் கூடும் இளைஞர்கள் சிலர், வீதியால் போக்குவரத்துச் செய்யும் பெண்களுடன் சேஷ்டைகள் புரிவதுடன், மதுபோதையில் கீழ்த்தரமான வார்த்தைகளையும் பிரயோகிக்கின்றனர். அத்துடன் வீதியால் போக்குவரத்துச் செய்பவர்களையும் சீண்டி, அவர்களை விண்சண்டைகளுக்கு இழுக்க முயற்சி செய்கின்றனர். இதனால் அந்தப் பகுதியால் போக்குவரத்துச் செய்பவர்கள், குறிப்பாக பெண்கள் பெரும் அச்சத்துடன் செல்ல வேண்டியுள்ளதாகவும், அத்துடன் அந்தப் பகுதி மக்களும் இடையூறுகளை எதிர்நோக்கி வருவதாகவும் மக்கள் விசனம் தெரிவித்தனர். (55)

கல்விப் பொதுத் தராதரப் பத்திர (உயர்தர) பரீட்சை 2005 ஏப்ரல்

உயிரியல்

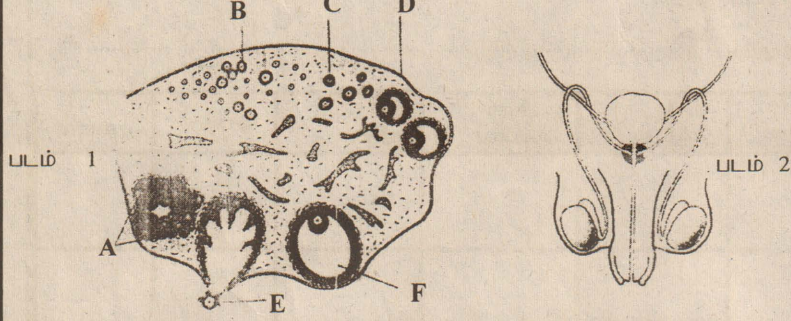
பகுதி - II

தொகுப்பு : பிரபல ஆசிரியர்

மூன்று மணித்தியாலம்

பகுதி - A

1. கீழே தரப்பட்டுள்ள படங்கள் மனிதப் பெண்ணின் கூலகம், ஆணின் இனப்பெருக்கத் தொகுதி என்பவற்றைக் காட்டுகின்றன.



(A) (i) படம் ஒன்றில் A யிலிருந்து F வரையான பகுதிகளைப் பெயரிடவும்

A..... B.....
C..... D.....
E..... F.....

(ii) பகுதி E யினால் சுரக்கப்படும் ஓமோனைத் தந்து இது கருப்பைச் சுவரில் எவ்வாறான விளைவை ஏற்படுத்தும் எனவும் தருக.

(iii) பகுதி A யினால் சுரக்கப்படும் ஓமோனைத் தந்து அந்த ஓமோனின் பிரதான செயற்பாடு யாது எனவும் தருக.

(B) (i) கூல்கொள்ள பின்பு கருக்கட்டல் நிகழாமையின், நுகம் கருப்பையினுள் பிரவேசிக்கும் முன் யாது நடைபெறும்?

(ii) கருப்பைச் சுவரில் முளையம் பதிக்கப்படுவதற்காகத் தோற்றுவிக்கப்படும் கட்டமைப்பு யாது?

(iii) பதித்தலின் ஆரம்பநிலையில் HCG யின் (human chorionic gonadotropin) பிரதான தொழில் என்ன?

(iv) வளர்ச்சியடையும் முளையத்திற்குப் போசனை வழங்குவதில் கூல்கித்தகம் எவ்வாறு பங்களிப்புச் செய்கின்றது.

(v) முலைப்பாலில் எக்சுறுகள் அடங்குகின்றன?

(vi) மாதவிடாய்ச் சக்கரம் என்றால் என்ன?

(C) (i) பின்வரும் எழுத்துக்களைப் பயன்படுத்தி ஆண் இனப்பெருக்கத் தொகுதியின் பகுதிகளைப் படத்தில் குறித்துக் காட்டுக.

A - விதை B - விதைமேந்திணிவு
C - அப்பாற்செலுத்தி D - முன்னிற்கும் சுரப்பி
E - சிறுநீர் சனைப் பாதை

(ii) விதை ஏன் வயிற்றறைக்கு வெளியே வைக்கப்பட்டுள்ளது?

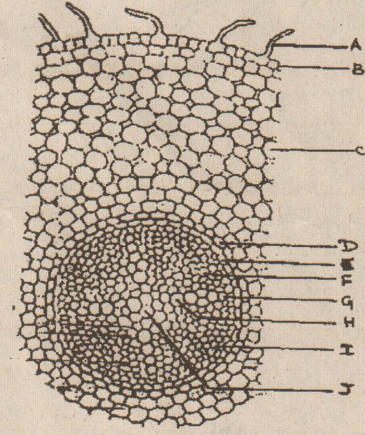
(iii) விதையில் காணப்படும் சேற்றோலிக் கலங்களின் தொழில் என்ன?

(iv) விந்தாக்கத்தில் பங்கு கொள்ளும் ஓமோன்களைத் தருக.

(v) பிரசவத்தின்போது பின்வரும் ஓமோன்களின் தொழில் என்ன?

a. Oestrogen :
b. Relaxin :
c. Oxytocin :

02. படம்



(A) (i) தரப்பட்ட படத்தைப் பெயரிடுக.

(ii) படத்தில் A யிலிருந்து J வரையிலான பகுதிகளைப் பெயரிடுக.

(B) (i) பகுதி யில் காணப்படும் 4 கட்டமைப்பு இயல்புகளைத் தருக.

(ii) படத்தில் தரப்பட்ட கலன் இழையம் தோற்றுவிக்கப்படுவதற்கு மூலாதாரமாக அமைந்த இழையம் எது?

(iii) இருவித்திலை வகையான ஒரு வித்திலைத் தாவரத்தின் கலன் கட்டுக்களுக்கு இடையிலுள்ள பிரதான வேறுபாடுகள் இரண்டு தருக.

a.....
b.....

(iv) இருவித்திலை இலைகளில் மட்டும் காணப்படும் இழையம் எது?

(v) மேந்தரப்பட்ட இழையத்தில் காணப்படும் கட்டமைப்பு இயல்புகள் எவ்வாறு ஒளித் தொகுப்புச் செயற்பாட்டில் உதவுகின்றன எனத் தருக.

(C) (i) இலையொன்றில் ஒளித்தொகுப்புச் செயற்பாடு நிகழும் பிரதேசத்தை இனங்காண உமக்கு உதவிய குறுக்குவெட்டு முகத்தில் அவதானிக்கக்கூடிய இயல்புகளைத் தருக.

(ii) தாவரங்களின் ஒளித்தொகுப்பு விளைவுகள் எவ்வடிவில் கடத்தப்படுகின்றன.

(iii) தாவரங்களில் சேதன உணவு கடத்தப்படுதலை விளக்கும் பொறிமுறை எவ்வாறு அழைக்கப்படும்.

(iv) இலையிலிருந்து சேமிக்கப்படும் அங்கத்திற்கு சேதன உணவு கடத்தப்படும் முறையின் மூன்று பிரதான படிகளையும் பெயரிடுக.

3) (A) (i) உயிர்ப் பல்வகைமை என்றால் என்ன?

(ii) செந்தரவுப் புத்தகம் என்றால் என்ன?

(iii) உயிர்ப் பல்வகைமை பாதுகாக்கப்படும் இரு பிரதான முறைகள் என்ன?

(iv) மேற்கூறப்பட்ட இரு முறைகளுக்கும்மிடையிலுள்ள பிரதான வேறுபாடு என்ன?

(B) (i) உடற்குழி என்றால் என்ன?

(ii) கூர்ப்பின் விளைவாக தோன்றிய உடற்குழி கொண்ட முதலாவது பிரதான விலங்குப் பிரிவு எது?

(iii) Annela களில் காணப்படும் நான்கு முக்கிய அடிப்படை இயல்புகளைத் தருக.

(iv) Annelid Arthropoda இரண்டிற்கும் பொதுவான பாகுபாட்டில் பயன்படுத்தப்படும் பிரதான புற இயல்பொன்றைத் தருக.

V) தரைவாழ்க்கைக்கு ஏற்ற வகையில், பூச்சிகளில் காணப்படும் இரு இயல்புகளைத் தருக.

C) (i) பூச்சிகள், மீன்கள், முலையூட்டிகள் என்பவற்றில் தொழிற்படும் பிரதான சுவாச அங்கங்களை தருக.

(ii) திமிங்கலம் கரையில் ஒதுக்கப்படும் நீருள் வெளியே வருமாயின் அது இறந்துவிடும் அதற்கான காரணம் என்ன?

(iii) மனிதன் Primates பிரிவில் உள்ளடக்கப்படுவதற்கேற்பகொண்டிருக்கும் சிறப்பியல்புகள் ஐந்து தருக.

4) a) இலிங்கமுறை இனப்பெருக்கத்திற்கும், இலிங்கமில்முறை இனப்பெருக்கத்திற்கும் இடையில் உள்ள வேறுபாடுகள் மூன்று தருக.

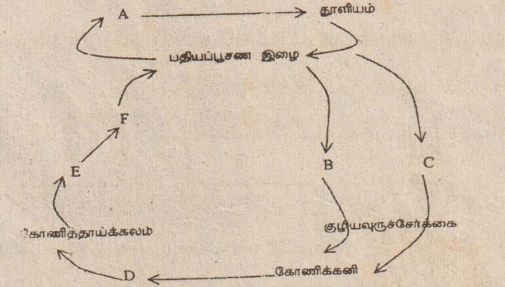
இலிங்கமுறை இலிங்கமில் முறை

B) இலிங்கமுறை இனப்பெருக்கத்தைக் காண்பிக்காத தற்போசனை அங்கிக் கூட்டம் ஒன்றைப் பெயரிடுக.

c) கீழே தரப்பட்ட இனப்பெருக்க முறைகளைக் காண்பிக்கும் ஒவ்வொரு அங்கியைத் தருக.

- (i) தூளியம் உருவாக்கம் :
- (ii) சிற்றடி விந்தி உருவாக்கம் :
- (iii) அரும்புதல் :
- (iv) பிளவு :
- (v) கோணி வித்தி உருவாக்கம் :

d) பங்கசு ஒன்றின் வாழ்க்கை வட்டம் கீழே தரப்பட்டுள்ளது



- (i) மேற்கூறப்பட்ட பங்கசு உள்ளடக்கப்படும் வகுப்புக்குரிய இரு சிறப்பியல்புகள் தருக.
- (ii) மேற்கூறப்பட்ட வாழ்க்கை வட்டத்தை உடைய உ தாரணம் ஒன்று தருக
- (iii) மேற்கூறப்பட்ட வாழ்க்கை வட்டத்திலுள்ள A யிலிருந்து F வரையான பகுதிகளைப் பெயரிடுக
- (iv) ஆகாரிக்கசிள் எக்கட்டமைப்பு கோணிக்கனியுடன் ஒப்பிடக்கூடியது
- (v) இலிங்கமுறை இனப்பெருக்கத்தின் போது நுக வித்தி உருவாக்கப்படும் பங்கசு ஒன்றைப் பெயரிடுக.

e) காபன் சக்தி மூலகங்களாக சேதனப் புதார்த்தங்களுடன் தொழிற்படும் இரு போசனை முறைகளைத் தந்து அம்முறைகள் ஒவ்வொன்றிற்கும் ஒவ்வொரு உதாரணம் தருக.

போசனை முறை உதாரணம்

f) Bryophyta வை விட Pterophyta தரை வாழ்க்கைக்கு கூடிய இசைவாக்க மடைந்தது. Nephrolepos ஐ அடிப்படையாகக் கொண்டு மேற்கூறப்பட்ட கூற்று பொருத்தமற்றது எனக்காட்ட ஐந்து இயல்புகள் தருக.

g) $\sqrt{\quad}$ அல்லது X என்னும் அடையாளத்தை பயன்படுத்தி பின்வரும் அட்டவணையைப் பயன்படுத்தி பூரணப்படுத்துக.

இயல்பு	போக நேற்றம்	பெபிரோ லெப்பஸ்	செலாஜி நெல்ல	சைக்கசு	தென்னை
1) முட்டை காணப்படும்					
2) வேர் காணப்படும்					
3) வித்திக்கலன் காணப்படும்					
4) கலன் இழையம் உண்டு					
5) கருக்கட்டலுக்கு புறநீர் தேவையில்லை					
6) இரட்டைக் கருக்கட்டல்					
7) பல சவுக்குமுளை அல்லது பல பிசிர் கொண்ட விந்து					
8) இருமடியான புணரித்தாவரம்					
9) மகரந்தக் குழாய் தோன்றும்					
10) வித்தித் தாவரம் ஆட்சியாணை					

பகுதி II

எல்லா வினாக்களுக்கும் விடை தருக

1) (a) மனித உணவுக்கால்வாய்த் தொகுதியின் பகுதிகளைத் தருக.
(b) வயிற்றுப்பகுதியில் அமைந்த உணவுக்கால்வாய் பகுதிகள் எல்லவற்றையும் விளக்கி அவற்றின் அமைவிடங்களையும் தருக.

2 (a) ஆவியுயிர்ப்பு வீதத்தைப் பாதிக்கும் காரணிகள் எவை எனத்தருக.
(b) இலைவாயினூடாக ஆவியுயிர்ப்பு எவ்வாறு நிகழ்கின்றது என விளக்குக.

3 சுருக்கமாக விளக்குக.
(a) தெறிவில் :

(b) மனிதனின் மார்பு வளையம் :

(c) வல்லுருக்கலவிழையம் :

4 (a) மெண்டலின் முதலாம் - இரண்டாம் விதிகளைத்தருக.
(b) முதலாம் விதி தொடர்பாக மெண்டலின் விதிதங்களை விளக்குக.

(c) கறுப்பு நிற எலியொன்று வெள்ளை நிற எலியுடன் இனங்கலக்கப்பட்டபோது பெறப்பட்ட விளைவுகள் யாவும் கறுப்பு நிறமானவை. இவ் எச்சங்களின் மூன்று சோடிகளான ABC தேர்ந்தெடுக்கப்பட்டது. அச்சோடிகளுக்கிடையே கலப்பின் விருத்தி மேற்கொள்ளப்பட்டபோது பின்வரும் முடிவுகள் பெறப்பட்டது.

எச்சச்சோடி	தோன்றிய கறுப்பு	தோன்றிய வெள்ளை
A	6	2
B	7	3
C	5	1

(1) மேற்கூறப்பட்ட முடிவுகளிலிருந்து நீர் என்ன முடிவுக்கு வருவீர்
(2) F சந்ததியில் சாம்பல் நிற விளைவு பெறப்படுமாயின் மேற்கூறப்பட்ட இயல்பு பற்றி நீர் என்ன முடிவுக்கு வருவீர்.
(3) பரிசோதனை தொடர்பான முடிவொன்றிற்கு நீர் வருமுன் அச்சோதனையை மீளச் செய்ய வேண்டியதன் அவசியம் யாது என விளக்குக.