

நமது அழநாடு

தமிழர் தாயகத்தின் முன்னோடி நாளிதழ்

மலர்: 03 திருவள்ளூர் ஆண்டு: 2036 பங்குனி - 31 ஆம் நாள் ஹிஜ்ரி 1428 ற.அவ்வல் 03 [13.04.2005] புதன்கிழமை இதழ்:196

அரசின் அடக்குமுறைக்கு எதிராக தென்மராட்சியில் மக்கள் பேரணி!

(சாவகச்சேரி)

தமிழ் மக்கள் மீது இலங்கை அரசாங்கத்தாலும், இராணுவத்தாலும் மேற்கொள்ளப்பட்டு வரும் அடக்குமுறைகளுக்கு எதிர்ப்புத் தெரிவிக்கும் வகையில் - தென்மராட்சிப் பகுதியில் நேற்று மாடெரும் கண்டனப் பேரணி ஒன்று நடைபெற்றது.

நேற்றுக்காலை சாவகச்சேரி பஸ் நிலையத்தின் முன்பாக பொது அமைப்புகளைச் சேர்ந்த பெருமளவானோர் ஒன்றுக்கூடி - பதாதைகளை ஏந்தியவாறும், கோஷங்களை எழுப்பியவாறும் பேரணியாகச் சென்று சாவகச்சேரி பிரதேச செயலகத்தை அடைந்தனர்.

அங்கு காலை 10.30 மணியளவில் ஜனாதிபதிக்கான மகஜரை பொது அமைப்புகள் ஒன்றி

யத்தலைவரும், யாழ். அரசு அதிபருக்கான மகஜரை மாதர்சங்கத் தலைவி வேலுப்பிள்ளையும், வடக்கு - கிழக்கு மாகாண ஆளுநருக்கான மகஜரை வர்த்தக சங்கப் பொருளாளர் சுயந்தனும், சாவகச்சேரி பிரதேச செயலருக்கான மகஜரை சற்குணமும், சாவகச்சேரி பிரதேச செயலர் எஸ். ஸ்ரீனிவாசனிடம் கையளித்தனர்.

மேற்படி மகஜர்களில் குறிப்பிடப்படுவதாவது - சுனாமியால் பாதிக்கப்பட்ட மக்களின் மீள்கட்டுமானப்பணிகளை மேற்கொள்வதற்கு விரைவாகப் பொதுக்கட்டமைப்பு ஒன்று உருவாக்கப்படவேண்டும். மீள்குடியமர்ந்த மக்களுக்கு ரூ 25 ஆயிரம் கொடுப்பவை வழங்கி நிவாரணங்களை நிறுத்துகின்றது. (12 ஆம் பக்கம் பார்க்க)

கிளிநொச்சி நகரிலும் நேற்று மாபெரும் கண்டனப் பேரணி!

(கிளிநொச்சி)

தமிழ் மக்களின் பிரச்சினைகள் தொடர்பில் அரசாங்கம் காட்டிவரும் இழுத்தடிப்புக்களைக் கண்டித்து நேற்று கிளிநொச்சியில் மக்கள் பேரணி ஒன்று நடத்தப்பட்டது.

தமிழ் மக்களின் இயல்பு வாழ்க்கை மீள ஏற்படுத்தப்படவேண்டும். விடுதலைப் புலிகளிடம் இடைக்கால நிர்வாகசபையை கையளிக்கவேண்டும். படையினரால் பொதுமக்கள் மற்றும் போராளிகள் படுகொலை செய்யப்படுவது உடனடியாக நிறுத்தப்படவேண்டும். பொதுக்கட்டமைப்பு ஏற்படுத்துவதற்கு நடவடிக்கை எடுக்கவேண்டும் ஆகிய கோரிக்கைகளை வலியுறுத்தி இந்தப் பேரணி (12 ஆம் பக்கம் பார்க்க)



தென்னாபிரிக்க அரசியல் தலைவர்களிடம் புலிகளின் உயர்மட்டக்குழு சந்தித்து பேச்சு!



(மிரிட்டோரியா)

ஜரோப்பிய, ஆபிரிக்க நாடுகளுக்கான அரசியல் விவகாரச் சுற்றுப்பயணத்தை மேற்கொண்டிருக்கும் அரசியல்துறைப் பொறுப்பாளர் சு.ப.தமிழ்ச்செல்வன் தலைமையிலான விடுதலைப் புலிகளின் உயர்மட்டக்குழுவினர் - தென்னாபிரிக்க துணை ஜனாதிபதி ஜேக்கப் சூமா மற்றும் நோபல் பரிசாளரான பேராயர் டெஸ்லீன் டூட்டு உட்பட முக்கிய பிரமுகர்களைச் சந்தித்துப் பேச்சுக்களை நடத்தினர்.

விடுதலைப் புலிகளின் அரசியல்துறைப் பொறுப்பாளர் சு.ப.தமிழ்ச்செல்வன் தலை

மையிலான அரசியல் விவகாரக் குழுவினர் நேற்றுமுன்தினம் தென்னாபிரிக்க துணை ஜனாதிபதி ஜேக்கப் சூமாவைச் சந்தித்துப் பேசினர்.

இந்தச் சந்திப்பின் தொடக்கத்திலேயே சுனாமியால் பாதிக்கப்பட்ட மக்களுக்கு தென்னாபிரிக்க மக்கள் சார்பில் துணை ஜனாதிபதி தனது அனுதாபத்தைத் தெரிவித்துக்கொண்டார்.

தற்போதைய நிலைமை குறித்து அரசியல்துறைப் பொறுப்பாளர் சு.ப.தமிழ்ச்செல்வன் இந்தச் சந்திப்பில் கருத்து வெளியிடும்போது - (12 ஆம் பக்கம் பார்க்க)

தமிழ்த் தேசியத்தைப் புலிகள்

விடுதலைப் புலிகளிடம் நீர்மூழ்கியா?

இப்போது விடுதலைப் புலிகள்

இகவனா உறுதியுடைய வில்லை!

தமிழ்த் தேசியத்தைப் புலிகள் இப்போதே அடைந்துவிட்டனர்!

தெகல்கா இணையத்தளம் கருத்து

விடுதலைப் புலிகள் தமிழ்த் தேசியத்தை அடைந்துவிட்டதாக இந்திய அரசு சார்பு இணையத் தளமான தெகல்கா டொட் கொம் தெரிவித்துள்ளது.

தெகல்கா நிருபர் வி.கே.சஷிகுமார் விடுதலைப் புலிகளின் கட்டுப்பாட்டுப் பகுதியில் மூன்று வாரங்கள் தங்கியிருந்து எழுதியுள்ள கட்டுரையிலேயே இவ்வாறு குறிப்பிட்டுள்ளார்.

அத்துடன், விடுதலைப் புலிகளின் அரசியற்செய்தியைப் பொறுப்பாளர் சு.ப. தமிழ்ச்செல்வன் மற்றும் மகளிர் அரசியற் துறையைச் சேர்ந்த தமிழ்கவி ஆகியோருடனான செவ்விகளையும் தெகல்கா டொட் கொம் வெளியிட்டுள்ளது.

இந்திய சார்பு நிலையுடைய பத்திரிகைகள் - விடுதலைப் புலிகளுக்கு எதிரான நிலைப்பாட்டைக் கொண்டுள்ள

காலப் பகுதியில், விடுதலைப் புலிகளுக்கு ஆதரவாக ஒரு இந்திய சார்பு நிலை உட்கம் முதன் முறையாக கட்டுரை வெளியிடப்படுபது இங்கு குறிப்பிடத்தக்கது.

தெகல்கா நிருபர் சஷிகுமாரின் செய்தியில் மேலும் கூறப்பட்டிருப்பதாவது -

புலிகள் ஏற்கனவே ஒரு தேசியத்தை (12 ஆம் பக்கம் பார்க்க)

விடுதலைப் புலிகளிடம் நீர்மூழ்கியா? இதுவரை உறுதிப்படுத்தப்படவில்லை!

என்கிறார் இராணுவப் பேச்சாளர்

விடுதலைப் புலிகளிடம் நீர்மூழ்கிக் கப்பல் உள்ளதாக வெளியான செய்திகளை பாதுகாப்புத் தர்பு இது வரை உறுதிப்படுத்தவில்லை எனினும், நாட்டின் பாதுகாப்புக்கு விடுக்கப்படும் எந்தவொரு அச்சுறுத்தலை முறியடிக்கவும் படையினர் தயாராகவே உள்ளன ரென இராணுவப் பேச்சாளர் பிரிகேடியர் தயாரத்னாயக்க தெரிவித்தார்.

வடபகுதி கடற்பிரதேசத்தில் சந்தேகத்திற்கிடமான முறையில் நீர்மூழ்கிக் கப்பல் போன்றதொரு பொருளின் நடமாட்டத்தை படையினர் அவதானித்

தமை மற்றும் கடற்படை தளங்களை விடுதலைப் புலிகள் தாக்கவுள்ளதாக புலனாய்வுத் தகவல்களை மேற்கோள் காட்டி வெளியான செய்தி தொடர்பாக கருத்துத் தெரிவிக்கையிலேயே அவர் இவ்வாறு தெரிவித்தார்.

இது தொடர்பாக அவர் மேலும் தெரிவித்ததாவது -

விடுதலைப் புலிகள் கடற்படை முகாம்களைத் தாக்குவது குறித்த உறுதியான எவ்வித தகவலும் இதுவரை எமக்குக் கிடைக்கவில்லை. ஆனா (12 ஆம் பக்கம் பார்க்க)

அமெரிக்க தளபதியை கதிர்காமம் சந்திப்பு!

(கொழும்பு)

அமெரிக்கக் கடற்படையின் பசுபிக் பிராந்தியக் கட்டளைத் தளபதியாக அண்மையில் பொறுப்பேற்றுக்கொண்ட அட்மிரல் ஜேப்போன், வெளிவிவகார அமைச்சர் லக்ஸ்மன் கதிர்காமரை நேற்றுமுன்தினம் சந்தித்துப் பேச்சு நடத்தினார்.

இந்தச் சந்திப்பின்போது சுனாமி புனர்நிர்மாணம், சுனாமி தொடர்பாக இராணுவம் ஏற்படுத்தவுள்ள பொதுக் கட்டமைப்பு உள்ளிட்ட பல்வேறு விடயங்கள் குறித்தும் அமெரிக்கத் தளபதிக்கு லக்ஸ்மன் கதிர்காமர் விளக்கிக் கூறினார்.

(12 ஆம் பக்கம் பார்க்க)

விண்ணாணம் விநாசியர்



எத்தனைதரம் கட்டமைப்பை மாற்றியும் என்னததைத்தான் கிழிச்சவை...!

புலனாய்வுச் சேவை கட்டமைப்பை அரசாங்கம் மீண்டும் மாற்றுகிறது!

(கொழும்பு)

இலங்கை புலனாய்வுச் சேவையில் மீண்டும் மாற்றம் ஏற்படுத்தப்பட்டு - புதிய பணிப்பாளர் ஒருவரை இந்த மாத இறுதியில் நியமிக்க அரசாங்கம் நடவடிக்கை எடுத்திருப்பதாகத் தெரியவருகிறது.

இதுகுறித்து மேலும் தெரியவருவதாவது -

புலனாய்வுச் சேவையில் பலம் மிக்க பணிப்பாளராக இருந்த ஜே.வி.டி. சுமணசேகர இடமாற்றம் செய்யப்பட்டுள்ளார்.

எனார்.

இவருக்குப் பதிலாக புதிய பணிப்பாளர் நியமிக்கப்படும்வரை இந்த முக்கிய திணைக்களம் தலைமையற்ற நிலையிலேயே இயங்கவேண்டியநிலை ஏற்பட்டுள்ளதாக அறிவிக்கப்பட்டுள்ளது.

கடந்த மூன்று வருடங்களில் மாதிரி மூன்று முறை இலங்கை புலனாய்வுச் சேவையின் உயர் பதவியில் மாற்றங்கள் ஏற்படுத்தப்பட்டன. ஐக்கிய தேசியக் கட்சி ஆட்சிக்கு

வந்ததும் இந்த மாற்றம் ஏற்படுத்தப்பட்டது. பின்னர் முன்னாள் பாதுகாப்பு அமைச்சர் தலை மாரப்பனவால் இந்த உயர் பதவியில் மாற்றம் கொண்டுவரப்பட்டது.

ஜனாதிபதி சந்திரிகா குமாரதுங்க - பாதுகாப்பு அமைச்சைப் பொறுப்பேற்ற பின்னர் மற்றும் ஒரு மாற்றம் இடம் பெற்றது.

விடுதலைப் புலிகள் ஒரு அமைப்பென்ற நிலையில் புலனாய்வுத் (12 ஆம் பக்கம் பார்க்க)

பருத்தித்துறைப் பொலிஸாருக்கு எதிராக மனித உரிமைகள் ஆணைக்குழுவில் புகார்

(பருத்தித்துறை)
புலோலியை சேர்ந்த மூன்று இளைஞர்களை பருத்தித்துறை பொலிஸார் கைது செய்தமையை எதிர்த்து, யாழ். மனித உரிமைகள் ஆணைக்குழுவின் அலுவலகத்தில் முறைப்பாடு செய்யப்பட்டுள்ளது.

இகடந்த சில தினங்களுக்கு முன்னர் புலோலி தென்மேற்கு

பகுதியில் சொரூபம் காணாமல் போயிருந்தது. இந்தச் சம்பவம் தொடர்பாக பருத்தித்துறை பொலிஸ் நிலையத்தில் சொரூபத்தை வழிபட்டு வந்த குடும்பத்தினர் முறைப்பாடு செய்தனர்.

இதன் பின்னர் புலோலி மேற்கைச் சேர்ந்த மூன்று இளைஞர்கள் பொலிஸாரினால் கைது செய்யப்பட்டனர்.

பொலிஸார் கைது செய்தமைக்கு எதிர்ப்பு தெரிவித்தும், இவர்கள் கைது செய்யப்பட்டமை அடிப்படை உரிமை மீறப்பட்டதாகவும் எதிர்த்து நூற்றுக்கணக்கான மக்கள் கையெழுத்திட்டு மனித உரிமைகள் ஆணைக்குழுவின் யாழ்ப்பாண அலுவலகத்தில் முறைப்பாட்டுக் கடிதத்தை கையளித்தனர்..

கலந்துரையாடல்

யாழ்ப்பணம், முல்லைத்தீவு, மன்னார், கிளிநொச்சி, திருகோணமலை, மட்டக்களப்பு, அம்பாறை ஆகிய மாவட்டங்களில் புதிதாக நியமனம் பெற்று கடமையாற்றும் கடல்வள ஆசிரியர்களுக்கான ஆசிரியர் பயிற்சிக்கலாசாலை விண்ணப்பம் தொடர்பான கலந்துரையாடல் ஒன்று வரும் வெள்ளிக்கிழமை மாலை 11:30 மணிளவில் நாவலர் தியூட்டில் அமைந்துள்ள பிறைநன் கல்வி நிலையத்தில் நடைபெறவுள்ளது.

இந்தக் கலந்துரையாடலில் அனைத்து ஆசிரியர்களையும் தவறாது கலந்துகொள்ளுமாறு நீர் உயிர்வள ஆசிரியர் சங்கத்தின் தலைவர் கே. பரமேஸ்வரன் தெரிவித்துள்ளார்.

கரவெட்டிப் பிரதேச கழகங்களுக்கிடையிலான விளையாட்டுப் போட்டி

(கரவெட்டி)
வடக்கு - கிழக்கு மாகாண கல்வி பண்பாட்டலுவலர்கள் அமைச்சின் அனுசரணையுடன், வடமராட்சிதெற்கு, மேற்கு பிரதேச செயலக (கரவெட்டி) பிரிவுக்குட்பட்ட புதிது செய்யப்பட்ட கழகங்களுக்கிடையிலான விளையாட்டுப் போட்டி நிகழ்வுகள் எதிர்வரும் 17ஆம் திகதி பிற்பகல் 1.30 மணிக்கு நெல்லியடி மத்திய மகாவித்தியாலய விளையாட்டரங்கில் நடைபெறவுள்ளது.

கரவெட்டி பிரதேச செயலர் எஸ். சத்தியசீலன் தலைமையில் நடைபெறவுள்ள நிகழ்வில் - பிரதமவிருந்தினராக யாழ் அரசுஅதிபர் கே.கணேஸ் கலந்துகொள்ளவுள்ளார்.

யாழ்மாவட்ட விளையாட்டுக்கழக அதிகாரி றொகான் இராசசிங்கம் சிறப்பு விருந்தினராகவும், வடமராட்சி அரசியற் துறைப்பொறுப்பாளர் ந. இன்பன் கௌரவ விருந்தினராகவும் கலந்துகொள்ளவுள்ளார்.

இந்த விளையாட்டுப் போட்டி நிகழ்வுகளில் கலந்து கொள்ளுமாறு விளையாட்டு வீர வீராங்கனைகள் மற்றும் பொதுமக்களுக்கு வடமராட்சி தெற்கு, மேற்கு பிரதேச செயலகம் அழைப்பு விடுத்துள்ளது.

இன்றைய கிரிக்கெட்

யாழ். பல்கலைக்கழக விளையாட்டு அலுவலினால் நடாத்தப்படும் நான்கு முனை 30 ஓவர்களுக்கு மட்டுப்படுத்திய போட்டியில் இன்று யாழ் பல்கலைக்கழக விளையாட்டு மைதானத்தில் நடைபெறும் கிரிக்கெட் போட்டியில் காலை 8.30 மணிக்கு யாழ். பல்கலைக்கழக அணி எதிர் யாழ் ஸ்ரார் விளையாட்டுக்கழகமும், மாலை 1.00 மணிக்கு சென்னை லைட்ஸ் விளையாட்டுக் கழகம் எதிர் யாழ். பற்றீசியன் விளையாட்டுக் கழகமும் மோத உள்ளன. (58)

குடநாட்டு வைத்திய அதிகாரிகளுக்கு மீள் நியமனம் வழங்க அனுமதி

(யாழ்ப்பாணம்)
யாழ்மாவட்டத்தில் சுகாதார சேவைகளின் கீழ் பணிபுரியும் 65 வயதிற்கு மேற்பட்ட வைத்திய அதிகாரிகளுக்கு மீள் நியமனம் வழங்குவதற்கு அனுமதி கிடைத்துள்ளதாக சுகாதார சேவைகள் மாகாணப்பிரதிப்பணிப்பாளர் கலாநிதி ஆ. கேதீஸ் வரன் தெரிவித்துள்ளார்.

65 வயதிற்கு மேற்பட்ட அரசு உத்தியோகத்தார்களுக்கு மீள் நியமனம் வழங்க முடியாது என அண்மையில் அரசாங்கம் தெரிவித்துள்ளது. இதனால் யாழ் மாவட்ட சுகாதார சேவையில் பணிபுரியும் வைத்திய அதிகாரிகளுக்கு பற்றாக்குறை ஏற்படுமாயின் சுமார் 10 வைத்தியசாலைகள் மூடப்பட வேண்டியநிலை ஏற்படும். இந்த விடயம் தொடர்பாக சுகாதார அமைச்சுடன் தொடர்புகொண்டு பேசிய போது இதற்கான அனுமதி வழங்கப்பட்டுள்ளது.

இதேவிட அண்மைக்காலமாக யாழ் குடநாட்டில் காசநோய் அதிகரித்துள்ளதாகவும் இதற்கு காசநோய்க்குட்பட்ட நோயாளிகள் பூரணமாக சிகிச்சை பெறாமையே காரணமெனவும் கண்டறியப்படுகிறது.

இதற்காக பண்ணையில் காசநோய் மருத்துவமனை ஒன்று அமைக்கப்பட்டு வருகின்றது.

இன்றைய விளம்பர இல : 37

'நமது ஈழநாடு' 267, நாவலர் வீதி யாழ்ப்பாணம். என்ற முகவரிக்கு 15.04.2005 இற்கு முன் அனுப்பி வைக்கவும்.

★ நிர்வாகி, தமிழீழ தேசிய தொலைக்காட்சி.

UNIT

இந்தியாவில் கணனி பொறியியல் துறைப்பட்டம் பெற்றவர்களும், இந்தியாவில் இரண்டு சதாப்த காலமாக கணனியில் பல்லேறு துறைகளில் பணிபுரிந்து அனுபவம் வற்று வயவரடுத்தவர்களாகிய நாங்கள் தாயக மண்ணில் அபிப்பாய் தொழில் நுட்பத்தை வழங்கிவருகிறோம். கணனித் துறையில் எமது அனுபவம் மற்றும் தனித்தன்மையும் கொண்டு முதல் படியாக சுகல கணனி உதிரிப்பாகங்களையும் உற்பத்தியாளர்களிடமே நேரடியாக இறக்குமதி செய்து குறைந்த விலைக்கேயுரிய சேவையுடன் இலங்கையில் எங்கும் இல்லாதவாறு 3 வருட உத்தரவாதத்துடன் வழங்குகின்றோம்.

கொழும்பு விலையில் 3 வருட முழு உத்தரவாதம்

எமது சேவைகள் பல அவற்றில் சில :

- ◆ விற்பனை
- ◆ உலகத்தரம் வாய்ந்த பிரத்தியேக உதிரிப்பாகங்களை தெரிவுசெய்து இணைத்து முழுக்கணனியாகவும் மற்றும் உதிரிகளாகவும் வழங்குதல்.
- ◆ கணனித் தயாரிப்பில் முன்னணி நிறுவனங்களான compaq, DELL, IBM மற்றும் HP நிறுவனங்களில் தயாரிப்புக்களை மிகமிகக் குறைந்த விலையில் தரம் மாறாமல் வழங்குதல்.
- ◆ உலகத்தரம் மற்றும் முன்னணி தயாரிப்பு நிறுவனங்களான Perx & Asrock தயாரிப்புக்களின் ஏக விநியோகம்.
- ◆ வலைப்பின்னலைமப்பில் முன்னணி நிறுவனமான Cisco தயாரிப்புக்கள் மற்றும் சேவைகளை மிகமிகக் குறைந்த விலையில் வழங்குதல்.

இலை குறைந்த விலைக்கு கணனி இணைப்புகள் குறைந்தவிலையில் உயர்ந்தது

என்ஓஓ Hybrid Boost Hyper Thread Dual Monitor வசதிகளுடன்

New Year Offer

நாங்கள் வழங்கும் ஒவ்வொரு கணனியுடனும்

Lnkjet Printer/ 2400 DPI Scanner/ Computer Table/ 600VA UPS

மற்றும் Screen Filter, Mouse Pad & Dust Cover Totally Free

புதிய Multimedia Pentium IV கணனிகள் மூன்று வருட உத்தரவாதத்துடன் கூடிய விற்பனைக்குப் பிந்திய சேவைகள்

An Indian Engineer's Centre

We are entirely different from others

நிபந்தனைக்குட்பட்டது. இச்சலுகை சிலதினங்கள் மட்டுமே.

Universal Network of Information Technology

347, K.K.S. Road, Manohara Theatre Junction, Jaffna, Sri Lanka. (C/4051)

தமிழீழ தேசிய தொலைக்காட்சிக்கான ஆளணி வேண்டுகைகள்

தமிழீழ தேசிய தொலைக்காட்சி சேவையில் பணிபுரிவதற்கான வேண்டுகைகள் கோரப்படுகின்றன.

✪ **செய்தி வாசிப்பாளர்**

✪ **நிகழ்ச்சி அறிவிப்பாளர்**

✪ **நிகழ்ச்சித் தயாரிப்பாளர்**

✪ **நிகழ்ச்சித் தொகுப்பாளர்**

ஆண், பெண் இருபாலாரும் விண்ணப்பிக்கலாம்

நகைமைகளுக்கு அமைய கொடுப்பனவு வழங்கப்படும்

விண்ணப்பங்களை : விளம்பர இல : 37 'நமது ஈழநாடு' 267, நாவலர் வீதி யாழ்ப்பாணம்.

என்ற முகவரிக்கு 15.04.2005 இற்கு முன் அனுப்பி வைக்கவும்.

★ நிர்வாகி, தமிழீழ தேசிய தொலைக்காட்சி.

மலோகா திரையரங்கு

யாழ்ப்பாணம்

பார்த்திபன், காவேரி, மாஸார் அல்லிஸ் மற்றும் பலர் நடித்து

தலைப்பு: ஸ்ரீராமன், கௌண்ட் டவுன்

கண்ணாடிப் பூக்கள்

கா.நே: 10.30, 2.30 (4:30)

கா.நே: 6.30, 9.30 (4:30)

சித்திரம் புத்தகங்களை வெளியிடாக இலைய தளபதி ஜெய், டோய்ஸ் புகழ் ஹாண்ட், வடிவேல் நடித்து

சச்சின்

நிக்ரெட் முற்பதிவுகள் ஏற்றுக்கொள்ளப்படும்.

நாகம்ஸ் சினிமா

சுப்பலார்

புதுவருட பிரமாண்டமான வெளியீடு 14.04.2005 திசைரி 5 காட்சிகள் பு.நே. 11.00, 3.00, 7.00 இரவு விசேட காட்சியாக 10.00, இரவு 1.30

ராஜினிகாந்த், நயன்தாரா, பிரபு, ஜோதிகா, வடிவேல், நாசர் நடிப்பில் சிவாஜி புரொடக்ஷனின் 50 வது படம்

சந்திரமுக

இந்தியாவிலும் தலைக்கையிலும் ஒளிவிளக்கியிருக்கிறது

(C/3979)

ஓர் அரிய சந்தர்ப்பம்!

நாகம் புனர்வாழ்வு வைத்தியசாலையில் பயிற்சி பெற்று யாழ் ஜெய்ப்பூர் வலுவிழந்தோர் புனர்வாழ்வு நிறுவனத்தில் செயற்கை அவயவம் / சார் புறம்பு பொருத்தும் தொழில்நுட்ப வியலாளராக பணிபுரியும் வாய்ப்பு!

இதற்கு முன்னோடியாக

யாழ் ஜெய்ப்பூர் வலுவிழந்தோர் புனர்வாழ்வு நிறுவனத்தில் தொழில்நுட்ப பயிலுநரை தெரிவு செய்யும் நேர்முகப் பரீட்சை.

இடம் :- யாழ். ஜெய்ப்பூர் வலுவிழந்தோர் புனர்வாழ்வு நிறுவனம். இல. 05, பழையபூங்கா வீதி, சுண்டிக்குளி, யாழ்ப்பாணம்.

காலம் :- 15.04.2005 வெள்ளி } காலை 9.30 இலிருந்து
18.04.2005 திங்கள் } மதியம் 12.30 வரை

வயதெல்லை :- 30 சித்திரை 2005 இல் 18 - 30 வரை.

கல்வித் தகைமைகள் -

- 1) க.வொ.த (சாதாரணதரம்) இரண்டு தடவைகளுக்கு குறையாது ஆறு பாடங்களில் சித்தி, அதில் விஞ்ஞானம், கணிதம், அங்கிலம், தமிழ் அல்லது சிங்களத்தில் திறமைச் சித்திகள்.
- 2) க.வொ.த (உயர்தரம்) விஞ்ஞான பிரிவில் மூன்று பாடங்கள் ஒரே தடவையில் சித்தி, அதில் பெளதிகம் திறமைச்சித்தி.

குறிப்பு - நேர்முகப் பரீட்சைக்கு விண்ணப்பதாரிகள் தங்கள் சுயவிபரங்கள் மற்றும் கல்விச்சான்றிதழ்களின் மூலப்பிரதி, மற்றும் போட்டோ பிரதிகளுடன் மேற்குறிப்பிட்ட திகதிகளில் நேரடியாக சமூகம் தரவும்.

(1121)

- தலைவர் -

ஜனாதிபதி ஆணைக்குழுவின் விசாரணைகள் முடிவுற்றன!

(கொழும்பு)

கீழ்க்கு மாகாணத்தில் விடுதலைப் புலிகள் மீது அண்மைக் காலமாக மேற்கொள்ளப்பட்ட தாக்குதல் சம்பவங்கள் தொடர்பாக விசாரணை நடத்தி, அறிக்கை சமர்ப்பிக்குமாறு ஜனாதிபதி சந்திரிகாவால் நியமிக்கப்பட்ட விசேட ஆணைக்குழுவினின் விசாரணைகள் முடிவுடைந்துள்ளதென அந்த ஆணைக்குழுவின் செயலாளர் ஏ.ஆர்.எம்.கலீல் தெரிவித்தார்.

ஆணைக்குழு விசாரணைகள் தொடர்பான இறுதி அறிக்கை தற்போது தயாரிக்கப்பட்டு வருவதாகவும், இதன் அறிக்கை அடுத்த மாதம் மூன்றாம் திகதிக்கு முன்னர் ஜனாதிபதியிடம் கையளிக்கப்படவுள்ளதாகவும் அவர் தெரிவித்தார்.

அறிக்கை தயாரிப்பு தீவிரம்

கடந்த பெப்ரவரி முதலாம் திகதிக்கும், மார்ச் இரண்டாம் திகதிக்கும் இடையில் விடுதலைப்புலிகள் மீது மேற்கொள்ளப்பட்ட தாக்குதல் சம்பவங்களின் பின்னணி குறித்து ஆராய்வதற்காக ஜனாதிபதி சந்திரிகாவால் இந்த விசேட ஆணைக்குழு நியமிக்கப்பட்டது.

வவுனியா மேல் நீதிமன்ற நீதிபதி கே. விஸ்வநாதன் ஆணைக்குழுவினின் தலைவராகவும், அம்பாறை மேல் நீதிமன்ற நீதிபதி டபிள்யூ.சி.எம்.பி.பி.வேராவை உறுப்பினராகவும், அம்பாறை மேல் நீதிமன்ற பதிவாளர் ஆர்.எம்.கலீல் செயலாளராகவும் நியமிக்கப்பட்டிருந்தனர்.

கடந்த மார்ச் 28 ஆம் திகதி தொடக்கம் - ஏப்ரல் முதலாம் திகதி வரை அம்பாறை நீதிமன்றக் கட்டடத் தொகுதியிலும், கடந்த 4 ஆம் திகதி முதல், 8 ஆம் திகதி வரை மட்டக்களப்பு நீதிமன்ற கட்டடத் தொகுதியிலும் இந்த விசாரணைகள் இடம்பெற்றன.

இதில் இராணுவப் பொலிஸ் விசேட அதிரடிப்படை மற்றும் கண்காணிப்புக் குழு அதிகாரிகளென தரை 13 பேர், இரண்டு மாவட்டங்களிலும் சாட்சியமளித்த போதினும், விடுதலைப்புலிகளின் உறுப்பினர்கள் எனவும் சாட்சியமளிக்கவில்லை என்பதும் குறிப்பிடத்தக்கது.

பெற்றோலியக் கூட்டுத்தாபனத்துக்கு கடன் வழங்க அரசு வங்கி இணக்கம்

(கொழும்பு)

இலங்கைப் பெற்றோலியக் கூட்டுத்தாபனத்தைத் தனியார் மயப்படுத்துவது, இலாபநோக்கோடு செயற்படுத்துவதற்கு கடன்களை வழங்க அரசு வங்கிகள் விருப்பம் தெரிவித்துள்ளன என்று கூட்டுத்தாபனத்தின் உயர் அதிகாரி ஒருவர் தெரிவித்துள்ளார்.

பெற்றோலியக் கூட்டுத்தாபனத்தைத் தனியார் மயப்படுத்துவதால், திறை சேரிக்குப் பணம் பெறுவதற்குச் சென்றால் அதன் மூலம் அரசு கம்பனிகளிடம் பெற்றுக் கொள்ளும் தொகையைத் தங்கள் வங்கிகளில் வழங்க முடியும் என்று அரசு வங்கிகள் தெரிவித்துள்ளன.

வங்கிகளால் பெற்றோலியக் கூட்டுத்தாபனத்துக்குத் தரப்படும் கடன் தொகைகளுக்காகப் பெற்றோலியக் கூட்டுத்தாபனப்பங்குகளை அரசு வங்கிகளுக்கு அடக்காவ வைக்கலாம் என்றும், எரிபொருள் விற்பனையில் கிடைக்கும் நிதியிலிருந்து இந்த அடக்கை மீட்கலாம் என்றும் மக்கள் வீங்கி மற்றும் இலங்கை வங்கி ஆலோசனை தெரிவித்துள்ளது.

இந்த முறை பின்பற்றப்படுமானால், கூட்டுத்தாபனத்தைத் தனியார் மயப்படுத்தத் தேவையில்லை என்று அந்த உயர் அதிகாரி மேலும் தெரிவித்துள்ளார்.

(தே)

பகுதிநேர ஆங்கில ஆசிரியர்களுக்கு நிரந்தர நியமனம் வழங்க ஏற்பாடு! அமைச்சரவைப் பத்திரம் தூக்கல்

(கொழும்பு)

வடக்கு - கீழ்க்கு மாகாணப் பாடசாலைகளில் கடந்த எட்டு வருடங்களாக ஒப்பந்த அடிப்படையில் கடமையாற்றி வரும் சகல ஆங்கில ஆசிரியர்களையும் நிரந்தர ஆசிரிய சேவையில் உள்ளவாக்குவதற்கு நடவடிக்கைகள் மேற்கொள்ளப்பட்டு வருகின்றன.

ஜனவரி மாதம் தொடக்கம் அமுலுக்கு வரும் வகையில் நியமனங்கள் வழங்கப்பட இருப்பதாக மாகாணக் கல்வி அமைச்சின் உயர் அதிகாரி ஒருவர் தெரிவித்தார்.

அமைச்சர் பேரியல் அவர்கள் அண்மையில் ஜனாதிபதியைச் சந்தித்து இது தொடர்பாக வேண்டுகோள் விடுத்திருந்தார். அதைத்தொடர்ந்து கல்வி அமைச்சின் செயலாளர் தாரா டி மெல் இதற்கான அமைச்சரவைப் பத்திரத்தைத் தாக்கல் செய்திருக்கிறார்.

இதன் மூலம் ஒப்பந்த அடிப்படையில் கடமையாற்றும் 970 ஆசிரியர்கள் பயன்பெறவுள்ளனர்.

12 அகதிகள் தாயகம் திரும்பினர்

(புதுடெல்லி)

தமிழ் நாட்டிலிருந்து மேலும் 12 ஈழத்தமிழ் அகதிகள் நேற்றுமுன்தினம் காலை மீன்பிடி வள்ளமொன்றில் மன்னார் வழியாகத் தாயகம் திரும்பினர். மன்னார் தீவினா மணந்திட்டியொன்றில் இறக்கிவிடப்பட்ட இவர்கள் - கடற்படையினரால் மீட்கப்பட்டு, தலைமன்னார் பொலிஸாரிடம் ஒப்படைக்கப்பட்டனர்.

இவர்களை நேற்றுமுன்தினம் நீதிமன்றத்தில் ஆஜர் படுத்தியபோது, சிவில் அதிகாரிகள் ஊடகச் சொந்த இடங்களுக்கு அனுப்பிவைக்குமாறு நீதிமன்றம் உத்தரவிட்டது.

யமைச்சர்கள் வெளிநாடு செல்வதற்கான நடைமுறைகள் இருந்தும், அது பின்பற்றப்படாததாலேயே இந்தப் புதிய தீர்மானம் மேற்கொள்ளப்பட்டது.

அமைச்சர்கள் தீவிரம் என்று வெளிநாடு செல்வதால், பிரத்யமைச்சர்களைப் பதில்கடமை புரிவதற்கு நியமிப்பதில் சிக்கல்கள் உள்ளதாக ஜனாதிபதி தெரிவித்துள்ளார்.

அத்துடன், பிரத்யமைச்சர்கள் பலர் இது சம்பந்தமாகப் பல முறைப்பாடுகளை கட்சியின் பொதுச் செயலாளர் நிமால் சிறிபால டி சில்வாவுக்கு செய்துள்ளனர்.

இதனாலேயே இந்தப் புதிய நடைமுறை அமுலுக்கு வரவுள்ளதாக ஜனாதிபதி தெரிவித்தார்.

விண்ணப்பப் பத்திரத்தின் மாதிரியான ஜனாதிபதி அமைச்சரவைக் கூட்டத்தில் காண்பித்தார் எனவும் தெரிவிக்கப்படுகிறது.

மின்சாரசபை மறுசீரமைப்பதற்கு தொழிற்சங்கங்கள் ஆதரவு!

(கொழும்பு)

அரசின் அனாவசிய தலையீடுகளில் இருந்து, இலங்கை மின்சார சபையை மீட்டெடுத்து, இலங்கை மின்சார சபையை ஒரு நிறுவனமாக நடத்திச் செல்வதற்கான முழுமையான மறுசீரமைப்பு ஏற்படுத்தப்படுமானால், அதற்கு எந்தவிதத்தினும் எதிர்ப்பு இல்லை என இலங்கை மின்சாரசபையின் ஒருங்கிணைந்த தொழிற்சங்கங்களின் கூட்டமைப்பு தெரிவித்துள்ளது.

மின்சார சபையை மறுசீரமைப்பு பது தொடர்பான நிகழ்ச்சித் திட்டம் தொடர்பாக, உண்டாகியுள்ள சிக்கல்களைக் கண்டுநீரடியாடுவதன்மூலம் தீர்த்துக் கொள்வதற்கு ஒருங்கிணைந்த தொழிற்சங்கக் கூட்டமைப்புக் கொள்கையளவில் ஏற்றுக் கொண்டுள்ளது.

மின்சாரசபை தொடர்பாக அரசு மற்றும் தொழிற்சங்கங்களின் பிரதிநிதிகள் அடங்கிய விசேட மாநாடு - கடந்த 6 ஆம் திகதி நியமனம்சில் நடைபெற்றபோது, இலங்கை மின்சார சபையில் தொழிற்சங்கங்களின்

தலைவர்கள் பத்துப்பேர் கலந்து கொண்டனர். அரசைப் பிரதிநிதித்துவப்படுத்தி மின்சக்தி எரிபொருள் அமைச்சர் சுகில் பிரேம் ஜயந்த, நிதியமைச்சின் செயலாளர் பி.டி.ஜயசுந்தர, மின்சக்தி அமைச்சின் செயலாளர் வீரகன்னி, ஜனாதிபதியின்

ஆலோசகர் மனோ தித்தவெல ஆகியோர் கலந்து கொண்டனர்.

தொழிற்சங்கப் பிரதிநிதிகளுக்கும், அரசு பிரதிநிதிகளுக்கும்மிடையே அடுத்த கலந்துரையாடல் மே மாதம் 18 ஆம் திகதி நடத்துவதற்குத் தீர்மானிக்கப்பட்டது.

பிரதிப் பொலிஸ்மா அதிபர்களாக நால்வர் புதிதாக நியமனம்!

(கொழும்பு)

நான்கு சிரேஷ்ட பிரதிப் பொலிஸ்மா அதிபர்கள், பிரதிப் பொலிஸ்மா அதிபர்களாக நியமிக்கப்பட்டுள்ளதாக அறிவிக்கப்பட்டுள்ளது.

ஜயந்த விக்கிரமரட்சன, சிறிசேன ஹேரத், குமாரசிறிஹமகே, வீக்டர் பெரேரா ஆகியோரே பிரதிப் பொலிஸ்மா அதிபர்களாக நியமனம் பெற்றவர்களாவர்.

இவ்வாறு இவர்கள் நியமனம் பெற்றபோதும், செனவிரட்சணபண்டா, மகிந்த பாலசுரியா ஆகியோருக்கெதிரான குற்றச்சாட்டுக்களின் விசாரணைகள் முடிவடையும்வரை, அவர்கள் பதவியேற்பதைத் தேசிய பொலிஸ் ஆணைக்குழு இடைநிறுத்தியுள்ளது.

லண்டனில் உள்ள தமிழர்கள் மீது பொலிஸார் தீவிர கண்காணிப்பு!

(லண்டன்)

லண்டனில் வசிக்கும் ஈழத்தமிழர்கள் மத்தியில் இடம்பெற்றுவரும் குற்றச் செயல்கள் அதிகரித்து வருவதை அடுத்து, பொலிஸார் தீவிர நடவடிக்கைகளில் ஈடுபட்டுவருகின்றனர்.

கடந்த ஒன்பது மாதங்களில் மட்டும் இங்கிலாந்து பொலிஸார் 68 தமிழ் இளைஞர்களை கைது செய்துள்ளதாகத் தகவல்கள் தெரிவிக்கின்றன.

லண்டன் பொலிஸாரால் 14 இடங்களில் மேற்கொள்ளப்பட்ட சோதனையின்போது இவர்கள் கைது செய்யப்பட்டனர். இவர்களிடமிருந்து கடன் அட்டைகள் மற்றும் அதனை மாற்றியமைக்கும் இயந்தரங்கள் வாசனங்கள் இரண்டும் கைப்பற்றப்பட்டதாகத் தெரிவிக்கப்படுகிறது.

இதவேளை - இவர்களில் சிலரால் 22 மில்லியன் பவுன் மோசடி செய்யப்பட்டுள்ளதாகவும் அறிவிக்கப்பட்டுள்ளது.

இதற்கிடையில் லண்டன் பொலிஸாரால் சுமார் 500 தமிழ் இளைஞர்கள் பற்றிய தகவல்கள் திரட்டப்பட்டுள்ளதாகவும் தெரிவிக்கப்படுகிறது.

(01)

போராளி வீரச்சாவு

(மட்டக்களப்பு)

கடந்த 04.02.2005 அன்று மட்டக்களப்பு - கிராஸில் இனந் தெரியாதோரால் சுடப்பட்ட விடுதலைப் புலிகளின் போராளி ஒருவர் வீரச்சாவடைந்தார்.

வீரவேங்கை நிவேசன் என அழைக்கப்படும் மட்டக்களப்பு - புலிபாந்த கல் - கிராஸைச் சேர்ந்த சின்னத்துரை தேவகாந்தன் என்ற போராளியே வீரச்சாவடைந்ததாக அறிவிக்கப்பட்டுள்ளது.



(கொழும்பு)

ஜனாதிபதி சந்திரிகா குமாரதுங்கவின் முன்னுமதி பெற்ற

இந்தோனேஷிய பூர்வதர்ச்சி; இலங்கையில் மண் சரிவு! எச்சரிக்கிறார் பேராசிரியர்

(கொழும்பு)

இந்தோனேஷியாவின் சுமாத்ராவில் கடந்த டிசம்பர் மாதம் ஏற்பட்ட பூமியதிர்ச்சி மற்றும் அதற்குப் பின்னர் ஏற்பட்ட அதிர்வுகள் ஆகியவற்றால் இலங்கையில் மத்திய மலைநாட்டில் பாதிப்பு ஏற்படும் என்று எச்சரிக்கப்பட்டுள்ளது.

இதன் காரணமாகக் கண்டி, கோகாலை, ரத்தினபுரி, மாத்தளை ஆகிய மாவட்டங்களில் மண்சரிவுகள் ஏற்படும் அபாயம் இருப்பதாகப் பேராசிரியர் பல்கலைக்கழகப் பேராசிரியர் சி.பி. திலாநாயக்க தெரிவித்துள்ளார். இதன் காரணமாகக் கரும்மழை தொடர்ந்து மூன்று தினங்களுக்கு நிலவுமானால் மக்கள் முன்னெச்சரிக்கையாக நடந்து கொள்ளுமாறு அவர் கேட்டுள்ளார். (01)

அரசியல் நெருக்கடி குறித்து

நாட்டு மக்களுக்கு விளக்க கருத்தரங்குகளுக்கு ஏற்பாடு!

(கொழும்பு)

தற்போதைய அரசியல் நெருக்கடி குறித்து நாட்டு மக்களுக்குத் தெளிவுபடுத்தும் நோக்கில், இந்த மாதம் 23, 24 ஆம் திகதிகளில் நாடளாவிய ரீதியில் கருத்தரங்குகளை நடத்துவதற்கு சிறிலங்கா சுதந்திரக்கட்சி தீர்மானித்துள்ளது.

அரசாங்கத்தால் எதிர்காலத்தில் முன்னெடுக்கப்படவுள்ள வேலைத் திட்டங்கள், நாட்டில் தற்போது நிலவிவரும் அரசியல் நெருக்கடி, உத்தேசிக்கப்பட்ட ஒருங்கிணைந்த கட்டமைப்பு ஆகியவை தொடர்பாக நாட்டுமக்களுக்குத் தெளிவுபடுத்தும் நோக்கில் இந்தக் கருத்தரங்குகளை நடத்துவதற்குத் தீர்மானித்துள்ளதாகச் சிறிலங்கா சுதந்திரக் கட்சியின் சிரேஷ்ட பேச்சாளர் ஒருவர் தெரிவித்தார்.

இரு தினங்களும் 18 மாவட்டங்களில் இந்தக் கருத்தரங்குகளை நடத்துவதற்கான ஏற்பாடுகள் செய்யப்பட்டிருப்பதாகக் கூறப்படுகிறது.

சித்திரைப் புத்தாண்டைக் களிப்பதற்காகப் பிரிட்டன் சென்றுள்ள ஜனாதிபதி - நாடு திரும்பியதும் கட்சியின் மாவட்ட இணைப்பாளர்களுக்கு இதுகுறித்து அறிவிக்கப்படும் எனவும் தெரிவிக்கப்படுகிறது.

அம்பாறையில் இளைஞர் கைது!


(அம்பாறை)

அம்பாறை - கண்டி வீதி பதுளைச்சந்தியில் கடந்த ஞாயிற்றுக்கிழமை மாலை, 23 வயது இளைஞரொருவர் விசேட அதிரடிப்படைபினரால் கைது செய்யப்பட்டு, நீதிமன்ற உத்தரவின் பேரில் விளக்கமறியலில் வைக்கப்பட்டுள்ளார். பழகாமம் வீரச்சேனையைச் சேர்ந்த ஜெயசேகர பண்டா புகுந்தன் என்பவரே கைதுசெய்யப்பட்டவராவார்.

சோதனைச் சாவடியில் இவரைச் சோதனையிட்டபோது, துப்பாக்கியுடன் உபயோகிக்கும் கத்தி ஒன்றும், இரண்டு தேசிய அடையாள அட்டைகளும் கண்டுபிடிக்கப்பட்டதையடுத்தே இவர் கைது செய்யப்பட்டார் எனத் தெரிய வருகிறது.

பாகிஸ்தான் 3 விக்ரெட்டுக்களால்

இந்திய அணியைத் தோற்கடித்தது!



இந்திய பாகிஸ்தான் அணிகளிடையே அகமதாபாத்தில் நேற்று நடைபெற்ற நான்காவது ஒருநாள் போட்டியில் பாகிஸ்தான் 3 விக்ரெட்டுக்களால் இந்திய அணியைத் தோற்கடித்தது.


இந்த 4ஆவது ஒருநாள் போட்டி அகமதாபாத்தில் நேற்றுக்காலை 9.30 மணிக்கு ஆரம்பமாக இருந்த போதும், மைதானத்தில் ஈரப்பதம் இருந்ததால் போட்டி தொடங்குவதில் தாமதம் ஏற்பட்டது. ஆடுகளத்தைப் பார்வையிட்ட நடுவர்கள் 10 மணிக்கு போட்டி தொடங்கும் என்று முதலில் அறிவித்தனர். ஆனால் அந்த நேரத்திலும் தொடங்கமுடியவில்லை. 2ஆவது முறையாகப் பார்வையிட்ட போது 10.30 மணிக்கு தொடங்கும் என்றனர்.

எனினும் ஒரு மணிநேர தாமதத்திற்குப் பின்பு போட்டி காலை 11 மணிக்குத் தொடங்கியது. இந்திய அணியின் கப்டன் கங்குலி நாணயச் சுழற்சியில் வென்று தனது அணி முதலில் துடுப்பெடுத்தாடுமென அறிவித்தார். தொடக்க வீரர்களாக டெண்டல்கரும், ஷேவாக்கும் களமிறங்கினார்கள். இந்திய அணியின் தொடக்கம் மிகவும் சிறப்பாக இருந்தது. ஷேவாக்கும், டெண்டல்கரும் தொடக்கத்தில் இருந்தே அபாரமாக விளையாடினார்கள். இதனால் 7.1ஆவது ஓவரில் இந்திய அணி 50 ஓட்டங்களைத் தொட்டது.

நன்றாக ஆடிகொண்டிருந்த ஷேவாக் எதிர்பாராத விதமாக ரன் அவுட்டானார். யுனுஸ்கான் அவரை ஆட்டமிழக்கச் செய்தார். அவர் 29 ஓட்டங்களை எடுத்தார். அப்போது இந்திய அணியின் ஸ்கோர் 10.1 ஓவரில் 65 ஓட்டங்களாக இருந்தது. பின்னர் 2ஆவது விக்ரெட்டுக்கு டெண்டல்கருடன் டோனி ஜோடி சேர்ந்தார். இந்த ஜோடியும் சிறப்பாக ஆடியது. குறிப்பாக டெண்டல்கர் அதிரடி ஆட்டத்தில் ஈடுபட்டார். அவர் 62 பந்துகளில் 5 பவுண்டரிகள், ஒரு சிக்ஸருடன் 50 ஓட்டங்களைத் தொட்டார்.


32ஆவது ஓவரில் ஸ்கோர் 194ஆக இருந்தபோது டோனி ஆட்டமிழந்தார். அவர் 64 பந்துகளில் 4 பவுண்டரிகள், ஒரு சிக்ஸருடன் 47 ஓட்டங்களை எடுத்தார். டெண்டல்கர்-டோனி ஜோடி 2ஆவது விக்ரெட்டுக்கு 129 ஓட்டங்களை எடுத்தது. அடுத்து கப்டன் கங்குலி களமிறங்கினார்.

மறுமுனையில் இருந்த டெண்டல்கர் அபாரமாக ஆடி சதமடித்தார். 105 பந்துகளில் 10 பவுண்டரிகள், 2 சிக்ஸர்களுடன் 100 ஓட்டங்களைத் தொட்டார். இது ஒருநாள் போட்டிகளில் அவர் பெற்ற 38ஆவது சதமாகும். 33.2ஆவது ஓவரில் இந்தியா 200 ஓட்டங்களைத் தொட்டது. தொடர்ந்து மோசமாக ஆடிவந்த கங்குலி நேற்றைய ஆட்டத்திலும் சோபிக்கத் தவறினார். 18 ஓட்டங்களில் அவர் ஆட்டமிழந்தார். அப்போது ஸ்கோர் 242ஆக இருந்தது.



இந்திய அணியின் கப்டன் கங்குலி நாணயச் சுழற்சியில் வென்று தனது அணி முதலில் துடுப்பெடுத்தாடுமென அறிவித்தார். தொடக்க வீரர்களாக டெண்டல்கரும், ஷேவாக்கும் களமிறங்கினார்கள்.

அடுத்த சிறிது நேரத்தில் அபாரமாக ஆடிகொண்டிருந்த டெண்டல்கர் 123 ஓட்டங்களில் ஆட்டமிழந்தார். அவர் 130 பந்துகளில் 12 பவுண்டரிகள், 2 சிக்ஸர்களுடன் இந்த ஓட்டங்களை எடுத்தார்.



கப்டன் கங்குலி களமிறங்கினார்.

அடுத்துவந்த வீரர்களில் யுவராஜ் சிங் மட்டும் அதிரடியாக விளையாடினார். விக்ரெட்டுக்களும் மளமளவென்று சரிந்தன. ஆட்டத்தின் கடைசி ஓவரில் இந்திய அணிக்கு 19 ஓட்டங்கள் கிடைத்தன.

இந்திய அணி நிர்ணயிக்கப்பட்ட 48 ஓவர்களில் 6 விக்ரெட்டுக்கு 315 ஓட்டங்களைக் குவித்தது. யுவராஜ் சிங் 26 பந்துகளில் 5 பவுண்டரிகளுடன் 35 ஓட்டங்களை எடுத்து ஆட்டமிழக்காமல் இருந்தார்.

பந்துவீச்சில் சொகைப் மலிக் 3, மொகமட் சமி ஒரு விக்ரெட்டை வீழ்த்தினார்.


பின்னர் 316 என்ற வெற்றி இலக்கை நோக்கி பாகிஸ்தான் துடுப்பெடுத்தாடியது. சல்மான் பட்டும், அப்ரிடியும் தொடக்க வீரர்களாகக் களமிறங்கினர். தொடக்கம் முதலே அவர்கள் அதிரடி ஆட்டத்தில் ஈடுபட்டனர். அப்ரிடி 23 பந்துகளில் 40 ஓட்டங்களை எடுத்தார். சல்மான் பட்ட 48 ஓட்டங்களைப் பெற்றார்.

ஆரம்பம் முதலே பாகிஸ்தான் வீரர்கள் நிதானமாகவும், நேர்த்தியாகவும் ஆடினர். ஆரம்ப ஆட்டக் காரர்கள் ஆட்டமிழந்த பின்னர் களமிறங்கிய அப்துல் ரசாக் - சொகைப் மலிக் ஜோடியும் ஓட்டங்களைக் குவித்தது. ரசாக் 44 ஓட்டங்களை

எடுத்து ஆட்டமிழந்தார். மலிக் 65 ஓட்டங்களை எடுத்து ஆட்டமிழந்தார். பின்னர் கப்டன் இன்சாம் ஆட்டமிழக்காமல் 60 ஓட்டங்களை எடுத்து தனது அணியை வெற்றிப்பாதைக்கு அழைத்துச் சென்றார்.

முடிவில் பாகிஸ்தான் 319 ஓட்டங்களை எடுத்து இந்தியாவை 3 விக்ரெட்டுக்கள் வித்தியாசத்தில் தோற்கடித்தது. பந்துவீச்சில் முரளி கார்த்திக் மற்றும் பாலாஜி, சகீர்கான், டெண்டல்கர் தலா ஒரு விக்ரெட்டை வீழ்த்தினர்.


இதனால் 6 போட்டிகளைக் கொண்ட இந்தத் தொடரில் 2-2 என்ற



கணக்கில் இரண்டு அணிகளும் சமனிலை பெற்றுள்ளன. இந்தப் போட்டியின் ஆட்ட நாயகனாக இன்சாம்-உல்-ஹக் தெரிவானார்.

கிரிக்கெட் போட்டி

யாழ்ப்பகலைக்கழக விளையாட்டு அவையால் நடத்தப்படும் கிரிக்கெட் போட்டி பல்கலைக்கழக மைதானத்தில் நடைபெற்று வருகிறது. இன்றையதினம் நடைபெறவுள்ள ஆட்டத்தில் காலை 8.30 மணிக்கு யங்ஸ்ரார் விளையாட்டுக்கழகத்தை எதிர்த்து யாழ்ப்பகலைக்கழக அணியும் மற்றைய ஆட்டத்தில் பிற்பகல் 1 மணிக்கு சென்ரலைட்ஸ் விளையாட்டுக்கழகத்தை எதிர்த்து பற்றீசியன் விளையாட்டுக்கழகமும் மோதவுள்ளன.



சீனத் தலைநகர் பீஜிங்கில் ஞாயிற்றுக்கிழமை நடைபெற்ற பீஜிங் மரதன் போட்டியில் முதலிடம் பெற்ற கென்ய வீரர் ஈனாக் மிதேயி.

எல்லைப்படை மாவீரர் கிண்ணத்துக்கான உதைபந்தாட்ட அரையிறுதிக்கு நான்கு அணிகள் தெரிவு!

(சுன்னாகம்)

எல்லைப்படை மாவீரர் ஞாபகார்த்தமாக சுனாமி தாக்கத்தினால் பாதிக்கப்பட்ட சிறார்கள் கல்வி வளர்ச்சிக்காக தமிழீழ விளையாட்டுத் துறையின் யாழ்.மாவட்டப் பிரிவினரின் ஆதரவுடன் வலிகாம உதைபந்தாட்ட லீக் நடத்தும் உதைபந்தாட்ட போட்டி சுன்னாகம் ஸ்கந்தவரோதயக் கல்லூரி மைதானத்தில் நடைபெற்று வருகின்றது. கடந்த மாதம் 16ஆம் திகதி ஆரம்பமாகி நடைபெற்று வரும் இந்தச் சுற்றுப் போட்டியில் - யாழ்.மாவட்டத்தைச் சேர்ந்த 54 அணிகளும், வன்னி மாவட்டத்தைச் சேர்ந்த 3 அணிகளும் பங்கு பெறின.

அனைத்துச் சுற்றுகளிலும் வெற்றிபெற்ற 4 அணிகள் அரையிறுதி ஆட்டத்துக்குத் தெரிவாகியுள்ளன. இந்த அணிகளுக்கிடையிலான அரையிறுதியாட்டம், இறுதியாட்டம்

மின்னொளியில் நடைபெறவுள்ளது. இதேவேளை 40 வயதிற்கு மேற்பட்ட வர்களுக்கான உதைபந்தாட்டப் போட்டியும் இறுதியாட்டம் நடைபெறும் அதே தினத்தில் மின்னொளியில் நடத்துவதற்கு உத்தேசிக்கப்பட்டுள்ளது. இந்தப் போட்டி விஷேட காட்சிப் போட்டியாக அமையும். இந்த ஆட்டத்துக்கு யாழ். லீக், பருத்தித் துறை லீக், வலிகாம லீக், கிளிநொச்சி, முல்லைத்தீவு ஆகிய லீக்கிலிருந்து இரு அணிகள் தெரிவு செய்யப்பட்டுள்ளன.

அரையிறுதியாட்டத்துக்கு யாழ்ப்பகலைக்கழக அணி, வட்டக் கச்சி லக்கீஸ்ரார் விளையாட்டுக்கழகம், நாவாந்துறை சென்.மேரிஸ் விளையாட்டுக் கழகம், அல்வாய் மனோகரா விளையாட்டுக் கழகம் ஆகிய அணிகள் தெரிவாகியுள்ளன. இறுதியாட்டம் எதிர்வரும் 5ஆம் திகதி நடைபெறவுள்ளது.

தென்னாபிரிக்காவுக்கு எதிரான டெஸ்ட்: நெருக்கடிக்குள் மேற்கிந்தியத் தீவுகள்!

இதன்பின்னர் போயே - என்ரினி ஜோடி இணைந்துகொண்டது. ஆனால் ஸ்கோர் 384ஐ எட்டியபோது - என்ரினி 46 ஓட்டங்களுடன் ஆட்டமிழக்க கடைசி விக்ரெட்டாக - 6 ஓட்டங்களுடன் இருந்த நெல் - ஸ்கோர் 398ஐ எட்டியபோது ஆட்டமிழந்தார். போயே 13 ஓட்டங்களுடன் ஆட்டமிழக்காமல் இருந்தார்.


பந்துவீச்சில் கைல் 4, கொலின்ஸ் 2, பிராவோ 2, சிங் 1, ஹின்ட்ஸ் ஒரு விக்ரெட்டை வீழ்த்தினர்.

இதையடுத்து மேற்கிந்தியத் தீவுகள் அணி இரண்டாவது இனிங்ஸில் துடுப்பெடுத்தாட ஆரம்பித்தது. வழக்கம்போலவே ஹின்ட்ஸ் - கைல் ஜோடி களமிறங்கியது.

அணியின் ஸ்கோர் 14ஆக இருந்தபோது - முதல் விக்ரெட்டாக கைல் ஒரு ஓட்டத்துடன் பவிலியன் திரும்பினார். இதன்பின்னர் ஹின்ட்ஸ் சர்வான் இணைந்தார்.

இவர்கள் இருவரும் இணைந்து ஆடி ஸ்கோரை 74ஆக உயர்த்திய போது - ஹின்ட்ஸ் 22 ஓட்டங்களுடன் ஆட்டமிழந்து சென்றார். அடுத்து வாராக களமிறங்கியபோதும் - அவர் 4 ஓட்டங்களுடனும், அடுத்துவந்த சந்தர்ப்பால் ஒரு ஓட்டத்துடனும், பகொன் 2 ஓட்டங்களுடனும் ஆட்டமிழந்து சென்றனர்.

92 ஓட்டங்களுக்குள் 5 விக்ரெட்டுக்களை இழந்து தவித்த மேற்கிந்திய அணிக்கு எதிரான இரண்டாவது டெஸ்ட் போட்டியில் - இரண்டாவது இனிங்ஸில் 170 ஓட்டங்களுக்குள் 5 விக்ரெட்டுக்களை இழந்த மேற்கிந்தியத் தீவுகள் அணி நெருக்கடியில் உள்ளது.



தியத் தீவுகளுக்கு சர்வான் - பிராவோ ஜோடி ஆறுதலளித்தது. இவர்கள் இருவரும் இணைந்து ஆடி அணியின் ஸ்கோரை 170இற்கு உயர்த்திய நிலையில் - நான்காம்நாள் ஆட்டம் நிறுத்தப்பட்டது. ஆட்டநேரமுடிவில் சர்வான் 190 பந்துகளில் 9 பவுண்டரிகளுடன் 93 ஓட்டங்களையும், பிராவோ 108 பந்துகளில் 30 ஓட்டங்களையும் எடுத்து ஆட்டமிழக்காமல் இருந்தனர்.

விளையாட்டு

இலங்கை அணிக்கு எதிராக நியூஸிலாந்து 253 ஓட்டங்கள்!

இலங்கை அணி பந்துவீச்சாளர்களுக்குப் பெரும் நெருக்கடியைக் கொடுத்தது. ஸ்கோர் 153ஐ எட்டிய போதுதான் கபிலங்கை மூன்றாவது விக்ரெட்டாக இலங்கை அணி பந்துவீச்சாளர்களால் வீழ்த்தமுடிந்தது. வாஸ் வீசிய பந்தில் எல்.பி.டபிள்யூ முறையில் ஆட்டமிழந்த இவர் 157 பந்துகளில் 5 பவுண்டரிகளுடன் 47 ஓட்டங்களை எடுத்தார். இதையடுத்து களமிறங்கிய அஸ்ரில் அடுத்த பந்திலேயே டக் அவுட்டாகி வெளியேறினார்.

இந்தநிலையில் அணித் தலைவர் பிளையிங் களமிறங்கி நிதானமாக ஆட ஆரம்பித்ததால் - விக்ரெட் வீழ்ச்சி தடுக்கப்பட்டது.

இதனால் ஆட்டநேரமுடிவில் நியூஸிலாந்து அணி 253 ஓட்டங்களைப் பெற்றிருந்தது. நியூஸிலாந்து அணியின் 4 விக்ரெட்டுக்களையும் சமிந்த வாஸ் கைப்பற்றியிருந்தார்.

நியூஸிலாந்து அணி வீரர்களான வின்சென்ட் மற்றும் பிளையிங் ஆகியோர் ஆட்டமிழக்காமல் இருந்தனர். வின்சென்ட் 188 பந்துகளில் 8 பவுண்டரிகள் 1 சிக்ஸருடன் 79 ஓட்டங்களையும், பிளையிங் 123 பந்துகளில் 7 பவுண்டரிகளுடன் 60 ஓட்டங்களையும் பெற்றிருந்தனர்.

இலங்கை அணிக்கு எதிராக நியூஸிலாந்து 253 ஓட்டங்கள்!



(வெலிங்டன்) வெலிங்டனில் நடைபெறும் டெஸ்ட் போட்டியில் 211 ஓட்டங்களுக்குள் இலங்கை அணியைச் சுருட்டிய நியூஸிலாந்து அணி பதிலுக்குத் துடுப்பெடுத்தாடி 4 விக்ரெட்டுக்களை மட்டும் இழந்து 253 ஓட்டங்களைப் பெற்றுள்ளது.

இரண்டாவது நாளை நேற்று நியூஸிலாந்து அணி 52 ஓட்டங்களைப் பெற்றிருந்த நிலையில் ஆட்ட தொடங்கியது. ஆட்டம் தொடங்கிய சற்று நேரத்தில் அணியின் ஸ்கோர் 61ஆக இருந்தபோது - ஜேம்ஸ் மார்ஷல் 28 ஓட்டங்களுடன் ஆட்டமிழந்தார். இவரது விக்ரெட்டை எல்.பி.டபிள்யூ முறையில் வாஸ் கைப்பற்றினார். அடுத்து ஹேமில்ஸ் மார்ஷல் களமிறங்கினார். ஆனால் அவர் 6 ஓட்டங்களை மட்டும் பெற்றநிலையில் ஆட்டமிழந்ததையடுத்து - வின்சென்ட் களமிறங்கினார். கமிங் - வின்சென்ட் ஜோடி


இலங்கை அணி பந்துவீச்சாளர்களுக்குப் பெரும் நெருக்கடியைக் கொடுத்தது. ஸ்கோர் 153ஐ எட்டிய போதுதான் கபிலங்கை மூன்றாவது விக்ரெட்டாக இலங்கை அணி பந்துவீச்சாளர்களால் வீழ்த்தமுடிந்தது. வாஸ் வீசிய பந்தில் எல்.பி.டபிள்யூ முறையில் ஆட்டமிழந்த இவர் 157 பந்துகளில் 5 பவுண்டரிகளுடன் 47 ஓட்டங்களை எடுத்தார். இதையடுத்து களமிறங்கிய அஸ்ரில் அடுத்த பந்திலேயே டக் அவுட்டாகி வெளியேறினார்.

இந்தநிலையில் அணித் தலைவர் பிளையிங் களமிறங்கி நிதானமாக ஆட ஆரம்பித்ததால் - விக்ரெட் வீழ்ச்சி தடுக்கப்பட்டது.

இதனால் ஆட்டநேரமுடிவில் நியூஸிலாந்து அணி 253 ஓட்டங்களைப் பெற்றிருந்தது. நியூஸிலாந்து அணியின் 4 விக்ரெட்டுக்களையும் சமிந்த வாஸ் கைப்பற்றியிருந்தார்.

நியூஸிலாந்து அணி வீரர்களான வின்சென்ட் மற்றும் பிளையிங் ஆகியோர் ஆட்டமிழக்காமல் இருந்தனர். வின்சென்ட் 188 பந்துகளில் 8 பவுண்டரிகள் 1 சிக்ஸருடன் 79 ஓட்டங்களையும், பிளையிங் 123 பந்துகளில் 7 பவுண்டரிகளுடன் 60 ஓட்டங்களையும் பெற்றிருந்தனர்.

மாணவர் மலர்



மாணவர்களை பாடசாலைக்கு தேர்ந்தெடுப்பதற்கும், உதவிப்பணம் வழங்குவதற்குமாக தரம் 5 மாணவர்களுக்கு நடத்தப்படும் மாதிரிப் பரீட்சை வினாத்தாள் - 2005

16. இரு எண்களின் கூட்டுத்தொகை 80. அவ்விரு எண்களிடையே உள்ள வித்தியாசம் 20. அவ்விரு எண்களும் எவை?

17. $4824 = 4000 + \square + 20 + 4$ பெட்டிக்குள் வர வேண்டிய எண்ணின் பெறுமதி யாது?

18. 3 Kg தேயிலையை 500 g கொண்ட பைக்கற்றில் அடைக்க எத்தனை பைக்கற்றே தேவை?

19. ஆயிரம் ரூபாத்தாளின் நிறம் யாது?

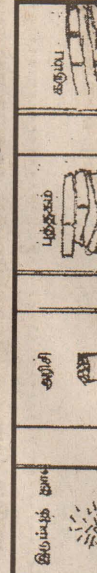
20. 32 நெல்லிக்கனிகளையும் 8 பேருக்குச் சமனாகக் கொடுக்க வேண்டுமென்றால், ஒவ்வொருவருக்கும் எத்தனை நெல்லிக்கனிகள் கிடைக்கும்?

◆ இல 21 முதல் 26 வரையுள்ள வினாக்களுக்கு சரியான விடையின் கீழ் கோடிடுக.

21. காட்டுக்கு ராஜா எது எனத் தெரிந்து அதன் கீழ் கீற்றுக.



22. சீர்ப்புடன் தொடர்புடைய பொருள் எதுவெனக் கோடிடுக.



23. நன்றி உள்ள மிருகம் யாது? கோடிடுக.



24. பௌத்த சின்னம் எதுவெனக் கீற்றுக.



25. கீழே காணப்படும் பிராணிகளில் விட்டில் வளரும் பிராணி எது?



26. கீழே காணப்படும் பிராணிகளில் தாவர உணவை உண்ணும் பிராணி எது?



◆ இல 01 முதல் 10 வரையுள்ள வினாக்களுக்குச் சரியான விடையின் கீழ் கோடிடுக.

01. தாவரங்கள் உணவு தயாரிக்கப்பயன்படுத்துவது? i) ஒளி ii) சூரிய ஒளி iii) நீர் iv) புழு

02. வரட்சியான பிரதேசத்தில் வளரும் பயிர்? i) தோடை ii) நாகதாளி iii) பலாமரம் iv) அன்னாசி

03. வகுத்தல் என்பதைக் குறிக்கும் கணிதக் குறியீடு. i) + ii) - iii) \div vi) x

04. அனைத்து உடைமைகளையும் இழந்தவன். i) அநாதை ii) அகதி iii) வறியவன் iv) உலோபி

05. தாவரம் ஒன்றுக்கு மாத்திரம் உள்ள இயல்பு பின்வருவனவற்றில் எது? i) வளர்தல் ii) காய்தல் iii) நழல்தருதல் iv) அசைதல்

06. பின்வருவனவற்றுள் இலைவகையை உண்ணும் பிராணி? i) மண்புழு ii) பல்லி iii) நத்தை iv) அட்டை

07. மின்சாரத்தை இலகுவில் கடத்தக் கூடியது? i) பலகைத் துண்டு ii) இரும்புச்சட்டம் iii) செப்புக்கம்பி iv) அலுமினியக்கம்பி

08. தையல் வகையில் ஒன்று? i) உசை ii) நூல் iii) சங்கிலித் தையல் iv) துணி

09. வாசனங்களுக்கு எரிபொருளாகப் பயன்படுத்தப்படாதது. i) டீசல் ii) மண்ணெய் iii) பெற்றோல் iv) தேங்காய் எண்ணெய்

10. தசசன் பலகையைச் சீவதற்குப் பயன்படுத்தும் உபகரணம். i) துரப்பணம் ii) வாள் iii) சீவுளி iv) அரம்

◆ இல 11 முதல் 20 வரையான வினாக்களுக்கு சரியான விடையைத் தெரிவிசெய்து அதன் கீழ் கோடிடுக.

11. இங்கு நிறுத்தப்பட்டிருப்பது முழு உருவின் என்ன பின்னமாகும். i) $8/5$ ii) $3/8$ iii) $3/4$ iv) $2/4$

12. இக்கடிகார முகத்தின் மணித்தியால முள் சரியாக 10 ஐக் காட்டுகிறது அன்படி, நிமிட முள் இருக்க வேண்டிய முறையை இக்கடிகார முகத்தில் வரைந்து காட்டுக.

13. இந்த உருவில் காணப்படும் முக்கோணிகளின் ஆகக் கூடிய எண்ணிக்கை யாது?

14. 5, 10, 20, , 80, 160 இந்த எண்கோலத்தில் வெற்றுக்கூட்டுக்குப் பொருத்தமான எண்ணை எழுதுக.

15. 6cm படத்தில் உள்ள சதுரத்தின் சுற்றளவு. யாது?

கொடுத்தாள். இருவரிடமும் உள்ள மாபிள்களின் எண்ணிக்கை சமனாகும். சர்மினியிடம் இருந்த மாபிள்களின் எண்ணிக்கை 85 ஆகும். சர்மினியிடம் ஆரம்பத்தில் இருந்த மாபிள்கள் எத்தனை?

58. ஒரு மாணவர் விடுதிக்கு சஜித்குமார் 3150 மாம்பழங்களைக் கொடுத்தார். ஒரு பின்னாக்கு 7 வீதம் 15 நாட்களுக்கு அந்த மாம்பழங்கள் போதுமானது. அவ்விடுதியில் எத்தனை பின்னாக்கள் இருக்கிறார்கள்?

59. ஒரு பொதியில் பென்சில்களைப் போன்று மடங்கு கொப்பிகள் இருந்தன. பென்சில்களை விட முன்று குறைவாக பேனைகள் இருந்தன. அங்கு 4 பேனைகள் இருந்தன. எனின் அதில் இருந்த மொத்த பொருட்களின் எண்ணிக்கை யாது?

60 ஒரு அன்னாசியின் விலை ஒரு தோடம்பழத்தின் விலையைப் போன்று இரு மடங்காகும். 5 தோடம்பழங்களினதும் 2 அன்னாசிப்பழங்களினதும் விலை 36 ரூபா எனின், ஒரு அன்னாசிப் பழத்தின் விலை யாது?

பின்வரும் சொற்களை ஆங்கில மொழியில் எழுதுக. 61. கதிரை : 62. அதிர் :

63. வகுப்பறை : 64. சந்தை :

65. தகப்பன் :

பின்வரும் தமிழ்ச்சொற்களை சிங்கள மொழியில் சிங்கள எழுத்துக்களைப் பயன்படுத்தி எழுதுக. 66. ஒன்று : 67. அம்மா :

68. அடுப்பு : 69. கத்தி :

70. சோறு :

பின்வரும் இரு வாக்கியங்களை ஒரு வாக்கியமாக எழுதுக. 71. கமலா இன்மையாக பாடினாள். வீமலா இன்மையாகப் பாடினாள்.

72. அம்மா சோறு சமைத்தாள். அம்மா வடை சுட்டாள்.

73. மல்லிகைப்பு மிக அழகானது. மல்லிகைப்பு மிக வாசனை உடையது.

74. ஆசிரியர் வகுப்புக்கு வந்தார். ஆசிரியர் பாடம் படிப்பீத்தார்.

75. நெற்று கரும் காற்று வீசியது. மரங்கள் முறிந்து வீழ்ந்தன.

76. பரதன் நாட்டை ஆண்டான். கிராமன் காட்டுக்குச் சென்றான்.

77. அம்மா வடை சுட்டாள். அம்மா சோறு சமைத்தாள்.

78. மல்லிகைப்பு மிக அழகானது. மல்லிகைப்பு மிக வாசனை உடையது.

79. ஆசிரியர் வகுப்புக்கு வந்தார். ஆசிரியர் பாடம் படிப்பீத்தார்.

80. நெற்று கரும் காற்று வீசியது. மரங்கள் முறிந்து வீழ்ந்தன.

81. பரதன் நாட்டை ஆண்டான். கிராமன் காட்டுக்குச் சென்றான்.

82. அம்மா வடை சுட்டாள். அம்மா சோறு சமைத்தாள்.

83. மல்லிகைப்பு மிக அழகானது. மல்லிகைப்பு மிக வாசனை உடையது.

84. ஆசிரியர் வகுப்புக்கு வந்தார். ஆசிரியர் பாடம் படிப்பீத்தார்.

85. நெற்று கரும் காற்று வீசியது. மரங்கள் முறிந்து வீழ்ந்தன.

86. பரதன் நாட்டை ஆண்டான். கிராமன் காட்டுக்குச் சென்றான்.

மனிதனுக்கு அவசியமான நிறையுணவில் அடங்க வேண்டிய உணவுக் கூறுகள் பெறப்படும் உணவுகளைத் தெரிந்து அதன் இலக்கத்தைச் சூர்த்தினுள் எழுதுக

42. புரதம்

43. கனியச்சத்து

44. உயிர்ச்சத்து

45. கொழுப்பு

46. மாப்பொருள்

கீழே உள்ள பழமொழிகளைப் பூர்த்தி செய்ய இடைவெளிகளை நிரப்புக.

48. அடம்பன் கொடியும்

49. சிறு துள்

50. எதுவும் அசையாது

பின்வரும் வினாக்களுக்கு விடையை புள்ளிக் கோட்டில் எழுதுக.

51. பாலா புத்தகக் கடைக்குச் சென்று ரூபா 120 விலை யுள்ள ஜம்புது புத்தகங்களை வாங்கினார். அவருக்கு 20 வீதம் கழிவு கிடைத்தது. அவர் கொடுக்க வேண்டிய பணம் எவ்வளவு?

52. குமாரும், தேவனும் மணல் அள்ளிக் கொட்டும் வேலையில் ஈடுபட்டார்கள். குமார் 5 கூடை கொட்டும் போது தேவன் 4 கூடை கொட்டுவான். இருவருமாகச் சேர்ந்து 2745 கூடை மணல் அள்ளிக் கொட்டி இருந்தால் தேவன் கொட்டிய மணல் கூடைகள் எத்தனை?

53. 2 வாரம் 3 நாள் 15 மணித்தியாலத்தை, மணித்தியாலத்தில் எழுதுக?

54. அல்வாக் 225 சென்ரிமீற்றர் வயர் வாங்கி வந்தார். அதனை மீற்றர் சென்ரிமீற்றரில் எழுதுக?

55. அஜ்தா தனது சம்பளத்தில் 1/9 ஐ உணவுக்கும் 1/3 ஐ உடைக்கும் செலவு செய்த பின் ரூபா 500 ஐச் சேமிக்கிறார். அவரது சம்பளம் யாது?

56. தந்தையினதும், மகனதும் வயது முன்று வருடங்களுக்கு முன்பு 48 ஆகும். இப்பொழுது மகனின் வயது 19 எனின் தந்தையின் வயது என்னவாக இருக்கும்?

57. திவ்யாவிடமும், சர்மினியிடமும் 150 மாபிள்கள் உள்ள சர்மினியிடம் உள்ள மாபிள்களில் 15 ஐ கவிதாவுக்கு

மாணவர் மலர் - ii

இல 27 முதல் 31 வரையுள்ள வினாக்களில் 'அ' பகுதிக்குப் பொருத்தமான விடையை 'ஆ' பகுதிக்குப் பொருத்தமான விடைக் கூட்டிற்குள் இருக்க.

27. முள்ளந்தண்டு இல்லாதது. A ஆணீவோர் B ஆமை C மண்புழு D ஆந்தை E நாருருவோர்
28. இரவில் கண் நன்றாகத் தெரியும் A ஆணீவோர் B ஆமை C மண்புழு D ஆந்தை E நாருருவோர்
29. முங்கில் மரங்கள் A ஆணீவோர் B ஆமை C மண்புழு D ஆந்தை E நாருருவோர்
30. முட்டையிட்டு இனிப் பெருக்கம் செய்யும் A ஆணீவோர் B ஆமை C மண்புழு D ஆந்தை E நாருருவோர்
31. பலாபரம் A ஆணீவோர் B ஆமை C மண்புழு D ஆந்தை E நாருருவோர்

◆ பின்வரும் பாடலைப் படித்து 32 முதல் 36 வரையுள்ள வினாக்களுக்கு விடை தருக.

சின்னச் சின்னத் தேவீ
சிறுமை இல்லாத தேவீ
உன்மைப் போல நானும்
உலகை வலம் வரவேணும்.

அன்னை தன்னைப் பேணும்
அன்பு மிக்க தேவீ
வண்ண வண்ணப் புவை
வளைந்து வரும் தேவீ

32. தேவியும் இல்லாத குணம் யாகு?

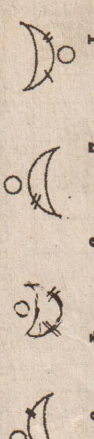
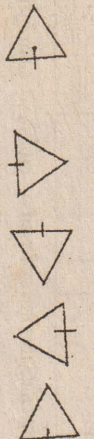
33. தேவீ வண்ண வண்ணப் புவை ஏன் வளைந்து வருகிறது?

34. தேவியைப்போல் தான் என்ன செய்ய வேண்டும் எனக் கவிஞர் கூறுகின்றார்?

35. இப்பாடலில் உள்ள அடுக்குமொழி இரண்டு தருக.

36. ஒத்த சொல் தருக.

◆ இல 37 தொடக்கம் 40 வரையுள்ள வினாக்களில் தரப்பட்டுள்ள உருவங்களில் ஒன்று பொருத்தமற்றது. அதன் கீழ் கோடிடுக.



எல்லா வினாக்களுக்கும் இத்தாளிலேயே விடை எழுதுக. கீழே கொடுக்கப்பட்டுள்ள ஒரு குடும்பத்தின் பரம்பரை அமைந்த விதமாகும். அதனை நன்கு அவதானித்து வினாக்களுக்கு விடை தருக.

அமலன் + கவிதா
(கணவன்) (மனைவி)

செல்வன் + கவிதா
(கணவன்) (மனைவி)

சுந்தர் கீதா மலர்
(கணவன்) (மனைவி)

↓

தர்சன்

↓

விமலா + ஈஸ்வரன்
(மனைவி) (கணவன்)

↓

ரவி ராஜா சுந்தர்

(கணவன்) (மனைவி)

01. இவர்களில் இப்பொழுது இளையவராக இருக்கும் பெண்கள் இருவரின் பெயர்களை எழுதுக?

1.

2.

02. இவர்களில் திருமணம் செய்யாதிருக்கும் முதியவர் யார்?

03. சுந்தர், விமலா ஆகியோரின் உறவு முறை யாகு?

04. அமலனுக்குள்ள ஆண் பிள்ளைகள் எத்தனை பேர்? பெயர்களைக் குறிப்பிடுக.

05. கவிதாவின் மகனது பெயர் என்ன?

06. மலரின் தந்தையின் பெயர் யாகு?

07. அமலனுக்கு ரவி என்ன முறை?

08. சுந்தரிக்கு ராஜா என்ன உறவு முறை?

09. சுந்தரிக்கு தர்சன் என்ன உறவு முறை?

10. மலருக்கு தர்சன் என்ன உறவு முறை?

பின்வரும் சொற்களுக்கு உதிர்த்துக் கொடுக்க வேண்டுக.

11. சகுனம்

12. ஜக்கியம்

மாணவர் மலர் - iii

இல 13 - 22 வரை உள்ள வினாக்களில் கூறப்படும் கருத்து சரியான (சரி) என்றும் பிழையான (பிழை) என்றும் புள்ளிக் கோட்டில் எழுதுக.

13. உடுக்குதோலாம் செய்யப்பட்ட கருவியாகும். (.....)

14. கைப்பந்து ஒரு குழு விளையாட்டாகும். (.....)

15. சூரியன் பூமியைச் சுற்றுவதால் இரவு பகல் ஏற்படுகிறது. (.....)

16. கவிதா கார்நாடி ஒன்றைத் தயாரிப்பதற்கு ற்பார் விதை பயிற்சி பெறவேண்டும். (.....)

17. இடிவிளையாடு பாப்பா என்றும் பாடல் ஒளையாரால் பாடப்பட்டது. (.....)

18. தேசிய கீதத்தைப் பாடியவர் திரு சுனில் சாந்த (.....)

19. தராசு இரண்டாம் வகை நெம்புகோல் ஆகும். (.....)

20. சிவப்பு நிறத்தையும், மஞ்சள் நிறத்தையும் கலக்கும் போது செம்மஞ்சள் நிறம் உண்டாகும். (.....)

21. முனையை மாற்றிச் சகிச்சை முலம் மனிதனுக்குப் பொருத்த முடியும். (.....)

22. இலங்கையின் தேசிய வீராக்களில் மே தினமும் ஒன்றாகும். (.....)

23. 'அ' பகுதிக்குப் பொருத்தமான வாக்கியத்தை / சொல்லை 'ஆ' பகுதியில் இருந்து தெரிந்து அதன் இலக்கத்தைப் புள்ளிக்கோட்டில் எழுதுக.

24. ஒரு நாளின் உஷ்ணத்தை அளப்பது

25. மரங்களில் இருக்கும் நீர் ஆவியாக வெளியேறுவதற்கு

26. உப்பு தயாரிக்கும் இடம்

27. நுளம்பால் ஏற்படும் பயங்கர நோய்

28. தானுடைய நிறல் தன்னுடைய காலால் மதிப்பும் நேரம்

29. மரங்கள் காய்ந்து ஒன்றோடொன்று உரசும் போது

30. விவசாயிகளின் நண்பன்

31. கன்று வளர்வதற்கு பசுவை தேவை அதோடு

32. நமது நாட்டின் தேசிய மரம்

இலக்கம்

ஆ பகுதி

1. கலாவாவி

2. பகல் 12 மணி

3. ஒணான்

4. வெப்பமான்

5. உப்பளம்

6. நாகமரம்

7. பெருங்கு காய்ச்சல்

8. சூரிய ஒளி தேவை

9. வெயில், மழை, காற்று தேவை

10. தீப்பற்றும்

கீழே உள்ள சைகைகளை அவதானித்து அவை குறிப்பிடும் குறிப்பை புள்ளிக் கோட்டில் எழுதுக.



பனை வளத்தை அழிவிட்டுந்து பாதுகாக்க திணைக்கள தலைவர்கள் முன்வரவேண்டும்

பொருண்மிய மேம்பாட்டு நிறுவன பொறுப்பாளர்

(கிளிநொச்சி)
தமிழினத்தின் அடையாளச் சின்னமான பனை வளத்தை அழிவு களிலிருந்து பாதுகாக்க அனைத்து அரசு மற்றும் அரசுசார்பற்ற நிறுவனங்களின் தலைவர்கள் முன்வர வேண்டும்.
இவ்வாறு தமிழீழ பொருண்மிய மேம்பாட்டு நிறுவன பொறுப்பாளர் சி.கரிசாலைத் தெரிவித்தார்.
இது தொடர்பாக பொருண்மிய மேம்பாட்டு நிறுவனம் வெளியிட்டுள்ள அறிக்கையில் தெரிவிக்கப்பட்டுள்ளதாவது -
எமது தேசத்தின், எமது இனத்தின் அடையாளச் சின்னமான பனை வளம் திட்டமிட்ட வகையில் இராணுவத்தினராலும் - அதேவேளை தங்க எது வீட்டுத் தேவைகளுக்கென எமது மக்களாலும் கண்மூடித்தனமாக அழிக்கப்பட்டுவருகின்றது.

சுனாமி போன்ற இயற்கை அனர்த்தங்களாலும் இந்த வளம் பெருமளவு அழிவுற்ற நிலையில் இந்த வளத்தை மேலும் அழிவிட்டுந்து காப்பாற்ற வேண்டியது ஒவ்வொரு தமிழ்க் குடிமகனினதும் கட்டாய தேவையாகும்.
அந்த வகையில் தமிழ்த் தேசத்தில் பணிபுரியும் அரசு திணைக்களத் தலைவர்கள், அரசு சார்பற்ற நிறுவனங்களின் தலைவர்கள், துறைசார் பொறுப்பதிகாரிகள், பொதுமக்கள் என அனைவரும் இந்த விடயத்தில் அதி கூடிய கவனத்தைச் செலுத்தி பனை வளத்தை அழிவிட்டுந்து பாதுகாக்க அக்கறையுடன் செயற்படவேண்டும்.
அதேவேளை கட்டிட நிர்மாணங்களுக்கு இடையூறாக இருக்கும் பனை மரங்கள், குடிமனைகளுக்கு அச்சுறுத்தலாக இருக்கும் பனை மரங்கள், பட்ட நிலையில் இருக்கும் பனை மரங்கள் ஆகியவற்றைத் தறிப்பவர்கள் தமிழீழ பொருண்மிய மேம்பாட்டு நிறுவன பிரதேச இணைப்பாளர்கள் தொடர்பு கொண்டு - மாவட்ட பொறுப்பாளர்களின் அனுமதியுடன் தறிக்குமாறும் அந்த அறிக்கையில் மேலும் தெரிவிக்கப்படுகிறது.

கள் தமிழீழ பொருண்மிய மேம்பாட்டு நிறுவன பிரதேச இணைப்பாளர்கள் தொடர்பு கொண்டு - மாவட்ட பொறுப்பாளர்களின் அனுமதியுடன் தறிக்குமாறும் அந்த அறிக்கையில் மேலும் தெரிவிக்கப்படுகிறது.

மனையியல் கண்காட்சி

கரவெட்டி பிரதேச செயலக பிரிவு மாதர் அபிவிருத்தி நிலையம் நடத்தும் தையல் மனையியல் கண்காட்சி எதிர்வரும் 18 ஆம் திகதி காலை 10 மணிக்கு நெல்லியடி மத்திய மகா வித்தியாலயத்தில் நடைபெறவுள்ளது.
இந்த நிகழ்வில் பிரதம விருந்தினராக யாழ்.மாவட்ட மேலதிக அரசாங்க அதிபர் ஆ.சிவசுவாமியும் - சிறப்பு விருந்தினராக மாவட்ட செயலக உதவி அரசாங்க அதிபர் தலைமைப்பீடத்தைச் சேர்ந்த வே.வீரபத்திரபிள்ளையும் கலந்து சிறப்பிக்கவுள்ளனர். இந்தக் கண்காட்சியைப் பிரதம விருந்தினர் ஆரம்பித்துவைக்கவுள்ளார்.

முதுமானிக் கற்கைநெறி; ஆரம்ப நிகழ்வும், கருத்தரங்கும்

(யாழ்ப்பாணம்)
ஈ.ஈ.எஸ் நிறுவனம் சிலிங்கோ நிறுவனத்தின் உயர் கல்விச் செயற்பாட்டினுள் ஈ.சி.பி.ரி. நிறுவனத்துடன் இணைந்து ஆரம்பிக்கப்படவிருக்கும் தொழில் நிர்வாகத்தில் முதுமானிக் கற்கை நெறிக்கான ஆரம்ப நிகழ்வும் வழிகாட்டல் கருத்தரங்கும் எதிர்வரும் சனிக்கிழமை மாலை 3 மணிக்கு ஈ.ஈ.எஸ் பிரதான மண்டபத்தில் - இயக்குனர் விக்கினேஷ் தலைமையில் இடம்பெறவுள்ளது.
இந்த நிகழ்வில் மணிபல் பல்கலைக்கழகத்தின் இலங்கைக்கான பிரதிநிதிகளும், ஈ.சி.பி.ரி. நிறுவனத்தின் தலைவர் ஜெகத் அல்விஸ் மற்றும் பொது முகாமையாளர் மொகான் பத்திரன் மற்றும் -
நிறுவனத்தின் உயர் மட்டப் பிரதிநிதிகளான அனூரா கமகே, நிரோஜன் மடமிற்றிகே ஆகியோர் கலந்து கொள்ளவுள்ளனர்.
முதுமானிக் கற்கைநெறியில் ஆர்வமுடையோர் இந்தக் கருத்தரங்கில் கலந்து சிறப்பிக்குமாறு ஈ.ஈ.எஸ் நிறுவனம் அழைப்பு விடுத்துள்ளது.

லைக்கழகத்தின் இலங்கைக்கான பிரதிநிதிகளும், ஈ.சி.பி.ரி. நிறுவனத்தின் தலைவர் ஜெகத் அல்விஸ் மற்றும் பொது முகாமையாளர் மொகான் பத்திரன் மற்றும் -
நிறுவனத்தின் உயர் மட்டப் பிரதிநிதிகளான அனூரா கமகே, நிரோஜன் மடமிற்றிகே ஆகியோர் கலந்து கொள்ளவுள்ளனர்.
முதுமானிக் கற்கைநெறியில் ஆர்வமுடையோர் இந்தக் கருத்தரங்கில் கலந்து சிறப்பிக்குமாறு ஈ.ஈ.எஸ் நிறுவனம் அழைப்பு விடுத்துள்ளது.

வலி.தென்மேற்கு பிரதேச சபையில் ஆணைக்குழு அமைக்க தீர்மானம்!

(சதுமலை)
மானிப்பாய் பிரதேசத்தின் அபிவிருத்திச் செயற்பாடுகளை முன்னெடுக்கும் நோக்கில் - வலி.தென்மேற்கு மானிப்பாய் பிரதேச சபையில் இந்த வருடத்துக்கான அபிவிருத்தி ஆலோசனைக் குழுவொன்று அமைக்கப்படவுள்ளது.
வலி.தென்மேற்கு பிரதேச சபை எல்லைக்குட்பட்ட அரசு மற்றும் அரசு சார்பற்ற மற்றும் பொது அமைப்புக்களின் பிரதிநிதிகளில் 14 பேரைத்

தெரிவுசெய்து தமக்கு அனுப்பி வைக்குமாறு - யாழ்.பிராந்திய உள்ளுராட்சி உதவி ஆணையாளர் க.இராசையா, மானிப்பாய் பிரதேச சபையைக் கேட்டுள்ளார்.
இந்த ஆண்டில் மேற்கொள்ளப்படவுள்ள முகாமைத்துவ கழுவல் தொடர்பான அபிவிருத்தித் திட்டங்கள் பற்றிய விடயங்கள் இந்த ஆலோசனைக் குழுவின் பரிந்துரையின் பிரகாரமே மேற்கொள்ளப்படவுள்ளதாகவும் தெரிவிக்கிறது.

கிளிய பிறந்தநாள் வாழ்த்துக்கள்

முலாவலர் ஜெவையி



பெயர் : தி.ராகவி
முகவரி : அல்வாய்

வாழ்க வளமுடன்

சிறான் பெயர் :
முகவரி :
பிறந்த ஆண்டு :
கூப்பன்கள் புகழும், புகைப்படமும் இத்துடன் இணைக்கப்பட்டுள்ளன.

மதுபோதையில்

மோட்டார் சைக்கிளைச் செலுத்தியவர் பொலிஸாரிடம் வசமாகச் சிக்கினார்!

(கோண்டாவில்)
மதுபோதையில் மோட்டார் சைக்கிள் செலுத்தியவர் பொலிஸாரால் கைதுசெய்யப்பட்டு நீதிமன்றில் ஆஜர்படுத்தப்பட்டார்.
இந்தச் சம்பவம் கோப்பாய் பொலிஸ் நிலையப் பகுதியில் இடம்பெற்றுள்ளது. மதுபோதையில் மேற்படி பகுதியில் மோட்டார் சைக்கிளைச் செலுத்திவந்த நவாலியைச் சேர்ந்த ஒருவரே, நள்ளிரவுவேளை ரோந்துசென்ற பொலிஸாரால் கைது செய்யப்பட்டார்.
நீதிமன்றில் ஆஜர்படுத்தப்பட்டார்.
இந்த நபருக்குத் நீதிவான் ஆர்.ரி. விக்கிராஜா 3500 ரூபாய் குற்றப்பணம் செலுத்துமாறும் - இவரிடம் சாரதி அனுமதிப் பத்திரம், தலைக்கவசம் மற்றும் மோட்டார் சைக்கிளுக்கான இலக்கத்தகடு உள்ளிட்ட ஆவணங்கள் எதுவும் இல்லாத காரணத்தால் மேலதிகமாக 2000 ரூபாய் தர்மப்பணமாகவும் செலுத்துமாறும் உத்தரவிட்டுத் தீர்ப்பளித்தார். (82)

யப்பட்டார். நீதிமன்றில் ஆஜர்படுத்தப்பட்டார்.
இந்த நபருக்குத் நீதிவான் ஆர்.ரி. விக்கிராஜா 3500 ரூபாய் குற்றப்பணம் செலுத்துமாறும் - இவரிடம் சாரதி அனுமதிப் பத்திரம், தலைக்கவசம் மற்றும் மோட்டார் சைக்கிளுக்கான இலக்கத்தகடு உள்ளிட்ட ஆவணங்கள் எதுவும் இல்லாத காரணத்தால் மேலதிகமாக 2000 ரூபாய் தர்மப்பணமாகவும் செலுத்துமாறும் உத்தரவிட்டுத் தீர்ப்பளித்தார். (82)

உளவளத்துறை ஆசிரியர்களுக்கு மூன்றுவாரகாலப் பயிற்சிநெறி!

கல்வியமைச்சு, ஜி.ரி.இசர் நிறுவனம் இணைந்து செயற்படுத்தும் அடிப்படைக் கல்வி நிகழ்ச்சித் திட்டத்தின் கீழ் வடக்கு - கிழக்கு மாகாணங்களில் இருந்து தெரிவுசெய்யப்பட்ட உளவளத்துறை ஆசிரியர்களுக்கு உயர் பயிற்சி வகுப்பு நடைபெற்றது.
ஜேர்மனியிலிருந்து வருகைதந்திருந்த கலாநிதி எலிசபெத் தலைமையிலான குழுவினரால் கடந்த மூன்று வாரங்களாக சாந்திகம் நிறுவனத்தில் இந்தப் பயிற்சிகள் நடத்தப்பட்டுவருகின்றன.
உளவளத்துறையில் உயர் பயிற்சி நெறியான - மனவடுக்களுக்கு உட்பட்ட மாணவர்களுக்கு உதவும் சம்பவ விபரிப்பு சிகிச்சை நெறியை

வெற்றிகரமாகப் பூர்த்திசெய்தவர்களுக்கான சான்றிதழ் வழங்கும் நிகழ்வுகடந்த சனிக்கிழமை ஜி.ரி.இசர் நிறுவன தொழில்நுட்ப ஆலோசகர் சுந்தரம் டிவகலாலா தலைமையில் நடைபெற்றது.
ஜி.ரி.இசர் நிறுவன அடிப்படைக் கல்வி நிகழ்ச்சித்திட்டப் பணிப்பாளர் கலாநிதி ஜோர்ஹைட ஹீக் பிரதம விருந்தினராகக் கலந்துகொண்ட இந்த நிகழ்வில் - சிறப்பு விருந்தினர்களாக யாழ்.பல்கலைக்கழக மருத்துவப்பீடத்தைச் சேர்ந்த பேராசிரியர் தயா சோமசுந்தரம், வலிகாமம் வலயக் கல்விப் பணிப்பாளர் சி.விக்கினேசுவரன் ஆகியோர் கலந்து சிறப்பித்தனர். (31)

'உடகவியலாளர்களுக்கு ஓர் அறிமுகம்' பயிற்சிப் படறையும், சான்றிதழ் வழங்கலும்

(யாழ்ப்பாணம்)
பாதுகாவலன் பத்திரிகையும், சமூக தொடர்பு ஆணைக்குழுவும் இணைந்து நடத்திய உடகவியலுக்கு ஒரு அறிமுகம் எனும் பயிற்சிப் பட்டறையில் கலந்துகொண்டவர்களுக்கான சான்றிதழ் வழங்கும் நிகழ்வு - கடந்த ஞாயிற்றுக்கிழமை காலை 10 மணிக்கு யாழ். மறைக்கல்வி நடுநிலைய மண்டபத்தில் பாதுகாவலன் ஆசிரியர் அருட்திரு ரூபன் மரியாம் பிள்ளை தலைமையில் இடம்பெற்றது.
பாதுகாவலன் பத்திரிகையும், சமூக தொடர்பு ஆணைக்குழுவும் இணைந்து ஒவ்வொரு வருடமும் நடத்திவரும் இந்தப் பயிற்சிப் பட்டறை மூன்று நாட்களாக நடைபெற்றது.
இந்த ஆண்டு குருப்பட்டம் பெறும் அருட்சகோதரர்கள், சென்ற ஆண்

டின் உடக கழகப் பயிற்சியின்போது யாழ்.மாவட்ட சமூக தொடர்பு ஆணைக்குழுவால் தயாரிக்கப்பட்ட 'மௌன உணர்வுகள்' குறும் திரைப்படம் காண்பிக்கப்பட்டது. இந்த நிகழ்வில் அமலமரித் தியாகிகள் சபையின் வடமாகாண அதிபர் அருட்திரு ஜீவேந்திரா போல் பயிற்சிபெற்ற மாணவர்களுக்கு சான்றிதழ்களை வழங்கினார்.
வருடாந்த மஹோற்சவம்
(மாதகல்)
மாதகல் நுணசை அருள்மிகு ஸ்ரீ முருகமூர்த்தி ஆலய வருடாந்த மஹோற்சவம் இன்று கொடியேற்றத்துடன் ஆரம்பமாகித் தொடர்ந்து 9 தினங்கள் நடைபெறவுள்ளது. எதிர்வரும் 23 ஆம் திகதி இரதோற்சவமும், மறுநாள் தீர்த்தோற்சவமும் இடம்பெறவுள்ளது.

சாவகச்சேரியில் நடைபெற்ற பேரணியில் மகஜர்கள் கையளிப்போரும், கலந்துகொண்டோரும்



கல்விப் பொதுத் தராதரப்பத்திர (உ/த) பரீட்சை - 2005

பொருளியல்

ஆசிரியர் : இ.இராஜேஸ்வரன்
(B.Com., Dip-in-Edu)
Jaffna Central College

க.பொ.த உயர்தரப் பரீட்சைக்காகத் தம்மைத் தயார்படுத்திக் கொண்டிருக்கும் மாணவர்கள் இலகுவாகச் சிறந்த பெறுபேறுகளைப் பெற வசதியாக இத் தொடர் வெளிவருகின்றது. தவறாது இத் தொடரைப் பின்பற்றி பயிற்சி பெறுவதன் மூலம் உங்கள் இலக்கை அடைய முடியும்.

(தொடர்ச்சி)

முதலாளித்துவப் பொருளாதாரம்

1. கட்டில்லாச் சந்தைப் பொருளாதாரமொன்றின் பிரதான இயல்புகள் யாவை?

2. முதலாளித்துவத்தின் பிரதான மறைகரத்தினை விளக்குக.

3. முதலாளித்துவத்தில் விலைப் பொறிமுறை எவ்வழிகளில் உற்பத்திச் சாதனங்களை ஒதுக்கீடு செய்கின்றது.

4. சந்தைப் பொருளாதாரத்தில் ஏன் நுகர்வோன் இறைமையுடையவனாவான் எனப்படுகின்றது?

5. முதலாளித்துவத்தில் எந்தநிலைமைகளின் கீழ் அரசு தலையிடுகின்றது.

6. விலை முறைமையின் தொழிற்பாட்டில் அரசு தலையிட எத்தகைய கருவிகளைப் பயன்படுத்தும்?

♦ பொருட்கள் -

1. இலவசப் பொருட்களை பொருளாதாரப் பொருளிலிருந்து வேறுபடுத்துக.

2. இலவசப் பொருட்களின் இயல்புகளைத் தருக.

3. இலவசப் பொருட்கள் எல்லையற்ற நிரம்பலை உடையவை ஏற்கலாமா விளக்குக?

4. இலவசப் பண்டத்துக்கும் பொருளாதாரப் பண்டத்துக்குமான ஒற்றுமை யாது?

5. இலவசப் பொருட்கள் எப்போதும் இலவசப் பொருட்களாகவே காணப்படும் என்பதை ஏற்பீரா? விளக்குக.

6. பின்வரும் பொருட்களை இனம் கண்டு விளக்கம் தருக?

i) புலமைப் பரிசில் கொடுப்பனவு

ii) குழாய் நீர்

iii) இலவச சீருடை

iv) நிலா ஒளி

v) மிளகாய் புதப்படுத்தப்படும் சூரிய ஒளி

vi) இலவச நிவாரண அரிசி

vii) பல்கலைக்கழக பட்டச்சான்றிதழ்

viii) பயனற்ற, கைவிடப்பட்ட குளிர்சாதனப் பெட்டி

வரைபட ரீதியான வினாக்கள்

1. உற்பத்தி சாத்திய வளையியை வரைவதில் எத்தகைய எடுகோள்கள் பயன்படும்.

2. உற்பத்தி சாத்திய வளையி என்றால் என்ன?

3. உற்பத்தி சாத்திய வளையி ஏன் மேலிருந்து கீழாகச் சாய்ந்து செல்கின்றது?

4. உற்பத்தி சாத்திய புள்ளி ஒன்று எதனைக் குறிக்கின்றது?

5. உற்பத்தி சாத்தியப் வளையி எச்சந்தர்ப்பங்களில் வலது புறம் நகரும்?

6. உற்பத்தி சாத்திய எல்லையின் வடிவத்தை எக்காரணிகள் தீர்மானிக்கின்றன?

7. பின்வரும் விடயங்களை எவ்வாறு உற்பத்திசாத்திய வளையில் காட்டுவீர்?

(இவ் வினா வகை அதிகளவு முக்கியத்துவம் கொண்டது)

i) வேலை வாய்ப்பில் கணிசமான வீழ்ச்சி

ii) குறைந்து செல்லும் எல்லை விளைவு விதியின் பின் எல்லை வினைதிறன் அதிகரிப்பு

iii) ஒரு கைத்தொழிலின் வினைத்திறனை உயர்த்தி, மற்றைய கைத்தொழிலின் வினைத்திறன் உயராத நிலை

iv) இரு பண்ட உற்பத்தியிலும் சமவிகித உள்ளீடுகள் பயன்படல்?

v) முகாமையில் முன்னேற்றம் காரணமாக ஒரு பண்ட உற்பத்தியில் உற்பத்தித்திறன் அதிகரிப்பு

vi) உற்பத்தியின் போது எல்லை வினைதிறன் குறைதல்

vii) அமையச் செலவு இன்றி இரு பண்ட உற்பத்தி அதிகரிப்பு

viii) வரட்சி ஒன்றின் விளைவாக விவசாய உற்பத்தி வீழ்ச்சி

ix) சக்தி நெருக்கடி காரணமாக மின் வளங்கள் குறைக்கப்படல்

x) அரசு முயற்சிகள் தனியார் மயமாக்கலும், வெளியீடு அதிகரிப்பும்

xi) இரண்டு கைத்தொழிலும், தொழிலாளரின் வினைத்திறனை விருத்தி செய்யும் நிகழ்ச்சித்திட்டம் நடைமுறைப்படுத்தப்படல்

xii) இரசாயனத் தொழிற்சாலை ஊழியர்கள் வேலை நிறுத்தமும் உற்பத்தி வீழ்ச்சியும்

xiii) ஆடை உற்பத்திக்கான அமையச் செலவு ஒரு எல்லை வரை அதிகரித்து பின் வீழ்ச்சி

xiv) பொருளாதாரம் ஒன்று 50 சதவீத வளர்ச்சியடைதல்

xv) சர்வதேச வர்த்தகத்தினால் ஏற்படக்கூடிய பரிமாற்ற நன்மை

கல்விப் பொதுத் தராதரப்பத்திர (உ/த) பரீட்சை - 2005



கணக்கீடு

ஆசிரியர் : D. சாம்

அறிவுறுத்தல் :

முதலாம் வினா உட்பட ஐந்து வினாக்களுக்கு மட்டும் விடை எழுதுக.

ஒவ்வொரு விடையும் புதியதொரு தாளில் ஆரம்பிக்கப்படல் வேண்டும். ஒவ்வொரு விடையுடனும் பொருத்தமான செயன்முறைகள் கிணைக்கப்படல் வேண்டும்.

1. (அ) பின்வரும் ஒவ்வொன்றும் மெய்யானதா, பொய்யானதா என்று குறிப்பிடுக. விடையளிக்கும் போது வினாக்களின் கிலக்கத்திற்கு எதிரே மெய்யானதா, அல்லது பொய்யானதா எனக் குறிப்பிட்டால் போதுமானது.

(i) ஒவ்வொரு பங்காளரும் பங்குடமையின் ஒரு முகவராவார். ஆதலால் பங்காளரின் பேரில் பங்காளர் ஒருவரால் செய்து கொள்ளப்படும் மாற்றப் பங்காளிகளையும் கட்டுப்படுத்துகின்றது.

(ii) பங்குடமையின் கிலாப நடட்டங்கள் பங்காளர்களுக்கிடையே எப்பொழுதும் பங்கிடப்படுவது அவர்களுடைய கிலாபப் பகிர்வு வீகித்தத்தின் வீகிதாசாரப்படியாகும்.

(iii) ஒருவரின் கூற்றின்படி பின்வருவன முன்வைக்கப்படுகின்றன.

(1) பங்காளிகளின் கிலாபப் பகிர்வு வீகித்தத்தில் ஒரு மாற்றம் ஏற்படுதல்.

(2) தமது முலதனமாகத் தமக்குச் சொந்தமான தனிபரிமை வியாபாரத்தை வழங்கும் ஒரு புதிய பங்காளியைச் சேர்த்தல்.

(3) பங்குடமையிலிருந்து அவருக்குச் சேரவேண்டிய தொகையை ஒரு கிளைப்பாறும் பங்காளிக்குச் செலுத்துதல்

கிவற்றில் ஒரு பங்குடமை வியாபாரத்தினது நன்மதிப்பின் பெறுமதியில் ஒரு மாற்றத்தை விளைவிப்பது (2) ஆவது ஆகும்.

(iv) பங்காளர் கிளைப்பாறினால் பங்குடமைச் சட்டப்படி அவரின் கடன்தொகைக்கான வட்டி 5% என பிரிவு 44 குறிப்பிடுகின்றது.

(ஆ)

(i) கமல், கஸ்தூரி என்ற பங்காளிகள் கிருவரில் ஒருவர் ரூபா 600, 000 என்ற அடிப்படையில் முதலீடு செய்தும் கிலாப நடட்டத்தை சமமாகப் பகிர்ந்தும் பங்குடமையினை இயக்குகின்றார்கள். 01.01.2002 இல் இக் பாலையும் கீழ்க்கண்ட நிபந்தனைகளில் பங்காளராக கிணைக்கின்றார்கள்.

(1) பங்குடமைக்கு இப்பால் ரூபா 600, 000 அறிமுகப்படுத்துவார்.

(2) இப்பாலின் வரவின் பின்னர் பங்குடமையின் கிலாப நடட்டம் சமமாகப் பகிர்வது இப்பாலின் வரவினால் நன்மதிப்பு ரூபா 300, 000 மதிப்பிடப்படும். 01.01.2002 இல் ரூபா 250, 000 பெறுமானத்தில் காணப்படும் கட்டடம் ரூபா 400, 000 என மீள் மதிப்புச் செய்யப்பட்டது.

கீழ்க்கண்டவற்றை அனுமானித்துக் கொண்டு தேவையான நாட்குறிப்புப் பதிவுகளைத் தருக. (காசு உட்பட)

(அ) பங்குடமைப் புத்தகங்களில் இப்பாலின் வரவின் போது நன்மதிப்பு ரூபா 100 000 காணப்பட்டது. பங்காளர்கள் சொத்துக்களின் மீள் மதிப்பின் புதிய பெறுமானம் தரவுகளில் காட்டப்பட வேண்டும் என விரும்புகின்றனர்.

(ஆ) இப்பாலின் வரவின் போது பங்குடமைப் புத்தகங்களில் காட்டப்பட்ட நன்மதிப்புக் கணக்கின் பெறுமதி ரூபா 300 000. சொத்துக்களின் புதிய பெறுமான மதிப்பு புத்தகங்களில் காட்டப்பட வேண்டுமென பங்காளர்கள் விரும்புகின்றனர்.

(இ) இப்பாலின் வரவின் போது நன்மதிப்புக் கணக்கு புத்தகங்களில் காட்டப்படவில்லை. பங்காளர்கள் புதிய சொத்துக்களின் பெறுமதி புத்தகங்களில் காட்டப்படுவதை விரும்பவில்லை.

(ii) ஆனந், ஜது, விது என்னும் முவர் கிலாபங்களையும், நடட்டங்களையும் தம்மிடையே 5:3:2 எனும் வீகித்தத்தில் பகிர்ந்து கொள்ளும் பங்குடமை யொன்றில் சேர்ந்தனர். ஜது 2001 ஏப்ரல் 01 ஆந் திகதி பங்குடமையிலிருந்து ஓய்வு பெறத் தீர்மானித்தார். அதே தினத்தன்று அதுஷன் ஆனவர் ஒரு பங்காளராக சேர்த்துக்கொள்ளப்பட்டார். ஆனந், விது, அதுஷன் ஆகியோரிடையே புதிய கிலாபப் பகிர்வு வீகிதம்

முறையே 6:4:2 ஆக கிணங்கிக் கொள்ளப்பட்டது. இரு பங்குடமை உடன்படிக்கைகளிலும் வணிகத்தின் நன்மதிப்பானது கடந்த ஐந்து ஆண்டுகளினதும் நிறையளித்த சராசரி ஆண்டுக்குரிய கிலாபங்களின் ஈராண்டுக் கொள்வனவு விலையில் பெறுமானமிடப்பட வேண்டுமெனக்

கூறப்பட்டிருந்தது. பொருத்தமான தகவல்கள் வருமாறு.

	கிலாபம்/நட்டம்	நிறை
1996/97 ஆண்டு	32 500	1
1997/98 ஆண்டு	32 000	2
1998/99 ஆண்டு	9 000 (வரவு)	2
1999/00 ஆண்டு	25 500	3
2000/01 ஆண்டு	21 500	4

வேண்டப்படுவது:-

நன்மதிப்பைக் கணித்தல்
(ஈ) கணேஷ், ஹமீத், லொக்கு எனும் முவர் தமது கணக்குகளை ஆண்டு தோறும் டிசம்பர் 31 வரை பூர்த்தி செய்யும் பங்குடமையொன்றில் சேர்ந்திருந்தனர். 2000 டிசம்பர் 31 இல் அவர்களது ஐந்தொகை.

உரிமையும் பொறுப்புக்களும்	ரூபா	ரூபா	சொத்துக்கள்	ரூபா	ரூபா	ரூபா
உரிமை:						
முலதனக்கணக்கு:			நடைமுறையல்லாத சொத்துக்கள்:			
கணேஷ்	60 000		ஆகனம், பொறி, கியந்திம்			
ஹமீத்	30 000		உபகரணம்:			
லொக்கு	30 000	12 000	கிறையில் கட்டவளவு	கிரயம்	திரண்ட பெறுமானம்	தேறிய மீத
நடைமுறைக்கணக்கு:			மோட்டார் வாகனங்கள்	80 000	20 000	60 000
கணேஷ்	10 000		ஆலுவலகப் பொறி	40 000	24 000	16 000
ஹமீத்	6 000			36 000	16 000	20 000
லொக்கு	(12 000)	4 000		156 000	60 000	96 000
நடைமுறைப் பொறுப்புகள்:		12 000	நடைமுறைச் சொத்துக்கள்: வியாபார இருப்பு கடன்பட்டோர்			16 000
கடன்கொடுத்தோர்		136 000	வங்கி			6 000
						18 000

நிலையான சொத்துக்கள் கிரயத்தின் மீது பின்வருமாறு தேய்மானத்துக்கான ஏற்பாட்டைச் செய்வது பங்காளர்களின் கொள்கையாக இருந்தது.

- கிறையில் கட்டட வளவு - ஆண்டொன்றிற்கு 2.5%
- மோட்டார் வாகனங்கள் - ஆண்டொன்றிற்கு 20%
- அலுவலகப் பொறி - ஆண்டொன்றிற்கு 25%

கணேஷ் சம்பளமாக ஆண்டொன்றுக்கு ரூபா 20 000 எனும் தொகையைப் பெற்றார். பங்காளர்களுக்கு முதல்களின் மீது ஆண்டொன்றிற்கு 10% படி வட்டி அனுமதிக்கப்பட்டது. கிலாபங்களும் நடட்டங்களும் பின்வருமாறு பகிரப்பட்டன. கணேஷ் 1/2, ஹமீத் 1/4, லொக்கு 1/4 2000 டிசம்பர் 31 ஆந் திகதியன்று கணேஷ் ஓய்வு பெற்றார். பங்காளர்கள் பின்வருவன தொடர்பில் கிணங்கினர்.

(i) மோட்டார் வாகனங்களுள் ஒன்றை ரூபா 8 000 எனும் பெறுமானத்தில் கணேஷ் எடுத்துக் கொள்ள வேண்டும். இவ் வாகனம் 2000 ஜனவரி 1 ஆம் திகதியன்று ரூபா 16 000 எனும் தொகைக்கு கொள்வனவு செய்யப்பட்டது. கணேஷிற்கு அவரது ஓய்வுறலின் போது சென்மதியான தொகை யின் ரூபா 40 000, 2001 ஜூன் 30 ஆம் திகதியன்று அவரது முலதனக் கணக்கில் ரூபா 40 000, 2001 ஜூன் 30 ஆம் திகதியன்று அவரது முலதனக் கணக்கில் ரூபா 40 000, 2001 ஜூன் 30 ஆம் திகதியன்று அவரது முலதனக் கணக்கின் மீத அவருக்கு 2001 டிசம்பர் 31 ஆம் திகதியன்று செலுத்தப்படும்.

(ii) நிலையான சொத்துக்கள் அத்திகதியில் பின்வருமாறு மீள்பெறுமானமிடப்படுதல் வேண்டும்.

கிறையில் கட்டடவளவு ரூபா 120 000
மோட்டார் வாகனங்கள் (கணேஷ் எடுத்துக் கொண்ட வாகனம் தவிர) ரூபா 12 000 அலுவலகப் பொறி ரூபா 8 000

(iii) நன்மதிப்பு ரூபா 40 000 ஆகப் பெறுமானம் கிடப்படும். ஆனால் அது ஏடுகளில் பதியப்படமாட்டாது வேண்டப்படுவது:

- (1) முலதனக் கணக்குகளும் நடைமுறைக் கணக்குகளும் (நிரல் வடிவில்)
- (2) 2001 ஜனவரி 1 கிலான ஐந்தொகை. (தொடரும்...)