

நமது

நாமநாடு

www.dreamsolutions.com வெளியீடுகள்
DREAM SOLUTIONS PVT LTD
The King Of Multimedia

சயகற்றலுக்கான தமிழில்
பல்லாடக குறுவட்டுக்கள்

Ms-Word-xp	Pagemaker	Java
Ms-Excel-xp	PhotoShop	TCP/IP
PowerPoint-xp	CorelDraw	SQL
Ms-Access-xp	Macromedia Flash	Thirukkural
Ms-FrontPage-xp	Computer Hardware	Thamizha
Ms-Visual Basic	3D-Studio Max.	இன்னும் பல...

27%, யாழ்வீதி, மாண்புமயம். தொ.இல.0777 740413

தமிழர் தாயகத்தின் முன்னோடி நாளிதழ்

மலர்: 03 திருவள்ளூர் ஆண்டு: 2036 சித்திரை - 05 ஆம் நாள் ஹிஜ்ரி 1428 ற.அவ்வல்08 [18.04.2005] திங்கட்கிழமை இதழ்:201

முன்னாள் பாதுகாப்புச் செயலாளர் கனடாவுக்குள் நுழைய தகுதியற்றவர்!

இலங்கை அரசின் தூதுவர் நியமனத்தை கனடிய அரசாங்கம் நிராகரிப்பு!

(கொழும்பு)

கனடாவுக்கான உயர்ஸ்தானிகராக முன்மொழியப்பட்ட பாதுகாப்பு அமைச்சின் முன்னாள் செயலாளர் சந்திரானந்த டி சில்வா மீது மனித உரிமை மீறல் குற்றச்சாட்டுக்கள் சுமத்தப்பட்டிருப்பதால், அவரது நியமனத்தை அங்கீகரிக்க கனடிய அரசாங்கம் மறுத்துவிட்டதாகத் தெரிவிக்கப்படுகிறது. இதுகுறித்து மேலும் தெரியவருவதாவது முன்னாள் தேர்தல் ஆணையாளரும் பாதுகாப்புச் செயலாளருமான சந்திரானந்த டி சில்வாவை கனடாவுக்கான உயர்ஸ்தானிகராக நியமிக்க அரசாங்கம் முன்மொழிந்திருந்தது.

சாங்கம் முன்மொழிந்திருந்தது.

ஆனால் இவரது இந்த நியமனத்தை நிராகரிப்பதாக கனடா அரசாங்கம் கடந்த வாரம் இலங்கையின் வெளியுறவு அமைச்சுக்கு அறிவித்துள்ளது. பாதுகாப்பு அமைச்சின் செயலராக பதவிவகித்த காலத்தில் சந்திரானந்த டி சில்வா மனித உரிமை மீறல்களில் ஈடுபட்டதாக குற்றச்சாட்டுக்கள் உள்ள நிலையில் தமது நாட்டின் பயங்கரவாதத் தடைச்சட்டம் 2000 இன்படி அவர் தனது நாட்டுக்குள் நுழையத் தகுதியற்றவர் என கனடா அறிவித்துள்ளது. கனடாவில், இந்த முடிவானது இலங்கை அரசாங்கத்துக்கு புதியதொரு நெருக்கடியை ஏற்படுத்தியுள்ளதாகவும் தெரிவிக்கப்படுகிறது.

இதேவேளை கனடாவின் இந்த முடிவுக்கு ரொறன்ரோ நகரில் வாழும் தமிழர்களே தூண்டுதலாக இருந்திருக்க வேண்டுமென கொழும்பிலுள்ள இராஜதந்திர வட்டாரங்கள் தெரிவித்தன. இலங்கை சமாதான முயற்சிகளில் கனடிய அரசாங்கம் அதிகளவான பங்களிப்பைச் செய்வது குறித்து ஆராய்ந்துவரும் நிலையிலேயே கனடா சந்திரானந்த டி சில்வாவுக்கு சிவப்புக்கொடி காட்டியிருப்பது குறிப்பிடத்தக்கது.

அமெரிக்காவின்

பிரதி இராஜாங்கச் செயலர் இன்று கொழும்பு வருகிறார்!

(கொழும்பு)

தெற்காசிய விவகாரங்களுக்கு பொறுப்பான அமெரிக்க இராஜாங்க பிரதிச்செயலாளர் கிரிஸ் ரினா ஹொக்கா - மூன்று நாள் விஜயத்தை மேற்கொண்டு இன்று கொழும்பு வரவுள்ளார். இவர் இலங்கையில் தங்கியிருக்கும்போது ஜனாதிபதி சந்திரிகா குமாரதுங்க, பிரதமர் மகிந்த ராஜபக்ஷ, எதிர்க்கட்சித்தலைவர் ரணில் விக்கிரமசிங்க உள்ளிட்ட அரசு தரப்பு பிரமுகர்கள் பலரையும் சந்தித்துக் கலந்துரையாட இருப்பதாக

கொழும்பிலுள்ள அமெரிக்கத்தூதரகம் தெரிவித்துள்ளது.

சுனாமியால் பாதிக்கப்பட்ட கிழக்குப் பகுதிகளுக்கு விஜயம் செய்யவுள்ள கிரிஸ்ரினா ஹொக்கா - சுனாமியால் ஏற்பட்டுள்ள பாதிப்புகளை நேரடியாகப் பார்வையிடவுள்ளார். நோர்வே வெளிவிவகார அமைச்சின் விசேட ஆலோசகர் எரிக் சொல்ஹெய்மையும் இவர் கொழும்பில் சந்திக்கவுள்ளார். இந்தச் சந்திப்பின்போது இலங்கையின் சமாதான (12 ஆம் பக்கம் பார்க்க)

சமாதான முன்முயற்சிகளில் விரைந்து முடிவெடுக்கப்படும்!

புத்தளத்தில் எரிக் சொல்ஹெய்ம் தெரிவிப்பு



(கொழும்பு)

இலங்கையில் தமிழ், சிங்களம், முஸ்லிம் ஆகிய இனங்கள் நெருக்கடியான நிலையில் உள்ளன. விசேடமாக வடபகுதி மக்கள் பெருமளவு சிரமங்களை அனுபவித்துள்ளனர். எனவே, இந்தப் பிரச்சினை தொடர் பாக முடிந்தளவு விரைவில் முடிவுகளை எடுப்போம் என்பதே நோர்வே அரசாங்கத்தினால் வழங்கக்கூடிய உறுதிமொழியென, நோர்வேயின் விசேட சமாதானப் பிரதிநிதி எரிக் சொல்ஹெய்ம் தெரிவித்தார்.

நேற்று புத்தளம் பகுதிக்கு விஜயத்தை மேற்கொண்டிருந்த விசேட (12 ஆம் பக்கம் பார்க்க)

கிளாலியில் பறந்த விமானம்:

பொதுக்கட்டமைப்பை அரசு

கிளாலியில் பறந்த விமானம்: ==

முன்னுக்குப் பின்னர் முரணாக செய்தி வெளியிட படைத்தரப்பு!

(கொழும்பு)

கிளாலி கடல்நீரேரிப் பகுதியில் விடுதலைப் புலிகளது எனச் சந்தேகிக்கப்படும் விமானம் ஒன்று - பறந்ததாக இராணுவத் தலைமையகம் செய்தி வெளியிட்டிருந்தபோதும் -

இராணுவப் பேச்சாளர் பிரிகேடியர் தயா ரத்னாயக்க - இதை உறுதிப்படுத்த முடியாதெனத் தெரிவித்துள்ளார்.

கிளாலி கடல்நீரேரிக்கு மேலாக புலிகளின் விமானம் ஒன்று பறந்ததாக

நேற்றைய பத்திரிகைகளில் வெளியான செய்தி குறித்து இராணுவப் பேச்சாளர் பிரிகேடியர் தயா ரத்னாயக்க கருத்துத் தெரிவிக்கையில் -

புலிகளின் பகுதியில் விமானம் ஒன்று பறந்ததான செய்தியை உறுதிப்படுத்த முடியாது. இது குறித்து விசாரணை ஒன்று நடத்தப்படவுள்ளது.

விடுதலைப் புலிகளிடம் விமானம் இருப்பது குறித்து செய்திகள் வெளிவரந்த போதும் - யாழ்.குடாக் கடலுக்கு மேலா

கப் பறந்தது குறித்துக் கூறப்படும் செய்தியை உறுதிப்படுத்த முடியாது.

விடுதலைப் புலிகள் இயக்கம், தமது பலம் குறித்து போலிப் பிரசாரத்தில் ஈடுபட்டுள்ளது.

தம்பிடம் விமான ஓடுபாதை, விமானம், கப்பல் என்பன இருப்பதாக அண்மைக்காலமாக ஊடகங்கள் மூலம் அவர்கள் பிரசாரங்களை மேற்கொண்டு வருகின்றனர்.

(12 ஆம் பக்கம் பார்க்க)

1300 பேருக்கு வங்கிகளில் ஜன் மாதம் வேலைவாய்ப்பு

(கொழும்பு)

கல்விப் பொதுத் தராதர உயர்தரப் பரீட்சையில் சித்தியடைந்த 1300 பேருக்கு எதிர்வரும் ஜன் மாதம் முதற்கட்டமாக வேலை வாய்ப்பு வழங்கப்படும் போவதாக பிரதிநிதியமைச் சற்றுச்சித்தியம்பொ பிட்டிய தெரிவித்துள்ளார்.

கல்விப் பொதுத் தராதர சாதாரண தர உயர்தரப்பரீட்சையில் சித்தியடைந்த 30 ஆயிரம் பேருக்கு வேலை

வாய்ப்பு வழங்கும் திட்டத்தில் முதற்கட்டமாகவே 1300 பேருக்கு வேலை வாய்ப்பு வழங்கப்படவுள்ளது.

இதற்கமைய 750 பேருக்கு மக்கள் வங்கியினும், இலங்கை வங்கியில் 300 பேருக்கும், தேசிய சேமிப்பு வங்கியில் 250 பேருக்கும் வேலை வாய்ப்பு வழங்கப்படும் எனவும் அவர் தெரிவித்தார்.

(12 ஆம் பக்கம் பார்க்க)

விண்ணாணம் விநாசியர்



அரசாங்கத்தினர் ஆட்டம் இனியும் பலிக்காது பாருங்கோ...!

பொதுக்கட்டமைப்பை அரசு நீராகரித்துவிடக் கூடாது!

கலாநிதி தயா ஜயதிலக கூறுகிறார்
(கொழும்பு)

இடைக்கால நிர்வாக அடிப்படை யில்தான் பேச்சுவார்த்தைகளை ஆரம்பிக்கவேண்டும் என்ற நிலைப்பாட்டிலிருந்து விடுதலைப் புலிகள், ஒருங்கிணைந்த பொதுக் கட்டமைப்பு ஒன்றை உருவாக்குவதற்கு சம்மதம் தெரிவித்துள்ளமை சிறப்பானதொரு விடயம் என்று, கொழும்பு பல்கலைக் கழக அரசு அறிவித்துவந்த விளிவுரையாளர் கலாநிதி தயா ஜயதிலக தெரிவித்தார்.

இது குறித்து அவர் மேலும் கருத்துத் தெரிவிக்கையில் - பொதுக்கட்டமைப்பை நாம் நிராகரிக்கக்கூடாது. இந்த நிலைக்கு புலிகளை வரவழைத்தது எமக்கு பாரிய வெற்றி.

எனவே, இதன்புலம் இலங்கையில் எதிர்காலத்தில் ஏற்படக்கூடிய பாரிய அழிவுகளைத் தடுக்க முடியும். இருப்பினும் இதன் உள்ளடக்கம் தொடர்பாக கவனம் செலுத்த வேண்டும்.

(12 ஆம் பக்கம் பார்க்க)

பொதுக்கட்டமைப்புக் குறித்து விரைவில் சந்திரிகா முடிவு!

(கொழும்பு)

சனாமி அனர்த்த நிவாரண நடவடிக்கைகளை வடக்கு - கீழ்க்கில் முன்னெடுப்பதற்கான பொதுக்கட்டமைப்பை உருவாக்குதல், முக்கிய அரசுதுறை நிறுவனங்களை தனியார் மயப்படுத்த துதல் உள்ளிட்ட - சர்ச்சைகளுக்குள் ளாகியிருக்கும் - தேசிய முக்கியத் துவம்வாய்ந்த விடயங்கள் குறித்து ஜனாதிபதி சந்திரிகா விரைவில் தீர்க்கமான முடிவு ஒன்றை அறிவிக்க விருப்பதாக கொழும்புச் செய்திகள் தெரிவித்தன.

பொதுக் கட்டமைப்பு உருவாக்கம், தனியார் மயப்படுத்தல் ஆகிய விடயங்களில் அரசாங்கத்தின் முயற்சிகளுக்கு ஜே.வி.பி. கரும் எதிர்ப்பைக் காட்டி வருகின்றபோதும் - ஜனாதிபதி சந்திரிகா இந்த விடயங்களில் தீர்க்கமான முடிவை எடுக்கப் போவதாகவும் - அவர்களது எதிர்ப்பைச் சவாலாக எடுத்துச் செயற்பட விருப்பதாகவும் தெரிவிக்கப்படுகிறது.

(12 ஆம் பக்கம் பார்க்க)

கோப்பாய் கோட்ட மெய்வல்லுநர் போட்டி முடிவுகள்

கோப்பாய் கோட்டமட்ட பாடசாலை களுக்கிடையிலான மெய்வல்லுநர் போட்டிகளில் முதல் மூன்று இடங்களையும் பெற்ற மாணவர்களின் விபரம் வருமாறு

11 வயது ஆண்கள்	100 மீற்றர்	1. வீ.மதியுடன் 2. ஜே.நிவேதன் 3. ஜே.மயூரன்	15 வயது ஆண்கள்	100 மீற்றர்	1. என்.கோல்டன்டான் 2. ரீ.டினேஸ் 3. எஸ்.கிசோத்	100 மீற்றர்	1. எஸ்.ஸ்ரீராகவன் 2. எஸ்.டினின் 3. ஜே.நெல்சன்	19 வயது ஆண்கள்	100 மீற்றர்	1. ரீ.கோமரோ 2. எஸ்.சுரேஸ் 3. வி.ஜனுஸ்காந்	
75 மீற்றர்	1. வீ.மதியுடன் 2. ஜே.நிவேதன் 3. ஜே.மயூரன்	200 மீற்றர்	1. ஆர்.கிருபாகரன் 2. பி.நிரோசன் 3. எஸ்.கிசோத்	40 மீற்றர்	1. எம்.மதனரூபன் 2. கே.துவாரகன் 3. ரி.பிரபாகரன்	200 மீற்றர்	1. எம்.மதனரூபன் 2. ரி.சுகிர்தன் 3. ரி.பிரபாகரன்	200 மீற்றர்	1. கே.சபேசன் 2. வி.தமிழ்ச்செல்வன் 3. எம்.மயூரன்	40 மீற்றர்	1. வி.மதிசன் 2. கே.சபேசன் 3. எஸ்.அனிஸ்டன் றொடேட்
100 மீற்றர்	1. ஜே.மயூரன் 2. வி.மதியுடன் 3. எஸ்.தர்சிவன்	40 மீற்றர்	1. ரீ.நிரோஜன் 2. கோல்டன்டான் 3. ரி.டினேஸ்	800 மீற்றர்	1. எம்.மதனரூபன் 2. ரி.சுகிர்தன் 3. ரி.பிரபாகரன்	800 மீற்றர்	1. ரி.தனிஸ் 2. கே.டினோசன் 3. ரி.பிரபாகரன்	40 மீற்றர்	1. வி.மதிசன் 2. கே.சபேசன் 3. எஸ்.அனிஸ்டன் றொடேட்	800 மீற்றர்	1. ரி.நகுலேஸ்வரன் 2. எஸ்.கோகுலகிருஷ்ணன் 3. எஸ்.அனிஸ்டன் றொடேட்
நீளம்பாய்தல்	1. ஜி.விதுசன் 2. யு.சொரூபன் 3. ஜே.நிவேதன் 3. வீ.பிரியதர்சன்	நீளம் பாய்தல்	1. எஸ்.கிசோத் 2. ஜே.சஜீவன் 3. ஆர்.சஞ்சீவன்	1500 மீற்றர்	1. ரி.தனிஸ் 2. கே.டினோசன் 3. ரி.பிரபாகரன்	நீளம் பாய்தல்	1. ஆர்.நிசாந்தன் 2. கே.டினோசன் 3. ரீ.பார்த்தீபன்	800 மீற்றர்	1. ரி.நகுலேஸ்வரன் 2. எஸ்.கோகுலகிருஷ்ணன் 3. எஸ்.அனிஸ்டன் றொடேட்	1500 மீற்றர்	1. ரி.நகுலேஸ்வரன் 2. வி.ஜெனடித் மென்டிஸ் 3. எம்.மயூரன்
உயரம் பாய்தல்	1. ஜே.மயூரன் 2. எஸ்.திருசாந் 3. வை.சுதர்சன்	உயரம் பாய்தல்	1. ரி.சியாம்சுமார் 2. ஆர்.ஜெசிதரன் 3. ஜி.தவசீவன்	முப்பாச்சல்	1. எஸ்.பிரசாந்தன் 2. ஆர்.டயன் 3. ரி.நியூட்டன்	முப்பாச்சல்	1. எஸ்.பிரசாந்தன் 2. ஆர்.டயன் 3. ரி.நியூட்டன்	1500 மீற்றர்	1. ரி.நகுலேஸ்வரன் 2. வி.ஜெனடித் மென்டிஸ் 3. எம்.மயூரன்	நீளம் பாய்தல்	1. ரி.லட்சியசீவன் 2. எஸ்.கோகுலகிருஷ்ணன் 3. வை.தினேஸ்
13 வயது ஆண்கள்	100 மீற்றர்	1. வை.பிரதாபன் 2. என்.தனுசன் 3. வை.ஜகீவன்	குண்டெறிதல்	1. பி.அங்குசன் 2. என்.கோல்டன்டான் 3. ரி.சயந்தன்	உயரம் பாய்தல்	1. ஆர்.டயன் 2. வி.நிதர்சன் 3. பி.அயந்தன்	குண்டெறிதல்	1. கே.நிதீபன் 2. ரி.சுபீட்சன் 3. பி.நிவேதன்	உயரம் பாய்தல்	1. ரி.லட்சியசீவன் 2. கே.சபேசன் 3. வி.தனுஸ்காந்	
200 மீற்றர்	1. என்.தனுசன் 2. கே.நிரோசன் 3. பி.கஜீபன்	தட்டெறிதல்	1. பி.துவாரகன் 2. பி.சர்மிளன் 3. பி.அங்குசன்	உயரம் பாய்தல்	1. ஆர்.டயன் 2. வி.நிதர்சன் 3. பி.அயந்தன்	குண்டெறிதல்	1. கே.நிதீபன் 2. ரி.சுபீட்சன் 3. பி.நிவேதன்	முப்பாச்சல்	1. எஸ்.கோகுலகிருஷ்ணன் 2. ஜெ.ஜோன்மயூரன் 3. ஆர்.அஜந்தன்	நீளம் பாய்தல்	1. ரி.லட்சியசீவன் 2. எஸ்.கோகுலகிருஷ்ணன் 3. வை.தினேஸ்
நீளம் பாய்தல்	1. எம்.தர்சன் 2. ரீ.தினகஜீவன் 3. ரீ.கஜீவன்	ஈட்டியெறிதல்	1. பி.அங்குசன் 2. என்.நிதர்சன் 3. கே.ஜெனன்	தட்டெறிதல்	1. ரி.சுபீட்சன் 2. கே.நிதீபன் 3. பி.தர்சன்	தட்டெறிதல்	1. ரி.சுபீட்சன் 2. கே.நிதீபன் 3. பி.தர்சன்	முப்பாச்சல்	1. எஸ்.கோகுலகிருஷ்ணன் 2. ஜெ.ஜோன்மயூரன் 3. ஆர்.அஜந்தன்	நீளம் பாய்தல்	1. ரி.லட்சியசீவன் 2. எஸ்.கோகுலகிருஷ்ணன் 3. வை.தினேஸ்

(தொடரும்...)


சிறப்பு நடைபெற்ற நூல் அறிமுக விழா!

(யாழ்ப்பாணம்)
மூன்றாவது மனிதன் வெளியீடான இருபதாம் நூற்றாண்டு உலக இலக்கியப் படைப்பு - படைப்பாளிகள் பற்றிய குறிப்புகள் நூல் அறிமுக விழா நேற்று மாலை 3.30 மணியளவில் மூத்த விமர்சகர் ஏ.ஜே.கனகரட்ணா தலைமையில் யாழ்ப்பிரெஞ்சு நட்புறவுகழகத்தில் சிறப்பாக நடைபெற்றது. இந்த நிகழ்வில் சுனாமியால் உயிரிழந்தவர்களுக்கு மௌன அஞ்சலி செலுத்தப்பட்டதைத் தொடர்ந்து வரவேற்புரையை யாழ்ப்பிரெஞ்சு நட்புறவு கழக இயக்குனர் கலாநிதி ஜேராட் ரொபு வொன் நிகழ்த்தினார்.

நூல் நோக்கை கவிஞர் சோ.பத்மநாதன், சட்டத்தரணி, பொன் பூலோகசீங்கம், ஊடகவியலாளர் ராதேயன் ஆகியோர் நிகழ்த்தினர். நூலின் ஆசிரியர் சாந்தனின் உரையைத் தொடர்ந்து நன்றியுரையை யாழ்ப்பிரெஞ்சு நட்புறவு கழக பொருளாளர் இ.றமணன் நிகழ்த்தினார்.



நிகழ்வில் ஏ.ஜே.கனகரட்ணா உரைநிகழ்த்துகிறார்.



நிகழ்வில் கலந்துகொண்டோர்.



நிகழ்வில் கலந்துகொண்டோர்.

பொதுமண்டபம் அமைப்பு

ஊர்காவந்துறை பிரதேச செயலர் பிரிவுக்குட்பட்ட கரம்பொன் கிழக்கு கிராம அலுவலர் பிரிவில் பொதுமண்டபம் ஒன்று அமைக்கப்பட்டுள்ளது. இதற்கான அடிக்கல்லை கடந்த வள்ளிக் கிழமை ஊர்காவந்துறை உதவி அரசாங்க அதிபர் க.சிறிமோகனன் நாட்டிவைத்தார். இந்தப் பொதுமண்டபம் அமைப்பு பற்றிக் கிராம நிர்வாகம் 7 லட்சம் ரூபாயை ஒதுக்கீடு செய்துள்ளது. இந்த மண்டபத்துக்கான வேலைகள் துரித கதியில் மேற்கொள்ளப்பட்டு வருகின்றமை குறிப்பிடத்தக்கது. (44)

மோட்டார் சைக்கிள்கள் மோதி இருவர் படுகாயமடைந்தனர்!

இரண்டு மோட்டார் சைக்கிள்கள் நேருக்கு நேர் மோதி விபத்துக்குள்ளான சம்பவத்தில் இருவர் படுகாயமடைந்தனர். இந்த விபத்துச் சம்பவம் நேற்றுக் காலை 10.00 மணியளவில் நாவற் குழி ரயில்வே கடவைக்கு அருகாமையில் இடம்பெற்றது. இந்தச் சம்பவத்தில் ஒரு மோட்டார் சைக்கிளில் வந்தவரான நாவற் குழியைச் சேர்ந்த தம்பிஜயா (வயது 53) காலில் காயமடைந்த நிலையிலும் மற்றைய மோட்டார் சைக்கிளில் வந்தவரான மறவன்புலோவைச் சேர்ந்த ஜெயகாந்தன் தலையில் காயமடைந்த நிலையிலும் யாழ்ப்போதனாவைத்தியசாலையில் அனுமதிக்கப்பட்டுள்ளனர்.

கிராமிய சமுத்திரச் செயலணியால் ஊர்காவந்துறையில் பொதுச்சந்தை

(ஊர்காவந்துறை)
சமுத்திர அதிகார சபையின் சந்தைப்படுத்தல் பிரிவின் நிதி உதவியுடன் ஊர்காவந்துறையில் பொதுச் சந்தை ஒன்று அமைக்கப்பட்டு வருகின்றது. ஊர்காவந்துறைப் பிரதேசத்தில் உள்ள மெலிஞ்சி முனைக் கிராமத்திலேயே இந்தச் சந்தை அமைக்கப்பட்டு வருகின்றது. இந்தச் சந்தை அமைப்பு பற்றிக் சமுத்திர அதிகார சபை ஒரு இலட்சம் ரூபாயை ஒதுக்கீடு செய்துள்ளது. மெலிஞ்சி முனை கிராமிய சமுத்திரச் செயலணி இந்தச் சந்தையை அமைத்து வருகின்றது. (44)

தகுப்பு அணை அமைப்பு

நாரந்தனை தெற்கு கிராமத்தில் ஜி.ரி.இசர் நிறுவனத்தின் உதவியுடன் நீர்த்தடுப்பணை ஒன்று அமைக்கப்பட்டு வருகிறது. மழைகாலங்களில் கடல் நீர் கிராமத்தினுள் உட்புகுவதால் மக்கள் பெரும் சிரமத்தை எதிர்நோக்கி வந்தனர். இதனைக் கருத்தில் கொண்டு மக்கள் பங்களிப்புடன் மேற்படி அணை அமைக்கப்பட்டு வருகிறது. (44)

சுனாமி முத்திரை கொடுப்பனவு சமுத்திர வங்கிகள் ஊடாக!

(யாழ்ப்பாணம்)
யாழ்ப்பாணம் மாவட்டத்தில் சுனாமி முத்திரைக்கான பணக்கொடுப்பனவு வினை சமுத்திர வங்கிகளினூடாக வழங்குவதற்கான ஏற்பாடுகள் மேற்கொள்ளப்பட்டு வருகின்றன. சுனாமி முத்திரைப் புள்ளிக்கிரமிய 200 ரூபாய் பணம் சமுத்திர வங்கிகளினூடாக வழங்கப்படவுள்ளன.

முன்னர் இந்தப் பெறுமதிக்கு பல நோக்குக் கூட்டுறவுச் சங்கங்களில் விரும்பிய பொருட்களைக் கொள்வனவு செய்யக்கூடியதாக இருந்தது. இந்த நடைமுறை கடந்த மார்ச் மாதத்திற்குரிய புள்ளிகளை தொடக்கம் பணமாக வழங்க ஏற்பாடுகள் செய்யப்பட்டு வருகின்றன. இதனால் பாதிக்கப்பட்டவர்கள் சமுத்திர வங்கிகளில் கணக்குகளை ஆரம்பித்து வருகின்றனர். (44)

ராஜா
கமலஹாசன்,
மணிசா கொய்யாலா
நடித்த
முன்பை Xபிரஸ்
ரீக்கற் முற்பதிவு செய்துகொள்ளலாம்
பு.நே: 10.30, 2.30, 6.30, 9.30

சிறுவிளம்பரம்
வீடு வாடகைக்கு
மாநகர எல்லைக்குள் வீடு வாடகைக்கு உண்டு. அரசசார்பற்ற பொது நிறுவனங்கள் விரும்பத்தக்கது. தொடர்பு :- T.P - 222 5343. (1133)

மாகாஸ் சினிமா
தினாள் 5 காட்சிகள் (பு.நே)
11.00, 3.00, 7.00
இரவு விசேட காட்சியாக
10.00, 1.30
புதுவருட பிரமாண்ட வளையீடு
சுப்பஸ்ரா
ரஜினிகாந்த், நயன்தாரா, பிரபு, ஜோதிகா, வடிவேல், நாசர்
நடிப்பில்
சிவாஜி புரொடக்ஷனின்
சந்திரமுகம்
இந்தியாவிலும் இலங்கையிலும் ஒரே தின வெளியீடு
(C/3979)

மவோக்ரா திரையரங்கு
யாழ்ப்பாணம்
சித்திரைப் புத்தாண்டு வெளியீடாக
இனைய தளபதி ஷஜய்,
போய்ஸ் புகழ் ஹார்ஷ்,
விசேட காட்சிகளும்
உண்டு
சச்சின்
ரீக்கட் முற்பதிவுகள் ஏற்க்கொள்ளப்படும்

வடமராட்சி கிழக்கு புனர்வாழ்வு, புனரமைப்பு நிறுவனம்
மணல் விநியோக அறிவித்தல்
அன்னை பூபதி நினைவு தினத்தை முன்னிட்டு 19.04.2005 செவ்வாய்க்கிழமை மணல் விநியோகம் நடைபெறமாட்டாது. செவ்வாய்க்கிழமை (19.04..2005 ஆம் திகதி) குறிப்பிடவர்களுக்கான மணல் விநியோகம் 18.04.2005 இன்று திங்கட்கிழமையும், 20.4.2005 புதன்கிழமையும் நடைபெறும். பொருத்தமான ஒரு திகதியில் மணலைப் பெற்றுக் கொள்ளுமாறு வேண்டப்படுகின்றீர்கள்.
மணல் விநியோகப் பகுதி
உபயகதிர்காமம் **நிர்வாகம்.**

இந்தியாவிலான ஒருநாள் தொடரை பாகிஸ்தான் அணி கைப்பற்றியது!




இந்திய-பாகிஸ்தான் அணிகளிடையே நேற்று டெல்கி பெரோசா கோடலா மைதானத்தில் இடம்பெற்ற ஆறாவதும், இறுதியுமான ஒருநாள் போட்டியில்- பாகிஸ்தான் 159 ஓட்டங்களால் இந்திய அணியைத் தோற்கடித்ததுடன், தொடரையும் 4:2 என்ற அடிப்படையில் கைப்பற்றியது.

நேற்றைய போட்டியில் இந்திய அணியில் இரு மாற்றங்கள் செய்யப்பட்டிருந்தன. பாலாஜி, கும்பே ஆகியோர் அணியிலிருந்து நீக்கப்பட்டனர். அவர்களுக்குப் பதிலாக அகர் கர், ஆசிஷ் நெஹ்ரா ஆகியோர் இடம் பெற்றனர். பாகிஸ்தான் அணியில் எந்த மாற்றமும் செய்யப்படவில்லை.

பாகிஸ்தான் கப்டன் இன்சமாம் நாணயச் சுழற்சியில் வென்று தமது அணி முதலில் துடுப்பெடுத்தாடு மென அறிவித்தார். அப்ரிடி, சல்மான் பட் ஜோடி தொடக்க வீரர்களாகக் களமிறங்கினர். சகீர்கான் வீசிய முதல் ஓவரை சல்மான் பட் எதிர்கொண்டார். அந்த ஓவரில் 2 ஓட்டங்களை எடுத்தார்.

2ஆவது ஓவரை நெஹ்ரா வீசினார். அப்ரிடி அதனை எதிர்கொண்டு விளாசித் தள்ளினார். ஓவரின் 2ஆம், 3ஆம், 4ஆம் பந்துகளில் தொடர்ந்து



3 பவுண்டரிகளை அடித்தார். 5ஆவது பந்தில் சிக்ஸரும், 6ஆவது பந்தில் பவுண்டரியும் அடித்தார். அந்த ஓவரில் அப்ரிடி 22 ஓட்டங்களை எடுத்தார்.


3ஆவது ஓவரில் பாகிஸ்தானின் ஸ்கோர் 28ஆக இருந்தபோது,

சல்மான் பட் சகீர்கானின் பந்தில் ஆட்டமிழந்தார். அடுத்து சொகைப் மலிக் களமிறங்கினார். 5.2 ஓவரில் பாகிஸ்தான் அணி 50 ஓட்டங்களைத் தொட்டது.

9.2ஆவது ஓவரில் அதிரடி ஆட்டக்காரர் அப்ரிடி நெஹ்ராவின் பந்தில் ஆட்டமிழந்தார். அப்ரிடி 23 பந்துகளில் 6 பவுண்டரிகள், ஒரு சிக்ஸருடன் 44 ஓட்டங்களை எடுத்தார். 3ஆவது விகெட்டுக்கு மலிக் குடன் யுகானா ஜோடி சேர்ந்தார்.

இவர்கள் இருவரும் பொறுப்புடன் ஆடினர். சொகைப் மலிக் 59 பந்துகளை எதிர்கொண்டு 6 பவுண்டரிகளுடன் 50 ஓட்டங்களைத் தொட்டார். அவரைத் தொடர்ந்து யுகானா 59 பந்துகளில் 3 பவுண்டரிகள், ஒரு சிக்ஸருடன் அவரைச்சுத்ததைத் தொட்டார்.

அவ்வேளை சிறப்பாக ஆடிக் கொண்டிருந்த யுகானா 50 ஓட்டங்களில் ரன் அவுட்டானார். அப்போது பாகிஸ்தான் அணியின் ஸ்கோர் 153ஆக இருந்தது. அடுத்து கப்டன்




இன்சமாம் களமிறங்கினார். அவர் தொடக்கத்திலிருந்தே அதிரடியாக விளையாடினார். அணியின் ஸ்கோர் 191ஆக இருந்தபோது, 4ஆவது விகெட்டாக 72 ஓட்டங்களில் மலிக்கின் விகெட்டை அகர்கர் வீழ்த்தினார்.

5ஆவது விகெட்டுக்கு இன்சமாம் முடன் யுனுஸ்கான் ஜோடி சேர்ந்தார். இருவரும் இந்தியப் பந்துவீச்சை விளாசித் தள்ளி ஓட்டங்களைச் சேர்த்தனர். இந்த ஜோடியின் அபாரமான ஆட்டத்தால் இந்தியப் பந்துவீச்சாளர்கள் திணறினார்கள். இன்சமாம் 53 பந்துகளைச் சந்தித்து 6 பவுண்டரிகளுடன் 50 ஓட்டங்களைத் தொட்டார்.

இந்தவேளை, யுனுஸ்கான் 40 ஓட்டங்களில் நெஹ்ராவின் பந்தில் அவரிடமே பிடிகொடுத்து ஆட்டமிழந்தார். இன்சமாம்-யுனுஸ்கான் ஜோடி 5ஆவது விகெட்டுக்கு 95 ஓட்டங்களை எடுத்திருந்தது. அடுத்து களமிறங்கிய ரசாக் முதல் பந்திலேயே ஆட்டமிழந்தார். அந்த ஓவரில் இரு விகெட்டுக்கள் வீழ்ந்தன.

ஆட்டத்தின் கடைசி ஓவரில் இன்ச



மாம் 69 பந்துகளில் 7 பவுண்டரிகளுடன் 68 ஓட்டங்களை எடுத்திருந்த போது சர்ச்சைக்குரிய முறையில் ஆட்டமிழந்தார். அந்த ஓவரின் கடைசிப் பந்தில் அக்மல் ஆட்டமிழந்தார்.

பாகிஸ்தான் அணி நிர்ணயிக்கப்பட்ட 50 ஓவர்களில் 8 விகெட்டுக்களை இழந்து 303 ஓட்டங்களைக் குவித்தது.

பந்துவீச்சில் நெஹ்ரா, அகர்கர் ஆகியோர் தலா 3 விகெட்டுக்களை வீழ்த்தினர்.

பின்னர் துடுப்பெடுத்தாடிய இந்திய அணி தனது விகெட்டுக்களை வேகமாக இழந்தது. வேட்வாக் 21 ஓட்டங்களில் நவீட்-உல்-ஹசனின் பந்திலும், டெண்ட்ல்கர் 9 ஓட்டங்களில் இப்திகார் பந்திலும் ஆட்டமிழந்தனர்.

பின்னர் ராவிட்-டோனி ஜோடி விளையாடியது. ராவிட் எதிர்பாராத விதமாக 19 ஓட்டங்களில் ரன் அவுட்டானார். அவரைத் தொடர்ந்து நன்றாக ஆடிக் கொண்டிருந்த டோனியும் அர்ஷத் கானின் பந்தில் அப்ரிடியிடம் பிடிகொடுத்து ஆட்டமிழந்தார். பின்னர் 5ஆவது விகெட்டுக்கு களமிறங்கிய யுவராஜ் சிங்கும் யுகானாவால் ரன் அவுட் செய்யப்பட்டு வெளியேறினார்.

பின்னர் கைவலும் ரசாக்கின் பந்தில் எல்.பி.டபிள்யூ முறையில்



ஆட்டமிழந்தார். அவர் 4 ஓட்டங்களை மட்டுமே எடுத்தார். அகர்கர் 16 ஓட்டங்களை எடுத்து அப்ரிடியின் பந்தில் யுகானாவிடம் பிடிகொடுத்து ஆட்டமிழந்தார். சகீர்கான் 7 ஓட்டங்களில்

உதைபந்தாட்டப் போட்டி



(யாழ்ப்பாணம்)

யாழ்ப்பாண பிரதேச செயலர் பிரிவில் பதிவு செய்யப்பட்ட விளையாட்டுக்கழகங்களுக்கிடையிலான உதைபந்தாட்டப் போட்டி யாழ்ப்பாண விளையாட்டரங்கில் நடைபெற்று வருகின்றது.

இன்று மாலை 4 மணிக்கு நடைபெறவுள்ள ஆட்டத்தில் நாவாந்துறை சென்.மேரிஸ் விளையாட்டுக் கழகத்தை எதிர்த்து கிரீன் கிங்ஸ் விளையாட்டுக் கழகமும், மாலை 5 மணிக்கு நடைபெறும் மற்றைய ஆட்டத்தில் திருவள்ளூர் விளையாட்டுக் கழகத்தை எதிர்த்து போர்த்ஸ்ரார் விளையாட்டுக் கழகமும் மோதவுள்ளன.



தேசியமட்ட போட்டி



தியாகி அன்னை பூபதி நினைவாக தேசிய மட்ட விளையாட்டுப் போட்டிகள் நேற்றுமுன்தினம் கிளிநொச்சி பரந்தன் இந்து இளைஞர் விளையாட்டு மைதானத்தில் ஆரம்பமாகின.

இதில் 13 விளையாட்டுக் கழகங்கள் மோதுகின்றன. ஆண், பெண் இருபாலாருக்குமான கிரீன்தட்ட போட்டி, வலைப்பந்தாட்டம் என்பன இடம்பெற்று வருகின்றன. இந்த விளையாட்டுப் போட்டிகள் இன்றுவரை இடம்பெறவுள்ளன.

இதில் வெற்றியீட்டும் அணிகள் இறுதிப் போட்டியில் நாளை இரவு மோதவுள்ளன.

வீரர்கள் மீது வெடிவீச்சு!



இத்தாலியின் மிலன் நகரில் நடந்த சம்பியன்ஸ் லீக் காலிறுதிப் போட்டியில் ஏ.சி. மிலன், இன்டர் மிலன் அணிகள் மோதின. இதில் ஏ.சி. மிலன் 1-0 என்ற கோல் கணக்கில் முன்னிலை வகித்தபோது, ரசிகர்கள் கோல் காப்பாளர் டிடா மீது வெடியை வீசிவிட்டனர். இதனால் ஆட்டம் பெரிதும் பாதிக்கப்பட்டது.

ரசிகர்களின் வன்முறை மேலும் அதிகமாக மைதானம் எங்கும் மத்தாப்பு மழை பொழியத் தொடங்கியதால், பாதுகாப்பு அதிகாரிகள், வீரர்களை பாதுகாப்பாக அழைத்துச் சென்றனர்.

கரவெட்டி பிரதேச செயலக மட்ட விளையாட்டுப் போட்டி முடிவுகள்!

வடக்கு-கிழக்கு மாகாண கல்வி, பண்பாட்டலுவல்கள் விளையாட்டுத் துறை அமைச்சின் அனுசரணையுடன் வடமராட்சி தெற்கு-மேற்கு (கரவெட்டி) பிரதேச செயலர் பிரிவுக்குட்பட்ட, பதிவு செய்யப்பட்ட விளையாட்டுக்கழகங்களுக்கிடையிலான விளையாட்டுப் போட்டியில்- உதைபந்தாட்ட இறுதிப் போட்டியில் கரணவாய் மத்தி விளையாட்டுக் கழகம், வதிரி டயமன் விளையாட்டுக் கழகத்தை 2-1 என்ற கோல் அடிப்படையில் வெற்றிகொண்டது.

பெண்களுக்கான உதைபந்தாட்டப் போட்டியில் பெம்மன் விளையாட்டுக் கழகத்தை மனோகரா விளையாட்டுக் கழகம் 1-0 என்ற கோல் அடிப்படையில் தோற்கடித்தது.

நடந்துமுடிந்த சகல விளையாட்டுப் போட்டிகளிலும் பங்குபற்றிய கழகங்களில் ஆண்கள் பிரிவில் பெம்மன் விளையாட்டுக் கழகமும், பெண்கள் பிரிவில் ஜீவகன் விளையாட்டுக் கழகமும் வெற்றிக் கேடயங்களைத் தட்டிக் கொண்டன.

அத்துடன் துடுப்பாட்டப் போட்டி ஆண்கள் பிரிவில் வெக்டர் விளையாட்டுக் கழகமும், பெண்கள் பிரிவில் மனோகரா விளையாட்டுக் கழகமும்- கரப்பந்தாட்டப் போட்டியில் ஆண், பெண் இரு பிரிவுகளிலும் சிவகுமாரன் விளையாட்டுக் கழகமும்- எல்லை விளையாட்டுப் போட்டியில் ஆண், பெண் இரு பிரிவுகளிலும் மனோகரா விளையாட்டுக் கழகமும்- கபடி விளையாட்டுப் போட்டியில் பெம்மன் விளையாட்டுக் கழகமும் - வலைப்பந்தாட்டப் போட்டியில் மனோகரா விளையாட்டுக் கழகமும் வெற்றிபெற்றன. (13)

கங்கூலி மீதான விசாரணை இன்று தீர்ப்பு வெளியாகும்!

செளரவ் கங்கூலிக்கு ஆறு ஒரு நாள் போட்டிகளில் தடை விதிக்கப்பட்ட விவகாரத்தில் ஐ.சி.சி., விசாரணை ஆணையாளர் இன்று இறுதித் தீர்ப்பு வழங்கவுள்ளார்.

பாகிஸ்தானுக்கு எதிரான ஒரு நாள் போட்டித் தொடரின் அடுத்தடுத்த போட்டிகளில், குறிப்பிட்ட நேரத்தில் இந்திய அணி பந்துவீசி முடிக்கவில்லை. இதற்காக அணியின் கப்டன் செளரவ் கங்கூலிக்கு, ஆறு ஒருநாள் போட்டிகளில் விளையாடத் தடை விதித்தது சர்வதேச கிரிக்கெட்

சபை. இந்தத் தடையை எதிர்த்து மேல் முறையீடு செய்துள்ளார் கங்கூலி.

முறையீடு மீதான விசாரணையை ஐ.சி.சி., நன்னடத்தைப் பிரிவு அதிகாரி மைக்கல் பொலோப் நடத்தவுள்ளார். விசாரணையை இரு விதங்களில் அவர் நடத்தலாம். தாமதத்துக்கான காரணம் என்ன என்று விளக்க மளித்து 17 பக்க அறிக்கை அனுப்பியுள்ளார் கங்கூலி.

இந்த அறிக்கை மற்றும் போட்டி நடுவர்களின் அறிக்கை ஆகியவற்றைப் படித்து, அதன் அடிப்படையில்



தீர்ப்பளிக்கலாம்.

அல்லது, தொலைபேசி மூலம், கங்கூலியிடம் நேரடி விசாரணை நடத்தியும் தீர்ப்பு வழங்கலாம். கங்கூலி அனுப்பிய அறிக்கையைப் படித்து, அதன் அடிப்படையில் பொலோப் தீர்ப்பு வழங்குவார் என்று தெரிகிறது.

அப்படிப் பார்த்தால், இன்று இந்த விடயத்தில் இறுதித் தீர்ப்பு வந்துவிடும். கங்கூலிக்கு அளிக்கப்பட்ட ஆறு போட்டிகளின் தடை தண்டனையைக் கூட்டவோ, குறைக்கவோ அல்லது ஒட்டுமொத்தமாக ரத்துச் செய்யவோ விசாரணை அதிகாரிக்கு அதிகாரம் உண்டு என்பது குறிப்பிடத்தக்கது.

குத்துச் சண்டைப் போட்டியில் ஜப்பான் வீரர் சம்பியனானார்!



(ரோக்கியோ) ரோக்கியோவில் நடைபெற்ற டபிள்யூ.பி.ஏ மினிமம் வெயிட் குத்துச் சண்டை சம்பியன்ஷிப் போட்டியில் ஜப்பானிய வீரர் ஜுடாக் நிபா வெற்றி பெற்றார். 12ஆவது சுற்றில் இவர் தென்கொரிய வீரர் சிம் ஜே ஒங்கை வீழ்த்தினார்.

செஞ்சிலுவைச் சங்க தொண்டர்களுக்கு எச்.ஐ.வி. விழிப்புணர்வு பயிற்சிநெறி!

(பருத்தித்துறை)
பருத்தித்துறை பிரதேசத்தில் இருந்து தெரிவுசெய்யப்பட்ட 10 செஞ்சிலுவைச் சங்க தொண்டர்களுக்கான எச்.ஐ.வி. விழிப்புணர்வுப் பயிற்சிப் பட்டறையொன்றை மார்ச் மாதம் 30 ஆம் திகதி முதல், ஏப்ரல் 3 ஆம் திகதி வரை - இலங்கை செஞ்சிலுவைச் சங்க தலைமைச் செயலகமும், யாழ்ப்பாணக் கிளையுமே இணைந்து யாழ்ப்பாணத்தில் நடத்தின. மருத்துவ அதிகாரி ஆர்.சிவசங்கர், பொது வைத்திய அதிகாரி கே.நக் கீரன், இலங்கை செஞ்சிலுவைச் சங்கத்தின் எச்.ஐ.வி.தடுப்புப் பிரிவு உதவிப் பணிப்பாளர் எஸ்.எச்.பிரேமதிலக, யாழ்ப்பாணத்திலுள்ள எச்.ஐ.வி. நிகழ்ச்சித்திட்ட ஒருங்கிணைப்பாளர் எ.ஜே.ரொனால்ட், சுகாதாரத்திணைக்களத்தின் பதில் சுகாதார கல்வியாளர் எஸ்.திவ்வியகுமார் ஆகியோர் இந்த ஐந்துநாள் பயிற்சிநெறியின் வளவாளர்களாகப் பங்குபற்றியிருந்தனர்.

பயிற்சி முறைகள், உளவளத்துணை, வாழ்க்கைத்திறன்கள், தனியார் சுகாதாரம், தொடர்பாடல், திட்டமிடல் என்பவை உள்ளடங்கலாக எச்.ஐ.வி மற்றும் எயிட்ஸ் பற்றிய விவரமான பயிற்சி இவர்களுக்கு அளிக்கப்பட்டது. பயிற்சி முடிவில் சான்றிதழ்களும் வழங்கப்பட்டன. பயிற்சியாளர்களாகப் பயிற்சி பெற்ற இந்தத் தொண்டர்கள் தத்தம் பிரதேசங்களில் மாதத்தில் குறைந்தது மூன்று விழிப்புணர்வுட்டல் கருத்தரங்குகள் நடத்தவும், மேலும் தொண்டர்களைப் பயிற்றுவிப்பதிலும் ஈடுபடுவார்கள். இதற்கமைய வடமராட்சியில் முனை, பொலிகண்டி, புனித நகர், கற்கோவளம், சக்கோட்டை, சுப்பராமம், அல்வாப் ஆகிய இடங்களில் உள்ள நடைபுரி நிலையங்களில் இந்த முதல் இவர்கள் எச்.ஐ.வி. மற்றும் விழிப்புணர்வுட்டல் நிகழ்ச்சிகளில் ஈடுபட்டுவருகின்றனர்.

அரசடி சிவகாமசுந்தரி ஆலயத்துக்கு தேர் அமைக்கும் பணி ஆரம்பம்!

(திருநெல்வேலி)
திருநெல்வேலி - அரசடி ஸ்ரீ சிவகாமசுந்தரி அம்பாள் ஆலயத்துக்கு புதிய எண்கோண சித்திரத்தேர் அமைக்கப்படுவதற்கான முன்பணிகள் மேற்கொள்ளப்பட்டுவருகின்றன. மேற்படி ஆலயத்துக்கு 1991 ஆம் ஆண்டு பல சிரமங்களுக்கு மத்தியில் அம்பாள் அடியார்களால் அமைக்கப்பட்ட நவகோண சித்திரத்தேர் 1995 ஆம் ஆண்டு இராணுவத்தினர் மேற்கொண்ட சூரியகதிர் நடவடிக்கையில் முற்றாக அழிக்கப்பட்டது.

மேற்படி தேர் அழிக்கப்பட்டமையால் நீண்டகாலமாகக் கட்டுத்தேரையே பயன்படுத்திவந்த பக்தர்கள் இந்தக் குறையைப் போக்க வேண்டும் என்று தாமாக முன்வந்து ஆலயத்துக்குப் புதிய சித்திரத்தேரை அமைக்கும் பணியை மேற்கொண்டு வருகின்றனர். அடுத்த ஆண்டு புதிய எண்கோண சித்திரத்தேர் அமைக்கும் பணி முடிவடைந்து வெள்ளோட்டம் விடப்படும் என்றும் ஆலய நிர்வாகத்தினர் தெரிவித்தனர். (63)

உளநல ஆற்றுப்படுத்தல் தொடர்பான பயிற்சிநெறி

(யாழ்ப்பாணம்)
விழி உளசமூக மேம்பாட்டு அமையம் நடத்தும் உளநல ஆற்றுப்படுத்தல் தொடர்பான 6 மாதகால சான்றிதழ் பயிற்சிநெறி - கச்சேரி ரயில் நிலைய வித்யூயிள்ள அலுவலகத்தில் முத்துமாரியம்மன் மஹோற்சவம் ஊர்காவந்துறை தம்பாட்டி தூணி புரம் முத்துமாரியம்மன் ஆலயத்தின் வருடாந்த மஹோற்சவம் கடந்த வெள்ளிக்கிழமை காலை 10.15 மணிக்கு கொடியேற்றத்துடன் ஆரம்பமாகி தொடர்ந்து 10 தினங்கள் நடைபெறும். (51)

நடைபெற்று வருகிறது. ஜப்பானின் நிதியுதவியுடன் நடத்தப்படுகின்ற விழி உள சமூக மேம்பாட்டு அமையம் - வெவ்வேறு வகையான ஆற்றுப்படுத்தல் ஆலோசனைகளையும், குடும்பநல ஆற்றுப்படுத்தலையும் அலுவலக நேரத்தில் மேற்கொண்டு வருகின்றது. இதேவேளை சிறுவர்களை, உள்ளடக்கியதான அவர்களது ஆக்கங்களைத் தாங்கியதான இருமாத சிறுவர் இதழ் ஒன்றையும் அமையம் வெளியிடவுள்ளதாகவும் நிறுவனத் தலைவர் தெரிவித்தார். இந்தப் பயிற்சி நெறியில் 30 பேர் பங்குகொண்டு பயிற்சி பெற்று வருகின்றமை குறிப்பிடத்தக்கது. (91)



திருமறைக் கலாமன்றத்தால் சுனாமி இயற்கை அனர்த்தத்தால் பாதிப்படைந்த குடத்தனை, மணற்காடு பகுதி சிறுவர்களுக்கும் - யாழ்ப்பாணம், உரும்பிராய் திருமறை கலாமன்ற சிறுவர்களுக்கு மாண மூன்றுநாள் வதிவிடப் பாசனையில் கலந்துகொண்ட சிறுவர்களையும் - விளையாடிக்கொண்டிருக்கும் சிறுவர்களையும் காணலாம்.

புனிதநகர் வீதி திருத்தப்படாமையால் போக்குவரத்துக்கு அசௌகரியம்!

(பருத்தித்துறை)
தும்பளை புனித நகர் கிராமத்துக்குச் செல்வதற்கான வீதி புனரமைக்கப்படாமையால் கிராம மக்கள் நாளாந்தம் பெரும் அசௌகரியங்களை எதிர்நோக்கி வருகின்றனர். மிக நீண்டகாலமாக கிராம மக்களால்

அமைக்கப்பட்ட வீதியாலேயே போக்குவரத்துக்கள் இடம்பெற்றன. இந்த வீதியைப் புனரமைப்பதாகக் கூறி கடந்த 4 மாதங்கள் வீதியில் கற்கள் பரவப்பட்ட நிலையில் போக்குவரத்துச் செய்ய முடியாத அவநிலை ஏற்பட்டுள்ளது. வீதியைப் புனரமைப்பதற்கான

ஒப்பந்தம் எடுத்தவர்கள் வீதியின் அகலத்தை நான்கு அடிவரையில் குறைத்துள்ளதால், அந்தப் பகுதியில் கிடைத்த தரமற்ற கற்களைக் கொண்டு புனரமைப்புப் பணிகளை மேற்கொண்டமையாலேயே இது இடைநிறுத்தப்பட்டிருப்பதாகவும் இங்குள்ள மக்கள் தெரிவித்தனர். (91)

கிளிய பிறந்தநாள் வாழ்த்துக்கள்

ஏழாவது திகைவட்டம்

பெயர்:- உ.யசோதரன்
முகவரி:- வட்டக்கச்சி

வறிய மாணவர்கள் 30 பேருக்கு பிரான்ஸ் ஓன்றியம் நிதியுதவி!

(நெடுந்தீவு)
நெடுந்தீவில் உள்ள உயர்தரப் பாடசாலைகள் மூன்றிலும் கல்வி பயிலும் வறிய மாணவர்கள் 30 பேருக்கு உதவித் தொகையாக தலா 3 ஆயிரம் ரூபாய் பிரான்ஸ் செயற்பாட்டு ஒன்றியம் என்ற அமைப்பால் வழங்கப்பட்டுள்ளது. புலம்பெயர்ந்து பிரான்ஸில் வசிக்கும் நெடுந்தீவைச் சேர்ந்த உறவுகளால் ஒவ்வொரு பாடசாலைகளிலும்

10 வறிய மாணவர்கள் தெரிவு செய்யப்பட்டு கொடுப்பனவு வழங்கப்பட்டுள்ளது. நெடுந்தீவு மகா வித்தியாலயம், நோமன் கத்தோலிக்க மகளிர் கல்லூரி, சைவப்பிரகாச வித்தியாலயம் ஆகிய பாடசாலைகளைச் சேர்ந்த மாணவர்களுக்கு இந்தக் கொடுப்பனவு நெடுந்தீவுப் பங்குத்தந்தை ஊடாக வழங்கப்பட்டமை குறிப்பிடத்தக்கது. (113)

மட்டுவல்-சரசாலை பகுதிக்கு மன்வந்யோகம் இன்னமும் இல்லை

மட்டுவில் வடக்கு, சரசாலை, கல்வயல், பகுதிகளுக்கான மின் விநியோகப் பணிகள் தொடர்ந்தும் காலதாமதமாவது குறித்து அந்தப் பகுதி மக்கள் விசனம் தெரிவித்தனர். 2002 ஆம் ஆண்டு முதலே இந்தப் பகுதியில் மக்கள் மீளக்குடியமர்ந்துள்ளனர். தென்மராட்சியின் பல பகுதிகளுக்கும் மின் விநியோகம் ஏற்கனவே வழங்கப்பட்டபோதிலும் - இந்தப் பகுதிகளுக்கு மட்டும் இன்னமும் வழங்கப்படவில்லை.

இது சம்பந்தமாகப் பலதரப்பினராலும் முறையிடப்பட்டதன் பணமாக இந்தப் பகுதிகளுக்கான மின் இணைப்புப் பணிகள் 2004 ஆம் ஆண்டு ஜூலை மாதம் முதல் ஆரம்பிக்கப்பட்டபோதும் அவை இன்றுவரை பூர்த்திசெய்யப்படாமல் காலதாமதம் செய்யப்படுகின்றது. இந்தப் பணிகள் விரைவாகப் பூர்த்திசெய்யப்பட்டு மின்விநியோகம் வழங்கப்படவேண்டும் என மக்கள் கோரியுள்ளனர். (24)

விவாத சுற்றுப்போட்டியின் இறுதிப்போட்டி நாளே!

(யாழ்ப்பாணம்)
அன்னை பூபதிநினைவுதினத்தை முன்னிட்டு தமிழீழ மாணவர் அமைப்பினரால் நடத்தப்பட்ட பாடசாலைகளுக்கிடையிலான விவாதச் சுற்றுப்போட்டியின் இறுதிப் போட்டியும் - பரிசளிப்பு நிகழ்வும் நாளைய காலை கிட்டு பூங்காவில் நடைபெறவுள்ளது. இந்தப் போட்டியில் முதலாம், இரண்டாம், மூன்றாம் இடங்களைப் பெற்ற அணிகளுக்கு வெற்றிக் கேடயங்களும், தலா 5 ஆயிரம் ரூபாய் பணப்பரிசும் வழங்கப்படவுள்ளது. இந்தச் சுற்றுப்போட்டியில் யாழ்ப்பாணம் கல்லூரியும், வட்டுக்கோட்டையாழ்ப்பாணக் கல்லூரியும் இறுதிப் போட்டியில் பங்குபற்றவுள்ளன. மூன்றாம் இடத்தை வேம்படி மகளிர் கல்லூரி பெற்றுள்ளது. போட்டியில் பங்குபற்றிய அணிகள், போட்டியாளர்கள் அனைவருக்கும் சான்றிதழ்கள் வழங்கப்படும். போட்டித் தொடருக்கான முழு ஆதரவையும் யாழ்ப்பாணம் வணிகர் கழகம் வழங்கவுள்ளமை குறிப்பிடத்தக்கது.

மாணவர் நன்மைகருதி நூலகங்கள்
(யாழ்ப்பாணம்)
கல்வி பொதுத் தராதர உயர்தரப் பரீட்சைக்கு இந்த ஆண்டு தேர்நிறும் மாணவர்களின் நன்மை கருதி, நல்லூர் பிரதேச சபையின் நூல் நிலையங்களாகிய - கொக்குவில் பொது நூலகம், நல்லூர் பொதுநூலகம் போன்றவற்றில் எதிர்வரும் 20 ஆம் திகதி முதல் காலை 8.30 மணிதொடக்கம் இரவு 8.30 மணிவரை தொடர்ந்து இயங்கும் என்று நல்லூர் பிரதேச சபை செயலாளர் தெரிவித்தார். (63)

பாவை!



குடந்து குடந்து
கால்பாதம் தேய்ந்து
ஏகைவல்லாசல் துடிந்து
வடுக்கிறது.
பாவை மட்டும் துடிவாஸல்
புதுவர்களுக்கும் வறு
வடுக்கிறது.
வறு ஒருசுக மரங்கொன்று
நீயல்.
தீயுதல் துடிவா
ஒதுங்குகின்றோம்.
தீயுதல் இல்லாமல்
பாவை மட்டும் வறு வட்டும்
கொண்டிருக்கிறது.
பயணம் தாட்டிக்கிறது....
கால்நீத மரச்சொடி
முன் நியைந்த பற்றைகொன்று
வண்ணத்துப் புச்சு தீயுதல்
தேடுகிறது.
பட்டும் படாமலும்
முன்னால் மேல் உட்கொடுத்து
கொண்டிருப்பவரை வட்ட
முன் பற்றைக்கொண்ட
பறந்து தீயுது
துடிவா கிரகங்கிறது.
பட்டும்பட்டிருக்கும்
வண்ணத்துப்புச்சுவின்
வாழ்க்கை
பயனுள்ளது போது
முன்னால் இங்கே
தொற்றுப் போகிறது.
பயன்படாத கிடாமலும்
ஒன்றுமில்லை,
நாடல்பயணம்
தீயுதல் வகக்கிறது
போது
அந்த கிடத்துவும்
தங்க வட்டும்
மீண்டும் குடுத்து கொன்று
முடிவு கழிவல்
நியையல் போது
விலக்கக்கொன்று முடிவாமலும்
ஒரு சிலகட்டில்
சேர்ந்து போக முடிவாமலும்
கிரகங்கிறது போதுதான்
அந்த கிடமும் பயன்படுகிறது.
வறுவந்த உறுவகொன்று தீயுதல்
பயணிக்க வைக்கிறது
கொன்றுவரை.
வசதிகள் அம்மை கழிந்தாலும்
ஒன்றுமேயில்லாத கிந்த

வாழ்வல்
தீயுதல் துடிவா
தான்
அம்மை தங்க வைக்கிறது.
முன்னால் துடிவா வட்டும்,
வெள்கும்,
கொண்டிருக்கிறது குடந்து
வாழ்வல்
அம்மை மறையாமல்
கிரகங்கிறது தீயுதல்.
முன்னால் பின்னால்
வந்து
அதன்படி கிடக்காமல்
அதன்படி முடிவாமல்
சுந்தி வடுக்கி அதுவும்
பயனுள்ளது ஒருபுது
நியையல் துடிவா
கிடக்காததை
தேடுகின்றோம்.
பாவையல் துடிவா
வறு துடிவா போது
தான்
அல்லோரும் குடக்க முடிவாது.
ஒன்றுமேயில்லை
செல்லியல் பாவை
ஒன்றுமே கிரகங்கிறது.
வேறு ஒரு கிடத்துவும்
ஒன்று வடுக்கி
சந்த கிரகங்கிறது போல
பாவையல்
பின்னால் துடிவாவும்
பயனுள்ளது கிரகங்கிறது
அன்றுமே கிரகங்கிறது.
பயணிக்கப் படுக்கிறது
போதுதான்
வெறுவக கிரகங்கிறது
கிட்டல் துடிவா
கிரகங்கிறது.
பறந்துபட்ட
மறப்பாங்குடில்
அல்லோரையும் துடிவாது
பயணிக்கவில்லை
புகழ் போகிறது
வாழ்க்கையில்
புதுவர்களுக்கு வடுக்கிறது போது
பாவை மறையாமல்
கிரகங்கிறது வடுக்கிறதுதான்
அங்கொன்று
அங்கொன்று முடிவல்லல்.

விடுக்கின்ற போது விடுவாமைத் போனது

(சென்றவாரத் தொடர்ச்சி...)
இந்தத் தாயின் அழகை இந்திய தமிழ்ச்சியின் அழகையா? ஈழத்து தமிழ்ச்சியின் அழகையா? என்று இனம் பிளித்து பார்க்க முடியாத அழகைதான் ஆனாலும், உங்களுக்கும் எங்களுக்கும் இடையில் தான் எத்தனை வேறுபாடுகள். உங்கள் வாணொலிகள் தமிழ் உறவுகளை இழுந்தோம் என்று சொல்லிக்கொண்டிருக்கையில், எங்களின் வாணொலிகள் மீனவர்கள் செத்தார்கள் என்று அறிவித்துக்கொண்டிருந்தது.
உங்கள் தொலைக் காட்சிகள் அனைத்து நிகழ்ச்சிகளையும் அடி போட்டுநிறுத்திவிட்டு, இறந்தவர்களின் விபரங்களை இரக்கத்தோடு சொல்லிக் கொண்டிருக்கையில், எங்கள் தொலைக்காட்சிகள் எந்த நிகழ்ச்சிகளையும் இடைநிறுத்தம் செய்யாமல் அடியில் மட்டும் 5000 பேர் செத்தார்கள் என்று அடிக்கடி ஓடவிட்டு அரை குறையாடையுடன் இன்று பிறந்தவர்களுக்கு பிறந்தநாள் வாழ்த்து சொல்லிக் கொண்டிருந்தார்கள்.
உங்கள் கடலோரங்களில் இறந்த குழந்தையையும் பொறுப்போடு எடுத்து போராணிப்பண்கள் பூப்போல குளிப்பாட்டி புதை குழிகள்

எம் தமிழீழ உறவுகளை! அங்கே பாருங்கள் அன்புத் தலைவனால் வளர்க்கப்பட்ட - அந்த சாகத் துணிந்த போராணிகள் நம் உறவுகளுக்கு சாவு வந்து விடாமல் இருப்பதற்காகப் போராடிக் கொண்டிருக்கிறார்கள். இந்தக் கட்டமைப்புகள் மட்டும் இல்லாமல் போயிருந்தால், இன்னோர் இந்த ஆழிப் பேரலை நம் ஈழத்தை இல்லாமல் செய்திருக்கும். இந்தக் கட்டமைப்பை உருவாக்கக் கடல் கடந்த உறவுகளை!

தமிழீழாட்டிலிருந்து அறிவுசே.

நீங்களும் கடும் உழைப்பைச் செய்திருக்கிறீர்கள். அதற்கு நன்றியாகத் தான் அண்ணன் பாலசிங்கம் இப்படிச் கூறினார். 18000 போராணிகளை பலி கொடுத்து, பல்லாயிரம் தமிழ் உறவுகளை பலி கொடுத்து, டைசுக்கணக்கான தமிழ் உறவுகளை இடம்பெயர்வுகளுக்கு உள்ளாக்கி தமிழ் தேசிய இனமே திக்குத்தெரியாது தவித்த காலத்தில் முறைப்படுத்தப்பட்ட இராணுவத்தை உருவாக்கியது புலம் பெயர் தமிழர்கள் தாம்.
ஆம்... புலம் பெயர்ந்த தமிழர்களே. ஒவ்வொரு



குள் அனுப்புக்கையில், எங்கள் கடலோரங்களில் இறந்த உறவுகளையெல்லாம் குப்பைகளைப் போல் குழிகளுக்குள் வீசிக் கொண்டிருந்தார்கள்.
உலகத் தமிழர்களே! உங்களுக்கெல்லாம் இறந்த பிறகும் அனாதைகள் ஈழத்தமிழ் உறவுகள். எங்களுக்கெல்லாம் இறந்த பிறகும் இவர்கள் இந்தியப் பிணங்கள்.
நீங்கள் தீவிருவாதிகள், அதனால்தான் பாதிக்கப்பட்ட சிங்கள இராணுவ முகாம்களையும் உங்கள் உழைப்புகளால் சரிப்படுத்தி உயரிய பண்போடு ஒப்படைக்கிறீர்கள். நாங்கள் தேசபக்தர்கள் அதனால்தான் எங்கள் ஏழைக் குடும்பங்களையும் ஏறிய விமானத்தில் இருந்தே எட்டிப் பார்த்து விட்டு மக்களைக் காப்பாற்றும் பொறுப்பை மக்களிடமே ஒப்படைக்கிறோம்.
நீங்கள் மனிதாபிமானமற்றவர்கள். அதனால்தான் காயப்பட்டு வந்த சிங்கள இராணுவ வீரர்களுக்கும் மருத்துவம் பார்த்து காப்பாற்றி, அதிரடிப் படையினரிடம் அன்போடு ஒப்படைக்கிறீர்கள். நாங்கள் மனிதாபிமானமுள்ளவர்கள். அதனால்தான் காயம் பட்டுக் கிடக்கும் உறவுகளுக்கும் உயிர்கள் கொடுக்காமல் ஓட்டம் எடுக்கிறோம்.
என்ன செய்ய? என்ன செய்ய? உங்களுக்கென்று ஒரு நாடு இல்லை. ஆனால் உங்களுக்கென்று ஒரு அரசாட்சி நடக்கிறது. எங்களுக்கென்று ஒரு நாடு இருப்பதாகச் சொல்கிறார்கள். ஆனால் எங்களுக்குக் கென்று ஒரு அரசாட்சி நடக்கவில்லை.
உங்கள் தலைவர் மறைமுகமானவர். ஆனால் அவரது செயல்கள் வெளிப்படையானவை. எங்கள் தலைவர்கள் வெளிப்படையானவர்கள். ஆனால் அவர்களது செயல்கள் மறைமுகமானவை.
ஆம்...ஆம்... அதனால்தான் உங்கள் தலைவர் இந்தியத் தமிழர்களுக்கும் சேர்த்துத் தம் ஆழ்ந்த இரங்கலை ஆதரவாய் சொல்லி இருக்கிறார். உலகத் தமிழ் உறவுகளே! அவர் மட்டும் இல்லை என்றிருந்தால், அவரது தொலைநோக்கு பார்வையால் புனர்வாழ்வு அமைப்பு மட்டும் பூத்திருக்காவிட்டால், இன்னும் எத்தனை எத்தனை உயிர்கள் அங்கே கருகிப்போய் இருக்கும். உறவுகளே! உறவுகளே!

வொரு பயணத்திலும் உங்களின் பங்களிப்பை நேரிலே கண்டு நெஞ்செயிம்ம நெக்குறுகிப் போனவன் நான். ஒவ்வொரு நிகழ்ச்சியிலும் உங்களிடம் புனர்வாழ்வுக்காக கையேந்தி வந்தவன் நான். சலிப்படையாமல் நீங்களும் அள்ளி அள்ளி தந்ததை இங்கே சொல்லிச் சொல்லி வியந்தவன் நான்.
ஒருவகையில் பார்த்தால் புனர்வாழ்வு ஆழிப்பேரலையும் ஒன்றுதான் என்று நீங்கள் உரக்க கூறலாம்.
ஆம்... ஆழிப்பேரலையும் உங்களிடம் ஒன்றை விடாமல் பறிக்கப்பார்க்கிறது. புனர்வாழ்வு அமைப்பும் உங்களிடம் ஒன்றையும் விடாமல் பறிக்கப்பார்க்கிறது. இப்படி யாராவது நினைப்பவர்கள் இருந்தால் அவர்களுக்குச் சொல்கிறேன். பேரலைக்குக் கொடுத்தவை திரும்பக் கிடைக்காது. புனர்வாழ்வுக்குக் கொடுத்தவை திரும்பக் கிடைக்கும். திரும்பத்திரும்பக் கிடைக்கும். உங்களுக்கு மட்டுமல்ல உங்கள் தலைமுறைக்கும் உங்கள் தலைமுறைகளைத் தாண்டிய தலைமுறைகளுக்கும் கிடைக்கும்.
ஆம்... வெற்றியாக, விடுதலையாக அனைவருக்குமான மகிழ்ச்சியாகக் கிடைக்கும் கிடைக்கும். மற்றவர்களுக்கு உதவ நாடுகள் இருக்கின்றன. ஆனால் தமிழர்களுக்கு உதவ உலகத்தமிழர் மட்டுமே இருக்கிறோம்.
நம் தலைவருக்கு எதிரியால் ஏற்பட்ட துன்பத்தை விட, நண்பர்களால் ஏற்பட்ட துன்பமே அதிகம்.
ஆம்... இந்தத் துன்பம் அவரைப் பொறுத்த வரை நண்பனால் ஏற்பட்ட துன்பம்தான்.
ஆம்... அவர்தானே சொன்னார் இயற்கை எனது நண்பன் என்று. எதிரியாக இருந்தால் என்ன? இயற்கையாக இருந்தால் என்ன? நம் தலைவர் அனைத்து சுவால்களையும் சமாளிப்பார். நமது தேசத்தை மீனவம் கம்பீரமாக கட்டியெழுப்புவார். உறுதியாக கட்டியெழுப்புவார். அதற்கு நாம் ஒத்துழைக்க அவர் கரத்தை வலுப்படுத்த அள்ளி அள்ளிக் கொடுப்போம். தொகையாகவும், கொடுப்போம், நகையாகவும் கொடுப்போம்.
(முற்றும்.)

செல்வா.

மீனவர்களின் மீள்கட்டுமானப் பணிக்கு ஜிக்கா நிறுவனம் உதவமுன்வந்துள்ளது

(முல்லைத்தீவு)
சுனாமி கடற்கொந்தளிப்பால் பாதிக்கப்பட்ட முல்லைத்தீவு மீனவர்களுக்கான மீள்கட்டுமானப் பணிக்கு உதவவுதற்கு ஜப்பான் ஜிக்கா நிறுவனம் பிரதிநிதிகள் உறுதியளித்தனர்.
கடந்த 5 ஆம் திகதி முல்லைத்தீவுக்கு வருகை தந்தபோது - முல்லைத்தீவு மாவட்ட அரசு அதிபரைச் சந்தித்துக் கலந்துரையாடியபோதே அவர்கள் இதனைத் தெரிவித்தனர்.
முல்லைத்தீவுக்கு வருகைத்தந்த ஜப்பான் ஜிக்கா நிறுவனப் பிரதிநிதிகள் தமது நிறுவனத்தின் மூலம் பாதிக்கப்பட்ட மீனவர்களுக்கு நிரந்தர வீடமைத்தல், மீனவர்களுக்கு உதவுதல் போன்ற திட்டங்களில் ஈடுபடவுள்ளதாகவும் தெரிவித்தனர்.

அளம்பில் பகுதியில் சுனாமியால் பாதிக்கப்பட்ட 200 குடும்பங்களுக்கு நிரந்தர வீடுகள் அமைத்துக் கொடுப்பதற்கான திட்டங்கள் தொடர்பாகவும் ஆராய்ந்த இவர்கள் - மீனவர்களின் தேவைகள் என்ன என்பதை முல்லைத்தீவு கடற்கொழிலாளர் கூட்டுறவுச் சங்க கூமாசத் தலைவர் அ.மரிய ராசாவிடம் கேட்டறிந்தனர்.
மீனவர்கள் தமது தொழிலை மேம்படுத்த சிறிய படகுகள், வலைகள், கடற்கொழில் இயந்திரங்கள் போன்றவை உடனடியாகத் தேவையாகவுள்ளது எனவும், நீண்ட காலத்திட்டத்தில் வலை உற்பத்தித் தொழிற்சாலை, ஊல்கட்டித் தொழிற்சாலை என்பன உருவாக்கப்படவேண்டும். அத்துடன் கடற்கரைகளில் வெளிச்ச வீடுகள் அமைத்துத் தருவதற்கான

நடவடிக்கைகள் மேற்கொள்ளப்படவேண்டும் போன்ற கோரிக்கைகளை முன்வைத்தனர்.
கடற்கொழிலாளர் சமாசத் தலைவரின் வேண்டுகோளுக்கமைய தாம் நடவடிக்கை மேற்கொள்வதாக ஜப்பான் ஜிக்கா நிறுவனத்தினர் உறுதியளித்துள்ளனர்.
இந்த நிகழ்வில் முல்லைத்தீவு மாவட்ட அரசு அதிபர், கடற்கொழிலாளர் கூட்டுறவுச்சங்க சமாசத் தலைவர், வீடமைப்பு அதிகாரி எனப் பலரும் கலந்துகொண்டனர்.

சிறுமி காயம்

மன்னார் மதவாச்சிவீதியில் இடம்பெற்ற விபத்தில் - சிறுமி ஒருவர் காயமடைந்த நிலையில் செட்டிக்குளம் மாவட்ட மருத்துவமனையில் அனுமதிக்கப்பட்டுள்ளார்.
இந்தச் சம்பவம் கடந்த வியாழக் கிழமை மாலை 6.30 மணியளவில் இடம்பெற்றது. மன்னாரிலிருந்து மதவாச்சி நோக்கிச் சென்றுகொண்டிருந்த வாகனம் - செட்டிக்குளம் புகையிரத நிலையத்துக்கு முன்பாக தடம்புரண்டது. இதில் பயணஞ்செய்த சிவமணிகோசலா (வயது 13) என்ற சிறுமியே படுகாயமடைந்த நிலையில் மருத்துவமனையில் அனுமதிக்கப்பட்டுள்ளார்.

மரம்நாட்டு விழா

(கிளிநொச்சி)
கிளிநொச்சி மத்திய கல்லூரியில் மரம் நாட்டுவிழா நாளை நடைபெறவுள்ளது.
வனவளப் பாதுகாப்புப் பிரிவின் அனுசரணையுடன் கிளிநொச்சி மத்திய கல்லூரி பழைய மாணவர் சங்கத்தினரால் இந்த மரம்நாட்டு நிகழ்வு மேற்கொள்ளப்படவுள்ளது.



வல்விப் பதிவுகள்

சுனாமியால் பாதிக்கப்பட்ட மக்களுக்கு செஞ்சிலுவைச் சங்கத்தால் பொதிகள்

சுனாமி அனர்த்தத்தால் பாதிக்கப்பட்ட நடைபெற்ற நிலையங்களிலும், உறவினர் வீடுகளிலும் வசிக்கும் வடமராட்சி கிழக்கிலுள்ள சகல குடும்பங்களுக்கும் சுகாதாரப் பொதிகள் வழங்கப்பட்டன.
சுனாமியால் பாதிக்கப்பட்ட சகல குடும்பங்களுக்கும் சுகாதாரப் பொதிகளைத் தொடர்ச்சியாக வழங்குவதற்காக இலங்கை செஞ்சிலுவைச் சங்க யாழ்ப்பாணக் கிளைச் செயலாளர்

எஸ்.உதயசூரியன் தெரிவித்தார்.
கனடா செஞ்சிலுவைச் சங்கப் பிரதிநிதிகள், இலங்கை செஞ்சிலுவைச் சங்க யாழ்ப்பாணக் கிளைப் பிரதிநிதிகள், வடமராட்சி கிழக்கு செஞ்சிலுவைச் சங்க பிரிவுப் பிரதிநிதிகள், யாழ்.மாவட்ட அரசாங்க அதிபர், மாகாண சுகாதார சேவைகள் பிரதிப்பணிப்பாளர், அரசு அரசுசார்பற்ற நிறுவனங்களின் பிரதிநிதிகள் இந்த நிகழ்வில் கலந்துகொண்டனர்.

போதைப்பொருள் பாவனையைக் கட்டுப்படுத்த மதுவரித் திணைக்களத்தால் தீவிர முயற்சி!

(வவுனியா)
வவுனியா மாவட்டத்தில் அண்மை நாட்களாக அதிகரித்துவரும் போதைப்பொருள் பாவனை, சட்டவிரோத மதுபான உற்பத்தி என்பவற்றைக் கட்டுப்படுத்த தீவிர நடவடிக்கை எடுத்தி

ரும்பதாக வவுனியா மாவட்ட மதுவரித் திணைக்களப்பொறுப்பதிகாரி ரொகான் சஞ்சே ராஜ் தெரிவித்தார்.
இது தொடர்பாக அவர் கருத்துத் தெரிவிக்கையில் -
கடந்த ஆண்டு நடைபெற்ற 318 சம்பவங்கள் தொடர்பாகவும், இந்த ஆண்டின் முதல் மூன்று மாதத்தில் இடம்பெற்ற 124 சம்பவங்கள் தொடர்பாகவும் தாம் நடவடிக்கை எடுத்தி ரும்பதாகத் தெரிவித்தார்.
அவர் மேலும் தெரிவிக்கையில் -
கடந்த ஆண்டு கசிப்பு வைத்திருந்த தலை தொடர்பாக 55 சம்பவங்களும், ஹெரோயின் வைத்திருந்த தலை தொடர்பாக 2 சம்பவங்களும், கஞ்சா வைத்திருந்த தலை, விற்பனை செய்ய தலை தொடர்பாக 25 சம்பவங்களும் பதிவு செய்யப்பட்டுள்ளதாகவும் அவர் மேலும் தெரிவித்தார்.

உதவிப்பணம் வழங்கல்


பணை அஞ்சல் அலுவலகத்திலும், அதன் கட்டுப்பாட்டிலுள்ள செம்பியன் பற்று, தாளையடி, ஆழியாவளை, முள்ளியான் சுண்டக்குளம் சோரன் பற்று, இயக்கச்சி முகமாலை உப அஞ்சல் அலுவலகங்களிலும் பொது சனமாதாந்த உதவிப் பணம் மற்றும் காசநோய், புற்றுநோய் உதவிப் பணங்களும் வழங்கப்பட்டு வருகின்றன. (21)



அன்னை யூபதியின் தினத்தை முன்னிட்டு தேசிய மட்ட விளையாட்டுப்போட்டி பரந்தன் இந்து இளைஞர் விளையாட்டு மைதானத்தில் இடம்பெறுவதைக் காணலாம்.

கண்டாவளை மகா வித்தியாலயத்தில் சிறுவர் பூங்கா திறந்துவைக்கப்பட்டது

(கிளிநொச்சி)
கிளிநொச்சி - கண்டாவளை மகா வித்தியாலயத்தில் புதிதாக அமைக்கப்பட்ட சிறுவர் பூங்கா திறப்புவிழா நேற்று முன்தினம் இடம்பெற்றது.
இந்த நிகழ்வு பாடசாலை அதிபர் ச.ஸ்ரீநிவாசன் தலைமையில் இடம்பெற்றது.
இந்த நிகழ்வின் மங்கள விளக்கை ஜி.ரி.இசை நிறுவன இணைப்பாளர் தர்மராஜன், கண்டாவளை கிராம சேவையாளர் சண்முகநாதன், பாடசாலைச் செயலாளர் சிறிகணநாதன் ஆகியோர் ஏற்றிவைத்தனர்.
தமிழீழ தேசியக் கொடியை கிளிநொச்சி மாவட்ட அரசு அதிபர் தி.இராசநாயகம் ஏற்றிவைத்தார். பாடசாலைக் கொடியைப் பாடசாலை பிரதி அதிபர் திருமதி பாஜேந்திரா ஏற்றி வைத்தார்.
சிறுவர் பூங்காவை கிளிநொச்சி மாவட்ட அரசாங்க அதிபர் தி.இராசநாயகம் நாடாவை வெட்டித் திறந்து வைத்தார். சிறுவர் பூங்காவின் பெயர்ப்



பலகையை கரைச்சி பிரதேசபையின் விசேட ஆணையாளர் பென். நித்தியானந்தன் திரைக்கம் செய்து வைத்தார்.
இந்த நிகழ்வின் கருத்துரைகளை கிளிநொச்சி அரசு அதிபர் தி.இராசநாயகம், கிளிநொச்சி மாவட்ட கல்விப்பணிப்பாளர் ஆகியோர் நிகழ்த்தினர். நிகழ்வில் கண்டாவளைப் பிரதேச மக்களால் மனு ஒன்று கிளிநொச்சி அரசாங்க அதிபரிடம் கையளிக்கப்பட்டது.
இந்த மனுவில் - கண்டாவளை

கழகங்களுக்கிடையேயான விளையாட்டுப் போட்டி

(பரந்தன்)
அன்னை யூபதி தினத்தை முன்னிட்டு, கண்டாவளை பிரதேச அரசு யந்துறைப் பொறுப்பாளர் வின்சன் தலைமையில் தேசியமட்ட விளையாட்டுப் போட்டிகள் நேற்று பரந்தன் இந்து இளைஞர் விளையாட்டு மைதானத்தில் இடம்பெற்றது.
இந்த நிகழ்வில் 13 விளையாட்டு கழகங்களுக்கிடையில் ஆண், பெண் இருபாலாருக்குமான கிளித்தட்டு போட்டி, வலைபந்தாட்டம் போன்ற விளையாட்டுக்கள் இடம்பெற்றன. இந்தப் போட்டிகள் தொடர்ந்து மூன்று தினங்கள் இடம்பெறவுள்ளன. இதில் இறுதியாக வெற்றியீட்டும் அணிகளுக்கான இரவுநேர விளையாட்டுப் போட்டிகள் நாளை இடம்பெறவுள்ளதாக கண்டாவளை பிரதேச அரசுயந்துறைப் பொறுப்பாளர் தெரிவித்தார். (க)

**தினமலம் நாளில்...
அன்றி நிகழ்ந்தவை...**

ஏப்ரல் - 18

1881: லண்டன் தேசிய வரலாற்று அருங்காட்சியகம் திறந்துவைக்கப்பட்டது

1906:- சான் பிரான்ஸிஸ்கோவில் மிக மோசமான நிரைடுக்கம் ஏற்பட்டது. தொடர்ந்து பல இடங்களிலும் ஏற்பட்ட பெரும் தீ விபத்தினால் ஆயிரக்கணக்கான கட்டடங்கள் அழிந்தன. நூற்றுக்கணக்கானோர் உயிரிழந்தனர்

1921:- போலந்துக்கும், சோவியத்துக்குமிடையே ரிகா ஒப்பந்தம் கையெழுத்தாகியது. இந்த ஒப்பந்தத்தின்படி போலந்து - உக்ரைன் மீது தனக்குள்ள உரிமையை விட்டுக்கொடுத்தது.

1931:- முதன்முதல் காண்டரெல் என்பவரால் டெக்ஸாஸில் - ஃபோர்ட் வொர்த் எனுமிடத்தில் மின் சக்தியால் இயங்கும் நான்கு சலவை இயந்திரங்கள் கொண்ட ஒரு சலவை நிலையம் திறந்துவைக்கப்பட்டது.

1941:- பிரிட்டிஷ் படகுகள் ஈராக்கினுள் நுழைந்தன.

1945 :- இரண்டாம் உலக யுத்தத்தின்போது மேற்குப் போர் அரங்கில் ஸ்ரீ பகுதியில் மூன்று டைசத்துக்கும் மேற்பட்ட ஜேர்மனிய படைவீரர்கள் சரணடைந்தனர். இவர்களது தளபதி தற்கொலை செய்துகொண்டார்.

1946:- சர்வதேச சங்கம் கலைக்கப்பட்டது.

1949:- 780 ஆண்டுகால பிரிட்டிஷ் ஆட்சியிலிருந்து விடுதலைபெற்ற அயர்லாந்து - அயர்லாந்து குடியரசாக மாறியது.

1951:- நிக்கரி இரும்பு போன்றவற்றுக்கான கூட்டமைப்பு அமைக்கும் ஒப்பந்தத்தில் இத்தாலி, பிரான்ஸ், பெல்ஜியம், மேற்கு ஜேர்மனி, லக்ஸம்பேர்க், நெதர்லாந்து ஆகிய நாடுகள் ஒப்பமிட்டன.

1958:- பண்டா - செல்வா ஒப்பந்தம் கிழித்தெறியப்பட்டது.

1983:- பெய்ரூட்டில் வெடிமருந்துகளை ஏற்றிவந்த லொரி ஒன்று அமெரிக்க தூதரகக் கட்டடத் தொகுதியின் புகுந்து தற்கொலைத் தாக்குதல் நடத்தியதில் - தூதரகம் இயங்கிய ஏழுமாடிக் கட்டடம் இடிந்து தரைமட்டமாகியது.

1988:- ஈரானின் எண்ணை நிறுவனங்களையும், எண்ணைத் தாங்கிகளையும் அமெரிக்கா தாக்கியழித்தது.

1995:- சந்திரிகா அரசு - விடுதலைப் புலிகளுடன் செய்துகொண்ட போர் நிறுத்தம் முடிவுக்குக் கொண்டுவரப்பட்டது.

தொகுப்பு - சந்திரிகா

கல்விப் பொதுத் தராதரப் பத்திர (உயர்தர) பரீட்சை 2005 ஏப்ரல்

ஆசிரியர்:
M.பிரகாஸ்

அறிவுவல்லும் வீடுவாழ்வும் - I

மூன்று மணித்தியாலம்
Three hours

இவ்வினாத்தாளில் பயன்படுத்தப்படும் தருக்க மாறிலிகள் பின்வருமாறு:

Note :- உட்கடை: \rightarrow இணைப்பு: \wedge உறழ்வு: \vee இரட்டை நிபந்தனை: \leftrightarrow பரீட்சார்த்திகள் இவற்றைத் தவிர பிற மாறிலிகளைப் பயன்படுத்தலாகாது. தேற்றங்களை நிறுவவேண்டி இருக்கும் சந்தர்ப்பங்கள் தவிர்த்துப் பெறுகை முறையில் தேற்றங்களை: (உ-ம்: டீமோசுட்ரம்) பயன்படுத்தலாகாது.

பகுதி I

01] அ. பாரம்பரிய எடுப்புச் சதுரத்தைப் பயன்படுத்திப் பின்வரும் வாதங்கள் வலிதானவையா அல்லது வலிதற்றவையா என்பதைத் துணிக. அனுமான வடிவத்தையும் குறிப்பிடுக.

- எல்லாப் பறவைகளும் பாடக்கூடிய பிராணிகள் ஆகும். ஆகவே எந்தப் பறவையும் பாடக்கூடிய பிராணிகள் அல்ல என்பது பொய்.
- சிலதொழிலற்றவர்கள் ஏழைகள் அல்ல என்பது உண்மை எனின் எந்த ஒரு தொழிலற்றவரும் ஏழைகள் என்பதனை உறுதியாகக் கூற முடியாது.
- எந்த மாணவனும் திறமைசாலி அல்ல என்பது உண்மையாயின் சில மாணவர்கள் திறமைசாலிகள் அல்ல என்பது பிழையாகும்.
- எல்லா விலங்குகளும் பெரும்பாலும் பாசமற்ற பிராணிகள். ஆகவே எந்த விலங்குகளும் பாசமற்ற பிராணிகள் என்பது பொய்.

ஆ. எடுப்பு முரண்பாடு என்றால் என்ன? அதன் ஒவ்வொரு வகைகளையும் விளக்குக?

இ. சமகால நோக்கில் முரண்பாட்டுச் சதுரத்தில் அடீத எடுப்புகள், நிறைகுறை எடுப்புகளின் பிரயோகம் தொடர்பாக எழும் பிரச்சினைகளைச் சுருக்கமாக விளக்குக.

02] அ. i) வலிதான எதிர்மாற்றத்திற்காக மேற்கொள்ளப்படும் விதிகள் எவை எனக்காட்டி A, E, I ஆகிய எடுப்புகளின் எதிர்மாற்றத்திற்கு உதாரணங்கள் தருக?

ii) O எடுப்பிற்கு ஏன் எதிர்மாற்றம் சாத்தியமில்லை.

ஆ. வழிப்பெறுகை (Education) விதிகளின் மூலம் கீழ்வரும் வாதங்கள் வலிதானவையா அல்லது வலிதற்றவையா என்பதைத் துணிக. வாதம் வலிதற்றதாக இருக்கும் போது ஏற்படும் போலியையும், வலிதானதாக இருக்கும் போது சரியாக உபயோகிக்கக் கூடிய வழிப்பெறுகையின் பெயரையும் கூறுக.

i) எல்லா சிட்டுக்குருவிகளும் அழகியன. ஆகவே அவைசமமானவர்கள் எவரும் சிட்டுக்குருவிகளாக அல்லாமல் அல்ல.

iii) எந்த மதுப்பிரியர்களும் அடிமையானவர்கள் அல்ல. எனவே அடிமையற்றவர்கள் சிலர் மதுப்பிரியர்கள் ஆவர்.

iii) சில பகிடிவதைகள் ஏற்றுக்கொள்ளக் கூடியன ஆகவே ஏற்றுக்கொள்ள முடியாதன சில பகிடிவதைகள் அல்ல.

iv) எல்லா ஆழிப்பேரலைகளும் ஆபத்தானவை ஆகவே ஆழிப்பேரலை அல்லாதன அனைத்தும் ஆபத்தானவை ஆகும்.

v) சில ஆபரணங்கள் மங்களகரமானவை அல்லாதன அல்ல எனவே ஆபரணமற்றவை சில மங்களகரமானவை ஆகும்.

இ. குறை எடுப்புகளுக்கு ஏன் நேர்மாற்றம் சாத்தியமில்லை.

03] நியாயத் தொடையின் பிரதான விதிகளைப் பயன்படுத்தி பின்வரும் வாதங்களின் வாய்ப்பைப் பரிசோதிக்க.

நியாயத் தொடை வலிதற்றதாயின் அது எவ்விதையு/விதிகளை மீறியுள்ளது எனக் கூறுக?

i) எல்லாப் பறவைகளும் பறப்பனஆகும். கற்பனையாளர்கள் சிலர் பறவைகள் அல்லர். ஆகவே கற்பனையாளர்கள் சிலர் பறப்பவர் ஆவர்.

ii) சில மலர்கள் சிவப்பு அத்துடன் சிவப்பு பொருட்கள் மஞ்சள் அல்ல ஆகவே மலர்கள் மஞ்சள்.

iii) எல்லா நூல்களும் அறிவை தருவன ஆகும் பருத்தி ஒரு நூலாகும் ஆகவே பருத்தி அறிவை தருவது ஆகும்.

iv) எல்லாப் பெறுமதியான பொருட்களும் அரியவை. சில பெறுமதியான பொருட்கள் வைரங்கள். ஆகவே வைரங்கள் அரியவை.

ஆ. நியாயத் தொடையின் பிரதான விதிகளைக் கருத்திற் கொண்டு குறைபெரெடு கூற்றிலிருந்தும், மறை சிற்றெடு கூற்றிலிருந்தும் ஏன் வலிதான முடிவை பெற முடியவில்லை என்பதை விளக்குக?

இ. நியாயத் தொடையின் நான்கு பேருருக்களில் மூன்றாவது உருவை ஒரு உதாரணம் தந்து விளக்குக?

04] அ. கீழ்வரும் வாதங்களை வகுப்புகளின் அடிப்படையில் குறியீட்டில் தந்து, வெண்வரை படத்தின் மூலம் அவற்றின் வாய்ப்பைத் துணிக.

i) எல்லா விஞ்ஞானிகளும் புகழ் விரும்பிகள் ஆவர் சில புகழ் விரும்பிகள் தற்பெருமையுடையவர்கள் ஆகவே சில விஞ்ஞானிகள் தற்பெருமை உடையவர்.

ii) அரிஸ்ரோட்டிலும் பிளேட்டோவும் மெய்யியலாளர்களாக இருப்பதனால் மெய்யியலாளர்கள் புத்திசாலிகள் ஆவர்.

iii) உல்லாசப் பயணிகள் மட்டும் கடவுச்சீட்டு வைத்திருப்பவர்கள் கடவுச்சீட்டு வைத்திருப்பவர் நாட்டில் பிரவேசிக்க முடியும் எனவே உல்லாசப் பயணிகள் மட்டும் நாட்டில் பிரவேசிக்க முடியும்.

iv) விஞ்ஞானிகள் ஆயின் ஆயினே விவேகிகள். அமெரிக்கர்கள் ஆயின் விவேகிகள் ஆகவே அமெரிக்கர்கள் விஞ்ஞானிகள் ஆவர்.

ஆ. எல்லா தீவிரவாதிகளும் மோசமானவர்கள் ஆவர் என்பது உண்மை எனின் கீழே

காட்டப்படும் அனுமானங்கள் வலிதானவையோ அல்லது வலிதற்றவையோ என கூறுக?

- தீவிரவாதிகள் உள்ளனர்.
- மோசமானவர்கள் உள்ளனர்.
- மோசமானவர் அல்லாத தீவிரவாதிகள் உள்ளனர்.
- தீவிரவாதிகள் சிலர் மோசமானவர் அல்லர்.

பகுதி II

05] உண்மை அட்டவணையைப் பயன்படுத்தாது கீழ்வரும் கூற்றுக்களின் வாய்ப்பினை சுருக்கமாக கிட்டிய வழியில் துணிக.

அ. P இனை உண்மை என கொண்டு.

I) $[(P \rightarrow Q) \vee (NR \rightarrow P)]$

II) $[(NP \vee NQ) \wedge (NP \rightarrow NR)]$

ஆ. கீழ்வரும் வாக்கியங்களை சுருக்கத்திட்டத்தின் துணைகொண்டு குறியீட்டிற்கு மாற்றுக?

i) எமது நாட்டை தொடர்ந்து சுனாமி தாக்கும் ஆயின் ஆயினே நாட்டில் பொதுக்கட்டமைப்பு உருவாக்கப்படும். என்பதோடு ஒன்றில் எமது நாட்டை தொடர்ந்து சுனாமி தாக்காது அல்லது பொதுக்கட்டமைப்பு உருவாக்கப்படமாட்டாது என்பது உண்மை ஆயின் நாட்டில் யுத்தம் ஏற்படும்.

ii) அவன் வெளிநாடு செல்கின்றான் என்ற நிபந்தனையின் கீழ் அவன் நல்ல வாழ்வை அடைய முடியும். ஆனால் அவன் சோம்பேறியாயின் அவன் ஒன்றில் வெளிநாடு செல்ல மாட்டான் அல்லது செல்வந்தனாகவுமாட்டான்.

இ. தரப்பட்ட சுருக்கத்திட்டத்திற்கு அமைய கீழ்வரும் குறியீட்டு வாக்கியங்களை தமிழில் தருக.

P - அரிசியல் நிலை மாற்றமடையும்.

Q - சமாதானம் உருவாகும்

R - மக்கள் சந்தோசமடைவர்

S - நாட்டில் பொருளாதாரம் வளர்ச்சியடையும்.

I) $\{[N(P \wedge Q) \rightarrow (R \rightarrow S)] \wedge (NP \vee Q)\}$

II) $\{[R \rightarrow (P \vee Q) \wedge N(S \wedge Q)]\}$

06] பின்வரும் வாக்கியங்களை குறியீட்டில் அமைத்து எடுகூற்றில் இருந்து முடிவைப் பெறுவதன் மூலம் அவை வலிதானவையா எனக் காட்டுக?

i). நுகர்வோன் பயன் தெரிந்தவன் அன்றில் அவன் அருமை தெரிந்தவனாயின் நுகர்வோன் மிகையாக நுகர்வான். நுகர்வோன் உலோபி ஆயின் அவன் மிகையாக நுகர்பவன் அல்ல. நுகர்வோன் உலோபி அல்ல அல்லது அவன் நேர்மையானவனாயின் நுகர்வோன் பொருளியல் அறிந்தவன் ஆகவே நுகர்வோன் பயன் தெரிந்தவனாயின் அவன் பொருளியல் அறிந்தவன்.

ii) அவனிற்கு தொழில் கிடைப்பதுடன் விரைவில் திருமணம் செய்து கொள்வானாயின் அவனுக்கு வேலைப்பழு அதிகமாக இருக்கும் அவனிற்கு வேலைப்பழு அதிகமாயின் அவனது கல்வி பாதிக்கப்படும் அவன் விரைவில் திருமணம் புரிவான் ஆனால் அவனது கல்வி பாதிக்கப்படாது. ஆகவே தொழில் கிடைக்க மாட்டாது.

iii) அவன் படித்தவனாயின் அல்லது செல்வந்தனாயின் அவன் அதிஷ்டசாலி. ஒன்றில் அவன் படித்தவன் அல்லது செல்வந்தன் அல்ல என்பது உண்மை என தரப்பட்டால் அவன் அதிஷ்டசாலியே. ஆனால் அவன் அதிஷ்டசாலி அல்ல. ஆகவே அவன் படித்தவன் அல்லது தலைவிதி அவன் வழியல் குறுக்கீடுகிறது.

iv) உற்பத்தி அதிகரிக்குமெனின் பொருளாதாரம் விருத்தியடைவதுடன் வாழ்க்கைத்தரம் உயரும் மக்கள் மகிழ்வோடு வாழ்வதாயின் பொருளாதாரம் வளர்ச்சியடைய வேண்டும். வாழ்க்கைத்தரம் உயரும், உற்பத்தி அதிகரிப்பதும் பொருளாதாரம் விருத்தி அடைவதும் நடக்காது. ஆனால் அவற்றில் ஒன்று மட்டும் நடக்கும். ஆகவே வாழ்க்கை தரம் உயரும்.

07] பெறுகை முறையில் இருந்து தேற்றம் எவ்வாறு வேறுபடுகிறது விளக்குக?

ஆ. பின்வரும் தேற்றங்களை பெறுகை முறையில் நிறுவுக.

I. $[(P \rightarrow Q) \leftrightarrow N(P \wedge NQ)]$

II. $[(P \rightarrow R) \wedge (Q \rightarrow S)] \rightarrow [(P \wedge Q) \rightarrow (P \wedge R)]$

III. $[N(NP \vee NQ) \rightarrow (NP \leftrightarrow NQ)]$

IV. $[P \vee (Q \wedge R)] \leftrightarrow [(P \vee Q) \wedge (P \vee R)]$

08] கீழ்வரும் வாதங்களைக் குறியீட்டில் அமைத்து அவற்றின் வலிதை அல்லது வலிதின்மையை உண்மை அட்டவணையின் நேரல் முறை மூலம் துணிக.

i) உலகம் எல்லையுள்ளதாயின் ஒரு தொடக்கமும் முடிவுமிருத்தல் வேண்டும். உலகம் எல்லையுள்ளது, ஆனால் உருண்டையானதுமாயின் அது தொடக்கமுடையதோ முடிவுடையதோ அல்ல. உலகம் உருண்டை ஆகவே உலகம் எல்லையுள்ளதோ அல்லது எல்லையற்றதோ அல்ல என்பதாகும்.

ii) ஒன்றில் அவன் கடினமாய் உழைக்கின்றான் என்பதோடு தேர்வில் சித்தியுடையுள்ளான் அல்லது அவன் கடினமாய் உழைக்கவில்லை என்பதோடு தேர்வில் சித்தியுடையுள்ளான் ஆகவே அவன் கடினமாய் உழைக்கிறான் ஆயினாயினே தேர்வில் சித்தியுடையுள்ளான்.

iii) காலநிலை சீரற்றதாயின் ஆயினே பயிர்கள் சேதமுறும் என்பதுடன் வருமானம் கிடைக்கப் பெறாது, அல்லது காலநிலை சீரற்றது ஆகவே காலநிலை சீரற்றது ஆயின் வருமானம் கிடைக்கப்பெறாது என்பதுடன் பயிர்கள் சேதமுறும்.

iv) அவன் வீட்டிற்குச் சென்றால் அவனது மனைவி இறப்பாள் அத்துடன் அவன் செல்லாவிட்டால் அவன் இறப்பாள் என்பது பொய் ஏனெனில் அவன் வீட்டுக்கு சென்றால் அவன் இறக்க மாட்டான் என்பதுடன் அவன் செல்லாவிட்டால் அவனது மனைவி இறக்கமாட்டாள்.

பகுதி III

- 09] அம்பாந்தோட்டையில் உள்ள வேட்களை சந்தித்து அவர்கள் உண்ணும் வழக்கங்களைப் பற்றி அறிக்கை தயாரிக்க நீர் பணிக்கப்பட்டால் நீர் பின்வருவனவற்றை செய்வீரா. (செய்வீராக இருந்தால் சரி எனவும் இல்லை எனில் பிழை எனவும் கூறுக)
- i) அம்பாந்தோட்டைக்குச் செல்ல முன் வேட்கள் பற்றிய கட்டுரையை வாசிப்பீர்.
- ii) அம்பாந்தோட்டைக்குச் சென்ற முதல் நாளில் அவ்வேட்களின் காலை மதிய மாலை போசனங்களை அவதானித்து ஓர் அறிக்கை எழுதத் திட்டம் தீட்டுவீர்.
- iii) உமது ஆய்வில் பயன்பட சில நல்ல சிற்றுண்டிகளை கொண்டு செல்வீர்.
- iv) நீர் வேடுவர்களை அழைத்து சில தகவல்களைப் பெறுவீர்.

ஆ) பின்வருவன உண்மையா பொய்யா என கூறுக?

- i) சூரியன் நாளை உதிக்கமாட்டான் என்பதற்கு வாய்ப்பே கிடையாது.
- ii) X என்ற மாணவன் திறமைசாலி Y என்ற மாணவன் திறமைசாலி ஆகவே எல்லா மாணவர்களும் திறமைசாலிகள் என்பது தொகுத்தறிவு முறையாகும்.
- iii) எனது நுண்மதி 80 வீதம் உனது நுண்மதி 70 வீதம் ஆகவே இருவரும் சேர்ந்தால் ஓர் மேதை செய்யும் வேலையை செய்துவிடலாம்.
- iv) க.பொ.த உயர்தர வகுப்பு மாணவர்களில் 80% பல்கலைக்கழக அனுமதி கிடைப்பதில்லை. எனவே கபிலன் பல்கலைக்கழகம் செல்லவில்லை.

- இ. i) ஆவணச் சான்று என்றால் என்ன
ii) வைத்திய சாட்சி சிறுகுறிப்பு தருக.

10] பின்வருவனவற்றில் ஏதேனும் ஐந்திற்கு சிறுகுறிப்பு வரைக.

- i) பகுப்பெடுப்புக்களும், தொகுப்பெடுப்புக்களும்.
ii) ஒழுக்கமும் சட்டமும்
iii) சிந்தனை விதிகள்
iv) ஸ்வார்த்தா அனுமானம்.
v) பிரிப்பும் வகையீடும்
vi) பல்பொருமான அளவையியல்.

11] கீழே தரப்பட்டுள்ள உரைப் பகுதிகளில் உள்ள போலிகள் எவை என எடுத்துக்காட்டி ஒவ்வொரு போலியும் நிகழ்ந்துள்ள விதத்தைச் சுருக்கமாக விளக்குக.

1. தொழிலாளர் வாக்கத்திற்கு கெடுதி செய்யும் முதலாளித்துவம் ஒரு தீமை தரும் பொருளாதார அமைப்பு என்பதை நிலை நாட்டுவதில் உண்மையில் "காள் மார்க்ஸ்", தவறியுள்ளார். ஏன் தனது குடும்பத்துக்குத் தேவையான பணத்தைத் தேடுவதில் கூட அவர் கண்டது துக்கம் நிறைந்த தோல்வியே.
2. உலகத்துக்கு ஒளியாகி திருக்குறளை தந்தவர் திருவள்ளுவர் ஆதலால் அவர் பிறந்த தமிழகத்திற்கே அப்பெருமை சேரும்.
3. சினிமாவினால் இளைஞர்களும் யுவதிகளும் வழி தவறி நடக்கின்றார்கள் என நான் மட்டும் கூறவில்லை. என்பது சதவீதமான இந்த நாட்டு மக்களும் எனது அபிப்பிராயத்தையே கொண்டுள்ளனர். எனவே நான் கூறிய இச்சுற்றை நிராகரிப்பது நியாயமான தல்ல.
4. உலகப் புகழ்பெற்ற கிரிக்கெட் வீரர் முத்தையா முரளிதரன் தூஸ்ரா பந்து வீச்சையே பயன்படுத்துகின்றார். எனவே நாமும் தூஸ்ரா பந்து வீச்சையே பயன்படுத்த வேண்டும்.

12. அ. தொகுத்தறிவு முறை, உய்தறிமுறை நியாயங்கள் இரண்டுமே ஒழுக்கவியலில் பயன்படுத்தப்படுகின்றன என்பதற்கு பொருத்தமான உதாரணங்களுடன் விளக்குக?

ஆ. தூக்கு தண்டனை அளிக்கப்படுவதன் மூலம் கொலைகளின் எண்ணிக்கை குறைவடையும் என்பதற்கு சான்றுகள் உள்ளன. தூக்கு தண்டனை அவசியமானது என ஒழுக்கவியல் ரீதியில் நியாயப்படுத்துவதற்கு இதனை ஒரு ஆதாரமாக கொள்ளலாமா விளக்குக?

பகுதி I, II, III ஆகியவற்றிலிருந்து குறைந்தது ஒரு வினாவையேனும் தெரிந்தெடுத்து எல்லாமாக ஐந்து வினாக்களுக்கு மட்டும் விடைதருக.

பகுதி I

01] அ. பொப்பரின் பொய்யான க்கல் கோட்பாட்டைக் கொண்டு பின்வருவன ஏன் விஞ்ஞானமல்ல என்பதை விளக்குக
i) மாக்கியக் கோட்பாடு
ii) உள்பகுப்பு கோட்பாடு
iii) கணித விஞ்ஞானம்

ஆ. தூய விஞ்ஞானமும், பிரயோக விஞ்ஞானமும் பரஸ்பரம் ஒன்றுக்கொன்று உதவுமாற்றைச் சுருக்கமாக விளக்குக.

இ. விஞ்ஞானத்தின் வரலாற்றைப் பற்றிய தோமஸ் கூனின் ஆய்வு விஞ்ஞானத்தின் போக்கைப் பற்றிய புதிய நோக்கிற்கு அவரை இட்டுச் சென்றது இதற்கான முக்கிய பண்புகள் எவை?

02] அ. விஞ்ஞான கோட்பாடுகளை வளர்ப்பதில் காட்டுருக்களின் ஒப்புமை எவ்வகையில் உதவியுள்ளது.

ஆ. விஞ்ஞானத்தில் கருவிகளின் பங்கினை ஆராய்க.

இ. அவதானத்தைவிட பரிசோதனை என்றும் சிறந்தது எனக் கூறிவிட முடியாது கருத்துக் கூறுக?

ஈ. ஓர் இலட்சியப் பரிசோதனையில் காரணிகள் எவ்விதம் மாற்றிப் பரிசோதித்தல் வேண்டும் என்பதை விளக்கி உதாரணம் தருக.

03] காரணம் தொடர்பான நிர்ணய வாத்தத்துக்கும் நிர்ணயமில்வாத்தத்துக்கும் உள்ள வேறுபாட்டை விளக்குக.

ஆ. காள் பொப்பரின் பொய்ப்பித்தல் முறையியலில் உய்தறி உண்மைப் பெறுமான நிலை.

இ. விஞ்ஞான கோட்பாடுகள் என்பன உலக எண்ணங்களே பொப்பரின் கருத்துப்படி இவ்வக எண்ணங்கள் எவ்வாறு விஞ்ஞானமாகிறது என்பதைக் கூறி விளக்குக?

ஈ. அளவையியல் விஞ்ஞானமாயினும் காள் பொப்பரின் விஞ்ஞானத்திற்கான எல்லை வரையறை விதியை அதற்கு பிரயோகிக்க முடியாது விளக்குக.

04] அ. புலமையாளரின் பாரம்பரியமும் கைவினைஞரின் பாரம்பரியமும் விஞ்ஞானி கலிலியோவினால் பயனுள்ள வகையில் இணைவு பெற்ற விதத்தைத் தருக?

ஆ. எவ்வாறாயினும் பௌதீகம் போன்ற துறைகளில் உய்தறி முறையும் உயிரியல் போன்ற முறைகளில் தொகுத்தறிவு முறையும் பிரதான முறைகளாகவே விளங்குகின்றன விளக்குக.

இ. விஞ்ஞானக் கருதுகோளுக்குரிய பருவங்களைத் தந்து விளக்குக?

ஈ. கருதுகோள் ஒன்று நேரல் முறை மூலம் எவ்வாறு நிறுவப்படுகின்றது. அதன் முக்கியத்துவம் யாது என்பதையும் எடுத்துக்காட்டுக?

பகுதி II

05] அ. நிகழ்தகவு தொடர்பான நவீன மீடறனர் விளக்கங்களைத் தருக?

ஆ. கீழ்வரும் நிகழ்தகவு எண்ணக்கருக்களை உதாரணம் தந்து விளக்குக?

- i) கூற்றின் நிகழ்தகவு
ii) மாதிரி வெளி
iii) எளிய நிகழ்ச்சி

இ. ஒரு சீட்டுக்கட்டில் இருந்து ஒன்றன் பின் ஒன்றாக நான்கு தடவைகள் சீட்டுக்கள் எடுக்கப்படுகிறது. எடுக்கப்படும் சீட்டுக்கள் மீண்டும் சேர்த்துக்கொள்ளப்படவில்லை எனில்.

- i) 4 வித்தியாசமான சீட்டாக இருத்தல்
ii) ஆடித்தன் ராணியாக
iii) அதே சீட்டாக இருப்பதற்கு
iv) யாதேனும் நான்கு சீட்டுக்கள் இருத்தல்

ஈ. செப்பு நாணயமும், ஒரு வெள்ளி நாணயமும் ஒருங்கே சுண்டப்படுகிறது எனின் நிகழ்ச்சிகளின் நிகழ்தகவைக் காண்க.

- i) குறைந்தது ஒரு நாணயம் செப்பாக இருத்தல்
ii) குறைந்தது ஒரு வெள்ளி நாணயம் வருதல்
iii) இரண்டும் வெள்ளி நாணயம் வருதல்.

06] அ. கீழ்வரும் புள்ளிவிபரவியல் முறைகளை விளக்குக.

- 1) ஆகாரம் 2) இடையம் 3) இடை 4) கடை

ஆ. i) சராசரி விலகல் என்றால் என்ன?

- ii) கீழே தரப்பட்ட பரம்பலுக்கான சராசரி விலகலைத் துணிக.
12, 19, 13, 16, 15

iii) சராசரி விலகலைவிட நியம விலகல் சிறந்தது ஏன்? விளக்குக.

இ. புள்ளி விபரம் தொடர்பான தரவுகளைக் கூறி அவற்றின் மூலாதாரங்களைக் குறிப்பிடுக.

ii) துணைநிலை தரவைப் பெற்றுக்கொள்ளும்போது கருத்திற்கொள்ள வேண்டிய விடயங்களைக் குறிப்பிடுக.

07] கட்டுப்பாட்டுக் குழு முறை என்றால் என்ன? இது சமூக விஞ்ஞானங்களை விட உயிரியல் விஞ்ஞானத்திற்கே அதிக பொருத்தப்பாடுடையது. ஆராய்க.

ஆ. சமூக விஞ்ஞான ஆய்வில் மாதிரி முறைகளின் முக்கியத்துவத்தை விளக்கிச் சிறந்த மாதிரிக்குரிய பண்புகளையும் கூறுக.

இ. நடத்தை விஞ்ஞானத்தில் தனியாளர் ஆய்வுமுறை எவ்வாறு பயன்படுத்தப்படுகிறது என்பதை உதாரணங்கள் தந்து விளக்குக.

08] சமூக விஞ்ஞானங்களில் புள்ளிவிபரவியலின் பயன்பாட்டினை ஆராய்க.

ii) உறுதியான தரவுகள் போதியளவு இல்லாமையினால் சமூக விஞ்ஞானங்கள் பாதிப்படைந்துள்ளன. ஆராய்க.

iii) சமூக விஞ்ஞானங்களில் வாய்ப்புப் பார்க்கக்கூடிய எதிர்வுகூறல்கள் அரிதாகவேயுள்ளன. அவற்றின் புறவயத்தன்மையையும், பயனையும் இது கேள்விக்குரியதாகக்கூகின்றது. ஆராய்க.

பகுதி - III

09] ஜன்ஸ்ரைன் பௌதீகத்திற்கு ஆற்றிய பங்களிப்பினை, கலிலியோ, நியூட்டன் போன்றோரின் முயற்சிகளினூடாக விளக்குக.

ii) பிரபஞ்ச வெளியில் சூரியக் குடும்பம் பற்றிய கருதுகோள் எவ்வாறு கருத்து மாற்றங்களினூடாக கலிலியோவின் ஆய்வில் பூரணத்துவமடைந்தன என விளக்குக.

iii) விஞ்ஞான முறை பற்றி ஃபெய்ராபாண்டின் கொள்கை.

iv) C.L.ஸ்ரீவன்சனின் ஒழுக்கவியற்கொள்கை.

10] பின்வருவோரில் இருவர் விஞ்ஞான முறைக்காற்றிய பங்களிப்பினைத் தருக.

- i) தோமஸ்கூன்
ii) லக்காதோஸ்
iii) கைகோடிதராகே
iv) சேர் ஜசாக் நியூட்டன்

ஆ. சிக்மண்ட் பிராய்டின் உளவியற் பங்களிப்பைக் கூறி கார்ள் பொப்பர் இக்கோட்பாடு பற்றி முன்வைத்த விமர்சனத்தைத் தருக.

11] சமூக விஞ்ஞானங்களில் நேர்முக முறையினதும், வினாக்கொத்து முறையினதும் பயனை ஆராய்க.

ஆ. பின்வருவோரில் நால்வர் விஞ்ஞானத்திற்கு ஆற்றியுள்ள பங்களிப்பைப் பற்றிக் குறிப்பெழுதுக.

1. அலெக்சாண்டர் பிளமிங்
2. எஸ்.சந்திரசேகர்
3. ரொபேட் பொய்ஸ்
4. வில்லியம் ஹார்வி
5. லாமார்சு
6. ஜோன் எக்லஸ்