

நமது


நாமநாடு

தமிழர் தாயகத்தின் முன்னோடி நாளிதழ்

மலர்:03 திருவள்ளூர் ஆண்டு: 2036 சித்திரை- 30 ஆம் நாள் ஹிஜ்ரி 1428 ற-ஆகிர் 04 [13.05.2005]

வெள்ளிக்கிழமை இதழ்:226

சந்திவெளியில் பொதுமக்கள் மீதான தாக்குதல்; நல்லூரில் மாணவர்கள் கண்டனப் பேரணி!



(யாழ்ப்பாணம்)

மட்டக்களப்பு - சந்திவெளியில் அஹிம்சை வழியில் ஆர்ப்பாட்டத்தில் ஈடுபட்ட பொதுமக்கள் மீது இராணுவத்தினர் கண்டனத்தனமாகத் தாக்குதல் நடத்தி பொதுமக்கள் ஒருவரைக் கொன்றதுடன் பலரைக் காயப்படுத்திய சம்பவத்தைக் கண்டித்து, யாழ்ப்பாணத்தில் நேற்று மாணவர் சமூகத்தினரால் மாபெரும் கண்டனப்பேரணியொன்று நடத்தப்பட்டது.

இந்தக் கண்டனப் பேரணியில் பங்கேற்ற மாணவர்கள் - நல்லூர் பின் வீதியில் ஒன்றுகூடி காலை 10.30 மணியளவில் பேரணியாக கண்காணிப்புக்குழு அலுவலகத்தைச் சென்றடைந்தனர். அங்கு கண்டனக் கூட்டமொன்று நடைபெற்றது.

இந்தக் கண்டனக் கூட்டத்தில் நாடாளுமன்ற உறுப்பினர்களான மா.க.ஈழவேந்தன், சிவநேசன், இந்தி மதகுருமார் ஒன்றியத் தலைவர், தேசிய (12 ஆம் பக்கம் பார்க்க)

புல்களின் மேலாதிக்கத்தை இந்தியா ஏற்கமாட்டாாம்!

சொல்ஹெய்மிடம் நேரடியாகத் தெரிவிப்பு

(புதுடெல்கி)

விடுதலைப் புலிகளின் மேலாதிக்கத்தை இந்தியாவால் ஏற்றுக்கொள்ள முடியாதென புதுடெல்கிக்கு விஜயம் செய்த நோர்வேயின் விசேட சமாதானத் தூதுவர் எரிக் சொல்ஹெய்மிடம் இந்திய வெளிவிவகார அமைச்சின் செயலாளர் சியாம் சரண் தெரிவித்திருப்பதாக செய்திகள் தெரிவிக்கின்றன.

இலங்கை சமாதான முயற்சிகள் தொடர்பாக இந்திய அரசின் அண்மைக்கால போக்குகளில் ஏற்பட்ட மாற்றங்களை அடுத்தே நோர்வே அரசின் விசேட சமாதானத் தூதுவர் எரிக் சொல்ஹெய்மிடம் நேற்றுமுன்தினம் இந்தியாவுக்கு விஜயம் செய்திருந்தார்.

சமாதான முயற்சிகளில் நோர்வேயின் மத்தியஸ்தம் தொடர்பாக இந்தியாவின் நிலைப்பாட்டை அறிந்துவரச் சென்ற சொல்ஹெய்மிடமே இந்திய வெளியுறவுச் செயலர் மேற்கண்டவாறு குறிப்பிட்டார்.

அத்துடன் - இலங்கை சமாதான முயற்சிகளில் நோர்வே அரசாங்கம் மேற்கொண்டுவரும் அனுசரணை முயற்சிகளை இந்தியா தொடர்ந்தும் ஆதரிக்கும் என்றும் சியாம் சரண் மேலும் தெரிவித்தார்.

சுமார் 90 நிமிடங்கள் இடம்பெற்ற இந்தச் சந்திப்பின்போது - விடுதலைப் புலிகளின் வான்படைப்பலம், கடற்படைப்பலம் என்பன குறித்த இந்தியா (12 ஆம் பக்கம் பார்க்க)

இந்தியாவுடன் பாதுகாப்பு உடன்பாடு;

நடவார்சிங்கின் விஜயத்தில் முடிவாகும்!

விரைவுபடுத்த இருதரப்பும் இணக்கம்!

(கொழும்பு)

இந்திய வெளிவிவகார அமைச்சர் நடவார்சிங் அடுத்த மாதம் கொழும்புக்கு விஜயம் செய்யும்போது, இந்திய - இலங்கை பாதுகாப்பு உடன்படிக்கை தொடர்பான தீர்க்கமான முடிவுகள் எட்டப்படுமென நம்புவதாக பாதுகாப்பு அமைச்சின் உயரதிகாரிகள் நம்பிக்கை தெரிவித்தனர்.

2003 ஆம் ஆண்டு ஆரம்பிக்கப்பட்ட இந்திய - இலங்கை பாதுகாப்பு ஒத்துழைப்பு உடன்பாடு குறித்த பேச்சுக்களில் இன்னமும் முழுமையான இணக்கப்பாடு உருவாகவில்லை.

குறிப்பிட்ட சில விடயங்களில் இணக்கப்பாடு உருவாவதில் சிக்கல்கள் நீடிக்கின்றன. அதேவேளை இந்திய மத்திய அரசுக்கு - அதன் கூட்டணிக் கட்சிகளிடமிருந்து கிடைத்த அழுத்தம் காரணமாக பாதுகாப்பு உடன்படிக்கை கைச்சாத்திடப்படுவது தாமதமடைந்து வந்தது.

இந்த நிலையில் கடந்த இரண்டு (12 ஆம் பக்கம் பார்க்க)

பொதுக்கட்டமைப்பை ஏற்படுத்த இரண்டு வாரகால அவகாசம்!

தூதுவர்களிடம் கோரினார் சந்திரிகா

(கொழும்பு)

சுனாமியால் பாதிக்கப்பட்ட வடக்கு - கிழக்குப் பகுதி மக்களுக்கு உதவி வழங்க விடுதலைப் புலிகளுடன் இணைந்து பொதுக்கட்டமைப்பை கண்டியில் நடைபெறும் உதவிவழங்கும் நாடுகளின் மாநாட்டிற்கு முன்னர் நிறுவுவதற்கான சாத்தியங்கள் இல்லாத நிலையில், மேலும் இரண்டு வாரகால அவகாசம் வழங்குமாறு ஜனாதிபதி சந்திரிகா கொழும்பிலுள்ள வெளி

இந்தச் சந்திப்பில் ஜனாதிபதி சந்திரிகா குமாரசுவாமி - ஐக்கிய மக்கள் சுதந்திர முன்னணி தலைமையிலான அரசாங்கத்தின் உள்வீட்டுப் பிரச்சினைகளை எடுத்துவிளக்கியதுடன் இதனால் பொதுக் கட்டமைப்பு ஏற்படுத்தப்படுவதற்கு இரண்டு வாரகால அவகாசம் தருமாறு கோரியுள்ளார்.

பொதுக்கட்டமைப்பு ஏற்படுத்தப்படுவதற்கு ஐ.தே.கட்சியிடமிருந்து போதிய ஆதரவு இல்லாததால் அவகாசம்

நோர்வே தூதுவர் குடாநாடு -வள்ளிக்கு விஜயம்!

தொடர்வித்தார்.

2003 ஆம் ஆண்டு ஆரம்பிக்கப் பட்ட இந்திய - இலங்கை பாதுகாப்பு ஒத்துழைப்பு உடன்பாடு குறித்த பேச்சுக்களில் இன்னமும் முழுமையான இணக்கப்பாடு உருவாகவில்லை.

குறிப்பிட சில விஷயங்களில் இணக்கப்பாடு உருவாவதில் சிக்கல்கள் நீடிக்கின்ற அதேவேளை இந்திய மத்திய அரசுக்கு - அதன் கூட்டணிக் கட்சிகளிடமிருந்து கிடைத்த அழுத்தம் காரணமாக

பாதுகாப்பு உடன்படிக்கை கைச்சாத்திடப்படுவது தாமதமடைந்து வந்தது.

இந்த நிலையில் கடந்த இரண்டு (12 ஆம் பக்கம் பார்க்க)

(கொழும்பு)

சுனாமி யால் பாதிக்கப்பட்ட வடக்கு - கிழக்குப் பகுதி மக்களுக்கு உதவி வழங்க விடுதலைப் புலிகளுடன் இணைந்து பொதுக்கட்டமைப்பை கண்டியில் நடைபெறும் உதவிவழங்கும் நாடுகளின் மாநாட்டிற்கு முன்னர் நிறுவவுதற்கான சாத்தியங்கள் இல்லாத நிலையில், மேலும் இரண்டு வாரகால அவகாசம் வழங்குமாறு ஜனாதிபதி சந்திரிகா கொழும்பிலுள்ள வெளிநாட்டுத் தூதுவர்களைக் கேட்டுள்ளதாகத் தெரியவருகிறது.

கடந்த செவ்வாய்க்கிழமை இரவு ஜனாதிபதி மாளிகையில் இடம்பெற்ற வெளிநாட்டுத் தூதுவர்களுடனான சந்திப்பிலேயே ஜனாதிபதி இந்த வேண்டுகோளை விடுத்துள்ளார்.

இந்தச் சந்திப்பில் ஜனாதிபதி சந்திரிகா குமாரதுங்க - ஐக்கிய மக்கள் சுதந்திர முன்னணி தலைமையிலான அரசாங்கத்தின் உள்ளீட்டுப் பிரச்சினைகளை எடுத்துவிளக்கியதுடன் இதனால் பொதுக் கட்டமைப்பு ஏற்படுத்தப்படுவதற்கு இரண்டு வாரகால அவகாசம் தருமாறு கோரியுள்ளார்.

பொதுக்கட்டமைப்பு ஏற்படுத்தப்படுவதற்கு ஐ.தே.கட்சியிடமிருந்து போதிய ஆதரவு கிடைக்காத காரணத்தால் பிரச்சினை மேலும் சிக்கலடைந்துள்ளதாகக் குறிப்பிட்ட ஜனாதிபதி, பொதுக்கட்டமைப்பு ஏற்படுத்த ஐ.தே.கட்சியின் ஆதரவை பெற்றுத் தருமாறும் தூதுவர்களிடம் கேட்டுள்ளார் எனத் தொழில்நுட்பத் தகவல்கள் தெரிவித்தன. (தே)

நோர்வே தூதுவர் குடாநாடு - வள்ளிக்கு விஜயம்!

(கொழும்பு)

இலங்கைக்கான நோர்வேத் தூதுவர் ஹான்ஸ் பிரிட்ஸ்கர் நேற்று யாழ்ப்புணம் குடாநாட்டிற்கு விஜயத்தை மேற்கொண்டு நிலைமைகளை நேரில் அவதானித்தார்.

விமானம் மூலம் பலாலி விமான

நிலையத்தை வந்தடைந்த நோர்வேத் தூதுவர் - பருத்தித்துறைப் பகுதிக்கு விஜயம் செய்து நோர்வே நாட்டின் நிதியுதவியுடன் நடைபெறும் படகுகட்டுமானப் பணிகளைப் பார்வையிட்டார்.

தொடர்ந்து சுனாமி யால் சேதமடைந்த

வெளியிணைப்பு இயந்திரங்கள் திருத்தும் இடத்தையும் பார்வையிட்டார். மேற்படி பணிகளை விரிவாக மேற்கொள்வதற்கான உதவிகளைச் செய்வதாக உறுதியளித்த ஹான்ஸ் பிரிட்ஸ்கர், பெரிய வள்ளங்களின் இயந்திரம்

(12 ஆம் பக்கம் பார்க்க)

ஈ.பி.டி.பி. வாகனத் தொடரணி மீது வாழைச்சேனையில் சூப்பாக்கிச்சும்! நான்கு பொலிஸார் படுகாயம்

(மட்டக்களப்பு)

ஈ.பி.டி.பி. முக்கியஸ்தர்கள் பயணம் செய்த வாகனத் தொடரணி மீது வாழைச்சேனையில் வைத்து இனர்தொரியாத நபர்களால் மேற்கொள்ளப்பட்ட சூப்பாக்கிப் பிரயோகத்தின் - பாதுகாப்புக் காசுச் சென்ற நான்கு பொலிஸார் படுகாயமடைந்தனர்.

நேற்றுக்காலை இடம்பெற்ற இந்தச் சம்பவம் தொடர்பாக மேலும் தெரியவருவதாவது -

ஈ.பி.டி.பி.யின் மட்டக்களப்பு மாவட்ட அமைப்பாளர் சிவானந்தராசா, அமைச்சர் டக்ளஸ் தேவானந்தாவின் பிரத்தியேகச் செயலாளர் அந்தோனிப்பிள்ளை ஜெயராசா உள்ளிட்ட 8 ஈ.பி.டி.பி.

யினர் இரண்டு வாகனங்களில் சென்றுகொண்டிருந்தபோது இவர்களுக்கு முன்னும் பின்னுமாக பொலிஸ் பாதுகாப்பு வழங்கப்பட்டது.

அமைச்சரவைப் பாதுகாப்புப் பிரிவு பொலிஸார் இருவர் உள்ளிட்ட 8 பொலிஸார் இந்தப் பாதுகாப்பில் ஈடுபட்டிருந்தனர்.

இந்த வாகனத்தொடரணி வாழைச்சேனை உதவிப் பொலிஸ் அத்தியட்சகர் அனுவகைத்துக்கும் பிரதேச செயலகத்துக்கும் இடையில் சென்று கொண்டிருந்தபோதே இனர்தொரியாத நபர்கள் சூப்பாக்கிப் பிரயோகம் மேற்கொண்டனர்.

தொடரணியின் முன்னே சென்று கொண்டு (12 ஆம் பக்கம் பார்க்க)

ஜப்பானிய விசேட தூதுவர் ஜயந்த தனபாலவை சந்திப்பு!

(கொழும்பு)

இலங்கைக்கு விஜயம் செய்துள்ள ஜப்பானிய விசேட தூதுவர் யசுஷி அகாஷி - அரச சமாதானச் செயலகத்தின் பணிப்பாளர் நாயகம் ஜயந்த தனபாலவை நேற்றுச் சந்தித்துப் பேச்சு நடத்தினார்.

சமாதான நடைமுறையின் தற்போதைய நிலைகுறித்து ஜயந்த தனபாலவுடன் அகாஷி விரிவான பேச்சுக்களை நடத்தியதாகத் தெரிய வருகிறது.

இதன்போது சுனாமி அனர்த்தத்திற்கு பின்னான புனர்பவாழ்வு நடவடிக்கைகள் குறித்து ஆராயப்பட்டது.

எட்டுநாள் விஜயத்தை மேற்கொண்டு நேற்று முன்தினம் இலங்கை வந்துள்ள அகாஷி,

ஜே.வி.பி தலைவர் சோமவன்ச அமரசிங்கவை நேற்றுக்காலை சந்தித்து பேசியிருந்தமை குறிப்பிடத்தக்கது.

இலங்கைத் தீவில் சமாதானத்தை ஏற்படுத்தி மக்களின் வாழ்க்கைத் தரத்தை மேம்படுத்துவது குறித்து ஜப்பான் அதிக கவனம் செலுத்தி வருவதாக ஜப்பானின் இலங்கைக்கான விசேட தூதுவர் யசுஷி அகாஷி தெரிவித்தார்.

இலங்கை விஜயம் தொடர்பாக அவர் கருத்துத் தெரிவித்தபோதே இவ்வாறு குறிப்பிட்டார். அவர் இது தொடர்பாக மேலும் கூறுகையில் -

இலங்கைக்கு 10 ஆவது தடவையாக விஜயம் செய்துள்ளேன். இம்முறை ஜனாதிபதி உட்பட அரசுப் பிரதிநிதிகளுடன் பேச்சுவார்த்தை நடத்துவள்ளேன். (12 ஆம் பக்கம் பார்க்க)






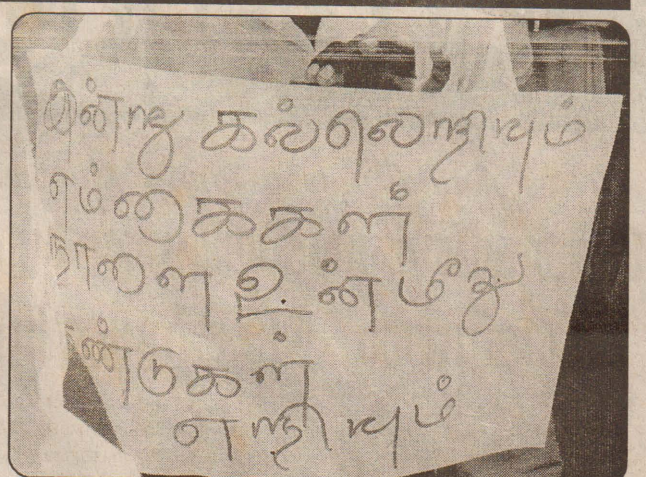

இலங்கையில் முன்னணி வகிக்கும் உள்ளூர் விமான சேவை...

ஒதுக்கீடுகளுக்கு அழையங்கள் 021-2223891, 2226297, 077-2349999, 011-2372952-3, 011-2360290, 011-2360291
email: jaffna@expoavi.com, reservations@expoavi.com.



EXPOAIR
Your friend in the skies...

மாணவர்களின் கண்டனப் பேரணியின் சில காட்சிகள்



நெடுமாறனை விடுவிப்பதற்கு எதிராக தமிழக அரசு நீதிமன்றில் மனுத்தாக்கல்

(சென்னை)
தமிழர் தேசிய இயக்கத்தின் தலைவர் பழ. நெடுமாறன் உட்பட 6 பேரை பொடா (புயங்கர வாத தடுப்புச் சட்டம்) வழக்கிலிருந்து விடுவிக்க வேண்டும் என்று பொடா மறு ஆய்வுக்குழு அளித்த உத்தரவை ரத்து செய்யக்கோரி தமிழக அரசு சென்னை உயர் நீதிமன்றத்தில் மனுத் தாக்கல் செய்துள்ளது.
நீதிபதி பி.சதாசிவம் இந்த மனுவை விசாரணைக்கு ஏற்றார். இரண்டு நீதிபதிகள் விடுமுறைக்குப் பின் இம்மனுவை விசாரிப்பர் என்றார் அவர்.
விடுதலைப்புலிகளை ஆதரித்து பேசியதாக பழ.நெடுமாறன், சுப.வீரபாண்டியன், பாவாணன், தாயப்பன், சாகுல் ஹமீது, பரந்தாமன் ஆகியோர் பொடா சட்டத்தின்கீழ் கைது செய்யப்பட்டனர். சென்னை அருகே பூந்தமல்லியில் உள்ள சிறப்பு நீதிமன்றத்தில் இவர்கள் மீது வழக்கு நடைபெறுகிறது.
பொடா சட்ட வழக்குகளை மறு ஆய்வு செய்ய

மத்திய அரசால் நியமிக்கப்பட்ட குழு, இவர்களை இவ்வழக்கில் இருந்து விடுவிக்க வேண்டும் என்று கடந்த மாதம் 15ஆம் திகதி உத்தரவிட்டது. இதை எதிர்த்து தமிழக அரசு சென்னை உயர் நீதிமன்றத்தில் தாக்கல் செய்த மனுவில் கூறியிருப்பதாவது -
பொடா மறு ஆய்வுக்குழுவின் உத்தரவு, நீதிமன்ற நடவடிக்கைகளில் தலையிடுவதாக உள்ளது. பொலிஸார் சமர்ப்பித்த ஆதாரங்களைப் பரிசீலித்த பிறகே, பூந்தமல்லியில் உள்ள பொடா சிறப்பு நீதிமன்றம், இவ்வழக்கை விசாரணைக்கு ஏற்றது. நெடுமாறன் மீதும் மற்றவர்கள் மீதும் 11.08.2003 இல் குற்றச் சாட்டு பதிவுசெய்யப்பட்டது.
இந்நிலையில் பொடா மறு ஆய்வுக்குழு ஏற்படுத்தப்பட்டது. நிர்வாகிகள் அடங்கிய அக்குழுவின் பரிந்துரைகள் ஆலோசனையாகத்தான் கருதப்படும். நீதிமன்ற நடவடிக்கையையே ரத்து செய்யக்கூடிய விரிவான அதிகாரம், இத்தகைய நிர்வாகக் குழுவுக்குத் தரக்கூடாது.

தடைசெய்யப்பட்ட அமைப்பான விடுதலைப்புலிகளுக்கு நெடுமாறனும் மற்றவர்களும் ஆதரவளித்தனர் என்ற விபரத்தை மறு ஆய்வுக்குழு பரிசீலிக்கவில்லை. அது மட்டுமன்றி அவர்கள் மீதான குற்றச்சாட்டு நீதிமன்ற விசாரணைக்குப் பிறகே நிரூபிக்கப்படும். எனவே இவர்களை விடுவிக்க வேண்டும் என்று பொடா மறு ஆய்வுக்குழு அளித்த உத்தரவை ரத்துச் செய்ய வேண்டும் என்று மனுவில் கூறப்பட்டுள்ளது.



(10ஆம் பக்கத் தொடர்ச்சி....)
உலகம் முழுவதும் கடுகளவேனும் மாசுமறையின்றி சகல கலைஞர்களாலும் ஏற்றுக் கொள்ளப்பட்டவர்தான் தெட்சணாமூர்த்தி அவர்கள். அவரிடம் நேரில் கற்காதவர்கள் கூட அவருடைய தவில் வாசிக்கும் பாணியையே போதனையாகக் கற்றுக்கொள்ள முனைகின்றார்கள். சகல தவில் நாடஸ்வர மற்றும் இசைக்கலைஞர்களாலும் எந்தவிதக் குறையும் இன்றி தாய்மையாக ஏற்றுக் கொள்ளப்பட்டமைதான் இந்தச் சக்கரவர்த்தியின் சிறப்பம்சமாகும்.
அதிகப்படியான வாழ்பவர்கள் இந்த அவனியில் நீண்டகாலம் வாழ்வதில்லை போலும். அவரது 42 ஆவது அகவையிலே 13.05.1975 ஆம் ஆண்டில் இறைவன் தனது கலைத்துறைக்கு இந்தப் பெருங்கலைஞனை அழைத்துக் கொண்டான். பாரதத்திலேயே அன்னாரது மறைவிற்குக் கடைகள் பூட்டப்பட்டு கறுப்புக் கொடிகள் பறக்கவிடப்பட்டன என்றால் ஈழத்தின் சோகத்தைக் கூறவும் வேண்டுமா?
இவரது நினைவு மலரில் நவாலியூர் கலையரசு சொர்ணலிங்கம் பட்டம் பதவியை இழந்து விட்டது என்று கூறியுள்ளார். அதேபோல் தெட்சணாமூர்த்தி இவ்வகை வாழ்வை நீத்தாலும் அவருடைய கலை அம்சம் நிலையம்சமாகி நீடுழி வாழும் என்பது நிஜமானதே.

டிக்ஸிற் எழுதிய நூலில் குஜரால் குறித்து விமர்சனம்

(புதுடெல்கி)
மறைந்த ஜே.என்.டிக்ஸிற் எழுதிய நூலில் முன்னாள் பிரதமர் ஐ.கே. குஜரால் குறித்து கடுமையாக விமர்சிக்கப்பட்டுள்ளது.
இந்திய வெளியுறவு சேவைகள் வரலாறு மற்றும் சவால்கள் என்ற தன்னுடைய நூலில் பணியில் இருந்த போது தனக்கு ஏற்பட்ட அனுபவங்களை இந்திய தேசிய பாதுகாப்புக்குழு முன்னாள் ஆலோசகர் மறைந்த ஜே.என்.டிக்ஸிற் எழுதியுள்ளார்.
இவர் பாதுகாப்புக் குழுவின் ஆலோசகராக இருந்தபோது வெளியுறவுத்துறை அமைச்சராக இருந்த ஐ.கே.குஜரால் வெளியுறவுக் கொள்கைகளை கையாண்டவிரும் எத்தனை கடுமையான விமர்சனத்துக்கு உரியது என்பதை தன்னுடைய

நூலில் சுட்டிக்காட்டியுள்ளார்.
சமீபத்தில் இந்த நூலை பிரதமர் மன்மோகன் சிங் வெளியிட்டார். நூலில் குஜராலின் அணுகு முறைகள் வெளியுறவுக்கொள்கைகுறித்து அவரால் எடுக்கப்பட்ட முடிவுகள் அவரது சொந்த முடிவுகளாகவே இருந்ததை இந்நூல் சுட்டிக் காட்டுகின்றது.
வெளியுறவுக் கொள்கைகளில் அவர் காட்டிய அலட்சியம் வெளியுறவு சேவைகளில் மிகுந்த இடர்பாடுகளை ஏற்படுத்தியதாகவும் அவருடைய செய்தித் தொடர்பாளரின் செயற்பாடும் நாட்டின் வெளியுறவுக் கொள்கையில் முரண்பாடான கழிநிலை ஏற்படக் காரணமாக இருந்ததையும் இந்நூலில் டிக்ஸிற் விமர்சித்துள்ளார்.

அமெரிக்கத் தலைநகரில் பறந்த இனந்தெரியாத விமானத்தால் அச்சம்

(வொஷிங்டன்)
அமெரிக்க தலைநகர் வொஷிங்டனுக்கு மேலாக ஒரு விமானம் அத்துமீறி பறந்தது. இன்னால் வெள்ளை மாளிகையில் பீதியும், பதற்றமும் ஏற்பட்டது.
அமெரிக்க தலைநகரம் வொஷிங்டனில் நேற்றுமுன்தினம் திடீரென ஒரு மர்ம விமானம் அத்துமீறி நுழைந்தது. தலைநகரில், தடைசெய்யப்பட்ட வான்வெளி எல்லைப் பகுதியில் அந்த விமானம் வட்டமடித்து பறந்ததால் நகரில் பீதியும், பதற்றமும் ஏற்பட்டது.
இதன்போது நடாளுமன்றம் நடைபெற்றுக் கொண்டிருந்தது. அதில் இருந்தவர்களையும் வெள்ளை மாளிகையில் இருந்தவர்களையும் உடனடியாக அங்கிருந்து பாதுகாப்பான, ரயில் நிலையம் பகுதிக்கு ஓடும்படி அதிகாரிகள் தெரிவித்தனர்.
உடனடியாக பாதுகாப்பான இடங்களுக்கு தப்பித்து ஓடுங்கள் என்று அதிகாரிகள் அவர்களை எச்சரிக்கை செய்து விரட்டினார்கள்.

இந்தச் சம்பவத்தின்போது அதிபர் புஷ் வெள்ளை மாளிகையில் இல்லை.
உடனடியாக போர்விமானங்களுக்கு உத்தரவு பறந்தது. அவை வானத்தில் வட்டமடித்து, அத்து மீறி நுழைந்த விமானத்தைத் தேடின.
வெள்ளை மாளிகையில் இருந்து பாதுகாப்பு வாகனங்கள் உடனடியாக வெளியேறிச் சென்றன.
பாதுகாப்புப்படைப் பிரிவினர் சில நிமிடங்களில், ஒன்றும் இல்லை, பயப்படத்தேவையில்லை என்று அறிவித்தனர். இதைத் தொடர்ந்து வெள்ளை மாளிகையை விட்டு வெளியேறியவர்கள், மீண்டும் ஜனாதிபதி மாளிகைக்கு திரும்பினார்கள்.
சிறிது நேரத்தில் உள்நாட்டு பாதுகாப்புப் படையினர், அத்து மீறி பறந்த விமானத்தைக் கண்டு பிடித்தனர். சென்னா என்று அழைக்கப்படும் சிறிய ரக விமானம் அது. அதில் வந்தது யார்? எப்படி வொஷிங்டனுக்குள் அனுமதியின்றி பறந்தது போன்ற விபரங்கள் தெரியவரவில்லை.

க.பொ.த உயர்தர மாதிரி பரீட்சை வினாத்தாள் 2005

பொருளியல்

இராஜேஸ்வரன்

தேசிய வருமான சமநிலை கணக்குகள்

1. குறிப்பிட்ட நுகர்வு நடத்தை தொடர்பாக வருமானம் 500 - 900 ரூபாவாக அதிகரித்த போது நுகர்வு 600 - 900 ரூபாவாக அதிகரித்தது.

1) எல்லை நுகர்வு நாட்டம்

2) தன்னிச்சையான நுகர்வு யாது?

3) நுகர்வு தொழிற்பாட்டு சமன்பாடு யாது?

4) தன்னிச்சையான சேமிப்பு யாது?

5) எந்த வருமான மட்டத்தில் சேமிப்பு பூச்சியம் ஆகும்.

2. அரசு தலையீடு இல்லாத மூடப்பட்ட பொருளாதாரம் ஒன்றில் முதலீடு 600 மில்லியன் ஆகும். $S=0.2Y$ ஆகும். பொருளாதாரம் சமநிலையில் இருப்பதாக கொள்க.

1) சமநிலை வருமான மட்டம் யாது?

2) நுகர்வு யாது?

3) சேமிப்பு யாது?

3. மூடப்பட்ட பொருளாதாரம் ஒன்றில் நுகர்வு எப்போதும் செலவுக்கான வருமானத்தில் 75 வீதமாகும். முதலீடு 100 மில்லியன் ஆகும். அரசாங்க நடவடிக்கை எதுவும் இல்லை என கொள்க.

1) சமநிலை தேசிய வருமான மட்டம் யாது?

2) முதலீடு 150 மில்லியன் ஆக உயரின், புதிய சமநிலை தேசிய வருமானம் யாது?

3) முதலீட்டு பெருக்கி யாது?

4) இதன் விளக்கம் யாது?

4. மூடப்பட்ட பொருளாதாரம் ஒன்றில் தேசிய வருமானம் பற்றிய தகவல்கள் வருமாறு தரப்படுகின்றன.

$$\text{நுகர்வு (C)} = 600 + 0.6y$$

$$\text{முதலீடு (I)} = 400 \text{ மில் ரூபா}$$

1) சமநிலை தேசிய வருமானம் யாது?

2) சமநிலையின் போது நுகர்வு மட்டம் யாது?

3) சேமிப்பு தொழிற்பாட்டு சமன்பாடு யாது?

4) சமநிலையின் போது சேமிப்பு மட்டம் யாது?

5. குறிப்பிட்ட பொருளாதாரம் ஒன்றின் தன்னிச்சையான நுகர்வு 300 மில். ரூபா ஆகும். இதனைவிட எஞ்சிய நுகர்வு - எல்லா வருமான மட்டங்களிலும் 60 வீதமாகும்.

1) நுகர்வு தொழிற்பாட்டு சார்பு யாது?

2) இப்பொருளாதாரத்தில் 200 மில் முதலீடு நிலையானது எனக் கொள்ளின் மொத்தக் கேள்வி யாது?

3) இப்பொருளாதாரத்தில் தன்னிச்சையான நுகர்வு இல்லையெனில் நுகர்வு தொழிற்பாடு யாது?

4) இச்சமநிலை தேசிய வருமானம் யாது?

5) தற்போது முதலீடு 100 மில். அதிகரிப்பின், சமநிலை தேசிய வருமானம் யாது?

6) சுயேட்சையான நுகர்வு இடம்பெறின், சமநிலை தேசிய வருமானம் யாது?

7) முதலீட்டு பெருக்கி யாது?

1. குறிப்பிட்ட பொருளாதாரம் ஒன்றுக்கான மாறிகள் வருமாறு தரப்படுகின்றன.

$$S = -400 + 0.25y$$

முதலீடு 500 மில் ஆகும்.

1) சமநிலை தேசிய வருமானம் என்ன.

2) சுய நுகர்வு இல்லையெனில், சமநிலை தேசிய வருமானம் யாது?

3) தற்போது தன்னிச்சையான நுகர்வு உள்ள நிலையில் முதலீடு 700 மில் ஆக உயரின், சமநிலை தேசிய வருமானம் யாது?

7. பொருளாதாரம் ஒன்று தொடர்பான பின்வரும் தகவல்கள் தரப்படுகின்றன.

வருமானம் (Y) நுகர்வு (C)

100 1750

2000 2500

3000 3250

4000 4000

5000 4750

1) நுகர்வு தொழிற்பாட்டு சமன்பாடு யாது?

2) 3000 மில். ரூபா வருமான மட்டத்தில் சராசரி நுகர்வு நாட்டம் யாது?

3) தன்னிச்சையான முதலீடு 400 மில். ஆயின் சமநிலை வருமான மட்டம் யாது?

4) முதலீடு 100 மில்லியனால் அதிகரிக்குமாயின், தேசிய வருமான மட்டம் எந்த வினால் அதிகரிக்கும் என எதிர்பார்க்கின்றீர்.

8. ஒரு பொருளாதாரம் ஒன்றின் நுகர்வுத் தொழிற்பாடு பின்வருமாறு தரப்படுகின்றது.

$$C = 300 + 0.75y$$

$$\text{இப்பொருளாதார நேர்வரி 100 மில்லியன் ரூபா ஆகும். புதிய நுகர்வுச் சமன்பாட்டினைக் காண்க.}$$

9. மூடப்பட்ட பொருளாதாரம் ஒன்று தொடர்பான பின்வரும் தகவல்கள் உமக்கு தரப்படுகின்றன.

$$C = 200 + 0.6y$$

$$I = 200 \text{ மில்லியன் ரூபா}$$

$$G = 300 \text{ மில்லியன் ரூபா}$$

1) சமநிலை தேசிய வருமான மட்டத்தைக் காண்க.

2) தற்போது அரசாங்கம் 150 மில்லியன் ரூபாவை நேர் வரியாக விதிக்கின்றது எனக் கொண்டு புதிய சமநிலை தேசிய வருமானத்தைக் காண்க.

3) புதிய சமநிலை தேசிய வருமான மட்டத்தில் நுகர்வின் அளவினைக் காண்க.

10. மூடப்பட்ட ஒரு பொருளாதாரம் தொடர்பாக பல்வேறு வருமான மட்டங்களிலான தேசிய வருமானத் தகவல்கள் பின்வருமாறு தரப்படுகின்றன.

வருமானம் (Y) நுகர்வு (C)

4000 3200

6000 4400

1) நுகர்வுத் தொழிற்பாட்டினைக் காண்க.

2) இங்கு முதலீடு 400 மில்லியன் ஆகும். அரசாங்க செலவீடு 300 மில்லியன் ஆகும். அரசினால் விதிக்கப்படும் நேர்வரி 100 மில்லியனாகவும் காணப்படின், சமநிலைத் தேசிய வருமான மட்டத்தைக் காண்க.

3) புதிய சமநிலைத் தேசிய வருமான மட்டத்தின் நுகர்வினைக் காண்க.

11. மூடப்பட்ட பொருளாதாரம் தொடர்பான பின்வரும் தகவல்கள் தரப்படுகின்றன.

$$C = 400 + 0.75Yd$$

$$I = 400 \text{ மில்லியன் ரூபா}$$

$$G = 100 \text{ மில்லியன் ரூபா}$$

$$T = 0.2Y$$

1) சமநிலை தேசிய வருமானம் யாது?

2) அரசாங்க செலவீடு 100 மில்லியன் ரூபாவால் அதிகரிப்பின், சமநிலைத் தேசிய வருமானம் யாது?

12. திறந்த பொருளாதாரம் ஒன்று தொடர்பாக தேசிய வருமானம் பற்றிய தகவல்கள் பின்வருமாறு தரப்படுகின்றன.

$$C = 400 + 0.75Y \quad G = 200$$

$$X = 150 \quad I = 300$$

$$T = 100 \quad M = 50$$

சமநிலை தேசிய வருமான மட்டத்தைக் காண்க.

13. ஒரு பொருளாதாரம் தொடர்பாக பல்வேறுபட்ட வருமான மட்டங்களிலான நுகர்வு நாட்டங்கள் தரப்படுகின்றன.

வருமானம் 1000 ரூபாவாகக் காணப்பட்ட போது சராசரி நுகர்வு நாட்டம் 1.25 ஆகும். 2000 ரூபா வருமான மட்டத்தில் நுகர்வு நாட்டம் 1 ஆகும் நுகர்வுத் தொழிற்பாட்டு சமன்பாடு யாது?

14. பொருளாதாரம் ஒன்றில் வருமானம் 2000 ரூபாவாக காணப்பட்ட போது எல்லை நுகர்வு நாட்டம் 0.5 ஆகும் எனின் நுகர்வு தொழிற்பாட்டு சமன்பாடு யாது? இங்கு நுகர்வு மட்டம் 1600 ரூபா என கொள்க.

15. வருமானம் (Y) சேமிப்பு (S)

500 100

1000 200

1) சேமிப்பு சமன்பாட்டினைத் தருக?

2) சேமிப்பு சமன்பாட்டில் a, b இன் பெறுமதி யாது?

16. நுகர்வோனின் வருமானம் 1000 ரூபாவாக இருந்த போது, சேமிப்பு 600 ரூபா ஆகும். எல்லை சேமிப்பு நாட்டம் 0.75 ஆகும்.

1) 1000, 2000 ரூபா வருமான மட்டங்களிலான சேமிப்பு மட்டங்களை இனம் காண்க.

2) சராசரி சேமிப்பு நாட்டங்களை மதிப்பிடுக.

3) சேமிப்பு சார்பு யாது?

4) பூச்சிய வருமானத்தில் சேமிப்பு யாது?

17. குறிப்பிட்ட பொருளாதாரத்தின் நுகர்வு தொழிற்பாட்டினை பின்வரும் தரவுகள் விளக்குகின்றன.

வருமானம் (Y) சராசரி நுகர்வு (ABC)

400 1.00

500 0.92

600 0.866

1) எல்லை நுகர்வு நாட்டம் யாது?

2) பெருக்கியின் பெறுமதி யாது?

3) எந்த வருமான மட்டத்தில் சேமிப்பு 0 ஆகும்.

18. ஒரு பொருளாதாரத்தின் நுகர்வுத் தொழிற்பாடானது பின்வரும் சமன்பாட்டின் வடிவத்தில் தரப்படுகின்றது.

$$C = 70 - 0.9y$$

தனியார் முதலீடு 100 மில். சகல வருமான மட்டங்களிலும் நிலையானது

1) பின்வரும் வருமான மட்டங்களில்

வருமானம் :- 1000, 1200, 1500, 1700, 2000, 2200

நுகர்வு (C)

சேமிப்பு (S)

முதலீடு (I)

சராசரி நுகர்வு நாட்டம் (APC)

எல்லை சேமிப்பு நாட்டம் (MPS)

மொத்த கேள்வி (AD)

என்பவற்றை மதிப்பிடுக.

2) சமநிலை வருமான மட்டம் யாது?

19. குறித்த பொருளாதாரத்தில் ஒன்று தளம்பலின்று 1000 ரூபா வருமான மட்டத்தில் முதலீடு 100 மில். சேமிப்பு 50 மில். வரி 150 மில் ஆயின், அரச செலவீடு யாது?

20. அரச தலையீடு உள்ள திறந்த பொருளாதாரம் ஒன்றில் இறக்குமதி 300 வரி 100, ஏற்றுமதி 100, அரச செலவீடு, 200 முதலீடு, 300 மில்லியன் ஆகும். இப் பொருளாதாரத்தின் சேமிப்பையும் வருமான மட்டத்தையும் மதிப்பிடுக.

21. மூடப்பட்ட எளிமையான பொருளாதாரம் ஒன்றில் தன்னிச்சையான நுகர்வு 200 மில் ரூபா ஆகும். தூண்டப்பட்ட நுகர்வு $0.8Y$ முதலீடு 100 மில் ரூபாவாகும் சமநிலை தேசிய வருமானம் யாது?

22. தேசிய வருமானம் தொடர்பாக வெளிநாட்டு வர்த்தகமில்லாத பொருளாதாரம் ஒன்று தொடர்பாக பின்வரும் தரவுகள் தரப்படுகின்றன.

முதலீடு $I = 50$ மில்லியன்.

அரசாங்க செலவு $(G) = 30$ மில்

நுகர்வு $(C) =$ செலவுக்கான வருமானத்தில் $(Yd) 0.8$

வரிகள் $(T) =$ மொத்த வருமானத்தில் $(Y) 0.25$

1) சமநிலையில் மொத்த வருமானம் யாது?

2) இங்கு வரவு -செலவுத்திட்ட மிகையா? குறையா காணப்படும்?

23. எளிமையான பொருளாதாரம் ஒன்றில் வருமானத்தில் நுகர்வுக்காக வீட்டுத்துறை 60 வீதத்தினை செலவிடுகின்றது. முதலீடு 150 மில். ஆகும்.

1) சமநிலை தேசிய வருமானம் யாது?

2) இப்பொருளாதாரத்தின் முதலீடு 100 மில்லியனால் அதிகரிக்கிறது எனின், புதிய வருமான மட்டம் யாது?

3) பெருக்கியின் பெறுமதி யாது?

4) அரச 20 மில். ரூபாவை செலவாக மேற்கொள்வதற்காகவும் 10 வீத வருமான வரி அறவிடுவதற்காகவும் கொள்வின் புதிய வருமான மட்டம் யாது?

24. அரச தலையீடு இல்லாத ஒரு பொருளாதாரம் தொடர்பாக பின்வரும் தகவல்கள் தரப்படுகின்றது. முதலீடு 20 மில். ஏற்றுமதி, 10 நுகர்வுச் செலவு 9/10 வருமானத்தின் எல்லா மட்டங்களிலும் இதேபோல் இறக்குமதிகள் 1/9 நுகர்வுச் செலவில் (எல்லா வருமான மட்டங்களிலும்)

1) சமநிலை தேசிய வருமானம் யாது?

2) இறக்குமதி எந்தளவாக இருக்கும் ?

3) சென்மதி நிலுவையில் உள்ளதா?

4) ஏற்றுமதிகள் மாறாத நிலையில் முதலீட்டுச் செலவுகள் 15மில். ரூபா அதிகரிப்பின், புதிய சமநிலை தேசிய வருமானம் என்ன?

5) முதலீட்டில் ஏற்படும் இவ்வதிகரிப்பு சென்மதி நிலுவையில் என்ன பாதிப்பை ஏற்படுத்தும்.

25. பொருளாதாரம் ஒன்றின் தரவுகள் பின்வருமாறு தரப்படுகின்றது?

நுகர்வு 0.8 செலவிடக் கூடியவருமானம்

முதலீடு 520, அரசாங்கச் செலவீடு 800

வரிவிதிப்பு 0.5 வருமானம்

ஏற்றுமதிகள் 600

இறக்குமதி 0.2 வருமானம்

1) சமநிலை தேசிய வருமானத்தைக் கணிப்பிடுக.

2) தேசிய வருமானத்தை 1200 மில். ரூபாவால் அதிகரிக்க அரச செலவீட்டை என்ன அளவால் அதிகரிக்க வேண்டும்.

26. பின்வரும் தகவல்கள் எளிய பொருளாதாரம் ஒன்று தொடர்பாக தரப்படுகின்றன.

வருமானம் நுகர்வு

1000 800

2000 1000

1) எல்லை நுகர்வு நாட்டம் யாது?

2) தன்னிச்சையான நுகர்வு யாது?

3) நுகர்வுச் சமன்பாட்டைத் தருக?

4) நுகர்வுக் கோட்டினை வரைக?

5) 1500 வருமான மட்டத்தில் நுகர்வு யாது?

6) 600 நுகர்வு மட்டத்தில் வருமானம் யாது?

7) சேமிப்பு அட்டவணையை தயார் செய்க?

8) எல்லை சேமிப்பு நாட்டம் யாது?

9) சேமிப்பு சமன்பாட்டைத் தருக?

10) ஒவ்வொரு வருமான மட்டத்திலும் சராசரி சேமிப்பு நாட்டத்தை மதிப்பிடுக.

11) இப்பொருளாதாரத்தின் முதலீடு மில்லியன் ஆயின், சமநிலைத் தேசிய வருமானம் யாது?

12) முதலீடு 50 மில்லியன் அதிகரிப்பின் புதிய சமநிலை வருமான மட்டம் யாது?

13) முதலீட்டுப் பெருக்கியாது (வருமானப்பெருக்கி)

27. அரசாங்க தலையீடு உள்ள மூடப்பட்ட பொருளாதாரம் ஒன்றின் சில தரவுகள் வருமானம் நுகர்வுத் தொழிற்பாடு $C=100+0.8Yd$ வருமான வரி விகிதாசாரத்திற்கு ஏற்ப எல்லா அரசாங்க வருமானமும் 25% அதிகரிக்கப்பட்டது. அப்போது செலவிடக் கூடிய வருமானம் $0.75Y$

தனியார் முதலீட்டுச்செலவு 1400 மில்லியன்

பொருட்கள், சேவைகள் மீதான அரசாங்க செலவு 2500 மில்.

தேசிய வருமானம் 10,000 மில்லியன்

1) ஆரம்ப நுகர்வுப் பெறுமதி யாது?

2) சேமிப்பு யாது?

3) வரி வருமானம் யாது?

4) இப்பொருளாதாரத்தின் APC இற்கும், NPC இற்கும் இடையிலான தொடர்பு யாது?

5) தனியார் முதலீட்டுச்செலவு 1000 மில்லியன் ஆகக் காணப்படும் போது ஏனையவை மாறாத வருமானத்தில் ஏற்படும் மாற்றம் யாது?

6) இந்நிலையில் வரவு - செலவுத் திட்டத்தில் பற்றாக்குறையா? மிகையா? ஏற்படும்.

28. பின்வரும் தகவல்கள் மூடப்பட்ட பொருளாதாரம் ஒன்று தொடர்பானவை.

நுகர்வு $C = 40 + 0.8Yd$

முதலீடு $T = 50$ மில்லியன்

அரசாங்கச் செலவு 10 மில்லியன்

வரி 5 மில்லியன்

1) சமநிலைத் தேசிய வருமானம் யாது?

2) அரசாங்கச்செலவு 5 மில்லியனாக அதிகரித்தால், புதிய சமநிலைத் தேசிய வருமானம் யாது?

3) வரியானது 10 ஆக அதிகரித்தால், புதிய சமநிலை வருமான மட்டம் யாது?

4) அரச செலவினப் பெருக்கி யாது?

5) வரி 5 மில்லியனாக உள்ளபோது, வரவு-செலவுத் திட்டப் பற்றாக்குறை யாது? இதை எவ்வாறு நிதிப்படுத்தலாம்.