

# நமது அழநாடு

தமிழர் தாயகத்தின் முன்னோடி நாளிதழ்

மலர்:04 திருவள்ளூர் ஆண்டு: 2036 கார்த்திகை 08 ஹிரி 1428 லவ்வால் 20 (23.11.2005) பதங்கியமை இதழ் 54

**Dialog UNIVERSITY பிலொக்**

100/.../... வினாக்கள்...  
தொலைபேசி...  
தொலைக்காட்சி...  
கொடுக்கப்படும்...  
கொடுக்கப்படும்...  
கொடுக்கப்படும்...

**ki**

சரி Murugan  
Tele Communication & Agency  
Post Office,  
303, K.K.S. Road, Jaffna.

T.P: 021 222 5392,  
Fax: 222 3214

E-Mail: srimurugan@eureka.lk

# நாடெங்கும் மழை, வெள்ளம்; 50 ஆயிரம் பேர் இடம்பெயர்வு!



பரந்தன், முல்லைத்தீவு வீதியில் மக்களை ஏற்றி இறக்கும் ரக்பர்

**யாழ்ப்பாணம்**

நாட்டின் பல்வேறு பகுதிகளில் தொடர்ச்சியாக பெய்துவரும் பெருமழை காரணமாக ஏற்பட்ட வெள்ளப்பெருக்கினால் பல்லாயிரக்கணக்கான மக்கள் இடம்பெயர்ந்துள்ளதன் போக்குவரத்துகள் துண்டிக்கப்பட்டு மக்களின் அன்றாட இயல்பு வாழ்க்கை முற்றிலுமாக பாதிக்கப்பட்டுள்ளது.

நேற்றையதினம் யாழ்.குடாநாட்டில் மழைவீழ்ச்சியின் அளவு குறைந்திருந்த போதிலும் நேற்றுமுன்தினம் பெய்த மழையால் குடியிருப்புக்களில் வெள்ளம் புகுந்து இடம்பெயர்ந்த மக்கள் தொடர்ந்தும் உறவினர் நண்பர்கள் மற்றும் பொது இடங்களில் தங்கியுள்ளனர். திருநெல்

வேலி வானிலை அவதான நிலையத்தின் தகவல்களின்படி நேற்றுக்காலை 9 மணி யுடன் முடிவடைந்த 24 மணி நேரத்தினுள் 85.6 மில்லிமீற்றர் மழையும், நேற்று மாலை 3 மணி தொடக்கம் 6 மணிக் கிடப்பட்ட நேரத்தினுள் 15.7 மில்லிமீற்றர் மழைவீழ்ச்சியும் பதிவாகியுள்ளன.

கிளிநொச்சி மாவட்டத்தில் வெள்ளம் பெருக்கினால் 8069 குடும்பங்கள் பாதிக்கப்பட்டுள்ளன. இதில் கண்டாவளை பிரதேச செயலர் பிரிவில் 2929 குடும்பங்களும், கரைச்சி பிரதேச செயலர் பிரிவில் 2466 குடும்பங்களும், பூநகரி பிரதேச செயலர் பிரிவில் 192 குடும்பங்களும், பச்சிலையப்பள்ளி பிரதேச செயலர் பிரிவில் (11 ஆம் பக்கம் பார்க்க)

## விமல் வீரவன்சவுக்கு திடீர் நெஞ்சுவலி!



கொழும்பு  
ஜே.வி.பியின் நாடாளுமன்ற உறுப்பினரும், பிரசார செயலருமான விமல் வீரவன்ச திடீர் நெஞ்சுவலி ஏற்பட்டதை அடுத்து வைத்தியசாலையில் அனுமதிக்கப்பட்டுள்ளதாக அந்தக் கட்சி வட்டாரங்கள் (12 ஆம் பக்கம் பார்க்க)

## அமைச்சரவை நியமனத்தில் இழுபறி பதவியேற்பு இன்றே நடைபெறும்!

**கொழும்பு**

புதிய அமைச்சரவை நியமனங்கள் தொடர்பாக ஆளும் கூட்டணிக் கட்சிக்குள் கருத்து வேறுபாடுகள் தோன்றியிருப்பதால் - அமைச்சர்களின் பதவியேற்பு நிகழ்வின் போது இரண்டாவது நாளாகவும் ஒத்துப்போக வேண்டிய நிலை மகிந்தவுக்கு ஏற்பட்டது.

புதிய ஜனாதிபதியாக பதவியேற்ற மகிந்த ராஜபக்ஷ நேற்றுமுன்தினம் பிரதமராக ரட்சணசிரி விக்கிரமநாயக்கவை நியமித்துள்ளதன் - அன்று

மாணவியே புதிய அமைச்சரவை பதவியேற்கும் என அறிவித்திருந்தார்.

ஆனால் நேற்று முன்தினம் பதவியேற்பு இடம்பெறவில்லை. பின்னர் நேற்று பதவியேற்பு நிகழ்வு நடைபெறும் என அறிவிக்கப்பட்டது. ஆனால் நேற்றும் அமைச்சர்கள் பதவியேற்பு இடம்பெறவில்லை.


முக்கிய அமைச்சப் பொறுப்புகள் தொடர்பாக ஆளும் கூட்டணிக் குழு தோன்றியிருக்கும் முரண்பாடுகளைத் தீர்ப்பதற்கும் அமைச்சரவை அமைச்சர்களின் தொகையை 25 ஆக்கக் குறைப்பது உள்ளிட்ட பிரச்சினைகளைத் தீர்ப்பதற்கு கால அவகாசம் தேவைப்பட்டாலேயே நேற்றும் பதவியேற்பு நிகழ்வு இடம்பெறவில்லை எனத் தெரியவருகிறது.

எனினும், அமைச்சரவையின் பெயர்ப்பட்டியலை ஜனாதிபதி மகிந்த முடிவு செய்துவிட்டதாகவும் - இன்று பதவியேற்பு நிகழ்வு இடம்பெறும் என்றும் ஊக்கியமக்கள் சுதந்திர முன்னணி பொதுச்செயலர் சசில் பிரேம ஜெயந்த தெரிவித்தார். (12 ஆம் பக்கம் பார்க்க)

புது உள்ளிட்ட பிரச்சினைகளைத் தீர்ப்பதற்கு கால அவகாசம் தேவைப்பட்டாலேயே நேற்றும் பதவியேற்பு நிகழ்வு இடம்பெறவில்லை எனத் தெரியவருகிறது.

எனினும், அமைச்சரவையின் பெயர்ப்பட்டியலை ஜனாதிபதி மகிந்த முடிவு செய்துவிட்டதாகவும் - இன்று பதவியேற்பு நிகழ்வு இடம்பெறும் என்றும் ஊக்கியமக்கள் சுதந்திர முன்னணி பொதுச்செயலர் சசில் பிரேம ஜெயந்த தெரிவித்தார். (12 ஆம் பக்கம் பார்க்க)

## உயர் படிப்பை முடிப்பதற்கு வெளிநாடு செல்லும் ரணில்



கொழும்பு  
தனது கலாநிதிப் பட்டத்தை முடிப்பதற்காக ஈ.தே.கட்சியின் தலைவர் ரணில் விக்கிரமசிங்க வெளிநாடு செல்லவுள்ளதாக அவரது குடும்பத்துடன் தொடர்புடைய வட்டாரங்கள் தெரிவித்தன. (12 ஆம் பக்கம் பார்க்க)

## ரட்சணசிரியின் பிரதமர் நியமனம் யுத்தத்தைத் தொடங்கும் முயற்சி!

**சந்தேகம் எழுப்புகிறார் விக்கிரமபாகு**

**கொழும்பு**

புதிய ஜனாதிபதியாகத் தெரிவுசெய்யப்பட்டிருக்கும் மகிந்த ராஜபக்ஷ, பிரதமராக ரட்சணசிரி விக்கிரமநாயக்கவைத் தெரிவுசெய்திருப்பது - அரசு யுத்தம் ஒன்றுக்குத் தயாராகின்றதா என்ற சந்தேகத்தை ஏற்படுத்தியிருப்பதாக புதிய இடது

சாரி முன்னணி தலைமைக்குழு உறுப்பினர் விக்கிரமபாகு கருணாரத்ன தெரிவித்தார்.

இது தொடர்பாக அவர் மேலும் தெரிவித்ததாவது -

ஜே.வி.பி. ஹெல் உறுமய போன்ற இனவாத பிற்போக்கு (12 ஆம் பக்கம் பார்க்க)

## ஐ.தே.க புதிய தலைவராக கரு ஜெயசூரிய நியமனம்? எதிர்க்கட்சித் தலைவராகவும் இருப்பார்

**கொழும்பு**

ஊக்கிய தேசியக்கட்சியின் தலைவர் பொறுப்பிலிருந்து ரணில் விலகவுள்ள நிலையில் - கட்சியின் புதிய தலைவராக கரு ஜெயசூரிய நியமிக்கப்படுவாரென கட்சியின் உயர்மட்ட பிரமுகர்கள் தெரிவித்தனர்.

ஊக்கிய தேசியக்கட்சியின் பிரதிப்பொதுச் செயலாளர் திள்ளை அத்தநாயக்க இது தொடர்பாக

**கூறுகையில் -**

தேர்தல் முடிவுகளை அடுத்து ஊக்கிய தேசியக்கட்சித் தலைவர் மற்றும் நாடாளுமன்ற எதிர்க்கட்சித் தலைவர் பொறுப்பிலிருந்து ரணில் விலகவுள்ளார்.

பிரதித் தலைவரான கரு ஜெயசூரிய கட்சித் தலைவராகவும், பிரதித் தலைவராக சிறையில் உள்ள எஸ்.பி.திருநாயக்க (12 ஆம் பக்கம் பார்க்க)

## நோர்வே அமைச்சர் சொல்லெறும் அடுத்தவாரம் இலங்கை வருகிறார்!

**கொழும்பு**

புதிய ஜனாதிபதியாக மகிந்த ராஜபக்ஷ பொறுப்பேற்றுள்ள நிலையில் - நோர்வேயின் விசேட தூதுவரும், அந்த நாட்டு அபிவிருத்தி அமைச்சருமான எரிக் சொல்ஹெய்ம் அடுத்தவார ஆரம்பத்தில் இலங்கை வரவுள்ளார்.

சமாதான முயற்சிகளில் தற்போது

தோன்றியிருக்கும் நெருக்கடிகள், தடைகளை நீக்கும் நோக்குடனேயே எரிக் சொல்ஹெய்ம் கொழும்பு வரவுள்ளாரென இலங்கைப் போர் நிறுத்தக் கண்காணிப்புக் குழுவின் தொடர்புடைய வட்டாரங்கள் தெரிவித்தன.

கொழும்பிலும், கிளிநொச்சியிலும் எரிக் சொல்ஹெய்ம் - அரசு மற்றும் புலிகள் தரப்புப் பிரதிநிதிகளுடன் உயர்

மட்டப் பேச்சுக்களை நடத்துவார்.

அதேவேளை, புதிய ஜனாதிபதியாகப் பொறுப்பேற்ற மகிந்த ராஜபக்ஷ - போர்நிறுத்தம் தொடருமென அறிவித்துள்ளது குறித்து கண்காணிப்புக்குழுப் பேச்சாளர் ஹெலன் ஒலிவ்ஸ் டோடர்யர் மிகுப்சி தெரிவித்தார்.

அவர் தொடர்ந்து கூறுகையில் - (12 ஆம் பக்கம் பார்க்க)

## அவசரகாலச் சட்டத்தை நீடிப்பதற்கு அரசு முடிவு!

**கொழும்பு**

ஜனாதிபதி மஹிந்த ராஜபக்ஷ தலைமையிலான புதிய அரசாங்கம் அவசரகாலச் சட்டத்தை நீடிக்கவிருப்பதாகக் கொழும்புத் தகவல்கள் தெரிவித்தன.

எதிர்வரும் 25 ஆம் திகதி நடைபெறவுள்ள நாடாளுமன்றக் கூட்டத் தொடரில் ஜனாதிபதி மஹிந்த ராஜபக்ஷவின் விசேட உரைக்குப் பின்னர் அவசரகாலச் சட்ட நீடிப்பு தொடர்பான விவாதம் நடைபெறவுள்ளது.

இந்த முறையும் அவசரகாலச் சட்டம் நீடிக்கப்படுவதற்கான வாய்ப்புகள் அதிகம் இருப்பதாக கொழும்புச் செய்திகள் தெரிவித்தன.

கடந்த ஓகஸ்ட் 13ஆம் திகதி வெளிவிவகார அமைச்சராக இருந்த லக்ஷ்மன் கதிர்காமர் கொல்பப்பட்டதை அடுத்து அவசரகாலச் சட்டத்தை அப்போதைய ஜனாதிபதி சந்திரிகா பிரகடனம் செய்தார். (12 ஆம் பக்கம் பார்க்க)

கூறுகையில் -

தேர்தல் முடிவுகளை அடுத்து ஊக்கிய தேசியக்கட்சித் தலைவர் மற்றும் நாடாளுமன்ற எதிர்க்கட்சித் தலைவர் பொறுப்பிலிருந்து ரணில் விலகவுள்ளார்.

பிரதித் தலைவரான கரு ஜெயசூரிய கட்சித் தலைவராகவும், பிரதித் தலைவராக சிறையில் உள்ள எஸ்.பி.திருநாயக்க (12 ஆம் பக்கம் பார்க்க)

**ஓதுக்கீடுகளுக்கு அழைப்புகள்**

021-2223891, 2226297, 077-2349999, 011-2322952/3, 011-2360290/1

email: jaffna@expoavi.com, reservations@expoavi.com. Your friend in the skies...

கிவங்கையில் முன்னணி வகிக்கும் உங்கள் உள்நூர் விமான சேவை...





# பாகிஸ்தான் அணிக்கு எதிராக பெல், பீற்றர்சன் சதமடித்தனர்



பைசலாபாத்

பாகிஸ்தான் அணிக்கு எதிரான டெஸ்ட் போட்டியில் பெல், பீற்றர்சன் ஆகியோர் அடித்த சதத்தின் மூலம் இங்கிலாந்து அணி வலுவான நிலையை எட்டியுள்ளது.

நேற்றுமுன்தினம் ஆட்டநேரமுடிவில் 3 விக்கெட் இழப்புக்கு 113 ஓட்டங்கள் என்ற நிலையில் இருந்த இங்கிலாந்து அணி தொடர்ந்து ஆடியது. பீற்றர்சனும், பெல்லும் அபாரமாக ஆடினர். பெல் நிதானமாக ஓட்டங்களை எடுக்க, பீற்றர்சன் பவுண்டரிகள், சிக்னர்களை விளாசினார். இதனால் இங்கிலாந்து அணியின் ஸ்கோர் 261ஐ எட்டியது.

இந்தநிலையில் சொகைப் அக்தரின் பந்துவீச்சில் மொகமட் யூசுப்பிடம் பிடிகொடுத்து பீற்றர்சன் ஆட்டமிழந்தார். இவர் 137 பந்துகளில் 6 பவுண்டரிகள், 3 சிக்னர்களுடன் 100 ஓட்டங்களை எடுத்திருந்தார்.

அடுத்து பெல்லுடன் பின்ரொப் இணைந்தார். ஆனால், அனைவர

தும் எதிர்பார்ப்பைப் பொய்ப்பித்த இவர் - ஒரே ஒரு ஓட்டத்துடன் அக்தரின் பந்துவீச்சில் போல்டாகி வெளியேறினார்.

அடுத்து ஜோன்ஸ் களமிறக்கப்பட்டார். இவர் பெல்லுடன் இணைந்து அபாரமாக ஆடியதால் ஸ்கோர் 300ஐத் தாண்டியது. சதமடித்த பெல் - ஸ்கோர் 327ஆக இருந்தபோது, அபிரியின் பந்துவீச்சில் அகமலிடம் பிடிகொடுத்து ஆட்டமிழக்க நேரிட்டது. இவர் 272 பந்துகளில் 7 பவுண்டரிகளுடன் 115 ஓட்டங்களைப் பெற்றிருந்தார்.

அடுத்து ஜைஸ் களமிறக்க - ஜோன்ஸ் அரைச்சதத்தைக் கடந்



தார். ஆனால், 86 பந்துகளில் 8 பவுண்டரிகளுடன் 55 ஓட்டங்களைப் பெற்றிருந்தபோது இவர் அபிரியின் பந்து

## ஆடுகளத்தைச் சேதப்படுத்தியமை; அபிரிடிக்கு போட்டித் தடை விதிப்பு!

பைசலாபாத்

இங்கிலாந்து அணிக்கு எதிரான 2ஆவது டெஸ்ட் போட்டியில் ஆடுகளத்தைச் சேதப்படுத்திய குற்றாச்சாட்டுக்குள்ளாகியிருக்கும் பாகிஸ்தான் வீரர் சயிட் அபிரிடி - ஒரு டெஸ்ட் மற்றும் 2 ஒருநாள் போட்டிகளில் ஆடத் தடை விதிக்கப்பட்டிருக்கிறது.

இவர் ஆடுகளத்தை தனது காலால் சேதப்படுத்தியதாக நடுவர் டரல் கெயர் மற்றும் டெரெஸ் கொதிக்க ஆகியோர் புகார் செய்திருந்தனர். இதையடுத்து போட்டி நடுவர் மகாநாம விசாரணை மேற்கொண்டபோது - அபிரிடி தனது தவறை ஒப்புக்கொண்டு மன்னிப்புக் கோரினார். ஆயினும், கிரிக்கெட் விதிகளின்படி ஒரு டெஸ்ட் மற்றும் 2 ஒருநாள் போட்டிகளில் ஆட அபிரிடிக்குத் தடை விதிக்கப்பட்டது.



வீச்சில் ஆட்டமிழக்க நேரிட்டது. ஜைஸ் - உடல் ஜோடி இணைந்து ஆடக்கொண்டிருந்தபோது நேற்றைய ஆட்டம் முடிவுக்கு வந்தது. ஆட்டநேரமுடிவில் 7 விக்கெட் இழப்புக்கு 391 ஓட்டங்களை இங்கிலாந்து அணி பெற்றிருந்தது. பந்துவீச்சில் அக்தர், நவீட்-உல்-ஹாசன், அபிரிடி ஆகியோர் தரை 2 விக்கெட்டுக்களைப், சமி ஒரு விக்கெட்டையும் கைப்பற்றினார்.

## 3ஆவது டெஸ்ட் போட்டிக்கான அபுஸ்ரேலிய அணி அறிவிப்பு!

ஹோபர்ட்

மேற்கிந்தியத் தீவுகள் அணிக்கு எதிரான, 3ஆவது டெஸ்ட் போட்டிக்கான அபுஸ்ரேலிய அணி அறிவிக்கப்பட்டுள்ளது.

சந்தர்ப்பால் தலைமையிலான மேற்கிந்திய கிரிக்கெட் அணி அபுஸ்ரேலியாவின் பயணம் செய்தது 3 டெஸ்ட் போட்டிகொண்ட தொடரில் விளையாடிவருகிறது. இதுவரை நடந்த கிரண்டு ஆட்டங்களிலும், அபுஸ்ரேலியா வெற்றிபெற்று 2-0 என்ற கணக்கில் தொடரைக் கைப்பற்றிவிட்டது. இந்த நிலையில் இரு அணிகளுக்கிடையிலான 3 ஆவது

## இலங்கை டெஸ்ட் தொடருக்கும் ராவிட்டே இந்திய அணி கப்டன்!

சென்னை

அடுத்துமாதம் 2ஆம் திகதி சென்னையில் ஆரம்பமாகவுள்ள இலங்கை அணிக்கு எதிரான டெஸ்ட் தொடருக்கான இந்திய அணியின் கப்டனாக ராகுல் ராவிட்டே இருப்பார் என்று இந்திய தேர்வுக்குழு அறிவித்துள்ளது.

இந்திய - தென்னாபிரிக்க அணிகளுக்கிடையே நடந்துவரும் ஒருநாள் போட்டித் தொடரின் அடுத்த 2 போட்டிகளுக்கான வீரர்கள் சென்னையில் இன்று தேர்வு செய்யப்பட்டவுள்ளனர். இதற்காக தேர்வுக் குழுவிடம் இடம்பெற்றுள்ள 5 பேரும் சென்னை வந்துள்ளனர்.

அத்துடன் அடுத்த மாதம் 2ஆம் திகதி தொடங்கும் இந்திய - இலங்கை டெஸ்ட் போட்டி அணிக்கான வீரர்களும் தேர்வு செய்யப்பட்டுவார்.

நேற்று டெஸ்ட் போட்டிக்கான கப்டன் தேர்வு செய்யப்பட்டார். பெரும்பாலும் கங்கூலியே டெஸ்ட் போட்டிக்கு கப்டனாகத் தேர்ந்தெடுக்கப்படுவார் என்று எதிர்பார்க்கப்பட்டது.

இது தொடர்பாக கிரண் மோரே தலைமையிலான தேர்வுக் குழுவினர் சென்னையில் நேற்று கூடி விவாதம் நடத்தினர்.

இறுதியில் டெஸ்ட் அணிக்கும்



ராவிட்டை கப்டனாக அவர்கள் தேர்வு செய்தனர். இதன் மூலம் கங்கூலி டெஸ்ட் அணியின் கப்டன் பதவியில் இருந்தும் நீக்கப்பட்டார்.

நீண்டகாலத் திட்டத்தின் அடிப்படையிலும், ஆழ்ந்த விவாதத்திற்கும் பின்னாலான ராவிட்டே கப்டனாகத் தேர்வு செய்யப்பட்டதாக கிரிக்கெட் சபை வட்டாரங்கள் தெரிவித்தன. ராவிட்டே டெஸ்ட் அணியின் கப்டனாகத் தேர்வு செய்யப்பட்டதை இந்திய கிரிக்கெட் சபைச் செயலாளர் எஸ்.கே.நாயர் உத்தியோகபூர்வமாக அறிவித்தார்.

இதனால் ஒருநாள் போட்டியின் கப்டன் பதவி மற்றும் அணியின் இருந்து நீக்கப்பட்ட கங்கூலி டெஸ்ட் அணியிலும் புறக்கணிக்கப்படும் நிலை உருவாகியிருக்கிறது.

## 3ஆவது டெஸ்ட் போட்டிக்கான அபுஸ்ரேலிய அணி அறிவிப்பு!

ஹோபர்ட்

மேற்கிந்தியத் தீவுகள் அணிக்கு எதிரான, 3ஆவது டெஸ்ட் போட்டிக்கான அபுஸ்ரேலிய அணி அறிவிக்கப்பட்டுள்ளது.

சந்தர்ப்பால் தலைமையிலான மேற்கிந்திய கிரிக்கெட் அணி அபுஸ்ரேலியாவின் பயணம் செய்தது 3 டெஸ்ட் போட்டிகொண்ட தொடரில் விளையாடிவருகிறது. இதுவரை நடந்த கிரண்டு ஆட்டங்களிலும், அபுஸ்ரேலியா வெற்றிபெற்று 2-0 என்ற கணக்கில் தொடரைக் கைப்பற்றிவிட்டது. இந்த நிலையில் இரு அணிகளுக்கிடையிலான 3 ஆவது

மற்றும் கடைசி டெஸ்ட் அடெலெய்டில் நடைபெறவுள்ளது.

இதற்கான அபுஸ்ரேலிய அணி அறிவிக்கப்பட்டுள்ளது. காயம் காரணமாக கடந்த போட்டிகளில் ஆடாத லாங்கர் மற்றும் மைக்கல் ஹூசே ஆகியோர் அணியில் இடம்பிடித்துள்ளனர். மைக்கல் கிளார்க் இடம்பெறவில்லை.

3 ஆவது போட்டிக்கான அபுஸ்ரேலிய அணி வீரர்கள் விபரம் வருமாறு - ரிக்கி பொண்டிங் (கப்டன்), ஜைர்டன், லாங்கர், மைக்கல் ஹூசே, பிராட் ஹெராக், சைமன்ஸ், கீல் கிறிஸ்ட், வோன் பிரெட் லீ, மக்கில், மெக்ரா, பிராக்கன்.



**51 ஆவது பிறந்த தின வாழ்த்துக்கள்**

புள்ளி... புள்ளி வைத்து  
நட்சத்திரராக  
ஒருமித்த இரவுப் பொழுதில்  
நிலவாக எல்லோரிடம் வாசல்  
விளக்கி வைத்த  
ஊறு வானம் போல்  
உலகத்தமிழர்களுக்கு  
விடிபல் தந்த தமிழ்த்தேசியத் தலைவர  
வாழ்க.

சியக்குருர், ஆசிரியர்கள், மாணவர்கள்,  
யாழ் ஏரக் சிஸ்டர்ஸ்,  
(கலாச்சேந்தி, யாழ்ப்பாணம்)

**51 ஆவது பிறந்த தின வாழ்த்துக்கள்**

சொல்லல் டெட்டு லல்ல  
செயலானாலே சாதக்கு  
நீர் நிறைந்த தங்கு டகனே!  
நாங்கள் வாடி தீவாடி வேண்டாம் பல்லாண்டே.  
பொங்கும் கடலும் பூத்தாயும்  
உன்னைக் கண்டு பிடுகுமே சிதைக்கிறது.

சியக்குருர், ஆசிரியர்கள், மாணவர்கள்,  
நூணக்குழந்தை கல்விக்கழகம்,  
திருநெல்வேலி.

# கல்விப் பொதுத் தராதரப்பத்திர (சா/த) பரீட்சை - 2005 மாதிரி வினாத்தாள்

## கணிதம் பகுதி - I

எல்லா வினாக்களுக்கும் விடை தருக.

1) சுருக்குக.

I)  $1/2 + 2/3$       II)  $4.2 - 2.39$

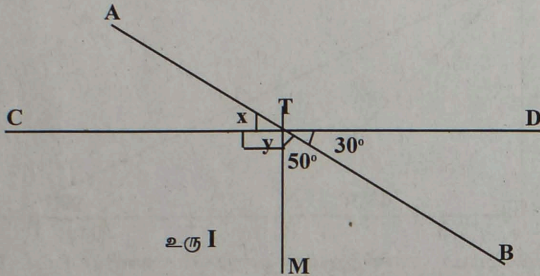
2) I)  $\sqrt{x}$  என்பதைச் சுட்டி வடிவில் தருக.

II)  $(4^3)$  என்பதன் பெறுமானம் காண்க.

3) I)  $3/5$  ஐ தசம பின்னமாக எழுதுக.

II) 0.27 என்பதைச் சாதாரண பின்னத்தில் தருக.

4) உரு I இல் AB, CD என்ற நேர்கோடுகள் T இல் இடைவெட்டுகின்றன. X, Y என்பவற்றின் பெறுமானங்களைக் காண்க.



உரு I

5)  $6 - x - x^2$  என்பதை இரு காரணிகளின் பெருக்கமாகத் தருக.

6) ஒரு வகுப்பில் 23 ஆண்களும், 17 பெண்களும் உள்ளனர்.

I) பெண்களுக்கும், ஆண்களுக்கும் இடையிலான விகிதத்தை எழுதுக.

II) ஆண்களின் எண்ணிக்கையை வகுப்பிலுள்ள மொத்தமாணவர்களின் சதவீதமாக எழுதுக.

7) சுருக்குக  
 $\frac{2 - 1}{x + 2}$

8) முக்கோணி ABC இல்  $AB = 6\text{cm}$ ,  $BC = 7\text{cm}$ ,  $AC = 9\text{cm}$  ஆகும். முக்கோணியை அமைக்காமல், கோணங்களின் பருமனைக் கருத்தில் கொண்டு, இது எவ்வகை முக்கோணி என்பதைக் காண்க.

9) ஒன்று ரூபா 5 வீதம் x பென்சில்களை வாங்கி, ரூபா y பெறுமதியான காசத்தாளை கொடுத்தபோது பெறப்படும் மீதிப் பணத்திற்கான கோவையை எழுதுக.

10) தீர்க்குக.  
 $8 - 3a = 1/2$

11) 2310 என்பதில் இலக்கம் 2 இன் பெறுமானம், இலக்கம் 1 இன் பெறுமானத்தின் எத்தனை மடங்கு என்பதை அடி பத்தில் தருக.

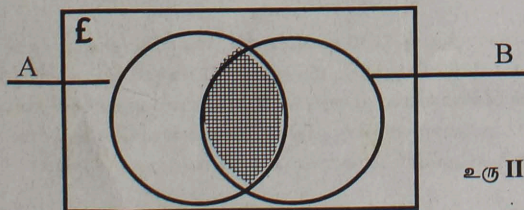
12) 5 மீனிதர் நாளொன்றுக்கு 8 மணித்தியாலம் வேலை செய்து, 9 நாட்களில் ஒரு வேலையைச் செய்து முடிக்கலாம்.

(i) இவ்வேலையின் அளவை மனித மணித்தியாலத்தில் காண்க.

(ii) இவ்வேலையை மூன்று நாட்களில் முடிக்கவேண்டியுள்ளது. இதற்காக 12 மனிதர்களை ஈடுபடுத்தினால் அவர்கள் நாளொன்றுக்கு எத்தனை மணித்தியாலங்கள் வேலை செய்ய வேண்டும்.


13) இரு வட்டங்களின் ஆரங்களின் விகிதம் 2:3 ஆகும். இவ்வட்டங்களின் பரப்பளவுகளின் விகிதத்தைக் காண்க.

14) வெள்வாரிப்பட்டத்தில் நிழற்றப்பட்ட பகுதியை தொடைக் குறியீட்டில் எழுதுக.



உரு II

15) குறித்த பொருள் ஒன்றுக்கு விற்பனையின் போது 8% கழிவு கொடுக்கப்பட்டு, ரூ.750 இற்கு விற்கப்படுகிறது. இவ்விற்பனையில் 5% இலா



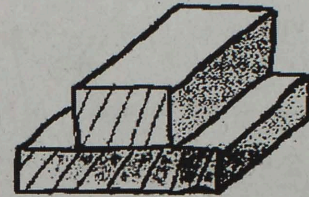
பம் கிடைத்தால் கொள்விலையையும், குறித்த விலையையும் காண்க.

16)  $12x$ ,  $6ax$ ,  $9x^2$  என்பவற்றின்

(i) பொதுக் காரணிகளுள் பெரியதைக் காண்க.

(ii) பொது மடங்குகளுள் சிறியதைக் காண்க.

17) உரு III இல் காணப்படும் அரியத்தின் குறுக்குவெட்டானது நிழற்றப்பட்டுள்ளது. அக்குறுக்குவெட்டுப் பரப்பளவு  $7\text{Cm}^2$  ஆகும். அரியத்தின் நீளம்  $10\text{Cm}$  ஆயின் அதன் கனவளவு யாது?

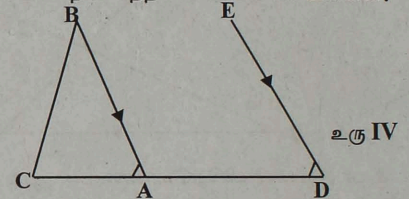


உரு III

18) (i) பல்கோணியின் புறக்கோணங்களின் கூட்டுத்தொகை எத்தனை பாகை?

(ii) புறக்கோணமொன்றின் பெறுமானம்  $30^\circ$  ஆகவுள்ள ஒழுங்கான பல்கோணியொன்றில் எத்தனை பக்கங்கள் உள்ளன?

19) உரு IV இல்

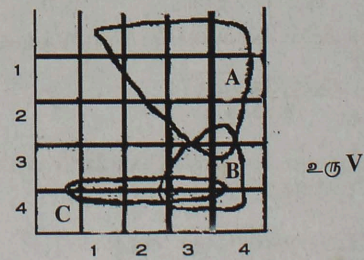


(i)  $\hat{ABC} + \hat{ACB}$  இற்குச் சமமான கோணத்தை எழுதுக?

(ii)  $\hat{BAD} + \hat{ADE}$  இன் பெறுமானத்தை பாகையில் தருக?

20) ஒருவரது ஆண்டு வருமானத்தின் முதல் ரூ 35,000 இற்கு வருமான வரி அறவிடப்படுவதில்லை. இதற்கு மேற்பட்ட தொகைக்கு அத்தொகையின் 10% வருமான வரியாக அறவிடப்படுகிறது. வியாபாரி ஒருவர் குறிப்பிட்ட வருடத்தில் செலுத்திய வருமான வரி ரூ 5440 ஆயின், அவரது ஆண்டு வருமானம் எவ்வளவு?

21) கோடாத நான்முகித் தாயக்கட்டையொன்று இரு தடவைகள் எறியப்பட்டபோது, தாயக்கட்டையின் கீழ் முகத்தில் காணப்படும் எண்களுக்கான மாதிரி வெளியானது உரு V இல் காட்டப்பட்டுள்ளன. அதில் குறிக்கப்படும் தொடைகள் என்பவற்றில் தம்முள் புறநீக்கமான நிகழ்ச்சிகளைக்கொண்ட தொடைச்சோடியை எழுதுக?

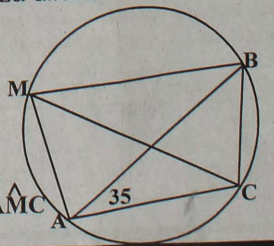


22)  ${}_m P_5 = 0.6990$  ஆயின்  ${}_m P_{1/0.5}$  இன் பெறுமானம் காண்க.

23) ஆண்டுக்கு 22% எளிய வட்டிப்படி கடனாகப்பெற்ற ரூ 4000 இற்கு 3 ஆண்டுகளுக்கான எளிய வட்டியைக் காண்க.

உரு VI

24) உரு VI இல் AB ஆனது வட்டத்தின் விட்டமாகும்.  $\hat{BAC} = 35^\circ$  எனின்  $\hat{AMC}$  இன் பெறுமானம் காண்க.



# கல்விப் பொதுத் தராதரப்பத்திர (சா/த) பரீட்சை - 2005 மாதிரி வினாத்தாள்

25) (i)  $A = 4\pi r^2$  என்பதில்  $r$  ஐ எழுதுக.

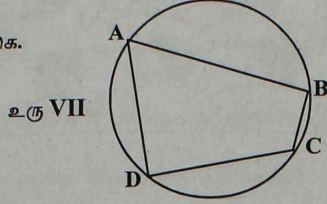
(ii)  $A = 4\pi r^2$  இல்  $A = 48, \pi = 3$  ஆயின்  $r$  இன் பெறுமானம் யாது?

26)  $3x - 2 > 4$  இல்  $x$  இன் எல்லைப்பெறுமானம் எவ்வளவு?

27) உரு 7 இல் ABCD என்பது வட்ட நாற்பக்கம்

(i)  $\hat{A} + \hat{C}$  இன் பெறுமானத்தை பாகைகளில் காண்க.

(ii)  $\hat{A} + \hat{C} = \hat{B} + \hat{D}$  எனக் காட்டுக.

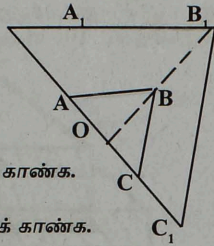


உரு VII

28)  $X = 3, Y = 2x - 1$  என்பதால் குறிக்கப்படும் இரு நேர்கோடுகளும், வெட்டும் புள்ளியின் ஆள்கூறுகளையும் எழுதுக?

29) உரு VIII இல் O என்பது உருப்பெருக்க மையம் ABC இனது உருப்பெருக்க விம்பம்  $A_1B_1C_1$  ஆகும்.  $OA = AA_1$  ஆயின்

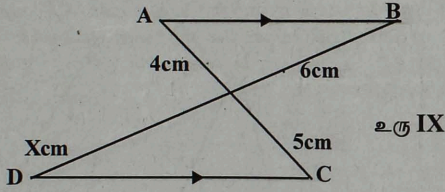
உரு VIII



(i) உருப்பெருக்கத்தின் அளவிடைக்காரணி காண்க.

(ii)  $AB = 5\text{cm}$  ஆயின்  $A_1B_1$  இன் நீளத்தைக் காண்க.

30) உரு IX இல்  $AB \parallel DC$  ஆகும். AC, BD நேர்கோடுகள் O இல் வெட்டுகின்றன.  $AO = 4\text{cm}, OC = 5\text{cm}, OB = 6\text{cm}$  ஆகும்.



உரு IX

(i)  $\frac{BO}{OD}$  க்குச் சமனான விகிதமொன்றை எழுதுக.  
(ii)  $X$  இன் பெறுமானத்தைக் காண்க.

அ) அதிக எண்ணிக்கையானோர் எந்தக் கூட்டத்தைச் சேர்ந்தவர்கள்?

ஆ) 50 வயதுக்கு மேற்பட்டோர் மொத்த எண்ணிக்கையின் என்ன சதவீதம்?

இ) 33-41 என்ற வகுப்பாயிடையின் நடுப்பெறுமானத்தை எடுக்கொண்ட இடையாகக் கொண்டு இடையைக் கணிக்க?

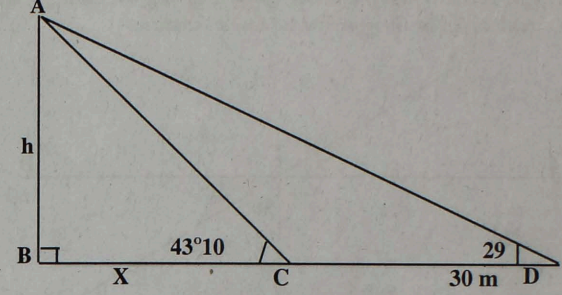
05. \*கூட்டல் விருத்தி ஒன்றின்  $n$  ஆவது உறுப்பு  $8-3n$  ஆகும் இந்த விருத்தியின்

அ) முதல் மூன்று உறுப்புகளையும் காண்க?

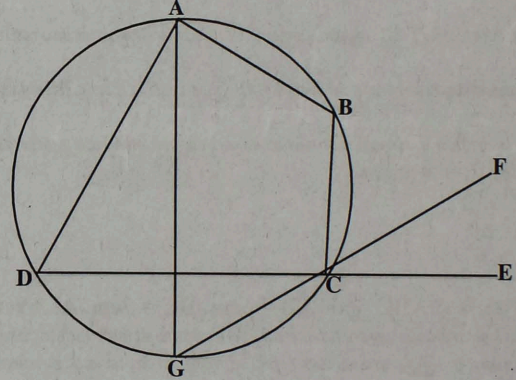
ஆ) -28 எத்தனையாவது உறுப்பாகும்?

இ)  $T_3=11, T_7=23$  இன் தொடரைக் காண்க?

06. தரப்பட்ட உருவில்  $\hat{ADB}=29^\circ, \hat{ACB}=43^\circ 10'$   $CD=30\text{m}$  ஆயின்  $h, x$  ஆகியவற்றைக் கணிக்க?



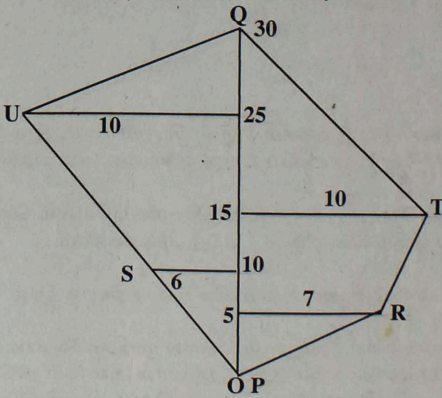
07. அளக்கப்பட்ட காணித்துண்டு ஒன்றுக்காக வரையப்பட்ட கிடைப்படம் இங்கே காட்டப்படுகிறது. எல்லா அளவீடுகளும் மீற்றரில் தரப்பட்டுள்ளன



அ) வெளிக்களப் புத்தகக் குறிப்பை எழுதுக?

ஆ) காணியின் பரப்பளவைக் காண்க?

08.



அ) வட்ட நாற்பக்கலின் புறக்கோணமானது அகத்தெதிர்கோணத்துக்குச் சமனாகும் என நிறுவுக?

ஆ) தரப்பட்ட உருவில் AG ஆனது  $\hat{BAD}$  ஐ இரு கூறிடுகிறது.

CF ஆனது  $\hat{BCE}$  ஐ இரு கூறிடுமென நிறுவுக?

09. கைக் காகக்கு ரூ 7500 விலையுள்ள சைக்கிள் ஒன்றை முதலில் ரூபா 3500 செலுத்தி, மீதியை 24% வருட வட்டிப்படி வாடகைக் கொள்வனவு முறையில் 4 சமமான மாதாந்தத் தவணைக் கட்டணங்களாகச் செலுத்திக் கொள்வனவு செய்யலாம். தவணைக் கட்டணமொன்றின் பெறுமானத்தைக் காண்க?

## பகுதி - II

01. அ) காரணிப்படுத்துக  $27-8a^3$

ஆ) தீர்க்க  $\frac{1}{x} + \frac{1}{y} = 7$   
 $\frac{3}{x} + \frac{2}{y} = 13$

இ) இரு தசமதானங்களுக்குத் திருத்தமாக விடை தருக?  
 $x^2+4x+1=0$

02. அ) தீர்க்க  $4^{x+1}=32$

ஆ) மடக்கை அட்டவணையைப் பயன்படுத்தாது பெறுமானங்காண்க?

$$3\log x + 2\log 2 = 5\log 2 + 3\log 2$$

இ) மடக்கை அட்டவணையைப் பயன்படுத்தாது பெறுமானங்காண்க?

$$\frac{0.2653x \sqrt{2.872}}{0.0538}$$

03. அ)  $-4 \leq x \leq 2$  என்ற ஆட்சியில்  $y=x^2+2x^3$  என்ற சமன்பாட்டை வரைபு படுத்துக?

ஆ) சமச்சீர்ச்சின் சமன்பாட்டை எழுதுக?

இ) இழிவுப் புள்ளியின் ஆள்கூறை எழுதுக?

ஈ) இந்த வரைபிலிருந்து 3 இன் பெறுமானத்தைக் காண்க?

உ) இந்த வரைபைப் பயன்படுத்தி  $x^2+2x-5=0$  ஐத் தீர்க்க?

04. குறித்த ஒரு நாளில் மருத்துவ நிலையமொன்று சிகிச்சை பெற வந்தவர்களின் எண்ணிக்கை வயதுக்கேற்ப கூட்டமாக்கப்பட்டு, உரிய தகவல் பின்வரும் அட்டவணையில் காட்டப்பட்டுள்ளது.

வயது (ஆண்டில்)	6-14	15-14	24-32	33-41	42-50	51-59	60-68
சிகிச்சை பெற்றவர்களின் எண்ணிக்கை	5	12	15	20	18	15	5











# வள்ளி வீதிகளை மேலிப்பாயும் வெள்ளம்



## நாடெங்கும் மழை...

610 குடும்பங்களும் பாதிக்கப்பட்டுள்ளன. இதேவேளை, இரணைமடு குளத்துக்கு பெரும்ளவில் நீர் வந்துகொண்டிருப்பதால் அதன் கொள்ளளவான 28 அடியைவிட 6 அடிக்கு மேலாக வான்பாய்ந்து கொண்டிருக்கிறது. குளத்தின் நீர்மட்டம் அதிகரித்ததையடுத்து நேற்றுமுன்தினம் 11 வான் கதவுகள் திறந்துவிடப்பட்டபோதிலும் நீர் வரத்து அதிகமாகியே இரணைமடு வான்பாய்கின்றது. இதனால் மக்களை எச்சரிக்கையாக இருக்குமாறு அறிவுறுத்தப்பட்டுள்ளனர்.

நேற்று மழை ஓரளவு தணிந்தபடியால் கனகாம்பிகை குளம் மற்றும் பதுமுறிப்பு குளம் உடைப்பெடுக்கும் அபாயம் தடுக்கப்பட்டுள்ளது. இதேவேளை அக்கராயன் குளத்துக்கான நீர் வரத்து அதிகரித்ததால் வெள்ள அணை உடைப்பெடுத்துள்ளது.

இதனால் குடியிருப்புகளினால் வெள்ளம் புகுந்துள்ளது. இதையடுத்து மக்கள் இடம் பெயர்ந்துள்ளனர். மணியங்குளம், ஈச்சங்குளம் ஆகியவற்றின் அணைகளில் சேதம் ஏற்பட்டு நீர் வெளியேறுவதால் அப்பகுதி மக்கள் இடம்பெயர்ந்து அக்கராயன் மற்றும் ஸ்கந்தபுரம் 2 ஆம் பாடசாலை ஆகியவற்றில் தங்கியுள்ளனர். மணியங்குளத்தை சேர்ந்த 111 குடும்பங்களும், கண்ணகிபுரத்தைச் சேர்ந்த 30 குடும்பங்களும் இந்தப் பாடசாலைகளில் தங்கியுள்ளன.

அக்கராயன் பகுதிகளான போக்குவரத்தை மேற்கொள்ளமுடியாதவாறு வீதிகளை குறுக்கடுத்து வெள்ளம் பாய்கின்றது. இதேவேளை பரந்தன் - புனகரி வீதி முற்றாக தடைப்பட்டுள்ளது.

பாதிக்கப்பட்ட மக்களுக்கான உதவிகளை மேற்கொள்வது குறித்து கிளிநொச்சி அரசு செயலகத்தில் நேற்றுக்காலை கூட்டமொன்று நடைபெற்றது.

இதேவேளை, முல்லைத்தீவு மாவட்டத்தில் பெய்த அடை மழையால் 17 ஆயிரத்து 450 குடும்பங்கள் பாதிக்கப்பட்டுள்ளதுடன், பெருமளவானோர் பாடசாலைகளில் தங்கியுள்ளனர். சுமார் 14 கிராமங்களுக்கான தொடர்புகள் துண்டிக்கப்பட்டுள்ளன.

இவ்வாறு துண்டிக்கப்பட்ட கிராமங்களுக்கு படகுகள் அனுப்பப்பட்டு மக்கள் பாதுகாப்பாக வெளியேற்றப்பட்டு வருகின்றனர். கடற்புலிகள் இந்த சேவையை மேற்கொண்டு வருகின்றனர்.

குறிப்பாக சுனாமியால் பாதிக்கப்பட்ட மக்கள் பெரிதும் பாதிக்கப்பட்டு இடம்பெயர்ந்துள்ளனர். செம்மன் குன்று, மாத்தளன், பொக்காணை, வலைகுர்மடம் போன்ற பகுதிகளுக்கான போக்குவரத்து துண்டிக்கப்பட்டுள்ளது.

பரந்தன் - புதுக்குடியிருப்பு, முல்லைத்தீவுக்கான போக்குவரத்து பெரும் சிரமத்திற்குட்பட்டதாகவே நேற்றும் நடைபெற்றது.

முல்லை மாவட்ட துணுக்காய், பாண்டியன் குள பிரதேசங்களில் பாதிக்கப்பட்ட 500 குடும்பங்களுக்கு தமிழர் புனர்வாழ்வுக்கழகம் சமைத்த உணவை வழங்கி வருகின்றது.

வடமராட்சி கிழக்குக்கான போக்குவரத்துக்கும் பாதிக்கப்பட்டுள்ளன. வெற்றிகளைக் கேணி, கட்டைக்காடு, ஆழியவளை போன்ற பகுதிகளைச் சேர்ந்த மக்கள் படகுகள் மூலமே போக்குவரத்தில் ஈடுபட்டு வருகின்றனர்.

மன்னார் மாவட்டத்தில் வெள்ளப்பெருக்கினால் 460 குடும்பங்களைச் சேர்ந்த 2000 பேர் இடம்பெயர்ந்துள்ளதாக மாவட்ட மேலதிக அரசு அதிபர் அ.நீக்கீலாப்பிள்ளை தெரிவித்தார். இலுப்பைக் கடலுவயில் இடம் பெயர்ந்து தங்கியுள்ள 25 குடும்பங்களுக்கு தமிழர் புனர்வாழ்வுக்கழகம் சமைத்த உணவினை வழங்கி வருகின்றது.

வெள்ளாள்குளம் பகுதியில் பாலியூறு வீதியே மேலி பாய்வதால் சகல போக்குவரத்துக்களும் துண்டிக்கப்பட்டுள்ளன.

இந்தப் பகுதிகளில் ஏற்பட்ட பாரிய வெள்ளப்பெருக்கினால் பெருமளவு நெல்வயல்கள் வெள்ளத்தில் மூழ்கியுள்ளதுடன், காட்களும் வெள்ளத்தில் அடித்துச் செல்லப்பட்டன.

கிழக்கு மாகாணம் மட்டக்களப்பு மாவட்டத்தில் காத்தான் குடி மற்றும் பல இடங்கள் வெள்ளத்தில் மூழ்கியுள்ளதாகவும், 20 குடும்பங்கள் பாதிக்கப்பட்டுள்ளதாகவும் மாவட்ட அரசாங்க அதிபர் புன்னையி புரத்தி தெரிவித்தார்.

திருகோணமலையில் பத்துக்கு மேற்பட்ட கிராமங்கள் வெள்ளத்தில் மூழ்கியுள்ளன. புலமோட்டை, தீரியாய், சபையையாறு பகுதி

ளில் சுனாமியால் பாதிக்கப்பட்ட மக்கள் தற்காலிக குடியிருப்புகளில் வாழ்ந்து வந்தனர். இந்தக் குடியிருப்புகளில் வெள்ளம் புகுந்ததால் அந்த மக்கள் மீண்டும் இடம்பெயர்ந்துள்ளனர்.

இதேவேளை கொழும்பு, களுத்துறை, கம்பஹா, அலுவரத்தூர், பொலன்னறுவு ஆகிய மாவட்டங்களின் தாழ் நிலப்பகுதிகள் வெள்ளத்தில் மூழ்கியுள்ளன.

கனளிகங்கை உடைப்பெடுத்ததால் தென் பகுதியில் வெள்ளப்பெருக்கு பாரியளவில் ஏற்பட்டுள்ளது. கொழும்பு மாவட்டத்தில் 6 ஆயிரத்து 500 குடும்பங்கள் இடம்பெயர்ந்துள்ளன. 2000 வீடுகள் நீரில் மூழ்கியுள்ளன.


இடம்பெயர்ந்த மக்கள் பாடசாலைகளிலும், உறவினர் வீடுகளிலும் தங்கவைக்கப்பட்டுள்ளனர். கனளிகங்கை உடைப்பெடுத்துள்ளதால் கனளிகங்கைக்கு அருகில் வசிக்கும் மக்களை பாதுகாப்பான இடங்களுக்கு இடம் பெயருமாறு பொலினார் தெரிவித்துள்ளார்.

கொழும்பு - பியகம புதிய கண்டிவீதியில் அமைந்துள்ள பட்டினி பிரதேசத்தில் 600 வீடுகள் நீரில் மூழ்கியுள்ளன.

கொழும்பு, ஹொரணை, பாதுக்கை ஆகிய பிரதேசங்களில் நால்வர் நீரில் மூழ்கியும், இருவர் சுவர் இடிந்து வீழ்ந்தும் உயிரிழந்தனர். தென் பகுதியில் வெள்ளத்தால் பாதிக்கப்பட்டவர்களை விமானப்படைபினர் ஹெலிகாப்டர்கள் மூலம் மீட்டனர்.

இதேவேளை, நாடு முழுவதும் ஏற்பட்ட வெள்ளப்பெருக்கினால் சுமார் ஊம்பாழியர் குடும்பங்கள் பாதிக்கப்பட்டுள்ளதாகத் தெரிவிக்கப்படுகிறது.

# 15 ஆண்டுக்கால ராஜ்ஜியம் முடிவிற்குவந்தது பீகார் சட்டமன்றத் தேர்தலில் லல்லுவினின் கட்சி பருதோல்வி



பீகார் நடந்த தேர்தலில் பாரதிய ஜனதா - ஊக்கிய ஜனதா தளம் கூட்டணி பெரும்பான்மை இடங்களைக் கைப்பற்றியுள்ளதனால், கடந்த 15 வருட காலமாக பீகாரில் தனி ராஜ்ஜியம் நடத்தி வந்த மத்திய ரயிவ்வேத் துறை அமைச்சர் லல்லு பிரசாத் யாதவின் அரசியல் செல்வாக்கு முடிவுக்கு வந்தது.

பீகார் மாநில சட்டசபைக்கு நான்கு கட்டமாக கடந்த மாதம் 18 ஆம் திகதி தொடக்கம் கடந்த 19 ஆம் திகதிவரை ஒரு மாதமாக தேர்தல் நடத்தப்பட்டது.

மொத்தம் உள்ள 243 இடங்களுக்கு 2135 பேர் வேட்பாளர்களாகப் போட்டியிட்டனர். எல்லைத் தொகுதிகளிலும் மின்னணு இயந்திரங்கள் மூலம் வாக்குப்பதிவு செய்யப்பட்டது. நேற்று காலை 8 மணிக்கு 38 மாவட்டங்களில் உள்ள 41 மையங்களில் வாக்கு எண்ணிக்கை தொடங்கியது.

வாக்கு எண்ணிக்கையில் எந்தவித தீவிர முல்லும் நடந்துவிடக்கூடாது என்பதற்காகப் பல்வேறு ஏற்பாடுகளைத் தலைமைத் தேர்தல் ஆணையம் செய்திருந்தது. அதன்படி வாக்கு எண்ணிக்கை நடக்கும் 41 மையங்களிலும் நவீன கமராக்கள் பொருத்தப்பட்டிருந்தன. ஒவ்வொரு இயந்திரத்தின் வாக்கு எண்ணிக்கையும் அந்த கமராக்கள் மூலம் கண்காணிக்கப்பட்டன.

வாக்கு எண்ணிக்கை முழுவதும் வீடியோவில் படம் பிடிக்கப்பட்டது. தேர்தல் முடிவுகளை

உடனுக்குடன் தெரிந்துகொள்வதற்காக 41 மையங்களும் இணையத்தளம் மூலம் இணைக்கப்பட்டிருந்தன. இதனால் காலை 8.30 மணியளவில் கட்சிகளின் முன்னணி நிலைவரம் அறிவிக்கப்பட்டது.

வாக்குப்பதிவு முடிந்ததும் வெளியிடப்பட்ட கருத்துக்கணப்புகளில் பாரதிய ஜனதா - ஊக்கிய ஜனதா தளம் கூட்டணி அதிக இடங்களைக் கைப்பற்றும் என்று தெரிவிக்கப்பட்டிருந்தது. ஆனால், அதையும் மிஞ்சும் வகையில் பா.ஜ.க. கூட்டணிக்கு அதிக இடங்கள் கிடைத்தது. தொடக்கத்திலேயே பாரதிய ஜனதா, ஊக்கிய ஜனதா தளம் கூட்டணி அதிக இடங்களில் முன்னிலை பெற்றது.

நேற்றுக்காலை 10.30 மணி நிலைவரப்படி பாரதிய ஜனதா - ஊக்கிய ஜனதா தளம் கூட்டணி 136 இடங்களில் முன்னணியில் இருந்தது. லல்லு பிரசாத் யாதவின் ராஷ்டிரிய ஜனதா




தளம் கூட்டணி 62 இடங்களுடன் பின்தங்கி விட்டது.

ராம் விளாஸ் பஸ்வானின் லோக் ஜனசக்தி கட்சிக்கு இந்தத் தடவை பலத்த தோல்வி கிடைத்தது. ஏற்கனவே வென்ற பல இடங்களை அந்தக் கட்சி இழந்தது.

பாரதிய ஜனதா, ஊக்கிய ஜனதா தளம் கட்சிக்கு அதிக பட்சமாக 141 இடங்கள் கிடைக்கும் என்று எதிர்பார்க்கப்படுகிறது. லல்லு பிரசாத், சோனியா கூட்டணிக்கு 70 இடங்களே கிடைக்கும் நிலை ஏற்பட்டுள்ளது.

பெரும்பான்மை இடங்களை கைப்பற்றுவதன் மூலம் பீகார் மாநிலத்தில் ஆட்சி மாற்றம் ஏற்பட்டுள்ளது. பாரதிய ஜனதா, ஊக்கிய ஜனதா



தளம் கூட்டணி ஆட்சியைப் பிடிக்கிறது.

லல்லு பிரசாத் யாதவின் ராஷ்டிரிய ஜனதா தளம், காங்கிரஸ் கூட்டணி தோல்வியை சந்தித்துள்ளது. இதனால் பீகாரில் கடந்த 15 ஆண்டு களாக தனி ராஜ்ஜியம் நடத்தி வந்த லல்லு பிரசாத் யாதவின் அரசியல் செல்வாக்கு முடிவுக்கு வந்துள்ளது.

அவரது பந்தா அரசியல் நடவடிக்கைகளுக்கு பீகார் மக்கள் முடிவு கட்டியுள்ளனர். அதுபோல கடந்த தேர்தலின் போது எந்தக் கட்சியையும் ஆட்சி அமைக்க விடாமல் அல் வாதவைத்த ராம் விளாஸ் பஸ்வானின் லோக் ஜனசக்தியையும் மக்கள் புறக்கணித்துவிட்டனர்.

பீகார் மாநிலத்தில் உள்ள யாதவர்களும், முஸ்லிம்களும் தான் ஆட்சியை நிர்ணயிப்பதில் முக்கிய பங்கு வகிக்கின்றனர். இதைக் கருத்தில் கொண்டு இந்தத் தடவை 47 முஸ்லிம்களை ராம்விளாஸ் பஸ்வான் களத்தில் இறக்கியிருந்தார். என்றாலும் அவரை முஸ்லிம்கள் நிராகரித்துவிட்டனர்.

பாரதிய ஜனதா, ஊக்கிய ஜனதா தளம் கூட்டணிக்கு இந்தத் தடவை முஸ்லிம்களின் வாக்கு கணிசமாக கிடைத்துள்ளது. மொத்தம்

உள்ள 16.5 சதவீத முஸ்லிம்களில் பெரும்பாலானவர்கள் நிதிஷ்குமாரை ஆதரித்துள்ளனர்.

அதற்குக் காரணம் நிதிஷ்குமாரின் புதிய அறிவிப்ப்தான். அவர் தேர்தல் பிரசாரத்தின் போது தலித் முஸ்லிம்களுக்கு இட ஒதுக்கீடு அளிக்கப் போவதாக உறுதி வழங்கினார். அவரது இந்த அறிவிப்பு ஊக்கிய ஜனதா தளம் கட்சிக்கு கூடுதல் இடம் கிடைக்க வழிவகை செய்துள்ளது.

பீகார் மாநிலத்தில் லல்லு பிரசாத் யாதவ்க்கு எதிராக மற்றுமொரு கட்சி வரவாறு காணாத வெற்றியைப் பெற்றிருப்பது இதுவே முதல் தடவையாகும். லல்லுவின் அரசியல் எதிரியான நிதிஷ்குமார் தலைமையில் ஊக்கிய ஜனதா தளம் ஆட்சியைப் பிடித்துள்ளது.

பீகார் மாநில சட்டசபையில் மொத்த உறுப்பினர்கள் எண்ணிக்கை 243. ஆட்சி அமைக்க 122 பேர் பலம் தேவை. நிதிஷ்குமாருக்கு கிடைக்க வேண்டிய உறுப்பினர்கள் ஆதரவு கிடைக்கிறது. எனவே, அவர் தனி பெரும்பான்மையுடன் ஆட்சி அமைக்கிறார்.

பீகாரின் அடுத்த புதிய முதலமைச்சராக நிதிஷ்குமார் இன்னும் ஓரிரு நாட்களில் பதவி ஏற்கிறார். இதன் மூலம் லல்லு குடும்பத்தினரின் 15 ஆண்டுக்கால ஆட்சி முடிந்துவிட்டது.

பீகார் சட்டசபை தேர்தலில் எந்தக் கட்சிக்கும் பெரும்பான்மை கிடைக்காது கடந்த தேர்தல் போல் இடபுரி நிலை ஏற்படும் என்று பல வேறு நிறுவனங்கள் நடத்தி கருத்துக்கணிப்பில் தெரிவிக்கப்பட்டது.

ஆனால், இந்தக் கருத்துக் கணிப்புகள் எதுவும் பலிக்கவில்லை. பாரதிய ஜனதா கூட்டணிக்கு பெரும்பான்மைப் பலம் கிடைக்கும் நிலை உருவாகியுள்ளது. பாரதிய ஜனதா கூட்டணிக்கு அதிக இடங்கள் கிடைக்கும் என்ற கணிப்பு மட்டுமே பலித்திருக்கிறது.



