

நமது அ.மு.நாடு

தமிழர் தாயகத்தின் முன்னோடி நாளிதழ்

மலர்:04 திருவள்ளூர் ஆண்டு: 2037 பங்குனி 13 ஹரிஜரி 1427 ஸபர் 26 (27.03.2006) திங்கட்கிழமை இதழ் 177

Dialog **கேள்** **டயலாக்**

100/=, 400/=, 1000/= விலைகளில் கையாக்கத் தொலைபேசி சட்டைகளையும் மற்றும் சலவையுடைய தொலைபேசி சட்டைகளையும் SIM இணைப்புகளையும் (Connection) மொத்தமாகவும் சிலவேறுபாடுகளும் பெற்றுக்கொள்ளவும் சலவையுடைய தொலைபேசி சட்டைகள், ஸ்ரீநாத் தொலைபேசி சட்டைகள் உள்ளடங்கிய தொலைபேசி சட்டைகள் (Parcel) சேவைகளுக்கும்

WESTERN UNION **பண்பு** **பரிமாற்றம்**

உலகின் எப்பாகத்திலிருந்தும் ஒருசில நிமிடங்களில் பணத்தைப் பெற்றுக்கொள்ளவும். இன்னும் பல சேவைகளையும் ஒரு கூறையில் கீழ் பெற்றுக்கொள்ள நாடுங்கள்

Sri Murugan
Tele Communication & Agency
Post Office.
303, K.K.S. Road, Jaffna.

T.P: 021 222 5392,
Fax: 222 3214
E-Mail: srimumugan@eureka.lk

சமாதான முயற்சியிலிருந்து விலக அரசும் புலிகளுமே கோரவேண்டும்

ஜே.வி.பி., ஹெல உறுமயவுக்கு நோர்வே பதிலடி

கொழும்பு
அரசும் விடுதலைப் புலிகளும் கேட்டுக்கொண்டால் மாத்திரமே இலங்கையின் சமாதான முயற்சிகளுக்கான அனுசரணைப் பணியிலிருந்து நோர்வே வெளியேறும் என்று அந்த நாட்டு வெளிவிவகார அமைச்சு வட்டாரங்கள் தெரிவித்தன.

நோர்வே பக்கச்சார்பாக நடப்பதாகவும், விடுதலைப் புலிகளுக்கு தனித் தமிழ்த் தைப் பெற்றுக் கொடுக்கும் முயற்சியில் இறங்கியிருப்பதாகவும் சிங்கள இனவாதக் கட்சிகளான ஜே.வி.பியும், ஜாதிக ஹெல உறுமயவும் குற்றம்சாட்டுவது தொடர்பாகவும் -

நோர்வேயை அமைதி முயற்சியிலிருந்தும், இலங்கையிலிருந்தும் வெளியேற்றவேண்டும் என்றும் கோரிவருவது பற்றி கருத்துத் தெரிவிக்கையிலேயே ஒஸ்லோ வட்டாரங்கள் இவ்வாறு குறிப்பிட்டன.

பல்வேறு நாடுகளின் நீண்ட (12 ஆம் பக்கம் பார்க்க)

ஆத்திரமூட்டும் சம்பவங்களை தவிர்த்து பொறுப்புடன் நடந்துகொள்ள வேண்டும் இருதரப்புக்கும் கண்காணிப்புக்குழு வேண்டுகோள்

கொழும்பு
அரசும் விடுதலைப் புலிகளும் போர்நிறுத்த உடன்படிக்கையை உரியமுறையில் பாதுகாக்கவேண்டும். இதனை விடுத்து ஆத்திரமூட்டும் சம்பவங்களில் ஈடுபட்டால், கடந்த டிசம்பர், ஜனவரி மாதங்களில் இடம் பெற்றது போன்று வன்முறைச் சம்பவங்கள் நிகழலாம் என கண்காணிப்புக் குழுவினர் அச்சம் வெளியிட்டுள்ளனர்.

நேற்றுமுன்தினம் கற்பிட்ட கடலில் கடற்படையினரின் டோறாப் படகு வெடித்துச் சிதறிய சம்பவம் தொடர்பாக வெளியிட்ட அறிக்கையில் இவ்வாறு தெரிவிக்கப்பட்டுள்ளது.

இந்த அறிக்கையில் - மீன்பிடிப்படகு வெடித்துச் சிதறியதால் கடற்படையின் டோறாப் படகு மூழ்கியதில் 8 கடற்படையினர் உயிரிழந்தனர்.

ஜெனீவாவில் பேச்சுக்களை நடத்த அரசாங்கத்துக்கும், விடுதலைப் புலிகளுக்கும் இடையில் இணக்கம் காணப்பட்ட பின்னர் இடம்பெற்ற மிக மோசமான சம்பவம் இதுவாகும். (12 ஆம் பக்கம் பார்க்க)

புத்தம் புதிய டோறாவே கற்பிட்டடியில் மூழ்கியது!

காணாமற்போன படையினரை தேடும் முயற்சிகள் தோல்வி!

கொழும்பு
கற்பிட்டிக் கடற்பரப்பில் நேற்று முன்தினம் மீன்பிடிப்படகு ஒன்றை வழிமறித்து சோதனையிட முற்பட்டபோது, வெடித்துச் சிதறிய கடற்படையினர் தொடர்பாக நிறுவனத்தால் கட்டப்பட்ட புத்தம் புதிய படகு எனத் தெரியவருகிறது.

கடந்த வியாழக்கிழமை ஆழ்கடலிலிருந்து மீன்பிடிப்படகு ஒன்று அப்பகுதியில் கிடைக்கப்பட்டது.



டொக்யார்ட் தயாரிப்பான அட்டரா III அதிவேகத் தாக்குதல் படகு.

கொழும்பு
கற்பிட்டிக் கடற்பரப்பில் நேற்றுமுன்தினம் சந்தேகத்துக்கிடமான மீன்பிடிப்படகை சோதனையிட முற்பட்டபோது - வெடித்துச் சிதறி கடலில் மூழ்கிய கடற்படைப்படகில் இருந்த எட்டு கடற்படையினரையும் தேடும் முயற்சிகள் தோல்வி கண்டிருப்பதாக கடற்படை வட்டாரங்கள் தெரிவித்தன.

கொழும்பு

கற்பிட்டிக் கடற்பரப்பில் நேற்று முன்தினம் மீன் பிடிப்பதற்கு ஒன்றை வழிமறித்து சோதனையிட முற்பட்டபோது, வெடித்துச் சிதறிய கடற்படைப்படகு டொக்யார்ட் நிறுவனத்தால் கட்டப்பட்ட புத்தம் புதிய படகு எனத் தெரியவருகிறது.

கடந்த வியாழக்கிழமை ஆழ்கடலிலிருந்து டிரோலர்கள் மூலம் ஆயுதங்கள் கடத்தப்படுவதாக கிடைத்த தகவல்களை அடுத்து கடற்படையினரால் - ஜயசாகர என்ற பீரங்கிப் படகின் தலைமையில் இரண்டு அதிவேகத் தாக்குதல் படகுகள் தேடுதலுக்காக அனுப்பப்பட்டிருந்தன.

இன்னொரு டோறாப்படகுடன் சென்றபோதே P431 இலக்க அதிவேக தாக்குதல் படகு கற்பிட்டிக் கடற்பரப்பில் குறித்த மீன்பிடிப் படகை எதிர்கொண்டது. மீன்பிடிப்படகை நிறுத்துமாறு (12 ஆம் பக்கம் பார்க்க)



டொக்யார்ட் தயாரிப்பான அல்ட்ரா III அதிவேகத் தாக்குதல் படகு.

கொழும்பு

கற்பிட்டிக் கடற்பரப்பில் நேற்று முன்தினம் சந்தேகத் துக்கிடமான மீன்பிடிப்படகை சோதனையிட முற்பட்டபோது - வெடித்துச் சிதறி கடலில் மூழ்கிய கடற்படைப் படகில் இருந்த எட்டு கடற்படையினரையும் தேடும் முயற்சிகள் தோல்வி கண்டிருப்பதாக கடற்படை வட்டாரங்கள் தெரிவித்தன.

கற்பிட்டிக் கடற்பரப்பில் நேற்று முன்தினம் மாலை முதல் கடற்படை பாரிய தேடுதல் நடவடிக்கையை மேற்கொண்டு வருகிறது. ஆனாலும், கடலில் மூழ்கிய கடற்படைப் படகின் சிதைவுகளைத் தவிர வேறெதனையும் கண்டுபிடிக்க முடியவில்லை.

காணாமற்போன கடற்படையினரோ அல்லது அவர்களின் சடலங்களோ அகப்படவில்லை என கடற்படைப் பேச்சாளர் டி.கே.பி. தசநாயக்க தெரிவித்தார். மூழ்கிய கடற்படைப் (12 ஆம் பக்கம் பார்க்க)

மாணவர்கள் இன்று பகிஷ்கரிப்பு!

யாழ்ப்பாணம்

யாழ்ப.தொழில்நுட்ப நிறுவனத்தில் நடைபெற்ற நாட்டுப்புற்றாளர் அன்னைபுத்தியின் நினைவுநாள் நிகழ்வை குழப்பியமை, மாணவர்கள் விரிவுரையாளர்கள் தாக்கப்பட்டமை என்பவற்றுக்கு எதிர்ப்புத் தெரிவித்து இன்று மாணவர்கள் கல்விச் செயற்பாடுகளை பகிஷ்கரிக்க யாழ்ப.மாவட்ட தமிழ் மாணவர் ஒன்றியம் அழைப்பு விடுத்துள்ளது. (12 ஆம் பக்கம் பார்க்க)

முஸ்லிம் படைப் பிரிவு; கிழக்கில் ஆட்சேர்ப்பு!

கொழும்பு
இலங்கை இராணுவத்தில் முஸ்லிம் படைப்பிரிவு ஒன்றை அமைப்பதற்கான நடவடிக்கைகள் எடுக்கப்பட்டிருப்பதுடன் இதற்கான ஆட்சேர்ப்பும் இடம் பெற்றது.

கிழக்கு மாகாணத்திலுள்ள முஸ்லிம் (12 ஆம் பக்கம் பார்க்க)

ஆயுதக் குழுக்கள் குறித்த கண்காணிப்புக்குழு அறிக்கை; ராணுவ பேச்சாளர் கண்டனம்!

கொழும்பு
அரசாங்க கட்டுப்பாட்டுப் பகுதிகளில் ஆயுதக் குழுக்கள் இயங்குவதாகவும் - இவர்களின் ஆயுதங்களைக் களைய அரசு நடவடிக்கை எடுக்கவேண்டும் என்றும் இலங்கை போர்நிறுத்தக் கண்காணிப்புக்குழு வெளியிட்ட அறிக்கை குறித்து இராணுவப் பேச்சாளர் பிரிகேடியர் பிரசாத் சமரசிங்க கண்டனம் தெரிவித்தார். இராணுவப் பேச்சாளர் பிரசாத் சமரசிங்க பி.பி.சிக்கு நேற்றிரவு

அளித்த பேட்டியிலேயே இவ்வாறு குறிப்பிட்டார். அவர் மேலும் தெரிவிக்கையில் - இந்தக் குற்றச்சாட்டுக்கள் ஆதாரமற்றவை. ஆதாரம் இருந்தால் எங்களிடம் காட்டலாம். அரசு கட்டுப்பாட்டுப் பகுதியில் ஆயுதக் குழுக்களை படையினர் ஒருபோதும் ஆதரித்ததில்லை. அரசு கட்டுப்பாட்டுப் பகுதியில் முகாம்கள் ஏதும் கிடையாது. சட்டத்துக்குப் புறம்பாக ஆயுதம் (12 ஆம் பக்கம் பார்க்க)

தேர்தலுக்குப் பின்னரேயே பரீட்சைப் பெறுபேறுகள்!

கொழும்பு

கடந்த வருடம் டிசெம்பர் மாதம் நடைபெற்ற க.பொ.த சாதாரணதரப் பரீட்சை முடிவுகள் இந்தமாதம் வெளியிடப்படமாட்டாது என்றும் - உள்நாட்சித் தேர்தலின் பின்னரே வெளியிடப்படும் என்றும் பரீட்சை ஆணையாளர் அநுர எதிர்சிங்க தெரிவித்துள்ளார். இந்தமாதம் கடைசி வாரத்தில் சாதாரண தரப் (12 ஆம் பக்கம் பார்க்க)

இன்றைய இதழில்

க.பொ.த உயர்தர மாணவர்களுக்கான வி.பார்த்திபனின் பௌதிகவியல் மாதிரி வினாத்தாள் வெளிவருகிறது.



ஒதுக்கீடுகளுக்கு அழைப்பாங்கள்.....
021-222 3891, 222 6297, 077-2349999, 011-2372952/3, 011-2360290/1
email: jaffna@expoavi.com, reservations@expoavi.com.
EXPOAIR
your friend in the skies...

இலங்கையின் முன்னணி வசிக்கும் உங்கள் உள்நாடு விமான சேவை...

இளைஞர்கள் விவசாயத்தில் ஈடுபட்டால் வேலையில்லா பிரச்சினையை தீர்க்கலாம் யாழ்.நீதிவான் இ.த.விக்னராஜா தெரிவிப்பு

யாழ்ப்பாணம் - இளைஞர், யுவதிகள் கிராமங்களை மையமாக வைத்து விவசாயத்தில் நாட்டம் காட்டுவார்களாயின் வேலையில்லா பிரச்சினைக்குத் தீர்வு காண்பதோடு, எமது பிரதேசமும் துரிதகதியில் அபிவிருத்தி அடையும் என யாழ். மாவட்ட நீதிவான் இ.த.விக்னராஜா தெரிவித்தார்.

யாழ்.வீரசிங்கம் மண்டபத்தில் யாழ். மாவட்ட சிக்கன கடன் வழங்கும் கூட்டுறவுச்சங்க சமாச மகளிர் தின நிகழ்

விபத்தில் சிறுவன் காயம்

மாண்புமாய் சந்தியில் நேற்றுப் பிற்பகல் 2 மணியளவில் இடம்பெற்ற சைக்கிள் - மோட்டார் சைக்கிள் விபத்தில் சைக்கிளில் சென்ற மாணவனான மாண்புமாயைச் சேர்ந்த ஜெயராம சர்மா ஸ்ரீராம் (வயது 13) தலையிலும் காலிலும் காயமடைந்து யாழ். போதனா வைத்தியசாலையில் சிகிச்சைக்காக அனுமதிக்கப்பட்டுள்ளார். (110)

வில் முதன்மை விருந்தினராகக் கலந்துகொண்டு உரையாற்றும்போதே அவர் மேற்கண்டவாறு தெரிவித்தார்.

அவர் அங்கு தொடர்ந்து உரையாற்றுகையில் - நானும் ஒரு விவசாயக் குடும்பத்திலிருந்து வந்தவன். எனது தந்தையும் ஒரு விவசாயி. முன்பு கல்வி கற்ற மாணவர்களும் விவசாயத்தில் ஈடுபட்டு இன்று நமது நாட்டிலும் வெளிநாடுகளிலும் உயர் பதவியில் இருக்கின்றனர்.

இன்றைய நவீன விஞ்ஞான உலகில் கிராமிய வாழ்க்கை முறை முற்றாக மாறிவிட்டது. இளைஞர், யுவதிகள் விவசாயத்தில் ஈடுபடாவிட்டால் நாம் பொருளாதார எந்திரதன்மையை அடைய முடியாது.

வெளிநாட்டுக்கு சென்ற எமது இளைஞர், யுவதிகள் - அவரவர் தகைமைக்கு ஏற்ற தொழிலைச் செய்யவில்லை. இங்கு எந்தத் தொழிலை செய்ய இளைஞர், யுவதிகள் தயங்குகின்றார்களோ அந்தத் தொழிலைத் தான் வெளிநாடுகளில் உள்ளவர்கள் செய்கிறார்கள்.

சிக்கன கூட்டுறவுச் சங்கங்களின் அங்கத்தவர்கள் கூட்டுச்

சேர்ந்து திட்டங்கள் மூலம் கிடைக்கும் பணத்தை சிறப்பான முறையில் பயன்படுத்த முற்பட்டால் கிராமிய மக்களின் பொருளாதாரமும் வளர்ச்சியடையும்.

எனவே - இளைஞர், யுவதிகள் இந்தச் சங்கங்களில் இணைந்து செயற்பட்டால் வேலையில்லா பிரச்சினைகளுக்கும் தீர்வு காணமுடியும்.

இன்று எமது பிரதேசத்தில் கலாசார சீர்கேடுகள் தொடர்பான வழக்குகள் பெருமளவில் நீதிமன்றங்களில் தேங்கிக் கிடக்கின்றன. இவ்வாறான கலாசார சீர்கேடுகளுக்கு வேலையில்லா பிரச்சினையும் ஒரு காரணமாகும்.

இன்று வெளிநாட்டு நிறுவனங்கள் பல எமது பிரதேசத்தில் முதலீடு செய்யவும் கடன் வழங்கவும் தயாராக இருக்கின்றன. இத்தகைய நிறுவனங்களை அணுகி, கூட்டுறவுச் சங்கங்கள் திட்டங்களைச் செயற்படுத்த வேண்டும்.

இவ்வாறு அந்த நிறுவனங்களுடன் கூட்டுச் சேர்ந்து திட்டங்களைச் செயற்படுத்துவதன் மூலம் நாம் பொருளாதார முன்னேற்றத்தை அடைய முடியும் என யாழ். மாவட்ட நீதிவான் மேலும் தெரிவித்தார். (11)

பங்குனி பொங்கல் உற்சவத்துக்கு வரும் பக்தர்கள் தங்க நகைகள் அதிகம் அணிவதைத் தவிர்க்கவும்!

பன்றித்தலைச்சி அம்மன் ஆலய நிர்வாகத்தினர் வேண்டுகோள்!

மட்டுவில் - மட்டுவில் பன்றித்தலைச்சி கண்ணகை அம்மன் ஆலய பங்குனி திங்கள் உற்சவத்துக்கு வரும் அடியார்கள் தங்க நகைகளை பெருமளவில் அணிந்துவருவதைத் தவிர்க்குமாறு ஆலய நிர்வாகத்தினர் வேண்டுகோள் விடுத்துள்ளனர். இது தொடர்பாக ஆலய நிர்வாகத்தினரால் வெளியிடப்பட்ட செய்திக்குறிப்பில் மேலும் தெரிவிக்கப்பட்டுள்ளதாவது - மட்டுவில் - பன்றித்தலைச்சி கண்ணகை அம்மன் ஆலய பங்குனி திங்கள் பொங்கல் உற்சவத்தின்

இரண்டாவது நாளான இன்று பெருமளவான பக்தர்கள் கூடுவார்கள் என எதிர்பார்க்கப்படுகிறது.

இந்த சனநெரிசலைப் பயன்படுத்தி திருட்டுச் சம்பவங்கள் அதிகரிக்கக்கூடும். எனவே பெண்கள், சிறுவர்கள் பெருமளவில் நகை அணிந்து வருவதைத் தவிர்க்கக்கொள்வதுடன், தேவைக்கு அதிகமாக பணம் கொண்டு வருவதையும் தவிர்க்கக்கொள்ளுமாறு வேண்டிக்கொள்கிறோம்.

அத்துடன், சுகாதார முறையில் தயாரிக்கப்பட்டு, பாதுகாப்பாக வைத்திருக்கும் வர்த்தகர்களிடம் தீண்ட

பங்களை கொள்வனவு செய்வதோடு, சுகாதார சீர்கேடான முறையில் விற்பனை செய்யப்படும் தீண்டபண்டங்கள் குறித்து பொதுச் சுகாதார பரிசோதகருக்கு உடன அறியத்தரும்படியும் கேட்டுக்கொள்கிறோம் என அந்த அறிக்கையில் தெரிவிக்கப்பட்டுள்ளது.



திருக்கயிலாய பரம்பரைத் தமிழகம் திருவாவடுதுறை ஆதீன குரு முதல்வர் அருள்திரு நமசிவாய மூர்த்திகள் பார்த்திப வருடத்தை அச்சுவினி மகரத் தலைநாள் குருபூசை விழாவையொட்டி 30.01.2006 இல் நடைபெற்ற சிறப்பு விருது வழங்கும் வைபவத்தில் திருவாவடுதுறை ஆதீன இருபத்துமூன்றாவது குருமகா சந்நிதானம் சீர்வளர்சிர் சிவப்பிரகாச தேசிக பரமாசார்ய சுவாமிகளால் அகில இலங்கைத் திருமுறை மன்ற தேவாரப்பண் ஆசிரியர் தேவார இசை மணி, கலாபூசணம் தாவடியூர் இராசையா திருஞானசம்பந்தனுக்கு தெய்வத் தமிழிசைச் செல்வர் என்னும் சிறப்பு விருது வழங்கி ஆசிக வசம் (பவுண்மோதிரம்) சூட்டி, பொன்னாடை போர்த்தி பொற்கிழியருளி வாழ்த்தி அருளாசி வழங்குவதைப் படத்தில் காணலாம்.



சாவகச்சேரி நகர அபிவிருத்தி சம்பந்தமாக சாவகச்சேரி பொது நல அமைப்புகள் மற்றும் கல்விமான்களை அண்மையில் நகர மேம்பாட்டு மண்டபத்தில் சந்தித்தபோது யாழ். மாவட்ட நாடாளுமன்ற உறுப்பினர் ந.ரவிராஜ் உரையாற்றுவதையும் நகர சபைச் செயலர் திருமதி கு.ஆறுமுகம் மற்றும் பொதுநல அமைப்பு பிரதிநிதி ஆகியோர் அமர்ந்திருப்பதையும் காணலாம். (29)

பெண்கள் அர்ப்பணிப்புடன் செயற்பட்டால் வாழ்க்கையில் முன்னேற்றம் காணலாம்!

இசைத்துறைத் தலைவி பாக்கியலட்சுமி தெரிவிப்பு

யாழ்ப்பாணம் - சுயதொழிலில் பெண்கள் ஈடுபட்டு சமூக பொருளாதாரத்தை முன்னேற்ற வேண்டும். உலக ரீதியாக பெண்கள் வளர்ந்து, சுமுதாயத்தை முன்னேற்ற முன்வரவேண்டும். இளம் பெண்கள் ஆவல், அக்கறை, அர்ப்பணிப்புடன் செயற்பட்டால் வாழ்க்கையில் முன்னேற்ற முடியும் என யாழ். பல்கலைக் கழக இசைத்துறைத் தலைவர் பாக்கியலட்சுமி நடராசா தெரிவித்தார். அண்மையில் வீரசிங்கம் மண்டபத்தில் யாழ்ப்பாண கூட்டுறவுச்சபை மாவட்ட மகளிர் குழு நடத்திய 2006 அனைத்துலக பெண்கள்தின விழா, மனைப்பொருளியல் பொருட்காட்சி நிகழ்வில் முதன்மை விருந்தினராகக்

கலந்துகொண்டு உரையாற்றும்போதே அவர் மேற்கண்டவாறு தெரிவித்தார். அவர் தொடர்ந்து உரையாற்றுகையில் - பெண்பிள்ளைகளுக்கான சுய தொழில் பயிற்சிகளை மகளிர் குழு வழங்கிவருகிறது. மகளிர் குழுவின் சேவை பாராட்டத்தக்கது. மகளிரால் களால் தயாரிக்கப்படும் பொருட்களை சந்தைப்படுத்த வசதி செய்து கொடுப்பதுடன் மாதிரி விற்பனை நிலையம் ஒன்றையும் மாவட்டக் கூட்டுறவுச் சபை அமைத்துக் கொடுக்கவேண்டும் எனவும் குறிப்பிட்டார். தலைமைபுரையைத் தொடர்ந்து யாழ்ப்பாண கூட்டுறவு அபிவிருத்தி

உதவி ஆணையாளர் பொ.சிவலிங்கம், யாழ். மாவட்ட கூட்டுறவுச் சபைத் தலைவர் பெ. கனகசபாதி ஆகியோர் சிறப்புரையாற்றினர். (21)

DAIDO Mopet

48CC

Koyo
ரேசர்கள்

DAIDO உதிர்ப்பாகங்கள் YAMATO

சங்கங்கள்

சிறப்புச் சேவை அளப்பிறைஸ் (DINO) கிளி-பி-பி

60B, 65 சங்கங்கள் மாற்றல், பொதுமுகம் - 10,
கொழும்பு: 011-2341750-1, 2, 3, 5, 7, 9,
பக்கம் 011-2344009
E.mail: zmc@sl.lk

சிறுவிளம்பரம்

தவறிவிட்டது

எனது பாடப்புத்தகங்களும் குறிப்புக்களும் அடங்கிய ஒரு கையடக்க கறுப்புப் பை கந்தர்மடத்துக்கும் முடமா வடி பாதையுடாக இருபாலை சந்திக்கும் இடையில் தவறிவிட்டது. கண்டெடுத்தவர்கள் - த.ந.பஞ்சாட்சரம், ஆங்கில ஆசிரியர், நீர்வேலிமத்தி (077-9002304) என்ற முகவரியில் ஒப்படைக்கவும். சன்மானம் வழங்கப்படும். (2229)

விற்பனைக்கு

இணுவில் கைஷ்மி தியேட்டருக்கு முன்பாக 22 பரப்பு தோட்டக்காணி கே.கே.எஸ்.தோட்டின் முழுமையாகவோ அல்லது பகுதியாகவோ விற்பனைக்கு உண்டு. அத்துடன் பலாலி ரோட்டில் இணுப்பையடிச் சந்திக்கு அருகில் 4/2 பரப்புக்கு சற்றுக்குறைவாக வீட்டுடன் விற்பனைக்குண்டு. தொலைபேசி: 077-3527006 (2228)

நிறைஞ்சலால் சங்கானை

ஜெயம் புகழ் ரவி, கம்னா, பிரகாஸ் ராஜ் நடடித்த

இதயத்திருடன்

கா.நே.(பு.நே) 11.00, 2.45, 6.00

மடுளாகரா யாழ்ப்பாணம்

சுதேச

கலைஞர் விஜயகாந்த் அஷிமா மற்றும் பவர் நடடித்த

திந்தியாவிலும் இலங்கையிலும் ஒரே நேர வெளியீடு

கா.நே.10.30, 1.30, 4.30, 7.30 (பு.நே) விடே 6.45, 9.45, 10.00

ராஜா யாழ்ப்பாணம்

ஸ்ரீகாந்த், மீராஜஸ்மின் நடடித்த

டெர்ஜிப்புக்கள்

பு. நேரம் : 10.30, 2.00, 6.00, 9.00


மாதவீஸ் ஹதிபாணம்

விஷால், மீரா ஜஸ்மின் நடடித்த

சுன்டைக் கோழி

கா. நே: 10.30, 2.30, 6.30, 9.30 (பு.நே)

புலிகள் அமைப்பில் இணையவந்த இரு சிறுவர்கள் பெற்றோரிடம் ஒப்படைப்பு



திருகோணமலை - விடுதலைப் புலிகள் இயக்கத்தில் இணையவந்த இரு சிறுவர்கள் நேற்றுமுன்தினம் மாலை போர்நிறுத்தக் கண்காணிப்புக்குழுவினரின் புதிய தலைவர் முன்னிலையில் பெற்றோர் களிடம் ஒப்படைக்கப்பட்டனர். விடுதலைப் புலிகள் தமது இயக்

50 உள்ளூராட்சி சபைகள் ஜே.வி.பிக்கு கிடைக்குமாம்

கொழும்பு - எதிர்வரும் உள்ளூராட்சி சபைத் தேர்தலில் 50இற்கும் அதிகமான உள்ளூராட்சி சபைகளின் அதிகாரம் தமக்குக் கிடைக்குமென தாம் நடத்திய ஆய்வீன்போது உறுதியாகியுள்ளதாக ஜே.வி.பி தெரிவித்துள்ளது. 19 மாவட்டங்களிலுள்ள 277 உள்ளூராட்சி சபைகளில் தமது கட்சி போட்டியிடுவதாகவும், ஒவ்வொரு மாவட்டத்திலும் குறைந்தது மூன்று உள்ளூராட்சி சபைகளின் அதிகாரம்

தேர்தல் முடிவு மறுநாள் அதிகாலையில்

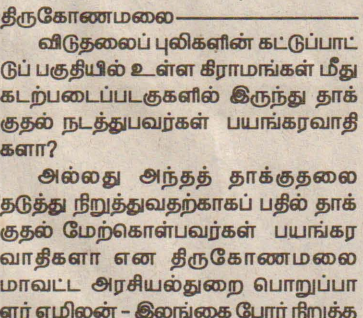
கொழும்பு - 30 ஆம் திகதி நடைபெறவுள்ள எதிர்வரும் உள்ளூராட்சி மன்றத் தேர்தலின் முதலாவது முடிவு மறுநாள் 31 ஆம் திகதி அதிகாலை ஒரு மணியளவில் வெளியிடப்படுமென தேர்தல் ஆணையாளர் தயானந்த

அனைத்து அமைச்சர்களுக்கும் இணைப்புச் செயலாளர்கள்!

யானவர்களின் பெயர்களைக் குறிப்பிட்டு அனுப்புமாறு ஜனாதிபதியின் செயலாளர் அலுவலகம், அனைத்து அமைச்சர்களுக்கும் தெரிவித்துள்ளது. அமைச்சர்களுடன் நேரடியாக ஜனாதிபதி தொடர்புகளை ஏற்படுத்தும் நோக்குடன் நியமிக்கப்படும் இந்த இணைப்புச் செயலாளர்கள் தற்பொழுது சேவையிலிருப்பினும் அதிகாரிகளிடமிருந்தே தேர்ந்தெடுக்கப்படுவர். அமைச்சர்களின் மோதல்கள் எப்போதும் அபிவிருத்திச் செயலாளர்களிடம்

படையினரின் தாக்குதலைத் தடுப்பதற்கு தாக்குதல் நடத்தினால் பயங்கரவாதமா?

எழிலன் கண்காணிப்புக் குழுவிடம் கேள்வி திருகோணமலை - விடுதலைப் புலிகளின் கட்டுப்பாட்டுப் பகுதியில் உள்ள கிராமங்கள் மீது கடற்படைப்படகுகளில் இருந்து தாக்குதல் நடத்துபவர்கள் பயங்கரவாதிகளா? அல்லது அந்தத் தாக்குதலை தடுத்து நிறுத்துவதற்காகப் பதில் தாக்குதல் மேற்கொள்பவர்கள் பயங்கரவாதிகளா என திருகோணமலை மாவட்ட அரசியல்துறை பொறுப்பாளர் எழிலன் - இலங்கை போர் நிறுத்த கண்காணிப்புக் குழுவினரின் புதிய தலைவரிடம் கேள்வி எழுப்பியுள்ளார். நேற்றுமுன்தினம் மாலை தன்னை சந்தித்த இலங்கை போர் நிறுத்த கண்காணிப்புக்குழுவினரின் தலைவர் உடல் நெருக்கடி தலைமையிலான குழுவினரிடமே அவர் இவ்வாறு கேள்வி எழுப்பினார். இராணுவத்தின் புதிய இணையத்தளத்தை கடந்த வெள்ளிக் கிழமை தொடக்கிவைத்த இராணுவ



தளபதி லைப். ஜெனரல் சரத் சேகா அங்கு உரையாற்றும்போது - பயங்கரவாதிகளுடன் பேசுவதில் பயனில்லை என்று தெரிவித்திருந்தார். பேச்சுமேடையில் விடுதலைப் புலிகளுக்குச் சமனாக கலந்துகொள்ளும் இராணுவத்தர்பினர் எம்மை பயங்கரவாதிகள் என தெரிவித்து வருகின்றனர். இவர்களால் எமக்கு என்ன தீர்வு கிடைக்கப்போகின்றது? என எழிலன் மேலும் தெரிவித்தார்.

கத்தில் புதிதாகச் சிறுவர்களைச் சேர்த்து, ஆயுதப்பயிற்சிகளை வழங்குகின்றார்கள் என்ற குற்றச்சாட்டு தொடர்ந்தும் அரசு படைகளாலும், அரசியல்வாதிகளாலும் சர்வதேச ரீதியில் முன்னெடுக்கப்பட்டபோதும் விடுதலைப் புலிகள் வயதுகுறைந்த சிறுவர்களை பெற்றோரிடம் ஒப்படைத்து வருகின்றமை குறிப்பிடத்தக்கது. போர்நிறுத்தக் கண்காணிப்புக் குழுவினரின் புதிய தலைவர் உடல் நெருக்கடி தலைமையிலான குழுவினரின் புதிய தலைவர் முன்னிலையில் பெற்றோர் களிடம் ஒப்படைக்கப்பட்டனர். விடுதலைப் புலிகள் தமது இயக்

தற்போதைய தேர்தல் முறையில் மாற்றம் செய்யப்பட வேண்டும் தேர்தல் ஆணையாளர் தெரிவிப்பு

கொழும்பு - தேர்தல் முறையில் மாற்றம் செய்யப்படவேண்டியது அவசியமென - தேர்தல் ஆணையாளர் தயானந்த திணைக்கட்சித் தலைவராக தெரிவித்தார். இது குறித்து கொழும்பு ஊடகவியலாளர் மத்தியில் தயானந்த திணைக்கட்சித் தலைவராக தெரிவித்தார். தற்போதைய தேர்தல் முறையில் மாற்றம் அவசியமானதாக உள்ளது. நடைமுறையில் உள்ள தேர்தல் முறையையும், முன்னர் கடைப்பிடிக்கப்பட்ட தேர்தல் முறையையும் இணைத்து புதிய தேர்தல் முறையை உருவாக்க வேண்டும். விருப்பு வாக்குமுறை இந்த நாட்டுக்குப் பொருத்தமானது அல்ல. உள்



மங்களவை பிரதமராக்க இரகசியமாகத் திட்டம்!



கொழும்பு - எதிர்வரும் உள்ளூராட்சி சபைத் தேர்தலின் பின்னர் அரசாங்கத்துக்கு வழங்கும் ஆதரவை ஜே.வி.பி விலக்கிக்கொண்டால் - வெளியுறவு அமைச்சர் மங்கள சமரவீரவை நாடாளுமன்றத் தினாடாக பிரதமராக்குவதற்கான இரகசிய திட்டம் செயற்படுத்தப்பட்டு வருவதாக கொழும்புச் செய்தியொன்று தெரிவித்தது. இந்தத் திட்டத்தின்படி அமைச்சர் மங்கள சமரவீரவை ஸ்திரீப்படுத்தும் வகையில் விசேட செயற்திட்டங்கள் நடைமுறைப்படுத்தப்பட்டுள்ளதாகவும் தெரியவருகிறது. இதன்படி மங்கள சமரவீர இனத்துக்காகத் தோன்றிய சிறிலங்கா சுதந்திரக் கட்சியின் ஒரே தலைவரென மக்களுக்கு விளக்கும் வகையில் இந்த செயற்திட்டத்தில் இணைந்துள்ள குழு நடவடிக்கையில் ஈடுபட்டுவருவதாகத் தெரிவிக்கப்படுகிறது. நாடாளுமன்றத்தினாடாக அமைச்சர் மங்கள சமரவீரவை பிரதமராக்குவதற்கு முன்னர் அவரது ஆற்றலை நாட்டில் பரந்தளவில் வெளிக்கொண்டுவரவேண்டுமென்பதில் அவர்கள் உறுதியாக உள்ளதாகவும் செய்திகள் தெரிவித்தன. இது குறித்த அனைத்து தகவல்களும் அடுத்த வாரம் வெளியாகலாமெனவும் எதிர்பார்க்கப்படுகிறது. (தே)

படையினரின் ஊழல்களை விசாரிக்க இராணுவ பொலிஸாருக்கு அதிகாரம்!

கொழும்பு - இராணுவத்தில் நிலவும் ஊழல், மோசடி திருட்டு சம்பவங்களை விசாரித்தல் மற்றும் பரந்தளவிலான தேடுதல்களை மேற்கொள்ளும் வேலைத் திட்டம் இராணுவ பொலிஸாரால் மேற்கொள்ளப்பட்டுள்ளது. இராணுவத் தளபதி லைப். ஜெனரல் சரத் பொன்சேகா, இராணுவ பொலிஸாருக்கு வழங்கிய ஆணைக்கு அமைய இது செயற்படுத்தப்படுகிறது. இதன் பிரதிபலனாக இராணுவத்துக்குரிய சம்பாத்துக்கள் மற்றும் பதக்கங்கள் என்பன பாரியளவில் வியாபாரி ஒருவருக்கு விற்பனை செய்யப்

அரசாங்கம் ஒதுக்கிய பணத்தில் பூங்கன்று வளர்க்கும் அமைச்சர்

கொழும்பு - பிரபல அமைச்சரொருவர், தனது தனிப்பட்ட வீட்டில் பூங்கன்றுகளை வளர்ப்பதற்காக, தனது அதிகாரத்தின் கீழுள்ள அமைச்சுப் பணத்தில் ஒரு லட்சத்து 70 ஆயிரம் ரூபாயைச் செலவிட்டுள்ளதாகத் தெரியவந்துள்ளது. அமைச்சரின் உத்தியோகபூர்வ இல்லத்தை அழகுபடுத்தவேண்டும்; அதற்குத் தேவையான தொகை அமைச்சிலிருந்து பெற்றுக்கொள்ளப்பட்டு, தனது தனிப்பட்ட வீட்டில் நடுகை செய்வதற்காக, சண்பிளவர் டைக்கா லிமிட்டெட் என்ற தனியார் நிறுவனத்தில் பூங்கன்றுகளைப் பெற்றுக்கொண்டதாகவும் தெரியவந்துள்ளது. (தே)

சுதந்திரக்கட்சி மாநாடு அடுத்த மாதம் மகரகமவில்!

கொழும்பு - சிறிலங்கா சுதந்திரக் கட்சியின் எதிர்காலத் திட்டங்கள் தொடர்பாகப் பல்வேறு முக்கிய தீர்மானங்களை எடுப்பதற்காக - கட்சியின் தேசிய மாநாட்டை அடுத்த மாதம் 7 ஆம் திகதி மகரகமவில் நடத்துவதற்குத் தீர்மானிக்கப்பட்டுள்ளது. கட்சியில் தற்போது நிலவும் உள் முரண்பாடுகள் தொடர்பாக இந்த



தேசிய மாநாட்டில் கலந்துகொள்ளும் தீர்மானங்களும் எடுக்கப்படவுள்ளன. மகிந்த ராஜபக்ஷ ஜனாதிபதி பதவியை ஏற்ற பின்னர் சிறிலங்கா சுதந்திரக் கட்சியின் தேசிய மாநாடு இடம்பெறவுள்ளமை குறிப்பிடத்தக்கது. ஜனாதிபதி மகிந்த ராஜபக்ஷவின் தலைமையிலான அரசாங்கத்தின் அபிவிருத்தி செயற்பாடுகள் மற்றும் சமாதான முயற்சிகள் குறித்து கட்சியின் தேசிய மாநாட்டில் அனுமதியைப் பெற்றுக்கொள்வதும் இதன் போது இடம்பெறவுள்ளது. அத்துடன் கட்சியின் மறுசீரமைப்பு நடவடிக்கைகள் தொடர்பாகவும் பல முக்கிய தீர்மானங்கள் எடுக்கப்படவுள்ளதாகவும் தெரிவிக்கப்படுகிறது. (தே)

படையினரின் ஊழல்களை விசாரிக்க இராணுவ பொலிஸாருக்கு அதிகாரம்!

கொழும்பு - இராணுவத்தில் நிலவும் ஊழல், மோசடி திருட்டு சம்பவங்களை விசாரித்தல் மற்றும் பரந்தளவிலான தேடுதல்களை மேற்கொள்ளும் வேலைத் திட்டம் இராணுவ பொலிஸாரால் மேற்கொள்ளப்பட்டுள்ளது. இராணுவத் தளபதி லைப். ஜெனரல் சரத் பொன்சேகா, இராணுவ பொலிஸாருக்கு வழங்கிய ஆணைக்கு அமைய இது செயற்படுத்தப்படுகிறது. இதன் பிரதிபலனாக இராணுவத்துக்குரிய சம்பாத்துக்கள் மற்றும் பதக்கங்கள் என்பன பாரியளவில் வியாபாரி ஒருவருக்கு விற்பனை செய்யப்



பட்டமை அண்மையில் கண்டுபிடிக்கப்பட்டது. இவ்வாறு விற்பனை செய்யப்பட்ட பாரிய இராணுவ உபகரணங்கள் கைப்பற்றப்பட்டமை இதுவே முதற் தடவையாகும். இராணுவ அதிகாரிகள் மற்றும் சிப்பாய்கள் இராணுவத்துக்குரிய பொருட்களை தனியாருக்கு விற்பனை செய்து பணம் சம்பாதிக்கும் வழங்கும் குறித்த தகவல்களும் வெளியாகி உள்ளதுடன் - இவற்றைக் கண்டுபிடிக்க எதிர்காலத்தில் மேலும் விசாரணைகள் மற்றும் சுற்றிவளைப்புகளை மேற்கொள்வதற்கு இராணுவ பொலிஸ் நடவடிக்கை எடுத்துள்ளது. (தே)



நேற்று முன்தினம் யாழ்.வீரசிங்க மண்டபத்தில் யாழ். மாவட்ட சிக்கன கடனுதவி கூட்டுறவுச்சங்க ஏற்பாட்டில் மகளிர் தின விழா இடம்பெற்றபோது முதன்மை விருந்தினர் யாழ். நீதிவான் இ.த.விக்கிரமசிங்க உரையாற்றுவதையும், பயிற்சி பெற்ற மாணவி ஒருவருக்கு முதன்மை விருந்தினர் சான்றிதழ் வழங்குவதையும், அராங்கில் நடைபெற்ற நடன நிகழ்வையும், கலந்து கொண்டோரில் ஒரு பகுதியினரையும் படங்களில் காணலாம். (படங்கள் - தயாளன்)

வீடுகள் கையளிப்பு

யாழ்ப்பாணம்
சேவாலங்கா தொண்டு நிறுவனத்தால் சுனாமியால் பாதிக்கப்பட்ட மக்களுக்காக அமைக்கப்பட்ட நிரந்தர வீடுகள் கையளிக்கும் வைபவம் இன்று தும்பளை புதிய குடியிருப்பில் இடம்பெறவுள்ளது.
தே.தேவராஜன் தலைமையில் இடம்பெறும் இந்த நிகழ்வுக்கு - முதன்மை விருந்தினராக யாழ். அரசு அதிபர் கே.கணேஷ் கலந்து கொள்வார். இதன் போது முதன்மை விருந்தினர் உரை, சிறப்பு விருந்தினர் உரை நிறைவாக வீடுகள் கையளிக்கும் நிகழ்வு என்பன இடம்பெறும்.

சமுர்த்தி முத்திரைகளை பெற்றுக் கொள்ளலாம்

யாழ்ப்பாணம்
நல்லூர் பிரதேச செயலகத்தின் இந்த ஆண்டின் முதல் ஆறுமாத காலத்துக்கான சமுர்த்தி முத்திரைகள் அந்தந்தப் பிரிவுக்கான சமுர்த்தி வாங்கிச் சங்கத்தில் பெற்றுக்கொள்ள முடியும் எனத் தெரிவிக்கப்பட்டுள்ளது.
கடந்த ஆண்டு பின்னரை மாதத்தில் சமுர்த்தி முத்திரைகளைப் பெற்றவர்கள் தமது ஆளடையாள அட்டை, பங்கீட்டு அட்டை, முந்தைய முத்திரை அடிக்கட்டை என்பவற்றுடன் தமது சமுர்த்தி அபிவிருத்தி உத்தியோகத்தருடன் தொடர்பு கொண்டு, தமது சமுர்த்தி வாங்கிய பெற்றுக் கொள்ளலாமெனத் தெரிவிக்கப்படுகிறது. (110)

சிறப்பாக நடைபெற்று முடிந்த அனைத்துலக மகளிர் தினம்

யாழ்ப்பாணம்
யாழ்.மாவட்ட சிக்கன கடன் வழங்குகூட்டுறவுச் சங்கங்களின் சமாசத்தின் அனைத்துலக பெண்கள் தினமும், 2005ஆம் ஆண்டு புலமைப்பரிசில் பரிட்சையில் சித்தியடைந்த மாணவர்களை கௌரவிக்கும் நிகழ்வும் நேற்று முன்தினம் யாழ். வீரசிங்க மண்டபத்தில் சிறப்பாக இடம்பெற்றது.
மகளிர் கழகத் தலைவி இ.இராசமணி தலைமையில் இடம்பெற்ற இந்த நிகழ்வில்- யாழ்.நீதிவான் இ.த.விக்கிரமசிங்க

ராஜா முதன்மை விருந்தினராகக் கலந்து கொண்டார்.
இந்த நிகழ்வில் மனையியல் பயிற்சி பெற்ற மாணவிகளுக்கு முதன்மை விருந்தினர் இ.த.விக்கிரமசிங்க சான்றிதழ் வழங்கினார். தொடர்ந்து புலமை பரிசில் பரிட்சையில் சித்தியடைந்த சி.க.க.சங்க அங்கத்தவர்களின் பிள்ளைகளைக் கௌரவிக்கும் நிகழ்வு, கணினி பயிற்சியில் சித்தியடைந்த சமாசப் பணியாளர்களுக்கு சான்றிதழ் வழங்கல் என்பவற்றைத் தொடர்ந்து கலைநிகழ்வுகளும் இடம்பெற்றன. (கு.ரி.நி.வ)

விண்ணப்பம் கோரல்

சாவகச்சேரி
இந்த ஆண்டுக்கான முறைசாராகல் விபரம் - பாடசாலையை விட்டு விலகிய மாணவர்களை விண்ணப்பிக்குமாறு தென்மராட்சி வலயக் கல்வி முறைசாராகல் கல்வி பிரிவினர் கேட்டுள்ளனர்.
சாவகச்சேரி இந்துக் கல்லூரி, கொடிமாமம் திருநாவுக்கரசு, மீசாலை வீரசிங்கம் மகாவித்தியாலயம், கைதடி முத்துக்குமாரசாமி, வரணி மகாவித்தியாலயம் ஆகிய பாடசாலைகளில் கணினி வன்பொருள், கணினி மென்பொருள், உடையமைத்தல், சிகை அலங்காரம், கேக் ஐசிங் ஆகிய பயிற்சிகள் மேற்கொள்ளப்பட இருப்பதால், மேற்படி பாடசாலைகளில் விண்ணப்பப் பத்திரங்களையும், விபரங்களையும் பெற்று எதிர்வரும் 30ஆம் திகதிக்கு முன்னர் அந்தந்தப் பாடசாலைகளில் சமர்ப்பிக்குமாறு கோரப்பட்டுள்ளது. (29)

புதிய கட்டடத் திறப்பு விழாவும் பெயர்ப்பலகை திரைநக்கமும்

ஏழாலை
ஏழாலை வாடக்கு அமெரிக்கன் மிசன் தமிழ்க் கலவன் பாடசாலை புதிய கட்டடத் திறப்பு விழாவும், பெயர்ப்பலகை திரைநக்கமும் எதிர்வரும் புதன்கிழமை காலை 11 மணிக்கு நடைபெறவுள்ளது.
பாடசாலை அதிபர் த.வாம தேவன் தலைமையில் நடைபெறும் இந்த நிகழ்வில் - வலிகாமம் வலயக் கல்விப் பணிப்பாளர் ப.விக்கேள்வரன் பிரதம விருந்தினராகவும், சிறு

வர் பாதுகாப்பு நிதிய கல்விசார் திட்ட முகா மையாளர் வைத்தியகலாநிதி அ.பேரின்பநாதன், உடுவில் கோட்டக் கல்விப் பணிப்பாளர் செ.குபேரநாதன், சிறுவர் பாதுகாப்பு நிதியத் திட்ட அலுவலர்களான உமா சுந்தரலிங்கம், கிருஷ்ணா சின்னத்தம்பி, ஏழாலை வாடக்கு கிராம அலுவலர் எஸ்.சிவா னந்தம் ஆகியோர் சிறப்பு விருந்தினர்களாகவும் கலந்து கொள்ளவுள்ளனர்.

நன்கொடை சேகரிப்பு

மட்டுவில்
தென்மராட்சிப் பிரதேச கலாசாரப் பேரவையின் வளர்ச்சிக்காகப் பொது மக்களிடமிருந்து நன்கொடை சேகரிக்கப்பட்டுள்ளது.
இதற்காக மேற்படி கலாசாரப் பேரவையினரால் நன்கொடை ரிக்கற்றுக்கள் மட்டுவில் பன்றித்தலைச்சி அம்மன் ஆயை பங்குனித் திங்கள் இரண்டாம் நாளான இன்று வீற்கப்படவுள்ளன.
தென்மராட்சிப் பிரதேச செயலர் செ.ஸ்ரீனிவாசன் மேற்படி நன்கொடை ரிக்கற் விற்பனையை இன்று காலை சம்பிரதாயபூர்வமாக ஆரம்பித்து வைப்பாரென தென்மராட்சி கலாசார அலுவலர் திருமதி ப.சிவஞானராசா தெரிவித்தார். (24)

ஓட்டோ தடம் புரண்டதில் மூவர் காயமடைந்தனர்

யாழ்ப்பாணம்
நுணாவில் - சாவகச்சேரி வீதியில் ஓட்டோ ஒன்று தடம்புரண்டதில் ஓரே குடும்பத்தைச் சேர்ந்த மூவர் படுகாயமடைந்து யாழ். போதனா வைத்தியசாலையில் சிகிச்சைக்காக அனுமதிக்கப்பட்டனர்.
நேற்றுமுன்தினம் காலை 10 மணியளவில் நடைபெற்ற இந்தச் சம்பவத்தில் மட்டுவில் தெற்கைச் சேர்ந்த கே.தர்மராஜா(வயது 46), அவரது மனைவி ரி.சிறீசுமணா(வயது 32), மகன் ரி.மரியன்(வயது 4) ஆகியோரே வைத்திய சாலையில் சிகிச்சை பெற்று வருகின்றனர்.
மட்டுவில் தெற்கில் உள்ள தமது வீட்டிலிருந்து சாவகச்சேரி வைத்தியசாலைக்கு தமது உறவினர்களைப் பார்ப்பதற்காக ஓட்டோவில் சென்று கொண்டிருந்தபோதே நுணாவில் சந்திக்கு அண்மித்த பகுதியில் இந்த விபத்து நிகழ்ந்துள்ளதாகத் தெரிவிக்கப்படுகிறது. (வ)

தாக்கப்பாட மாவலிடம் ஆணைக்குழு வாக்குமூலம்

யாழ்ப்பாணம்
யாழ்.உயர் தொழில் நுட்ப நிறுவனத்தில் இடம்பெற்ற அசம்பாவிதங்களின் போது காப்புமடைந்த மாணவரிடம் மனித உரிமைகள் ஆணைக்குழு வாக்குமூலம் பெற்றுள்ளது.
இந்தச் சம்பவத்தின்போது படையினரால் தாக்கப்பட்டு காயமடைந்து மருத்துவமனையில் அனுமதிக்கப்பட்டிருக்கும் உயர் தொழில் நுட்ப நிறுவன மாணவரான சின்னப்பா சுதர்சனிடம் மனித உரிமைகள் ஆணைக்குழு சட்டத்தரணி மு.ஹேமீஷ்யன், அலுவலக உதவியாளர் முத்துக்குமார் ஆகியோர் வாக்குமூலம் பெற்றுள்ளனர்.
குறிப்பிட்ட மாணவரிடம் வாக்குமூலம் பெற்றுக்கொண்டதையடுத்து இது தொடர்பாக இராணுவ தரப்புடன் தொடர்பு கொண்டு, உரிய விசாரணை நடத்தவுள்ளதாக மனித உரிமைகள் ஆணைக்குழு வட்டாரங்கள் தெரிவித்தன. (ரி)

தவக்கால நற்சிந்தனை

இன்றைய தினசரி வாழ்க்கைச் சிக்கல்களில் பல தீர்மானங்களை நாம் எடுக்க வேண்டிய கட்டாயத்தில் உள்ளோம். தீயவற்றை, தீயவர்களை வெறுத்து, நல்லவற்றை, நல்லவர்களைத் தெரிந்து கொள்கிறோம். இது நமது நடைமுறை வாழ்க்கை நிகழ்வுகள். ஒன்றின் மீது நம்பிக்கை வைத்து, மற்றவற்றை உதறித் தள்ளிவிடுகிறோம். நமது அனுதின வாழ்க்கையில் சரியானவற்றை, பொருத்தமானவற்றைத் தெரிந்து கொள்கின்ற நாம் - நம்மைப் படைத்த இறைவனின் காரியங்களிலும் இத்தகைய மன நிலையில் வாழ அழைக்கப்பட்டுள்ளோம். இறைவனும் எம்மை இறைவார்த்தைகளால் உடம்பு பெறச் சொல்லுகிறார். அவரின் உயிருள்ள வார்த்தை எம்மைத் தகுந்த வழியில் நடக்க இட்டுச் செல்கிறது. பாட்டி ஒருவர் ஆயுதத்தில் சுருபங்களைத் தொட்டு முத்திசெய்யும், மிக்கேல் சம்மனசு சம்மனசையும், அவர் காலடியில் வீழ்ந்து கிடந்த பசாசையும் தொட்டு முத்தி செய்தாராம். இது பற்றிக் குருவானவர் கேட்ட போது, பாட்டி கூறியது - சுவாமி நான் இறந்து போனால் மிக்கேல் சம்மனசு பார்த்துக் கொள்வார். ஆனால் நரகத்துக்குப் போனால் இந்தப் பசாசு என்னைப் பார்த்துக் கொள்ளும். இதற்காகவே நான் இருவரையும் பகைக்காமல் முத்தி செய்தேன் என்றாராம். இது யிளவுபட்ட மனநிலையை எடுத்துக் காட்டுகிறது. சோதனை வேளைகளில் தெளிவான பாதையை வேண்டிச் செப்பிப்போம்.
மோ.தார்ச்சியஸ்.

இலிய பிறந்தநாள் வாழ்த்துக்கள் அகவை மூன்று



பெயர் : மோ.ஐதுசன்
முகவரி : பண்டத்தரிப்பு.
வாழ்க வளமுடன்
சிறான் பெயர் : முகவரி : பிறந்த ஆண்டு :
கூப்பன்கள் பத்திரம், புகைப்படமும் இத்துடன் கிணைக்கப்பட்டு உள்ளன.
பெற்றோர் ஒப்பம்

முறைசாராக் கல்வி மாணவர்களுக்கு நாளை சான்றிதழ் வழங்கும் வைபவம்

சாகச்சேரி
தென்மராட்சி கல்வி வலயத்தில் கடந்த ஆண்டு முறைசாராக் கல்வி பயிற்சியை பூர்த்தி செய்த மாணவர்களுக்கான சான்றிதழ் வழங்கும் நிகழ்வு மீசாலை வீரசிங்கம் மகாவித்தியாலயத்தில் நாளை மாலை 3 மணிக்கு நடைபெறவுள்ளது.
இந்த நிகழ்வில் தென்மராட்சி வலயக் கல்விப் பணிப்பாளர் திருமதி ஆ.வேதநாயகம் பிரதமவிருந்தினராகக் கலந்து கொள்ளவுள்ளார். (29)

கட்டுப்பாட இடந்த ஓட்டோ மதிவுடன் மோதி பலத்த சேதம்!

யாழ்ப்பாணம்
மாணப்பாய்க்கும் கட்டுடைக்கும் இடையில் அமைந்துள்ள மதுபான நிலையத்துக்கு அண்மையில் கடந்த வியாழக்கிழமை மாலை 4 மணியளவில் ஓட்டோ ஒன்று மதிவுடன் மோதி விபத்துக்குள்ளானது.
இந்தச் சம்பவம் பற்றி மேலும் தெரியவருவதாவது ஓட்டோ ஒன்று மிக வேகமாக வந்து மதுபான நிலையத்துடியில் நின்ற வாகனத்தை கடக்க முற்பட்ட வேளை, ஓட்டோவின் பிறேக் அறுந்ததால் ஓட்டோவை நிறுத்த முடியாமல் மதுபான நிலையத்துக்கு அருகிலுள்ள மதிவுடன் மோதியது.
இதில் ஓட்டோவின் சாரதிக்கு சிறுகாயங்கள் ஏற்பட்டதுடன், ஓட்டோ சாரதியின் சாதுரியத்தால் ஓட்டோவின் பயணம் செய்த மூன்று பிரயாணிகளும் தெய்வாதினமாக சிறுகாயங்களுடன் தப்பித்துக் கொண்டனர். (47)

கவிதைப் படிக்கள்

உன்னில் நான்

சிறிது நேரம் தூங்கி விட்டேன்
விழித்து எழுந்து
பார்த்தேன் என்னை
காணவில்லை - என்னை
நான் எங்கு தேடுவது
சில வேளை பெற்றோரிடம்
சென்றிருப்பேன் என்றால்
அங்கு இல்லை.

உடன் பிறந்தோரிடம்
சென்றிருப்பேன் என்றால்
அங்கும் இல்லை
எங்கு தேடுவது - சரி
என்னவனிடம் போய்
பார்த்தேன் அவனில்
நான் தூங்கியிருந்தேன்.
எப்படிக்கேட்பது - என்னை
திரும்பித் தா என்று
அதனால் அவனிடமே
விட்டு விட்டேன் என்னை.

S.கயா

முதல்திரை

நீ ...!
உயர்வானவள்
எங்களின் விளை நிலம்
உனது மெய் விசாசத்தை
நிலை நிறுத்திக் கொள்.

உனது பணி
நிறையவே உண்டு.
உரிமைக்காகவும்,
நீதிக்காகவும்...
விழும் கற்களை
தாங்கிக் கொண்டிருக்கிறாய்.
இயேசுவைப் போல
சிதில்ரோ...?
வாழ்க்கை வட்டத்தை
விஷமூட்டி
நிர்வாணமாக்கி
சுவப்பெட்டிக்குள் வைத்து
இறுதி ஆணி அடித்தாகிறது...
மண்ணில் புதைப்பதற்கு!
சிறிய வட்டத்தை
விடுத்து,
உயில் போனாலும்,
உதவி விடுவது நான்
கொள்கையாகும் மெழுகுதிரி
போல்
உலைப் போற்றும்
பஸ்தீன போராளியைப் போல்
உனக்கு ... நீ...
முகவரி இரு.

போ. பாஸ்கரன்

புலோப்பனை

உன்னிடமொரு...

புகம்ப அதிர்வோடு - என்
உணர்வுகள்
முகிழ் அவிழ்ந்தாலும்
இன்னும்
மௌனமாகவே நான்!
தரிசனங்களால்
விமோசனங் கிடைக்குமென்ற
நம்பிக்கையில் - உன்
வருகைக்காக - விழி
தருகைக்காக,
மௌனமாகவே இன்னும்!
என்றாவது ஒரு நாள்...
மௌனப் பாறைகளின்
அழுத்தத்தால்,
உடைகின்ற போதில்,
விடைகொடுத்து
அனுப்பிவைக்கவாவது
வந்து விடு - என்
இறுதி யாத்திரைக்கு

நெற்கொழுதாசன்



தருடி விட்டேன்

அன்றொருநாள்...
பேருந்தில் ஓர்
அழகனைக் கண்டேன்.
என்னருகில் வந்து
ஹலோ என்றான்.
பார்த்ததோ ஊந்து
நிமிடங்கள்
பேசியதோ மூன்று
வார்த்தைகள்
திருடிவிட்டான்...
என் மணிப்பையையால்
என் இதயத்தை.

லக்ஷி - அல்வாய்

இறுதி முச்சின் தியம்புகை

பரந்தெங்கும் விநிதபாரின்
இடுக்குகளில்... இருந்துவரும்
காற்று,
உயிரனைத்தும் வாழ
உரமூட்டி நிற்கிறது.

ஊம்புதாங்களிலிதுவும்
ஒன்றாகி,
உயரிடத்திலிருக்கும்
உன்னதத்தாலிதனை
விருப்புகளில்...
வரித்துள்ளோம்.

பற்பல குணங்களினால்...
பெயர் மாற்றம் பெறும் போது
காற்றின் இயம்புகையை
ஏற்றறிய முடிகிறது.

சாளரத்தால் உட்புகுந்து
சில்லெனத் தீண்டுக்கையில்
சுகம் பெற்று மகிழ்கின்றோம்.
ஒவ்வன்று அலறிவந்து
வாசற் கதவுகளை
உடைத்தெறிய வெறுக்கிறோம்.

தென்றலாய் தவழ்ந்துவிட்டு
காற்றாய்... ஏன்
புயலாய்...மாறுகையில்...
புண்பட்டுத் தவிக்கிறோம்.

ஆக்கத்துக்கும்
அழிவுக்கும் மாறி மாறி
வித்திட்டு நிற்கின்ற காற்றே!
எங்கள் உடலுள்ளும்
வாழ்வதோடு
எம்மை
வாழவும் வைக்கின்றாய்.

உடலுதறிப் போகின்ற
இறுதிக் கணங்களிலே...
உன்னை நினைக்கிறோம்.
நீயே எமை
மறக்கிறாய்
ய... ன... வாசலைத்
திறக்கின்றாய்!

க. சிந்துதாசன்

தியாகத் தாய்

கார்த்திகை கருக்கிருட்டில்
கண்சிரிட்டும் விண்மீன் அல்ல நீ
ஒரு கோடி விடியல்களின்
உனதழகை வெளிச்சமாக்கி -
விடிவிற்காய்
விசையான விடிவெள்ளி நீ!
அன்னையென்னும் சொல்லுக்கு
அர்த்தமாய் இருந்தவள் நீ!
தன் மக்கள் தன் குடும்பம்
தலைவன் சிந்தித்த வேளை
எம் நாடு எம் மக்கள்
என்று நீ எழுந்தாய்
பூபதித்தாய் தடம்பதித்தாய்
பூமித்தாய் நிமிர்ந்து பார்க்க
தியாகத்தாய் ஆனாய்.

தென்றல்



புட்டின் தாய்மடி

எங்களுக்கான
உறவின் விரிசலில்
உட்புகுந்த கானல்பகை
இன்று
கரைந்து போனதில்
உனக்கும், எனக்கும்
அளவற்ற மகிழ்ச்சி!

உன் மடி
தாய்மடியாகி
நான் சிறுத்து அனுபவித்த
தாய்மையில்
என் உயிர்
இறுக்கக்கட்டியிருந்ததை
நீ நன்றாகவே
அறிந்தவன்!

என் வழிகாட்டியாக
என் வாழ்வில் ஒளியேற்றி
பலமான்
வலை கை
நீ என்பதை
நீ இல்லாத
எனது நாழிகைகளில்
நான் அறிந்து கொண்டேன்!

நமக்குள் நாம் வளர்த்த
கௌரவமற்ற
கோழைத்தனங்களில்
வேர்விட்ட
நமதான நட்பு
நேற்றைய நம் பிரிவின்
அழகைக் குரலில்
இன்னும் உறவானது!

கு. பா. தீபச்சல்வன்

ஒழுங்கு போக்கு சிவந்தகல்

அந்த மரத்திலுள்ள காய்ந்த
பட்டைகளை அழுங்குகள்...
கழற்றத் தொடங்கி விட்டன.

ஒவ்வொன்றாய் பட்டைகளைக் கழற்றி
நிசப்தத்தினோடு,
இராப் பொழுதின்...
விருந்துக்கான ஏற்பாட்டை
செய்யத் தொடங்கி விட்டன.

மரத்தினுச்சியிலிருக்கும் அந்த மயில்
மரணத்திற்காய்...
வளர்க்கப்பட்டதென்று,
அழுங்குகள் நினைத்திருக்கலாம்.

உயிர்க்குக்க எத்தனித்து
மரமேறும்,
அழுங்குகளுக்குத் தெரியாது,
பட்டைகள் கழற்றி
முடிக்கப்பட முன்னர்...
பொழுது புரரப்போகிறதென்பது!

க. சிந்துதாசன் பொலிகையூர்


தேசத்தின் ஆத்மா!

தேசத்தின் ஆத்மா
உரத்து குரலெழுப்புகிறது
உதிர்ந்து போன
உரிமைகளுக்கு
உயிரூட்டி...!

கோடி
உயிர்கள்
ஒடுங்கி
உருவெடுத்திருக்கும்
ஆத்மா
இன்னுமாய்
பலப்படுகிறது
மனிதங்கள்!
மகத்துவமான
மரணங்களை
தழுவிக்கொண்டிருக்க...!

ஒங்கி
ஒலிக்கும்
அதன் ஓசையால்
உணர்வுகளில்
முடிச்சு
நல்ல நிலத்தில்
விழுந்த
நல்ல விதைகளாய்...!

இடைவிடாத
பிரயத்தனங்களோடு
வேட்கை
கொள்கிறது
சுதந்திரம் மீது
இந்த
மகத்துவமான
தேசிய தேசத்து ஆத்மா...!



க.பொ.த.உயர்தர பரீட்சைக்கான மாதிரி வினாத்தாள் - 2006

பொதுக்கவியல்

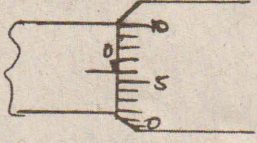
(பகுதி - I)

01) பெரும்பாலான மெய்வாயுக்கள் குறித்த வெப்பநிலை, அழுக்க வீச்சுக்களில் பின்வரும் சமன்பாட்டிற்குமைய ஒடுங்கும்

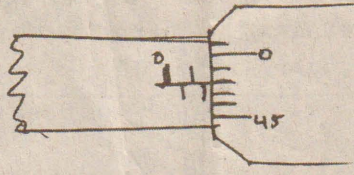
$(p+a/v^2)(v-b)=RT$. இங்கு P, V, R, T, வழமையான கருத்துடையன. a, b என்பன குறித்த வாயு ஒன்றிற்கான சிறப்பியல்பு மாறிகளாகும். a, b இன் அலகுகளைச் சரியாகத் தருக?

- 1) $Pam^6 mol^2, m^3 mol^{-1}$
- 2) $Pam^6 mol^{-2}, m^3 mol$
- 3) $Pam^6 mol^2, m^3 mol^{-1}$
- 4) $Pam^6 mol^{-2}, m^3 mol^{-1}$
- 5) இரு கணியங்களும் அகற்றவை

02) திருகாணி நுண்மானி ஒன்றினால் உருக்குக்குளாம் ஒன்றின் விட்டத்தினை அளப்பதற்கு பயன்படுத்தப்படுகிறது.



பூச்சிய வாசிப்பு



விட்டத்தின் வாசிப்பு

கோளத்தின் விட்டம்?

- 1) 3.48 mm
- 2) 2.04 mm
- 3) 1.98 mm
- 4) 1.92 mm
- 5) 1.42 mm

03) திணிவுடைய மழைத்துளி ஒன்று வளியினூடாக மாறாவேகம் V உடன் நிலைக்குத்தாக புவியீர்ப்பின் கீழ் இயங்குகின்றது. மழைத்துளி அனுபவிக்கும் தடைவிசையானது KV எனின், பின்வரும் தொடர்புகளில் எது மழைத்துளியின் இயக்கப் பண்புச்சக்தியினைத் தரும்?

- 1) mg/k
- 2) $mg^2/2k^2$
- 3) m^3g^2/k^2
- 4) $m^3g^2/2k^2$
- 5) $m^3g^2k^2/2$

04) 4m திணிவுடைய கோளம் a யும், 2m திணிவுடைய கோளம் B யும் அவற்றின் மையவினைகோட்டின் வழியே மோதப்பின்னதைக்கிறது. a, b என்பவற்றின் வேகங்களில் ஏற்பட்ட மாற்றங்கள் முறையே

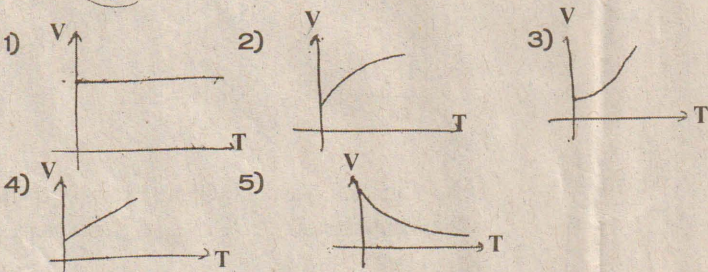
$\nabla VA, \nabla VB$ எனின் $\nabla VB / \nabla VA$ இனைச்சரியாகத் தருவது?

- 1) 2
- 2) 1/2
- 3) 1
- 4) 1/2
- 5) $\sqrt{2}$

05) m திணிவுடைய வாகளம் ஒன்றின் எஞ்சின் p வலுவை வழங்கவல்லது. இவ்வாகளம் ஓய்விலிருந்து ஆர்ப்புறம் V வேகத்தினை அடைவதற்கு எடுக்கக்கூடிய இழிவு நேரம் யாது?

- 1) mv/P
- 2) mv^2/p
- 3) P/mv
- 4) $2p/mv^2$
- 5) $mv^2/4p$

06) நேரிய நாடா ஒன்று மாறாக்கோணவேகத்துடன் சுற்றப்படுகிறது. நாடாவின் வேகம் V நேரத்துடன் மாறுபடுவதைச் சரியாகத்தரும் வரைபு?

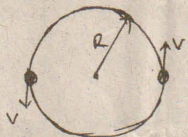


07) 24 மணித்தியாலங்கள் சுற்றல்காலமுடைய தொடர்பாடல் செய்மதி ஒன்று இரு மடங்கு திணிவுடைய வேறொரு செய்மதி ஒன்றினால் பிரதியிடப்படுகிறது. புதிய செய்மதியும் அதே சுற்றல் காலத்தைக் கொண்டிருப்பின்

புதிய செய்மதியின் ஒழுக்கின் ஆரை
பழைய செய்மதியின் ஒழுக்கின் ஆரை = ?

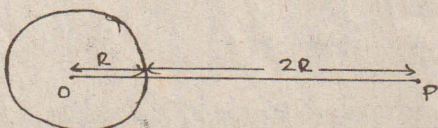
- 1) 1/2
- 2) 1
- 3) 2
- 4) 2
- 5) 1/2

08) இரு சமதிணிவுகள் M ஊ உடைய இரு உருக்கள் மாறாக்கதி V உடன் ஒரே மையத்தையும் R ஆரையுடைய விட்டப்பாதையில் இயங்குகிறது. ஒவ்வொரு உருவினும் தொழிற்படும் தேரியவிசை?



- 1) $GM^2/4R^2$
- 2) $2MV^2/R$
- 3) $MV^2/2R$
- 4) GM^2/R^2
- 5) பூச்சியம்

09)



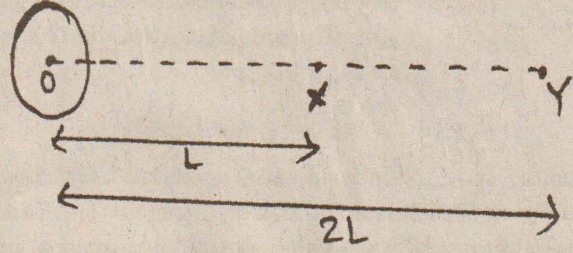
R ஆரையும் M திணிவுமுடைய கோள் ஒன்றின் மேற்பரப்பிலிருந்து 2r தூரத்தில் உள்ள புள்ளி P ஆகும்.

புள்ளி P இலிருந்து நிலையான திணிவு ஒன்று விடுவிக்கப்பட்டால் அது கோள் மேற்பரப்பினை மோதும் கதியினைத் தருவது?

- 1) $(2am/3R)^{1/2}$
- 2) $(4am/3R)^{1/2}$
- 3) $(2am/R)^{1/2}$

- 4) $(4am/R)^{1/2}$
- 5) $(am/R)^{1/2}$

10) புவியின் மையத்திலிருந்து L, 2L தூரத்திலுள்ள புள்ளிகள் X, Y இனை உரு காட்டுகிறது.



புள்ளி X இலுள்ள ஈர்ப்பு அழுத்தம் $-8KJkg^{-1}$. 1Kg திணிவு புள்ளி X இலிருந்து Y இற்குச் செல்லும் போது அதன் அழுத்தசக்தி அதிகரிப்பு

- 1) -4KJ
- 2) -2KJ
- 3) +2KJ
- 4) +4KJ
- 5) +8KJ

11) T வெப்பநிலையில் பேணப்படும் கொள்கலன் ஒன்றினுள் M1, M2 எனும் இரு வெப்பமானிகள் புகுத்தப்படுகிறது. இரு வெப்பமானிகளும் சர்வசமனானதாக இருக்க M1 இன் குமிழ் கருமையாக்கப்பட்டுள்ளது. வெப்பச்சமநிலையில் M1, M2 என்பவற்றின் வாசிப்புக்கள் T1, T2 எனின், பின்வருவனவற்றுள் சரியானது -

- 1) $T_1 > T_2 > T$
- 2) $T_1 > T > T_2$
- 3) $T_1 = T_2 = T$
- 4) $T_1 = T > T_2$
- 5) $T_1 > T = T_2$

12)

X	Y
---	---

100°C ↑ 60cm 25°C ↑ 30cm ↑

- 1) 6
- 2) 3
- 3) 25:24
- 4) 3:2
- 5) 6:1

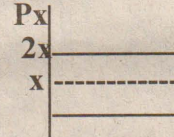
13) கரும் பொருள் ஒன்றின் வெப்பநிலை T1 ஆக உள்ளபோது 1 தூரத்தில் வலுவானது அளவிடப்படுகிறது. பொருளின் வெப்பநிலை T2 ஆக உள்ளபோது தூரம் 2 அதே வலுப்பெறுமானம் பெறப்படுகிறது எனின் d_2/d_1 ?

- 1) T_2/T_1
- 2) $(T_2/T_1)^2$
- 3) $(T_1/T_2)^2$
- 4) $(T_2/T_2)^4$
- 5) $(T_1/T_2)^4$

14) குறித்த திணிவு வாயு ஒன்றின் கணவளவு A ஆகும். வாயு மூலக்கூறின் இடைவாக்க மூலக்கதி இரு மடங்காகுமாறு வெப்பநிலை அதிகரிக்கப்படுகிறது. வாயுவின் அழுக்கம் மாறவில்லை எனக்கொண்டு புதிய கணவளவு?

- 1) V/2
- 2) V/2
- 3) 2V
- 4) 2V
- 5) 4V

15) இருவாயுத்தொகுதிகளின் PV எதிர் P வரைபு கீழே தரப்பட்டுள்ளது. முதலாவது சமவெப்பத் தொகுதி 1 இனால் காட்டப்படுகிறது. பின்வருவனவற்றில் சமவெப்பத்தொகுதி 2 இனைப்பெறுவதற்கு

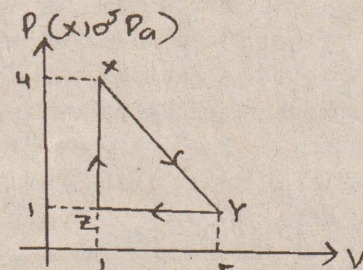


- 1) வாயுவின் திணிவினை இருமடங்காக்குதல்
- 2) வெப்பமையக்கவியல் வெப்பநிலையை இருமடங்காக்குதல்
- 3) வெப்பமையக்கவியல் வெப்பநிலையை அரைவாசியாக்குதல்
- 4) வாயுவின் திணிவு இருமடங்காகவும் வெப்பநிலை அரைவாசியாகவும் இருத்தல்
- 5) வாயுவின் திணிவும், வெப்பநிலையும் அரைமடங்காக்கப்படும் போது

16) ஓரணு வாயு ஒன்றின் மாறா அழுக்கத் தன்வெப்பக் கொள்ளளவு?

- 1) R/2
- 2) 3R/2
- 3) 2R
- 4) 5R/2
- 5) 7R/2

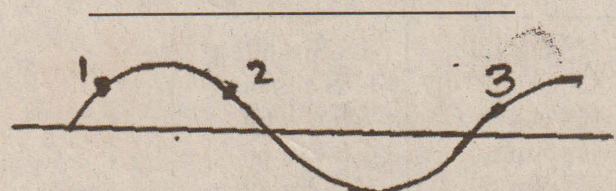
17) இலட்சிய வாயு ஒன்றின் P எதிர் V வரைபு தரப்பட்டுள்ளது.



பின்வரும் புள்ளிகளில் வெப்பநிலை குறைவாகவும், அதிகமாகவும் உள்ள புள்ளிகள் முறையே

- 1) X, Y
- 2) Y, X
- 3) Y, Z
- 4) Z, X
- 5) Z, Y

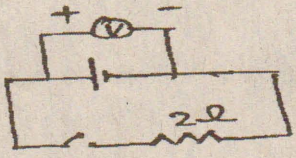
18) இடமிருந்து வலமாக நகரும் குறுக்கலை ஒன்றின் கணநிலைப்புள்ளிகளை உரு காட்டுகிறது



1, 2, 3 புள்ளிகளின் வேகங்களின் திசைகளை சரியாகத் தருவது முறையே

- 1) → → →
- 2) → ← →
- 3) ↓ ↓ ↓
- 4) ↑ ↓ ↑
- 5) ↓ ↑ ↓

க.பொ.த.உயர்தர பரீட்சைக்கான மாதிரி வினாத்தாள் - 2006



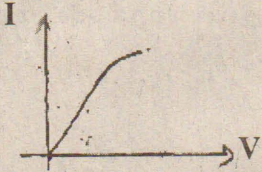
மின்கலம் ஒன்றுடன் 2 Ω தடை ஒன்றுடன் தொடர்நிலையில் இணைக்கப்பட்டுள்ளதை உரு காட்டுகிறது. மின்கலத்தின் முனைகளுக்கு குறுக்கே வோல்ற்று மானி இணைக்கப்பட்டு ஆளி திறந்துள்ள போதும், ஆளி மூடியுள்ள போதும் அவற்றின் வாசிப்புக்கள் முறையே 12V, 8V எனின் மின்கலத்தின் உட்தடை?

- 1) $2/33\Omega$ 2) 1Ω 3) $U/3\Omega$ 4) $U\Omega$ 5) 6Ω

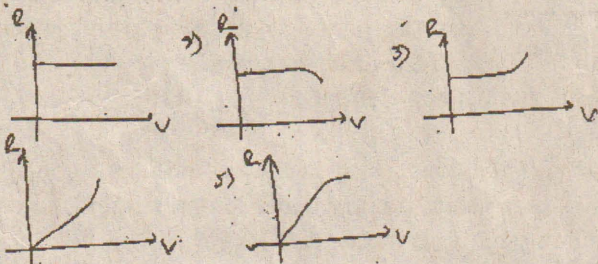
20) d விட்டமுடைய வட்ட பிளாஸ்டிக் தட்டு ஒன்றின் பரிதியின் வழியே n உலோகப்பொட்டுகள் சீரான இடைவெளியில் உள்ளது. ஒவ்வொரு உலோகப்பொட்டும் q ஏற்றத்தைக் கொண்டுள்ளது. இத்தட்டானது அதன் மையத்தினூடாகச் செல்லும் அச்சப்பற்றி p சுழற்சிகள/நிமிடம் வீதம் சுழற்றப்படுகிறது. பரிதியின் வழியேயான மின்னோட்டம்?

- 1) nq/p 2) nq 3) npq
4) $npq\pi d$ 5) $\pi dnpq$

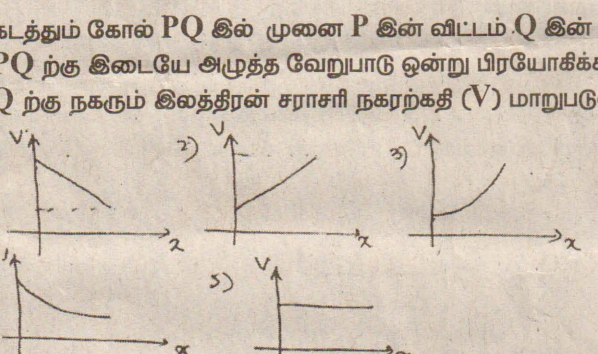
21) மின்வலு ஒன்றினூடாக மின்னோட்டம் அதன் முனைகளுக்கு குறுக்கேயான அழுத்த வேறுபாடு என்பவற்றுடன் மாறுபடுவதை வரைபு காட்டுகிறது.



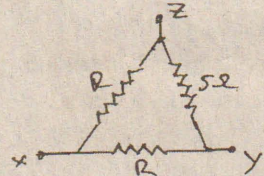
மின்வரும் வரைபுகளில் மின்கூறின் தடை ஆனது a உடன் மாறுபடுவதைக் காட்டும் வரைபுகளில் சரியானது?



22) காட்டியவாறு கடத்தும் கோல் PQ இல் முனை P இன் விட்டம் Q இன் விட்டத்தின் இரு மடங்காகும். PQ ற்கு இடையே அழுத்த வேறுபாடு ஒன்று பிரயோகிக்கப்படின் முனை P இலிருந்து Q ற்கு நகரும் இலத்திரன் சராசரி நகரற்கதி (V) மாறுபடுவதை சரியாகத் தருவது?



23) அருகே மூன்று தடையின் வலைப்பின்னல் தரப்பட்டுள்ளது. Y ற்கும் Z ற்கும் இடையிலான சமவலுத்தடை 2.5 m எனின் X ற்கும் தீ ற்கும் இடையிலான சமவலுத்தடை?



- 1) 0.2134 2) 0.2234 3) 1.9Ω 4) 4.8Ω 5) 6.0Ω

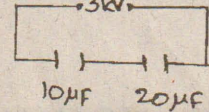
24) அழுத்தமானி ஒன்று E மின்னியக்கவிசையும் r உட்தடையுமுடைய சேமிப்புக்கலம் ஒன்றுடன் r தடையும் யி நீளமுடைய வழக்குக்கம்பி AB யுடனும் தொடர்நிலையில் இணைக்கப்பட்டு அமைக்கப்பட்டுள்ளது. துணைச்சுற்றிலுள்ள கலம் வழக்கீக்கம்பியின் L/3 நீளத்தினால் சமநிலைப்படுத்தப்படுகிறது எனில் துணைச்சுற்றிலுள்ள கலத்தின் மின்னியக்கவிசை?

- 1) $E/3$ 2) $ER/3(R+r)$ 3) $Er/3(R+2r)$ 4) $ER/3(R+2r)$ 5) $E(R+2r)/3R$

25) சீரான மின்புலம் E உள்ள பிரதேசமொன்றில் சமபக்க முக்கோணியை ஆகுமாறு உள்ள புள்ளிகள் A, b, C ஆகும். AB யின் நீளம் S ஆகும். காட்டியவாறு a → B → B → C → C → A இனூடாக நேரேற்றம் ஒன்று கொண்டு செல்லப்படுகிறது. இப்பாதைகளில் அசையும் ஏற்றத்தில் மின்விசைக்கு எதிராக செய்யப்படும் வேலைகளைச் சரியாகத் தருவது?


1) +ES	+ES cos 60	-Es Sin 60
2) 0	-ES cos 60	+ES cos 60
3) +ES	+ES cos 60	-ES cos 60
4) 0	+ES Sin 60	-ES Sin 60
5) 0	-ES Sin 60	+ES Sin 60

26) ஆரம்பத்தில் ஏற்றம் எதுவுமற்ற 10 μ 20 μ கொள்ளளவிகள் தொடர்நிலையில் இணைக்கப்பட்டு 3KV அழுத்த வேறுபாடு பிரயோகிக்கப்படுகிறது. கொள்ளளவியில் சேமிக்கப்படும் அதியுயர் ஏற்றம்?



- 1) $4.5 \times 10^{-3}C$ 2) $20 \times 10^{-3}C$ 3) $10 \times 10^{-3}C$ 4) $30 \times 10^{-3}C$ 5) $15 \times 10^{-3}C$

27) மிகநீண்ட நேரிய சமாந்தரமான கடத்திகள் வெற்றிடமுள்ள தளமொன்றில் வைக்கப்பட்டு, படத்தில் காட்டியவாறான திசைகளில் மின்னைக்காவுகின்றன.



1 a மின்னைக்காவும் சமாந்தர நேரிய கடத்திகள் 10cm இடைத்தூரத்திலுள்ள போது $2 \times 10^{-6} Nm^{-1}$ விசை தொழிற்படுகிறது. எனின் கடத்தி Z இன் அகல நீளத்தில் தொழிற்படும் தேறியவிசை?

- 1) $3.0 \times 10^{-6} Nm^{-1}$ 2) $3.5 \times 10^{-6} Nm^{-1}$ 3) $4.0 \times 10^{-6} Nm^{-1}$
4) $4.5 \times 10^{-6} Nm^{-1}$ 5) $5.0 \times 10^{-6} Nm^{-1}$

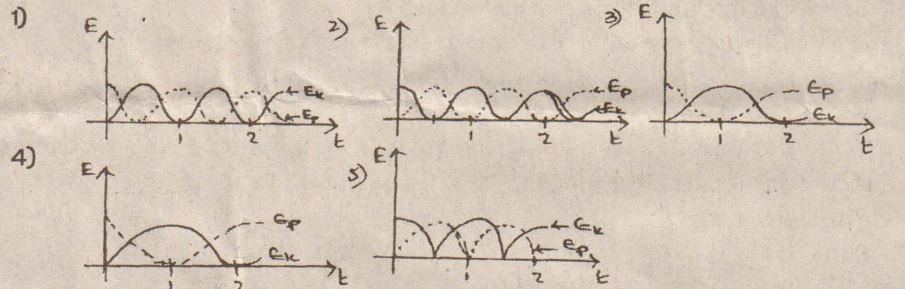
28) L நீளமான ஈர்க்கப்பட்ட இழை ஒன்று அதன்முடிவிடங்கள் இரு நிலையான புள்ளிகளுக்கு இணைக்கப்பட்டுள்ளது. இவ்விழையிலிருந்து பெறக்கூடிய குறுக்கலையின் இழிவு மீறங்கள் முறையே f_1, f_2 ஆகும். பின்வருவனவற்றுள் f_2/f_1 குறுக்கலையின் கதி ° என்பவற்றைச் சரியாகத்தருக?

f_2/f_1	V
1) 2	$f_1 L$
2) 3	$3 f_1 L$
3) 2	$f_2 L$
4) 0.5	$f_2 L$
5) 3	$f_2 L/3$

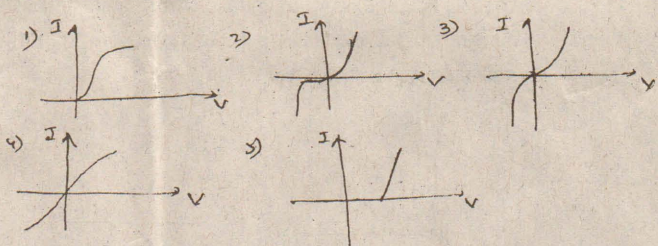
29) 1M நீளமான ஈர்க்கப்பட்ட இழை ஒன்றில் உருவாகும் குறுக்கலையின் அடிப்படை அதிர்வெண் 256Hz. இழை ஆனது 0.4m இனால் குறைக்கப்பட்டு அதே இழைவிசை பேணப்படின் புதிய அடிப்படை மீறன்?

- 1) 102Hz 2) 162Hz 3) 312Hz 4) 416Hz 5) 640Hz

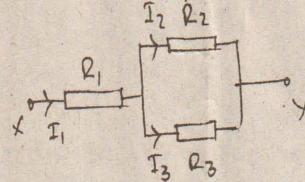
30) எளிய ஊசல் ஒன்றின் அலைவு காலம் 25 ஆகும். t=0 இல் ஊசல் குண்டானது சிறிய தூரம் ஒன்றினால் இடம்பெயர்க்கப்பட்டு விடுவிக்கப்படுகிறது. ஊசல் குண்டினது இயக்கசக்தி (E_k), அழுத்தசக்தி (E_p) என்பனவற்றின் நேரத்துடனான மாறல்களைச் சரியாகத்தருவது?



31) குறை கடத்தி ஒன்றின் I-V சிறப்பியல்பினை சரியாகத் தருவது?



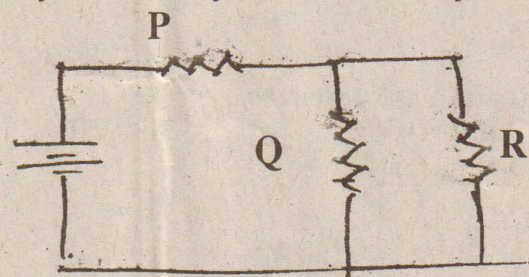
32) X, Y முடிவிடங்கள் நேரோட்ட முதல் ஒன்றிற்கு இணைக்கப்படின் I_1/I_3 விகிதத் தினை சரியாகத் தருவது?



- 1) $\frac{R_3 + R_1}{R_1}$ 2) $\frac{R_2 + R_1}{R_1}$ 3) $\frac{R_2 + R_3}{R_1(R_2 + R_3)}$ 4) R1 இல் தங்கியிருப்பதில்லை.
5) நேரோட்ட முதலின் உட்தடையில் தங்கியிருக்கும்.

33) P, Q, R என்பன சமதடைகள் ஆகும். இவை உருவில் காட்டியவாறு புறக்கணிக்கத்தக்க உட்தடை உடைய மின்கலம் ஒன்றுடன் இணைக்கப்பட்டுள்ளது. மின்கலம் வழங்கும் வலு 12W எனின் தடை R இல் விரயமாக்கப்படும் வலு?

- 1) 2W 2) 3W 3) 4W 4) 6W 5) 8W



34) மாற்றுத்தடை R இன் வீச்சு (0-107) ஆகும் எனின் P, Q ற்கிடையே பெறக்கூடிய தடையின் வீச்சு?

- 1) பூச்சியமும், 10Ω 2) 10Ω, 2m 10°Ω
3) 10, Ω 10 4) 10Ω, 10°Ω