



# வலம்புரி

Valampurii

**SATS-TECH ENGINEERS**

NEW PACKAGES & RENEWAL  
CALL :- 222 5908/222 8612

பக்கங்கள்: பன்னிரண்டு

சங்கு 08 வள்ளுவர் ஆண்டு 2039 ஆடி 31 வெள்ளிக்கிழமை (15.08.2008) தொலைபேசி 222 3378, 222 7829 ஒலி 240

## வடக்கில் இடம்பெயரும் மக்கள் பேரவலத்தை சந்திக்க நேரலாம்

### ஜ.நா.மன்றம் எச்சரிக்கை

(கொழும்பு) விடுத்துள்ளது. கபந்த இரண்டரை மாத கால கட்டத்தில் வட இலங்கையில் சுமார் 75 ஆயிரம்பேர் தமது வாழ்விடங்களை விட்டு வெளியேற நேர்ந்துள்ளதாக ஐக்கிய நாடுகள் சபை தெரிவித்துள்ளது. விடுதலைப் புலிகளின் கட்டுப்பாட்டில் இருப்பதாக மதிப்பிடப்பட்டுள்ள மக்களின் மூன்றில் ஒரு பங்கு எண்ணிக்கை இது. விடுதலைப் புலிகள் கட்டுப்பாட்டுப் பிரதேசத்

திற்குள் அரசாங்கத் துருப்பினர் தொடர்ந்து முன்னேறி வருகின்றனர்.

புலிகளை முழுமையாக வீழ்த்தி அப்பிரதேசங்களை முற்றிலுமாக தமது கட்டுப்பாட்டுக்குள் கொண்டு வந்துவிடவேண்டும் என்று அவர்கள் எண்ணம் கொண்டுள்ளனர்.

மோதல்கள் (12ஆம் பக்கம் பார்க்க)

## திருமலையில் மினி சூறாவளி 29 வீடுகள் சேதம்

(திருகோணமலை) திருகோணமலை தம்பலகாமம் பகுதியில் நேற்றுப் பிற்பகல் வீசிய மினி சூறாவளியில் 29 வீடுகள் சேதமடைந்ததாகத் தெரிவிக்கப்பட்டுள்ளது.

மரங்கள், வீதியோரத்து மின்கம்பங்கள் என்பனவும் பாதிக்கப்பட்டுள்ளதாகவும் இதனால் மின் விநியோகமும் அந்தப் பிரதேசத்தில் துண்டிக்கப்பட்டுள்ளதாகத் தெரிவிக்கப்பட்டுள்ளது. இந்தச் சூறாவளியினால் எவரும் காயப்பட்டதாகவோ உயிரிழந்ததாகவோ தகவல் வெளியாகவில்லை. (ச-5)

# விடுதலைப் புலிகள் தோல்வியடைவதை

# இந்திய அரசு ஒருபோதும் விரும்பாது

## ஜே.வி.பி சுட்டிக்காட்டு

(கொழும்பு) இந்தியா ஒருபோதும் விடுதலைப் புலிகள் தோல்வியடைவதை விரும்பாது. இதனால் தோல்வியடையும் விடுதலைப் புலிகளை பாதுகாப்பதற்கான வியூகத்தை இந்தியா தற்போது முன்னெடுத்துள்ளது என்று ஜே.வி.பியின் பொதுச் செயலாளர் ரில்வின் சில்வா தெரிவித்துள்ளார். (12ஆம் பக்கம் பார்க்க)

## கிளிநொச்சி விரைவில் மீட்கப்படுமென அமைச்சர்களுக்கு ஜனாதிபதி உறுதியளிப்பு

(கொழும்பு) விடுதலைப் புலிகளிடமிருந்து கிளிநொச்சிப் பிரதேசம் வெகு விரைவில் மீட்கப்படுமென ஜனாதிபதி மகிந்த ராஜபட்சேன அமைச்சர்களிடம் உறுதியளித்துள்ளதாக பிரபல சிங்கள ஊடகமொன்று செய்தி வெளியிட்டுள்ளது. இராணுவமும் விடுதலைப் புலிகளின் முக்கிய இலக்குகளை கைப்பற்றியுள்ளதாக அவர் சுட்டிக்காட்டியுள்ளார். அலரி மாளிகையில் நடைபெற்ற அமைச்சரவைக் கூட்டத்தில் கலந்து கொண்டபோதே ஜனாதிபதி இதனைக் குறிப்பிட்டுள்ளார். அரசு படையினர் முன்னெடுக்கும் யுத்தத் திற்கு நிபந்தனையற்ற வகையில் நாட்டுமக்கள் அனைவரும் (12ஆம் பக்கம் பார்க்க)

## வன்னி விளாங்குளத்தில் விமானத் தாக்குதல்

(கிளிநொச்சி) முல்லைத்தீவில் வன்னி விளாங்குளம் மக்கள் குடியிருப்புக்கள் மீது விமானப் படையின் கீபீர் ரக விமானங்கள் தாக்குதல் நடத்தியுள்ளன. சிறிலங்காப் படையினரின் தாக்குதல்களால் வன்னி விளாங்குள மக்கள் இடம்பெயர்ந்த நிலையில் அம்மக்களின் வீடுகள், வாழ்விடங்களை இலக்கு வைத்து நேற்றுக் காலை 7.30 மணியளவில் இத் தாக்குதல் நடத்தப்பட்டதாக வன்னித் தகவல்கள் தெரிவித்தன. இத்தாக்குதலில் மக்களின் பத்துக்கும் அதிகமான வீடுகள், பயன் தரு மரங்கள் மற்றும் கால்நடைகள் ஆகியன அழிந்துள்ளதாக தெரிவிக்கப்பட்டது. (ச-5)

# வன்னிப் பெரு நிலப்பரப்புக்குள் வைத்து இராணுவத்துக்கு பதிலடி கொடுப்போம்

## புலிகளின் அரசியல்துறைப் பொறுப்பாளர் தெரிவிப்பு

(கிளிநொச்சி) இராணுவத்தினருக்கு வன்னிப் பெரு நிலப்பரப்பு புதைகுழியாக மாற்ற அனைவரும் அணிதிரள்வோம் என்று தமிழீழ விடுதலைப் புலிகளின் அரசியல்துறைப் பொறுப்பாளர் பா.நடேசன் தெரிவித்துள்ளார். விமானப்படையின் குண்டுத்தாக்குதலில் செஞ்சோலை வளாகத்தில் படுகொலை செய்யப்பட்ட 53 மாணவிகளின் இரண்டாம் ஆண்டு வணக்க நிகழ்வு நேற்று வியாழக்கிழமை நடைபெற்றது. இந்நிகழ்வில் சிறப்புரையாற்றியபோது பா.நடேசன் இதனைத் தெரிவித்துள்ளார். அவர் மேலும் தெரிவித்துள்ளதாவது, இரண்டு ஆண்டுகளுக்கு முன்னர் 53 மாணவிகள் குண்டு வீச்சினால் பலியெடுக்கப்பட்டனர். இப்படுகொலை தமிழினத்துக்கு மட்டுமல்ல, பன்னாட்டு சமூகத்திற்கும் அரசாங்கத்தின் முகத்தை வெளிப்படுத்தி நின்றது. சிங்கள (12ஆம் பக்கம் பார்க்க)



## மாணவர்களின் பேரணி மீது கண்ணீர்புகைக்குண்டுத் தாக்குதல்

(கொழும்பு) கொழும்பின் கொள்ளப்பிட்டி சந்தியில் இருந்து உயர் பாதுகாப்பு வலயத்தினுள் அமைந்திருக்கும் ஜனாதிபதியின் உத்தியோக பூர்வ வாசஸ்தலமான அலரி மாளிகையை நோக்கி மகஜர் ஒன்றிணை கையளக்கும் நோக்கில் ஊர்வலமாகச் செல்ல முயன்ற நூற்றுக்கணக்கான பல்கலைக்கழக மாணவர்கள் மீது பொலிஸார் கண்ணீர்புகைப் பிரயோகம் செய்துள்ளனர். பல்கலைக்கழகங்களை தனியார் மயப்படுத்தக் கூடாது என்பது உட்பட பல கோரிக்கைகளை முன்வைத்து அனைத்து பல்கலைக்கழக மாணவர்கள் நேற்று மாபெரும் ஆர்ப்பாட்டப் பேரணியினை நடத்தினர். ஸ்ரீஜயவர்த்தனபுர பல்கலைக்கழகத்துக்கு அருகில் நேற்று நண்பகல் ஆரம்பமான இந்த ஆர்ப்பாட்டப் பேரணி நுகேகொடை கிருலப்பனை வழியாக கொள்ளப்பிட்டி (12ஆம் பக்கம் பார்க்க)

## மோதல்கள் உக்கிரமடைந்துள்ளதால் நிவாரண விநியோகத்தில் சிக்கல்

(கிளிநொச்சி) வன்னியில் மோதல்கள் உக்கிரமடைந்துள்ள நிலையில் பாதிக்கப்பட்டுள்ள பகுதிகளுக்கான நிவாரண மனிதாபிமான உதவிகளை விநியோகம் செய்வதில் மனிதநேயப் பணியாளர்கள் பாரிய சிக்கல்களுக்கு முகம் கொடுத்துள்ளதாக சர்வதேச செஞ்சிலுவைச்சங்கம் (ஐ.சி.ஆர்.சி) தெரிவித்துள்ளது. அதிகமான மக்கள் அடிப்படை மனிதாபிமான உதவிகளைப் பெற்றுள்ளபோதும் இடம்பெயர்ந்துள்ள மக்களின் எண்ணிக்கை மேலும் அதிகரிப்பதால் மனிதாபிமான உதவிகளுக்கான தேவை மேலும் அதிகரித்துள்ளதாக ஐ.சி.ஆர்.சியின் இலங்கைக்கான பிரதித் தலைவர் அந்தனி டல்சியல் தெரிவித்தார். எனினும் வன்னியில் இடம்பெற்றுவரும் மோதல்களால் பாதிக்கப்பட்டு இடம்பெயர்ந்துள்ள (12ஆம் பக்கம் பார்க்க)

# நடுவு நிலை தவறா நன்னெறி காக்கும் உங்கள் நாளிதழ்

# நோயாளர் உரிமைகளை பாதுகாப்பதில் எழுச்சி பெற்றுள்ள மக்கள் இயக்கம்

கொழும்பில் இயங்கி வரும் நோயாளர் உரிமைகளுக்கான மக்கள் இயக்கம் என்ற அமைப்பின் தேசிய இணைப்பாளர் வி.கந்தவேளடன் நேர்காவல் ஒன்றை நடத்தினோம். அதன் விபரம் இங்கு தரப்படுகின்றது. (ஆர்)

மனித உரிமைகள் பற்றிய விழிப்புணர்வும் சிந்தனைகளும் விடயமாக பெற்றுள்ள இன்றைய சூழலில் மனித உரிமைகளை பல்வேறு கூறுகளாகி அவை ஒவ்வொன்றிலுமான உரிமைத் தன்மையை காப்பாற்றுவதனுடாக மனித உரிமையை காத்திரமுடைய தாக்கும் முயற்சிகள் பல்முனைகளில் எழுச்சி பெற்றுள்ளன. அதில் ஒன்றாக நோயாளர் உரிமை பற்றிய சிந்தனை எழுச்சியை குறிப்பிட முடியும்.

நோயாளர்களின் உரிமைகள் பாதுகாக்கப்பட வேண்டும் என்ற கருத்தியலானது உயர்பெறுமானமுடையது. உரிய நேரத்தில் சிகிச்சை கிடைக்காமலோ அன்றி உரியவாறு சிகிச்சை வழங்காமலோ ஒருவரின் உயிர் வாழும் உரிமை இழக்கப்படலாம்-மறுக்கப்படலாம் அல்லது அவர் அங்கவீனமுடைய வராக மாறலாம். எனவே இந்நிலையில் நோயாளர் உரிமை என்ற விடயப் பொருள் மனித

திரன் பொறுப்பேற்றுள்ளார். மருத்துவர்கள் உள்ளிட்ட பலர் இந்த அமைப்பின் தொழிற்படு உறுப்பினர்களாக உள்ளனர். யாழ்ப்பாணத்தில்,

❖ மருத்துத் தட்டுப்பாடு  
❖ முழுமைத் தன்மை வாய்ந்த ஆய்வு கூட வசதியின்மை  
❖ துறை மருத்துவ சேவையாளர்களின் பற்றாக்குறை  
என்பன நாயாழ்ப்பாணத்தில் இனங்காணப்பட்ட மருத்துவ ரீதியிலான முதன்மைப் பிரச்சினைகளாகும்.

நோயாளர் உரிமையைக் காப்பதில் மேற் கூறப்பட்ட பிரச்சினைகள் தடையாக அமைவதால் அது தொடர்பில் தீர்க்கமான முடிவுகளை நோயாளர் உரிமைகளுக்கான மக்கள் இயக்கம் (PMRP) முன்னெடுக்கவுள்ளது.


நோயாளர் உரிமை என்பது அவர் வாழும் கலை கலாசாரப் பண்பாட்டு விழுமியங்க

நோயாளர் ஒருவர் தனது நோய்சார்ந்த அல்லது அதனுடன் சம்பந்தப்பட்ட விடயத்தில் இரகசியம் காக்க முற்படுவாராயின் அதற்கான ஏற்பாடுகள் அவசியமாகின்றது. இது அவரின் அடிப்படை உரிமையாகும் ஆனால் நோயாளர்களின் எண்ணிக்கை அதிகரிக்கும் போது இரகசியம் பாதுகாத்தல் என்ற அடிப்படை உரிமையைக் கூடப் பாதுகாக்க முடியாமல் போகும் துர்ப்பாக்கிய நிலை ஏற்படுகின்றது.

## மறுக்கும் உரிமை

நோய்வாய்ப்பட்ட ஒருவர் சிகிச்சை பெற்றுக் கொள்வது எத்துணை உரிமையுடையதோ அதுபோன்று சிகிச்சையை மறுக்கும் உரிமையும் நோயாளர்க்குண்டு என்பது இங்கு நினைவிற்கொள்ளத்தக்கது.

உதாரணமாக சத்திர சிகிச்சையை நிராகரிக்கும் உரிமை நோயாளர்க்குண்டு. அதே நேரம் சிகிச்சை ஒன்றைப் பெற்றுக் கொள்ளும்போது அதனால் ஏற்படக்கூடிய ஆபத்துக்களை-பின் விளைவுகளை அறிந்து கொள்வதற்கான உரிமையும் நோயாளர்க்கு உண்டு என்பதை மருத்துவத்துறையினர் நினைவிற்கு பதித்துக் கொள்வது அவசியமாக அமைகின்றது.



தட்டுப்பாடான மருந்துகளை சங்கம் அனுப்பி வைத்துள்ளதுடன் தொடர்ந்தும் அதனை அமுல்படுத்தும்.

(iii) யாழ்ப்பாணத்திலிருந்து மேலதிக சிகிச்சைக்காகக் கொழும்பு செல்லும் நோயாளர்கள் மொழிப் பிரச்சினையை எதிர்கொள்கின்றனர். இதனால் நோயின் தன்மையை எடுத்துக் கூறுவதிலும்-அதனைப் புரிந்து கொள்வதிலும் சிக்கல்கள் காணப்படுகின்றன.

தமிழ் பேசத் தெரிந்த மருத்துவர்களைக் கடமையில் ஈடுபடுத்தாமையே இதற்கான காரணமாகும். இது விடயத்தில் தமிழ் தெரிந்த மருத்துவர்களை மேலதிகமாக நியமிப்பதில் எமது தாய்ச் சங்கம் நடவடிக்கை எடுத்து வருகின்றது.

(iv) மருத்துவத்துறையில் துறை சார்ந்த வர்கள் சிலர் இலாப நோக்கில் செய்து கொள்ளும் துஷ்பிரயோகங்கள், ஆங்கில மருத்துவம் சாராதவர்கள் ஆங்கில மருந்துகளைச் சிகிச்சைக்காகப் பயன்படுத்துதல், தாமதமே மருந்துகளை வேண்டி உட்கொள்ளாதல், அதற்கு மருந்து விற்பனை நிலையங்கள் உடன் போதல் என்ற விடயங்களும் சங்கத்தினால் கண்காணிக்கப்பட்டு நடவடிக்கை எடுக்கப்படும்.

## சந்திப்பு ஆதித்தன்

சட்ட நடவடிக்கைக்கு உதவி

மருத்துவ சிகிச்சையின்போது சிகிச்சையில ஏற்பட்ட தவறினால் ஒருவர் பாதிக்கப்படுவாராயின் சம்பந்தப்பட்டவர் அது தொடர்பில் தனக்கு நிவாரணம் தேடிக்கொள்ளும் வகையில் நீதிமன்றத்தை நாட முடியும்.

அவ்வாறு நீதிமன்றத்தை நாடும்போது எமது சங்கம் அவர்களுக்கு வேண்டிய சட்ட உதவிகளை வழங்குவதற்குத் தயாராக இருக்கின்றது. அதேநேரம் சம்பந்தப்பட்ட நபருக்கு தவறான சிகிச்சை மூலம் ஏற்பட்ட பாதிப்பை நிவர்த்திக்க மேலதிக சிகிச்சை பெற்றுக் கொள்வதற்கான வசதிகளையும் எமது சங்கம் வழங்கி வருகின்றது.

ஓட்டு மொத்தத்தில் இச் சங்கத்தின் பணி, நோயாளர்களின் உரிமைகளைப் பாதுகாக்க மாணிடத்தின் பெறுமானத்தை வலுப்படுத்துவதாகும்.

# தேசிய இணைப்பாளர் கந்தவேளடன் சந்திப்பு

உரிமை பேணும் கருத்தியலின் உற்பத்திப் பகுதி எனலாம்.

அதாவது மனித உரிமை பேணுவதன் முதலாவது தொடக்கமே நோயாளர் உரிமை பேணுதல் என்ற மூலத்தில் இருந்து தொடங்கப்பட வேண்டும்.

இந்த உயரிய சிந்தனையுடன் நோயாளர் உரிமைகளுக்கான மக்கள் இயக்கம் (People's Movement for the Rights of Patients) PMRP தோற்றம் பெற்றுள்ளது. 2004 ஆம் ஆண்டு கொழும்பில் ஆரம்பிக்கப்பட்ட இவ்வமைப்பானது நோயாளர்களின் உரிமைகள் தொடர்பில் செயலாற்றி வருகின்றது.

‘நோயாளர் உரிமை’ என்பது அந்த அமைப்பின் மகுட வாசகமாக இருப்பினும் அதன் இலக்குகளும் தூர நோக்குகளும் பன்மைத்தன்மை வாய்ந்தவை.

❖ அதன் அடிப்படையில் உடல், உள, சமூக மேம்பாட்டை சுகாதாரப் பணியாளர்களின் வழிகாட்டலில் முன்னெடுத்தல்

❖ தொற்றுத் தன்மை, தொற்றாத தன்மை நோயிலிருந்து விடுபட்டு வாழும் காலத்தை நீடிப்பதுடன் தரமான வாழ்வை ஏற்படுத்துதல் (இதில் தனிமனித கௌரவம் பேணிப் பாதுகாக்கப்பட வேண்டும்) என்பன முதன்மைப் பணியாக அமைகின்றது.

## யாழ்ப்பாணத்தில்

இந்த அமைப்பு யாழ்ப்பாணத்தில் இந்த ஆண்டு (2008) ஆரம்பிக்கப்பட்டுள்ளது அதன் இணைப்பாளராக நான் பணியாற்றி வருகின்றேன்.

தலைவராகப் பேராசிரியர் இரா. சிவச்சந்த

ளின் கௌரவிப்புடன் பேணப்படவேண்டும் என்பதில் எமது அமைப்பு உறுதியாகவுள்ளது.

சமத்துவம், கௌரவம், மரியாதை என்பன நோயாளர்களின் உரிமையில் முக்கியம் பெறுகின்றன. நோயாளர்களின் உரிமை என்ற தொனிப் பொருள் எழுகைபெறும் போது அவை யாருடன் சம்பந்தப்பட்டது, யாரால் தீர்மானிக்கப்படுகின்றதென்றும் கேள்வி எழுகின்றது அங்குதான்.

I. மருத்துவர்

II. நோயாளர்.

ஆசிய இருவர் தொடர்புபடுகின்றனர். நோயாளர் ஒருவர் வைத்தியசாலைக்குச் செல்வதென்பது தனது நோயைக் குணப்படுத்தும் நோக்கிலாகும். எனவே ‘நோய் குணப்படுத்தல்’ என்பதிலிருந்து நோயாளர் உரிமை புத்துருவாகின்றது.

வைத்தியசாலைக்குச் செல்லும் நோயாளர்க்கு அங்கு சத்தமான-பாதுகாப்பான-சௌகரியமான சூழல் ஏற்படுத்திக் கொடுக்கப்பட வேண்டும். யாழ்ப்பாணம் மக்களை பொறுத்தவரை அவர்களின் முதன்மையான வைத்தியசாலையாக யாழ்ப்பாண வைத்தியசாலையே விளங்குகின்றது.

யாழ்ப்பாணம் மாற்றுத் தெரிவுக்குச் சந்தர்ப்பமில்லாத ஒரு வைத்தியசாலையாக யாழ்ப்பாண வைத்தியசாலை இருப்பதால் அங்கு நோயாளர்களின் எண்ணிக்கையும் அதிகமாகவேயுள்ளது.

அதிகரித்த நோயாளர்களின் மத்தியில் நோயாளர்களின் இரகசியத்தன்மை பேண முடியாத சூழலமைவு ஏற்படுகின்றது.

இன்று மஞ்சத்தில் எழுந்தருளும் நல்லூர்க் கந்தனின் அருள் அனைவருக்கும் கிடைப்பதாக!

## கனோசன் செவ்வார்

கே.கே.எஸ். வீதி,

இணுவில்.

அனைத்து வகையான ஆடைகளையும் பாள்சி

பொருட்களையும் பெற்றுக் கொள்ள நாட

வேண்டிய இடம்.

T.P. :- 021 222 5708

(C-1408)

## நல்லூர் முருகப் பெருமானின் மஞ்சத் திருவிழா சிறப்புற வாழ்த்துகின்றோம்

குறைந்த விலைகளில் கணனிகள் மற்றும் கணனி உதிரிப்பாகங்களைப் பெற்றுக் கொள்ள இன்றே நாடுங்கள்.

## PC Park (PVT) LTD

633, K.K.S. Road, Jaffna.

T.P. 021 222 9581

Fax:- 021 222 9581

(C-1407)

















# தரம் - 5 புலமைப்பரிசில்



## பயிற்சி வினாத்தாள்

பகுதி - II

நேரம் 1 மணி 15 நிமிடம்

மு.விக்னேஸ்வரன் (அதிபர்)

உரும்பிராய் சைவத்தமிழ் வித்தி.

### கீழே தரப்பட்டுள்ள பந்தியை வாசித்து 1-15 வரையான வினாக்களுக்கு விடை எழுதுக.

கண்டி மாவட்டத்தில் பேராதனைப் பகுதியில் சமந்த வசித்து வருகிறான். அவனது வீட்டுத் தோட்டத்தில் ஒரு பலா மரம் நின்றது. அதில் ஒவ்வொரு போகத்திலும் அதிக காய்கள் காய்த்தன. அவை மரங்களிலேயே பழுத்தன. வெளவால்கள், அணில்கள் குரங்குகள் எனப் பல பிராணிகள் அம்மரத்தை நாடி வந்தன. பழங்கள் கீழே விழ்ந்து வித்துக்கள் மரத்தின் கீழே பெருந்தொகையில் சிதறிக் காணப்பட்டன. அவை முளைத்தனவாயினும் காலப்போக்கில் நலிவடைந்து மடிந்தன. வெவவால்கள், காகங்கள் கௌவிச் சென்ற சுவைகளின்வித்துக்கள் சுற்றலில் உள்ள பல பிரதேசங்களில் விழுந்து முளைத்து செழிப்பாக வளர்ந்தன. மழை நீருடன் அள்ளிச் செல்லப்பட்ட வித்துக்கள் அருகே இருந்த சதுப்பு நிலத்தை அடைந்தன எனினும் அங்கு எந்த வித்தும் முளைக்கவில்லை.

1. பேராதனை எந்த மாவட்டத்தில் அமைந்துள்ளது?
2. சமந்தவின் பலா மரத்திற்கு வந்து சென்ற பிராணிகள் எவை?
3. பலாமரத்திற்கு எத்தனை மூலையூட்டிகள் வந்து சென்றன?
4. பந்தியில் வருகின்ற சினைப்பெயர் ஒன்று?
5. பலாக்காயின் இளையது?
6. நீர் என்பதன் ஒத்த சொல்?
7. அருகே என்பதன் எதிர்ச்சொல்?
8. மரத்தின் அடியில் முளைத்த கன்றுகள் ஏன் நலிவடைந்தன?
9. சதுப்பு நிலத்தில் ஏன் வித்துக்கள் முளைக்கவில்லை?
10. பந்தியில் வருகின்ற நீர் படிக்கின்ற பாடல்களில் ஒன்று?
11. கையில் ஒட்டிய பலாப்பாலை நீக்க என்ன செய்ய வேண்டும்?

### ஆங்கிலத்தில் எழுதுக.

12. மரங்கள் ..... 13. பலாப்பழம்.....
14. நின்றது என்ற சொல்லின் எதிர்காலம்.....
15. சமந்த தமிழகத்தைப்பான், ஆங்கிலம் வாசிப்பான், விகாரைக்குச் செல்வான் எனின் அவனது மதம்.....
- 16- 17 ஆம் வினாக்களுக்கு படங்களுக்கு பொருந்தமான பழமொழிகளை இடை வெளியில் எழுதுக.



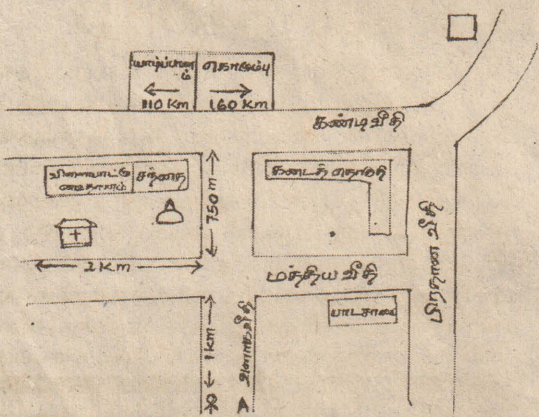
16.



17.

### 18-20 வரையான வினாக்களில் தரப்பட்ட விவரணங்களில் ஒரு கூற்று பிழையானது அதன் கீழ்க் கோடிடுக.

18. மழை பெய்வதற்கு முன்பாக பிராணிகளின் நடத்தைகளில் ஏற்படும் மாற்றம்?
  1. எறும்புகள் கூட்டம் கூட்டமாகச் செல்லும்
  2. ஆன்மயில் தோகை விரித்தாடும்
  3. தூக்கணாங் குருவிகள் வானில் தாழ்ப்பறக்கும்
  4. தவளைகள் கத்தத் தொடங்கும்
19. வீட்டுத்தோட்டம் ஒன்றிலே காணக்கூடியது
  1. சுற்றிவர வேலி அடைக்கப்பட்டிருக்கும்
  2. பல்வகை மரம், செடி, கொடிகள் இருக்கும்
  3. கோழிக்கூடுகள் கட்டப்பட்டிருக்கும்
  4. நீர் பாய்ச்சும் வசதி இருக்கும்
20. வீதியில் நடந்துசெல்லும் பாத சாரிகள் பின்பற்ற வேண்டியது
  1. ஒருவர் பின் ஒருவராக நடந்து செல்ல வேண்டும்.
  2. வீதியின் இடது புறமாக நடந்து செல்லல்
  3. வீதியின் வலது புறமாக நடந்து செல்லல்
  4. பாதசாரிகள் கடவையால் கடத்தல் வேண்டும்.
- 21-30 வரையான வினாக்களுக்கு படத்தை அவதானித்து வினாக்களுக்கு விடை எழுதுக.



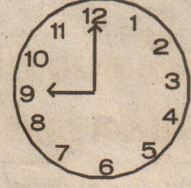


21. நாற்சந்தியில் சந்திக்கும் வீதிகள் எவை?
 

A யிலிருந்து வடக்கு நோக்கிச் சென்ற ராகவன் சந்தியில் வலது பக்கமாக திரும்பி பிரதான வீதியை அடைந்து இடது பக்கமாகத் திரும்பி கண்டி வீதியை அடைந்தான்.
22. வலது பக்கமாக அவன் சென்ற திசை எது?
23. பின் இடது பக்கமாக அவன் சென்ற திசை எது?
24. யாழ்ப்பாணத்திலிருந்து கொழும்புக்கு புறப்பட்ட ஒருவர் எத்தனை கிலோ மீற்றர் தூரம் பயணம் செய்ய வேண்டும்?
25. பாருக் A யிலிருந்து கண்டி வீதிக்கு ஆட்டோவில் வருகின்றான். கூட்டணமாக கிலோமீற்றர் தூரத்திற்கு 60 ரூபா செலுத்த வேண்டும் அவன் செலுத்தவேண்டிய ஆட்டோக்கூட்டணம் எவ்வளவு? சந்தையின் எல்லைகளை எழுதுக?
26. வடக்கு ..... 27. தெற்கு .....

28. கீழ்க்கு ..... 29. மேற்கு .....
30. மேலே உள்ள பாடசாலை கலவன் பாடசாலை ஆகும்.
 

இங்கு கல்வி கற்பவர்கள் யார்? .....

மஞ்சள், சிவப்பு, நீலம் என்ற மூன்று நிறங்களில் மின் குமிழ்கள் எரிந்த வண்ணம் உள்ளன. ஒவ்வொரு நிறத்திலும் மும்மூன்று மின் குமிழ்கள் தொடர்ந்து எரிந்த வண்ணமுள்ளன.
31. 12 ஆவது மின் குமிழின் நிறம்?
32. 14 ஆவது மின் குமிழின் நிறம்?
33. கீழே மூன்று கடினாரங்களில் முற்பகல் நேரங்கள் காட்டப்பட்டுள்ளன. கண்ணாடியில் பார்க்கும் நேரமும் உண்மையான நேரமும் சரியானதாக காட்டும் கடினாரத்தின் கீழ் புள்ளடி இடுக.



34. இவ் உருவின் சுற்றளவைத் தருக.

- 35.

36. ஒரு எண்ணூடன் 5 ஐக்கூட்டி வரும் எண்ணை 3 ஆல் பெருக்கி வரும் விடையிலிருந்து 9 ஐக் கழித்தால் வருவது 30 எனின் அவ் எண் என்ன?
37. சிவரூபன் 30 ரூபாவைக் கொடுத்து 3 மாம்பழங்களையும் 2 விளாம்பழங்களையும் கேட்டான். ஒரு மாம்பழம் 5 ரூபா ஆகும். அவ்வாறு தருவதாயின் வியாபாரி அவனிபம் 5 ரூபா தருமாறு கோட்டான் எனின் ஒரு விளாம்பழத்தின் விலை என்ன?

### கீழே தரப்பட்ட சிங்கள வசனங்களின் தமிழ்க் கருத்தை எழுதுக.

38.
 
 அய்யே, கப்புட்டா களு பாட்டாயி.....
39. நங்கி, கிரவா கொள பாட்டாயி .....

### கீழே தமிழில் தரப்பட்டுள்ள வசனங்களை ஆங்கிலத்தில் எழுதுக.

40. நான் உள்ளே வரலாமா? .....
41. நீ என்ன செய்கிறாய்? .....
42. மாகாணத்தின் முதல்வர் யார்? .....
43. மரக்கலத்தில்; துடுப்பு வலிப்பவர் இருக்கும் இடம்? .....
44. வளி அதிகம் உள்ள மண் .....

### கீழே தரப்பட்டுள்ள படத்தைப்பார்த்து வினாக்களுக்கு விடை எழுதுக.



45. மாட்டின் கழுத்திலேயே வைக்கப்பட்டுள்ளது? .....
46. படத்தில் மாட்டின் எத்தனை கால்கள் தெரிகின்றன? .....
47. இங்கே நடைபெறும் தொழிற்பாடுகள் இரண்டு தருக? .....
48. உழவன் கையிலே வைத்திருப்பது .....
49. மாடுகளின் தொழிலை தற்போது செய்யும் இயந்திரம் .....

### சஞ்சீவன் ஆக்கப்படத்திற்கு செய்த உபகரணம் ஒன்று கீழே தரப்பட்டுள்ளது.




50. இதன் பெயர் என்ன?
 

இதனைச் செய்வதற்கு பயன்படுத்தும் மூன்று பொருட்கள்
51. .... 52. ....
53. ....
- 54-60 வரையான வினாக்களுக்கு தரப்பட்ட நிகழ்வைத் தொடர்ந்து எழுவாய், பயனிலை, செயற்படு பொருளுடன் கூடிய வசனங்களில் எழுதுக.
- அன்று ஒரு நாள் மாலை கடும் மழையில் நனைந்த நான் .....
- .....
- .....

200 மீற்றர் பட்டர்பினை நீச்சலில் சீன வீராங்கனை புதிய சாதனை

(பீஜிங்)

பீஜிங் ஒலிம்பிக்கில் நேற்று நடந்த பெண்களுக்கான 200 மீற்றர் பட்டர்பினை நீச்சல் பிரிவில் சீன வீராங்கனை வியு தங்கம் வென்ற தோடு புதிய உலக சாதனை படைத்தார்.



அவர் பந்தய தூரத்தை 2 நிமிடம் 4.18 விநாடியில் கடந்தார். இதற்கு முன்பு அவுஸ்திரேலிய வீராங்கனை ஜெசிகா 2 நிமிடம் 5.40 விநாடியில் கடந்ததே சாதனையாக இருந்தது.

விநாடியில் கடந்ததே முன்னைய சாதனையாகும். சீனாவுக்கு வெள்ளிப் பதக்கமும் அமெரிக்காவுக்கு வெண்கலப் பதக்கமும் கிடைத்தது.

மற்றொரு சீன வீராங்கனை ஜியோ வியாங் வெள்ளிப் பதக்கமும் அவுஸ்திரேலிய வீராங்கனை ஜெசிகா வெண்கலமும் பெற்றனர். இதேபோல் பெண்களுக்கான 4X200 மீற்றர் பிரிவுஸ்டைல் தொடர் நீச்சலில் அவுஸ்திரேலியா (ரைஸ், பார், பரட், பாஸ்மர்தே, மெகன்சி) 7 நிமிடம் 44.31 விநாடியில் கடந்து புதிய உலக சாதனை படைத்துத் தங்கம் வென்றது.

ஆண்கள் 200 மீற்றர் பேக் ஸ்டிரோக் நீச்சலில் யப்பான் வீரர் கிபா ஜிமா 2 நிமிடம் 07.64 விநாடியில் கடந்து தங்கப்பதக்கம் பெற்று புதிய ஒலிம்பிக் சாதனை படைத்தார்.

அமெரிக்கா 7 நிமிடம் 50.09

யை அவர் முறியடித்தார். அவுஸ்திரேலியா, பிரான்ஸுக்கு முறையே வெள்ளி, வெண்கலப் பதக்கமும் கிடைத்தது.

விறுவிறுப்பான தடகளம் இன்று ஆரம்பம்



(பீஜிங்)

மிகவும் எதிர்பார்க்கப்படும் ஒலிம்பிக் தடகளப் போட்டிகள் இன்று ஆரம்பமாகின்றன. வியு ஜியாங், உசைன் போல்ட், இசின்பீவா உள்ளிட்ட நட்சத்திரப் பட்டாளம் புதிய சாதனை படைக்கக் காத்திருக்கின்றது.

குப் போட்டியாக இருக்கும் சக வீரர் அசாபா பாவெல் காயத்திலிருந்து முழுமையாகக் குணமடைந்துள்ளார்.

இவர்கள் இருவரும் 400 மீற்றர் தொடர் ஓட்டத்திற்கான ஜமெக்கா அணியில் இடம்பெற்றிருப்பதால் தங்கம் நீச்சல் கைப்பற்றலாம். அமெரிக்க வீரர் டைசன் கேயும் 100 மீற்றர் மற்றும் 200 மீற்றர் ஓட்டத்தில் தங்கம் வெல்லும் உறுதியுடன் களயிறங்குகின்றார்கள்.

இடுப்புப் பகுதியில் ஏற்பட்ட காயம் காரணமாக சில மாதங்களாக போட்டிகளில் பங்கேற்காத



வழக்கமாக ஒலிம்பிக் போட்டிகளில் கடைசி புத்து நாட்கள் நடக்கும் தடகளப் போட்டிகள் இன்று ஆரம்பமாகின்றன. ஒலிம்பிக் போட்டிகளில் தடகளம் மிக பிரபலம் என்பதால் ஒவ்வொரு போட்டியிலும் கரும் சவால் காத்திருக்கின்றது.

போதிலும் ஜமெக்கா வீரர்களுக்கும் சவால் தருவார் என நம்பலாம்.

சீனாவின் நம்பிக்கை 110 மீற்றர் தடை தாண்டும் ஓட்டத்தில் சீனாவின் வியு ஜியாங் தங்கம் வெல்லும் வாய்ப்பு அதிகம் இருக்கின்றது.

ஏதென்ஸ் ஒலிம்பிக் தடகளத்தில் மட்டும் அமெரிக்கா 25 பதக்கம் வென்றுள்ளது. கடந்த ஆண்டு ஓசாகாவில் நடந்த உலக சம்பியன் சிப் போட்டியில் அமெரிக்கர்கள் 26 பதக்கம் வென்றனர்.

2004 ஏதென்ஸ் ஒலிம்பிக்கில் கலக்கிய இவா திமுறை சாதனையுடன் வெல்வேன் என்ற சபத்ததுடன் களம் காண்கிறார்.

எதியோப்பியா ஆதிக்கம் நீண்ட தூரப் போட்டிகளான 10 ஆயிரம் மீற்றர் மரதன் போன்ற போட்டிகளில் ஆதிக்கம் செலுத்த எதியோப்பியா மற்றும் கென்ய அணிகள் கடுமையாக மோதக் காத்திருக்கின்றன.

இவர்களுக்கு சொந்த மண்ணில் உள்ளூர் ரசிக்கர்களின் ஆதரவுடன் பங்கேற்கும் சீனர்கள் இடையூறு அளிக்கலாம்.

இவர்களைத் தவிர்த்துப் பதக்கம் கைப்பற்ற ரஷ்யா, பிரான்ஸ், ஜேர்மனி வீரர், வீராங்கனைகளும் கரும் பயிற்சி மேற்கொண்டு வருகின்றனர்.

பாலா

பெண்களுக்கான 10 ஆயிரம் மீற்றர் ஓட்டத்தில் எதியோப்பியாவின் டிரனெஷ் திபாபா சாதிக்கத் தயாராக வருகின்றார். கடந்த முறை 5 ஆயிரம் மீற்றர் ஓட்டத்தில் வெண்கலம் வென்ற இவர், அதன் பின்னர் நடந்த மூன்று உலக சம்பியன் சிப் போட்டிகளில் முதலிடம் பிடித்துள்ளார்.

போல்ட் ரெடி உலகின் அதிக வேக வீரர் யார் என்பதை முடிவு செய்யும் 100 மீற்றர் தடகளத்தில் இன்று தகுதிச்சுற்றுப் போட்டிகள் நடக்கின்றன. இதில் தங்கம் வெல்லும் முன்னிலைப் போட்டி நிலவுகின்றது.

என்றாலும் அனைவரின் எதிர்பார்ப்பும் சமீபத்தில் 9.72 விநாடிகளில் கடந்து உலக சாதனை படைத்த ஜமெக்காவின் உசைன் போல்ட் மீதுதான் உள்ளது.

200 மீற்றர் ஓட்டத்திலும் இவர் பங்கேற்பதால் மற்றவர்களுக்கு வாய்ப்புக் குறைவுதான். இவருக்கு

யை அவர் முறியடித்தார். அவுஸ்திரேலியா, பிரான்ஸுக்கு முறையே வெள்ளி, வெண்கலப் பதக்கமும் கிடைத்தது.

100 மீற்றர் பிரிஸ்டைல் பிரிவில் பிரான்ஸ் வீரர் பெர்னார் 47.21 விநாடியில் கடந்து தங்கம் வென்றார். சுவீடன் (அவுஸ்திரேலியா வெள்ளியும் லெசாக் (அமெரிக்கா வெண்கலப் பதக்கமும் பெற்றனர்.

சீன வீரர்கள் ஆதிக்கம்

(பீஜிங்)

பீஜிங் ஒலிம்பிக் பட்டமின்டன் போட்டிகளில் சீன வீரர்கள் ஆதிக்கம் அதிகமாகவுள்ளது. நேற்று நடந்த ஆண்களுக்கான காலிறுதிப் போட்டி ஒன்றில் சீன வீரர் ஜின் சென் தைபேயின் யு ஹிசிங்கை 21-8, 21-14 என்ற நேர் செட்களில் தோற்கடித்து அரையிறுதிக்குத் தகுதி பெற்றார்.

மழையால் ஒலிம்பிக் போட்டிகள் கரும் பாதிப்பு

(பீஜிங்)

சீன தலைநகர் பீஜிங்கில் ஒலிம்பிக் போட்டிகள் நடந்து வருகின்றன. நேற்றைய போட்டிகள் பெரும்பாலும் மழையால் கடுமையாகத் தடைப்பட்டுள்ளன. டெனிஸில் ஆண்கள் மற்றும் பெண்கள் ஒற்றையர் மற்றும் டிரட்டையர் காலிறுதி ஆட்டங்கள் நேற்று நடக்க இருந்தது.

திடீரென பெய்த மழை காரணமாகத் தடைப்பட்டன. இதேபோல் சொப்ட் போல், பேஸ் போல் போட்டிகளும் தடைப்பட்டுள்ளன. ஜேர்மனி, கிரீஸ் அணிகள் இடையிலான பெண்கள் பீச் பொலிபோல் போட்டிகள் கடுமையான மழையிலும் தொடர்ந்து நடந்தது.

வில்வித்தையில் சீன மங்கை தங்கம் வென்றார்

(பீஜிங்)

பீஜிங் ஒலிம்பிக் பெண்கள் தனிநபர் வில்வித்தைப் போட்டியில் சீன வீராங்கனை ஜுவான் சாங் தங்கம் வென்றார். கொரிய வீராங்கனைகள் சங்ஹியுன் பாக் வெள்ளியும் ஒக் ஹியுன் வெண்கலமும் பெற்றனர்.

யப்பான் வீரருக்கு தங்கம்

(பீஜிங்)

ஆண்களுக்கான 200 மீற்றர் பிரெஸ்ட் ஸ்டிரோக் நீச்சல் போட்டிகளில் யப்பான் வீரர் சிதாஜிமா கொசு கே தங்கப்பதக்கம் வென்றுள்ளார். இந்தப் பிரிவில் அரையிறுதியில் ஒலிம்பிக் சாதனை படைத்து இறுதி போட்டிக்கு முன்னேறிய அவர் மீண்டும் ஒரு ஒலிம்பிக் சாதனை படைத்து முதலிடத்தைப் பிடித்தார்.

இந்தப் பிரிவில் அவுஸ்திரேலிய வீரர் பிரெண்டன் ரிக்கர் வெள்ளிப் பதக்கத்தையும் பிரான்ஸ் வீரர் பேயுஸ்க் வெண்கலப் பதக்கத்தையும் வென்றனர். யப்பான் வீரர் சிதாஜிமா 100 மீற்றர் பிரெஸ்ட் ஸ்டிரோக் பிரிவில் உலக சாதனையோடு தங்கப்பதக்கம் வென்றமை குறிப்பிடத்தக்கது.

பதக்கப் பட்டியல்

Table with 5 columns: நாடு, தங்கம், வெள்ளி, வெண்கலம், மொத்தம். Lists medal counts for various countries like சீனா, அமெரிக்கா, ஜேர்மனி, etc.

ஒலிம்பிக் ஆரம்ப விழாவில் முக அழகிற்காக சிறுமியை மாற்றியது அம்பலமானது



வாஸை அசைத்து ஆடிய சிறுமி பாயி சிறுமி

(பீஜிங்) பீஜிங் ஒலிம்பிக் ஆரம்ப விழாவைப் பார்த்து உலகமே அசந்து போனது. அந்த அளவுக்கு பிரமாண்டமாகவும் கோலாகலமாகவும் சீனா நடத்தியது.

ஆரம்ப விழாவில் 9 வயதான லின் மியோக் என்ற சிறுமி, சீனாவின் பிரபலமான புரட்சிகரமான பாடலைப் படுவதுபோல்காட்டினாள். அந்த இனிமையான குரல் எல்லோர் மனத்திலும் ரம்மியமாக ஒலித்ததை உணர முடிந்தது. இந்த நிலையில் அந்தப் பாடலை லின் மியோக் பாடவில்லை. அவர் வெறும் வாயை மட்டுமே அசைத்துள்ளார் என்பது தெரியவந்துள்ளது.

