



வலம்புரி



பக்கங்கள்: பதினெட்டு

Valampuri

சங்கு 11 வள்ளுவர் ஆண்டு 2041 ஆனி 25 வெள்ளிக்கிழமை (09.07.2010) தொலைபேசி 222 3378, 222 7829 ஒலி 202

ஜ.நா. சபை அலுவலகம் மூடல்!

வதிவிடப் பிரதிநிதி மீள அழைப்பு

ஜ.நா. செயலாளர் நடவடிக்கை

(கொழும்பு)

கொழும்பிலுள்ள ஜ.நா. அபிவிருத்தி முகவரகத்தின் (யு.என்.டி.பி.) பிராந்திய அலுவலகத்தை மூடுவதற்கு ஜ.நா. செயலாளர் நாயகம் பான் கீ மூன் தீர்மானித்துள்ளார். அத்துடன் ஜ.நா.வின் இலங்கைக்கான வதிவிடப் பிரதிநிதி நீல் பூனேவையும் ஆலோசனைகளுக்காக நியுயோர்க்கிற்கு அவர் திருப்பி அழைத்துள்ளார். நியுயோர்க்கிலுள்ள ஜ.நா. பேச்சாளர் நேற்றிரவு இத்தகவலை வெளியிட்டுள்ளார். (18ஆம் பக்கம் பார்க்க)

இலங்கை கிறித்தியத்தின் போது அதிகளவு மக்கள் கொல்லப்பட்டனர்

நவநீதம்பிள்ளை உறுதியளிப்பு

(கொழும்பு)

இலங்கையில் இடம்பெற்ற யுத்தத்தின் போது அதிகளவு பொதுமக்கள் கொல்லப்பட்டுள்ளதாக ஐக்கிய நாடுகள் மனித உரிமைகள் ஆணையாளர் நவநீதம்பிள்ளை தெரிவித்துள்ளார்.

யுத்தத்தின்போது பொதுமக்கள் பாதுகாக்கப்பட வேண்டியதன் அவசியம் குறித்து ஐக்கிய நாடுகள் பாதுகாப்பு பேரவையில் நடைபெற்ற விவாதத்தின் போது அவர் இதனைக் குறிப்பிட்டுள்ளார்.

யுத்தத்தின்போது அரசு படையினரும், தமிழீழ விடுதலைப்புலிகளும் ஏற்றுக்கொள்ள முடியாத அளவு பொதுமக்கள் மீது தாக்குதல் நடத்தியுள்ளனர்.

யுத்தத்தின்போது பொதுமக்கள் இழப்புகளை ஏற்றுக்கொள்ள முடியாது. எவ்வாறெனினும் யுத்தத்தின் பின்னர் (18ஆம் பக்கம் பார்க்க)

அமைச்சர் விமல் வீரவன்சு சாகும்வரை உண்ணாவிரதம்

நேற்று மாலை ஆரம்பித்தார்

(கொழும்பு)

தேசிய சுதந்திர முன்னணியின் தலைவரும், இலங்கை நகர அபிவிருத்தி மற்றும் வீடமைப்புத்துறை அமைச்சருமான விமல் வீரவன்சு சாகும் வரையிலான உணவுத் தவிர்ப்பு போராட்டத்தை ஆரம்பித்துள்ளார்

என தெரியவந்துள்ளது.

ஐக்கிய நாடுகள் சபையின் செயலாளர் பான் கீ மூன் இலங்கையின் போர்குற்றம் தொடர்பில் அமைத்துள்ள நிபுணர் குழுவை கலைக்குமாறு கோரி கொழும்பில் உள்ள ஐக்கிய நாடுகளின் (18ஆம் பக்கம் பார்க்க)

இந்தியத் தலைவர்களுடன் தமிழ் தேசிய கூட்டமைப்பு பேச்சு

(புதுடில்லி)

இந்தியாவிற்கு விஜயம் மேற்கொண்டுள்ள தமிழ்த் தேசியக் கூட்டமைப்பினர் இந்தியப் பிரதமர் மன்மோகன் சிங் உட்பட உயர்மட்டப் பிரதிநிதிகளைச் சந்தித்து பேச்சுவார்த்தை நடத்தியுள்ளனர்.

தமிழ்தேசியக் கூட்டமைப்பின் தலைவர் இரா.சம்பந்தன் தலைமையிலான குழுவின்மேல் இந்தியத் தலைவர்களைச் சந்தித்து பேச்சு

வார்த்தை நடத்தியுள்ளனர்.

பிரதமர் மன்மோகன் சிங், வெளிவிவகார அமைச்சர் கிருஷ்ணா, பாதுகாப்பு ஆலோசகர் சிவசங்கர் மேனன் ஆகியோரை சந்தித்து இவர்கள் பேச்சுவார்த்தை நடத்தியுள்ளனர்.

இச் சந்திப்புக் குறித்து கருத்து வெளியிடக் கூட்டமைப்பின் தலைவர் இரா.சம்பந்தன், தமிழ் மக்களின் பிரச்சினைக்கு உடனடியாக ஒரு அரசியல் தீர்வு (18ஆம் பக்கம் பார்க்க)

பொன்சேகாவுக்கு பதிலாக விஜித ஹேரத்

(கென்யா)

கென்யாவில் நடைபெறவுள்ள பொது நலவாய் நாடாளுமன்றச் சங்கத்தின் மாநாட்டில் ஜனநாயக தேசிய முன்னணியின் தலைவர் ஜெனரல் சரத் பொன்சேகாவுக்கு பதிலாக கம்பஹா மாவட்ட நாடாளுமன்ற உறுப்பினர் விஜித ஹேரத் பங்குபற்றுவார் என அறிவிக்கப்பட்டுள்ளது.

ஜெனரல் சரத் பொன்சேகா இம் மாநாட்டில் பங்குபற்றுவதற்கு அரசாங்கம் அனுமதி வழங்காதுள்ளதன் காரணமாக இத்தீர்மானம் மேற்கொள்ளப்பட்டுள்ளதாக ஜ.தே.மு. நாடாளுமன்ற உறுப்பினர் அநுரகுமார திஸாநாயக்க தெரிவித்தார். (ச-5)

ஜனாதிபதியின் கதைவசனத்தில் பொலிஸ் மற்றும் மக்கள் நடிப்பு

கிண்டலடிக்கிறார் அனூரகுமார திஸாநாயக்க

(கொழும்பு)

ஜனாதிபதியினால் கதை எழுதப்பட்டு பொலிஸார் மற்றும் மக்களின் நடிப்பு உதவியுடன் மேடையேற்றப்பட்ட நாடகத்தின் பிரதான நகைசுவை நடிகர் பாத்திரத்தை விமல் வீரவன்சு ஏற்று நடித்து வருவதாக ஜனநாயக தேசியக் கூட்டணியின் நாடாளுமன்ற உறுப்பினர் அனூரகுமார திஸாநாயக்க தெரிவித்துள்ளார்.

இதனைக் குறிப்பிட்டுள்ளார்.

ஜனநாயக நாட்டில் எதிர்ப்பு நடவடிக்கைகளில் ஈடுபடும் உரிமையை ஏற்றுக்கொள்வதாகவும் எனினும் இது மிகவும் வேடிக்கையான எதிர்ப்பு தவிர உண்மையான எதிர்ப்பு நடவடிக்கை அல்ல என்பதால் அதனை முற்றாக நிராகரிப்ப (18ஆம் பக்கம் பார்க்க)

இதனைக் குறிப்பிட்டுள்ளார்.

ஜனநாயக நாட்டில் எதிர்ப்பு நடவடிக்கைகளில் ஈடுபடும் உரிமையை ஏற்றுக்கொள்வதாகவும் எனினும் இது மிகவும் வேடிக்கையான எதிர்ப்பு தவிர உண்மையான எதிர்ப்பு நடவடிக்கை அல்ல என்பதால் அதனை முற்றாக நிராகரிப்ப (18ஆம் பக்கம் பார்க்க)

விமல் வீரவன்சு போராட்டம்; இந்திய அரசாங்கம் மௌனம்!

வை.கோபாலசாமி கவலை

(சென்னை)

ஐக்கிய நாடுகள் சபைக்கு எதிராக அமைச்சர் விமல் வீரவன்சு மேற்கொண்டு வருகின்ற போராட்டத்திற்கு எதிராக இந்தியா மௌனம் காத்து வருகின்றமையே இட்டு மறுமலர்ச்சி தீர்மானம் முன்னேற்றக் கழகத்தின் பொதுச் செயலாளர் வை.கோபாலசாமி அதிருப்தி வெளியிட்டுள்ளார்.

இது தொடர்பில் அவர் வெளியிட்டுள்ள அறிக்கை ஒன்றிலேயே மேற்கண்டவாறு குறிப்பிட்டுள்ளார். இந்த ஆர்ப்பாட்டத்துக்கு எதிராக பல நாடுகள் தமது எதிர்ப்பை அல்லது நிலைப்பாட்டை வெளிப்படுத்தியுள்ள போதும் இந்தியா தொடர்ந்தும் (02ஆம் பக்கம் பார்க்க)

தமிழரின் அறவழிப் போராட்டத்தை விமல் வீரவன்சு வலியுறுத்துகிறார்


மனோ கணேசன் தெர்வீப்பு

(கொழும்பு)

தேசிய அரசியல் உரிமைகளையும், உயிர் வாழும் உரிமையையும் வேண்டி நிற்கும் தமிழ் மக்கள் செய்யவேண்டியதை ஆளுகின்ற அரசாங்கத்தின் அமைச்சர் ஒருவர் செய்வது விந்தையானது.

உரிமைகள் பறிக்கப்பட்ட நிலையில் வாழும்

தமிழ் மக்கள் அறவழி சாத்வீக போராட்டங்களை மீண்டும் ஆரம்பித்த வேண்டும் என்பதையே அமைச்சர் விமல் வீரவன்சுவின் சாகும்வரையிலான உண்ணா விரத போராட்டம் வலியுறுத்துகின்றது என ஜனநாயகமக்கள் முன்னணியின் தலைவர் மனோ கணேசன் தெரிவித்துள்ளார். (18ஆம் பக்கம் பார்க்க)



யா/அனுவெட்டி அருணாசலம் வித்தியாலயத்தின் நூற்றாண்டு விழாவும், அருணாசலம் மலர் வெளியீட்டு நிகழ்வும் அண்மையில் நடைபெற்றது. இதில் பிரதம விருந்தினராகக் கலந்துகொண்ட யாழ்ப்பாணம் பல்கலைக்கழக துணைவேந்தர் பேராசிரியர் நா.சண்முகலிங்கன், உரையாற்றுவதையும் மேடையில் யாழ்ப்பாண பல்கலைக்கழக சட்டத்துறை தலைவர் பேராசிரியர் மா.சி.என்.தம்பி, தென்னிந்திய திருச்சபை குருமுதல்வர் ம.யூ.சுதர்சன் மற்றும் அதிபர் கு.ஜெகநாதன் ஆகியோர் அமர்ந்திருப்பதையும், வலிகாம வலய கல்விப் பணிப்பாளர் ப.வி.கே.ஸ்ரீவரன் வாழ்த்துரை வழங்குவதையும், கோப்பாய் ஆசிரிய சலாசாலை விரிவுரையாளர் சுவாமிநிதி செ.திருநாவுக்கரசு மலர் ஆய்வினை நிகழ்த்துவதையும் துணைவேந்தரால் வெளியிடப்படும் நூலை தெல்லிப்பளை கோட்டக்கல்வி பணிப்பாளரும் இப்பாடசாலையின் அதிபருமாகிய ச. கைலாசநாதன் பெற்றுக்கொள்வதையும் படங்களில் காணலாம்.

புனர் வாழ்வு நடமாடும் சேவை

(யாழ்ப்பாணம்)

புனர்வாழ்வு மற்றும் சிறைச்சாலைகள் மறு சீரமைப்பு அமைச்சில் இருந்து கௌரவ அமைச்சர் பிரதி அமைச்சர் மற்றும் அமைச்சுடன் தொடர்புடைய உத்தியோகத்தர்கள் யாழ்ப்பாணம் மாவட்டத்திற்கு நாளை சனிக்கிழமை கார்மேல் அன்னை ஆலயத்திருவிழா

(குருநகர்)

குருநகர் கார்மேல் அன்னை ஆலயத்திருவிழா இன்று வெள்ளிக்கிழமை மாலை 4.30 மணிக்கு பாங்குத்தந்தை ஆர்.ஏ.ச. சகாயநாயகத்தினால் ஆலயக் கொடி ஏற்றி வைக்கப்பட உள்ளது.

இதில் நவநாள் தொடர்ந்து 7 நாட்கள் தினமும் மாலை 5.30 மணிக்கு ஆரம்பமாகி நடைபெற்று எதிர்வரும் 16ஆம் திகதி காலை 6.30 மணிக்கு திருநாள் திருப்பலி ஒப்புக் கொடுக்கப்பட்டுள்ளதுடன் மாலை 5 மணிக்கு திருச்செபமாலையும் திருச்சுருப் பவனியும் ஆசீர்வாதமும் இடம்பெறவுள்ளது. (4-39)

மகாகும்பாபிஷேகம்

(யாழ்ப்பாணம்)

பூநகரி வேரவில் திருவருள் மிகு வெள்ளிப்பள்ளத்து வீரகத்திப் பிள்ளையார் தேவஸ் தான மகாகும்பாபிஷேகம் எதிர்வரும் 16 ஆம் திகதி வெள்ளிக்கிழமை நடைபெறவுள்ளது.

இந்நிகழ்வில் எதிர்வரும் 14 ஆம் திகதி புதன்கிழமை காலை 6.30 மணிக்கு ஆரம்பப் பூஜைகள் நடைபெற்று மறுநாள் வியாழக் கிழமை காலை 7 மணிக்கு விசேட பூஜைகள் இடம்பெற்று காலை 9 மணி முதல் மாலை 5 மணி வரை பக்கத்தர்கள் எண்ணெய்க் காப்பு நிகழ்வும் இடம்பெறவுள்ளது. (6-4)

புல்லாங்குழல்

இன்னிசைக்கச்சேரி

(யாழ்ப்பாணம்)

நல்லூர் திருஞான சம்பந்த ஆதீன குரு மூர்த்தி ஆலய மண்டபத்தில் இன்று வெள்ளிக்கிழமை பிற்பகல் 5.00 மணி முதல் நல்லை ஆதீன குரு மகாசந்தானம் ஸ்ரீல ஸ்ரீ சோமசுந்தர ஞானசம்பந்தர் பரமசாரிய சுவாமிகளின் அருள் ஆசியுடையுடன் நோய்வே சகோதரிகளான செல்வி மீரா திருச்செல்வம், செல்வி தீபா திருச்செல்வம் ஆகியோரின் புல்லாங்குழல் இன்னிசைக் கச்சேரி நடைபெற உள்ளது. (6-4)

அலங்கார உற்சவம்

(யாழ்ப்பாணம்)

யாழ்ப்பாணம் கோட்டை ஸ்ரீ முனிஸ்வரன் தேவஸ் தான மணவாளக் கோல அலங்கார உற்சவம் எதிர்வரும் 12ஆம் திகதி திங்கட்கிழமை காலை 9 மணிக்கு சங்காபிஷேகத்துடன் ஆரம்பமாகி தொடர்ந்து 25 நாட்கள் திருவிழா நடைபெறவுள்ளது.

இவ் உற்சவத்தில் தினமும் மாலை 3 மணிக்கு ஸ்ரீமதி அபிஷேகமும் மாலை 4.30 மணிக்கு வசந்த மண்டப பூசையும் நடைபெறவுள்ளது.

எதிர்வரும் ஓகஸ்ட் மாதம் 5ஆம் திகதி காலை 9 மணிக்கு சங்காபிஷேகமும் இரத பவனியும் நடைபெறவுள்ளது. (6-4)

வருகை தரவுள்ளதுடன் அன்றைய தினம் புனர்வாழ்வு நடமாடும் சேவையினையும் நடத்தவுள்ளனர்.

இந் நடமாடும் சேவை காலை 9.30 மணிக்கு தெல்லிப்பழை புனர்வாழ்வு நிலையத்தில் நடைபெறவுள்ளதுடன் இதில் ஆட்களையும் ஆதனங்களையும் கைத்தொழில் களையும் புனர்மைப்புச் செய்யும் அதிகார சபையின் உத்தியோகத்தர்களும் வருகை தரவுள்ளதாக குறிப்பிடப்படுகிறது.

ஆகவே வன்செயல் இழப்புக்களினால் பாதிக்கப்பட்டவர்களும் இந் நடமாடும் சேவையில் பங்குகொண்டு தங்களது பிரச்சினைகளுக்கான தீர்வினை பெற்றுக்கொள்ளக் கூடிய சந்தர்ப்பத்தினை பயன்படுத்திக் கொள்ளுமாறு யாழ்ப்பாணம் மாவட்ட அரசாங்க அதிபர் க.கே.வேலு அறிவித்துள்ளார். (6-4)

கரிப்பூரத் திருவிழா

(பருத்தித்துறை)

அல்வாய் வேலி லந்தை ஸ்ரீ முத்துமாரி அம்மன் ஆலய வருடாந்த உற்சவத்தின் 5ஆம் நாள் உற்சவமான கரிப்பூரத்திருவிழா எதிர்வரும் 15ஆம் திகதி நடைபெறவுள்ளது.

வருடா வருட நிகழ்வுகள் போல இவ்வருடமும் பல நூற்றுக்கணக்கான பக்தர்கள் கலந்துகொண்டு சிறப்பிக்கவுள்ளனர். அன்றைய திருவிழா நிகழ்வின் போது பக்தி பூர்வமான பல்வேறு நிகழ்வுகளும் நடைபெறவுள்ளது. (6-10)

வடமராட்சி லயன்ஸ்

கழகத்தின் சேவைகள்

(பருத்தித்துறை)

வடமராட்சி லயன்ஸ் கழகம் பார்வை இழந்தவர்களுக்கு மூக்குக் கண்ணாடியும் கால் இழந்தவர்களுக்கு இரு சக்கர தள்ளு வண்டிகளையும் இலவசமாக வழங்கியுள்ளனர்.

கடந்த 4ஆம் திகதி நல்லியடி முருகன் ஆலய திருமண மண்டபத்தில் நடைபெற்ற லயன்ஸ் கழக உறுப்பினருக்கான முக்கிய நிகழ்வு ஒன்றின் போது மூக்குக் கண்ணாடியும் இரு சக்கர தள்ளுவண்டியும் இவர்களுக்கு வழங்கப்பட்டது.

இந்நிகழ்வில் இரண்டாவது துணை மாவட்ட ஆளுநர் லயன்ஸ் எஸ்.எஸ். தங்கராஜா பிரதம விருந்தினராக கலந்துகொண்டு சிறப்பித்தார். அன்றைய தினம் 8 பேர் புதிய லயன்ஸ் உறுப்பினர்களாக இணைந்து கொண்டமையும் குறிப்பிடத்தக்கது. (6-10)

குப்பைகள் கொட்டப்படுவதால்

வீதியால் செல்லமுடியாத நிலைமை

(யாழ்ப்பாணம்)

யாழ்ப்பாணம் இந்து ஆரம்ப பாடசாலைக்கு அருகாமையிலுள்ள சிவகுருநாதன் ஒழுங்கையில் கோழிகளின் கழிவுகள் மற்றும் குப்பைகள் கொட்டப்படுவதால் அவ் ஒழுங்கையூடாக பயணஞ்செய்யும் மாணவர்கள் மற்றும் பொதுமக்கள் பெரும் சிரமங்களை எதிர்நோக்குவதாக குறிப்பிடப்படுகிறது.

கிராமசேவகர் அலுவலகங்களில் வாக்காளர் மீள்பதிவுகள்

(கொழும்புத்துறை)

வாக்காளர் மீள் பதிவு VC 12 படவங்கள் கொழும்புத்துறை பகுதிகளுக்கு கிராமசேவகரால் வழங்கப்பட்டு வருகிறது.

வாக்காளர் இடப்பில் உள்ள பெயர்களை சேர்த்துக் கொள்ளும் முகமாக, படவம் கிடைக்காதவர்கள் கிராம சேவகர் உடாக ஜீலை 31 ஆம் திகதிக்கு முன்னர் படவங்களை பூர்த்தி செய்து, கிராமசேவகரிடம் கையளித்து அதற்கான பற்றுச் சீட்டைப் பெற்றுக்கொள்ளுமாறும், தவறுவேரின் பெயர்கள் பெயர் பட்டியலில் இருந்து நீக்கப்படுவதுடன் வழங்கப்படும் நன்மைகளும் இழக்க வேண்டி வருமென தேர்தல் தொடர்பான அமைப்புகள் சுட்டிக்காட்டுகின்றது.

அத்துடன் கடந்த வருடங்களில் வாக்காளர் இடப்பில் பதிவு செய்திருந்தாலும் இம்முறை கட்டாயமாக வாக்காளர்கள் மீள் பதிவு செய்ய வேண்டுமென்பது குறிப்பிடத்தக்கது. (6-5)

முறை கட்டாயமாக வாக்காளர்கள் மீள் பதிவு செய்ய வேண்டுமென்பது குறிப்பிடத்தக்கது. (6-5)

பரிசளிப்பு விழா

(அல்வாய்)

பருத்தித்துறை ஹாட்லிக்கல்லூரியின் வருடாந்த பரிசளிப்பு விழா நாளை சனிக்கிழமை காலை 8 மணிக்கு கல்லூரியின் கிறிஸ்தவ மண்டபத்தில் கல்லூரி அதிபர் ந.தெய்வேந்திரராஜா தலைமையில் நடைபெறவுள்ளது.

இந்நிகழ்வில் பிரதம விருந்தினராக யாழ்ப்பாணம் மேலதிக மாகாணக்கல்விப் பணிமனையின் பாடசாலை வேலைப்பகுதி பொறியியலாளர் கு.சிவபாலன் கலந்து சிறப்பிப்பதுடன் மாணவர்களுக்கான பரிசில்களை திருமதி வசந்தி மாலா சிவபாலன் வழங்கி கௌரவிக்கவுள்ளார். (4-19)

வருடாந்த

நவநாள் வழிபாடுகள்

(கொழும்புத்துறை)

நல்லூர் ஆசீர்வாதப்பர் ஆலய வருடாந்த நவநாள் வழிபாடுகள் கடந்த 2ஆம் திகதி கொடியேற்றத்துடன் ஆரம்பமாகி நடைபெற்று வருகிறது.

நாளை பிற்பகல் 5 மணிக்கு நற்கருணை திருவிழாவும் மறுநாள் ஞாயிற்றுக்கிழமை காலை 6.15 மணிக்கு செபமாலையுடன் திருவிழா திருப்பலி ஆரம்பமாகுமென மேற்படி ஆலயப் பாங்குத்தந்தை அறிவித்துள்ளார். (6-5)

சப்பறத் திருவிழா

(சாவகச்சேரி)

சாவகச்சேரி சங்கத்தானை கந்தசுவாமி வைரவ சுவாமி ஆலய சப்பறத்திருவிழா இன்று மாலை 7 மணிக்கு விசேட தவில் கச்சேரியுடன் நடைபெறவுள்ளது.

இதில் தென் இந்தியாவில் இருந்து வருகை தந்துள்ள தவில் வித்துவான் கே. ஜி. கல்யாண சுந்தரம் மற்றும் சித்தார்த்தன் பி. எஸ்.பாலமுருகன் குழுவினரின் விசேட நாதஸ்வர கச்சேரியும் இடம்பெறவுள்ளது. (6-29)

ஆசிரிய ஆலோசகர் வெற்றிடம் நீர்ப்புதல்

(யாழ்ப்பாணம்)

தீவகக் கல்வி வலயத்தில் ஆரம்பக் கல்வி, தமிழ், சமூகக்கல்வி வரலாறு, சித்திரம், நடனம், கிறிஸ்தவம், இந்து சமயம், வர்த்தகம், இரண்டாம் மொழி - சிங்களம், முறைசாராக் கல்வி, உடற்கல்வி, விசேட கல்வி ஆகிய பாடங்களுக்கான ஆசிரிய ஆலோசகர் பதவி வெற்றிடங்கள் உள்ளன.

இப்பதவிக்கு விண்ணப்பிக்க விரும்பும் இலங்கை ஆசிரிய சேவை I, II இனைச் சேர்ந்த யாழ்ப்பாணம் மாவட்ட ஆசிரியர்கள் இதற்கான விண்ணப்பங்களை எதிர்வரும் 13ஆம் திகதிக்கு முன்னர் மேலதிக மாகாணக்கல்விப்பணிமனைக்கு அனுப்பி வைக்குமாறு மேலதிக மாகாணக் கல்விப்பணிப்பாளர் வே. தி.செல்வரத்தினம் கேட்டுள்ளார். (6-4)



யாழ்ப்பாணம் செய்திகள்

கிளிநொச்சி, முல்லைத்தீவு மாவட்டங்களில் வாக்காளர்களை பதிவு செய்யும் நடவடிக்கை

உதவித் தேர்தல் ஆணையாளர் தகவல்

(கிளிநொச்சி)

வடகுதியின் கிளிநொச்சி, முல்லைத்தீவு மாவட்டங்களில் வாக்காளர் பதிவு நடவடிக்கைகள் தொடர்ந்து முன்னெடுக்கப்படுகின்றன.

வாக்காளர்களைப் பதிவு செய்வதற்கான படிவங்கள் அந்தந்த மாவட்ட பிரதேச செயலகங்களால் கிராம உத்தியோகத்தர்கள் உடாக வீட்டுக்கு வீடு விநியோகிக்கப்பட்டு தகவல்கள் சேகரிக்கப்படுவதாக கிளிநொச்சி மற்றும் முல்லைத்தீவு மாவட்டங்களுக்கான உதவித் தேர்தல் ஆணையாளர் ஏ.எஸ்.கருணாநிதி தெரிவித்துள்ளார்.

இது தொடர்பாக அவர் மேலும் தெரிவிக்கையில்,

கிளிநொச்சி, முல்லைத்தீவு ஆகிய மாவட்டங்களில் ஏற்பட்ட அசாதாரணமான நிலைமை காரணமாக இப்பகுதியில் வாக்காளர் பதிவு நடைபெறவில்லை. தற்போது வீடுகளுக்கு படிவங்கள் வழங்கப்பட்டு வாக்காளர்களைப் பதிவு எடுக்கும் நடைமுறை நடைபெறுகிறது.

இந்நடவடிக்கைகள் ஏனைய மாவட்டங்களில் வழங்கப்பட்ட காலப்பகுதிக்குள் இங்கு நடைபெறமாட்டாது.

இவ்வாறு ஆரம்பத்தில் இருந்து இந்நடவடிக்கை அமுல்படுத்தப்படுகிறது. இதனை மேற்கொள்வதற்காக கிளிநொச்சி கச்சேரியில் தேர்தல் அலுவலகம் திறக்கப்பட்டுள்ளது.

கிளிநொச்சி மாவட்டத்தில் உள்ள 4 பிரதேச செயலாளர் பிரிவுகளில் கடமையாற்றும் கிராமசேவையாளர்களுக்கு இது தொடர்பான பயிற்சி வகுப்புகள் மேற்கொள்ளப்பட்டு வாக்காளர் பதிவுப் படிவங்கள் வழங்கப்பட்டுள்ளது.

இதேபோல் முல்லைத்தீவு மாவட்டத்தில் பிரதேச செயலாளர் பிரிவுகள் இருந்த போதும் புதுக்குடியிருப்பு பிரதேச செயலாளர் பிரிவில் மீளக் குடியேற்றம் இன்னும் நடை

பெறாதபடியால், ஏனைய 4 பிரதேச செயலாளர் பிரிவுகளில் உள்ள கிராமசேவையாளர்களுக்கு பயிற்சி வகுப்புகள் மேற்கொள்ளப்பட்டு, வாக்காளர் பதிவுப் படிவங்களும் வழங்கப்பட்டுள்ளது.

ஏனைய மாவட்டங்களில் பூலை 31ஆம் திகதியுடன் முடிவடையும் வாக்காளர் பதிவானது கிளிநொச்சி, முல்லைத்தீவு மாவட்டங்களில் மீளக் குடியமர்வுகளைப் பதிவுதற்கு வசதியாக மேலும் 2 மாதங்களுக்கு காலநீடிப்பு வழங்குவதற்கு நடவடிக்கைகள் எம்மால் வழங்கப்பட்டுள்ளது.

இக்கால முடிவில் கிராம சேவையாளரிடம் இருந்து பதிவு செய்யப்பட்ட படிவங்கள் மீள்பெறப்படுவதுடன், இக்கால முடிவின் பின்பு மீளக் குடியமர்வு நடைபெறாத பிரிவுகள் தொடர்பாகவும் மீளக் குடியமர்த்தப்படாத தற்போது முகாம்களில் தொடர்ந்து வசிப்பவர்கள் தொடர்பாகவும் எம்மால் தேர்தல் ஆணையாளருக்கு அறிக்கை சமர்ப்பிக்கப்படும்.

நீண்டகாலம் பதிவு இல்லாதவர்கள் பதியாமல் இருந்தால் அவர்களையும் சேர்த்து பதிவுதற்குரிய நடவடிக்கைகள் எம்மால் மேற்கொள்ளப்படுகிறது.

யாழ்ப்பாணம், வவுனியா மாவட்டங்களில் பதிவுள்ளவர்கள் கிளிநொச்சி, முல்லைத்தீவு மாவட்டத்தில் மீளக் குடியமர்ந்து இம் மாவட்டங்களுக்கு தங்கள் பதிவுகளை மாற்ற விரும்பினால் தங்கள் வாக்காளர் பதிவில் உள்ள கிராமசேவையாளரிடம் இருந்து பதிவுகளைப் பெற்றோ அல்லது எம்மால் வழங்கப்படும் படிவ இல. 3 என்ற படிவத்தை பூரணப்படுத்தி கிராம சேவையாளரிடம் ஒப்படைப்பதன் மூலம் தங்கள் பதிவுகளை கிளிநொச்சி, முல்லைத்தீவு மாவட்டங்களுக்கு மாற்றிக்கொள்ள முடியும். அதேபோல் கிளிநொச்சி, முல்லைத்தீவு மாவட்டத்தில் பதிவுள்ளவர்கள் வேறு மாவட்டங்களில் குடியேறியிருந்தால் மேற்கூறிய நடவடிக்கையை மேற்கொள்ளலாம்.

மீள்குடியேற்ற அமைச்சின் அதிகாரி பதவியிலிருந்து தற்காலிகமாக நீக்கம்

(கொழும்பு)

மீள்குடியேற்ற அமைச்சர் மில்ரோய் பெர்னாண்டோவின் மகனின் திருமண நிகழ்வில் மீள்குடியேற்ற அமைச்சரும் மீள்குடியேற்ற பிரதீயமைச்சர் விநாயக மூர்த்தி முரளிதரனும் நடனமாடிய காட்சி தொலைக்காட்சியில் ஒளிபரப்பாகிய சம்பவம் குறித்து மீள்குடியேற்ற அமைச்சின் அதிகாரி ஒருவர் பதவியிலிருந்து தற்காலிகமாக நீக்கப்பட்டுள்ளார்.

மீள்குடியேற்ற அமைச்சின் உட்க இணைப்பு அதிகாரியான ஸ்டான்லி பத்ராஜ என்பவரே பதவியிலிருந்து தற்காலிகமாக நீக்கப்பட்டவராவார்.

இதேவேளை மீள்குடியேற்ற அமைச்சர்தும் பிரதீயமைச்சர்தும் நடனம் தொலைக்காட்சியில் ஒளிபரப்பப்பட்டது குறித்து ஜனாதிபதி மஹிந்த ராஜபக்ஷ அமைச்சரிடம் கேள்வி எழுப்பியதாகத் தெரிவிக்கப்படுகின்றது. (6)

முதலாம் அண்ம நினைவுச்சலி



பிறப்பு 05 09
இறப்பு 06 07

1965 **அமரர்** 2009

பொஸ்கோ சூசைப்பிள்ளை றெனிபேட் அரியதாஸ்
கீவியத்தில் என்னை நேசித்தவர்களே மறவாத்திலும் என்னை மறவாத்திலும்

அமரர் பொஸ்கோ அவர்களின் ஓராண்டு நினைவு தினம்

இன்று (09.07.2010) வெள்ளிக்கிழமை பொலிகண்டி அற்புதக் குழந்தை இயேசு தேவாலயத்தில் அன்னாரின் ஆன்ம இளைப்பாற்றி திருப்பலி பகல் 11.30 மணிக்கு ஒப்புக் கொடுக்கப்படும். இவ் ஆன்ம சாந்திப் பிரார்த்தனையில் கலந்து அன்னாரின் இல்லத்தில் நடைபெறும் மதியபோசன விருந்திலும் கலந்து கொள்ளுமாறும் அன்பர்கள், நண்பர்கள், உறவினர்கள் அனைவரையும் அன்புடன் அழைக்கின்றோம்.

குழந்தை இயேசு கோவிலடி, பொலிகண்டி.
மனைவி தங்கமலர், பிள்ளைகள், மருமக்கள்.

(1811)

இணுவைக் கந்தனுக்கு நாளை தேர்த்திருவிழா

(யாழ்ப்பாணம்)

இணுவில் கந்தசுவாமி ஆலய மஹோற் சுவத்தின் இருபத்து மூன்றாம் நாளான இன்று வேட்டைத்திருவிழாவும் நாளை யதினம் தேர்த்திருவிழாவும் நடைபெறவுள்ளது.

இன்று காலை விசேட அபிசேஷ ஆராதனை இடம்பெற்று முற்பகல் 10 மணிக்கு வேட்டைத்திருவிழா நடைபெறும். ஆலயத்திலிருந்து சண்முகப்பெருமானும் வள்ளியும் இணுவில் சிவகாமி அம்பாள் ஆலயத்தை அடைந்து அங்கிருந்து 1 மணியளவில் மீண்டும் ஆலயத்தை வந்தடைவார்கள். மாலை 6 மணிக்கு வசந்த மண்டபபூசை நடைபெற்று இரவு 7.30 மணிக்கு சப்பரத்திருவிழா நடைபெறும்.

நாளை சனிக்கிழமை அதிகாலை பூசை நடைபெற்று 8 மணிக்கு வசந்தமண்டபபூசை நடைபெற்று காலை 10.30 மணிக்கு ஆறு முகப்பெருமான் வள்ளி தெய்வானை சகீதம் தேரில் ஆரோகணிக்கும் காட்சி இடம்பெறும். மாலை 4 மணிக்கு மடாலய ஆராதனையும், திருவஞ்சலும் இடம்பெறும். மறுதினம் மாலை 4 மணிக்கு தீர்த்தத்திருவிழா இடம்பெறவுள்ளது. (6)

இறுதிப்பரீட்சைகள்

(யாழ்ப்பாணம்)

இலங்கைத் திறந்த பல்கலைக்கழகத்தில் பட்டப்பின் கல்வி டிப்ளோமாக்க் கற்கை நெறியினைத் தொடரும் மாணவர்களுக்கான இறுதிப்பரீட்சைகள் நாளை முதல் நடைபெறவுள்ளன.

காலை, மாலை என இரு அமர்வுகளாக நடைபெறவுள்ள இப்பரீட்சைகளில் நாளை சனிக்கிழமை கல்வி உளவியல், கல்வி வழி காட்டல் ஆகிய பாடங்களும் நாளை மறுதினம் ஞாயிற்றுக்கிழமை கல்வித்தொழில்நுட்பம்,

கல்வியின் அடிப்படைகள் ஆகிய பாடங்களும் நடைபெறும்.

17 ஆம் திகதி சனிக்கிழமை அளவீடும் மதிப்பீடும் மற்றும் சிறுவர் உரிமைகள்/ஆரம்பக்கல்வி /உள்ளடங்கல் கல்வி என்பவும் 18 ஆம் திகதி ஞாயிற்றுக்கிழமை ஒப்பீட்டுக்கல்வி மற்றும் கலைத்திட்டம் / கல்வித் தொழில்நுட்பம் ஆகிய பாடங்களும் நடைபெறும் என இலங்கைத் திறந்த பல்கலைக்கழக யாழ்ப்பாணம் பிராந்திய இணைப்பாளர் கேட்டுக் கொள்கின்றார். (6)

பரிசளிப்பு விழாவில் கௌரவம் பெறும் வித்தியாலய மாணவர்கள்



ந.விஜிதரன் ம.யசோதா மி.யுடிற்றா ர.துன்சியா

(யாழ்ப்பாணம்)

யா/வயாவிளான் மத்திய மகா வித்தியாலய பரிசளிப்பு விழா நாளை சனிக்கிழமை வித்தியாலய மண்டபத்தில் அதிபர்கே.கனகராஜா தலைமையில் நடைபெறவுள்ளது. இந்நிகழ்வில் இவ் வருடம் சாதனைகளை நிலை

க.சியானி யா.யூட்லாஸ் கு.குலசீலன்

நாட்டிய மாணவர் கௌரவிக்கப்படவுள்ளனர்.

இதற்கமைய க.பொ.த உயர்தர பரீட்சையில் 3ஏ பெற்ற மாணவர்களான ந.விஜிதரன், ம.யசோதா, மி.யுடிற்றா, ர.துன்சியா ஆகியோரும் மாகாணமட்ட தகவல் போட்டியில் பதக்கம் பெற்றவர்களான க.சியானி (குட்டு, முப்பாய்ச்சலில் முதலாமிடம்) ஞா.யூட்லாஸ் (100 மீ, 400 மீ ஒப்பம் மூன்றாமிடம்), கு.குலசீலன் (குடைதாண்டலில் மூன்றாமிடம்) ஆகிய மாணவர்கள் கௌரவிக்கப்படவுள்ளனர். (6)

அடிப்படை வசதிகளற்ற நிலையில்

மணியந்தோட்ட பகுதி மக்கள்

(கொழும்புத்துறை)

மணியந்தோட்டப்பகுதி மக்கள் பல வசதி குறைபாடுகளுடன் மீளக் குடியேறி வருகின்றனர்.

இம் மக்கள் மீண்டும் தமது இருப்பிடங்களுக்குச் செல்ல அனுமதிக்கப்பட்டுள்ளதால், வாடகை வீடுகளில் இருந்த இம் மக்களை வீட்டு உரிமையாளர்கள் வெளியேற்றி வருகின்றனர்.

தற்காலிக ஏற்பாடுகளுடன் அடிப்படை வசதிகள் அற்ற நிலையில் 15 குடும்பங்கள் தற்போது குடியேறி இருக்கின்றனர்.

மணியந்தோட்டப்பகுதியானது யுத்தம் நடைபெற்ற காலத்தில் இருந்து மக்கள் சென்று வர அனுமதிக்கப்படவில்லை. தற்போது செல்ல அனுமதி கிடைத்தும் மக்கள் இயல்பு வாழ்க்கையைத் தொடர்வதற்கு சிரமப்படுகின்றார்கள். (6-5)

வேறு நாடுகளின் தேவைக்கேற்ப செயற்படுவது நாட்டின் பாதுகாப்புக்கு அச்சுறுத்தலாக அமையும்

பேராசிரியர் ரஜீவ் விஜேசிங்க

(கொழும்பு)

வேறு நாடுகளின் தேவைக்கேற்ப இலங்கையின் மனித உரிமைகள் மேம்படுத்துதற்கான நிபந்தனைக்கு உட்பட்டமுடியாது எனவும் அது நாட்டின் பாதுகாப்பிற்கு அச்சுறுத்தலாக அமையுமென ஐக்கிய மக்கள் சுதந்திரக் கூட்டமைப்பின் பாராளுமன்ற உறுப்பினர் பேராசிரியர் ரஜீவ் விஜேசிங்க தெரிவித்துள்ளார்.

அபிவிருத்தியடைந்துவரும் நாடுகளின் பாதுகாப்புக்கான அமைப்பு கொழும்பில் நேற்று முன்தினம் உட்கவியலாளர் சந்திப்பு பொன்றை ஏற்பாடு செய்திருந்தது.

அங்கு உரையாற்றிய பாராளுமன்ற உறுப்பினர் ரஜீவ் விஜேசிங்க, ஐரோப்பிய ஒன்றியம் கலந்துரையாடாமல் நிபந்தனைகளை விதிப்புதாகத் தெரிவித்தார்.

இலங்கையின் மனித உரிமைகள் தொடர்பான நிலையைச் சற்றுமேம்படுத்த வேண்டும் என்பதை ஏற்றுக்கொள்வதாகவும் ஏனைய நாடுகள் கூறுகின்றன என்பதற்காக மனித உரிமைகளை மேம்படுத்துவதற்கான நிபந்தனைகளுக்கு உடனட முடியாததெனவும் பாராளுமன்ற உறுப்பினர் சுட்டிக்காட்டினார்.

அவ்வாறு உடன்பட்டால் அது நாட்டின் பாதுகாப்புக்கு அச்சுறுத்தலாக அமையுமென அவர் மேலும் குறிப்பிட்டார். (6-4)

வலயமட்டப் போட்டிகள்

(அல்வாய்)

வடமராட்சி வலய மட்ட பன்மைத்துவ கலாசாரம் உட்கவியலாளர் சந்திப்பு தலைப்பில் சித்திர, கவிதைப் போட்டிகள் இன்று காலை 10 மணிக்கு புலோலி மெ.மி. த.க. பாடசாலையில் நடைபெறும்.

மாணவர்கள் போட்டிக்கு வரும் போது சித்திரம் வரையும் தாள், வர்ணச் சோக்பெட்டிகள், கலர்பென்சில்கள் ஆகியவற்றுடனும் கவிதை எழுதுவோர் காசுதாசிகளுடனும் சமூகமளிக்குமாறு வடமராட்சி வலய பிரதிக் கல்விப் பணிப்பாளர் (கல்வி அபிவிருத்தி) சி.புஸ்பலிங்கம் அறிவித்துள்ளார். (6-19)

ஆளும் கட்சியில் இணைவதற்கு ஜ.தே.க. முக்கியஸ்தர்கள் தீர்மானம்?

(கொழும்பு)

எதிர்க்கட்சியில் அங்கம் வகிக்கும் கட்சித் தலைவர் ஒருவரும், ஐக்கிய தேசியக் கட்சி நாடாளுமன்ற உறுப்பினர் ஒருவரும் ஆளும் கட்சியில் இணையத் தீர்மானித்துள்ளனர் எனவும் அரசாங்கத்தில் இணைவது குறித்த பேச்சுவார்த்தைகளை பிரபல அமைச்சர் ஒருவர் மேற்கொண்டு வருவதாகவும் தீவிர செய்தி வெளியிடப்பட்டுள்ளது.

குறித்த கட்சித் தலைவரை அரசாங்கத்தில் இணைக்கும் முயற்சிகளை ஐக்கிய தேசிய

யக்கட்சி நாடாளுமன்ற உறுப்பினர் ஒருவரே மேற்கொண்டு வருவதாகவும் இந்த விடயம் தொடர்பில் ஜனாதிபதி மஹிந்த ராஜபக்ஷ விற்கும் அறிவிக்கப்பட்டுள்ளதாகவும் குறிப்பிடப்படுகிறது.

குறித்த இருவரும் பல்வேறு சிக்கல்களை எதிர்நோக்கி வருவதாகவும் இந்த பிரச்சினைகளில் இருந்து மீள்வதற்காக ஆளும் கட்சியில் இணையத் தீர்மானித்துள்ளதாகவும் தெரிவிக்கப்படுகிறது. (6-4)

வரிச்சலுகை நிறுத்தத்தால் இலங்கை 1560 மில்.டொலர்களை இழந்துள்ளது

(கொழும்பு)

இலங்கை அரசுக்கு வழங்கி வந்த வரிச்சலுகையை ஐரோப்பிய ஒன்றியம் 'எதிர்வரும் மாதம் நிறுத்தவுள்ளதால் இலங்கை அரசு 1.56 பில்லியன் டொலர்களை (1560) மில்லியன்



டொலர்களை இழந்துள்ளதுதாக த.நியூயோர்க் ரைம் தெரிவித்துள்ளது.

இது தொடர்பில் அது மேலும் தெரிவித்துள்ளதாவது,

மனித உரிமைகளை நடைமுறைப்படுத்துவதில் இலங்கை அரசு தவறியதால் ஐரோப்பிய ஒன்றியம் அதன் ஜி.எஸ்.பி. பிளஸ் வர்த்த வரிச்சலுகையை நிறுத்தியுள்ளது.

இதனால் வருடத்திற்கு 1.24 பில்லியன் யூரோக்களை அல்லது 1.56 பில்லியன் டொலர்களை இலங்கை இழந்துள்ளது. ஐரோப்பிய ஒன்றியத்தின் அறிவிப்பால் இலங்கையின் புடவை மற்றும் மீன் பிடி கைத்தொழில்கள் அதிக பாதிப்பை சந்திக்கலாம் என அது மேலும் தெரிவித்துள்ளது. (6)

இலங்கை விவசாயிகளுக்கு இஸ்ரேலில் தொழில்வாய்ப்பு

(கொழும்பு)

இலங்கை விவசாயிகளுக்கு இஸ்ரேலில் தொழில்வாய்ப்புக்கள் அளிக்கப்படவுள்ளதாக தெரிவிக்கப்படுகிறது.

விவசாய அமைச்சர் மகிந்த யாப்பா அபேவர்த்தனவிற்கும் இஸ்ரேலிய அதிகாரிகளுக்கும் இடையில் அண்மையில் நடைபெற்ற பேச்சுவார்த்தையின் போது இந்த இணக்கப்பாடு எடப்பட்டுள்ளது.

இஸ்ரேலுக்கான இந்தியத் தூதுவர் இட்டாய் தகனருக்கும் அமைச்சருக்கும் இடையில் பத்தரமுல்லவில் அமைந்துள்ள விவசாய அமைச்சில் இந்த சந்திப்பு இம்

பெற்றுள்ளது.

இஸ்ரேலில் தொழில் வாய்ப்பு பெற்றுச் செல்லும் விவசாயிகளுக்கு தலா ஆயிரம் அமெரிக்க டொலர் மாத சம்பளமாக வழங்கப்படவுள்ளதுடன் 6 மாத கால ஒப்பந்த அடிப்படையில் விவசாயிகளுக்கு தொழில் வாய்ப்பு வழங்கப்படவுள்ளது.

இவ்வாறு தொழில்வாய்ப்பு வழங்கப்படுவதன் மூலம் இஸ்ரேலில் பயன்படுத்தப்படும் நவீன விவசாய தொழில் நுட்பங்களை இலங்கையில் அறிமுகப்படுத்த வழி ஏற்படும் என விவசாய அமைச்சர் மகிந்த யாப்பா அபேவர்த்தன தெரிவித்துள்ளார். (6-4)

அரசாங்கத்தின் நிறுவன அதிகாரிகள் இருவரை நாட்டிலிருந்து வெளியேற்ற உத்தரவு

(கொழும்பு)

இரண்டு சர்வதேச அரசு சார்பற்ற நிறுவனங்களின் பணிப்பாளர் மற்றும் தலைவர் ஒருவரை நாட்டில் இருந்து வெளியேற்றமாறு நேற்று முன்தினம் அறிவித்துள்ளதாக குடிவரவு-குடியகல்வு கட்டுப்பாட்டாளர் கூலாணந்த பெரேரா தெரிவித்துள்ளார்.

புலனாய்வுப் பிரிவுகளின் அறிக்கைகளை கவனத்தில் கொண்டு அவர்களின் விசா அனுமதியை இரத்துச் செய்துள்ளதாக

வும் அவர் கூறியுள்ளார்.

அகிம்சைவாத சமாதான படையணியின் இலங்கை கிளையின் பணிப்பாளர் டிபானி ரிஷ்ணம் மற்றும் மனித உரிமைகளை பாதுகாக்கும் அமைப்பின் தலைவர் அலிபால் ஆகியோரின் விசா அனுமதிக்கே இரத்துச் செய்யப்பட்டுள்ளன எனவும் டிபானி நேற்று முன்தினம் நாட்டில் இருந்து வெளியேறியுள்ளதாகவும் விமான நிலையத் தகவல்கள் தெரிவிக்கின்றன. (6-4)

பொலிஸ் பதிவை மேற்கொள்ளுமாறு வெள்ளவத்தை மக்களுக்கு அறிவிப்பு?

(கொழும்பு)

வெள்ளவத்தைப் பகுதியைச் சேர்ந்த பொதுமக்கள் மீண்டும் தங்களைப் பொலிஸில் பதிவு செய்ய வேண்டும் என அறிவித்தல் விடுக்கப்பட்டுள்ளது. நேற்று முன்தினம் முச்சக்கரவண்டி மற்றும் பொலிஸ் வாகனங்களில் ஒலிபெருக்கிகளை பொருத்திக் கொண்டு பொலிஸார் இந்த அறிவித்தலை விடுத்துள்ளதாகத் தெரிவிக்கப்படுகிறது.

மேலிடத்தின் பணிப்புரையின் பேரிலேயே இந்த நடவடிக்கை மேற்கொள்ளப் பட்டுள்ளதாகவும் அதனால் வெள்ளவத்தை பொலிஸ் பிரிவுக்கு உட்பட்ட அனைவரும் கட்டாயமாக பொலிஸில் தம்மை பதிவு செய்து கொள்ள வேண்டும் என்றும் தெரிவிக்கப்படுகிறது.

மேலும் நாட்டின் சமூகமான நிலை காரணமாக வெளிநாட்டில் இருந்தும் பெருமள விலானோர் வந்து விடுதிகள் மற்றும் உறவினர் வீடுகளில் தங்கியிருப்பதாகவும் இவர்கள் தொடர்பான பதிவுகள் எதுவும் இல்லை எனவும் கூறும் பொலிஸார் அனைவரும் பொலிஸ் நிலையத்தில் பதிவு செய்திருக்க வேண்டும் என்றும் தெரிவித்தனர்.

இதேவேளை வெள்ளவத்தைப் பகுதியில் மீண்டும் பொலிஸ் பதிவை மேற்கொள்ளுமாறு அறிவிக்கப்பட்டுள்ள இந்த அறி

வித்தல் வெள்ளவத்தைப் பகுதியில் உள்ள மக்களுக்கு மாத்திரமா அல்லது ஏனைய பகுதிகளுக்கு பொருந்துமா? என பொலிஸ் உட்கப்பேச்சாளர் பொலிஸ் அத்தியட்சகர் பிரசாந்த ஜெயக்கொடியுடன் வினவிய போது, மீண்டும் பொலிஸில் பதிவு செய்யப்பட வேண்டும் என்ற அறிவித்தல் தொடர்பில் தமக்கு எதுவும் தெரியாது எனவும் அது தொடர்பாக ஆராய வேண்டியுள்ளதாகவும் கூறினார்.

யுத்தம் முடிவுக்கு கொண்டு வரப்பட்டு நாட்டில் அமைதி நிலை உருவாகியதைத் தொடர்ந்து கடந்த காலத்தில் இருந்து வந்த பொலிஸ் பதிவு முறைகள் முற்றாக நீக்கப்பட்டுள்ளன.

இந்த நிலையிலேயே வெள்ளவத்தைப் பகுதியில் மீண்டும் பொலிஸ் பதிவினை மேற்கொள்ளுமாறு அறிவிக்கப்பட்டுள்ளது.

இது தொடர்பாக பொலிஸ் திணைக்களத்தில் இருந்தோ அல்லது பாதுகாப்பு அமைச்சில் இருந்தோ இதுவரையிலும் பொதுவான அறிவித்தல் ஒன்றும் விடுக்கப்படவில்லை என்பதுடன் வேறு எந்த பொலிஸ் பிரிவிலும் இவ்வாறு பொதுமக்கள் மீண்டும் பொலிஸில் பதிவு செய்ய வேண்டும் என அறிவிக்கப்படவில்லை என்பதும் கவனிக்கத்தக்கதாகும். (6)

யுத்தம் காரணமாக 500இற்கும் மேற்பட்ட இந்து ஆலயங்கள் அழிவடைந்துள்ளன

தமிழ்தேசியக் கூட்டமைப்பு எம்.பி. தெரிவிப்பு

இலங்கையில் நடைபெற்ற போரில் 500 இற்கும் மேற்பட்ட இந்து ஆலயங்கள் அழிவடைந்துள்ளதாக தமிழ்தேசியக் கூட்டமைப்பு நாடாளுமன்ற உறுப்பினர் எஸ்.யோகராசா தெரிவித்துள்ளார்.

இது தொடர்பில் அவர் மேலும் தெரிவித்துள்ளதாவது,

இலங்கையில் நடைபெற்ற போரில் 500இற்கும் மேற்பட்ட இந்து ஆலயங்கள்

அழிவடைந்துள்ளன. இந்த ஆலயங்கள் புனரமைக்கப்படவேண்டும்.

வடக்கு-கிழக்கில் நடைபெற்ற படை நடவடிக்கையினாலேயே அதிக ஆலயங்கள் அழிவடைந்துள்ளன. இலங்கையில் ஆயிரத்து 543 பாடசாலைகளும் உள்ளன. அவற்றில் பணிபுரியும் ஆசிரியர்களுக்கு அரசு உதியங்களை வழங்க வேண்டும் என அவர் மேலும் தெரிவித்துள்ளார். (6-4)



புன்னாலைக் கட்டுவன் மகாவித்தியாலயத்தில் கல்வி பயிலும் 31 மாணவர்களுக்கு இலவச சப்பாத்து வழங்கும் வைபவம் அண்மையில் இடம்பெற்றது. இதில் ஆசிரியர் ச.ஜெகதீஸ்வரன் மாணவி ஒருவருக்கு சப்பாத்து வழங்குவதையும் அருகில் அதிபர் இரா. ஜெயக்குமார், ஆசிரியர்கள் பூ.பிரகாஷ், திருமதி அனீற்றா ராஜி அன்றன், இ.சேனாஜா ஆகியோர் நிற்பதையும் படங்களில் காணலாம்.

அரசின் தூர நோக்கற்ற நடவடிக்கைகளே நிபுணர் குழு நியமிக்கப்படுவதற்கு காரணம்

மாங்கள சமரவீர எம்.பி. தெரிவிப்பு

(கொழும்பு)

கடந்த நான்கு வருடங்களாக அரசாங்கம் மேற்கொண்டு வரும் தூர நோக்கற்ற



நடவடிக்கைகளே நிபுணர்கள் குழு நியமிக்கப்படுவதற்கு ஏதுவாக அமைந்ததென ஐக்கிய தேசியக்கட்சியின் பாராளுமன்ற உறுப்பினர் மாங்கள சமரவீர தெரிவித்துள்ளார்.

நாடு இன்று எதிர்நோக்கி வரும் சர்வதேச அழுத்தங்களுக்கு தற்போதைய ஆட்சியாளர்களே பொறுப்பு சொல்ல வேண்டுமென அவர் சுட்டிக்காட்டியுள்ளார்.

ஐக்கிய நாடுகள் அமைப்பின் இலங்கைத் தலைமைக் காரியாலயம் முற்றுகை

யிடப்பட்டு நடத்தப்பட்ட போராட்டங்கள் தொடர்பில் கருத்து வெளியிடும் போது அவர் இதனைக் குறிப்பிட்டுள்ளார்.

இலங்கைக்கு எதிராக சர்வதேச குற்றவியல் நீதிமன்றில் வழக்குத் தொடரப்படக் சவடிய அபாயம் நிலவுவதாகவும் இவ்வாறான நடவடிக்கைகள் நாட்டின் நன்மதிப்பிற்கு பாரிய களங்கத்தை ஏற்படுத்தும் எனவும் அவர் தெரிவித்துள்ளார்.

கடந்த காலங்களில் இலங்கை மீது சர்வதேச சமூகம் சிறந்த நன்மதிப்பை கொண்டிருந்ததாகவும் சர்வதேச நீதிமன்றில் இலங்கையர்களை ஆயர்ப்படுத்தக் சவடிய சாத்தியத்தை ஐக்கிய தேசியக்கட்சியின் தலைவர் ரணில் விக்கிரமசிங்க தடுத்து நிறுத்தியுள்ளதாகவும் அவர் சுட்டிக்காட்டியுள்ளார்.

2002ஆம் ஆண்டு சர்வதேச குற்றவியல் நீதிமன்றில் குற்றவாளிகளை ஆஜர்படுத்துவது தொடர்பான பிரகடனத்தில் அப்போது பிரதமராக செயற்பட்ட ரணில் விக்கிரமசிங்க கையொப்பமிடவில்லை என அவர் தெரிவித்துள்ளார்.

நாட்டுப்புற சண்டித்தனங்களை கைவிட்டு சர்வதேச சமூகத்துடன் அரசாங்கம் உறவுகளைப் பேணுவதற்கு முனைப்புக் காட்டவேண்டும் என அவர் குறிப்பிட்டுள்ளார். (6)

உறவினர் வீடுகளில் தங்கியுள்ளோரை வாக்காளராக பதிவுசெய்ய முடியாதநிலை

பவ்ரல் அமைப்பு தெரிவிப்பு

(கொழும்பு)

இடம்பெயர்ந்து வட பகுதியில் உள்ள முகாம்களில் தங்கியிருந்த நிலையில் உறவினர்களின் வீடுகளுக்கு சென்றவர்களை வாக்காளர் பட்டியலில் சேர்க்க கிராம சேவகர்கள் முன்னைய பதிவுச் சான்றிதழ்களை கோருவதால் அவர்களை வாக்காளர்களாக பதிவு செய்ய முடியாத நிலைமை ஏற்பட்டுள்ளது என சுதந்திரம் மற்றும் நீதியான தேர்தலுக்கான மக்கள் அமைப்பு (பவ்ரல்) தெரிவித்துள்ளது.

இடம்பெயர்ந்த மக்களில் பலர் தாம் முன்னர் வாக்காளர்களாக பதிவு செய்திருந்த இடங்கள் தொடர்பான தகவல்களை அறியாத நிலையில் உள்ளனர் எனவும் இடம்பெயர்ந்த நிலையில் வடக்கு- கிழக்கில்

உள்ள தமது உறவினர்களின் வீடுகளில் தங்கியிருக்கும் மக்களின் எண்ணிக்கை குறித்து இதுவரை சரியான புள்ளி விபரங்கள் வெளியிடப்படவில்லை எனவும் பவ்ரல் அமைப்பின் நிறைவேற்றுப்பணிப்பாளர் ரோஹன் ஹெட்டியாராச்சி தெரிவித்துள்ளார்.

யாழ்ப்பாண மாவட்டத்தில் சுமார் 40 ஆயிரம் இடம்பெயர்ந்த மக்கள் தமது உறவினர்களின் வீடுகளில் தங்கியுள்ளதாகவும் இடம்பெயர்ந்த மக்களை வாக்காளர்களாக பதிவு செய்யும் நடவடிக்கைகளை முக்கியமான விடயமாக கருதி உரிய வேலைத்திட்டம் ஒன்றை முன்னெடுக்குமாறு அரசாங்கத்திடம் கோருவார்களாகவும் ஹெட்டியாராச்சி குறிப்பிட்டுள்ளார். (6-4)

அரசு.புகலிடக் கோரிக்கையாளர்களை கிழக்குத் தீமோருக்கு அனுப்பத்திட்டம்?

(கொழும்பு)

அவுஸ்திரேலியாவில் உள்ள இலங்கை புகலிடக் கோரிக்கையாளர்களை கிழக்குத் தீமோருக்கு அனுப்பி வைக்க பிரதமர் ஜூலியா கிலார்ட் ஆலோசித்துள்ளதாக அவுஸ்திரேலியாவுக்கான இலங்கை உயர்ஸ்தானிகர் சேனக்க வல்கம்பாய தெரிவித்தார்.

இது தொடர்பாக அவுஸ்திரேலியப் பிரதமர் கிழக்குத் தீமோர் ஜனாதிபதியிடம் கடந்த செவ்வாய்க்கிழமை பேச்சுவார்த்தை நடத்தியுள்ளதாக அவர் தெரிவித்தார்.

அவுஸ்திரேலியாவின் கிறிஸ்மஸ் தீவில் தடுத்து வைக்கப்பட்டுள்ள இலங்கையின் புகலிடக்கோரிக்கையாளர்களின் கோரிக்கைகளை பரிசீலிக்கும் நடவடிக்கைகளைக் கிழக்குத் தீமோரில் மேற்கொள்வதற்கும் பிரதமர் கிலார்ட் உத்தேசித்துள்ளார்.

எவ்வாறாயினும் கிழக்குத் தீமோரின் சில அரசியல் முக்கியஸ்தர்கள் இந்த நடவடிக்கைக்கு எதிர்ப்புத் தெரிவித்துள்ளனர்.

இலங்கைப் புகலிடக் கோரிக்கையாளர்களின் வேண்டுகோள்கள் குறித்து விரைவில் பரிசீலிக்கப்படும் என அவுஸ்திரேலியப்

பிரதமர் நேற்று முன்தினம் அறிவித்திருந்தார்.

பெருந்தொகைப் பணத்தை செலவிட்டு அவுஸ்திரேலியாவில் புகலிடம் கோரி சட்டவிரோதமாக வருவதற்கு முயற்சிக்க வேண்டாம் என பிரதமர் கிலார்ட் இலங்கையர்களை கேட்டுக் கொண்டதாகவும் இலங்கை உயர்ஸ்தானிகர் தெரிவித்துள்ளார். (6)

இரங்கற் கூட்டம்

(குருநகர்)

மாவட்ட சாரண ஆணையாளராகவும் குருநகரின் சமூக சேவையாளருமாகப் பணியாற்றிய இராஜசிங்கம் டோறசின் மறைவை ஒட்டி இரங்கற் கூட்டம் நாளை சனிக்கிழமை மாலை 5 மணிக்கு கலை யார்வன் கு.இராஜப்பு தலைமையில் நடைபெறவுள்ளது.

இந்நிகழ்வில் குருநகரைச் சேர்ந்த கழகமன்றம் கடற்சாரணர் ஆலய பக்தி சபைப் பிரதி நிதிகள் ஆகியோர் கலந்துகொண்டு உரையாற்றவுள்ளனர். (4-39)

09.07.2010

இன்றைய நாளின் முன்னைய நுதிவுகள்

நிகழ்வுகள்

- * 455- அவிட்டஸ் மேற்கு ரோமப் பேரரசின் மன்னனானான்.
- * 1357-புனித ரோமப் பேரரசர் நான்காம் சார்ள்ஸ் பிராகா நகரத்தில் சார்ள்ஸ் பாலத்திற்கு அடித்தளம் நாட்டினார்.
- * 1755-பென்சில்வேனியாவில் பிரெஞ்சு மற்றும் குடியேற்ற துணை இராணுவக்குழு பிரித்தானியப் படைகளைத் தோற்கடித்தனர்.
- * 1790- பால்டிச் கடலில் இடம்பெற்ற மோதலில் சுவீடனின் கடற்படையினர் ரஷ்யக் கப்பல்களை பெரும் எண்ணிக்கையில் கைப்பற்றினர்.
- * 1810-ஒல்லாந்து நாட்டை நெப்போலியன் தனது பிரெஞ்சு இராச் சியத் துடன் இணைத்துக் கொண்டான்.
- * 1816- ஆர்ஜென்டீனா ஸ்பெயினிடம் இருந்து விடுதலை பெற்றது.
- * 1863 அமெரிக்க உள்நாட்டுப் போர்: ஹட்சன் துறைமுகம் மீதான தாக்குதல் முடிவுக்கு வந்தது.
- * 1868- அனைத்து ஆபிரிக்க அமெரிக்கர்களுக்கும் முழுக் குடியரிமை வழங்கும் சட்ட மூலம் ஐக்கிய அமெரிக்காவில் நிறைவேற்றப்பட்டது.
- * 1900- அவுஸ்திரேலியா கண்டத்தில் தனித்தனியே குடியேற்ற நாடுகளாக இருந்த மாநிலங்கள் அவுஸ்திரேலியப் பொதுநலவாயத்தின் கீழ் ஒன்றிணைக்க விக்க்டோரியா மகாராணி ஒப்புதல் அளித்தார்.
- * 1903-யாழ்ப்பாணத்தில் இந்து வாலிபர் அமைப்பு (YMHA) உருவாக் கப்பட்டது.
- * 1918-டென்னசியில் நாஷ்வில் என்ற இடத்தில் இரண்டு தொடருந்துகள் மோதல்கொண்டதில் 101 பேர் கொல்லப்பட்டு 171 பேர் படுகாயமடைந்தனர்.
- * 1943- இரண்டாம் உலகப் போர்: நேச நாடுகள் சிசிலி மீதான தாக்குதலை ஆரம்பித்தனர்.
- * 1948- பாகிஸ்தான் தனது முதலாவது அஞ்சல் தலையை வெளியிட்டது.
- * 1982- ஐக்கிய அமெரிக்க போயிங் விமானம் லூசியானாவில் வீழ்ந்ததில் அதில் பயணஞ் செய்த 146 பேரும் தரையில் இருந்த 8 பேரும் கொல்லப்பட்டனர்.
- * 1991-30 ஆண்டுகளின் பின்னர் தென்னாபிரிக்கா ஒலிம்பிக் விளையாட்டுக்களில் மீண்டும் சேர்த்துக் கொள்ளப்பட்டது.
- * 1995-யாழ்ப்பாணம் வலிகாமம் பகுதியில் இலங்கை இராணுவத்தின் முன்னேறிப் பாய்தல் இராணுவ நடவடிக்கை ஆரம்பிக்கப்பட்டது.
- * 2002-ஆபிரிக்க ஒன்றியம் அடிஸ் அபாபாவில் அமைக்கப்பட்டது. தென்னாபிரிக்க அதிபர் தாபோ உம்பெக்கி இவ்வமைப்பின் முதலாவது தலைவரானார்.
- * 2006-சைபீரியாவில் 200 பேரை ஏற்றிச் சென்ற பயணிகள் விமானம் ஒன்று வீழ்ந்ததில் 122 பேர் கொல்லப்பட்டனர்.
- * 2006-உலகக் கிண்ணக் காற்பந்துப் போட்டியின் இறுதி ஆட்டத்தில் இத்தாலி பிரான்சை வென்று நான்காவது தடவையாக உலகக்கிண்ணத்தை தனதாக்கிக் கொண்டது.
- * 2006-அக்னி-111 ஏவுகணை ஒரிசாவில் சோதிக்கப்பட்டது. அதன் இரண்டாவது அடுக்கு இயங்கமறுத்தமையால் குறுகிய தூரத்தையே சென்றடைந்தது.

பிறப்புகள்.

- * 1929- ஏ.எம்.ராஜா, பின்னணிப் பாடகர் (இ.1989)
- * 1930- கே. பாலச்சந்தர், தமிழ் திரைப்பட இயக்குநர்.
- * 1956- டொம் ஹாங்க்ஸ், அமெரிக்க ஹொலிவுட் நடிகர்.

இறப்புகள்

- * 2009-சி.ஆர்.கண்ணன் தமிழக எழுத்தாளர்.

1995-யாழ்ப்பாணத்தில்
நவாலி புனித
பேதுருவானவர்தேவாலயம்
மீது இலங்கை
விமானப்படை யினரால்
நடத்தப்பட்ட குண்டுத்
தாக்குதலில்
குழந்தைகள்,
பெண்கள் உட்பட 141
பொது மக்கள்
கொல்லப்பட்டனர்.



பொருளியல் II-I

01 மணித்தியாலம்

10ஆம் பக்கத் தொடர்ச்சி...

எல்லா வினாக்களுக்கும் மிகப் பொருத்தமான விடையின் கீழ் கோடிடுக.

01. பின்வரும் விடயங்களில் பிரதிப் பணமாக கருதப்பட முடியாத விடயம் எது?

1. காசோலைப் பணம்
2. செலான் வங்கியின் கடன் அட்டை
3. வணிக வங்கியின் வரவு அட்டை
4. வணிக வங்கிகளினூடாக சர்வதேச வர்த்தகத்தின் பயன்படுத்தப்படும் இலத்திரனியல் பணம்

02. மத்திய வங்கியின் மையத்தொழிற்பாடு அல்லாத விடயம் யாது?

1. தேசிய நாணயக் கொள்கையை நடைமுறைப்படுத்தல்
2. அரசுக்கானதும் நிதி நிறுவனங்களினதும் ஆலோசகப் பணி
3. நிலவும் நாணய மாற்று விகிதத்துக்கு பொறுப்பாக இருத்தல்
4. வெளிநாட்டுச் சொத்துக்களின் முகாமை
5. வங்கிகளின் நிதி மாற்றல் செயற்பாடுகளுக்கு பொறுப்பாக இருத்தல்

03. X என்பவர் ரூபா 1000 ஐ கொடுத்து 400 ரூபா பெறுமதியான ஆடைகளையும் 600 ரூபா பெறுமதியான வானொலியையும் கொள்வனவு செய்தார். பணத்தொழிற்பாடு தொடர்பாக மிகச்சரியான விடயம் எது?

1. பணம் பண்டமாற்றுடகமாக தொழிற்படுகிறது
2. பணம் பெறுமதியை அளவிடும் கருவியாக தொழிற்படுகிறது
3. பணம் கொடுக்கல் வாங்கலாகவும், பெறுமான திரட்டாகவும் தொழிற்படுகிறது.
4. பணம் கொடுக்கல் வாங்கலாகவும், மாற்றுடகமாகவும் தொழிற்படுகிறது.
5. பணம் கொடுக்கல் வாங்கல் அலகாகவும் பெறுமதியை அளவிடும் கருவியாகவும் தொழிற்படுகிறது.

04. பொருளாதாரமொன்றிலுள்ள வணிக வங்கியொன்று திரட்டிய வைப்புக்கள் 10000 ரூபா கையிலுள்ள காசோதுக்கு 200 ரூபா, மத்தியவங்கியில் வைப்பு 1000 ரூபா, கடன்கள் கணக்கு 8800 ரூபா இந்நிலையில் வங்கிக்கான ஒதுக்கு வீதம் 10% ஆயின் வங்கி தனது தொழிற்பாடுகளை மிகை குறைந்த ஒதுக்கு இல்லாததாக மேற்கொண்டால் புதிய நிலையில் மொத்த வைப்புக்கள், மொத்த கடன்களின் அளவு

1. 12000 ரூபா, 10800 ரூபா
2. 10200 ரூபா, 10800 ரூபா
3. 12000 ரூபா, 9000 ரூபா
4. 10200 ரூபா, 9000 ரூபா

05. இலங்கையினது சென்மதி நிலுவை பட்டியலில் வருமானக் கணக்கில் இடம்பெறாத விடயம் யாது?

1. வெளிநாட்டிலிருந்து கிடைத்த கடன் வட்டி
2. வெளிநாட்டு முதலீட்டாளருக்கு வழங்கிய பங்கு இலாபம்
3. வெளிநாட்டிலுள்ள இலங்கையர் அனுப்பிய பணம்
4. வெளிநாட்டிலிருந்து கிடைத்த தொழிலாளர் நட்டஈடு
5. வெளிநாட்டிலிருந்து கிடைத்த காரணி வருமானம்

06. ஒரு நாட்டின் சொத்துக்கள் வீழ்ச்சியடைந்ததென கருதுக. இதனால் கருதுவது யாதெனில்

1. ஒரு நாட்டின் சென்மதி நிலுவையின் வர்த்தக நிலுவையின் மோசமான நிலை காணப்படுகிறது
2. நாணயமாற்று வீத தளம்பலை ஈடுசெய்ய வெளிநாட்டு ஒதுக்குகள் பயன்படுத்தப்பட்டுள்ளன.
3. சென்மதி நிலுவையின் நீதியின் குறையை ஈடுசெய்ய அலுவல்கள் சார் ஒதுக்குகள் பயன்படுத்தப்பட்டமை
4. சென்மதிநிலுவையின் மொத்த நடைமுறைக்கணக்கு மீதியின் குறையை ஈடுசெய்ய வெளிநாட்டு ஒதுக்குகள் பயன்படுத்தப்பட்டமை
5. நாட்டின் கடன்படு தகுதி குறைவடையும்

07. செயல்திறன் மிக்க சர்வதேச வர்த்தக பாதுகாப்பு என்பது

1. இறக்குமதிக்கான கட்டுப்பாடுகளால் உள்ளூர் கைத்தொழிலின் சேர்ந்த பெறுமதியில் ஏற்படும் அதிகரிப்பு மாற்றம்
2. இறக்குமதிகளில் இருந்து உள்ளூர் பொருளாதாரத்தைப் பாதுகாத்தல்
3. சர்வதேச சந்தையிலான தாக்கத்திலிருந்து உள்ளூர் பொருளாதாரத்தைப் பாதுகாத்தல்
4. உலகப் பொருளாதார நெருக்கடிகளில் இருந்து உள்ளூர் தொழிலை பாதுகாத்தல்

08. நாடொன்றின் வர்த்தக மாற்று விகிதப்பெறுமானம் 128 இருந்து, அடுத்த ஆண்டில் 134 ஆக உயர்ந்தது இதனால் பெறப்படும் பிரதான முடிவு யாதெனில்,

1. வர்த்தக நிலுவையில் சாதகநிலை ஏற்படும்
2. வெளிநாட்டுச் சொத்து மட்டம் பெருகதல்
3. ஓரலகு பண்ட எற்றுமதியின் இறக்குமதி கொள்வனவு ஆற்றல் முன்னரை விட அதிகரிக்கும்
4. சர்வதேச வர்த்தக நன்மைகள் அதிகரித்துச் செல்லுகின்றன.

09. A, B ஆகிய நாடுகள் சம ஆற்றலுடைய 500 வளங்களை கொண்டுள்ளன. ஓரலகு சாதன உள்ளீட்டின் மூலம் அவை சீனி, ஆடை உற்பத்திகளில் ஈடுபடும் போது வெளியீட டாற்றல் வருமாறு சீனி உற்பத்தி : A நாடு = 2 அலகு B நாடு 3 அலகு ஆடை உற்பத்தி : A நாடு = 4 அலகு B நாடு

1. ஒப்பீட்டில் A நாடு சீனியை ஏற்றுமதி செய்து ஆடையை இறக்குமதி செய்வது
2. ஒப்பீட்டில் A நாடு ஆடையை ஏற்றுமதி செய்வது சீனியை இறக்குமதி செய்தல்
3. A நாடு சீனி, ஆடை உற்பத்திக்கு ஒப்பீட்டில் சிறந்தது
4. B நாடு சீனி, ஆடை உற்பத்தியில் ஒப்பீட்டில் சிறந்தது.

10. பின்வருவனவற்றில் எது கேள்வித்தொண்டல் பணவீக்கத்தை ஏற்படுத்த பொறுப்பாக உள்ள காரணி

1. தொழிலாளரிடையே வேலையின்மை அதிகரித்தல்
2. தொழிற்சங்கங்கள் பலமடைதல்
3. வணிக வங்கிகளின் தனியார் துறைக்கான கடன்கள் மட்டுப்படுத்தப்படல்
4. வட்டி வீதத்தை மத்திய வங்கி குறைத்தல்
5. மாறும் ஒதுக்கு வீதம் அதிகரித்தல்

11. பின்வருவனவற்றில் திரவத்தன்மை ஒழுங்கில் சரியான தொகுதி யாது

1. 500 ரூபா தாள், திறைசேரி உண்டியல், மாற்று உண்டியல், மோட்டார் வாகனம், பங்குபத்திரம்
2. 500 ரூபா தாள், மாற்று உண்டியல், திறைசேரி உண்டியல், வீடு
3. 500 ரூபா தாள், வீடு, திறைசேரி உண்டியல், பங்கு பத்திரம்
4. 1500 ரூபா, காசோலை, சேமிப்பு தவணை வைப்பு, திறைசேரி உண்டியல், பங்கு பத்திரம்

12. பின்வருவனவற்றில் கிட்டிய பணமாக கருதமுடியாத விடயங்கள்

- A. வதிவுள்ளோர் வெளிநாட்டு நாணயக் கணக்கு
- B. கடன் அட்டைகள்
- C. உரிமம் பெற்ற சிறப்பு வங்கி வைப்புக்கள்
- D. பதிவு செய்த நிதிக்கம்பனி வைப்புக்கள்
- E. வெளிநாட்டுப் புழக்கப் பணம்
- F. வைப்புச் சான்றிதழ்
- G. திறைசேரி உண்டியல்
- H. வரவு அட்டைகள்
- I. இலத்திரனியல் பணம்
- J. உள்நாட்டு நாணய சேமிப்பு தவணை வைப்புக்கள்

13. குடிசன மதிப்பீட்டு புள்ளிவிபரவியல் திணைக்களத்தால் புதிதாக அறிமுகம் செய்யப்பட்ட புதிய கொழும்பு நுகர்வோர் விலைச்சுட்டி எவ்வாறு அடிப்படையாகக் கொண்டது

1. 1972
2. 1952
3. 1969
4. 2002
5. 2006

14. இலங்கை மத்திய வங்கி கையாளும் பணக்கொள்கையின் பிரதான ஊடுகடத்தல் பொறிமுறை யாது

1. செலவாணி வீத செல்வழி முறை
2. எதிர்பார்ப்புக்கள் செல்வழி முறை
3. சொத்துவிளைவுகள் செல்வழி முறை
4. கடன் கிடைப்பனவு தன்மை செல்வழி முறை
5. வட்டிவீத செல்வழி முறை

15. இலங்கையில் வறுமை நிலையை காட்டும் அதி தாழ்வறுமைக் கோட்டின் கீழ் உள்ளோர் குடும்பங்கள் ஏறத்தாழ 15-16% என மதிப்பிடப்பட்டுள்ளது. பின்வரும் செயல் திட்டங்களில் எதனை வறுமை ஒழிப்புக்கான மிகச்சிறந்த செயல் திட்டமாக கொள்ளலாம்

1. வறிய பிரதேசங்களில் இலவசக் கல்வி திட்டங்கள்
2. வறிய பிரதேசங்களில் விவசாயம், சிறுகைத்தொழில், வர்த்தகம் தொடர்பான சுயவேலை வாய்ப்பு கடன் திட்டங்கள்
3. வறிய பிரதேசங்களில் உணவு முத்திரை போன்ற வறுமை ஒழிப்பு நிவாரணங்கள்
4. செல்வந்தர்கள் மீது வருமானவரிகள், சொத்து உச்ச வரம்புகள்

16. தெற்காசிய நாடுகளில் இலங்கையின் மனிதவள அபிவிருத்தி உயர்வானதாக மதிப்பிடப்பட்டுள்ளது. 2005 இல் இலங்கையின் மனிதவள அபிவிருத்தி சுட்டியின் பெறுமானம் அண்ணளவாக யாது?

1. 0.71
2. 0.74
3. 0.76
4. 0.78

17. பேண்தகு பொருளாதார வளர்ச்சி அபிவிருத்தி என்பது தொடர்பாக மிக சரியான விடை

1. பொருளாதார வளர்ச்சி அபிவிருத்திகளை நிலையாக பாதுகாத்தல்
2. பொருளாதார வளர்ச்சி அபிவிருத்திகளை தொடர்ந்தும் அதிகரித்தல்
3. இயற்கை வளங்களை தொடர்ந்தும் பாதுகாத்தல்
4. நிகழ்கால பொருளாதார வளர்ச்சி அபிவிருத்தி தொடர்பாக எதிர்கால சந்ததிகளின் இழப்புக்களை குறைத்தல்
5. நிகழ்கால வளங்களை முழுமையாக கையாண்டு அடையக் கூடிய அபிவிருத்தி மட்டங்களை அடைதல்

18. சர்வதேச வர்த்தக கூட்டுக்கள் தொடர்பாக பொருளாதார சங்கங்கள் என்பதற்கு பொருத்தமான பொருளாதார ஒத்துழைப்பு

1. தெற்காசிய நாடுகளின் வர்த்தக உடன்படிக்கை
2. ஆசிய பசுபிக் நாடுகளின் பொருளாதார உடன்படிக்கை
3. தென்கிழக்காசிய நாடுகளின் சுதந்திர வர்த்தக உடன்படிக்கை
4. ஐரோப்பிய பொருளாதார சமூகம்
5. உலக வர்த்தக அமைப்பு

19. இலங்கையினதும் பிரதான ஏற்றுமதிகளான தேயிலை, ஆடை தயாரிப்பு என்பவற்றின் விலைகள் 8% அதிகரிக்க அவற்றின் ஏற்றுமதி அளவுகள் 14% அதிகரித்தது, அதே வேளை இறக்குமதி விலைகள் அளவுகள் 9% அதிகரித்தன. இவை வர்த்தக மாற்று விகிதம் வர்த்தக நிலுவை, வருமான வர்த்தக மாற்று விகிதம், என்பவற்றில் ஏற்படுத்தும் தாக்கங்களாவன

1. முன்னேறும் வீழ்ச்சியுறும் முன்னேறும்
2. வீழ்ச்சியுறும் முன்னேறும் வீழ்ச்சியுறும்
3. வீழ்ச்சியுறும் முன்னேறும் முன்னேறும்
4. வீழ்ச்சியுறும் வீழ்ச்சியுறும் வீழ்ச்சியுறும்
5. முன்னேறும் முன்னேறும் முன்னேறும்

20. நிதி நிறுவனங்களின் கொடுகடன் தரமிடல் என்பதால் கருதுவது யாது

1. நிதி நிறுவனங்கள் தாம் பெற்ற கடன்களை உரிய காலத்திலும் வட்டியுடனும், முழுமையாகவும் மீளச் செலுத்த கூடிய தன்மையை தரமிடல்
2. நிதி நிறுவனங்களில் கடன்கள் பெற்றோர் அதனை உரிய காலத்தில் வட்டியுடனும் முழுமையாகவும் மீளச் செலுத்தக்கூடிய தன்மையை தரமிடல்
3. வணிக வங்கிகள் போன்றவை வழங்க கூடிய கடன்களில் அளவை மதிப்பிடல்
4. வணிக வங்கிகள் திரட்டிய கடன்களை போல எவ்வளவு கடன்களை வழங்க கூடிய தன்மையை உடையதை மதிப்பிடல்

கொழும்பு தமிழ்ச் சங்கம் நடாத்தும்

கல்விப் பொதுத் தராதரப் பத்திர (உயர்தர) பரீட்சை

தரம்-13

முன்னோடி பரீட்சை

ஆனி 2010

பொருளியல்-I-I நேரம் : 1 மணி

அறிவுறுத்தல்கள்-

இப்பகுதியில் 20 வினாக்களுள்ள இவையனைத்துமே கட்டாய வினாக்களாகும்.

ஒவ்வொரு வினாவிற்கும் 02 புள்ளிகள் வீதம் இப்பகுதிக்கான மொத்தப்புள்ளிகள் 40 ஆகும்.

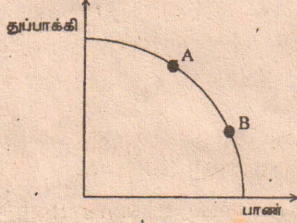
ஒவ்வொரு பல்தேர்வு வினாவிற்கும் ஒரு சரியான விடை மட்டுமே உண்டு அதனை இனங்கண்டு அதற்குரிய பெட்டியில் புள்ளியிடுக. பகுதி I இற்கான எல்லா வினாக்களுக்கும் இத்தாளிலேயே விடை எழுதுதல் வேண்டும்

பகுதி I பகுதி II ஆகிய இரு பகுதிகளுக்கும் விடை எழுதிய பின்னரே இரண்டையும் ஒன்றாகக் கட்டி கையளிக்கவும்.

01. பொருளாதாரப் பண்டம் என்பது யாது?

1. இலாபத்தில் விற்கப்படும் ஒரு பண்டம்
2. அதிகரித்துச் செல்லும் திறன் கொண்ட நிலைமைகளின் கீழ் உற்பத்தி செய்யப்படும் ஒரு பண்டம்
3. தனியார் துறையினால் மட்டும் நிரம்பல் செய்யப்படக்கூடிய ஒரு பண்டம்
4. அமையச் செலவு உள்ள ஒரு பண்டம்
5. பொதுத்துறையினால் மட்டும் நிரம்பல் செய்யப்படக்கூடிய ஒரு பண்டம்

02. பின்வரும் வரிப்படம் துப்பாக்கி, பாண் என்பவற்றால் வரையறுக்கப்பட்ட ஒரு உற்பத்தி சாத்திய வளையியைக் காட்டுகிறது.



இப் பொருளாதாரம் தனது உற்பத்தியை A புள்ளியிலிருந்து B புள்ளிக்கு மாற்றாமையின் துப்பாக்கி, அரிசி என்பவற்றின் அமையச் செலவு பற்றிய பின்வரும் கூற்றுக்களுள் சரியானது எது?

1. பாணின் அமையச் செலவு அதிகரிக்க துப்பாக்கியின் அமையச் செலவு குறையும்
2. பாணின் அமையச் செலவு குறைய துப்பாக்கியின் அமையச் செலவு அதிகரிக்கும்.
3. பாண், துப்பாக்கி என்ற இரண்டினதும் அமையச் செலவு அதிகரிக்கும்
4. பாண், துப்பாக்கி என்ற இரண்டினதும் அமையச் செலவு குறையும்.
5. துப்பாக்கியின் அமையச் செலவு மாறாதிருக்க பாணின் அமையச் செலவு அதிகரிக்கும்.

03. பின்வரும் கூற்றுக்களில் சந்தைப் பொருளாதாரத்தின் பிரதான இயல்பொன்றான விபரிக்கும் கூற்று எது?

1. அரசாங்கத்தினால் வரையறுக்கப்பட்ட ஒரு பொதுத்திட்டத்திற்கு அமைய நிறுவனங்கள் பொருளுற்பத்தி பற்றி தீர்மானித்தல்
2. வெவ்வேறு பொருளாதார நடவடிக்கைகளிடையே சாதனங்களின் பயன்பாட்டை சந்தையினூடாக இயங்கும் சார்பு வினாக்கள் நிர்ணயித்தல்
3. உற்பத்தி தொடர்பாக ஊழியச் செறிவான முறைகளைப் பயன்படுத்தல்
4. எப்பொழுதும் கேள்வி நிரம்பல் சக்திகளினால் விலைகள் நிர்ணயிக்கப்படுதல்
5. அரசாங்கமும் தனியார்துறையினரும் இணைந்து வள ஒதுக்கீட்டினை நிர்ணயித்தல்

04. அண்மைக்காலத்தில் அரசியின் விலை அதிகரித்ததன் விளைவாக இடம் பெறமுடியாத நிகழ்வு யாது?

1. அரிசிக்கான கேள்விக்கோடு வலப்புறம் நகருதல்
2. அரிசிக்கான கேள்வித் தொகை குறைவடைதல்
3. கோதுமை மாவிற்கான கேள்வி அதிகரித்தல்
4. கோதுமை மாவிற்கான கேள்விக் கோடு வலப்புறம் நகருதல்
5. அரிக்கான கேள்விக்கோடு மாற்றமடையாதிருத்தல்.

05. இழிவுப் பண்டம் ஒன்றிற்கான கேள்வியின் வருமான நெகிழ்ச்சி

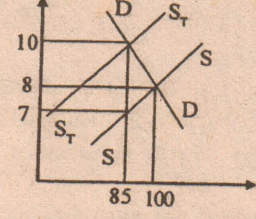
1. பூச்சியமாகும்.
2. நெகிழ்வற்றது
3. அலகு நெகிழ்ச்சியாகும்
4. எதிர்க்கணியமானது
5. நேர்க்கணியமாகாது

06. சந்தைக் கேள்வி என்பது

1. கேள்வியானது நிரம்பலுக்கு சமமாகவில்லாத நிலையாகும்
2. சந்தையானது சாதனங்களைத் திறமையாக ஒதுக்கீடு செய்யாத நிலையாகும்
3. நிறுவனங்கள் ஒரு தொழிலைவிட்டு வெளியேறுவதால் ஏற்படும் நிலையாகும்
4. மத்திய ரீதியில் திட்டமிடப்பட்ட பொருளாதாரங்களோடும் தொடர்புள்ள நிலையாகும்.
5. அரசாங்கமானது கட்டில்லாச் சந்தைச் சமநிலை விலையிலும் பார்க்க உயர்ந்த விலையை நிர்ணயிக்கும் நிலையாகும்.

07. பின்வரும் வரைபடத்தைக் கருத்திற்கொண்டு அரசாங்கத்தினால் பெறப்பட்ட வரிமானம் எவ்வளவு?

1. ரூபா 200
2. ரூபா 285
3. ரூபா 250
4. ரூபா 315
5. ரூபா 255



08. ஒரு நிறுவத்தின் நிலையான செலவுகள் இரட்டிக்குமாயின் எல்லைச் செலவு

1. இரட்டிக்கும்
2. இருமடங்கிற்கும் மேலாக அதிகரிக்கும்
3. மாறாதிருக்கும்
4. 50 வீதத்தால் அதிகரிக்கும்
5. 100 வீதத்தால் குறையும்.

09. ஒரு நிறுவனம் ஒரு பண்டத்தில் அலகுகளை உற்பத்தி செய்தது. அலகொன்றுக்கான சராசரிச் செலவு ரூபா 8000 ஆகும். தற்பொழுது உற்பத்தியினை 21 அலகுகளாக அதிகரிக்கப்படுகின்றது. மேலதிக உற்பத்தியின் காரணமாக சராசரிச் செலவு ரூபா 7900 ஆக குறைந்தது. இம் மேலதிக உற்பத்தியின் எல்லைச் செலவு யாது?

1. ரூபா 10,000
2. ரூபா 376
3. ரூபா 5900
4. ரூபா 7900
5. ரூபா 470

10. மாற்றல் கட்டணம் என்பது,

1. உற்பத்திக் காரணிகள் மாற்றுப் பயன்பாட்டை கொண்டிருப்பதனால் பெறும் வருமானம்
2. வேலையற்றவர்களுக்கும் ஓய்வு பெற்றவர்களுக்கும் அரசினால் வழங்கப்படும் கொடுப்பனவுகள்
3. சிக்கன வாடகையின் ஒரு பகுதியைக் குறித்து நிற்கும்
4. ஒரு உற்பத்திக்காரணி தனது பயன்பாட்டின் போது பெறுகின்ற குறைந்த பட்சக்கொடுப்பனவு
5. குறைந்தபட்ச கொடுப்பனவைவிட மேலதிகமாக பெறும் வருமானம்.

11. அலகு நெகிழ்ச்சிக்கூரிய பண்டமொன்றின் விலை 10% ஆல் வீழ்ச்சியடையின் உற்பத்தியாளரின் வருமானம்,

1. 10% ஆல் வீழ்ச்சியடையும்
2. 10% ஆல் அதிகரிக்கும்
3. 0.1 % ஆல் வீழ்ச்சியடையும்
4. 0.1 % ஆல் அதிகரிக்கும்
5. வருமானம் மாறாதிருக்கும்.

12. ஒருவரின் வருமானம் ரூபா 25,000 லிருந்து ரூபா 27,000 ஆக அதிகரித்தால் அவரது சேமிப்பு ரூபா 900 லிருந்து ரூபா 1300 ஆக அதிகரித்தது. எல்லைச் சேமிப்பு நாட்டம் யாது?

1. 0.2
2. 0.3
3. 0.4
4. 0.6
5. 0.8

13. ஒரு திறந்த பொருளாதாரத்தில் மொத்தக் கோள்வியை அதிகரிக்கச் செய்யும் செலவீடுகள் எது?

1. $I+G+X$
2. $S+T+m$
3. $S=I$
4. $T=G$
5. $C+I+T$

14. பின்வருவனவற்றுள் எது உண்மையற்றது,

1. $Y+C+I+G+(x-m)$
2. $Y=C+I+G+N_x$
3. $Y=C+I+T$
4. $Y=C+S$
5. $Y+M=C+I+G+z$

15. உற்பத்தியில் உள்ளார்ந்த செலவுகள் இருக்குமாயின்,

1. கணக்கியல் இலாபம் பொருளியல் இலாபத்தைவிட உயர்வாக இருக்கும்
2. பொருளியல் இலாபம் எப்போதும் சமமாக இருக்கும்
3. பொருளியல் இலாபம் கணக்கியல் இலாபத்தைவிட உயர்வாக இருக்கும்
4. கணக்கியல் இலாபம் எப்போதும் பூச்சியமாக இருக்கும்
5. பொருளியல் இலாபமும் கணக்கியல் இலாபமும் சமமாக இருக்கும்.

16. பின்வருவனவற்றுள் எது தரப்பட்ட ஒரு ஆண்டிற்காக மொத்த உள்நாட்டு உற்பத்தியில் சேர்த்துக்கொள்ளப்படும்?

1. கம்பனி ஒன்றினது 1000 பங்குகளின் கொள்வனவு
2. பங்குக் கொடுக்கல் வாங்கல்களில் ஈடுபடும் ஒரு தரகு நிறுவனத்திற்கு ஒருவன் தான்வாங்கிய பங்குகளின் பெறுமதியின் 2% செலுத்துதல்
3. ஓய்வு பெற்ற ஒரு அரசாங்க சேவையாளர் பெறும் மாதாந்த ஓய்வூதியக் கொடுப்பனவு
4. பஸ்கலைக்கழக மாணவன் ஒருவன் பெறும் மாதாந்த புலமைப் பரிசில்படி
5. திறைசேரி உண்டியல்களின் மீது அரசாங்கம் செலுத்தும் வட்டிக்கொடுப்பனவு.

17. தூய பொதுப்பண்டத்திற்கு ஓர் உதாரணம்

1. தேசிய பாதுகாப்பு
2. பாண் துண்டொன்று
3. கல்வி
4. தொலைக்காட்சிப்பெட்டியொன்று
5. நெடுஞ்சாலைப்பொன்று

18. தனியுரிமைப் போட்டியிலிருக்கும் நிறுவனமொன்று நீண்டகாலத்தில்
1. பூரணநெகிழ்ச்சி கொண்ட கேள்வி வளையியை எதிர்நோக்கும்.
 2. காரணிமொத்தச் செலவை ஆகக் குறைந்ததாக்கும் அளவிலும் பார்க்கக் கூடிய தொகையை உற்பத்தி செய்யும்
 3. சராசரி மொத்தச் செலவை ஆகக் குறைந்ததாக்கும் அளவிலும் பார்க்க குறைவான தொகையை உற்பத்தி செய்தல்
 4. சராசரி மொத்தச் செலவை ஆகக் குறைந்ததாக்கும் தொகையினை உற்பத்தி செய்யும்.
 5. சராசரி இலாபத்திலும் பார்க்கக் கூடிய இலாபத்தை உழைக்கும்.
19. கடன் பெறுதல் மூலம் நிதிப்படுத்தப்படும் ஒரு பற்றாக்குறையானது
1. மொத்த நுகர்வுச் செலவினை எப்போதும் உயர்த்தும்
 2. அதற்கான நிதியங்கள் வெளிநாட்டு மூலங்கள் வாயிலாக கிடைக்குமாயின் தேசிய படுகடனைப் பாதிக்கும்
 3. தேசிய படுகடனை அதிகரிக்கச் செய்யும்
 4. எப்போதுமே பண நிரம்பலை அதிகரிக்கச் செய்யும்
 5. மெய்வளங்கள் திரட்டப்படுவதைப் பாதிப்பதில்லை.
20. பின்வருவற்றுள் எது மொத்தவளங்களில் சேர்க்கப்படுவதில்லை.
1. பொருட்கள் காரணியில்லாச் சேவைகளின் ஏற்றுமதி
 2. பொருட்கள் காரணியில்லாச் சேவைகளின் இறக்குமதி
 3. விவசாயத் துறையின் கூட்டிய பெறுமதி
 4. கைத்தொழில் துறையின் கூட்டிய பெறுமதி
 5. சேவைகள் துறையின் கூட்டிய பெறுமதி

பொருளியல் I-II

02 மணித்தியாலங்கள்

ஒவ்வொரு பகுதியிலிருந்தும் இருவினாக்களைத் தெரிவு செய்து மொத்த நான்கு வினாக்களுக்கு விடை தருக.

பகுதி-A

01. இலங்கையில் கணினி, மோட்டார் வாகனம் ஆகிய இரு பொருட்களுக்கான உற்பத்திகள் நடைபெறும் போது வளங்கள் யாவும் பூரணமாகப் பயன்படுத்தப்பட்டு கணினி உற்பத்தியில் 600 அலகுகளையும், மோட்டார் வாகன உற்பத்தியில் 800 அலகுகளையும் ஒரே நேரத்தில் உற்பத்தி செய்கின்றது. 0.75 அலகு மோட்டார் வாகன உற்பத்தியை இழக்க வேண்டும்.
- அ. இத்தரவுகளைப் பயன்படுத்தி கணினி உற்பத்தியை கிடையச்சிலும் மோட்டார் வாகன உற்பத்தியை நிலைக்குச்சிலும் காட்டத்தக்க வகையில் நேர்கோட்டு உற்பத்தி இயல்தகவு வளையியை வரைக. (3 புள்ளிகள்)
- ஆ. கணினி உற்பத்தியை 300 அலகுகளால் அதிகரிக்க வேண்டுமாயின் அமையச் செலவு யாது? (3 புள்ளிகள்)
- இ. வரைபடத்தில் காட்டியவாறு எவ்வகை அமையச் செலவு காணப்படும்? (3 புள்ளிகள்)
- ஈ. கணினி உற்பத்திச் சார்பாக புதிய நுட்பங்கள் பயன்படுத்தப்பட்டமை காரணமாக உற்பத்தி இயல்தகவு வளையியின் எல்லாப் புள்ளிகளிலும் கணினி உற்பத்திகள் சார்பாக 100 அலகுகளைக் கூடுதலாக உற்பத்தி செய்யக் கூடியதாக உள்ளது. இந்நிலமையினை வரைபடத்தில் காட்டுக. (3 புள்ளிகள்)
- உ. இப்புதிய உற்பத்தி இயல்தகவு வளையியின்படி ஒரு அலகு கணினி உற்பத்தி அதிகரிப்பதற்கான அமையச் செலவு யாது? (3 புள்ளிகள்)
02. அ. கலப்புப் பொருளாதாரமொன்றில் அரசாங்கமானது வருமானச் சமனின்மை தொடர்பான பிரச்சினைகளை எவ்வழிகளினூடாக கையாளுகின்றது? (3 புள்ளிகள்)
- ஆ. உற்பத்திக் காரணி ஒதுக்கீடு செய்யும் ஒரு வழியாக விலைப் பொறி முறையின் பிரதான பிரதிகூலங்கள் எவை? (3 புள்ளிகள்)
- இ. சமதர்மப் பொருளாதாரத்தில் சமூக நலன் எனும் பதத்தின் விளக்கம் யாது? (2 புள்ளிகள்)
- ஈ. கட்டில்லாச்சந்தைப் பொருளாதாரமொன்றில் விலைப்பொறிமுறையானது எவ்வழிகளில் உற்பத்திச் சாதனங்களை ஒதுக்கீடு செய்கின்றது? (3 புள்ளிகள்)
- உ. சமதர்மப் பொருளாதாரம் ஏன் குறைபாடுடையது எனப்படுகின்றது? (4 புள்ளிகள்)
03. சந்தையில் குறித்த ஒரு பண்டம் தொடர்பாக பின்வருவன முறையே கேள்வி வழங்கல் வளையிகளின் இரு புள்ளிகள் எனக் கொள்க.
- | விலை (ரூபா) | கேள்வித்தொகை (அலகுகள்) | நிரம்பல் தொகை (அலகுகள்) |
|-------------|------------------------|-------------------------|
| 2 | 2500 | 300 |
| 40 | 500 | 2400 |
- அ. நேர்கோட்டுத் தன்மை உள்ளது எனக் கொண்டு கேள்வி வழங்கல் வளையிகளை வரைக. (2 புள்ளிகள்)
- ஆ. மிகைக்கேள்வி நிரம்பல் 0 ஆக உள்ளபோது விலை, தொகை யாது? (2 புள்ளிகள்)
- இ. சமநிலை விலையின் போது கேள்வி நிரம்பல் நெகிழ்ச்சிகளைக் கணிப்பிடுக. (3 புள்ளிகள்)
- ஈ. அட்டவணையில் இருந்து கேள்வி, நிரம்பல் சமன்பாடுகளைப்பெறுக? (2 புள்ளிகள்)
- உ. அறவிடக்கூடிய உயர்ந்தபட்ச விலையாக 10/= என அரசு விதிக்கும் போது சந்தையில் ஏற்படக்கூடிய மாற்றங்கள் எவை? (4 புள்ளிகள்)
- ஊ. எவ்வாறு வழமை நிலமைக்கு சந்தையை கொண்டு வரலாம்? (2 புள்ளிகள்)

04. அ. நிலைபோட்டிச் சந்தையின் சிறப்பியல்புகள் எவை? (4 புள்ளிகள்)
- ஆ. தனியுரிமைப் போட்டிக்கும் தனியுரிமைக்கும் இடையிலான ஒற்றுமைகள், வேற்றுமைகள் இவ்விரண்டு தருக. (4 புள்ளிகள்)
- இ. குறைந்து செல்லும் விளைவுகளுக்கும், குறைந்து செல்லும் அளவுத்திட்ட விளைவுகளுக்கும் இடையே ஏதேனும் வேறுபாடு இருப்பின் அது யாது? (3 புள்ளிகள்)

ஈ. எச்சந்தர்ப்பங்களில் ஒரு உற்பத்திக்காரணியின் மொத்த உழைப்புகளில் மாற்றல் வளங்கள அடங்கியிருக்கும்? வரிப்படம் மூலம் விளக்குக.

பகுதி B

05. குறித்த ஓர் ஆண்டுக்கான தேசிய வருமானக் கணக்குகள் பற்றிய தரவுகள் உமக்குத் தரப்படுகின்றன.
- | | |
|----------------------------------|------|
| வாடகை | 2000 |
| கூலிகளும் சம்பளங்களும் | 6000 |
| வட்டி | 500 |
| சுய தொழிலின் கூட்டுவருமானம் | 200 |
| பங்கு இலாபங்கள் | 300 |
| சமூகப்பாதுகாப்புக் கொடுப்பனவுகள் | 100 |
| கூட்டுத்தாபன இலாபவரி | 400 |
| தனிநபர் மீதானவரி | 200 |
| மாற்றல் கொடுப்பனவு | 50 |
| வெளிநாட்டிலிருந்து பெற்றவை | 400 |
| வெளிநாட்டுக்கு அனுப்பப்பட்டவை | 300 |

பின்வருவனவற்றைக் கணிக்குக.

- ஆ. 1. மொத்த உள்நாட்டு வருமானம்
2. தேசிய வெளிநாட்டுக் காரணி வருமானம்
3. மொத்த தேசிய வருமானம்
4. தனிநபர் வருமானம்
5. கையாள் தகு வருமானம்

(10 புள்ளிகள்)

ஆ. இலங்கையில் வீட்டுத்துறைக்கான பிரதான அரச மாற்றல் கொடுப்பனவுகளைப் பட்டியலப்படுத்துக. (3 புள்ளிகள்)

இ. தேசிய வருமானம், மக்கள் வருமானத்தில் இருந்து எவ்வகையில் வேறுபடுத்துகின்றது? (2 புள்ளிகள்)

06. அ. எல்லை நுகர்வுநாட்டத்தினதும் எல்லை சேமிப்புநாட்டத்தினதும் கூட்டுத் தொகை எப்போதும் ஒன்றிற்கு சமமாக இருப்பது ஏன்? (3 புள்ளிகள்)

ஆ. ஒரு திறந்த பொருளாதாரத்தின் வருமானச் சுற்றோட்டத்தில் "செலுத்துதல்" "பின்வாங்கல்" என்பவற்றின் கருத்தை விளக்குக.

இ. திறந்த பொருளாதாரம் ஒன்று தொடர்பான தரவுகள் பின்வருமாறு,

$$\begin{aligned} C &= 1000 + 0.8y_b & T &= 0.27 \\ I &= 500 & X &= 380 \\ G &= 300 & m &= 200 \end{aligned}$$

பின்வருவனவற்றைக் கணிப்பிடுக.

1. சமநிலைத் தேசிய வருமான மட்டத்தைக் கணிப்பிடுக.
2. செலவிடத்தக்க வருமானம் யாது?
3. நுகர்வின் அளவு யாது?
4. சேமிப்பின் அளவு யாது?

(8 புள்ளிகள்)

07. அ. அரசாங்கத்தின் பிரதான பொருளாதார தொழிற்பாடுகளைக் கூறுக. (3 புள்ளிகள்)

ஆ. எதிர்க்கணிய வெளிவாரி விளைவு என்பதன் கருத்து யாது அத்தகைய பொருளாதார நடவடிக்கைகளுக்கு உதாரணம் தருக? (3 புள்ளிகள்)

இ. எந்நிலைமைகளின் கீழ் நெறிப்படுத்தப்படாத சந்தைகள் சாதனங்களைத் திறமையாக ஒதுக்கீடு செய்வதில் தோல்வியடையும்? (4 புள்ளிகள்)

ஈ. அரசாங்கத்தின் தோல்வி என்பதனால் கருதப்படுவது யாது? (3 புள்ளிகள்)

உ. பேரினப் பொருளாதாரத்தின் இரு குறிக்கோள்களும் எவை? (2 புள்ளிகள்)

08. அ. அரசு பாதிட்டின் ஆரம்பப் பற்றாக்குறை என்பதனால் கருதப்படுவது என்ன? (2 புள்ளிகள்)

ஆ. சந்தைத் தோல்வி ஏற்படுவதற்காக காரணங்கள் எவை? (5 புள்ளிகள்)

இ. இலங்கையில் பொது நிறுவனங்கள் மறுசீரமைப்பதற்கு முன்வைக்கப்பட்ட நான்கு முக்கிய சீர்திருத்தங்களை பெயரிட்டுக் குறிப்பிடுக. (4 புள்ளிகள்)

ஈ. பாரிய வரவு செலவுத்திட்டக் குறைநிலைகளின் பொருளாதார நடத்தை ஆராய்க. (4 புள்ளிகள்)

பொருளியல் II-II

02 மணித்தியாலங்கள்

பிரிவு "அ" விலிருந்து இரு வினாக்களையும் பிரிவு "ஆ" விலிருந்து இரு வினாக்களையும் தெரிவு செய்து நான்கு வினாக்களிற்கு மட்டும் விடை எழுதுக.

பிரிவு "அ"

- 01) 1. பணத்தை வைத்திருப்பதற்கான உத்தேச நோக்கம் " என்பதன் பொருள் யாது? (03 புள்ளிகள்)
- 2) பணத்தின் சுழற்சி வேகம் என்பதன் பொருள் யாது? அது எவ்வாறு அளவிடப்படுகின்றது? (04 புள்ளிகள்)
- 3) விரிந்த பணம் என்பது ஒரு ஓரினத்தன்மை வாய்ந்த சொத்து அல்ல. அது பல வகையான சொத்துக்களை உள்ளடக்கியதாகும். இக்கூற்றை பரிசீலிக்கவும். (04 புள்ளிகள்)
- 4) மக்கள் தமது சொத்துக்களில் ஒரு பகுதியை வருமானம் உழைக்காத சொத்தாகிய பண வடிவில் வைத்திருப்பது ஏன்? (04 புள்ளிகள்)
- 02) 1) 'நாணயத்தளம்' என்பதால் நீர் கருதுவது யாது? அதன் உட்கூறுகள் எவை? (03 புள்ளிகள்)
- 2) பண நிரம்பலை குறைப்பதற்கு மத்திய வங்கி கையாளும் முறைகள் எவை? (03 புள்ளிகள்)
- 3) தாம் பெற்றுக் கொள்ளும் அனைத்து மிகை ஒதுக்குகளின் முழுத் தொகைக்கும் கடன்களைக் கொடுக்கும் வர்த்தக வங்கிகளைக் கொண்டுள்ள போட்டித் தன்மை கொண்ட வங்கித் தொழில் முறைமையொன்றையும் 25 வீதம் சட்ட நியதி ஒதுக்கு விகிதத்தில் தொழிற்படும் வர்த்தக வங்கிகளையும் கருதுக. பொது மக்களிடமிருந்தான ரூபா 2000 மில்லியன் வைப்பு களை அவை கொண்டிருக்கின்றது. மொத்த பணநிரம்பல் (m_1) ரூபா 2500 மில்லியனாகும்.
- (a) வங்கிகள் கொடுத்துள்ள கடன்களின் தொகை எவ்வளவு? (03 புள்ளிகள்)
- (b) பொது மக்கள் தாம் வைத்திருக்கும் பணத்தாள்கள் பணக்குற்றி கள் என்பவற்றில் ரூபா 100 மில்லியனை வைப்புச் செய்துள்ளனர் எனக் கருதுக. வங்கிகள் தமது இறுதிக் கடன் கொடுத்தலைச் செம்மையாக்கும் பொழுது மொத்த வைப்புக்களிற்கு என்ன நிகழும் என விளக்குக? (03 புள்ளிகள்)
- (c) அனைத்து செம்மையாக்கங்களும் செய்யப்பட்டதன் பின்னர் பண நிரம்பலின் (m_1) பெறுமதி யாது? (03 புள்ளிகள்)
- 03) இரண்டு நாடுகளினால் உற்பத்தி செய்யப்படும் இரண்டு பொருட்கள் தொடர்பான தகவல்கள் உமக்கு கீழே தரப்பட்டுள்ளன.

நாடு	ஊழியம் ஒன்றிற்கான வெளியீடு	
நாடு	சொக்கலேட் (kg)	பால் (l)
சுவிற்சர்லாந்து	2	1
நியூசிலாந்து	4	3

1. சொக்கலேற் மற்றும் பால் உற்பத்தியில் முழு நன்மையை அனுபவிக்கும் நாடு எது? (01 புள்ளி)
2. இரு நாடுகளும் 1000 ஊழிய மணித்தியாலங்களை கொண்டுள்ளது என்றும் அது இரு உற்பத்தி நிறுவனங்களிற்கிடையில் சமமாக பங்கிட்டுள்ளது எனவும் கருதுக. சிறப்புத்தேர்ச்சிக்கு முன் இரு பொருட்களினதும் உலக உற்பத்தி யாது? (03 புள்ளிகள்)
3. ஒவ்வொரு நாடும் இரண்டு பண்டங்களையும் உற்பத்தி செய்வதற்கான அமையச் செலவை வேறுவேறாகக் கணிக்க? (04 புள்ளிகள்)
4. ஒப்பீட்டு அணுகலக் கோட்பாட்டின் ஊடாக உமது முடிவைப் பெறுவதற்கு மேலே கணிப்பிட்ட அமையச் செலவுத் தகவல்களை நீர் எவ்வாறு பயன்படுத்துவீர்? (03 புள்ளிகள்)
5. இரு நாடுகளும் முழு சிறப்புத் தேர்ச்சி முறையினைப் பின்பற்றி இருப்பின் சிறப்புத் தேர்ச்சியின் பின்னரான உலக உற்பத்தி என்னவாக இருக்கும். (04 புள்ளிகள்)
- 04) தரப்பட்ட ஆண்டின் ஒரு நாட்டினுடைய வெளிநாட்டு கொடுக்கல் வாங்கல் தொடர்பான தகவல்கள் கீழே தரப்பட்டுள்ளன. (எல்லா பெறுமதிகளும் மில்லியன் ரூபாவில் எனக் கருதுக)

பண்ட ஏற்றுமதி	1400
பண்ட இறக்குமதி	2000
வருமான பெறுகைகள்	60
வருமான கொடுப்பனவுகள்	140
தேறிய தனியார் மாற்றல்கள்	400
தேசிய அலுவல்சார் மாற்றல்கள்	30
சேவைகளின் ஏற்றுமதி	500
சேவைகளின் இறக்குமதி	450
தேறிய நீண்டகால தனியார் மூலதன பெறுகைகள்	20
தேறிய நீண்டகால அரசு மூலதன பெறுகைகள்	60

தேறிய வெளிநாட்டு நேரடி முதலீடுகள்	100
தனியார் மயமாக்கல் பெறுகைகள்	20
தேறிய மூலதன மாற்றல்கள்	80

1. பின்வருவனவற்றை கணிக்க
a) சென்மதி நிலுவையின் நடைமுறைக்கணக்கு மீதி (02 புள்ளிகள்)
- b) மூலதன மற்றும் நிதியியல் கணக்கு மீதி (02 புள்ளிகள்)
- c) முழு மொத்த மீதி (03 புள்ளிகள்)
- d) நாணய அசைவுகள் (02 புள்ளிகள்)
2. பின்வரும் கருப்பொருள்களை வேறுபடுத்துக
a) நாணய பெறுமதி இறக்கம், நாணயத்தேய்வு (03 புள்ளிகள்)
- b) பெயரளவு தாக்கமுள்ள நாணயமாற்று வீதம், உண்மைத்தாக்கமுள்ள நாணயமாற்று வீதம் (03 புள்ளிகள்)

பிரிவு "ஆ"

- 05) அரசியல், பொருளாதாரம் மற்றும் சமூக கலந்தாலோசனையில் இன்று GSP + ஒரு முக்கிய தலைப்பாக அடிக்கடி எடுத்துரைக்கப்பட்டு வருகின்றன.
1. GSP + என்றால் என்ன? (02 புள்ளிகள்)
2. GSP + இனால் இலங்கைப் பொருளாதாரத்திற்கு கிடைக்கும் என எதிர்பார்க்கும் நன்மைகள் யாவை? (04 புள்ளிகள்)
3. ஏற்கனவே இலங்கைக்கு அளிக்கப்பட்ட GSP + சலுகையை ஏன் ஐரோப்பிய ஒன்றியம் மீளப் பெற்றது. (03 புள்ளிகள்)
4. இலங்கைப் பொருளாதாரம் GSP + வரிச்சலுகையை மீளப் பெற்றதால் ஏற்படும் எதிர்பார்த்த இழப்புக்களை எவ்வாறு தடுக்கும். இதற்கு இலங்கைப் பொருளாதாரம் எவ்வாறு முகம் கொடுத்தல் வேண்டும். (05 புள்ளிகள்)
- 06) 1. குறுங்கால பொருளாதார வளர்ச்சியையும், நீண்ட கால பொருளாதார வளர்ச்சியையும் வேறுபடுத்துக. (03 புள்ளிகள்)
2. 'பொருளாதார வளர்ச்சிக்கு உயர்ந்த தேசிய சேமிப்பு மட்டம் அவசியமானதாக இருப்பினும் அது பொருளாதார வளர்ச்சிக்கு போதுமான ஒரு முன் நிபந்தனையன்று' இக் கருத்தினை ஏற்பீரா? உமது விடைக்கு காரணம் தருக? (04 புள்ளிகள்)
3. பொருளாதார வளர்ச்சியானது அபிவிருத்திக்கு இட்டுச் செல்வதை உறுதிப்படுத்துவதற்கு அரசாங்கம் பின்பற்றக்கூடிய குறிப்பிடத்தக்க கொள்கைகள் யாவை? (04 புள்ளிகள்)
4. ஓர் அரசாங்கம் தனது பேரண்டப் பொருளியற் குறிக்கோள்களை எய்துவதற்குப் பயன்படுத்தக்கூடிய பிரதான கொள்கை நடவடிக்கைகளை விபரிக்க. (04 புள்ளிகள்)
- 07) 1. நாடுகளிற்குமிடையில் காணப்படும் வருமான இடைவெளி பற்றிய பெருமளவு உண்மை நிலையினைப் பெற்றுக் கொள்வதற்கு பயன்படுத்தப்பட்டு வரும் முறை யாது? (03 புள்ளிகள்)
2. முழுவறுமை, சார்பு வறுமை என்ற எண்ணக்கருக்களை வேறுபடுத்திக் காட்டுக? (03 புள்ளிகள்)
3. அபிவிருத்தியடையும் நாடுகளில் வறிய மக்கள் பொருளாதார வளர்ச்சியின் நன்மைகளைப் பெற முடியாதிருப்பதற்கான காரணங்களைக் கூறுக. (04 புள்ளிகள்)
4. இலங்கையில் நகர்ப்புறத் துறையுடன் ஒப்பிடுகையில் கிராமியத் துறையில் உயர் வறுமை மட்டம் நிலவுகின்றமைக்கான காரணங்களைத் தருக? (05 புள்ளிகள்)
- 08) 1. இலங்கை உட்பட அபிவிருத்தியடைந்து வரும் நாடுகளின் வளர்ச்சிக்கு தடையாகவுள்ள அதிமுக்கிய காரணிகள் யாவை? (03 புள்ளிகள்)
2. இலங்கையின் முதலீட்டுச் சூழலில் காணப்படும் மிகவும் மோசமான தடங்கல்கள் யாவை? (04 புள்ளிகள்)
3. உள்நாட்டு முதலீடுகளை விரிவுபடுத்த அண்மைக்காலத்தில் அரசு மேற்கொள்ளும் நடவடிக்கைகள் யாவை? (04 புள்ளிகள்)
4. இலங்கையில் அண்மைய ஆண்டுகளில் பிராந்திய ரீதியான சமமின்மை அதிகரிப்பதற்குப் பங்களித்த காரணிகளை இனங்காண்க? (04 புள்ளிகள்)

யாழ்ப்பாண விஞ்ஞான சங்கத்தின் பிரிவு A வழங்கும்...

மனித உடல் ஆரோக்கியத்தில் விற்றமின் B இன் முக்கியத்துவம்

விற்றமின் B கூட்டத்தைச் சேர்ந்த விற்றமின்கள் 1900 ஆம் ஆண்டின் ஆரம்பத்தில் கண்டுபிடிக்கப்பட்டன. அதனைத் தொடர்ந்து விற்றமின் B ஆனது எவ்வாறு உடல் ஆரோக்கியத்தில் பங்களிப்புச் செய்கின்றது என்பதைப் பற்றி ஆராய்ந்து, அதன் முக்

(pangarnic acid), விற்றமின் B16 (Dimethyl glycine, விற்றமின் B17 (amygdalins), விற்றமின் B18, விற்றமின் B19, விற்றமின் B20 (carnitine), விற்றமின் B21, விற்றமின் B22 மற்றும் விற்றமின்கள் Bh, Bm, Bp, Bt, Bv, Bw, Bx என்பனவாகும்.

கொலஸ்ரோலின் (serum cholesterol) அளவைக் குறைத்து குருதிச் சுற்றோட்டத்தை சீராக்குகிறது.

நியாசின் குறைபாட்டால் பெலகரா (pellagra) நோய் ஏற்படுகிறது. இவ்விற்றமினானது ஈரல், மீன், இறைச்சி, நடல் (Nuts), உலர்ந்த அவரை மற்றும் முழுத் தானியங்களிலும் காணப்படும்.

B5-பன்ரோதீனிக் அமிட (Pantothenic acid)


இவ்விற்றமின் ஆனது அதிரீனர் சுரப்பிகளின் (adrenal glands) செயற்பாட்டு வினைத்திறனைக் கூட்டுகின்றது. அத்துடன் இலிப்பிட்டு, மாப்பொருள் மற்றும் புரதத்தின் அனுசேபத் தொழிற்பாட்டிற்கு அவசியமாகின்றது.

இவ்விற்றமின் அநேகமான உணவுப் பொருட்களில் காணப்படுகிறது.

B6- பைரிடாக்சின், (pyridoxine)

இது இலிப்பிட்டு அனுசேபத்தில் பங்களிப்புச் செய்கிறது. மற்றும் பல்வேறு அமினோஅமிலங்களின் அனுசேபத்திற்கு தேவைப்படுகிறது. மேலும் இரைப்பை அகவணியில் (stomach lining) ஐதரோக் குளோரிக் அமிலத்தின் (Hcl) உற்பத்திக்கு உதவுகிறது. அத்துடன் செங்குருதிச் சிறுதுணிக்கை (RBC) மற்றும் பிற உடல்களின் (antibodies) உற்பத்திக்குத் தேவைப்படுகிறது.

இவ்விற்றமின் ஆனது மீன், இறைச்சி, ஈரல், உருளைக்கிழங்கு, கோதுமை, வாழைப்பழம், உலர்ந்த அவரை என்பவற்றில் காணப்படும்.



Vitamin B12

Natural sources of vitamin B12:

Eggs, meat, poultry, shellfish, milk and milk products

B12 is also added to fortified grain products, such as cereals

கியத்துவமும் தொழில்களும் தெளிவாக்கப்பட்டன.

விற்றமின் B கூட்டத்தைச் சேர்ந்த முக்கியமான விற்றமின்களாவன விற்றமின் B1-தயமின் (Thiamine), விற்றமின் B2-ரைபோபிளேவின் (Ribo Flavin), விற்றமின் B3- நியாசின் (Niacin), விற்றமின் B5-பன்ரோதீனிக் அமிட (Pantothenic acid), விற்றமின் B6- பைரிடாக்சின், பைரிடாக்சல், பைரிடாக்சமன் (pyridoxine, Pyridoxal & Pyridoxamine), விற்றமின் B7-பயோட்டின் (Biotin),

கள் பாதிக்கப்படுகின்றன.

ஆனால் தயமின் பற்றாக்குறை (Thiamine deficiency) அரிதாகவே உள்ளது. அநேகமாக மது அருந்துபவர்களுக்கு இக்குறைபாடு ஏற்படுகிறது. ஏனெனில் மதுசாரம் (alcohol) ஆனது தயமின் அகத்துறிஞ்சப்படுவதை தடை செய்கிறது.

இவ்விற்றமின் முழுத்தானியங்கள், உருளைக்கிழங்கு, பன்றியிறைச்சி, கடலுணவுகள், ஈரல், அவரை வகை என்பவற்றில் காணப்படுகிறது.

B2-ரைபோ பிளேவின் (Ribo Flavin)

இது சக்தியை உயர் மட்டத்தில் உற்பத்தி செய்வதில் முக்கியத்துவம் வகிக்கிறது. அதாவது மாப்பொருள், இலிப்பிட்டு, புரதம் அனைத்தினதும் அனுசேபத் தொழிற்பாட்டில் பங்களிப்புச் செய்கிறது. மேலும் நகம் (nail), தோல், தலைமுடி ஆகியவற்றின் புதுப்பித்தலுக்கு தேவைப்படுகின்றது. இவ்விற்றமின் ஆனது தாவரங்களாலும் நுண்ணுயிர்களாலும் மட்டுமே தொகுக்கப்படுகிறது. விலங்குகளால் தொகுக்கப்படுவதில்லை.

இவ்விற்றமின் குறைபாட்டால் உதடுகள் பாதிப்பு



விற்றமின் B9-போலிக் அமிட (Folic acid), விற்றமின் B12-கோபலமின்கள் (Cobalamins).

இவை மட்டுமன்றி மேலும் பல விற்றமின்கள் கண்டறியப்பட்டு, விற்றமின் B கூட்டத்தில் உள்ளடக்கப்பட்டுள்ளன. அவையாவன: விற்றமின் B8 (Adenosine monophosphate), விற்றமின் B10 (Para-amino benzoic acid), விற்றமின் B11 pteryl-hepta -glutamic acid), விற்றமின் B13 (arotic acid) B14, விற்றமின் B15

றுகின்றன. அதாவது உதடுகள் செந்நிற மடைந்து ஓரங்களில் வெடிப்புக்கள் அல்லது பிளவுகள் ஏற்படும் (cheilosis). மேலும் நாக்கில் அழற்சி (glossitis) ஏற்படலாம்.

ரைபோபிளேவின் ஆனது பார்பொருட்கள், ஈரல், பச்சைக் கீரை வகை, மரக்கறி வகைகள் என்பவற்றில் காணப்படும்.

B3- நியாசின் (Niacin)

இது பிரதானமாக செக்ஸ் ஓமோன்களின் (sex hormones) தொகுப்பிற்கு அவசியமாகின்றது. அத்துடன் குருதிப் பாபுத்திலுள்ள

முட்டை மஞ்சட்கரு, வாழைப்பழம், காளான், வெள்ளரிப்பழம், திராட்சைப்பழம் என்பவற்றிலும் காணப்படும்.

B9-போலிக் அமிட (Folic acid)

இது அநேகமான அடிப்படை உயிர்ச் செயற்பாடுகளில் உயிர்ப்பாகவுள்ளது. CG-DNA தொகுப்பு.

போலிக் அமிட குறைபாட்டால் பல்வேறு விதமான புற்றுநோய்க்கான கலங்கள் உருவாகின்றன.

போதுமானளவு போலிக் அமிட்டை உள்ளடக்குமாறு கர்ப்பிணிப் பெண்கள் அறிவுறுத்தப்படுகின்றனர்.

ஏனெனில் ஸ்பைனா பிபிடா (spinapibida) எனப்படுகின்ற முதுகெலும்புக் குறைபாடு பிறக்கும் குழந்தைகளுக்கு ஏற்படுவதைத் தவிர்ப்பதற்காகும். அதுவது இப்பிறப்புரிமைக் குறைபாடு போலிக் அமிட

செல்வி.ராஜிகா வசந்தரூபன்
செய்முறை காட்டுனர், விலங்கியற்றுறை, யாழ்ப்பல்கலைக்கழகம்.

பற்றாக்குறையால் ஏற்படுகிறது. இவ்விற்றமின் ஆனது பச்சைக் கீரைகள், காய்கறிகள், ஈரல், சித்திரஸ் பழங்கள் (citrus fruits) அதாவது தோடை, எலுமிச்சை ஆகிய பழங்களிலும் மற்றும் காளான், அவரை என்பவற்றிலும் காணப்படுகின்றது.

Vitamin B2

Food sources of Riboflavin (vitamin B2):

Cereal, nuts, milk, eggs, green leafy vegetables and lean meat

B12-கோபலமின்கள் (Cobalamins)

இவ்விற்றமின் அனைத்து உடற்கலங்களினதும் சரியான தொழிலுக்கு அவசியம். விசேடமாக எண்பு மச்சை, நரம்பிழைபம் மற்றும் செங்குருதிச் சிறு

துணிக்கைகளின் (RBC) உற்பத்தி. இவை தாவரங்களாலோ அல்லது விலங்குகளாலோ தொகுக்கப்படுவதில்லை. பக்ரீரியாக்களால் (bacteria) மட்டுமே தொகுக்கப்படும்.

இவ்விற்றமின் குறைபாட்டால் தீங்கு விளைவிக்கக்கூடிய குருதிச்சோகை (pernicious anemia) ஏற்படலாம்.

கோபலமின்கள் முட்டை, இறைச்சி மீன் மற்றும் பார்பொருட்களில் காணப்படுகின்றன.

பொதுவாக விற்றமின் B கூட்டத்தைச் சேர்ந்த விற்றமின்கள் நொதியத் தாக்கங்களில் துணை நொதியங்களாக (Co-enzymes) அல்லது துணைக் காரணிகளாக (co-factors) செயற்படுகின்றன. இவை நீரிற் கரையக்கூடிய விற்றமின்கள். இதனால் மேலதிகமாக உள்ளடக்கப்படும் விற்றமின்கள் சிறுநீருடன் (urine) வெளியேற்றப்படுகின்றன.

வறத்திற்கு ஒரு புதிர்! 25

உலகில் உள்ள இரண்டு சுனாமி எச்சரிக்கை மையங்களில் ஒன்று வறவாய் (Hawaii) இலுள்ள பசுபிக் சுனாமி எச்சரிக்கை மையம் (Pacific Tsunami Warning Centre) ஆகும். மற்ற சுனாமி எச்சரிக்கை மையம் எங்கு அமைந்துள்ளது.

விடைகளை 22-07-2010 இற்கு முன் கிடைக்கக் கூடியதாக அனுப்ப வேண்டிய முகவரி: Mr. S.Selvarajan Editor, Section A Jaffna Science Association Dept. of Mathematics & Statistics, University of Jaffna, Jaffna.

சரியான விடையை அனுப்பும் அதிர்ஷ்டசாலிக்கு ரூபா 250/- பணப்பரிசு வழங்கப்படும்.

இப்பணப்பரிசுவை யாழ்ப்பல்கலைக்கழக விஞ்ஞான பீட இரசாயனவியல் துறையில் கலாநிதி மீனா செந்தில்நந்தனாமிடம் (குலைவர் பிரிவு A) நேரில் சென்று பெற்றுக் கொள்ளலாம்.

பரிசுக்கு அனுசாரணை வழங்குவோர்:
மக்கள் வங்கி, யாழ்ப்பல்கலைக்கழகம்.

புதிர் 23க்கான 250/-பரிசு பெறும் அதிர்ஷ்டசாலி **கார்த்திகேசு செல்வரத்தினம் வீரபத்திர கோவிலடி, கரணவாய் வடக்கு, கரவெட்டி.**

புதிர் 24 இற்கான விடை: பிளாட்டினம் (Pt)

யாழ்ப்பாண விஞ்ஞான சங்கம் புதிர் இல . 24

சரியான விடை :
முழுப்பெயர் :
முகவரி :
கையொப்பம் :

சிறுவர்களுக்கான கண்காட்சி

(யாழ்ப்பாணம்)
உலக சிறுவர் தினத்தை முன்னிட்டு சிறுவர் பராமரிப்பு வேலைகள் திணைக்களம் தேசிய சிறுவர் சபையின் புதிய விஞ்ஞான உற்பத்தி படைப்புகள் குழுவினருடன் இணைந்து சிறுவர்களுக்கான கண்காட்சி ஒன்றிணை நடத்த தீர்மானித்துள்ளது. இக்கண்காட்சிக்கு 12 முதல் 18 வயதிற்குட்பட்ட சிறுவர்கள் பங்குபற்ற முடியும் எனவும் படைப்புகள் சிறுவர்களின் சுய படைப்புக்களான என்பதை பாடசாலை வகுப்பாசிரியரும், கிராம சேவையாளரும் பெற்றோரும் உறுதிப்படுத்திய கடிதத்தை எதிர்வரும் 20 ஆம் திகதிக்கு முன்னர் நல்லூர் பிரதேச செயலக சிறுவர் பகுதிக்கு அனுப்பி வைக்கும்படி நல்லூர் பிரதேச செயலர் அறிவித்துள்ளார். (6-4-7)

அரியாலைப் பகுதியில் சட்டவிரோதமாக மணல் அகல்வு இடம்பெறுவதாக குற்றச்சாட்டு

(கொழும்புத்துறை)
அரியாலை அரசடி வீதியில் உள்ள காணிகளில் சட்ட விரோதமாக மணல் அகல்வுகள் இரவு பகலாக நடைபெற்று வருவதாக குறிப்பிடப்படுகிறது. இதனால் குடியிருப்புகள் குன்றும் குழியுமாக காணப்படுகிறது. சிலர் மணலைப் பதுக்கி வைத்து, விற்பனை செய்து வருவதாக காணி உரிமையாளர்கள் தெரிவிக்கின்றனர். (6-5)

பலவருடங்களின் பின் வன்னியில் வீதிகள், மதகுகள் புனரமைப்பு

(பருத்தித்துறை)
பல வருடங்களின் பின்னர் வீதி அபிவிருத்தி திணைக்களத்தினால் வன்னி மாவட்டத்தில் சேதமடைந்த வீதிகள், மதகுகள் போன்றவற்றை புனரமைக்கும் பணிகள் ஆரம்பிக்கப்பட்டுள்ளது. வடக்கு மாகாண வீதி அபிவிருத்தி திணைக்களப் பணிப்பாளர் த.சிவராஜசிங்கம் பணிப்பின் பேரில் வன்னி மாவட்ட பிரதம பொறியியலாளர் கே. ஜெயவீரசிங்கம் உரிய நடவடிக்கைகளை மேற்கொண்டு வருகிறார். இதன் பிரகாரம் கிளிநொச்சி மாவட்டத்தில் 4 வீதிகளும் 4 மதகுகளும்; முல்லைத்தீவு மாவட்டத்திலும் 4 வீதிகளும் 4 மதகுகளும் மற்றும் சில தடுப்புச் சுவர்களும் புனரமைக்கப்படவுள்ளது. இதற்கான நிதி கிடைக்கப் பெற்றதை அடுத்து மேற்குறித்த புனரமைப்பு வேலைகள் துரித கதியில் மேற்கொள்ளப்பட்டு வருகின்றன. மேலும் இத்திணைக்களம் வன்னியில் வீதிகள், மதகுகள், பாலங்கள் ஆகியவற்றை புனரமைக்க நடவடிக்கை மேற்கொள்ளுவதும் குறிப்பிடத்தக்கது. (6-10)

சட்டவிரோத மீன்பிடியில் ஈடுபட்டவர்கள் கைது

(கொழும்பு)
திருகோணமலை மாவட்டத்தில் சட்டவிரோத மீன்பிடியில் ஈடுபட்டிருந்த மீனவர்கள் மீன்பிடி உபகரணங்களுடன் கைது செய்யப்பட்டுள்ளனர். நேற்று முன்தினம் புதன்கிழமை குச்சுவெளி பொலிஸாரும் புல்மோட்டை பொலிஸாரும் எடுத்த நடவடிக்கை காரணமாக 3 மீன்பிடி படகுகளுடன் 6 மீனவர்கள் கைது செய்யப்பட்டனர். இவர்கள் வெடிபொருட்களைப்

பயன்படுத்தி மீன் பிடி நடவடிக்கையில் ஈடுபட்டுக்கொண்டிருந்தபோது கடலில் வைத்து கைது செய்யப்பட்டதாக பொலிஸார் தெரிவித்தனர். திருகோணமலை மாவட்டத்தில் அண்மைக்காலமாக சட்டவிரோத மீன்பிடி இடம்பெற்று வருகின்றது. குச்சுவெளி பிரதேச கட்டுப்பாட்டியல் வெடிபொருட்களையும் தடைசெய்யப்பட்ட வலைகளையும் பயன்படுத்தி மீன்பிடி நடவடிக்கை இடம்பெற்று வருவதாக குறிப்பிடப்படுகிறது. (6-4)

மொழிபெயர்ப்பு
1990ஆம்ஆண்டின் 4ஆம் இலக்க சட்டத்தின் வாங்கிகளினால் வழங்கப்பட்ட கடன்கள் அறவிடுதல் (விசேடசட்டம் 4ஆம் பிரிவு)

ஹட்டன் நஷனல் வங்கி P.L.C

யாழ்ப்பாணம் கிளையின் பகர்வக ஏலநிற்பனை

வலிகாமம் கிழக்கு பிரதேச சபை எல்லைக்குட்பட்ட ஆவரங்கால் கிராமத்தில் யாழ்ப்பாணம் பருத்தித்துறை பிரதான பாதையின் எல்லையில் அமைந்துள்ள அண்மையில் இருக்கும் நீதிதோட்டம் என்றழைக்கப்படும் காணி உரிமம் பெற்ற நில அளவையாளர் வ.எம்.ரோஸ் என்பவரினால் தயாரிக்கப்பட்ட 12.05.1970 திகதிய 1720 ஆம் இலக்க வரைபடத்தின் பிரகாரம் பிரித்தெடுக்கப்பட்டு லொட் 02 என அடையாளமிடப்பட்ட காணித்துண்டும் அத்துடன் அதனுள்ளடங்கும் வீட்டுக்கட்டிடமும் மற்றும் சகலதுமாகும். இதன் பரப்பளவு 01 லாச்சம் 17.01 குவீஸ் (19.44 மாச்சஸ்) ஆகும். இவ்வாதணம் செல்வரத்தம் திருவருட்செல்வம் என்பவர் கட்டபாடுடையவராக வழங்கப்பட்ட கடன் வசதிகளுக்காக ஹட்டன் நஷனல் வங்கி P.L.C. இற்கு ஈடுவைக்கப்பட்ட ஆதணம். ஆதணத்தை வந்தடைதல்:- புத்தூர் நகரத்திலிருந்து யாழ்ப்பாணம் - பருத்தித்துறை பாதை வழியே அச்சுவேலி பலநோக்கு சவுட்ரேவு சங்கம் வரை சென்றால் இதற்கு முன்னால் இவ்வாதணம் அமைந்துள்ளது. 17.07.2010 ஆம் திகதி மு.ப 10.00 மணிக்கு அதே இடத்தில் என்னால் பகிரங்க ஏலத்தில் விற்பனை செய்யப்படும். தீர்மானம் பற்றிய அறிவித்தலுக்கு 28.11.2008 ஆம் திகதிய அரசாங்க வார்த்தமானியையும் 10.12.2008 ஆம் திகதிய த ஜலண்ட, திவயின, தினகரன் பத்திரிகைகளையும் பார்க்கவும். விற்பனை பற்றிய அறிவித்தலுக்கு 18.06.2010 திகதிய அரசாங்க வார்த்தமானியையும் பார்க்கவும். கொடுப்பனவு முறை : விற்பனை தீர்க்கப்பட்டவுடன் கொள்முதல் செய்தவரினால் கீழ்க்காணும் விதத்தில் கொடுப்பனவுகள் வரக்கூடியவாறு செலுத்தப்படல் வேண்டும். கொள்முதல் விலையில் 10% பிரதேச சபை மற்றும் பிரதேச சபை வரி மற்றும் அரசாங்க கத்தினால் விதிக்கப்படும் வேறு வரிகளும் ஏல விற்பனையாளர் கட்டணம் 2.1/2% நொத்தாரிஸ் கட்டணம் ரூ.2000 இலிகிதர் மற்றும் சம்பிடுவோர் கட்டணம் ரூ.500 சகல பகிரங்கப்படுத்தல் செலவு, கொள்முதலில் மிகுதி 90% விற்பனை நாளிலிருந்து 30 நாட்களுக்குள் ஹட்டன் நஷனல் வங்கி P.L.C யில் செலுத்தப்படுதல் வேண்டும். மிகுதி தொகையை 30 நாட்களுக்குள் செலுத்த தவறினால் செலுத்தப்பட்டுள்ள பணத்தொகையில் 10% இழக்க வேண்டி ஏற்படுவதுடன் இவ்வாதணம் மீண்டும் விற்பனை செய்வதற்கு வாங்கிக்கு உரிமை உண்டு. உரித்தாதணம் மற்றும் விபரங்களுக்கு : பதில் பொது முகாமையாளர் (கடன் அறவிடுதல்) ஹட்டன் நஷனல் வங்கி, P.L.C., இல : 479 T.B ஜயா மாவத்தை, கொழும்பு 10 தொடர்பு கொள்ளவும். தொலைபேசி: 0112661821, 0112661815

I.W.ஜயசூரிய
நீதிமன்றங்கள் மற்றும் வர்த்தக வாங்கிகளினால் உத்தரவாதம் பெற்ற ஏல விற்பனையாளர் இல.83/5, போமலுவ பாதை, வட்ட புலுவ, கண்டி.
தொலைபேசி : 081 2211025, 0714755974
பக்ஸ்: 081 2211025

(1826)



www.inuvilkanthan.com

இருபத்திரண்டாம் திருவிழா சம்பறம் ஏறி நீ வருவாய்

குறவள்ளிக் கந்தனை குன்றுவை வேலனே செண்டுடை கோழியைக் கொடியிலே கொண்டவா வண்டுறை வனத்திலே வள்ளியைக் கவர்ந்தவா அஞ்சிடும் தேவரை காக்கவே உதித்தவா

வஞ்சனை கொண்ட அசுரரை அழிக்க வெஞ்சினம் கொண்டு வேலுடன் சென்றாய் வேருடன் பகைதனை வீட்டிலே வென்று களைதீர போரினுவைப் பதியில் பெருங்கோயில் கொண்டாய்

தும்பரவான வீதியிலே எழில் சம்பறமேறி நீ அமர சிற்றிடை மாதர் இருமருங்கில் சிற்பரங்கணபதி மறுமருங்கில் நாதஸ்வரமேளம் நாற்றிசையிலும் ஒளி முழுங்க நால்வேதக் கயிற்றினை நானிலத்தோர் இழுத்து வர நல்லருள் புரியும் கந்தன் நகையுடனே வீற்றிருந்தான்.

இணுவையூர் செல்வம் பவானந்தமூர்த்தி.

இணுவையூர் சண்முகா சரணம்

வள்ளி தெய்வானையின் மணவாளனாய் மாலைகூடி எல்லையில்லா தெய்வமாக வடிவெடுத்தாய் வேதனைகள் வரும் போதெல்லாம் முருகா வேல் கொண்டு வந்தீடுவாய் நெற்றிக் கண்ணாமிருந்து உதித்தவனே வெற்றிகள் வற்றுத் தந்தீடுவாய் குன்றத்தில் அமைந்தீடும் கோலமயிலானே குறைகள் தீர்த்தீட விரைந்து வாராய் வடிவேலா! நடராசா கெளரி அச்சுவேலி தெற்கு, அச்சுவேலி.

(1709)

ஐ.நா.அலுவலக முற்றுகையில் நடுபாட ஆர்ப்பாட்டக்காரர்களை அகற்றிய

பொலிஸார் மீது விசாரணை

(கொழும்பு)
ஐ.நா. அலுவலகம் முன்பாக ஆர்ப்பாட்டம் நடத்தப்பட்ட வேளையில் கடமையில் ஈடுபட்ட பொலிஸ் அதிகாரிகள் மற்றும் உத்தியோகத்தர்கள் தொடர்பில் விசேட பொலிஸ் பிரிவினர் விசாரணைகளை மேற்கொண்டுள்ளனர். தேசிய சுதந்திர முன்னணி கட்சியின் தலைவரும் முற்றுக்கைப் போராட்டத்தை தலைமைதாங்கி நடத்தியவருமான விமல் வீரவன்ச வினால் பொலிஸ் மா அதிபருக்கு செய்த முறைப்பாட்டைத் தொடர்ந்து இந்த விசாரணைகள் ஆரம்பிக்கப்பட்டுள்ளன. அமைச்சர் விமல் வீரவன்ச பொலிஸ் மா அதிபருக்கு செய்த முறைப்பாட்டில் கொழும்பு ஐ.நா. அலுவலகத்தில் பணிபுரியும் புலி உறுப்பினர்களிடமிருந்து இலஞ்சம் வாங்கிக் கொண்டு எம்மைத் தாக்கிய பொலிஸ் அதிகாரிகளுக்கு எதிராக நடவடிக்கை எடுக்க வேண்டும் என கோரப்பட்டிருந்தது. எனினும் குறித்த சம்பவத்துடன் தொடர்புடைய அதிகாரிகளிடம் ஏற்கனவே வாக்கு மூலங்கள் புதிவு செய்யப்பட்டுள்ளதாகத் தெரிவிக்கப்படுகிறது. இதேவேளை மேலிடத்தில் கிடைக்கப் பெற்ற உத்தரவிற்கு அமைய ஐ.நா. உத்தியோகத்தர்களை பாதுகாப்பாக வெளியேற்றுவதற்கு ஆர்ப்பாட்டக்காரர்களை கட்டுப்படுத்தியதாக உயர் பொலிஸ் அதிகாரி ஒருவர் தெரிவித்துள்ளார். உத்தரவுகளை உரிய முறையில் கடைப்பிடித்த தம்மீது தற்போது விசாரணைகள் ஆரம்பிக்கப்பட்டுள்ளதாக அவர் விசனம் வெளியிட்டுள்ளார். போராட்டக்காரர்களின் மீது பொலிஸார் தாக்குதல் எதனையும் நடத்தவில்லை எனவும் சட்டம் ஒழுங்கை கட்டிக்காத்த அதிகாரிகள் மீது விசாரணை ஆரம்பிக்கப்பட்டுள்ளமை அதிருப்தி அளிப்பதாகவும் அந்த உயர்மட்ட பொலிஸ் அதிகாரி தெரிவித்துள்ளார். (6)

கூட்டம்

(பருத்தித்துறை)
யாழ்ப. மாவட்ட தேசிய நிர்மாணிகள் சங்க நிர்வாகிகளுக்கான கூட்டம் மொன்று நாளை மறுதினம் ஞாயிற்றுக்கிழமை காலை 9 மணிக்கு யாழ்ப. ஆணைப்பந்தியில் உள்ள அதன் செயலகத்தில் நடைபெறவுள்ளது. இக்கூட்டத்தில் நிர்வாகிகள் தவறாது சமூகம் அளிக்குமாறு சங்கச் செயலாளர் எஸ்.மணிராஜா அறிவித்துள்ளார். (6-10)

இலங்கைத் தமிழர் பிரச்சினைகளுக்காக இந்திய கம்யூனிஸ்ட் கட்சி குரல் கொடுக்கும்

டி.ராஜா எம்.பி.தொரிவிப்பு

(புதுடில்லி)

இந்திய கம்யூனிஸ்ட் கட்சியின் மூத்த தலைவர் டி.ராஜாவை இலங்கைத் தமிழ் எம்.பி.க்கள் டில்லியில் நேற்று முன்தினம் சந்தித்து பேசினார்.

இலங்கை தமிழ் தேசிய கூட்டமைப்பை சேர்ந்த எம்.பி.க்கள் இந்தியா சென்றுள்ளனர். இந்த குழுவில் சம்பந்தன், சுரேஷ் பிரேமசந்திரன், சேனாதி ராஜா உள்ளிட்டோர் இடம் பெற்றுள்ளனர். டில்லியில் உள்ள இந்திய கம்யூனிஸ்ட் கட்சி தலைமை அலுவலகத்துக்கு நேற்று முன்தினம் சென்ற தமிழ் எம்.பி.க்கள் அங்கு கட்சியின் மூத்த தலைவரான டி.ராஜா எம்.பி. யை சந்தித்தனர்.

அப்போது இலங்கை தமிழர் பிரச்சினைக்கு அரசியல் தீர்வு காண இந்தியா தீவி

ரமாக முயற்சிப்பதன் அவசியத்தை தமிழ் எம்.பி.க்கள் வலியுறுத்தினர்.

அதற்கு டி.ராஜா கூறுகையில்,

இலங்கை இராணுவத்தால் தமிழர்கள் கொல்லப்பட்டது குறித்த விசாரணை நடத்த இந்தியா வற்புறுத்தாதது ஏன் என்பது புரியவில்லை. தமிழர் பகுதியில் இராணுவ முகாம்கள் அமைக்கப்படுவது கவலை அளிக்கிறது. இலங்கை தமிழர்களின் பிரச்சினைகளுக்காக நாடாளுமன்றத்திலும் வெளியேயும் இந்திய கம்யூனிஸ்ட் குரல் கொடுக்கும். குறிப்பாக முகாம்களில் வசிப்பவர்களை குடியமர்த்தவும் நிவாரண பணிகளை மேற்கொள்ளவும் ஏற்பாடு செய்ய இந்திய அரசை வற்புறுத்துவோம் என்று கூறினார். (6)

மெக்சிகோவில் விமான விபத்து; அமைச்சர் உட்பட எட்டு பேர் பலி

(மான்டெரி)

மெக்சிக்கோ நாட்டில் பொதுப்பணித் துறை அமைச்சரான ஹரோசியா பாஸ்கி அங்குள்ள நேகராஸ் நகருக்கு குட்டி விமானத்தில் சென்றார். அவருடன் நகர மேயர் ஜோஸ்மா செபேஸ் மற்றும் அதிகாரிகள் சென்றனர். மொத்தம் 8 பேர் விமானத்தில் இருந்தனர். அப்போது விமானம் கட்டுப்பாட்டை இழந்து கீழே விழுந்து நொறுங்கியது.

இதில் பயணம் செய்த 8 பேரும் பலி

யானார்கள். அவர்களின் உடல்கள் மீட்கப்பட

டன. விமான விபத்துக்கு இயந்திர கோளாறு தான் காரணம் என்று கருதப்படுகிறது. இது பற்றி விசாரணை நடத்த உத்தரவிடப்பட்டுள்ளது.

மேலும் விமானம் விழுந்த பகுதியில் சமீபத்தில் புயல் தாக்கி இருந்தது. விபத்து நடந்த போது வானிலையும் மோசமாக இருந்தது. எனவே வானிலை காரணமாக விபத்து நடந்து இருக்கலாம் என்றும் கருதப்படுகிறது. (6-4)



சீனாவுக்கு விஜயம் மேற்கொண்ட பாகிஸ்தான் ஜனாதிபதி ஆசிப் அலி சந்தாரியை (இடது) அந்நாட்டு அதிபர் ஹு ஜின்டாவோ தலைநகர் பீஜிங்கில் உள்ள ஜனாதிபதி மாளிகையில் வரவேற்பதைப் படத்தில் காணலாம்.

பின்லாந்தில் இணையத்தள பயன்பாடு அடிப்படை உரிமையாக அறிவிப்பு

உலகிலேயே முதன் முறையாக பின்லாந்து நாட்டில் இணையத்தள பயன்பாடு அடிப்படை உரிமையாக அறிவிக்கப்பட்டுள்ளது.

இது தொடர்பாக அந்நாட்டு தகவல் தொடர்புத்துறை அமைச்சர் சவி லிண்டன் கூறியதாவது,

இணையத்தள பயன்பாடு நாளுக்கு நாள் அதிகரித்து வருகிறது. இது வணிகம் மற்றும் நாட்டின் பொருளாதார வளர்ச்சிக்கு பெரும் பங்கு ஆற்றுகிறது. எனவே இணையத்தள பயன்பாட்டை அடிப்படை உரிமையாக அறிவித்துள்ளோம்.

உலகிலேயே முதன்முறையாக அடிப்

படை உரிமையாக அறிவித்தது எங்கள் நாடு தான். குறைந்த செலவில் தரமான அகண்ட அலைவரிசை இணைப்புக்களை எங்கள் அரசு வழங்குகிறது. வீடுகள் மற்றும் அலுவலகங்களில் 99 சதவீதத்தினர் இணையத்தள இணைப்பை பெற்றுள்ளனர்.

50 இலட்சம் பேர் அகண்ட அலைவரிசை இணைப்பை பெற்றுள்ளனர். குறைந்த செலவில் ஒரு வினாடிக்கு ஒரு மெகா பைட் என்ற விகிதத்தில் இந்த செலவில் ஒரு வினாடிக்கு ஒரு மெகா பைட் என்ற விகிதத்தில் இந்த இணைப்பு வழங்கப்பட்டு வருகிறது. இவ்வாறு சவில்லிண்டன் கூறினார். (6-4)

தீவிரவாதிகள் என நினைத்து இராணுவம் மீது தாக்குதல்

ஐவர் பலி; ஏழு பேர் காயம்

(காபூல்)

ஆப்கானிஸ்தானில் தலிபான் மற்றும் அல்கொய்தா தீவிரவாதிகளை கட்டுப்படுத்துவதற்காக அமெரிக்கா தலைமையில் பன்னாட்டு படையினர் முகாமிட்டு உள்ளனர்.

அவர்கள் கிழக்கு ஆப்கானிஸ்தானில் உள்ள காஸ்னி பகுதியில் தீவிரவாதிகள் தேடுதல் வேட்டையில் ஈடுபட்டு இருந்தனர். அப்போது அதே பகுதியில் ஆப்கானிஸ்தான் இராணுவ வீரர்களும் தீவிரவாதிகளை தேடும் வேட்டையில் ஈடுபட்டு இருந்தனர்.

அவர்களை பன்னாட்டு படையினர் தீவிர

வாதிகள் என நினைத்து அவர்கள் மீது விமானத்தில் சென்று குண்டு வீசி தாக்குதல் நடத்தினார்கள்.

இதில் ஆப்கானிஸ்தான் இராணுவ வீரர்கள் 5 பேர் பலியானார்கள். 7 பேர் காயம் அடைந்தனர். பன்னாட்டு படையினர் இதேபோல் ஏற்கனவே பலமுறை தவறுதலாக தாக்குதல் நடத்தி உள்ளதாக தெரிவிக்கப்படுகிறது.

இந்தத் தாக்குதலுக்கு ஆப்கானிஸ்தான் பாதுகாப்புத்துறை கண்டனம் தெரிவித்து உள்ளது. ஆப்கானிஸ்தான்-பன்னாட்டு படையினர் விசாரணைக்கும் உத்தரவிட்டுள்ளது. (6-4)

மலேசியாவில் மாபெரும் பேரணி நடத்துவதற்கு தீர்மானம்

இலங்கை முகாம்களில் இருந்து தப்பித்து மலேசியா இருட்டறை முகாம்களில் தனித்த 75 ஈழத்தமிழர்களை அகதிகளாக ஐ.நா ஏற்றுக்கொண்டது.

இதேவேளை ஐ.நா. அகதிகளாக ஏற்றுக் கொண்ட பிறகும் மலேசிய அரசாங்கம் அவர்களை விடுதலை செய்யாமல் இருட்டறையிலேயே அடைத்து வைத்துள்ளது.

இவர்கள் இன்னும் ஒரு வாரத்திற்குள்

விடுதலை செய்யப்பட வேண்டும் என்றும் அவர்களுக்கு அகதிகளுக்கான உரிமைகள் வழங்கப்படவேண்டும் என்பதுடன் இவையெல்லாம் மறுக்கப்படும் பட்சத்தில் மலேசியா பாராளுமன்றம் நோக்கி தமிழர்களை ஒன்றிணைத்து மலேசியாவில் மாபெரும் பேரணி நடத்துவோம் என்றும் மாற்று செயலணி அமைப்பு அறிவித்துள்ளது. (6-4)

ஈராக்கில் இடம்பெற்ற குண்டுத்தாக்குதலில் 40 இற்கும் மேற்பட்டோர் பலி; பலர் காயம்

ஈராக்கில் வடக்கு பக்கத்தில் அமைந்துள்ள சியா முஸ்லிம்களின் மத வழிபாட்டுத் தலமொன்றில் இடம்பெற்ற குண்டுத் தாக்குதல்களில் நாற்பதுக்கும் மேற்பட்டவர்கள் கொல்லப்பட்டுள்ளதடன் 100 க்கும் மேற்பட்டவர்கள் காயமடைந்துள்ளனர்.

உயிரிழந்தவர்களில் பெரும் எண்ணிக்கையிலான யாத்திரிகர்கள் எனத் தெரிவிக்கப்படுகிறது. குறித்த மத வழிபாட்டுத் தலத்தின் மீது தாக்குதல் நடத்தப்பட்டதற்கும் என்ற அச்சத்தினால் 2 இலட்சம் பொலிஸார் கடமையில் ஈடுபடுத்தப்பட்டுள்ளதடன் மிகக் கடுமையான பாதுகாப்பு ஏற்பாடுகள் மேற்கொள்ளப்பட்டிருந்ததாகவும் குறிப்பிடப்படுகிறது.

எவ்வாறெனினும் தற்கொலை குண்டுதாரிகள் பாதுகாப்புக்களை மீறி இந்தத் தாக்குதலை நடத்தியுள்ளதாகத் தெரிவிக்கப்படுகிறது.

ஷியா மற்றும் சுனி முஸ்லிம்களுக்கு இடையில் நிலவி வரும் முறுகல் நிலையினால் அடிக்கடி இவ்வாறான தாக்குதல் சம்பவங்கள் இடம்பெற்று வருகின்றமை குறிப்பிடத்தக்கது.

சதாம் உசேனின் ஆட்சி காலத்தில் குறித்த யாத்திரைத் தலத்திற்கான பயணங்கள் வரையறுக்கப்பட்டிருந்ததாகவும் இந்தத் தாக்குதல் சம்பவத்திற்கு இதுவரையில் எவரும் உரிமை கோரவில்லை எனவும் குறிப்பிடப்படுகிறது. (6-4)

இலஞ்சம் வாங்கிய அதிகாரிக்கு சீனாவில் தூக்குத் தண்டனை

(பீஜிங்)

சீனாவில் உள்ள சாங்கிங் நகர சபை நீதிமன்றத்தின் முன்னாள் இயக்குநர் வென் சியாங் (55) ஆவார். ஊழல் புகாரில் சிக்கிய இவர் மீது நகர சபை நீதிமன்றத்தில் வழக்கு தொடுக்கப்பட்டு விசாரணை நடைபெற்றது.

சுட்டவிரோதமாக இலாபம் சம்பாதிப்பதற்கு உதவியதற்காக தனியார் நிறுவனங்களிடம் ரூ.4 கோடியை இலஞ்சமாக வாங்கியது

விசாரணையில் உறுதி செய்யப்பட்டது.

மேலும் இவர் மீதான பாலியல் பலாத்கார புகாரும் நிரூபனமானதால் தூக்குத்தண்டனை விதிக்கப்பட்டது. இதை எதிர்த்து அவர் உச்சநீதிமன்றத்தில் மேல் முறையீடு செய்திருந்தார் என்றும் அதை கடந்த ஏப்ரல் 14 ஆம் திகதி தள்ளுபடி செய்தது. இதை யடுத்து வென் நேற்று முன்தினம் தூக்கிலிடப்பட்டார். (6-4)



வீட்டுக்காவலில் உள்ள மியான்மர் நாட்டின் முக்கிய எதிர்க்கட்சித் தலைவரும் நோபல் பரிசு பெற்றவருமான ஆங் சாங்குசுசுயை விடுவிக்கக் கோரி தென்கொரிய தலைவர் சீயோலில் உள்ள தூதரகம் முன் அவரது ஆதரவாளர்கள் ஆர்ப்பாட்டம் நடத்தினர்.

ஜேம்னியின் சம்பியன் கவல தகர்ந்தது இறுதிப் போட்டிக்கு முன்னேறியது ஸ்பெயின்



(டர்பென்)

உலகக்கிண்ணக் கால்பந்தாட்டத் தொடரில் இறுதிப்போட்டிக்கு முதல் முறையாக முன்னேறி வரலாறு படைத்தது ஸ்பெயின் அணி. நேற்று முன்தினம் நடந்த அரையிறுதிப் போட்டியில் ஜேம்னியை 1-0 என்ற கோல் கணக்கில் சுப்பராக வீழ்த்தியது. சொதப் பலாக ஆடிய ஜேம்னியின் அணியின் சம்பியன் கவல தகர்ந்தது.

தென்னாபிரிக்காவில் 19ஆவது உலகக் கிண்ண கால்பந்தாட்டத் தொடர் நடக்கிறது. நேற்று முன்தினம் நடந்த இரண்டாவது அரையிறுதியில் கால்பந்து தரவரிசைப் பட்டியலில் 2ஆவது இடத்திலுள்ள ஸ்பெயின் அணி ஜேம்னியை எதிர் கொண்டது.

விறுவிறுப்பாக நடந்த இப் போட்டியின்

ஆரம்ப முதலே ஸ்பெயின் ஆதிக்கம் செலுத்தியது. ஆட்டத்தின் 6ஆவது நிமிடத்தில் ஸ்பெயின் வீரர் பெட்ரோவிடம் பந்தை பெற்றுக் கொண்ட நட்சத்திர வீரர் டேவிட் வில்லா கோல் அடிக்க முயன்றார்.

ஆனால் ஜேம்னியை கோல்காப்பாளர் நியூர் சாமர்த்தியமாக தடுத்தார். ஸ்பெயின் அணி (13ஆவது நிமிடம்) ஜேம்னியை (15 மற்றும் 16ஆவது நிமிடம்) அணிகள் அடுத்தடுத்து கோணர் கிக் வாய்ப்புக்களை வீணடித்தனர்.

வொடோல்ஸ்கி காயம்

ஆட்டத்தின் 27ஆவது நிமிடத்தில் ஜேம்னியின் நட்சத்திரவீரர் பொடோல்ஸ்கியின் காலை வேண்டுமொன்று பலமாக தாக்கினார் ஸ்பெயினின் ரோமாஸ். இதனால் பொடோல்ஸ்கி காயமடைந்தார். இதனை நடுவர் கவனிப்பா

ததால் ரோமாஸ் தப்பித்தார்.

44ஆவது நிமிடத்தில் கிடைத்த பிரி கிக் வாய்ப்பை ஸ்பெயின் வீரர் புயோல் வீணடித்தார். முதல்பாதியில் இரு அணிகளும் கோல் அடிக்கவில்லை.

புயோல் அசத்தல்

இரண்டாவது பாதியில் ஸ்பெயின் ஆக்கிரோசமாக ஆடியது. ஆட்டத்தின் 58ஆவது நிமிடத்தில் இரண்டுமுறை ஸ்பெயினுக்கு கோல் அடிக்கும் வாய்ப்பு கிட்டியது. ஆனால் பெட்ரோ, டேவிட் வில்லா ஆகியோர் நூலிழையில் தவறிவிட்டனர்.

ஆட்டத்தின் 73ஆவது நிமிடத்தில் ஸ்பெயினுக்கு அடித்தது அதிர்ஷ்டம். கோணர் கிக் வாய்ப்பில் ஷேவி அடித்த பந்தை தலையால் முட்டி சுப்பர் கோல் அடித்தார் காஸ் புயோல். இப் போட்டியில் பெரும் ஏமாற்றமளித்த ஸ்பெயின் வீரர் டேவிட் வில்லா 81ஆவது நிமிடத்தில் வெளியேறினார். இவருக்குப் பதில் போரஸ் களமிறங்கினார்.

ஜேம்னியை ஏமாற்றம்

ஸ்பெயினுக்கு பதிலடி கொடுக்க ஜேம்னியை போராடியது இருப்பினும் பலன் எதுவும் கிடைக்கவில்லை. இத் தொடரில் காலிறுதிப் போட்டியில் மஞ்சல் அட்டை பெற்ற தோமஸ் முல்லர் இடம் பெறாதது ஜேம்னிக்கு பெரும் பின்னடைவை ஏற்படுத்தியது.

இதனால் அணியின் மத்தியகள வீரர்களின் செயல்பாடு படு மந்தமாக உள்ளது. குளோஸ், பொடோல்ஸ்கி இருவரும் சாதிக் தவறினர். இறுதியில் ஜேம்னியை இறுதிப்

போட்டி வாய்ப்பை கோட்டைவிட்டது.

துடிப்புடன் ஆடிய யூரோ சம்பியன் ஸ்பெயின் அணி 1-0 என்ற கோல் கணக்கில் வெற்றிபெற்று முதல் முறையாக உலகக் கிண்ணக் கால்பந்தாட்ட தொடரின் இறுதிப் போட்டிக்கு முன்னேறியது.

ஒக்டோபஸ் வெற்றி

ஜேம்னியில் ஓபர்ஹாசினில் கடல்வாழ் உயிரினங்களின் காண்காட்சியகம் உள்ளது. இங்குள்ள ஒக்டோபஸ் தென்னாபிரிக்காவில் நடக்கும் உலகக்கிண்ண கால்பந்து தொடரில் ஜேம்னியின் வெற்றி தோல்விகளை சரியாக கணித்து வந்தது. அரையிறுதியில் ஸ்பெயினிடம் ஜேம்னியை தோல்வியடையும் என சுட்டிக்காட்டியது.

இதன்படியே ஸ்பெயின் வெற்றிபெற்றது. இதன்மூலம் ஒக்டோபஸின் கணிப்பு 100 சத வீதம் உண்மையாகி உள்ளது.

ஜேம்னியை தோல்வி அடையும் என கணித்த ஒக்டோபஸின் மீது அந்நாட்டு ரசிகர்கள் கடும் கோபத்தில் உள்ளனர். ஜேம்னியை தோல்வியடைந்தால் அதனை சமைத்து சாப்பிட்டு விடுவதாக ரசிகர்கள் தெரிவித்திருந்தனர். ஜேம்னியை ரசிகர்களின் கைகளுக்கு ஒக்டோபஸ் தப்பும்மா?

நெதர்லாந்துடன் மோதல்

அரையிறுதிப் போட்டியில் வெற்றிபெற்ற ஸ்பெயின் அணி இறுதிப் போட்டியில் நெதர்லாந்தை எதிர்கொள்கிறது. இறுதிப்போட்டி நாளை மறுதினம் சாக்கர்சிட்டி மைதானத்தில் நடக்கவுள்ளது.

தங்கக்காலணி யாருக்கு?

உலகக்கிண்ண கால்பந்தாட்ட தொடரில் அரையிறுதி ஆட்டங்கள் வரை அதிக கோல் அடித்த வீரர்களில் ஸ்பெயின் வீரர் டேவிட் வில்லாவும் நெதர்லாந்து வீரர் வெஸ்லி ஸ்னைடரும் முதலிடத்தைப் பெற்றுள்ளனர். இவர்கள் இருவரும் தலா 5 கோல்கள் அடித்துள்ளனர்.

இருவருக்கும் இறுதிப் போட்டி மட்டுமே உள்ளது. இறுதிப் போட்டியில் கோல் அடிப்பவருக்கு தங்கக்காலணி கிடைக்கவாய்ப்புள்ளது. அதே வேளையில் ஜேம்னியின் மிராஸ்லாவ் குளோவம், தோமஸ் முல்லரும் தலா 4 கோல்கள் அடித்துள்ளனர்.

உருகுவே அணிக்கு எதிரான 3ஆம் இடத்துக்கான ஆட்டத்தில் இவர்களில் யாராவது அதிக கோல் அடித்தால் தங்கக்காலணி

கால்மாறிடக்கூடும். உருகுவே அணித்தலைவர் டீகோ போர்லானும் 4 கோல்கள் அடித்துள்ளது குறிப்பிடத்தக்கது.

அதிக கோல் அடித்த முதல் பத்து வீரர்கள்

டேவிட் வில்லா - ஸ்பெயின் : 5 கோல், வெஸ்லி ஸ்னைட் - நெதர்லாந்து : 5 கோல்கள், ஹீகுவான் - ஆர்ஜென்டீனா : 4 கோல்கள், மிராஸ்லாவ் குளோவ் - ஜேம்னியை : 4 கோல்கள், தோமஸ் முல்லர் - ஜேம்னியை : 4 கோல்கள், ராபர்ட் வீர்டேக் - சுலோவோக்கியா : 4 கோல்கள், டீகோ போர்லான் - உருகுவே : 4 கோல்கள், டோனாவன் - அமெரிக்கா : 3 கோல்கள், பேபியானோ - பிரேசில் : 3 கோல்கள், சாரஸ் - உருகுவே : 3 கோல்கள்.

சர்வதேச டெஸ்ட் கிரிக்கெட்டில் 800 விக்ெட்டுக்கள் வீழ்த்துவேன்

முரளிதரன் நம்பிக்கை

(காலி)

சுழற்பந்து வீச்சாளர் முத்தையா முரளிதரன் ஓய்வு பெறுவதற்கு முன்னர் நடைபெறவுள்ள இந்தியாவுடனான போட்டியில் தனது 800ஆவது டெஸ்ட் விக்ெட்டை கைப்பற்ற முடியும் என நம்புவதாக தெரிவித்துள்ளார்.

இந்திய அணியுடன் நடைபெறவுள்ள காலி டெஸ்ட் போட்டியுடன் டெஸ்ட் கிரிக்கெட்டிலிருந்து ஓய்வுபெறவுள்ளதாக நேற்று உத்தியோக பூர்வமாக அறிவித்த பின்னரே முத்தையா முரளிதரன் மேற்கண்டவாறு



தெரிவித்தார்.

அவர் மேலும் தெரிவிக்கையில், அவுஸ்திரேலிய நடுவர் பெரல் ஹெய்ரூடனான முரண்பாடுகளை தீர்த்துக்கொள்வதாகவும் அவர் குறிப்பிட்டார்.

எதிர்காலத்தில் அரசியலில் ஈடுபடும் எந்தவொரு நோக்கமும் இல்லை அத்துடன் ஊடகங்கள் கிரிக்கெட் வீரர்களை பிழையான வழியில் ஈடுபடுவதற்கு தூண்டக்கூடாது டெஸ்ட் கிரிக்கெட்டில் 800 விக்ெட்டுக்களை அசத்துவேன் என நம்புகிறேன்.

காலியில் இடம்பெறவுள்ள இந்தியாவுடனான போட்டியில் முரளிதரன் ஓய்வுபெறவுள்ளார். முத்தையா முரளிதரன் டெஸ்ட் போட்டிகளில் 792 டெஸ்ட் விக்ெட்டுக்களை கைப்பற்றியுள்ளார் என்பது குறிப்பிடத்தக்கது.

மாகாணமட்ட மெய்வல்லுநர் போட்டி யாழ்ப்பாணம் இந்துக்கல்லூரிக்கு 4 தங்கம், 2 வெள்ளிப் பதக்கங்கள்



(யாழ்ப்பாணம்)

வடமாகாண மட்டப் பாடசாலைகளுக்கிடையே நடைபெற்ற மெய்வல்லுநர் போட்டிகளில் யாழ்ப்பாணம் இந்துக்கல்லூரி மாணவர்கள் 4 தங்கத்தையும், 2 வெள்ளிப்பதக்கங்களையும் வென்றுள்ளனர்.

15 வயதுப்பிரிவில் உயரம் பாய்தலில்

இ.செந்தூரன், 17 வயதுப் பிரிவில் வ.ஜஸ்மினன், நீளம்பாய்தல், முப்பாய்ச்சல் ஆகிய வற்றில் 21 வயதுப்பிரிவில் க.பிரகாஸ், குண்டு போடுதலிலும் தங்கப்பதக்கங்களை வென்றுள்ளனர்.

இதேவேளை 13 வயதுப் பிரிவில் இ.சஜீந்திரா 100 மீற்றர் ஓட்டத்தில் இரண்டாம் இடத்

தையும் கு.சிவேந்திரன் 19 வயதுப்பிரிவில் 200 மீற்றர் ஓட்டத்தில் இரண்டாம் இடத்தையும் பெற்று வெள்ளிப்பதக்கங்களினை பெற்றுக்கொண்டனர்

வெற்றிபெற்ற மாணவர்கள் எதிர்வரும் மாதங்களில் நடைபெறவுள்ள தேசியமட்டப் போட்டிகளில் பங்குபெற உள்ளனர் என்பது குறிப்பிடத்தக்கது.

இவர்களுக்கான அதிபர், விளையாட்டுத் துறை பொறுப்பாசிரியர் மேற் பார்வையில் செ.ரமணனும் பயிற்சியினையும் பயிற்சி நெறிப்படுத்தலினையும் ஆசிரியர் க.சுவாமிநாதன் ஆகியோர் வழங்கியிருந்தமை இங்கு குறிப்பிடத்தக்கது. (ச-5)

