

நமது தமிழ்நாடு

தமிழர் தாயகத்தின் முன்னோடி நாளிதழ்

இன்றைய நாகரீகம்! நாளைய நாகரீகம்!

மகாராசி சில்க்ஸ்

சகல நிகழ்வுகளுக்கும் மகாராசியான ஸ்தாபனம்

மகாராசி சில்க்ஸ்

59, நவீன சந்தை உட்புறம், யாழ்ப்பாணம்.

T.P No - 0777286247

(C-2203)

மலர்: 03 திருவள்ளூர் ஆண்டு: 2035 ஜப்பசி 25 ஆம் நாள் ஹிஜ்ரி 1427 ரம்ழான் 26 [10.11.2004] புதன்கிழமை இதழ்: 41



கிளிநொச்சி வந்த பாலா, தளபதிகள், பொறுப்பாளர்கள்.



வரவேற்று அழைத்துவரப்படும் அன்ரன்பாலசிங்கம்

கிளிநொச்சிக்கு வந்த பாலசிங்கம் பிரயாவுடன் முக்கிய ஆலோசனை

[கிளிநொச்சி]

லண்டனிலிருந்து நேற்றுக்காலை கிளிநொச்சியை வந்தடைந்த விடுதலைப் புலிகளின் அரமியல் ஆலோசகரும் தத்துவாசிரியருமான கலாநிதி அன்ரன் பாலசிங்கம் தமிழீழ தேசியத் தலைவர் வே. பிரபாகரனைச் சந்தித்து தற்போதைய அரமியல் நிலைமை உள்ளிட்ட பல்வேறு விடயங்கள் குறித்த மந்திராலோசனையில் ஈடுபட்டதாக தெரிவிக்கப்படுகிறது.

லண்டனில் தங்கியிருந்த கலாநிதி அன்ரன் பாலசிங்கம் மற்றும் அடேல் பாலசிங்கம் ஆகியோர் விடுதலைப் புலிகளின் தலைமைப் பீடத்துடனான முக்கிய கலந்துரையாடல் மற்றும் நாளை கிளிநொச்சியில் நேர்வே வெளிவிவகார அமைச்சர் ஜான் பீற்றர்சனிடனான சந்திப்புகளில் கலந்துகொள்வதற்காக நேற்று தாயகம் திரும்பினர்.

நேற்று அதிகாலை 5 மணியளவில் கட்டுநாயக்க விமான நிலையத்தை வந்தடைந்த கலாநிதி அன்ரன் பாலசிங்கம் தம்பதிகள் விமானப் படைபின் ஹெலிகொப்ரர் மூலமாக நேற்று காலை 10.15 மணியளவில் கிளிநொச்சியை வந்தடைந்தனர்.

கிளிநொச்சி பொது விளையாட்டரங்கில் வந்திறங்கிய இவர்களை தமிழீழ அரமியல்துறைப் பொறுப்பாளர் சு.ப.தமிழ்ச்செல்வன், தமிழீழ காவல்துறைப் பொறுப்பாளர் பா.நடேசன், கடற்புலிகளின் சிறப்புத் தளபதி கேணல் சூசை, வடமுனைக் கடலாதிக்களபதி கேணல் ஜெயம் [14ஆம் பக்கம் பார்க்க]

மின்சாரம் தாக்கி இளைஞர் மரணம்

சுன்னாகத்தில் சம்பவம் (யாழ்ப்பாணம்)

சுன்னாகத்தில் மின்சாரம் தாக்கி இளைஞர் ஒருவர் நேற்றுப் பரிதாப கரமாக உயிரிழந்தார்.

சுன்னாகத்தைச் சேர்ந்த இரத்தினசிங்கம் பிரபா (வயது 19) என்ற இளைஞரே உயிரிழந்தவராவார்.

நேற்றுக்காலை 6 மணியளவில், வீதியில் சென்றுகொண்டிருந்த இந்த இளைஞர் அறுந்து வீழ்ந்துள்ள மின்சாரக் கம்பியில் சிக்கியே உயிரிழந்தார்.

இதையடுத்து நேற்றுக்காலை 11 மணியளவில் சம்பவ இடத்துக்குச் சென்று பார்வையிட்ட பொலிஸார் உடனடியாக சடலத்தை யாழ்ப்போதனா வைத்தியசாலைக்கு அனுப்பிவைத்தனர்.

உயிரிழந்த இளைஞரின் சட [14 ஆம் பக்கம் பார்க்க]

கூட்டமைப்பு - முஸ்லிம் காங்கிரசுடன் எரிக் சொல்ஹெய்ம் சந்தித்துப் பேச்சு!

(கொழும்பு)

சமாதானப் பேச்சுக்களை மீள ஆரம்பிப்பதற்கான முயற்சியின் ஒரு கட்டமாக நேற்று அதிகாலை கொழும்பு வந்த நோர்வேயின் விசேட சமாதானத் தூதுவர் எரிக் சொல்ஹெய்ம் - தமிழ்த் தேசியக் கூட்டமைப்பு மற்றும் சிறிலங்கா முஸ்லிம் காங்கிரஸ் ஆகிய கட்சிகளின் தலைவர்களைச் சந்தித்து தற்போதைய நிலைமைகள் குறித்து கலந்துரையாடல் நடத்தினார்.

இலங்கைக்கான நோர்வேத் தூதுவர் ஹான்ஸ் பிறட்ஸ்கர் மற்றும் நோர்வே வெளிவிவகார அமைச்சின் மூத்த அதிகாரி சொல் பிரித் - லியன் ஆகியோரும் இந்தச் சந்திப்புகளில் கலந்துகொண்டனர்.

நோர்வே தூதராலயத்தில் தமிழ்த் தேசியக் கூட்டமைப்புடன் இடம்பெற்ற சந்திப்பில் கூட்டமைப்பின் சார்பில்,

நாடாளுமன்ற உறுப்பினர்களான ஜோசப் பரராஜ

ஜனாதிபதி வேட்பாளராக ரணிலை நிறுத்தும் ஜ.தே.க!

(கொழும்பு)

அடுத்த ஜனாதிபதி தேர்தலில் ஐக்கிய தேசியக் கட்சியின் சார்பில் ஜனாதிபதி வேட்பாளராக ரணில் விக்கிரமசிங்கவை அந்தக் கட்சி தெரிவு செய்துள்ளது.

ஐக்கிய தேசியக் கட்சியின் தலைமையகமான சிறகோத்தாவில் நேற்று இடம்பெற்ற அந்தக் கட்சியின் நிறைவேற்றுக்குழு கூட்டத்திலேயே இந்த முடிவு எடுக்கப்பட்டது.

நேற்று நடைபெற்ற கட்சியின் நிறைவேற்றுக்குழு கூட்டத்தில் ரணில் விக்கிரமசிங்கவின் பெயரை அந்தக் கட்சியின் பிரதித் தலைவரான கரு ஜெயகுரியா முன்மொழிந்தார்.

கட்சியின் 50 ஆவது மாநாடு அடுத்த மாதம் நடைபெறும் போது ரணில் விக்கிரமசிங்கவின் பெயர் வழிமொழியப்படும்.

அடுத்த மாதம் நடைபெறவுள்ள கட்சியின் மாநாட்டில் அரசியலமைப்பு மாற்றம் ஜனாதிபதி ஆட்சிமுறை மற்றும் தேர்தல்

ஆணைக்குழு தொடர்பாகவும் கலந்துரையாடப்படும்.

இதேவேளை ஐக்கிய தேசியக் கட்சிக்குள் ஜனாதிபதி வேட்பாளர் தொடர்பான சர்ச்சை காரணமாகவே அவசர அவசரமாக ரணில் விக்கிரமசிங்க தெரிவுசெய்யப்பட்டுள்ளதாக மற்றொரு தகவல் தெரிவித்தது.

ஜனாதிபதி வேட்பாளராக ஐக்கிய தேசியக் கட்சிக்குள்ளிருந்து வேறொருவரை வேட்பாளராக நியமிப்பதற்கு நடவடிக்கை எடுக்கப்பட்டதாகவும் அத்துடன் அந்தக் கட்சியின் நாடாளுமன்ற உறுப்பினர்கள் சிலர் ரணிலின் வெற்றி தொடர்பில் நம்பிக்கை இழந்திருந்ததாகவும் தெரிவிக்கப்படுகிறது.

இவ்வாறான நிலையிலேயே ரணில் தனது ஆதரவாளர்களிடம் தன்னைத் தெரிவு செய்யுமாறு கூறியதாகவும் அந்தத் தகவல் தெரிவித்தது. எவ்வாறாயினும் ரணிலுக்கு எதிராக வேறொருவர் ஜனாதிபதி வேட்பாளர் மதிக்கப்பட்டுள்ளார். [14 ஆம் பக்கம் பார்க்க]

சைக்கிளில் சென்ற இளைஞர் கருவங்கேணியில் கூடப்பட்டார் (மட்டக்களப்பு)

மட்டக்களப்பு மாவட்டத்திலுள்ள கருவங்கேணியில் இனத்தெரியாத நபர்களால் கூடப்பட்ட இளைஞர் ஒருவர் காயமடைந்த நிலையில் மட்டக்களப்பு போதனா வைத்தியசாலையில் சிகிச்சைக்காக அனுமதிக்கப்பட்டுள்ளார்.

நேற்றுக்காலை 8.30 மணியளவில் இடம்பெற்ற இந்தச் சம்பவத்தில் கோபாலன் புவிதரன் (வயது 26) என்ற இளைஞரே காயமடைந்ததாகத் தெரியவருகிறது.

தனது வீட்டிலிருந்து சைக்கிளில் சென்றுகொண்டிருந்த இவரை விக்கேன்ஸ்வரா வித்தியாலயத்துக்கு அருகில் எதிர்கொண்ட இரண்டு இனத்தெரியாத நபர்களே இவர் மீது துப்பாக்கிப் பிரயோகம் செய்ததாகத் தெரியவருகிறது.

துப்பாக்கிப் பிரயோகம் மேற [14 ஆம் பக்கம் பார்க்க]

சிங்கம், கஜேந்திரகுமார் பொன்னம்பலம், செ.கஜேந்திரன், சுரேஸ்பிரேமச்சந்திரன், பத்மினி சிதம்பரநாதன் ஆகியோர் இடம்பெற்றிருந்தனர்.

இந்தச் சந்திப்பு தொடர்பாக நாடாளுமன்ற உறுப்பினர் ஜோசப் பரராஜசிங்கம் தகவல் தெரிவிக்கையில், சமாதானப் பேச்சுவார்த்தை மீண்டும் ஆரம்பிக்கப்படுவதில் மேலும் தாமதங்கள் தொடருமானால் நிலமை மோசமடையும் என்பதை இந்தச் சந்திப்பின்போது எரிக் சொல்ஹெய்மிடம் நாம் எடுத்துக் கூறியுள்ளோம்.

ஜனாதிபதியிடமோ, அரசாங்கத்திடமோ சமாதானப் பேச்சுவார்த்தை ஆரம்பிப்பது தொடர்பான அர்ப்பணிப்பு இல்லை. தங்களுடைய பதவியை எப்படி பாதுகாத்துக் கொள்ளலாம் என்பதில் தான் அவர்கள் ஆர்வம் காட்டுகின்றார்கள். இதன் காரணமாக தமிழ் மக்கள் ஜனாதிபதியின் மீதும் அரசாங்கத்தின் மீதும் நம்பிக்கை இழந்து வருகின்றார்கள் என்பதை தெளிவாக எடுத்துக் கூறியுள்ளோம். [14 ஆம் பக்கம் பார்க்க]

நமது ஈழநாடு நடத்திய க.பொ.த (சா/த) மாணவர்களுக்கான வழிகாட்டல் கருத்தரங்குகளிலிருந்து சில காட்சிகள்...



குடாநாட்டு கல்வி அபிவிருத்தி குறித்து வலய மட்டத்தில் கலந்துரையாடல்!

நாடாளுமன்ற உறுப்பினர் மாவை சேனாதிராசா அழைப்பு

யாழ்.மாவட்டத்தின் கல்வி அபிவிருத்தி தொடர்பாக கல்வித் திணைக்கள அதிகாரிகளுடன் ஆராயும் உயர் மட்டக் கலந்துரையாடல் நாளைய தினம் முதல் வலய ரீதியாக நடைபெறவுள்ளது.

இந்தக் கலந்துரையாடலில் - யாழ். மாவட்டத்தின் கல்வி அபிவிருத்தி, பாடசாலைகளின் பௌதீகத் தேவைகள், இயல்பான கற்றலுக்கு மாணவர்கள், ஆசிரியர்கள் எதிர்நோக்கும் பிரச்சினைகள் குறித்து ஆராயப்படவுள்ளன. அத்துடன் பாடசாலை

களுக்கான நிதி ஒதுக்கீடுகள் தொடர்பாகவும் ஆராயப்படவுள்ளது.

நாளைய தினம் வெள்ளிக் கிழமை காலை 10 மணிக்கு வேம்படி மகளிர் உயர்தரப் பாடசாலையில் யாழ்ப்பாண வலயத்தைச் சேர்ந்தவர்களுக்கும் அன்றையதினம் மாலை 3 மணிக்கு நெல்லியடி மத்திய மகாவித்தியாலத்தில் வடமராட்சி வலயத்தைச் சேர்ந்தவர்களுக்கும், மறுநாள் சனிக்கிழமை காலை 9.30 மணிக்கு இராமநாதன் மகளிர் கல்லூரியில் வலிகாமம் வலயத்

தைச் சேர்ந்தவர்களுக்கும், அன்றைய தினம் மாலை 3 மணிக்கு வரணி மகாவித்தியாலத்தில் தென் மராட்சி வலயத்தைச் சேர்ந்தவர்களுக்கும்,

திங்கட்கிழமை காலை 10.30 மணிக்கு வேல்கை சரஸ்வதி வித்தியாலயத்தில் தீவக வலயத்தைச் சேர்ந்தவர்களுக்கும் நடைபெறவுள்ளது.

இந்தக் கலந்துரையாடல்களில் வலயக் கல்விப் பணிப்பாளர், உதவி கல்விப் பணிப்பாளர்கள், கோட்டக் கல்விப் பணிப்பாளர்கள், பாடசாலை அதிபர்கள் அனைவரையும் கலந்துகொள்ளுமாறு தமிழ்த் தேசியக் கூட்டமைப்பின் நாடாளுமன்ற உறுப்பினர் மாவை சேனாதிராசா அழைப்பு விடுத்தள்ளார்.

இந்தக் கலந்துரையாடலில் - தமிழீழ கல்வி மேம்பாட்டுப் பேரவை உறுப்பினர்கள், இலங்கை ஆசிரியர் சங்கப் பிரதிநிதிகள் ஆகியோரும் கலந்துகொள்ளவுள்ளனர்.

சேவைநயப்பு விழா!

சங்காணை சிவப்பிரகாச மகாவித்தியாலய அதிபராக இருந்து தெல்லிப்பளைக் கோட்டக்கல்விப் பணிப்பாளராகப் பதவியுயர்வு பெற்றுச் செல்லும் ச. கைலாசநாதனுக்கு சேவை நயப்பு விழா இன்று நடத்தப்படவுள்ளது.

பாடசாலை அதிபர் திருமதி வேணுகா சண்முகரத்தினத்தின் தலைமையில் நடைபெறும் இவ் விழாவில், வலிகாமம் வலய பிரதிக் கல்விப் பணிப்பாளர் சு.சுந்தரசிவம் பிரதம விருந்தினராகவும், சங்காணைக் கோட்டப் பணிப்பாளர் நா. சண்முகசுந்தரம், வலிகாமம் வலய திட்டமிடல் பணிப்பாளர் கா.சந்திரபாலன், உடுவில் கோட்டப் பணிப்பாளர் செ. குபேரநாதன், சங்காணை கோட்டப் பொறுப்பாளர் அ.அன்பு ஆகியோர் சிறப்பு விருந்தினர்களாகவும் கலந்துகொள்வர். (48)

நூற்றாண்டு மண்டபத் திறப்பு விழா

கொக்குவில் இந்துக் கல்லூரியில் புதிதாக அமைக்கப்பட்ட மாணிக்கம் - பாக்கியம் ஞாபகார்த்த நூற்றாண்டு மண்டபத் திறப்புவிழா இன்று மாலை 4 மணிக்கு நடைபெறவுள்ளது.

இந்த நிகழ்வு - ஓய்வு பெற்ற நிறைவேற்றுப் பொறியியலாளர் இ. நடராசா தலைமையில் நடைபெறவுள்ள இந்த கட்டத்தை மாணிக்கம் சுப்பிரமணியம் திறந்து வைக்கவுள்ளார்.

முக்கிய அறிவித்தல்

மாகாண சுகாதார சேவைகள்

விரதிப் பணிப்பாளர் பணிமனை - கிளிநொச்சி

பால் துவிர்ந்த சமைத்த உணவு/உலர் உணவு/அழுக்குத் துணிகள் குடிநீர் - 2005 - கேள்வி திறத்தல் - பிற்போடல்

22.10.2004 ந் திகதி விளம்பரம் செய்யப்பட்ட மேற்குறிப்பிட்ட கேள்விகள் 2004.11.10 ந் திகதி இன்று திறக்கப்படமாட்டாது என்பதை அறியத்தருவதுடன், இக்கேள்விகள் 2004.11.15 ந் திகதியன்று திங்கட்கிழமை காலை 10.30 மணிக்கு கேள்விகள் திறக்கப்படும் என்பதை அறியத்தருகின்றேன்.

வைத்திய கவாநிதி த. சத்தியமூர்த்தி, மாகாண சுகாதார சேவைகள் பிரதிப்பணிப்பாளர், கிளிநொச்சி.

(C/3337)

நாதன்ஸ்

கேம்பஸ் (ரீல்ஸ்)

காட்சி நேரம்: 11.00, 2.30, 6.30 (4.95)

SPIDERMAN-I இரவுக் காட்சி 8.30 (4.95)

விரைவில் **டீரீம்ஸ்**

இறைஞ்சேனல் சங்காணை

விஜயநகரத், பிரபுதேவா, வடிவேல், நம்தா நடத்த

எங்கள் அண்ணா (ரீல்ஸ்)

காட்சி நேரம்: 11.00, 2.45, 6.00 (4.95)

DARE DRAVIN (6-27-22)

வெள்ளி, சனி, குாயிறு கிரவு 8.45, (4.95)

நாகம்ஸ் சன்னாகம்

அர்ஜன், வாரா தந்தா, விவேக், நம்தா திபாவளி வெளியீடாக இந்தியாவிலும் இலங்கையிலும் ஒரே தின வெளியீடான R.B.செளந்திரியின் சரத்குமார், நம்தா, வடிவேல் நடத்த

சேத்ரபத் (ரீல்ஸ்)

முற்பதிவுகளுக்கு யாழ். பெய்ன்ட் காடன், நாகம்ஸ் சீனியா கே.கே.எஸ்.வித், யாழ்ப்பாணம்.

காட்சி நேரம்: 11.00, 3.00, 7.00-10.00 (4.95)

ராஜா யாழ்ப்பாணம்.

கின்று மட்டும் ரவி கிருஷ்ணா, சோனியா அக்ரவால் நடத்த

7/6 ரெய்ன்பே காலனி (ரீல்ஸ்)

11.11. முதல் அஜித் + அஜித்

அட்டகாசம் (ரீல்ஸ்)

4.95 10.30, 2.30, 6.30 மட்டும் ரீக்கத் முற்பதிவு செய்துகொள்ளலாம்

சிறு விளம்பரம்

வீடு விற்பனைக்கு

யாழ்ப்பாணம், கண்டிக்குளி கச்சேரி கிழக்கு. ஒழுங்குகையில் 3 1/4 பரப்புடைய காணி வீடு விற்பனைக்கு உண்டு. மேலதிக தொடர்புகளுக்கு 0777 145282 (978)



மாணவர்களைப் பாடசாலைகளுக்குத் தேர்ந்தெடுப்பதற்கும்,
மாணவர்களுக்கு உதவிப்பணம் வழங்குவதற்குமாகத்
தரம் 5 மாணவர்களுக்கு நடாத்தப்படும் மாதிரிப்பரீட்சை - 2004

கணிதம்

பின்வரும் வினாக்கள் ஒவ்வொன்றையும் நன்கு வாசித்து, அந்த வினாக்களுக்குரிய மிகச் சரியான விடையைத் தேர்வு செய்து அதன் கீழ் கோடிடுக.

1. "6809" என்னும் எண்ணில் நூறாமிடத்து இலக்கம் பின்வருவனவற்றில் எது?
1) 800 2) 6 3) 8 4) 600

2. பின்வரும் எண் சட்டத்தில் குறித்துக் காட்டப்பட்டுள்ள மிகச் சரியான எண்



1) 235 2) 2035
3) 2350 4) 2305

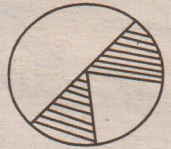
3. "1000" என்னும் எண்ணில் முந்திய பிந்திய எண்கள் முறையே பின்வருவனவற்றில் எது?
1) 9999, 10001 2) 999, 1001 3) 9099, 10001 4) 999, 10001

4. ஒரு பெட்டியில் 659 மாம்பழங்கள் இருந்தன. அந்தப் பெட்டியில் மேலதிகமாக 348 மாம்பழங்கள் போடப்பட்டன. பின்னர் அதில் 475 பழங்கள் விற்கப்பட்டன. தற்போது பெட்டியில் உள்ள பழங்களின் எண்ணிக்கை யாது?
1) 148 2) 823 3) 127 4) 532

5. ஒரு கம்பித்துண்டொன்றின் நீளம் 67 cm இன்னொரு கம்பித்துண்டொன்றின் நீளம் 33 cm. கிரண்டினதும் நீளம்
1) 100m 2) 1m 3) 1cm 4) 10m

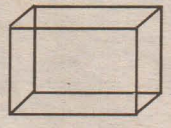
6. $6x \square = \square \div 9 = 8$ இப்பெட்டிகளில் வரவேண்டிய இலக்கங்கள் முறையே
1) 8, 72 2) 12, 96 3) 12, 72 4) 11, 108

7. இவ் வட்டத்தில் நிறுற்றப்பட்டுள்ள பகுதியை பின்வருவனவற்றுள் காட்டும் பின்னம் யாது?



1) $\frac{2}{4}$ 2) $\frac{2}{5}$ 3) $\frac{1}{8}$ 4) $\frac{1}{4}$

8. அருகிலுள்ள சதுரமுகியின் முகங்களின் எண்ணிக்கை
1) 8 2) 6
3) 12 4) 7



9. $2 \frac{1}{4}$ Kg தேயிலையை வாங்கிய ஒருவர் அதை 50g பக்கற்றுக்களாகத் தயாரித்தார். அவர் தயாரித்த பக்கற்றுக்களின் எண்ணிக்கை யாது?
1) 45 2) 15 3) 25 4) 50

10. ஒன்பதாயிரத்து தொள்ளாயிரத்து ஒன்பது என்பதை இலக்கத்தில் எழுதினால்

1) 999 2) 9099 3) 9909 4) 9009

11. $2 \frac{3}{4}$ m ஐ cm (சென்ரிமீற்றரில்) எழுதினால் வருவது
1) 243cm 2) 2750cm 3) 2075cm 4) 275cm

12. 5Kg 50g கிராம (g) எழுதினால் வருவது
1) 550g 2) 5500g 3) 5050g 4) 5005g


13. ஒரு பெரிய பாத்திரத்தில் 5l பானத்தை ஊற்றமுடியும். 200 ml பாத்திரம் ஒன்றினால் நீர் எடுத்து அந்தப் பெரிய பாத்திரத்தினுள் ஊற்றி நிரப்ப எத்தனை தடவை ஊற்ற வேண்டும்.

1) 20 2) 30 3) 40 4) 25

14. $\frac{1}{2}$ இப் பின்னத்தை தசம எண்ணில் எழுதினால்
1) 0.2 2) 0.1 3) 0.5 4) 0.6

15. ரூ.1000.00 இல் உள்ள ரூ 20.00 காசுத் தாள்களின் எண்ணிக்கை யாது?

1) 20 2) 30
3) 40 4) 50



16. இந்தக் கடிகாரம் காட்டும் மிகச் சரியான நேரம்
1) 5.50 2) 5.00 3) 4.50 4) 10.00

17. சாதாரண வருடம் ஒன்றில் மாசி மாதத்தில் உள்ள நாட்களின் எண்ணிக்கை?

1) 28 2) 29 3) 30 4) 31

18. 1l 500ml பாலை இரு பாத்திரங்களில் சரிசமனாகப் பகிரப்பட்டால் ஒரு பாத்திரத்தில் உள்ள பாலின் சரியான அளவு
1) 1l 2) $\frac{1}{2}$ l 3) $\frac{1}{4}$ l 4) $\frac{3}{4}$ l

19. 1289 என்னும் எண்ணில் பெறுமதி கூடிய இலக்கம் பின்வருவனவற்றில் எது?

1) 1 2) 2 3) 8 4) 9

20. $\frac{1}{4}$ என்னும் பின்னத்துக்கு சமனான வேறு ஒரு பின்னம் பின்வருவனவற்றில் எது?

1) $\frac{3}{9}$ 2) $\frac{2}{6}$ 3) $\frac{2}{8}$ 4) $\frac{1}{3}$

1) குமார், ராஜ், ரமேஷ், ரஞ்சன், நகால் ஆகிய ஐந்து மீனவர்களும் குறிப்பிட்ட ஒரு நாளில் பிடித்த மீனினது அளவுகளை வரையு காட்டுகிறது. கிதை ஆதாரமாகக்கொண்டு கீழ்வரும் வினாக்களுக்கு விடை தருக.



பயன்படுகிறது என்பதை அறிவதோடு, பல வளங்களைப் பயன்படுத்தும் முறைபற்றி விளக்குக.

1. தற்போது பெருமளவில் பயன்படுத்தப்படும் சக்தி வளங்கள் மூன்று தருக?
2. எமது நாட்டில் மின்சக்திக்கான கேள்வி ஆண்டுதோறும் அதிகரித்துச் செல்வதற்கு ஏதுவான காரணிகள் நான்கைக் குறிப்பிடுக?
3. இலங்கை போன்ற நாடுகளில் மாற்றுச் சக்தி வலுக்களாக சூரிய ஒளி, காற்று போன்றவற்றைப் பயன்படுத்துவதால் ஏற்படும் நன்மை கிரண்டை விபரிக்குக?
4. நீரைப் பயன்படுத்துவோர் என்ற வகையில் நீர் வளத்தைப் பாதுகாப்பது தொடர்பாக நீங்கள் பகல்கரிப்புச் செய்யும் முறையை இரு காரணங்கள் மூலம் விளக்குக?

04. எதிர்பார்ப்பு:- அபிவிருத்தியை அளவீடு செய்வது தொடர்பான பிரமாணங்கள் பற்றி அறிவதோடு நாடுகளின் அபிவிருத்தி பற்றி அறிவர்.

1. ஒரு நாட்டின் அபிவிருத்தியை அளக்கப் பயன்படும் நவீன அளவை முறைகள் மூன்றைத் தருக?
2. அபிவிருத்தியடைந்த நாடுகளில் மட்டும் பொதுவாகக் காணப்படும் சில பண்புகள் அபிவிருத்தியடைந்துவரும் நாடான இலங்கையிலும் காணப்படுகின்றன. அத்தகைய பண்புகள் நான்கைக் குறிப்பிடுக?
3. நகரங்களில் வாழும் மக்கள் தொகையின் வீதம் அதிகரிப்பதற்கு ஏதுவாகவுள்ள கிரண்டு காரணிகளைச் சுருக்கமாக விளக்குக?
4. கைத்தொழில் அபிவிருத்தியானது சூழல் மாசடைதலுடன் எவ்வாறு தொடர்புபற்றுகிறது என்பதனை இரு காரணிகளின் உதவியுடன் விளக்குக?

05. எதிர்பார்ப்பு:- சர்வதேச வர்த்தகம் தொடர்பாகவும், அதில் செல்வாக்குப் பெறும் முக்கிய விடயங்கள் தொடர்பாகவும் மாணவர்கள் தேவையான தகவல்களை வெளிப்படுத்துவர்.

1. சர்வதேச வர்த்தகத்துடன் தொடர்புடைய சர்வதேச தாபனங்கள் மூன்றினையும் குறிப்பிடுக?
2. நாடுகளுக்கு கிடையில் பொருட்களைப் பரிவர்த்தனை செய்வது அவசியமானது என்பதற்கு நான்கு காரணிகளைத் தருக?
3. சர்வதேச வர்த்தகம் தொடர்பாக அபிவிருத்தியடைந்த நாடுகளும் பிரச்சினையை எதிர்நோக்க வேண்டியுள்ளது. கிரண்டு காரணிகளின் உதவியுடன் விளக்குக?
4. சில நாடுகளுக்குப் பிரதிகூலமாயுள்ளபோதும், தற்போது நாடுகள் நிலை பெற்றிருப்பதற்குச் சர்வதேச வர்த்தகம் அவசியமானதாகும். கிரண்டு விடயங்கள் மூலம் விளக்குக?

06. எதிர்பார்ப்பு:- ஐக்கிய நாடுகள் அமையத்தின் முக்கியத்துவத்தைத் தெரிந்திருப்பதுடன் அங்குள்ள அமைப்புக்களின் செயற்பாடுகளை விளக்குக?

1. ஐக்கிய நாடுகள் அமையத்தில் அங்கத்துவம் வகிக்கும் உரிமை எவ்வகையில் பெறப்படும்?
2. பாதுகாப்புச் சபையின் நிரந்தர அங்கத்துவ நாடுகள் நான்கைக் குறிப்பிடுக?
3. இலங்கையில் யுனெஸ்கோ நிறுவனம் மேற்கொண்டுள்ள சேவைகள் 2 ஐ விபரிக்குக?
4. ஐக்கிய நாடுகள் அமையம் உலக சமாதானத்தை நிலைநாட்டப்பட பல நாடுகளிலும் பல சந்தர்ப்பங்களில் ஈடுபட்டுள்ளது. அவ்வாறான செயற்பாடுகள், சந்தர்ப்பங்கள் கிரண்டைக் குறிப்பிடுக?

7. எதிர்பார்ப்பு : பண்டைக்கால வியாபாரத் தொடர்புகளையும்,

அவர்கள் பயன்படுத்திய துறைமுகங்களையும் விளக்குக?

1. அருகில் தரப்பட்டுள்ள படத்தில் A,B,C,D எனும் எழுத்தால் காட்டப்பட்டுள்ளவை புராதன துறைமுகங்களாகும். இவற்றின் புராதன பெயர்களை A,B,C,D எனும் ஒழுங்கில் எழுதுக?



2. பண்டைக்காலத்தில் இந்தியாவுக்கும், இலங்கைக்கும் கிடையில் நெருங்கிய தொடர்புகள் இருந்து வந்தன. அவற்றுள் குடிவரவுக்கு கிரண்டு சம்பவங்களும் திருமண உறவுக்கு கிரண்டு சம்பவங்களையும் தருக?

3. இலங்கையுடன் வேறு நாடுகளின் தொடர்புகள் காணப்பட்டதால் இலங்கையில் ஏற்பட்ட மாற்றங்களை கிரண்டு உதாரணங்கள் மூலம் விளக்குக?

4. இலங்கைக்கும் வேறு நாடுகளுக்கும் கிடையில் வர்த்தகத் தொடர்புகளில் ஈடுபட்ட இரு நாடுகளைக் குறிப்பிட்டு, அவர்கள் பரிமாறிக் கொண்ட பொருட்களை அட்டவணைப்படுத்துக?

8. எதிர்பார்ப்பு : சனத்தொகை என்றால் என்ன என்பதை அறிவதோடு அதனால் ஏற்படும் விளைவுகளையும் தெரிந்து கொள்வார்.

1. ஒரு நாட்டின் சனத்தொகையில் மாற்றம் ஏற்படுவதை தீர்மானிக்கும் காரணங்கள் 3 தருக?
2. விரைவான சனத்தொகைப் பெருக்கத்தினால் எவ்வாறு சூழல் மாசடைகிறது என்பதற்கு 4 காரணிகளைத் தருக?
3. பிரித்தானிய யுகத்தின் கிறித்தப் பகுதியின்போது இலங்கையின் குடித்தொகைப் பரம்பலின் கியல்புகள் கிரண்டினை விளக்குக?
4. தங்கியிருப்போரின் எண்ணிக்கை படிப்படியாக அதிகரிக்கும்போது அவர்களுக்காக வழங்கப்படவேண்டிய நலன்புரி சேவைகள் 2 ஐ குறிப்பிட்டு விபரிக்குக?

9. எதிர்பார்ப்பு :- மாணவர்கள் இலங்கையின் பண்டைக்காலத்தில் பயன்படுத்திய தொழில்நுட்பத்தினையும் தொடர்பாடலையும் அது மக்களின் மேம்பாட்டுக்கு உதவியமை பற்றியும் வெளிப்படுத்துவர்.

1. உலகம் ஒரு கிராமமாக மாறியுள்ளமைக்கு காரணம் தொழில்நுட்பத்தின் ஆகும். இலங்கையில் தற்போது பாவனையிலுள்ள தொடர்பாடல் முறை மூன்று தருக?
2. நீர்ப்பாசனம், போக்குவரத்து ஆகிய துறைகளில் உயர்தொழில்நுட்பவியல் காணப்பட்டது என்பதற்கு நான்கு உதாரணம் தருக?
3. பண்டைக்கால தொழில்நுட்பத்திற்கும், நவீனகால தொழில்நுட்பத்திற்கும் கிடையான வேறுபாடுகள் 2 ஐக் குறிப்பிட்டு விபரிக்குக?
4. தூர்தொடர்பு செய்திகளை பரிமாறிக் கொள்ள முடியுமின்றி அபிவிருத்திக்கு துணைசெய்யும் விதத்தை கிரண்டு காரணங்கள் மூலம் விபரிக்குக?

10 எதிர்பார்ப்பு :- மாணவர்கள் மலையக கிராட்சியம் தொடர்பான கியற்கை அமைப்பையும் அதனுடைய சிறப்பு அம்சங்களையும் விளக்குவர்.

1. இலங்கையில் ஐரோப்பிய ஆதிக்கம் தொடங்கிய காலத்தில் கண்டி கிராட்சியத்தை ஆட்சி செய்த ஆட்சியாளர்கள் முவரைக் குறிப்பிடுக?
2. விக்கிரம கிராட்சியங்கள் கண்டி மக்கள் மிகுந்த வெறுப்புக்கு ஏன் உள்ளானான் என்பதற்கு நான்கு காரணிகளைக் குறிப்பிடுக?
3. கண்டி யுகத்தில் கிராமங்களில் வாழ்ந்த மக்களில் தமது நாளாந்த வாழ்க்கைத் தேவைகளை பூர்த்தி செய்த முறையினை விளக்குக?
4. கண்டி கிராட்சியத்தின் கலாச்சாரத்துக்கு உதாரணம் தந்து விளக்குக?

நா.விஜயகுமார் (அன்ரன்)
மட்டுவில் சந்திரமௌலீச வித்தியாலயம்

1. கூடுதலான மீனைப் பிடித்தவர் யார்?
.....
2. குறைவான மீனைப் பிடித்தவருக்கும், கூடுதலான மீனைப் பிடித்தவருக்கும் கிடையலான மீனின் அளவு வித்தியாசம் எவ்வளவு?
.....
3. சமனான அளவு மீனைப் பிடித்த கிருவரும் யாவர்?
.....
4. மீனின் அளவுகளை குறைந்ததில் கிருந்து கூடிச் செல்லும் வகையில் ஏறுவரிசைப்படுத்துக?
.....
5. மீனின் அளவுகளைக் கூடியதிலிருந்து குறைந்து செல்லும் வகையில் மீனைப் பிடித்தவர்களின் பெயர்களை கிறங்குவரிசைப்படுத்துக.
.....
6. ஐந்து பேரும் பிடித்த மொத்த மீனின் அளவு யாது?
.....
7. 1Kg மீனை ரூ.50.00 படி விறறால், ராஜ் பிடித்த மீனினால் கிடைக்கும் வருமானம் யாது?
.....
8. நிகால் பிடித்த மீன்களை நான்கு பேருக்கு சமனாகப் பிரித்து விற்கப்பட்டது. அதில் ஒருவருக்குக் கிடைத்திருக்கக்கூடிய மீனின் அளவைக் காண்க?
.....
9. XIX, XVIII, XXV ஆகிய உரோமன் இலக்கங்களில் காட்டப்படும் எண்களை முறையே எழுதுக.
.....
10. அடுத்து வரும் எண்களைக் காண்க.
i. 7,8,10,13,17
ii. 50, 40, 31, 23, 16,
iii. 6, 12, 18, 24, 30,
11. 100g பருப்பின் விலை ரூ.4.50 ஆகும். 1 Kg பருப்பின் விலை யாது?
.....
12. எனது வயதைப் போன்று நான்கு மடங்கு வயதிலும் 5 குறைவு எனது அம்மாவின் வயது ஆகும். எனது வயது 9 ஆகும். அம்மாவின் வயது யாது?
.....
13. கிரண்டு குவியலில் உள்ள தேங்காய்களின் எண்ணிக்கை 70 ஆகும். ஒரு குவியலில் மற்றைய குவியலிலும் 10 கூடுதலாக உள்ளது. கூடுதலாக உள்ள குவியலில் உள்ள தேங்காய்களின் எண்ணிக்கை யாது?
.....
14. 8 பென்சீல்களின் விலை ரூ.60.00 ஆகும். ஒரு பென்சீலின் விலை யாது?
.....
15. 4,3,2, 6 ஆகிய இலக்கங்களிலிருந்து உம்மால் ஆக்கக்கூடிய மிகப் பெரிய, சிறிய எண்களை எழுதுக?
.....

ஜெ.விக்ரம் - மானிப்பாய்

குறிப்பு

கீழே உள்ள பாடலை வாசித்து அதன் கீழ் கேட்கப்படும் வினாக்களுக்கு விடை தருக.

மலையில் வந்து முகில்கள் கூட
வண்ண மயிலும் ஆடுது
அழகுத் தோகை வீர்த்து நன்றே
ஆனந்தமாய் ஆடுது

கோல மயிலின் கூத்தைக் கண்டு
குரங்கு தாழும் போடுது
கொப்புக் கொப்பாய் தாவிப் பாய்ந்து
குரங்கு தாளம் போடுது

வானம்பாடி மயிலின் கூத்தை
வாளத்திப் பாட்டு பாடுது
வண்ணக் கிளியும் வந்திருந்து
மயிலின் கூத்தைப் பார்க்குது

கொல்லும் வேடன் வல்லும் நழுவுக்
கூத்தைப் பார்த்துக் கலக்கிறான்
குறத்தி மயிலின் கூத்தைக் கண்டு
குதத்துக் குதத்து நடிக்கிறான்.

1. மேலே உள்ள ஒவ்வொரு பாடல் பகுதிகளிலும் நான்கு சொற்களில் எழுத்துப் பிழைகள் உள்ளன. அந்த நான்கு சொற்களையும் கிளம் கண்டு திருத்தி எழுதுக.
.....
2. வண்ணமயில் எப்போது ஆடுகிறது?
.....
3. குரங்கு எவ்வாறு தாளம் போடுகிறது?
.....
4. மயிலின் கூத்தைப் பார்த்து கிரசிப்பது எது?
.....
5. மயிலின் கூத்தைக் கண்டு குறத்தி யாது செய்கிறான்?
.....
6. பின்வரும் ஷேர்களுக்கு ஒத்த சொல் தருக.
1) மலை :
2) அழகு :
3) குரங்கு :
4) ஆனந்தம் :
5) கிருந்து :
7. பின்வரும் சொற்களுக்கு எதிர்க்கருத்துச் சொல் தருக.
1) வாழ்த்துதல் :
2) வானம் :
3) வீர்த்து :
4) ஆனந்தம் :
8. இந்தப் பாடலில் வந்துள்ள அடுக்குத் தொடர் ஒன்றை எழுதுக.....
9. கிடப் பெயர் ஒன்றை எழுதுக
.....
10. நிகழ்கால பெண்பால் வினைமுற்று யாது
.....
11. குறத்தி என்பதன் ஆண்பாற் சொல் யாது
.....
12. கிதிலுள்ள உயர்திணைப் பெயர்ச் சொல் ஒன்று எழுதுக.
.....
13. பெயராகவும் வினையாகவும் வரத்தக்க சொல் ஒன்று,
.....

- எழுதுக.
14. வந்திருந்து என்பதை பிரித்து எழுதுக.
15. பின்வரும் வினாக்களுக்குரிய மிகச் சரியான விடைகளை எழுதுக
16. காகம் கரைவது போன்று மயில்
17. சிங்கம் கர்ச்சிப்பது போன்று யானை
18. கள்வனைக் கண்ட நாய் துரத்தியது இதில் வந்துள்ள எழுவாய்.
19. ஒரு சோறு பதம்.
20. குறைகுடம் தரும்பும்
21. பெய்ததால் நாட்டில்..... நீங்கியது
22. தினமும்..... யில் படித்து..... யில் விளையாடுதல் நன்று.
23. காகத்தின் கூட்டில்
24. சூரியன் உதித்து
25. எல்லாச் செல்வங்களையும் விட உயர்ந்த செல்வம் எது?
26. நகைச்சுவைக் கதைகள் முலம் புகழ் பெற்ற கிருவரின் பெயர்களை எழுதுக
27. முல்லைக் கொடிக்கு தேர்கொடுத்த வள்ளல் யார்?
28. விமானத்தை முதன் முதலில் கண்டு பிடித்தவர்கள் யார்?
29. இலங்கையில் மிகப் பெரிய தாவரவியல் பூங்கா எங்குள்ளது?

30. பின்வருவனவற்றை கிணைக்குக.

பின்னவெல	பாரதியார்
லூல்கந்தூர	காசோலை
தபாற்கந்தோர்	சோக்கிரட்டீஸ்
வங்கி	தேயிலை
சீந்தனையாளர்	யானைகள்
புலவர்	மணியோடர்

31. பொருத்தமான சொல்லின் கீழ் கீறிடுக.

1. கமல் பாடசாலைக்குச் (சென்றான், சென்றாள்)
2. (நான், நாங்கள்) தண்ணீர் குடித்தோம்.
3. யானை (பலம், பழம்) உள்ள மிருகம் ஆகும்.
4. நாய் கள்வனைக் கண்டு (குறைத்தது, குறைத்தது)
5. பாம்பு பூனையைக் கண்டு (சீறியது, சீரியது)

32. பொருத்தமற்ற சொல்லின் கீழ் கீறிடுக.

1. பூய், அவனி, நாடு, பார், உலகம்
2. மன்னன், வேந்தன், கோன், அரசன், குரு
3. அடவி, குன்று, வனம், காடு, கானகம்.
4. நடடி, ஆடி, தை பார், மடி

33. பின்வரும் சொற்களை வைத்து வாக்கியம் எழுதுக.

- கலை :
- களை :
- அலை :
- அழை :
- வளி :
- வல் :
- வழி :

கி.பி.கி. (சு/சு) பரிட்சை மாதிரி வினாத்திரை

சமூகக் கல்வியும், வரலாறும்

பகுதி II

01 அ.

1. a. சமய கலாசார மறுமலர்ச்சிக்குத் துணைபுரிந்த முன்று பெர் யார்களை எழுதுக?
- b. இலங்கையில் பின்பற்றப்படுகின்ற மதங்களைக் குறிப்பிட்டு, இம் மதங்களின் வளர்ச்சிக்குக் காரணமானவர்களைக் குறிப்பிடுக?
- c. புராதன காலத்தின் கலைப் படைப்புக்கு முன்று உதாரணம் தருக?
- d. பொலனறுவைக்கால அநுராதபுரக்கால சந்திரவட்டக் கல்லுக்கு கிடையிலான வேறுபாடு யாது?
2. a. புராதன காலத்தில் நீர்ப்பாசனத்தின் பொற்காலம் எனக் கூறப்பட்ட பகுதி யாது?
- b. வசப மன்னனால் அமைக்கப்பட்ட குளம், கால்வாய்களைக் குறிப்பிடுக?
- c. ஆரம்பக் குடியேற்றங்களுக்குப் பயன்படுத்திய ஆறுகள் முன்றை எழுதுக?
- d. துரித மகாவலித் திட்டத்தின் நோக்கம் கிரண்டைத் தருக?
03. a. கல்லோயாப் பள்ளத்தாக்கிற்கு அருகே ஏற்படுத்தப்பட்ட ஆரம்ப ஆரிய குடியேற்றம்
- b. 1ம் உலகமகாயுத்தம் ஏற்படுவதற்கான உடனடிக் காரணம்

- c. அரசியல் வலுச் சமநிலையைத் தாப்பிப்பதற்கு திலோக சந்திர என்ற பெயருடைய கலிங்க கிளவரசியை மணம் செய்த மன்னன்
- d. மனித வர்க்கத்தின் நலனை கிலக்காகக்கொண்டு ஆகக்கூடிய நாடுகளை, உறுப்பு நாடுகளாகப் பெற்றுள்ள சர்வதேச மையம்
- d. சமாதானம், நலம், உணவு எனும் கலோகத்தைப் பயன்படுத்திய புரட்சி

02. எதிர்பார்ப்பு:- மாணவர்கள் காலநிலை பற்றி அறிவதோடு அதனால் ஏற்படும் மாற்றங்களையும் விளைவுகளையும் மதிப்பிடுவார்.

1. இலங்கைக்குக் கிடைக்கும் மழை வீழ்ச்சிகள் முன்றினையும் குறிப்பிடுக?
2. இலங்கையில் வெப்பநிலையில் செல்வாக்குச் செலுத்தும் காரணிகள் நான்கினைக் குறிப்பிடுக?
3. வெள்ளப்பெருக்கு, மண்சரிவு என்பன ஏற்படுவதில் செல்வாக்குச் செலுத்தும் காரணிகள் கிரண்டைக் குறிப்பிட்டு, அவற்றை விபரிக்குக?
4. போதுமான அளவு மழையைப் பெறமுடியாத காரணத்தால் எழக்கூடிய பிரச்சினைகளைத் தீர்ப்பதற்கு எடுக்கக்கூடிய நடவடிக்கை கிரண்டை விளக்குக?

03. எதிர்பார்ப்பு:- வளங்கள் மனித நடவடிக்கைகளில் பெரிதும்

வடமராட்சி கிழக்கில் மாவீரர் நாளை சிறப்பாக அனுஷ்டிக்க ஏற்பாடு!

(மருதங்கேணி)
வடமராட்சி கிழக்குப் பிரதேசத்தில் மாவீரர் நாள் நிகழ்வுகளைச் சிறப்பாக நடத்துவதற்கான ஏற்பாடுகளை, வடமராட்சி கிழக்கு கடற்புலிகளின் அரசியற் துறைப் பொறுப்பாளர் தீபன் தலைமையிலான மாவீரர் நாள் ஏற்பாட்டுக் குழுவின் மேற்கொண்டு வருகின்றனர்.
கடந்த சனிக்கிழமை நடைபெற்ற ஏற்பாட்டு நிகழ்வில் கடற்புலிகளின் கூட்டுறவுச் சங்க சமாச்சம், சங்கங்கள், பலநோக்குக் கூட்டுறவுச் சங்கம், பண தென்னவை வளச் கூட்டுறவுச் சங்கம், விளையாட்டுக் கழக ஒன்றியம், விவசாய சம்மேளனப் பிரதிநிதிகள், ஆகியோர் கலந்துகொண்டனர்.

எதிர்வரும் 20 ஆம் திகதி தொடக்கம் வடமராட்சி கிழக்கு துயிலும் இல்லம், வீதிகள், வைத்தியசாலை, பாடசாலைச் சுற்றுப்புறங்கள் என்பன பாடசாலை மாணவர்கள், சங்கப் பிரதிநிதிகள், விளையாட்டுக் கழக ஒன்றிய அங்கத்தினர்களால் சிரமதானம் மூலம் துப்பரவு செய்யும் பணிகள் நடைபெறவிருக்கிறது.
எதிர்வரும் 23 ஆம் திகதி வடமராட்சி கிழக்கிலுள்ள மாவீரர் பெற்றோர் கௌரவிப்பு நிகழ்வு, உடுத்துறை மகாவித்தியாலத்தில் இடம் பெறவுள்ளது. எதிர்வரும் 26ஆம் திகதி மாலை 6.30 மணி தொடக்கம் தேசியத் தலைவரின் பிறந்தநாளையொட்டி, உடுத்துறை மகா

வித்தியால அரங்கில் நாடகம், நடனம், மற்றும் கலை நிகழ்வுகள் இடம்பெறவிருக்கிறது.
எதிர்வரும் 27 ஆம் திகதி வடமராட்சி கிழக்குப் பிரதேசத்திலிருந்து கொடிகாமம் நவீனநிலை, கோப்பாய் மற்றும் வன்னியிலுள்ள துயிலும் இல்லங்களுக்கு மாவீரர்களின் பெற்றோர் அழைத்துச் செல்லப்படவிருப்பதுடன், அன்றைய தினம் மற்றைய இடங்களிலிருந்து வடமராட்சி கிழக்கு உடுத்துறை துயிலும் இல்லத்துக்கு வருகை தரும் பெற்றோர் கௌவிக்கப்படவிருப்பதுடன் இங்கு தங்கிச் செல்வதற்கான ஏற்பாடுகளும் செய்யப்பட்டுள்ளன. (21)

மருதங்கேணி அரசினர் வைத்தியசாலை இன்று வைபவ ரீதியாகத் திறந்துவைப்பு!



மருதங்கேணி ஆதார வைத்தியசாலை இன்று காலை வைபவ ரீதியாகத் திறந்துவைக்கப்படவுள்ளது. கடந்தகாலப் போரால் மிகவும் பாதிக்கப்பட்ட இந்த வைத்தியசாலையைப் புனரமைப்பதற்கு நிகொட் நிறுவனம் 2 கோடி 30 லட்சம் ரூபாவை ஒதுக்கியுள்ளது. புனரமைக்கப்பட்ட இந்த வைத்தியசாலையில் வெளிநோயாளர் பிரிவு, ஆண் பெண் விடுதிகள், பிரேத அறைகள், கர்ப்பிணிப் பிரிவு

மற்றும் வைத்தியர் விடுதிகள் என்பன அமைக்கப்பட்டுள்ளன. இந்த வைத்தியசாலைக்கு நிகொட் நிறுவனத்தால் அம்புலன்ஸ் வாகனம் ஒன்றும் வழங்கப்பட்டுள்ளது. இந்தப் பிரதேச மக்களின் சுகாதாரத் தேவைகளை நிறைவேற்றக்கூடிய இந்த வைத்தியசாலை 2000 ஆண்டு ஏற்பட்ட போர் அனர்த்தம் காரணமாக முற்றாக அழிக்கப்பட்டமை குறிப்பிடத்தக்கது. (122)

வடமராட்சி கிழக்கு பகுதியிலிருந்து புளியங்குளம் வரை பஸ்சேவை!

(மருதங்கேணி)
வடமராட்சி கிழக்கு கேவில்-கட்டைக்காடு - புளியங்குளம் வரையான பஸ்சேவையொன்றை வடமராட்சி கிழக்கு சிற்றூர்திகள் சேவைச் சங்கத்தினர் இந்தமாதம் முதலாம் திகதி தொடக்கம் ஆரம்பித்துள்ளனர்.
காலை 7 மணிக்கு கேவில் - கட்டைக்காடு சந்தியிலிருந்து புறப்படும் பயணிகள் பஸ் தாளையடி, புதுக்காடு சந்தி வழியாக பகல் 11 மணிக்கு புளியங்குளம் சென்றடையும், மாலை 2 மணிக்கு வவு

னியா புளியங்குளத்திலிருந்து புறப்படும் பஸ் அதே வழியாக மாலை 6.30 மணிக்கு கட்டைக்காடு சந்தியை வந்தடையும்.
வடமராட்சி கிழக்கு கிராமங்களிலிருந்தும் மாசார், சேரன்பற்று, இயக்கச்சி கிராமங்களிலிருந்தும் முகமாலைக்குச் சென்று, பஸ் மூலம் வவுனியா, புளியங்குளம் சென்ற பயணிகள், இந்த சேவை ஆரம்பிக்கப்பட்ட பின் முகமாலைக்குச் செல்லாது தங்கள் கிராமங்களிலிருந்தே புளியங்குளத்துக்கான பயணத்தை மேற்கொள்ளமுடிகிறது.

கேவில், கட்டைக்காடு - புளியங்குளம் பிரயாணத்துக்கு ஒரு வழிக் கட்டணமாக ரூபா 125 அறவிடப்படுகிறது எனத் தெரிவிக்கிறது. (21)



வெற்றிலைக்கேணி வெளிச்சவீட்டுக்கு மின்சார வசதி செய்ய ஏற்பாடு!

(மருதங்கேணி)
மருதங்கேணிப் பிரதேசத்தில் உள்ள வெற்றிலைக்கேணியில் அமைந்துள்ள (கோரி) கலங்கரை விளக்கத்துக்கு மின்சார வசதி செய்து கொடுப்பதற்காக யாழ். மாவட்ட நாடாளுமன்ற உறுப்பினர் கி.சிவநேசன் பன்முக்குப்படுத்தப்பட்ட வரவு - செலவுத்திட்ட நிதியில்

ருந்து 2 லட்சம் ரூபாவை ஒதுக்கியுள்ளார்.
இந்தக் கோரிக்கு வெளிச்சம் ஏற்படுத்திக்கொடுக்காமல் காரணமாக, இரவு நேரங்களில் கடற்புலிகளுக்குச் செல்லும் கடற்புலிகளின் திசை தெரியாமல் சிரமங்களை ஏதிர்நோக்கி வருகின்றமை குறிப்பிடத்தக்கது. (122)

ஆரோக்கியமான சமுதாயத்தை உருவாக்க அனைவரும் ஒத்துழைக்கவேண்டும்!

தமிழீழ அரசியல்துறை துணைப் பொறுப்பாளர் சோ.தங்கன்

(கிளிநொச்சி)
போரினால் அழிந்துள்ள எமது தேசத்தில் ஒரு ஆரோக்கியமான சமுதாயத்தை உருவாக்க அனைவரும் ஒத்துழைக்கவேண்டுமென தமிழீழ விடுதலைப் புலிகளின் துணை அரசியல்துறைப் பொறுப்பாளர் வவுனியா நெடுங்கேணி பிரதேசத்தில் புதிதாக அரிசி ஆலைகள் திறந்துவைப்பு (வவுனியா) வவுனியா - நெடுங்கேணிப் பிரதேசத்தில் புதிதாக அமைக்கப்பட்ட இரண்டு அரிசி ஆலைகள் திறந்துவைக்கப்பட்டன.
நெடுங்கேணிப் பிரதேசத்தில் மருதோடை, கற்குளம் ஆகிய இடங்களில் புதிதாக அமைக்கப்பட்ட அரிசி ஆலைகளே திறந்துவைக்கப்பட்டன.
சேவா லங்கா நிறுவனமும், நெடுங்கேணி ப.நோ.க.சங்கமும் இணைந்து, இந்த அரிசி ஆலைகளை அமைத்துள்ளன. இந்த அரிசி ஆலைகளை வவுனியா மாவட்ட அரசு அதிபர் கே.கணேஷ் திறந்துவைத்தார்.

எர் சோ.தங்கன் தெரிவித்தார். 'கடந்த சனிக்கிழமை வெளியிட்ட வைக்கப்பட்ட 'விழி' மருத்துவ இதழின் பொன்மலர் வெளியீட்டு விழாவில் சிறப்புரையாற்றும்போதே அவர் இவ்வாறு தெரிவித்தார்.
'விழி' மருத்துவ இதழானது எமது மக்களின் சுகாதார விழிப்புணர்வு நடவடிக்கைகளை முன்னெடுக்கப் பெரிதும் உதவிவருகிறது. எமது மக்கள்மீது திணிக்கப்பட்ட போரினாலும், பொருளாதாரத் தடைகளாலும் பல்வேறுபட்ட இனல்களை எமது மக்கள் அனுபவித்துவந்தவேளைகளில் வரும் முன் காக்கும் நடவடிக்கைகளை 'விழி' மருத்துவ இதழ் முன்னெடுத்துச் சென்றுள்ளதன், தொடர்ந்தும் செயற்பட்டுவருகிறது.
மக்களுடைய சுகாதார நடவடிக்கைகளை விரிவுபடுத்தும் வகையில் மருத்துவ சங்கம் செயற்பட்டுவருகிறது. போரினால் அழிப்புண்டு பெரும் நெருக்கடிக்குள் தள்ளப்பட்ட எமது தேசத்தில் ஒரு ஆரோக்கியமான சமுதாயத்தை உருவாக்க அனைவரும் ஒத்துழைக்கவேண்டுமென

அவர் மேலும் குறிப்பிட்டார்
மேற்படி நிகழ்வு கிளிநொச்சி பண்பாட்டு மண்டபத்தில், கிளிநொச்சி மாவட்ட பிரதி மாகாண சுகாதார சேவைகள் பணிப்பாளர் சத்தியமூர்த்தி தலைமையில் நடைபெற்றது.
பொதுச் சடர தழிப்புச் சங்கச் செயலாளர் பரமநாதபிள்ளை ஏற்றிவைக்க, தமிழீழத் தேசியக் கொடியை கிளிநொச்சி மாவட்ட அரசியல்துறைப் பொறுப்பாளர் காண்டீபன் ஏற்றிவைத்தார்.
தொடர்ந்து 'விழி' மருத்துவ இதழின் முதற்பிரதியை அரசியல்துறை துணைப் பொறுப்பாளர் சோ.தங்கன் வெளியிட்டு வைக்க திருமதி சயந்தன் பெற்றுக்கொண்டார்.
தொடர்ந்து மதிப்பீட்டுரையினை வலயக் கல்விப் பணிப்பாளர் ப. அரியரத்தினம் நிகழ்த்தினார். சிறப்புரைகளை அரசியல்துறை துணைப் பொறுப்பாளர் சோ.தங்கன், தமிழீழ சுகாதார சேவைகள் பொறுப்பாளர் அருண், வைத்திய கலாநிதி எழுமதி கரிசாலன் ஆகியோர் நிகழ்த்தினர்.

மருதங்கேணி - ஆழ்வரை பிரதான வீத விரைவில் புனரமைக்கப்படவுள்ளது!

(மருதங்கேணி)
வடமராட்சி கிழக்குப் பிரதேசத்திலுள்ள மருதங்கேணி - ஆழ்வரை பிரதான வீதி விரைவில் புனரமைக்கப்படவுள்ளது. இந்தவீதி சுமார் 20 வருடங்களுக்கு மேலாகத் திருத்தப்படாமல் காணப்படுகிறது. மருதங்கேணி உதவி அரசாங்க அதிபர் பிரிவில் அண்மையில் நடை

பெற்ற ஒருங்கிணைப்புக் குழுக் கூட்டத்தில், வீதி அபிவிருத்தித் திணைக்கள அதிகாரி இதனைத் தெரிவித்தார்.
இதன் முதற்கட்ட நடவடிக்கையாக - இந்த வீதியின் இரு பக்கங்களிலுமுள்ள பற்றைகள் பொது மக்களால் சிரமதானம் மூலம் வெட்டி அகற்றப்படவுள்ளது (122)

சின்னாச்சிறு பெய்திகள்

கால்நடைகளுக்கான மருத்துவமனை
(கிளிநொச்சி)
கிளிநொச்சி பூநகரப் பிரதேசத்தில் கால்நடைகளுக்கான மருத்துவமனை புதிதாக அமைக்கப்பட்டு வருகிறது.
பூநகரப் பிரதேசத்துக்குரிய கால்நடை மருத்துவமனை, தற்பொழுது ஜெயபுரத்தில் தற்காலிகமாக இயங்கிவருகிறது. இந்த மருத்துவமனை வெகுவிசைவில் புதிதாக அமைக்கப்பட்ட கட்டடத்தில் இயங்கவுள்ளது.

மாவீரர் துயிலும் இல்லம் அலங்கரிப்பு
(கிளிநொச்சி)
கிளிநொச்சி முழங்காவில் மாவீரர் துயிலும் இல்லம் கடந்த ஞாயிற்றுக்கிழமை அலங்கரிக்கப்பட்டது. முழங்காவில் பிரதேச மகளிர் சங்கம், தேசிய எழுச்சிப் பேரவை மற்றும் வர்த்தக சங்கம் என்பன இணைந்து இந்த அலங்கரிப்பு வேலைகளை மேற்கொண்டன.

புள்ளிப்பு விழா
கிளிநொச்சி ஜெயபுரம் பாடசாலையின் ஆண்டு விழாவும், 2004 ஆம் ஆண்டு புலமைப் பரிசில் பரிசையின் சித்தியமடைந்த மாணவிகளான புள்ளிப்பு நிகழ்வும் இன்று இடம்பெறவுள்ளது.
இந்த நிகழ்வில் கல்வி அதிகாரிகள், பாடசாலை அதிபர், ஆசிரியர்கள், மாணவர்கள், பெற்றோர்கள் எனப் பலரும் கலந்துகொள்ளவுள்ளனர்.

முன்பள்ளிகள் இயங்குவதில்லை
வவுனியா வடக்கு - புளியங்குளம் தெற்கு, பழைய வாடி, இராமனூர் ஆகிய பகுதிகளில் முன்பள்ளிகள் இல்லாத நிலை காணப்படுகிறது.
இந்தப் பகுதிகளில் கடந்த 8 மாதங்களுக்கு முன்பு முன்பள்ளிகள் இயங்கிவந்தன. தற்போது முன்பள்ளிகள் இயங்குவதில்லை. இதனால், இந்தப்பகுதி முன்பள்ளிச் சிறார்கள் தமது ஆரம்பக் கல்வியைப் பெறமுடியாத நிலை காணப்படுகிறது.

மன்னார் - ஐம்பது வீட்டுத்திட்டம் வெள்ளத்தில் மூழ்கும் அபாயநிலை

(மன்னார்)
மன்னார் பிரதேசத்தில் தொடர்ந்து பெய்துவரும் மழையால் காஞ்சிபுரம் மற்றும் பள்ளிமுனை 50 வீட்டுத்திட்டம் வெள்ளத்தில் மூழ்கும் அபாயநிலை தோன்றியுள்ளது.
இந்தப் பிரதேசத்தில் இராணுவத்தினர் அமைத்துள்ள மண் அணைகள், மற்றும் வடிகால்கள் இல்லாத காரணங்களால் மழை நீர் மக்கள் குடியிருப்புக்களில் தேங்கியிருக்கும் நிலை காணப்படுகிறது. இதனால் மக்கள் பெரும் சிரமங்களை எதிர்நோக்கி வருகின்றனர்.
மேலும் இடம்பெயர்ந்த மக்க

வத்தினர் அமைத்துள்ள மண் அணைகள், மற்றும் வடிகால்கள் இல்லாத காரணங்களால் மழை நீர் மக்கள் குடியிருப்புக்களில் தேங்கியிருக்கும் நிலை காணப்படுகிறது. இதனால் மக்கள் பெரும் சிரமங்களை எதிர்நோக்கி வருகின்றனர்.
மேலும் இடம்பெயர்ந்த மக்க

ளுக்கென தொண்டர் நிறுவனங்கள், வீட்டுத்திட்டத்தின் கீழ் அமைந்த வீடுகள், நீர் தேங்கி நிற்கும் இடங்களில் அமைக்கப்பட்டமையால், வீடுகள் வெள்ளத்தில் மூழ்கும் நிலை காணப்படுகிறது. இதனால் மக்கள் பெரும் சிரமங்களை எதிர் கொண்டு வருகின்றனர்.

பலூஜா நகர் மீது தாக்குதலில் ஈடுபட்டுள்ள அமெரிக்கப் படையினர் மீது கடும் தாக்குதல்

ஈராக் தீவிரவாதிகளின் கட்டுப் பாட்டில் உள்ள பலூஜா நகரைத் தமது கட்டுப்பாட்டுக்குக் கொண்டு வரும் முகமாக நேற்றுமுன்தினம் பாரிய தாக்குதலை ஆரம்பித்த அமெரிக்கப் படையினர் - ஈராக் தீவிரவாதிகளின் பலத்த எதிர்ப்புக்கு முகம் கொடுத்து வருகின்றனர்.

குறிப்பாக பலூஜா நகரின் ஜோலான் பிரதேசத்தில் அமெரிக்கப் படையினர் தீவிரவாதிகளின் பலத்த எதிர்ப்பை எதிர்நோக்கி

யுள்ளனர்.

இந்தப் பிரதேசத்தில் தீவிரவாதிகள் ரொக்கம் மற்றும் மோட்டார் குண்டுகளால் அமெரிக்கப் படையினர் மீது தாக்குதலை நடத்திவருவதாகவும் அமெரிக்கப் படையினர் முன்னேற்றத்துக்கு கடும் பிரயத்தனம் மேற்கொண்டபோதும் அவர்களால் முன்னேற்ற முடியவில்லை எனவும் செய்தி நிறுவனம் ஒன்று தெரிவித்தது.

பலூஜா நகரில் மூவாயிரத்துக்

கும் மேற்பட்ட தீவிரவாதிகள் அமெரிக்கப் படையினரை எதிர்த்துப் போரிடுவதாக அமெரிக்கப்படை அதிகாரியான ஜென் ஜோர்ஜ் கேசி தெரிவித்தார்.

பலூஜா நகரின் ஒவ்வொரு அங்குல நிலத்தையும் கைப்பற்றுவதற்கு அமெரிக்கப் படையினர் பலத்த எதிர்ப்பினை எதிர்நோக்குவதாகத் தெரிவிக்கப்படுகிறது.

பலூஜா நகரில் ஒவ்வொரு நிமிடமும் நூற்றுக்கும் மேற்பட்ட எறி

கணைகள் வீழ்ந்து வெடிப்பதாகவும் நகர் முழுவதும் புகைமூட்டம் காணப்படுவதாகவும் அங்குள்ள பி.பி.சி. செய்தியாளர் தெரிவித்தார்.

பலூஜா நகரிலிருந்து இரண்டரை லட்சத்துக்கும் மேற்பட்ட மக்கள் வெளியேறியுள்ளபோதும் சுமார் ஐம்பதினாயிரம் மக்கள் இன்னும் அங்கு தங்கியிருப்பதாகவும் தெரிவிக்கப்படுகிறது.

இதேவேளை ஈராக் தீவிரவாதிகளால் அமெரிக்கப் படையினருக்



குச் சொந்தமான ஹெலி ஒன்று கட்டு வீழ்த்தப்பட்டதாக செய்தி நிறுவனம் ஒன்று தெரிவித்துள்ள போதும், அமெரிக்கப் படைத்தரப்பினர் இந்தச் செய்தியை மறுத்துள்ளனர்.

யாழ். மாவட்டத்தில்

சாவதேச தமிழீழ மாணவர் பேரவை,

தமிழ் மாணவர் ஒன்றியம் -

யாழ் மாவட்ட வலயக் கல்விபணிமனைகளின் கிளிநொச்சி வலயக் கல்விப் பணிமனை இணைந்த ஆதரவுடன்

கிளிநொச்சி மாவட்டத்தில்

தமிழ் மாணவர் ஒன்றியம் -

நமது ஈழநாடு

தமிழர் தாயகத்தின் முன்னோடி நாளிதழ்

நடாத்தும்

க.பொ.து (சா/து) - 2004 டிசம்பர் பரீட்சைக்குத் தோற்றும் மாணவர்களுக்கான முன்னோடிக் கருத்தரங்குகளை (பரீட்சைகளும், மீட்டல் வகுப்புகளும்)

யாழ். மாவட்டத்திலும், கிளிநொச்சி மாவட்டத்திலும் இலவசமாக நடாத்தவுள்ளது.

யாழ். மாவட்டத்திற்கான கருத்தரங்கு நிலையங்கள்

காலம்:- 10.11.2004 (ஆங்கிலம்)
வலயம்:- வலிகாமம் வலயம்.
கருத்தரங்கு கிடம்பெறும் நிலையங்கள் :

01. யா/கிராமநாதன் கல்லூரி.
02. யா/ல்கந்தவரோதயாக் கல்லூரி.
03. யா/உடுவில் மகளிர் கல்லூரி.
04. யா/அருணோதயாக் கல்லூரி.
05. யா/யுனியன் கல்லூரி.

06. யா/மல்லாகம் மகாவித்தியாலயம்.
07. யா/விக்ரோத்யாக் கல்லூரி.
08. யா/வட்டு. யாழ்ப்பாணக் கல்லூரி.
09. யா/மான்ப்பாய் இந்துக்கல்லூரி.
10. யா/மான்ப்பாய் மெமோரியல்.
11. யா/கிளவாலை சென் கென்றியரசர் கல்லூரி.
12. யா/மான்ப்பாய் மகளிர் கல்லூரி.
13. யா/பண்டத்தர்ப்பு மகளிர் கல்லூரி.

காலம்:- 10.11.2004 (ஆங்கிலம்)
வலயம்:- தீவக வலயம்.

கருத்தரங்கு கிடம்பெறும் நிலையங்கள்:

01. யா/சரஸ்வதி வித்தியாலயம்.
02. யா/சேர்வைத்தலிங்கம் துரைசாமி மகாவித்தியாலயம்.
03. யா/புங்குடுதிவு மகாவித்தியாலயம்.
04. யா/ஊர்காவற்றுறை சென் அன்ரன்ஸ்.
05. யா/நெடுந்தீவு மகாவித்தியாலயம்.
06. யா/காரைநகர் யாழ்நன் கல்லூரி

பாடசாலை பரீட்சார்த்திகளும் தனிப்பட்ட பரீட்சார்த்திகளும் இந்தக் கருத்தரங்கில் பங்கு பற்றலாம்

யாழ். மாவட்டத்துக்கான இணை அனுசரணை

45 வருடகாலசேவையில் ஆல்சீலோன் டிஸ்ட்ரிபியூட்டர் 212, கே.கே. எஸ் வீதி யாழ்ப்பாணம்.	BOC தேசத்தின் வங்கியாளர் இலங்கை வங்கியின் கிளம்பருவத்தினருக்கு அன்புடன்....	கொமர்ஷல் வங்கி உங்கள் நலமே எங்கள் நோக்கம்.	SIPS கமினி சேவைகள் கி.ல.125A, ஸ்ரான்லி வீதி, யாழ்ப்பாணம். எங்களின் நோக்கம், உங்களின் தொழில் நுட்பமுள்ளேற்றம்.	Global Info IBM (PVT) LTD. SAPTA CENTER 401, K.K. ROAD, JAFFNA, TEL: 221-190-199
S.T.P 73, பனாலி வீதி, கந்தர்மடம், யாழ்ப்பாணம்.	ஸ்ரீமதுகன் தொலைத்தொட்பகம் 302, கே.கே. எஸ் வீதி, யாழ்ப்பாணம்.	UNIT 347, K.K.S. Road, Jaffna	Softview Computer College 43, Arasady Road, Thaddatheru Junction, Jaffna	IIS 100, மணிகூட்டு வீதி, யாழ்ப்பாணம். தொலைபேசி : 021 222 2831

கிளிநொச்சி மாவட்டத்திற்கான கருத்தரங்கு நடைபெறும் நிலையங்கள்


காலம் :- 12.11.2004 (கணிதம், விஞ்ஞானம்)
13.11.2004 (ஆங்கிலம்)

- | | | |
|---|--|---|
| 01. பூநகர் - பூநகர் மகாவித்தியாலயம் | 06. முரசமோட்டை - முருகானந்தா மகா வித்தியாலயம் | 12. கனகபுரம் - கனகபுரம் மகா வித்தியாலயம் |
| 02. முழங்காவில் - முழங்காவில் மகாவித்தியாலயம் | 07. வட்டக்கச்சி - வட்டக்கச்சி மகாவித்தியாலயம் | 13. உருத்தரபுரம் - கிளிநொச்சி இந்துக் கல்லூரி |
| 03. ஜெயபுரம் - ஜெயபுரம் அ.த.க. பாடசாலை | 08. கிராமநாதபுரம் - கிராமநாதபுரம் மகா வித்தியாலயம் | 14. கிளிநொச்சி நகர் - கிளிநொச்சி மகா வித்தியாலயம் |
| 04. பனை - பனை மத்திய கல்லூரி | 09. அிக்கராயன் - அிக்கராயன் மகா வித்தியாலயம் | 15. கிளிநொச்சி நகர் - கிளிநொச்சி மத்திய கல்லூரி |
| 05. தருமபுரம் - தருமபுரம் மகா வித்தியாலயம் | 10. கிரணைமடு - கணகாம்ப அ.த.க.பாடசாலை | 15. வீகவமடு - பிரமந்தனாறு மகா வித்தியாலயம் |


நமது ஈழநாடு

The Namathu Eezhanadu

The Leading Daily of Tamils' Homeland



வெறலியிலிருந்து கிறங்குகிறார் அன்றன் பாலசிங்கம்!



பாலசிங்கத்தை வரவேற்கக் காத்திருக்கும் தளபதிகள் - பொறுப்பாளர்கள்.



பாலசிங்கம் தம்பதியினர் இடம் கலந்துரையாடும் பொறுப்பாளர்கள் - தளபதிகள்!

பொலிஸ், நீதித்துறைகளில் அதிகளவில் ஊழல்களாம்!

ஜனாதிபதி சந்திரிகா குற்றச்சாட்டு

(கொழும்பு)
பொலிஸ் மற்றும் நீதித்துறைகளில் ஊழல் மோசடிகள் அதிகரித்துள்ளமையால் நாட்டை முன்னேற்றிச் செல்வதில் சிக்கல்கள் ஏற்பட்டுள்ளதாக ஜனாதிபதி சந்திரிகா குமாரதுங்க தெரிவித்துள்ளார்.
நேற்று பாதுகாப்பு அமைச்சில் இடம்பெற்ற குற்றங்களைத் தடுப்பதற்கான தேசிய ஆலோசனைச் சபையின் கூட்டத்தில் கலந்துகொண்டு உரையாற்றுகையிலேயே அவர் இவ்வாறு தெரிவித்தார்.
அங்கு தொடர்ந்து உரையாற்றிய ஜனாதிபதி - சட்டத்தையும், சமாதானத்தையும் பாதுகாப்பதாகக் கூறப்படும் இந்த இரு துறைகளும் நாட்டில் அதிகளவு ஊழல்களைப்

புரியும் துறைகளாகும். இதனை நான் தெரிவிக்காவிட்டால் வேறு யாராலும் வெளிப்படுத்த முடியாது. என்னை எவ்வாறு தாசித்தாலும் பரவாயில்லை. இந்த நாட்டினை அபிவிருத்தி செய்வதற்காக நான் தெரிவிக்கும் கருத்து என்பதால் இது பற்றிய விபரங்களை நான் பொருட்படுத்தவில்லை.
தற்பொழுது பொலிஸார் குற்றங்களைத் தடுப்பது குறைந்து வருகின்றது. பொலிஸாருக்குப் பிரச்சினைகளைத் தீர்த்துவைப்பது பெரும் பிரச்சினையாகி வருகின்றது.
அடுத்த விடயம் இந்தப் பிரச்சினைகளுக்கு நீதிமன்றங்கள் உரிய தண்டனை வழங்குவதில்லை. இதுவும் குற்றங்கள் அதிகரிப்பதற்கான காரணங்களாகும்.

இங்குள்ள சட்டத்துறை மோசடிகள், ஊழல்கள் நிறைந்த துறைகளாகக் காணப்படுகின்றது. இதை மறைப்பதில் எந்தப் பயனும் இல்லை. அரசியல்வாதிகளின் பின்னால் வால்பிடித்துக்கொண்டு பதவி உயர்வுகளை மட்டும் நோக்கமாகக் கொண்டு செயற்படுபவர்கள் நாட்டில் சட்டத்தையும், அமைதியையும் நிலை நாட்ட முடியாது என்றார்.

பரந்தன் விபத்தில் பெண் ஒருவர் பலி!

(கிளிநொச்சி)
பரந்தன், முரசுமோட்டைப் பகுதியில் நேற்று கன்றர் வாகனம் மோதியதில் குடும்பப் பெண்ணொருவர் பரிதாபகரமாக உயிரிழந்தார்.
நேற்று நடைபெற்ற இந்தச் சம்பவத்தில் முரசுமோட்டை முதலாம் கட்டையைச் சேர்ந்த மூன்று பிள்ளைகளின் தாயான எஸ். சிவானந்தினி என்பவரே உயிரிழந்தவராவார்.

லஞ்ச குற்றச்சாட்டில் கைதான எஸ்.பி. பிணையில் விடுவிப்பு!

(கொழும்பு)
லஞ்ச ஊழல் குற்றச்சாட்டில் லஞ்ச ஊழல் ஆணைக்குழுவினரால் கைதுசெய்யப்பட்ட முன்னாள் அமைச்சர் எஸ்.பி.திஸநாயக்க நேற்று பிணையில் செல்ல அனுமதிக்கப்பட்டார்.
அமைச்சர் பதவி வகித்த காலத்தில் சட்டவிரோதமான முறையில் சொத்துக்களைச் சேர்த்ததாக இவர் மீது குற்றம் சுமத்தப்பட்டுள்ளது.
இரண்டு கோடி 90 லட்சம் ரூபா பெறுமதியான சொத்துக்களுக்குரிய விபரங்களை இவர் சமர்ப்பிக்கத்

தவறியதாகவும் கூறப்படுகிறது. மேல் நீதிமன்றத்தில் இவருக்கு எதிராக வழக்கு தாக்கல் செய்யப் பட்டிருப்பதாக லஞ்ச ஊழல் ஆணைக்குழு பொலிஸார் நீதிமன்றத்தில் நேற்று அறிக்கை சமர்ப்பித்தனர்.
இதனை ஏற்றுக்கொண்ட நீதிபதி ரூபா 25 லட்சம் ரொக்கம் மற்றும் ஒரு கோடி ரூபா சரீர்பிணையில் சந்தேகநபரை செல்ல அனுமதித்து, மீண்டும் ஜனவரி 27ஆம் திகதி ஆஜராக வேண்டும் என்றும் உத்தரவிட்டார். (முன்னர் வந்த செய்தி 3 ஆம் பக்கத்தில்)

கிளிநொச்சிக்கு...

தளபதி கேணல் ரமேஸ், மாலதி படையணி சிறப்புத்தளபதி கேணல் விதுஷா, மகளிர் அரசியற்துறைப் பொறுப்பாளர் தமிழினி, நீதி நிர்வாகத்துறைப் பொறுப்பாளர் பரா உள்ளிட்ட தளபதிகள், பொறுப்பாளர்கள், போராளிகள் ஆகியோர் வரவேற்றனர்.
இதையடுத்து கலாநிதி அன்றன் பாலசிங்கம், தமிழீழத் தேசியத் தலைவர் வே.பிரபாகரனைச் சந்தித்து சமாதான முயற்சிகள், சமகால விவகாரங்கள் மற்றும் நாளை நடைபெறவுள்ள ஜான் பீற்றர்சனுடான சந்திப்பு மேற்படி விடயங்கள் குறித்து முக்கிய ஆலோசனைகளில் ஈடுபட்டதாகவும் கூறப்பட்டது.

கூட்டமைப்பு - முஸ்லிம்....

போர்நிறுத்த உடன்படிக்கையை முறையாக கடைப்பிடிப்பதற்கு இரு தரப்பினருக்கும் அழுத்தம் கொடுக்க வேண்டுமென நோர்வே பிரதிநிதி தங்களிடம் கோரியதாகவும் அவர் தெரிவித்தார்.
இதேவேளை, சிறிலங்கா முஸ்லிம் காங்கிரஸ் பிரதிநிதிகளுடனான சந்திப்பு அந்தக் கட்சியின் தலைவர் ரவூப் ஹக்கீமின் இல்லத்தில் இடம்பெற்றது.
இந்தச் சந்திப்பில் முஸ்லிம்களுக்கு சமாதானப் பேச்சுக்களின் போது தனித்தரப்பு அந்தஸ்து வழங்கப்படவேண்டுமென்று கோரிக்கை விடுக்கப்பட்டதாகவும் தெரியவருகிறது.

முன்று நாடாளுமன்ற உறுப்பினர்கள் ஆளும் கட்சிக்கு மாறினாலும் தமது இக் கோரிக்கைக்கு பாதிப்பு இல்லை என்பதை சிறிலங்கா முஸ்லிம் காங்கிரஸ் எடுத்துக் கூறியுள்ளது. கடந்தகால யுத்தத்தினால் முஸ்லிம்களுக்கு ஏற்பட்டுள்ள இழப்புகளின் ஆவண அறிக்கையொன்றும் நோர்வே பிரதிநிதிகளிடம் கையளிக்கப்பட்டது.
இதனிடையே நோர்வே பிரதிநிதிகள் அரசாங்கத்தின் சமாதானச் செயலகப் பணிப்பாளர் நாயகம் ஜயந்த தனபாலவையும் நேற்று சந்தித்து உரையாடியுள்ளதாகவும் தெரியவருகிறது.

மின்சாரம்....

லம் யாழ்ப்போதனை வைத்திய சாலையில் பிரேத பரிசோதனைக்காக வைக்கப்பட்டுள்ளது.

ஜனாதிபதி....

ராக தெரிவு செய்யப்படுவாரெனவும் அந்த தகவல் மேலும் தெரிவித்தது.

சைக்கிளில்....

கொண்ட இருவரும் தப்பிச்சென்று விட்டதாகவும், பொலிஸார் தெரிவித்தனர்.

UNITE

இப்பாரம்பரிய தீபத்திருநாளில் எங்கள் வியப்புக்கும் சேவையையும் அதன் பலாபலன்களையும் உங்களுடன் பகிர்ந்து கொள்ளும் நோக்குடனும் ஏற்கனவே வழங்கப்பட்ட சலுகைகளை பெறமுடியாததையிட்டு கவலைப்படுபவர்களை மகிழ்விக்கும் நோக்குடனும் உலகத்தரம் பெற்ற எங்கள் நிறுவனம் அதன் இந்திய மற்றும் பல்நாட்டு தொழில்நுட்பவியலாளர்கள் வாயிலாக சகல கணினி உதிர்ப்பாகங்களையும் நேரடியாக இறக்குமதி செய்து குறைந்த விலைக்கீழேயே சேவையுடன் 3 வருட முழு உத்தரவாதம் வழங்குகின்றோம்.

New P4 Just for 45000/= With Monitor

நாங்கள் மற்றவர்களிடமிருந்து மாறுபட்டவர்கள் என்கிறோம். எவ்வாறு?

- கணினி தயாரிப்பில் முன்னணி நிறுவனங்களான Compaq, DELL, IBM மற்றும் HP நிறுவனங்களுடன் இணைத்தயாரிப்பில் ஈடுபட்டவர்கள்
- குறிக்க நேரத்தில் எடுத்த வேலைகளை செய்யு முடிப்பவர்கள்
- உலகளவில் தகவல் தொழில்நுட்பத்துறையில் குறிப்பிடக்கூடிய அளவில் பங்காற்றல் கொண்டவர்கள்
- வலைப்பின்னலைமையிற் முன்னணி நிறுவனமான Cisco தயாரிப்புகள் மற்றும் சேவைகளை மிகமிகக் குறைந்த விலையில் வழங்குபவர்கள்

Attractive Deepavali Offer

Imported High Quality Shirt or Trouser or Ladies/Gents T-Shirt

விசேட சலுகைப் பொதிகள்

- புதிய Multimedia Pentium IV கணினிகள் Monitor உடன் Rs. 45,000/= முதல் முன்று வருட உதிர்ப்பாக உத்தரவாதத்துடன் கூடிய வீற்பனைக்குப் பீர்திய சேவைகள்
- இறக்குமதி செய்யப்பட்ட Multimedia Pentium III கணினிகள் Monitor உடன் Rs. 26,000/= முதல் ஒரு வருட உதிர்ப்பாக உத்தரவாதத்துடன் கூடிய வீற்பனைக்குப் பீர்திய சேவைகள்
- இறக்குமதி செய்யப்பட்ட Multimedia Compaq Pentium II கணினிகள் Monitor உடன் Rs. 16,000/= முதல் ஒரு வருட உதிர்ப்பாக உத்தரவாதத்துடன் கூடிய வீற்பனைக்குப் பீர்திய சேவைகள்

இவையெல்லாம் இலவச விட்டில் சேர்த்தல் மற்றும் விட்டிலேயே பராமரிப்புடன் கூடியவை

We are entirely different from others

Universal Network of Information Technology
347, K.K.S. Road, Manohara Theatre Junction, Jaffna, Sri Lanka.

பணிநிலை வேண்டுகை

- 1) ஒவ்வொரு அச்ச இயந்திர இயக்குநர்**
KORD - SOLONA ஒவ்வொரு அச்ச இயந்திரங்களை இயக்கக்கூடிய அனுபவஸ்தர்கள் தேவை.
அனுபவ தகைமைச் சான்றிதழ்களுடன் நேரில் வரவும்
- 2) இயந்திர உதவியாளர்கள் - பமிலினர்கள்**
மேற்படி அச்ச இயந்திரங்களில் உதவியாளர்களாகவும் பழகுநராகவும் பணியாற்ற ஆர்வமுள்ள இளைஞர்கள் தேவை.
உரிய சான்றிதழ்களுடன் நேரில் வரவும்.
- 3) சிற்றாழியர்கள்**
அலுவலகத்தில் சிற்றாழியராக பணியாற்ற நல்லொழுக்கமுடைய வர்கள் தேவைப்படுகின்றனர்.
ஆர்வமுடையோர் நேரில் வரவும்

மேற்குறிப்பிட்ட பணிகளுக்கு விண்ணப்பிக்க விரும்புவோர் (12.11.2004) காலை 10.00 மணிக்கு நேரில் சமூகமளிக்கவும்.

ஆளணி முகாமையாளர்
நமது ஈழநாடு
267 நாவலர் வீதி யாழ்ப்பாணம்