

க. வேல்தஞ்சன்

எல்லாபே அழிந்தன பத்திரிகை மட்டும் வெளிவந்தது

சுனாமியால் மிகமோசமாக அழிந்த, இந்தோனேசியாவின் சுமத்திராப் பகுதியிலுள்ள, ஆச்சே மாகாணத்திலிருந்து வெளிவரும் "செரம்பி இந்தோனேசியா" எனும் செய்திப் பத்திரிகை, தனது 200 பணியாளர்களில் ஏறத்தாழ 100 பேர் அவர்களது குடும்பங்களுடன் சுனாமிக்குப் பலியாகிப்போன செய்தியை, ஆச்சே மாகாணத்தில் கொல்லப்பட்ட பல லாயிரம் மக்களின் செய்தி களுடன் வெளியிட வேண்டிய பெரும் துரதிஷ்ட நிலையில் இருந்தது.

மொத்தத்தில் அரைவாசிப் பணியாளர்கள் மட்டுமல்ல, இயந்திர சாதனங்கள், விநியோக வசதிகள் என்பனவும் முற்றாக அழிந்துபோயின. ஆச்சு இயந்திரம் அழிந்தது. பத்திரிகைக் காரியாலயம் மோசமாகச் சேதமடைந்தது. தப்பிப் பிழைத்திருந்த பணியாளர்கள் கூட தத்தமது குடும்பங்களில் பலரைப் பறிகொடுத்திருந்தனர். அவர்களது வீடுகள் அழிந்திருந்தன. பெரும் அனர்த்தம் விளைந்து பெரும் துயரம் சூழ்ந்திருந்த வேளையிலும் எஞ்சியிருந்த நூறு பேருள் அடங்கும் செய்தியாளர்களும், பணியாளர்களும் தமது மனவறுதியை ஒரு நாளை நாட்களுக்குள் மீள்கட்டுமானம் செய்து கொண்டு ஐந்தாம் நாள் "செரம்பி இந்தோனேசியா" தினசரியை மீண்டும் வெளியிடத் துணிந்தனர்.

சுனாமியால் பாதிக்கப்பட்ட மக்களுக்கு உணவு, மருத்துவ உதவிகள் பெறுவது எங்கே என்று உறவுகள், குடும்பம், நண்பர்கள் முதலியோரிடமிருந்தான செய்திகள் என்ன என்று தெரிவிக்க வேண்டிய முக்கிய பொறுப்பு அப்பத்திரிகைக்குரியதாக விருந்தது. அதனால், அந்த அவசர காலத்தில் தமது துயரங்களையும், இழப்புக்களையும் தாங்கிக் கொண்டு அப்பணியாளர்கள் கடமைபுரியத் தொடங்கினர்.

ஆச்சே மாகாணத்தின் தலை நகரமான பண்ட ஆச்சே

நகரிலிருந்து வெளிவந்து கொண்டிருந்த இப்பத்திரிகை சுனாமி அழிவின் பின்னர் அங்கிருந்து ஐந்து மணித்தியால மோட்டார் வாகனப் பயணத் தூரத்திலுள்ள லொக்சியுமவே எனுமிடத்தில் தற்காலிக அலுவலகத்தை ஒழுங்கு செய்து இரண்டாவது ஆச்சு இயந்திரமொன்றின் மூலம் வெளிவருகிறது.

அனர்த்தத்தின் பின்னர் இரண்டு வாரங்களுக்கு இலவசமாகவே இப்பத்திரிகை விநியோகிக்கப்பட்டதாக இப்பத்திரிகை உட்பட மேலும் 9 பத்திரிகைகளை இந்தோனேசியாவின் வெவ்வேறு இடங்களில் வெளியிடும் "பி.ரி. இன்டோபேர்ஸ்ரா பிறிம்மீடியா" எனும் நிறுவனத்தின் இயக்குநர் சென்றிஜன்ரு தெரிவித்தார்.

தாம் நாள் எப்படி அவர் களால் மீண்டும் பத்திரிகையை வெளியிட முடிந்தது எனும் கேள்விக் கான விடையாதெனில் ஆச்சே யிலிருந்து வெளிவரும் ஒரே யொரு பத்திரிகை என்பதால் தம்முடைய பொறுப்புணர்வை அவர்கள் உணர்ந்தமை என்பதாகும்.

சுனாமி அனர்த்தத்துக்கு முந்திய காலங்களிலும் "செரம்பி இந்தோனேசியா" போர் நடைபெற்றுக் கொண்டிருந்த ஆச்சே மாகாணத்தில் நெருக்கடிகளைச் சந்திக்க வேண்டியிருந்தது. அக்காலத்தில் 25,000 இற்கும் 30,000 இற்கும் இடைப்பட்ட அளவு பத்திரிகைகள் தினமும் விற்பனையாகின. சுனாமியின் பின்னர் பத்திரிகை விநியோகம் 10,000 ஆக

குநர்களையும், 72 தேசியப் பத்திரிகை நிறுவனங்களையும், 10 செய்தி முகவர் நிலையங்களையும், பிராந்திய, உலகளாவிய பத்திரிகைக் கழகங்களையும், அனர்த்த காலங்களில் அழிந்த பிரதேசத்தில் பாதிக்கப்பட்ட மக்களுக்குத் தொடர்ந்தும் தகவல் களைக் கொடுப்பதற்காக தமது இழப்புகளையும், துயரங்களையும் தாங்கிக் கொண்டு பணியாற்றும் அப்பத்திரிகைப் பணியாளர்களுக்கு உதவும் படி கேட்டுள்ளது.

WAN அமைப்பின் இயக்குநர் நாயகம் திமொத்தி பால்டிங் பின்வரும் வேண்டுகோளை தமது அமைப்பு அங்கத்தவர்களிடம் விடுத்திருந்தார்.

“தென்னாசியாவை உலுக்கிய சுனாமிப் பேரவலம் நிகழ்ந்து இன்று ஏழு ஆண்டுகள் உருண்டோடிவிட்டன. அந்த இயற்கை அனர்த்தத்தின் வடுக்கள் இன்னமும் பாதிக்கப்பட்ட மக்களின் மனங்களில் புதைந்துள்ளன. இந்த ஆழப்பேரவலத்தின் மையம் சுமத்திராத்தீவு. அங்கே அழிந்து சீதைந்துபோன ஆச்சே மாகாணத்தின் கற்குவியல்களையும் தாண்டி செய்திச் சேவையாற்றியது செரம்பி இந்தோனேசியா என்ற நாளிதழ். அழிவிலிருந்து மீண்டெழுந்த அந்தப் பத்திரிகையின் மீள் பிரவாகம் குறித்து யாழ். குடா செய்தியாளர் ஒரு வரின் பார்வை இது.


“பெரும்பாலான எமது செய்தியாளர்களும், பணியாளர்களும் தமது குடும்பங்களை, வீடுவாசல்களை எல்லாம் இழந்து விட்டனர். விளம்பரம் போன்ற வற்றால் எவ்வித வருமானமும் இல்லாத இவ்வேளையில் கூட தினமும் எங்கள் நிறுவனம் பணத்தைச் செலவு செய்கிறது. பத்திரிகை விநியோகத்தை இலவசமாகச் செய்கிறது” என்றும் அவர் கூறினார்.

சுனாமி அனர்த்தம் நிகழ்ந்து மொத்தச் செய்தியாளர்கள், பணியாளர்களில் அரை வாசிக்கும் மேற்பட்ட வர்களை இழந்த நிலையில் ஐந்

வீழ்ச்சி கண்டுள்ளது” என்றும் சென்றி ஜன்ரு கூறினார்.

பிரான்ஸ், பாரிஸ் நகரத்தில் தளம் கொண்டு இயங்கும் செய்திப் பத்திரிகைகளின் உலக நிறுவனம் (The World Association of Paper - WAN) செரம்பி இந்தோனேசியா பத்திரிகைக்குப் பாராட்டுத் தெரிவித்துள்ளதுடன், நிறுவன (WAN) அங்கத்தவர்களாக உள்ள 102 நாடுகளைச் சேர்ந்த பத்திரிகைகளின் நிறைவேற்று இயங்

“மிகத்துயரகரமான ஒரு குழலில் அழிந்த பிரதேச மொன்றில் மக்களுக்குத் தகவலளிக்கின்ற பணியைத் தொடர்ந்துகொண்டிருக்கின்ற எமது சக நண்பர்களான “செரம்பி இந்தோனேசியா” இன் செய்தியாளர்கள், பணியாளர்களுக்கு எவ்வளவு தொகையாயினும் நிதி யுதவி யொன்றை அனுப்புவதை பரிசீலிக்கும்படி அழைப்பு விடுக்கின்றேன்” என்று அவரது வேண்டுகோள் அமைந்திருந்தது.




சிதம்பர ரகசியம் - ஆதிரைச் சிறப்பிய


இருபத்து ஏழு நட்சத்திரங்களிலே, இரண்டே இரண்டு நட்சத்திரத்துக்கு மட்டுமே "திரு" என்ற அடை மொழி உண்டு. அது சிவனுக்கே உரிய "திரு"வாதிரை நட்சத்திரமும், விஷ்ணுவுக்கு உரிய "திரு"வோண நட்சத்திரமும் ஆகும். அதிலும் சிவபெருமானை "ஆதிரையான்" என்றே அழைப்பார்கள். ஆதிரை நட்சத்திரம் ஆனது வான சாஸ்திரத்திலும், சோதிடத்திலும் பேசப்படும் 6ஆவது நட்சத்திரம் ஆகும். தற்கால வான இயல் அறிவின் படி இதை "ஓரியன் குழு"வில் சொல்லப் படுகின்றது. இந்த ஓரியன் குழுவில் 5 நட்சத்திரங்கள் முக்கியமாய்ச் சொல்லப்படுகின்றது. அவற்றில் மிகுந்த ஒளியுள்ள நட்சத்திரம் திரு

வாதிரை நட்சத்திரமே ஆகும். வடகிழக்குத் திசையில் காணப்படும் இந்த நட்சத்திரம் எப்போதும் மற்ற நான்கு நட்சத்திரங்களுடனேயே காணப்படும்.

இத்துணைச் சிறப்பு வாய்ந்த இந்தத் திருவாதிரை நட்சத்திரம் ஒவ்வொரு மாதமும் வந்தாலும், மார்கழியில் வரும் திருவாதிரைக்குத் தனிச் சிறப்பு. ஆடவல்லான், தன் பிரபஞ்ச நாட்டியத்தை அன்றே ஆடியதாய்க் கூறுவார்கள். அதிலும் சிதம்பரத்தில் இதற்குத் தனியான மகிமை. சிதம்பரத்தில் முக்கியமான திருவிழா, மார்கழித் திருவாதிரைத் திருவிழா என்றே சொல்லலாம். மற்ற நாட்களில் கோயிலுக்கு உள்ளே இருக்கும் நடராஜர்



அன்று வீதியில் உலா வருவார். அதோடு அல்லாமல் நடராஜருக்குச் சிறப்பு அபிஷேகங்களும் நடக்கும். இந்த ஆதிரைச் சிறப்பு நாள் விழாவாய்க் கொண்டாடப்பட்டதைப் பரிபாடல் என்னும் சங்கப் பாடலில் இருந்தும் தெரிந்து கொள்ள முடிகின்றது. மாணிக்கவாசகர் வாழ்வும் வாக்கும் (திருவாதவூரடிகள் புராணமும் திருவாசகமும்) எதிர்வரும் 30.12.2011 வெள்ளிக் கிழமை திருவெம்பாவை ஆரம்பமாகி, ஜனவரி 08ஆம் திகதி ரூயிற்றுக்கிழமை திருவாதிரை அன்று நிறைவு பெறுகிறது. இலங்கையில் ஈழத்துச் சிதம்பரம் என்று சொல்லப்படும் காரைநகர் சிவன் கோவில் இவ்விழா சிறப்பாகக் கொண்டாடப்படுகின்றது.

34.  இந்த உருவில் உள்ள ஒவ்வொரு சதுரத்தினதும் ஒருபக்க நீளம் 1 சென்ரிமீற்றர் ஆகும். இவ்வுருவில் நிறந் தீட்டப்பட்டிருக்கும் பகுதியின் பரப்பளவு யாது?

35. ஒரு கேக்கில் இருந்து 3/5 பங்கை கமலும் 1/5 பங்கை நிமலும் பங்கிட்டுக் கொண்டனர். எஞ்சிய கேக் முழுவதின் என்ன பின்னமாகும்?

36. 5l நீர் நிரப்பப்பட்ட பாத்திரம் ஒன்றிலிருந்து 1L 350 ml நீர் வெளியே எடுக்கப்பட்டால் எஞ்சியுள்ள நீரின் அளவு யாது?

37. 5m 40 cm நீளமான ஒரு நாடாவில் இருந்து 2m 60cm நீளமான ஒரு துண்டு வெட்டி எடுக்கப்பட்டதெனில் எஞ்சியுள்ள நாடாவின் நீளம் யாது?

38. 1kg மிளகாய் ரூபா 80 எனின், 150 g மிளகாயின் விலை யாது?

39. மு.ப. 12.40 ஐ நியம் நேரத்தில் எழுதுக.

40. ஒன்று ரூபா 12.50 படி 2 கொப்பிகளையும், 1kg ரூபா 36 படி 1kg 500g சீனியையும், 1L ரூபா 80 படி 750ml தேங்காயெண்ணையும் வாங்கிய ஒருவர் கடைக்காரரிடம் கொடுக்க வேண்டிய பணம் எவ்வளவு?

ஒழுங்கின்றி இருக்கும் வாக்கியங்களை ஒழுங்குபடுத்தி எழுதுக.

41. தொடங்காதே / அறியமுன் / செய்யாத் / ஒன்றின் / அதனைச் / இயல்பை

42. நெற்றி / நிலத்திலே / உழைத்தான் / தொழிலாளி / சிந்த / வியர்வை

பின்வரும் ஆங்கில வசனங்களுக்குரிய கருத்தினைத் தமிழில் எழுதுக.

43. Frome where are you?

44. Please give me a pencil?

45. May I read this book?

கடந்த வெள்ளிக்கிழமை வெளியான வெளியீடு - 6 கேள்விகளின் விடைகள்

01. 1	12. தயிர்	23. ரூபா 4000	34. 1
02. 3	13. தங்கம்	24. 220	35. 3
03. 2	14. தும்பிக்கை	25. 2	36. 2
04. ✓	15. கார்	26. 3	37. 1
05. ✓	16. வடகிழக்கு/ஈசானமூலை	27. 1	38. 2
06. ✓	17. ஆகாய விமானம்	28. 2	39. 2
07. ✓	18. கப்பல்	29. 2	40. கருத்துள்ள தெளிவான விடைகளுக்குப் புள்ளி வழங்குக.
08. ✓	19. வடமேற்கு/வாயுமூலை	30. 2	
09. ✓	20. திங்கள், வியாழன்	31. 2	
10. தீ	21. புதன்	32. 4	
11. தலை	22. 90	33. 2	

தரம் - 5 புலமைப் பரிசில் பரீட்சை - 2012

பகுதி - I

I மணி

வெளியீடு

07



இலங்கையிலுள்ள ஐந்து ஆசிரிய நட்சத்திரங்களினால் தொகுக்கப்படும் விசேட வினாத்தாள்.

சரியான விடையின் கீழ்க் கோடிடுக.


- உலர்ந்த நிலையில் பயன்படுத்தக்கூடிய பழவகைகளில் ஒன்று.
 - கொடிமுந்திரிகை
 - மரமுந்திரிகை
 - வாழைப்பழம்
 - மாம்பழம்
- மோட்டார் சைக்கிள் ஒன்றில் பயணம் செய்வோர் பாதுகாப்பிற்காக அணிந்து கொள்ள வேண்டியது யாது?
 - கண்ணாடி
 - தலைக்கவசம்
 - சப்பாத்து
 - கையுறை
- தர்ம சக்கரம், சிலுவை, பிறை, சூலம் என்பன சின்னங்களாக அமைந்திருக்கும் மதங்களின் வரிசை முறையே,
 - இந்து மதம், பௌத்தம், கிறிஸ்தவம், இஸ்லாம்
 - பௌத்தம், கிறிஸ்தவம், இஸ்லாம், இந்து சமயம்
 - பௌத்தம், இஸ்லாம், கிறிஸ்தவம், இந்து சமயம்
 - பௌத்தம், இந்து சமயம், இஸ்லாம், கிறிஸ்தவம்
- காற்றினால் பரவும் வித்தைக் கொண்ட தாவரம்?
 - தென்னை
 - இலவம்பஞ்சு
 - மாங்காய்
 - பனங்காய்
- தீ விபத்து ஒன்று ஏற்படக்கூடிய சந்தர்ப்பம் அல்லாதது,
 - வாயு அடுப்பில் வாயு வெளியேற்றம்
 - மின் ஒழுக்கு
 - பலத்த இடிமின்னல்
 - தண்ணீர்ப் பஞ்சம்

கீழேயுள்ள வினாக்களில் சில காரியங்களும், அவற்றைச் செய்யக்கூடிய உத்தியோகத்தர்களும் தரப்பட்டுள்ளன. அவற்றைச் சரியான முறையில் தொடர்புபடுத்தும்போது வரும் இலக்கத்தை அவற்றுக்கு நேரேயுள்ள அடைப்புக் குறியீடுகள் கீடுக.

- பொதுநல சேவைகளில் ஈடுபடுதல் () 1. அதிபர்
- தினவரவு இடாப்பில் பதிதல் () 2. தாபாற்காரர்
- பொருட்களை நிறுத்தல் () 3. சமூக சேவகன்
- பதிவுத் தபால்களை விநியோகித்தல் () 4. வகுப்பாசிரியர்
- பாடசாலையை நிர்வகித்தல் () 5. வியாபாரி

11 -13 வினாக்களுக்குத் தரப்பட்ட குறியீடுகளையும், வாக்கியங்களையும் அவதானித்து சரியான விடையின் கீழ்க் கீறிடுக


மாணவர் பாடசாலைக்குச் சென்றனர்



மைதானத்தில் மாணவர்கள் விளையாடுகின்றனர்



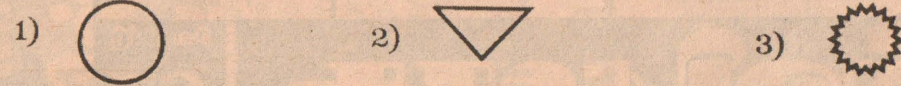
பாடசாலையில் நூலகம் உண்டு




மாணவர் சுற்றுலா சென்றனர்



11. மாணவர்கள் என்ற சொல்லுக்குப் பொருத்தமான உரு யாது?



12. நூலகம் என்ற சொல்லுக்குப் பொருத்தமான உரு யாது?



13. சுற்றுலா என்ற சொல்லுக்குப் பொருத்தமான உரு யாது?



பின்வரும் வினாக்களுக்குரிய சரியான விடையின் கீழ் கீறிடுக.

14. ஒரு பென்சிலின் விலை 6 ரூபா எனின், அரை டசின் பென்சிலின் விலை என்ன?
1) ரூபா 72 2) ரூபா 82 3) ரூபா 36

15. ஒரு விளையாட்டுக் காரின் விலை 100 ரூபா இவ்வாறான 4 கார்களை வாங்கிய பின் 500 ரூபாவைக் கடைக்காரரிடம் கொடுத்தால் அவருக்குக் கடைக்காரர் கொடுக்கும் மீதிப்பணம் எவ்வளவு ரூபா?
1) 100 ரூபா 2) 500 ரூபா 3) 300 ரூபா









16. ஒரு சதுரக் காணியின் பரப்பு 16 சதுர மீற்றர் எனின், காணியின் ஒருபக்க நீளம் எவ்வளவு மீற்றர்?
1) 2 மீற்றர் 2) 4 மீற்றர் 3) 8 மீற்றர்

17. கடை ஒன்றில் 4 போத்தல்கள் உள்ளன. ஒவ்வொரு போத்தலிலும் அரை டசின் இனிப்புக்கள் வீதம் உள்ளன. கடையில் உள்ள இனிப்புக்களின் மொத்த எண்ணிக்கை யாது?
1) 20 2) 40 3) 24

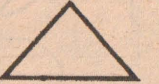
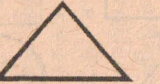
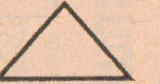
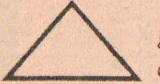
கீழே தரப்பட்டுள்ள சொற்கூட்டங்களில் ஒன்று ஏதோ ஒரு வகையில் வேறுபடுகின்றது. வேறுபட்ட சொல்லின் கீழ்க் கோடிடுக.

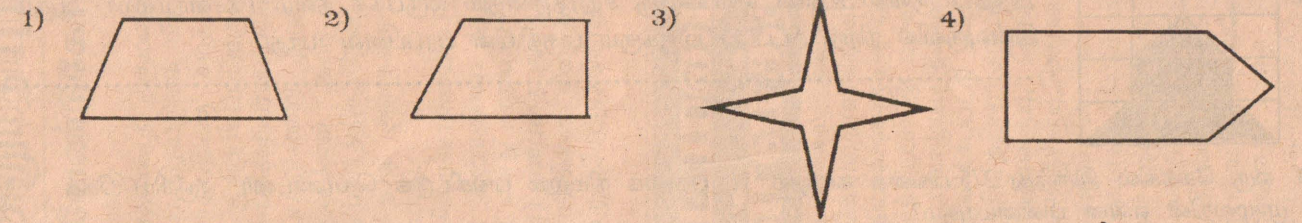
18. 1) பென்சில் 2) பேனா 3) புத்தகம் 4) மேசை
19. 1) கணவாய் 2) ஓணான் 3) நண்டு 4) மீன்
20. 1) கதவு 2) வீடு 3) யன்னல் 4) ஓடு
21. 1) மல்லிகை 2) ரோஜா 3) தென்னை 4) செவ்வரத்தை
22. 1) ஆடு 2) சிங்கம் 3) பூனை 4) நாய்

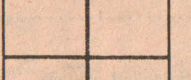
கீழ்வரும் வினாவில் உருவங்களுக்கும் எண்களுக்கும் இடையேயான தொடர்பைக் கருத்திற் கொண்டு வினாக்க குறியிட்ட கூட்டில் வரவேண்டிய எண்ணைக் காண்க.

				13
				?
6	8	4	5	

1) 10 2) 12 3) 18

24.     இந்த உருக்கள் மூலம் ஆக்கத்தக்க வடிவம் எது?



25.  அருகேயுள்ள உருவில் உள்ள செவ்வகங்களின் எண்ணிக்கை யாது?
1) 4 2) 5 3) 6 4) 8

கீழே முதலில் தரப்பட்டுள்ள சம்பவத்துடன் பொருத்தக்கூடிய வாக்கியத் தொடரை அதனையடுத்துத் தரப்பட்டுள்ள விடைகளிலிருந்து தெரிவுசெய்து கோடிடுக.

26. பரீட்சையில் சித்தியடையாத பாலா அதனை நினைத்துக் கவலைப்பட்டுக் கொண்டிருந்தான்.
1. துள்ளுகின்ற மாடு பொதி சுமப்பதைப் போன்று
2. நிலத்தில் சிந்திய பாலை நினைத்து அழுவதைப் போன்று
3. சாண் ஏற முழும் சறுக்குவதைப் போன்று
27. சிவபாலனுக்கு எவ்வளவு புத்திமதி கூறியும் மது குடிக்கும் பழக்கத்தை அவனால் விட முடியவில்லை.
1. ஆற்றினுள் விறகு வெட்டிப் போட்டதைப் போன்று
2. ஐந்தில் வளையாதது ஐம்பதில் வளையாததைப் போன்று
3. ஆறிய கஞ்சி பழங்கஞ்சி என்பதைப் போன்று
28. தாசன் என்பவன் சரியான கஞ்சன். அவனிடம் இருந்து ஏதாவது பொருளைப் பெறுவது மிகக் கடினமாகும்.
1. உண்ணாச் சொத்து மண்ணாய்ப் போகும் என்பதைப் போன்று
2. ஆற்றிலே போட்டாலும் அளந்துபோடு என்பதைப் போன்று
3. ஆமையிடமிருந்து இறக்கை கேட்பதைப் போன்று

பொருத்தமான விடையின் கீழ்க் கோடிடுக.

29. சுகத் என்பவன் 16 ரொபிகளை வாங்கி அவற்றில் 3/4 பகுதியைச் சாப்பிட்டு முடித்தான் எனின், அவனிடம் மீதியாக எத்தனை ரொபிகள் இருக்கும்?
1. 12 2. 8 3. 4
30. என்னிடமிருந்து ரம்புட்டான் பழங்களில் அரைவாசியைச் சாப்பிட்டு முடித்த பின்னர் மீதியாக 4 ரம்புட்டான்கள் என்னிடமிருந்தது எனின், ஆரம்பத்தில் என்னிடமிருந்த ரம்புட்டான்கள் எத்தனை?
1. 2 2. 4 3. 8
31. ஒருவர் தான் பயணம் செய்ய வேண்டிய தூரத்தின் 1/8 பகுதியை நடந்து சென்றார். அவர் நடந்து சென்ற தூரம் 2 km எனின், அவர் பயணம் செய்ய வேண்டிய மொத்தத் தூரம்.
1. 4 km 2. 8 km 3. 16 km

கீழே முதலில் தரப்பட்டுள்ள வாக்கியத்தின் அதே கருத்தைத் தரக்கூடிய விடையைத் தரப்பட்டுள்ள விடைகளிலிருந்து தெரிவுசெய்து கோடிடுக.

32. கிழக்கில் சூரியன் உதிக்கும்போது ரோஜாப்பூ சிரிக்கின்றது
1. சூரியன் உதிக்கும்போது ரோஜாப்பூ சிரிக்கின்றது
2. சூரியன் உதிப்பது ரோஜா மலர்வதற்கே
3. சூரியன் உதிக்கும்போது ரோஜா மலர்கின்றது
33. பொங்கிவரும் நீரோடை மனதைக் கவர்கின்றது.
1. நீர் பொங்கி வருவதால் அது உடலுக்கு இதமானது
2. நீர் பொங்கி ஓடிவரும்போது அது மனதைக் கவர்கின்றது
3. ஓடும் நீர் எப்பொழுதும் மனதைக் கவரும் வகையிலேயே பொங்கி வரும்

