



# தமிழ்நாடம்

Thamil Naatham

**கல்வீ ஒளி**  
**இலவச**  
**இணைப்பு**  
**உள்ளே...**

இராகம் 01 தாளம் 66

வள்ளுவர் ஆண்டு 2043 புரட்டாதி 03 புதன்கிழமை (19.09.2012)

பக்கங்கள்: பதினாறு + 8

## வடக்கு, கிழக்கில் ஆளுநர்களாக சிவிலியன்களை நியமிக்க வேண்டும்

மண்கும்பான் ஜீம்மா பள்ளிவாசல் பெருவிழா



(யாழ்ப்பாணம்)

யாழ்.வேலணை, சாட்டி வெள்ளைக் கடற்கரை பிரதேசத்திலுள்ள மண்கும்பான் ஜீம்மா பள்ளிவாசலில் 22 வருடங்களின் பின்னர் இடம்பெற்ற வருடாந்தப் பெருவிழாவின் நிறைவாக நேற்று இடம்

பெற்ற தொழுகையில் பெரும் எண்ணிக்கையான மக்கள் கலந்து கொண்டனர். கொடியிறக்க நிகழ்வையடுத்து ஆ பிரார்த்தனையும் நடைபெற்றது.

கடந்த பன்னிரண்டு நாட்கள் தொடர்ந்து இடம்பெற்ற இந்த

ஜனாதிபதியைச் சந்தித்த சம்பந்தன் கோரிக்கை

(கொழும்பு)

திருகோணமலை மற்றும் அம்பாறை மாவட்டங்களுக்கு தமிழ் பேசும் சிவிலியன்களை அரசாங்க அதிபர்களாக நியமிக்குமாறு நேற்று ஜனாதிபதியைச் சந்தித்துப் பேசிய தமிழ்த் தேசியக் கூட்டமைப்பின் தலைவர் இரா.சம்பந்தன் கோரிக்கை விடுத்தார். வடக்கு, கிழக்கு மாகாணங்களின் ஆளுநர்களாகச் சிவிலியன்கள் நியமிக்கப்பட வேண்டுமென்றும் கோரிக்கை விடுத்தார்.

## இலங்கையின் முதலாவது முஸ்லிம் முதலமைச்சர் கிழக்கில் நியமனம்


ஜனாதிபதி முன்னிலையில் நஜீப் ஏ மஜீத் நேற்று சத்தியப் பிரமாணம்

(கொழும்பு)

கிழக்கு மாகாண முதலமைச்சராக நஜீப் ஏ. மஜீத் ஜனாதிபதி மஹிந்த ராஜபக்ஷ முன்னிலையில் சத்தியப் பிரமாணம் செய்துகொண்டார்.

இலங்கையின் முதலாவது முஸ்லிம் முதலமைச்சராக நஜீப் ஏ. மஜீத் நியமிக்கப்பட்டுள்ளமை குறிப்பிடத்தக்கது.

கிழக்கு மாகாண சபையில் முஸ்லிம் காங்கிரஸுக்கு இரண்டு அமைச்சுப் பதவிகள் ஸ்ரீலங்கா முஸ்லிம் காங்கிரஸுடன் இணைந்து கிழக்கு மாகாண சபையின் ஆட்சியினை ஐக்கிய மக்கள் சுதந்திர கூட்டமைப்பு



## மு.கா.வின் ஆதரவு ஆளும் ஜ.ம.க.மு.வுக்கு

கிழக்கு முதல்வர் பதவி இரண்டரை வருடங்களின் பின் மு.கா.வுக்கு

(கொழும்பு)

கிழக்கு மாகாண முதலமைச்சர் பதவியானது சுழற்சி முறையில் வகிக்கப்படவுள்ளது. இதற்கமைய, இரண்டரை வருடங்களின் பின்னர் இப்பதவி, ஸ்ரீலங்கா முஸ்லிம் காங்கிரஸுக்கு வழங்கப்படும் என அக்கட்சியின் தலைவரும் அமைச்சருமான ரஷிப் ஹக்கீம் ஊடகங்களுக்கு தெரிவித்தார்.

(கொழும்பு)


நீண்ட இழுபறியாக காணப்பட்ட கிழக்கு மாகாணத்தில் ஆளும் ஐக்கிய மக்கள் சுதந்திர முன்னணி முஸ்லிம் காங்கிரஸுடன் இணைந்து ஆட்சியமைக்கவுள்ளது.

இதற்கான தமது ஆதரவினை ஸ்ரீலங்கா முஸ்லிம் காங்கிரஸின் செயலாளர் ஹசன் அலி கிழக்கு மாகாண ஆளுநரிடம் கடிதம் மூலம் சமர்ப்பித்துள்ளார்.

இதனைத் தொடர்ந்து நேற்றுக் காலை அலரி மாளிகையில் நடைபெற்ற கிழக்கு மாகாண முதலமைச்சரின் சத்தியப் பிரமாணம் நிகழ்வில் கலந்து கொண்ட ஸ்ரீலங்கா

முஸ்லிம் காங்கிரஸின் தலைவர் ஹக்கீம், செயலாளர் ஹசன் அலி ஆகியோர் புதிய முதலமைச்சருக்கு வாழ்த்து தெரிவித்தனர்.

இந்த நிகழ்வில் கலந்து கொண்ட ஸ்ரீலங்கா முஸ்லிம் காங்கிரஸின் தலைவர் ஹக்கீம் ஜனாதிபதியின் தலைமையின் கீழ் இந்த நாட்டின்



## வட்டு.கற்பக பிள்ளையார் இரதோற்சவம்

வட்டுக்கோட்டை வடக்கு, பிரமணாட்சி தோட்டம் அருள்மிகு கற்பகப் பிள்ளையார் தேவஸ்தானத்தில் இன்று இரதோற்சவம் நடைபெறுகிறது. காலை 10.00 மணிக்கு விநாயகப் பெருமான் தேரில் ஆரோகணித்து வீதியுலா வருவார்.

நாளை (வியாழக்கிழமை) காலை 10.00 மணிக்கு தீர்த்தோற்சவம் நடைபெறும். புதிதாக அமைக்கப்பட்ட 'கற்பக கணேச குண்ட' புனித தீர்த்தக் கேணியில் தீர்த்தோற்சவ நிகழ்வு இடம்பெறவிருக்கிறது.

## சேலத்தில் தீக்குளித்த விஜய்ராஜ் மரணம்

(சென்னை)

இலங்கைப் பிரச்சினையை முன்வைத்து நேற்று முன்தினம் தீக்குளித்த சேலத்தைச் சேர்ந்த ஆட்டோ சாரதி விஜய்ராஜ் நேற்று சிகிச்சை பலனின்றி உயிரிழந்தார்.

அவரது உறவினர்கள் மற்றும் பல்வேறு தமிழ் அமைப்புகள் அவரது உடலை வாங்க மறுத்துள்ளன. 'முதல் தகவல் பிரதிபை'

## தலவாக்கலை - லிந்துல வீதியில் சுரங்கப் பாதை

(நுவரெலியா)

நுவரெலியா - ஹட்டன் பிரதான வீதியின் தலவாக்கலை-லிந்துலை பகுதியில் 10 அடி உயரமான சுரங்கப் பாதை ஒன்று நேற்று கண்டு பிடிக்கப்பட்டது.

நுவரெலியா - ஹட்டன்

## நெளறுக்கு மேலும் 36 இலங்கை அகதிகள்

(மெல்போர்ன்)

புகலிடம் கோரும் 36 லங்கையர்களை நவ்று தீவுக்கு அலுவல்திரேலிய அரசாங்கம் அனுப்பியுள்ளது. புகலிடக் கோரிக்கையாளர்களை வெளிநாட்டில் தங்க வைத்து அவர்களின் விண்ணப்பத்தை பரிசீலிக்கும் அலுவல்திரேலிய அரசாங்கத்தின் புதிய கொள்கையானது இலங்கை மற்றும் இந்தோனேஷியாவிலிருந்து படகுகள் மூலம்

## யாழ்ப்பாணத்தில் புதிய அமெரிக்க தூதுவர்

(யாழ்ப்பாணம்)

யாழ்ப்பாணத்திற்கு விஜயம் மேற்கொண்டுள்ள இலங்கைக்கான புதிய அமெரிக்கா தூதுவர் யாழ்ப்பாணத்தில் உள்ள சர்வதேச இடம்பெயர்ந்தோருக்கான நிறுவன அதி காரிகளை





# கரதலரல் ஏற்பட்ட கரயம்



அத்துறுகிறியா பொலிஸ் நிலையத்துக்கு கடந்த 27ஆம் திகதி இரவு முறைப்பாடு ஒன்று கிடைத்தது. ரணாள வீதி கபறகட எனும் முகவரியில் வசிக்கும் ஒருவரிடமிருந்தே அம் முறைப்பாடு வந்தது.

தனது வீட்டிற்கு கள்வனொருவன் வந்ததாக அம் முறைப்பாட்டில் தெரிவிக்கப்பட்டிருந்தது.

“எனது வீட்டிற்கு இரவு 8.30 மணியளவில்

கள்வனொருவன் வந்தான். நாம் சத்தம் போட்டுக் கத்தினோம்.

அப்பொழுது கள்வன் பாய்ந்தோடிவிட்டான். அவனின் கையடக்கத் தொலைபேசி நிலத்தில் விழுந்திருந்தது எடுத்து வைத்திருக்கின்றோம்”

இந்த முறைப்பாடு கிடைத்து சற்று நேரத்தில் ஹோமாகம் வைத்தியசாலையில் இருந்து அத்துறுகிறியா பொலிஸ் நிலையத்திற்கு

தகவலொன்று கிடைத்தது. இரு கால்களிலும் துப்பாக்கிச் சூட்டுக்காயங்களுடன்

இளைஞர் ஒருவர் வைத்திய சாலையில் அனுமதிக்கப்பட்டுள்ளார்” என்பதே அந்தத் தகவல்.

அத்துறுகிறியா பொலிஸ் நிலையப்பொறுப்பு பதிகாரி உட்பட்ட குழுவினர் உடனடியாக

வைத்தியசாலையை நோக்கிப் புறப்பட்டார்கள்.

“உமது இரு கால்களிலும் துப்பாக்கிச் சூட்டுபட்டது எவ்வாறு?” என்று பொலிஸ் நிலையப் பொறுப்புபதிகாரி வினாவினார்.

பயந்து நடுங்கிய இளைஞன் தட்டுத்தடுமாறி சம்பவத்தை கூறினான்”.

“நான் வேலை முடிந்து வரும்போது இருண்டு விட்டது. பஸ்ஸிலிருந்து இறங்கி வீதியால் வரும்போது பின்னால் வந்த யாரோ ஒருவர் எனக்குத் துப்பாக்கியால் சுட்டுவிட்டு ஓடி விட்டான் நான் அவனை யார் என்று காணவில்லை”.

“அவரது கூற்றைப் பொலிஸார் நம்பவில்லை. திருப்தியடையவில்லை.

“அப்படி நடக்க வாய்ப்பில்லையே. உமக்குப்

பின்னால் வந்து ஏன் துப்பாக்கிப் பிரயோகம் செய்ய வேண்டும்? உண்மையைச் சொல்லு என்ன நடந்தது?

பொலிஸ் நிலையப் பொறுப்புபதிகாரியின் வார்த்தைகளை கேட்ட இளைஞன் மிரண்ட நிலையில்

தனது நீண்ட கதையினை கூறத் தொடங்கினான்.

நான் எனது வீட்டு அயலில் உள்ள பெண் ஒருவரை காதலிக்கின்றேன். நான் இன்று வேலைக்கு போகவில்லை.

காதலியும் பாடசாலைக்குப் போகவில்லை. காதலியின் அம்மம்மா மட்டுமே அன்று

வீட்டிலிருந்தா. நான் அவளின் காணிக்ஞள் வேலியால் பாய்ந்து காதலியின் அறைப்பக்கம் சென்று ஜன்னல் அருகில் சென்றேன். காதலி தனது அறைக்கதவை மூடி வைத்து விட்டு ஜன்னல் அருகில் வந்தாள். நாம் இருவரும் ஜன்னல் ஊடாக கதைத்துக் கொண்டிருந்தோம்.

அவர் 22வயது இளைஞன். அவள் 17 வயது மாணவி. இவர்களுக்கிடையில் காதல் மலர்ந்தது. இதற்கு ஒரு மாதத்திற்கு முன்பாகும்.

காதலர்கள் வீதிகளிலோ, கண்டநிண்ட இடங்களிலோ நின்று பேசவில்லை. ஜன்னல் ஊடாக காதல்மொழி பேசி இருவருக்கும் நேரம் போனதே தெரியவில்லை. மாலை

இரண்டு மணியளவில் காதலியிடம் இருந்து விடைபெற்று மதிய உணவிற்காக தனது வீட்டிற்கு போனார். அவரும் மதிய உணவின் பின் மீண்டும் ஜன்னலடிக்கு வந்தான்.

பக்கத்து வீட்டுப் பெண்மணி குளிப்பதற்காக இவர்களது வீட்டிற்கு வருவது வழக்கம். அன்றைய தினமும் வழமைபோலக் குளிப்பதற்காக வந்தாள். இதனிடையில் அக்கம் பக்கம் பார்த்தபடி காதலன், காதலியிடம் வந்தான். ஜன்னலடிக்கு வந்த இளைஞனைப் பார்த்த பெண்மணி தான் குளிப்பதை மறைந்திருந்து பார்ப்பதாக நினைத்து கத்தத் தொடங்கினார். அவரின் சத்தம் கேட்ட அயலவர்கள்

கிணற்றடிக்கு வந்தார்கள். நடந்தது என்ன என்று புரிந்து கொள்ளாத இளைஞன் செய்வதறியாமல் மறைவதற்கு இடம்தேடினான் இடம் கிடைக்காத நிலையில் வீட்டிற்கு அருகில் இருக்கும் மரத்தில் ஏறி காதலியின் வீட்டு கூரையில் மறைந்து கொண்டான். அதனை எவரும் காணவில்லை. இவ்வளவு கீழ்த்தரமான செயலை புரிந்த இளைஞனை தேடிய அயலவர்கள் பாய்ந்தோடி விட்டான் என நினைத்து அவர்கள் தத்தமது வீடுகளுக்குச் சென்றார்கள். ஆனால் காதலன் கூரையின் மேல் செய்வதறியாமல் மறைந்திருந்தான்.

இரவு நேரம் காதலியின் பெற்றோர்களும் வீட்டிற்கு வந்து விட்டார்கள். நன்றாக இருளும் வரை காத்திருந்த காதலன் மெதுவாக ஓட்டின் மேல் நடந்து கீழே இறங்க முயற்சி செய்தான். நேரம் எட்டு முப்பது. வீடு அமைதியாக இருந்தமையால் ஓட்டின் மீது நடக்கும் சத்தம் காதலியின் பெற்றோருக்குக் கேட்டது. அவர்கள் “கள்வன் கள்வன்” என்று கத்தத் தொடங்கினார்கள்.

ஓடி வாருங்கள் கள்வன் எமது வீட்டு கூரையின் மீது இருக்கிறான் என்று கத்தினார்கள். அயலவர்கள் வருமுன் பாய்ந்து மரத்தில் தாவிய இளைஞன் இறங்கி ஓடித்தொடங்கினார்.

முற்றத்தில் நின்று முகம் கழுவிக்கொண்டிருந்த இளைஞன் ஒருவருக்கும் இவர்களின் அலறல் சத்தம் கேட்டது. உடன் வீட்டு மதிலில் ஏறிப்பார்த்தான். யாரோ ஒருவர் ஒருவதைக் கண்டார். தனது வீட்டு விறகுக்குள் மறைத்து வைத்திருக்கும் 9 மில்லி மீட்டர் கைத்துப்பாக்கி நினைவிற்கு வந்தது. உடன் சென்று அதனை எடுத்து இளைஞர் ஓடிய திசையை நோக்கி ஓடிச்சென்று இளைஞர் மீது துப்பாக்கிப் பிரயோகம்

செய்தான். இளைஞன் கீழே விழுந்தான். இதனைக் கண்ட துப்பாக்கி ஏந்தியவர் எதுவும் அறியாதது போல ஏனையவர்களுடன் இணைந்து கள்வனைத் தேடத் தொடங்கினர்.

பின்னர் துப்பாக்கிச் சூட்டு காயங்களுடன் நிலத்தில் வீழ்ந்திருந்த இளைஞனை திடீரெனக் கண்டு “இதோ கள்வன். யாரே துப்பாக்கியால் சுட்டிருக்கிறார்கள்” என்று கூறி நடித்தான். உடனடியாக அயலவர்கள் இவனை வைத்திய சாலைக்கு எடுத்துச் சென்றார்கள். காயப்பட்டவர் தமது அயலவன் என்பதையும் அடையாளம் கண்டு கொண்டார்கள்.

இக் கலவரத்தின் இடையில் துப்பாக்கி பிரயோகம் செய்தவர் தனக்கு வெடி கொழுத்தும் சத்தம் கேட்டதாகவும் பல தடவை கூறியுள்ளான். மறு நான் காலை பொலிஸார் சம்பவ இடத்திற்கு வந்தார்கள். மேற்கொள்ளப்பட்ட விசாரணையின் பின் இளைஞனொருவரை சந்தேகத்தின் பின் கைது செய்தார்கள். நிச்சயம் இவர்தான் துப்பாக்கிப் பிரயோகம் செய்திருக்க வேண்டும் என்று அசைக்கமுடியாத சந்தேகம் பொலிஸாருக்கு இருந்தது. அவரிடம் விசாரணை மேற்கொண்ட போது பல திடுக்கிடும் தகவல்கள் வெளிவரத் தொடங்கின.

இவர் பணம் வட்டிக்கு கொடுப்பவர். கை நிறையப் பணம் உள்ளவர். அவர் பொருட் களை ஈட்டுக்கு வைத்துக் கொண்டு பயம் கொடுப்பவர். இதற்கு ஒன்றரை வருடத்திற்கு முன்பு முல்லைகம் என்னும் பிரதேசத்தில் வசிக்கும் பாதாளக் கோஷ்டி தலைவர் ஒருவரிடம் 9 மில்லி மீட்டர் கைத் துப்பாக்கியை

ஈட்டுக்குப் பெற்று பணம் வழங்கியுள்ளார். பின் ஏதோ ஒரு சம்பவத்தில் ஈடு வைத்தவர் இறந்து விட்டமையால் கைத் துப்பாக்கி இவருக்குச் சொந்தமாகியது. சம்பவதினம் தன்னிடம் பணம் கொள்ளையடிப்பதற்காக கள்வன் வந்துள்ளார் என நினைத்து துப்பாக்கிப் பிரயோகம் செய்ததாகவும் கூறியுள்ளார்.

அவரிடமிருந்து துப்பாக்கிப் பிரயோகம் மேற்கொள்வதற்காக பயன்படுத்திய கைத் துப்பாக்கி மற்றும் 04 தோட்டாக்களையும் கைப்பற்றினார்கள். அவருக்கெதிராக இரண்டு குற்றச்சாட்டுக்கள் சுமத்தப்பட்டன. பாய்ந் தோடிய இளைஞனை துப்பாக்கிப் பிரயோகம் செய்து காயப்படுத்தியமை மற்றும் சட்டவிரோதமாக துப்பாக்கியை வைத்திருந்தமையே அக் குற்றச்சாட்டுக்களாகும். அவரின் கைகளுக்கு விலங்கு மாட்டப்பட்டது.

எங்கேயோ நடந்த சம்பவத்தை என்ன என்று அறியாமல் தலையிட காரணத்தினாலாகும்.

காயப்பட்ட இளைஞன் இரு கால்களிலும் துப்பாக்கிச் சூட்டினால் காயம் ஏற்பட்டது. துப்பாக்கியிலிருந்து பாய்ந்த தோட்டா இளைஞனின் ஒரு காலினை துளைத்துக்கொண்டு வெளியேறி மற்றக் காலிணையும் காயப்படுத்தியுள்ளது. அத்துருகிறியா பொலிஸ் நிலையப் பொறுப்புபதிகாரி-பொலிஸ் இன்ஸ்பெக்டர் திரு கப்பில சேனானாயக்க உட்பட குழுவினர் விசாரணையை மேற்கொண்டார்கள்.

**அல்பேட் ஸ்ரீரஞ்சன்  
(ஸ்ரீ மால்டர்)**



நேற்று யாழ்ப்பாணம் ஞானம் ஹொட்டேலில் நடைபெற்ற சிகரம் கல்வி, கல்வி தொழில் வழிகாட்டி விபரக் கொத்து நூலின் வெளியீட்டு நிழுவின்போது, வடமாகாண மேலதிக கல்விப்பணிப்பாளர் எஸ்.இராதாகிருண்னன் முதற் பிரதியைப் பெற்றுக்கொள்வதையும், தொடர்ந்து நடைபெற்ற கல்விக் கருத்தரங்கில் கலந்துகொண்டவர்களையும் படத்தில் காணலாம்.







# யுத்ததிற்கு பின்னரான வளர்ச்சியில்

## இலங்கையில் விவசாய

### புரட்சி ஆரம்பமாகியுள்ளது

கடந்த 30 ஆண்டு கால பயங்கரவாத யுத்தத்தினால் சீர்குலைந்து போயிருக்கும் இலங்கையின் இயற்கை வளங்களான பாரிய வாழ்க்கையும் நீர்த்தேக்கங்களையும் கால்வாய்களையும் மீண்டும் புனரமைத்து வடக்கு, கிழக்கு மாகாணங்கள் உட்பட நாட்டின் நாலா பக்கங்களிலும் விவசாயத் துறையில் மீண்டும் மறுமலர்ச்சியை ஏற்படுத்தி எங்கள் நாட்டின் பண்டைய பாரம்பரியத்திற்கு அமைய ஆசியாவின் நெற்களஞ்சியம் என்ற பெருமையை இலங்கைக்கு மீண்டும் பெற்றுத்தருவதற்கு நீர்ப்பாசன மற்றும் நீர்வள முகாமைத்துவ அமைச்சர் நிமால் சிறிபாடி டி சில்வா இப்போது துரிதகதியில் நடவடிக்கைகளை எடுத்து வருகிறார்.

ஐனாதிபதி மஹிந்த ராஜபக்ஷவின் மஹிந்த சிந்தனை எண்ணக்கருவை சரியான முறையில் நிறைவேற்றும் முகமாக இவ்வமைச்சு 2011 ஆம் ஆண்டிற்கான வரவு செலவுத் திட்டத்தில் ஒதுக்கப்பட்டிருக்கும் 24.263 மில்லியன் ரூபாவை நேர்த்தியான முறையில் செலவிட்டு வாசிகள், நீர்த்தேக்கங்கள், கால்வாய்களை மட்டுமன்றி, பாரிய அணைகளையும் திருத்தும் பணிகளை மேற்கொள்ளவுள்ளது. 2010 ஆம் ஆண்டில் இத்தகைய பணிகளை நிறைவேற்றுவதற்காக 15.325 மில்லியன் ரூபா மாத்திரமே ஒதுக்கீடு செய்யப்பட்டிருந்தமை குறிப்பிடத்தக்க அம்சமாகும்.

ஓம ஓயாவை திசை திருப்பும் அபிவிருத்தி திட்டத்திற்காக 5.450 மில்லியன் ரூபாவும், அணைகளை பாதுகாத்தல் மற்றும் நீர் வளங்களை திட்டமிட்டு செயற்படுத்துவதற்காக 2.755 மில்லியன் ரூபாவும், மகாவலி கி புனரமைப்பு திட்டத்திற்காக 500 மில்லியன் ரூபாவும், தெதுறு ஓயா அபிவிருத்தி திட்டத்திற்காக 2.170 மில்லியன் ரூபாவும், ரம்பக் கன் ஓயா திட்டத்திற்காக 800 மில்லியன் ரூபாவும், அனாராதபுரம் குளங்கள், நீர்த்தேக்கங்களை புனரமைப்பு திட்டத்திற்காக 1.100 மில்லியன் ரூபாவும் அடுத்த ஆண்டில் செலவிடப்படும்.

இவற்றை விட வடக்கில் உள்ள பாரிய விஸ்வமடுகுளம், மன்னார் பிரதேசத்தில் உள்ள கட்டுக்கரைக் குளம் உட்பட வட மாகாணத்தில் இருக்கும் சகல குளங்களையும், நீர்த்தேக்கங்களையும் புனரமைப்பு செய்வதற்கு அரசாங்கம் இப்போது நடவடிக்கைகளை எடுத்து வருகிறது.



கடந்த காலத்தில் நெற் செய்கைக்கு தேவையான நீரை இந்த நீர்த்தேக்கங்கள் ஏரிகள் மூலம் பெறுவதற்கு இருந்த வாய்ப்புகள் பயங்கரவாத செயற்பாடுகள் உச்ச கட்டத்தில் இருந்த காரணத்தினால் சீர்குலைந்திருந்தன. வடக்கிலும், கிழக்கிலும் நெற்காணிகளில் பயங்கரவாதிகளினால் கண்ணிவெடிகள் புதைக்கப்பட்டிருந்ததனால் அப்பிரதேசங்களில் பல்லாண்டு காலம் நெற்செய்கை கைவிடப்பட்ட நிலையில் இருந்தது.

இப்போது இராணுவத்தினரும், அரசு சார்பற்ற சர்வதேச அமைப்புக்களும் சுமார் 80 சதவீதத்திற்கும் கூடுதலான கண்ணிவெடிகள் பாதுகாப்பாக அகற்றப்பட்டு அங்கு மீண்டும் விவசாயம் ஆரம்பிக்கப்பட்டுள்ளது. அந்த நெற்காணிகளுக்கு தேவையான பாசன வசதிகளை அரசாங்கம்

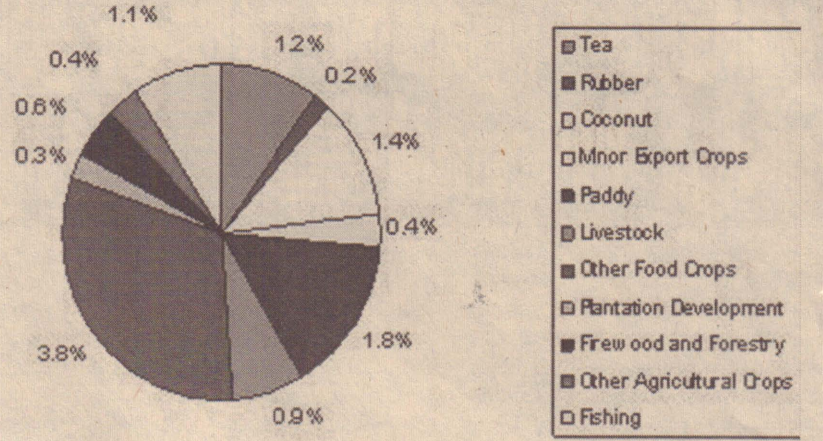
இப்போது வழங்குவதற்கான வசதிகளை துரிதப்படுத்திய வண்ணம் இருப்பது இந்நாட்டின் விவசாய பெருமக்களை பெரும் மகிழ்ச்சியடையச் செய்துள்ளது.

அரசாங்கம் இப்போது நடைமுறைப்படுத்தி வரும் வடக்கின் வசந்தம், கிழக்கின் உதயம் அபிவிருத்தித் திட்டங்களுக்கு நீர்ப்பாசன வசதி முக்கியத்துவம் பெறுகின்ற காரணத்தினால் அங்கு நீர்ப்பாசன வசதிகளை செய்து கொடுப்பதுடன் பொருளாதார அபிவிருத்தி அமைச்சர் பசில் ராஜபக்ஷ, அம்பாந்தோட்டை மாவட்டத்தின் பாராளுமன்ற உறுப்பினர் நாமல் ராஜபக்ஷ, ஆகியோரின் தலைமையில் விவசாயிகளுக்கு நீர்ப்பாசன வசதிகளை பெற்று கொடுப்பதுடன், உழவு இயந்திரங்கள் நீர்ப்பாசனத்திற்கு தேவையான உரப்பசளை, விதை நெல் போன்றவற்றை சலுகை அடிப்படையில் வழங்கிக் கொடுப்பதற்காக விசேட வங்கி கடன் திட்டங்களையும் அவர்களுக்காக இப்போதுபெற்றுக் கொடுக்கப்படுகின்றன.

இவ்விதம் நீர்ப்பாசன திட்டங்களை அபிவிருத்தி செய்து விவசாயத் துறைக்கு புத்துயிர் அளிப்பதற்காக உலக வங்கியும், சர்வதேச அபிவிருத்தி ஸ்தாபனமும் இலங்கை அரசாங்கத்திற்கு 7 பில்லியன் ரூபாவை வட்டியில்லாத கடனாக ஏற்கனவே வழங்கியிருக்கிறது. இதன் மூலம் நாட்டில் உள்ள 39 பாரிய நீர்த்தேக்கங்களையும், அணைகளையும் புனரமைப்பு செய்யும் பணி இப்போது ஆரம்பிக்கப்பட்டுள்ளது. பராக்கிரம சமுத்திரம், இன்கினிமிட்டிய நீர்த்தேக்கம் ஆகியவற்றை புனரமைக்கும் வேலைகள் 1.8 பில்லியன் ரூபா செலவில் ஆரம்பிக்கப்பட்டுள்ளது.

இந்த திட்டங்கள் இன்னும் ஓரிரு ஆண்டுகளில் வெற்றிகரமான முறையில் நிறைவேற்றப்பட்டவுடன் எங்கள் நாட்டு மக்கள் அனைவரும் உள்ளூரில் உற்பத்தியாகும்.

அரிசியை நியாய விலைக்கு பெற்றுக் கொடுப்பதற்கான வாய்ப்பு ஏற்படும். இதன் மூலம் பண்டைய காலத்தில் இருந்ததைப் போன்று நாம் மீண்டும் வெளி நாடுகளுக்கு அரிசியை ஏற்றுமதி செய்து எங்கள் தேசிய வருமானத்தை பெருக்கிக் கொள்வதற்கும் ஒரு சாதகமான சூழ்நிலை உருவாகுவது திண்ணம்.





(15) நிரல் 1 இல் தேசவிடுதலைக்காய் புரட்சிகள் இடம்பெற்ற ஆண்டுகளும், நிரல் 11 இல் அவ் ஆண்டுகளில் ஏற்பட்ட புரட்சியின் மூலம் விடுதலை பெற்ற நாடுகளும் தரப்பட்டுள்ளன. நிரல் 1 இல் உள்ள ஆண்டுகளுடன் நிரல் 11 இல் உள்ள நாடுகளைப் பொருத்தினால் கிடைக்கும் சரியான விடை?

நிரல் I

1. 1776 A. சீனா
2. 1789 B. பிரான்ஸ்
3. 1917 C. ரஷ்யா
4. 1949 D. அமெரிக்கா

1. E, B, C, A

3. D, B, C, A

(16) A- “அரசு என்பது நானே நான் கருதுவதெல்லாம் சட்டமே”

B- “நூறு எலிகளால் ஆளப்படுவதை விட ஒரு சிங்கத்தால் ஆளப்படுவது மேல்”

C- மனிதன் சுதந்திரமாகப் பிறக்கின்றான் எனினும் அடிமைச் சங்கிலியால் கட்டப்பட்டிருக்க கிடக்கிறான். மேலே A, B, C ஆகிய கூற்றுக்களுடன் தொடர்புடையவர்களை முறையே குறிப்பிடும் விடைத்தொகுதி?

1. ரூசோ, வோல்ரயர், 14ஆம் ஜூயி
2. வோல்ரயர், ரூசோ, 14ஆம் ஜூயி
3. 14ஆம் ஜூயி, வோல்ரயர், ரூசோ
4. 14ஆம் ஜூயி, ரூசோ, வோல்ரயர்

(17) இலங்கை வரலாற்றின் முதலாவது பௌத்த மன்னனையும் முதலாவது கத்தோலிக்க மன்னனையும் குறிப்பிடும் விடை?

1. பண்டுக்காயன் - தீஸன்
2. தீஸன்- கரலியத்த பண்டார
3. தீஸன்- தர்மபாலன்
4. விஜயன்- தர்மபாலன்

(18) சமாதானம் -நிலம்- பாண் என்பனவற்றுடன் தொடர்புடைய புரட்சி?

1. ரஷ்யப் புரட்சி
2. ஆங்கிலப் புரட்சி
3. பிரான்சியப் புரட்சி
4. ஜேர்மனியப் புரட்சி

(19) உலகின் மிகப் பெரிய புத்தர் சிலை எனக் கருதப்படும் பாமியன் புத்தர்சிலை காணப்படும் நாடு எது?

1. ஆப்கானிஸ்தான்
2. பாகிஸ்தான்
3. சீயம்
4. கம்போடியா

(20) மறுமலர்ச்சிக் காலத்தில் இலக்கியத்துறைக்கு பங்களிப்புச் செய்த சிலர் கீழே A, B, C என தரப்பட்டுள்ளனர். அவர்களுடைய நாடுகளை முறையே குறிப்பிடும் விடைத் தொகுதி?

- A- தாந்தே B- ஹோமர் C. தோமஸ் மூன்
1. கிறேக்கம்- இத்தாலி- இங்கிலாந்து
2. இங்கிலாந்து- இத்தாலி- கிறேக்கம்
3. இத்தாலி- கிறேக்கம்- இங்கிலாந்து
4. இத்தாலி- இங்கிலாந்து- கிறேக்கம்

(21) இலங்கைக்கு வெளியேயும் தமது அதிகாரத்தைப் பரவச் செய்த மன்னர்களைக் கொண்ட விடைத் தொகுதி.

1. நிஸ்ஸங்க மல்லன்- கஜபாகு- பண்டுகாயன்
2. மகாசேனன்- கஜபாகு- பண்டுகாயன்
3. நிஸ்ஸங்கமல்லன்- மகாபராக்கிரமபாகு- கஜபாகு
4. 4ஆம் பராக்கிரமபாகு- மகாபராக்கிரமபாகு- மகாசேனன்

(22) பிரித்தானியர் ஆட்சியில் இலங்கை பெருந்தோட்டங்களில் பல்வேறு தொழிற் சுரண்டல்களுக்கும் இன்னல்களுக்கும் மத்தியில் வாழ்ந்து வந்த தென்னிந்தியத் தொழிலாளர்களை ஒருங்கிணைத்து தொழிற்சங்கம் அமைப்பதில் வெற்றிகண்டவர்.

1. A. E. குணசிங்க
2. திரு. நடேசஜயர்
3. ஆ. தொண்டமான்
4. செளமியமுர்த்தி தொண்டமான்

(23) பியட்மென்டஸ் அரசியல் யாப்பு சீர்திருத்தத்தை வலியுறுத்தி மீள் பிறப்பு என்னும் பத்திரிகையை வெளியிட்டவர்.

1. யோசெப் மிசினி
2. கரிபாலர்
3. கவுண்ட் கபூர்
4. நெப்போலியன்

(மிகுதி அடுத்தவாரம்)

இப்பத்திரிகை இன். போமீடியா பிரைவேட் லிமிட்டட் நிறுவனத்தினால் இல. 267, நாவலர் வீதி, யாழ்ப்பாணம் என்ற முகவரியிலுள்ள தமது அச்சகத்தில் 19.09.2012 இல் அச்சிட்டு வெளியிடப்பட்டது

கல்விப் பொதுத் தராதரப் பத்திர (சாதாரண தர)ப் பரீட்சை - டிசம்பர் 2012  
நாடகமும் ஆரங்கியலும் (மாதிரி வினாத்தாள்)

## பகுதி I (தொடர்ச்சி)

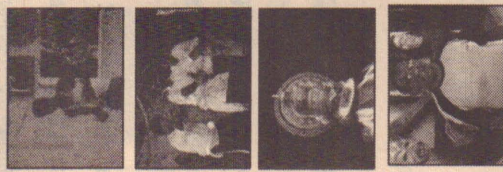
நேரம்: 3.00 மணித்தியாலம்

- 31) கவிதையியல் நூலின் ஆசிரியர்  
1. அரிஸ்டோட்டில் 2. பிளேட்டோ 3. சோக்கிரட்டிஸ் 4. இப்ஸன்
- 32) சிங்கள மக்களது தேசிய நடனம்  
1. கண்டிய நடனம் 2. பரதம் 3. குச்சுப்புடி 4. கதகளி
- 33) தமிழில் இசை நாடகங்களிற்கு ஒப்பான சிங்கள வடிவம்  
1. தகசுட்ட கன்னிய 2. தொவில் 3. நூர்த்தி 4. ஹோகம்ஹரிய
- 34) மனமே நாடகத்தினை தயாரித்தவர்  
1. ஜோன் டி. சில்வா 2. எதர்வீர் சரத்சந்திரா 3. சோமலதா சுபசிங்க 4. பராக்கிரம நெரியல்ல
- 35) குழந்தை ம. சண்முகலிங்கத்தின் முதல் நாடகம்  
1. உறவுகள் 2. அருமை நண்பன் 3. வையத்துள் தெய்வம் 4. வாற் பேத்தை
- 36) இருதயரங்கள் நாடகத்தின் நெறியாளர்  
1. இ. முருகையன் 2. நா. சுந்தரலிங்கம் 3. அ. தாளிஸியஸ் 4. க. சிதம்பரநாதன்
- 37) அருகில் உள்ள படம் வெளிப்படுத்தும் உணர்வு  
1. கோபம் 2. பயம் 3. ஆச்சரியம் 4. சோகம்

38) அருகில் உள்ள படம் குறிக்கும் நாடக வகை  
1. யதார்த்தம் 2. குறியீடு 3. அபத்தம் 4. வசனநாடகம்

39) அருகில் உள்ள படம்  
1. கதகளி 2. கூத்து 3. நடனம் 4. மணிப்புரி

40) அருகில் உள்ள நாடக வியலாளர்  
1. அ. தாளிஸியஸ் 2. அரசு 3. மௌனகுரு 4. கணபதிப்பிள்ளை



(40x1=40 புள்ளிகள்)

## பகுதி II

பின்வருவனவற்றில் முதலாவது வினாவிற்கும், ஏனையவற்றுள் ஏதாவது நான்கு வினாக்களையும் தெரிவுசெய்து எல்லாமாக ஐந்து வினாக்களுக்கு விடை தருக.

- 01)
1. மழை எனும், நாடகம் வேறு எப்பெயரில் நிகழ்த்தப்பட்டது? (01 புள்ளி)
  2. தப்பு வாத்தியம் பயன்படுத்தப்படும் கூத்து எது? (01 புள்ளி)
  3. தேவலோகயானை எனும் நாடகத்தின் ஆசிரியர் யார்? (01 புள்ளி)
  4. தமிழ் நவீன நாடகத்தின் தந்தை யார்? (01 புள்ளி)
  5. சமூக மாற்றத்திற்கான நூலின் ஆசிரியர் யார்? (01 புள்ளி)

- 6.வி.வி. வைரமுத்துவிற்கு புகழீட்டித்தந்த பாத்திரம் எது?  
7.அண்மையில் மறைந்த நாடகத்துறை சார்ந்த யோசிரியர் யார்?  
8.வருடா வருடம் நாடக விழா கொண்டாடும் பாடசாலை எது?  
9.இசை என்றால் என்ன?  
10.நெறியாழகை என்றால் என்ன?

- (01 புள்ளி)  
(01 புள்ளி)  
(01 புள்ளி)  
(02 புள்ளி)  
(02 புள்ளி)

- 02)  
1.அபிநயம் என்றால் என்ன?  
2.நால்வகை அபிநயங்களை குறிப்பிடுக.  
3.நாடகத்தில் பெறும் முக்கியத்துவத்தினை குறிப்பிடுக.

- (02 புள்ளி)  
(04 புள்ளி)  
(06 புள்ளி)

- 03)  
1.ஈழத்தில் பேச்சுத் தமிழில் நாடகம் படைத்த முன்னோடி யார்?  
2.அவரது நாடகம் இரண்டை குறிப்பிடுக.  
3.அவை நாடக உலகில் ஏற்படுத்திய மாற்றங்களைக் குறிப்பிடுக.

- (02 புள்ளி)  
(04 புள்ளி)  
(06 புள்ளி)

- 04)  
1.நடிப்பு என்றால் என்ன?  
2.நடிகருக்கு அவசியமான பயிற்சிகள் யாவை?  
3.நடிகர் பயிற்சியில் ஈடுபட வேண்டியதன் முக்கியத்துவம் யாது?

- (02 புள்ளி)  
(04 புள்ளி)  
(06 புள்ளி)

- 05)  
1.'எந்தையும் தாயும்' நாடகம் பேசும் மையப் பிரச்சினை யாது?  
2.இதில் இடம் பெறும் பாத்திரங்களைக் குறிப்பிடுக?  
3.இந்த நாடகம் சமூகத்தில் பெறும் இடத்தினை மதிப்பிடுக.

- (02 புள்ளி)  
(04 புள்ளி)  
(06 புள்ளி)

- 06)'விழிப்பு' நாடகத் தலைப்பு எத்துணை பொருத்தமானது என்பதற்கான உமது கருத்துக்களினை முன்வைத்து ஆராய்க.

- (12 புள்ளி)

- 07)அரங்க மூலம் ஒன்றினைக் குறிப்பிட்டு நாடக உருவாக்கத்தில் அது பெறும் செல்வாக்கினை மதிப்பிடுக.

- (12 புள்ளி)

தொகுப்பு: எஸ்.ரி. அருள்மூர்த்தி B.A. (Hons.) M.A.,  
எஸ்.ரி. குமரன் B.A. (Hons.) M.A.,

கல்விப் பொதுத் தாதாரப் பத்திர (சாதாரண தரப் பரீட்சை - டிசம்பர் 2012  
சைவநெறி (பகுதி - I) விடைகள்

1) 3	2) 2	3) 4	4) 3	5) 1	6) 3	7) 2
8) 1	9) 3	10) 4	11) 2	12) 4	13) 3	14) 1
15) 3	16) 1	17) 3	18) 2	19) 3	20) 2	21) 3
22) 2	23) 1	24) 2	25) 3	26) 4	27) 1	28) 1
29) 2	30) 3	31) 3	32) 1	33) 3	34) 2	35) 1
36) 3	37) 4	38) 1	39) 3	40) 3		

- (07) இலங்கையரத்தை நீதிமர மன்னன் எல்லாளன் ஆட்சி செய்த போது ஈழத்திற்கு வந்த ஒருவர் கேள்விப்பட்டிருக்க முடியாத சம்பவம்?  
1. தீசன் குலகத்திதாப மந்திரத்தை உபதேசிக்கப் பெறல்  
2. பண்டுகாயனின் பிறப்பு  
3. ஐந்து தமிழர்கள் இலங்கையைக் கைப்பற்றல்  
4. விஜயன்- குவேனி திருமணம்

- (08) 1806 இல் உரோமப் பேரரசை இல்லாதொழித்த நெப்போலியன் 12 சிறு அரசுகளை இணைத்து "ரான்" சமஷ்டி அரசை உருவாக்கிய போது அதில் இணைத்துக் கொள்ளப்படாத பிரதேசம் ஒன்று?  
1. பாவேரியா 2. டஸ்கனி 3. சக்சனி 4. ஹெசே

- (09) இத்தாலி ஐக்கியப்படுத்துவதற்கு முன்னர் ஆஸ்திரியா தன்வசம் வைத்திருந்த பகுதிகளைக் குறிப்பிடும் விடை?  
1. பர்மா, மொடனா, லொம்பாடி 2. பர்மா, மொடனா, சாடினியா  
3. மொடனா, லொம்பாடி, சாடினியா 4. லொம்பாடி, சாடினியா, பியட்மன்ட்

- (10) போர்த்துக்கேயருக்கு எதிராக கள்ளிக்கோட்டை முஸ்லிம் மன்னரின் உதவியை நாடிய யாழ்ப்பாண மன்னன் யார்?  
1. காசிநாணார் 2. 1ஆம் சங்கிலியன் 3. புவிராஜ பாண்டாரன் 4. பெரிய பிள்ளை

- (11) கியூ கடித்ததன் தொடர்புடையவரையும் அவரது நாட்டையும் சரியாகக் குறிப்பிடும் விடை?  
1. 2ஆம் ஒரேஞ் வில்லியம்- பிரித்தானியா 2. வில்லியம் ஸ்டாட் கோல்டர்- ஒல்லாந்து  
3. கியூ பொய்ட்- ஒல்லாந்து 4. பன் ஏங்கல் பெக்- பிரித்தானியா

- (12) பிரித்தானிய வர்த்தகக் கம்பெனியின் ஆட்சிக்கு எதிராக இலங்கையர்கள் மேற்கொண்ட கிளர்ச்சிக்கு தீர்வாக மியூரன்சுமுவினர் முன்வைத்த சிபாரிசுகளில் உள்ளடங்காதது?  
1. ஒல்லாந்து நீதிமன்ற முறையை மீண்டும் நடைமுறைப்படுத்துதல்  
2. நீதிவிசாரணையையும் வரி அறவிடுதலையும் வெவ்வேறு அதிகாரிகளிடம் ஒப்படைத்தல்  
3. கீழ்மட்ட- நீதிமன்றமாக மாட்டை நீதிமன்றை அமைத்தல்  
4. வரி ஏவலிற்பனை முறையை இல்லாமற் செய்தல்

- (13) இலங்கையில் தோற்றம் பெற்ற பின்வரும் அரசியல் யாப்புக்களை ஒழுங்குபடுத்தும் போது சரியான விடை யாது?  
A.கோல்புறாக், கமரன் யாப்பு B.மனிங்குவோன்சயர் யாப்பு  
C. 1920ஆம் ஆண்டு யாப்பு D.குறாமக்கலம் யாப்பு  
E. சோல்பரி யாப்பு F.2ஆம் குடியரசு யாப்பு  
G. 1972ஆம் ஆண்டு யாப்பு H.டொனடர் யாப்பு  
1. A,D,C,B,H,E,G F 2. A,D,C,B,E,H,G F  
3. A,D,C,H,E,B,F,G 4. A,B,C,D,H,E,G F

- (14) A - மாகாணங்களை ஐந்தாக்கக் குறைத்தல்  
B - வரையறுக்கப்பட்ட வாக்குரிமை வழங்கல்  
C - சர்வஜன வாக்குரிமை வழங்கல்  
D - படித்த இலங்கையர் பதவி ஏற்படுத்தப்படல்  
குறாமக்கலம் யாப்பு சீர்திருத்தத்தில் இடம்பெற்ற விடயங்களை உள்ளடக்கிய விடை  
1. A,C ஆகியன 2.B,C ஆகியன 3.B,D ஆகியன 4.A,D ஆகியன

ஆசிரியர்: க.ரவிக்குமார் B.A., M.A., Dip. in Teach., NCT

நேரம்: 1 மணித்தியாலம்

- (i) எல்லா வினாக்களுக்கும் விடை எழுதுக. இவ் வினாத்தாளுக்கு 40 புள்ளிகள் வழங்கப்படும்.  
(ii) தொடக்கம் 40 வரையான வினாக்கள் ஒவ்வொன்றிலும் (1), (2), (3), (4) என இலக்கமிடப்பட்ட விடைகளில் சரியான அல்லது மிகப் பொருத்தமான விடையைத் தெரிவு செய்க.

பகுதி - I

- (01) "தகுதித் தன்மை நோக்கி இறந்தகால நிகழ்ச்சிகளை பிற்காலம் எழுதுமாயின் அதுவே வரலாறு" என கருத்துரைத்த வரலாற்று ஆசிரியர்.  
1. பர்க்கார்ட் 2. கார்லைல் 3. ஜி.எம்.திரெவெலியன் 4. ரீ.எஸ்.எலியர்
- (02) வரலாற்றிற்கு முந்திய யுகம் தொடக்கம் இலங்கையில் மனித இனம் வாழ்ந்து வருகின்றதென்பது வரலாற்றாளர்களின் கருத்தாகும். அவ் வரலாற்றாளர்களின் நோக்கில் இலங்கையில் வாழ்ந்த மனித இனம் என கருதப்படுவது?  
1. ஹோமோ எபிதிகஸ் 2. ஹோமோ நியண்ட்தாஸ் 3. ஹோமோ சோப்பியன் 4. ஹோமோ இரெக்டஸ்
- (03) ஓநாயிடம் பால் குடித்து வளர்ந்த சந்ததியினர் எனக் கருதப்படுபவர்கள் பின்வருவோரில் யார்?  
1. இலங்கை ஆரிய மக்கள் 2. ரோமாபுரி மக்கள் 3. துருக்கிய தேச மக்கள் 4. யூத மக்கள்

- (04) இலங்கை பற்றிய வரலாற்றுத் தகவல்களைத் தந்த வெளிநாட்டவர்கள் சிலர் நிரல் I இலும், அவர்கள் வாழ்ந்த நாடுகள் நிரல் II இலும் உள்ளன. நிரல் I இற்கு ஏற்ப நிரல் II இல் பொருத்தும் போது சரியான விடை யாது?

நிரல் I

1. ஓசினி கிறீட்டஸ்  
2. பாகியன்  
3. மாரக்கோபோலோ  
4. ஜோன் டி

1. A, B, C, D

2. E, A, B, C

3. E, A, C, D

4. E, A, B, D

- (05) "தற்காலத்திலும் எதிர்காலத்திலும் நான்கு நிலைகளிலிருந்தும் வரும் மதகுருமாருக்கு காணிக்கையாக்கப் பட்டுள்ளது" என எங்கு குறிப்பிடப்பட்டுள்ளது?

1. குகைக் கல்வெட்டில் 2. குறுக்குக் கல்வெட்டில் 3. கற்பலகைக் கல்வெட்டில் 4. தூண் கல்வெட்டில்  
1. சிங்கள இராசதானிகள் மீது படையெடுப்பை மேற்கொண்ட தமிழ் மன்னர்கள் நிரல் I இலும்,  
அவர்களிடம் ஆட்சியைப் பறிக்கொடுத்த சிங்கள ஆட்சியாளர்கள் நிரல் II இலும் உள்ளனர். நிரல் I இல் உள்ளவர்களிடம் ஆட்சியைப் பறிக்கொடுத்தவர்களை நிரல் II இல் இருந்து தெரிவு செய்தால் கிடைக்கும் சரியான விடை யாது?

நிரல் I

1. ஏழு தமிழர்கள்  
2. சேனன், குத்திகள்  
3. இராஜேந்திர சோழன்  
4. பல்லவர்கள்

1. B, A, E, C

2. A, B, C, D

3. D, A, E, C

4. B, A, E, D

நிரல் II

- A. சூரதிஸ்ஸ மன்னன்  
B. வட்டகாமினி அயன்  
C. முதலாம் சேனன்  
D. தாதுசேனன்  
E. 5ஆம் மகிந்த

3. D, A, E, C

4. B, A, E, D

ஆசிரியர்: E.J.K. யுபன்

நேரம்: 1 மணித்தியாலம்

- (i) எல்லா வினாக்களுக்கும் விடை எழுதுக.  
(ii) 1 தொடக்கம் 40 வரையான வினாக்கள் ஒவ்வொன்றிலும் (1), (2), (3), (4) என எண்ணிடப்பட்ட விடைகளில் சரியான அல்லது மிகப் பொருத்தமான விடையைத் தெரிவு செய்க.

01. பின்வரும் கணியங்களுள் காவிக்கணியம் எது?  
(1) கதி (2) சக்தி (3) விசை (4) தூரம்
02. வெப்பநிலை அளக்க பயன்படும் சர்வதேச அலகு யாது?  
(1) 0C (2) 0F (3) K (4) மேற்கூறியவையும்
03. குருதியறைதலில் பங்கெடுக்கும் குருதிக்கலவை எது?  
(1) வெண்குழியம் (2) செங்குழியம் (3) குருதிச்சிறுதட்டு (4) குருதித்திரவிழையம்
04. கலம் ஒன்றின் சக்தி பிறப்பாக்கி என அழைக்கப்படும் புன்னங்கம் எது?  
(1) கரு (2) இழைமணி (3) நிறமூர்த்தம் (4) பச்சையவுருமணி
05. செக்ககிற்கு செக்ககிற்கு பத்து மீற்றர் என்பதை சரியாகக் குறிப்பது எது?  
(1) S/S/10m (2) 10m /S/S (3) 10ms<sup>-2</sup> (4) mS-210

06. ஆவியுயிர்ப்பு விதத்தை அளப்பதற்கு பயன்படும் கருவி எவ்வாறு அழைக்கப்படும்?  
(1) ஆவியுயிர்ப்புமானி (2) பாரமானி (3) உறிஞ்சன்மானி (4) நர்மானி

07. தாவரவுடலில் உணவு கடத்துவதற்குக் காணப்படும் இழையம் பின்வருவனவற்றுள் எது?  
(1) காழ் (2) உரியம் (3) வேர்மயிர் (4) மேற்றோல்

08. 4kg திணிவுடைய பொருளில் 2ms<sup>-2</sup> எனும் ஆர்முடுகல் ஏற்படுத்தத் தேவையான விசையின் அளவு யாது?  
(1) 4x2 N (2) 2/4 N (3) 4/2 N (4) தரவுகள் போதாது

09. செயற்கைக் கோள்களின் இயக்கம் நியூற்றின் எத்தனையாம் இயக்க விதிக்கு பொருத்தமானது?  
(1) 1ம் இயக்க விதி (2) 2ஆம் இயக்க விதி  
(3) 3ஆம் இயக்க விதி (4) நியூற்றின் இயக்கங்களுள் பொருந்தாது

10. 36kmh<sup>-1</sup> எனும் கதியை செக்ககிற்கு மீற்றரில் தருவது எது?  
(1) 36 x 1000 x 60 (2)  $\frac{30 \times 1000}{60}$  (3)  $\frac{60 \times 1000}{36}$  (4)  $\frac{60}{36 \times 1000}$

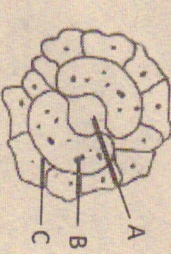
11. நரம்புக்கலம் தொடர்பாகப் பின்வரும் கூற்றுக்களில் தவறானது எது?  
(1) கணத்தாக்கம் கடத்தும் தொழில் புரிகின்றது.  
(2) தனியான உட்காவு நரம்பு முளையையும் பல வெளிக்காவு நரம்பு முளையையும் கொண்டது.  
(3) முளையுட்டிகளில் சராசரி கணத்தாக்க வேகம் 120ms<sup>-1</sup> ஆகும்  
(4) இது நியூரான் எனவும் அழைக்கப்படும்.

12. 8kg திணிவுடைய பொருளின் நிறை யாது? (g = 10ms<sup>-2</sup>)  
(1) 60N (2) 80N (3) 100N (4) 120N


13. பின்வருவனவற்றுள் வலுப்பெறுமானம் கூடிய மின்சாதனம் எது?  
(1) மின்னழுத்தி (2) மின்குமிழ் (3) அழிப்புப்பெய்யாக்கி (4) மின்கலன்பு

14. 200kg திணிவுடைய நீரின் வெப்பநிலையை 30°C இல் இருந்து 70°C இற்கு உயர்த்துவதற்கு வழங்க வேண்டிய வெப்பசக்தியின் அளவு யாது? (நீரின் தன் வெப்பக் கொள்ளளவு 4200Jkg<sup>-1</sup> °C<sup>-1</sup>)
- (1) 200 x 4200 x (30-70) (2) 200 x 4200 x (70-30) (3)  $\frac{200}{100} \times 4200 \times (30-70)$  (4)  $\frac{200}{1000} \times 4200 \times (70-30)$
15. பின்வரும் செயற்பாடுகளில் சக்திச் செலவிடென் நடைபெறும் செயன்முறை எது?
- (1) பரவல் (2) பிரசாரணம் (3) உயிர்ப்பான அகத்துறிஞ்சல் (4) மேற்கூறிய யாவும்.
16. ஓர் தசைக்கலம் ஒன்றின் கட்டமைப்பு இயல்புகள் தரப்பட்டுள்ளது. உருளையான வடிவம், குறுக்கு வரிகள் உடையது, பலகருக்கள், கிளையற்றது எனின் இது எவ்வகை தசை இழையமாக இருக்கக்கூடும்?
- (1) வன்சூட்டுத்தசை (2) மழம்ப்பானதசை (3) இதயத்தசை (4) வரித்தசை
17. ஈமோக்குளோபின் உற்பத்திக்கு அவசியமான விற்றமின் எது?
- (1) Vit - A (2) Vit - B (3) Vit - B12 (4) Vit - B6
18. 4kg திணிவுடைய பொருள் ஒன்று 2ms<sup>-1</sup> வேகத்தில் இயங்குகின்றது எனின் அது கொண்டிருக்கும் இயக்கசக்தியின் அளவு
- (1)  $\frac{1}{2} \times 4 \times 42$  (2)  $\frac{1}{2} \times 4 \times 22$  (3)  $\frac{1}{2} \times 2 \times 42$  (4)  $\frac{1}{2} \times 2 \times 22$
19. தாவர இலையின் குறுக்குவெட்டு முகத்தோற்றத்தில் பச்சையருமணிகள் காணப்படாத கலம் எது?
- (1) மேற்றோல்கலம் (2) காவற்கலம் (3) வேலிக்காற்கலம் (4) கடற்பஞ்சுக்கலம்
20. தாவரக்கலம் ஒன்றையும் விலங்குக்கலம் ஒன்றையும் வேறுபடுத்தி அறிய உதவும் பிரதான இயல்பு பின்வருவனவற்றுள் எது?
- (1) கலவெள்ளு (2) குழியவுரு (3) கலச்சுவர் (4) புன்வெற்றிடம்
21. பின்வரும் தாவரங்களுள் எதில் ஆவியுயிர்ப்பு, கசிவு ஆகிய இரு முறைகளிலும் நீர் இழக்கப்படும்?
- (1) கற்றாளை (2) சேம்பு (3) நாகதாளி (4) காசித்தும்பை
22. பின்வருவனவற்றுள் மிகப்பெரிய கலம் எது?
- (1) கிளாமிடோமொசை (2) அம்பா (3) தீக்கோழி முட்டை (4) மனிதனின் சூல்
23. மனிதவுடலில் காணப்படும் நிறமூர்த்தங்களின் எண்ணிக்கை பின்வருவனவற்றில் யாது?
- (1) 23 (2) 46 (3) 21 (4) 18
24. பின்வருவனவற்றில் எதில் கரு காணப்படும்?
- (1) செங்குழியக்கலம் (2) மேற்றோல்கலம் (3) வெண்குழியம் (4) குருதிச்சிறுதட்டு
25. செங்குழியம் தொடர்பாக பின்வரும் கூற்றுக்களில் எது தவறானது?
- (1) ஆயுட்காலம் 120 நாட்கள் (2) நிறப்பொருளாக ஈமோகுளோபின் காணப்படும் (3) கரு காணப்படும் (4) இரட்டைக்குழிவு வடிவானது
26. தசைக்கலம் டைனமோவில் நடைபெறும் சக்திமாற்றத்தைச் சரியாகக் குறிப்பது எது?
- (1) மின்சக்தி → வெப்பசக்தி (2) இரசாயனசக்தி → மின்சக்தி (3) இயக்கசக்தி → மின்சக்தி (4) இயக்கசக்தி → இரசாயனசக்தி
27. வெப்பசக்தி கடத்தப்படும் வழிமுறை பின்வருவனவற்றுள் எது/வை?
- (A) கடத்தல் (B) கதிர்வீச்சல் (C) மேற்காவுகை (1) A மாதிரி (2) A, B மாதிரி (3) B, C மாதிரி (4) A, B, C யும்


28. 1200 வலுவடைய மின்சாதனம் ஒன்று 2 நிமிட நேரம் தொழிற்பட்டது எனின் வெளிவிடப்படும் வெப்பசக்தியின் அளவு யாது?
- (1) 1200 x 2 (2) 1200 x 60 x 2 (3) 1200 x 60 (4) 1200x2
29. சாற்றேற்றத்திற்கு உதவும் விசை/விசைகள் எது/வை?
- (A) வேரமுக்கம் (B) புவியிர்ப்பு விசை (C) மயிர்த்துளைக் கவர்ச்சி விசை (D) ஆவியுயிர்ப்பு விசை (1) A மாதிரி (2) A, B, C மாதிரி (3) A, B, D மாதிரி (4) A, C, D மாதிரி
30. அமீபாவின் உடலில் நீர் உட்புகுதல் எவ் அகத்துறிஞ்சல் முறையில் நிகழ்கின்றது?
- (1) பரவல் (2) பிரசாரணம் (3) உயிர்ப்பான அகத்துறிஞ்சல் (4) மேற்கூறிய யாவும்
31. பின்வருவனவற்றுள் எக்காரணி அதிகரிக்கும் போது ஆவியுயிர்ப்பு வீதம் குறைவடையும்?
- (A) காற்றின் வேகம் (B) வளியின் ஈரப்பதன் (C) வெப்பநிலை (D) மறைமேகம் சூழ்ந்திருத்தல் (1) A, B மாதிரி (2) B, C மாதிரி (3) C, D மாதிரி (4) B, D மாதிரி
32. மனிதவுடலில் காணப்படும் மண்மையோட்டு முண்ணான் நரம்புகளினது எண்ணிக்கையை சரியாக குறிப்பது எது?
- (1) 12சோடி, 12சோடி (2) 31சோடி, 31சோடி (3) 12சோடி, 31சோடி (4) 31சோடி, 12சோடி
33. பதார்த்தம் ஒன்று பெறும் வெப்பக்கணிபும் தங்கியுள்ள காரணி அல்லாதது எது?
- (1) பதார்த்தத்தின் திணிவு (2) பதார்த்தத்தின் தன்வெப்பக் கொள்ளளவு (3) பதார்த்தத்தின் வெப்பக் கொள்ளளவு (4) பதார்த்தத்தின் வெப்பநிலைவித்தியாசம்
34. ஓர் வாகனம் 5ms<sup>-1</sup> வேகத்திலிருந்து 5s இல் 10ms<sup>-2</sup> எனும் உயர் வேகத்தை அடைந்துள்ளது எனின் வாகனத்தின் ஆர்முடுகல் ms<sup>-2</sup> இல் தருவது எது?
- (1)  $\frac{5-10}{5}$  (2)  $\frac{5-5}{10}$  (3)  $\frac{10-5}{10}$  (4)  $\frac{10-5}{5}$
35. பின்வரும் எத்தாவரத்தில் டம்பல் வடிவக் காவற்கலம் காணப்படும்?
- (1) வேம்பு (2) புல் (3) பூவரசு (4) தென்னை
36. ஒரு தாவரத்தில் ஆவியுயிர்ப்பு மிகக் கூடுதலாக நடைபெறுவது?
- (1) இலை (2) தண்டு (3) வேர் (4) பட்டை
37. குருதியுறையாதோய் எனப்படுவது எது?
- (1) இலுக்கேமியா (2) ஈமோபிலியா (3) குருதிச்சோகை (4) முடியுருதுரோம்போசில்
38. உருவில் A, B, C என்பன முறையே குறிப்பது
- (1) இலைவாய், காவற்கலம், பச்சையவுருமனி. (2) காவிற்கலம், இலைவாய், பச்சையவுருமனி (3) பச்சையவுருமனி, இலைவாய், காவற்கலம் (4) இலைவாய், பச்சையவுருமனி, காவற்கலம்
39. கதி தொடர்பான சரியான கூற்று எது?
- (1) தூரமாற்று வீதம் (2) நியமஅலகு ms<sup>-1</sup> (3) எண்ணிக்கணியம் (4) மேற்கூறிய யாவும் சரி
40. படத்தில் காட்டியவாறு x, y இல் என்ற இரு வாகனங்கள் ஒன்றையொன்று நோக்கி 2kmh<sup>-1</sup>, 4kmh<sup>-1</sup> வேகத்தில் பயணிக்கின்றன. எனின் எவ்வளவு நேரத்தில் இரு வாகனங்களும் சந்திக்கும்?
- (1) 30 நிமிடம் (2) 60 நிமிடம் (3) 120 நிமிடம் (4) 240 நிமிடம்.



**NORTH LANKA IIT** ஆனது யாழ்ப்பாணத்திலே கணினிப் பட்டப்படிப்புக்களை முதன்மைப்படுத்தி இயங்கிவரும் முன்னணி நிறுவனமாகும். இந்நிறுவனம் ISLES International University -UK, Cambridge Association of Managers - UKயுடன் இணைந்து வழங்கும் டிப்பிளோமா முதல் பட்டச்சான்றிதழ்கள் வரை சர்வதேச தரம் வாய்ந்ததொன்றென்று எச்சந்தர்ப்பத்திலும் நிரூபித்து வந்துள்ளதென்றால் அது மிகையாகாது. தற்போது ISLES International University -UK ஆனது Universidad Empresarial de Costa Rica உடன் இணைந்து பல்கலைக்கழக மானியங்கள் ஆணைக்குழுவின் (UGC) அங்கீகாரம் பெற்ற பட்டசான்றிதழ்களை வழங்கவுள்ளது. இது ஆசிரியர்கள், அரசாங்க அலுவலர்களது பதவி உயர்விற்கு இன்றி அமையாததாகும். Universidad Empresarial de Costa Rica ஆனது International Association of Universities Year Book இல் பதிவுசெய்யப்பட்டதும் Sri Lanka UGC இல் அங்கீகாரமுடைய பல்கலைக்கழகமாகும்.





**NORTH LANKA IIT** ஆனது Approved Centre of Cambridge Association of Managers - UK (www.cam-uk.org) Partner Institution of ISLES International University -UK, (www.iiuedu.org) Registered as a Higher Education Provider at Accreditation Syndicate for Education & Training (ASET) UK & Malaysia (www.aset.com.my) & Quality Assurance Commission - UK (www.qac-uk.org) என்பவற்றின் அங்கீகாரமுடைய நிறுவனமாகும். மேற்படி பல்கலைக்கழகங்கள் மற்றும் நிறுவனங்கள் வழங்கும் சான்றிதழ்கள் மலேசியாவில் உள்ள Malaysian High Commission, இலங்கையிலுள்ள Malaysian High Commission, British High Commission, இலங்கை Ministry of External Affairs, இலங்கை சனநாயக சோசலிசக் குடியரசு என்பவற்றில் Endorse செய்யப்பட முடியும். Universidad Empresarial de Costa Rica இனது பட்டச்சான்றிதழ்களை Sri Lanka UGC இருந்து அங்கீகாரமுடையது என்பதனை உறுதிப்படுத்திக்கொள்ள முடியும்.



### Post Graduate Diploma in Computing

ஒரு வருடகாலப் பகுதியை கொண்ட இக்கற்கைநெறி முடிவில் Cambridge Association of Managers - UK இனது சர்வதேச தர சான்றிதழைப் பெற்றுக்கொள்ளலாம். மேற்படி Cambridge Association of Managers ஆனது British Qualifications(A Complete Guide to Professional, Vocational and Academic Qualifications in the United Kingdom) இனது 38(Page No 700), 37(Page No 697), 36(Page No 692) ஆவது பதிப்புகளில் இணைக்கப்பட்டுள்ள UK இல் உள்ள ஒரு நிறுவனமாகும்.



அத்துடன் BIS - UK (Department of Innovation and Skills- UK இல் பதிவு செய்யப்பட்ட நிறுவனமாகும்.

இக் கற்கைநெறிக்கு ஏதாவது ஒரு அங்கீகரிக்கப்பட்ட பல்கலைக்கழக பட்டம் ஒன்றினைப் பெற்றிருத்தல் வேண்டும். கலை, வர்த்தக, விஞ்ஞான பட்டதாரிகள் கணினித் துறையில் பட்டப்பின் படிப்பைத் பூர்த்திசெய்வதற்கு வசதியளிக்கும் வகையில் ஒழுங்கமைக்கப்பட்டுள்ளது.

இப்பட்டப்பின் படிப்பினை பூர்த்திசெய்த பின்பு நடாத்தப்படும் Cambridge Association of Managers இனது பட்டமளிப்பு விழாவின் போது சான்றிதழ்களைப் பெற்றுக்கொள்ள முடியும். இச் சான்றிதழ்களை நீங்கள் இலங்கையில் உள்ள British High Commission இல் சமர்ப்பித்து உறுதிப்படுத்திக்கொள்ள முடியும். இவ்வாறு உறுதிப்படுத்தப்பட்ட சான்றிதழ் ஒன்றை எமது அலுவலகத்தில் பார்வையிட முடியும்.

### M. Sc. in Computing

மேற்படி PGDC கற்கைநெறியை பூர்த்திசெய்தவர்கள் M.Sc கையையும் எமது நிறுவனத்தில் தொடர முடியும்.

**MBA** வாங்கிகள் மற்றும் ஏனைய துறைகளில் 06 வருடத்துக்கு மேற்பட்ட அனுபவம் உள்ள பட்டதாரிகள் இக் கற்கை நெறிக்கு பதிவுசெய்வதற்கு தகமையுடையவர்கள். மேலதிக விபரங்களினை நேரில் பெற்றுக்கொள்ளவும்.

### DBA

MBA தகமையுடைய பட்டதாரிகள் இக்கற்கை நெறிக்கு பதிவுசெய்வதற்கு தகமையுடையவர்கள். மேலதிக விபரங்களினை நேரில் பெற்றுக்கொள்ளவும்.

**O/L தகமையுடன் Degree கற்பதற்கான Diploma** மேற்படி Cambridge Association of Managers இனது சர்வதேச தர சான்றிதழைப் பெற்றுக்கொள்ளும் மேலும் ஒரு அரிய வாய்ப்பு O/L தகமையுடன் உள்ளவர்களுக்கு உரியதாகும். இவர்கள் மேற்படி Diploma கற்கைநெறிக்கு முன்பாக Foundation Course ஒன்றின் மூலமாக உள்வாங்கப்பட்டு பயிற்றப்படுவார்கள்.

### Advanced Diploma

மேற்படி Cambridge Association of Managers இனது சர்வதேச தர Diploma சான்றிதழைப் பெற்றுக்கொண்டவர்கள் Advanced Diploma கற்கைநெறிக்கு உள்வாங்கப்படுவார்கள்.

### Degree

மேற்படி Cambridge Association of Managers இனது Advanced Diploma சான்றிதழைப் பெற்றுக்கொண்டவர்கள் Degree கற்கைநெறிக்கு உள்வாங்கப்படுவார்கள்.

கள் Degree கற்கைநெறிக்கு உள்வாங்கப்படுவார்கள்.

### PGDC

மேற்படி Degree சான்றிதழைப் பெற்றுக்கொண்டவர்கள் Post Graduate Diploma in Computing கற்கை நெறியினை பயில முடியும்.

### ISLES International University

மேற்படி பட்டச் சான்றிதழை வழங்கும் ISLES International University ஆனது தற்போது உலகின் பல பாகங்களிலும் குறிப்பாக UK இலும் (Registered with the UK Register of Learning Providers, UK Provider Reference Number UKRLP No: 10027470) ஆரம்பிக்கப்பட்டுள்ளது.

### அவற்றுள் சில:...

ISLES INTERNATIONAL UNIVERSITY in Malaysia THE UNIVERSITY CHARTER in St Kitts & Nevis, East Caribbean OLLSCOIL ISLES IDIRNÁISIÚNTA in Dublin, Republic of Ireland ISLES INTERNATIONAL UNIVERSITY in London, United Kingdom

School of Doctoral Studies at Brussels (European Union) School of Graduate Studies at Cambridge (United Kingdom) School of Professional Studies at Oxford (United Kingdom)

School of Associate Studies at Basel (Switzerland) Open Learning in the Middle East

Professional Studies in Africa & Asia The School of Professional Studies are associations established in the United Kingdom which provide validation schemes to centres in Africa and Asia. The Oxbridge associations are the Oxford Association of Management and the Cambridge Association of Managers. Postgraduate Diploma, Advanced Diploma and Diploma centres in Kenya Postgraduate Diploma and Advanced Diploma centers in Sri Lanka Diploma and Advanced Diploma centres in Singapore

Approved Centres: United Kingdom MERC Education

Kenya DALC Education Sri Lanka North Lanka IIT Singapore European Business School India Indian Management Academy

Malaysia Credo Trust ISLES International University பற்றிய மேலதிக விபரங்களை www.iiuedu.org எனும் இணையத்தளத்தில் பார்வையிடலாம்.

விண்ணப்பப் படிவங்களை North Lanka IIT யாழ்ப்பாணத்தில் பெற்றுக்கொள்ள முடியும்.

இவ் வருடம் September 29 இல் UK(Oxford) இல் பட்டமளிப்பு விழா நடைபெறவுள்ளது.

இவ்வருடம் October 27 Malaysia வில் பட்டமளிப்பு விழா நடைபெறவுள்ளது.

இதில் இவ் வருடம் பட்டப்படிப்பினைப் பூர்த்திசெய்யும் பட்டதாரிகள் கலந்துகொள்ள முடியும்.

HND, HNDA முடித்த மாணவர்கள் 6-9 மாத காலப்பகுதிக்குள் B.Com. with Computer Application கற்கை நெறியை பூர்த்தி செய்ய முடியும். விபரங்கள் நேரில்....

ஆசிரியர்கள் மற்றும் உத்தியோகத்தர்களுக்கான விரிவுரை நேரங்கள் அவர்களின் வசதிக்கேற்ப ஒழுங்கு கள் செய்துதரப்படும்.

விண்ணப்பிக்கும் சகலரும் Senate சபையின் வழிகாட்டலுடன் புலமைப் பரிசில் திட்டத்தின் கீழ் உள்வாங்கப்படுவார்கள்.

### Senate அங்கத்தவர்கள்

Prof.K.Devarajah  
Prof. T.Velnumby  
Prof.V.Chinnathamby  
Prof. V.P.Sivanathan  
Dr.Sarathchandra (World Bank Adviser for South Asia)  
Dr.R.Surenthirakumar  
Dr.S.J.M.Sahajan  
Lect.S.Anpalagan  
Mr. Angajan Ramanathan


**A/L**  
பரீட்சையின் மற்றும்  
பெறுபெறுகளின் பின்பு  
உங்கள் வளமான  
எதிர்காலத்திற்கான  
முதல் வாய்ப்பு!!  
**UGC**  
அங்கீகாரமுடைய  
மற்றும்  
சர்வதேச தரமுடைய  
கணினி பட்டதாரியாகும்  
வாய்ப்பு யாழ்ப்பாணம் மண்ணில்...

**NORTH LANKA IIT & ISLES INTERNATIONAL UNIVERSITY**  
Jaffna, Sri Lanka UK, IRELAND, MALAYSIA, KENYA & ST.KITTS & NEVIS  
இணைந்து வழங்கும்  
**மாபெரும் புலமைப் பரிசில் திட்டம்**  
5 வது Batch இல் இணையுங்கள்!  
**B.Sc. in Computer Science**  
**B.Com with Computer App.** Duration: 1 -- 3 Years with A/L / O/L  
**P.G.Dip. in Comp. Sc. >> M.Sc.** Duration: 1 Year Any Degree  
**MBA >> DBA**

எமது வாழ்த்துக்கள்!!  
Dr. C.A Sarathchandra - DBA  
(எமது பல்கலைக்கழகத்தில் DBA பட்டம் பெற்று தற்போது World Bank இனது தெற்காசிய மாநிதித்திட்டத்தை ஆலோசகராவார். அத்துடன் Merchant Bank, Peoples Bank, HDFC Bank என்பவற்றின் உயரதகர்புராவார். இவர் தற்போது NORTH LANKA IIT இனது Senate உறுப்பினராவார்.)  
Mr. R.Ganaraj - MBA  
(NSB - Pointpedro Branch)  
Mr. S.Naathasoruban - MBA  
(NSB - Dehiwala Branch)  
Mr. S.Prashanthan - M.Sc.  
(NSB - Jaffna Branch)

**Senate of NLIIT**  
Prof.K.Devarajah Prof. V.P.Sivanathan Dr.S.J.M.Sahajan  
Prof. T.Velnumby Dr.Sarathchandra Lect.S.Anpalagan  
Prof.V.Chinnathamby Dr.R.Surenthirakumar Mr. Angajan Ramanathan  
மேலதிக விபரங்களுக்கு ...  
**NORTH LANKA IIT**  
#113, Luxan Plaza, Navalar Road, Jaffna.  
Phone :- 021567 7774

**வெள்ளங்கள்!**  
10% முதல்  
70% வரை  
கற்கைநெறி  
கட்டணம்  
Free!



கிழக்கு மாகாண முதலமைச்சராக நஜீப் ஏ. மஜீத் ஜனாதிபதி மஹிந்த ராஜபகஷ முன்னிலையில் நேற்று சத்தியப் பிரமாணம் செய்துகொண்டார். இந்தவகையில் இலங்கையின் முதலாவது முஸ்லிம் முதலமைச்சராக நஜீப் ஏ. மஜீத் நியமிக்கப்பட்டுள்ளமை குறிப்பிடத்தக்கது. நடைபெற்று முடிந்த மாகாண சபைத் தேர்தலில் திருகோணமலை மாவட்டத்தில் ஐக்கிய மக்கள் சுதந்திர முன்னணி வேட்பாளர் பட்டியலில் ஸ்ரீலங்கா சுதந்திர கட்சி சார்பில் போட்டியிட்ட இவர் 11,726 விருப்பு வாக்குகளைப் பெற்று மாகாண சபைக்கு உறுப்பினராக தெரிவானவர் ஆவார்.

## பிரச்சினைகளை சிவில் பாதுகாப்பு குழுவினர் முன்னின்று தீர்க்க வேண்டும்

யாழ்.மாவட்ட சிவில் பாதுகாப்பு ஒருங்கிணைப்பு குழு கூட்டம் நேற்று யாழ்.மாவட்ட செயலக கேட்போர் கூடத்தில் நடைபெற்றது. கிராம மட்டத்தில் அபிவிருத்தியை சிவில் பாதுகாப்பு குழு வின் நடவடிக்கைகளை முன்னெடுத்து வந்தால் நாட்டின் அபிவிருத்தியை மேம்படுத்த முடியும் என யாழ்.மாவட்ட அரசாங்க அதிபர் சுந்தரம் அருமைநாயகம் இதன்போது தெரிவித்தார்.

யாழ்.மாவட்ட அரசாங்க அதிபர் தலைமையில் இக்கூட்டம் நடைபெற்றது. ஒவ்வொரு கிராம மட்டத்திலும் நடைபெறுகின்ற குற்றச் செயல்கள் மற்றும் தவறுகள் சுட்டிக் காட்டப்படும் சந்தர்ப்பங்களில் சிவில் பாதுகாப்பு குழு உறுப்பினர்கள் முன் நின்று தீர்

### யாழ்.அரச அதிபர்

த்து வைக்க வேண்டும். அவ்வாறு தீர்த்து வைக்கப்படுமானால் நல்ல சமூக கட்டமைப்பினை உருவாக்க முடியும் என மேலும் அரச அதிபர் கூறினார்.

இக்கூட்டத்தின் போது கிராம மட்டங்களில் நிலவும் பிரச்சினைகள் குறித்து ஆராயப்பட்டு அவற்றைத் தீர்வுக்கு கொண்டு வரும் முறையில் கருத்துக்கள் தெரிவிக்கப்பட்டன.

பிரச்சினைகளுக்கான தீர்வுகள் பாரம்பரிய கைத்தொழில் மற்றும் சிறுதொழில் முயற்சி அபிவிருத்தி அமைச்சர் கே.என்.டக்ளஸ் தேவா னந்தா மற்றும் யாழ்.மாவட்ட பிரதிப் பொலிஸ் மா அதிபர் எரிக்

பெரேரா முன்னிலையில் தீர்வுக்கு கொண்டுவரப்பட்டன.

இந்நிகழ்வில், ஈழமக்கள் ஜனநாயக கட்சியின் யாழ். மாவட்ட நாடாளுமன்ற உறுப்பினர் சில் வெஸ்டர்ன் அலென்ரின், யாழ். மாவட்ட உதவிப் பொலிஸ் அதிபர் சே.சு.கருணேசன், யாழ். மாவட்ட மேலதிக அரசாங்க அதிபர் ரூபினி வரதலிங்கம், யாழ். தலைமைப் பொலிஸ் நிலைய பொறுப்பதிகாரி சமன் சிகேரா மற்றும் காங்கேசந்துறை பொலிஸ் பொறுப்பதிகாரி உட்பட யாழ்.மாவட்ட பிரதேச செயலாளர், சிவில் பாதுகாப்பு குழு உறுப்பினர்கள் எனப் பலர் கலந்து கொண்டனர்.

## துப்பாக்கி சூட்டில் இளைஞர் பலி

அபிங்கிரிய பிரதேசத்தில் துப்பாக்கிச் சூட்டுக்கு இலக்காகி ஒருவர் உயிரிழந்துள்ளார்.

நேற்று அதிகாலை 2.30 மணியளவில் இச்சம்பவம் இடம் பெற்றுள்ளதாகத் தெரிவிக்கப்படுகிறது.

இவ்வாறு துப்பாக்கிச் சூட்டில் உயிரிழந்தவர் 27 வயதுடைய நபர் எனத் தெரிவிக்கப்படுகிறது.

## ஹேரோயினுடன் கைதான பெண்ணுக்கு விளக்கமறியல்

கொழும்பு, வெள்ளவத்தைப் பகுதியில் ஹேரோயினுடன் கைது செய்யப்பட்டிருந்த விமானப்படை யைச் சேர்ந்த பெண் ஒருவருக்கு நேற்று விளக்கமறியலில் வைக்கப்பட்டுள்ளார்.

கொழும்பு நீதவான் நீதிமன்ற நீதிபதி நேற்று குறித்த பெண்ணிற்கு விளக்கமறியலை வழங்கியுள்ளார். இவர் 540 கிராம் ஹேரோயின் அடங்கிய 17 பக்கெற்றுக்களை தம்வசம்

வைத்திருந்துள்ளார்.

இவரது சட்டத்தரணியால் முன்வைக்கப்பட்ட பிணையை நிராகரித்த நீதிபதி குறித்த பெண்ணை இம்மாதம் 25ஆம் திகதி வரை விளக்கமறியல் வழங்கப்பட்டுள்ளது.

ஹேரோயின் போக்குவரத்திற்கு உடந்தையாக செயற்பட்டதாக இவ்விமானப்படையைச் சேர்ந்த பெண் மீது குற்றஞ் சுமத்தப்பட்டுள்ளது.

## ஸ்ரீல.மு. கா அமைச்சு பதவிகளை கோரவில்லை

ஸ்ரீலங்கா முஸ்லிம் காங்கிரஸ் மத்திய அரசில் எந்த அமைச்சு பதவிகளையும் கோரவில்லை என அக்கட்சியின் தலைவர் ரஷீப் ஹக்கீம் தெரிவித்தார்.

கிழக்கு மாகாண சபையில் ஆட்சியை ஏற்படுத்துவதற்காக ஸ்ரீலங்கா முஸ்லிம் காங்கிரஸ் ஆளும் ஐக்கிய மக்கள் சுதந்திர கூட்டமைப்பிடம் அமைச்சு பதவிகள் கோரியதாக ஊடகங்களில் வெளியான செய்திகள் முற்றிலும் பொய்யானது என அவர் குறிப்பிட்டார்.

“முஸ்லிம் சமூகத்தின் பிரச்சினைகளுக்காக அரசாங்கத்திலிருந்து கொண்டு குரல் கொடுப்போம். தற்போதைய சூழலில் முஸ்லிம் சமூகத்திற்கு நிறைவேற்ற வேண்டிய சில விடயங்கள் தொடர்பில் அரசாங்கத்துடன் இணக்கம் காணப்பட்டுள்ளது. இந்த விடயங்கள் மிக விரைவில்

### அமைச்சர் ஹக்கீம்

அமுல்படுத்தப்படும்” என அவர் தெரிவித்தார்.

“அத்துடன் “கிழக்கு மாகாண ஆட்சியை அமைத்தல் தொடர்பில் ஐக்கிய மக்கள் சுதந்திர கூட்டமைப்பு மற்றும் தமிழ் தேசிய கூட்டமைப்பு ஆகிய கட்சிகளுடன் பேச்சு நடத்தினோம்.

இதன் பின்னரே ஐக்கிய மக்கள் சுதந்திர கூட்டமைப்பு ஆதரவு வழங்குவது என தீர்மானிக்கப்பட்டது” என அவர் தெரிவித்தார்.

இந்த தீர்மானத்தினால் தமிழ் தேசிய கூட்டமைப்பு ஏமாற்றமடைந்திருக்கலாம். எனினும் எதிர்காலத்தில் தமிழ் தேசிய கூட்டமைப்புடன் ஸ்ரீலங்கா முஸ்லிம் காங்கிரஸ் சினைகூழர்வதாக செயற்படும் என அமைச்சர் ஹக்கீம் மேலும் தெரிவித்தார்.

## மன்னார் நீதிமன்றம் மீதான தாக்குதல்: மேலும் 2 சந்தேகநபர்கள் நீதிமன்றத்தில் சரணம்

மன்னார் நீதிமன்றம் மீது மேற்கொள்ளப்பட்ட தாக்குதல் தொடர்பில் மேலும் 2 சந்தேக நபர்கள் நேற்றுமுன்தினம் திங்கட்கிழமை மன்னார் நீதிமன்றில் சரணடைந்தனர். குறித்த 2 சந்தேக நபர்களையும் எதிரவரும் 24 ஆம் திகதி வரை விளக்கமறியலில் வைக்குமாறு மன்னார் மாவட்ட நீதவான் ஏ.யூ.சன் உத்தரவிட்டார்.

கடந்த ஜூலை மாதம் 18 ஆம் திகதி மன்னார் நீதிமன்றில் மேற்கொள்ளப்பட்ட தாக்குதல் சம்பவம் தொடர்பாக இதுவரை 43 பேர் கைது செய்யப்பட்டுள்ளமை குறிப்பிடத்தக்கது.

மன்னார் நீதிமன்றம் மீதான தாக்குதல் தொடர்பான வழக்கு விசாரணை எதிரவரும் 24 ஆம் திகதி திங்கட்கிழமை இடம்பெறவுள்ள நிலையில் குறித்த 43 பேரும் மன்னார் நீதிமன்றில் ஆஜர்படுத்தப்படவுள்ளனர்.

இதேநேரம் மன்னார் நீதவானுக்கு தொலைபேசி மூலம் மிரட்டல் விடுத்ததாக கூறப்படும் சம்பவம் தொடர்பாக அமைச்சர் நிலாட் பதியுதீன் மீதான வழக்கும் எதிரவரும் 24 ஆம் திகதி மன்னார் நீதிமன்றில் இடம்பெறவுள்ளமையும் குறிப்பிடத்தக்கது.

## மாலக்க என்னை தாக்கவில்லை: நீதிமன்றத்தில் மேஜர் தெரிவிப்பு

தன் மீதான தாக்குதலில் அமைச்சர் மேர்வின் சில்வாவின் மகன் மாலக்க சில்வா மற்றும் ரெஹான் விஜேரத்ன ஆகியோர் சம்பந்தப்படவில்லை என்று சம்பவத்தில் பாதிக்கப்பட்ட இராணுவ மேஜரான பிரதிப் சசேன நேற்று கோட்டை நீதிவான் நீதிமன்றில் தெரிவித்தார்.

இது தொடர்பில் நீதிமன்றில் மகஜர் ஒன்றையும் கையளித்த இராணுவ மேஜர், இந்த வழக்கினை சமூகமாகத் தீர்த்துக் கொள்ள தான் விரும்புவதாகவும் கோட்டை நீதவான் கனிஷ்க விஜேரத்னவிடம் குறிப்பிட்டார்.

கடந்த 9ஆம் திகதி ரூயிற்றுக்கிழமை, கொழும்பு ஹில்லன் ஜெய்க் ஹோட்டலில் வைத்து தன் மீது தாக்குதல் நடத்தினார்கள் என்று மாலக்க சில்வா, ரெஹான் விஜேரத்ன உட்பட ஏழு பேருக்கு எதிராக மேற்படி மேஜரினால் முறைப்பாடு செய்யப்பட்டிருந்தது. இந்நிலையில், காலை இவர்கள் ஏழு பேரும் பொலிஸில் சரணடைந்த நிலையில் நீதிமன்றில் ஆஜர்படுத்தப்பட்டதை அடுத்து அவர்களை விளக்கமறியலில் வைக்குமாறு கோட்டை நீதவான் நீதிமன்றம் உத்தரவு பிறப்பித்திருந்தமை குறிப்பிடத்தக்கது.

## மதுரைக்கும் கட்டுநாயக்காவுக்கும் இடையில் சிக்கன விமான சேவை

### நாளை முதல் ஆரம்பம்

மதுரைக்கும் கட்டுநாயக்கா சர்வதேச விமான நிலையத்துக்கும் இடையில் சிக்கன விமான சேவையொன்று ஆரம்பிக்கப்படவுள்ளது.

நாளை 20ஆம் திகதி முதல் இந்த விமான சேவை ஆரம்பிக்கப்படவுள்ளதாக தெரிவிக்கப்படுகின்றது.

இதற்கான ஏற்பாடுகளுடன்

மதுரையிலிருந்து சுமார் 50 பேர் அடங்கிய வர்த்தகக் குழுவொன்று இலங்கை வந்துள்ளது.

தமிழ்நாட்டுக்கும் இலங்கைக்கும் இடையிலான இருதரப்பு வர்த்தக நடவடிக்கைகளை மேம்படுத்தும் திட்டத்தின் கீழ் இந்த விமான சேவை ஆரம்பிக்கப்படவுள்ளதாக அக்குழுவின் தலைவர் தெரிவித்தார்.

## மனைப்பொருளாதார திட்டத்தின் கீழ் உபகரணங்கள் கையளிப்பு

வாழ்வெழுச்சி மனைப்பொருளாதார திட்டத்தின் கீழ் தேசிய அருங்கலைப் பேரவையில் பயிற்சி பெற்றவர்களுக்கு உபகரணங்கள் வழங்கும் நிகழ்வு நேற்று யாழ். மாவட்ட செயலக கேட்போர் கூடத்தில் நடைபெற்றது.

மாவட்ட திட்டமிடல் பணிப்பாளர் மோகனேஸ்வரன் தலைமையில் நடைபெற்ற இந்நிகழ்வில், பாரம்பரிய கைத்தொழில் மற்றும் சிறுதொழில் முயற்சி அபிவிருத்தி அமைச்சர் மற்றும் யாழ். மாவட்ட அரசாங்க அதிபர் சுந்தரம் அரு

மைநாயகம் ஆகியோர் உபகரணங்களை வழங்கி வைத்தனர்.


பொருளாதார அபிவிருத்தி அமைச்சுப் பாரம்பரிய கைத்தொழில் மற்றும் சிறுதொழில் முயற்சி அபிவிருத்தி அமைச்சு இணைந்து நடத்திய இப்பயிற்சி நெறியில் சுமார் 2300பேர் தெரிவு செய்யப்பட்டு 667பேர் பயிற்சிகளை நிறைவு செய்துள்ளனர்.

பயிற்சிகளை நிறைவு செய்த 667 பேரில் முதற்கட்டமாக கோப்பாய், சண்டிலிப்பாய், சங்காணை, பருத்தித்துறை ஆகிய

பிரதேச செயலக பிரிவிருகப்பட்ட பயிற்சியாளர்கள் 107 பேருக்கும் ரூ.10,000 பெறுமதியான உபகரணங்கள் இன்றைய தினம் கையளிக்கப்பட்டன.

இந்நிகழ்வில், யாழ். மாவட்ட பிரதேச செயலாளர்கள் மற்றும் தேசிய அருங்கலை பேரவையின் உத்தியோகஸ்தர்கள் உட்பட பாரம்பரிய கைத்தொழில் மற்றும் சிறுதொழில் முயற்சி அபிவிருத்தி சபையின் யாழ். முகா மையாளர் கெங்காதன் மற்றும் பயிற்சியாளர்கள் எனப் பலர் கலந்து கொண்டனர்.

# நவீனக் கவிதைகளில் பெண்ணியம்



முகம்  
சு என்பது  
ஆண்,  
பெண் உறவின்  
மீதே  
கட்டமைக்கப்  
பட்டதாகும்.  
ஆனால்

பெண்ணை பலவிதங்களில் ஆணினம் கட்டுப்படுத்தியே வந்துள்ளது. தொடக்கக் காலம் முதலே அடிமைப்பட்டிருந்த பெண்கள் எதிர்ப்புணர்வை வெளிப்படுத்தியே வந்துள்ளனர். இலக்கியங்களே பதிவு செய்து வைத்துள்ளன. சங்ககாலத்தில் ஓளவையும்தன் பெண்ணிய கருத்துக்களை வெளிப்படுத்தியுள்ளார். கைம்மை நோயின் கொடுமையை பெருங்கோப்பெண்டும் கணவரை இழந்த பெண்கள் மீது நடத்தப்படும் சடங்கு வன்முறையை தாயங்கண்ணியாரும் சங்க காலத்திலேயே பெண்ணியம் பேசியுள்ளனர். இம் மரபு நீடித்து இருபதாம் நூற்றாண்டில் புதுக்கவிதையிலும் தொடர்கிறது.

ஆணும் பெண்ணும் நிகரெனக் கொள்வதால் அறிவி லோங்கி இவ்வையம் தழைக்குமாம் என சமத்துவம் போதித்துள்ளார் பாரதியார். பாரதியைத் தொடங்கி வல்லமை பேசியுள் வீட்டில் - பெண் வாங்கவே வந்திடு வார்கள் சில பேர்கள் நல்ல விலை பேசுவார் - உன்னை நாளும் நலிந்து சுமந்து பெற்றோர்கள் என பாடியுள்ளார் பாரதிதாசன். பலரும் பெண்ணியம் குறித்து இலக்கியம் படைத்து வருகின்றனர். கவிதை, கதை, கட்டுரை, சிறுகதை, நாடகம், நாடகம் எதுவாயினும் பெண்ணியம் பேசுவது நீடிக்கிறது. இருபதாம் நூற்றாண்டின் தொடக்கத்தில் இருந்த இலக்கியம் இன்று நவீனத் தளத்தில் இயங்கி வருகிறது. இரண்டாயிரம் ஆண்டு இலக்கிய பயணத்தில் நவீன யுகத்தில் மட்டுமே பெண்ணியத்துக்கான குரல் ஓங்கி ஒலிக்கின்றது. ஆண் படைப்பாளிகளின் பங்களிப்பு இருப்பினும் பெண் படைப்பாளிகளின் பங்களிப்பே பிரதானம். குறிப்பாக கவிஞர்கள்.

பாவ விமோசனத்திற்கு ராமணுக்காக காத்திராதே..  
அவன் சீதையின் அக்னிப் பிரவேச ஆயத்தங்களில் ஆழ்ந்திருக்கிறான் என பெண்களுக்கு அறிவுறுத்தி.  
இராவணன் கற்புக்கும் இவளே பொறுப்பு என ஒரு புதுப் பார்வையை, ஒரு புது சிந்தனையை, ஒரு புது கருத்தை பெண்ணியத்துக்கு ஆதரவாய் வைத்துள்ளார் பெண்களை பெருமைப்படுத்தி உள்ளார் கவிஞர் கனிமொழி. தொகுப்பு அகத்தினை. தொன்மத்தை முன் வைத்தே பெண்ணியம் பேசுவதில் திறமையாளர். அடுத்தது தீண்டாமம்.

சட்டம் எழுதியாயிற்று. எல்லாச் சாதியும் கோயிலுக்குள் வர. எந்நாடு போனாலும் தென்னாடு உடைய சிவனுக்கு மாதவிலக்குள்ள பெண்கள் மட்டும் ஆவதே இல்லை என சமத்துவம் பேசியுள்ளார். உரிமையை முன் வைக்கிறார். தீண்டாமை சொல்லை புறக்கணிப்பபடும் பெண்களுக்காக பயன்படுத்தி தன் வாதத்தை வைத்து ஒரு விவாதத்தை எழுப்பியுள்ளார். சிவன் தன்னுடம்பில் பாதியை பார்வதி என்னும் தன் மனைவிக்கு கொடுத்தாக புராணம். ஆனால் சிவன் கோவிலுக்குள் மாதவிலக்குள்ள பெண்கள் நுழைய கூடாது என்பது பெண்களுக்கு எதிரானது. புறக்கணிப்பபடும் ஒரு செயல். இதையே கவிஞர் கனிமொழியின் கவிதை எதிர்க்கிறது.

ஒரு நாளேணும் வாழ வேண்டும் நான் நானாக என விருப்பப்படுகிறார் கவிஞர் மு.சத்யா. இக்கவிதை இடம்பெற்ற தொகுப்பு "இங்கு எதுவும் நிகழவில்லை. இவ்வரிகள் எளிமையாய் இருப்பினும் இதில் வெளிப்பட்டுள்ள செய்தி வலிமையானது. பெண்ணுக்கான சுயம் பேசுகிறது. பெண்ணை பெண்ணாக இருக்க விடாத சமுதாயத்தை

எதிர்க்க விரும்புகிறது. தொடர்ந்து என்றைக்கேணும் ஒரு நாள் நான் காணாமல் போய்விட்டால் அடுப்படியின் பரணிலோ சிலிண்டரின் மறைவிலோதான் முதலில் தேடுவார்கள் போலும் என புலம்பலாயிருந்தாலும் காலம் காலமாய் பெண்கள் சமையலறையிலேயே வைக்கப்பட்டிருப்பதற்கு எதிரானது. பெண் தொலைந்து போனாலும் சமையலறைக்குள்ளேயேதான் தேட வேண்டும் என்னும் கருத்து சிந்தித்தலுக்குரியது. ஒரு வீட்டின் சமையல் அறையிலிருந்த பெண் இன்னும் விடுதலை அடைய வேண்டும் என்பது மிகவும் வருத்தத்திற்குரியது. கவிஞர் திலகபாமா ஒரு முக்கிய பெண் கவிஞர். எட்டவாது பிறவி தொகுப்பில் எழுதிய கவிதை

நான் தண்டவாளமாக எப்போதும் உன் பயணம் என் மேல் கழிவுகளை வீசிய படி நகர எனக்குள் ஆசை உனை விழ்த்திப் பார்க்க என ஒரு பெண்ணாக தன் ஆசையை வெளிப்படுத்தியுள்ளார். இதை ஆவேசம் என்றும் கொள்ளலாம். இதன் தலைப்பு காதலன். தண்டவாளம் என்பதை பெண்ணுக்குக் குறியீடாக பயன்படுத்தியுள்ளார். ஆயினும் அவரின் வாழ்பழகிய சந்தன மரம் கவிதை ஆண்களின் அடக்கு முறைக்கு எதிரானது.

அந்த அழகிய அ(சி)றைக்குள் நான் இருந்த இடத்தில் நீ பார்க்க முடியாது வேர்கள் விட்டிருந்தேன். நாளை அவைகள் சுவர்கள் அஸ்திவாரம் தாண்டிப் பயணக்கும் மண்ணோடு.. என பயணங்களில் விரிசல் விடத் துவங்கியிருக்கும் சுவர்கள் பெண்ணை கட்டுப்படுத்த முடியாது என்கிறார். பெண்ணியம் என்பது மீறுதலுடையது எனவும் உணர்த்தியுள்ளார். இவர் பெண்ணியம் குறித்து அதிகம் பேசாவிடினும் பேசிய வரையில் வீரியமாயுள்ளது.

நவீன இலக்கியத்தின் முக்கியத்துவங்களில் ஒன்று குறியீடு. பெண் கவிஞர்கள் குறியீடாயும் பெண்ணிய பிரச்சனையை முன் வைத்துள்ளனர். கற்பாவை தொகுப்பில் கவிஞர் உமா மகேஸ்வரி எழுதியது

சமையலறையிலிருந்து பார்த்துக் கொண்டிருந்தேன் சுவரோடு பந்து விளையாடுகிறவனை பந்தை எறிய எறிய திருப்பியடித்தது சுவர் உற்சாகமாக ஒரேயொரு முறையாவது பந்து வீச சுவருக்கும் வாய்ப்புத் தந்திருந்தால் இப்படி மூர்க்கமாய் உடைத்திருக்காது எதிரே பிரதிபலித்த நிலைக் கண்ணாடியை இதில் சுவரைக் குறியீடாக பயன்படுத்தியுள்ளார். பெண்ணை சுவராக பாவித்து கோபத்தை வெளிப்படுத்தியுள்ளார்.

சாட்சி வைத்த கொலைக்கயிறு தொகுப்பில் இதே தலைப்பில் எழுதப்பட்ட கவிதை படித்தவன் லட்சியவாதியென்று லட்சத்திற்கு வாங்கி விட்டு மிச்சமும் வரவில்லையென்று கதவடைத்து நெருப்பில் உடல் மூடி வேக வைக்கும் போது கழுத்தில் சுற்றியது பொன் கயிறல்ல சாட்சி வைத்த கொலைக்கயிறெனப் புரியும் எழுதியவர் கவிஞர் நா.சுப்புலட்சுமி. தாலியை சாட்சி வைத்த கொலைக்கயிறு என்பது கவனிப்பிற்குரியது. வரதட்சனைக்கு எதிரானது. நேரிடையாகவே தாக்குகிறார்.

பெண்மையைப் போற்றுகிறது. இக்கவிதை ஊர்க்கூடி கொள்ளையடித்தனர் வரதட்சனை என்னும் கவிஞர் இளம்பிளையின் ஹைக்கூவை நினைவுக்கூர்ச் செய்கிறது. வரதட்சனை வெளிப்படையான ஒரு பிரச்சனை. இதன் தொடர்ச்சியாகவே பல சிக்கல்கள் உருவாகின்றன. புதுக் கவிதையில் தொடங்கிய இப்பிரச்சனைக்கு எதிரான சிந்தனை நவீன இலக்கியத்திலும் தொடர்கிறது.



அன்பு சகோதரியே.....  
ஊண், உடம்பு உயிர் கொண்ட அனைத்தும் இவ்வுலகில் ஒன்றே...  
அனைத்தும் இங்கு உயிரே..  
நெருப்பில் போட்டால் பிணம் கூட எழுந்து நிற்கும், காலமெல்லாம்,  
அடிமை நெருப்பில் கன்னறும், விழித்துக்கொள்ள இன்னுமா தாமதம்..  
சாதனைகள் புரிய உவப்பு இருப்பினும், சிகரங்கள் தொடும் தெம்பு இருப்பினும், நமது உணர்வுகளும், கனவுகளும் தொண்டை குழிக்கும், நெஞ்சு குழிக்குமான இடைவெளிகளில் அமிழ்ந்து போகும் அநியாயம் இன்னும் எத்தனை காலங்கள் தொடரும் ?  
கலாச்சார பதிவுகளுக்காக நமது காலடித்தடங்கள் அழிக்கப்படுவதை இன்னும் எத்தனை நாள் விட்டு வைத்திருப்போம்...  
கை தூக்கி விட காத்திருந்தால் காலம் நமக்காய் தாமதிக்காது...  
நமக்கான பாதையை நாமே வகுப்போம்.. முட்களில் நடப்பது நமக்கென்றும் புதிதல்ல...  
எது நமது உரிமை, எது நமது சுதந்திரம் என்ற விழிப்புணர்வு அற்ற பெண்டிரே !!!  
விழித்துக்கொள்வோம், எல்லாருக்கும் எல்லாம் சமமாய், நிறைவாய் கிடைப்பது தான் சுதந்திரம். அதை கேட்டுப்பெறுவது தான் நமது உரிமை. கேட்காமல் எதுவும் கிடைக்காது, தட்டாமல் எதுவும் திறக்காது, திறக்காத கதவுகளை உடைப்போம், மண்ணில் போட்டு நசுக்கினாலும், வேர் விட்டு விருட்சமாவோம்.... வாழ்வோ தாழ்வோ.. இனி நம் கையில்..

பெண்ணியம்

## ஆணுக்கும் பெண்ணுக்கும்

எப்படி நிகழ்ந்ததோ அது ஆணுக்கு பெண் - அடக்கம் என்னும் சமாதாரம், சமங்கு கொடுப்பதாய் உன்னையும் வேலைக்கணுப்பி உன் திறமைகளை வெளிப்படுத்த எண்ணி பாவம் அவளும் கஷ்டப் படுவானேன் நிம்மதியாய் வீட்டில் இருக்கட்டுமே என நினைத்த இடத்தில் தான் துரோகம் இழைக்கப் பட்டுவிட்டது போல் உடல் கூசப் பார்க்கும் கயவர்களுக்கு மத்தியில் மனம் கூசி போவாயோ வீட்டில் தான் இருந்து விடேன் உனக்காக உழைக்கத் தான் - நானிருக்கேனே என்று எண்ணியதில் தான் துரோகம் இழைக்கப் பட்டுவிட்டது போல் அக்கம் பக்கம் கடைக்கு செல்கையில் சேர்ந்து போகும் நீ - பேருந்தில் எறிநான்கு தெரு நடந்து, எல்லோருக்கும் பதில் சொல்லி, எத்தனையோ எரிச்சல்களுக்கு மத்தியில் சிரித்து நான் படும் இன்ன பிற அவஸ்தைகளை சரிபங்காய் நீயும் படுவானேன் என தவறாய் யோசித்த இடத்திலிருந்து - துரோகம் இழைக்கப் பட்டுவிட்டது போல்நானும் போயி - நீயும் போயி - இருவருக்கு மத்தியிலும் வாழும் பிள்ளைகள் பாசமற்று ஏங்கிப் போகுமோ என்று நினைத்த சுயநலத்தில் தான் உனக்கான துரோகம் - இழைக்கப் பட்டுவிட்டது போல் ஆணுக்கும் பெண் சமமாக வேண்டும்எவருக்கு எவரும் தாழ்வாக வேண்டாம் என்றெல்லாம் எண்ணினாலும் -

எங்கோ இழைக்கப் பட்ட துரோகம் எதற்கோ எனக்கு நீ பயந்து நடுங்குகையில் - உள்ளே உரைக்காமலில்லை வலிக்காமலில்லை. என்னால் உன்னை என அழைக்க சம்மதித்த நீ, என்னை வா போவென்றும் சொல்ல அனுமதித்திடாத என் நடத்தை ஒரு பக்கம் தாழ்ந்த தராசில் தானே நிற்கிறது??? என - எல்லோரும் யோசிக்கும் நான் வெகு தேவையாகிப் போனது இக்காலத்தில். உலகம் முழுக்க பெண்ணியம் பேசுகிறார்கள் நானும் ஆமென்று தலை அசைக்கிறேன், வீட்டில் - உனக்கந்த சுதந்திரம் தரப்பட்டதா எனில் இல்லை என தலைகுனிவும் அசிங்கம் யாரால் காலவேகத்தினுள் புகுத்தப் பட்டதோ?? என கூட்டம் போட்டெல்லாம் வேண்டாம் அவரவர் மனதிலாவது யோசிக்க வேண்டிய தருணத்தில் தான் நிறைய பேர் நிலை கொண்டுள்ளோமோ??

இன்னமும் அதை பெரிய பண்ணை என்று சொல்லாமல், அதற்குரிய பெயரான விலங்குப் பண்ணை என்கிற பெயரிட்டு அழைத்ததையே,, இந்த மரியாதைக்கு ஒரு சான்றாகச் சொல்லலாம். ஜோன்ஸைப் பாராட்டி, அவனுக்கு உதவுவதாக வீம்பு கூறுவதையும் மனிதர்கள் நாளடைவில் விட்டுவிட்டார்கள்.

தன் பண்ணை இனித் தன் கைக்கு வராது என்கிற தீர்மானத்துடன் ஜோன்ஸ் அந்தப் பிராந்தியத்தைவிட்டு வேறு இடத்துக்குப் போய்க் குடியேறிவிட்டான். விம்பர் மூலமாக ஏற்பட்டதைத் தவிர வெளி உலகத்துக்கும் விலங்குப் பண்ணைக்கும் நேரடியான தொடர்புகள் எதுவும் இல்லை இன்னமும்.

ஆனால் நெப்போலியன், பாக்ஸ்வுட் பண்ணை சொந்தக்காரரான பில்கிங்டனுடனோ அல்லது பிஞ்சுஃபீல்டு முதலாளியான ஃப்டெரிக்குடனோ உடனடியாக வியாபார ஒப்பந்தம் ஒன்று செய்துகொள்ளப் போகிறது

என்கிற வதந்தி மட்டும் எழுந்து எழுந்து அடிக்கடி அடங்கிக்

இல்லை நெப்போலியன். சற்றேறக் குறைய இதே சமயத்தில் பன்றி



கொண்டிருந்தது. இந்த இருவரில் ஒருவருடன் மட்டும்தான் நெப்போலியன் உடன்படிக்கை செய்து கொள்ளும் என்பது தீவிரமாக வற்புறுத்தப்பட்டு வந்தது.

ஒரே சமயத்தில் இருவருடனும் ஒப்பந்தம் செய்து கொள்வதாக

கள் திடீரென்று பண்ணை வீட்டுக்குள் குடியேறின.


ஆரம்ப காலத்தில் பண்ணை வீட்டில் குடியிருப்பது பன்றி ஒரு தீர்மானம் நிறைவேற்றியதாக விலங்குகளுக்கு லேசான ஒரு ஞாபகம் இருந்தது. மீண்டும் ஸ்க்வீலர் எத்தனையோ சமாதானங்கள் கூறி, அப்படியெல்லாம் ஒன்றுமில்லையே என்று ஸ்தாபித்துவிட்டது.

பண்ணையின் அஸ்திவாரமாக விளங்கும் பன்றிகள் அமைதியான ஒரு இடத்தில்தான் தங்கள் வேலைகளைச் சரிவரக் கவனிக்க முடியும் என்றது ஸ்க்வீலர்.


இப்போதெல்லாம் நெப்போலியனைப் பெயர் சொல்லிக் குறிப்பதில்லை அது. தலைவர் என்று தான் குறிப்பிடும். தலைவரின் கௌரவத்துக்கு ஏற்றது அந்த வீட்டில் வசிப்பதுதான், பன்றிக் கொட்டிலில் தலைவர் அடைபட்டுக் கிடந்தால், அது பண்ணையின் கௌரவத்துக்கே இழுக்கான காரியம் அல்லவா? இப்படியெல்லாம் ஸ்க்வீலர் பேசியும் மிருகங்கள் சிலவற்றிற்கு அதிருப்தியாகத்தான் இருந்தது.

பன்றிகள் சமையலறையில் சாப்பிட்டன என்பது மட்டுமின்றி படுக்கை அறைகளில் படுத்து உறங்கின என்று அறிந்தபோது விலங்குகளுக்கு மன நிம்மதியில்லாமல் போயிற்று. பாக்ஸர் வழக்கம்போல “நெப்போலியன் செய்வதே சரி” என்று சொல்லி விவாதத்தை முடித்துவிட்டது. ஆனால் புரட்சி காலத்தில் விதி ஒன்று, விலங்குகள் படுக்கையில் படுத்துறங்குவதைத் தடுத்ததாகக் கோவருக்கு ஞாபகம் இருந்தது. (நாளை..)

வரைவேளும் வாருங்கள்!




## இரண்டு ஓணான்கள்



இரண்டு ஓணான்கள் ஓர் இடத்தில் கூடிப் பேசிக்கொண்டிருந்தன. ஒன்று, “நம்முடைய ஜன்மம் என்ன ஜன்மம்! இது ஒரு வாழ்வா? ஏதோ தின்கிறோம், வாழ்கிறோம், அவ்வளவுதான். நமக்கு ஒரு பெயர் உண்டா? மதிப்பு உண்டா? நம்மைப் பற்றி ஒருவர் பேசுவது தான் உண்டா? ஒரு கலைமானாக நான் பிறந்திருக்கக் கூடாதா? அப்படிப் பிறந்தாலாவது ராஜாக்களின் தோட்டங்களில் உலாவலாமே!” என்று சொன்னது.

இப்படி அவை பேசிக்கொண்டிருந்தபோது ஒரு கலைமானை இரண்டு வேட்டை நாய்கள் விரட்டிக்கொண்டு வந்தன. ஓணான் இருந்த இடத்திற்கு முன்னால் கலைமான் வந்தபோது நாய்கள் நெருங்கி அதைக் கல் விப் பிடித்து அங்கேயே குதறித் தள்ளின. இதைப் பார்த்த மற்றொரு ஓணான், “இந்த வாழ்வையா வேண்டுமென்று விரும்பினாய்? இந்த மானின் கதியைப் பார்த்த பின்பாவது உள்ளதைக் கொண்டு திருப்பதியடையும் நல்ல குணத்தைப் பெறுவாயாக” என்று சொல்லியது.

## கொலம்பஸின் அமெரிக்கப் பயணம்




இந்தியாவுக்கு கடல் மார்க்கமாகப் புதிய வழி கண்டுபிடிக்க முயன்று அமெரிக்காவை கண்டுபிடித்தவர் என்று வரலாற்றில் புகழ் பெற்றவர் கொலம்பஸ். அமெரிக்காவை கண்டு பிடித்தவர் கொலம்பஸ் என்று பொதுவாக கூறப்பட்டாலும் அவர் உண்மையில் கண்டு பிடித்தவை சில தீவுகளையே. எனினும் கொலம்பஸ் இந்தத் தீவுகளை கண்டுபிடித்ததால்தான் ஐரோப்பாவைச் சேர்ந்த பல்வேறு நாட்டினரும் அமெரிக்காவுக்குச் சென்று குடியேற வழி ஏற்பட்டது.

இத்தாலியைச் சேர்ந்தவரான கிறிஸ்டோபர் கொலம்பஸ் 1452 இல் பிறந்தார். சிறிய வயதிலேயே கடல் பயணங்களை மேற்கொண்டார். கடலில் மேற்கு திசையில் பயணம் செய்து இந்தியாவை அடைய முடியும் என்று கொலம்பஸ் நினைத்தார். தன்னுடைய கடல் பயணத்துக்கு உதவுவது ஸ்பெயின் நாட்டு அரசரையும் அரசியையும் கொலம்பஸ் கேட்டுக்கொண்டார். அவர்களும் கொலம்பஸுக்கு உதவ முன்வந்தனர். 1492 ஓகஸ்ட் 3 ஆம் திகதி கொலம்பஸ் 120 மாலு மிகளும் கடல் பயணத்தைத் தொடங்கினார். நிளா, பின்டா, சாந்தமரியா என்ற மூன்று கப்பல்களில் அட்லாண்டிக் பெருங்கடலில் மேற்கு நோக்கி பயணித்தனர். இவ்வாறு புறப்பட்டு சுமார் இரண்டு மாதங்களுக்குப் பின் சில தீவுகளை கண்டார். இவற்றில் ஒன்று “ஜீவானா” என்ற தீவு. தற்போது கியூபா என்ற பெயரில் இத்தீவு அழைக்கப்படுகிறது.

## சிறுவர் சிமுதம்

எலியாரே!  
எலியாரே!



எலியாரே எலியாரே  
எங்கே போறீங்க?  
எலிசபெத்து ராணியாரைப்  
பார்க்கப் போறீங்க.

ஏரி கடல் குறுக்கே வந்தா  
என்ன செய்வீங்க?  
ஏரோப்ளேன் மேல ஏறி  
பறந்து செல்வேங்க.

பறக்கும்போது பசி எடுத்தா  
என்ன செய்வீங்க?  
ரொட்டி, வடை பலகாரம்  
வாங்கித் திம்போங்க....

கடோக்கு எண் 54 விடை

3	7	9	4	6	2	5	8	1
5	4	8	7	1	3	9	2	6
6	1	2	5	8	9	7	4	3
1	9	4	3	2	8	6	7	5
8	5	7	6	9	4	1	3	2
2	6	3	1	7	5	4	9	8
4	8	6	9	3	1	2	5	7
9	3	1	2	5	7	8	6	4
7	2	5	8	4	6	3	1	9

விடுகதைகள்



- பூமியிலே வளராத மரம். கிளை உண்டு, இலை இல்லை. அது என்ன?
- முப்பத்திரண்டு வெள்ளைச் சிப்பாய்களுக்கு நடுவே, ஒரு சிவப்பு ராசா. அது என்ன?
- முதுகிலே முட்டை சுமந்து, மூன்று மணிக்கு முழம் போவான். அவன் யார்?
- முத்து மூடியிருக்கும். முக்காடு போட்டிருக்கும் முட்கள். நீண்டிருக்கும் மிடுக்கா வீற்றிருக்கும். அது என்ன?
- பழகினால் மறக்காது. பயந்தால் விடாது. அது என்ன?

ரூபாய் 5  
ஒடிசா 10 15 20 25 30 35 40 45 50 55 60 65 70 75 80 85 90 95 100  
ஒடிசா 2 ரூபாய் 100 ரூபாய் 1000 ரூபாய் 10000

கடோக்கு எண் 55

		6		7		2
			7	9		5
7		4	8			1
				5		4
		5	9	1	8	3
6		9				
4			2	7		9
	1	8	9			
9	3			6		

### குழந்தைகளே!

3 முதல் 12 வயது வரையான பிள்ளைகளின் பிறந்தநாள் வாழ்த்து தமிழ்நாடத்தில் பிரசுரமாகும். நீங்கள் செய்யவேண்டியது இதுதான்:

ஏதாவதொரு விடயத்தைப் பூர்த்தி செய்தல். அத்துடன் பெயர், ஊர் பிறந்ததினம் என்பவற்றை மாத்திரம் எழுதி உங்கள் புகைப்படத்தையும் இணைத்து எமக்கு தபாலில் அனுப்பிவைக்க வேண்டும்.

சிறுவர் அமுதம், தமிழ்நாடம், 267, நாவலர் வீதி, யாழ்ப்பாணம்.



# கிளிநொச்சியில் காணாமல் போனவர்கள் பற்றி மீண்டும் முறைப்பாட்டுப் பதிவுகள்

(கிளிநொச்சி)

கிளிநொச்சி மாவட்டத்தில் காணாமல் போனவர்களின் மீள் முறைப்பாட்டுப் பதிவு நடவடிக்கையில் கொழும்பில் இருந்து வருகைதந்த புலனாய்வுத்துறையினர் ஈடுபட்டனர்.

வவுனியா புலனாய்வுத்துறை செயலகத்தில் சென்ற ஆண்டு மேற்கொள்ளப்பட்ட முறைப்பாடுகளின் அடிப்படையில் இவ் மீள் பதிவுகள் மேற்கொள்ளப்பட்டன.

காணாமல் போனவர்களின் பெற்றோர், உறவினர்கள் செய்த முறைப்பாட்டின் அடிப்படையிலேயே இந்த மீள் பதிவுகள் இடம் பெற்றன.

கிளிநொச்சி பொலிஸ் நிலைய வளாகத்தில் கடந்த இருதினங்களாக இவ் முறைப்பாடுகள் பதிவு செய்யப்பட்டன.

இதன்போது காணாமல்போனவர்களின் பிறப்பு அத்தாட்சிப் பத்திரம் மற்றும் தேசிய அடையாள அட்டையின் பிரதி, புகைப்படம்

முதலானவையும் கோரிப் பெறப்பட்டதாகவும் காணாமல் போன பிள்ளைகளின் பெற்றோர் தெரிவித்தனர். கடந்த யுத்தத்தின்போது பெருமளவு பிள்ளைகளும், பொதுமக்களும் காணாமல் போனமை தொடர்பில் ஏற்கனவே பொலிஸ் நிலையங்களிலும், மனித உரிமை அமைப்புகளுடனும், அரசியல் கட்சிகள், அரசாங்கம் முதலானவற்றிற்கும் முறைப்பாடுகள் செய்யப்பட்டுள்ளமை குறிப்பிடத்தக்கது.

## வேள்வியைக் குழப்ப முயன்ற அமைச்சர் காளியின் கோபத்துக்கு ஆளானாராம்

- முன்னேஸ்வரம் குருக்கள் கூறினார்

முன்னேஸ்வரம் ஸ்ரீ பத்திரகாளி அம்மன் ஆலய வேள்வி நடவடிக்கைகளுக்கு எதிராகச் செயற்பட்ட அமைச்சர் ஒருவர் காளியம்மனின் கோபத்திற்கு இலக்கானார் என்று மேற்படி ஆலயக்குருக்களான சிவபாதசந்தரம் கூறினார். சம்பந்தப்பட்ட அமைச்சருக்கு கஸ்டகாலம் வரவேண்டுமென்று காளியம்மன் சாபமிட்டுள்ளதாகவும் குருக்கள் கூறினார்.

இவ்வருடம் நடைபெறவிருந்த வேள்வி இனி நடைபெறாது. அடுத்தவருடம் வேள்வி வழமை போல் நடைபெறும்” என்றும் குருக்கள் கூறினார்.

“வேள்வியை நிறுத்தமுயன்ற அமைச்சருக்கு கஷ்டத்திற்குமேல் கஷ்டங்கள் வந்து கொண்டே இருக்கின்றன. இந்த அமைச்சரின் குடும்ப அங்கத்தவரொருவர் பாரதாரமான நெருக்கடியினை எதிர்நோக்கியுள்ளார் இவையெல்லாம் காளியம்மனுக்கெதிராக செயற்பட்டதால் வந்த வினையாகும். இவ்வாறான பிரச்சினையை ஏற்படுத்தியவர்களுக்கு காளியம்மன் தண்டனை வழங்க வேண்டுமென்று கேட்டு நாம் வணங்குவது வழக்கம்” என்றும் குருக்கள் கூறினார்.

“இறைச்சிக்காகவே நாம் மிருக பலி செய்கின்றோம் என்று சிலர்

நினைக்கிறார்கள். இந்துமதக் கிரிகையொன்றினையே நாம் மேற்கொள்ளுகிறோம். நூற்றுக்கணக்கான மிருகங்களை நாம் பலியிடுவதில்லை. வருடத்திற்கு ஒருதடவை மட்டுமே இந்த வேள்வியை நடாத்துகிறோம். அதுவும் பத்து நாட்களுக்கு இந்துசமய வழிபாட்டில் ஈடுபட்டபின்னரே இந்த வேள்வியைச் செய்கிறோம். குறித்த தினத்தன்று வேள்வியைச் செய்ய முடியாவிட்டால் இன்னொரு தினத்தில் அதனைச் செய்யமுடியாது” குருக்கள் கூறினார்.

## கழுக்குக் கலர்கள்

பருவப் பெயர்ச்சி மழை காலம் ஆரம்பித்திருப்பதனால் இலங்கையில் மீண்டும் டெங்கு நோய் அபாயம் தோன்றியுள்ளது. சுமார் ஆறு மாதங்களுக்கு முன்னர் கொழும்பு மாநகரிலும் நாட்டின் ஏனைய பகுதிகளிலும் டெங்கு நோயின் தாக்கம் குறைந்திருந்த போதிலும், கடந்த ஜூன், ஜூலை, ஆகஸ்ட் மாதங்களில் மீண்டும் டெங்கு நோயாளிகளின் எண்ணிக்கை அதிகரித்துள்ளதாக கொழும்பு மாநகர சபையின் பிரதம வைத்திய அதிகாரி டாக்டர் பிரதீப் காரியவசத்தை கழுக்குக் கண்கள் சந்தித்த போது அவர் வேதனையுடன் தெரிவித்தார்.

ஆகஸ்ட் மாதத்திலேயே அதிகளவான டெங்கு நோயாளிகள் பதிவு செய்யப்பட்டிருந்தனர். கொழும்பு மாநகரில் செம்டம்பர் மாதத்தில் 31 டெங்கு நோயாளிகள் இலங்கை காணப்பட்டதாக தெரிவித்த அவர், எதிர்வரும் ஒக்டோபர் மாதத்தில் டெங்கு நோய் கூடுதலாக பரவி மக்களுக்கு பெரும் ஆபத்தை உண்டாக்குவதற்கான அறிகுறிகள் தென்படுகின்றன என்றும் டாக்டர் பிரதீப் காரியவசம் எச்சரிக்கை செய்தார்.

எனவே, டெங்கு நோய் பெருமளவில் பரவி மக்களுக்கு உயிர் ஆபத்தை ஏற்படுத்து

வதை தடுக்க வேண்டுமாயின் இப்போதிருந்தே மக்களும், உள்ளூராட்சி மன்றங்களும், சுகாதார அமைச்சுமீட்டு டெங்கு நோய் ஒழிப்பு நடவடிக்கைகளில் தீவிரமாக ஈடுபடுவது அவசியம் என்ற கருத்தையும் அவர் வலியுறுத்தினார்.

உலக சுகாதார ஸ்தாபனம் விடுத்துள்ள ஓர் அறிக்கையில் அமெரிக்கா, கிழக்கு மத்திய-தரைக் கடல் பிரதேசம், தென் கிழக்கு ஆசியா, பசிபிக் சமுத்திரத்தின் மேற்கு பிரதேசம், ஆப்பிரிக்கா ஆகிய பகுதிகளில் உள்ள நூற்றுக்கும் மேற்பட்ட நாடுகளில் வருடா வருடம் டெங்கு நோய் அதிகரித்து வருவதாக குறிப்பிடப்பட்டுள்ளது. இந்த நாடுகளில் வருடா வருடம் 50 மில்லியன் டெங்கு நோயாளிகள் இந்நோயினால் உபாதைக்கு உட்படுகிறார்கள் என்றும் இவ்வறிக்கையில் குறிப்பிடப்பட்டுள்ளது.

டெங்கு நோய் 60 ஆண்டுகளுக்கு முன்னர் தான் கண்டுபிடிக்கப்பட்டது. அன்றிலிருந்து இன்று வரை இந்நோய் 30 மடங்கு அதிக ரித்திருப்பதாக உலக சுகாதார ஸ்தாபனத்தின் ஆய்வாளர் டாக்டர் மைக்கல் கிரபோட் அறிவித்துள்ளார். இலங்கை மட்டுமன்றி தாய்லாந்தும் டெங்கு நோயினால் பெரும் பாதிப்பிற்குள்ளாகியுள்ளது. தாய்லாந்தில் இவ்வாண்டில் 17

ஆயிரத்து 86 டெங்கு நோயாளிகள் இலங்கை காணப்பட்டனர். இலங்கையில் செம்டம்பர் மாதம் வரையில் 29 ஆயிரத்து 762 டெங்கு நோயாளிகள் இலங்கை காணப்பட்டுள்ளதாக அறிவிக்கப்படுகிறது.

டெங்கு நோயை பூண்டோடு ஒழித்துக்கட்டும் முகமாக சுகாதார அமைச்சு பல்வேறு நடவடிக்கைகளை கடந்த காலத்தில் எடுத்திருந்த போதிலும் அவை எதிர்பார்த்த அளவு வெற்றியளிக்கவில்லை. அதற்கென அமைச்சு கடந்த காலத்தில் கியூபாவில் இருந்தும், பீ.ரி.ஐ.பக்ரீரியாவை இலங்கைக்கு கொண்டு வந்து டெங்கு நுளம்புகளை ஒழிப்பதற்கு எடுத்த முயற்சியும் எதிர்பார்த்த அளவு வெற்றியளிக்கவில்லை. இதையடுத்து சுகாதார அமைச்சு 1230 மில்லியன் ரூபாவை செலவு செய்து கியூபாவில் தயாரிக்கப்பட்ட பீ.ரி.ஐ.பக்ரீரியாவை தெளிக்கக் கூடிய வசதியுடைய கருவிகளை இறக்குமதி செய்வதற்கு நடவடிக்கை எடுத்துள்ளது. இதனை டெங்கு அதிகமாக இருக்கும் பிரதேசங்களில் ஒக்கோபர் மாத பிற்பகுதி முதல் பாரிய அளவில் தெளித்து டெங்கு நுளம்புகளை பூண்டோடு ஒழிக்கும் பணியையும் சுகாதார அமைச்சு மேற்கொள்ளவுள்ளது. சுமார் 9 மாதங்களுக்கு முன்னர் டெங்கு நோய் உச்சக்கட்டத்தில் இருந்த போது நம்நாட்டு மக்கள் மிகவும்

## காஞ்சியில் எதிர்ப்பு நடவடிக்கைகளை கைவிடாமாறு முதலமைச்சர் கோரிக்கை

போபால் சர்வதேச பௌத்த பல்கலைக்கழகத்திற்கான அடிக்கலை நாட்டுவதற்குச்சாஞ்சிக்கு வருகை தரவுள்ள இலங்கை ஜனாதிபதி மகிந்தரா ஜபக்ஷவிற்கு எதிரான நடவடிக்கைகளை கைவிடாமாறு மத்திய பிரதேச முதலமைச்சர் சிவ்ராஜ் சிங் செளகான் கோரிக்கை விடுத்துள்ளார். மறுமலர்ச்சித் திராவிட முன்னேற்றக்கழகத் தலைவர் வைகோவுக்கு எழுதிய கடிதத்திலே இவ்வாறு கேட்டுள்ளார். “சாஞ்சியில் நடைபெறவிருக்கும் நிகழ்வு எந்த வகையிலும் அரசியல் சார்ந்ததல்ல. ஆசிய நாடுகளுக்கிடையில்

சமாதானத் தையும் செளஜன்னியத்தையும் ஏற்படுத்துவதற்கான ஒரு முயற்சியே இது” என்றும் அக்கடிதத்தில் அவர் குறிப்பிட்டுள்ளார்.

“மனித உரிமை விவகாரங்களில் தமிழ் மக்களுக்கு சார்பாகவே தான் இருப்பதாகவும் பாரதிய ஜனதாக்கட்சித் தலைவரான சிவ்ராஜ் குறிப்பிட்டுள்ளார். ஆசிய நாடுகளின் பல்வேறு பண்பாடுகளை ஒன்றிணைப்பதே மத்திய அரசின் நோக்கம் என்றும் அதற்காகவே பௌத்த பல்கலைக் கழகம் அமைக்கப்படுவதாகவும் முதலமைச்சர் குறிப்பிட்டுள்ளார்.

## மட்டு. சிறைச்சாலைக் கைதிகளின் சத்தியாக்கிரகம் நிறுத்தம்

மட்டக்களப்பு சிறைச்சாலையில் கூரை மீதேறி சத்தியாக்கிரகம் செய்த ஆறு தமிழ் கைதிகளின் பிரச்சினை, சிறைச்சாலை ஆணையாளர் நாயகம் பி.டபிள்யூ. கொடிப்பிலினால் சுமுகமாக தீர்த்து வைக்கப்பட்டது. இந்த ஆறு கைதிகளுமே தாவர உணவு உண்பவர்களான தங்களுக்கெனச் சமைக்கப்படும் பருப்புக்

கறியை, மாமிசம் உண்ணும் ஏனைய கைதிகளுக்கு வழங்கப்படுவதை ஆட்சேபித்தே இவர்கள் உண்ணாவிரதம் இருந்தார்கள். மரக்கறி சாப்பிடுபவர்களுக்கு புறம்பாக உணவு வழங்குமாறு சிறைச்சாலை ஆணையாளர் நாயகம் உத்தரவிட்டதையடுத்து உண்ணா விரதம் கைவிடப்பட்டது.

## மானிப்பாயில் சில வீதிகள் ஒளிபெற்றுள்ளது

(சண்டிவிப்பாய்)

மானிப்பாய் பிரதேச சபையின் நிர்வாக எல்லைக்குட்பட்ட பல பகுதிகள் மிக நீண்டகாலமாக இருள் குழந்த நிலையில் காணப்பட்டன. தற்பொழுது சில பகுதிகளுக்கு மின்சார சபையின் உதவியுடன் மானிப்பாய் பிரதேச சபையினரால் வீதி விளக்குகள்

பொருத்தப்பட்டுள்ளது. இவ் செயற்பாடுகளை மக்கள் பெரிதும் பாராட்டியதுடன் தமது நன்றிகளையும் பிரதேச சபையினருக்கு தெரிவித்துள்ளனர் இதே போல் ஏனைய பகுதிகளிற்கும் விரைவில் மின் விளக்குகளைப் பொருத்தி உதவுமாறு கோரப்பட்டுள்ளது.

உணர்வுபூர்வமாக டெங்கு நுளம்புகளை ஒழிக்கும் பணியை வார இறுதி நாட்களிலும், மற்றைய நாட்களிலும் சிரமதான செயற்பாடுகளின் மூலம் வெற்றிகரமாக மேற்கொண்டார்கள். அதன் காரணமாகவே டெங்கு நோய் இவ்வாண்டின் முற்பகுதியில் ஓரளவு குறைந்த தாக்கத்தை ஏற்படுத்திக் கொண்டிருந்தது. ஆயினும் காலப்போக்கில் நம் மக்கள் தங்கள் பொறுப்புக்களை மறந்து யோகக்கப்புகளை பொது இடங்களில் எறிந்து விடுவதாலும், சிரட்டை மற்றும் இளநீர் குடித்து விட்டு இளநீர் கோம்பைகளை வீசிவிடுவதாலும் அவற்றின் மூலம் இப்போது டெங்கு நோயை பரப்பும் நுளம்புகள் அதிக வேகமாக இனவிருத்தி செய்து கொண்டிருக்கின்றன.


டெங்கு நோய் பரவுகின்ற வேகத்தைப் பார்த்தால் குறைந்தபட்சம் ஒரு குடும்பத்தில் ஒருவராவது டெங்கு நோயினால் பாதிக்கப்பட வேண்டிய ஆபத்தை எதிர்நோக்குவார்கள் என்று டெங்கு நோய் ஒழிப்பு பணியில் ஈடுபட்டுள்ள சுகாதார அமைச்சரின் அதிகாரி ஒருவர் தெரிவித்தார்.

எனவே, டெங்கு நோயை கட்டுப்படுத்த வேண்டுமாயின் மக்கள் தங்கள் சமூகப் பொறுப்பை உணர்ந்து டெங்கு நோயை பூண்டோடு ஒழித்துக் கட்டுவதற்கு உடனடியாக நடவடிக்கை எடுப்பது அவசியமாகும். மக்கள் பொறுப்பற்ற

மறையில் தாங்கள் வாழும் சுற்றாடலை அசுத்தமாக வைத்திருந்தால் டெங்கு நோய் அவர்கள் வாழும் பிரதேசத்தில் பல மடங்குகளில் அதிகரிப்பது திண்ணம். ஒரு சதுர கிலோமீற்றர் தூரத்தில் பீ.ரி.ஐ. பக்ரீரியா நுளம்பு கொல்லியை தெளிப்பதற்கு 35 லட்சத்து 50 ஆயிரம் ரூபா வரை செலவாகும் என்று மதிப்பிடப்பட்டுள்ளது. இவ்வாண்டில் 4 மில்லியன் ரூபா பெறுமதியான 10 ஆயிரம் லீற்றர் பீ.ரி.ஐ. பக்ரீரியாவை அரசாங்கம் கியூபாவில் இருந்து இறக்குமதி செய்தது. ஆயினும் இதில் பெரும்பகுதி கிருமிநாசனிகள் பயன்படுத்தப்படாமல் களஞ்சியசாலைகளில் முடங்கிக் கிடப்பதாக இப்போது அறிவிக்கப்படுகிறது.

சுகாதார அமைச்சின் உத்தியோகத்தர்களுக்கு இப்பணியை தனியாக நிறைவேற்றுவதில் பிரச்சினைகள் இருந்த காரணத்தினால் தான் இந்நிலை ஏற்பட்டிருப்பதாக அறிவிக்கப்படுகிறது. ஆகவே, இனிமேலாவது இதனை ஒரு தேசியப் பிரச்சினையாக கருதி சகல அரசாங்க திணைக்களங்களும், உள்ளூராட்சி மன்றங்களும், சமூக அமைப்புகளும், பொது மக்களும் ஒன்றிணைந்து ஓரணியாக டெங்கு ஒழிப்பு பணியை மேற்கொண்டால் நிச்சயம் சாதகமான பலன் கிடைக்குமென்ற நம்பிக்கை கழுக்குக் கண்களுக்கு என்றென்றும் இருந்து வருகின்றது.

# செவ்வாய் கிரகத்தில் சூரிய கிரகணம்: படம் பிடித்து அனுப்பியது கியூரியாசிடி



செவ்வாய் கிரகத்தை ஆய்வு செய்து கொண்டிருக்கும் கியூரியாசிடி ரோவர் விண்கலம், அங்கு காணப்பட்ட சூரிய கிரகணத்தை

படம் பிடித்து அனுப்பியுள்ளது. செவ்வாய் கிரகத்தை பற்றி ஆராய அமெரிக்காவின் கியூரியாசிடி ரோவர் விண்கலம், கடந்

தாண்டு நவம்பர் மாதம் 26ஆம் திகதி விண்ணில் செலுத்தப்பட்டது.

பத்து மாத பயணத்துக்கு பின், 56 கோடியே 30 லட்சம் கிலோ மீற்றர் தூரம் பயணித்து கடந்த ஆகஸ்ட் மாதம் 6ஆம் திகதி செவ்வாயில் தரையிறங்கியது.

பிரமாண்ட விண் கற்களால் ஏற்பட்ட காலே பள்ளப் பகுதியில், பல்வேறு சோதனைகளை மேற்கொண்டு வருகிறது.

இதற்கிடையே இந்த ரோவர் செவ்வாய் கிரகத்தில் 13ஆம் திகதி காணப்பட்ட சூரிய கிரகணத்தை படம் பிடித்து அனுப்பியுள்ளது. தற்போது நாசா மையம் இந்த படத்தை வெளியிட்டுள்ளது.

## சிரிய போர்க் குற்றவாளிகளின் ரகசிய பட்டியலை தயாரித்தது ஐ.நா

சிரியாவில் நடைபெறும் மனித உரிமை மீறல் குறித்து விசாரணை நடத்தி குற்றவாளிகள் தொடர்பாக தனி நபர் மற்றும் குழுக்கள் அடங்கிய ரகசியப் பட்டியல் ஒன்றை தயாரித்துள்ளதாக ஐ.நா அறிவித்துள்ளது.

ஐ.நா.வின் முன்னனி புலனாய்வு அதிகாரி பெளலோ சேர்ஜியோ பின்ஹெயிரோ இது பற்றிக் கூறுகையில், ஐ.நா அதிகாரிகளிடம் உறுதியான மற்றும் அசாதாரண

மான சான்று கிடைத்துள்ளதாக தெரிவித்தார்.

மேலும் ஐ.நா.வின் பாதுகாப்புப் பிரிவு சர்வதேச குற்றவாளிகளுக்கான நீதிமன்றத்தில் (International Criminal Court - ICC) சிரியாவின் தற்போதைய நிலைமை குறித்து வாதிட வேண்டும் என கோரியுள்ளார்.

இதேவேளை சிரியாவில் தங்கியுள்ள மனித உரிமைகள் கண்காணிப்பு அமைப்புக் கூறுகை

யில், சிரியாவில் ஆயுதம் தாங்கிய போராட்டக்காரர்கள் தம்மிடம் அகப்பட்டுள்ள கைதிகளை சித்திரவதை செய்து வருவதாகவும், சிலருக்கு மரண தண்டனை கூட விதிப்பதாகவும் தெரிவித்துள்ளது.

இருப்பினும் அரசின் ஆதரவு படைகள் மேற்கொள்ளும் போர் நிறுத்த மீறல்களே மிக அதிகளவில் பரவியிருப்பதாகவும் இவர் கூறியுள்ளார்.

## போலியோ சொட்டு மருந்து கொடுக்க தலிபான்கள் அனுமதிக்க வேண்டும்

பாகிஸ்தானில் பழங்குடி பகுதியில் உள்ள குழந்தைகளுக்கு போலியோ தடுப்பு மருந்து அளிக்க தலிபான்கள் அனுமதி அளிக்க வேண்டும் என்று சவுதி அரேபியாவின் முன்னாள் சுகாதாரத்துறை அமைச்சர் ஹசன் கெஸ்யரி வேண்டுகோள் விடுத்துள்ளார்.

பாகிஸ்தானின் வடக்கு வஜிரிஸ்தான் மற்றும் தெற்கு வஜிரிஸ்தான் பகுதிகளில் பழங்குடியின மக்கள் அதிகம் வசிக்கின்றனர்.

இப்பகுதிகளில் தலிபான்கள் அதிகம் வசிக்கின்றனர். எனவே இப்பகுதிகளில் போலியோ சொட்டு மருந்து அளிப்பதற்கு தலிபான்கள் தடை விதித்துள்ளனர்.

அமெரிக்க ஆளில்லா விமான தாக்குதல் நிறுத்தப்படும்வரை போலியோ சொட்டு மருந்து அளிக்க அனுமதிக்கப் போவதில்லை என்று தலிபான்கள் அறிவிப்பு வெளியிட்டுள்ளனர்.

அமெரிக்க தாக்குதலில் அப்பாவி பெண்களும், குழந்தைகளும் பாதிக்கப்படுவதாக அவர்கள் தெரிவித்துள்ளனர். கடந்த ஜூன் மாதத்தில் இவ்விரு பகுதிகளிலும் போலியோ சொட்டு மருந்து அளிப்பதற்கு தடை விதிக்கப்பட்டது.

இதற்காக பாகிஸ்தானில் உள்ள பெஷாவர் நகருக்கு பயணம் மேற்கொண்ட அவர் தலிபான்களுக்கு தனது கோரிக்கையை வேண்டுகோளாக வைத்துள்ளார்.

பழங்குடியினப் பகுதியில் உள்ள



-அமைச்சர் வேண்டுகோள்

குழந்தைகள் போலியோ நோய் தாக்குதலுக்கு ஆளாவதைத் தடுக்க உதவுமாறு அவர் கேட்டுக் கொண்டுள்ளார்.

இது தொடர்பாக பெஷாவரில் செய்தியாளர்களிடம் பேசிய கெஸ்யரி, தலிபான்கள் விடுத்துள்ள இத்தகைய அறிவிப்பு பாகிஸ்தானுக்கு மட்டுமன்றி பிற நாடுகளுக்கும் விடுக்கப்பட்ட அச்சுறுத்தலாக தான் கருதுவதாகக் குறிப்பிட்டார்.

தெஹ்ரிக்-இ-தலிபான் அமைப்பின் தலைவர்களான மௌ லவி நசீல், மங்கள்பாக், மற்றும் முத்த தலைவர்கள் தனது கோரிக்கையை பரிசீலிக்க வேண்டும் என்றும் அவர் கேட்டுக் கொண்டார்.

சவுதி அரேபியாவில் போலியோ முற்றிலுமாக ஒழிக்கப்பட்டதற்கு மேற்கொண்ட நடவடிக்கைகளை அவர் செய்தியாளர்களிடம் பகிர்ந்து கொண்டார்.

போலியோ நோய் உண்டாக்

கும் வைரஸ் முற்றிலும் ஒழிக்கப்பட வேண்டும்.

குழந்தைகளுக்கு குறிப்பிட்ட இடைவெளியில் தடுப்பு மருந்து கொடுப்பதன் மூலம்தான் அதை முற்றிலுமாக ஒழிக்க முடியும் என்றார்.

உலக நாடுகளில் வைரஸ் நோய் தொற்று பரவும் அபாயம் உள்ள நாடுகள் வரிசையில் பாகிஸ்தானும் உள்ளது. குறிப்பாக இளம்பிள்ளை வாதம் எனப்படும் போலியோ நோய் தாக்குதலுக்கு ஆளாவார் எண்ணிக்கை அதிகம் உள்ளது.

ஹஜ் பயணத்துக்காக சவுதி அரேபியாவுக்கு வரும் பாகிஸ்தான் பிரஜைகளுக்கு கட்டாயம் தடுப்பு மருந்துகள் அளிக்கப்படுவதாக அவர் தெரிவித்தார்.

உலக சுகாதார அமைப்பின் (WHO) இயக்குநர் ஜெனரலின் ஆலோசகராக கெஸ்யரி உள்ளார்.

## உலக பார்வை



அமெரிக்க அதிபர் ஓபமா, ஷில்லர் பார்க்கில் தேர்தல் பிரசாரம் மேற்கொண்ட போது அவரது ஆதரவாளர்களை பார்த்து கையசைத்தார்.

## 21,000 ஆடுகளுக்கு தொற்று நோய்: விஷம் வைத்து அழிப்பு

அவுஸ்திரேலியாவில் இருந்து இறக்குமதி செய்யப்பட்ட 21 ஆயிரம் ஆடுகளுக்கு தொற்று நோய் ஏற்பட்டதால், அவற்றை பாகிஸ்தான் அதிகாரிகள் விஷம் வைத்து கொன்று வருகின்றனர்.

பக்ரீத் பண்டிகை நெருங்கும் நிலையில் அவுஸ்திரேலியாவில் இருந்து பக்ரைனுக்கு, 21 ஆயிரம் ஆடுகள் இரு வாரங்களுக்கு முன் கப்பலில் அனுப்பப்பட்டன.

தனியார் நிறுவனத்தின் மூலம் அனுப்பப்பட்ட இந்த ஆடுகளுக்கு தொற்று நோய் உள்ளதாகக் கூறி, ஆடுகளை பெற பக்ரைன் அதிகாரிகள் மறுத்துவிட்டனர்.

இதையடுத்து இந்த ஆடுகள் கடந்த 5ஆம் திகதி உள்ளூர் இறக்குமதியாளர் மூலம் கராச்சி துறைமுகத்துக்கு வந்து சேர்ந்தது.

சிந்து மாகாண அரசு அதிகாரிகள் ஆடுகளை இறக்குமதி செய்ய அனுமதித்தனர். ஆனால் சிந்து மாகாண சுகாதார அதிகாரிகளுக்கு தகவல் கிடைத்து, ஆடுகளை சோதித்த போது சால்மோனெல்லா மற்றும் ஆக்டினோமைசஸ் என்ற தொற்று கிருமிகள் இருப்பது உறுதி செய்யப்பட்டது.

உணவுக்கு லாயக்கற்ற இந்த ஆடுகளை சாப்பிட்டால் உடல் நலக் கேடு ஏற்படும் என்றும்



அதிகாரிகள் எச்சரித்தனர். இதையடுத்து 21 ஆயிரம் ஆடுகளையும், மீண்டும் ஒரு முறை சோதனைக்கு உட்படுத்தி தொற்று நோய் உறுதி செய்யப்பட்ட பின் அவற்றை விஷமிட்டு கொன்று விடுமாறு, கராச்சி சுகாதார கமிஷனர் ரோஷன் அலி வேஷ்க் உத்தரவிட்டுள்ளார்.

இதையடுத்து இந்த ஆடுகள் கொல்லப்பட்டு வருகின்றன. இவ் விவகாரம் குறித்து அவுஸ்திரேலிய தூதர் பீட்டர் ஹேவர்ட்டிட் பாகிஸ்தான் அரசு சார்பில் விளக்கம் கேட்கப்பட்டுள்ளது.

கராச்சி துறைமுகத்தில் இறக்குமதி செய்யப்பட்ட போது ஆடுகள் ஆரோக்கியமாக இருந்ததாகவும், துறைமுக அதிகாரிகள் ஒப்புதல் அளித்த போது எவ்வித நோய் தொற்றும் காணப்படவில்லை என்றும் ஹேவர்ட்டிட் சுட்டிக்காட்டி உள்ளார்.

## அமெரிக்க திரைப்படத்திற்கு எதிர்ப்பு: காயூலில் வெளிநாட்டவர் மீது தற்கொலைப்படை தாக்குதல்



இந்நிலையில் அமெரிக்காவால் வெளியிடப்பட்ட innocence of muslims என்ற படத்திற்கு எதிர்ப்பு தெரிவிக்கும் முகமாக Hezb-e-Islami என்ற அமைப்பு நடத்திய தற்கொலைப்படை தாக்குதலில் 12 பேர் பலியாயினர்.

ஆப்கானிஸ்தான் தலைநகர் காயூல், வெளிநாட்டவர்கள் சிலருடன் பேருந்து ஒன்று சென்று கொண்டிருந்தது.

அப்போது இந்த பேருந்து மீது பயங்கரவாதிகள் தற்கொலைப்படை தாக்குதல் நடத்தியதில் 12 பேர் பலியாயினர். 8 பேர் காயமடைந்தனர்.

பலியானவர்கள் காயூல் சர்வதேச விமான நிலையத்தினை நோக்கி சென்ற போது தாக்குதல் நடந்துள்ளது தெரியவந்துள்ளது.


# ராகுல் சர்வதேச தலைவர், இத்தாலியில் கூட போட்டியிடலாம்: மோடி விமர்சனம்

ராகுல் காந்தி தேசியத் தலைவர் மட்டுமல்ல, சர்வதேசத் தலைவரும் கூட... அவர் இந்தியாவில் மட்டுமல்ல, இத்தாலியிலும் கூட தேர்தலில் போட்டியிடலாம் என்று கடுமையாக சாடியிருக்கிறார் குஜராத் முதல்வர் நரேந்திர மோடி.

குஜராத் மாநில முதல்வர் நரேந்திர மோடி ராஜ்கோட்டில் நடைபெற்ற விவேகானந்த யுவ பரிஷத் மாநாட்டில் பேசியதாவது, 21-ம் ஆண்டு நூற்றாண்டு இந்தியாவின் நூற்றாண்டு என்று எதிர் பார்க்கப்பட்டது.

ஆனால் சுவாமி விவேகானந்தரின் எதிர்பாற்புகளை பொய்யாக்கிவிட்டனர். இந்த நாட்டின் 60 கோடி மக்கள் 48 மணி நேரம் முழு இருட்டில் சிக்கித் தவிக்கின்றனர்.

மருத்துவமனைகள் மின்சார மின்றி மூடப்பட்டன. அப்படியானால் உலக வரைபடத்தில் இந்தியாவுக்கு என்ன இடம் இருக்கிறது? இந்தியாவே இருவில் முழுகிய போது குஜராத் மாநிலம் மட்டும் தான் மின்சாரத்தில் ஒளிர்ந்தது!



காங்கிரஸ் தலைவர் சிலர் என்னை விமர்சித்து அறிக்கை வெளியிட்டிருந்தனர். மோடியைப் பொறுத்தவரையில் குஜராத் மாநிலத்துக்கு மட்டுமேயான தலைவர். ஆனால் ராகுல் காந்தியோ தேசியத் தலைவர் என்று கூறியிருந்தனர். உண்மைதான்.

நான் குஜராத்துக்கான ஒரு தலைவராக இருப்பதில் மிகவும் பெருமைப்படுகிறேன். உங்களது ராகுல் காந்தி தேசியத் தலைவர் மட்டுமல்ல.. ஏன் அவர் சர்வதேசத் தலைவரும் கூடத்தான். அவர் இந்தியாவில் மட்டுமல்ல.. இத்


தாலி நாட்டுத் தேர்தலிலும் கூட போட்டியிட்டு வெற்றி பெறலாம். மத்திய அரசின் சில்லரை வர்த்தகத்தில் அன்னிய முதலீட்டுக்கு அனுமதி என்பது நாட்டின் இளைஞர்களின் எதிர்காலத்தை பாழடித்துவிடும் என்பதால் கடுமையாக எதிர்க்கிறோம். உற்பத்தித் துறையில் கடுமையாக விளைவுகளை ஏற்படுத்தும். வேலையின்மையைத்தான் உருவாக்கும். 8 ஆண்டு களுக்கு ஒரு முறை பிரதமர் மன் மோகனை சிங்கம் என்கின்றனர்.

அனுசக்தி ஒப்பந்தம் தொடர்பாக அமெரிக்காவுடன் கையெழுத்திட்ட போது சிங்கம் என்றழைக்கப்பட்டார். இப்போது அதே அமெரிக்காவின் நிர்ப்பந்தத்தை ஏற்று சில்லரை வர்த்தகத்தில் அன்னிய முதலீட்டுக்கு அனுமதி கொடுத்த போதும் சிங்கம் என்று அழைக்கப்பட்டிருக்கிறார் என்றார் அவர்.

இந்த நிகழ்ச்சியில், ஒலிம்பிக் கில் பதக்கம் பெற்றுத் தந்த ககன் நரங், கிரிக்கெட் வீரர்கள் ரவீந்திர ஜடேஜா, புஜரா ஆகியோர் மோடியால் சிறப்பிக்கப்பட்டனர்.

# இந்திய செய்திகள்

## அன்னா குழுவினர் அரசியல் கட்சி தொடங்க 76 சதவீத மக்கள் ஆதரவு



அன்னா ஹசாரேவின் ஊழலுக்கு எதிரான இந்தியா இயக்கம் சார்பாக அரசியல் கட்சி தொடங்க 76 சதவீத மக்கள் ஆதரவு தெரிவித்துள்ளதாக அரவிந்த் கேஜ்ரிவால் தெரிவித்துள்ளார்.

அன்னா ஹசாரே உண்ணாவிரதத்தைக் கைவிட்டு, தமது இயக்கத்தைக் கலைப்பதாக அறிவித்துவிட்டு ஓகஸ்ட் 6ம் திகதி சொந்த கிராமத்துக்குத் திரும்பி

னார். தாம் அரசியல் கட்சி தொடங்குவோ, தேர்தலில் போட்டியிடவோ உத்தேசிக்கவில்லை எனவும் அவர் அறிவித்தார்.

இந்நிலையில் அரவிந்த் கேஜ்ரிவால் கூறியதாவது: 7.37 லட்சம் பேர்டம் நடத்திய கருத்துக் கணிப்பின் முடிவில் 5.61 லட்சம் பேர், அதாவது சுமார் 76 சதவீதம் பேர், ஊழலுக்கு எதிரான இயக்கத்தினர் சார்பாகப் புதிய அரசியல் கட்சி தொடங்குவதற்கு ஆதரவு தெரிவித்திருக்கின்றனர்.

ஊழலுக்கெதிரான இயக்கம் பற்றி ஆலோசனை நடத்த ஹசாரே புது டெல்லிக்கு நாளை வரவிருக்கும் நிலையில், இந்த கருத்துக் கணிப்பு விவரங்களை அவர் முன்பு அளிப்பேன் என கேஜ்ரிவால் குறிப்பிட்டுள்ளார்.

# இராணுவ ரகசியங்களை பாகிஸ்தானுக்கு வெளியிட்ட ஜ.எஸ்.ஜி உளவாளி கைது

இந்தியாவின் இராணுவ ரகசியங்களை பாகிஸ்தானுக்கு தெரிவித்து வந்த ஜ.எஸ்.ஜி உளவாளி ஒருவரை பொலிஸார் கைது செய்தனர்.

இந்தியாவின் விசாகப்பட்டின கடற்படைத் தளம், ஊட்டி இராணுவ முகாம் உள்ளிட்ட பல்வேறு இடங்களின் ரகசியங்கள் பாகிஸ்தானுக்கு தகவல்களாக பரிமாறப்பட்டுள்ளது.

தஞ்சாவூர் மாவட்டம் அதிராம் பட்டினம் என்ற ஊரைச் சேர்ந்த தமீம் அன்சாரி (35) என்பவரை இது தொடர்பாக பொலிஸார் கைது செய்தனர்.

இவர் சில வருடங்களாக இலங்கைக்கு காய்கறிகளை அனுப்பி வைக்கும் தொழில் செய்து வந்தார். இதற்காக தமீம் அன்சாரி வாரத்திற்கு ஒரு முறை திருச்சி விமான நிலையம் வழியாக கொழும்பு சென்று வந்தார்.

இதற்கிடையில் காய்கறி வாங்குவதாக கூறி விசாகப்பட்டினம் மற்றும் ஊட்டி ஆகிய இடங்களுக்கு அவர் அடிக்கடி சென்று வந்தார். சமீப காலமாக அன்சாரியிடம் அதிக அளவில் பணப் புழக்கம் ஏற்பட்டது.

இது தொடர்பாக நண்பர்கள் கேட்டதற்கு காய்கறி ஏற்றுமதி தொழிலில் அதிக அளவு லாபம் கிடைப்பதாக அவர் பதிலளித்தார்.

இருப்பினும் அவரது நடவடிக்கை அந்த பகுதியை சேர்ந்தவர்களிடம் சந்தேகத்தை ஏற்படுத்தியது. இது தொடர்பாக அவர்கள் க்யூ பிரிவு பொலிஸாருக்கு ரகசியமாக தகவல் தெரிவித்தனர்.

இந்த தகவலின் அடிப்படையில் கடந்த ஒரு மாத காலமாக க்யூ பிரிவு டிஎஸ்பி ராஜேந்திரன் மற்றும் பொலிஸார் அன்சாரியை கண்காணித்து வந்தனர்.

காய்கறி வாங்குவதாக கூறி அன்சாரி விசாகப்பட்டினம் மற்றும் ஊட்டி ஆகிய இடங்களுக்கு சென்று வந்ததும், அங்கு சில இளைஞர்களை அவர் சந்தித்து பேசுவதும் தெரியவந்தது.

இந்நிலையில் நேற்று முன்தினம் இரவு அதிராம்பட்டினத்தில் இருந்து ஊட்டிக்கு காரில் புறப்பட்ட அன்சாரியை வழிமறித்து க்யூ பிரிவு பொலிஸார் சோதனை நடத்தினர்.

இந்த சோதனையின் போது அவரிடம் இருந்து ஏராளமான குற்றத்தகடுகள் கைப்பற்றப்பட்டன.

அவற்றை சோதனை செய்து பார்த்த போது, அதில் விசாகப் பட்டினத்தில் உள்ள இந்திய கடற்படைத் தளம் மற்றும் அமைப்பு, அங்கு நிறுத்தப்பட்டுள்ள போர்கப்பல்கள் பற்றிய விவரம், ஊட்டியில் உள்ள இராணுவ முகாமின் அமைப்பு மற்றும் அவற்றில்

நடைபெறும் பணிகள் பற்றிய விவரங்கள் இருந்தன.

இதைக் கண்டு அதிர்ச்சியடைந்த க்யூ பிரிவு பொலிஸார் அன்சாரியை ரகசிய இடத்தில் வைத்து விசாரணை நடத்தினர்.

விசாரணையில் கடந்த சில வருடங்களாக இலங்கையில் உள்ள ஜெனஸ்ஜ அதிகாரி ஒருவருடன் தமீம் அன்சாரி நெருங்கிய தொடர்பு வைத்திருந்தது தெரியவந்தது.

அந்த ஜெனஸ்ஜ அதிகாரியின் உளவாளியாக அன்சாரி செயற்பட்டு வந்துள்ளார். இங்கிருந்து இந்திய இராணுவ ரகசியங்களை ஜெனஸ்ஜ அதிகாரிகளுக்கு கொடுத்து வந்துள்ளார்.

இதற்காக அவர் இலட்சக்கணக்கில் பணம் பெற்று வந்ததும் பொலிஸாரின் விசாரணையில் தெரிய வந்தது.

இதைத் தொடர்ந்து அன்சாரியை கைது செய்த க்யூ பிரிவு பொலிஸார், நேற்று மாலை திருச்சி ஜெனம்.2 கோர்ட் மாஜிஸ்திரேட் ராஜேந்திரன் முன்னிலையில் ஆஜர்படுத்தினர். அவரை 15 நாள் காவலில் திருச்சி மத்திய சிறையில் அடைக்க மாஜிஸ்திரேட் உத்தரவிட்டார்.

தமிழ்நாட்டைச் சேர்ந்த ஒருவர் ஜெனஸ்ஜ உளவாளியாக கைது செய்யப்பட்டுள்ளது இதுவே முதன் முறையாகும்.



குஜராத் முதல்வர் நரேந்திர மோடி தன் 63வது பிறந்த நாளை முன்னிட்டு, காந்தி நகரில், தன் தாயாரிடம், ஆசீர்வாதம் பெற்றார்.

## திருச்சியில் பள்ளி வாகனத்திலிருந்து விழுந்து ஐந்து வயது சிறுவன் பரிதாபமாக பலி!

திருச்சியில் பள்ளி வாகனத்திலிருந்து கிஷோர் என்ற 5 வயது மாணவன் தவறி விழுந்து பலியான சம்பவம் பரபரப்பை ஏற்படுத்தியுள்ளது.

கிஷோர் திருச்சி துறையூரில் இருக்கும் விக்கனேஷ் வித்யாலயா பள்ளியில் யு.கே.ஜி..படித்து வந்தான்.

நேற்று காலை வழுக்கம் போல் பள்ளி வாகனத்தில் ஏறியிருக்கிறான். கிளீனர் அமரும் இடத்தில் கிளீனர் அமர்ந்து பயணித்தான்.


அப்போது அருகே இருந்த கதவு சரியாக மூடப்படாமல் திறந்ததை அடுத்து மாணவன் கிஷோர் தவறி விழுந்தான்.

ஓடும் வாகனத்தில் இருந்து கீழே விழுந்ததில் மாணவன் தலையில் பலத்த காயம் ஏற்பட்டிருக்கிறது. உடனடியாக மருத்துவமனைக்கு கொண்டு செல்லப்பட்ட மாணவனை பரிசோதித்த மருத்துவர்கள் மாணவன் இறந்து விட்டதாக தெரிவித்தனர்.

இதனால் மருத்துவமனை மற்றும் பள்ளியை சுற்றி பெற்றோர்கள், பொதுமக்கள் போராட்டத்தில் ஈடுபட்டிருக்கின்றனர்.

தொடரும் அவலம்: கடந்த யூ 25ம் திகதியன்று தாம்பரத்தில் உள்ள சீயோன் பள்ளி பேருந்தில் பயணம் செய்த 2ம் வகுப்பு மாணவி ஸ்ருதி, பேருந்துக்குள் இருக்கைக்கு அடியில் ஓட்டை வழியாக கீழே விழுந்து உயிரிழந்தார். இந்த சம்பவத்திற்குப் பின்னர் தமிழக அரசு பள்ளி பேருந்துகளில் கடைபிடிக்கப்பட வேண்டிய விதிமுறைகளை சென்னை உயர்நீதிமன்றத்தில் சமர்ப்பித்தது.

அதிக கெடுபிடிக்கக் கொண்ட புதிய விதிமுறைகள் அமலுக்கு வந்துவிட்ட நிலையிலும் மீண்டும் விபத்து நடந்திருப்பது தமிழ்நாட்டில் அதிர்ச்சியை ஏற்படுத்தியுள்ளது.



கிறேன் என்றும் தேவ கௌடா உறுதியளித்தார்.

# முலாயம் பிரதமராவதற்கு வரவேற்பு: முன்னாள் பிரதமர் தேவ கௌடா

மத்திய அமைச்சரவையில் 3வது அணி அமைத்து, ஆட்சியைப் பிடித்து முலாயம் சிங் பிரதமரானால் வரவேற்பேன் என்று முன்னாள் பிரதமர் தேவ கௌடா தெரிவித்தார்.

இந்திய அரசியலை பொறுத்த வரை காங்கிரஸ், பாரதிய ஜனதா கட்சி ஆகியவை மத்திய அமைச்சரவையில் ஆட்சி புரிந்ததை மக்கள் பார்த்துள்ளனர்.

ஆனால் 3வது அணிக்கு முலாயம் சிங் தலைமை ஏற்க வேண்டும் என்பதே தன் விருப்பமென தேவ கௌடா கூறியுள்ளார்.

இப்போது பாஜக, காங்கிரஸ் கட்சிகளின் மீது வாக்காளர்கள் அதிருப்தியில் உள்ளனர். எனவே, 3வது அணியின் மீது அவர்களுக்கு நம்பிக்கை ஏற்பட்டுள்ளது.

3வது அணிக்கு முலாயம் சிங் தலைமை ஏற்று, பிரதமர் வேட்பாளரானால் அவருக்கு எங்களது முழு ஆதரவையும் தர விரும்புகிறேன் என்றும் தேவ கௌடா உறுதியளித்தார்.

# இணுவில் இந்துவின் வெற்றிக்கிண்ணம்: அருள் விளையாட்டுக்கழகம் சம்பியன்

வலிகாமம்

இணுவில் இந்து விளையாட்டுக் கழகம் 7வது நிறைவையொட்டி நடத்திய 17 வயதுப் பிரிவினாகளுக்க இடையே நடத்திய மென் பந்து கிரிக்கெட் போட்டி ஆட்டத்தில் இணுவில் இந்து விளையாட்டுக் கழகம் சம்பியனாக தெரிவு செய்யப்பட்டது.

இணுவில் மத்திய கல்லூரி மைதானத்தில் ஞாயிற்றுக்கிழமை இடம் பெற்ற இறுதிப் போட்டியில் அருள் விளையாட்டுக்கழக அணியும் எவரெஸ்ட் விளையாட்டக் கழக அணியும் மோதிக் கொள்ளின.

முதலில் துடுப்பெடுத்தாடிய அருள் விளையாட்டுக்கழகம் 5 ஓவர்கள் நிறைவில் 4 விக்केட்

டுக்களை இழந்து 66 ஓட்டங்களை பெற்றது.

சர்மில் 10 நிலுஜன் 17 விதரன்18 ஓட்டங்களை பெற்றார்கள்.

எவரெஸ்ட் விளையாட்டுக்கழகத்தைச் சேர்ந்த எஸ்.தர்சன், கத்சன், கே.தர்சன் முறையே 6,15, 18 ஓட்டங்களைக் கொடுத்த தலா ஒரு விக்केட்டைக் கைப்பற்றினார்கள்.

67 ஓட்டங்களை வெற்றி இலக்காகக் கொண்டு பதிலுக்கு துடுப்பெடுத்தாடிய எவரெஸ்ட் விளையாட்டுக்கழகம் 4.2 ஓவர்களில் அனைத்து விக்केட்ட்களையும் இழந்து 39 ஓட்டங்களை பெற்றது.

அருள் விளையாட்டுக் கழகத்தைச் சேர்ந்த விதரன் 2 ஓவர்கள் பந்து வீசி 12 ஓட்டங்களுக்கு 3 விக்केட்டுக்களையும்



சர்மில் 6 ஓட்டங்களுக்கு ஒரு விக்केட்டையும் கைப்பற்றினார்கள்.

போட்டியின் ஆட்ட நாயகனாக அருள் விளையாட்டுக்கழகத்தைச் சேர்ந்த விதரன் தெரிவு செய்யப்பட்டார். சம்பியன் கிண்ணத்தை வேலணை பிரதேச செயலக கணக் காள் ப.கஜேந்திரன் வழங்கி கௌரவித்தார்.

# தடைக்கு எதிராக வழக்கு தொடர்கிறார் - பூபதி

இந்திய ரென்னிஸ் சங்கம் விதித்துள்ள தடையை எதிர்த்து வழக்குத் தொடர ரென்னிஸ் வீரர் மகேஷ் பூபதி முடிவு செய்துள்ளதாகத் தெரிகிறது.

மகேஷ் பூபதி, ரோஹன் போபண்ணா ஆகியோர் 2014 ஜூன் வரை இந்திய அணிக்கு தேர்வு செய்யப்பட மாட்டார்கள் என்று அகில இந்திய டென்னிஸ் சங்கம் (ஐஐரிஏ) தெரிவித்தது.

ரென்னிஸ் சங்கம் வலியுறுத்திய நிலையிலும் ஒலிம்பிக் போட்டியில் லியாண்டர் பயஸுடன் சேர்ந்து விளையாட மாட்டோம் என்று இவர்கள் இருவரும் மறுத்ததே இந்த தடைக்குக் காரணம்.

இந்நிலையில் மும்பையில் திங்கட்கிழமை செய்தியாளர்களிடம் பேசிய பூபதி இது தொடர்பாகக் கூறியது: இந்தியாவுக்காக போபண்ணா 10 ஆண்டுகள் வரை ரென்னிஸ் விளையாடியுள்ளார். நான் 18 ஆண்டுகளாக நாட்டுக்காக போட்டிகளில் பங்கேற்று வருகிறேன்.

இந்நிலையில் எங்களுக்கு எதிராக மிகக்கடுமையாக ரென்னிஸ் சங்கம் நடந்து கொண்டுள்ளது. இது ஏற்படையதே அல்ல.



எனவே இது தொடர்பாக எனது தரப்பில் என்ன நடவடிக்கை எடுப்பது என்பது குறித்து, முக்கியமாக சட்டரீதியாக இந்த விடயத்தை அணுகுவது குறித்து தீவிரமாக ஆலோசித்து வருகிறேன்.

விரைவில் இது தொடர்பாக முடிவை அறிவிப்பேன் என்றார்.

உங்கள் மீதான நடவடிக்கை, ரென்னிஸ் சங்கத்தின் பழி வாங்கும் போக்கு என்று நினைக்கிறீர்களா? என்ற கேள்விக்கு, "ஆம் அப்படித்தான் நினைக்கிறேன்" என்றார் பூபதி.

# எனது 'போர்ம்' குறித்து கவலையடைகிறேன்

கடந்த சில வாரங்களாக தனது "போர்ம்" குறித்து சிறிது கவலை காணப்படுவதாக பாகிஸ்தான் அணியின் சகலதுறை வீரர் ஷகித் அப்ரிடி தெரிவித்துள்ளார். இந்தியாவிற்கெதிரான நேற்று முன்தினம் நடந்த பயிற்சிப் போட்டியிலும் சிறப்பான பெறுபெற்ற அவர் வெளிப்படுத்தியிருக்காத நிலையிலேயே அவர் இவ்வாறு தெரிவித்துள்ளார்.

இப்போட்டியில் 4 ஓவர்களில் 41 ஓட்டங்களை விட்டுக்கொடுத்திருந்த ஷகித் அப்ரிடி, துடுப்பெடுத்த தாடும்போது ஓட்டமெதையும் பெறாது ஆட்டமிழந்திருந்தார்.


இந்நிலையில் நேற்றைய போட்டியின் திறமை வெளிப்பாடுகள் குறித்து ஏமாற்றமடைந்துள்ளதாகத் தெரிவித்த ஷகித் அப்ரிடி, கடந்த சில வாரங்கள் தனக்கு மோசமான வாரங்களாக அமைந்துள்ளதாகத் தெரிவித்தார். எனினும் உலகக் கிண்ண ருவென்ரி-20 தொடரில் தன்னால் மிகச்சிறப்பாகச் செயற்பட முடியும் எனவும் அவர் நம்பிக்கை வெளியிட்டார்.

கடந்த சில வாரங்களாக அப்ரிடி அவ்வளவு சிறப்பான திறமை வெளிப்பாடுகளை மேற்கொண்டிருக்காத நிலையில் அணியில் அவரது இடம் தொடர்பான கேள்வியும் எழுந்திருந்தது. எனினும் கருத்துத் தெரிவித்த அப்ரிடி, அனைத்து சிரஷ்ட வீரர்களும் இவ்வாறான மோசமான "போர்ம்"ல் மாட்டிக் கொள்வதாகவும், அதேபோலேயே தானும் மோசமான "போர்ம்"ல் காணப்படுவதாகத் தெரிவித்தார்.

இவ்வாறான சோதனைக்காலங்கள் அனைவருக்கும் ஏற்படுவதாகத் தெரிவித்த ஷகித் அப்ரிடி, சில மிகப்பெரிய வீரர்கள் தாங்கள் சிறப்பாகச் செயற்படாத போது அழுதிருந்ததையும் தான் கண்டுள்ளதாகத் தெரிவித்தார்.

தனது "போர்ம்" குறித்துத் தான் கவலையடைந்துள்ளதாகத் தெரிவித்த ஷகித் அப்ரிடி, எனினும் தன்னால் மீள்வருகையொன்றைப் புரிய முடியும் எனவும் தெரிவித்தார்.

உலகக் கிண்ண ருவென்ரி-20 தொடரில் தன்னால் முக்கியமான பங்கை வகிக்க முடியும் எனவும் அவர் தெரிவித்தார்.



ஊம் தன்னால் மீள்வருகையொன்றைப் புரிய முடியும் எனவும் தெரிவித்தார்.

உலகக் கிண்ண ருவென்ரி-20 தொடரில் தன்னால் முக்கியமான பங்கை வகிக்க முடியும் எனவும் அவர் தெரிவித்தார்.

# சச்சினை ஓய்வு பெற வற்புறுத்த கூடாது -லாரா

இந்திய கிரிக்கெட் அணியின் நட்சத்திர துடுப்பாட்ட வீரரான சச்சின் டெண்டுல்கர் கிரிக்கெட்டிலிருந்து ஓய்வு பெற வேண்டும் என்று பலரும் கருத்து தெரிவித்து வருகின்றனர். இந்நிலையில் மேற்கிந்திய தீவுகள் அணியின் முன்னாள் முன்னணி வீரர்களில் ஒருவரான பிரான் லாரா, டெண்டுல்கருக்கு ஆதரவாக

குரல் எழுப்பியுள்ளார்.

கொழும்பில் நடைபெற்ற ஐ.சி.சி. விருது வழங்கும் விழாவில் லாரா கூறுகையில், டெண்டுல்கர் இந்திய கிரிக்கெட்டுக்கு மட்டுமின்றி, சர்வதேச கிரிக்கெட் உலகிற்கும் சொத்து போன்றவர்.

ஓய்வுபெற வேண்டிய சரியான நேரம் எது என்பது அவருக்கு தெரியும் என்று நான் நம்புகிறேன்.



# சர்வதேச ரென்னிஸ் தரவரிசை பெடர், அகதிரங்கா முதலிடத்தில்

சர்வதேச ரென்னிஸ் சம்மேளனத்தால் வெளியிடப்பட்டுள்ள புதிய ரென்னிஸ் தரப்படுத்தலில் ஆண்கள் பிரிவில் சுவீற்சர்லாந்தின் ரொஜர் பெடர், பெண்கள் பிரிவில் பெலாரசின் விக்டோரியா அஷரெங்கா தொடர்ந்தும் முதலிடத்தில் காணப்படுகிறனர்.

ஆண்கள் பிரிவில் நொவக் ஜோக்கோவிச் இரண்டாமிடத்திலும், அன்டி முர்ரே மூன்றாமிடத்திலும், ரபேல் நடால் நான்காமிடத்திலும் காணப்படுகின்றனர்.

பெண்கள் பிரிவில் அண்மையில் ஐக்கிய அமெரிக்க பகிரங்க டென்னிஸ் சம்பியன் பட்டத்தை வெற்றிகொண்ட ஐக்கிய அமெரிக்காவின் செரினா வில்லியம்ஸ் தொடர்ந்தும் 4ஆம் இடத்திலேயே காணப்படுகிறார்.

**வெளியிடப்பட்டுள்ள தரப்படுத்தல் முடிவுகள்:**

**ஆண்கள்:** ரொஜர் பெடர், நொவக்



ஜோக்கோவிச், அன்டி முர்ரே, ரபேல் நடால், டேவிட் பெர், தொமஸ் பேர்டிச், ஜோ வில்பிரட் சொங்கா, ஜுவன் மார்ட்டின் டெல் போட்ரோ, ஜங்கோ ரிப்சர்விக், ஜோக் இஸ்னர்.

**பெண்கள்:**

விக்டோரியா அஷரெங்கா, மரியா ஷெரபோவா, அக்னியஸ்கார்ட்வன்ஸ்கா, செரியா வில்லியம்ஸ், பெட்ரா குவிர்தோவா, அன்ஜெலிக் கேர்பர், சாரா எரானி, லீ நா, சமந்தா சொற்சொர், மரியன் பார்ட்டோரி.



தேசிய மட்டத்தில் இடம்பெற்ற உதைபந்தாட்டப் போட்டியில் இரண்டாம் இடத்தைப் பெற்றுக்கொண்ட மானிப்பாய் இந்துக் கல்லூரி உதைபந்தாட்ட அணி வீரர்களுக்கு நேற்று (செவ்வாய்க்கிழமை) கல்லூரியின் பழைய மாணவர்களினால் அளிக்கப்பட்ட கௌரவிப்பின்போது வலயக்கல்விப் பணிப்பாளரின்மூலம் கேடயம் வழங்கப்படுவதையும் விருந்தினர்களுடன், அணிவீரர்களையும் படத்தில் காணலாம். (அளவெட்டி)

இப்பத்திரிகை இன்.போய்டியா பிரைவேட் லிமிட்டெட் நிறுவனத்தினால் இல.267, நாலவர் வீதி, யாழ்ப்பாணம் என்ற முகவரியிலுள்ள தமது அச்சகத்தில் 19.09.2012 இல் அச்சிட்டு வெளியிடப்பட்டது

# 160 எடுத்தால் வெற்ற்தான்

- சனத்

இலங்கையின் முன்னாள் அதிரடி வீரர் ஜெயகூர்யா கூறுகையில், இம்முறை ஆசிய அணிகளான இலங்கை, இந்தியா, பாகிஸ்தான் ஆகிய அணிகளில் ஒன்றுதான் பட்டம் வெல்ல வாய்ப்புள்ளது. எந்த அணியாக இருந்தாலும் 160 ஓட்டங்களை எடுத்தால் நிச்சயம் நெருக்கடி கொடுக்கலாம். துணை கண்டங்களில் உள்ள ஆடுகளங்களில் 160 ஓட்டங்களுக்கு மேல் உள்ள இலக்கை எட்டுவதற்கு போராட வேண்டும் என்றார்.