

உதயன்

விலை ரூபா 7.00

சுடர் 17 வள்ளுவர் ஆண்டு 2033 ஆனி 28 வெள்ளிக்கிழமை (12-07-2002) UTHAYAN - A Lively National Tamil Daily கதிர்: 229

அமைதி முயற்சி குறித்து ரணில் புஷ்டன் நேரடியாகப் பேச்சு!

அமெரிக்காவில் விரைவில் சந்திப்பு

பிரதமர் ரணில் விக்கிரமசிங்க விரைவில் அமெரிக்காவுக்கு விஜயம் செய்கின்றார். இலங்கையின் இனப்பிரச்சனைக்குத் தீர்வு காண்பதற்குத் தற்போது முன்னெடுக்கப்பட்டு வரும் சமாதான முயற்சிகள் குறித்து அமெரிக்காவில் ஜனாதிபதி ஜோர்ஜ் டபிள்யூ புஷ்டுக்கு இலங்கைப் பிரதமர் ரணில் விக்கிரமசிங்க நேரில் விளக்கமளிப்பார். இலங்கையில் முன்னெடுக்கப்படும் சமாதான முயற்சிகளை அறிவதில் அமெரிக்க ஜனாதிபதி புஷ்டு மிகுந்த ஆர்வமாக இருக்கின்றார். இதன் காரணமாகவே இலங்கைப் பிரதமர் ரணில் விக்கிரமசிங்கவைச் சந்திப்பதற்கான கோரிக்கைக்கு எந்தவிதமான மறுப்பும்தெரிவிக்காமல் அவர் இலங்கினார். இவ்வாறு தெரிவித்தார் அமைச்சரவைப் பேச்சாளர் பேராசிரியர் ஜி.எல்.பிரிஸ். நேற்று, அரசு தகவல் திணைக்களத்தில் இடம்பெற்ற பத்திரிகையாளர் சந்திரிப்பேட்டி (14ஆம் பக்கம் பார்க்க)

கல்முனையில் புல் உறுப்பினர் அதிரடிப் படையினரால் கைது!

காரைதீவு, ஜூலை 12 காலை 12 மணிக்கு அங்குள்ள கல்முனைப் புல் உறுப்பினர் மங்கையன் கல்முனைப் பொலீஸரிடம் ஒப்படைக்கப்பட்டார். பின்னர் அவர் நீதிமன்றத்தில் ஆஜர் செய்யப்பட்டு பிணையில் விடுதலை செய்யப்பட்டார். இச்சம்பவம் நேற்று நண்பகல் கல்முனையில் இடம்பெற்றது. 'ஆள்கடத்தல்' குற்றச்சாட்டின் பேரில் புல் உறுப்பினர் மங்கையன், வான் சாரதி சபாரத்தினம் கந்தரலிங்கம், வான்கிணின் சின்னத்தம்பி ரமேஸ் ஆகியோர் கல்முனைப் பொலீஸரிடம் ஒப்படைக்கப்பட்டனர். வானில் ஆயு (14ஆம் பக்கம் பார்க்க)

இந்திய வெளியுறவு அமைச்சர் பிரதமர் ரணிலை சந்தித்தார்!

சமாதான முயற்சிகள் குறித்தும் கலந்துரையாடினர். கொழும்பு, ஜூலை 12 உத்தியோகபூர்வ விஜயம் மேற்கொண்டு இந்திய வெளியுறவுத்துறை அமைச்சர் ஜஸ்வந்த் சிங் நேற்று கொழும்பு வந்து சேர்ந்தார். பிரதமர் ரணில் விக்கிரமசிங்கவை அவர் சந்தித்துப் பேசினார். தற்போதைய சமாதான முயற்சிகளில் ஏற்பட்டுள்ள முன்னேற்றம் தொடர்பாக பிரதமர், ஜஸ்வந்த் சிங் நேற்று விளக்கமளித்தார். அலரி மாளிகையில் நேற்று மாலை பிரதமருக்கும் சிங் நேற்றுவுக்கும் இடையிலான இந்தப் பேச்சுக்கள் இடம்பெற்றன. நேற்று நண்பகல் கட்டுநாயக்க விமான நிலையத்தில் வந்திறங்கிய இந்திய வெளிவிவகார அமைச்சரை வெளி விவகார அமைச்சர் டிரோன் பெர்னாண்டோ வரவேற்றார். (14ஆம் பக்கம் பார்க்க)

எமது உறுப்பினர்கள் இனி கைதானால் பதில் நடவடிக்கை எடுக்க வேண்டி வரும் திருமலை மாவட்ட தளபதி பதுமன் எச்சரிக்கை

தம்பலகாமம், ஜூலை 12 எமது உறுப்பினர்கள் இனிக் கைது செய்யப்பட்டால் குழந்தைகளுக்கு தகுந்த வார்ப்பதில் நடவடிக்கையை மேற்கொள்ள வேண்டி நேற்றும் என்று விடுதலைப் புலிகளின் திருமலை மாவட்டத் தளபதி பதுமன் தெரிவித்துள்ளார். திருகோணமலையில் நேற்று நடந்த கண்காணிப்புக் குழுவுடனான உயர்மட்ட சந்திப்பில் அவர் இப்படித் தெரிவித்தார். இந்தச் சந்திப்பில் யுத்தநிறுத்தக் கண்காணிப்புக் குழுத் தலைவர் ரொன்ட் பூரூவா, சமாதானச் செயலாளியைச் சேர்ந்த கலாநிதி குணசெகரத்தனா, விக்கிரமசிங்கம், விடுதலைப் புலிகள் தரப்பில் பதுமன், பதித்தேவன், திலக் ஆகியோர் கலந்து கொண்டனர். சம்பூரில் ஒன்றரை மணிநேரம் இடம்பெற்ற இந்தச் சந்திப்பில், முதுகில் நடந்த சம்பவங்கள், விடுதலைப் புலி உறுப்பினர்கள் கைது செய்யப்பட்ட சம்பவங்கள் ஆகியன தொடர்பாகக் கலந்துரையாடப்பட்டன. இதுவரை தமது தரப்பில் 8 பேராளிகள் கிழக்கில் கைது செய்யப்பட்டதாகவும் - எம்மை ஆத்திரமூட்டும் வகையில் இந்த நடவடிக்கைகள் அமைகின்றன என்றும் - இனிமேல் போராளிகள் கைது செய்யப்பட்டால் கரும் போக்கைக் கடைப்பிடிக்க வேண்டிய நிலை ஏற்படும் என்றும் - எனவே எமது போராளிகள் கைது செய்யப்படுவதை நிறுத்த வேண்டும் என்றும் - பதுமன் அங்கு தெரிவித்தார். இலங்கை அரசிடம் இது தொடர்பான உறுதியை பெற்றுத்தர வேண்டும் என்று அவர் கேட்டுக்கொண்டார். (ம-3-10-144-145)

சகாவை கொண்டு சீப்பாய் பின்னர் தற்கொலை!

காங்கேசன்குறையில் சம்பவம். வலிவடக்கு, ஜூலை 12 காங்கேசன்குறைய சிமெந்துத் தொழிற்சாலைப் பகுதியில் பணியாற்றிய சிப்பாய் ஒருவர் சக சிப்பாயைச் சுட்டுக் கொலைசெய்துவிட்டு, பின்னர் தன்னைத்தானே சுட்டுத் தற்கொலை செய்துள்ளார். இந்தச் சம்பவம் நேற்றுமுன்தினம் இரவு 8.30 மணிமளவில் இடம்பெற்றது. நான்காவது படைப்பிரிவைச் சேர்ந்த ரணசிங்க ஆரட்சிஸ்கே சுமீத் சயரசிங்க (வயது 28) என்ற சிப்பாய் தன்னுடன் பணியில் இருந்த சிப்பாயான உம்கம்ப தேவயலகே அணுரத்த குணசிறி (வயது 29) என்பவரை சுட்டுக் கொலை செய்ததாகவும் - அதன் பின்னர் தன்னைத் தானே சுட்டு அவர் தற்கொலை செய்ததாகவும் - விசாரணைகளில் தெரிவிக்கப்பட்டது. இருவருக்கும் இடையில் ஏற்பட்ட வாய்த்தர்க்கம் முற்றி இந்தச் சம்பவம் இடம்பெற்றுள்ளது என்று கூறப் பட்டது. (14ஆம் பக்கம் பார்க்க)

தென்மராட்சியில் திங்களன்று எதிர்ப்புப் பேரணி நடத்த முடிவு

சாவகச்சேரி, ஜூலை 12 புரிந்துணர்வு உடன்பாட்டில் உள்ள விடயங்களை துரிதமாக நடைமுறைப்படுத்தி, சமாதானத்தை விரைவில் கட்டி எழுப்புமாறு கோரி தென்மராட்சியில் எதிர்வரும் திங்கட் கிழமை பேரணி ஒன்று நடத்தப்பட விருக்கிறது. சாவகச்சேரி இந்துக் கல்லூரியில் நேற்று நடந்த பொது அமைப்புக்களின் பிரதிநிதிகளுக்கான கலந்துரையாடலில் இந்தப் பேரணி குறித்து முடிவு செய்யப்பட்டது. தென்மராட்சி மக்கள் நலச்சேவைகள் சங்கத்தால் ஏற்பாடு செய்யப்பட்டுள்ள இந்தப் பேரணி சாவகச்சேரி இந்துக் கல்லூரி முன்பிருந்து ஆரம்பமாகும் நகர வீதிகள் ஊடாகச் சென்று தென்மராட்சிப் பிரதேச செயலகத்தில் முடிவடையும். தென்மராட்சிப் பிரதேசத்தில் பொதுமக்கள் குடியிருப்புக்களில் படைப்பினர் முகாமிட்டிருப்பது, - விவசாய நிலப்பரப்பில் நெல் விதைக்க விதிக்கப்பட்டுள்ள தடை-ஆகியவற்றைக் கண்டித்தும் இப் பேரணி நடத்தப்படவிருப்பதாகத் தெரிவிக்கப்பட்டது. (ம-3-31)



சென்னை, ஜூலை 12 அமெரிக்காவிலிருந்து மும்பாய் ஊடாக நேற்று மாலை சென்னை திருமய ம.தி.மு.க. பொதுச் செயலாளர் வைகோ பெரும் மரபரப்புக்கு மத்தியில் சென்னை விமான நிலைய வாசலில் வைத்து விசேட பொலீஸரினால் கைது செய்யப்பட்டார். விடுதலைப் புலிகளுக்கு ஆதரவாகப் பேசியதற்காக, வைகோவுக்கு

வைகோ கைது!

எதிராக, 'பொ' சுட்டத்தின் கீழ் பிணையில் வெளிவரமுடியாத கைது உத்தரவை திருமயங்கலம் நீதிமன்றம் பிறப்பித்திருந்தது தெரிந்ததே அந்த உத்தரவின் கீழேயே வைகோ நேற்று கைது செய்யப்பட்டார். அமெரிக்கா சென்றிருந்த, வைகோ நேற்று அதிகாலை மும்பாய் திரும்பினார். மும்பாய் விமான நிலையத்தில் வைத்து அவரைத் தமிழகப் பொலீஸர் கைது செய்தனர் என எதிர்பார்க்கப்பட்டது எனினும் அப்படி எதுவும் நடக்கவில்லை. ஆனால் அவரை சென்னை விமான நிலையத்தில் வைத்துக் கைது செய்வதற்கான ஏற்பாடுகளை தமிழக அரசு முழு அளவில் செய்திருந்தது. விமான நிலையத்தில் மூன்று கம்பனி அதிரடிப் பிர்வு பொலீஸர் குவிக் கப்பலிருந்தனர். முன்னெச்சரிக்கை நடவடிக்கையாக தமிழகம் எங்கும் முயற்சிக்குக்கும் அதிகமான ம.தி.மு.க. தலைவர்களும் தொண்டர்களும் கைது செய்யப்பட்டனர். விமான நிலையச் சுற்றாடலுக்குள் பிரவேசித்த ம.தி.மு.க. அனைவரும் கைதுசெய்யப்பட்டனர். நேற்றுக்காலை மும்பாயிலிருந்து சென்னைக்கு வைகோ பயணம் செய்ய விருந்த விமானம் தொழில்நுட்பக் கோளாறு காரணமாகப் புறப்படுவது தாமதமானது. வைகோ வேறு விமானத்தில் புறப்பட்டு நேற்று மாலை 4.30 மணியளவில் சென்னை வந்திருக்கினார். மாலை 5.15 மணிமளவில் அவர் விமானநிலையத்தை விட்டு வெளியே வந்தார். நேற்றுக் காலை முதல் வைகோவை எதிர்பார்த்து விமான நிலையத்தில் பெருங்கூட்டமாகக் காத்து நின்ற பொலீஸர் அவரை உடனே கைது செய்தனர். அவரை, தமது வானில் ஏற்றிய பொலீஸர் பலத்த பாதுகாப்பு போட அந்த வாகனத்திலேயே அவரை திருமயங்கலத்துக்குக் கூட்டிச் சென்றனர். இன்று காலை அவர் திருமயங்கலம் நீதிமன்றத்தில் ஆஜர் செய்யப் பட்டார். (14ஆம் பக்கம் பார்க்க)






புலமைப்பரிசில் பயிற்சிப் பரீட்சை - 2002
மாதிரி வினாத்தாள் இல. - 2

பகுதி 1

தரம் 5 நேரம்: - 45 நிமிடம்

★ 01 முதல் 03 வரையுள்ள வினாக்களில் தரப்பட்ட உருவங்களுடன் தொடர்பற்ற சொல்லின் கீழ் கீறிடுக.

01.  1. ஒளி 2. ஒலி 3. வெப்பம் 4. இயற்கை
02.  1. கல்வி 2. நூல் 3. உடை 4. அறிவு
03.  1. நறுமணம் 2. தேன் 3. அழகு 4. கண்

★ 04-06 வரையுள்ள வினாக்களில், குறிப்பிட்ட ஒன்றைப் பற்றிய விவரங்கள் தரப்பட்டுள்ளன. அவை குறிக்கும் சரியான விடையின் இலக்கத்தை அடைப்புக் குறிக்குள் எழுதுக.

04. ★ மின்சாரத்தால் இயங்கும்.
★ தகவல்களைப் பெற்றுக்கொள்ளலாம்.
★ சிறுவர்களுக்கு இதில் பிரியம் அதிகம்.
★ கட்டில், செவிப்புலச் சாதனங்களில் ஒன்று.
1. வானொலி 2. தொலைபேசி 3. பத்திரிகை 4. தொலைக்காட்சி

05. ★ மனித, உயிரின வாழ்விற்கு மிக அவசியம்.
★ பூமியின் பசுமைக்கு உதவுகின்றன.
★ தாமதமே உணவைத் தயாரிக்கின்றன.
★ மழை பெய்வதற்கும் இவை துணை புரிகின்றன.
1. வானம் 2. கடல் 3. தாவரங்கள் 4. முகில்கள்

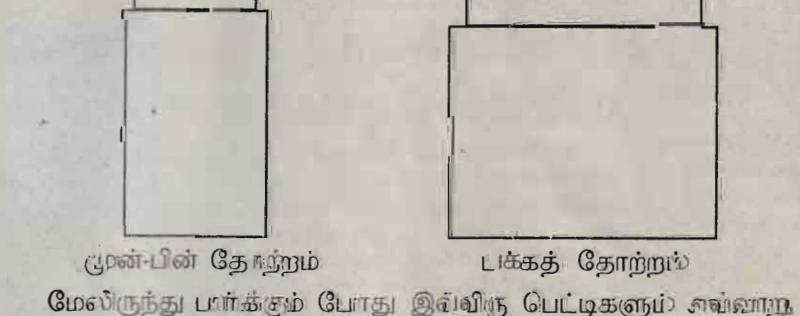
06. ★ பூமியின் அதிக பகுதி இதனால் சூழப்பட்டுள்ளது.
★ உயிரின வாழ்விற்கு மிக அவசியமாகும்.
★ மூன்று நிலைகளில் இது காணப்படலாம்.
★ மீன்கள் இது இல்லாதது உயிர் வாழமுடியாது.
1. உணவு 2. நீர் 3. நிலம் 4. பால்

★ 07-10 வரையுள்ள வினாக்களில் முதலாவதாகத் தரப்பட்டுள்ள பொருளிலிருந்து ஏனைய நான்கு பொருள்களிலும் முன்று உருவாக / உருவாக்கக் கூடியன. ஒன்று உருவாக / உருவாக்க முடியாது. அதனைத் தெரிவித்து அதன் இலக்கத்தைப் புள்ளிக் கோட்டில் எழுதுக.

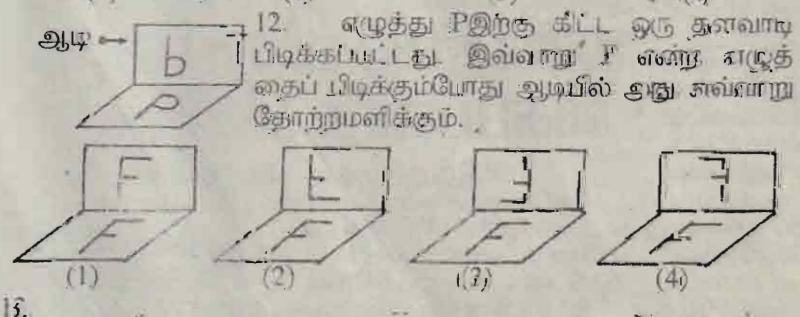
07. **முட்டை** → **கோழி** **பாம்பு** **குயில்** **முயல்** (.....)
- (1) (2) (3) (4)
08. **நீர்** → **நீராவி** **பனிக்கட்டி** **புனல்** **குடுநீர்** (.....)
- (1) (2) (3) (4)
09. **மண்** → **சட்டி** **கூடகம்** **பானை** **பிங்கான்** (.....)
- (1) (2) (3) (4)
10. **வித்து** → **வேம்பு** **பயறு** **லாழை** **வெண்டி** (.....)
- (1) (2) (3) (4)

★ 11-15 வரையுள்ள வினாக்களில் சரியான விடையின் கீழ்க் கோடிடுக

i. மாதவன் சிறிய பெட்டியொன்றைப் பெரிய பெட்டியொன்றினுள் இட்டான். பின்னர் அதன் தோற்றங்களை முன்னாகவும் பின்னாகவும் பக்கமொன்றும் இருந்து வரைந்தான்.



- முன்-பின் தோற்றம் பக்கத் தோற்றம்
- மேலிருந்து பார்க்கும் போது இவ்விரு பெட்டிகளும் எவ்வாறு தோற்றமளிக்கும்?
- (1) (2) (3) (4)



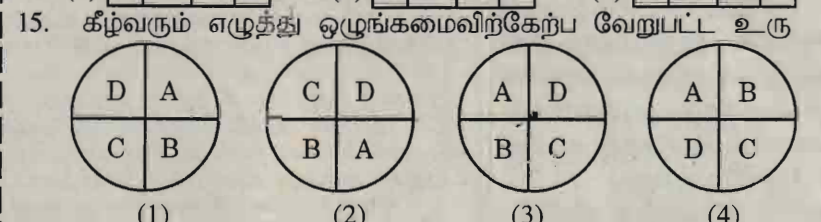
12. எழுத்து Pஇற்கு கிட்ட ஒரு தளவாய் பிடிக்கப்பட்டது. இவ்வாறு P என்ற எழுத்தைப் பிடிக்கும்போது ஆடியில் ஆடி எவ்வாறு தோற்றமளிக்கும்?
- (1) (2) (3) (4)
13. 1 2 3

நர்மதன் தீக்குச்சிகளைப் பயன்படுத்தி ஒரு கோலத்தில் அமையுமாறு செவ்வகங்கள் அமைத்தான். முதலாவது செவ்வகம் இரண்டு தீக்குச்சிகள் நீளமானது. இரண்டாவது செவ்வகம் மூன்று தீக்குச்சிகள் நீளமானது. மூன்றாவது செவ்வகம் 4 தீக்குச்சிகள் நீளமானது. 10 தீக்குச்சிகள் நீளமான செவ்வகத்தை அமைக்க நர்மதனுக்கு எத்தனை தீக்குச்சிகள் தேவை?

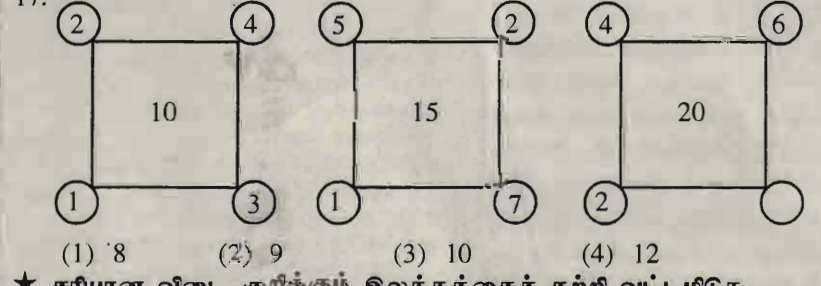
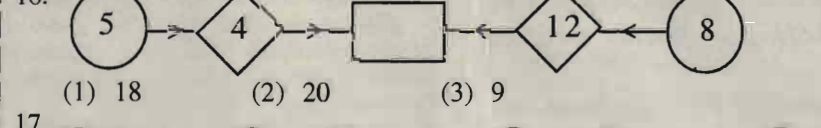
(1) 18 (2) 25 (3) 38 (4) 42

14. MEAT என்பதை $\begin{matrix} 4 & 9 & 6 & 8 \end{matrix}$ என எழுதப்பட்டால் TEAM என்பதை எழுதப்படும் விதம்?

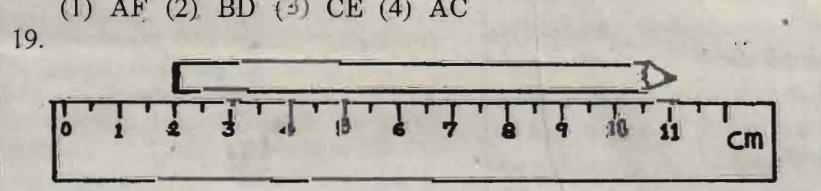
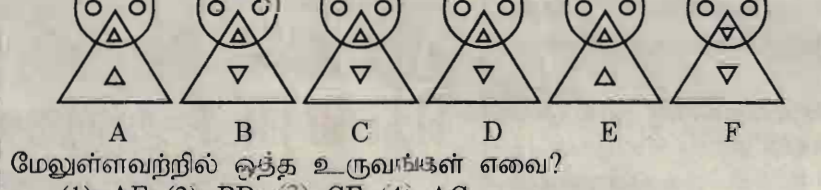
(1) $\begin{matrix} 4 & 6 & 9 & 8 \end{matrix}$ (2) $\begin{matrix} 8 & 4 & 9 & 6 \end{matrix}$ (3) $\begin{matrix} 8 & 9 & 6 & 4 \end{matrix}$



★ கீழ்வரும் எண்கோலங்களின் அமைவினை அவதானித்து வெற்றிடங்களில் வரவேண்டிய விடையின் கீழ்க் கீறிடுக.

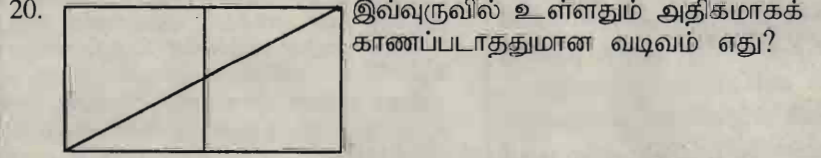


★ சரியான விடை குறிக்கும் இலக்கத்தைச் சுற்றி வட்டமிடுக.



19. மேலுள்ள பென்சிலின் நீளம் யாது?

(1) 11cm (2) 12cm (3) 9cm (4) 10cm



- (1) செவ்வகம் (2) சதுரம் (3) முக்கோணி (4) வட்டம்

★ கீழள்ள ஒவ்வொரு வினாவுக்கும் முறையே முன்று விடைகள் தரப்பட்டுள்ளன. அவற்றுள் பொருத்தமான விடையின் கீழ்க் கோடிடுக.

21. நாம் நாயை வீடுகளில் வளர்ப்பது?
(1) நாய் நன்றியுள்ள மிருகம் என்பதால்.
(2) நாய் காட்டில் வாழமுடியாது என்பதால்.
(3) நாய் வீட்டைக் காக்கும் என்பதால்.
22. கண்ணுக்குக் கண்ணாடி அணிவது?
(1) வெப்பத்திலிருந்து கண்களைக் காப்பாற்றுவதற்கு.
(2) கண்பார்வைக் குறைவை நீக்குவதற்கு.
(3) கண்ணாடி அணிவது அழகு என்பதால்.
23. நாம் கல்வி கற்பதற்குக் காரணம்?
(1) எல்லோரும் கல்வி கற்பதால்.
(2) பாடசாலைகள் கட்டியிருப்பதால்.
(3) அறிவை வளர்ப்பதற்காக.

★ சரியான விடையின் கீழ்க் கீறிடுக.

24. விசைவிட அளவில் 30 ரூபா குறைய வைத்திருந்தான். அவர்கள் இருவரிடமும் கொடுத்ததாக 90 ரூபா இருந்தால் அனிஸிடம் எத்தனை ரூபா திருக்கும்?

(1) 45 ரூபா (2) 30 ரூபா (3) 120 ரூபா (4) 60 ரூபா

25. ஒரு வட்டப் பாதையின் நடுவில் நின்று பார்க்கும்போது மேற்குத் திசையில் நிற்றும் ஒருவர் இடது கூடியாக அரைவட்டம் சென்று நின்றுள்ளார். தற்போது அவர் நிற்றும் திசை
(1) வடக்கு (2) கிழக்கு (3) தெற்கு (4) மேற்கு


26. தற்போது கம்சனினதும் அட்சனிதும் வட்டங்களின் கூட்டுத்தொகை 40 வருடங்கள் ஆகும். 5 வருடங்களுக்கு முன்பு இவர்கள் இருவரும் வயதின் கூட்டுத்தொகை என்ன?
(1) 30 (2) 15 (3) 35 (4) 25

★ கீழ்வரும் வினாக்களில் நான்கு சொற்களின் எழுத்துக்கள் குழம்பிக் கிடக்கின்றன. ஒவ்வொன்றையும் ஒழுங்குபடுத்துகின்ற அவற்றில் ஒன்று வேறுபட்டிருக்க காணப்படும். அதன் இலக்கத்தை அடைப்புக்குள் எழுதுக.

27. (1) ம:தா:ரை (2) அ:லி:ல் (3) ர:சு:ங்கு (4) ஐ:லி:ம:ல்
28. (1) ஸ்ம:ச:ஞ் (2) க:ம்:மு (3) ல:ம்:நீ (4) று:க:ப:ய்

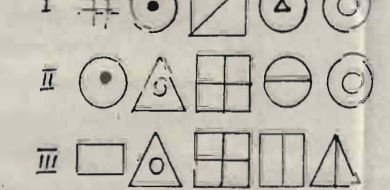
29. (1) யி,ம,ல் (2) க,ம்,கா (3) கீழள்ள கூற்றுக்களில் எவ்வாறு தெரிந்து அதன் இலக்கத்தைக் கீறிடுக.
30. (1) பாடசாலையில் ஒரு வட்டம் இருந்தன. எனினும் அன்று ஒரு பாடசாலையில் இருந்தன. எனினும் தண்ணீர் தெளிக்கப்பட்டது. இப்போது கண்பார்வை இழந்த மாண்பார்ந்து இரசித்தனர்
31. (1) தரம் 5 புலமைப் பரிசில் நேரம் 45 நிமிடங்கள் 6 செய்து முடித்தான் (2) தரம் 5 புலமைப் பரிசில் வினாத்தாள் II இற்கான எனினும் அதற்குத் தோல்வியில் செய்து முடித்தான் (3) தரம் 5 புலமைப் பரிசில் தாக்க வரும் மாணவனான

★ ஒரு விட்டில் வளர்க்கப்படுகின்ற தகவல்களைக் கீழள்ள உருவ வினாக்களுக்குரிய சரியான விடையைக் கீறிடுக.



32. அங்கு வளர்க்கப்படும் ஆடு (1) 20 (2) 15
33. அங்குள்ள பிராணிகளுக்கு இருக்கும்? (1) 80 (2) 104

★ 34-38 வரையுள்ள வினாக்களில் குறிப்பான இரகசியக் குறியீட்டை அடங்குரிய உருமொழி இலக்கத்தில் கீறிடுக.



34. குந்தகம் (.....) 37
35. சங்கரன் (.....) 38
36. சங்கமம் (.....)

★ அகிலமும் கோகிலமும் கிளி அருணமும் நாய் வளர்க்கின்ற புனை வளர்க்கின்றார்கள். கீழ்க் கீறிடுக.

39. கிளியையும் புனையையும் (1) அகிலன் (2) கோகிலன் (3) அருண்மன் (4) நாய்
40. நாயையும், புனையையும் (1) அகிலன் (2) கோகிலன் (3) அருண்மன் (4) நாய்

பகுதி 2

★ கீழ்வரும் பாடசாலை வாழ்க்கை விவரங்களுக்கு விடையளித்து தங்கத் தட்டுப் பெற்றுக் கொடுக்க தயக்கம் இல்லாமல் முயற்சி செய்து குளிர்ந்த காற்றுக்குள் இவ்வாறு குளிர்ந்த காற்றில் அலைக்கொண்டிட்டு உலகு மிடைக்கும் அழகான தோற்றம் அடைவீர்.

1. பாடலில் நிலவு எவற்றுக்கு காரணமாகிறது?
2. முகில்கள் எதனைத் தழுவுகின்றன?
3. கடலில் சிரிப்பது எது?

★ ஒத்த கருத்துள்ள சொல் எழுதுக

4. முகம் -
5. குளம் -

★ எதிர்க்கருத்துள்ள சொல் எழுதுக

8. (1) சிரிப்பு -
9. பாடலில் உள்ள உயிர்த்தொழில் எழுதுக

★ ஒவ்வொரு சொற்களின் எழுத்துக்கள் குழம்பிக் கிடக்கின்றன. ஒவ்வொன்றையும் ஒழுங்குபடுத்துகின்ற அவற்றில் ஒன்று வேறுபட்டிருக்க காணப்படும். அதன் இலக்கத்தை அடைப்புக்குள் எழுதுக.

10. வானம் -
11. முகில்கள் -
- ★ சொந்தமான கடைக்குச் சென்று பொருள்களை வாங்கிவர உதவுகின்ற தரப்பட்டுள்ளது.
- சீனி - 5 திலைகிராமம் சவர்க்காரம் - 2 டீசன் தேங்காய்பெண்ணெய் - 1 லிட்டர் உப்பு - 1 கைக்கீழ்
14. சொந்தமான வாங்கிய பொருள்
15. கடையில் வாங்கிய துணி எழுதுக.

(3) ரு,து,ப,ந் (4) ர,க,டி
 வாறேனும் நடக்கமுடியாத கூற்றைத்
 தை அடைப்புக்குள் எழுதுக.
 வகுப்பறையில் 40 கதிரைகள்
 அங்கு 41 மாணவர்கள் படித்தனர்.
 இரண்டு கிணறுகள் இருந்தன.
 தொட்டியில் நீர் இருக்கவில்லை.
 மாணவர்கள் கலை நிகழ்ச்சிகளைப்
 சில் பரீட்சை வினாத்தாள் Iஇற்கான
 எனினும் சுரபிகள் 35 நிமிடத்தில்
 சில் அரச இறுதிப் பரீட்சையில்
 நேரம் 1மணி 15 நிமிடங்கள்
 தாற்றிய சுருதிகள் 1 மணி 25 நிமி
 த்தான்.
 ல் பரீட்சையில், வகுப்பில் முதலாவ
 ன தூயவன் சித்தியடையவில்லை
 (.....)
 ன்ற கிரண்டு வகையான பிராணிகளின்
 ருவப் படத்தில் காணலாம். அதன்படி
 விடையின் கீழ்க் கோட்டுக.



பிராணிகளின் எண்ணிக்கை 40 எனில்
 யூடுகள் எத்தனை?
 (3) 65 (4) 12
 த மொத்தமாக எத்தனை கால்கள்
 (3) 160 (4) 100
 னில் தரப்பட்ட சொல் ஒவ்வொன்றுக்
 டை நரலில் இருந்து தெரிவுசெய்து
 கத்தைப் புள்ளிக் கோட்டில் எழுதுக.
 IV ⊕ ⊗ ⊙ ⊕ ⊕ ⊕
 V ⊙ ⊙ ⊕ ⊕ ⊕ ⊕
 37. வசந்தன் (.....)
 38. பங்கயம் (.....)

ள் வளர்க்கின்றார்கள். அமலையும்
 ன்றார்கள். கோலிலும் அருணையும்
 இதன்படி சரியான விடையின் கீழ்க்
 ம வளர்ப்பவன் யார்?
 (3) அமலன் (4) அருணன்
 வளர்ப்பவன் யார்?
 (3) அமலன் (4) அருணன்

ததி - 2
 நேரம்: 1மணி 15 நிமிடம்

து அதன் கீழ்க் கேட்கப்பட்டுள்ள
 புள்ளிக்கோட்டில் எழுதுக.
 போலவும்
 தைப் போலவும்
 திதக்குது
 தனைத் தழுவுது
 டுக்குது
 டுகள் சிரிக்குது
 திதக்குது
 க் கண்டு மகிழுது.
 கு உவமித்துக் கூறப்படுகின்றன?
 டுகின்றன?


எழுதுக.
 6. கடல் -
 7. அலைகள் -
 எழுதுக.
 ... (II) மகிழ்ச்சி -
 ணச் சொல் எது?
 துடி.
 11. சூளம் -
 13. மூகம் -
 ன்று விட்டுக்குத் தேவையான சில
 ான். அவற்றின் விவரம் கீழே

ஈழமிச்சம்பழம் - 6
 பருப்பு - 500 கிராம்
 மீற்றர் பால் - 1போத்தல்
 துணி - 3 1/2 மீற்றர்
 ன் அளவை மில்லிலீற்றரில் தருக.
 மில்லிலீற்றர்
 னியின் அளவை சென்ரிமீற்றரில்
 சென்ரிமீற்றர்

16. 1 கிலோகிராம் சீனியின் விலை 47ரூபா எனின் செந்தாளன்
 வாங்கிய சீனியின் மொத்தவிலை யாது?
 ரூபாசதம்
 17. 1 கிலோகிராம் பருப்பின் விலை 65 ரூபா எனின் செந்தாளன்
 வாங்கிய பருப்பின் பெறுமதி எவ்வளவு?
 ரூபாசதம்
 18. ஒரு பைக்கற் உப்பின் நிறை 375கிராம் ஆகும். அவ்வாறான
 12 பைக்கற் உப்பின் மொத்தநிறை யாது?
 கிலோகிராம்கிராம்
 19. 1 மீற்றர் துணி 95 ரூபா வீதமும், 1 டசின் சவர்க்காரம் 144
 ரூபா வீதமும் கடையில் விற்பனை செய்யப்பட்டது. எனின்
 இவ்விரண்டு பொருளையும் மேலே உள்ள தேவையான
 அளவில் வாங்க செந்தாளன் 500 ரூபாவைக் கொடுத்திருந்தால்
 அவனுக்குக் கிடைத்திருக்கும் மீதிப்பணம் எவ்வளவு?
 ரூபாசதம்
 20. செந்தாளன் வாங்கிய சீனியினை 250 கிராம் நிறையுள்ள
 சரைகளாகக் கட்டினால் எத்தனை சரைகளைக் கட்டலாம்?
 21. செந்தாளன் வாங்கிய ஒவ்வொரு எலுமிச்சம்பழத்திலும் 15ml
 வீதம் புளித்திரவம் இருந்தது. அவன் வாங்கிய எலுமிச்சம்பழம்
 எல்லாவற்றிலும் உள்ள புளித்திரவத்தினைச் சேர்த்தபின்
 அதனை மேசைக்கரண்டியினால் எத்தனை தடவை அளக்க
 லாம்?

★ கீழ்வரும் வினாக்களிலே "அ" பகுதிக்குப் பொருத்தமான சொல்லை
 "ஆ" பகுதியில் இருந்து தெரிந்து அதன் கிலக்கத்தை அடைப்புக்
 குள் எழுதுக.
 அ ஆ
 22. நாடு () 1. பிரதேச செயலர்
 23. கிராமம் () 2. துணைவேந்தர்
 24. மாகாணம் () 3. அரசாங்க அதிபர்
 25. பிரதேசம் () 4. ஜனாதிபதி
 26. மாவட்டம் () 5. கிராமசேவகர்
 27. பல்கலைக்கழகம் () 6. ஆளுநர்

★ பின்வரும் இசைக்கருவிகள் தரம் 5 மாணவர்கள் தங்கள் அழகியல்
 செயற்பாடுகளில் அறிந்து கொண்டவை ஆகும். அந்த இசைக்
 கருவிகளின் பெயர்களை எழுதவும்.

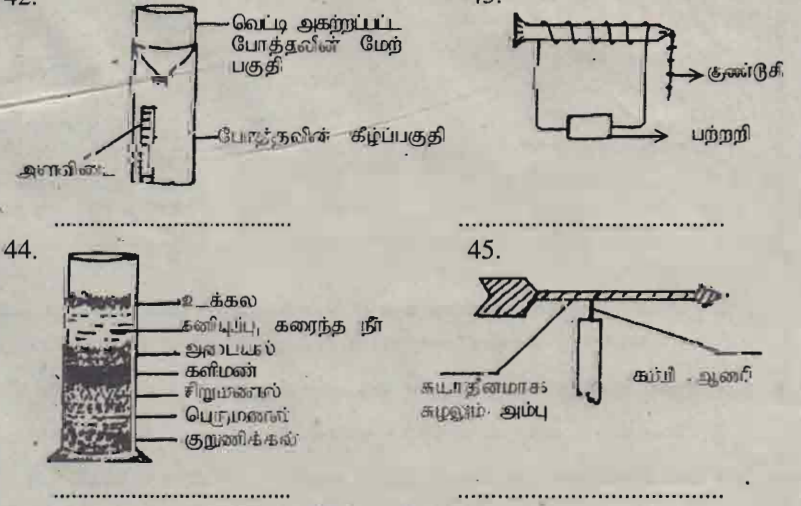


30. இசைக்கருவி Bஇல் உயர்ந்த தொனி எழுப்புவதற்கு கம்பிகள்
 இறுக்கமாகவா, தளர்வாகவா இருக்கவேண்டும்?
 31. இந்த இசைக்கருவியால் இசைக்கக்கூடிய எழு சுரங்களையும்
 எழுதுக.
 32. இந்து ஆலயங்களில் மேல் உள்ளவற்றில் எக்கருவி அதிகம்
 பயன்படுத்தப்படுகிறது.

★ கீழே காட்டப்பட்டுள்ள அட்டவணையில் முதலாவது நரலில்
 குறிப்பிடப்படும் விளையாட்டு எவ்வகைக்குரியது என்பதைப்
 பெருந்தமையான நரலில் (✓) அடையாளத்தை கிட்டுக்காட்டுக.
 உதரணத்துக்கு ஒன்று பூரணப்படுத்தப்பட்டுள்ளது.

விளையாட்டு	குறுந்தார ஓட்டம்	நெடுந்தார ஓட்டம்	பாப்தல் நிகழ்ச்சி	எறிதல் நிகழ்ச்சி	குழு நிகழ்ச்சி
வலைப் பந்தாட்டம்					✓
35. உயரம்					
36. ஈட்டி					
37. 100 மீற்றர்					
38. 1500 மீற்றர்					
39. நீளம்					
40. கமிறிழுத்தல்					
41. 200 மீற்றர்					

★ கீழ்வரும் பரிசோதனை அமைப்புகளின் பெயர்களை எழுதுக.



42. வெட்டி அகற்றப்பட
 போத்தலின் மேற்
 பகுதி
 போத்தலின் கீழ்ப்பகுதி
 43. குண்டு
 பற்றறி
 44. உக்கல்
 களிப்பு, கரைந்த நீர்
 அடையல்
 களிமண்
 சிறுமணல்
 பெருமணல்
 குறுணிக்கல்
 45. கயர்தளமாகக்
 சுழலும் அம்பு
 கம்பி ஆணை
 ★ கீழ்வருவனவற்றின் தனிச்சொல்லை எழுதுக.
 46. கைகொட்டி ஆடும் கிராமிய நடனம்
 47. இயல்பாக இருக்கவேண்டிய குட்டைவிட உடம்பில் குடு
 அதிகமாக இருக்கும் நிலை
 48. வெள்ளி என்றழைக்கப்படும் கிரகத்தின் மறுபெயர்
 49. மீன், ஓணான் போன்றவற்றின் உடலின்மீது செறிவாக
 முடியிருக்கும் விறைப்புடன் கூடிய தோல் அடுக்கு

50. பனையின் முற்றிய ஓலை
 ★ பின்வரும் வினாக்களுக்குரிய சரியான விடைகளின் கீழ்க் கோட்டுக.
 51. பல்வேறு நிறக்கடதாசிகளைக் கிழித்து ஒட்டுவதன்மூலம்
 செய்யும் ஆக்கம் எது?
 (1) பூ ஆக்கம் (2) கொலாஜ் (3) இழைத்தல்
 52. சிறுவர்கள் ஆக்கத் தொழிற்பாட்டில் விளையாட்டு இரட்டைத்
 தோணி செய்வதற்குப் பொருத்தமான ஊடகம் எது?
 (1) பலகை (2) குருத்தோலை (3) கடதாசி
 53. உருவங்கள் செய்வதற்கும், செதுக்குவதன் ஊடக ஆக்கம்
 செய்வதற்கும் ஆரம்ப வகுப்பு மாணவர்களுக்குப் பொருத்தமா
 னதும் இலகுவானதுமான ஊடகம் எது?
 (1) களிமண் (2) கடதாசி (3) மெழுகு
 54. பின்னுதல் இழைத்தல் தொடர்பான அடிப்படைத் திறன்களை
 விருத்தி செய்வதற்குரிய ஆக்கங்களைச் செய்வதற்குச்
 செலவில்லாது பெறக்கூடிய பொருள் எது?
 (1) குருத்தோலை (2) நூல் (3) பாய்
 55. சிவப்பு நிறத்தையும் மஞ்சள் நிறத்தையும் கலந்துபெறப்படும்
 நிறம் எது?
 (1) நீலம் (2) பச்சை (3) செம்மஞ்சள்

★ வினவப்படும் வினாக்களுக்குரிய சரியான விடைகளை எழுதுக.
 56. பழமொழியைப் பூர்த்திசெய்க.
 வல்லவனுக்குப்
 57. கல் வீட்டுத் தாத்தா மெதுவாகத்தான் நடப்பார் அவர் யார்
 என்னும் விடுகதைக்கு விடை எழுதுக.
 58. தம்பி பழைய புத்தகத்தைக் கிழிக்கின்றான். இவ்வாக்கியத்தில்
 காலத்தை உணர்த்தும் சொல் எது?
 59. பலாவுக்குச் சளை போல மாம்பழத்திற்கு
 60. மாணவன் புகைவண்டியில் பிரயாணஞ் செய்தான்.
 மாணவன் பாடசாலையை அடைந்தான்.
 இவற்றைத் தொடர்வாக்கியமாக எழுதுக.

★ கீழே தரப்பட்ட திண்ம உருவினைப் பயன்படுத்தி விடை எழுதுக.

61. இத்திண்ம உருவின் பெயர் யாது?
 62. இதற்கு எத்தனை வளைந்த
 மேற்பரப்புகள் உள்ளன?
 63. இதற்கு எத்தனை முகங்கள் (தட்டையான மேற்பரப்பு)
 உள்ளன?
 64. இதற்கு எத்தனை வளைந்த விளிம்புகள் உள்ளன?
 65. இத்திண்ம உருவின் வளைந்த மேற்பரப்பின் சுற்றளவு 25
 cm எனின் 5m தூரத்தைத் தொடுவதற்கு இது எத்தனை
 முறை சுழலவேண்டும்?
 66. இதன் முகம் ஒன்றிலே 45எனும் எண் எழுதப்பட்டிருந்தது.
 அதனை உடனே எண்ணில் எழுதுக?
 67. மரத்தாலான இத்திண்மத்தின் நிறை 185கிராம் எனில் இது
 போன்ற சம நிறையுடைய 6 குற்றிகளின் நிறை யாது?

★ ஆங்கிலச் சொற்களுக்குரிய தமிழ்ச் சொல்லை எழுதுக.
 68. DOOR - 69. FLOWERS -
 70. VILLAGE - 71. BOOKS -

★ சரியான விடையை எழுதுக.
 72. உலகில் மிக நீளமான நதி எது?
 73. இலங்கையின் தேசிய மரம் எது?
 74. இலங்கையின் மிகப்பெரிய தாவரவியற்பூங்கா எது?

★ எனது வீட்டுத்தொட்டத்திற்குள் பசு ஒன்று வந்து
 என்னும் தலைப்பின் கீழ் சரியான எழுவாய் பயனிலைகளுடன்
 ஆறு வாக்கியங்கள் எழுதுக. ஒரு வாக்கியத்தில் ஆகக்
 குறைந்தது நான்கு சொற்களேனும் இருத்தல் வேண்டும்.

75.
 76.
 77.
 78.
 79.
 80.

தயாரிப்பு:
 திரு. வே. அன்பழகனி (ஆசிரியர்)

அதிகாரிகள் மனு விசாரணைக்கு ஏற்பு

பல்வேறு குற்றச் செயல்கள் தொடர்பாகக் கைதுசெய்யப்பட்டிருக்கும் ஜனாதிபதி பாதுகாப்பு பிரிவின் 5 அதிகாரிகள் தாங்கள் கைது செய்யப்பட்டதை எதிர்த்து தாக்கல் செய்துள்ள உரிமைமீறல் தொடர்பான மனுவை விசாரணைக்கு உயர் நீதிமன்றம் ஏற்றுள்ளது. ஆயுதம் ஏந்தி மக்களுக்கு பல இன்னல்களைக் கொடுத்தார்கள் என இவர்கள்மீது குற்றஞ்சாட்டப்பட்டிருந்தது.

ஆனால், தாங்கள் கைதுசெய்யப்பட்டமை தமது மனித உரிமைகளை மீறும் செயல் என்று சுட்டிக்காட்டி அவர்கள் பொலீஸாருக்கு எதிராக உரிமைமீறல் வழக்கொன்றைத் தாக்கல் செய்துள்ளனர். அந்த மனுவை விசாரணைக்கு எடுத்துக்கொள்வதற்கு நீதிமன்றம் இணைங்கியுள்ளது. (ஏ-4-12)

31ஆம் நாள் நினைவுஞ்சலியும் நன்றி நவிலலும்

தோற்றம்	மறைவு
19	13
-	-
12	06
-	-
1933	2002



அமர் கணபதிப்பிள்ளை கந்தசாமி

(ஒய்வுபெற்ற மாநகரசபை களஞ்சியப் பொறுப்பாளர், முன்னாள் தலைவர், ப.நோ.சு. சங்கம் - கைதம்)
மறவன்புலோ மேற்கிணைப் பிற்பிட்டமாகவும், லண்டனை வசிப்பிடமாகவும், தற்காலிகமாக கொக்குவில் கழக்கல் வசீத்தவருமான அமர் குடும்பத்தலைவர் கிறைபதம் எய்திய செய்திகேட்டுப் பல வழிகளிலும் உதவிகள் செய்து ஆறுதல் கூறியும் தந்த, தொலை பேசீமூலம் அனுகூலம் தெரிவித்தும் கிறையாத்திரையில் கலந்து கொண்டு உற்றுர், உறவினர், நண்பர்கள், அயலவர் அனைவருக்கும் எங்கள் உளம் நெகிழ்ந்த நன்றியைத் தெரிவிப்பதுடன், கிவர் நோய்வாய்ப்பட்டிருந்தபோது கிறை முச்சுவரை சீமத்தைப்பாராது வைத்த உதவி புரிந்த Dr.திரு.க.லோகநாதன் (திருநெல்வேலி) அவர்களுக்கும், கிவர் நோய்வாய்ப்பட்டிருந்தபோது கொழும்பு கொண்டுசென்று அங்கு உதவிபுரிந்த Dr.திருமதி தில்லைநாயகி மகேந்திரன் (நாவற்குடி) அவர்களுக்கும் எங்கள் உளம் நெகிழ்ந்த நன்றியைத் தெரிவிக்கின்றோம்.
கின்று (12.07.2002) வெள்ளிக்கிழமை முற்பகல் 11.00 மணியளவில் அமர் இல்லத்தில் நடைபெறும் சபீவன்டகரணக் கிரியைகளில் கலந்துகொள்வதுடன், அதனைத் தொடர்ந்து கிடம்பெறும் மதிய போசனத்திலும் கலந்துகொள்ளுமாறு அனைவரையும் அன்புடன் அழைக்கின்றோம்.
நிரந்தர முகவரி: மறவன்புலோ மேற்கிணை, சாவகச்சேரி, தற்காலிக முகவரி: கலைவாணி லேன், கொக்குவில் கிழக்கு, கொக்குவில். (3853)
பிரிவால் தயாரும்: மனைவி, மக்கள், மருமக்கள், பேரப்பிள்ளைகள்.

ஓராண்டு நினைவுஞ்சலியும் மனதிலிருந்து மாறாத சோகங்களும்

மலர்வு	உதிர்வு
17	23
-	-
09	06
-	-
1980	2001



அமர் நவரத்தினம் நவரஞ்சன் (றமணன்)

திதி: 12.07.2002
ஆண்டொன்று சென்றபோதிலும் றமணன் நிர் போனதெங்கே? ஓராண்டு கழிந்தாலும் றமணா ஆறவில்லை எம் சோகம்! பாசத்தின் கமைபோடு எமைவிட்டுப் பறந்துசென்ற றமணா மாறவில்லை எம் வேதனை! றமணா! விழியெல்லாம் நிர்நேங்கி நிற்குதையா! விழதேறும் கிடமெல்லாம் றமணா! உங்கள் விம்பம் தானே தெரிந்தது? உங்கள் பூசுகம் காண எங்குகின்றோம் றமணா! அன்பு முகம் காணாமல் கிங்கே வாடுகின்றோம் றமணா! ஆறாது எம் சுவரம் உயிர் உடன் காலம்வரை றமணா! காலமெல்லாம் கண்ணீருடன் றமணா! காத்திருப்போம் உங்கள் அழியா நினைவுகளுடன்.
எம் உயிரோடு கலந்துவிட்ட எம் அன்புச் செல்வத்தின் ஆத்மாநாத்தியபடையெல்லாம் வல்ல விரமணை கன்னிமா கெளரி அம்பாளை வேண்டிப் பிராந்திக்குள்ளேயேயும்.
பிரிவால் தயாரும்: அப்பா, அம்மா, மனைவி, மகன், அத்தான்மார், சகோதரர்கள், பேத்திமார், மாமமார், மாமிமார், மச்சான்மார், மச்சான்மார்.
'விரமணை', குப்பினான் தெற்கு, எடுப்பாலை. (3860)

148 இலங்கையர் நாடு கடத்தல்

கொழும்பு, ஜூலை 12
சுட்டிவிருதமான முறையில் இத்தாலி நோக்கி கப்பலில் செறுகொண்டிருந்தவேளை செங்கடலில் வைத்து சவுதி அரேபிய கடற்படையினரால் கைதுசெய்யப்பட்டு தடுத்துவைக்கப்பட்டிருக்கும் 148 இலங்கையர்களுக்கும் திருப்பி அனுப்புவதற்கு சவுதி அரேபிய அரசு தீர்மானித்தள்ளது.

உபகரணம் அன்பளிப்பு
வலி.கிழக்கு, ஜூலை 12
நிர்வேலி கரந்தன் இராஜப்பிள்ளை வித்தியாலய மாணவர்களுக்கு கொழும்பு மத்தி லயன்ஸ் கழகத்தினால் ரூபா 10 ஆயிரம் பெறுமதியான பாடசாலை உபகரணங்கள் அன்பளிப்புச்செய்யப்பட்டுள்ளன.
அண்மையில் கொழும்பில் இருந்து யாழ்ப்பாணம் வந்திருந்த லயன்ஸ் கழக உறுப்பினர்கள் அடங்கிய குழு இந்தப் புத்தங்கள், எழுதுகருவிகளை வழங்கியிருந்தது. (ஏ-180)

வெலிக்கடைச் சிறையில் ஹெரோயின்

வெலிக்கடைச் சிறைச்சாலையில் கடந்த செவ்வாய்க்கிழமை சுமார் ஒரு லட்சம் ரூபா பெறுமதியான 'ஹெரோயின்' போதைப்பொருள் கைப்பற்றப்பட்டதாகத் தெரிவிக்கப்பட்டது.

சிறைச் சரலை வளவுக்குள் ஹெரோயினை எடுத்துச் செல்ல வதற்கு உதவியிருக்கலாம் என்ற சந்தேகத்தின் பேரிலேயே இவர்கள் இருவரும் கைதுசெய்யப்பட்டதாகக் கூறப்பட்டது. இது தொடர்பான விசாரணைகளைப் பொலீஸார் முடுக்கி விட்டுள்ளனர். (ஏ-4-12)

இலங்கை மின்சாரசபை - யாழ்ப்பிரதேச அலுவலகம்
மின்தடை பற்றிய அறிவித்தல்
நாளை (2002.07.13) சனிக்கிழமை சுன்னாகம் மின்நிலையத்தில் திருத்தவேலைகள் நடைபெற இருப்பதால் அன்றைய தினம் யாழ்ப்பாணம், குடாநாடு பூராகவும் காலை 09.00 மணி தொடக்கம் மாலை 05.00 மணிவரை மின்சாரம் தடைப்பட்டிருக்கும் என்பதை அறியத்தருகின்றேன்.
இதனால் மின்பாவனையாளர்களுக்கு ஏற்படும் அசௌகரியங்களுக்கு மனம் வருந்துகின்றேன்.
பிரதேச மின் பொறியியலாளர், இலங்கை மின்சார சபை, யாழ்ப்பிரதேச அலுவலகம், சுன்னாகம்.
"குழல் மற்றும் அபிவிருத்தி வேலைகளுக்கு கைகொடுக்கும்" இலங்கை மின்சாரசபை. (C/22898)

யாழ்ப்பாணம் - மாநகரசபை யாழ்ப்பாணம் மாநகரசபைக்குச் சொந்தமான

கடைகளை குத்தகைக்கு வழங்குவதற்கான கேள்வி அறிவித்தல்

இதன்கீழ் அட்டவணைப்படுத்தப்பட்டுள்ளதும் நல்லூர், குருநகர், யாழ்ப்பாணம் பெரிய கடைப்பகுதியில் அமைந்துள்ளதுமான கடைகளை குத்தகைக்கு வழங்குவதற்கான அரக்குமுத்திரையிடப்பட்ட கேள்விகள், யாழ்ப்பாணம் மாநகரசபை ஆணையாளராகிய என்னால் 31.07.2002ஆம் திகதி புதன்கிழமை பி.ப. 12.30 மணிவரை ஏற்றுக்கொள்ளப்படும்.
கேள்விகள் குறித்த அட்டவணையில் குறிப்பிடப்பட்டுள்ள மீளளிக்கக்கூடிய கேள்விப் பிணைப்பணமும், மீளளிக்கமுடியாத கேள்விப்பட்டிக் கட்டணமும் செலுத்துவதன் பேரில் 30.07.2002ஆம் திகதி செவ்வாய்க்கிழமை பி.ப. 3.00 மணிவரையும் யாழ்ப்பாணம் மாநகரசபையால் வழங்கப்படும் உத்தியோகபூர்வமான படிவங்களின் கிணைப்பிரதிகளில் சமர்ப்பிக்கப்படவேண்டும். பூத்திசெய்யப்பட்ட கேள்விப்பட்டிகளவர்கள் யாழ்ப்பாணம் மாநகரசபையின் கிற்றகளை வைக்கப்பட்டுள்ள கேள்விப் பெட்டியில் சேர்க்கப்படவேண்டும். அல்லது ஆணையாளர், மாநகரசபை, யாழ்ப்பாணம் என்ற முகவரிக்கு அரக்கு முத்திரையிடப்பட்ட உறையிலிட்டு 31.07.2002ஆம் திகதி புதன்கிழமை பி.ப. 12.30 மணிக்குப் பிந்தாமல் கிடைக்கக்கூடியதாகப் பதிவுத்தபால் மூலம் அனுப்பப்படவேண்டும். கடித உறையின் கிடிப்புக்க மேல்முலையில் "கடை இல." கேள்விக்கான விண்ணப்பம் என எழுதப்படவேண்டும். தபாலில் அனுப்பப்படும் போது ஏற்படும் தாமதங்களுக்கு யாழ்ப்பாணம் மாநகரசபை பொறுப்பேற்கமாட்டாது.
கேள்விகள் 31.07.2002 ஆம் திகதி பிற்பகல் 2.30 மணிக்கு திறந்து பரிசீலிக்கப்படும். அத்தருணம் கேள்விக்காரர் அல்லது அவரால் அங்கீகாரமளிக்கப்பட்ட பிரதிநிதி எவரேனும் சமூகமளிக்க முடியும். மேலதிக விவரங்களை அலுவலக நேரங்களில் பெற்றுக்கொள்ளலாம்.

எந்தவொரு கேள்வியையும் காணும் காட்டாது ஏற்கவோ அல்லது நிராகரிக்கவோ கேள்விச் சபைக்கு யூரண அதிகாரமுண்டு.

கடை இல.	அமைந்திருக்கும் இடம்	கேள்விப் பத்திரக் கட்டணம்	கேள்வி வைப்புக் கட்டணம்	மாத வாடகை	ஏற்றுக்கொள்ளப்படும் ஆகக்குறைந்த கேள்வித் தொகை (ஜி.எஸ்.டி நீங்கலாக)
107	யாழ்ப்பாணம்	500/-	10,000/-	1,200/-	2,88,000/-
108	யாழ்ப்பாணம்	500/-	10,000/-	1,200/-	2,88,000/-
109	யாழ்ப்பாணம்	500/-	10,000/-	1,200/-	2,88,000/-
110	யாழ்ப்பாணம்	500/-	10,000/-	1,200/-	2,88,000/-
08	குருநகர்	500/-	10,000/-	600/-	1,44,000/-
09	குருநகர்	500/-	5,000/-	300/-	72,000/-
10	குருநகர்	500/-	5,000/-	300/-	72,000/-
11	குருநகர்	500/-	5,000/-	300/-	72,000/-
24	குருநகர்	500/-	5,000/-	300/-	72,000/-
13,14	நல்லூர்	500/-	10,000/-	600/-	1,44,000/-

குறிப்பு:-


- சீத்திபெறும் கேள்விக்காரர்கள் 07 நாட்களுக்குள் கேள்வித்தொகையையும் அதற்குரிய ஜி.எஸ்.டியையும் பூரணமாகச் செலுத்தி சபையுடன் உடன்படிக்கை ஒன்றைச் செய்தல் வேண்டும்.
 - ஒரு விண்ணப்பப்படிவத்தில் ஒரு கடைக்கு மட்டுமே விண்ணப்பிக்க முடியும்.
 - கேள்வித்தொகையுடன் 12.5% ஜி.எஸ்.டி. வரம்பையும் சேர்த்து செலுத்துதல் வேண்டும்.
 - நடத்தப்படவுள்ள விவரபார்த்தின் தன்மை குறிப்பிடுதல் வேண்டும்.
 - தங்களால் நடத்த உத்தேசிக்கப்படும் விவரபார்த்தின் தன்மை சபையால் பரிசீலிக்கப்பட்ட பின்பே அனுமதி வழங்கப்படும்.
 - சீத்திபெற்ற கேள்விக்காரர் உடன்படிக்கை செய்யும்போது 03 மாத வாடகை முற்பணமாகச் செலுத்தப்படவேண்டும்.
- மாநகரசபை அலுவலகம், யாழ்ப்பாணம். 10.07.2002 (C/22889)
இ.இராமலிங்கம்
மாநகர ஆணையாளர், மாநகரசபை, யாழ்ப்பாணம்.

சென்ரல் - சென்ஜோன்ஸ் அணிகளுக்கிடையே 'வடக்கின் மாபெரும் மோதல்' இன்று ஆரம்பம்

வடக்கின் மாபெரும் மோதல் (Battle of the North) என்று வர்ணிக்கப்படும் யாழ்.மத்திய கல்லூரி, சென்.ஜோன்ஸ் கல்லூரி ஆகியவற்றின் கிரிக்கெட் அணிகளுக்கிடையிலான கிரிக்கெட் ஆட்டம் இன்று ஆரம்பமாகிறது. இப்போட்டி நாளை முடிவடைகின்றது. யாழ். மத்திய கல்லூரி மைதானத்தில் இன்று காலை 9.30 மணிக்கு ஆரம்பமாகும் ஆட்டம் இப்போட்டித் தொடரின் 96ஆவது ஆட்டமாகும்.

இதுவரை நடந்துமுடிந்த போட்டிகளில் சென்.ஜோன்ஸ் கல்லூரி அணி 32 போட்டிகளிலும், மத்திய கல்லூரி அணி 21 போட்டிகளிலும் வெற்றி பெற்றுள்ளன. 34 போட்டிகள் வெற்றி, தோல்வியின்றி முடிவடைந்துள்ளன. எட்டுப் போட்டிகள் குறித்த பதிவுகள் இல்லாத காரணத்தால் அந்த முடிவுகள் தெரியவில்லை.

இவ்வாண்டு நடைபெற்ற பாடசாலைகளுக்கிடையிலான கிரிக்கெட் ஆட்டங்களில் யாழ்.மத்திய கல்லூரி



யாழ்.மத்திய கல்லூரி அணியினர்

அணித்தலைவர் (இ-வ): எஸ்.காண்புன் (யயிற்றுந்), வி.எஸ்.மகேந்திரன் (விளையாட்டுத் துறை பொறுப்பாளியும்), எஸ்.காந்தீபன் (அணித் தலைவர்), க.இராசசுந்தரன் (அதிர்வு), வி.இரவிசுந்தரன் (அணி உபதலைவர்), கே.இராசகாண், இ.எஸ்.ஆர்.செய்க்குமார் (பொறுப்பாளியும்), நிழலினி (இ-வ): ஏ.யசிந்தன், ஆ.மஜல்தான், சி.ராஜீவ், கே.காந்தீபன், எஸ்.சுப்பிரமணியன், எஸ்.சீவசுந்தர், எஸ்.சிவசுந்தர்.



யாழ்.சென்.ஜோன்ஸ் அணியினர்

அணித்தலைவர் (இ-வ): ஜெ.அபாசீவன் (பிரதி அதிர்வு), சி.அகிலன், பி.வெற்றேஸ்வரன் (அணித்தலைவர்), எஸ்.சுப்பிரமணியன் (அதிர்வு), வி.விஸ்னுவர்தனன் (அணி உபதலைவர்), எஸ்.இராசசுந்தரன், கே.எஸ்.முத்துக்குமார் (யயிற்றுந்), விளையாட்டுத் துறை பொறுப்பாளியும்), நிழலினி (இ-வ): எஸ்.ரவிசன், சி.மதுராசன், சி.சி.அகந்தன், கே.விவசாகன், ஏ.நிழலினி, ஏ.நவாசுலா, ஏ.எஸ்.விசன், எஸ்.கிருஷ்ணசுந்தரன், ஏ.அன்புசன், சி.டி.சீவன்.

9 பாடசாலைகளுடன் விளையாடியது. இவற்றில் 4 ஆட்டங்களில் மத்திய கல்லூரி அணி வெற்றி பெற்றது. 5 ஆட்டங்கள் வெற்றி தோல்வியின்றி முடிவடைந்தன. சென்.ஜோன்ஸ் கல்லூரி அணி 6 ஆட்டங்களில் நான்கில் வெற்றி பெற்றது. 2 ஆட்டங்கள் வெற்றி தோல்வியின்றி முடிவடைந்துள்ளன. இதனை ஒப்பிட்டுப் பார்க்கும்போது இரு கல்லூரி அணிகளும் மிகப் பலத்தடனையே களம் இறங்குகின்றன. இதில் யார் வெற்றி பெறுவார்கள் என்ற எதிர்வுகூறல் கடினமானதே. எப்படி இருப்பினும் யாழ். கிரிக்கெட் ரசிகர்கள் மிகவும் விரைவில் யாழ். கிரிக்கெட் ஆட்டம் ஒன்றிணைக்க காணலாம். நாளை முடிவடையும் வடக்கின் மாபெரும் மோதலில் இறுதியில் ஒவ்வொரு துறைகளிலும் சிறந்து விளங்கிய வீரர்களும், ஆட்ட நாயகனும் தெரிவுசெய்யப்படுவர். இன்றும் நாளை யும் காலை 9.30 மணிக்கு ஆட்டம் ஆரம்பமாகி 5.40 மணிவரை நடைபெறுவது. (ரி)

சமய சந்திதிகளில்

யாழ்ப்பாணம், ஜூலை 12
 ஊர்காவற்றுறை கரம்பொன் புனித செபஸ்தியர் ஆலய வரலாற்றுப் பெரு விழா எதிர்வரும் 15ஆம் திகதி திங்கட்கிழமை கொடியேற்றத்துடன் ஆரம்பமாகித் தொடர்ந்து நடைபெறவுள்ளது. எதிர்வரும் 20ஆம் திகதி சனிக்கிழமை மாலை 5 மணிக்கு நற்கருணை ஆராதனையும், மறுநாள் 21ஆம் திகதி ஞாயிற்றுக்கிழமை காலை 7.30 மணிக்கு பெருவிழா திருப்பலியும் இடம்பெறும். (எ-173)

சுழிபுரம், ஜூலை 12
 சுழிபுரம் பறாணை ஈஸ்வர விநாயகர் ஆலய தேர்த்திருவிழா நாளை ஞாயிற்றுக்கிழமை நண்பகல் நடைபெறவுள்ளது. திங்கட்கிழமை சுழிபுரம் திருவடி நிலை தீர்த்தக் கரையில் தீர்த்தம் இடம்பெறும். (எ-28)

யாழ்ப்பாணம், ஜூலை 12
 புநகரி செல்லையாதீவு கண்ணகையம்மன் ஆலயத்தின் புனருத்தாரண மகா கும்பாபிஷேகம் எதிர்வரும் 15ஆம் திகதி திங்கட்கிழமை நடைபெறும். (எ-17)

நவாலி, ஜூலை 12
 நவாலி ஸ்ரீ கதிர்காம முருகன் ஆலயத்தில் இடம்பெற்று வரும் வருடாந்த மஹேஸ்வரத்தை முன்னிட்டு கடந்த 10ஆம் திகதி முதல் தினமும் மாலை 6 மணி தொடக்கம் 'கந்த புராணம்' என்னும் தொடர் சொற்பொழிவு நடைபெற்று வருகின்றது. இளைப்பாறிய அதிபரும் இந்து சமய விருத்திச் சங்கத்தின் உபதலைவருமான எஸ்.செல்லத்துரை சொற்பொழிவை நிகழ்த்தி வருகின்றார். (எ-100)

வாராந்த நிகழ்வு

சந்திரியன் ஆசிரம சைவ கலை பண்பாட்டுப் பேரவை, தொண்டமனாறு சந்திரியன் ஆசிரம மண்டபத்தில் நடத்திவரும் வாராந்த நிகழ்வுத் தொடரில் இன்று முற்பகல் 10.30 மணிக்கு 'உதித்தனை உலகம் உய்ய' என்ற தலைப்பில் கலைவாரிதி சி.சபாநாதனின் சொற்பொழிவு இடம்பெறும். இந்நிகழ்வுக்கான அறிமுகவுரையை வட்டுக்கோட்டை மத்திய கல்லூரி ஆசிரியர் சி.கேசவன் நிகழ்த்துவார். (எ-173)

பல வருடங்களின் பின்

யாழ்.மண்ணில் நிலவும் சமாதான சூழ்நிலையில் நடைபெறுகின்ற மாபெரும் கிரிக்கெட் போட்டியில் பங்குபற்றும் யாழ்.சென்.ஜோன்ஸ் கல்லூரி வீரர்களையும் யாழ்.மத்திய கல்லூரி வீரர்களையும் வாழ்த்துவதில் இலங்கையில் மின்சார சாதனங்களின் விற்பனையில் முன்னணியில் உள்ள அபான்ஸ் கம்பனி பெருமை அடைகின்றது.

குறிப்பு: சிறந்த விளையாட்டு வீரர்களுக்கு LG மின்சார சாதனங்கள் அன்பளிப்பாக வழங்கப்படும்.

எமது அங்கீகரிக்கப்பட்ட விற்பனையாளர்கள்
யாழ்ப்பாண மின்னகம் (Jaffna Electricals),
 94(6), ஸ்ரான்லி நோட், யாழ்ப்பாணம்.
உஷா ஏஜென்சி (Usha Agency),
 145, ஸ்ரான்லி நோட், யாழ்ப்பாணம்.



LG

Abans

498, காலி நோட், கொழும்பு - 03, தொலைபேசி: 565265 - 79

(5871)

பரம்பரை பரம்பரை மக்களின் நன்மையை பெற்ற ஆயுர்வேத தயாரிப்பு.



மூவ் பரம்



தசைவலி, தசைப்பிடிப்புகளிலிருந்து உடனடித்தீர்வு
 முட்டு வலிகளிலிருந்து உடனடி நிவாரணம்
 விளையாட்டின்போது ஏற்படும் அனைத்து வலிகளுக்குமான முழுமையான நிவாரணி
 இடுப்பு, முதுகு வலிகளிலிருந்தும் நிவாரணமளிக்கிறது

விநாயகப்பேசு பாரம்கோ மார்க்கடிங் சர்வீசஸ் (P) லிமிடெட் 074-814559


ஸ்ரீ அகிலாண்டேஸ்வரி அருளகம்
சிறுவர் இல்லம் வவுனியா
 மேற்படி சிறுவர் இல்லத்தில் உள்ள பிள்ளைகளை அறிவுட்டி, நல்லொழுக்கம் உடையவர்களாக்கக்கூடிய தொண்டு மனப்பான்மையுடன் சேவையாற்றக்கூடிய குடும்பஸ்தர் ஒருவர் அல்லது கிருவரினது சேவை வேண்டப்படுகின்றது. அவர்களுக்குரிய கிருப்பிடி வசதிகளும் ஊதியமும் வழங்கப்படும். விண்ணப்பதாரிகள் கடிதமுலமோ அல்லது நேரிலோ தொடர்பு கொள்ளவும். குறிப்பு:-**ஓய்வூதியை ஆசிரியத் தம்பதியினர் விரும்பத்தக்கது.**
ஸ்ரீ அகிலாண்டேஸ்வரி அருளகம், அறங்காவலர்.
கோவில் குளம், அகிலாண்டேஸ்வரி சமேத
வவுனியா. அகிலாண்டேஸ்வரி திருக்கோயில்,
 T.P. :- 024-21685 T.P. :- 024-22651 (5509)

சைக்கிள் என்று கேட்காதீர்கள்
லுமாலா என்று கேட்டு வாங்குங்கள்!

இலங்கையில் 20 வருடத்திற்கும் மேலாக அனைவரது மனதிலும் தனக்கென்று ஒரு தனி இடத்தை பெற்றுக்கொண்ட ஒரே ஒரு சைக்கிள் லுமாலா.

அனைத்து உதிரிப்பாகங்களையும் எவ்வேளையிலும் இலங்கையின் எப்பாகத்திலும் தங்குதடையின்றி அனைவரும் பெற்றுக் கொள்ளலாம்.

பத்து வருடகால உறுதியான உத்திரவாதம் அளிக்கப்படும். ஐப்பானிய தொழில் நுட்பத்துடனான ஒரே ஒரு சைக்கிள்



Lumala
 Bicycles supreme

மேலதிக விபரங்களுக்கு
CITY CYCLE INDUSTRIES
 117 & 119 Dam Street, Colombo - 12
 Tel : 432745, 433845 Fax : 449478

0 க்லோகாட் கோச்சியில் சென்றால் பாசி குடும்பமாக பரிசுகளை வெல்லுங்கள்
 க்லோகாட் ரயிலுடன் இன்றே இணையுங்கள்



க்லோகாட் ஓட்டம் உங்கள் குடும்பத்தின் சினைவழி பரிசுகளை வெல்லும் இடது ஓர் நல்ல சந்தர்ப்பம் தங்கள் நல்ல சினைவழி உங்கள் குடும்பம், குடும்பம் என்பவற்றுடன் நல்லவர்களுடன் க்லோகாட் ஓட்டம் ஒன்றையும் இணைத்து சிறப்பான சினைவழி மட்டும்தான். சிந்தனை உங்கள் விற்பனையாளரின் பெயர், குடும்பம் என்பவற்றுடன் எழுதி சிறப்பான சினைவழி மட்டும்தான். நீங்கள் பரிசு வெல்லும் இடது நேரத்தில் உங்கள் விற்பனையாளரும் பரிசு வெல்லும்.

முதலாவது அறிவிப்புமையுடன் குடும்பத்திற்கு
 21" ஓட்டம் இணைக்கப்பட்டு, கல் பரிசு, சலவை இயந்திரம், குளிப்பாட்டுகிற எல்லா பரிசுகளும் கிடைக்கும்.

இரண்டாவதாக அறிவிப்புமையுடன் மூன்று குடும்பங்களுக்கு மூன்று பரிசுகள்
 21" ஓட்டம் இணைக்கப்பட்டு, வான்குக்கி, பிளேக்டர், VCD பிளேயர் ஒன்று.

விற்பனையாளர்களுக்கும் பரிசு
 அறிவிப்புமையுடன் ஒன்று குடும்பங்களின் விற்பனையாளர்களுக்கும் ஒன்று கல் பரிசுகள்.

மூன்றாவது பரிசுகள்
 100 அறிவிப்பு பரிசுகளை க்லோகாட் சினைவழி மட்டும்தான் வழங்கும் 100 பரிசு வெல்லும்.

முதலாவதாக அறிவிப்புமையுடன் குடும்பத்திற்கு
 முதலாவதாக விற்பனையாளர்களை அறிவிப்புமையுடன், 650 பெயர்களுக்கும் அவர்கள் விற்பனையாளர்களுக்கும் பரிசுகள் பரிசு ஒன்று.

உங்கள் விண்ணப்பங்களை ஜூலை 19ம் திகதி 2002 க்குள் அறிவிப்புகளை
 க்லோகாட் கோச்சியில் சென்றால் பரிசு - உ. பெ. இல. 911 நெருப்பு.

Meters DCB Ltd. C-38/2002 (C/22502)

துரைத்தினசிங்கம் எம்.பி. நேற்றுப் பதவியேற்பு!

கொழும்பு, ஜூலை 12 தமிழ் விடுதலைக் கூட்டணியைச் சேர்ந்த துரைத்தினசிங்கம் நேற்று முற்பகல் நாடாளுமன்றத்தில் சபா

திறப்புவிழா

வதிரி புவற்கரைப் பிள்ளையார் ஆலயத்தில் புதிதாக அமைக்கப்பட்ட மண்டபத் திறப்புவிழா இன்று காலை 10 மணிக்கு நடைபெறவுள்ளது. ஆலய பரிபாலன சபைத் தலைவர் தலைமையில் இடம்பெறும் நிகழ்வில் பிரதம விருந்தினராக இந்து கலாசார அமைச்சர் தியமகேஸ்வரன் கலந்துகொள்வார்.

வைகோ...

(முதலாம் பக்கத் தொடர்ச்சி) பட்டு ஒரு மாத சிறையில் அடைக்கப்பட்டுள்ள என் எதிர்நாயக்கப்படுகின் மறு.

ஒரு மாதகாலத்துக்குள் அவருக்கு எதிரான குற்றப்பத்திரம் தாக்கல் செய்யப்படும் எனத் தெரிவிக்கப்படுகின்றது. (ம)

புதிய இடத்தில் புதிய நிர்வாகத்தில்

கிவி சென்ட்ரல்

பலாலி வீதி, திருநெல்வேலி (முன்னைய D.C.S. ஒழுங்குகையிற்)

தரம் 3 முதல் A/L வரை

V.N.பத்மநாதன் (நிர்வாகி)

(5903)

சசனி கல்வி நிலையம்

GENERAL ENGLISH

- * சகல மொழித்திறன்களையும் உள்எடக்கிய விர்வான கற்கைநெறி.
- * பாடசாலை செல்லாத உயர்கல்வி மேற்கொள்வோருக்குரியது.

ஆரம்பம் : 13.07.2002 (Sat.) 10.00 a.m. ஆசிரியர் த.ந.பஞ்சாட்சரம் - நிர்வாகி. (5751)

COOL LAMINATION - கவரி குதல்

நினைவுமலர் கவர், புத்தகக்கவர், விழாமலர்கவர், புகைப்பட அல்பம் என்பன Laminating செய்து கொடுக்கப்படும்.

பிள்ளையார் அச்சகம், ஆகக்குறைந்த கட்டணம் 676, பருத்தித்துறை வீதி, நல்லூர். (5533) ரூபா 3/=

FUJIFILM

உலகத்தின் தலைசிறந்த புகைப்படச்சுருள் தற்போது யாழ். மண்ணில் விற்பனையாகின்றது. ஏக விநியோகஸ்தர்களுக்காக

பிடிபிடிப்பில் கவி வாழ்

14, ஸ்ரீவிவகங்கடே சன் வீதி, யாழ்ப்பாணம், T.P. 3493.

என்னும் ஸ்தாபனத்தாசார நியமித்துள்ளோம் என்பதை புகைப்படப் பிரியர்களுக்கு மிக்க மகிழ்ச்சியுடன் அறியத்தகுசின்னோம்.

HAYLEYS Consumer

Hayleys Consumer Products Ltd. 25, Foster Lane, Colombo 10, Sri Lanka. Phone: 94 1 688956-9, Fax: 94 1 688971. (C/22908)

அமைதி...
(முதலாம் பக்கத் தொடர்ச்சி) ளர் சந்திப்பின்போதே அவர் இவ்வாறு தெரிவித்தார். பேராசிரியர் பிரிஸ் மேலும் கூறியதாவது:- பிரதமர் ரணில் விக்கிரமசிங்க வாஷிங்டனில் இரண்டு ஒப்பந்தங்களில் கைச்சாத்தினார். ஆடை உற்பத்தித் தொழில் தொடர்பாகவும், இலங்கை - அமெரிக்கா இடையே பொருள்கள் ஏற்றுமதி, இறக்குமதி செய்யும்போது வரிச் சலுகை வழங்குவது தொடர்பாகவும் இரண்டு ஒப்பந்தங்கள் கைச்சாத்திடப்படும்.

அதேவேளை இலங்கையின் சமாதான நடவடிக்கைகள் மற்றும் பொருளாதார விடயங்கள் தொடர்பாக பிரதமர் அமெரிக்காவில் கலந்துரையாடுவார். இலங்கை அரசின் ஆக்கூறுவளம் மற்றும் துணிகரமான சமாதானச் செயற்பாடுகள் தொடர்பாகப் பிரதமர் ரணில் விக்கிரமசிங்கவும் அமெரிக்க ஜனாதிபதி ஜோர்ஜ் புஷ்ஷும் கலந்துரையாடுவார்கள். எமது நாட்டுத் தலைவரை சந்திக்க அமெரிக்க ஜனாதிபதி உடனடியாக இலங்கையிருப்பது எமக்குக் கிடைத்த ஒரு வெற்றி. அதையொட்டி நாம் பெருமை அடைகிறோம் - என்றார் அமைச்சர் ஜி.எல்.பிரிஸ். அதேவேளை, இந்திய வெளிவிவகார அமைச்சர் ஜஸ்வந்த் சிங்ஷாவின் இலங்கை விஜயம் தொடர்பாகக் கருத்து வெளியிட்ட பேராசிரியர் பிரிஸ், அவருடைய விஜயத்தின் மூலம் இரு நாடுகளுக்கும் இடையிலான நல்லுறவு மேலும் வலுப்படுத்தப்படும். ஆரம்பத்திலிருந்தே இந்தியா எமது சமாதான முயற்சிகளுக்கு ஒத்துழைப்பு வழங்கி வருகிறது தற்போது இலங்கை அரசியல் தலைவர்களை இந்திய வெளிவிவகாரத்துறை அமைச்சர் சந்தித்துப் பேசும் வாய்ப்பு ஏற்பட்டுள்ளது - என்றார். (ம-10)

இந்திய...
(முதலாம் பக்கத் தொடர்ச்சி) நேற்று மாலை பிரதமரைச் சந்தித்த சிங்ஷா இரு நாட்டு பொருளாதார உறவுகள் குறித்தும் - சமாதான முயற்சிகளின் முன்னேற்றம் தொடர்பாகவும் - கலந்துரையாடினார். இன்று காலை வெளிவிவகார அமைச்சர் டிரோன் பெர்னாண்டோவைச் சந்தித்த பின்னர் ஜனாதிபதியை அவர் சந்திக்கவிருக்கின்றார். (ம-3-10)

சகாவை...
(முதலாம் பக்கத் தொடர்ச்சி) படுகின்றது. இந்தச் சம்பவம் தொடர்பாக மல்ஸாகம் நீதிவான் பா.சுப்ரமணியம் சம்பவ இடத்திற்குச் சென்று விசாரணைகளை நடத்தினார். கொழும்பு சட்ட வைத்திய அலுவலகம் பிரேத பரிசோதனை நடத்திய பின்னர் உறவினர்களிடம் சுவஸ்களை ஒப்படைக்கும்படி நீதிவான் பொலஸாருக்கு உத்தரவிட்டார்.

தேசிய சேமிப்பு வங்கி அறிவித்தல்

தேசிய சேமிப்பு வங்கி - சாவகச்சேரி கிளை

மேற்படி கிளை இன்று (12.07.2002) வெள்ளிக்கிழமை காலை 9.00 மணிக்கு யாழ். கண்டி வீதி, சாவகச்சேரியில் அமைந்தள்ள வி.எம்.கே. கட்டடத்தில் எமது தேசிய சேமிப்பு வங்கியின் வடவலய உதவிப் பொது முகாமையாளர் திரு. வயனல் திருசநாயக்கா அவர்களினால் மீளவும் ஆரம்பித்து வைக்கப்படும் என்பதை மகிழ்ச்சியுடன் அறியத்தகுசின்னோம்.

கிந்திக்குயில் வாடிக்கையாளர்கள் அனைவரையும் கலந்து கொள்ளுமாறு அன்புடன் அழைக்கின்றோம்.

முகாமையாளரும், ஊழியர்களும். (5872)

மரண அறிவித்தல்கள்

திருமதி வல்லியம் சேதுப்பிள்ளை

கொடிகாமத்தைப் பிரிப்பிடமாகவும் அச்சுவேலையை வசிப்பிடமாகவும் கொண்ட திருமதி வல்லியம் சேதுப்பிள்ளை அவர்கள் நேற்று (11.07.2002) வியாழக்கிழமை காலமானார்.

அன்னார் வல்லியத்தின் அன்பு மனைவியும் பராசக்தி, அறுமுகநாதன் (கவிஞர்) ஆகியோரின் அன்புத் தாயாரும் லோகநாதன் (கனடா), ரவிநாதன் (அச்சுவேலி தபால் நிலையம்), கௌசலாதேவி (ஜேர்மனி), லோகநாயகி (கனடா), சிவலோகநாதன் (கனடா), பரலோகநாதன் (கனடா), செங்காசுரன் (கனடா), பிரபாகரன் (கனடா), ஜெனித்தா (கொழும்பு), ஜெயநாதன் (கனடா), ஜெலத்தன் (கனடா), கஜித்தா (கொழும்பு) ஆகியோரின் மீர்த்தியுமாவார்.

அன்னாரின் இறுதிக்கிரியைகள் இன்று (12.07.2002) வெள்ளிக்கிழமை நண்பகல் 12.00 மணியளவில் அவரது இல்லத்தில் நடைபெற்று, பூதவுடல் தகனக்கிரியைக்காக வல்லை இந்து மயானத்திற்கு எடுத்துச்செல்லப்படும். இந்த அறிவித்தலை உற்றார், உறவினர், நண்பர்கள் அனைவரும் ஏற்றுக்கொள்ளவும்.

தகவல்: அச்சுவேலி வடக்கு, அச்சுவேலி. (5909) அறுமுகநாதன் (மகன்).

தம்பு சீவஞானம் (கிரத்தினம்)

உடுவில் தெற்கு, சத்தியபுரத்தைப் பிரிப்பிடமாகவும் வசிப்பிடமாகவும் கொண்ட தம்பு சீவஞானம் (கிரத்தினம்) நேற்று (11.07.2002) வியாழக்கிழமை காலமானார்.

அன்னார் காலஞ்சென்ற தம்பு - இலட்சுமி ஆகியோரின் அன்பு மகனும் காலஞ்சென்ற சரஸ்வதியின் அன்புக் கனவரும் உதயகுரியன் (குமார்), அருட்திரு. மதியாரணம் (தென்னிந்தியத் திருச்சபை, சண்டிப்பாப் காந்திஜி கிராமம் சபை ஊழியர்), வினோதராஜன் (கௌரி), கருணாகரன் (கருணா) ஆகியோரின் அன்புத் தந்தையும் பிரேமநாதேவி, அருள்நாயகி, தேவதாஸ் (மாநகரசபை ஊழியர்), பற்றியா ஆகியோரின் மாமனும் பிரேமலக்ஷன், மயூரி (உடுவில் மகனிர் கல்லூரி மாணவி), சாமிலன், லோஜன், சலோமி, கிசோமி ஆகியோரின் அன்புப் பேரனுமாவார்.

அன்னாரின் இறுதியாராதனை இன்று (12.07.2002) வெள்ளிக்கிழமை பி.ப. 2.00 மணிக்கு அவரது இல்லத்தில் நடைபெற்று, பூதவுடல் நல்லடக்கத்திற்காக மல்வம் சேமக்காலைக்கு எடுத்துச்செல்லப்படும். இந்த அறிவித்தலை உற்றார், உறவினர், நண்பர்கள் அனைவரும் ஏற்றுக்கொள்ளவும்.

சத்தியபுரம், உடுவில். (5910) அருட்திரு. டி.எஸ்.மதியாரணம் (மகன்).

ஆறுமுகம் நவரத்தினம்

(வெள்ளி தோஷ்ட நவரத்தினம் கொம்பல் உரிமையாளர்) தொல்புரத்தைப் பிரிப்பிடமாகவும் சங்காலையை வசிப்பிடமாகவும் கொண்ட ஆறுமுகம் நவரத்தினம் அவர்கள் நேற்று (11.07.2002) வியாழக்கிழமை காலமானார்.

அன்னார் காலஞ்சென்ற சரஸ்வதியின் அன்புக் கனவரும் காலஞ்சென்றவர்களான ஆறுமுகம்-எள்ளியம்மை தம்பதியினரின் அருமை மருமகனும் காலஞ்சென்றவர்களான நாராயணசாமி, மங்கையர்க்கரசி, ரத்தினம்மா மற்றும் குமாரசாமி (சட்டத்தரணி), தங்கரத்தினம் ஆகியோரின் அன்புச் சகோதரரும் சிவராஜேஸ்வரி, காலஞ்சென்ற இசைக்காந்தன், இரத்தினேஸ்வரி (Colombo), சிவனேஸ்வரி (Colombo), சற்குணாதான் (Lake House, Commercial Printing Manager), புரமாதான் (Niranjana உரிமையாளர்), ஞானேஸ்வரி ஆகியோரின் பாசமிகு தந்தையும் காலஞ்சென்ற சிவராஜேஸ்வரன், சிவானந்தன் (Retired Mahara-jah Organization), நாரடணம் (Malavans), கணேஸ்லிங்கம் (முன்னாள் Technical Office Oman), நாகபூஷணி, விஜயகுமாரி (Australia), யசோதரா ஆகியோரின் அன்பு மாமனாரும் ஆனார்.

அன்னாரின் இறுதிக்கிரியைகள் இன்று (12.07.2002) வெள்ளிக்கிழமை பி.ப. 3.00 மணியளவில் அவரது இல்லத்தில் நடைபெற்று, பூதவுடல் தகனக்கிரியைக்காக வழுக்கையாறு இந்துமயானத்திற்கு எடுத்துச்செல்லப்படும். இந்த அறிவித்தலை உற்றார், உறவினர், நண்பர்கள் அனைவரும் ஏற்றுக்கொள்ளவும்.

தகவல்: "இரத்தினவாசா" 200, பொன்னாலை வீதி, சங்காலைய. (5911) ந.பரமநாதன் (J.P.) (மகன்).

இப்பத்திரிகை நியு உதயன் பள்ளிச்சேன் (பி.ஹேவேட்) திறவணத்தினதால் யாழ்ப்பாணம் கஸ்தாபிதர் வீதி, 361ஆம் இலக்கத்தினாலான அவர்களது பணிமனையில் 12.07.2002இல் அச்சிடும் வெளியிடப்பெற்றது.