

வீட்டுக் கிருத்திய அழைப்பு

பிறப்பு

04.08.1930

இறப்பு

03.07.2005



அமரர் கணபதி மருதலிங்கம்
(மணியம்)

அன்னாரின் வீட்டுக்கிருத்தியம் இன்று (02.08.2005) செவ்வாய்க்கிழமை முற்பகல் 10 மணியளவில் எமது இல்லத்தில் நடைபெறுகின்றது. அத்தருணம் எமது உற்றார், உறவினர், நண்பர்கள் அனைவரும் வருகைதந்து அன்னாரின் ஆத்மா சாந்தியடையப் பிரார்த்திப்பதோடு, மதிய போசனத்திலும் பங்கேற்குமாறு அன்புடன் அழைக்கின்றோம்.

உரும்பிராய் வடக்கு,

உரும்பிராய். (38433)(39-11-19)

- குடும்பத்தினர்.

அமெரிக்கத் தமிழருக்கு கசூரினா கடற்கரையில் ஏற்பட்ட அனுபவம்

யாழ்ப்பாணம், ஓக.2

காரைநகர் கசூரினா கடற்கரைப் பகுதியில் காடைத்தனமும் சமூகச் சீர்கேடுகளும் அதிகரித்துவருவதாக அங்கு சென்றுவிட்டுத் திரும்பி வரும் பலர் கவலை தெரிவிக்கிறார்கள்.

குடும்பத்துடன் பொழுதுபோக்குவதற்காக அங்கு செல்லும் பலர் ஏன் வந்தோம் என்றவகையில் மனச்சோர்வுடன் திரும்பிச் செல்வதாகத் தகவல்கள் கிடைக்கின்றன.

வயர் மாற்றம்

இதுவரை காலமும் தங்கரத்தினம் சிறித்திரா என்று அழைக்கப்பட்ட நாள் 31-07-2005 ஆம் திகதி முதலாக எமது வயரை தங்கரத்தினம் சுகனியா என சப்தபூர்வமாக மாற்றி அமைத்துக்கொள்கிறோம்.

இனிமேல் எனது சொந்தத் தேவைகளுக்கும் மற்றும் விடயங்களுக்கும் சுகனியா என்ற வயரையே பயன்படுத்துவேன் என்பதை இத்தால் சகலருக்கும் உறுதியாக அறியத்தருகின்றேன்.

செல்வி தங்கரத்தினம் சுகனியா
12 A, Ebenezer place, Dehiwala, Colombo.

அண்மையில் அமெரிக்காவிலிருந்து இங்கு வந்திருந்த ஒரு தமிழ் அன்பர் கசூரினா கடற்கரையில் தமக்கேற்பட்ட கசப்பான அனுபவத்தை உதயன் பணிமனைக்கு வந்து மிக வேதனையுடன் வெளியிட்டார்.

இது தமிழர் தாயகம். இங்கு தமிழர் நாகரிகமும் பண்பாடும் மேலோங்கி வளர்வதாக வெளிநாட்டிலுள்ளவர்கள் எண்ணிக் கொண்டு இருக்கிறார்கள். ஆனால், இம்மாதிரி பொது இடங்களில் இளைஞர்கள் தமிழர் பண்பாட்டை, தமது காடைத்தனங்களாலும் இழிவான நடத்தைகளாலும் ஏளனத்துக்குள்ளாக்குகிறார்கள் என்று அவர் கவலை தெரிவித்தார்.

கசூரினா கடற்கரைக்குத் தமிழர்கள் மட்டுமல்ல வெளிநாட்டினர்களும் தென்னிலங்கையரும் திரளாக வந்து போகிறார்கள். அவர்கள் மத்தியில் தமிழர் கலாசாரம் எப்படிப்பட்டது என்பதை எடுத்துக்காட்டும் வகையில் நடந்துகொள்ளவேண்டிய தமிழ் இளைஞர்கள், கர்டைத்தனங்களிலும் சீரழிவுச் செயற்பாடுகளிலும் ஈடுபடுவது கண்டிக்கப்படவேண்டியது என்றார் அவர்.

இளம் வயதினரான தனது (ஆண் - பெண்) இரு பிள்ளைகளுடன் கசூரினா கடற்கரைக்குச் சென்றிருந்த அந்த அமெரிக்க தமிழ் அன்பர், தமது பிள்ளைகளுடன் கடலில் நீந்திக் கொண்டிருக்கையில் அங்கு காணப்பட்ட இளைஞர்கள் சிலர் முற்றிலும் கீழ்த்தரமாக நடந்துகொண்டதாகவும் ஒருவன் பிள்ளைகளுடன் சேஷ்டை விடவும் முற்பட்டான் என்றும் தெரிவித்த அவர், அவர்களின் நடத்தை வன்மையாகக் கண்டித்து உரியவர்கள் மூலம் தக்க நடவடிக்கை எடுப்பதாக எச்சரித்துவிட்டு வந்ததாகவும் கூறினார்.

கசூரினா கடற்கரைப் பகுதியில் இளைஞர்களின் சீர்கேடான நடத்தைகள் பற்றிய செய்திகள் அடிக்கடி வந்துகொண்டிருக்கின்றன.

வடபகுதியில் மிக முக்கியமான சுற்றுலாப் பிரதேசமான கசூரினா கடற்கரைப் பிரதேசம் கலாசார சீரழிவுக்கு இடந்தராத விதத்தில் பேணப்படவேண்டும் என்பதைப் பலரும் வற்புறுத்திவருகிறார்கள். (ப)

வலிகாமம் கல்வி வலயத்தில் ஆசிரியர் செயலம்வுகள்

வலி.தெற்கு, ஓக.2

ஆரம்பக் கல்வி மொழித்திறன் மேம்பாட்டுச் செயற்றிட்டம் தொடர்பான அறிவுறுத்தல்களை வழங்குவதற்கான ஆசிரியர் செயலம்வுகளை நடத்த வலிகாமம் கல்வி வலய ஆரம்பக் கல்வி உதவிக்கல்விப் பணிப்பாளர் சி.மாதவகுமார் ஒழுங்கு செய்துள்ளார்.

வலிகாமம் கல்விவலய கோட்டங்களில் தனித்தனியாக இக்கருத்தரங்குகள் நடைபெறும். பாடசாலைகளில் ஆரம்பவகுப்புகளில் கற்பிக்கும் சகல ஆசிரியர்களையும் குறிப்பிட்ட இடங்களில் நடக்கும் செயலம்வுகளில் தவறாது பங்குபற்ற அனுப்பிவைக்குமாறு பாடசாலை அதிபர்களை சி.மாதவகுமார் கேட்டுள்ளார்.

பின்வரும் திகதி ஒழுங்கில் செயலம்வுகள் நடைபெற உள்ளன. நாளை புதன் கிழமை தெல்லிப்பழைக் கோட்ட ஆசிரியர்களுக்கு மருதனார்மடம் இராமநாதன் கல்லூரியிலும் -

- * எதிர்வரும் 5 ஆம் திகதி சண்டிலிப்பாய் கோட்ட ஆசிரியர்களுக்கு சண்டிலிப்பாய் இந்துக் கல்லூரியிலும் -

- * எதிர்வரும் 8 ஆம் திகதி சங்கானைக் கோட்ட ஆசிரியர்களுக்கு வட்டு. இந்துக் கல்லூரியிலும் -

- * எதிர்வரும் 9 ஆம் திகதி உடுவில் கோட்ட ஆசிரியர்களுக்கு மருதனார்மடம் இராமநாதன் கல்லூரியிலும் -

- * எதிர்வரும் 13 ஆம் திகதி விடுமுறை விடப்படாத பாடசாலை ஆசிரியர்களுக்கு மருதனார்மடம் இராமநாதன் கல்லூரியிலும் செயலம்வுகள் நடைபெறும்.

(எ-152)

எம்.பிக்களின் தபால் கொடுப்பனவு அதிகரிப்பு

நாடாளுமன்ற உறுப்பினரொருவர் கட்டணமின்றித் தமது தபால்களை அனுப்புவது தொடர்பில் நாடாளுமன்ற உறுப்பினரொருவருக்கு இதுவரையில் வழங்கப்பட்டு வந்த தபால் கொடுப்பனவு அதிகரிக்கப்பட்டுள்ளது.

இது தொடர்பாக, விசேட வர்த்தமானி அறிவித்தல் ஒன்றும் வெளியிடப்பட்டுள்ளது.

இதற்கமைய, நாடாளுமன்ற உறுப்பினரொருவருக்கு கட்டணமற்ற தபால் சேவைகளுக்கென கொடுப்பனவாக வழங்கப்பட்டு வந்த ரூபா 90 ஆயிரம் இனிமேல் ஒரு வடசத்து 50 ஆயிரம் ரூபாவாக அதிகரிக்கப்பட்டுள்ளதாகத் தெரிவிக்கப்பட்டது. (எ-206)

S-Lon என்றால் PVC குழாய்கள் ஆனால் எல்லா PVC குழாய்களும் S-Lon அல்ல. தரமுயர்ந்த எஸ்-லோன் குழாய்களையே கேட்டு வாங்குங்கள்



எஸ்-லோன் இலச்சினை பொறிக்கப்பட்டுள்ளதை நிச்சயப்படுத்த தவறாதீர்கள்

பரம்பரை பரம்பரையாக மக்களின் நம்பிக்கைக்குப் பாத்திரமாக விளங்கும் எஸ்-லோன் பி.வி.சி. குழாய்களும் அவற்றிற்கான பொருத்துக்கள். பீலிகள் முதலிய யாவும் சகல அளவுகளிலும் கிடைக்கின்றன. எனவே, நீங்கள் தரக்குறைவான பொருட்களை வாங்கி ஏமாற வேண்டிய அவசியமே கிடையாது.

உங்களுக்கு நீர்க்குழாய்கள், பொருத்துக்கள். பீலிகள் தேவைப்படும் எல்லாச் சந்தர்ப்பங்களிலும் எஸ்-லோனை நாடுங்கள்.



என்றும் முன்னணியில்



நிச்சியான வர்ப்புக்கு

எஸ்-லோன் லங்கா (பிறைவேட்) லிமிட்டட், 7, பிறேபுருக் பிளேஸ், கொழும்பு 02.

தொலைபேசி: 4792630-4 ஃபெக்ஸ்: 5352741

கே.ஸி.ஸி.ஸி. கிண்ணைக் கிரிக்கெட் பற்றீஸியன்ஸ் - ஜொனியன்ஸ் இறுதியாட்டத்தில் மோதும்

யாழ்ப்பாணம், ஓக.2
கொக்குவில் மத்திய சனசமூக விளையாட்டுக்கழகம் கே.ஸி.ஸி.ஸி. கிண்ணைத்துக் காக நடத்திவரும் கிரிக்கெட் சுற்றுப் போட்டியில் இறுதியாட்டத்தில் பற்றீஸியன்ஸ் வி.கவும் ஜொனியன்ஸ் வி.கவும் மோதவிருக்கின்றன.

கொக்குவில் இந்துக் கல்லூரி மைதானத்தில் எதிர்வரும் 7ஆம் திகதி நடைபெறும் இறுதியாட்டத்தில் இவ்விரு அணிகளும் மோதுகின்றன. நேற்றுமுன்தினம் நடந்த அரையிறுதி ஆட்டங்களில் வெற்றிபெற்று இறுதியாட்டத்துக்கு இரு அணிகளும் தகுதி பெற்றன. முதலில் நடந்த அரையிறுதி ஆட்டத்தில் யாழ்ப்பாணக் கல்லூரி வி.கவும்

லஜினஸ் 3 விக்கெட்டுக்களையும் ரஞ்சித் குமார், வினோதன் ஆகியோர் தலா 2 விக்கெட்டுக்களையும் வீழ்த்தினர்.

பதிலுக்குத் துடுப்பெடுத்தாடிய பற்றீஸியன்ஸ் வி.க.அணி 5 விக்கெட்டுக்களை இழந்து 151 ஓட்டங்களைப் பெற்றது. பார்த்தீபன், ஜனராஜ், சோர்ச்சில் ஆகியோர் முறையே 50, 35, 20 ஓட்டங்களைப் பெற்றனர்.

முருந்தன் ஆட்டம் இழக்காமல் 35 ஓட்டங்களைப் பெற்றார்.

அருண்ராஜ், ஜனகரன் ஆகியோர் தலா 2 விக்கெட்டுக்களை வீழ்த்தினர். யங்ஸ்ரார் வி.கவுக்கும் ஜொனியன்ஸ் வி.கவுக்கும் இடையில் நடைபெற்ற மற்றோர் அரையிறுதியாட்டத்தில் ஜொனியன்ஸ் வி.க.வெற்றி பெற்றது.

முதலில் துடுப்பெடுத்தாடிய யங்ஸ்ரார் வி.க.அணி சகல விக்கெட்டுக்களையும் இழந்து 199 ஓட்டங்களைப் பெற்றது.

சஜீவன், துஷியந்தன், சசிவர்மன் ஆகியோர் முறையே 67, 29, 22 ஓட்டங்களைத் தமது அணிக்காகப் பெற்றுக்கொடுத்தனர்.

லவேந்திரா, குமணன் ஆகியோர் தலா 3 விக்கெட்டுக்களையும் ரதீஸ்குமார் 2 விக்கெட்டுக்களையும் நிகழ்த்தினர். மதன்ராஜ் முறையே ஒரு விக்கெட்டுக்களையும் வீழ்த்தினர்.

பதிலுக்குத் துடுப்பெடுத்தாடிய ஜொனியன்ஸ் வி.க. அணி 5 விக்கெட்டுக்களை இழந்து 201 ஓட்டங்களைப் பெற்றது.

அன்புஜன் 43 ஓட்டங்களையும் பிரதீ

பன், மதன்ராஜ் ஆகியோர் ஆட்டம் இழக்காமல் 53, 37 ஓட்டங்களைப் பெற்றனர்.

ரஜீத் 3 விக்கெட்டுக்களையும், சுதாகர், கிருஸ்ணசந்திரன் ஆகியோர் தலா ஒரு விக்கெட்டுக்களையும் வீழ்த்தினர்.


(3-190)



பற்றீஸியன்ஸ் வி.கவும் மோதின.

முதலில் துடுப்பெடுத்தாடிய யாழ்ப்பாணக் கல்லூரி அணி சகல விக்கெட்டுக்களையும் இழந்து 150 ஓட்டங்களைப் பெற்றது.

சர்வானந்தன், கௌரிபாகன், ரஜீவன் ஆகியோர் முறையே 84, 18, 8 ஓட்டங்களைத் தமது அணிக்காகப் பெற்றுக் கொடுத்தனர்.



தேசிய மட்டக் கர்பந்தாட்டப் போட்டிக்கு சண்டிலிப்பாய் இந்துக்கல்லூரியின் 15 வயதுப் பிரிவினர் முதற்றடவையாக தெரிவுசெய்யப்பட்டுள்ளனர். தெரிவுசெய்யப்பட்ட அணியினரையும் மற்றும் பாடசாலை அதிபர், பொறுப்பாளியர் பயிற்றுவிப்பாளரையும் படத்தில் காணலாம். (படம்: நேசன்)

கிரிக்கெட் மத்தியஸ்தர்களுக்கு சான்றிதழ் வழங்கிக் கௌரவிப்பு

யாழ்ப்பாணம், ஓக.2
யாழ்ப்பாணம் கிரிக்கெட் மத்தியஸ்தர்களுக்கான ஒன்று கூடலும் சான்றிதழ் வழங்கும் நிகழ்வு நேற்றுமுன்தினம் ஞாயிறற்கு கிழமை யாழ்ப்பாணம் கல்லூரியில் சங்கத் தலைவர் டி.எம்.வேதாயரணத்தின் தலைமையில் இடம்பெற்றன.

இந்நிகழ்வில் பிரதம விருந்தினராக யாழ்ப்பாணக் கிரிக்கெட் சங்கத்தின் தலைவரும் கொக்குவில் இந்துக் கல்லூரி அதிபருமான பொ.கமலநாதனும் சிறப்பு விருந்தினர்

களாக தமிழீழ விளையாட்டுத்துறைப் பொறுப்பாளர் மாதுளன் யாழ்ப்பாணக் கிரிக்கெட் சங்கத்தின் தற்காலிகத் தலைவரும் யாழ்ப்பாணக் கல்லூரி அதிபருமான இராசதுரை, யாழ்ப்பாணக் கிரிக்கெட் துறை அதிகாரி ரொகான் இராஜசிங்கம் ஆகியோரும் கலந்துகொண்டனர்.

நிகழ்வில் கிரிக்கெட் மத்தியஸ்தர் சங்கத்தின் மத்தியஸ்தர்களுக்கான சான்றிதழ்கள் வழங்கப்பட்டன.

(3-190)



யாழ்ப்பாணம் கிரிக்கெட் மத்தியஸ்தர் சங்கத்தின் ஒன்றுகூடலும் சான்றிதழ் வழங்கும் நிகழ்வும் நேற்றுமுன்தினம் மாலை யாழ்ப்பாணம் கல்லூரியில் இடம்பெற்றபோது எடுக்கப்பட்ட படங்கள் இவை. தமிழீழ விளையாட்டுத்துறை இணைப்பாளர் இன்பன் மங்கள விளக்கினை ஏற்றுவதை முதலாவது படத்திலும் மத்தியஸ்தர் பரீட்சையில் சித்தியடைந்த ஒருவருக்கு தமிழீழ விளையாட்டுத்துறையின் யாழ்ப்பாணக் கிரிக்கெட் துறைப் பொறுப்பாளர் மாதுளன் சான்றிதழ் வழங்குவதை இரண்டாவது படத்திலும் நிகழ்வில் கலந்துகொண்ட விருந்தினர்களை அடுத்துள்ள படத்திலும் காணலாம். (படம்: தமிழினியன்)

முன்பள்ளியின் விளையாட்டு விழா

யாழ்ப்பாணம், ஓக.2
பருத்தித்துறைப் பிரதேச புலோலி II குடும்பமட்ட விளையாட்டு விழா நாளையதினம் பிற்பகல் 2 மணிக்கு புற்றளை மைதானத்தில் நடைபெறவுள்ளது.

புலோலி குடும்ப முன்பள்ளித் தலைவர் மா.நவரட்னராஜா தலைமையில் நடைபெறவுள்ள இந்நிகழ்வில் பிரதம விருந்தினராகப் பருத்தித்துறைப் பிரதேச முன்பள்ளி ஆலோசகர் ஏ.என்.எஸ். திருச்செல்வம் கலந்துகொள்வார். (203)



நல்லூர் சங்கிலியன் மன்றத்தின் வைரவிழாவை முன்னிட்டு அண்மையில் நடத்தப்பட்ட சைக்கிள் ஓட்டப்போட்டி சங்கிலியன் மன்றத்தின் முன்பாக ஆரம்பித்தபோது எடுக்கப்பட்ட படம். (படம்: வலி.கிழக்குச் செய்தியாளர்)

உதைபந்தாட்ட மத்தியஸ்தர் பரீட்சையில் 18 பேர் சித்தி

யாழ்ப்பாணம், ஓக.2
இலங்கை உதைபந்தாட்ட மத்தியஸ்தர் சங்கத்தினால் இவ் வருடம் மார்ச் மாதத்தில் யாழ்ப்பாணம் விளையாட்டு அரங்கில் நடத்தப்பட்ட மத்தியஸ்தர்களுக்கான பரீட்சையின் பெறுபேறுகள் வெளியாகியுள்ளன.

இப்பரீட்சையில் தரம் ஒன்றிற்கு 2 பரீட்சார்த்திகளும் தரம் 2 இற்கு 7 பரீட்சார்த்திகளும், தரம் 3 இற்கு 50 பரீட்சார்த்திகளும் 59 பேர் தோற்றியிருந்தனர்.

இவர்களுள் தரம் 1, தரம் 2 இற்கான பரீட்சைகளில் எவரும் சித்தியடையவில்லை. தரம் 3 இற்கான பரீட்சையில் 50 பரீட்சார்த்திகள் தோற்றியிருந்தனர் அவர்களுள் 18 பேர் சித்தியடைந்துள்ளனர்.

இதுவரை காலமும் யாழ்ப்பாணத்தில் நடைபெற்ற மத்தியஸ்தர்களுக்கான பரீட்சையில் இம்முறை போன்று மோசமான பெறுபேறுகள் ஒரு பொழுதும் கிட்டவில்லை என்றும் - இப்பரீட்சைக்காக சனி, ஞாயிறு மற்றும் விடுமுறை தினங்களில் மத்தியஸ்தர் சங்கப்

பணிமனையில் அனுபவம் வாழ்ந்த கிளிமேட் அன்ரனிப்பிள்ளை, எஸ்.ஆனோல்ட் ஆகியோரால் ஆயத்தவகுப்புகள் நடத்தப்பட்ட போதும், அந்த சந்தர்ப்பத்தை பெரிய அளவில் பரீட்சைசார்த்திகள் தவறவிட்டிருந்தனர் என்றும் - யாழ்ப்பாண உதைபந்தாட்ட மத்தியஸ்தர் சங்கத் தலைவர் தெரிவித்தார்.

சித்தியடைந்தோர் விவரம் வருமாறு -
ஏ.முருகானந்தன் (சாவகச்சேரி), எம்.சுகதாசன் (சாவகச்சேரி), ஆர்.சிறீரமணன் (கொக்குவில்), பி.ஆர்.அகிலநாயகம் (நாவாந்துறை), ஏ.அஜித்குமார் (நாவாந்துறை), பி.நியூட்டன் (நாவாந்துறை), எஸ்.சுரேந்தர் (இளவாலை), என்.பிரசாந்தன் (வட்டுக்கோட்டை), ரி.இளங்குமரன் (வரணி), எம்.மகிந்தன் (கரவெட்டி), எல்.குபேந்திரன் (பூநகரி), பி.சசிகரன் (நெல்லியடி), ரி.திவாகர் (அல்வாய்), எம்.நவநேசன் (அல்வாய்), ரி.சதீஸ்குமார் (வல்வெட்டி), எஸ்.பாக்கியராஜா (கரவெட்டி), எஸ்.உதயன் (அல்வாய்), ஆர்.அருள்குமார் (கிளிநொச்சி). (3-190)

மகளிர் உதைபந்தாட்டம் யாழ்ப்பாணம் மாவட்ட அணியை மன்னார் அணி வென்றது

வவுனியா, ஓக.2
வடக்கு - கிழக்கு மாகாண விளையாட்டு அமைச்சினால் வவுனியாவில் நடத்தப்பட்ட மகளிர் உதைபந்தாட்டப் போட்டியில் மன்னார் அணி சம்பியனானது.

வவுனியா நகரசபை மைதானத்தில் கடந்த சனி, ஞாயிறு ஆகிய தினங்களில் நடைபெற்ற மகளிர் உதைபந்தாட்டப் போட்டியில் யாழ்ப்பாணம், மன்னார், வவுனியா ஆகிய மாவட்டங்களின் அணிகள் பங்குகொண்டன.

நேற்றுமுன்தினம் நடந்த இறுதியாட்டத்தில் மன்னார் அணியும் யாழ்ப்பாண அணியும் மோதின.

மிகவும் விறுவிறுப்பாக நடந்த இந்த ஆட்டத்தில் 1:0 என்ற கோல்கணக்கில் மன்னார் அணி வெற்றிபெற்றது.

வவுனியா மாவட்ட அணியில் இடம்பெற்ற வீராங்கனைகள் நெடுங்கேணிப் பிரதேசத்தில் இருந்து வந்து வவுனியா மாவட்ட அணி சார்பாக விளையாடியது குறிப்பிடத்தக்கது. (3-164)



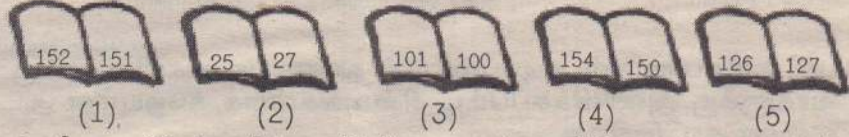
யாழ்ப்பாணம் கிரிக்கெட் மத்தியஸ்தர் சங்கத்தின் ஒன்றுகூடலும் சான்றிதழ் வழங்கும் நிகழ்வும் நேற்றுமுன்தினம் மாலை யாழ்ப்பாணம் கல்லூரியில் இடம்பெற்றபோது எடுக்கப்பட்ட படங்கள் இவை. தமிழீழ விளையாட்டுத்துறை இணைப்பாளர் இன்பன் மங்கள விளக்கினை ஏற்றுவதை முதலாவது படத்திலும் மத்தியஸ்தர் பரீட்சையில் சித்தியடைந்த ஒருவருக்கு தமிழீழ விளையாட்டுத்துறையின் யாழ்ப்பாணக் கிரிக்கெட் துறைப் பொறுப்பாளர் மாதுளன் சான்றிதழ் வழங்குவதை இரண்டாவது படத்திலும் நிகழ்வில் கலந்துகொண்ட விருந்தினர்களை அடுத்துள்ள படத்திலும் காணலாம். (படம்: தமிழினியன்)

கல்விச் சுடர்

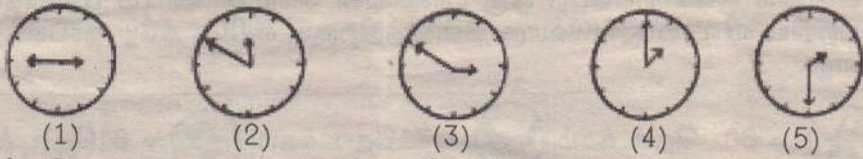
Examination For Grade Five Students For Selection To School And For The Award of Bursaries - 2005

தரம் 5 புலமைப்பரிசில் பரீட்சை மாதிரி வினாத்தாள் இல. 19
வினாத்தாள் - 1 நேரம் : 45 நிமிடங்கள்


1. மிகச் சரியான முறையில் புத்தகங்களுக்குப் பக்க இலக்கமிடப்பட்டுள்ளதைத் தெரிந்து கோடிடுக.



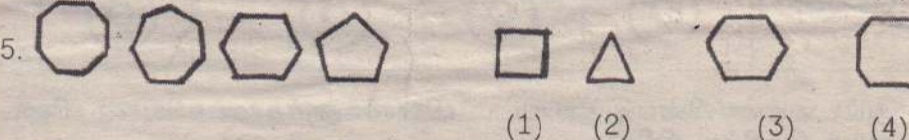
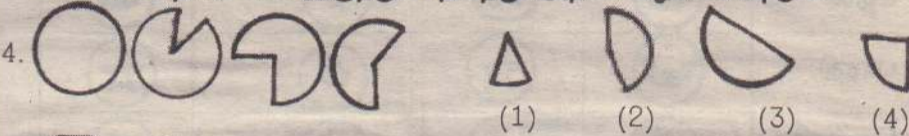
2. மிகச் சரியான இடங்களில் மணித்தியால முள்ளு, நிமிட முள்ளு அமைந்திருக்கும் கடிகார முகத்தைத் தெரிவுசெய்து அதன் கீழ்க் கோடிடுக.



3. மிக வேகமாகச் சுழலும் சக்கரத்தை நிழற்றிக் காட்டுக.




*கீழே காணப்படும் ஒவ்வொரு வினாவிலும் உருக்கள் வரையப்பட்டுள்ள கோலத்தை இனங்கண்டு அடுத்து வரவேண்டிய உருவைத் தரப்பட்டுள்ள விடைகள் நான்கில் இருந்து தெரிந்து அதன் கீழ்க் கோடிடுக.



*கீழே வட்டவரைபுகள் இரண்டின் மூலம் காட்டப்படுவது A, B எனும் இரு தோட்டங்களில் உள்ள மரங்களின் எண்ணிக்கையாகும். A எனும் தோட்டத்திலுள்ள மொத்த மரங்களின் எண்ணிக்கை 80 ஆகும். B எனும் தோட்டத்தில் உள்ள மொத்த மரங்களின் எண்ணிக்கை 120 ஆகும்.

தோட்டம் A தோட்டம் B



தென்னை
மா
கொய்யா
வாழை

6. A எனும் தோட்டத்தில் உள்ளதும், B எனும் தோட்டத்தில் இல்லாததுமான மரவகை யாது?

7. A எனும் தோட்டத்தில் உள்ள மா மரங்களை விட, B எனும் தோட்டத்தில் எத்தனை மா மரங்கள் அதிகம் உள்ளன?


*கீழே காணப்படும் ஒவ்வொரு வினாவிலும் தரப்பட்டுள்ள ஐந்து சொற்களில் நான்கு சொற்கள் ஏதோ ஒரு விதத்தில் தொடர்புபட்டுள்ளன. அத்தகைய சொற்களில் தொடர்பற்ற ஒரு சொல்லைத் தெரிவு செய்து அதன் கீழ்க் கோடிடுக.

8. HIJK, NOPQ, VWXY, RSTU, CDEF

9. அதிகாலை, நாளை, இரவு, மாலை, பகல்

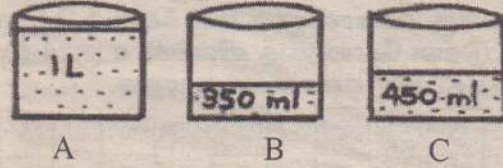
*கீழே காணப்படும் ஒவ்வொரு வினாவிற்கும் உரிய விடையை இடைவெளிகளில் எழுதுக.

10. இவ்வருவில் காட்டப்படுவது வட்டவடிவான ஒரு கம்பியாகும். அவ்வட்டக் கம்பி நிலத்தில் நான்கு முறை சுழன்றால் அது பயணஞ்செய்த தூரம் எத்தனை மீற்றராக இருக்கும்?



11. கனவுரு ஒன்றின் முகங்களில் இரண்டுக்கு வர்ணமிடப்பட்டுள்ளன. அவ்வாறு வர்ணமிடப்படாத முகங்களின் எண்ணிக்கை யாது?

*உருவப் படத்தில் காட்டப்பட்டுள்ளவாறு மூன்று பாத்திரங்களிலும் நீர் உண்டு. அம்மூன்று பாத்திரங்களிலுமுள்ள நீர் ஒவ்வொரு பாத்திரத்திலும் சமமாக இருப்பதற்கு A பாத்திரத்திலிருந்து B, C பாத்திரங்களுக்கு ஊற்றவேண்டிய நீரின் அளவை எழுதுக.



12. A பாத்திரத்திலிருந்து B பாத்திரத்திற்கு ஊற்றவேண்டிய நீரின் அளவு யாது?

13. A பாத்திரத்திலிருந்து C பாத்திரத்திற்கு ஊற்றவேண்டிய நீரின் அளவு யாது?

14. இவ்வருவில் காணப்படுவது ஒரேயளவுள்ள சிறிய சதுரமுகிகளினாலான ஒரு திண்ம வடிவமாகும். உருவின்படி இங்குள்ள சிறிய சதுரமுகிகளின் எண்ணிக்கை யாது?

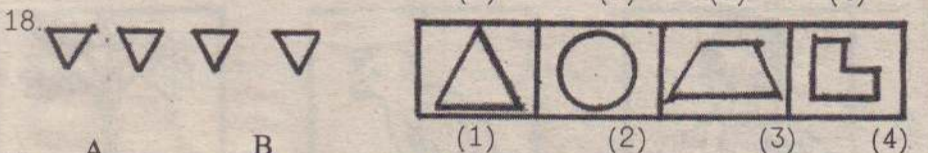
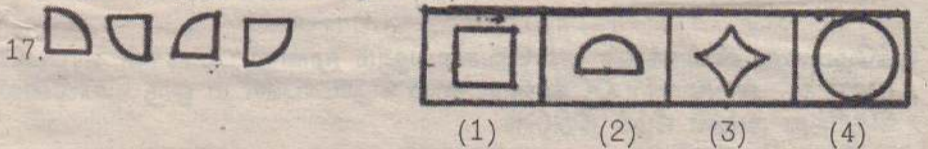


15. B S T K N H V L

சதுரவடிவான "காட்போட்" அட்டைகளில் எழுதப்பட்ட ஆங்கில எழுத்துக்கள் பல மேலே காணப்படுகின்றன. முகம் பார்க்கும் கண்ணாடி ஒன்றின் மூலம் பார்க்கும்போது மாற்றமில்லாமல் (அதேமுறையில்) தென்படும் ஆங்கில எழுத்துக்களை மாத்திரம் எழுதுக.

16. அனில் வடக்குத் திசையாகப் பயணஞ்செய்யும்போது, அவனது நிழல் அவனது வலது பக்கத்தில் விழுந்தது. அப்படியாயின் அவன் பயணஞ்செய்தது காலை வேளையிலா? மாலை வேளையிலா?

*கீழே இடதுபக்கத்தில் தரப்பட்டுள்ள உருக்களைச் சேர்த்து அமைக்கத்தக்க உருவை வலது பக்கத்தில் காணப்படும் நான்கு உருக்களிலிருந்து தெரிந்து அதன் கீழ்க் கீறிடுக.




19. இவ்விரு உருக்களால் காட்டப்படுவது மெழுகு வர்த்தி, சூரியன் என்பவற்றின் மூலம் ஒரு பேணியினதும் மரத்தினதும் நிழல்கள் விழுந்துள்ள முறைகளாகும். இவ்விரு உருக்களுள்.



(1) A மாத்திரம் சரியானது. (2) B மாத்திரம் சரியானது.
(3) A, B இரண்டும் பிழையானது. (4) A, B இரண்டும் சரியானது.

20. இவ்விரு உருக்களுள் (1) A மாத்திரம் சரியானது. (2) B மாத்திரம் சரியானது. (3) A, B இரண்டும் பிழையானது. (4) A, B இரண்டும் சரியானது.



21. பிள்ளை நீர்
(1) சாப்பிடுகிறது. (2) குடிக்கிறது.
(3) விழுங்குகிறது. (4) உறிஞ்சுகிறது.



22. மீன் நீரில்
(1) ஓடுகிறது. (2) நடக்கிறது.
(3) பறக்கிறது. (4) நீந்துகிறது.



ஆண்டு 5இல் கல்விகற்கும் சிறார்கள்!

உங்களுக்கு ஓர் நற்செய்தி

* நீங்கள் கொமர்ஷல் வங்கியின் அருணலு கணக்கு ஒன்றை ஆரம்பித்து/வைத்திருந்து
* 5ஆம் ஆண்டு புலமைப்பரிசில் பரீட்சைக்கு முன்பாக உங்கள் அருணலு கணக்கில் குறைந்தது ரூபா 5,000/- மதி இருந்து
* பாடசாலை மட்டத்தில் 1ஆம், 2ஆம், 3ஆம் தரத்தில் புலமைப் பரிசில் பரீட்சையில் சித்தியடைவீர்களாயின்

கொமர்ஷல் வங்கி
உங்கள் நலமே எங்கள் நோக்கம்

புறமதியான பணப்பரிசில்கள் உங்களுக்காகக் காத்திருக்கின்றன.

*கீழே காணப்படும் வினாக்களுக்குரிய விடைகளைத் தரப்பட்டுள்ள புள்ளிக் கோட்டின் மீது எழுதுக.

23. $\triangle + \square - \bigcirc = 5$

$\square = 8$, $\bigcirc = 12$ எனின் \triangle இன் பெறுமதியாது?

24. $\square - \bigcirc - \triangle = 10$

$\square = 50$, $\triangle = 15$ எனின் \bigcirc இன் பெறுமதி யாது?

*கீழேயுள்ள ஒவ்வொரு வினாவிலும் உருக்கள் 1,2,3 என்பவற்றில் எண்கள் எழுதப்பட்டுள்ள கோலத்தை விளங்கி, உரு. 4 இற்குரிய வெற்றிடத்துக்குப் பொருத்தமான எண்ணை எழுதுக.

25. $\begin{array}{|c|c|c|} \hline 2 & 24 & 3 \\ \hline 4 & \bigcirc & 1 \\ \hline \end{array}$ உரு 1 $\begin{array}{|c|c|c|} \hline 3 & 56 & 2 \\ \hline 5 & \bigcirc & 5 \\ \hline \end{array}$ உரு 2 $\begin{array}{|c|c|c|} \hline 1 & 30 & 3 \\ \hline 4 & \bigcirc & 3 \\ \hline \end{array}$ உரு 3 $\begin{array}{|c|c|c|} \hline 3 & \bigcirc & 1 \\ \hline 5 & \bigcirc & 2 \\ \hline \end{array}$ உரு 4

26. $\begin{array}{|c|c|} \hline 2 & 7 \\ \hline 3 & 8 \\ \hline \end{array}$ (20) $\begin{array}{|c|c|} \hline 5 & 2 \\ \hline 6 & 3 \\ \hline \end{array}$ (16) $\begin{array}{|c|c|} \hline 7 & 3 \\ \hline 4 & 8 \\ \hline \end{array}$ (22) $\begin{array}{|c|c|} \hline 10 & 6 \\ \hline 7 & 0 \\ \hline \end{array}$ () உரு 1 உரு 2 உரு 3 உரு 4

27. $\begin{array}{|c|c|c|} \hline 3 & & \\ \hline 2 & 4 & 14 \\ \hline 2 & & \\ \hline \end{array}$ உரு 1 $\begin{array}{|c|c|c|} \hline 2 & & \\ \hline 5 & 1 & 9 \\ \hline 2 & & \\ \hline \end{array}$ உரு 2 $\begin{array}{|c|c|c|} \hline 5 & & \\ \hline 3 & 2 & 26 \\ \hline 4 & & \\ \hline \end{array}$ உரு 3 $\begin{array}{|c|c|c|} \hline 3 & & \\ \hline 4 & 1 & 15 \\ \hline 1 & & \\ \hline \end{array}$ உரு 4


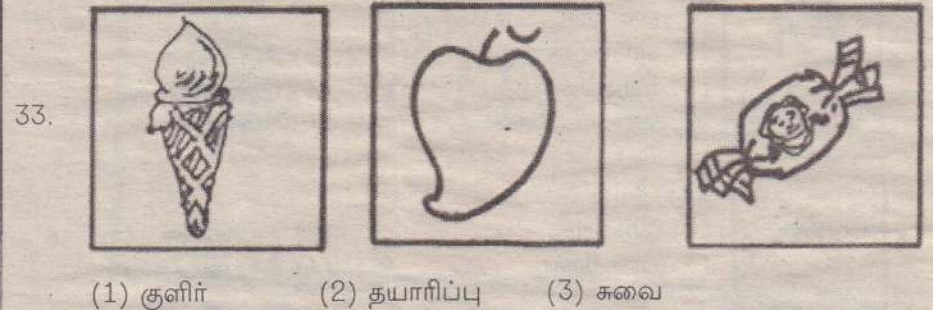
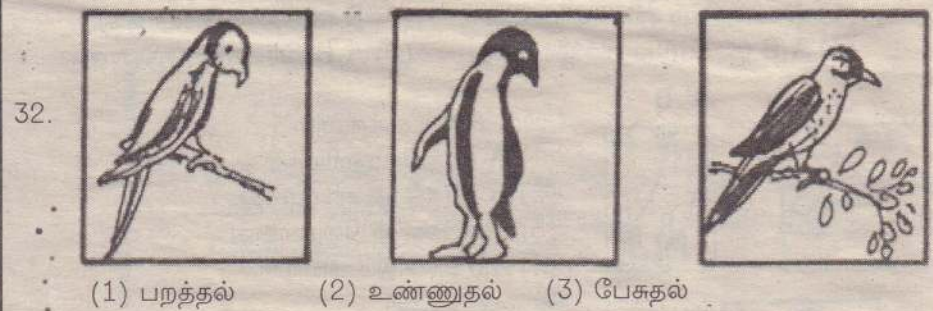
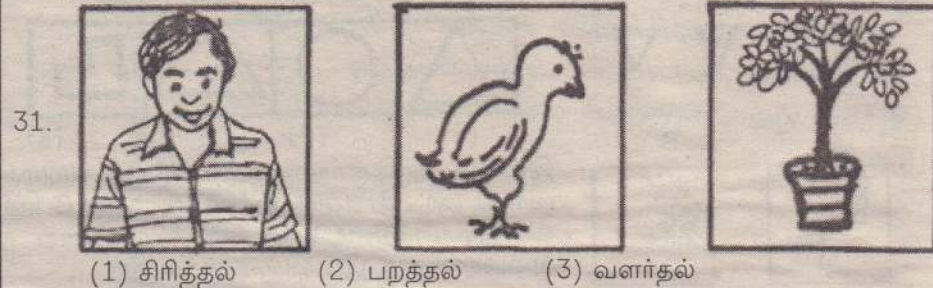
28. உண்டியல் ஒன்றில் 25 சத நாணயங்கள் 8உம், 50 சத நாணயங்கள் 6உம், 1 ரூபா நாணயங்கள் 4 உம், 2 ரூபா நாணயங்கள் 12உம் உண்டு. நான் ஒரே வகையான 9 நாணயங்களை உண்டியலிலிருந்து எடுத்தேன். இப்போது உண்டியலிலுள்ள நாணயங்களின் மொத்தப் பெறுமதி யாது?

29. 2002ஆம் ஆண்டு பெப்ரவரி மாதம் 26ஆம் திகதி செவ்வாய்க்கிழமை எனின், மார்ச் மாதம் இரண்டாம் திகதி என்ன நாளாகும்?

30. என்னிடமுள்ள பணம் ரூபா 15 ஆகும். தம்பியிடம் உள்ள பணம் ரூபா 7 ஆகும். என்னிடமும் தம்பியிடமும் உள்ள பணத்தொகைகள் சமனாவதற்கு நான் தம்பியிடம் எவ்வளவைக் கொடுக்கவேண்டும்?




(1) ரூபா 8 (2) ரூபா 4 (3) ரூபா 11

















*கீழேயுள்ள வினாக்கள் ஒவ்வொன்றிலும் மூன்று படங்கள் தரப்பட்டுள்ளன. அம்மூன்று படங்களுடனும் தொடர்புடைய ஒரு சொல்லைத் தெரிந்து அதன் கீழ்க் கீறிடுக.



*பரிசைப் புள்ளிகள் அடிப்படையில் நான்கு பாடங்களில் நான்கு மாணவர்களுக்கு அணிவிக்கப்பட்ட சின்னங்களைக் கீழேயுள்ள அட்டவணை காட்டுகிறது.

சின்னம் ஒன்றைப்பெற ஒரு மாணவன் பெறவேண்டிய புள்ளிகள் பற்றிய விவரம் ஒவ்வொரு சின்னத்திற்கும் எதிரே கீழே தரப்பட்டுள்ளது.

	= 60 தொடக்கம் 70 புள்ளிகள்		= 71 தொடக்கம் 80 புள்ளிகள்		= 81 தொடக்கம் 100 புள்ளிகள்
--	----------------------------	--	----------------------------	--	-----------------------------

பாடம்	தமிழ்	கணிதம்	சுற்றாடல் சார் செயற்பாடு	ஆங்கிலம்
கரன்				
சுதன்				
பாரதி				
செல்வி				

அட்டவணையின்படி தரப்பட்ட வினாக்களுக்கான சரியான விடையைத் தெரிந்து கீறிடுக.

36. நான்கு பாடங்களிலும் மிகக்கூடிய திறமைகாட்டிய பிள்ளை யார்?
(1) கரன் (2) சுதன் (3) செல்வி
37. நான்கு பிள்ளைகளும் மிகக்கூடிய திறமையை வெளிப்படுத்திய பாடம் எது?
(1) தமிழ் (2) சுற்றாடல் சார் செயற்பாடுகள் (3) ஆங்கிலம்
38. கணித பாடத்தில் மிகக்கூடிய திறமைபெற்ற இருவரும் யாவர்?
(1) கரன், செல்வி (2) சுதன், பாரதி (3) பாரதி, செல்வி
39. சுதன் எத்தனை பாடங்களில் 81க்கும் 100க்குமிடைப்பட்ட புள்ளிகளைப் பெற்றான்?
(1) 1 (2) 2 (3) 3
40. பாரதி நான்கு பாடங்களிலும் பெற்றிருக்கக்கூடிய மொத்தப் புள்ளிகளின் ஆகக் குறைந்த அளவு எத்தனையாக இருக்கலாம்?
(1) 400 (2) 274 (3) 131

வினாத்தாள் II நேரம் -1மணி 15 நிமிடங்கள்
*கீழே காணப்படும் பாடலை வாசித்துக் கீழேயுள்ள 1-15 வரையிலான வினாக்களுக்குரிய விடைகளைப் புள்ளிக்கோட்டின்மீது எழுதுக.

1.

குருவி ஒன்று மரத்திலே
கூடு ஒன்றைக் கட்டியே
அருமைக் குஞ்சு மூன்றையும்
அதில் வளர்த்து வந்தது.
நித்தம் நித்தம் குருவியும்
நீண்ட தூரம் சென்றிடும்
கொத்தி வந்து இரைதனைக்
குஞ்சு தின்னக் கொடுத்திடும்.

விக்கனா கல்வி நிறுவனம்

52, ஸ்ரான்லி வீதி,
யாழ்ப்பாணம்

Acc. திரு.பாலவாசன்
Log. திரு.சயந்தன்
H/C திரு.பத்மராஜா
HN. திரு. N.T. தரன்

P.Sci. திரு. ஸ்ரீரங்கநாத்
Drama திரு. மதி
Eco. திரு. உதயன்
B.St. திரு. முரளி

Chri. திரு. வசந்தன்
Geo. திரு. பாபு
Hst. திரு. பத்மன்
Tam. திரு. குழந்தை (பிரிவு I)
திரு. லிங்கம் (பிரிவு II)

A/L Day Class கலை, வர்த்தகம் (பிரிவு I)
ஆரம்பமாகின்றது.
அனுமதிக்களைப் பெற்றுக்கொள்ளவும்.

1. குருவிக்கு எத்தனை குஞ்சுகள் இருந்தன?

2. நித்தம் நித்தம் குருவி எங்கே சென்றது?

*ஒத்த கருத்துள்ள சொற்கள் தருக.

3. மரம்..... 4. நித்தம்.....

5. இரை..... 6. தின்ன.....

7. குஞ்சுகள் எங்கே வளர்ந்து வந்தன?

8. நீண்ட தூரம் சென்று கொண்டுவந்தது என்ன?

9. நீண்ட தூரம் சென்றது எது?

10. இப்பாடல் பகுதியில் வரும் அடுக்குமொழி ஒன்று தருக

*சேர்த்து எழுதுக.

11. குருவி+ஒன்று..... 12. தூரம்+சென்றிடும்.....

பின்வரும் சொற்களின் கருத்தை ஆங்கிலத்தில்(ஆங்கில எழுத்தில்) தருக.

13. கூடு..... 14. மூன்று..... 15. தூரம்.....

2. கீழே காணப்படும் உருவப் படங்களின்படி கேட்கப்பட்டுள்ள வினாக்களுக்குரிய விடையைத் தருக.




1.

இவ்வுபகரணங்களைப் பயன்படுத்துபவர் எத்தொழிலைச் செய்பவராவார்?



2.

இவ்வுபகரணங்களைப் பயன்படுத்துபவர் எத்தொழிலைச் செய்பவராவார்?



3.

இவ்வுபகரணங்களைப் பயன்படுத்துபவர் எத்தொழிலைச் செய்பவராவார்?

3. கீழே காணப்படும் ஒவ்வொரு வினாவிலும் இடைவெளிக்குப் பொருத்தமான சொல்லை அடைப்புக்குறிக்குள் இருந்து தெரிந்து புள்ளிக்கோட்டின் மீது எழுதுக.

(செய்வார்கள், சென்றேன், செய்வேன், செய்வார், போனோம், படித்தோம்)

1. அவர் சிரமப்பட்டு வேலை.....

2. நான் நேற்று ஊருக்குச்.....

3. நாங்கள் நேற்றுப் பாடம்.....

4. கீழே காணப்படும் சொற்களை ஒழுங்குபடுத்தி வாக்கியமாக்குக.

1. ஒன்று/ உணவுப்பொருட்களை/ குளிர்சாதனப் பெட்டி/ பாதுகாக்கலாம்/ நீண்டகாலம்/ இருப்பதனால்

2. நன்றாக/ சாப்பிடவேண்டும்/ நிலத்தில்/ கழுவியபின்/ விழுந்த பழங்களை

3. பழங்களினால்/ அவசியமான/ கிடைக்கின்றன/ காய்கறி/ விற்றமின்கள்/ உடலுக்கு

5. நீர் அறிந்த இரு பழமொழிகள் தருக

1.....

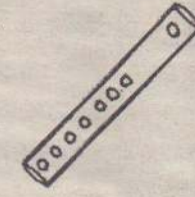
2.....

6. கீழே காணப்படும் வினாக்களுக்குரிய விடைகளை உரிய இடைவெளியில் எழுதுக.

1. இலங்கையின் தேசிய விளையாட்டு எது?

2. அந்த விளையாட்டுக்குப் பயன்படுத்தும் விளையாட்டு உபகரணம் யாது?

3. இந்தச் சங்கீத உபகரணத்தின் பெயர் என்ன?



4. இந்தச் சங்கீத உபகரணத்தினால் ஒலி வெளியேற என்ன செய்ய வேண்டும்?

7. கீழே காணப்படும் வினாக்களுக்குரிய விடைகளை உரிய வெற்றிடத்தில் எழுதுக.

1. IX, XIV, XIII, XIX, VIII எனும் எண்களைப் பெறுமதி கூடிக் கொண்டுசெல்லும் ஒழுங்கில் (ஏறு வரிசையில்) எழுதுக.

2. ஓர் இலையின் மேற்பக்கத்தின் அளவில் அதிகளவு பரப்பளவு கொண்டது பலாவிலையா? அல்லது வாழையிலையா? அல்லது மாவிலையா?

3. இலங்கையில் தற்போது புழக்கத்தில் உள்ள மிகக்கூடிய பெறுமதியுள்ள தாள் காசின் பெறுமதி யாது?

4. இலங்கையின் தற்போது புழக்கத்தில் உள்ள ஆகக் குறைந்த பெறுமதியுள்ள தாள்காசின் பெறுமதி யாது?

5. பின்வரும் தசம பின்னங்களை சாதாரண பின்னங்களாகத் தருக?

1. 0.7..... 2. 0.3.....

6. 2 லீற்றரில் எத்தனை 250 மில்லிலீற்றர்கள் உண்டு?

7. பொது வித்தியாசம் 2 ஆக அமையும் ஓர் எண்கோலத்தை அமைத்துக் காட்டுக.

8. பின்வரும் எண்களை எழுத்தில் எழுதிக் காட்டுக.

1. 9109.....

2. 5095.....

9. பின்வரும் எண்களை இலக்கத்தில் எழுதிக் காட்டுக.

1. எண்ணாயிரத்து எழுநூற்றுத் தொண்ணூறு.....

2. ஒன்பதினாயிரத்துப் பத்து.....

8 கீழே உள்ள வினாக்களுக்கான விடையைப் புள்ளிக்கோட்டில் எழுதுக.

1. இலங்கையின் தேசியப்பறவை யாது?

2. போத்தல் ஒன்றின் மூடியைத் திறக்கப்பயன்படும் உபகரணத்தின் பெயரை எழுதுக.....

UNIT
EVER SPECIAL

ஒவ்வொரு கணனிகளும் சீரிய தரப்படுத்தலுக்கு உள்ளாக்கப்பட்டவை

Aaaa Dii
Offer

Latest PIV கணனிக்
(3 வருட முழு உத்தரவாதம்)
மற்றும் உதிரிகளும்
கொழும்பை ஒத்த விலையில்
பெற்றுக் கொள்ளலாம்.

Printer/Scanner/Table (large)/
High Quality Woofer/ 17" Dell Flat monitor
உடன் UPS, Screen Filter, CD Cleaner,
Dust cover & etc Totally Free

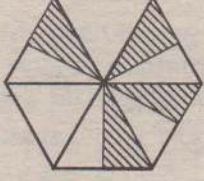
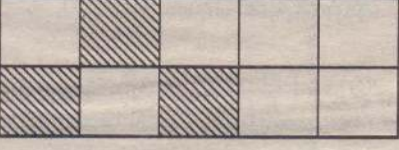
தாயக மின்சார
நிலைமைகளுக்கேற்ப
வடிவமைக்கப்பட்டவை

347, K.K.S. Road,
Manohara Theatre
Junction, Jaffna.

T.P: 021-4590720

3. சிறிய பொருள் ஒன்றைப் பெரிதாக்கிப் பார்ப்பதற்குப் பயன்படுத்தப்படும் உபகரணம் ஒன்றின் பெயரை எழுதுக
4. தூக்குக் குண்டினைப் பயன்படுத்தும் தொழிலாளி யார்?.....
5. தேசிய துக்கதினம் ஒன்று அனுஷ்டிக்கப்படும்போது தேசியக்கொடி எவ்வாறு பறக்க விடப்படும்?.....

9.பின்வரும் வினாக்களுக்கான விடையைப் புள்ளிக்கோட்டில் எழுதுக.

1.  இவ்வருவில் நிழற்றப்பட்டிருப்பது முழு உருவின் என்ன பின்னமாகும்?
.....
2.  (i) இவ்வருவில் நிழற்றப்படாத பகுதி முழு உருவின் என்ன பின்னமாகும்?
.....
(ii) இதில் நிழற்றப்படாத பகுதியைத் தசம எண்ணாகத் தருக.
.....

10. சரியான விடை எழுதுக.

1. எதிர்ப்பாற் சொல் எழுதுக.
கணவன்
2. எதிர்மறைச் சொல் எழுதுக.
வந்தான்.....
3. பன்மைச் சொல் எழுதுக.
அது
4. ஒரு வசனமாக எழுதுக
தம்பி பாடசாலைக்குச் சென்றான்.
தங்கை பாடசாலைக்குச் சென்றாள்.
.....
5. வினாவாக்கியமாக எழுதுக.
நேற்று மழை பெய்தது.
.....

11. சரியான விடையைத் தெரிந்து எழுதுக.

சலசல, அல்லும்பகலும், வட்டவட்ட, சின்னஞ்சிறிய, கண்திறத்தல், பசுமரத்தாணிபோல, அகத்தின் அழகு முகத்தில் தெரியும்.

1. இணை மொழி எது?
2. பழமொழி எது?
3. இரட்டைக் கிளவி எது?
4. அடுக்குமொழி எது?
5. அடுக்கிடுக்குத் தொடர் எது?.....
6. மரபுத் தொடர் எது?
7. உவமைத் தொடர் எது?

12. ஒரு நகரத்தில் கீழ்வரும் உருக்கள் காட்டும் சமய நிலையங்கள் காணப்பட்டன. அவை ஒவ்வொன்றும் எந்த சமயத்திற்கு உரியவை என்பதை அவ்வருக்களின் கீழேயுள்ள புள்ளிக்கோட்டின்மீது எழுதுக.



(1)



(2)



(3)



(4)

2. பின்வரும் ஒவ்வொரு சமய விழாக்களையும் கொண்டாடுபவர்கள் எந்தெந்த சமயத்தவர்கள் என்பதை எதிரேயுள்ள புள்ளிக்கோட்டின்மீது எழுதுக.
1. ரம்ஜான் 2. மகாசிவராத்திரி
3. வெசாக் 4. நத்தார்
3. கீழே ஒவ்வொரு உருக்களினாலும் காட்டப்பட்டுள்ள ஆடையலங்காரத்தின் படி அவர்கள் எந்த சமயத்தைச் சேர்ந்தவர்கள் என்பதை அவ்வருக்களின் கீழேயுள்ள புள்ளிக்கோட்டின் மீது எழுதுக.



(1)



(2)



(3)



(4)

13. பின்வரும் ஒவ்வொரு வாக்கியமும் சரியாயின் (✓) எனவும் பிழையாயின் (X) எனவும் எதிரேயுள்ள அடைப்புக்குறிக்குள் அடையாளமிடுக.

1. முதன் முதலில் தொலைக்காட்சியைக் கண்டுபிடித்தவர் திரு. 'ஜோன் லொக் பெயாட்' ஆவார். (.....)
2. சகல வருடங்களிலும் மேமாதம் 1ஆம் திகதியில் 'சர்வதேச தொழிலாளர் தினம்' கொண்டாடப்படுகிறது. (.....)
3. 'F பகல்' இயந்திரம் ஒன்றினால் எமக்குத் தினமும் செய்திகளை அறிந்து கொள்ளலாம். (.....)
4. பிரதான பாதையைக் கடக்கும்போது முதலில் வலது பக்கத்தையும் பின் இடதுபக்கத்தையும் மீண்டும் வலது பக்கத்தையும் பார்த்துப் பாதையின் குறுக்கே நடக்கவேண்டும். (.....)

14. கீழே காணப்படும் ஒவ்வொரு வாக்கியத்திலும் இடைவெளிக்குப் பொருத்தமான சொல்லை அடைப்புக்குறிக்குள் இருந்து தெரிந்து இடைவெளிகளில் எழுதுக.

(எறும்பை, முயலை, சிங்கத்தை)

1. ஒருவருக்கும் பயமில்லாத அவன் போன்றவன்.
2. மிகச் சறுசறுப்பாக வேலை செய்யும் அவன்..... போன்றவன்.
3. மிகச் சாதுவான அவன் போன்றவன்.

15 'கடந்த ஞாயிற்றுக்கிழமை அன்று நான் பத்திரிகை எடுத்துப் பார்த்தேன். அப்போது என்னும் சம்பவத்தினைத் தொடர்ந்து ஆறு வாக்கியங்கள் எழுதுக.

- 1).....
- 2).....
- 3).....
- 4).....
- 5).....
- 6).....

தயாரிப்பு:-

வேலாயுதன் அன்பாண்டன்

ஆசிரியர்,

யாழ்ப்பாணம் இந்த ஆரம்பப் பாடசாலை

விடை நாளைய பத்திரிகையில்

SCC 2005 A/L பரீட்சைக்குக் கோற்றிய மாணவர்களுக்கான கணனிப் பயிற்சி நெறிகள் அனைத்துப் பயிற்சி நெறிகளிற்கும் 50% கட்டணச் சலுகை



Softview Computer College

www.scclanka.com
43, Arasady Road,
Thaddatheru Junction,
Jaffna, Sri Lanka.

scclanka@hotmail.com
T.P: 021 2225170,
0777846811

- குறைந்த கட்டணம்
- அங்கீகாரமுள்ள சான்றிதழ்
- இலவசப் பாடநூல்
- வரையறையற்ற செய்முறை