



# உதயன்

விலை  
ரூபா  
10.00

www.uthayan.com

சுடர் 21 வள்ளுவர் ஆண்டு 2037 ஆனி 31 சனிக்கிழமை (15.07.2006) UTHAYAN-A Lively National Tamil Daily கதிர் : 229

## புலிகள் பகுதிக்குள் முன்னேறித் தாக்கிய 12 படையினர் பல! 4 போராளிகள் சாவு!!

### இராணுவ கோப்ரல் உயிருடன் பிடிப்பு சிப்பாய்களின் சடலம் புலிகள் வசம் மட்டக்களப்பு வாகனோரியில் சம்பவம்

மட்டக்களப்பு, ஜூலை 15. மட்டக்களப்பு வாகனோரியில் - விடுதலைப் புலிகளின் நிர்வாகப் பிரதேசத்தினுள் முன்னேறிச் சென்று தாக்குதல் நடத்திய இராணுவ அணியைச் சேர்ந்த பன்னிரண்டு பேர் புலிகள் தொடுத்த பதிலடித் தாக்குதலில் உயிரிழந்திருக்கின்றனர்.

அப்பகுதியில் நேற்று அதிகாலை சுமார் ஒரு மணிநேரம் இடம் பெற்ற மோதலில் கொல்லப்பட்ட படையினரில் பன்னிரண்டு பேரின் உடல்களை - இராணுவச் சீருடையுடன் - தாங்கள் மீட்டிருக்கின்றனர் என்றும், கோப்ரல் தர படை அதிகாரி ஒருவர் உயிருடன் கைது செய்யப்பட்டிருக்கிறார் எனவும் விடுதலைப் புலிகள் அறிவித்திருக்கின்றனர். இந்த மோதலில் தமது தரப்பில் நான்கு போராளிகள் உயிரிழந்தும் ஆறுபேர் படுகாயமடைந்தும் உள்ளனர் என்றும் புலிகள் தரப்பில் தெரிவிக்கப்பட்டிருக்கிறது.

மட்டக்களப்பு நகரிலிருந்து சுமார் 37 கிலோமீற்றர் தொலைவில் உள்ள வாகனோரி பிரதேசம் விடுதலைப் புலிகளின் கட்டுப்பாட்டில் இருக்கின்றது. நேற்று அதிகாலை 6 மணியளவில் இந்தப் பிரதேசத்தினுள் முன்னேறிய இராணுவத்தின் அணி ஒன்று சுமார்

5 கிலோமீற்றர் தூரம் முன்னேறி வந்து தாக்குதல் தொடுத்தது என்று விடுதலைப்புலிகள் தெரிவித்திருக்கின்றனர். வாழைச்சேனை காகித ஆலைப் பகுதியில் முகாமிட்டிருக்கும் - ராணுவத்தின் 23-3 (14ஆம் பக்கம் பார்க்க)



### 12 சடலங்களையும் இன்று அரசிடம் கையளிக்க ஏற்பாடு

மட்டக்களப்பு, ஜூலை 15. விடுதலைப் புலிகளின் கட்டுப்பாட்டுப் பகுதியான வாகனோரி பிரதேசத்தினுள் முன்னேறிச் சென்று தாக்குதல் நடத்திய இராணுவத்தினரில் 12 பேரின் சடலங்கள் இன்று அரசிடம் கையளிக்கப்படவுள்ளன.

யடிச்சேனையில் உள்ள புலிகளின் முகாம் ஒன்றில் வைத்து பன்னிரு சடலங்களும் இலங்கைப் போர்நிறுத்தக் கண்காணிப்புக் குழுவினரிடம் ஒப்படைக்கப்படும் என்று விடுதலைப் புலிகளின் மட்டக்களப்பு மாவட்ட அரசியல்துறைப் பொறுப்பாளர் தயாமோகன் தெரிவித்தார். (14ஆம் பக்கம் பார்க்க)

### பதிலடி கொடுக்கப் போகிறோம் என்ற தகவலை இரு மணிநேரம் முன்னரே தெரியப்படுத்தினோம்!

#### வாகனோரி மோதல் குறித்து புலிகள் பிரமுகர் தயாமோகன் விளக்கம்

மட்டக்களப்பு, ஜூலை 15. எமது கட்டுப்பாட்டுப் பகுதிக்குள் முன்னேறி போராளிகள் மீது தாக்குதல் நடத்திய படையினரைத் திருப்பித் தாக்கப்போகிறோம் என்ற தகவலை, பதில் தாக்குதல் தொடுப்பதற்கு இரண்டு மணித்தியாலங்களுக்கு முன்பாகவே போர்நிறுத்தக் கண்காணிப்புக் குழுவுக்குத் தெரியப்படுத்திவிட்டோம்.

விட்டனர். "எங்கள் போராளிகளைத் தாக்கியிருக்கிறார்கள். அவர்களைப் பின்வாங்கச் சொல்லங்கள் அல்லது திருப்பித் தாக்குவோம்" என்று இரு மணித்தியாலங்களுக்கு முன்னரே கண்காணிப்புக் குழுவுக்குத் தெரிவித்தோம்.

இத்தகவலை இராணுவத் தரப்பினருக்கு கண்காணிப்புக்குழு தெரிவித்தது. ஆனால் (14ஆம் பக்கம் பார்க்க)

புலிகளின் மட்டக்களப்பு மாவட்ட அரசியல்துறைப் பொறுப்பாளர் தயாமோகன் இவ்வாறு தெரிவித்திருக்கிறார். வாகனோரியில் படையினர் மீது புலிகளின் அணிகள் நடத்திய பதிலடி தொடர்பாக விளக்க மளிக்கையில் அவர் இப்படிக் கூறியிருக்கிறார்.

அவர் மேலும் தெரிவித்தாவது:- இராணுவத்தினர் பெரும் எண்ணிக்கையில் கடந்த வியாழக்கிழமை இரவு எங்களுடைய கட்டுப்பாட்டுப் பகுதியான வாகனோரி, குளத்து மடு கிராமங்களை நோக்கி முன்னேறி வலிந்து தாக்குதலை நடத்தினர். அதில் எங்கள் போராளிகள் நான்கு பேர் வீரச்சாவடைந்து

### உள்ளே நுழையவும் முயற்சி! பொலீஸார் தடுத்தனர்!!

கொழும்பு, ஜூலை 15. அப்பலோ வைத்தியசாலையில் சிகிச்சை பெற்றுவரும் விடுதலைப்புலிகளின் ஊடகப் பேச்சாளர் தயா மாஸ்டரை கைது செய்யக்கோரி பயங்கரவாதத்திற்கெதிரான தேசிய இயக்கம் நேற்று எதிர்ப்பு ஆர்ப்பாட்ட மொன்றை நடத்தியது.

நாரவேண்பிட்டியிலுள்ள அப்பலோ மருத்துவமனைக்கு முன்பாக இந்த ஆர்ப்பாட்டம் நேற்று நண்பகல் இடம்பெற்றது. விடுதலைப் புலிகளுக்கு எதிராக கோஷங்களை எழுப்பிய ஆர்ப்பாட்டக்காரர்கள், தயா மாஸ்டருக்கு சிகிச்சை வழங்குவதற்கு ஏற்பாடு

### உயிரிழந்த போராளிகளின் விவரம்

மட்டக்களப்பு, ஜூலை 15. மட்டக்களப்பு, வாகனோரிப் பகுதியில் நேற்று இராணுவத்தினர் முன்னேறி நடத்திய தாக்குதலில் உயிரிழந்த விடுதலைப்புலிகள் இயக்க உறுப்பினர்களின் பெயர் விவரங்களைப் புலிகள் அறிவித்துள்ளனர். அவை வருமாறு:-  
\* கப்டன் நவலோஜிதன் (நாகராசா குகன் - முறிப்பு, முள்ளியவளை, முல்லைத் தீவு)  
(14ஆம் பக்கம் பார்க்க)

### தயா மாஸ்டரைக் கைது செய்யக்கோரி அப்பலோவுக்கு வெளியே ஆர்ப்பாட்டம்!

சாடினர். 'தயா மாஸ்டருக்கு சிகிச்சை, படையினருக்கு சாவா,' 'தயா மாஸ்டர் புலியை கைது செய்' என்றவாறான கோஷங்களை ஆர்ப்பாட்டக்காரர்கள் எழுப்பினர். அத்துடன் விடுதலைப் புலிகளுக்கு எதிரான வாசகங்களையும் ஆர்ப்பாட்டக்காரர்கள் ஏந்தியிருந்தனர். (14ஆம் பக்கம் பார்க்க)









# அரசியல் நோய்க்கு தீர்வுகாணும் மாயெரும் மருத்துவர் பிரபாகரன்

கடந்த 10 ஆம் திகதி கினிநொச்சியில் பொது மருத்துவமனை திறந்து வைக்கப்பட்டது. இது தொடர்பான நிகழ்வில் கலந்துகொண்டு நாடாளுமன்ற உறுப்பினர் மா.க. ஈழவேந்தன் நிகழ்த்திய உரை இது.

வன்னியில் எழுந்துள்ள மருத்துவமனை, வைக்கத்தை ஆட்கொள்ளும் மாயெரும் மருத்துவமனையாக ஒளி விடுகிறது. விடுதலைப் புலிகள் என்றால் அவர்கள் வெறும் போராளிகள்தான் அவர்களுக்குப் போரிடத் தெரியும். சில வெற்றிகளை அவர்கள் ஈட்டியுள்ளது உண்மை. ஆனால், அவர்கள் சாவை அணைத்துதான் பெரிது என்று விடுதலைப் புலிகளைப் பற்றி பட்டும் படாமலும் கருத்துக்கள் கூறுவோர் சிலர். ஆனால், விடுதலைப்புலிகளின் போராட்டவரலாற்றினை உற்றுக் கவனிப்போர் தருகின்ற தீர்ப்பு முன்னைய குறிப்பைவிட முற்றிலும் மாறுபட்டது.

குறிப்பாக சட்டத்துறை, நிர்வாகத்துறை, நிதித்துறை, வருவாய்த்துறை, வைப்பகத்துறை ஏன விரித்துக் கூறும் அளவுக்குப் புலிகளின் நிர்வாகப் பகுதியில் பல்துறை நிர்வாகம் திறம்பட செயற்படுகிறது. தரைப்படை, காவற்படை, வான் படை எனப் படைப்பிரிவுகள் காணப்படுகின்றன. உண்மையில் விடுதலைப் புலிகளின் ஆட்சி நடைமுறையில் இருக்கிறது. அதற்கு சட்டவலகு ஒப்புதல்தான் எமக்குத் தேவை. (Their is a defacto government to the Tigers what we need is de jure recognition).

இவ்விதம், துறைகள் அனைத்திலும் துலங்குகின்ற விடுதலைப் புலிகள் மருத்துவத் துறையையும் மறக்கவில்லை. தியாக தீபம் மருத்துவமனை 18 ஆயிரம் நோயாளிகளுக்கு வைத்தியம் செய்கின்றது. கடந்த மார்ச் மாதம் வரை 18 ஆயிரத்து 534 நோயாளிகள் மருத்துவ சிகிச்சை பெற்றுள்ளனர். திலீபன் மருத்துமனைகளில் வைரஸ் காச்சலுக்கு ஆளாகிய 2ஆயிரத்து 721 நோயாளிகளுக்கு வைத்தியம் செய்யப்பட்டுள்ளது. இவ்விதம் பல்வகை நோய்களால் பாதிக்கப்பட்ட தமிழ் மக்களுக்கு மருத்துவம் நடைபெறுகிறது. அவர்கள் நோய் தீர்க்கப்பட்டு நலம் பெற்றுள்ளார்கள். அவற்றின் விரிவினை இங்கு கூற விரும்பவில்லை. இன்று எழுந்துள்ள கினிநொச்சி மருத்துவமனை திலீபன் மருத்துவமனைகளுக்கு வழிகாட்டியாக விளங்கி ஆற்றப்போகும் பணி மிகப் பெரிதாக இருப்பது உறுதி. எம்மைப்பொறுத்தவரையில் ஆங்கில மருத்துவமுறை இங்கு வருவது

தற்கு முன்பேயே தமிழர் மருத்துவத்துறையில் தலையாய இடத்தைப் பெற்றிருந்தனர். திருவள்ளூரின் திருக்குறளில் வருகின்ற மருந்து என்னும் அதிகாரம் நோய்களின் தன்மையை மிக நுணுக்கமாக ஆய்வு செய்கிறது. திருவள்ளூரை அடுத்து தோன்றிய திருமூலர் தந்துள்ள திருமந்திரம் சித்த மருத்துவ அடிப்படையில் நோய்தீர்க்க காட்டும்வழிமுறைகள் எம்மை வியப்பில் ஆழ்த்தும். ஆட்கொல்லி நோயின் தாக்கத்தைக் குறைக்க தமிழ் மருத்துவம் தக்கவழி காட்டுகிறது. திருவள்ளூர் தனது அதிகாரம் 95 இல் மருந்தெனும் பகுதியில் 'மருந்தென வேண்டாம் யாக்கைக்கு அருந்தியது அந்து போற்றி உணின்' என்ற குறள் வாயிலாக உணவு செறிந்த நிலைமையில்தான் அடுத்த உணவினை நாம் அருந்துதல் வேண்டும் அல்லாவிடின், நோய்க்கு

## பல்துறை நிர்வாகத்தை வழிநடத்தும் சீரியபணிகள் இதற்கு உதாரணம்

ஆளாகுவோம் என்று எச்சரிப்பது இங்கு ஆழ்ந்த சிந்தனைக்குரியது. அதே வள்ளுவர் 'மருத்துவ நூலகர் வாடும், பித்தம் சிலைத்தாமம் என எண்ணிய மூன்றும் அளவிற்கு மிகுந்தாலும் குறைந்தாலும் நோய் உண்டாகும்.' என்று தருகின்ற விளக்கம் இன்று மருத்துவ உலகையே வியப்பில் ஆழ்த்துகின்றது.

இன்று சித்தமருத்துவம் தமிழகத்தில் மிகப்பெரும் அளவில் வளர்ந்துள்ளது. ஆட்கொல்லி நோய் என்று கூறப்படும் எயிட்ஸ் நோயை முற்றாக மாற்றமுடியாத நிலையிலும் அதன் தாக்கத்தைக் குறைக்கின்ற அளவிற்கு மூலிகை மருத்துவத்தை தமிழக சித்த மருத்துவர்கள் கையாளுகின்றார்கள். மேலைநாட்டு மருத்துவத்தைப் பயின்றுள்ள மருத்துவர்களும் பெரும்பாலும் அவர்கள் ஆட்கொல்லி நோயின் தாக்கத்தைக் குறைப்பதற்கு ஆற்றிவரும் பணி குறிப்பிடத்தக்கது. தமிழின உணர்வு உள்ள அவரை இங்கு அழைத்து அவரின் அறிவுரையைப் பெறுவது சாஸ்சிறப்புடைய பணியாகும். எம் அரசியல் சேர்க்கைத் தீர்வு காணும் மாயெரும் மருத்துவர் வேலுப்பிள்ளை பிரபாகரன் அவர்களே. இங்கு மேடையில் வீற்றிருக்கின்ற மருத்துவர்கள் பலரை நான் பெரிதும் மதிக்கின்றேன். அவர்களுடைய மருத்துவ

நுண்ணாய்வு, எல்லைமீறிய பொறுமை, தியாக உணர்வு வரலாற்றில் பதியப் படும். ஆனால், இவர்களை மிஞ்சுகின்ற அளவிற்கு எம் இனத்தைப் பீடித்துள்ள நோய்க்குத் தீர்வுகாண முயல்பவர்தான் எம் மாயருத்துவர் மேற்கு வேலுப்பிள்ளை பிரபாகரன் அவர்கள். எம் இனத்தைப் பீடித்துள்ள நோய்க்கு முன்பு கலவை கொடுத்தோம். பின்பு மாத்திரைகொடுத்தோம். அதன் பின்பு உணசி போட்டோம். ஆனால், எதுவித நல் மாற்றத்தையும் நாம் காண முடியவில்லை. எனவே, எம் இனத்தைப் பீடித்துள்ள நோய் ஒரு புற்றுநோய் என அறிந்த நிலையில் அதுவும் முற்றிய புற்றுநோய் என்று உணர்ந்த நிலையில், அறுவை வைத்தியத்தில் நாம் ஈடுபடும் நிலைக்குத் தள எப்பட்டுள்ளோம். எம் தலைவர் பிரபாகரன் இந்த அறுவை வைத்தியத்தினை நாம் எம் இனத்தைக் காப்பாற்ற முடியும் என்று கூறுவது அவரின் ஆழ்ந்த சிந்தனையின் விளைவே ஆகும். ஆளும் கட்சிகள் மாறும், ஆளும் தலைவர்கள் மாறும், ஆனால் ஆளும் இனமாக சிங்கள இனமும் ஆளப்படும் இனமாக தமிழ் இனமும் தொடர்கின்ற நிலையில் எம் இனம் அடிமைப்பட்டு அழிவதைத் தவிர வேறு வழியில்லை. எனவேதான், ஆயுதம் தாங்கிப் போராடுகின்ற அறுவை வைத்திய முறைதான் எமக்குள்ள ஒரு ஒரு வழி என்று எங்கள் தலைவர் பிரபாகரன் கூறுவது வெறும் வெற்றுரை அல்ல, வீர உரையல்ல, மாறாக பொருள் பொதிந்த பொன்னுரையாகும். எம் தந்தை செல்வாவும் எம் இனத்திற்கு ஏற்பட்டுள்ள அரசியல் புற்றுநோயைத் தீர்க்க அறவழிப்போராட்டத்தை அன்று நடத்தினார். ஆனால், இப்போராட்டம் விரும்பிய பயனை அளிக்காத நிலையில் வெறிநாய்க்கு முன்னர் நாம் அறவழிப்போராட்டம் நடத்தினால் அந்த வெறிநாயின் கடிக்கு நாம் ஆளாக நேரிடும். 18 ஊசிகள் போட்டாலும் வெறிநாயின் கடியினால் ஏற்படுகின்ற நீர்வெறுப்பு நோயில் (Rabies) இருந்து தப்புவது கடினம். எனவேதான், ஆயுதப் போராட்டமே உகந்த வழி என்று எங்கள் தலைவர் பிரபாகரன் மொழிகின்ற கருத்து ஏற்புடையதே.

தமிழ்தம் என்ற குழந்தையை நாமே பெறுவோம் மருத்துவச்சிகளாக மற்றவர்கள் துணை நிற்கட்டும். இறுதியில் ஒன்று நான் கூறி முடிக்க விரும்புகின்றேன். தமிழீழம் என்ற குழந்தையை ஈழத்தமிழர்தான் பெற்றெடுக்க வேண்டும். எந்த ஒரு தாயும் தான் கொஞ்சிக் குலாவ ஒரு குழந்தை வேண்டும் என்று விருப்பம் தெரிவித்துக் கொண்டு அந்தக் குழந்தையை இன்னுமொரு பெண் பெற்றுத்தர வேண்டும் என்று கூறுவாளாயின் அப்பெண்ணை நாம் தாயென்று கூறமுடியாது. மாறாகப் பேயென்றே வர்ணிக்கவேண்டும். தன் சேயைத் தான் பெறவிருப்பாத ஒரு தாய் எப்படித் தாயாக இருக்கமுடியும். ஆனால், தமிழீழம் என்ற குழந்தையை நாம் பெற முயல்கின்றபோது ஏற்படுகின்ற தொய்வை நோய்வைப் போக்க மருத்துவச்சிகள் துணையை நாம் நாடுவது தவறல்ல. இந்த மருத்துவச்சிகள் இந்தியத்துணைக் கண்டமாக இருக்கலாம். இந்தியத்துணைக்கண்டத்தின் ஓர் அங்கமாக விளங்குகின்ற 55 ஆயிரம் சதுரமைல் கொண்டிருள்ள 7 கோடிக்கு மேற்பட்ட தமிழர்களைக் கொண்டுள்ள தமிழகமாகவும் இருக்கலாம். தமிழகத்தின் எல்லைப் பரப்பு 55 ஆயிரம் சதுரமைல். இலங்கையின் எல்லைப் பரப்பு 25 ஆயிரம் சதுரமைல்தான். அடிக்கடி கொக்கரிக்கின்ற இலங்கை அரசு இந்தக் கசப்பான உண்மையை உணர்வது நலம்.

தமிழகத்தில் இன்று எமக்காக மருத்துவச்சிகளாகத் துணைநிற்க நின்றீர் பழுநெடுமான், வையம் ஏற்றும் வைகோவும், விடுதலைச் சிறுத்தைகள் திருமாவளவனும், பாட்டாளி மக்கள் கட்சித் தலைவர் டாக்டர் ராமதாஸ் அவர்களும் மற்றும் அங்குள்ள அறிஞர் உலகமும் எமக்காக எழுப்புகின்ற குரல் டில்லியை செவிசாய்க்க வைப்பது உறுதி.

எம்மைப் பொறுத்தவரையில் தமிழகம் ஒன்றாகக் குரல் எழுப்புகின்ற போது அதற்கு டில்லி செவிசாய்த்தால் தமிழீழம் தானாக மலர்வதை எவரும் தடுக்க முடியாது. இது வரலாற்றின் கட்டாயமாகும். வரலாற்றின் தீர்ப்பினை உலக சக்திகள் எவற்றாலும் தடுத்து நிறுத்த முடியாது. எனவே, விரைவில் ஐ.நா. மன்றத்தில் தமிழீழத்தின் விடுதலைப்புலிகளின் தேசியக் கொடி பட்டொளி வீசிப் பறப்பது உறுதி. "தாயின் மணிக்கொடிபாரீர். அதைத் தாழ்ந்து பணிந்திட வாரீர்" என்ற நிலையில் அந்தத் தாயின் மணிக்கொடியைத் தாழ்ந்து பணிந்து பெருமிதமும் பேருவகையும் எத்துவோமாக.

## இராமேஸ்வரம் பகுதிக்கு வந்த இலங்கை மீனவர்கள் 2 பேர் கைது

இராமேஸ்வரம் கடற்பகுதிக்குள் எல்லைமீறி வந்த இலங்கை மீனவர்கள் இருவரை படகுடன் செவ்வாய்க்கிழமை இரவு 11.30 மணியளவில் கைது செய்த இந்தியக் கடற்படையினர், இராமேஸ்வரம் பொலிஸாரிடம் அவர்களை ஒப்படைத்தனர்.

மன்னார் பேசாலை கடற்கரைப் பகுதியிலிருந்து மீன்பிடிப்பதற்காக வந்தபோது கடற்கொந்தளிப்பு காரணமாக திசைமாறி இராமேஸ்வரம் கடற்பகுதிக்குள் நுழைந்தனர். கடற்படையினரின் விசாரணையின்போது அவர்கள் தெரிவித்தனர். இதையடுத்து, இவர்கள் இராமேஸ்வரத்தில் உள்ள கடற்படை முகாமுக்கு கொண்டு வரப்பட்டு தொடர் விசாரணை நடத்தியதில் அவர்களிடமிருந்து 14 ஆயிரம் ரூபா பறிமுதல் செய்யப்பட்டது. அவர்களது 'என்ஜின்' பொருத்திய படகும் பறிமுதல் செய்யப்பட்டது.

அவர்கள் இருவரும் இலங்கை பேசாலைப் பகுதியைச் சேர்ந்த நித்தியானந்தம் (வயது-21), பாஸ்பியான்குரூஸ் (வயது-20) என்பதும் விசாரணையில் தெரியவந்தது. பின்னர் மீனவர்கள் இருவர் மீதும் இந்திய எல்லை மீறி வந்தனர் எனக் கூறி நகர் பொலிஸ் நிலைய இன்ஸ்பெக்டர் சங்கிலி, கடவுச்சீட்டு வழக்கின் கீழ் கைது செய்து இராமேஸ்வரம் நீதிமன்றத்தில் ஆஜர்ப்படுத்தினார். (எ)

**திகுத்தி வாசிக்கவும்**  
நேற்றைய 'உதயன்' பத்திரிகையில் 13 ஆம் பக்கத்தில் வெளியான நிலைவஞ்சலி நிகழ்வு விளம்பரத்தில் அமரர் கந்தையா இராமநாதன் பற்றிய செய்தியை அமரர் கந்தையா என்ற பிரச்சாரமாணியின் எழுத்து அழகுடன் வாசிக்கவும்

## 45 ஆம் நாளில் அஞ்சலி



தோற்றம்	09
	01
	01
	1948
மறைவு	01
	06
	2006

**திருமதி வடிவேல் பத்மாவதி**  
மங்கா ஒளியாய் குடும்பத்து குலவிளக்காய் மண்ணில் பிரகாசித்த மாணிக்கமே! மின்னாமல் முழங்காமல் பெய்த மழையாய் எண்ணாமல் நாமிருக்க எங்கம்மா போனாய்! காலத்தின் கோலமோ காலனின் வேலையோ கண்ணீர் மல்கி கதிகலங்கி நிற்கிறோம்.  
பிரிவால் துயரமும்; வடிவேல் (கணவர்), இராஜகுமாரன், இராஜசுதன், இராஜசுகன், தயானா (பிள்ளைகள்), கன்னிகா (மருமகள்), கிபீசன், கிஷோத் (பேரப்பிள்ளைகள்).  
சுற்றும், புராணம்.  
(சி-50220)

**NOTICE**  
University of Jaffna  
IRQUE Project  
Skill Enhancement in English - Final year Project  
Intensive Course in English  
Baseline Indicator - Placement Test  
The above test will be held on the main Campus of the University of Jaffna, Thirunelvely and on the Vavuniya campus on the 22nd July 2006 from 10.00 am to 3.00 p.m. Only those who followed their degree programme at Vavuniya Campus will be allowed to sit the test at Vavuniya Campus.  
The Students who applied to follow the Intensive Course in English (the Arts, Management Studies & Commerce Students who sat their final examinations in 2005/2006) are requested to sit the above test as it is a prerequisite to follow the course. Those who have failed to apply to follow the course will also be allowed to sit the examination.  
Prof.K.Kandasamy,  
Director/LTS,  
IRQUE Project,  
University of Jaffna.  
(C/ 50211)



06. 3 எனும் பின்னத்தைத் தசம் எண்ணாகத் தருக. ....

07. 5 அபியாசக் கொப்பிகளை விலைக்கு வாங்கிய ஒருவர் கடைக்காரரிடம் ரூபா 100 ஐக் கொடுத்தார். கடைக்காரர் அவருக்கு ரூபா 37.50 ஐ மீதியாகக் கொடுத்தார் எனின், அபியாசக் கொப்பி ஒன்றின் விலை யாது? ரூபா ..... சதம் .....

0 8	இல்லம்	1ஆம் இடம்	2ஆம் இடம்	3ஆம் இடம்
	தாமரை	20	6	5
	அல்லி	10	18	9
	ரோசா	4	10	20

இப்போட்டியில் 1ஆம் இடம் பெற்ற ஒருவருக்கு ரூபா 100 உம் 2ஆம் இடம் பெற்ற ஒருவருக்கு ரூபா 75 உம் 3ஆம் இடம் பெற்ற ஒருவருக்கு ரூபா 50 உம் பெறுமதியான பரிசுப் பொதிகள் வழங்கப்பட்டன. எனின் ரோசா இல்லத்திற்குக் கிடைத்த பரிசுகளின் மொத்தப் பெறுமதி யாது?

.....ரூபா.....சதம்

பாடசாலை இல்ல விளையாட்டுப் போட்டியொன்றில் இல்லங்கள் பெற்றுக் கொண்ட 1ஆம் 2ஆம் 3ஆம் இடங்களின் எண்ணிக்கை அட்டவணையில் தரப்பட்டுள்ளது.

1ஆம் இடத்திற்கு 5 புள்ளிகளும் 2ஆம் இடத்திற்கு 3 புள்ளிகளும் 3ஆம் இடத்திற்கு 1 புள்ளியும் கொடுக்கப்பட்டது. இதன்படி ஒவ்வொரு இல்லமும் பெற்றுக் கொண்ட மொத்தப் புள்ளிகளைத் தனித்தனியே தருக

09. தாமரை .....

10. அல்லி .....

11. ரோசா .....

13] பின்வரும் ஆங்கிலச் சொற்களுக்குச் சமமான தமிழ்ச் சொற்களை எழுதுக.  
01. Moon ..... 02. Tomorrow .....  
03. Paddy ..... 04. Television .....

- 14] பின்வரும் தமிழ்ச் சொற்களின் சிங்களச் சொல்லை சிங்கள எழுத்தில் எழுதுக.  
01. காசம் ..... 02. கிளி .....
- 15] பின்வரும் சிங்களச் சொற்கள் குறிக்கும் தமிழ்ச் சொல்லை எழுதுக  
01. கொந்த ..... 02. மல் .....
- 16] கடந்த ஞாயிற்றுக்கிழமை அன்று நான் பத்திரிகை எழுதும் பார்த்தேன். அப்போது..... எனனும் சம்பவத்தினைத் தொடர்ந்து ஆறு வாக்கியங்கள் எழுதுக.  
1).....  
2).....  
3).....  
4).....  
5).....  
6).....

கல்விச்சுடரில் வெளிவரும் வினாக்களிலும், விடைகளிலும் ஏதாவது தவறுகள் அல்லது சந்தேகங்கள், விளக்கமின்மைகள் ஏற்படின் கீழ்வரும் தொலைபேசி இலக்கத்திற்குத் தொடர்பு கொண்டால் அல்லது விவாசத்திற்கு எழுதி அனுப்பினால் உரிய ஆசிரியர்களுடன் தொடர்பு கொண்டு உங்களது சந்தேகங்கள் தெளிவாக்கப்படும்.

தொ.பே. இல. 0714-273035, 0714-220008

**கல்விச்சுடர்**  
**உதயன் பணிமனை,**  
361, கஸ்தூரியார் வீதி, யாழ்ப்பாணம்.

**பதினைந்தாம் ஆண்டு நினைவுஞ்சலி**

தாயின் மடியில்	12	இறைவன் அடியில்	15
-	-	-	-
05	07		
-	-		
1936	1991		

**அமரர் கணபதி செல்வராஜா**  
(ஓய்வுபெற்ற மின் இணைப்பாளர், காங்கேசன்துறை)  
எங்களிற்கு நல்வழி காட்டிய அப்பாவே!  
எமக்கு இனிய வழிவகுத்த தெய்வமே!  
என்றென்றும் எங்கள் உயிர் உள்வரை இந்த மண்ணில் உங்களோடு வாழ்ந்த நினைவுகள் எம் மனதை விட்டு அகலாது!

ஓம் சாந்தி! சாந்தி! சாந்தி!  
நீங்காத நினைவுகளுடன்:  
**அன்பு மனைவி,**  
**பாசமிகு பிள்ளைகள்,**  
**மருமக்கள், பேரப்பிள்ளைகள்.**

'ராஜஸ்தான்' காளிகோயில் வீதி, கோண்டாவில் கிழக்கு.

**'திருவருட்பயன் வசன ரூபம்' நூல் இலவசமாக வெளியீடு**

யாழ்ப்பாணம், ஜூலை 15 வல்வெட்டி கவிஞர் ஆ.கதிர்காமத்தம்பியின் துணைவியார் அமரர் திருமதி மாதே விப்பிள்ளை கதிர்காமத்தம்பியுடைய 'திருவருட்பயன் வசனரூபம்' என்னும் நூல் அண்மையில் வெளியிட்டு வைக்கப்பட்டுள்ளது. அமரரால் எழுதப்பட்டு தொண்டை மானாறு சந்திதியான் ஆச்சிரமத்தின் வெளியீடான 'ஞானச்சுடர்' சஞ்சிகையில் தொடராக பிரசுரிக்கப்பட்டுவந்த தொகுப்பே தற்போது நூல் வடிவில் வெளியீடு செய்யப்பட்டுள்ளதாகத் தெரிவிக்கப்பட்டது.

'திருவருட்பயன் வசனரூபம்' நூலின் வெளியீட்டுவிழா கடந்த மாதம் 2ஆம் திகதி தொண்டைமானாறு சந்திதியான் ஆச்சிரமத்தில் நடைபெற்றது. சிவத்தமிழ் வித்தகர் சிவமகாலிங்கம், யாழ்ப்பாணம் பல்கலைக்கழக இந்து நாகரிகத்துறையைச் சேர்ந்த விரிவுரையாளர்களான திருமதி கலைவாணி இராமநாதன், திருமதி நாச்சியார் செல்வநாயகம் ஆகியோர் இந்த விழாவில் கலந்துகொண்டு உரையாற்றினர்.

ஜி.சீ.ஈ.உயர்தர மாணவர்களின் கற்றல் செயற்பாடுகளுக்கு உதவும் வகையில் வெளியிடப்பட்டுள்ள இந்த நூலை இலவசமாகப் பெற விரும்புவோர் தபால் தபால் செலவாக ரூ.18 பெறுமதியான முத்திரை ஒட்டிய தபாலுறையை 'ஆ.கதிர்காமத்தம்பி, பிலாவடி வீதி, புலோலி மேற்கு, புலோலி' என்ற முகவரிக்கு அனுப்பிப் பெற்றுக் கொள்ளலாம் எனத் தெரிவிக்கப்பட்டது.

**முதலாவது பிறந்தநாள் வாழ்த்து**

நவீனமில்,  
இராக்கியந்தோட்டத்தைச் சேர்ந்த  
**சதீசன் - விசித்திரா**  
தம்பதியின் செல்வப்புதல்வி  
**சந்தியா** தனது முதலாவது பிறந்தநாளை இன்று (15-07-2006) சனிக்கிழமை தனது இல்லத்தில் வெகுமரிசையாகக் கொண்டாடுகின்றார். இவரை அன்பு அப்பா, அம்மா, குணசிங்கம் அப்பையா குடும்பம், வீஜயன் ஐயா குடும்பம், உறவினர் அனைவரும் பல்பல அன்புடன் காலம் சீரும் சிறப்புடனும் இறைவன் துணைகொண்டு வாழ்க வளம் வாழ்த்துகின்றார்கள்.

தகவல்:  
**அப்பா சதீசன்**  
இராக்கியந்தோட்டம், நவீனமில்.

**CHUNDIKULI GIRLS' COLLEGE**  
**OLD GIRLS' ASSOCIATION**  
Our Annual General Meeting and get to - gether will be held on Saturday 22<sup>nd</sup> July 2006, in the college hall

**AGENDA**

- 9.00 a.m.- Thanks Giving Service at St.John the Baptist's Church, Chundikuli
- 10.00 a.m.- Honouring the Principal Emeritus
- Felicitating the new Principal
- 10.30 a.m.- Tea
- 11.00 a.m. - A.G.M.
- 12.30 p.m.- Fellowship Lunch

Lunch Tickets can be obtained from the O.G.A. committee members  
Tickets - Rs 150/=

T.P.: 222 7159 / 7753  
-The Secretary.  
All Old Girls are cordially invited (52154)

**கலாலயா பயிற்சியகம்**  
மகளிருக்கான தாரீத ஒருமாத / 3மாத பயிற்சிகள்

\*கேக் ஐலிங் \*கூந்தல் அலங்காரம் \*உணவு தயாரித்தல் \*FABRIC PAINTING  
\*பூ வேலை \*கைவேலை \*FACIAL \*சாதி பிளவுல், சல்வார், பஞ்சாபி தைத்தல்  
\*புதிதாகத் தையல் பழக விரும்புவோருக்கான தையல் வகுப்புகள்

இவை நிறுத்தப்பட்டிருந்த புதிய கிழமை நாளும் சனி, குவர்டு வகுப்புகளுக்கான அனுமதிக்கீட்டு மீண்டும் வழங்கப்படுகின்றன. புதிதாகச் சேர விரும்பும் மாணவிகள் தொடர்புகொள்ளவும்.

மேலும் விவரங்களை வேண்டி தலைநகர சபைய நாள்களில் பிற்பகல் 2 மணிவரை தேரில் அறிந்துகொள்ளலாம்.  
(A/50181) (24-19-14) - **பதிவாளர்.**

**COMPUTER EXPRESS**  
Institute of Information Technology  
இல.15, சிறாம்பியடி வீதி, யாழ்ப்பாணம்.  
021-222 8250, 0777 222422

உள்ளூர், வெளிநாட்டு வேலைவாய்ப்புக்களைப்பெற, சுயதொழில் ஆரம்பிப்பதற்கு மற்றும் தரம்வாய்ந்த சான்றிதழைப் பெற

**Graphic** கலாநெறியின் புதிய வழிவகுப்புகளுடன் ஒருவாரகால முழுமையான பயிற்சி

**Diploma in Graphic Designing**      **Diploma in Video Mixing**

**Course Contents**

- கணனி தொடர்பான அறிமுகம்
- இயக்க அமைப்பு (Windows XP)
- Internet & e-mail
- Adobe Photoshop
- CorelDRAW
- Cool 3D Studio
- Macro media Flash MX
- Introduction to 3D Album
- Extra practical

Course fee :- 2000/=

**நன்மைகள்:-**

- பாடநெறியின் இறுதியில் புரண அறிவைப் பெற்றுக்கொள்வதற்கான உத்தரவாதம்.
- அடிப்படைமட்டிலிருந்து கற்பிக்கப்படுவதால் கணனி தொடர்பான முன்னறிவு அவசியமில்லை.
- தராதரமும் நீண்ட அனுபவமும் கொண்ட விரிவுரையாளர்களால் கற்பிக்கப்படுகின்றது.
- 100% செய்முறைப் பயிற்சிகளுடனான விரிவுரைகளிற்கு உத்தரவாதம்.

வகுப்புகள் ஆரம்பம்:- **17/07/2006**

**கிராம அலுவலர் மறுப்பு**

நெல்லியடி, தடங்கல் புளியடியில் கடந்த 7ஆம் திகதி 3 கிரேட்டுகள் மீட்கப்பட்ட சம்பவத்தின் போது பொலீஸாருக்குத் தான் தகவல் தெரிவிக்கவில்லை என்று அப்பகுதி கிராம அலுவலர் சி.பிரபாகரன் தெரிவித்துள்ளார்.

இச்சம்பவம் குறித்து கடந்த 10ஆம் திகதி உதயனில் வெளியான செய்தியில் வெடிக்காத நிலையில் காணப்பட்ட கிரேட்டுகள் குறித்து தான் பொலீஸாரிடம் முறையிட்டதாகக் குறிப்பிடப்பட்டது.

**நீங்கா நினைவுகளை முதலாம் ஆண்டு...**

மலர்வு	10	உதிர்வு	26
-	-	-	-
09	06		
-	-		
1937	2005		

**அமரர் கனகசபை கணேசன்**  
(ஓய்வுபெற்ற ஆசிரியரும், பக்க வீதி 'கணேசன் ஸ்ரோம்' உரிமையாளரும்)  
திதி: அவிட்ட பஞ்சமி (15-07-2006)  
அல்லும் பகலும் அயராது பாடுபட்டு 'இல்லத்தை ஒளிபூட்டி' வழிகாட்டி நின்றவரே உம் அன்பு முகம் மறைந்து ஆண்டொன்று ஆனதப்பா! ஆறிடுமா எம் துயரம்? மாறிடுமா எம் சோகம்?

**மலர்வு**      **உதிர்வு**  
10      26  
09      06  
1937      2005

**அமரர் கனகசபை கணேசன்**  
(ஓய்வுபெற்ற ஆசிரியரும், பக்க வீதி 'கணேசன் ஸ்ரோம்' உரிமையாளரும்)  
திதி: அவிட்ட பஞ்சமி (15-07-2006)  
அல்லும் பகலும் அயராது பாடுபட்டு 'இல்லத்தை ஒளிபூட்டி' வழிகாட்டி நின்றவரே உம் அன்பு முகம் மறைந்து ஆண்டொன்று ஆனதப்பா! ஆறிடுமா எம் துயரம்? மாறிடுமா எம் சோகம்?


**மலர்வு**      **உதிர்வு**  
10      26  
09      06  
1937      2005

**அமரர் கனகசபை கணேசன்**  
(ஓய்வுபெற்ற ஆசிரியரும், பக்க வீதி 'கணேசன் ஸ்ரோம்' உரிமையாளரும்)  
திதி: அவிட்ட பஞ்சமி (15-07-2006)  
அல்லும் பகலும் அயராது பாடுபட்டு 'இல்லத்தை ஒளிபூட்டி' வழிகாட்டி நின்றவரே உம் அன்பு முகம் மறைந்து ஆண்டொன்று ஆனதப்பா! ஆறிடுமா எம் துயரம்? மாறிடுமா எம் சோகம்?

**மலர்வு**      **உதிர்வு**  
10      26  
09      06  
1937      2005







# CARITAS – HUDEC - JAFFNA

## VACANCIES



### 1. Field Officers (Construction)

**Base Station:** Mullaitivu (3 Positions)

**Main Duties :**

- Assist in all construction activities & give regular information to the Field Coordinator and provides detailed and exhaustive news of the evolution of operations.
- In collaboration with the administration to collect all the documents needed to establish the final reports to Caritas SEDEC (Purchase Orders, Good Received Notes, Quotations, Traveling claims details...) for construction
- In case of emergency, the Field Officer can negotiate with the suppliers and found a solution about the programme supplies.
- Manage the skilled labour (masons, carpenters etc.)

**Requirements:**

- NCT in Civil Engineering or equivalent with 2 years experience in the same field
- Experience in Implementation, Monitoring and Evaluating
- Strong interpersonal and liaison skills.
- Computer literacy in WinWord, Excel and email software.
- Experience in preparing Monthly Progress Activity Report and Sites Advancement Report
- Good team player
- Fluency in Tamil & English
- Posses a valid driving license

### 2. Children Programme Assistant

**Base Station:** Kilinochchi(1 position)

**Main Duties:**

- Assist the Program Manager in conducting coordination meetings and workshops with caregivers.
- Conducting workshops with children.
- Preparing reports of workshops and meetings with caregivers and children.
- Conduct regular visits in Children's Home to monitor the implementation of activities.
- Updating regularly the data records about the children living in the Children's Homes involved in the Program.
- Monitoring and Supervise Resource Personnel employed for specific activities within the frame of the Program.
- Conducting participatory needs assessment in the Children's Homes involved in the Program.
- Supervise in cooperation with the finance department in Kilinochchi office the expenditures for monthly support cost.
- Monitoring and reporting in cooperation with the construction department in Kilinochchi office the progress of construction work in Chidlren Homes.

**Requirements:**

- Background on child care
- Experience in conducting workshop
- Knowledge in community based approach
- Experience in psycho-social activities
- Good team player
- Computer literacy
- Fluency in English, spoken and written
- Willingness to travel to Jaffna and Mullaitivu

### 3. Livelihood Field Officer -Agriculture

**Base Station:** Vadamarachchi East (1 position)

**Main Duties:**

- The Field Officer has in cooperation with Caritas - Hudec the responsibility of the daily implementation of the agriculture related projects, part of the livelihood programme, under the supervision of the livelihood programme manager.
- Project activities include rehabilitation activities ranging from distribution of material and tools (e.g. seeds, fertilizers, equipments), development of self sustainable activities for farmers (home gardening, food processing, marketing), assistance to the agriculture structures (cooperatives, societies, training centers) as well as trainings (including new practices and technologies development).
- Longer term interventions include livelihood recovery support, mobilization and development and capacity building of community groups.

- The FO is also responsible for helping to maintain a database of project activities, prepare project proposals and provide ongoing monitoring and evaluation of community projects
- S/He works closely with community-level government authorities, religious leaders of all faiths and community committees (VDF, socio-eco committee etc.)
- Provide expertise to questions related to agriculture.
- Ensure involvement of affected populations in assessment as well as in planning and implementation.

**Requirements:**

- Bachelors in social work or equivalent degree with at least two year community-based work experience
- Knowledge and experience working with participatory methods and community
- Demonstrated knowledge in agriculture and small enterprises sectors
- English language skills required
- Excellent knowledge of computer packages such as excel, access and word
- Good communication and organizational skills
- Ability to work as a team, travel extensively and work in difficult conditions
- Ability to work with religious leaders and communities regardless of own religious affiliation
- Posses a valid driving license

### 4. Livelihoods Programme Manager

**Base Station:** Mullaitivu(1 position)

**General duties:**

- In cooperation with CARITAS – HUDEC, look into different needs, approaches and possibilities. Plan and finalize the various project components in the sector of livelihood. Take into consideration the policy of the local authorities.
- Assist in the definition of a strategy with CARITAS-HUDEC as well as a time schedule for the implementation. Regularly check the time planning with the implementation.
- Liaise with the Programme Manager(s) and the Officers to ensure that implementation of the programmes are adequately planned and conducted.
- Set up, in coordination with CARITAS-HUDEC, the working structure for the implementation. Identify the needs of the livelihood staff, in terms of trainings and assist in the implementation of all capacity building activities.
- Liaise with all involved actors in the field of livelihood, be it local authorities and institutions, international organisations or other bodies. Attend the regular sector meetings.
- Assist CARITAS-HUDEC in getting all documents and agreements in order to start the implementation.
- Assist CARITAS-HUDEC in the decision making process (selection of projects, definition of selection criteria, target groups, strategies etc.)
- Support CARITAS-HUDEC in the project documentation.
- Provide expertise to questions related to livelihood AMD/OR liaise with international OR local experts in order to provide additional expertise.
- Assure proper communication between all involved parties.
- Support CARITAS-HUDEC in formulating the reporting in the narrative interim and final report.
- Ensure involvement of affected populations in assessment as well as in planning and implementation.

**Requirements:**

- Demonstrated management experience with a special emphasis on project management related to micro-enterprise and income generating activities
- Experience using word processors, spreadsheets, and email
- Knowledge and experience working with participatory methods
- Demonstrated knowledge in agriculture, fisheries and small enterprises sectors
- Fluency in Tamil and English
- Good communication and managerial skills

Caritas-Hudec recruits qualified individuals without distinction of ethnic background, religion or gender.

If you would like to be a part of a dedicated team in a humanitarian context, Please send us your CV & motivation letter including your contacts & minimal two references to the following address, latest by

**25 July 2006**

**Director,  
Caritas-Hudec  
14 Mathew's Road, or E-mail: hudec@sltnet.lk  
Jaffna.**

PLEASE SPECIFY THE POST YOU APPLY FOR IN YOUR APPLICATION WITH CONTACT TELEPHONE NUMBERS



## COMPUTERIZED ACCOUNTING

Speed Batch only 30 Hours

விரிவுரைகள் ஆரம்பமாகிவிட்டன

Days :- Sat, Sun  
Time :- 4.00 - 5.30 P.M  
Only For 10 Students

★ கணக்கியல் அறிவில்லாதவர்களும் இணைந்து பயிற்சி பெற முடியும்.  
★ பயிற்சிகள் யாவும் Qualified & Experience Lecturers மற்றும் Banking Professionals ஆல் நடாத்தப்படும்.

**C.B Computer Academy**

T.P.No 021-4590291 Station Road, Kondavil

ஓம் சக்தி கணபதி துணை

## உங்கள் பெயரிலே பேரதிர்ஷ்டம்

உங்கள் பெயர் மூலமே உங்களின் சகல விதமான பிரச் சினைகளையும் தீர்த்துக்கொள்ள முடியும்.

வியாபாரத்தில் அதிக இலாபம், காலாகாலத்தில் திரு மணம், காலதாமதமின்றி மகப்பேறு, தீராதநோய் தீரல், குறைபாடு, பலவீனம் விலகுதல், வாழும் இல்லத்தில் நிரந்தர நிம்மதி, இன்னோரன்ன கவலைகள் தீர நிரந்தர பரிசாரம், ஆலோசனை பெறமுடியும்.

**தொடர்புகளுக்கு:**  
0777 884163

## ரவின் பியூரோ

பழம் வீதி,  
கோப்பாய் தெற்கு.

(51222)

சிவமயம்

## கந்தபுராண படன யூர்த்தி விழா

### வள்ளியம்மை திருமணப் படிப்பு

**இடம்:** குப்பிழான் கற்கரைக் கற்பக விநாயகர் திருக்கோயில்  
**காலம்:** நாளை (16.07.2006) ஞாயிற்றுக்கிழமை  
**நேரம்:** காலை 7 மணிக்கு ஆரம்பம்

★ பெளராணிக வித்தகர்களும், கந்த புராணப் பற்றுறுதியாளர்களும் வருகைகொண்டு கந்தன் கவியமுதை மாந்திக்களிக்க வேண்டுகிறோம்.

வாழ்க சீரடியாரெல்லாம்  
சிவசிவ

குப்பிழான். -பரிபாலனசபை.



## திருமதி கேசவன் மகேஸ்வரி

இன்று போல் என்றும் இனிதே பல்லாண்டு வாழ்ந்து எமக்கு எல்லாம் வழிகாட்ட எல்லாம் வல்ல இறைவன் துணை புரிவாராக.

**பிள்ளைகள், மருமகன், பேரப்பிள்ளைகள் மற்றும் குடும்பத்தினர்.**

மீசாலை வாடக்கு, மீசாலை. (52261)

## பாராட்டு விழா

ஓய்வபெற்ற தபால் அதிபரும் சமூக சேவையாளருமாகிய முருகேச சண்முகம் அண்மையில் சமாதான நிதிவானாகப் பதவி பெற்றதை ஒட்டி பாராட்டு விழாநாளை பிற்பகல் 4 மணிக்கு க.க.பிரமணியம் தலைமையில் ஆணைக்கோட்டை அ.மி.த.க.பாட சாலை மண்டபத்தில் நடைபெறும்.

ஆசிரியரையை கரைப்பிரான் ஆதிவிநாயகர் ஆலய பிரதமகுரு சோ.சிவகுமாரக் குருக்களும் பாராட்டுரையை ஆணைக்கோட்டை கிராம சேவையாளர் வை.சுந்திர ராஜா, அ.மி.த.க. பாடசாலை அதிபர் சி.நாகையா, சட்டத்தரணி தியாகராஜா, ஓய்வபெற்ற உப அதிபர் க.கதிசேக, ஓய்வபெற்ற உதவிக்கல் விப்பணிப்பாளர் க.கணேசலிங்கம் ஆகியோரும் நிகழ்த்துவர். (100)

## திருமண மண்டபத் திறப்புவிழா

நீர்வேலி திருமுருகன் திருமண மண்டபம் மற்றும் பல்பொருள் அங்காடி ஆகியவற்றின் திறப்புவிழா நாளை ஞாயிற்றுக்கிழமை காலை 9 மணிக்கு நீர்வேலி கந்தசுவாமி கோயில் வடக்கு வீதியில் நடைபெறவுள்ளது.

புத்தூர் ஸ்ரீ சோமல்கந்தக் கல்லூரி ஆசிரியர் சிவத்தமிழ் சொல்லழகர் ச.லலிசன் தலைமையில் நடைபெறவுள்ள இந்நிகழ்வில் அருளாசிகளை இந்துக்குருமார் ஒன்றியத் தலைவர் சிவஸ்ரீ ப.மனோகரக்குருக்கள், நல்லை திருஞான சம்பந்த ஆதீன முதல்வர் ஸ்ரீஸ்ரீ சோம சுந்தர தேசிக ஞானசம்பந்த பரமசாரிய சுவாமிகள் ஆகியோர் நிகழ்த்துவர்.

நிகழ்வில் பிரதம விருந்தினராக கொடும் ஷல் வங்கியின் ஸ்ரானி வீதிக்கிளை முகாமையாளர் ஏ.எம்.ஏ.குபேரகுலேந்திரன் கலந்து கொள்வார்.

அருள்மணம் கமழும் திருமணச் சிறப்புக்கள் என்னும் நூலின் வெளியீட்டு விழாவும் இந்நிகழ்வில் நடைபெறவுள்ளது. நூலின் ஆய்வுரையை சங்கானை கோட்டக் கல்விப்பணிப்பாளர் இ.துரைஎங்கரசு நிகழ்த்துவார். இந்நூலை நீர்வைமணி தொகுத்துள்ளார்.

## தேவை

- ★ கணனி இயக்குநர்கள் (போட்டோசொப், கோரல்ரோ)
- ★ உதவியாளர்கள் ★ பயிலுநர்கள்
- ★ விற்பனைப் பிரதிநிதிகள்
- ★ தகுதியானவர்கள் நாளை (16.07.2006) நேரில் தொடர்பு கொள்ளவும்.

எஸ். எஸ். யசோதரன் ஆட்வ.,  
இல. 212, கோயில் வீதி, நல்லூர்.

## ஓத்துமாறல்

பயிற்றப்பட்ட ஆங்கில ஆசிரியர் வவுனியா தெற்கு வலயத்திலிருந்து யாழ்வலயத்திற்கு ஓத்துமாற விரும்புகிறார்.


**தொடர்புகளுக்கு: 077 6041729**



## INVITATION

The Director and Staff of the IBMS cordially invite our Patron, Well-wishers, Friends, Parents and Students to the Awards Ceremony celebration at the IIS City Campus Hall # 200, Sivan Pannai Road, Jaffna on Sunday, 16th July 2005 at 9.30 a.m. Thanking You

Institute of Business Management Studies  
# 209 Manipay Road, Jaffna  
T.P. No: 021 222 8232



# ஜயோதா

உத்தியோகபூர்வ முடிவுகள்

டிக்கட் தொடர் இல: 7616508 முதல் 7626093 வரை. சீட்டிழை இல: 253 திகதி 13-07-2006

## வெற்றி எண்கள்

# 1 7 8 8 4 1 0 6

கப்பல் எண்

ஜெப்போட் பரிசு ரூ. 13,350,600/- வெல்லப்படவில்லை

வெற்றி எண்கள்	வெற்றி பெற்றவர்	பரிசுத் தொகை	முழு பரிசுத் தொகை
6 எண்களுடன் கப்பல் எண்	0	13,350,600/=	
இடது பக்கமிருந்து முதல் 6 எண்கள்	01	1,000,000/=	1,000,000/=
இடது பக்கமிருந்து முதல் 5 எண்கள்	09	50,000/=	450,000/=
இடது பக்கமிருந்து முதல் 4 எண்கள்	84	5,000/=	420,000/=
இடது பக்கமிருந்து முதல் 3 எண்கள்	844	500/=	422,000/=
இடது பக்கமிருந்து முதல் 2 எண்கள்	8406	50/=	420,300/=
இடது பக்கமிருந்து முதல் 1 எண்	83325	10/=	833,250/=
வலது பக்கமிருந்து முதல் 5 எண்கள்	09	5,000/=	45,000/=
வலது பக்கமிருந்து முதல் 4 எண்கள்	85	1,000/=	85,000/=
வலது பக்கமிருந்து முதல் 3 எண்கள்	838	100/=	83,800/=
வலது பக்கமிருந்து முதல் 2 எண்கள்	8336	20/=	166,720/=
		<b>மொத்தம் ரூ. 3,926,070/=</b>	
மொட்டார் சைக்கிள்களின் பெறுமதி	08	66,125/=	529,000/=

வெல்லப்படாத வெற்றி பெற்ற பரிசுத் தொகை 4,455,070/=

சு.க.இ.பெருங்குளம் டி.பெட்டா மகம்மடா வெற்றி பெற 3 டிக்கட்டின் தொடர் இலக்கங்கள்

எதிர்பாரும் திங்கட்கிழமை கப்பல் ஜெப்போட் ரூ. 13,584,400/-

**வளமான வாழ்விந்த கனியத்தினை**

அபிவிருத்தி லொத்தர் சபை  
33, சென்னைக்கல் வீதி, கோட்டையடி, கோட்டையடி, 03.

## கஸ்ஸார் அஞ்சலி

பட்டின சபை வீதி, சங்கானையைப் பிறப்பிடமாகவும் வாழ்விடமாகவும் கொண்டிருக்கும் அமரர் கணபதி வேலாயுதம் (வேலுப்பிள்ளை) (வேலாயுதம் கடை உரிமையாளர், தவாலி) மலர்வு 10-02-1937 உதிர்வு 11-07-2006

அன்னாரின் பிரிவினால் துயருற்றிருக்கும் அவரது குடும்பத்தினருக்கு எமது ஆழ்ந்த அனுதாபங்களைத் தெரிவிப்பதோடு, அன்னாரின் ஆத்மாசாந்தியடைய இறைவனைப் பிரார்த்திக்கின்றோம்.

தேவாலய வீதி, சங்கானை. (52285)(32)      சி.இராசலிங்கம் J.P. (அருமை அக்கா), திருமதி இ.விசலாட்சி (அருமை அக்கா), மருமகன், பெறாமக்கன், பேரப்பிள்ளைகள்.

## 31 ஆம் நாள் நினைவுஞ்சலி

எமது சக உத்தியோகத்தர் வைரமுத்து தயாமோகனின் அன்புத் தந்தை அமரர் விசுவலிங்கம் வைரமுத்து (இளைப்பாறிய பிரதம லிகிதர், சகாதாரத் திணைக்களம்) அவர்கள் சிவபதமடைந்து 31 ஆம் நாளான இன்று அன்னாரின் ஆத்மாசாந்திக்காக நாமும் பிரார்த்திக்கின்றோம்.

கூடநூர் வைத்திய அதிகாரி பணிமனை, உத்தியோகத்தர்கள், கோப்பாய். (52212)      ஊழியர்கள்.

## மரண அறிவித்தல்

### கணபதி வேலாயுதம் (சங்கானை)

பட்டின சபை வீதி, சங்கானையைப் பிறப்பிடமாகவும் வசிப்பிடமாகவும் நவாலியில் வியாபார நிறுவனம் நடத்தி வந்தவரான கணபதி வேலாயுதம் 11.07.2006 செல்வாயக்கிழமை இறைபதம் அடைந்துவிட்டார்.

அன்னார் காலஞ்சென்றவர்களான கணபதி - பத்தினி தம்பதியின் அன்பு மகனும் காலஞ்சென்றவர்களான சின்னையா - சிதம்பரம் தம்பதியின் மருமகனும் தங்கரத்தினத்தின் அருமைக் கணவரும் ஜெயவதனி (ஜேர்மனி), ஜெயகிரிதரன், ஜெயநிசாந்தி, ஜெயபாலசுரன், ஜெயராஜிதா ஆகியோரின் அன்புத் தந்தையும் உதயகுமாரின் (ஜேர்மனி) அன்பு மாமனும் தினுசாவின் (ஜேர்மனி) அன்புப் பேரனும் காலஞ்சென்றவர்களான கந்தையா, நல்லையா மற்றும் குமாரன், விசாலாட்சி ஆகியோரின் அன்புச் சகோதரனும் காலஞ்சென்றவர்களான தங்கச்சியம்மா, நாகேஸ்வரி மற்றும் இராசலிங்கம் (ஜே.பி.), சண்முகவேல், நாகரத்தினம் ஆகியோரின் மைத்துனருமாவார்.

அன்னாரின் இறுதிக்கிரியைகள் இன்று (15.07.2006) சனிக்கிழமை முற்பகல் 10 மணியளவில் அவரது இல்லத்தில் நடைபெற்று, தகனக்கிரியைகளுக்காக பூதவடல் சங்கானை கரைச்சி மயானத் திற்கு எடுத்துச்செல்லப்படும்.

இந்த அறிவித்தலை உற்றார், உறவினர், நண்பர்கள் அனைவரும் ஏற்றுக்கொள்ளவும்.

தகவல்: பட்டின சபை வீதி, (52257)(32)      மனைவி, மக்கள்.

# UNIT பிரத்தியேகப்படுத்துகின்றது

## Hardware Networking

Just Rs. 1000/- Only      வேகப் பயிற்சி ஒருநாள் மட்டும்      Just Rs. 1500/- Only      மாற்றில்லாமல்

**வார நாட்களில் Next Batch on 17.07.2006**

இலவச பயிற்சிக் கோவை மற்றும் பல

**மற்றவரிடமிருந்து வேறும் 100% செய்முறைப் பயிற்சிகளுடன்**

For Complete Technology      Rush to Join Limited seats

UNIT Education      16/1, Killnar Lane, K.K.S. Road, Jaffna.      பண்டிக்கோட்டுப் பிள்ளையார் கோவில் எதிர்புறங்கை      Near Jaffna Hindu College      TP: 021-4590291/0773394737      Unit Education by Noolaham Foundation      noolaham.org | aavanaham.org







மாணவர்களை பாடசாலைக்கு தோன்றிவரும்பதற்கும், மாணவர்களுக்கு உதவிப்பணம் வழங்குவதற்குமான தரம் 5 மாணவர்களுக்கு நடத்துப்படும்

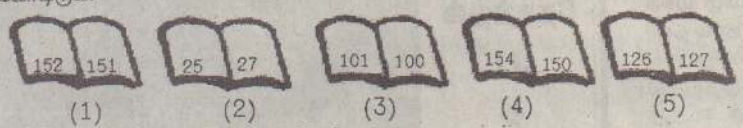
**வெளியீடு**  
**25**

**புலமைப்பரிசில் பரீட்சை**  
**மாதிரி வினாப்பத்திரம்**

திரு.வே. அன்பழகன் - யாழ்ப்பாணம்.

**வினாத்தாள் - I** நேரம்: 45 நிமிடம்

1) சரியான முறையில் புத்தகங்களுக்குப் பக்க இலக்கமிடப்பட்டுள்ளதைத் தெரிந்துகொடுக்க.



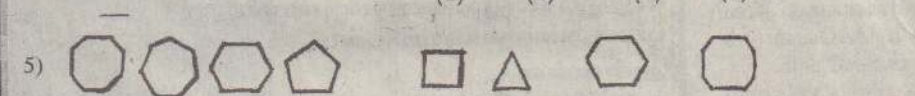
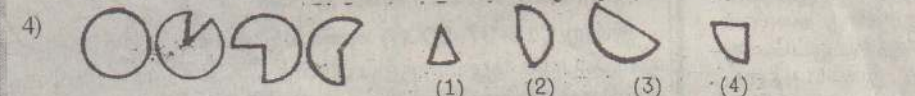
2) மிகச் சரியான இடங்களில் மணித்தியால முள்ளு, நிமிட முள்ளு அமைந்திருக்கும் கடிக்கார முகத்தைத் தெரிவு செய்து அதன் கீழ்க் கோடுக்க.



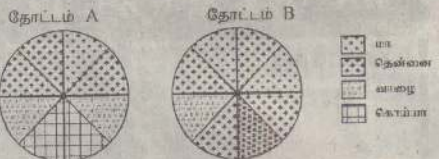
3) வேகமாகச் சுழலும் சக்கரத்தை நழுவறிக காட்டுக.



\* கீழே காணப்படும் ஒவ்வொரு வினாவிலும் உருக்கள் வரையப்பட்டுள்ளன. கோலத்தை இனங்கண்டு அருத்து வரவேண்டிய உருவைத் தரப்பட்டுள்ள விடைகள் நான்கில் இருந்து தெரிந்து அதன் கீழ்க் கோடுக்க.



\* கீழே வட்ட வரைபுகள் இரண்டின் மூலம் காட்டப்படுவது A, B எனும் இரு தோட்டங்களில் உள்ள மரங்களின் எண்ணிக்கையாகும். A எனும் தோட்டத்திலுள்ள மொத்த மரங்களின் எண்ணிக்கை 80 ஆகும். B எனும் தோட்டத்தில் உள்ள மொத்த மரங்களின் எண்ணிக்கை 120 ஆகும்.



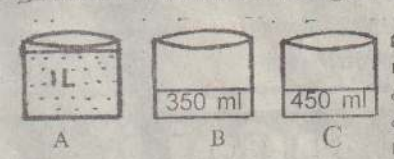
6) A எனும் தோட்டத்தில் உள்ளதும், B எனும் தோட்டத்தில் இல்லாததுமான மரவகை யாது?  
7) A எனும் தோட்டத்தில் உள்ள மா மரங்களை விட, B எனும் தோட்டத்தில் எத்தனை மா மரங்கள் அதிகம் உள்ளன?

\* கீழே காணப்படும் ஒவ்வொரு வினாவிலும் தரப்பட்டுள்ள ஐந்து சொற்களில் நான்கு சொற்கள் ஏதோ ஒரு விதத்தில் தொடர்புபட்டுள்ளன. அத்தகைய சொற்களில் தொடர்பற்ற ஒரு சொல்லைத் தெரிவு செய்து அதன் கீழ்க் கோடுக்க.

8) HIJK, NOPQ, VXWY, RSTU, CDEF  
9) அதிகாலை, நாளை, இரவு, மாலை, பகல்,  
\* கீழே காணப்படும் ஒவ்வொரு வினாவிற்கும் உரிய விடையை இடைவெளிகளில் குறுக.

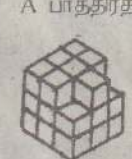
10. இவ்வூருவில் காட்டப்படுவது வட்டவடிவான ஒரு கம்பியாகும். அவ்வட்டக் கம்பி நிலத்தில் நான்கு முறை சுழன்றால் அது பயணஞ் செய்த தூரம் எத்தனை மீற்றராக இருக்கும்?

11. என்னிடமுள்ள பணம் ரூபா 15.00 ஆகும். தம்பியிடம் உள்ள பணம் ரூபா 7.00 ஆகும். என்னிடமும் தம்பியிடமும் உள்ள பணத்தொகைகள் சமனாவதற்கு நான் தம்பியிடம் எவ்வளவைக் கொடுக்க வேண்டும்.....



உருவப் படத்தில் காட்டப்பட்டுள்ளவாறு மூன்று பாத்திரங்களிலும் நீர் உண்டு. அம்மூன்று பாத்திரங்களிலுமுள்ள நீர் ஒவ்வொரு பாத்திரத் திலும் சமமாக இருப்பதற்கு A பாத்திரத்திலிருந்து B, C பாத்திரங்களுக்கு ஊற்ற வேண்டிய நீரின் அளவை எழுதுக.

12. A பாத்திரத்திலிருந்து B பாத்திரத்திற்கு ஊற்ற வேண்டிய நீரின் அளவு யாது?.....  
13. A பாத்திரத்திலிருந்து C பாத்திரத்திற்கு ஊற்ற வேண்டிய நீரின் அளவு யாது?.....  
14. இவ்வூருவில் காணப்படுவது ஒரேயளவுள்ள சிறிய சதுரமுகிகளினாலான ஒரு திண்ம வடிவமாகும். உருவீன்படி இங்குள்ள சிறிய சதுரமுகிகளின் எண்ணிக்கை யாது? .....



15. 

B	S	T	K	N	H	V	L
---	---	---	---	---	---	---	---

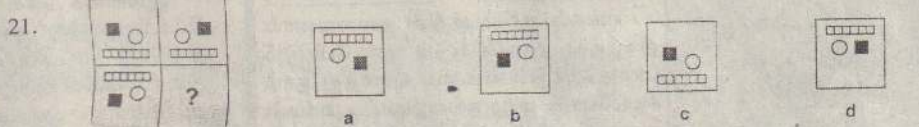
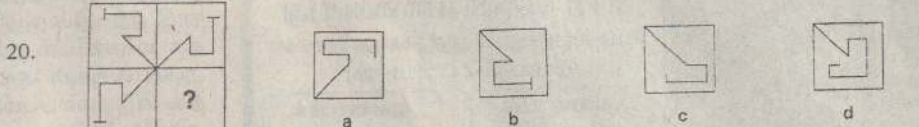
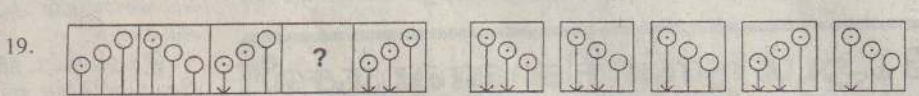
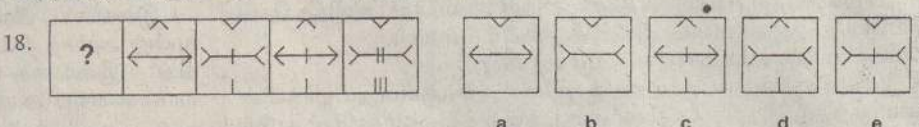
சதுரவடிவான காட்போட் அட்டைகளில் எழுதப்பட்ட ஆங்கில எழுத்துகள் மேலே காணப்படுகின்றன. முகம் பார்க்கும் கண்ணாடி ஒன்றின் மூலம் பார்க்கும்போது மாற்றமில்லாமல் (அதே முறையில்) தென்படும் ஆங்கில எழுத்துகளை மாத்திரம் எழுதுக.

\* பின்வரும் வினாக்கள் ஒவ்வொன்றிலும் அடைப்புக்குள் தரப்பட்டுள்ள ஐந்து சொற்களையும் குறிப்பிட மிகவும் பொருத்தமான சொல் எதுவெனத் தெரிந்துகொடுக்க.

16. அன்னாசி வாழை கத்தரி புடோல் வேம்பு  
17. காலை மதியம் அந்தி மாலை இரவு

1. பழம்  
2. மரக்கறி  
3. தாவரம்  
4. செடி  
1. நாள்  
2. பொழுது  
3. கிழமை  
4. உலகம்

வெற்றிடத்தில் வரும் உருவினைத் தெரிந்து அதன் கீழ்க் கோடுக்க.



\* பின்வரும் வினாக்கள் ஒவ்வொன்றிலும் தரப்பட்டுள்ள நான்கு சொற் சொடிகளில் ஒன்று ஏனைய மூன்று சொடிகளிலும் இருந்து வித்தியாசமானது. அதன் கீழே கீறிருக.

22. 1. சூரியன் - கதிரவன் 2. புத்தகம் - நூல்  
3. காலை - மாலை 4. கண் - விழி  
23. 1. கழுத்து - மாலை 2. தலை - தொப்பி  
3. கண் - கண்ணாடி 4. கொம்பு - மாடு

\* சரியான விடையின் கீழ்க் கீறிருக.

24. என்னிடமுள்ள முத்திரைகளின் எண்ணிக்கையின் இரு மடங்கிலும் 15 கூடுதலான முத்திரைகள் எனது தங்கையிடம் இருந்தன. எனது அக்காவிடம் இருந்த முத்திரைகளின் எண்ணிக்கை எனது தங்கையிடம் இருந்த முத்திரைகளின் எண்ணிக்கையின் இரு மடங்காகும். அக்காவிடம் 90 முத்திரைகள் இருந்தன எனின், என்னிடம் உள்ள முத்திரைகள் எத்தனை?  
1) 45 2) 30 3) 20 4) 15

25. நீலா 400m நீளமும் 200m அகலமும் உடைய மைதானம் ஒன்றைச் சுற்றி 2 தடவைகள் ஓடுவதற்கு 1 நிமிடமும் 20 செக்கன்களும் எடுத்தாள். நீலாவின் சாதாரண ஓட்ட வேகம் யாது?  
1) 1 நிமிடத்திற்கு 30 மீற்றர் 2) ஒரு செக்கனுக்கு 30 மீற்றர்  
3) 1 செக்கனுக்கு 60 மீற்றர் 4) ஒரு செக்கனுக்கு 40 மீற்றர்

26. சில வருடங்களுக்கு முன்னர் அம்மாவின் வயது எனது வயதின் 3 மடங்காகும். அப்போது எங்கள் இருவரினதும் வயதுகளின் கூட்டுத்தொகை 40 வருடங்கள் ஆகும். அம்மாவின் தற்போதைய வயது எனது வயதின் இருமடங்காகும். தற்போதைய எனது வயதையும், எனது அம்மாவின் வயதையும் முறையே காட்டும் விடை யாது?  
1) 32, 64 வருடங்கள் 2) 16, 32 வருடங்கள்  
3) 20, 40 வருடங்கள் 4) 12, 24 வருடங்கள்

27. அத்திவாரம் ஒன்று இருவதற்காகக் கயிறு கட்டுவதற்கு 480 m கயிறு தேவைப்பட்டது. ரூபா 15 விலைமுள்ள ஒரு கயிற்று முடிச்சில் 20 m நீளமான கயிறு உண்டு எனின், அத்திவாரத்திற்காக கயிற்றுக்கு ஏற்படும் மொத்தச் செலவு யாது?  
1) ரூபா 240 2) ரூபா 360 3) ரூபா 300 4) ரூபா 340

\* பின்வரும் பகுதியை வாசித்து கீழ்வரும் வினாக்கள் ஒவ்வொன்றிற்கும் உரிய விடையைத் தெரிந்துகொடுக்க

அவர்கள் இருவரும் முற்றத்தில் விளையாடிக் கொண்டிருந்தனர். 'விளையாடியது போதும் வந்து புத்தகத்தை எடுத்துப் படியங்கள்' என்று அம்மா அவர்களுக்குக் கட்டளையிட்டாள். இருவரும் முகம், கால் கழுவிக்கொண்டு வந்து படிக்கத் தொடங்கினர். இவர்களின் முத்த பிள்ளையான நீலா தரம் 5 தமிழ்ப் பாடப் புத்தகத்திலிருந்து சில வினாக்களுக்கு விடை எழுதினாள். மற்றப் பிள்ளை புத்தகம் ஒன்றிலிருந்து ஒரு பாடத்தை மௌனமாக வாசித்துக் கொண்டிருந்தது. ஒரு சில மணி நேரத்தின் பின்னர் இரவு ஒன்று மணிச் செய்தியைக் கேட்பதற்காக அம்மா வானொலிப் பெட்டியைத் திருகினாள். செய்தி முடிவற்றதும் பிள்ளைகள் இருவரும் சாப்பிட்டு விட்டுத் தூக்கத்திற்குச் சென்றனர்.

28. பிள்ளைகள் முற்றத்தில் விளையாடியது, மாலை நேரத்திலாகும்.  
1) சரி 2) பிழை 3) கூறமுடியாது

29. அவர்கள் ஈ வரும் பெண் பிள்ளைகளாவர்  
1) சரி 2) பிழை 3) கூறமுடியாது

30. நீலா இந்த வருடம் தரம் 5 புலமைப்பரிசில் பரீட்சைக்குத் தோற்றவிரக்கிறாள்.  
1) சரி 2) பிழை 3) கூறமுடியாது

\* பின்வரும் வினாக்கள் ஒவ்வொன்றிலும் தரப்பட்டுள்ள வாக்கியங்களில் மிகச் சரியான கருத்துள்ள வாக்கியத்தின் கீழ்க் கீறிருக.

31. 1) இனிமையாகப் பாடிய பாலனின் குரல் வளத்தையும், திறமையாகப் பேசிய சீலனின் பேச்சாற்றலையும் எல்லோரும் பாராட்டினார்கள்  
2) இனிமையாகப் பாடிய பாலனின் பேச்சாற்றலையும், இனிமையாகப் பேசிய சீலனின் குரல் வளத்தையும் எல்லோரும் பாராட்டினார்கள்.  
3) திறமையாகப் பாடிய பாலனின் பேச்சாற்றலையும் இனிமையாகப் பேசிய சீலனின் குரல்வளத்தையும் எல்லோரும் பாராட்டினார்கள்  
32. 1. போட்டியில் வேகமாகப் பயிற்சியில் ஈடுபட்ட முகுந்தன் அதிகமாக முதலிடம் பெற்றான்.  
2. வேகமாகப் பயிற்சியில் ஈடுபட்ட முகுந்தன் போட்டியில் அதிகமாக ஓடி முதலிடம் பெற்றான்.  
3. அதிகமாகப் பயிற்சியில் ஈடுபட்ட முகுந்தன் போட்டியில் ஓடி முதலிடம் பெற்றான்.

\* பின்வரும் வினாக்களுக்குரிய சரியான விடையின் கீழ்க் கோடுக்க.

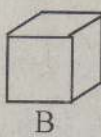
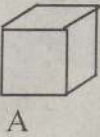
33. காந்தி தினமும் துவிச்சக்கர வண்டியில் பாடசாலைக்கு வருவான். நேற்று அவன் காந்தி தினத்தன்று துவிச்சக்கர வண்டியில் பாடசாலைக்கு வருவான். அவளின் தாமதத்திற்குக் காரணமாக இருக்கக்க

சூடியது எது?

1. நேற்றுப் பாடசாலைக்கு பஸ்ஸில் வந்தமை.
2. நேற்றுக்காலை அவள் தூக்கத்திலிருந்து தாமதமாக எழுந்தமை.
3. நேற்று முழுவதும் எழுந்து நடக்க முடியாத அளவு அவள் சுகவீனமுற்றிருந்தமை.

34. சென்ற வருடத்திலும் பார்க்க இந்த வருடம் விபலானந்த வித்தியாலயத்திலும் தரம் 5 புலமைப் பரிசில் பரிசையில் சித்தியடைந்த மாணவர்களின் எண்ணிக்கை அதிகமாகும். இதற்குக் காரணமாக இருக்கக் கூடியது பின்வருவனவற்றுள் எது?
1. புதிய ஆசிரியர்கள் பலர் நியமிக்கப்பட்டமை.
  2. விபலானந்த வித்தியாலயம் அப்பிரதேசத்தில் பிரபலமான பாடசாலையாக இருந்தமை.
  3. சென்ற வருடத்திலும் பார்க்க இவ்வருடம் கூடுதலான பயிற்சி வகுப்புகள் நடத்தப்பட்டமை

கீழே காணப்படும் ஒவ்வொரு வினாவிலும் மிகச் சரியான விடையைத் தெரிந்து அதன் கீழ்க் கோட்குக.



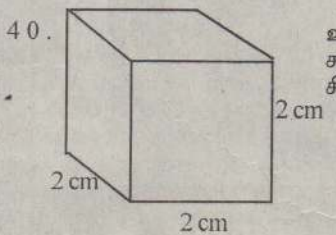
இவ்வருவில் உள்ள A பெட்டியில் நீலநிற மாபிள்கள் 6 உம், சிவப்பு நிற மாபிள்கள் 3 உம், பச்சை நிற மாபிள்கள் 5 உம் உள்ளன. B பெட்டியில் நீல நிற மாபிள்கள் ஒன்றும், பச்சை நிற மாபிள்கள் ஒன்றும் உள்ளன.

35. B பெட்டியில் இருந்து ஒரு மாபிள்கள் A பெட்டியில் இடப்பட்டது. அதன்படி இப்போது A பெட்டியில் உள்ள நீல நிற மாபிள்களின் எண்ணிக்கை யாது?
- 1) 3
  - 2) 7
  - 3) 6
  - 4) கூறமுடியாது
36. இப்போது A பெட்டியில் உள்ள சிவப்பு நிற மாபிள்களின் எண்ணிக்கை யாது?
- 1) 4
  - 2) 3
  - 3) 5
  - 4) கூறமுடியாது
37. அதன்பின் B பெட்டியில் எஞ்சிய மாபிள்கள் A பெட்டியில் போடப்பட்டது. இப்போது A பெட்டியில் உள்ள பச்சை நிற மாபிள்களின் எண்ணிக்கை யாது?
- 1) 4
  - 2) 5
  - 3) 6
  - 4) கூறமுடியாது

ஆங்கில அரிச்சுவடியிலுள்ள ஆங்கில எழுத்துக்கள் சில ஒழுங்கு முறையாகப் பின்வரும் முறையில் எழுதப்பட்டுள்ளன.

A, B, C, D, E, F, G, H, I, J, K, L, M, N, O, P, Q.....  
மேலேயுள்ள ஆங்கில எழுத்துக்களை ஒரு கோலத்தில் பயன்படுத்தி பின்வரும் வினாக்களில் எழுத்துக்கள் தரப்பட்டுள்ளன. அந்த ஒவ்வொரு வரியிலுள்ள கோல அமைப்பினை விளங்கிக் கொண்டு அடுத்து வரவேண்டிய ஆங்கில எழுத்துக்களை வெற்றுக் கூண்டினுள் எழுதுக.

38. A, C, F, J
39. AC, BD, CE, DF



உருவில் காட்டப்பட்டுள்ளவாறு பலகையினால் ஆன ஒரு சதுரமுகியாகும். இதிலிருந்து ஒரு பக்க நீளம் 1 cm உடைய சிறிய சதுரமுகிகள் எத்தனை வெட்டலாம்?

**வினாத்தாள் - II நேரம்: 1.15 நிமிடம்**

01] பின்வரும் பாடலைப் படித்துக் கேட்கப்பட்ட வினாக்களுக்கு விடை தருக

நல்ல பண்டங்களைக் கண்டறியோம் - ஒரு நாளும் வயிற்றை உண்டறியோம்  
அல்லும் பசுவும் அலைந்திருவோம் - பசி ஆறவழியின்றி வாடிடுவோம்

01. இப்பாடலைப் பார்த்தோர் தாம் ஏன் வாடுவதாகக் கூறுகின்றனர்? .....
- பின்வரும் சொற்களால் கருதப்படுபவற்றை எழுதுக
02. வயிற்றை .....
03. கண்டறியோம் .....
04. இப்பாடலில் காணப்படும் இணைமொழியை எழுதுக. ....
05. இப்பாடலில் உள்ள பெயர் அடைமொழி எது? .....
- பிரித்து எழுதுக.
06. உண்டறியோம் = ..... + .....
07. வழியின்றி = ..... + .....
- ஒத்த கருத்துச் சொற்கள் தருக.
08. பண்டங்கள் = .....
09. நான் = .....
- எதிர்க் கருத்துச் சொற்கள் தருக.
10. நல்ல = .....
11. பசுல் = .....

02] கீழே காணப்படும் உருவப்படங்களின் படி கேட்கப்பட்டுள்ள வினாக்களுக்குரிய விடைகளை எழுதுக.



1. மேலுள்ள உபகரணங்களைப் பயன்படுத்துபவர் எத்தொழிலைச் செய்வராவர்? .....



2. மேலுள்ள உபகரணங்களைப் பயன்படுத்தபவர் எத்தொழிலைச் செய்வராவர்? .....



3. மேலுள்ள உபகரணங்களைப் பயன்படுத்துபவர் எத்தொழிலைச் செய்வராவர்? .....

03] கீழே ஒவ்வொரு வினாவிலும் இடைவெளிக்குப் பொருத்தமான சொல்லை அடைப்புக்குறிக் குள் இருந்து தெரிந்து புள்ளிக் கோட்டின் மீது எழுதுக.

- (செய்வார்கள், சென்றேன், செய்வேன், செய்வார், போனோம், படித்தோம்)
1. அவர் சிரமப்பட்டு வேலை.....
  2. நான் நேற்று ஊருக்குச் .....
  3. நாங்கள் நேற்று பாடம்.....

04] கீழே காணப்படும் சொற்களை ஒழுங்குபடுத்தி வாக்கியமாக்குக.

1. ஒன்று / உணவுப்பொருள்களை / குளிர்சாதனைப் பெட்டி / பாதுகாக்கலாம் / நீண்டகாலம் / இருப்பதனால்

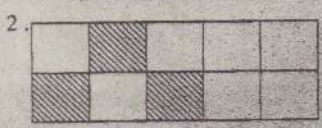
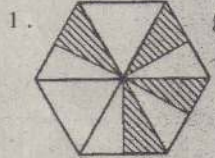
2. நன்றாக / சாப்பிட வேண்டும் / நிலத்தில் / கழுவியபின் / விழுந்த பாடங்களை
3. புழக்கினால் / அவசியமான / சிலைக்கிணறு / சாப்பிடு / வீற்றின்கள் / உலுக்கு

- 05] நீங்கள் அறிந்த இரு பழமொழிகள் தருக.
1. ....
  2. ....
- 06] கீழே காணப்படும் வினாக்களுக்குரிய விடைகளை உரிய இடைவெளியில் எழுதுக.
1. இலங்கையின் தேசிய விளையாட்டு எது?.....
  2. அந்த விளையாட்டுக்குப் பயன்படுத்தும் விளையாட்டு உபகரணம் யாது? .....
  3. இந்த சங்கீத உபகரணத்தின் பெயர் என்ன?.....
  4. இந்தச் சங்கீத உபகரணத்தினால் ஒலி வெளியேற என்ன செய்ய வேண்டும்? .....



- 07] கீழே உள்ள வினாக்களுக்கான விடையைப் புள்ளிக் கோட்டில் எழுதுக.
1. இலங்கையின் தேசியப்பறவை யாது?.....
  2. போத்தல் ஒன்றின் முடியைத் திறக்கப் பயன்படும் உபகரணத்தின் பெயரை எழுதுக. ....
  3. சிறிய பொருள் ஒன்றைப் பெரிதாக்கிப் பார்ப்பதற்குப் பயன்படுத்தப்படும் உபகரணம் ஒன்றின் பெயரை எழுதுக. ....
  4. தூக்குக் குண்டினைப் பயன்படுத்தும் தொழிலாளி யார்?.....
  5. தேசிய துக்கதினம் ஒன்று அனுஷ்டிக்கப்படும் போது தேசியக் கொடி எவ்வாறு பறக்க விடப்படும்? .....

08] பின்வரும் வினாக்களுக்கான விடையைப் புள்ளிக் கோட்டில் எழுதுக.



1. இவ்வருவில் நிழற்றப்பட்டிருப்பது முழு உருவின் என்ன பின்னமாகும்? .....
2. இதில் நிழற்றப்படாத பகுதி முழு உருவின் என்ன பின்னமாகும்? .....
- (2) இதில் நிழற்றப்படாத பகுதியைத் தசம எண்ணாகத் தருக. ....


- 09] சரியான விட எழுதுக
- 1) எதிர்ப்பாற் சொல் எழுதுக. கணவன் .....
  - 2) எதிர்மறைச் சொல் எழுதுக. வந்தான் .....
  - 3) பன்மைச் சொல் எழுதுக அது .....
  - 4) ஒரு வசனமாக எழுதுக  
தம்பி பாடசாலைக்குச் சென்றான்  
தங்கை பாடசாலைக்குச் சென்றாள்

10] சரியான விடை எழுதுக


சலசல, அல்லும்பகலும், வட்டவட்ட, சின்னஞ்சிறிய, கண்திறத்தல், பசுமரத்தாணிபோல, அகத்தின் அழகு முகத்தில் தெரியும்.

- 1) இணைமொழி எது? .....
- 2) பழமொழி எது? .....
- 3) இரட்டைக்கிளவி எது? .....
- 4) அடுக்குமொழி எது? .....
- 5) அடுக்கிடுக்குத் தொடர் எது? .....
- 6) மரபுத் தொடர் எது? .....
- 7) உவமைத் தொடர் எது? .....

11] ஒரு நகரத்தில் கீழ்வரும் உருக்கள் காட்டும் சமய நிலையங்கள் காணப்பட்டன. அவை ஒவ்வொன்றும் எந்த சமயத்திற்கு உரியவை என்பதை அவ்வுருக்களின் கீழேயுள்ள புள்ளிக் கோட்டின் மீது எழுதுக.



- 1) பின்வரும் ஒவ்வொரு சமய விழாக்களையும் கொண்டிருப்பவர்கள் எந்தெந்த சமயத்தினர்கள் என்பதை எதிரேயுள்ள புள்ளிக் கோட்டின் மீது எழுதுக.  
1. ரம்ழான் ..... 2. மகாசிவராத்திரி .....
  3. வெசாக் ..... 4. நத்தார் .....
- 3) கீழே ஒவ்வொரு உருக்களினாலும் காட்டப்பட்டுள்ள ஆடையலங்காரத்தின்படி அவர்கள் எந்த சமயத்தைச் சேர்ந்தவர்கள் என்பதை அவ்வுருக்களின் கீழேயுள்ள புள்ளிக் கோட்டின் மீது எழுதுக.




12] பின்வரும் வினாக்களுக்கான விடைகளைப் புள்ளிக் கோட்டில் எழுதுக.

அருகே உள்ள அட்டவணை சில நகரங்களுக்கிடையேயான தூரங்களைக் கிவோடீற்றரில் காட்டுகிறது

	புதுமலை	சேலம்	சேலம்	சேலம்
புதுமலை	0	110	140	170
சேலம்	110	0	130	160
சேலம்	140	130	0	150
சேலம்	170	160	150	0

01. அம்பாந்தோட்டையில் இருந்து கண்டிக்குள்ள தூரம் யாது? .....
02. எவ்விரகு நகரங்களுக்கிடையில் அதிக தூரம் காணப்படுகிறது? .....
03. குறைந்த தூரம் காணப்படுவது எவ்விரகு நகரங்களுக்கிடையிலாகும்? .....
04. ஒரு சதுர வடிவக் கடநாசியில் இருந்து ஒரு சிறிய சதுரவடிவக் துண்டு நீக்கப்பட்டுள்ளதை உருகாட்டுகிறது. அதில் நிழற்றப்பட்ட பகுதியின் சுற்றளவு யாது? .....
05. இக்கடிக்கார நேரம் நன்றிவு நேரம் எனில் இதனை நியமநேரத்தில் எழுதுக. ....



(பின்பக்கம் பார்க்க....)