

பாராட்டி வாழ்த்துகின்றோம்



நேற்று (02.02.2009) 60ஆவது அகவையைப் பூர்த்தி செய்த பொன்னாலையின் மைந்தன் வடமாகாண பிரதம செயலர் உயர் திரு.கு.பொ.சிவகுருநாதன் ரங்கராஜா அவர்களை மனமுவந்து பாராட்டி வாழ்த்துகின்றோம்.

பொன்னாலையின் வாழ்ந்தவர்கள்

கால்நடை வளர்ப்பு பயிற்சி இன்று

வண்ணை, பெப்.3 மாண்புமிகு பிரதேச சபை மண்டபத்தில் இன்று செவ்வாய்க்கிழமை காலை 8 மணிக்கு ஆடு வளர்ப்புக்கான அறிவுட்டல் கருத்தரங்கு கரித்தாஸ் - கியூடெக் நிறுவனத்தால் ஒழுங்கு செய்யப்பட்டுள்ளது. கால்நடை வைத்தியர் செல்வி சி.பி.மரிய தாஸ் தலைமையில் மேற்படி கருத்தரங்கு நடைபெறும்.

சண்டிலிப்பாய், ஊர்காவற்றுறை, மாண்புமிகு யாழ்ப்பாணம், பருத்தித்துறை, கர வெட்டி, உடுவில், தென்மராட்சி ஆகிய பிரதேசங்களைச் சேர்ந்த 75 பயனாளிகள் பயிற்சி பட்டடையில் கலந்து கொள்வர். (1-160)

சிமெந்து விநியோகம் நேற்று ஆரம்பம்

யாழ்ப்பாணம், பெப்.3 யாழ்.வணிகர் கழகத்தினூடாக மக்கள் பாவனைக்குரிய சிமெந்து விநியோகம் நேற்று திங்கட்கிழமை தொடக்கம் நடைபெற்று வருகின்றது.

இந்த விநியோகம் தொடர்ந்து நடைபெறும் என்றும் பாடசாலைகள், சனசமூக நிலையங்கள், பொது அமைப்புகள் மற்றும் ஒப்பந்தகாரர்களின் வேண்டுகோள்களைய அவர்களுக்கான சிமெந்து விநியோகம் இன்றிலிருந்து நடைபெறும். தேவையானவர்கள் பணத்தைச் செலுத்தி பெற்றுக்கொள்ள முடியும் என யாழ்.வணிகர் கழகம் தெரிவித்துள்ளது. (1)

பெண் சாரணிய வழிகாட்டுநர் கூட்டம் வியாழனன்று

யாழ்ப்பாணம், பெப்.3 பெண் சாரணிய வழிகாட்டுநர்களுக்கான கூட்டம் நாளையதினம் வியாழ்க்கிழமை நண்பகல் ஒரு மணிக்கு யாழ்.வேம்படி மகளிர் கல்லூரியில் இடம்பெறவுள்ளதாக யாழ்.மாபட்ட ஆணையாளர் தெரிவித்துள்ளார். இக் கூட்டம் "பேடன் பவல் சிந்தனை நினைவு நாள்" என்ற தொனிப்பொருளில் இடம்பெறவுள்ளதாகவும் இதில் அனைத்துப் பெண் சாரணிய வழிகாட்டுநர்களையும் கலந்து கொள்ளுமாறும் அவர் தெரிவித்துள்ளார். (6-7)

★ தேவா ★ முறிவு நெரிவு சிச்ச்சை நலையம்

சகல வித நோவு, முறிவுகளுக்கும் தசை நெரிவுகளுக்கும் புகை கட்டுமிடம்.

சென்.பற்றிக்ல் சந்தி. செ.தேவராஜா பாய்லால் வீதி, யாழ்ப்பாணம். (முறிவு, நெரிவு வைத்தியர்).

தவறிவிட்டது

முள்ளி வீதி, அரியாலை, யாழ்ப்பாணம் என்னும் முகவரியுடைய குருசாமி பாலமுரளி என்பவருடைய தேசிய அடையாள அட்டை (892574060V) மற்றும் இராணுவத்தால் வழங்கப்பட்ட மோட்டார் சைக்கிள் அனுமதிப்பத்திரம் ஆகியன யாழ்ப்பாணத்திற்கும் செங்குவிக்கும் இடையில் தவறிவிட்டன. கண்டெடுத்தவர்கள் தயவுசெய்து யாழ்.பெருமாள் கோவில் குருக்கள் வீட்டில் ஒப்படைக் குமாறு அன்புடன் வேண்டுகின்றோம். தகுந்த சன்மாணம் வழங்கப்படும்.

Walk in Interview

Post of Instrutors (Chavakachchi Branch) Suitable young and energetic candidates possessing Diploma or Certificate from recognized Institutes here or abroad.

An attractive salary will be offered to the ideal candidate and preference will be given to persons residing within chavakachcheri limits.

If you are confident that you satisfy the above requirement, please be present for a walk in Interview on Friday the 06th February 2009 from 10.00am to 3.00pm.



கண்ணீர் அஞ்சலி
எமது சக மாணவன் து.தேவநிரோஜனின் அன்புத் தந்தை
யாழ்ப்பாணம் துரைசிங்கம் அவர்களின் மறைவையிட்டு எமது ஆழ்ந்த அனுதாபங்களைத் தெரிவிப்பதோடு அன்னாரின் ஆத்மா சாந்தியடைய பிரார்த்திக்கின்றோம்.
2010 விஞ்ஞான பிரிவு மாணவர்கள், மாண்புமிகு இந்துக் கல்லூரி.

கண்ணீர் அஞ்சலி
காரைநகர் உதவி அரசாங்க அதிபர் பணிமனையில் சமுர்த்தி அபிவிருத்தி உத்தியோகத்தராகக் கடமையாற்றும் ஆண்டி சிதம்பரநாதன் அவர்களின் அன்புத் தாயார்
திருமதி ஆண்டி நாகேஸ்வரி
அவர்கள் நேற்று (02.02.2009) திங்கட்கிழமை இறைபதமடைந்ததையிட்டு அன்னாரது இழப்பினால் துயருற்றிருக்கும் அவர்தம் குடும்பத்தினருக்கு எமது ஆழ்ந்த அனுதாபங்களைத் தெரிவிப்பதோடு எமது கண்ணீர் அஞ்சலியினையும் காணிக்கையாக்குகின்றோம்.
ஊழியர் நலன்புரிச் சங்கம், உதவி அரசாங்க அதிபர் பணிமனை, காரைநகர்.

மரண அறிவித்தல்கள்

திருமதி ஜெகசோதி மகாதேவா (சோதி ிச்சி)
(ஓய்வுபெற்ற விளையாட்டுத்துறை ஆசிரியை)
வல்வெட்டியைப் பிறப்பிடமாகவும் கோவில் வீதி, நல்லூரை வசிப்பிடமாகவும் கொண்ட ஜெகசோதி மகாதேவா நேற்று (02.02.2009) திங்கட்கிழமை காலமானார். அன்னார் அமரர்களான செல்லத்துரை - மங்கையர்க்கரசி (அம்பியக்கா) தம்பதியினரின் அன்பு மகளும் காலஞ்சென்ற விஜயரத்தினம் (ஓய்வுபெற்ற புகையிரத நிலைய அதிபர்), கணேசரட்ணம் (ஓய்வுபெற்ற பிரதம லிகிதர், நல்லூர் பிரதேச செயலகம்), பரஞ்சோதி (பரம்) ஆகியோரின் அன்புச் சகோதரியும் காலஞ்சென்ற பராசக்தி மற்றும் விமலாதேவி (ஓய்வுபெற்ற ஆசிரியை, கொக்குவில் இந்துக் கல்லூரி) ஆகியோரின் அன்பு மைத்துனியும் ஆவார். அன்னாரின் இறுதிக்கிரியைகள் இன்று (03.02.2009) செவ்வாய்க்கிழமை பி.ப. 1 மணியளவில் அவரது இல்லத்தில் நடைபெற்று, பூதவுடல் திருநெல்வேலி இந்து மயானத்தில் தகனம் செய்யப்படும். இந்த அறிவித்தலை உற்றார், உறவினர், நண்பர்கள் அனைவரும் ஏற்றுக்கொள்ளவும்.
தகவல்: 435, கோவில் வீதி, செ.கணேசரட்ணம் (சகோதரர்).
நல்லூர்.

மாதன் வீரகத்தி

(ஓய்வுபெற்ற ஊழியர், யாழ்.போதனா வைத்தியசாலை)
புத்தூர் கிழக்கு, குமாரசாமி வீதியைப் பிறப்பிடமாகவும் வசிப்பிடமாகவும் கொண்ட மாதன் வீரகத்தி கடந்த (30.01.2009) வெள்ளிக்கிழமை காலமானார். அன்னார் காலஞ்சென்றவர்களான மாதன் - கறுப்பம்மா தம்பதியினரின் மூத்த புதல்வனும் பூமணியின் அன்புக்கணவரும் சுவர்ண தேவி (ஜேர்மனி), தேவமலர், சேகர் (கண்டா), கேஜிந்தி (வவுனியா), ஈசா ஆகியோரின் அன்புத் தந்தையும் குமரேஸ்வரன் (ஜேர்மனி), செல்வகுமார், கல்யாணி (கண்டா), சதீஸ் சந்திரன் (ஆண் தாதியர், வவுனியா போதனா வைத்திய சாலை) ஆகியோரின் பாசமிகு மாமனாரும் இலட்சுமி, தம்பிராசா, கந்தசாமி (வடமராட்சி தெற்கு பிரதேசசபை, கரவேட்டி), சின்னம்மா ஆகியோரின் பாசமிகு சகோதரரும் சின்ராசு, கண்மணி, பார்வதி, பரமானந்தன், பரமநாதன் ஆகியோரின் அன்பு மைத்துனரும் ஆவார். அன்னாரின் இறுதிக்கிரியைகள் நாளை (04.02.2009) புதன் கிழமை மு.ப. 10 மணியளவில் அவரது இல்லத்தில் நடைபெற்று, பூதவுடல் தகனக்கிரியைக்காக புத்தூர் கிழக்கு அந்திரானை இந்து மயானத்துக்கு எடுத்துச்செல்லப்படும். இந்த அறிவித்தலை உற்றார், உறவினர், நண்பர்கள் அனைவரும் ஏற்றுக்கொள்ளவும்.
குமாரசாமி வீதி, தகவல்: புத்தூர் கிழக்கு, புத்தூர். குடும்பத்தினர்.

திருமதி நடராசா பாக்கியம்

பூநகரியைப் பிறப்பிடமாகவும், சுதுமலை தெற்கை வசிப்பிடமாகவும் கொண்ட நடராசா பாக்கியம் 01.02.2009 ஞாயிற்றுக் கிழமை காலமானார். அன்னார் காலஞ்சென்ற நடராசாவின் அன்பு மனைவியும், இராஜேஸ்வரி (சுதுமலை), யோகேஸ்வரி (ஆசிரியை, புனித மரியாள் கல்லூரி - கொழும்பு-13) ஆகியோரின் பாசமிகு தாயாரும், தனபாலசிங்கம், பாலச்சந்திரன் ஆகியோரின் அன்பு மாமியும், காலஞ்சென்ற சரஸ்வதி மற்றும் இரத்தினம் (பிரான்ஸ்), கந்தசாமி - சங்கானை (ஓய்வுபெற்ற கிராம சேவகர்), காலஞ்சென்ற நடராசா (பூநகரி), காலஞ்சென்ற சிவஞானம் (திருநெல்வேலி), வீரபாகு (பூநகரி), மகேஸ்வரி (திருநெல்வேலி) ஆகியோரின் அன்புச் சகோதரியும், இராதாகிருஷ்ணன் (ஆசிரியர், யா/சுதுமலை சிந்மயபாரதி வித்தியாலயம்), ரகுபாலன் (லண்டன்), கிருஷ்ணபிரியா ஆகியோரின் பாசமிகு பேர்த்தியுமாவார். அன்னாரின் இறுதிக்கிரியைகள் இன்று (03.02.2009) புதன்கிழமை மு.ப. 10 மணியளவில் அன்னாரின் இல்லத்தில் நடைபெற்று, பூதவுடல் தகனக்கிரியைக்காக தாவடி இந்து மயானத்திற்கு எடுத்துச்செல்லப்படும். இந்த அறிவித்தலை உற்றார், உறவினர், நண்பர்கள் அனைவரும் ஏற்றுக்கொள்ளவும்.
மதவடி லேன், தகவல்: சுதுமலை தெற்கு, மாண்புமிகு. த.இராதாகிருஷ்ணன் (பேரன்). 060 221 8936

இழந்த சக்தியை மீண்டும் பெற்றிட பாவிப்புகள்
ரோயல் குளுக்கோஸ்
100% சுத்தமானது உங்கள் விபரமாகியும் தங்கள் குளுக்கோஸ் வாங்கும்போது குளுக்கோஸ் என்ற கேட்காமல் ரோயல் குளுக்கோஸ் தங்கள் வற்ற கேட்டு வாங்குங்கள்.
PACKED BY: Industries ROYAL Colombo 12 T.P. 0777277670
அனைத்துப் பார்மஸீகளிலும் கடைகளிலும் பெற்றுக்கொள்ளலாம்.

Composition Dextro Monohydrate 100%
ROYAL Pure Glucose
உங்கள் விநியோகத்திற்கு: ரொயல் குளுக்கோஸ் தங்கள் வற்ற கேட்டு வாங்குங்கள்.
288, ஆன்பத்திரி வீதி, யாழ்ப்பாணம்.

யாழ்ப்பாணப் பல்கலைக்கழகம், இலங்கை முகாமைத்துவ கற்கைகள் வணிகரீடம்
* முதலாம் வருட அரையாண்டுப் பரீட்சை - 2007 முதலாம் ஆண்டு மாணவர்களுக்கான மேற்படி பரீட்சைகள் பின்வரும் நேர அட்டவணைப்படி நடைபெறும்.
திக்கதி நேரம்
03.02.2009 9.00 - 11.00 Social Studies
03.02.2009 1.30 - 03.30 Business English
* 2007/2008 கல்வியாண்டின் மாணவர்களுக்கான விரிவுரைகள் 25.02.2009 ஆம் திகதி ஆரம்பமாகின்றன.
* சிரேஷ்ட மாணவர்கள் (2ஆம், 3ஆம், 4ஆம் ஆண்டு) புதிய கல்வியாண்டுக்கான மீள் பதிவுகளை 25.02.2009 இல் இருந்து மேற்கொள்ளுமாறு வேண்டப்படுகின்றனர்.
பதில் பதிவாளர்.

2 ஆம் ஆண்டு நிலைவாஞ்சலி

திருமதி மகேஸ்வரி குகதாசன்
மலர்வு: 51.05.1956
உதரவு: 05.02.2007
எங்கள் குடும்பத் தலைவியின் ஆத்மா சாந்தியடைய இறைவனைப் பிரார்த்திக்கின்றோம்.
யாழ்ப்பாணக் கல்லூரி, விவசாய நிறுவனம், மருகனார்மடம். த.குகதாசன் குடும்பத்தினர்.

மூலன் ஹொட்டல்
எமது வாடிக்கையாளரின் விருப்பப்படி மீண்டும் அனுபவமிக்க உணவு தயாரிப்பாளரைக் கொண்டு தயாரிக்கப்படும்.
★புரியாணி வகைகள் ★பிறைட் றைஸ் வகைகள்
★தூயில்ஸ் வகைகள் ★டெவல்ஸ் வகைகள்
★சூப் வகைகள் ★இந்தியன் உணவு வகைகள்
★உள்நாட்டு உணவு வகைகள்
என்பனவற்றை ஒருமுறை வந்து சுவைத்துப் பாருங்கள்
மூலன் ஹொட்டல்
இல. 133, மின்சார நிலைய வீதி, யாழ்ப்பாணம். (01558780)

யாத்திரைப் பெருவிழா
வடமராட்சி பெப்.3 யாழ்.குடாநாட்டிலுள்ள கத்தோலிக்க யாத்திரைத் தலங்களில் ஒன்றான பருத்தித்துறை தும்பளை லுர்த்து மாதா ஆலய வருடாந்த உற்சவம் நேற்று 2 ஆம் நிகதி கொடிபெற்றதன் ஆரம்பமாகியது. (50-236)

உதயன்

தொலைபேசி 222 3837, 222 9933 தொலைநகல்: 222 9944

கிளர்ச்சியுற்று எழுந்துள்ள தமிழகத்தின் இளம் சமுதாயம்

ஈழத் தமிழர்களின் உயிர்களைக் காப்பாற்றக் கோரித் தமிழகத்தில் ஏற்பட்டுவரும் கிளர்ச்சியும், எழுச்சியும் நாம் இப்பத்தியில் ஏற்கனவே சுட்டிக்காட்டியபடி மாநிலத்தை ஆளும் திராவிட முன்னேற்றக் கழகத்துக்கும், இந்திய மத்திய அரசுக்கும் பெரும் தலையிடயாக மாறிவருகின்றமை வெளிப்படையாகத் தோன்றுகின்றது. மூலக்கோரத்தில் விடுதலைப் புலிகளின் கட்டுப்பாட்டுப் பிரதேசத்தில் தினசரி படுகொலை செய்யப்படும் சிவிலியன்களின் எண்ணிக்கை டசின் கணக்கைத் தாண்டி நூறுகளை எட்டும் நிலைமை. அதுபோலக் காயமடைவோரின் எண்ணிக்கையும் அதிகரித்துச் செல்கின்றது.

சிந்தப்பும் இரத்தம் தமிழ் உதிர்ம் என்பதாலோ என்னவோ தென்னிலங்கையில் இவ்விடயம் குறித்து அதிகம் அலட்டிக்கொள்ளப்படுவதாகவே தெரியவில்லை.

அரசுத் தரப்புக் குற்றம் சாட்டுவது போல புலிகள் இந்த சிவிலியன்களை மனித கேடயங்களாக மறித்து வைத்திருப்பதால்தான் இந்த அனர்த்தம் நேருகின்றதா, அல்லது -

புலிகளும் ஏனைய தமிழ் தரப்புகளும் சுட்டிக்காட்டுவது போல சிவிலியன் குடியிருப்புகள் மீது அரசுப் படைகள் கண், மண் தெரியாமல் - கண்மூடித்தனமாக - நடத்தும் குரூரத் தாக்குதல் காரணமாக இந்தப் பேரவலம் இடம் பெறுகின்றதா என்பது சர்ச்சைக்குரிய விடயம்தான். ஆனால், சிவிலியன் உயிரிழப்புகளும், படுகாயங்களும் பெரிய எண்ணிக்கையில் - அதிர்ச்சி தரும் கணக்கில் - கொடுமையாக அதிகரித்துள்ளன என்பது மட்டும் யதார்த்தம். அதனைத் தென்னிலங்கை மூடி மறைப்பது - அல்லது அது குறித்து அலட்டிக் கொள்ளாமல் - பெரும் இராணுவ வெற்றிகளை மட்டும் தலையில் தூக்கி வைத்துக் கொண்டிருப்பது, இந்த யுத்தத்தில் நேரடியாகவும், மோசமாகவும் பாதிக்கப்படும் சிறுபான்மையினரான தமிழர்களின் மனதை நெருடி, காயப்படுத்தி, ரணகளை மாக்கும் விவகாரமாகும்.

இந்த யுத்தத்தின் பின்னராவது, தமிழருக்கு நீதி - நியாயம் செய்யும் உண்மையான எண்ணம் தென்னிலங்கைக்கு இருக்குமானால், இந்த யுத்தத்தில் பெரிதும் பாதிக்கப்பட்டு, அடக்கி, முடுக்கப்படும் தமிழினத்தின் பால் அதற்குப் பரிதாபமும், பச்சாதாபமும், தமிழினத்தை அரவணைக்கும் பற்றும் பிறக்க வேண்டும். ஆனால் யதார்த்தத்தில் நிலைமை அதுவல்ல என்பதே வெளிப்படை.

யுத்த வெற்றிகளைத் தமிழர்களின் வர்த்தக நிலையங்களின் முன்னால் ஆர்ப்பாட்டமாக வெடி கொளுத்திப்போட்டு, எதிரி நாட்டை மண்கவ்வ வைத்து ஆக்கிரமித்த புளங்காகித்தோடு கொண்டாடும் போக்கே தென்னிலங்கையில் காணப்படுகின்றது. இந்த வெற்றியின் பின்புலத்தில் சிங்களத்தின் அடக்குமுறை ஆணை வந்த திமிர் பீறிட்டு வெளிப்படுவதை நோக்கும் போது, இந்த இராணுவச் சமரின் முடிவு தமிழர்களின் அடிமைப்பட்டயத்தில் நிரந்தரக் குறியைப் பொறிக்கப் போகின்றது என்ற அச்சம் தமிழர்களுக்கு ஏற்படுகின்றது.

இத்தகைய பேரச்சத்தின் விளைவே, தமிழகத்திலும் ஈழத் தமிழர் தொடர்பான இத்துணை கிளர்ச்சிக்குக் காரணமாகும்.

பொதுவாகத் தமிழகத்தில் அரசியல் சார்ந்த போக்கைத் தீர்மானிக்கின்ற அரசியல் தலைமைகள், அரசியல் வாதிகள், அவர்களோடு நெருங்கிய கட்சிக் கட்டமைப்புகள் போன்ற தரப்புகளின் பிடிமலிருந்து ஈழத் தமிழர் விவகாரத்தை வழிநடத்தும் - அல்லது கையாண்டு தீர்மானிக்கும் - பொறுப்பு, மெல்ல மெல்ல, தமிழக இளம் சமுதாயத்திடம் - குறிப்பாக மாணவ சமூகத்திடம் - கைமாறி வருவது நோக்கற்பாலது.

தமிழ்நாட்டில் கட்சிச் சாயங்கள், சார்பு நிலைகள், கருத்துப் போக்குகள், கொள்கை நிலைப்பாடுகள் போன்ற வற்றைக் கடந்து இளம் சமுதாயம் இப்பிரச்சினையை ஒட்டி 'கெம்பி' எழுந்திருப்பதால் நிச்சயம் இந்த விடயம் மாநில, மத்திய அரசுகளுக்கு நெருக்கடியைத் தரப் போகின்றது என்பதும் துலாம்பரம்.

ஈழத் தமிழரைக் காப்பாற்றக் கோரி - இலங்கையில் விரைந்து யுத்த நிறுத்தத்தை ஏற்படுத்த வலியுறுத்தி - கட்சிகளும், அவை சார்ந்த கூட்டமைப்புகளும் நடத்தும் ஆர்ப்பாட்டங்கள், கண்டனப் பேரணிகள், பொதுக் கூட்டங்களுக்கு அப்பால் மாணவர்கள் - குறிப்பாகப் பள்ளிகள் மற்றும் கல்லூரிகளின் இளநிலை மாணவர்கள் - ஒன்று திரண்டு நடத்தும் உண்ணாவிரதங்கள், வகுப்பு பகிஷ்கரிப்புகள், மெளனப் போராட்டங்கள் போன்றவைதான் மாநில அரசைப் பெரும் பீதிக்குள்ளாக்கியிருக்கின்றன.

மாணவர் சமூகத்தின் எழுச்சி எத்தகைய நெருக்கடியையும், விளைவுகளையும் தரக்கூடியது என்பது தமிழக அரசியலில் 'பழமும் தின்றும் கொட்டையும் போட்ட' முதிர்ந்த அரசியல் சாணக்கியரான தமிழக முதல்வர் கலைஞர் கருணாநிதிக்கு நன்கு தெரியும்; புரியும்.

அதுதான் நேரத்துடன் உஷாராகி, கல்லூரிகள், பள்ளிகளை மூடவும், விடுதிகளில் தங்கியிருக்கும் மாணவர்களை வீடுகளுக்கு அனுப்பவும் விரைந்து நடவடிக்கை எடுத்தார் கலைஞர் கருணாநிதி.

ஈழத் தமிழர்களுக்கு ஆதரவாகப் பெருக்கெடுக்கும் இளம் சமூகத்தின் உணர்ச்சி வெள்ளத்தை, அணை போட்டு மறைக்கும் தமிழக முதல்வரின் எத்தனம் பயன்தருமா? அல்லது அடித்துப் பீறிட்டு, கரைபுரண்டு ஓடிவரும் அந்த உணர்ச்சி வெள்ளத்தில் கலைஞரின் அரசியல் எதிர்காலமும் அடிபட்டுப் போகுமா? காலம் தான் பதில் கூறும். ஆனால் அதற்கும் நீண்ட காலம் பிடிக்கப் போவதில்லை என்பதும் உண்மை.

வன்னியில் வாழும் எமது உறவுகள் சுதந்திரமாக வெளியேறுவதற்கு புலிகள் அனுமதிக்கவேண்டும்

யாழ்ப்பாணம், பெப்.3
வன்னி வாழ் எமது உறவுகள் சுதந்திரமாக வெளியேறுவதற்கு விடுதலைப்புலிகள் அனுமதிக்க வேண்டும் என்று ஈழ மக்கள் ஜனநாயகக் கட்சி வலியுறுத்தி உள்ளது.

இது தொடர்பாக அக் கட்சி வெளியிட்டுள்ள ஊடக அறிக்கையில் தெரிவிக்கப்பட்டிருப்பதாவது:-

எமது மக்கள் தாம் விரும்பிய இடங்களுக்கு சுதந்திரமாக வெளியேறிச் செல்வது என்பது அவர்கள் கொண்டிருக்க வேண்டிய ஜனநாயக உரிமை. மனித உயிர்களின் விருப்பங்களுக்கு விரோதமாகவும், மனச்சாட்சிகளுக்கு மாறாகவும் வன்னியில் வாழும் எமது உறவுகளை புலித்தலைமை சுயலாப இரூபிக்காக தமது பலாத்கார பிடிக்குள் தொடர்ந்தும் சிறைவைத்திருக்கின்றது.

ஜனாதிபதி மஹிந்த ராஜபக்ஷ வன்னியில் புலித் தலைமையின் பலாத்காரச் சிறைக்குள் சிக்கியிருக்கும் எமது மக்களை அரசு கட்டுப்பாட்டுப் பகுதிக்குள் வருவதற்காக 48 மணிநேர அவகாசத்தினை வழங்கி யிருந்தார். இதன் மூலம் தமது நல் லெண்ண சமிக்ஞையை ஜனாதிபதி காட்டியிருந்தமை மிகவும் வரவேற்கத்தக்க விடயமாகும். அரசு கட்டுப்பாட்டுப் பகுதிக்குள்

பாதுகாப்பு செயலாளர் வெளியிட்ட கருத்தினால் இராஜ தந்திர வட்டாரங்களில் பெரும் பரபரப்பு

கொழும்பு, பெப்.3
ஜேர்மனி, சுவீடன் லாந்து துதுவர்கள் மற்றும் பிரபல சர்வதேச நிறுவனங்களின் ஊடகவியலாளர்கள் தொடர்பாகப் பாதுகாப்பு அமைச்சின் செயலாளர் கோத்தபாய ராஜபக்ஷ வெளியிட்ட கருத்துக் காரணமாக இராஜ தந்திர வட்டாரங்களில் பெரும் பரபரப்பு ஏற்பட்டுள்ளது.

"விடுதலைப் புலிகளைக் காப்பாற்றும் வகையில் பொறுப்புணர்வுற்ற

விதத்தில் செயற்படும் இராஜதந்திரிகள், செய்தி நிறுவனங்கள் மற்றும் சர்வதேச அரசு சார்பற்ற அமைப்புக்களுக்கு எதிராகக் கடும் நடவடிக்கை எடுக்கப்படும். அவர்கள் நாட்டை விட்டு வெளியேறப்படுவார்கள்" எனப் பாதுகாப்புச் செயலர் ஆங்கில வார இதழொன்றுக்குத் தெரிவித்திருந்தார்.

இந்தச் செய்தி நேற்றைய உதயனிலும் வெளியாகி இருந்தது.

அரியாலையில் 'கோப்சிற்றி' அமைப்பதற்கு நடவடிக்கை

யாழ்ப்பாணம், பெப்.3
யாழ்ப்பாணம் பல நோக்குக் கூட்டுறவுச் சங்கம் அரியாலைப் பிரதேச மக்களின் நலன் கருதி 'கோப்சிற்றி' ஒன்றை விரைவில் அமைக்கவுள்ளது.

சங்கத்தின் கிளை விற்பனை நிலையம் ஒன்று செயற்பட்டு வரும் கட்டடத்தை மீளப் புனரமைப்புச் செய்து இந்தக் 'கோப்சிற்றி' அமைக்கப்படவுள்ளது.

மாணவக் கந்தன் ஆலயத்தில் தைப்பூசத் திருவிழா ஏற்பாடு

யாழ்ப்பாணம், பெப்.3
மாவிட்டபுரம் கந்தசுவாமி கோவில்லில் தைப்பூசத் திருநாள் பூசைகள் எதிர்வரும் ஞாயிற்றுக்கிழமை சிறப்பாக நடைபெறும் என்று ஆலய ஆதீன கர்த்தாவும் பிரதம குருவுமான மஹாராஜ ஸ்ரீ சு.து.சண்முகநாதக்குருக்கள் தெரிவித்தார்.

காலையில் 7 மணியளவில் விசேட அபிஷேகம் ஆரம்பமாகி அதனைத் தொடர்ந்து விசேட அலங்கார பூசைகளும், அர்ச்சனைகளும் நடைபெற உள்ளன. முற்பகல் 10 மணிக்கு முருகப் பெருமான் வீதி உலா வருவார். அதன் பின்னர் மகேஸ்வர பூசை நடைபெறும்.

அடியார்கள் ஆலயத்துக்குச் சென்று வர தெல்லிப்பழை சோதனை நிலையத்திலிருந்து விசேட வாகன சேவைகள் ஏற்பாடு செய்யப்பட்டுள்ளதாக ஆதீனகர்த்தா அறிவித்துள்ளார். (அ)

நாளை	
தை 22	04.02.2009
திதி:	புதன்கிழமை
நட்சத்திரம்:	நவமி
சுபநேரம்:	மு.ப.10.35 வரை
ராசுரம்:	கார்த்திகை
	மு.ப.11.24 வரை
	05.05 - 06.35
	12.35 - 02.05

வரும் பொது மக்களின் பாதுகாப்பும், சுதந்திரமும், அமைதியான வாழ்வும், உரிமைகளும் உறுதிசெய்யப்படும் எனவும் நம்பிக்கை கொடுத்து ஜனாதிபதி விடுத்திருந்த கால அவகாசத்தை இந்தியாவும் வரவேற்றிருந்தது.

ஆனாலும், மக்களின் உயிர்களை விடவும் தமது சுயலாப இரூபையும், தமது சொந்த உயிர் பாதுகாப்பையும் முதன்மைப்படுத்தும் புலித்தலைமை இந்த 48 மணிநேர கால அவகாசத்தை எமது மக்களுக்காக பயன்படுத்தி இருக்கவில்லை. இதனால் எமது மக்கள் மிகவும் மனத்துயரங்களோடு கலங்கி நிற்கிறார்கள்.

வன்னியில் தமது உறவுகளுக்கு என்ன ஆகுமோ என்ற ஏக்கங்களோடு வன்னிக்கு வெளியிலும், புலம்பெயர் நாடுகளிலும் வாழும் எமது மக்கள் ஊண், உறக்கமின்றி தேய்ந்து கொண்டு இருக்கின்றார்கள்.

எமது மக்களின் மன உணர்வுகளுக்கு மதிப்பளிக்காத புலித்தலைமை தொடர்ந்தும் வன்னி வாழ் எமது உறவுகளை மனிதக் கேடயங்களாகவே பயன்படுத்தி வருகின்றது. அது மட்டுமன்றி வன்னி மக்களின் மன விருப்பங்களுக்கு மாறாக அவர்களைத்

தாம் தடுத்து வைத்திருக்கவில்லை என்ற பொய்யான பரப்புரைகளையும் மேற்கொண்டு வருகின்றது.

1995 இல் யாழ்.குடாநாட்டை விட்டு ஓடிப்போன புலித்தலைமை தமது சொந்தப் பாதுகாப்பிற்காக யாழ்.குடாநாட்டு மக்களையும் தம்மோடு வருமாறு வற்புறுத்தி, அச்சுறுத்தி இருந்த வரவுமற்றையாரும் மறந்து விடப் போவதில்லை. மீண்டும் வன்னியில் இருந்து யாழ்.குடாநாடு நோக்கி திரும்பி வர விரும்பும் மக்களின் சுதந்திரமான வெளியேற்றத்தை புலித்தலைமை தடுத்து நிறுத்தியிருந்தமையும் மறக்க முடிந்த வரலாறல்ல.

மனச்சாட்சிக்கு மதிப்பளித்து, மனிதாபிமான அடிப்படையில் வன்னி வாழ் மக்கள் வெளியேறு புலித்தலைமை அனுமதிக்க வேண்டும் என்பதை நாம் தெரியப்படுத்துகின்றோம். அதற்கான அழுத்தங்களை அணைத்து மனிதநேய அமைப்புகளும், எமது அயலக நட்பு நாடாகிய இந்தியாவும், சர்வதேச சமூகமும் விடுதலைப்புலிகள் மீது பிரயோகிக்க வேண்டும் என நாம் எமது வன்னி வாழ் உறவுகளின் சார்பாக மனிதாபிமான வேண்டுகோள் விடுக்கின்றோம் - என்று உள்ளது. (அ)

மரக்கறிகளின் விலைகள் மீண்டும் உயர்வடைந்து செல்கின்றன

யாழ்ப்பாணம், பெப்.3
மரக்கறிகளின் விலைகள் மீண்டும் உயர்வடைய ஆரம்பித்துள்ளன. திருமண வைபவங்கள், சுபகாரியங்கள் ஆகியவை தற்போது அதிகளவில் இடம்பெறுகின்றமை காரணமதகவே இந்த விலை உயர்வு என சுட்டிக்காட்டப்படுகின்றது.

பாதுகாப்புச் செயலாளர் பெயர் குறிப்பிட மிகவும் உறுதியான தொனியில் தெரிவித்த கருத்துகள் தொடர்பான அரசின் நிலைப்பாட்டை அறிவதற்கு இராஜதந்திர வட்டாரங்களும் ஊடக நிறுவனங்களும் தீவிர முயற்சியை மேற்கொண்டன. பாதுகாப்பு செயலாளரை தொடர்பு கொள்வதற்காக மேற்கொள்ளப்பட்ட முயற்சிகளும் பலனளிக்கவில்லை எனத் தகவல்கள் வெளியாகின.

இதேவேளை, அரசு இது குறித்த தனது நிலைப்பாட்டைத் தெளிவுபடுத்தி அறிக்கையொன்றை வெளியிடவுள்ளதாகவும் தகவல்கள் வெளியாகியுள்ளன.

வன்னியிலிருந்து சர்வதேச மனிதாபிமான அமைப்புகள் வெளியேற்றப்பட்டமை மற்றும் ஊடகவியலாளர்களுக்கு எதிரான தொடர் அச்சுறுத்தல்களின் பின்னணியில் பாதுகாப்புச் செயலாளரின் இந்தக் கருத்து வெளியாகியுள்ளமை இராஜதந்திர வட்டாரங்கள் மத்தியில் பதற்றத்தை உண்டு பண்ணியிருந்தது.

வலி.தென்மேற்கு பிரதேச செயலர் பிரிவில் சிறுபோகச் செய்கை அறுவடை ஆரம்பம்

மானிப்பாய், பெப்.3
வலி.தென்மேற்குப் பிரதேச செயலர் பிரிவிற்குட்பட்ட நவாலிப் பகுதியில் சிறுபோக நெற்செய்கை யின் அறுவடை ஆரம்பிக்கப்பட்டுள்ளது. நெல் அறுவடை இடம்பெற்ற

கூரைத் தகடுகள் வந்துசேர்ந்தன

யாழ்ப்பாணம், பெப்.3
தென்மராட்சிப் பிரதேசத்தில் உலக வங்கியினால் மேற்கொள்ளப்பட்டு வரும் வீடமைப்புத் திட்டப் பயணாளிகளுக்கு வழங்குவன கூரைத் தகடுகள் எடுத்து வரப்பட்டுள்ளன. இதுவரை கூரைவேலை பூர்த்தி செய்தவர்களுக்கு கூரைத் தகடுகள் விநியோகிக்கப்படவுள்ளதாகத் தெரிவிக்கப்பட்டது. (50-207)

பகுதிகள் ஈரலிப்பாக உள்ளதனால் மேட்டு நிலப்பகுதிகளில் வைத்தே குடுமிதிக்கப்படுவதாக அறுவடை பகுதி விவசாயி ஒருவர் தெரிவித்தார். அடுத்தமாத பிற்பகுதியில் இருந்து பெரிய இனங்களின் அறுவடைகள் ஆரம்பிக்கப்படவுள்ளதாகவும் அவர் மேலும் தெரிவித்தார்.

இந்நிலையில் - அறுவடையின் பின்னர் அணைத்து விவசாயிகளும் சிறுதானியப் பயிர்ச்செய்கைகளில் ஆர்வம் காட்ட வேண்டுமெனத் தெரிவிக்கப்பட்டுள்ளது.

கடந்த வருடம் அறுவடையின் பின் கரும் வரட்சி நிலவியதால் எஞ்ஞ, பயறு, கௌபி செய்கைகள் வெற்றியளிக்கவில்லை என்பது குறிப்பிடத்தக்கது. (203-95)

ரூபாவாகவும், கோவா 110 ரூபாவாகவும், பயிற்றங்காய் 120 ரூபாவாகவும், தக்காளிப்பழம் 220 ரூபாவாகவும், போஞ்சி 100 ரூபாவாகவும் விற்பனை செய்யப்படுகின்றது. பச்சை மிளகாய் ஒரு கிலோ 400 ரூபாவாக விற்பனை செய்யப்பட்டு வருகின்றது. (203-224)

கரவெட்டியில் அம்புலன்ஸ் சேவை

யாழ்ப்பாணம், பெப்.3 கரவெட்டிப் பிரதேச வைத்தியசாலையால் அம்புலன்ஸ் சேவை ஆரம்பிக்கப்பட்டுள்ளது. கரவெட்டிப் பிரதேச வைத்தியசாலைக்கு சுகாதாரத் திணைக்களத்தால் அம்புலன்ஸ் வண்டியொன்று வழங்கப்பட்டுள்ளது. சாரதிகளுக்குத் தட்டுப்பாடு நிலவுவதால் உடனடியாக இவ்வைத்தியசாலைக்கு முழுநேர சாரதியை நியமிக்க முடியவில்லையென்று தெரிவிக்கப்பட்டது. எனினும் இரவுக் கடைமைக்

அதிஷ்டலாபச் சீட்டிழுப்பு

யாழ்ப்பாண பிரதேச செயலக உத்தியோகத்தர் நலன்புரிச் சங்கத்தினால் 28.01.2009 புதன்கிழமை அதிஷ்டலாபச் சீட்டிழுப்பு நடத்தப்பட்டது. இதில் பரிசுக்குரிய சீட்டிலக்கங்களின் விவரம் வருமாறு:


பரிசு	சீட்டை இல.
1ஆம் பரிசு	632
2ஆம் பரிசு	2004
3ஆம் பரிசு	134

ஆறுதல் பரிசுகள் (10)
2954, 3174, 2724, 211, 2104, 1768, 2292, 2343, 2148, 2033.

*மேற்படி பரிசுக்குரிய அதிஷ்டசாலிகள் 03.02.2009 அன்று மு.ப. 10.30 மணிக்கு யாழ்ப்பிரதேச செயலகத்திற்கு குறிப்பிட்ட சீட்டுத்துண்டளும், அடையாள அட்டையுடனும் சமூகம்தந்து பரிசில்களைப் பெற்றுச்செல்லுமாறு கேட்டுக்கொள்ளப்படுகின்றனர்.

செயலாளர்,
நலன்புரிச் சங்கம், யாழ்ப்பிரதேச செயலகம்.

வீட்டுக் கிருத்திய அழைப்பு

	செல்வன் கோணேசன் கஜீவன்
	தோற்றம் 21.08.1989
	மறைவு 21.01.2009

கடந்த (21.01.2009) அன்று இறைவனடி சேர்ந்த எமது மகன் செல்வன் கோணேசன் கஜீவன் அவர்களின் வீட்டுக்கிருத்தியக் கிரியைகள் நாளை மறுதினம் (05.02.2009) வியாழக்கிழமை மு.ப. 11 மணியளவில் எமது இல்லத்தில் நடைபெறவிருப்பதால் அத்தருணம் தங்கள் குடும்ப சகிதம் வருகைத்து அன்னாரின் ஆத்ம சாந்திப் பிரார்த்தனையிலும் அதனைத் தொடர்ந்து நடைபெறும் மதிய போசனத்திலும் கலந்துகொள்ளுமாறு அன்புடன் அழைக்கின்றோம்.

பிரிவால் தயருறும்:
கோணேசன் (தந்தை), சசிலாதேவி (நாய்),
நாதஸ்வர வித்துவான்
R.சிவகுமார் (மாமா).
வழக்கம்பரை,
தொல்புரம் கிழக்கு,
சுழிபுரம். (82411)

கென சாரதி ஒழுங்கு செய்யப்பட்டுள்ளார். இரவு வேளைகளில் அவசர நோயாளர்களை பருத்தித்துறை ஆதார வைத்தியசாலைக்கு கொண்டு செல்ல ஏற்பாடு செய்யப்பட்டுள்ளது. எனவே இப்பிரதேச மக்கள் இவ்வைத்தியசாலையை நாடி இச்சேவையை பயன்படுத்திக் கொள்ளலாம் என்று என்று பிராந்திய சுகாதாரப் பணிப்பாளர் வைத்திய கலாநிதி ஆ.கேதீஸ்வரன் தெரிவித்துள்ளார். (203)

வாராந்த சொற்பொழிவு
வடமராட்சி, பெப்.3 தொண்டைமாளாறு சந்நிதியான் ஆச்சிரம சைவகலைப் பண்பாட்டுப் பேரவை சந்நிதியான் ஆச்சிரம மண்டபத்தில் நடத்திவரும் வாராந்த ஆன்மீக நிகழ்வு வரிசையில் எதிர்வரும் வெள்ளிக்கிழமை முற்பகல் 10.30 மணிக்கு "இ" என்னும் தலைப்பில் சைவப்புலவர், பண்டிதர் பொன்.சுகந்தன் சொற்பொழிவு நிகழ்த்துவார்.

இந்நிகழ்வு பேரவைத் தலைவர்கே. அருள்லிங்கம் தலைமையில் நடைபெறும். (203-236)

யாழ்ப்பாணப் பல்கலைக்கழகம், இலங்கை - அறிவித்தல்
பட்டப்பின் கல்வி டிப்ளோமா கற்கைநெறிக்கு
மாணவர்களைத் தெரிவு செய்வதற்கான அனுமதிப் பரீட்சை
31.01.2009 அன்று நடைபெறவிருந்த ஈராண்டு பட்டப்பின் கல்வி டிப்ளோமா (பகுதிநேரம் - 2007/09), பட்டப்பின் கல்வி டிப்ளோமா (முழுநேரம் - 2007/08) ஆகிய கற்கை நெறிகளுக்கு மாணவர்களைத் தெரிவு செய்வதற்கான அனுமதிப்பரீட்சை 07.02.2009 சனிக்கிழமை மு.ப. 9.30 தொடக்கம் பி.ப.12.30 மணி வரை யாழ்ப்பாணப் பல்கலைக்கழகத்தில் நடைபெறும். விண்ணப்பதாரிகள் ஏற்கனவே தபால் மூலம் பெற்ற பரீட்சை அனுமதி அட்டையுடனும், தேசிய அடையாள அட்டையுடனும் பரீட்சைக்குத் தோற்றுமாறு வேண்டப்படுகின்றனர். மேலதிக விவரங்களுக்கு 0212228714 தொலைபேசி எண்ணில் தொடர்பு கொள்ளவும்.
புதிய பதிவாளர்
(8/557018)

சட்டதரணிகளாகிட !
சட்டக் கல்லூரி நுழைவுப் போட்டிப் பரீட்சைக்கான வழிகாட்டி வகுப்புகள்

இவ்வகுடம் ஆனி மாதம் நடைபெற இருக்கும் சட்டக்கல்லூரி நுழைவுப் பரீட்சைக்கான வழிகாட்டி வகுப்புகள் ஆரம்பமாகவுள்ளது. போட்டிப் பரீட்சையில் தேர்ச்சி பெறுபவர்கள் 2012 கீழ் சட்டத்தரணியாக வெளியேற முடியும். பயிற்சி வகுப்புகளில் கலந்துகொண்டு சட்டத்தரணியாக உருவாக ஆர்வம் உள்ளவர்களிடமிருந்து விண்ணப்பங்கள் கோரப்படுகின்றன.

சட்டக்கல்லூரி நுழைவுப்பரீட்சைக்கான வழிகாட்டி வகுப்புகளை கொழும்பில் நடத்தி வரும் அனுபவமிக்க, பல சட்டத்தரணிகளை கடந்த வருடங்களில் உருவாக்கிய, சட்டத்தரணிகள், சட்டக்கல்லூரி விரிவுரையாளர்கள், பல்கலைக்கழக விரிவுரையாளர்கள் மற்றும் சட்டக்கல்லூரி மாணவர்கள் இணைந்து கீழ் வழிகாட்டல் வகுப்புகளை நடத்த உள்ளார்கள்.

சனி, ஞாயிறு மற்றும் விடுமுறை தினங்களில் வழிகாட்டி வகுப்புகள் நடத்தப்படும்.

- அடிப்படை தகவல்கள்**
- க.பொ.த (சாதாரண) பரீட்சையில் ஆங்கிலம் மற்றும் தமிழ்/சிங்களம் திறமைசித்தி (C) உடன்.
 - க.பொ.த (உயர்தர) பரீட்சை பழைய பாடத்திட்டம் ஆயின் 4 பாடங்களில் சித்தி, புதிய பாடத்திட்டம் ஆயின் 3 பாடங்களில் சித்தி.
 - வயதெக்கை கிடையாது.

வழிகாட்டி வகுப்புகளை விண்ணப்பங்கள் 15.02.2009 வரை ஏற்றிக் கொள்ளப்படும்.

இவ்விடயம் தொடர்பான விவர விழிப்புணர்வுக் கருத்தரங்கு 07.02.2009 (சனிக்கிழமை) அன்று மு.ப. 9.00 மணிக்கு நடைபெறவுள்ளது. சட்டக்கல்லூரியில் ஆர்வமுள்ள அனைவரும் கலந்து கொள்ளலாம்.
கீழ் குறிப்பிடும் முகவரியில் 06.02.2009 முன் தங்கள் ஆசனங்களை உறுதிப்படுத்தக்கொள்ளவும்.

ACADEMY FOR LEGAL ENVIRONMENT,
No: 01, Brown Road, Navalar Road Junction,
Jaffna. Tell : 021-222-7646
E.Mail : afle@gmail.com

யாழ்ப்பாணம் பல நோக்குக் கூட்டுறவுச் சங்கம் - வ.து

கொழும்பில் இருந்து விமானம் மூலம் எதேதுவரப்பட்டு எமது கூட்டுறவு நகர் 1, 2 கிளை நிரையங்களில் பின்வரும் பொருள்கள் விற்பனைக்காக வைக்கப்பட்டுள்ளன

எலிபென்ட் ஹவுஸ்
ஐஸ்கிரீம் வகைகள்
ELEPHANT HOUSE
ICE CREAM

மல்தீக் கருவிரடு
MALDIVES FISH
100g - 150/-
50g - 75/-

பிரிமோ செரேஜஸ்
PRIMA CHICKEN SAUSAGE
150g - 225/-
250g - 295/-



பிரிமோ கேரூடி இறைச்சி
PRIMA WHOLE CHICKEN
1kg - 580



பழ வகைகள்
FRUIT ITEMS
APPLE (TOP RED)
ORANGE

கேரூடிப் பாகங்கள்
CHICKEN PARTS
Liver 600/-
Drumsticks 700/-
Gizzard 670/-
Whole Leg 675/-
Neck 530/-
Chicken Bourn in Thigh 670/-
Back Quarter 645/-

குறிப்பு:
இந்த இறைச்சிப் பொதிகள் கொழும்பிலிருந்து விமானம் மூலம் உடனுக்குடன் தருவிக்கப்பட்டு விலக்கு குறிப்புகள் மூலம் பாதுகாக்கப்பட்டு விற்பனைக்கு வைக்கப்பட்டுள்ளன.
வைபவங்கள் மற்றும் விசேட நிகழ்வுகளுக்கு மொத்தமாக கொள்வனவு செய்பவர்களுக்கு கொள்வனவு செய்யும் தொகைக்கேற்ப விசேட கழிவு வழங்கப்படும்.

வன்னி யுத்த நடவடிக்கைகளால் சிறுவர்களே அதிகளவில் பாதிப்பு

கொழும்பு, ஜன.3

வன்னியில் இராணுவத்திற்கும் விடுதலைப்புலிகளுக்கும் இடையிலான மோதல் காரணமாக சிறுவர்கள் அதிகளவில் பாதிக்கப்படுகின்றமை குறித்து ஐக்கிய நாடுகளின் அமைப்புகள் எச்சரிக்கை விடுத்துள்ளன.

அதிகளவு சிறுவர்கள் கடந்த 10 நாட்களில் மோதல்கள் காரணமாக பாதிக்கப்பட்டுள்ளனர். இவர்களில் ஒரு சில மாதங்களே ஆன குழந்தைகளும் உள்ளன என யுனிசெவ் அமைப்பின் பேச்சாளர் ஜேம்ஸ் எல்டெல் அல்-ஜசீரா தொலைக்காட்சிச் சேவைக்குத் தெரிவித்தார்.

இவ்வாறு மோதலில் காயமடைந்த 50 சிறுவர்களை ஐக்கிய நாடுகள் சபை வன்னியிலிருந்து அழைத்து வந்தது. அவர்களது உடல்களில் குண்டுச் சிதறல்களும் எரிகாயங்களும் காணப்பட்டன என அவர்

ஐ.நா.ஆழ்ந்த கவலை

மேலும் தெரிவித்துள்ளார்.

சிறுவர்கள் மோதல்களின் நடுவில் சிக்கியுள்ளனர்; மிகுந்த ஆபத்தில் உள்ளனர் என்றும் அவர் எச்சரித்துள்ளார்.

மோதல்கள் காரணமாக ஏற்பட்ட காயங்கள் காரணமாக கை, கால்கள் துண்டிக்கப்பட்ட பெண்கள், குழந்தைகள், முதியவர்கள் பலரை தாம் கண்டார் என்று எல்லை யற்ற மருத்துவர்கள் அமைப்பின் மருத்துவ ஒருங்கிணைப்பாளர் லிசாடெத்லிடை தெரிவித்தார்.

இரு கைகளும் துண்டிக்கப்பட்ட இளஞ்சிறார்கள் கண்டேன். மந்தபோசனையால் பாதிக்கப்பட்ட குழந்தைகளைக் கண்டேன் என அவர் மேலும் தெரிவித்துள்ளார்.

(சி)

வன்னியிலிருந்து வருவோருக்காக வவுனியாவில் மூன்று கிராமங்கள் அமைச்சர் ரிஷாத் பதியுதீன் தகவல்

அமைச்சர் ரிஷாத் பதியுதீன் தகவல்

கொழும்பு, ஜன.3

முல்லைத்தீவு மற்றும் கிளிநொச்சி ஆகிய பகுதிகளில் இருந்து இடம்பெயர்ந்து வரும் மக்களைத் தங்கவைப்பதற்காக வவுனியாவில் மூன்று கிராமங்கள் அமைக்கப்பட்டு வருகின்றன என்று மீள் குடியேற்ற அமைச்சர் ரிஷாத் பதியுதீன் தெரிவித்துள்ளார்.

இதுதொடர்பாக அமைச்சர் மேலும் கூறியவை வருமாறு:-

முல்லைத்தீவு மற்றும் கிளிநொச்சி ஆகிய பகுதிகளில் இருந்து இடம்பெயர்ந்து வவுனியாவுக்கு வரும் மக்களைத் தங்கவைத்து அவர்களுக்குத் தேவையான உணவுப்பொருள்கள் மற்றும் மருந்துப் பொருள்கள் ஆகியவற்றை நாம் வழங்கி வருகின்றோம்.

தற்போது அதிக எண்ணிக்கையிலான மக்கள் வவுனியா மெனிக்பார்மில்லும் நெலுக்குளத்திலும் தங்கவைக்கப்பட்டுள்ளனர். தொடர்ந்து இடம்பெயர்ந்து வரும் மக்களைத் தங்க வைப்பதற்கான ஏற்பாடுகளை நாம் செய்துகொண்டு வருகிறோம்.

அந்த வகையில் வவுனியாவில் மூன்று தற்காலிக கிராமங்கள் அமைக்கும் பணியில் நாம் ஈடுபட்டுள்ளோம்.

இடம்பெயர்ந்து வரும் மக்கள் மீண்டும் அவர்களின் சொந்த இடங்களுக்குத் திரும்பும் வரை இந்தக் கிராமங்களில் தங்கவைக்கப்படுவார்கள். அவர்களுக்குத் தேவையான உணவு மற்றும் மருந்துப்பொருள்களை அரசு தொடர்ந்து வழங்கும் - என்றார். (சி)

தையல் பயிற்சிப் பாடசாலை திறப்பு


வடமராட்சி, பெப்.3

வடமராட்சி செவிப்புலனற்றோர் சங்கத்தின் தையல் பயிற்சிப் பாடசாலைத் திறப்பு விழா எதிர்வரும் 9ஆம் திகதி திங்கட்கிழமை காலை 9 மணிக்கு நெல்லியடி மத்திய மகா வித்தியாலய வீதியில் உள்ள சங்க அலுவலகத்தில் நடைபெறவுள்ளது.

இந்நிகழ்வில் பிரதம விருந்தினர்களாக கரவெட்டிப் பிரதேச செயலர் எஸ்.சத்தியசீலன், பருத்தித்துறை பிரதேச செயலர் இ.வரதீஸ் வரன் ஆகியோர் பிரதம விருந்தினர்களாகக் கலந்து கொண்டு பெயர்ப்பலகையும் பயிற்சி நிலையத்தையும் திறந்து வைப்பார்.

இத்தையல் பயிற்சி நிலையத்திற்கு சமூகசேவைகள் அமைச்சின் உதவியுடன் கரவெட்டிப் பிரதேச செயலர் தளபாடங்க ளையும், பருத்தித்துறை பிரதேச செயலர் 4 தையல் மெஷின்களையும் வழங்கியுள்ளார். (203-236)

வங்கிகள் மற்றும் காப்புறுதி நிறுவனங்களில்...



மக்கள் வங்கி சுன்னாகம் கிளையின் புதுவருடக் கொண்டாட்டமும் பரிசளிப்பு விழாவும் அண்மையில் வங்கி மண்டபத்தில் உதவி முகாமையாளர் சு.இராசமனோகரன் தலைமையில் நடைபெற்றது.

அகில இலங்கை ரீதியில் நடைபெற்ற ஜயபூர் சீட்டிழப்பில் பரிசில் பெற்ற அப்பாத்துரைக்கு குளிர்சாதனப் பெட்டியை நிகழ்வில் பிரதம விருந்தினராகக் கலந்துகொண்ட கோட்டக் கல்விப் பணிப்பாளர் செ.குபேரநாதன் வழங்குவதையும் அருகில் கிளை முகாமையாளர் மா.சந்திரகாந்தன், உதவி முகாமையாளர் சு.இராசமனோகரன் ஆகியோர் அருகில் நிற்பதையும் படத்தில் காணலாம்.



இலங்கை வங்கியின் வட மாகாண செயற்பாட்டு முகாமையாளராக அண்மையில் பொறுப்பேற்ற ஆர்.ஜெயேந்திரா, புதிதாக அறிமுகப்படுத்தப்பட்ட 'ஸ்மாட் இன் வெஸ்டர்' கணக்கை திருநெல்வேலி கிளையில் ஆரம்பித்து வைத்து வாடிக்கையாளர் ஒருவருக்கு வைப்புச் சான்றிதழ் வழங்குகின்றார். அருகில் கிளை முகாமையாளர் ஈ.பிரேமராஜனும் காணப்படுகின்றார்.



'நிஷா' புயல் மற்றும் வெள்ளத்தால் சேதமடைந்த வாகன மொன்றுக்குக் காப்புறுதி தொகையை ஜனசக்தி காப்புறுதி நிறுவனம் வழங்கியுள்ளது. வாகனத்தின் உரிமையாளர் ஜெயராஜசிங்கத்திடம் காப்புறுதி நிறுவனத்தின் பிரதிநிதி இழப்பீட்டுத் தொகை வழங்குவதைப் படத்தில் காணலாம்.



அண்மையில் விபத்தினால் மரணமான காரைநகரைச் சேர்ந்த சண்முகநாதனுக்கு யூனியன் அலுவலர்ஸ் நிறுவனத்தினர் ஆயுள் காப்புறுதித் தொகையை வழங்கியுள்ளனர். காரைநகர் புகழாரமுத்தி வித்தியாலயத்தில் கற்கும் காப்புறுதியாளரின் பிள்ளைகளிடம் வித்தியாலய அதிபர் எஸ்.கணேசமூர்த்தி காப்புறுதித் தொகையை வழங்குகிறார். அபிவிருத்தி முகாமையாளர் கோ.சிவராஜனும் உத்தியோகத்தர்களும் அருகில் நிற்பதை படத்தில் காணலாம்.

வாசகர் திருமகம்

எரிபொருள் விற்பனை நிலையத்திலும் கூடிய விலையில் பெற்றோல் விற்பனை

வலி.தென்மேற்கில் இயங்கிவரும் எரிபொருள் நிலையம் ஒன்றில் ஒரு லீற்றர் பெற்றோல் ரூ.135/= ஆக விற்பனை செய்யப்படுகின்றது.

இந்நிலையம் அமைந்துள்ள வளவினுள் வைத்தே இந்த விலைக்குப் பெற்றோல் விற்பனையை நிலைய உரிமையாளர் மேற்கொண்டு வருகிறார்.

காரணம் கேட்டால், பெற்றோலை, யின்சாரம் இல்லாத காரணத்தால், 'பம்ப' பண்ணி எடுக்க முடியவில்லை, எனக் கூறுகிறார்.

நடைபாதை, மற்றும் தனியார் கடைகளில் ரூபா 135/= முதல் ரூ 140/= வரை பெற்றோல் வாங்கக் கூடியதாக இருக்கும்போது, எரிபொருள் நிலையத்திலும் இவ்விலைக்கு பெற்றோல் வாங்க வேண்டியுள்ளதாகப் பாவனையாளர்கள் விசனம் தெரிவிக்கின்றனர்.

இந்த நடவடிக்கையை தடுத்து நிறுத்துபவர்கள் எவருமில்லையா என்று பெற்றோல் பாவனையாளர்கள் கேட்கிறார்கள்.

சங்காணை. ஒரு வாகனப் பாவனையாளர்.

பாராட்டுக்குரிய செயற்பாடு

நான் நல்லூர் பிரதேசத்தில் ஒரு சாதாரண பொது மகன். கடந்த 01.01.2009 அன்று காலை நல்லூர் - பிரதேச செயலக நிதிக் கிளைக்கு வாகன வரி செலுத்துவதன் பொருட்டு சென்றிருந்தேன். அலுவலகத்தின் உள்ளே சென்ற நான் ஐந்து அல்லது ஆறு நிமிடங்களில் வெளியே வந்து விட்டேன். ஏனெனில் எனது தேவை அந்த நிமிடங்களிலேயே பூர்த்தி செய்யப்பட்டுவிட்டது.

நல்லூர்ப் பிரதேச செயலகத்தின் நிதிக் கிளையில் இதற்கெனவே ஐந்து அலுவலர்களிடம் அதற்கான பொறுப்புகளும், அதிகாரங்களும் வழங்கப்பட்டுள்ளன. இந்த நடவடிக்கையானது பொது மக்கள் தமது ஆவணங்களைச் சரிவர சமர்ப்பிக்கும் பட்சத்தில் ஐந்து அல்லது ஆறு நிமிட நேரங்களில் தமது தேவையை நிறைவேற்றிக் கொண்டு வெளியேற வழி சமைத்துள்ளது. இவ்வாறே சராசரியாக ஆகக் கூடியது ஒவ்வொரு ஒன்றரை அல்லது இரண்டு நிமிடங்களில் ஒவ்வொருவர் வெளியேற முடிகின்றது. ஒருவர் தனது தேவையை ஒரு சில நிமிடங்களில் அடையும் போது வீணான நெருக்கடிகளும் நேர விரயமும் தவிர்க்கப்படுகின்றது. அத்துடன் அலுவலர்களிடம் கடமைகளை பகிர்ந்தளித்துள்ளதாலும் அதிகாரங்களை பரவலாக்கியதாலும் அலுவலர்களும் மனச்சோர்வின்றி முழுமனத்துடன் கடமை புரிவதனை அவதானிக்க முடிந்தது.

இது வெறும் புகழ்ச்சியன்று. என் போன்று அதே அலுவலகத்திற்குச் சென்று வந்தவர்கள் கூறும் போது இதன் உண்மைத்தன்மையை உணரலாம். இது பிரதேச செயலகங்களுக்கு மட்டுமன்றி அனைத்து அரச அலுவலகங்களுக்கும் முன்னோடியான ஒரு செயற்பாடாக அமைந்துள்ளது என்றால் அது மிகையாகாது. சதமரியமயூர், திருநெல்வேலி.

31 ஆம் நாள் நினைவுஞ்சலி

பிறப்பு
22
★
11
★
1975



இறப்பு
04
★
01
★
2009

ஜீவாகரன் குணாவினி (குணா)

பேச்சினிலே இனிமை கொண்டாய்
பார்வையிலே கனிவு கொண்டாய்
பழகியவர் மனதிலெல்லாம்
பண்டிடையவள் என்றானாய்
பூமியிலே வாழ்ந்த நாட்கள்
போதுமென்று நினைத்தாயோ
விதி வந்து விளையாட
எம்மையெல்லாம் கலங்க வைத்து
உந்தன் பூவிழிகள் மூடியதேன்.

தகவல்: குரும்பத்தினர்.

45ஆம் நாள் நினைவுஞ்சலி



மலர்வு
11
★
09
★
1973
உதிர்வு
21
★
12
★
2008

அமரர் கல்பனா சுகந்தன்

நேற்று வரை கூடியிருந்து
படுத்தறங்கி உணர்ந்து வீறலி ருந்தீர்!
அம்மாவாய், அக்காவாய்
அன்புத் தங்கையாய், மகளாய்,
மனைவியாய்
எல்லோர்க்கும் எல்லாமாய்
கூற்றுடன் வரும் வழி - நேரம்
கூறுதற்கு யாருளர்
நேற்றுப்போல் இன்றும் நானையும்
அன்னாரின் இறுதிக்கிரியைகளில்
பேசி, தந்திமூலம் ஆறுதல் தெரிவித்த
அன்பு உள்ளங்கள் அனைவருக்கு
மும் எமது நன்றியினைத் தெரிவித்துக்
கொள்கின்றோம்.

1A,9, சொய்சாபுர,
மொரட்டுவ,
011-2623146

என்றென்றும் எல்லேனையும்
எம்மோடு தானென்று நீங்குகும்
நாங்க்கும்
நம்பிய வேளையிலே
கண்பிப்பாழத்தில் காலன் வந்து
முடித்துப் போனதென்ன
உங்களின் நினைவு சுமந்த
காற்றினையே
சுவாசிக்கும்.....

குரும்பத்தினர்.
4A, West Gardens,
London.

(0)556991

மரண அறிவித்தல்

திருமதி தங்கமணி பழனிச்சாமி

இல.115, இராசாவின் தோட்டம், யாழ்ப்பாணத்தைப் பிறப்பிடமாகவும் வசிப்பிடமாகவும் கொண்டு தற்போது பிரான்சில் வசித்து வந்த திருமதி தங்கமணி பழனிச்சாமி 01.02.2009 அன்று பிரான்சில் சிவபதமடைந்தார்.

அன்னார் அமரர் நல்லதம்பி பழனிச்சாமியின் அன்பு மனைவியும், அமரர் இராசையா - பொன்னம்மா தம்பதியரின் அன்பு மகளும் அமரர் நல்லதம்பி - வள்ளியம்மை தம்பதியரின் அன்பு மருமகளும் தயாபரன்(லண்டன்), பத்மசுந்தரி (பிரான்ஸ்), தயானந்தன் (பிரான்ஸ்), பிரேம ஸ்தா(லண்டன்) ஆகியோரின் அன்புத் தாயும் மதசாலினி, சின்னராசா, மகேந்திரன், தர்ஷினி ஆகியோரின் அன்பு மாமியாரும் அமரர் கதிரவேற்பிள்ளை மற்றும் பஞ்சாட்சரம், பாலசுந்தரம் (கொழும்பு), சிவகங்கை (பிரான்ஸ்) ஆகியோரின் அன்புச் சகோதரியும், அமரர் சுப்பிரமணியம், இரத்தினகோபால் மற்றும் சுந்தரலட்சுமி, லீலாவதி, நாகேஸ்வரி (பத்மா) ஆகியோரின் அன்பு மைத்துனியும், நிருஷன், சிவஜன், சுகிர்தன், இந்துகா, இந்திரப்பிரதாபன், சுமுகன், சுகந்தன், சிந்தூரா, லக்ஷ்ணா, அபிதேஷ், திபீஷ்ணா, சுபீக்ஷா, நிபிஷா ஆகியோரின் அன்புப் பேர்த்தியும் ஆவார்.

அன்னாரின் பூதவுடல் இன்று(03.02.2009) பிரான்சில் தகனஞ்செய்யப்படும். இந்த அறிவித்தலை உற்றார், உறவினர், நண்பர்கள் அனைவரும் ஏற்றுக்கொள்ளவும்.

தகவல்: சகோதரர்கள்
S.R.பஞ்சாட்சரம் (கடுக்கன்) T.P:6852
S.R.பாலசுந்தரம் (கொழும்பு) T.P:112503237

தொலைபேசி:
ப.தயாபரன் (மகன்) 00442083370755 (லண்டன்)
ப.தயாவந்தன் (மகன்) 0033634021237 (பிரான்ஸ்)
ச.பத்மசுந்தரி (மகன்) 0033147060814 (பிரான்ஸ்)
ம.பிரேமலதா (மகன்) 00442082869153 (லண்டன்)

கண்ணீர் அஞ்சலி

ஆறுமுகம் நவந்தசீருஸ்னன்
அவர்களது பிரிவால் துயருற்றிருக்கும் குடும்பத்தினருக்கு ஆழ்ந்த அனுதாபங்களைத் தெரிவிப்பதோடு அன்னாரின் ஆத்மசாந்திக்காகப் பிரார்த்திக்கின்றோம்.

95, ஆர்.காந்தியர் வீதி, நல்லூர், யாழ்ப்பாணம். நகவல்: குடவாகரன் (G.P.S.).

கிணறுகள் இறைக்கும் பணிக்கு மக்கள் சிறப்பாக ஒத்துழைப்பு

யாழ்ப்பாணம், பெப்.3 அண்மையில் ஏற்பட்ட வெள்ளத்தினால் பாதிக்கப்பட்ட கிணறுகள் இறைத்து சுத்தம் செய்யும் பணிகளுக்கு மக்களின் ஒத்துழைப்பு சிறந்த முறையில் உள்ளது என உள்ளூராட்சி உதவி ஆணையாளர் திருமதி மதுமதி வசந்தகுமார் தெரிவித்தார். குடாநாட்டில் குறைந்தது நான் ஒன்றிற்கு ஐந்திற்கும் மேற்பட்ட கிணறுகள் இறைத்துச் சுத்தம் செய்யப்பட்டு வருகின்றன. இந்தப் பணிக்கு மக்களின் ஒத்துழைப்பு சிறப்பாக உள்ளது. விவசாயக் கிராமப் பகுதியில் உள்ள மக்களின் கிணறுகள் இறைக்கும் பணிகள் மந்த கதியிலேயே இடம்பெற்று வருகின்றன. விவசாயத் தேவைக்கு பயன்படுத்தப்படும் நீரிறைக்கும் இயந்திரத்தைக் கொண்டு தத்தம் கிணறுகளை அவர்கள் தாமே இறைத்துச் சுத்தம் செய்வதே இதற்குக் காரணம்.

இந்தக் கிணறு இறைப்புப் பணிகள் குறைந்த கட்டணத்திலேயே நடைபெற்று வருகின்றன என்றும் அவர் தெரிவித்தார். (202-224)

நவாலி மகாவித்தியாலயத்தில் புதிய சமையலறை திறக்கப்பட்டது

மாண்புமயம், பெப்.3 நவாலி மகாவித்தியாலயத்தில் சமையல் பகுதிக்கென பிரத்தியேக அறை சண்டி லிப்பாய் கோட்டக்கல்வி அதிகாரி எஸ்.கந்த சாமியினால் திறந்துவைக்கப்பட்டுள்ளது. நவாலி மகாவித்தியாலய அதிபர் இரா. வசந்தகுமார் தலைமையில் இடம்பெற்ற நிகழ்வில் மேற்படி புதிய அறை திறந்துவைக்கப்பட்டது. உள்வளத்துணை செயற்பாட்டு அலுவலகம், நவீன வடிவிலான விஞ்ஞான ஆய்வுகூடம் மற்றும் சோமசுந்தரப் புலவர், பாடசாலை நிறுவநர் தம்பையா பண்டிதர் ஆகியோரது சிலைகள் ஆகியன பீன்புரமைப்புச் செய்யப்பட்டுள்ளதாகவும் தெரிவிக்கப்பட்டன. (203-95)

இளைஞர் கழகங்களின் நிர்வாகிகளைத் தெரிவுசெய்க

இணுவில், பெப்.3 யாழ்.மாவட்ட தேசிய இளைஞர் சேவை மன்றத்திற்கு உட்பட்ட இளைஞர் கழகங்கள் இந்த ஆண்டில் மேற்கொள்ளப்படவுள்ள வேலைத்திட்டங்களுக்கு வசதியாக குறித்த காலத்திற்குள் புதிய நிர்வாகத்தைத் தெரிவுசெய்யவேண்டுமென்று தேசிய இளைஞர் சேவைகள் மன்ற அதிகாரிகள் கேட்டுள்ளனர்.

எதிர்வரும் 20ஆம் திகதிக்கு முன்னர் இதுதொடர்பான விவரங்களை அனுப்பி வைக்குமாறு கேட்கப்பட்டுள்ளது. (203-45)

அல்வாய்ப் பகுதிகளில் கட்டாக்காலிகள் தொல்லை

வடமராட்சி, பெப்.3 அல்வாய் வடக்கு, அல்வாய் வட மேற்கு, அல்வாய் மேற்கு ஆகிய பகுதிகளில் கட்டாக்காலி ஆடு, மாடுகளின் தொல்லைகள் அதிகரித்துள்ளன.

இப்பகுதிகளில் குடியிருப்புக்களுடன் அண்டி தோட்ட நிலங்கள் இருப்பதால் கட்டாக்காலி ஆடு, மாடுகளைக் கட்டி வளர்க்குமாறும் இல்லையெல் கட்டாக்காலிகள் பிடிக்கப்பட்டு உரிய பயிர்ழிவு நஷ்டம் கால்நடை வளர்ப்போரிடமிருந்து அறவிடப்படும் என இப்பகுதிகளைச் சேர்ந்த கமக்காரர் அமைப்புகள் கால்நடை வளர்ப்போருக்கு அறிவுறுத்தல் விடுத்தன.

மின்வயர்கள் உரசுவதால் தீய்ப்பிளம்பு ஏற்படுகிறது

மாண்புமயம், பெப்.3 நவாலி வடக்கு - புலவர் வீதியில் மின் வயர்கள் ஒன்றுடன் ஒன்று உரசி தீய்ப்பிளம்பாக எரிகின்றன என்று அப்பகுதி மக்கள் தெரிவிக்கின்றனர். இதனால் கடந்த சில நாட்களாக இரவுவேளைகளில் மின்சாரம் தடைப்படுவதாகத் தெரிவிக்கப்படுகின்றது. இதேவேளை - மேற்படி வீதியில் மின் வயர்கள் எரிவது தொடர்பாகவும், மின்சாரம் இரவுவேளைகளில் துண்டிக்கப்படுவது தொடர்பாகவும் முறைப்பாடு செய்யப்பட்டபோதும் சம்பந்தப்பட்ட அதிகாரிகள் இதற்குரிய நடவடிக்கை எதுவும் எடுக்கவில்லை என்று கூறப்படுகின்றது. (203-95)

காணி விற்பனைக்கு

யாழ்.மாநகர எல்லைக்குள் யாழ்.பிரதான வீதி, புதிய நீதிமன்றத்திற்கு தெற்குப் பக்கமாக 4 பரப்பு கிணற்று வசதியுடன் சகடிய காணி உடன் விற்பனைக்கு.

தொடர்பு:- 0779522521
சிறி:- 0775924843
0776111419

நான்காம் ஆண்டு நினைவுகளில்

அமரர்
செல்லத்துரை
பாலசங்கம் (பத்தர்)

மலர்வு
19*05*1933

உதிர்வு
18*01*2005

திதி: தைமாசப் பூர்வபஞ்ச அட்டமி (03.02.2009)

அன்பின் உறைவிடமே! குடும்பத்தின் ஒளிவிளக்கே!
கண்ணீரில் கரைந்தன நான்காண்டுகள்
அன்பு மனங்களில் உங்கள் இனிய நினைவுகள் என்றும் அழியாது.
ஓம் சந்தி! சந்தி!! சந்தி!!!

கலைமகள் வீதி,
நல்லூர் வடக்கு,
யாழ்ப்பாணம். (82345)

என்றும் உங்கள் நினைவுடன்:
ரிள்ளைகள், மதுமக்கள்,
புரப்பிள்ளைகள்.

நான்காம் ஆண்டு நினைவு

மலர்வு
09
★
06
★
1949

உதிர்வு
18
★
01
★
2005

அமரர் சின்னத்துரை மகாலிங்கம்
(முன்னாள் பிரதம எழுதுநர், தொழில்துட்பக் கல்லூரி, கௌரவ செயலாளர், ஊழியர் ஐக்கிய நான்காம் ஆண்டு நினைவு) திதி: 03.02.2009

இவ்வையாக வழி
இவ்வ வழி காட்டிய - ஜீவனே
இமைப்பொழுதில் நினைவாலும்
இழக்கமுடியாவிடில்லை உங்கள் நினைவுகளை.
ஏழாலை மேற்கு, ஏழாலை. குடும்பத்தினர்.

ஓராய் நினைவில்...

ஓராசலிங்கம் மதுமாறன்

தோற்றம்: 02.03.1977
திதி: அட்டமி (03.02.2009)
மறைவு: 14.02.2008

ஆல்பெல் வீழுவூட்டு ஆண்டுகள் பல உழுவீர் என ஆவலுடன் காத்திருந்தோம் ஆசையுடன் பாத்திருந்தோம் பாச உருவகளைப் பாண்டிலே பாத்திருந்தோம் பாத் உயவூதின்னல் பரமனடி சேர்ந்தீர்

ஓராண்டு பருந்தோடி மறைந்தீர் - நன் புகை நனைவுகளில் பகலீரவாய் நனைக்கீரோம் ஆய்ரம் சேறனைகள் அடுக்கடுக்காய் வந்தீர் - நன் நனைவுகள் மட்டுமே எம்மை வீட்டு மறைவதில்லை.

நாராயணன் வீதி,
கோண்டாவில் கிழக்கு,
கோண்டாவில்.

என்றும் நினைவுடன்:
குடும்பத்தினர்.
சு.சேந்திரன் (மைத்துனர்).



கொக்குவில் வளர்மதி சன சமூக நிலையம் வீகர்ஸ்- இராஜன்-கங்கு ஞானாகார்த்தமாக நடத்திய கிரிக்கெட் சுற்றுப் போட்டியில் யாழ்ப்பாணம் ஜோலிஸ்ரார் விளையாட்டுக் கழகம் சம்பியனாக தெரிவு செய்யப்பட்டது.

இறுதிப் போட்டியில் யாழ்ப்பாணம் பல்கலைக்கழக விளையாட்டுக் கழகமும், யாழ்ப்பாணம் ஜோலிஸ்ரார் விளையாட்டுக் கழகமும் மோதிக் கொள்வனவைப் படங்களில் காணலாம். (பா.ங்கள்: நேசன்)

கரப்பந்தாட்டச் சுற்றுப் போட்டியில் அரியாலை ஐக்கிய வி.க. சம்பியனானது

வலிவடக்கு, பெப். 3 நல்லூர் பிரதேச செயலர் பிரிவில் பதிவு செய்யப்பட்ட விளையாட்டுக் கழகங்களுக்கு இடையே நடைபெற்ற ஆண்களுக்கான கரப்பந்தாட்டச் சுற்றுப் போட்டியில் அரியாலை ஐக்கிய விளையாட்டுக் கழகம் சம்பியன் பட்டத்தை வென்றது.

அரியாலை பங்குபடுகின்ற சனசமூக நிலைய கரப்பந்தாட்ட மைதானத்தில் இடம் பெற்ற இறுதிப் போட்டியில் வண்ணார்பண்ணை விளையாட்டுக் கழகமும் அரியாலை ஐக்கிய விளையாட்டுக் கழகமும் மோதிக் கொண்டன.

மூன்று சுற்றுக்கள் கொண்ட இப் போட்டியில் முதல் இரண்டு சுற்றுக்களையும் ஐக்கிய விளையாட்டுக் கழகம் கைப்பற்றிச் சம்பியனானது.

இரு அணிகளும் வெற்றியைப் பெற்று சம்பியனாக வரவேண்டும் என்ற துடிப்புடன் விளையாடியமை ரசிகர்களையும், பார்வையாளர்களையும் மிகவும் உற்சாகப்படுத்தியது.

முதல் இரண்டு சுற்றுக்களையும் அரியாலை ஐக்கிய விளையாட்டுக் கழகம் 25:23, 27:25 புள்ளிகள் அடிப்படையில் வண்ணார்பண்ணை விளையாட்டுக் கழகத்தை வெற்றி கொண்டது.

இச்சுற்றுப் போட்டியில் மூன்றாம் இடத்தை திருநெல்வேலி முத்துத்தம்பி

விளையாட்டுக் கழகம் பெற்றுக்கொண்டது. (04-86)



உருவில் பிரதேச செயலர் பிரிவில் பதிவு செய்யப்பட்ட கழகங்களுக்கு இடையே இடம்பெற்ற கரப்பந்தாட்ட இறுதிப் போட்டியில் மல்லாகம் கோட்டைக்காடு ஸ்ரீ முருகன் விளையாட்டுக் கழகம் வெற்றி பெற்றது. இறுதிப் போட்டியில் உருவில் மத்தி விளையாட்டுக் கழகமும், ஸ்ரீ முருகன் விளையாட்டுக் கழகமும் மோதிக் கொள்வனவைப் படங்களில் காணலாம். (பா.ங்கள்: நேசன்)

சிறந்த கூடைப்பந்தாட்ட வீரர், வீராங்கனைகள் தெரிவு

வலி.வடக்கு, பெப். 3 யாழ்.மாவட்ட கூடைப்பந்தாட்டச் சங்கம் நடத்திய கூடைப்பந்தாட்டச் சுற்றுப் போட்டியில் சிறந்த கூடைப்பந்தாட்ட வீரர், வீராங்கனைகள் தெரிவு செய்யப்பட்டனர். ஆண்களுக்கான இறுதிப் போட்டியின் போது ஆட்ட நாயகனாக யாழ்ப்பாணம் ஜோலிஸ்ரார் விளையாட்டுக் கழக வீரர் வாசீ சஜும், போட்டிகளின் தொடர் ஆட்ட நாயக

னாக சென்ரலைட்ஸ் விளையாட்டுக் கழக வீரர் பிரசன்னாவும் தெரிவு செய்யப்பட்டனர். பெண்களுக்கான இறுதிப் போட்டியின் போது ஆட்டநாயகியாகிய யாழ்ப்பாணம் பமலியன்ஸ் விளையாட்டுக் கழக வீராங்கனை க.சானுகாவும், தொடர் ஆட்ட நாயகியாக கொக்குவில் மத்திய சனசமூக நிலைய விளையாட்டுக் கழக வீராங்கனை இ.வினோஜாவும் தெரிவு செய்யப்பட்டார்கள். (86)

லீக் முறையிலான கிரிக்கெட் சுற்றுப் போட்டி; இன்னிங்ஸால் வென்றது பற்றிக்ஸ் கல்லூரி!

வலி.வடக்கு, பெப். 3 இலங்கைக் கிரிக்கெட் கட்டுப்பாட்டுச் சபையின் ஏற்பாட்டில் யாழ்ப்பாணம் பாடசாலைகளின் 20 வயது பிரிவினர்களுக்கு இடையே நடைபெற்றுவரும் லீக் முறையிலான கிரிக்கெட் சுற்றுப் போட்டியின் ஆட்டமொன்றில் யாழ்ப்பாணம் சென்.பற்றிக்ஸ் கல்லூரி இன்னிங்ஸினால் வெற்றி பெற்றது.

யாழ்ப்பாணம் சென். பற்றிக்ஸ் கல்லூரி மைதானத்தில் இடம்பெற்ற இந்த ஆட்டத்தில் யாழ்ப்பாணம் சென்.பற்றிக்ஸ் கல்லூரியும் தெல்லிப்பளை மகாஜனக் கல்லூரியும் மோதிக் கொண்டன.

முதலில் துடுப்பெடுத்தாடிய சென்.பற்றிக்ஸ் கல்லூரி 59.2 ஓவர்களில் அனைத்து விக்ெட்டுக்களையும் இழந்து 225 ஓட்டங்களைப் பெற்றுக் கொண்டது.

கமில்டன் 70 ஓட்டங்களையும், நவதீபன் 70 ஓட்டங்களையும், மிலாண்டோ 35 ஓட்டங்களையும் பெற்றுக் கொண்டனர்.

உதிரிகளாக 20 ஓட்டங்களும் பெறப்பட்டன.

மகாஜனக் கல்லூரியைச் சேர்ந்த கோகுலதாஸ் 1.2 ஓவர்கள் பந்து வீசி ஒரு ஓட்டத்திற்கு 3 விக்ெட்டுக்களையும் கஜதீபன், டிலக்ஷன் ஆகியோர் தலா ஒரு விக்ெட்டையும் கைப்பற்றினர்.

பதிலுக்குத் துடுப்பெடுத்தாடிய மகாஜனக் கல்லூரி 49 ஓவர்களில் அனைத்து விக்ெட்டுக்களையும் இழந்து 70 ஓட்டங்களை மாததீரமே பெற்றுக் கொண்டது. கஜந்தசீலன் 26 ஓட்டங்களைப் பெற்றார். உதிரிகளாக 15 ஓட்டங்களும் பெறப்பட்டன.

சென்.பற்றிக்ஸ் கல்லூரியைச் சேர்ந்த நிலோஜன் 11 ஓவர்கள் பந்து வீசி 6 ஓட்டமற்ற ஓவர்களுடன் 9 ஓட்டங்களுக்கு 5 விக்ெட்டுக்களையும், மிலாண்டோ 10 ஓவர்கள் பந்து வீசி 4 ஓட்டமற்ற ஓவர்களுடன் 13 ஓட்டங்களுக்கு 3 விக்ெட்டுக்களையும், சயீந்திரன், மனோஜ் ஆகியோர் தலா ஒரு விக்ெட்டையும் கைப்பற்றினார்கள்.

இரண்டாவது இன்னிங்ஸில் சென்.பற்றிக்ஸ் கல்லூரி துடுப்பெடுத்தாடாது, மீண்டும் மகாஜனக் கல்லூரியையே துடுப்பெடுத்தாட அழைத்தது.

இதில் மகாஜனக் கல்லூரி 39.4 ஓவர்களில் அனைத்து விக்ெட்டுக்களையும் இழந்து 113 ஓட்டங்களைப் பெற்றதால் பற்றிக்ஸ் கல்லூரி இன்னிங்ஸால் வெற்றி பெற்றது.

கஜந்தசீலன் 35 ஓட்டங்களையும், கோகுலதாஸ் 26 ஓட்டங்களையும், பார்த்தீபன் 22 ஓட்டங்களையும் பெற்றுக் கொண்டார்கள்.

சென்.பற்றிக்ஸ் கல்லூரியைச் சேர்ந்த மிலாண்டோ 6.4 ஓவர்கள் பந்து வீசி 2 ஓட்டமற்ற ஓவர்களுடன் 18 ஓட்டங்களுக்கு 3 விக்ெட்டுக்களையும், லவதீபன் ராஜிவ், நிலோசன், சஜீந்திரன், நவதீபன் ஆகியோர் தலா ஒரு விக்ெட்டையும் கைப்பற்றினர். (202-86)

ஆட்டங்கள்

வலி.வடக்கு, பெப். 3 யாழ்.மாவட்ட செயலக விளையாட்டுப் பிரிவு மாவட்ட மட்டத்தில் நடத்தும் ஆண்களுக்கான பூப்பந்தாட்டப் போட்டியின் இறுதி ஆட்டம் நாளை புதன்கிழமை பகல் 9 மணிக்கு யாழ்ப்பாணம் சென். ஜோன்ஸ் கல்லூரி உள்ளகப் பூப்பந்தாட்ட மைதானத்தில் நடைபெறும்.

இறுதிப் போட்டியில் உருவில் மான்ஸ் பாடசாலை விளையாட்டுக் கழகமும், சுண்டுக்குளி மகளிர் கல்லூரி விளையாட்டுக் கழகமும் மோதவுள்ளன. (50-86)

வலி.வடக்கு, பெப். 3 சண்டிலிப்பாய் பிரதேச செயலர் பிரிவில் பதிவு செய்யப்பட்ட விளையாட்டுக் கழகங்களுக்கு இடையேயான எல்லே விளையாட்டுப் போட்டி நாளை புதன்கிழமை காலை 8.30 மணிக்கு பண்டத்தரிப்பு இந்துக் கல்லூரி விளையாட்டு மைதானத்தில் நடைபெறும். (50-86)

எல்லே சுற்றுப் போட்டியில் சம்பியனாகியது அல்வாய் மனோகரா விளையாட்டுக் கழகம்

வலி.வடக்கு, பெப். 3 கரவெட்டிப் பிரதேச செயலர் பிரிவில் பதிவு செய்யப்பட்ட விளையாட்டுக் கழகங்களுக்கு இடையே இடம்பெற்ற ஆண்களுக்கான எல்லே சுற்றுப் போட்டியில் அல்வாய் மனோகரா விளையாட்டுக் கழகம் சம்பியனாகியது.

அல்வாய் மனோகரா விளையாட்டுக் கழக மைதானத்தில் இடம்பெற்ற இறுதிப் போட்டியில் வதிரி டயமன்ஸ் விளையாட்டுக் கழகமும், அல்வாய் மனோகரா விளையாட்டுக் கழகமும் மோதிக் கொண்டன.


முதலில் விளையாடிய மனோகரா விளையாட்டுக் கழகம் 4 ஓட்டங்களைப் பெற்றுக் கொண்டது.

5 ஓட்டங்களை வெற்றி இலக்காகக் கொண்டு களமிறங்கிய டயமன்ஸ் விளையாட்டுக் கழகம் ஒரு ஓட்டத்தை மட்டும்

முதல் இன்னிங்ஸில் பெற்றுக் கொண்டது. இரண்டாவது இன்னிங்ஸில் 2 ஓட்டங்களை மட்டுமே அந்த அணி பெற்றுக் கொண்டது.

ஆட்ட நிறைவில் 4:3 புள்ளிகள் என்ற அடிப்படையில் டயமன்ஸ் விளையாட்டுக் கழகத்தை வென்று மனோகரா விளையாட்டுக் கழகம் சம்பியனாகியது.

மூன்றாம் இடத்திற்கான போட்டியில் இமையாணன் மத்திய விளையாட்டுக் கழகமும் உடுப்பிட்டி யுத் விளையாட்டுக் கழகமும் மோதிக் கொண்டன. இதில் இமையாணன் மத்திய விளையாட்டுக் கழகம் 1:0 என்ற புள்ளிகள் அடிப்படையில் உடுப்பிட்டி யுத் விளையாட்டுக் கழகத்தை வெற்றி கொண்டு மூன்றாம் இடத்தைத் தட்டிக் கொண்டது.



யாழ்.இந்து அல்வாய் பாடசாலைவின் ஒருபந்த இல்ல மெய்வன்மைப் போட்டி அணிகளில் நடைபெற்றது. மாணவர்களின் அணிவகுப்பு இடம் பெற்றபோது எடுக்கப்பட்ட (பா.ம்: ஒங்காரன்)

செயலமர்வுகள்

வடமராட்சி கல்வி வலயத்தில் ஆங்கில பாடம் போதிக்கும் ஆசிரியர்களுக்கும், தகவல் தொழில்நுட்ப பாடம் போதிக்கும் ஆசிரியர்களுக்குமான செயலமர்வு எதிர்வரும் வெள்ளிக்கிழமை காலை 9 மணிக்கு நடைபெறவுள்ளது.

ஆங்கிலபாட ஆசிரியர்களுக்கு நெல்லியடி மத்திய மகா வித்தியாலய ஆசிரிய நிலையத்திலும் தகவல் தொழில்நுட்ப ஆசிரியர்களுக்கு வடமராட்சி கல்வி வலயத்திலுள்ள கணனி வள நிலையத்திலும் இச் செயலமர்வுகள் இடம்பெறும் என வடமராட்சி வலயக் கல்விப் பணிப்பாளர் வ.செல்வராஜா அறிவித்துள்ளார். (203-236)

கண்ணீர் அஞ்சலி



எமது நண்பன்
தம்பையா அருட்சோதி
(அருள் ஸ்ரோர்ஸ் - கொழும்பு)
அவர்களின் அன்புத் தாய்
திருமதி தம்பையா நாகம்மா
அவர்களின் மறைவால் துயருற்றிருக்கும் அன்னாரின் குடும்பத்தினருக்கு எமது ஆழ்ந்த அனுதாபத்தைத் தெரிவிப்பதோடு அவரின் ஆத்மா சாந்தியடைய ஈழத்துச் சிவனைப் பிரார்த்திக்கின்றோம்

மதுரா மாளிகை,
யாழ்ப்பாணம். (82409)

S.தாசன்.

மரண அறிவித்தல்

சிவபாதசுந்தரம் கனகமணி



அரியாலையைப் பிறப்பிடமாகவும், வதிவிடமாகவும் கொண்ட சிவபாதசுந்தரம் கனகமணி நேற்று (02.02.2009) திங்கட்கிழமை காலமானார்.

அன்னார் காலஞ்சென்றவர்களான அப்பா குட்டி-பொன்னம்மா தம்பதியினரின் மகளும், காலஞ்சென்ற சிவபாதசுந்தரத்தின் அன்பு மனைவியும் காலஞ்சென்றவர்களான பொன்னுத்துரை-செல்லம்மா தம்பதியரின் மருமகளும்,

காலஞ்சென்ற செல்லம்மாவின் அன்புச் சகோதரியும், மகேஸ்வரி, தியாகேஸ்வரி, வனேஸ்வரி, உதயநாதன் ஆகியோரின் சிறியதாயாரும் ஆவார்.

அன்னாரின் இறுதிக்கிரியைகள் இன்று (03.02.2009) செவ்வாய்க்கிழமை காலை 9 மணியளவில் அவரின் இல்லத்தில் நடைபெற்று பூதவுடல் தகனக்கிரியைகளுக்காக அரியாலை சித்துப்பாத்தி இந்து மயானத்திற்கு எடுத்துச் செல்லப்படும்.

இந்த அறிவித்தலை உற்றார், உறவினர், நண்பர்கள் அனைவரும் ஏற்றுக் கொள்ளவும்,

தகவல்:

இல.44, கச்சேரி கிழக்கு ஒழுங்கை, திருமதி கணேசபாலன்
யாழ்ப்பாணம். (ஈசா-பேர்த்தி)

மரண அறிவித்தல்



திருமதி. கிரத்தினசிங்கம் புலனேஸ்வரி

யாழ்ப்பாணத்திலிருந்து பிறப்பிடமாகவும் கொழும்பு பம்பலப்பிட்டியை வசிப்பிடமாகவும் கொண்ட திருமதி. கிரத்தினசிங்கம் புலனேஸ்வரி (30-01-2009) வெள்ளிக்கிழமை காலமானார். அன்னார் காலஞ்சென்ற செல்லையா கிரத்தினசிங்கம் (நில அளவையாளர்) அவர்களின் அன்பு மனைவியும், காலஞ்சென்றவர்களான இராசையா - தங்கரத்தினம் அவர்களின் அன்பு மகளும், காலஞ்சென்றவர்களான செல்லையா - சின்னம்மா அவர்களின் அன்பு மருமகளும், ரஞ்சன், Dr.மோகன் (பல் வைத்தியர்), இராகுலன் (மக்கள் வங்கி), ரமணி, காலஞ்சென்ற ராஜன், கிரத்தினகுமார், ரஜனி, றங்கன், றமணன், ராஜினி, ராகவன், ராகினி ஆகியோரின் அன்புத் தாயாரும் கதிர்காமசோதி, சிவகௌரி (பல் வைத்தியர்), யோகேஸ்வரி, காலஞ்சென்ற குகதாசன், கிருஷ்ணவேணி, பரமேஸ்வரி, தியாகராஜன், ஜெயந்தி, ஜெயகௌரி, லோகநாதன், பாலகுமார் ஆகியோரின் அன்பு மரியமும், டிவினி, டிலானி, விதுனன், விதுர்பன், ஜீவிதா, ரமேஸ், சதீஸ், திவ்யா, பிரகாஷ், அபினா, அஸ்வினி, லோஜினி, ஹரிஹன், சாருஜன், அனோஜன், அபிநாஜ், மதிநாத், சுஜித்தா, றபித்தா, சகானா, லைலன், சாருகா ஆகியோரின் அன்புப் பேத்தியுமாவார்.

அன்னாரின் பூதவுடல் இறந்த அஞ்சலிக்காக (02-02-2009) திங்கள் காலை 9 மணி முதல் G1 பம்பலப்பிட்டி தொடர்மாதியில் வைக்கப்பட்டு (04-02-2009) புதன்கிழமை காலை 9 மணிக்கு ஈக்கிரியைகள் நடைபெற்று 10 மணியளவில் தகனக் கிரியைக்காக (தென்மனை - கல்கிசை) இந்து மயானத்திற்கு எடுத்துச் செல்லப்படும். இவ்வறிவித்தலை உற்றார், உறவினர், நண்பர்கள் யாவரும் ஏற்றுக்கொள்ளவும்.

தகவல்: த.லோகநாதன்
இ.ரஞ்சன் - 0777 676482 011-2580130
இ.இராகுலன் - 0777 676479

விடத்தற்பனைக் கிராமத்துக்கு

விரைவில் மின் வெளிச்சம்

தென்மராட்சி கிழக்கு விடத்தற்பனைக் கிராமம் முதன்முறையாக மின்வெளிச்ச வசதி பெறவுள்ளது.

அப்பகுதி கிராம அபிவிருத்திச் சங்கத்தின் முயற்சியினால் இலங்கை மின்சார சபையினால் மின் இணைப்புப் பணிகளும் மேற்கொள்ளப்பட்டு கடந்த வாரம் மின் மாற்றியும் வைக்கப்பட்டது. இம்மாதம் மின்விநியோகம் வழங்கப்படலாமெனத் தெரிவிக்கப்பட்டது. (202-207)

31 ஆம் நாள் நினைவுஞ்சலியும், நன்றி நவிலலும்

அந்நியேட்டி அழைப்பும்



அமரர்
இரத்தினம்
கிருஷ்ணபிள்ளை
பிறப்பு:-
1946.11.13
இறப்பு:-
2009.01.05

அன்புடனே எமை வளர்த்து அறிவூட்டி பண்புடனே பார்புகழ எமை வளர்த்து இன்புடன் எல்லாம் எமக்களித்து இறைவனுடன் நீ கலந்து இன்றுடன் திங்கள் ஒன்று ஆனதுவோ! நெஞ்சம் உள்ள மட்டும் நாம் மறவோம் ஒம் சாந்தி! சாந்தி!! சாந்தி!!!

எமது குடும்பத்தலைவரின் மறைவுச் செய்தி அறிந்து ஒடோடிவந்து உதவிகள் ஒத்தாசை புரிந்த அன்பு உள்ளங்களுக்கும்; ஆறுதல், அஞ்சலிகள் தெரிவித்து, கிரியைகளில் கலந்துகொண்ட உற்றார், உறவினர், நண்பர்கள் அனைவருக்கும் எமது மனமார்த்த நன்றியைத் தெரிவித்துக்கொள்கின்றோம்.

எமது குடும்பத் தலைவரின் ஆத்மசாந்திப் பிரார்த்தனை நூளை (04.02.2009) புதன்கிழமை கொழும்பு தொடர்மாதியினுள் ஐங்கரன் மண்டபத்திலும், பத்தமேனி அச்சுவேலியில் உள்ள இல்லத்திலும் நடைபெறும் ஆத்மசாந்திப் பிரார்த்தனையிலும் மதிய போசனத்திலும் கலந்துகொள்ளுமாறு அன்புடன் அழைக்கின்றோம்.

(இதனைத் தவிர்ப்பட்ட அழைப்புகள் ஏற்றுக்கொள்ளவும்)

85/95, சென்.ஜேம்ஸ் ரிஜன்ஸ்,
மோகரை, கொழும்பு - 15.

விமான நிலைய வீதி,
பத்தமேனி, அச்சுவேலி.

குடும்பத்தினர்.

12 ஆம் ஆண்டு நினைவுஞ்சலி

பிறப்பு
31.08.1964

சீவரட்சை உதயகுமார்
(கல்கிசை கண்ணன்)

அழிப்பு
16.01.1997

திதி: அட்டி (03.02.2009)

தாராள குணமும் தகவுடைய பேரன்பும் சீரான குணவியல்பும் சேர்ந்தே பிறந்த எம் கண்ணா!-இன்று திருமண வாழ்வில் இருபதாண்டு நிகரவும் திரு உருவமானதில் ஈராறு ஆண்டு நிகரவும் ஆனதே! எம் நெஞ்சங் குமுறுதப்பா பிஞ்சுகள் எங்களோடு பெருங் கதைகள் பேசியுள்ளீர்கள் தஞ்சமென்று வந்தவர்க்குத் தாராள உதவிகள் செய்தீர்கள்-அப்பா! இன்று குஞ்சுகள் எமைவிட்டு எங்குதான் சென்றீர்-அப்பா இது நிகரவனின் நியதியோ இல்லை இடையில் உள்ளவர்கள் இட்ட சதியான விதியோ! ஏராளம் பணிகள் செய்த எங்களப்பா-உங்களை நீராளும் கண்களுடன் நிகனக்கின்றோம்-எந்தாளும்.

பெறுக சாந்தி!

91, இராஜகுமார் வீதி,
யாழ்ப்பாணம். குடும்பத்தினர்.

ஈழத் தமிழருக்காக உயிரை விடாலும் உணாவிரதப் போரைக் கைவிடோம்!

களத்தில் குதித்துள்ள திருச்சி மாணவர்கள் கூறரை

சென்னை, பெப்.3
இலங்கையில் தமிழர்கள் மீது நடைபெறும் தாக்குதலைத் தடுத்து நிறுத்தக் கோரி திருச்சியில் சட்டக்கல்லூரி மாணவர்கள் நேற்றுமுன்தினம் 4 ஆவது நாளாக உண்ணாவிரதப் போராட்டத்தில் ஈடுபட்டுள்ளனர். சோர்வடைந்த மாணவர்களிடம் மருத்துவர்கள் வலியுறுத்தியும் அவர்கள் உண்ணாநிலை போராட்டத்தைக் கைவிட மறுத்துவிட்டனர்.

இலங்கைத் தமிழர்கள் மீது நடத்தப்படும் தாக்குதலை உடனே தடுத்து நிறுத்த வேண்டும், சிங்கள இராணுவத்துக்கு இந்திய அரசு உதவிகள் செய்யக்கூடாது என்பன உள்ளிட்ட பல கோரிக்கைகளை வலியுறுத்தி திருச்சி சட்டக்கல்லூரி மாணவர்கள் 27 பேர் கடந்த வெள்ளிக்கிழமை காலவரையற்ற உண்ணாவிரதப் போராட்டத்தைத் தொடங்கினர்.

நேற்றுமுன்தினம் 4ஆவது நாளாக அவர்களின் போராட்டம் நீடித்தது. உண்ணாவிரதம் இருந்தவர்களில் சதீஷ், சதீஷ் குமார், தமிழரசன் ஆகிய 3 மாணவர்கள் கடந்த சனியன்று மயங்கி விழுந்தனர். அவர்கள் உடனடியாக திருச்சி அரசு மருத்துவமனையில் சேர்க்கப்பட்டனர். அங்கு அவர்களுக்கு குளுக்கோஸ் செலுத்தப்பட்டது. இந்நிலையில் நேற்றுமுன்தினம் காலை உண்ணாவிரதம் இருப்பவர்களில் மேலும் 12 மாணவர்கள் மயக்கம் அடைந்தனர். அவர்கள் உண்ணாவிரதப் பந்தலிலேயே சோர்ந்து போய் படுத்து கிடந்தனர். இது தொடர்பான தகவலை பொலிஸார் அரசு மருத்துவர்களுக்கு தெரிவித்தனர். இதைத்தொடர்ந்து அரசு மருத்துவமனை மருத்துவர்கள் குழுவினர் உண

போர் நிறுத்தம் கோரி உண்ணாவிரதமிருந்த சென்னை சட்டக்கல்லூரி மாணவர்கள் கைது

சட்டத்தரணிகளின் பணிப் புறக்கணிப்பு தொடர்கிறது

சென்னை, பெப்.03
இலங்கைத் தமிழர் பிரச்சினைக்காக தொடர் உண்ணாவிரதத்தை ஆரம்பித்த சென்னை சட்டக் கல்லூரி மாணவர்கள் 15 பேர் நேற்று பொலிஸாரால் கைது செய்யப்பட்டனர்.

இதனிடையே சட்டத்தரணிகள் நேற்று இரண்டாவது நாளாகவும் நீதிமன்றப் புறக்கணிப்புப் போராட்டத்தில் ஈடுபட்டதால் தமிழகம் முழுவதும் நீதிமன்றப் பணிகள் பாதிக்கப்பட்டன.

சென்னை சட்டக் கல்லூரி மாணவர்கள் 15 பேர் நேற்றுத் தொடர் உண்ணாவிரதப் போராட்டத்தைத் தொடங்கினர். சட்டக் கல்லூரி வாசலின் முன்பு பந்தல் அமைத்து அவர்கள் அங்கே அமர்ந்திருந்தனர். தகவலறிந்ததும் பொலிஸார் அங்கு விரைந்து சென்று அந்த மாணவர்களைக் கைது செய்து வாகனத்தில் ஏற்றிச் சென்றனர்.

இதனிடையே, இலங்கைத் தமிழர் பாதுகாப்பை வலியுறுத்தி தமிழகம் முழுவதும் சட்டத்தரணிகள் நடத்தி வரும் கால வரை

யற்ற நீதிமன்றப் புறக்கணிப்புப் போராட்டம் இரண்டாவது நாளாக நேற்றும் தொடர்ந்தது.

இது குறித்து தமிழ்நாடு சட்டத்தரணிகள் சங்கத் தலைவர் பிரபாகரன் கூறும் போது -

எங்கள் சங்கத்தின் சார்பில் நாளை வரை இந்தப் போராட்டம் தொடரும். இது நீதிமன்றத்திற்கோ, நீதித்துறைக்கோ எதிரான போராட்டமல்ல. இலங்கைத் தமிழர்களைப் பாதுகாக்க வேண்டும் என்பதற்காக எங்களுடைய உணர்வுகளை தெரிவிப்பதற்கான போராட்டம்தான் - என்றார்.

இதனிடையே உயர்நீதிமன்ற சட்டத்தரணிகள் சங்கத்தின் பொதுக் குழு கூட்டம் நேற்று நடைபெற்றது. இந்தக் கூட்டத்தில் நாளை இலங்கைத் தமிழர் பாதுகாப்பு இயக்கம் அறிவித்துள்ள முழு அடைப்புக்கு ஆதரவு வழங்குவது என்றும், 5 ஆம் திகதி வரை புறக்கணிப்புப் போராட்டத்தைத் தொடர்வது என்றும் முடிவு செய்து தீர்மானம் நிறைவேற்றப்பட்டது.

ஈழத் தமிழரை காப்பாற்றக் கோரி தீக்குளிக்க முயன்ற இருவர் கைது

சென்னை, பெப். 3
இலங்கைப் பிரச்சினைக்குத் தீவுகாணக் கோரியும், ஈழத் தமிழர்களுக்கு ஆதரவு தெரிவித்தும் தீக்குளிக்க முயன்ற இருவர் பொலிஸாரால் கைது செய்யப்பட்டுள்ளனர்.

வி.கே.என். கொலனியை சோந்தவர் ராஜசேகர் (வயது - 29). இவர் நேற்றுமுன்தினம் மெமோரியல் ஹோல் முன்பு மண்ணெண்ணை காணுடன் நின்று கொண்டிருந்தார். திடீரென இலங்கைப் பிரச்சினைக்குத் தீவுகாணக் கோரி தீக்குளிக்க போகிறேன் எனக் கூறினார்.

தகவல் கிடைத்த பூக்கடை பொலிஸார், அந்த வாலிபரைப் பிடித்து, பொது அமைதிக்கு பங்கம் விளைவித்ததாக வழக்குப் பதிவு செய்து கைது செய்தனர். பின்னர் நீதிமன்றத்தில் ஆஜர்படுத்தப்பட்டு பழல் சிறையில் அடைக்கப்பட்டார்.

இதேவேளை, இலங்கைத் தமிழர்களுக்கு ஆதரவு தெரிவித்து நெல்லை பொலிஸ் நிலையம் முன்பு ஜோதிடர் ஒருவர் தீக்குளிக்க முயற்சி செய்தார். அவரை பொலிஸார் கைது செய்தனர்.

நெல்லையில் நேற்று ஜோதிடர் நடராஜன் என்ற கருணாநிதி (வயது 44) பொலிஸ் நிலையம் முன்பு நின்று கொண்டு "இலங்கை தமிழர்கள் வாழ்க, சிங்கள ஜனாதிபதி ராஜபக்ஷ ஒழிக, போரில் விடுதலைப் புலிகள் வெற்றிபெற வேண்டும்" - என்று கோஷங்கள் எழுப்பினார். பின்னர் மண்ணெண்ணையை உடலில் ஊற்றி தற்கொலை செய்ய முயன்றார்.

இதைக்கண்ட பொலிஸார் விரைந்து வந்து தற்கொலை செய்ய முயன்ற நடராஜனைக் கைது செய்து மத்திய சிறையில் அடைத்தனர்.

ஈழத் தமிழருக்காக நடத்தப்படும் முழு அடைப்புக்கு பா.ஜ.க. ஆதரவு

சென்னை, பெப்.3
இலங்கைத் தமிழர் பாதுகாப்பு இயக்கம் நாளை நடத்தவுள்ள முழு அடைப்பு போராட்டத்திற்கு பா.ஜ.க. முழு ஆதரவுளிக்கும் - என்று அக்கட்சியின் மாநிலத் தலைவர் இல.கணேசன் கூறியிருக்கிறார்.

இது குறித்து அவர் நேற்று வெளியிட்டிருள்ள அறிக்கை வருமாறு -

இலங்கைத் தமிழர் பாதுகாப்பு இயக்கம் நாளை நடத்துவதாக அறிவித்துள்ள முழு கடையடைப்புக்கு பா.ஜ.க. ஆதரவு தருகிறது.

தற்போது பத்திரிகைகளில் வரும் செய்திகள், இலங்கையில் தவிக்கும் தமிழர்களை பாதுகாக்கவும், அவர்களுக்கு நிரந்தரமாக சம உரிமை பெற்றுத்தரவும் ஒவ்வொருவரும் தன் பங்குக்கு ஏதேனும் செய்ய வேண்டும் என்று கருதுகிறார்கள் என்பதை உணர்த்துகிறது. சிலர் உணர்ச்சி வசப்பட்டு தங்களை மாய்த்துக் கொள்ள முயற்சிக்கிறார்கள். 'செய் அல்லது செத்து மடி' என்பது ஏற்புடையதல்ல. மாறாக 'வாழ்ந்து லட்சியத்தை அடைந்து காட்டு' என்பதில் நாம் உறுதியுடன் இருக்க வேண்டும்.

அரசியல் கட்சிகளும், அமைப்புகளும் தம் பங்குக்கு செய்ய வேண்டியவைகளை செய்தும், மத்தியில் உள்ள காங்கிரஸ் அரசின் செயற்பாட்டுக்கு ஆதரவு வழங்கும் அனைத்து தொழிற்

ணாவிரதப் பந்தலுக்கு வந்து 12 மாணவர்களின் உடல்நிலையையும் பரிசோதித்தனர். அவர்களை உடனடியாக மருத்துவமனையில் சேர்த்து சிகிச்சை அளிக்க நடவடிக்கை எடுக்கவேண்டும் என்று அவர்கள் வலியுறுத்தினர்.

இதையொட்டி சட்டக் கல்லூரி முதல்வர் இசைமதி, திருச்சி மாநகர காவல்துறை துணை ஆணையாளர் சின்னச்சாமி ஆகியோர் அங்கு வந்து போராட்டத்தைக் கைவிடும்படி மாணவர்களிடம் கேட்டனர்.

ஆனால், மாணவர்களோ நாங்கள் உயிரை விட்டாலும் இங்கேயேதான் விடுவோமே தவிர உண்ணாவிரதத்தைக் கைவிடமாட்டோம் என்று திட்டவாட்டமாகக் கூறிவிட்டனர்.

உடல்நிலை கருதி மயக்கம் அடைந்த மாணவர்களாவது சிகிச்சைக்கு செல்லும்படி கேட்டும் அவர்கள் அதனை ஏற்றுக் கொள்ளவில்லை. இதனால் காவல்துறையினருக்கும் மாணவர்களுக்கும் இடையே வாக்குவாதம் ஏற்பட்டது. மாணவர்கள் தாங்கள் கொண்ட கொள்கையில் பிடிவாதமாக இருந்ததால் காவல்துறையினரும் அவர்களுடன் பேசுவதைக் கைவிட்டுச் சென்றனர்.

உலகத் தமிழர்கள்ன் அஞ்சலக்கு அனுப்பப்படும் முத்துவன் அஸ்தி!

சென்னை, பெப். 2
ஈழத் தமிழருக்காக தீக்குளித்த முத்துக்குமாரின் அஸ்தி, உலகமெங்கும் வாழும் தமிழர்களின் அஞ்சலிக்காக அனுப்பி வைக்கப்படவுள்ளது.

இலங்கைத் தமிழர் பிரச்சினைக்குத் தீவுகாண வலியுறுத்தி பத்திரிகையாளர் முத்துக்குமார் (வயது - 26), கடந்த வியாழக் கிழமை சென்னையில் தீக்குளித்துத் தற்கொலை செய்துகொண்டார்.

அவரது இறுதிச்சடங்கு மூல கொத்தளம் மயானத்தில் கடந்த சனிக்கிழமை நள்ளிரவு நடைபெற்றது.

முத்துக்குமாரின் அஸ்தி ஞாயிற்றுக் கிழமை 9 கலசங்களில் சேகரிக்கப்பட்டது. பின்னர் அவரது தந்தை மற்றும் உறவினர்கள் சென்னை கடற்கரையில் ஒரு கலசத்தில் இருந்த அஸ்தியைக் கரைத்தனர். மீதமுள்ள 8 அஸ்திக் கலசங்களும், கொளத்தூர் வணிகர் சங்கக் கட்டடத்தில் வைக்கப்பட

ரஷ்யாவிடம் இந்தியா வாங்கிய 'மிக்' விமானம் இலங்கையில்..!

புதுச்சேரி, பெப். 3
ஈழத் தமிழர்கள் மீது மிக் ரக விமானங்கள் இலங்கையில் குண்டு மழை பொழிகின்றன. மிக் ரக விமானத்தை ரஷ்யாவிடம் இருந்து இந்தியா வாங்கியது. இந்தியா வாங்கிய விமானம் வழிதவறி இலங்கைக்குச் சென்று விட்டதா?

- இவ்வாறு இந்திய கம்யூனிஸ்ட் கட்சி தமிழ் மாநிலச் செயலாளர் தா.பாண்டியன் கேள்வி யெழுப்பியுள்ளார்.

புதுச்சேரியில் கடந்த சனியிரவு நடைபெற்ற கட்சிக் கூட்டத்தில் பேசியபோதே அவர் இதனைக் கூறினார். மேலும் அவர் கூறியவை வருமாறு -

இலங்கையில் நடக்கும் போரை இந்திய கம்யூனிஸ்ட் கட்சி வன்மையாகக் கண்டிக்கிறது. இலங்கையில் இரும்பு உருக்கு ஆலைகள் கிடையாது. பெரும்பாலும் விவசாயத்தான் நடக்கிறது. அப்படியிருக்கும் போது துப்பாக்கி, விமானம், குண்டுகளை எப்படித் தயாரிக்கின்றனர்.

மிக் ரக விமானம் இலங்கையில் குண்டு மழை பொழிகிறது. மிக் ரக விமானத்தை ரஷ்யாவிடம் இருந்து இந்தியா வாங்கியது. இந்தியா வாங்கிய விமானம் வழிதவறி இலங்கைக்குச் சென்று விட்டதா?

ஆவடியில் உருவாக்கப்பட்ட டாங்கிகள், கான்பூரில் தயாரிக்கப்பட்ட குண்டுகளால் தமிழர்களை கொன்று வருகின்றனர். இந்தியார்களிடம் வாங்கிய வரிப்பணத்தில் செப்த ஆயுதங்களைக் கொண்டு தமிழர்களை இலங்கை இராணுவம் கொன்று வருகிறது - என்றார்.

புள்ளன. இதில் ஒரு அஸ்திக் கலசம் முத்துக்குமாரின் சொந்த ஊரான கொலுவை நல்லூரில் அமைக்கப்படவுள்ள நினைவுத் தூணில் வைக்கப்படுகிறது.

மூல கொத்தளம் மயானத்தில் நினைவுச் சின்னம் அமைக்கப்பட்டு அங்கு ஒரு அஸ்தி கலசம் வைக்கப்படுகிறது.

மேலும் 5 கலசங்கள் அலங்கரிக்கப்பட்ட வாகனத்தில் வைக்கப்பட்டு ஊர்வலமாக எடுத்துச் செல்லப்பட்டு சென்னை, பூம்புகார், இராமேஸ்வரம், திருச்செந்தூர், கன்னியாகுமரி ஆகிய இடங்களில் கடலில் கரைக்கப்படுகின்றன.

மீதமுள்ள ஒரு அஸ்திக் கலசம் இந்தியா மற்றும் உலகம் முழுவதிலும் தமிழர் வாழும் பகுதிக்கு அவர்கள் அஞ்சலி செலுத்துவதற்காக அனுப்பி வைக்கப்படுகிறது என்று தமிழ்நாடு வணிகர் சங்கத் தலைவர் வெள்ளையன் தெரிவித்துள்ளார்.



அறிக்கை வருமாறு -

திருப்திகரமாக இல்லை. எனவே மக்கள் அனைவரும் பங்கேற்கும் ஒரு சாதனிக் போராட்டம் நடத்துவதால் மக்களுக்கு தங்களுடைய உணர்வுகளை வெளியிட ஒரு வடிவம் கிடைக்கும். இந்த அறிவிப்பை வெற்றிகரமாக்கிட மக்கள் தங்களாக முன்வர வேண்டும். தங்களது ஆதரவை ஒன்றுபட்டு மத்திய அரசுக்கு உணர்த்த வேண்டும்.

பா.ஜ.கவின் தொண்டர்கள் இந்த முழு அடைப்புக்கு ஒத்துழைப்பார்கள். மக்கள் முன் வந்து தங்களது உணர்வை வெளிப்படுத்துவது வாழ்ப்பு து என்பதால் கட்சியின் தொண்டர்கள் தெருவில் இறங்கி எவரையும் வற்புறுத்த மாட்டார்கள்.

இது அச்சுறுத்தி வெற்றிகரமாக்கிய

போராட்டம் என்கின்ற அவப்பெயர் வராது. ஆனால் அதே நேரத்தில், மாநில அரசும் தங்களது அதிகாரத்தைப் பயன்படுத்தி ஒருக்க முனைவதும் கூடாது. எந்தவிதமான வன்முறைச் சம்பவங்களும் நடைபெறாது. அமைதி காக்கும் பணியினை அரசு செய்யட்டும். ஆனால் போராட்டம் வெற்றி பெற்றால் அதன் காரணமான அரசியல் லாபம் யாருக்குப் போகும் எனக் கணக்கிட்டு தடுக்க முனைதல் கூடாது என அரசை வற்புறுத்துகிறேன்.

தமிழர்கள் அனைவரும் இலங்கைத் தமிழர்களைக் காக்கவும், அவர்களுக்கு சம உரிமை பெறவும் முனையும் விடயத்தில் ஒன்றுபட்டு நிற்போம் - என்றுள்ளது.

அரசு பணியாளர் சங்கமும் பங்கேற்பு

சென்னை, பெப். 03
இலங்கையில் போர் நிறுத்தம் செய்யக்கோரி ஈழத் தமிழர் பாதுகாப்பு இயக்கம் சார்பில் நாளை மறுதினம் நடத்தப்படவுள்ள முழு அடைப்புப் போராட்டத்தில் தமிழ்நாடு அரசு பணியாளர் சங்கம் பங்கேற்கும் - என்று சங்கத் தலைவர் கு.பாலசுப்பிரமணியன் அறிவித்துள்ளார்.

இதுகுறித்து அவர் வெளியிட்ட அறிக்கையில் தெரிவிக்கப்பட்டிருப்பவை வருமாறு -
ஈழத்தில் கொண்டு குவிக்கப்படும் தமிழர்களின் பாதுகாப்புக்காகப் போர் நிறுத்தம் மேற்கொள்ளப்பட்டு வேண்டுமென தமிழக அரசியல் இயக்கங்கள், கலை உலகத்தினர், மாணவர் அமைப்புகள், அரசின் செயற்பாட்டுக்கு ஆதரவு வழங்கும் அனைத்து தொழிற்

சங்கங்கள் என அனைவரும் மத்திய அரசை வலியுறுத்தி வருகிறார்கள். இருப்பினும், ஈழத்தில் நடைபெற்று வரும் நிகழ்வுகளில் எவ்வித மாற்றமும் இல்லை. அங்கு, அப்பாவித் தமிழர் சொல்லலொணாத துயரத்துக்கு ஆளாகப்பட்டுள்ளனர்.

இதையடுத்து, இலங்கைத் தமிழர் பாதுகாப்பு இயக்கம், நாளை பொது வேலைநிறுத்தம் நடத்திடுமாறு தமிழக மக்களிடம் அறைகூவல் விடுத்துள்ளது. 07.02.09 அன்று கறுப்புக் கொடி ஊர்வலம் நடத்தவும் முடிவெடுத்துள்ளது. இவற்றில் தமிழ்நாடு அரசு பணியாளர் சங்கம் பங்கேற்க முடிவு செய்துள்ளது - என்றுள்ளது.

அரசின் கட்டுப்பாடுகளையும் மீறி தமிழகத்தில் நாளை முழு அடைப்பு ஈழ உறவுகளுக்காக அங்கு தமிழர்கள் கொந்தளிப்பு

கொழும்பு, பெப். 03
இலங்கையில் போர் நிறுத்தப்பட வேண்டும் என்று வலியுறுத்தி ஈழத் தமிழர் பாதுகாப்பு இயக்கம் சார்பில் நாளை நடத்தப்படவுள்ள முழு அடைப்புப் போராட்டம் திட்டமிட்டபடி நடைபெறும் என்று ஈழத் தமிழர் பாதுகாப்பு இயக்கத்தின் ஒருங்கிணைப்பாளர் பழ. நெடுமாறன் தெரிவித்துள்ளார்.

முழு அடைப்புப் போராட்டம் சட்டவிரோதமானது என்று தமிழக அரசு தவறான பிரசாரம் செய்கின்றது என்று கூறிய அவர் அதனை வன்மையாகக் கண்டித்துள்ளார். இதுகுறித்து நேற்று முன்தினம் அவர் வெளியிட்டுள்ள அறிக்கையில் தெரிவிக்கப்பட்டிருப்பவை வருமாறு:-

இலங்கையில் உடனடியாகப் போர் நிறுத்தம் ஏற்பட இந்திய அரசு முழுமையான முயற்சிகளை மேற்கொண்டு அப்பாவித் தமிழர்களின் உயிர்களைப் பாதுகாக்க முன்வர வேண்டும் என்ற கோரிக்கையை வலியுறுத்தி பெப்ரவரி 4 ஆம் திகதி பொது வேலை நிறுத்தம் மேற்கொள்ளும்படி இலங்கைத் தமிழர் பாதுகாப்பு இயக்கம் வேண்டுகோள் விடுத்திருப்பது சட்டவிரோதமானது எனத் தமிழக அரசு தவறான பிரசாரம் செய்வதை நான் வன்மையாகக் கண்டிக்கிறேன்.

உச்சநீதிமன்றம் முழு அடைப்பு செய்வதற்கு எதிராகக் கூறியுள்ள கருத்தைத்

மாணவர்களுக்கு உதவி

வண்ணை, பெப்.03
யாழ்.சமாதானத்திற்கும், நல்லிணக்கத்துக்குமான நிலையப் பணியாளர்களால் முன்னெடுக்கப்படும் ஆரம்பப் பிரிவு மாணவர்களுக்கான சமாதான கல்விக் கருத்தரங்கு எதிர்வரும் வெள்ளிக்கிழமை உயர்ப்பலம், ஞானபாலன் வித்தியாலயத்தில் நடைபெற உள்ளது.

நண்பகல் 12 மணியில் இருந்து 2 மணி வரை நடக்கும் இரு மணி நேரக் கருத்தரங்கில் சமாதானத்தின் முக்கியத்துவம் சிறுவர் சிறுமிகளுக்கு எடுத்துரைக்கப்படுமென பணியகப் பொறுப்பாளியை தெரிவித்தார்.

தலைநகரில்...

(முதலாம் பக்கத் தொடர்ச்சி)
சுமார் 4 ஆயிரம் பொலிஸாரும் பெரும் எண்ணிக்கையான இராணுவத்தினரும் பணியில் ஈடுபடுத்தப்பட்டுள்ளனர். மேலும் கொழும்பின் வான் பகுதியை பாதுகாப்பதற்கான நடவடிக்கையை விமானப்படையினர் மேற்கொண்டுள்ளனர். பம்பலப்பிட்டியிலிருந்து மருதானை வரையிலான ரயில் சேவைகள் நேற்று நள்ளிரவு முதல் இடை நிறுத்தப்பட்டுள்ளன. இது தொடர்பாக நேற்று நடைபெற்ற செய்தியாளர் மாநாட்டில் சிரேஷ்ட பொலிஸ் மா அதிபர் நிமல மெடிவகே தெரிவித்தவை வருமாறு:-

வடபகுதியில் பாரிய தோல்வியை சந்தித்துள்ள தருணத்தில் விடுதலைப் புலிகள் கொழும்பில் சுதந்திர தின நிகழ்வுகளை குழப்ப முயலலாம் என்பது தெளிவாகியுள்ளது. கடந்த சில நாட்களில் பொலிஸாரும் முப்படை யினரும் பல

திரித்துக் கூறி மக்களை மிரட்டுவதற்கு தமிழக அரசு முயல்கிறது. உச்சநீதிமன்றம் அளித்த தீர்ப்புக்குப் பிறகுதான் மேற்கு வங்கத்திலும், கேரளத்திலும் சுய வேலை மறுப்புப் போராட்டங்களும், கடையடைப்புப் போராட்டங்களும் நடந்திருக்கின்றன என்பதைத் தமிழக அரசின் கவனத்திற்குச் சுட்டிக்காட்ட விரும்புகிறேன்.

தமிழ் நாட்டிலுள்ள வணிகர்கள், தொழிலாளர்கள், மீனவர்கள், மாணவர்கள், திரைப்படத் துறையினர் உள்ளிட்ட அனைத்து தமிழர்களும் எதிர்வரும் 4 ஆம் திகதி தங்களுக்குத் தாங்களே சுயவேலை மறுப்புச் செய்து தங்கள் இல்லங்களிலேயே இருக்குமாறு மிக்க பணிவுடன் வேண்டிக் கொள்கிறேன்.

ஜனநாயக உரிமைகளை பறிக்கும் செயல் பொது வேலை நிறுத்தத்தை முறியடிக்க தமிழக அரசு தவறான பிரசாரத்திலும், மிரட்டல் நடவடிக்கையிலும் ஈடுபட்டு இருப்பது அப்பட்டமான ஜனநாயக உரிமைகளைப் பறிக்கும் செயலாகும்.

இலங்கைத் தமிழர்களுக்கு ஆதரவாக அனைத்துத் தமிழர்களும் பொது வேலை நிறுத்தம் வெற்றிபெற துணை நிற்குமாறு வேண்டிக்கொள்கிறேன்.

போராட்டங்களின் போது எந்த இடத்திலும் சிறு அளவு வன்முறை ஏற்படாமலும், பொதுச்சொத்துகளுக்குச் சேதம் இல்லாமலும் கவனமாகப் பார்த்துக் கொள்ளும்படி அனைவரையும் வேண்டிக் கொள்கிறேன்.

பொது வேலைநிறுத்தம், கறுப்புக்கொடி ஊர்வலம் ஆகியவற்றை நடத்துவது குறித்து இலங்கைத் தமிழர் பாதுகாப்பு இயக்கத்தில் அங்கம், வகிக்கும் கட்சிகள் மற்றும் அமைப்புக்களின் மாவட்டப் பொறுப்பாளர்கள் அவசரமாகக் கூடித் திட்டங்கள் வகுத்துச் செயற்படுமாறு வேண்டிக் கொள்கிறேன்-என்றுள்ளது.

அதேவேளை, ஈழத் தமிழர் பாதுகாப்பு இயக்கம் நடத்தவுள்ள முழு அடைப்பு சட்ட விரோதமானதல்ல என்று பாட்டாளி மக்கள் கட்சியின் நிறுவனர் டாக்டர் ராமதாஸும் தெரிவித்துள்ளார்.

இலங்கைத் தமிழர்களுக்கு ஆதரவாக

இலங்கைத்தமிழர் பாதுகாப்பு இயக்கம் அழைப்பு விடுத்துள்ள பொது வேலை நிறுத்தத்தில் தி.மு.க., அ.தி.மு.க., காங்கிரஸ், சி.பி.எம். ஆகிய கட்சிகள் பங்கேற்க வேண்டும் என்று விடுதலை சிறுத்தைகள் கட்சித் தலைவர் திருமாவளவன் வேண்டுகோள் விடுத்துள்ளார்.

இலங்கைத் தமிழர் பாதுகாப்பு இயக்கம் நாளை நடத்த உள்ள முழு அடைப்பு போராட்டத்திற்கு பி.ஜெ.பி. ஆதரவு அளிக்கும் என்று அக்கட்சியின் மாநிலத் தலைவர் இல.கணேசன் கூறியிருக்கிறார்.

செலான் வங்கி ஊழியர்கள் மக்களுடன் "வாசலுக்கு வாசல்" நேரடிச் சந்திப்பு நடைமுறை

இரு தசாப்த காலமாக மக்களின் நம்பிக்கைக்குப் பாத்திரமான செலான் வங்கியானது தொடர்ந்துவரும் காலங்களிலும் அவ்வாறே சிறப்புற தனது பணியைத் தொடர திட்டம் கொண்டுள்ளதுடன் செலான் வங்கியின் மூலம் மக்களுக்கான சகல கொடுக்கல் வாங்கல்களும் வழமை போல் நடைபெறும் என தெரிவிக்கப்பட்டிருக்கிறது.

இலங்கை மத்திய வங்கியின் ஆலோசனைக்கு உட்பட்டு, புதியதோர் தலைமைத்துவத்துடனும், நிர்வாக சபையினருடனும், சிறந்த முகாமைத்துவத்துடனும் கூடிய பலம்பெற்று "ஜயமக" என்னும் வெற்றிப்பாதையில் புதிய தகவல்களை மக்களுடன் பகிர்ந்துகொள்ள செலான் வங்கி ஊழியர்கள் மக்களின் இல்லம் நோக்கி கடந்த சனிக்கிழமை "உள்ளத்திற்கு உள்ளம், வாசலுக்கு வாசல்" என்ற தொனிப்பொருளுடன் சந்திப்பொன்றை நடத்தினர். அந்தச் சந்திப்பிலேயே மேற்கண்டவாறு உறுதியளிக்கும்படி.

அன்புடன் அரவணக்கும் வங்கியான செலான் வங்கி, மேலும் உறுதியான நிலையில் தற்போது தனது வாடிக்கையாளர்களுக்கு புதிய

கம்பலில் எடுத்துவரப்பட்ட பொருள்களுக்கு விலை நிர்ணயம்

யாழ்.மாவட்டத்திற்கு கப்பல் மூலம் எடுத்துவரப்பட்ட அத்தியாவசியப் பொருள்களிற்கு புதிய விலை நிர்ணயிக்கப்பட்டுள்ளதாக அரசு அதிபர் கே.கணேஷ் அறிவித்துள்ளார். இப்பொருள்கள் மாவட்டத்திலுள்ள 24 ப.நோ.கூ. சங்கங்களிற்கும் ஒதுக்கீடு செய்யப்பட்டு வழங்கப்பட்டு வருகின்றது. இதற்கான வங்கத் கட்டளைகளை சங்கத்தினர் இன்று மாவட்ட புனர்வாழ்வு புனர்மைப்பு செயலகத்தில் பெற்றுக்கொள்ளுமாறு அவர் கேட்டுள்ளார்.

இவ்வகையில் ஒரு கிலோ சிவப்பு நாட்டரிசி 79.50 ரூபா, 77.50 ரூபாவிற்கும், ஒரு கிலோ சீனி 77 ரூபா, ஒரு கிலோ கோதுமை மா 72 ரூபா, ஒரு கிலோ பருப்பு 167 ரூபாவிற்கும் கட்டுப்பாடின்றி விநியோகிக்குமாறும் எக் காரணம் கொண்டும் விலை அதிகரித்து விற்பனை செய்வதற்கு அனுமதிக்கப்படவில்லையெனவும் அறிவித்தார். (1-7)

பலத்துடன் அதியுயர் மட்டத்தில் வங்கிச் சேவைகளை வழங்கிக் கொண்டிருக்கிறது என்ற செய்தியும் அப்போது எடுத்துக் கூறப்பட்டது.

அன்றைதினம் மக்களுக்குச் செலான் 'ஜயமக' சீட்டிமுழுப் ஸ்டிக்கர் ஒவ்வொன்றையும் வழங்கியிருந்ததுடன், இச்சீட்டிமுழப்பில் தகுதிபெறும் 10 பேரில், ஏற்கனவே உள்ள வாடிக்கையாளரின் 15,000 ரூபாவை கணக்கில் வரவு வைப்பதுடன், புதியவர்களுக்கு கணக்கொன்றைத் திறந்து அதில் 10,000 ரூபாவை வைப்பில் இடுவதாகவும் கூறியிருந்தனர்.

மேற்படி சீட்டுமுப்பின் வெற்றி எண்களாக 19287, 10589, 52704, 24402, 28761, 25240, 67141, 20233, 67230, 76175 தெரிவு செய்யப்பட்டன. வெற்றியீட்டியோரை செலான்வங்கி கிளையுடன் தொடர்பு கொள்ளும்படி கேட்கப்பட்டுள்ளது.

மரண அறிவித்தல்கள் கந்தையா பரமானந்தம்

(ஓய்வுபெற்ற ரயில் நிலைய அதிபர்)
மயிலிட்டி தெற்கு, தெல்லிப்பழையைப் பிறப்பிடமாகவும் பட்டியோலை, உடுவில் தெற்கு, சுன்னாகத்தை வசிப்பிடமாகவும் கொண்ட கந்தையா பரமானந்தம் நேற்று (02.02.2009) திங்கட்கிழமை காலமானார்.

அன்னார் மகேஸ்வரியின் அன்புக் கணவரும், கலாநந்தி, யோகானந்தி, பிரேமானந்தன் (பிரான்ஸ்), தயானந்தி (லண்டன்), ஜீவானந்தி, மகேந்திரன் (பிரான்ஸ்) ஆகியோரின் அன்புத் தந்தையும், சிறீதரன், சிவராணி (பிரான்ஸ்), ராஜ்குமார் (லண்டன்) ஆகியோரின் அன்பு மாமனாரும், நல்லம்மா, சின்னம்மா, செல்லம்மா, திலகவதி, திருநாவுக்கரசு, சரஸ்வதி ஆகியோரின் அன்புச் சகோதரனும், இராஜேஸ்வரி, காலஞ்சென்ற நாகேஸ்வரி மற்றும் யோகேஸ்வரி, ஞானேஸ்வரி, காலஞ்சென்றவர்களான சிவசேன சந்திரம், சிவபாலசந்திரம் மற்றும் மிவஞானசந்திரம் ஆகியோரின் மைத்துனரும் பிரசாந்தன், ரிசானி, ரிசாந், கஜன், லவன் ஆகியோரின் பேரனும் ஆவார்.

அன்னாரின் இறுதிக்கிரியைகள் இன்று (03.02.2009) செவ்வாய்க் கிழமை ந.ப. 12 மணியளவில் அவரது இல்லத்தில் நடைபெற்று பூதவுடல் தகனக்கிரியைக்காக பிப்பிலி இந்து மயானத்துக்கு எடுத்துச் செல்லப்படும். இந்த அறிவித்தலை அனைவரும் ஏற்றுக்கொள்ளவும் பட்டி ஓலை, உடுவில் தெற்கு, உடுவில், தகவல்: மரணவி.

மடுத்தீஸ் சின்னப்பு

(ஓய்வுபெற்ற உத்தியோகத்தர், வந்தகத் திணைக்களம், கச்சேரி)
ஈச்சமோட்டையைப் பிறப்பிடமாகவும் பண்டியன்தாழ்வை வசிப்பிடமாகவும் கொண்ட மடுத்தீஸ் சின்னப்பு நேற்று (02.02.2009) திங்கட்கிழமை காலமானார்.

அன்னார் காலஞ்சென்றவர்களான மடுத்தீஸ்-நோசம்மா தம்பதியினரின் மூத்த மகனும், மேரி மெக்டலீனின் (மலர்) பாசமிகு கணவரும், மெரினா, அனஸ்ரீன் (மெக்சானிக்), கனிஸ்ரெலா, றுமினா, டொறீனா (கியுடெக்-கரித்தாஸ்) ஆகியோரின் அன்புத் தந்தையும், தாசன், அனித்தா ஜீவன் ஆகியோரின் மாமனும் ஏஜினஸ்சகாணா (யாழ்.திருக்குடும்பக் கன்னியர்மடம்), ஜனாத்-அபிசேக் (புனித பத்திரிசியார் கல்லூரி), மிர்ஜா, ஓபினா (புனித அந்தோனியார் மகளிர் வித்தியாலயம்), அஜித்தார்வின் (புனித பத்திரிசியார் கல்லூரி), அஜிதத், அஜிணோல்ட், அஜிஸ்ரா, கனிஜீவனா ஆகியோரின் பாசமிகு பேரனும் காலஞ்சென்ற அருளப்பு, ஜக்கிசேன மற்றும் பூமணி ஆகியோரின் சகோதரனும், டொமினிக்கா, விக்ரம், ஜெராட்-நெல்சன், பசில்மேரி, அனா, மொறின், குட்டி அனட், எட்வேட் ஆகியோரின் மாமனும், தவம், ராசரத்தினம், குணம், ராசேந்திரம், ராசன் ஆகியோரின் சிறிய தந்தையுமாவார்.

அன்னாரின் இறுதிச்சடங்கு இன்று 03.02.2009 பி.ப. 3 மணிக்கு பண்டியன்தாழ்வினில் அவரது இல்லத்தில் இடம்பெற்று பின்னர் பூதவுடல் கொய்யாத்தோட்டம் கிறிஸ்துராசர் ஆலயத்தில் இரங்கல் திருப்பலி நடைபெற்று புனித கொஞ்சேஞ்சி மாதா சேமக் காலையில் நல்லடக்கம் செய்யப்படும். இந்த அறிவித்தலை உற்றார், உறவினர், நண்பர்கள் அனைவரும் ஏற்றுக்கொள்ளவும். தகவல்: குடும்பத்தினர் (பொறின்-மகன்).

6/2, புனித அன்னம்மாள் வீதி, பண்டியன்தாழ்வு, தகவல்: குடும்பத்தினர் (பொறின்-மகன்).

கஸ்ஸார் அஞ்சலி
எமது கலாமன்ற கௌரவ உறுப்பினர் தம்பையா தயாபரன் அவர்களது பாசமிகுதாயார் **திருமதி தம்பையா நாகம்மா** அவர்களது மறைவினால் தயுருற்றிற்கு நுக்கும் அன்னாரது குடும்பத்தாருக்கு எமது ஆழ்ந்த அனுதாபங்களைத் தெரிவிப்பதோடு அன்னாரது ஆத்மா ஈழத்துச் சிதம்பர தில்லைக்கூத்தன் திருவடி சேர பிரார்த்திக்கின்றோம்.

கிழவன் காடு கலாமன்றம், காரைநகர். நிர்வாக சபையினர் ஆசிரியர்கள், மாணவர்கள்

கஸ்ஸார் அஞ்சலி
அமர் **ஆ.நவந்தகிருஷ்ணன்** (ஓய்வுபெற்ற தபால் தந்தி போறியியலாளர்) அன்னாரின் பிரிவினால் தயுருற்றிற்கும் குடும்பத்தாருக்கு எமது ஆழ்ந்த அனுதாபத்தைத் தெரிவித்துக் கொள்கின்றோம். சாந்தி! சாந்தி!! சாந்தி!!!

இல.28/3, திருமகள் வீதி அரியலா மத்தி, யாழ்ப்பாணம். வேதவதுரார் குடும்பத்தினர்.

கிளைமோர் குண்டுகளையும் தற்கொலை அங்கிகளையும் கண்டு பிடித்துள்ளனர். இதன் காரணமாகச் சுதந்திர தின நிகழ்வின் போது கொழும்பிற்கும் அதன் புற நகர்ப்பகுதி களுக்கும் ஆகக் கூடுதலான பாதுகாப்பை வழங்கத் தீர்மானிக்கப்பட்டுள்ளது.

61 ஆவது சுதந்திர தின நிகழ்வுகள் காலி முகத் திடலில் இடம்பெறும். இதற்குப் போதிய பாதுகாப்பை உறுதிச் செய்வதற்காகப் பொலிஸாரும் முப்படையினரும் விசேட போக்குவரத்துத் திட்டத்தை உருவாக்கியுள்ளனர்.

கொள்ளுப்பிட்டி செரெமிக் சந்தியிலிருந்து இராணுவத் தலைமையகம் வரையிலான பகுதி மூன்றாம், நான்காம் திகதிகளில் முழுமையாக மூடப்படும்.

கடந்த வருடம் இடம்பெற்ற சம்பவங்களை கருத்திற்கொண்டு பம்பலப்பிட்டி முதல் மருதானை வரையிலான ரயில் சேவை நேற்றிரவு 12 மணியுடன் இடை நிறுத்தப்பட்டது. நான்காம் திகதி மாலை வரை இந்தத் தடை நீடிக்கும் -என்றார்.

நேற்றுக் காலை முதல் பிற்பகல் வரை நடத்தப்பட்ட தேடுதலில் 28 தமிழர்கள் கைது செய்யப்பட்டனர் எனத் தெரிவிக்கப்படுகின்றது.

பொறல்லை, மருதானை, கொழும்பு -7 மற்றும் கொள்ளுப்பிட்டி, பம்பலப்பிட்டி, வெள்ளவத்தை, மட்டக்குளி, கொட்டாஞ்சேனை ஆகிய பிரதேசங்களில் நேற்று திங்கட்கிழமை நடத்தப்பட்ட தேடுதலில் வாகனங்கள் அனைத்தும் வழிமறிக்கப்பட்டு சோதனையிடப்பட்டன.

பயணிகளின் பஸ்களும் வழிமறிக்கப்பட்டு சோதனையிடப்பட்டன. இதன் போது ஐந்து பெண்கள் உட்பட 28 தமிழர்கள் கைதாகினர் என்று தெரிவிக்கப்படுகிறது.

விசேட அதிரடிப்படையினரும் இராணுவத்தினரும் இணைந்து நடத்திய தேடுதலில் நூற்றுக்கணக்கான தமிழர்கள் விசாரணைக்கு உட்படுத்தப்பட்டனர். பலர் நீண்ட நேரமாக வீதி ஓரமாக தடுத்து வைக்கப்பட்டு விசாரிக்கப்பட்டனர். கைதான இளைஞர்கள் புவதிகள் வடக்கு அழகநகரில் உள்ள சேர்ந்தவர்களுக்கு தெரிவிக்கப்படுகின்றது. (அ-சி)

புதுக்குடியிருப்பு பகுதியில் நேற்றும் ஷெல் தாக்குதல்

கொழும்பு பெப். 03 வன்னிப் பகுதியில் ஞாயிறு, திங்கட் கிழமை இடம்பெற்ற கடுமையான பிரங்கி மற்றும் ஷெல் தாக்குதல்களில் வைத்திய சாலை, தேவாலயம், செஞ்சிலுவைச் சர்வ தேசக் குழுவின் பணிமனை என்பன நோக்கி ஷெல் தாக்குதல் நடத்தப்பட்டது. இதில் 8 பொதுமக்கள் உயிரிழந்தனர்.

இவ்வாறு இணையத்தளங்கள் நேற்றி ரவு செய்தி வெளியிட்டன. அதில் மேலும் குறிப்பிடப்பட்டிருப்பவை வருமாறு:

முல்லைத் தீவிலுள்ள புதுக்குடியி கருணா குழு உறுப்பினர் செங்கலடியில் கொலை!

மட்டக்களப்பு, பெப். 03 மட்டக்களப்பு, ஏறாவுர், செங்கலடிப் பகுதியில் நேற்றுக் காலை 8.30 மணி யளவில் இனந்தெரியாத நபர்களால் கருணா குழு உறுப்பினர் ஒருவர் சுட்டுக் கொல்லப்பட்டுள்ளார்.

சிகாமணி மோகனதாஸ் (வயது 31) என்பவரே இவ்வாறு சுட்டுக் கொல்லப் பட்டவர்.

இவர் தமது அலுவலகத்தில் இருந்து வீட்டிற்குச் சென்றுகொண்டிருந்த வேளையில் எல்லை வீதியில் வைத்து இனந்தெரியாத நபர்களால் சுட்டுக் கொல்லப்பட்டார் என்று பொலிஸ் தரப்பில் கூறப்பட்டது.

வன்னி மக்களுக்கு...

(முதலாம் பக்கத் தொடர்ச்சி) தூதரகம் வெளியிட்டுள்ள செய்திக் குறிப்பில் தெரிவிக்கப் பட்டிருப்பவை வருமாறு :

இந்திய அரசு ஏற்கனவே அறிவித்ததுபோல், வன்னியில் மோதல்களில் சிக்கலுள்ள மக்களுக்கு உதவும் பொருட்டு அனுப்பிவைக்கப்பட்டுள்ள ஒரு பகுதி நிவாரணங்களை இந்த மருத்துவப் பொருள்கள்.

இலங்கைக்கான இந்தியப் பிரதித் தூதுவர் விக்ரம் நிஸ்ரி, இலங்கை சுகாதார சேவைகள் அமைச்சர் நிமால் சிறிபால டி. சில் வாவிடம் இந்த மருந்துப் பொருள்களைக் கையளித்தார். 2 கோடி ரூபா பெறுமதியான மருந்துப் பொருள்கள் கையளிக்கப்பட்டன.

இந்த மருந்துப் பொருள்கள் வன்னியில் மோதல்களில் சிக்கியுள்ள மக்களுக்கு ஓரளவுக்காவது உதவும் என இந்திய அரசு எதிர்பார்க்கின்றது - என்று குறிப்பிடப்பட்டுள்ளது. (அ)

ருப்பு வைத்தியசாலைக்கு அருகில் உள்ள செஞ்சிலுவைக் குழுவின் பணிமனை மீது நேற்று மதியம் 12 மணியளவில் ஷெல் தாக்குதல் நடத்தப்பட்டது. இதில் 12 பேர் காயமடைந்தனர்.

புதுக்குடியிருப்பு வைத்தியசாலைக்கு முன்பாக நேற்று ஷெல்கள் வீழ்ந்து வெடித்ததில் 2 பொதுமக்கள் படுகொலை செய்யப்பட்டுள்ளனர். கொல்லப்பட்டவர்கள் இராசரத்தினம் (வயது 48) மற்றும் ஆர். பிரதீபன் (வயது 30) என அடையாளம் காணப்பட்டுள்ளனர்.

கோம்பாவில் பகுதியை நோக்கி நேற்று நடத்தப்பட்ட ஷெல் தாக்குதலில் 3 பொதுமக்கள் காயமடைந்தனர். அத்துடன் சுதந்திரபுரம் பகுதியை நோக்கி நேற்று முழு நாளும் நடத்தப்பட்ட ஷெல் தாக்குதலில் 2 பொதுமக்கள் உயிரிழந்ததுடன், 11 பேர் காயமடைந்தனர்.

உடையார் கட்டுப்பகுதியில் நேற்று நடத்தப்பட்ட ஷெல் வீச்சில் 2 பேர் உயிரிழந்தனர். தேவிபுரம் பகுதியை நோக்கி நேற்று நடத்தப்பட்ட ஷெல் தாக்குதலில்

2 பொதுமக்கள் கொல்லப்பட்டுள்ள துடன் 6 பேர் காய மடைந்தனர்.

நிலத்துக்கடியில்....

(முதலாம் பக்கத் தொடர்ச்சி) இதுவிடுதலைப்புலிகளின் தலைவர்பிரபாகரன் மறைந்திருந்த இடமென்றும், இந்த இடத்தின் பாதுகாப்பிற்காக பாதுகாப்பு குழிகளும் அமைக்கப்பட்டிருந்தன என்றும் பாதுகாப்பு அமைச்சகம் தெரிவித்திருக்கின்றது.

கடும் சண்டைகளின் பின்னர் கைப்பற்றப்பட்ட அந்த இடத்தில் நடத்தப்பட்ட தேடுதலின் போது பலவிதமான பொருள்களையும் விடுதலைப் புலிகளின் 12 சடலங்களையும் இராணுவத்தினர் கைப்பற்றி இருக்கின்றனர் என்றும் பாதுகாப்பு அமைச்சு மேலும் தெரிவித்திருக்கின்றது. (அ-சி)

உடையார்கட்டு...

(முதலாம் பக்கத் தொடர்ச்சி) இச்சமீரில் இராணுவத்தினர் பலர் படுகாயமடைந்தனர் என்றும் இராணுவத்தினர் ஐவர் காணாமற்போயுள்ளனர் என்றும் படைத் தரப்பில் கூறப்பட்டுள்ளது.

படைத்தரப்பால் அறிவிக்கப்பட்ட பாதுகாப்பு வலயத்தில் இருந்து விடுதலைப் புலிகள் தொடர்ச்சியாக ஆட்லறி ஷெல் தாக்குதல்களை நடத்தி வருகின்றனர் என்று இராணுவப் பேச்சாளர் தெரிவித்துள்ளார்.

இச்சமீர் செவ்வாய்க்கிழமை அதி காலம் முதல் மாலை 6 மணிவரை தொடர்ந்தது. உடையார்கட்டுக்குளம் பகுதியில் உள்ள விடுதலைப் புலிகளின் முன்னரங்க நிலைகள் படைத் தரப்பால் கைப்பற்றப்பட்டன. அச்சமீரில் 7 புலிகள் உயிரிழந்தனர். வெவ்வேறு சமீர்களில் மேலும் 20 புலிகள் உயிரிழந்தனர் என்றும் படைத்தரப்பில் அறிவிக்கப்பட்டது.

வைத்தியசாலை...

(முதலாம் பக்கத் தொடர்ச்சி) எனவும் வெளியாகியுள்ள செய்திகள் வெறும் வதந்திகள் என்று அவர் தெரிவித்துள்ளார். வன்னியில் இராணுவ நடவடிக்கைகள் தொடர்கின்றன என்றும் விடுதலைப் புலிகள் கண்முடித்தனமாக ஆட்லறித் தாக்குதல்களை மேற்கொண்டுள்ளனர் எனவும் இதில் ஒரு ஷெல் அந்தப் பகுதிக்குள் வீழ்ந்திருக்கலாம் என்றும் அவர் மேலும் கூறினார். (அ-சி)

கோத்தபாயலின்...

(முதலாம் பக்கத் தொடர்ச்சி) காணவேண்டும். அச்சுறுத்தல், மிரட்டல் மூலமாக அல்ல" என ஜேர்மனியின் வெளி விவகார அமைச்சு அதிகாரியொருவர் பேர்லினில் கூறினார்.

கொழும்பில் உள்ள ஜேர்மன் தூதுவர் ஜேர்கன் வீரத், ஊடகவியலாளர் லசந்த விக்கிரமதுங்கவின் இறுதி நிகழ்வில் கலந்துகொண்டு பேசுகையில் அவரது கொலையைக் கண்டித்துப் பேசினார். அதன் பின்னர் அவர் வெளிவிவகார அமைச்சுக்கு அழைக்கப்பட்டிருக்கிறார். (அ)

தடுத்து வைக்கப்பட்டுள்ள கணவன்மார், பிள்ளைகளை விடுவிக்கக்கோரி நேற்று முதல் முஸ்லிம்கள் உண்ணாவிரதம்

அம்பாறை பெப். 03 அம்பாறை, பொத்துவில் பிரதேச செயலகம் முன்பாக நேற்றுமுதல் நூற்றுக்கணக்கான முஸ்லிம்கள் காலவரையற்ற உண்ணாவிரதப் போராட்டமொன்றை ஆரம்பித்திருக்கின்றனர்.

ஈழத் தாரிழருக்காக...

(முதலாம் பக்கத் தொடர்ச்சி) மூலமாக அறிந்து தினமும் கவலையுடன் இருந்தார் முத்துக்குமார் தீக்குளித்ததை நினைத்து மிகவும் கவலையுடன் காணப்பட்டார். இதனால் மனமுடைந்த எனது கணவன் ரவி தனது உடலில் எண்ணெயை ஊற்றித் தீக்குளித்தார் என்றும் தெரிவித்துள்ளார். ஆனால் பொலிஸார் கூறுவது போன்று எனக்கும் அவருக்கும் எது விததாரும் இல்லை - என்று மேலும் தெரிவித்துள்ளார். (அ-சி)

ஆஸ்பத்திரியில்...

(முதலாம் பக்கத் தொடர்ச்சி) செய்துள்ள பாதுகாப்பு வலயப் பிரதேசங்களான சுதந்திரபுரம், வள்ளிபுளம், உடையார்கட்டு பகுதிகள் நோக்கி இடம்பெறும் ஷெல் தாக்குதல்களில் காயமடைபவர்களை வைத்திய சாலைகளுக்கு எடுத்துவருவதில் உள்ள சிக்கல் நிலை குறித்து சுகாதார அமைச்சின் செயலாளர் டாக்டர் காந்தலியன்கேயுடன் தொடர்பு கொண்டு தெரியப்படுத்தினேன். அவருக்கு தகவல் தெரிவித்து இரண்டு மணிநேரத்தில் ஆஸ்பத்திரி மீது ஷெல் தாக்குதல் நடத்தப்பட்டுள்ளது என்று டாக்டர் சத்தியமூர்த்தி மேலும் தெரிவித்தார்.

ஷெல்தாக்குதல் காரணமாக வைத்திய சாலையில் உள்ள 50 நோயாளிகளை காப்பாற்ற முடியாமல் போய்விடும். மக்கள் தொடர்ச்சியாகக் காயப்பட்டுக் கொண்டிருப்பதனால் எங்களால் ஒன்றுமே செய்ய முடியாமல் இருக்கின்றது.

வைத்தியசாலைக்கு வெளியில் வீழ்ந்த ஷெல்களினால் 20க்கும் மேற்பட்டோர் காயமடைந்து வைத்தியசாலையில் அனுமதிக்கப்பட்டதுடன் 6 பேர் மரணமடைந்துள்ளனர்.

இதேவேளை இறந்தவர்களின் சடலங்களை வைத்தியசாலையின் பிரதேச அறையில் வைக்கப்பட்டுள்ளன.

அந்த சடலங்களை உறவினர்கள் எடுத்துச் செல்வதில் சிக்கல்களை எதிர்நோக்கி உள்ளதால் அவற்றை அடக்கம் செய்ய உதவுமாறு உறவினர்கள் கேட்டுள்ளனர் என்றும் - டாக்டர் சத்தியமூர்த்தி சொன்னார். (அ-1-07)

வன்னிப் பகுதியில்....

(முதலாம் பக்கத் தொடர்ச்சி) கேசவன் (02) ஆகியோரும், நாகேந்திரனின் மகளாகிய உதய சீலன் சசீதா (30), அவரது குழந்தைகளை உதய சீலன் உசான் (10), உதயசீலன் மதியரசி (07) ஆகியோரும் நாகேந்திரனின் மருமகளாகிய கிருஷ்ணமூர்த்தி சிந்துஜா (16), நாகேந்திரனின் சகோதரரின் பிள்ளைகளாகிய இராசேந்திரன் ரீபன் (16) ஆகியோரைக் காணவில்லை என மனித உரிமைகள் ஆணைக்குழுவினரிடம் முறையிடப்பட்டுள்ளது.

இவர்கள் வன்னிப் பிரதேசத்தில் இருந்து இராணுவக் கட்டுப்பாட்டுப் பகுதிக்குச் செல்வதற்காகப் படகில் ஏறிச் சென்றனர் என்றும், அதன் பின்னர் அவர்களுடன் தொடர்பு எதுவும் இல்லை யென்றும் இவர்கள் எங்குள்ளார்கள் என்பது தெரியாமல் இருக்கின்றது என்றும் நாகேந்திரன் தமது முறைப்பாட்டில் தெரிவித்துள்ளார். இவர்கள் இருக்குமிடத்தைக் கண்டுபிடித்துத் தருமாறு அவர் மனித உரிமைகள் ஆணைக்குழு அதிகாரிகளிடம் கோரியுள்ளார்.

காணாமல் போயுள்ளனர் எனத் தெரிவிக்கப்பட்டுள்ள இவர்கள் தொடர்பான தகவல்கள் தெரிந்திருந்தால், அதனை மனித உரிமைகள் ஆணைக்குழுவினருக்குத் தெரிவித்து உதவுமாறு மனித உரிமைகள் ஆணைக்குழுவின் வவுனியா மாவட்ட இணைப்பதிகாரி, பாதுகாப்புத் துறை அதிகாரிகள், யாழ்ப்பாணம், மன்னார், திருகோணமலை மாவட்டங்களில் உள்ள சிவில் அதிகாரிகள் மற்றும் பொதுமக்களிடம் கோரிக்கை விடுத்துள்ளார். (அ-சி)

புதுக்குடியிருப்பு ஆஸ்பத்திரி...

(முதலாம் பக்கத் தொடர்ச்சி) புதுக்குடியிருப்பு மருத்துவமனையின் சிறுவர் விடுதி முழுமையாக நிரம்பியிருந்த நிலையில் அங்கு ஷெல்கள் வீழ்ந்து வெடித்துள்ளன என ஐக்கிய நாடுகள் சபையின் கொழும்பு அலுவலகப் பேச்சாளர் கோர் டென் வெய்ஸ் தெரிவித்துள்ளார்.

மருத்துவமனையில் உள்ள தமது பணியாளர்களைத் தாம் இறுதியாகத் தொடர்பு கொண்ட வேளை அவர்கள் இறந்தவர்களின் உடல்களை எண்ணிக்கொண்டிருக்கின்றனர் எனத் தெரிவித்தனர் என்றும் ஐ.நா. அதிகாரி வெய்ஸ் குறிப்பிட்டுள்ளார்.

இதேவேளை, வைத்தியசாலை தாக்கப்பட்டமை குறித்து தாம் அதிர்ச்சியடைந்துள்ளார் என்று தெரிவித்துள்ள செஞ்சிலுவைச் சர்வதேசக்குழுவின் கொழும்புப் பிரதிநிதிகள் குழுவின் தலைவர் டோல் கஸ்பெலர், ஒருவாரகாலத்துக்குள் மருத்துவமனை இரண்டாவது தடவையாக தாக்கப்பட்டுள்ளதையும் சுட்டிக்காட்டியுள்ளார்.

மருத்துவமனையை இலக்குவைத்து ஷெல் தாக்குதல்கள் ஏன் நடத்தப்படுகின்றன என்பது தனக்குப் புரியவில்லை எனவும் அவர் தெரிவித்துள்ளார்.

நோயாளிகள், மருத்துவப் பணியாளர்கள், மருத்துவ நிலையங்கள் அனைத்தும் சர்வதேச மனிதாபிமான சட்டங்களின் கீழ் பாதுகாக்கப்பட வேண்டியவை என்பதை சுட்டிக்காட்டியுள்ள ஐக்கிய நாடுகளின் பேச்சாளர், எந்தக் காரணத்திற்காகவும் இவற்றின் மீது தாக்குதலை மேற்கொள்ள முடியாது எனக் குறிப்பிட்டுள்ளார்.

புதுக்குடியிருப்பு வைத்தியசாலை மூன்று தடவைகள் தாக்குதல்களுக்கு உள்ளானது எனவும், பெண்கள், சிறுவர்கள் பிரிவு மற்றும் சமையலறை என்பன தாக்கப்பட்டன என்றும் செஞ்சிலுவைச் சர்வதேசக்குழுவின் பேச்சாளர் சரசி விஜயரட்ணவும் குறிப்பிட்டுள்ளார்.

இந்தத் தாக்குதலில் 9 பேர் கொல்லப்பட்டும், 20 பேர் காயமடைந்தும் உள்ளனர் என்றும் அவர் உறுதிசெய்துள்ளார். (அ-சி)



INFORMATION TECHNOLOGY PARK
Jaffna, Sri Lanka.
Under the purview of the
Ministry of Science and Technology

MPCS Building,
127, K.K.S.Road, Jaffna, Sri Lanka.

Office : 021 222 3641
Fax : 021 222 3643

அரசு நிறுவனமான தகவல் தொழில்நுட்பப் பூங்காவில் கீழ்வரும் கற்கைநெறிக்களுக்கான விண்ணப்பங்கள் கோரப்படுகின்றன

விண்ணப்பப் படிவங்களை யாழ்ப்பிரதம தபாலகத்திற்கு முன்னால் உள்ள எமது நிறுவனத்தில் இன்று முதல் பெற்றுக் கொள்ளலாம்

<p>Diploma Courses</p> <ul style="list-style-type: none"> ▷ Diploma in DTP ▷ Diploma in MS Office ▷ Diploma in Hardware Technology <p>On-Line Class</p> <ul style="list-style-type: none"> ▷ Diploma in PC Application & Office Management (MS Office syllabus included) <p>Work Shop Classes</p> <ul style="list-style-type: none"> ▷ PC Maintenance & Hardware ▷ Adobe Photoshop <p>Certificate Courses</p> <ul style="list-style-type: none"> ▷ MS Word ▷ MS Excel ▷ MS Access ▷ CorelDRAW ▷ PageMaker ▷ Visual Basic ▷ Java ▷ HTML & J Scripts ▷ Pascal ▷ C/C++ 	<p>விண்ணப்பப்படிவங்களுக்கும், பதிவுகளுக்கும் நேரடியாகத் தொடர்பு கொள்ளவும்</p> <p>வாரநாள் வகுப்புக்கள் ஆரம்பம் : 20/02/2009 வாரஇறுதி வகுப்புக்கள் ஆரம்பம் : 21/02/2009</p> <p>சகல கற்கை நெறிக்களுக்கும் பதிவுக் கட்டணம்: 250/-</p> <p style="text-align: center;">Centre for Information Technology</p> <p style="text-align: center;">-Executive Officer</p>
---	---

CHEMISTRY
- N.VAKEESAN -
ஆரம்பமாகின்றது ---
2011 : Wed-3pm.
மீட்டல் : Inorganic(Thu 3pm)
இராமநாதன் வீதி
(புலகலக்கயூர் பூங்கா)



கல்விச் சூடர்

நற்சிந்தனை

உன்னால் சாதிக்க இயலாத காரியம் என்று எதுவும் இருப்பதாக ஒருபோதும் நினைக்காதே. அப்படி நினைப்பது ஆன்மீகத்துக்கு முற்றிலும் முரண்பட்டது.

க.யொ.த.உயர்தர கல்விச்சூடர்

03.01.2009 செவ்வாய்க்கிழமை

Special Guidance For A/L 2009&2010

க. யொ.த உயர்தர மாணவர்களுக்கென தனியாக வெளிவரும் **கல்வி இணைப்பீடு**

பொருளியல் மாணவர்களுக்கான விசேட நடை முறை விடய வெளியீடு- 6 ம்பக்கத்தில்.

காப்பிடப் பட்ட (எண்ணெய்க் கொள்வனவு) உடன்படிக்கையும் எண்ணெய்விலையும்

இன்று எண்ணெய் விலை பற்றியும் எண்ணெய் தொடர்பான ஹெட்ஜிங் () உடன்படிக்கை பற்றியும் எல்லோராலும் பேசப்பட்டு வருகின்றதே. இந்த எண்ணெய்ப் பிரச்சினை உயர்நீதிமன்றம் தலையிடும் அளவுக்கு முக்கிய விடயமாகி விட்டது. இதுபற்றி மாணவர்களுக்குத் தெளிவான விளக்கத்தை அளிப்பதற்காக ஆசிரியர் முரளிதாஸ் இந்தக் கட்டுரையை வரைந்துள்ளார். இது 6 ஆம் பக்கத்தில் பிரசுரிக்கப்பட்டுள்ளது.

இது குறிப்பாக வந்தக மற்றும் கலைப் பிரிவு மாணவர்களுக்கு பரீட்சையில் கைகொடுக்கும் என்பது கல்விச் சூடரின் நம்பிக்கை. இக்கட்டுரையை உதயன் - கல்விச் சூடருக்கு விசேடமாக வழங்கிய ஆசிரியர் முரளிதாஸ் மாணவ உலகின் நன்றிக்குரியவர். கல்விச் சூடரும் அவருக்கு நன்றியைத் தெரிவித்துக் கொள்கின்றது.

கல்விப் பொதுத் தராதரப் பத்திர (உயர் தர) மாதிரிப் பரீட்சை - 2009 ஆகஸ்ட்
General Certificate of Education (Advance Level) Model Examination - 2009 August
பொருளியல் - 1 ஆசிரியர் : V.முரளி (Eco.SPL)
M.A (Eco)

கடந்தவாரத் (27.01.2009) தொடர்ச்சி.....

பகுதி - 11

இப்பகுதியிலுள்ள "அ" பிரிவிலிருந்து இரண்டு வினாக்களையும், "ஆ" பிரிவிலிருந்து இரண்டு வினாக்களையும் தெரிந்து எல்லாமாக நான்கு வினாக்களுக்கு மட்டும் விடையளிக்கുക.

பிரிவு "அ"

- 1) பொருளியலில் அருமை என்னும் எண்ணக்கருவை விளக்குக.
2) அமையச் செலவானது வழக்கமாக நேர்க்கணியமானதாகும். எனினும், சில சந்தர்ப்பங்களில் அமையச் செலவானது பூச்சியமாகக் காணப்படும். இவ்வாறான சந்தர்ப்பங்கள் யாவை?
3) நடைமுறைக்குச் சாத்தியமான ஆக்க இயல்தகவு வளையி ஒன்றினை வரைந்து அதன் சந்தர்ப்பச் செலவினை நிறுவுக.
- ஒரு பொருளாதாரம் தனக்குக் கிடைக்கத்தக்க வளத்தைக்கொண்டு 400 மில்லியன் அலகு கோதுமை உற்பத்தியினையோ அல்லது 150 மில்லியன் அலகு புடைவை உற்பத்தியினையோ மேற்கொள்ள முடியும் எனக் கொள்க.
1) உற்பத்தி இயல்தகவு எல்லை ஒன்றினை வரைக.
2) பொருளாதாரம் எப்பண்டத்தின் உற்பத்தியில் தங்கியிருப்பது சிறந்தது என நீர் கருதுகிறீர்? நிறுவிக்காட்டுக.
3) புடைவை உற்பத்தியில் 100 மில்லியன் அலகும், கோதுமை உற்பத்தியில் 300 மில்லியன் அலகும் என்ற உற்பத்திச் சேர்க்கை இடம்பெறுகிறது. எனின், இதிலிருந்து நீர் விளங்கிக்கொள்வது யாது?
4) பூரண சிறப்புத் தேர்ச்சி என்றால் என்ன? உற்பத்திச் சாத்திய வளையியில் விளக்குக.
5) பொருளாதாரமானது 15% வளர்ச்சி அடைகின்றதாயின், இதனை உற்பத்தி இயல்தகவு எல்லையில் விளக்குக.
- ஒரு பொருளின் சமநிலை விலை 10 ரூபாவாக இருக்கும்போது சமநிலைத் தொகை 400 அலகுகள் ஆகும். சமநிலை விலையில் கேள்வியின் நெகிழ்ச்சிக் குணகம் 2 ஆகவும், நிரம்பல் நெகிழ்ச்சிக் குணகம் 0.5 ஆகவும் உள்ளது. இப்பண்டத்திற்கு அரசு 4 ரூபாவை மானியமாக வழங்குகின்றபோது இம் மானியம் வழங்கல் காரணமாக சமநிலை விலை, தொகை என்பவற்றைக் காண்க.
1) மானியத்தின் பின் புதிய சமநிலை விலை, தொகை என்பவற்றைக் காண்க.
2) மானியத்தின் பின் உற்பத்தியாளன், நுகர்வோன் மிகை யாது?
3) அரசாங்கத்திற்கு ஏற்படும் மொத்த மானியச் செலவு யாது?
4) நுகர்வோர், உற்பத்தியாளர் ஆகியோர் தூர் அலகிற்குப் பெறும் மானியத்தின் அளவு யாது?
- நீர் கற்ற பொருளாதார எண்ணக்கருக்களைப் பயன்படுத்திப் பின்வருவனவற்றை விளக்குக.
1) 15% ஆல் விலை அதிகரிக்கின்றபோது அ பண்டத்தின் உற்பத்தியாளரது வருமானமும் 15% ஆல் அதிகரிக்கின்றது. டி பண்டத்தின் உற்பத்தியாளரது வருமானம் 20% ஆல் குறைவடைகின்றது.
2) X பண்டத்தினது விலை 12% ஆல் குறைவடைகின்றபோது, Y பண்டத்தினது கேள்வி 10% ஆல் அதிகரிக்கின்றது. ஆனால், Z பண்டத்தின் கேள்வி 15% ஆல் அதிகரிக்கின்றது. T பண்டத்தின் கேள்வி 8% ஆல் வீழ்ச்சியடைகின்றது.
3) பொதுவாக மக்களது வருமானம் அதிகரிக்கின்றபோது ஒரு பகுதி மக்கள் X பண்டத்திற்கான கேள்வியில் 15% அதிகரிப்பை ஏற்படுத்த மற்றைய பிரிவினர் 8% பண்டத்திற்கான கேள்வியைக் குறைத்தனர்.

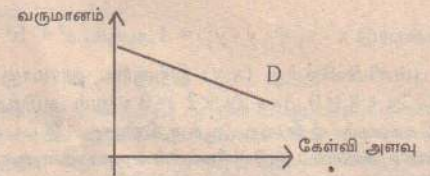
பிரிவு "ஆ"

- இப்பிரிவிலிருந்து இரண்டு வினாக்களைத் தெரிவுசெய்க.
- 1) தன்னிச்சையான நுகர்வு, தன்னிச்சையான முதலீட்டு மட்டம் என்னும் கருத்தை விளக்குக.
2) பேரண்டப் பொருளாதாரத் தரவுகள் கீழே தரப்பட்டுள்ளன.
C = 180 + 0.8 Yd I = 150 G = 250 T = 100
C - நுகர்வு, I - முதலீடு, G - அரசு செலவு.
1. சமநிலை தேசிய வருமான மட்டம் யாது?
2. முதலிடானது 50M ஆல் அதிகரிக்கின்றபோது சமநிலை மட்டம் எவ்வாறு மாற்றமடையும்?
3. நிறை தொழில் மட்டத் தேசிய வருமானம் 3250M ஆக இருப்பதற்கு முதலிடானது எவ்வளவால், எவ்வாறு மாற்றமடைய வேண்டும்?
 - 1) மூடப்பட்ட பொருளாதாரம் ஒன்றின் வருமான வட்டப் பாய்ச்சல் மாதிரி ஒன்றை வரைந்து அவற்றின் பிரதான எடுகோளை விளக்குக.
2) தேசிய வருமானக் கணிப்பீட்டில் காணப்படும் குறைபாடுகள் யாவை?
3) தேசிய வருமானத் தரவுகள் அபிவிருத்தியை அளவிடப் போதுமானதா?
 - 1) நிறைபோட்டிச் சந்தை ஒன்றில் சந்தைத் தோல்வி (Market failure) எவ்வாறு ஏற்படுகின்றது? விளக்குக.
2) எல்லைச் செலவு (Marginal cost), சராசரி மாறும் செலவு (Average Variable cost) - வேறுபடுத்துக.
3) அளவுத்திட்ட சிக்கனங்களும் சிக்கனமின்மையும் - விளக்குக.
4) செலவுக் கோட்பாட்டில் உத்தம இயலளவு, மிகை இயலளவு - விளக்குக.

- 1) அரசு பாதிட்டின் அரசாங்க சேமிப்பு (எணிதினுணுணாட்டுணுணு குத்திடிணுத்) என்றால் என்ன? அதன் முக்கியத்துவம் யாது?
2) பாதிட்டுப் பற்றாக்குறை என்றால் என்ன? அதனை எவ்வாறு நிதியிட்டம் செய்யலாம்?
3) வெளிநாட்டுக் கடன்கள், உதவி என அழைக்கப்படுகின்றது - விளக்குக.
4) அரசிறைத் தொழிற்பாட்டின் விரிவுத்தாக்கம் - விளக்குக.
120 நிமிடங்களுக்குள் செய்துமுடிக்க முயற்சிக்கவும்...

பொருளியல் மாணவர்களுக்கு (27.01.2009 இன் தவறுகள்)

* வினா இல - 04	நேரடிச் செலவு ஆண்டு ஒன்றுக்கு 100,000 ரூபா என திருத்திக்கொள்ளவும்.
* வினா இல - 06	புதிய பழத் தோட்டத்தை உருவாக்குதல் என திருத்திக்கொள்ளவும்.
* வினா இல - 08	4 ரூபாவை 14 ரூபா என திருத்திக்கொள்ளவும்.
* வினா இல - 11	பின்வரும் வரைபைக் கருத்திற்கொண்டு விடையளிக்கவும்.



மாணவர் கவனத்திற்கு.....

- * கடந்தவாரத்திற்கான உயர்தரக் கல்விச்சூடரின் விடைகள் அனைத்தும் அடுத்த சனிக்கிழமை வெளிவரும்.
- * இப்பகுதியில் வெளிவரும் அனைத்து வினாக்களையும் நேரங்கணித்து உரிய நேரத்துக்குள் பயிற்சிபெறுங்கள்.
- * இப்பகுதிகளுக்குரிய விடைகள் எதிர்வரும் சனிக்கிழமை வெளிவரும்போது ஒப்பீடுசெய்து நீங்கள் சுயமாகவே திருத்திக்கொள்ளுங்கள்.
- * இப்பகுதியில் வெளிவரும் பல்கோண வினாக்களில் ஏதாவது சந்தேகங்கள், தெளிவின்மைகள் இருப்பின் எமது கல்விச்சூடர் பகுதிக்குத் தெரியப்படுத்தின் உரிய ஊடாக ஆலோசனை வழங்கப்படும்.

ஆசிரியர், உதயன்-கல்விச்சூடர்,
இல.361, கஸ்தூரியார் வீதி, யாழ்ப்பாணம்.
தொலைபேசி :- 071-6850005, 0212229933, 071-4273035
தொலைநகல் :- 0212229944
மின்னஞ்சல் :- newkalvisudar@yahoo.com

கல்விப் பொதுத் தராதரப் பத்திர (உயர் தர) மாதிரிப் பரீட்சை - 2009 ஆகஸ்ட்
General Certificate of Education (Advance Level) Model Examination - 2009

இணைந்த கணிதம் - 01

- 6 வினாக்களுக்குமாதிரி விடை தருக.
- 1) a) $a > 0$ BPவும் $b^2 - 4ac < 0$ ஆகவும் இருப்பின் $(x) = ax^2 + bx + c$ என்னும் கோவை து இன் எல்லா மெய்ப்பெறுமானங்களுக்கும் நேரானது எனக் காட்டுக.
 $(x) = 9 + 2(k+4)x + 2kx^2$ ($k \neq 0$) என்னும் சார்பு x இன் எல்லா மெய்ப்பெறுமானங்களுக்கும் நேராக இருக்குமாறு உள்ள k இன் பெறுமான வீச்சைக் காண்க.
b) $x^2 + px + 1 = 0$ என்னும் சமன்பாட்டின் மூலங்கள் a, b ஆகவும் $x^2 + qx + 1 = 0$ என்னும் சமன்பாட்டின் மூலங்கள் g, h ஆகவும் இருப்பின் $(a-g)(b-g)(a+d)(b+d) = q^2 - p^2$ என நிறுவுக.
c) $x^3 - lx^2 + mx + g$ என்பதை $(x-2)^2(x+1)$ ஆல் வகுக்கும்போது மீதி $5x+6$ ஆகும். l, m, g என்பவற்றைக் காண்க.
 - 1) 5 வீடுகளுக்குரிய கடிதங்களுக்கு சரியாக 5 விலாசம் இடப்பட்ட கடித உறைகள் உண்டு. 5 கடிதங்களும் பிழையான கடித உறைகளில் இடுவதற்கான வழிகளின் எண்ணிக்கையைக் காண்க.
2) $(2 + 3i)^{10}$ என்பது து இன் ஏறுவலுக்களில் எழுதப்படும் போது 4 ஆம் உறுப்பு அதியுயர் எண்பெறுமதியைக் கொண்டிருப்பின் து இன் பெறுமான வீச்சைக் காண்க.
 - 1) கணிதத் தொகுத்தரிவு முறையினால் ன எனும் எல்லா நேர் நிறை எண்களுக்கும், $7^{2n} + (2^{3n-3})(3^{n-1})$ என்பது 25 இனால் சரியாக வகுபடும் எனக் காட்டுக.

04. a) Z, Z^1 எனும் சிக்கலெண்கள் ஆகண் வரிப்படத்தில் முறையே A, B எனும் புள்ளிகளால் வகைக்குறிக்கப்பட்டன, $[Z-Z^1] = AB$ எனக் காட்டுக.
- b) $Z^2 + 2Z + 10 = 0$ எனும் இருபடிச் சமன்பாட்டின் மூலங்கள் Z_1, Z_2 என்பவற்றைக் காண்க. ($\text{Im} Z_1 > 0$)
- Z_1 இன் மட்டு, வீச்சம் முறையே r, ϕ எனின், Z_2 இன் மட்டு, வீச்சம் என்பவற்றை முறையே r, ϕ இல் தருக.
 - $[Z_1 - Z_2] = 6$ எனக் காட்டுக.
 - $[Z - Z_1] = 6$ ஆகுமாறு $p < \arg(Z - Z_1) \leq 3\pi$ ஆகுமாறு அமையும் சிக்கலெண்கள் Z I BPs வரிப்படத்தில் வகைக்குறிக்கும் புள்ளிகளைக் கொண்டு பகுதியைக் காட்டுக. இப்பகுதியில் (Z) இழிவாக அமையும் புள்ளியின் சிக்கலெண்ணைத் தருக.

05. a) $y_n = \cos^2 x \cdot \cot^n x$ எனின், $dy_n + (n+1)y_{n-1} + ny_{n+1} = 0$ எனக் காட்டுக.
- b) $x^2 + y^2 - 4xy - 1 = 0$ எனின்,

$$d^2y = dy^2$$

- புள்ளி (1,0) இல் பெறுமானங்களைக் காண்க.
- c) ஒரு செவ்வட்ட கூம்புப் பாத்திரத்தின் அடி ஆரை 4cm உம் குத்துயரம் 20cm உம் ஆகும். உச்சி கீழே அமையுமாறும், அதன் அச்ச நிலைக்குத்தாக இருக்குமாறும் நிலைப்படுத்தப்பட்டுள்ளது. அதனுள் நிரம்ப நீர் உள்ளது. இதனுள் $1.5 \text{ cm}^3 \text{ s}^{-1}$ வீதத்தில் மெதுவாக நீர்சேர்க்கப்படுகிறது. அதேநேரம் அதன் உச்சியிலுள்ள சிறிய துவாரத்தினூடே $2 \text{ cm}^3 \text{ s}^{-1}$ வீதத்தில் நீர் வெளியேறுகின்றது. நீரின் ஆழம் 12cm ஆக இருக்கும்போது உயரமாற்ற வீதத்தைக் காண்க.

06. a) உகந்த பிரதியீட்டைச் செய்து, தொகையீடு.
- $$\frac{dx}{1+4\cos x}$$
- ஐப் பெறுமானம் காண்க.

- 1) பகுதிகளாகத் தொகையிடலைப் பயன்படுத்தி,

$$\frac{x \sin^{-1} x}{1-x^2}$$

- 2) பகுதிப் பின்னங்களைப் பயன்படுத்தி,
- $$\frac{4x}{(x+2)(x^2+4)}$$
- ஐக் காண்க.

- b) x அச்சுக்கும் $y = 6x - x^2$ என்னும் வளையியிற்கும் இடையிலுள்ள பரப்பளவைக் காண்க.

07. நேர்கோடு ஒன்றின் சமன்பாடு $x - x_1 = y - y_1 = l$ ஆகும். $a^2 + b^2 = 1$ ஆகும்போது [I]

என்பது (x_1, y_1) என்ற புள்ளியிலிருந்து (x, y) இற்குரிய தூரமாகும் எனக் காட்டுக. சாய்சதுரம் ஒன்றில் $2x - 3y + 8 = 0, 3x - 2y + 2 = 0$ எனும் அடுத்துள்ள பக்கங்கள் சாய்சதுரத்தில் கூர்ங்கோணம் ஒன்றை ஆக்குகின்றது. இப்பக்கங்கள் இடைவெட்டும் புள்ளியினூடான மூலைவிட்டத்தின் நீளம் 10 2 அலகுகள் ஆகும். சாய்சதுரம் முற்றாக முதலாம் காற்பகுதியில் அமைந்துள்ளது. சாய்சதுரத்தின் மற்றைய இருபக்கங்களினதும் சமன்பாடுகளைக் காண்க.

மற்றைய மூலைவிட்டத்தின் நீளம் யாது? இதிலிருந்து சாய்சதுரத்தின் பரப்பளவைக் காண்க.

08. $y = mx + c$ எனும் நேர்கோடானது $x^2 + y^2 - 2ax - 4ay - 4a^2 = 0$ எனும் வட்டத்தைத் தொடுவதற்கான நிபந்தனையைக் காண்க. $x^2 + y^2 - 2ax - 4ay - 4a^2 = 0, x^2 + y^2 - 3ax + 4ay = 0$ எனும் இரு வட்டங்களும் இடைவெட்டும் எனக்காட்டி பொதுநாணின் நீளத்தைக் காண்க. இவ்விரு வட்டங்களின் பொதுத் தொடலிகளின் சமன்பாடுகளைக் காண்க. இதிலிருந்தோ, வேறு வழியிலோ பொதுத் தொடலியின் நீளம் 4a எனக் காட்டுக.

09. a) வழமையான குறியீடுகளுடன் யாதேனும் ஒரு முக்கோணக்குரிய சைன் நெறியைக் கூறி நிறுவுக. ஒரு முக்கோணி அஆஇ யிற்குரிய வழக்கான குறியீட்டுடன், $(a+b+c) \tan A + \tan B = 2C \cot C$ என நிறுவுக. இதிலிருந்து அல்லது வேறுவிதமாக $a+b+c + \tan A \tan B$ எனக் காட்டுக.

- b) $\cos^{-1} x + \cos^{-1} y + \cos^{-1} z = p$ எனின், $x^2 + y^2 + z^2 + 2xyz = 1$ என நிறுவுக.

இணைந்த கணிதம் - 02

ஆறு வினாக்களுக்கு மாத்திரம் விடை தருக.

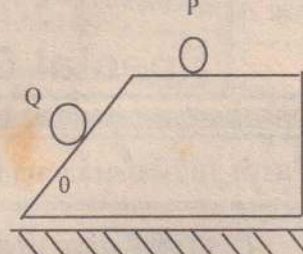
01. a) ஒரு மோட்டார் வண்டியின் உயர் ஆர்முடுகல் 6 டீன்ஸ் ஆகவும் உயர் அமர்முடுகல் 8 டீன்ஸ் ஆகவும் உள்ளது. மோட்டார் வண்டியின் உயர் வேகம் 48 டீன்ஸ் ஆகும். மட்டமான நேர் வீதியில் ஒரு வண்டியானது ஓய்வில் இருந்து புறப்பட்டு மீண்டும் தரப்பட்ட தூரத்தில் ஓய் விற்கு வருகின்றது. வேக - நேர வரைபுகளைப் பயன்படுத்தி,
1) 189m 2) 336m 3) 606m என்னும் தூரங்களை மோட்டார் வண்டி செல்வதற்கு எடுக்கும் மிகக் குறைந்த நேரங்களைக் காண்க.
- b) ஒரு உதைபந்தாட்ட நிகழ்ச்சி ஒன்றிலே A, B என்பவர்கள் ஒரே அணியையும், C என்பவர் எதிரணியையும் சேர்ந்தவர்கள். A யும் B யும் சமரந்தரமாக ஒரே கதி u உடன் ஓடிக்கொண்டிருக்கின்றனர். C என்பவர் இவர்களுக்கு சரி நடுவில் சமரந்தரமாக ஆனால், எதிர்திசையில் 2u என்ற வேகத்துடன் ஓடிவருகின்றார். ஒரு கணத்தில் இம் மூவருக்கும் இடைப்பட்ட தூரங்கள் சமனாக வரும்போது B என்பவருக்குப் பந்து கிடைக்கின்றது. அவர் அப்பந்தை C க்குக் கிடைக்காது A என்பவர் பெறத்தக்க வகையில் மாறா வேகத்துடன் தரையில் பந்து செல்லுமாறு அடிக்கின்றார். பந்து அடிக்கப்பட்ட வேகம் v ஆயின் $v > 2u$ எனக் காட்டுக.

02. a) M கிலோகிராம் திணிவுடைய ஒரு கார் a சாய்வுள்ள சாய்தளத்தில் R நியூற்றன் தடை விசைக்கு எதிராக, மேல்நோக்கி இயங்கும்போது அதன் எஞ்சின் P கிலோவாற்றுவலுவில் வேலை செய்கிறது. $1000P = (R + 9.8M \sin a + M)V$ எனக் காட்டுக. $R = 400, M = 500$ எனின், காரின் அதி உயர் கதியைக் காண்க. இக்கதியுடன் இயங்கும் போது சடுதியாக எஞ்சினின் வலு 25 கிலோவாற்றாக அதிகரிக்கப்படுகிறது. இந்நிலையில் அதன் ஆர்முடுகல் அண்ணளவாக ms^{-2} எனக் காட்டுக.

- b) படத்தில் காட்டியவாறு ஒப்பமான கிடைத்தளத்தில் வைக்கப்பட்ட M திணிவுள்ள ஒப்பமான ஆப்பின் கிடை முகத்தின் மீது m_1 திணிவுள்ள P எனும் துணிக்கையும், கிடையுடன் கோணம் ϕ இல் சாய்ந்துள்ள சாய்முகத்தின் மீது m_2 திணிவுள்ள Q எனும் துணிக்கையும் வைக்கப்பட்டு தொகுதி ஓய்விலிருந்து மெதுவாக விடுவிக்கப்படுகிறது. தொடரும் இயக்கத்தில்,
a) ஆப்பின் ஆர்முடுகல், துணிக்கை P இன் ஆர் முடுகலில் தங்கியிருக்கவில்லை எனவும்,
b) எல்லா தொடுகைகளிலும் உள்ள மறுதாக்கங்களையும் காண்க.

இங்கு, அதன் வேகம் $V \text{ ms}^{-1}$, ஆர்முடுகல் ms^{-2} , $g = 9.8 \text{ ms}^{-2}$ ஆகும். $\sin a = 1, P = 20, R = 400, M = 500$ எனின், காரின் அதி உயர் கதியைக் காண்க. இக்கதியுடன் ஆர்முடுகல் அண்ணளவாக 1 ms^{-2} எனக் காட்டுக.

- b) படத்தில் காட்டியவாறு ஒப்பமான கிடைத்தளத்தில் வைக்கப்பட்ட M திணிவுள்ள ஒப்பமான ஆப்பின் கிடை முகத்தின் மீது m_1 திணிவுள்ள P எனும் துணிக்கையும், கிடையுடன் கோணம் ϕ இல் சாய்ந்துள்ள சாய்முகத்தின் மீது m_2 திணிவுள்ள Q எனும் துணிக்கையும் வைக்கப்பட்டு தொகுதி ஓய்விலிருந்து மெதுவாக விடுவிக்கப்படுகிறது. தொடரும் இயக்கத்தில்,
a) ஆப்பின் ஆர்முடுகல், துணிக்கை P இன் ஆர் முடுகலில் தங்கியிருக்கவில்லை எனவும்,
b) எல்லா தொடுகைகளிலும் உள்ள மறுதாக்கங்களையும் காண்க.



40 நிமிடங்களுக்குள் செய்து முடிக்க முயற்சிக்கவும்...

பெளதிகவியல் - I ஆசிரியர் : - சி.சிந்தனாச்செல்வன் (B.Sc) Dip in Edu

சவகுகளும் பரிமாணங்களும்

- கடந்தவாரத் (27.01.2009) தொடர்ச்சி....
31. ஒரு துணிக்கையின் வேகம் $V = (b/t) + ct^2 + dt^3$ எனும் சமன்பாட்டினால் தரப்படுகின்றது. இதில் b இன் பரிமாணம், (இங்கு t - நேரம்)
1) $\text{m}^2 \text{L}^0$ 2) $\text{mL}^0 \text{T}^0$ 3) $\text{m}^0 \text{L}^0 \text{T}$
4) $\text{mL} \text{T}^{-1}$ 5) $\text{mL} \text{T}^{-2}$
32. $y = a + bt + ct^2$ இல் தூஆனது M இலும் t ஆனது செக்கனிலும் குறிக்கப்படுமாயின், c இன் அலகு
1) m 2) m^{-2} 3) mS^{-2}
4) mS^{-2} 5) $\text{m}^{-1} \text{S}^{-1}$
33. பின்வருவனவற்றில் எதன் அலகு $\text{gcm}^2 \text{s}^{-2}$
1) சத்தி. 2) விசை. 3) உந்தம்.
4) ஆர்முடுகல். 5) வலு.
34. PV இன் பரிமாணத்தைக் கொண்டிருப்பது. (இங்கு P - அழுக்கம், V - கனவளவு)
1) வேலை. 2) வலு. 3) மீள்தன்மை மட்டு.
4) அழுக்கம். 5) உதைப்பு.
35. அழுக்கத்தின் அலகு,
1) தைன் / cm^2 2) atm 3) cmhg
4) பஸ்கால். 5) mmhg
36. பின்வருவனவற்றில் எதன் பரிமாணம் T^{-2} ஐக் கொண்டிருக்கும்?
1) விசை. 2) அழுக்கம். 3) ஈர்வை மாறிலி.
4) மேற்கூறிய யாவும். 5) மேற்கூறிய யாவும் அன்று.
37. $(P + a/v^2)(V - b) = RT$ எனின், a இன் SI அலகு
1) Nm^2 2) Nm^1 3) Nm^3
4) Nm^{-2} 5) Nm^{-1}
38. கோளமானி ஒன்றானது 250 வட்ட அளவிடைப் பிரிப்புகளைக் கொண்டது. வட்ட அளவிடையானது, ஒரு பூரண சுற்றுச் சுற்றும்போது பிரதான அளவிடை 0.0625 cm நகர்கிறது. இதன் இழிவு எண்ணிக்கை
1) $2.5 \times 10^{-4} \text{ cm}$ 2) $25 \times 10^{-4} \text{ cm}$ 3) $2.5 \times 10^{-4} \text{ cm}$
4) $2.5 \times 10^{-4} \text{ cm}$ 5) மேற்கூறிய எதுவுமல்ல.
39. $y = a \sin(Wt - kx)$ எனின், W இன் பரிமாணம்,
1) $\text{M}^0 \text{L}^0 \text{T}^{-1}$ 2) $\text{M}^0 \text{L} \text{T}^{-1}$ 3) $\text{M}^0 \text{L}^0 \text{T}^0$
4) $\text{M}^0 \text{L}^{-1} \text{T}^0$ 5) $\text{ML}^{-1} \text{T}^{-1}$
40. வினா இல 39 இல் K இன் பரிமாணம்,
1) $\text{M}^0 \text{L}^0 \text{T}$ 2) $\text{M}^0 \text{L} \text{T}$ 3) $\text{ML}^0 \text{T}$
4) $\text{M}^0 \text{L}^{-1} \text{T}^0$ 5) $\text{ML}^{-1} \text{T}$
41. வினா இல 39 இல் W/K இன் பரிமாணம்,
1) $\text{M}^0 \text{L}^{-1} \text{T}$ 2) $\text{M}^0 \text{L}^0 \text{T}^{-1}$ 3) $\text{M}^{-1} \text{L}^0 \text{T}^0$
4) $\text{M}^0 \text{L}^0 \text{T}^0$ 5) $\text{ML}^{-1} \text{T}^{-2}$
42. $\text{ML}^{-1} \text{T}^{-2}$ எனும் பரிமாணத்தைக் கொண்டிராதது,
1) தகைப்பு. 2) வலு. 3) அழுக்கம்.
4) யங்கின் மட்டு. 5) பிணைப்பு மட்டு.
43. ஏகபரிமாண உந்தமும் கோண உந்தமும் ஒரே பரிமாணங்களைக் கொண்டிருப்பது,
1) திணிவு, நீளம். 2) நீளம், நேரம். 3) திணிவு, நேரம்.
4) திணிவு, நீளம், நேரம். 5) திணிவு மட்டு.
44. துணிக்கை ஒன்றின் வேகமானது $V = a + (b/t) + ct^2$ இனால் தரப்படுகிறது. இங்கு b இன் அலகு, (t - நேரம்)
1) m 2) ms^2 3) ms^{-1}
4) ms^{-2} 5) $\text{m}^{-1} \text{s}^{-1}$
45. அழுக்கத்தின் SI அலகு,
1) $\text{kg}(\text{ms}^{-1})^2$ 2) $\text{kgm}(\text{s}^{-1})^2$ 3) $(\text{kg})^2 \text{m}$
4) $\text{kg}^{-1} \text{m}^{-1} \text{s}^{-1}$ 5) $(\text{kgm})^{-1} \text{s}^{-2}$
46. வேணியர் இடுக்கிமானி ஒன்றின் பிரதான அளவிடையின் 10cm, 200 பிரிவுகளாக வகுக்கப்பட்டுள்ளது. வேணியர் அளவிடையின் 25 பிரிவுகள் பிரதான அளவிடையின் 12 ட்ட பிரிவுகளுடன் பொருந்துகின்றது. இக்கருவியின் இழிவு எண்ணிக்கை,
1) 0.02cm 2) 0.002cm 3) 0.01cm
4) 0.001cm 5) 0.10cm

கடந்தவாரத் (27.01.2009) தொடர்ச்சி.....

பகுதி - 1

இல. 21 - 30 வரையான வினாக்களுக்குச் சுருக்கமான விடை தருக.

21. செயற்பாட்டு அமைப்பு எண்ணக்கருவினால் நிதிக்கூற்றுக்களில் தோன்றும் ஓர் விளைவைக் குறிப்பிடுக.

22. கணக்கீட்டின் உள்ளீடுகள் எவை?

23. கணக்கீட்டுத் தகவல் வழங்கும் பொறுப்பை வலியுறுத்தும் சட்டம் எது?

24. தற்சமனாக்கும் பேரேட்டு முறை என்பது யாது?

25. இருப்புக் கிரயத்தில் உள்ளடங்குபவை எவை?

26. சொத்து ஒன்றின் பயன்தரு ஆயுட்காலத்தைத் தீர்மானிக்கும் காரணிகள் எவை?

27. பங்குடைமை ஒன்றின் நன்மதிப்புக் கணிப்பிடப்படும் சந்தர்ப்பங்கள் 4 தருக.

28. 1.1.2008 இல் சில்லறைக் காசு மீதி 2,500 ரூபா. பிரதான காசாளரிடமிருந்து பெற்றது 10,000 ரூபா, உரிமையாளர் பற்று 1,750 ரூபா, கடன்கொடுநர் வசந்தாவுக்குக் கொடுத்தது 3,250 ரூபா. உட்பட்ட மொத்தச் செலவுகளின் தொகை 11,300 ரூபா. 1.3.2008 இல் சில்லறைக் காசேட்டு வசக்கட்டு மீள் நிரப்பப்பட வேண்டிய தொகை யாது?

29. கயனும், கமலும் இலாப நட்டங்களை 3:2 எனும் விகிதத்தில் பங்கிடுகும் பங்காளர்களாவர். இவர்கள் கஜமுகன் என்பவரை ஒரு புதிய பங்காளராக இலாபத்தில் 25% பங்குபெறும் வகையில் சேர்த்துக் கொண்டனர். இப் பங்குடைமையின் புதிய இலாபநட்ட விகிதம் என்ன?

30. பாலனும் கமலும் இலாப நட்டங்களை 5:4 என்னும் விகிதாசாரத்தில் பகிர்வுசெய்யும் பங்காளர்கள். இவர்களின் கணக்குப் புத்தகங்கள் ரூபா 90,000 ஐ நன்மதிப்பாகக் காட்டியது. பரமன் என்பவர் 1/5 பங்கு இலாபத்துடன் பங்குடைமையில் சேர்க்கப்பட்டார். பரமனைப் பங்காளராகச் சேர்க்கும்போது இவ் வியாபாரத்தின் நன்மதிப்பு 360,000 ரூபாவாகக் காணப்பட்டது. இந் நன்மதிப்பை மூலதனக் கணக்கின் ஊடாக சீராக்குவதற்கான, பதிவழிப்பதற்கான நாட்குறிப்புப் பதிவைத் தருக.

இல. 31 - 35 வரையான வினாக்களுக்குக் கொடுக்கப்பட்டுள்ள கூற்றுகள் உண்மையானதா அல்லது பொய்யானதா என்பதைக் குறிப்பிடுக.

31. எழுத்து-மூலமான உடன்படிக்கை இன்றி பங்குடைமை ஒன்று காணப்படமுடியாது.

32. விற்பனைத் திரும்பல் நாளேட்டினது மூல ஆவணம் கொடுக்கின்றதான் ஆகும்.

33. காணி ஒன்றில் கட்டடம் கட்டுவதற்கான திட்ட அறிவிப்புப் பலகை நாட்டியமை மூலதனச் செலவு ஆகும்.

34. பெறுமானத் தேய்வு ஏற்பாட்டுக் கணக்கு ஓர் மெய்க்கணக்காகும்.

35. சிறப்பு நோக்கம் கருதிப் பெறப்பட்ட நன்கொடைகள் பயன்படுத்தப்படும்போது, பயன்படுத்தப் பட்ட தொகை திரண்ட நிதியுடன் சேர்க்கப்படும்.

47. MT^{-2} எனும் பரிமாணத்தைக் கொண்டிருப்பது,
 1) மேற்பரப்பிழுமை. 2) அடர்த்தி. 3) சூரிய மாறிலி.
 4) அழுக்கப்படுகாரணி. 5) பாகுநிலைக்குணகம்.
48. W - கோணவேகம், V - ஏகபரிமாண வேகம் எனின், $y = a \sin (\alpha/V-k)$ இல் k இன் பரிமாணம் யாது?
 1) LT 2) T 3) T^{-1}
 4) T^2 5) T^2
49. விசை மாறிலியின் பரிமாணத்தைக் கொண்டிருப்பது,
 1) பிசுக்குமைக் குணகம். 2) மேற்பரப்பிழுமை. 3) மீடிறன்.
 4) கணத்தாக்கு. 5) உந்தம்.
50. h - உயரம், g - ஈர்வையிலான ஆர்முடுகல் எனின் $\sqrt{2h/g}$ இன் பரிமாணத்தைக் கொண்டிருப்பது,
 1) நேரம். 2) திணிவு. 3) கனவளவு.
 4) வேகம். 5) உந்தம்.
51. புள்ளி ஏற்றங்கள் q_1, q_2 என்பவை தூரம் r இனால் வேறாக்கப்படும்பொழுது அவற்றிற்கிடையே தொழிற்படும் மின் விசையானது $F = Kq_1q_2/r^2$ இனால் தரப்படும். k ஆனது,
 1) ஏற்றங்களுக்கிடையேயான ஊடகத்தில் தங்கியுள்ளது.
 2) அலகுத் தொகுதியில் தங்கியுள்ளது.
 3) 1, 2 இரண்டிலும் தங்கியுள்ளது.
 4) 1, 2 இரண்டிலும் தங்கவில்லை.
 5) ஏற்றங்களுக்கிடையேயான ஊடகத்தில் தங்கவில்லை.
52. கோண உந்தத்திற்கும் ஏகபரிமாண உந்தத்திற்கும் இடையேயான விகிதம் குறிப்பது,
 1) $M^0L^0T^0$ 2) MLT 3) ML^2T^{-1}
 4) $M^{-1}L^{-1}T^{-1}$ 5) $ML^{-1}T$
53. அழுக்கப் படித்திறனின் பரிமாணம்,
 1) MLT^{-2} 2) ML^2T^{-2} 3) $ML^{-2}T^{-1}$
 4) $M^{-1}L^{-1}T^{-1}$ 5) $ML^{-1}T$
54. விளையாட்டுப் பயிற்றுவிப்பாளர் தசை மடங்கு கதி வலு என்றார். தசை என்பதன் பரிமாணம்,
 1) MLT^{-2} 2) ML^2T^{-2} 3) MLT
 4) MLT 5) MLT^{-3}
55. வட்ட வேணியின் 30 பிரிவுகளானது பிரதான அளவிடையின் 29 பிரிவுகளுடன் பொருந்துகிறது. ஒரு பிரதான அளவிடையிப்பானது 1/2 எனின், கருவியின் இழிவெண்ணிக்கை யாது?
 1) 30 கலை 2) 10 கலை 3) 1 கலை
 4) 0.1 கலை 5) 0.01 கலை
56. கோளமானியைப் பயன்படுத்தி வளைவினாரை அளக்கப்படும் போது வளைவினாரை கீ ஆனது. (இங்கு L - நடுக்கால் உயர்ந்த உயரம், R - இரு கரைக்கால்களுக்கு இடைப்பட்ட தூரம்)
 1) $R = (h^2/6) + (l/l)$ 2) $R = (l^2/6h) + (h/2)$ 3) $R = (h^2/2l) + (l/h)$
 4) $R = (2l^2/h) + (6/l)$ 5) $R = (6l^2/h) + (h/2)$
57. L - மின்கடத்தாறு, J - மின்னோட்டம் எனின் $\frac{J}{L}$ இன் பரிமாணம்
 1) ML^{-2} 2) ML^2T^{-2} 3) $M^2L^2T^{-2}$
 4) $ML^{-4}T$ 5) M, L, T
58. பின்வருவனவற்றுள் G பெளதீக கணியத்தின் SI அலகிற்கும் சகிசெ அலகிற்கும் இடையிலான விகிதம் 10^3
 1) யங்கின் மட்டு. 2) போல்ட்ஸ்மானியின் மாறிலி.
 3) வாயு மாறிலி. 4) பிளாங்கின் மாறிலி. 5) அகில ஈர்ப்பு மாறிலி.
59. mC^2 இன் பரிமாணம்,
 1) MLT^{-1} 2) ML^0T^0 3) ML^2T^{-2}
 4) $M^{-1}L^3T^6$ 5) $M^{-1}LT^{-1}$
60. பின்வருவனவற்றில் எதன் பரிமாணம் மீடிறன் பரிமாணத்தை ஒத்தது. (W - கோணவேகம், T - அலைவு காலம்)
 1) l/TW 2) l/\sqrt{TW} 3) $\sqrt{W/T}$
 4) W/T 5) l/T
61. வீனின் ஒருமையின் பரிமாணம்,
 1) $M^0L^0T^0$ 2) ML 3) LTq
 4) Mq 5) M^0Lq^{-1}
62. வாயு மாறிலியின் பரிமாணம்,
 1) MT^{-2} 2) MLT^{-2} 3) Lq
 4) $ML^2T^{-2}q^1$ 5) Mq
63. அம்பியர் மாணி எதன் அலகு,
 1) சக்தி. 2) வலு 3) மின்கணியம்
 4) மின் அழுத்தம். 5) மின்னோட்டம்.
64. $\sqrt{l/VK}$ இன் பரிமாணம் யாது? (l - மின்னோட்டம், R - தடை, V - மின்னழுத்தம்)
 1) $M^0L^0T^0A^0$ 2) $M^0L^0T^1A^0$ 3) $M^1L^2A^1T^1$
 4) $M^0L^2A^1T^1$ 5) $M^1L^{-2}T^3I^2$
65. பரிமாணமற்ற கணியம்,
 1) இயற்கையில் காணப்படுவதில்லை.
 2) எப்போதும் ஓர் அலகைக் கொண்டிருக்கும்.
 3) ஒருபோதும் அலகு காணப்படமாட்டாது.
 4) அலகைக் கொண்டிருக்கலாம்.
 5) எப்போதும் ஒரு மாறிலியாகும்.

உதயன் கல்விச்சுடர் வழங்கும் வெளியீடுகள்

செவ்வாய்க் கிழமை - க.பொ.த.உயர்தரமாணவர்களுக்கான தனியான வெளியீடு.

வியாழக் கிழமை - தரம் 05 மாணவர்களுக்கான

தயார்படுத்தல் பரீட்சைத் தொடர்.

வெள்ளிக் கிழமை - இலகு வழி ஆங்கிலம்.

- இல. 36 - 40 வரையான வினாக்களுக்கு இடைவெளியில் பொருத்தமான சொற்களை வைத்து நிரப்புக. 36. சொத்து ஒன்றின் புத்தகப் பெறுமதியைப் பெறுவதற்குக் கிரயமானது, ஆல் குறைக்கப்படுதல் வேண்டும்.
37. நிலையான சொத்து ஒன்றை விற்போனும் வாங்குவோனும் அறிவுடனும், முழு மனதுடனும் சொத்தினைப் பரிமாற்றிக்கொள்ள இணங்கிய தொகை ஆகும்.
38. பெற்ற கழிவு, வருமதி உண்டியல் ஆகியவற்றின் மூல ஆவணம் முறையே ஆகும்.
39. நிதிக்கூற்றுகள் தயாரிக்கப்படும்போது பின்பற்றப்படும் விதிகளும், நடைமுறைகளும் ஆகும்.
40. உற்பத்திப் பகுதியிலிருந்து இலாபம் சேர்த்து வியாபாரப் பகுதிக்கு மாற்றப்படும் பொருட்களில் வியாபாரப் பகுதியில் விற்பனை செய்யப்படாத பொருட்களுக்குரிய இலாபம் எனப்படும்.

30 நிமிடங்களுக்குள் செய்துமுடிக்க முயற்சிக்கவும்...

கணக்கீடு - 1

பகுதி - 11

முதலாம் வினா உட்பட ஐந்து வினாக்களுக்கு விடை தருக.

01. கமல், பரன், ரூபன் ஆகியோர் பங்குடமை ஒன்றின் பங்காளர்கள் ஆவர். அவர்களுக்கிடையிலான உடன் படிக்கை வருமானம் :-

- இலாப நடவடிக்கைகள் 2:2:1 என்ற விகிதப்படி பகிரப்படும்.
- பங்காளர் ஒவ்வொருவரும் வருடாந்தம் 20,000 ரூபா சம்பளம் பெற உரித்துடையவர்கள்.
- பங்காளர் மூலதனத்திற்கு வட்டி 5% அனுமதிக்கப்படும்.
- பங்காளர் பற்றுக்களுக்கு வட்டி 6%.

31 டிசம்பர் 2006 இல் எடுக்கப்பட்ட பரீட்சை மீதி வருமானம் :-

	ரூபா (00)	ரூபா (00)
மூலதனக் கணக்கு	கமல்	300
	பரன்	150
	ரூபன்	250
நடப்புக் கணக்கு	கமல்	15
	பரன்	12
	ரூபன்	10
இருப்புக்கள் 01.01.2006 இல்		
	மூலப்பொருள்	15
	முடிவுப்பொருள்	20
	குறைவேலை (மூலக்கிரயம்)	10
கொள்வனவுகள்	மூலப்பொருள்	65
	முடிவுப்பொருள்	25
விற்பனை		450
காணிக்கட்டம் (கிரயம்)		600
பொறி (கிரயம்)		400
நிலையான வைப்பு 24%		50
மோட்டார் வாகனம் (கிரயம்)		300

பெறுமானத்தேய்வு ஏற்பாடு 01.01.2006இல்

		150
காணிக்கட்டம்		150
பொறி		80
மோட்டார் வாகனம்		80
காப்புறுதி		15
மின் கட்டணம்		18
வாடகை		34
உட்கமைக் கூலி		05
சம்பளம் கூலி		48
நேர்சூலி		17
வெளிச் சென்ற கூலி		04
அறவிடமுடியாக்கடன்		06
ஐயக்கடன் ஏற்பாடு		10
கமல் கடன்		50
கடன்பட்டோர், கடன்பொருளர்	45	75
பற்று கமல் (31.05.2006 இல்)	10	
ரூபன் (01.09.2006 இல்)	20	
வங்கி		95
		1717
		1717

மேலதிக தகவல்கள்:-

- 31.12.2006 இல் இருப்புக்கள் மூலப்பொருள் - 30,000 ரூபா, முடிவுப்பொருள் 45,000 ரூபா குறைவேலை (மூலக்கிரயம்) 12,000 ரூபா
- சம்பளம் கூலி என்பதனுள் 1/3 பங்கு தொழிற்சாலை மேற்பார்வையாளர் சம்பளமாகும்.
- 20,000 ரூபா உற்பத்திக் கிரயத்தைக் கொண்டிருக்கும் முடிவுப்பொருட்கள் தொழிற்சாலையில் ஏற்பட்ட தீ விபத்தில் சேதமுற்றன. இந்நட்டத்தின் 75% காப்புறுதி நிறுவனம் தருவதாக ஒப்புக்கொண்டது. இது தொடர்பில் எப் பதிவுகளும் இடம்பெறவில்லை.
- 01.01.2004 இல் 10,000 ரூபாவுக்கு வாங்கிய மோட்டார் வாகனம் 30 ஜூன் 2006 இல் 70,000 ரூபா இறக்கு விற்ப்பட்டிருந்தது. விற்ப்புப்பெற்ற காசு மோட்டார் வாகனக்கணக்கில் செலவு வைத்தது தவிர வேறு பதிவுகள் இடம்பெறவில்லை.
- கடன்பட்டோரிடம் அறவிட முடியாக்கடனாக 5000 ரூபா பதிவுப்பின்புடன், ஐயக்கடன் ஏற்பாட்டை 20% ஆகச் சீராக்குக.
- நிலையான வைப்பு வட்டி 5 மாதங்களுக்குமைய நிலுவையாக உள்ளது.
- மின்சாரம், காப்புறுதி, வாகனம் என்பதனுள் 60% தொழிற்சாலைக்குரியனவாகும்.
- 31.12.2006 இல் முற்பண கொடுப்பனவுகளும் நின்ற செலவுகளும் முன் செலுத்தியது சென்மதி
| வாடகை | 4,000 | |
| மின்சுட்டணம் | 6,000 | 8,000 |

 - நிலையான சொத்துக்களுக்கு 10% கிரயத்தில் பெறுமானத்தேய்விடுக.
 - பங்குடமையிலிருந்து பரன் 31.12.2006 இல் விலகுகிறார். விலகும்போது தன் மதிப்பு 50,000 ரூபா. இதனை பங்காளர்கள் மூலதனக்கணக்கினூடாக சீராக்க இணங்கினர். பரனுக்கு சேரவேண்டியதில் 50% காசாக செலுத்தப்பட்டு மிகுதி கடன்கணக்குக்கு மாற்றுவது எனத் தீர்மானிக்கப்பட்டது.

வேண்டப்படுவது :-

- உற்பத்தி வியாபார, இலாபநட்ட, இலாபநட்டப் பகிர்கணக்கு. (31.12.2006 இல் முடிவடைந்த ஆண்டுக்குரியது)
- பங்காளர் மூலதனக்கணக்கு, நடைமுறைக்கணக்கு.
- ஐந்தொகை 31.12.2006 இல்

- ராஜா நிறுவனத்தின் 2008 ஜனவரி மாதத்தில் இடம்பெற்ற நடவடிக்கைகளைத் தரப்படுகின்றன.
 - கடனுக்கு கொள்வனவு செய்த பண்டங்கள் ரூபா 18,000
 - 20,000 கிரயமான மோட்டார் வாகனமொன்று உரிமையாளரின் சொந்த வங்கிக்கணக்கின் காசோலை வழங்கப்பட்டு வாங்கப்பட்டது. இதன் எஞ்சும் பெறுமதி 20,000 ரூபா, பாவனைக் காலம் 6 வருடங்கள்.
 - 9000 ரூபா கொள்விலையான பண்டங்கள் 12,000 ரூபாவுக்கு விற்கப்பட்டது.
 - வங்கியில் 30,000 ரூபா கடன் பெறப்பட்டு அதில் 20,000 ரூபா கடனும் வட்டி 300 ரூபாவும் செலுத்தப்பட்டது.
 - அலுவலகத் தேவைக்கு பயன்படுத்திய பண்டங்கள் 4,000 ரூபா.
 - டிசெம்பர் 2007 ஆம் மாதத்திற்கான மின் கட்டணம் 6,000 ரூபா செலுத்தப்பட்டன. மேற்குறித்த நடவடிக்கைகளை பின்வரும் சமன்பாட்டில் அதிகரிப்பு / குறைவு என பெறுமதியுடன் காட்டுக.

$$\text{நடைமுறையல்லாச் சொத்துக்கள்} + \text{நடைமுறைச் சொத்துக்கள்} = \text{மூலதனம்} + \text{பொறுப்புக்கள்}$$

ஆ) அனுசியா கம்பனியின் ஒக்டோபர் 2007இற்கான வங்கிக் கூற்று ரூபா 27,500 ஐ மேலதிகப்பற்று மீதியாகக் காட்டியது. ஆனால், காசேட்டின் வங்கி திரல் 18200 ரூபாவை செலவு மீதியாகக் காட்டியது.

வேறுபாட்டிற்கான காரணங்கள் வருமாறு :-

தேறாத காசோலைகள் ரூ. 12,800,
சமர்ப்பிக்கப்படாத காசோலைகள் ரூ. 4000, வங்கிக்கட்டணம் ரூ. 200, மேலதிகப்பற்று வட்டி - ரூ. 1300, நேர வைப்பு ரூபா 350, பங்குலாபம் - 150, வங்கி தவறுதலாக செலவு வைத்தது ரூ. 500.

வேண்டப்படுவது :-

- காசேட்டு வங்கி நிரலின் சீராக்கம்
- ஒக்டோபர் 2007 இற்கான வங்கி கணக்கிணக்கக் கூற்று

- 2007 ஜனவரியில் தர்மராஜா நிறுவனத்தின் கடன்பட்டோர் கட்டுப்பாட்டுக்கணக்கிலுள்ள மீதிகள் வரவு மீதி - 84,000 ரூபா
செலவு மீதி - 1,800 ரூபா

31.12.2007 இல் முடிந்த வருடக் கொடுக்கல் வாங்கல்கள்.

	ரூபா
விற்பனை	169,000
காசு விற்பனை	39,000
காசோலைப் பெறுவனவு	47,000
பணப் பெறுவனவுகள்	33,000
கடன் கொடுநர் பேரேட்டுக்கு மாற்றம்	3,700
கடன்பட்டோரில் அறவிட வட்டி	500
உத்திரும்பல்	9,500
மறுக்கப்பட்ட காசோலை	7,000
31.12.07 இல் செலவு மீதி	2,900

மேலதிகத் தகவல்கள் :-

கடன்பட்டோரது கட்டுப்படுத்தும் கணக்கு மீதியும், பட்டியல் மீதியும் இணக்கம் கொள்ளவில்லை. ஏடுகளை ஆராய்ந்து பின்வரும் தகவல்கள் திரட்டப்பட்டன.

- கடன்பட்டோர் ஜெயராஜ் தந்த காசு 7600 ரூபா அவரது ஆள்குறி கணக்கில் வரவு வைக்கப்பட்டது.
- விற்பனை நாளேட்டின் கூட்டுத்தொகை 7400 ரூபாவால் குறைத்துக் கணக்கிடப்பட்டது.
- உத்திரும்பல் 3,750 ரூபா நாளேட்டில் பதியப்படாது நேரடியாகப் பேரேட்டுக் கணக்குகளில் பதியப்பட்டது.
- காசு விற்பனை 4,700 கடன் விற்பனையாகக் கருதப்பட்டு நாளேட்டில் பதியப்பட்டது.
- கொடுத்த காசு 3,400 ரூபா கட்டுப்பாட்டுக்கணக்கில் விடுபட்டது.

வேண்டப்படுவது :-

- திருத்த முன் கடன்பட்டோர் கட்டுப்பாட்டுக் கணக்கு.
- கடன்பட்டோர் கட்டுப்பாட்டுக்கணக்கில் திருத்தங்கள்.
- திருத்திய கட்டுப்பாட்டுக்கணக்கு மீதியுடன் கடன்பட்டோர் பட்டியல் மீதியை இணைக்கும் கூற்று.

- ஒரு சில்லறை வியாபாரத்தின் உடமையாளரான ரன்பன்டா தமது வியாபாரக் கொடுக்கல் வாங்கல்களைப் பதிவு செய்வதற்காகப் பயிற்சி யாளரான கணக்குப் பதிவாளர் ஒருவரை அமர்த்தியிருந்தார். வரிவிவரத்திட்டத்தை உரிய தேதிக்கு முன் சமர்ப்பிப்பதற்காக அவர் இறுதிக் கணக்குகளைத் தயாரிக்கமுறா கணக்குப் பதிவாளரைப் பணித்தார். பின்வரும் ஐந்தொகை 2007 டிசம்பர் 31 இல் தயாரிக்கப்பட்டது.

பொறுப்புக்கள்	ரூபா	நிலையான சொத்து	கொள்விலை	திரண்ட தேய்வு	தேதிய பெறுமதி
2007.01.01 இல் மூலதனம்	60,000	பெ. இயந்திரசாதனம்	40,000	12,000	28000
ஆண்டுக்கான இலாபம்	13,150	மோட்டார் கார்கள்	22,500	4100	18400
எட்டுக் கடன்	30,000	தளபாடம்	15,000	2,000	13000
கடன் கொடுத்தோர்	7,250		77,500	18,100	59400
		முதலீடுகள்			21000
		பண்டக்கையிருப்பு			11500
		கடன்பட்டோர்			9300
		வங்கியிலுள்ள காசு			9200
					110400

இக் கணக்குகளை மீள்பார்வையிட்டு எவ்வெனும் தவறுகள் இருப்பின் அவற்றை திருத்துமாறு ரன்பன்டா உம்மைக் கேட்டுக் கொண்டார். பரீசீலனை செய்ததில் பின்வருமாறு சீராக்கங்கள் கணக்கிற் கொள்ளப்படவில்லை என்பதை நீர் காண்கின்றீர்.

- மோட்டார் கார்களை பழுதுபார்த்த செலவு ரூபா 1500, மோட்டார் வாகனக் கணக்கு ஒரு மூலதனச் செலவாகப் பதியப்பட்டது. தேய்மான வீதம் ஆண்டுக்குக் கொள்விலையில் 5% ஆகும்.
- ஐயக்கடன்களின் பொருட்டுக் கடன்பட்டோரின் 5% ஏற்பாடு செய்ய வேண்டும் என்ற முடிவு புறக்கணிக்கப்பட்டுள்ளது.
- 2007.12.31 இல் பெற்றுக்கொள்ளப்பட்ட ரூபா 1,000 இற்கான கொள்வனவு விலைப்பட்டியல் கொள்வனவு நாளேட்டில் பதிவு செய்யப்பட்டுள்ளது. இந்தப் பண்டங்கள் 2008.01.15 இலேயே வியாபார நிலையத்துக்கு கிடைத்தன. வியாபார நிலையத்தினர் பெற்றுக்கொள்ளப்பட்டிராத எந்தக் கையிருப்பையும் கணக்கிற் கொள்ளாது விடுவதே இந்த வியாபாரத்தின் கொள்கையாகும்.
- கட்டடத்தின் வாடகையாக 2007.01.01 இலிருந்து ஆரம்பமாகும் 15 மாதகாலப் பகுதிக்கு ரூபா 4,800 கொடுக்கப்பட்டுள்ளது. கொடுக்கப்பட்ட முழுத்தொகையும் இந்த ஆண்டின் இலாபநட்டக் கணக்குகளுக்கு வரவு வைக்கப்பட்டுள்ளது.
- எட்டுக்கடன் 2007.01.01 இல் 12% வட்டிக்கு எடுக்கப்பட்டது. வட்டி தொடர்பாக கணக்கேடுகளில் ஒரு பதிவு செய்யப்பட்டிருக்க இல்லை. நீர் தயாரிக்க வேண்டியவை:-
 - குறித்த ஆண்டுக்கான இலாபத்திற்குத் தேவையான சீராக்கங்களைக் காட்டும் ஒரு கூற்று.
 - 2007 டிசம்பர் 31 இல் உள்ளவற்றான திருத்திய ஐந்தொகை?

இவ் இழிழி, மாவட்ட ரீதியாக முன்னிலையில் திகழும் ஆசிரியர்களினதும், மூத்த அனுபவமிக்க ஆசிரியர்களினதும் மாதிரி வினாத்தாள்கள் தொடர்ச்சியாக வெளிவரவுள்ளது.

கடந்தவாரத் (27.01.2009) தொடர்ச்சி.....

- * இரு பிரதான பிரதிநிதித்துவ முறைகளுடன் சம்பந்தப்படும் சில இயல்புகள் கீழே தரப்பட்டுள்ளன.
அ - சிதைத்த வாக்குகளின் எண்ணிக்கைக்குச் சமமான ஆசனங்களின் எண்ணிக்கை நேரடியாகத் தொடர்புபடுகிறது.
ஆ - கணிசமானவாவு எண்ணிக்கையான வாக்காளர்கள் எத்தகைய பிரதிநிதித்துவத்தையும் பெறத்தக்க வாய்ப்பு உண்டு.
இ - கட்சித் தலைவர்களை உயர்நிலையில் வைக்கின்றது.
ஈ - சிறு கட்சிகளுக்குப் பாதகமாய் உள்ளது.
உ - பிரதேசத்தினைப் பிரதிநிதித்துவப்படுத்தும் சிந்தனை அடிப்படையாகக் கொண்டது.
ஊ - கட்சிகளைப் பிரதிநிதித்துவப்படுத்தும் முறையை அடிப்படையாகக் கொண்டது.
21. விகிதசம முறைக்குப் பெறுமதியான சேர்மானத்தைக் காட்டுக.
1) அஇஈஊ. 2) ஆஇஈ. 3) அஇஊ. 4) அஆஇஊ.
(.....)
22. பெரும்பான்மை முறைக்குப் பெறுமதியான சேர்மானத்தைக் காட்டுக.
1) ஆஇஈ. 2) ஈஊ. 3) இஈஊ. 4) ஆஈஊ.
(.....)
23. குடிமுனைக்குப் பொருத்தமான சேர்மானத்தை அடையாளம் காண்க.
அ - சட்டங்களை இயற்றுவதிலும் மக்களுக்கு வாய்ப்பளிப்பதிலும் அது வழிகாட்டுகின்றது.
ஆ - சட்டசபைகளின் அதிகாரத்தைக் குறைக்கின்றது.
இ - மக்களின் அதிகாரத்தை வெளிக்காட்டுகின்றது.
ஈ - அது முறைப்பாடு செய்வது போன்றது.
1) அஆஇ. 2) ஆஇஈ. 3) இஈஅ. 4) அஆஈ.
(.....)
24. பாசிச அரசுக்குப் பொருத்தமான சேர்மானக் கூற்றுக்களை அடையாளம் காண்க.
அ - சமூகத்தினை இராணுவ மயமாக்கல்.
ஆ - தனியார் சொத்துரிமையினை ஏற்றல்.
இ - தலைவர்களுக்கு மேன்மையான இடம் வழங்குதல்.
ஈ - சட்டத்தின் ஆட்சி நிலவதல்.
1) அஆஇ. 2) ஆஇஈ. 3) இஈஅ. 4) ஈஅஆ.
(.....)
25. பின்வருவனவற்றில் அரசியல் யாப்பு ஒன்றில் உள்ளடக்கப்படுவதற்குக் குறைந்தளவு வாய்ப்புடையது எது?
1) அரசாங்கத் தாபனங்களுக்கிடையில் அதிகாரப் பங்கீடு.
2) அரசியல் யாப்பைத் திருத்தும் வழிமுறை.
3) நிருவாக அதிகாரிகளைச் சேர்த்துக்கொள்ளும் வழிமுறை
4) பிரதிநிதித்துவ முறை.
(.....)
26. நெகிழா யாப்புக்கு அதிகம் பொருந்தும் கூற்றைத் தெரிவுசெய்க.
1) யாப்பை விரும்பியவாறு மாற்றலாம்.
2) யாப்பை மாற்றுவதற்கு விசேட வழிமுறையைப் பின்பற்றவேண்டும்.
3) யாப்பு பிரதேசங்களின் உரிமைகளை உறுதிப்படுத்துகின்றது.
4) யாப்பை ஒருபோதும் மாற்ற இயலாது.
(.....)
27. சோவியத் அரசாங்க முறைக்குப் பொருத்தமான சேர்மானத்தைத் தெரிவுசெய்க.
அ - அது சட்டரீதியாகவேனும் வலுநோக்கி கொள்கையை ஏற்றுக்கொள்ளவில்லை.
ஆ - சோவியத் யூனியனின் பிராந்திய அலகுகள் பிரிந்துசெல்லும் உரிமையைப் பெற்றிருந்தன.
இ - நீதிபதிகள் சட்டத்தறையாலும் நியமிக்கப்பட்டனர்.
ஈ - அங்கு பல கட்சித் தேர்தல்கள் இடம்பெற்றன.
1) அஆஇ. 2) ஆஇஈ. 3) இஈஅ. 4) ஈஅஆ.
(.....)
28. பிரித்தானிய அரசாங்க முறைக்குப் பொருத்தமான சேர்மானத்தைத் தெரிவுசெய்க.
அ - மகாராணியார் ஆளுகிறார். ஆனால், ஆட்சி புரிவதில்லை.
ஆ - இன்று பிரபுக்கள் சபையில் ஆயுட்காலப் பிரபுக்களே பெரும்பான்மையினராவர்.
இ - பாராளுமன்றம் நிறைவேற்றும் சட்டங்கள் நீதிப்புரையாவுக்கு உட்படுகின்றன.
ஈ - பிரதமர் தமது அமைச்சரவையைப் பாராளுமன்றத்திலிருந்து தெரிவுசெய்யப்படவேண்டும்.
1) அஆஇ. 2) ஆஇஈ. 3) ஆஈஅ. 4) ஈஅஇ.
(.....)
29. பிரான்சிய ஜனாதிபதிக்குப் பொருத்தமான சேர்மானத்தைத் தெரிவுசெய்க.
அ - தேசியப் பேரவையைக் கலைப்பதற்குத் தந்துணியு அதிகாரம் உண்டு.
ஆ - ஜனாதிபதி அமைச்சரவைக்குத் தலைமை தாங்குகின்றார்.
இ - அவர் மக்களால் நேரடியாகத் தெரிவுசெய்யப்படுகின்றார்.
ஈ - அரசுப் பேரவையும் அரசியலமைப்புப் பேரவையும் மேற்கொள்ளும் செயற்பாடுகளின் சட்டரீதியான தன்மையை மேற்பார்வை செய்கின்றார்.
1) அஆஇ. 2) ஆஇஈ. 3) இஈஅ. 4) ஈஅஆ.
(.....)
30. மீள அழைப்பிற்குப் பொருத்தமான சேர்மானத்தைத் தெரிவுசெய்க.
அ - அது அரசாங்க அதிகாரிகளைப் பதவிநீக்கம் செய்யும் நடைமுறை ரீதியானதும் செயற்றிறன் மிக்கதுமாக ஒரு முறையாகும்.
ஆ - இம்முறை பின்பற்றப்படும் நாடுகளில் அதன் பிரயோகம் பிரதேச அல்லது மாண்புமிகு மட்டங்களுக்கு மாத்திரம் மட்டுப்படுத்தப் பட்டிருக்கும்.
இ - அது அரசாங்க அதிகாரிகளை நீக்குவதற்கு வாக்காளர்களுக்கு அதிகாரத்தை வழங்கும் ஒரு முறையாகும்.
ஈ - அதிகாரிகள் அதிக பொறுப்புடன் செயற்படுவதற்கு உதவுகிறது.
1) அஆஇ. 2) ஆஇஈ. 3) இஈஅ. 4) ஈஅஆ.
(.....)
31. சமஷ்டித் தத்துவங்களை விவரிப்பதில் பிழையான கூற்று.
1) யாப்பினூடாக அரசாங்க அதிகாரத்தை முறைப்படி பிரித்தல்.
2) அரசாங்கத்தின் பிராந்திய அலகுகளை உருவாக்குதல்.
3) தத்தமது அலகினால் நிறைவேற்றப்பட்ட சட்டங்களுக்கு மாத்திரம் மக்கள் பணிந்து நடப்பர்.
4) யாப்பின் அதி உயர் தன்மையான ஒரு முன்னணி இயல்பு.
(.....)
32. கீழே தரப்படும் சமஷ்டி முறைகள் தொடர்பான பிழையான கூற்றுக்களை அடையாளம் காண்க.
1) இந்திய யாப்பு மிகவும் பலம் வாய்ந்தது. மத்திய அரசாங்கம் ஒன்றிற்கு இடமளிக்கிறது.
2) சோவியத் யூனியனில் பிராந்திய அலகுகள் பிரிந்துசெல்ல உரிமை இருந்தது.
3) கனடாவில் பிராந்திய அலகுகள் எல்லா எஞ்சிய அதிகாரங்களும் வழங்கப்பட்டுள்ளன.
4) ஐக்கிய அமெரிக்காவில் சென்றசபை சம அரசுகளைப் பிரதிநிதித்துவப்படுத்துகின்றது.
(.....)
33. தெய்வீக உரிமைகள் கோட்பாட்டிற்குப் பயன்படுத்த முடியாத கூற்று எது?
1) கடவுளுக்கு மட்டுமே கணக்குச் சொல்லவேண்டிய ஆட்சியாளர்கள்.
2) ஒரு துஷ்ட அரசன் கடவுளின் தண்டனையைப் பெறுகிறான்.
3) அரசர்களின் அதிகாரங்களைப் பாராளுமன்றங்கள் கட்டுப்படுத்துகின்றன.
4) அரசுக்கு அடிப்பணியில் மக்களின் கடமையாகும்.
(.....)

34. நூலாசிரியர்களோடு பொருந்தக்கூடிய சரியாகச் சேர்மானமாகின்ற சோடியனைக் காண்க.
அ - இயல்பில் மனிதன் ஓர் அரசியல் பிராணியாவான் - அரிஸ்டோட்டில்.
ஆ - மனிதன் சுதந்திரமாகப் பிறக்கின்றான். ஆனால், எல்லா இடங்களிலும் அவன் சங்கிலியால் கட்டப்பட்டிருக்கின்றான் - மக்கியவல்லி.
இ - ஆட்சியாளன் நரியையும் சிங்கத்தையும்போன்று நடிக்கவேண்டும் - ருசோ.
ஈ - இயற்கை நிலையில் வாழ்வு தனியானது. மனவெறுப்பூட்டுகின்ற மிருகத்தன்மையானது. போட்டியானது, குறுகியது - தோமஸ் ஹொப்ஸ்.
1) அஆ. 2) ஆஇஈ. 3) இஈ. 4) அஈ.
(.....)
35. அரசின் இயல்பு சரியாகப் பொருந்துகின்ற அரசு மாதிரியை அடையாளம் காண்க.
1) நிலப்பிரபுத்துவ ஆதிக்கம் - மானியமுறை
2) போட்டிக்கட்சி முறை - சோசலிஷ் அரசு
3) பாட்டாளியின் அதிகாரம் - பாசிச அரசு
4) அரசின் புகழ் பாடுதல் - தாராணமை ஜனநாயக அரசு
(.....)
- * 36 தொடக்கம் 40 வரையான வினாக்கள் ஒவ்வொன்றினதும் இரு கூற்றுக்கள் இடம்பெறுகின்றன. ஒவ்வொரு வினாவிலும் இடம் பெறும் சோடக் குற்றக்குப் பொருத்தமானவிவரிப்புகளை கீழே தரப்பட்டுள்ள அட்டவணைமையிலிருந்து தெரிவு செய்து ஒவ்வொரு வினாவிற்கும் எதிரேயுள்ள அட்டப்புகுறிக்குள் 1, 2, 3, 4 என அடையாளம் இடுக.
- | கூற்று-1 | கூற்று-11 | இலக்கம் |
|----------|-----------|---------|
| உண்மை | உண்மை | 1 |
| பொய் | உண்மை | 2 |
| உண்மை | பொய் | 3 |
| பொய் | பொய் | 4 |
36. கூற்று-1 : ஐக்கிய அமெரிக்க உயர் நீதிமன்றக்கு நீதிப்புரையாவு அதிகாரமுண்டு.
கூற்று-11 : காங்கிரஸ் மூன்றில் பெரும்பான்மை மூலம் ஜனாதிபதியின் அதிகாரத்தை நிராகரிக்க முடியும்.
(.....)
37. கூற்று-1 : பிரான்சிய ஜனாதிபதி தமது சுயவிருப்பில் அமைச்சர்களை நியமிக்க முடியாது.
கூற்று-11 : பிரான்சின் அரசியலமைப்புப் பேரவை அந்நாட்டின் சட்டவாக்கத்தை முற்புரையாவு செய்யும் அதிகாரம் பெற்றுள்ளது.
(.....)
38. கூற்று-1 : பிரித்தானியாவில் கீழ்மன்றம் நிறைவேற்றிய மசோதாக்களை பிரபுக்கள் சபை காலதாமதப்படுத்த முடியும்.
கூற்று-11 : இங்கிலாந்துப் பாராளுமன்றம் நிருவாகத்துறையைக் கட்டுப்படுத்துகின்றது.
(.....)
39. கூற்று-1 : இந்திய மாநில அரசுகள் இராஜ்ய சபையில் சமமான பிரதிநிதித்துவத்தை பெறுகின்றன.
கூற்று-11 : இந்திய ஜனாதிபதியை குற்றப்பிரேரணை ஒன்றின் மூலம் பதவியிலிருந்து நீக்க முடியும்.
(.....)
40. கூற்று-1 : சோவியத் யூனியனின் பிரிசீடியம் சுப்ரீம் சோவியத் மன்றினால் தெரிவு செய்யப்பட்டது.
கூற்று-11 : சுப்ரீம் சோவியத் மன்றம் சமமான அதிகாரங்களுடைய இரு மன்றங்களைக் கொண்டமைந்திருக்கின்றது.
(.....)

VIII ஆம் பக்கத்தொடர்ச்சி.....

02. ஆ 1) சாரதா எனும் பாத்திரம் பற்றிய உமது மனப்பதிவை வெளியிடுக.
2) இவ்வுரைப் பகுதியில் விபரிக்கப்படும் ராமுவின் மன உணர்வு யாது?
3) அவனை இம்மன உணர்வுக்கு ஆட்படுத்திய பின்னணியை விளக்குக.
4) இவ்வுரைப்பகுதியில் வெளிப்படும் நடைச்சிறப்பை விளக்குக.
- பகுதி - 11
03. மாணம் எனும் அதிகாரத்தில் திருவள்ளுவர் கூறுவனவற்றை ஆதாரமாகக்கொண்டு கீழ்வருவனவற்றைத் தெளிவுபடுத்துக.
அ) மானமுள்ளோரின் சிறப்பியல்புகள்.
ஆ) தாழ்வான செயல்களால் உண்டாகும் இழிவு.
இ) மானத்தின்பொருட்டால் உயிர் விடுவதன் சிறப்பு.
04. திருவடி சூட்டுப் படலத்தில் பரதன் இராமனைக் காணும் பகுதியில்,
அ) பரதன் நிலை கண்டு இராமன் உற்ற துயர்
ஆ) தந்தையின் மரணம் கேட்டு இராமன் அடைந்த வேதனை
இ) வசித்த முனிவர் இராமனுக்குக் கூறிய ஆறுதல் மொழிகள் என்பவற்றை விளக்குக.
05. இராஜநாயகத்தில்,
அ) கஸ்துல்லாவின் புகழ்
ஆ) கஸ்துல்லான் (அலை) வாயிலாக வெளிப்படுத்தப்படும் நபி (ஸல்) அவர்களின் புகழ்
இ) உவமானங்களைக் கையாள்வதில் வண்ணக்களஞ்சியப் புலவரின் திறமை என்பவற்றை எடுத்துக்காட்டுக.
06. "திருத்தொண்டர் புராண வசன முகவுரை" என்ற கட்டுரையை ஆதாரமாகக் கொண்டு,
அ) சைவர்களின் பண்புகளாக ஆசிரியர் எடுத்துக்காட்டுபவை
ஆ) பெரியபுராணத்தின் சிறப்புகள்
இ) கையாளப்பட்டுள்ள மொழிநடை என்பவற்றை விளக்குக.
07. அ) நிர்மலானந்தரின் தவச் சிறப்பு
ஆ) இக்கதையின் ஊடாக வெளிப்படுத்தப்படும் தத்துவ உண்மை
இ) நடை குறித்து உமது அபிப்பிராயம்
ஆகியன கு.அழகிரிசாமியின் தவப்பயன் சிறுகதையில் இழையோடும் ஆற்றினைத் தெளிவுபடுத்துக.
08. அ) வெண்ணிலாவில் பாரதியின் கவர்ச்சி ஆற்றலையும்
ஆ) காணி நிலம் வேண்டும் என்ற கவிதையில் பராசக்தியிடம் பாரதி வேண்டுவனவற்றையும் பாரதி பாடல்களை அடிப் படையாகக்கொண்டு விளக்குக.
09. பின்வருவனவற்றுள் எவையேனும் மூன்றினை விளக்குக.
அ) 'கொங்குதேர் வாழ்க்கை'யில் தலைவியின் மீது தலைவன் கொண்டுள்ள காதல் சித்திரிக்கப்படும் விதம்.
ஆ) பெட்டிக்கடை நாரணன் கவிதையில் இடம்பெறும் குறியீட்டுப் படிமங்கள்.
இ) தவப்பயன் சிறுகதையின் பொருத்தப்பாடு.
ஈ) "பிணைக்கப்பட்ட கடனை விட வெளி முதலீட்டை வரவேற்பதே நலம்" என்ற கட்டுரையில் வெளி முதலீட்டை வர வேற்பதால் ஏற்படும் நன்மைகள்.
உ) மகாத்மா காந்தி பஞ்சகத்தில் காந்தியின் மீது பாரதி கொண்ட பற்று.

- நிறைவு பெற்றது -

கல்விச்சுடர் தொடர்பாக மேலதிக தகவல்களுக்கு தொடர்பு கொள்ள வேண்டிய முகவரி.
ஆசிரியர், உதயன்-கல்விச்சுடர்,
இல.361, கஸ்தூரியார் வீதி, யாழ்ப்பாணம்.
தொலைபேசி :- 071-6850005, 021229933, 071-4273035
தொலைநகல் :- 021229944
மின்னஞ்சல் :- newkalvisudar@yahoo.com

காப்பிடப்பட்ட (ஹெட்ஜிங் க்கு கொள்வனவு) உடன்படிக்கையின் ஹெட்ஜிங் விலையின் Hedging Agreement and Oil Price

தொகுப்பு:-
V.முரளிதாஸ் B.A.Hons (Eco.Sp), M.A (Eco),
St.Benedict's College, Col-13.

உயர்தர மாணவர்களுக்கான ஒரு சிறப்புப் பார்வை

இன்று எண்ணெய் விலைபற்றியும் எண்ணெய் தொடர்பான ஹெட்ஜிங் (Hedging Agreement) உடன்படிக்கை பற்றியும் எல்லோராலும் பேசப்பட்டுவருகிறது. இந்த எண்ணெய் பிரச்சினை உயர் நீதிமன்றம் தலையிடும் அளவுக்கு முக்கிய விடயமாகி விட்டது. இதுபற்றி மாணவர்களுக்குத் தெளிவான விளக்கத்தை அளிப்பதற்காக ஆசிரியர் முரளிதாஸ் இந்தக் கட்டுரையை வரைந்துள்ளார். இது குறிப்பாக வர்த்தக, கலைப்பிரிவு மாணவர்களுக்குப் பரிசீலனையில் கைகொடுக்கும் வாய்ப்பு கல்விக்கூடரின் நம்பிக்கை. இக்கட்டுரையை கூடர்ஓவி-கல்விக்கூடருக்கு விசேடமாக வழங்கிய ஆசிரியர் முரளிதாஸ், மாணவ உலகின் நன்றிக்கூரியவர்.

* பொருளாதார நெருக்கடி - சிறு அறிமுகம்

அண்மைக்காலமாக உலகளாவிய ரீதியில் பொருளாதாரத் துறையானது பாரிய நெருக்கடியினை எதிர்கொண்டு வருகின்றது. இவற்றின் சர்வதேச நிதி நெருக்கடியும் அதன் தாக்கங்களும் மற்றும் எரிபொருட்களின் விலை அதிகரிப்பும் அதில் ஏற்பட்ட மாற்றங்கள், உணவு நெருக்கடிகள் என பல்வேறுபட்ட நெருக்கடிகளுக்கு தீர்வு காணவேண்டிய தேவை உலக நாடுகளுக்கு ஏற்பட்டுள்ளது. இதற்கென பல்வேறு ஆராய்ச்சிகள், மகாநாடுகள் மற்றும் உடன்படிக்கைகள் என நாடுகளுக்கிடையே மற்றும் நிறுவனங்கடையே ஏற்படுத்தப்பட்டுள்ளது. இதற்கமைய வாஷிங்டனில் "ஜி - 20" (G 20) உச்சி மாநாடு (டிசம்பர் 26, 2008) நடைபெற்றபொழுது அதில் பங்கேற்ற தலைவர்கள் ஒன்றிணைந்து செயற்படவேண்டிய முக்கியத்துவம் குறித்தும், ஏற்படுத்தப்படவேண்டிய ஒப்பந்தம் குறித்தும் பிரஸ்தாபிக்கப்பட்டது.

இவ்வாறே உணவு நெருக்கடியினை போக்குவதற்கு உணவு இருப்பினை அதிகரித்துக் கொள்வதற்கும் பல்வேறு ஆகக் கூடுதலான நடவடிக்கைகள் தொடங்கப்பட்டுள்ளது அத்துடன் இதற்கான காரணங்களையும் தெளிவாக அறிந்து கொள்வதும் முக்கியமானதாகவுள்ளன. அண்மைக்காலங்களாக ஆசியப்பிராந்தியத்தில் உள்ள முக்கிய நாடுகளாகக் கொள்ளக்கூடிய சீனா மற்றும் இந்தியாவானது துரிதமாக பொருளாதாரத்திலும் மற்றும் இதர துறைகளிலும் ஒரு உந்துதலான அத்தேசிக்கான வளர்ச்சியைக் கண்டு வருகின்றது. இவை அதிக சனத்தொகையைக் கொண்ட நாடுகள் ஆகும். இம்மக்கள் தற்பொழுது நல்லதொரு பொருளாதார முன்னேற்றத்தால் பொருளாதார சுபிட்சத்தை அனுபவிக்கத்தொடங்கியுள்ளனர். இதனால் வறுமையின் பிடியில் இருந்த மக்கள் அதிலிருந்து மீண்டுவதற்குத் தொடங்கியுள்ளனர். இதனால் குறிப்பாக மத்திய தர வர்க்கத்தினது நுகர்வு நடத்தையில் ஒரு முன்னேற்றம் ஏற்பட்டுள்ளது. அதாவது தரமான, போஷாக்கான உணவுக்கான கேள்வியினை ஏற்படுத்துகின்றபொழுது உணவுக்கான மொத்தக்கேள்வியில் ஓர் அதிகரிப்பினை உணவு முடிந்தபின்னர் அது மத்தியமன்றி உலக சந்தையில் எண்ணெய் விலையானது அதிகரித்தபடியினால் புதிய தீர்வுத்திட்டத்தினை காண விளைகின்ற பொழுது (Bio Gas) உயிரியல் வாயுக்கான தேவை, முக்கியத்துவம் உணரப்பட்டுள்ளது.

எனவே அதிகளவு உயிரியல் வாயு உற்பத்திக்காக உணவுப்பயிர்கள் எரிபொருள் உற்பத்தி நோக்கிப் பயன்படுத்தப்பட்டு வருகின்றமையும் உணவு பற்றாக்குறையும் பிரதான காரணிகளில் ஒன்றாக அமைகின்றது.

அது மாத்திரமன்றி மாறிவரும் காலநிலைகள், இயற்கை அளர்த்தங்களான குறாவளி, வரட்சி, தீயழிவு, சுமாய் அதிகரித்து வரும் உள்நாட்டு வெளிநாட்டு யுத்தம், இனக்கலவரங்களால் அதிகளவு பெறுமதிவாய்ந்த வளங்கள் நசுமக்கப்படுவதும் பெருமளவு விவசாய நிலங்கள் பயிற்செய்கைகளுக்கு உட்படுத்தப்படாமல் போன்றவையும் உணவு நெருக்கடிக்கான காரணிகளில் முக்கியம் வாய்ந்தவையாக குறிப்பிடப்படுகின்றது.

* ஹெட்ஜிங் உடன்படிக்கை ரத்து இலங்கைப் பெற்றோல் விலையும்

எது எவ்வாறு இருந்தபொழுதிலும் இலங்கையைப் பொறுத்தவரையில் தற்பொழுது மிகவும் பரபரப்பாகப் பாராளுமன்றம் தொடக்கம் பட்டி தொட்டி வரை முக்கிய இடம்பிடித்திருப்பதுடன் அரசின் அமைச்சரது பதவியினைக் கூட அதிரவைக்கும் வகையில் இடம்பெற்றிருப்பதுதான் "ஹெட்ஜிங் உடன்படிக்கை" விவகாரம் இவ் உடன்படிக்கையை இரத்துசெய்து எரிபொருள் விலையை குறைத்து பெற்றோல் விலையை லீற்றர் 100/ = விலைக்கு விற்பனை செய்ப்புற உத்தரவிட்டது. இவ் உயர் நீதிமன்ற தீர்ப்புக்கு மதிப்பளிக்கும் வகையில் இந்தியன் ஓயில் கூட்டுதலாபத்தின் (Indian Oil Corporation) துணை நிறுவனமான (LIOC) (Lanka Indian Oil Corporation) தனது பெற்றோல் விலையை லீற்றர் 100/ = விற்பனை செய்வது என்ற முடிவினை 19-12-2008 நள்ளிரவு முதல் அமுல்படுத்தியது. ஆனால், இலங்கை பெற்றோல் கூட்டுதலாபம் (Cey Petroleum Corporation - CPC) தனது விலையை குறைக்க முன்வரவில்லை. ஆனால், (LIOC) தனது பெற்றோலின் விலையை 18 சதவீதத்தால் குறைத்திருந்தது. இதன் விளைவாக (LIOC) எரிபொருள் நிரப்பு நிலையங்களில் நீண்ட காலமாக இருந்த மக்கள் எரிபொருள்க்காக காத்து நிற்கவேண்டிய ஏற்பட்டதுடன் அதிக பெற்றோல்க்கான கூடிய கேள்வியும் ஏற்படத் தொடங்கியது. இதனால் எரிபொருள் நிரப்பு நிலையத்தில் இவற்றின் நிரம்பலும் குறைவடையத் தொடங்கியது. இதேவேளை (LIOC) இலங்கையில் நான் ஒன்றுக்கு சுமார் 5 இலட்சம் லீற்றர் பெற்றோலை விற்பனை செய்து வருவதாகவும் இது சுமார் 20 சதவீத சந்தைக் கேள்வி ஆக இருக்கக்கூடுமெனக் குறிப்பிடுகின்றது.

இது இவ்வாறு இருக்க CPC ஆனது பெற்றோல் லீற்றர் ஒன்று 122/ = என்ற உறுதியான விலையை கொண்டு வருகிறது. இதனால் இவ்நிரப்பு நிலையங்களில் எரிபொருள்க்கான கேள்வி பெருமளவாக சடுதியாக வீழ்ச்சி கண்டது.

இந்நிலைமையினை முன் நிறுத்தி நாட்டின் எதிர்க்கட்சிகள் பல் வேறுபட்ட வாதப்பிரதி வாதங்களிலும் அறிக்கைகள், பத்திரிகையாளர் மாநாடு என்றும், வீதியில் இறங்கிப் போராட்ட போவதாகவும் குடு பிடிக்கும் சமர்ச்சார மாக இன்று முக்கியம் பெறுகின்றது.

அது மாத்திரமன்றி பொருளாதார பிரச்சினை ஒருபுறமிருக்க உயர்நீதி மன்றத்தின் உத்தரவை நடைமுறைப்படுத்தாமல் போன்ற சட்டப் பிரச்சினையும் குடுபிடிக்கத் தொடங்கியுள்ளது. இது தொடர்பாக வழக்கறிஞர்கள் கூடி ஆராய்ந்து வருகின்றனர். எது எவ்வாறு இருந்தபோதும் பாராளுமன்றத்தின் அமைச்சர்கள் தான் முடிவெடுக்கப்போகின்றனர் என்று பலதரப்பில் பல்வேறு கோணங்களிலும் பிரஸ்தாபிக்கப்பட்டு வருகின்றது. தற்பொழுது CPC ஆனது தனது எரிபொருள் விலையை குறைக்க முன்வந்துள்ளது. இவ்வாறு எரிபொருள்களின் விலைகளானவை முக்கியத்துவம்பெற்று விளங்குவதற்கு காரணம் இன்றைய காலத்தில் பொருளாதாரத்தின் இதயம் என அழைக்கப்படுவது பொருளாதார வளர்ச்சியாகும். இப்பொருளாதார வளர்ச்சிக்கு ஓர் இயந்திரம் போல் அமைவது எரி பொருட்கள் என அழைக்கப்படுகின்றது.

* எரிபொருள் விலை அதிகரிப்பினால் ஏற்படும் பொருளாதார விளைவுகள்

எரிபொருட்களின் விலைகளில் ஏற்படுகின்ற அதிகரிப்பானது பொருளாதாரத்தின் சகல துறைகளையும் பாதிப்பதையும் செய்கின்றது. எவ்வாறெனில் எரிபொருள் விலை அதிகரிக்கின்றபொழுது நேரடியாகப் போக்குவரத்துச் செலவு அதிகரிக்கின்றது. இது மக்களை நேரடியாகவும், மறைமுகமாகவும் தாக்கத்தைச் செலுத்துகின்றது. அத்துடன் வாழ்க்கைச் செலவினை அதிகரிக்கச் செய்வதுடன் பொருட்களது காவகச் செலவு அதிகரிக்கின்றபொழுது அவற்றினது விலைகளும் அதிகரிக்கும். பொருட்கள் சேவைகளின் உற்பத்திச் செலவும் அதிகரிக்கச் செய்கின்றது மேலும் உற்பத்தி, கைத்தொழில்துறைகளிலும் மற்றும் மின் கட்டளைங்கள், சமையல் எரிவாயுக்களின் விலைகள், உணவுப்பண்டங்களின் விலைகள், விமானச்சீட்டுக்களின் கட்டணம், மற்றும் சுற்றுலாத்துறைகளான ஹோட்டல்களின் தங்குமிட அறைகளுக்கான கட்டணம் விவசாயம், கைத்தொழில், சேவைத்துறைகள் என ஒட்டு மொத்த பொருளாதாரத்திலும் பெருமளவான பாதிப்பை ஏற்படுத்துவதாக காணப்படும்.

இவை அனைத்துக்கும் மூல காரணமாய் அமைவது உலக சந்தையில் எரிபொருள்களின் விலைத் தளம்பல்கள் ஆகும். எண்ணெய் வள நாடுகள் தமது எண்ணெய் விலையை உயர்வாகப் பேணுவதற்கு தமது OPEC அமைப்பின் ஊடாக செயற்கையாக நிரம்பலைக் கட்டுப்படுத்தி உலக சந்தையில் செயற்கைத் தட்டுப் பாட்டினை ஏற்படுத்தி எண்ணெய் விலையை உயர்ந்த விலையினை பேணுவதற்கும் நடவடிக்கைகள் மேற்கொள்ளப்பட்டது.

* பொருளாதாரமும் உலக நிதிநெருக்கடியும்

எது எவ்வாறு இருந்தபொழுதும் அண்மைக்காலமாக தொடர்ந்து கொண்டிருக்கும் உலக நிதி நெருக்கடியினால் உலகின் பொருளாதார ஐரம்பலான்களாகக் கருதப்படும் நாடுகளான அமெரிக்கா, ஜேர்மன், ரஷ்யா முதல் ஐப்பான் வரை ஆட்டம் காணத் தொடங்கியுள்ளது. இதனை எரிசெய்வதற்காக அமெரிக்க அரசானது நிதி நெருக்கடியினுள் சிக்கியுள்ள தனியார் வங்கிகளைப் பாதுகாக்க நிதியுதவிகளை வழங்கிவருகின்றது. அத்துடன் ஐரோப்பிய வங்கி தனது கடன்களுக்கான வட்டி வீதத்தினைக் குறைத்துள்ளதுடன் பல்வேறு நாடுகளும் தமது பொருளாதாரத்தை பாதுகாக்க நடவடிக்கைகளை எடுத்து வருகின்றது.

இந்நிலைமை தொடர்வதனால் பொருளாதாரமானது ஒரு மந்த கதியான போக்கையே கொண்டிருப்பதால் அமெரிக்கா, ஐரோப்பிய மக்கள் தமது நுகர்வுப் படிக்கத்தில் மாற்றத்தை ஏற்படுத்தத் தொடங்கியுள்ளனர். அதாவது, தமது வருமானம் குறைவடைந்துள்ளதால், தமது பொருட்கள், சேவைகளுக்கான கேள்வியைக் குறைக்கத் தொடங்கியதுடன், விலை குறைந்த பொருட்களை தேடிக் கொள்வனவுசெய்வதில் ஈடுபட்டுள்ளனர். இதன் காரணத்தினால் ஏற்றுமதிகளில் தங்கி வாழும் நாடுகள் தமது அன்னியச் செலாவணி வருமானம் குறை வடைந்து வருவதாக அறிக்கைகள் சுட்டிக் காட்டுகின்றன. இதனை பொருளாதார வல்லுனரும் இந்தியப் பிரதமருமான கலாநிதி, மனமோகன்சிங் தமது நாடு உலகப் பொருளாதாரத்தின் தாக்கத்தால் ஏற்றுமதி சற்று குறை வடைந்துள்ளதுடன் பங்குச்சந்தையும் சற்றுத் தளம்பல் நிலைக்கு உள்ளாகியது எனக் குறிப்பிடப்பட்டுள்ளார். பொதுவாக அமெரிக்கப் பொருளாதாரத்தில் ஏதாவது மாற்றம் இடம்பெற்றால் என்னை நாட்டினது பொருளாதாரத்தில் அதன் தாக்கம் உணரப்படுகிறது. தங்கால் திகழ்புகள் இதனை உறுதிப்படுத்துகின்றது. அதாவது, அமெரிக்க ஐக்கிய நாடுகளின் உலக வர்த்தக வாய்மை தாக்குதலுக்கு நடைபெற்றபொழுது இவை உணரப்பட்டனவாகும் குறிப்பிடத்தக்கது.

அண்மையில் வெளியான பொருளாதார அறிக்கையில் ஐப்பான் நாட்டினது வாகனங்களினது கேள்வி ஆனது வெளிநாடுகளில் குறைந்து வருவதனால் அந்நாடு தனது வாகனங்களின் கேள்வியினை அதிகரிப்பதற்காக விலையினைக் குறைத்துள்ளது. இவை அனைத்துக்கும் காரணம் உலகில் ஏற்பட்ட நிதிநெருக்கடியும் அதன் தாக்கங்களும் ஆகும். எனவே, ஆசியாவின் மிகப் பலமான பொருளாதார வல்லமை வாய்ந்த நாடான ஐப்பான், மற்றும் இந்தியா போன்ற நாடுகள் இதன் விளைவுகளை தவிர்க்க முடியாதுள்ளபோது மற்றைய நாடுகளது நிலைமை எப்படி இருக்கப்போகும் என்பதனை சொல்லித் தெரியவேண்டியதில்லை.

ஆனால், இலங்கையில் அதன் பொருளாதாரமானது உறுதியாக தொடர்ந்து முன்னெடுத்துச் செல்லப்படுவதாகவும், உலகின் நிதிநெருக்கடியானது இலங்கையை பாதிக்காத வகையில் சகல ஏற்பாடுகளும் செய்யப் பட்டுள்ளதாகவும் வலியுறுத்திக் கூறப்பட்டுள்ளது. இதனைச் சற்று பொறுத்திருந்து பார்க்கலாம்.

* ஹெட்ஜிங் உடன்படிக்கையின் சுருக்கம்

இலங்கையில் இதற்கு மேலாக அரசியல், பொருளாதாரங்களில் செல்வாக்குப்பெற்று பலராலும் பேசப்பட்டு வருவதும், அரசியல்வாதிகள் முதல் சாதாரண தொழிலாளி வரை முக்கியம் பெற்றிருப்பதுடன் இலங்கை மக்களில் பெரும்பாலானவர்கள் சரியாக விளங்கிக்கொள்ளப்படாத உடன்படிக்கைதான் ஹெட்ஜிங் உடன்படிக்கை (Hedging Agreement) அல்லது காப்பிடப்பட்ட உடன்படிக்கை என்பதாகும். இலங்கையில் காப்பிடப்பட்ட எண்ணெய் கொள்வனவு உடன்படிக்கையானது 2007 ஆம் ஆண்டு இலங்கை பெற்றோலிய கூட்டுத்தாபனத்துக்கும் வங்கிக்கும் இடையில் மேற்கொள்ளப்பட்டது. இவ் உடன்படிக்கையானது கனடா நாட்டு பொருளாதார அனுபவத்தில் இருந்து தோற்றம்பெற்ற எண்ணக்கருவின் அடிப்படையில் இது இலங்கையில் மேற்கொள்ளப்பட்டது.

இவ்வகையான ஆறு உடன்படிக்கைகளை இவ்வாண்டு காலப்பகுதியில் இலங்கை பெற்றோலியக் கூட்டுத்தாபனம் மேற்கொண்டுள்ளதாக இலங்கை மத்திய வங்கியின் 2007 ஆம் ஆண்டு அறிக்கையில் குறிப்பிடப்பட்டுள்ளது.

காப்பிடப்பட்ட உடன்படிக்கை (hedging agreement) ஆனது பொதுவாகக் காப்புறுதிக் கொள்கையை ஒத்தது எனக் குறிப்பிடலாம். எவ்வாறெனில், ஒருவர் தமக்கு எதிர்காலத்தில் ஏற்படக்கூடிய நட்டத்தில் இருந்து பாதுகாத்துக் கொள்வதற்காக நிகழ்காலத்தில் காப்புறுதி தவணைப்பணம் (Premium) செலுத்தவதனைப்போல வேதானம்.

ஹெட்ஜிங் உடன்படிக்கையிலும் உலக சந்தையில் எரிபொருளின் விலை அதிகரித்துச் செல்வதனால் அதன் விலை அதிகரிப்பால் அதிகளவு அன்னியச் செலாவணி விரையமும் நாட்டில் பணவீக்கமும் ஏற்படுகின்றது இவ்வாறான விலைத்தளம்பலை இலங்கையால் தடுத்து நிறுத்த முடியாது. எனவே, இலங்கை பெற்றோலியக்கூட்டுத்தாபனமானது ஒரு நிலையான விலையில் தொடர்ச்சியாகப் பெற்றோலைக் கொள்வனவு செய்வதற்காக வங்கியுடன் ஓர் இணக்கப்பாட்டால் ஓர் பொதுவான விலையினை எதிர்கால நிலைமைகளையும் அனுபவங்களையும் கருத்தில் கொண்டு தீர்மானித்தது. இவ்வாறு நிர்ணயிக்கப்பட்ட விலையில் எரிபொருளைக் கொள்வனவு செய்துகொள்வதற்கு வங்கி உத்தரவாதம் வழங்கியது. எனவே, உலக சந்தை விலையில் ஏற்படும் மாற்றங்களால் ஏற்படக்கூடிய நன்மை தீமைகளை வங்கி பொறுப்பேற்றுக்கொண்டு தீர்மானிக்கப்பட்ட அல்லது முற்கணிப்பு செய்யப்பட்ட விலையில் இலங்கை பெற்றோலியக் கூட்டுத்தாபனம் எண்ணெய்க் கொள்வனவில் ஈடுபட்டுவந்தது.

இங்கு இலங்கைப் பெற்றோலியக் கூட்டுத்தாபனம் \$ 140 டொலர் எனும் அடிப்படையில் ஒரு பரல் எண் ணெய் கொள்வனவு செய்வதாக உடன்பட்டுள்ளது. எனில் சந்தை விலை 140 ஐ விட உயர்வடைகின்றதெனில் வங்கியானது நட்டத்தினை எதிர்நோக்கவேண்டிய ஏற்படும். மாறாக எண்ணெய் விலை பரல் ஒன்று 100\$ ஆக வீழ்ச்சியடைந்தால் வங்கி இலாபத்தை அனுபவிக்கும். இதுவே இவ் உடன்படிக்கையின் உட்கிடக்கையான கருத்தாகும்.

எண்ணெய் விலை எதிர்காலத்தில் அதிகரிக்கும் என எதிர்பார்க்கப்பட்டபோதும், எதிர்பாராத விதமாக அதன் விலை வீழ்ச்சி அடைந்துசெல்ல ஆரம்பித்தது. இந் நிலைமையினால் வங்கியினது இலாபம் அதிகரித்துச் செல்ல ஆரம்பித்ததுடன் இவ்விலைக் குறைப்பின் நன்மையைக் காப்பிடப்பட்ட எண்ணெய்க் கொள்வனவு உடன்படிக்கை மேற்கொள்ளப்பட்டதால் அனுபவிக்கமுடியாத நிலை ஏற்பட்டது. இது தவறான திட்டமிடலும், திறன்ற எதிர்காலத் தீர்மானத்தாலும் எழுந்த விளைவுகளாகும். இவ் உடன்படிக்கையில் கமர் ஐந்து வங்கிகள் தொடர்புபட்டிருந்த பொழுதும் மூன்று வங்கிகள் வெளிநாட்டு வளங்கள் என்பது குறிப்பிடத்தக்கது ஆகும்.

* எரிபொருள் விலையின் அண்மைய போக்கு

எண்ணெய்க்கான கேள்வி ஆனது உலகின் பேரின பொருளாதார தன்மையில் தங்கி உள்ளது. சில பொருளிய லாளர்களது கருத்துப்படி உயர் எண்ணெய் விலையானது பாரிய எதிர்க்கணிய விளைவுகளைப் பொருளாதாரத்தில் தோற்றுவிக்கும் எனக் குறிப்பிட்டுள்ளனர்.

பெற்றோலிய ஏற்றுமதி நாடுகளின் ஒன்றியம் (Organization of the Petroleum Exporting Countries - OPEC) எண்ணெய் விலையை பேணி வருகின்றது எண்ணெய் விலையானது அண்மை ஆண்டான 1999, ஜனவரியில் பீப்பாய் ஒன்று \$ 16 ஐக்கிய அமெரிக்க டொலராகக் காணப்பட்டது. அதன் பின்னரான ஆசிய நிதி நெருக்கடி, ஈராக் நிலைமைகளினால் எரி பொருள்க்கான கேள்வி குறைவடையத் தொடங்கியது.

அதன் பின்னர் விலை சடுதியாக இரண்டு மடங்கிலும் அதிகமாக 2000 ஆம் ஆண்டு செப்டம்பர் மாத மளவில் 35\$ ஐக்கிய அமெரிக்க டொலராக உயர்ந்தது. பின்னர் 2001 இறுதி வரை குறைவடைந்து சென்று மீண்டும் 40-50\$ டொலராக 2004 காலப்பகுதியில் காணப்பட்டது. 2005 ஜூனில் 60 \$ டொலராகவும், 2006 ஜூலையில் 77\$ டொலராகவும் பின்னர் அதே ஆண்டு டிசம்பரில் 63 \$ டொலராகவும் சற்றுக் குறைவடைந்துள்ளது.

2007 செப்டம்பரில் 80\$ ஆகவும் காணப்பட்டது. அதனைத் தொடர்ந்து ஐக்கிய அமெரிக்காவினது எதிர் பார்ப்பளவு இருப்பு குறைவடைந்ததாலும் எண்ணெய் விலை கொள்கை மாற்றமடைந்ததுடன், மெக்ஸிகோவில் எண்ணெய் ஆறு எண்ணெய் விநியோகக் குழாய்கள் தாக்க சேதத்துக்கு உள்ளானதாலும் ஒக்டோபர் மாதத்தில் 90\$ ஆக அதிகரிக்கத் தொடங்கியது. அத்துடன் கிழக்கு துருக்கியில் ஏற்பட்ட பயறாத நிலமையும் டொலரின் பெறுமதியில் ஏற்பட்ட வீழ்ச்சியும் காரணமாகக் கொள்ளப்படுகின்றது.

2008 காலப்பகுதியை எண்ணெய் விலையில் முக்கியமான ஆண்டாக கொள்ளலாம். இவ் ஆண்டிலேயே எண்றுமில்லாதவாறு 147.27\$ எனும் சாதனையான விலையினை 2008 ஜூலை 11 ஆம் திகதி பதிவாகியுள்ளது இதன் போதே ஈரானது ஏவுகணைப் பரிசோதனை சர்ச்சையும் முக்கியம் பெற்றது.

2008 ஆம் ஆண்டு	பீப்பாய் ஒன்றின் விலை ஐக்கிய அமெரிக்க டொலர்
ஜனவரி	100\$
மார்ச்	110\$
மே	125-130\$
யூன்	140\$
ஜூலை - 11	147.27\$
ஜூலை - 24	125\$
ஒக்டோபர்	70\$
டிசம்பர் - 21	33.8\$

* முடிவுரை

இன்றைய உலக பொருளாதாரத்தில் ஒரு நாடானது தனித்து தனது பொருளாதார, அரசியல் கொள்கையினைத் தீர்மானிக்க முடியாதுள்ளது. எனவே, உலகமாயமாகக் மூலம் உலகின் ஒரு பொருளாதாரத்தில் ஏற்படும் தாக்கமானது என்னை பொருளாதாரத்தினை பாதிக்கவே செய்யும் இதனைத் தடுப்பதென்பது கடினமான ஒரு சவால் மிகுந்ததாகவே காணப்படுகின்றது. இவை அனைத்தும் ஏற்படக் காரணமாய் அமைந்திருப்பது காரணிகளது கிடைப்பளவு நாடுகளுக்கிடையே வேறுபட்டுக் காணப்படுவதாகும். இதனாலேயே ரிக்கார்டே (Ricardo) எனும் பொருளியல் அறிஞர் தனது ஆய்விலே ஒப்பிட்டு நயம் எனும் கோட்பாட்டினை முன்வைத்து விளக்கி யுள்ளார்.