



# உதயன்

www.uthayan.com

விலை ரூபா 15.00

சுடர் 24 வள்ளுவர் ஆண்டு 2040 ஐப்பசி 19 வியாழக்கிழமை (05.11.2009) UTHAYAN-A Lively National Tamil Daily கதிர்: 344

## அமெரிக்க விசாரணையை மறுத்து நாம திரும்புகிறார் பொய்சேகா!

### அரசே ஏற்பாடு செய்ததாகப் பாதுகாப்பு வட்டாரங்கள் தெரிவிப்பு



**கொழும்பு, நவம்பர் 05**  
முப்படைகளின் தலைமை அதிகாரியான ஜெனரல் சரத் பொய்சேகா நேற்று அமெரிக்காவிலிருந்து இலங்கை நோக்கிப் புறப்பட்டார். இலங்கையின் யுத்தக் குற்றங்கள் தொடர்பாக அமெரிக்க அரசு அவர் மீது நேற்று விசாரணை நடத்தவிருந்த நிலையில், அந்த விசாரணையை ஏற்க மறுத்து நிராகரித்துவிட்டு அவர் அங்கிருந்து இலங்கை நோக்கிப் புறப்பட்டார் என்று கொழும்பு அரசியல் வட்டாரங்கள் நேற்று மாலை தகவல் வெளியிட்டன.  
சரத் பொய்சேகா நாடு திரும்புகின்றமை தொடர்பாக முதலில் ஜே.வி.பி. வட்டாரங்களிலிருந்தே தகவல் வெளியானது. பின்னர் பாதுகாப்பு வட்டாரங்களும் அதனை உறுதி செய்துள்ளன. நேற்று நாடாளுமன்றத்தில் ஜே.வி.பி.(20ஆம் பக்கம் பார்க்க)

### கல்விச் சாடர்

**உள்ளே**  
ஜி.சி.ஈ. சாதாரணதரப் பரிட்சைக் கான கணிதம்-1,II பாடத்துக்கான மாதிரி வினாத்தாள்கள்.  
**நானே**  
ஜி.சி.ஈ. சாதாரணதரப் பரிட்சைக் கான வரலாறு-1,II பாடத்துக்கான கான மாதிரி வினாத்தாள்கள்.

### பம்பலப்படி கடலில் நுடங்கி கொலைக்கு கண்டனம் தெரிவித்து நேற்று ஆர்ப்பாட்டம்

**கொழும்பு, நவ. 05**  
பம்பலப்படி கடலில் தமிழ் இளைஞர் ஒருவர் பொலிஸாரால் தாக்கப்பட்டு நீரிழிவு உயிரிழந்த சம்பவத்திற்கு எதிர்ப்பு தெரிவித்து கொழும்பில் நேற்று எதிர்ப்பு ஆர்ப்பாட்டம் ஒன்று நடைபெற்றது.  
ஜனநாயக மக்கள் முன்னணியின் ஏற்பாட்டில் கொழும்பு கோட்டை ரயில் நிலையத்துக்கு முன்பாக நேற்று நண்பகல் இடம்பெற்ற இந்த ஆர்ப்பாட்டத்தில் நூற்றுக்கணக்கான மக்கள் கலந்துகொண்டனர்.  
நாடாளுமன்ற உறுப்பினர்கள், அரசியல் கட்சிகளின் பிரதிநிதிகள், சிவில் அமைப்புகள், சமயத் தலைவர்கள் ஆகியோர் ஆர்ப்பாட்டத்தில் கலந்துகொண்டு பொலிஸாரின் நடவடிக்கைகளுக்கு எதிர்ப்புத் தெரிவித்தனர்.  
ஆர்ப்பாட்டத்தில் கலந்து கொண்டவர்கள் பொலிஸாருக்கு எதிராகப் பல்வேறு கேரடிங்களை எழுப்பியதுடன் குற்ற மிழைத்த பொலிஸாருக்குத் தகுந்த தண்டனை வழங்குமாறும் கோஷம் எழுப்பினர்.

ஆர்ப்பாட்டத்தின்போது கருத்துத் தெரிவித்த ஜனநாயக மக்கள் முன்னணியின் தலைவர் மனோகணேசன், "பம்பலப்படி கடலில் இடம்பெற்ற இந்தப் படுபாதகமான சம்பவத்தை வன்மையாகக் கண்டிக்கின்றோம். இதற்கு அரசு பொறுப்புக் கூற வேண்டும்" (20ஆம் பக்கம் பார்க்க)

### ஜனாதிபதி வன்னிக்கு நேற்று விஜயம்; படையினரின் சம்பள உயர்வை அறிவித்தார்

**கொழும்பு, நவ.05**  
முப்படைகளுக்கான சம்பளத்தை உடனடியாக அமுலுக்கு வரும் வகையில் அதிகரித்திருக்கிறார் ஜனாதிபதி மஹிந்த ராஜபக்ஷ. நேற்று வன்னிப்பகுதிக்குத் திடீர் விஜயம். மேற்கொண்ட ஜனாதிபதி, மன்னாரிலுள்ள மன்னகுளம் படைமுகாமில் ரோதக்குடியேற்றவாசிகள் குறித்து இறுதி முடிவை எடுக்க வேண்டும்" என்று இந்தோனேஷியாவின் வெளிவிவகார அமைச்சர் பேச்சாளர் கூறினார். இதேவேளை 'இந்தோனேஷியாவில் தடுத்துவைக்கப்பட்டிருக்கும் இந்த இலங்கையர்கள் எமது நாட்டிலிருந்து செல்ல வில்லை' என்று இலங்கைக் கடற்படை கூறுகின்றது.(அ-சி)



இராணுவ அதிகாரிகளைச் சந்தித்து நிலைமைகளைக் கேட்டறிந்தார். அங்கு படையினர் மத்தியில் பேசியபோது சம்பள உயர்வு தொடர்பான அறிவிப்பை அவர் வெளியிட்டார்.  
துயரகரமான தசாப்தத்தை முடிவுக்கு கொண்டு வருவதற்காக மேற்கொள்ளப்பட்ட யுத்தத்தில் படையினர் வழங்கிய ஆதரவுக்காக அவர்களுக்கு நன்றி தெரிவித்த ஜனாதிபதி, சமாதான ஒப்பந்த காலத்தில் நாடு பிளவுபடும் நிலையில் இருந்ததையும் நினைவுபடுத்தினார் என்றும் அதிகாரிகள் கூறினர்.  
விசேட ஹெலிகொப்டரில் கிளிநொச்சிப்பகுதிக்கும் விஜயம் செய்த ஜனாதிபதி மஹிந்த, அங்கு (20ஆம் பக்கம் பார்க்க)

### இந்தோனேஷியாவில் தடுத்துவைக்கப்பட்டிருப்போர் பிரச்சினைக்கு முடிவு காண ஆஸ்திரேலியாவுக்கு காலக்கெடு

**கொழும்பு, நவ. 05**  
அவுஸ்திரேலியாவுக்கு சட்டவிரோதமாக செல்ல முயன்றவேளை இந்தோனேஷியத் துறைமுகத்தில் தடுத்து வைக்கப்பட்டிருக்கும் 78 இலங்கையர் தொடர்பாக அவுஸ்திரேலிய அரசு இறுதி முடிவை எடுக்க இந்தோனேஷிய அரசு 24 மணிநேரக் காலக்கெடு விடுத்துள்ளது.  
"இது அவுஸ்திரேலியாவின் பிரச்சினை. எனவே நாளை வெள்ளிக்கிழமைக்கு இடையில் அவுஸ்திரேலியா இந்த சட்டவி

### தற்போதைய அரசியல் நிலைவரம் குறித்து தமிழ்த் தேசியக் கூட்டமைப்பு இன்று ஆராயும்

**கொழும்பு, நவ.5**  
தற்போதைய அரசியல் நிலைவரம் தொடர்பாக ஆராயும் முக்கிய கூட்டம் ஒன்று தமிழ்த் தேசியக் கூட்டமைப்பில் அங்கம் வகிக்கும் கட்சிகளுக்கு இடையில் இன்று கொழும்பில் நடைபெறவுள்ளது.  
நாடாளுமன்றக் கூட்டத்தொகுதியில் இன்று முற்பகல் 10 மணிக்கு இக்கூட்டம் நடைபெறும் என அறிவிக்கப்பட்டுள்ளது.  
முஸ்லிம் கட்சிகள், மேலகமக்கள் முன்னணி ஆகியவற்றுடன் இடம்பெற்ற பேச்சுக்களின் முன்னேற்றம்-  
புளொட், தமிழர்விடுதலைக் கூட்

டணி, ஈ.பி.ஆர்.எல்.எவ். (பத்மநாபா) அணி ஆகியவற்றை கூட்டமைப்புக்குள் உள் வாங்குதல் ஆகிய விடயங்கள் தொடர்பாக இன்றைய கூட்டத்தில் ஆராயப்படவுள்ளது.  
தமிழ்த் தேசியக் கூட்டமைப்பை அரசியற்கட்சியாகத் தேர்தல் திணைக்களத்தில் பதிவு செய்வது எனக் கடந்தவாரம் எடுக்கப்பட்ட முடிவுக்கு அமைய கட்சியின் யாப்பு புதுப்பித்துத் தயாரிப்பது குறித்தும் இன்றைய கூட்டத்தில் ஆராயப்படும் என்று கூட்டமைப்பின் பேச்சாளர் சுரேஷ் பிரேமச்சந்திரன் (20ஆம் பக்கம் பார்க்க)

### இன்றைய அரசியல் நிலை குறித்து தமிழ்-முஸ்லிம் கட்சிகள் கூடி ஆராய்வு

**கொழும்பு, நவ. 05**  
இன்றைய அரசியல் நிலைமைகள் தொடர்பாகவும் ஒன்று சேர்ந்து செயற்பட வேண்டியதன் அவசியம் குறித்தும் தமிழ் முஸ்லிம் கட்சிகள் சந்தித்துக் கலந்துரையாடியுள்ளன.  
நாடாளுமன்றக் கூட்டத்தொகுதியில் நேற்றுப் புதன்கிழமை பிற்பகல் இடம்பெற்ற இந்தக்கலந்துரையாடலில் தமிழ்த் தேசியக் கூட்டமைப்பு, புலவங்கா, முஸ்லிம்

காங்கிரஸ், ஜனநாயக மக்கள் முன்னணி ஆகிய கட்சிகளின் பிரதிநிதிகள் கூடி ஆராய்ந்துள்ளனர்.  
இரா.சம்பந்தன் தலைமையில் தமிழ்க் கூட்டமைப்பு எம்.பிக்களும், ரஷிப் ஹக்கீம் தலைமையில் முஸ்லிம் காங்கிரஸின் நாடாளுமன்ற உறுப்பினர்களும் மற்றும் மனோகணேசனும் சந்திப்பில் கலந்து கொண்டனர்.  
(20ஆம் பக்கம் பார்க்க)



**இப்போது யாழ்ப்பாணத்திலும் புரோட்பாண்ட் இணையம்**

Dialog Homenet இணைப்பு உடனாக வரையறைபற்ற புரோட்பாண்ட் இணையப் பாவனை

- மாதாந்தக் கட்டணம் ரூ.1,750/- இலிருந்து
- இணைப்புக் கட்டணம் ரூ. 8,000/-
- மேலும் தேவையில்லை \* தொலைபேசி இணைப்பு அவசியமில்லை
- ஆகக்குறைந்தது 3 இ-மேயில் பொதிகள் இலவசம்
- 10MB வரையான வலைத்தளம்

உணைத்து Dialog வாடிக்கையாளர் சேவை நிலையங்களிலும் பெற்றுக்கொள்ளலாம்

Broadband Digitized by Noolaham Foundation. noolaham.org









# புலமைப் பாசில் பரீட்சையில் அதிகடியு புள்ளிகளைப்பெற்று பாடசாலைச் சமூகத்திற்குப் பெருமை தேடிய மாணவச் செல்வங்கள்

அண்மையில் வெளியாகிய புலமைப் பரிசில் பரீட்சையில் அந்தந்தப் பாடசாலை மட்டத்தில் அதிகடியு புள்ளிகளைப் பெற்று பாடசாலைச் சமூகத்திற்கும் அவர்களின் பெற்றோர்களுக்கும் தமது சொந்த ஊருக்கும் பெருமை தேடிக்கொடுத்த மாணவச் செல்வங்களின் கருத்துக்களைத் தொகுத்து 'உதயன்' வாசகர்களுக்காகத் தருகின்றோம். தொடர்ந்து படியங்கள்.



## ஜெயபாலன் தனஜெயன் கோக்குவில் ஸ்ரீ இராமகிருஷ்ண வித்தியாசாலை புள்ளிகள் - 155

நான் தினமும் காலையில் 4.30 தொடக்கம் 6 மணி வரை படிப்பேன். காலையில் படிப்பதே ஞாபகத்தில் இருக்கும் என்பதால் தினமும் காலையில் எழுந்து படிக்க ஆரம்பித்து விடுவேன். பாடசாலை மிலும் காலையில் வகுப்பு வைப்பார்கள். அங்கு பத்திரிகைகளில் வெளிவரும் கேள்விப்பத்திரங்களை ஆசிரியர்கள் சொல்லித்தருவார்கள். இதனால் பரீட்சைக்குத் தயாராவது எனக்கு இலகுவாக இருந்தது. வீட்டிலும் என்னுடைய அம்மாவும அப்பாவும எனக்குக் கற்பித்தனர்.

எனக்கு சிறுவயது முதலே வைத்தியராக வரவேண்டும் என்பதே எனது விருப்பமாகும். நான் இப்போதே 'ஸ்டெட்ஸ்கோப்' வாங்கி வைத்திருக்கிறேன். இதனால் எனது இலட்சியத்தை அடைய வேண்டும் என்ற வேட்கை என்னுள் உள்ளது. எனக்குக் கல்வி போதித்த திருமதி கலாநிதி செல்வராஜா, அன்பழகன் சேர், சுஜீவன் சேர், எனது பெற்றோர் ஆகியோருக்கு எனது நன்றியைத் தெரிவித்துக் கொள்கின்றேன்.

## அரசாங்கப் பாடசாலை மாணவர்களுக்கான இலவசச் சீருடை விநியோகம் நாளை ஆரம்பம்

### முதலில் யாழ்ப்பாணத்துக்கு அனுப்ப நடவடிக்கை

கொழும்பு, நவ.05  
அரசாங்கப் பாடசாலைகளில் கல்வி பயிலும் மாணவர்களுக்குரிய 2010 ஆம் ஆண்டுக்கான இலவச பாடசாலை சீருடை விநியோகம் நாளை வெள்ளிக் கிழமை முதல் ஆரம்பமாகின்றது. இதன் முதல் தொகுதி ஏ-9 வீதியூடாக யாழ்ப்பாணத்துக்கு அனுப்பப்படவுள்ளதாக கல்வி அமைச்சு வெளியிட்டுள்ள அறிக்கையில் தெரிவிக்கப்பட்டுள்ளது.

அவ்வறிக்கையில் மேலும் தெரிவிக்கப்பட்டுள்ளவை வருமாறு:

கடந்த மாதங்களில் நாடு முழுவதும் உள்ள ஏறக் குறைய நூற்பது லட்சம் மாணவர்களுக்கு 3000 மில்லியன் ரூபா செலவில் இலவச பாடநூல்களை விநியோகிக்கக் கல்வி அமைச்சு நடவடிக்கை எடுத்திருந்தது. அதனைத் தொடர்ந்து தற்போது நூற்பது லட்சம் மாணவர்களுக்கு 1200 மில்லியன் ரூபா செலவில் நான்கு வகையான, 65 லட்சம் சீருடைகளை விநியோகிக்கக் கல்வி அமைச்சு நடவடிக்கை எடுத்துள்ளது. நாடு முழுவதிலுள்ள ஒன்பது மாகாணங்களில் அமைந்துள்ள 92 வலயக் கல்வி காரியாலயங்களுக்குச் சீருடைகள் அனுப்பி வைக்கப்படவுள்ளன. நாளை 6 ஆம் திகதி 7 லட்சம் ரூபா போக்குவரத்துச் செலவில், இரண்டு லட்சம் சீருடைகள் அடங்கிய முதல் தொகுதி ஏ-9 வீதியூடாக யாழ்ப்பாணத்துக்கு வலயக் கல்விக் காரியாலயத்துக்கு வைப்ப ரீதியாக அனுப்பி வைக்கப்படவுள்ளன. இந்நிகழ்வு கல்வி அமைச்சர் சசில் பிரேம்ஜயந்த தலைமையில் கல்வி அமைச்சில் இடம்பெறவுள்ளது.

சீருடைகளுக்காகப் பயன்படுத்தப்பட்டுள்ள மொத்த துணியின் அளவு புத்து மில்லியன் மீற்றர் என்பது குறிப்பிடத்தக்கது.

இலங்கையிலுள்ள அரசாங்கப் பாடசாலைகளில் கல்வி கற்கும் மாணவ,

மாணவிகளுக்கு பாடப்புத்தகங்களை உத்தியோகபூர்வமாக விநியோகிக்கும் ஆரம்ப வைப்பத்தை இம்முறை யாழ்ப்பாணம் வேம்படி மகளிர் கல்லூரியில் டிசெம்பர் 7 ஆம் திகதி நடத்த கல்வி அமைச்சு தீர்மானித்துள்ளது. அன்றைய தினத்திலேயே சீருடைகளும் மாணவர்களுக்கு உத்தியோகபூர்வமாக கையளிக்கப்படவுள்ளன. இவ்வாறு அந்த அறிக்கையில் தெரிவிக்கப்பட்டுள்ளது. (50)

## பிரிட்டனுக்கான புதிய விசா விண்ணப்பங்கள் 13 - 23 ஆம் திகதி வரை ஏற்றுக் கொள்ளப்பட மாட்டா

கொழும்பு, நவ.05  
பிரிட்டனுக்கான புதிய விசா விண்ணப்பங்கள் எதிர்வரும் 19 ஆம் திகதி வியாழக்கிழமை முதல் 23 ஆம் திகதி திங்கட்கிழமை வரை ஏற்றுக் கொள்ளப்பட மாட்டாதென கொழும்பிலுள்ள பிரிட்டிஷ் உயர் ஸ்தானிகராலயம் அறிவித்துள்ளது. விசா வழங்கும் செயன்முறையில் மாற்றங்கள் செய்யப்படவுள்ளமையால் புதிய விசா விண்ணப்பங்கள் தற்காலிக

### இன்றைய ஆட்டம்

வலி வடக்கு, நவ.05  
யாழ்ப்பாணம் தாச்சிச் சங்கம் வர்த்தக வங்கி, இலங்கை வங்கி என்பவற்றின் ஆதரவுடன் யாழ்ப்பாணம் தாச்சிச் விளையாட்டுக் கழகங்களுக்கு இடையே நடத்தி வரும் தாச்சிச் சுற்றுப் போட்டியில் இன்று வியாழக்கிழமை சுதுமலை யுவ சக்தி விளையாட்டுக்கழக மைதானத்தில் நடைபெறவுள்ள ஆட்டத்தில் மோதவுள்ள அணிகளின் விவரம் வருமாறு -  
அளவெட்டி கணேசா விளையாட்டுக் கழகம் எதிர் மயிலிட்டி கண்ணகி விளையாட்டுக்கழகம். (50-86)



## அருணாசலம் பிரசாந்தினி கோக்குவில் ஸ்ரீ இராமகிருஷ்ண வித்தியாசாலை புள்ளிகள் - 153

என்னுடைய அப்பா பெரியில் மூடை சுமக்கும் வேலை செய்கிறார். ஆனால் நான் படிப்பதற்கு என்ன தேவையோ அவற்றையெல்லாம் செய்து தந்து எனக்கு ஊக்கமளித்தார். உதயனில் வெளியான கல்விச் சேர் பகுதியும் எனது வெற்றிக்குக் காரணமாக அமைந்தது.

நாங்கள் அல்லைப்பட்டியில் இருந்து இடம்பெயர்ந்து இங்கு வந்து (2006) கல்விகற்கிறேன் இங்கு எனக்குக் கல்வி கற்பித்த ஆசிரியர்கள் ஊக்கமெடுத்துக் கற்பித்தார்கள். நான் பாடசாலை முடிந்த பின்னர் மாலையில் அன்பழகன் ஆசிரியரிடம் சென்று கல்வி கற்றேன். வீட்டிலும் இரவு 7 மணி தொடக்கம் 9 மணி வரை அம்மாவிடம் கற்றுவந்தேன்.

அண்ணா தனது பாடசாலை முடிவடைந்ததும் என்னை ரியூசனுக்கு ஏற்றிச் சென்று விடுவார். பாடசாலையில் எனது ஆசிரியர்களான கலாநிதி ஆசிரியையும் சுஜீவன் ஆசிரியரும் தனிப்பட்ட கவனமெடுத்துக் கற்பித்தார்கள்.

ஆசிரியராக வருவதே எனது இலட்சியம். ஆசிரியராகி என்னைப்போல் வறுமையில் உள்ள மாணவர்களுக்கு கல்வி கற்பிக்க வேண்டும் என்பதே எனது விருப்பமாகும்.

எனக்குக் கல்வி கற்பித்த அதிபர், கலாநிதி ரீசர், அன்பழகன் சேர், சுஜீவன் சேர் எனது அம்மா ஆகியோருக்கு எனது நன்றிகளைத் தெரிவித்துக் கொள்கின்றேன்.

## வவுனியா நிவாரணக் கிராமங்களில் இப்போது எந்தவித தொற்று நோய்களும் இல்லை

### அரச அதிபர் இமெல்டா சுகுமார் சொல்கிறார்

வவுனியா, நவ.05  
நிவாரணக் கிராமங்களில் எந்தவித தொற்று நோய்களும் இல்லையெனவும் நோய் பரவாமல் தடுக்க சகல முன்னேற்ற பாடுகளும் மேற்கொள்ளப்பட்டுள்ளதாகவும் வவுனியா அரச அதிபர் திருமதி இமெல்டா சுகுமார் தெரிவித்தார். நலன்புரி நிலையங்களுக்கு வரும் போதே பல்வேறு தொற்று நோய்களுடன் வந்தவர்கள் இனங்காணப்பட்டு அவர்களுக்கு சிகிச்சை அளிக்கப்

பட்டுள்ளதாகவும் அவர் தெரிவித்தார். இது தொடர்பில் அவர் மேலும் தெரிவிக்கையில், யுத்தம் இடம்பெற்ற பகுதிகளிலிருந்து இடம்பெயர்ந்து வவுனியாவுக்கு வந்த மக்களிடையே மஞ்சட்காமாலை, தோல் நோய் மற்றும் பொக்குளிப்பான் போன்ற நோய்கள் இருந்தன. இவற்றைக் குணப்படுத்தும் வகையில் விசேட நடவடிக்கைகள் மேற்கொள்ளப்பட்டன.

இவ்வாறான நோய்களைக் கொண்டோர் வேறாக்கப்பட்டு உரிய சிகிச்சைகள் வழங்கப்பட்டன. அதே நேரம் இத்தகைய தொற்றுக்கள் ஏனையோருக்கு பரவாமல் உரிய நடவடிக்கைகள் மேற்கொள்ளப்பட்டன. மழை காலங்களில் நோய்கள் பரவாமலிருப்பதற்காக சுற்றுச் சூழல்கள் துப்புரவு செய்யப்பட்டதுடன் நீர்தேங்கி நிற்பதைத் தடுக்கும் வகையில் வடிகால்கள் புனரமைக்கப்பட்டன. அத்துடன் மக்கள் தங்கியுள்ள கூடாரங்கள் திருத்தியமைக்கப்பட்டன.

இத்தகைய நடவடிக்கைகள் மூலம் தொற்று நோய் பரவுவது தடுக்கப்பட்டுள்ளதுடன் எதிர்காலத்திலும் நோய் பரவுவதைத் தடுப்பதற்கான முன்னேற்பாடுகளும் மேற்கொள்ளப்பட்டுள்ளதாகவும் வவுனியா அரச அதிபர் மேலும் தெரிவித்தார்.

## யாழ்ப்பாணம். எரிபொருள் நிரப்பு நிலையங்களுக்கு போதியளவு மண்ணெண்ணெய் விநியோகம்

யாழ்ப்பாணம், நவ.5  
யாழ்ப்பாணம். குடாநாட்டில் உள்ள எரிபொருள் விற்பனை நிலையங்களுக்கு நேற்று முன்தினம் முதல் போதிய அளவு மண்ணெண்ணெய் விநியோகிக்கப்பட்டு வருவதாக இலங்கை பெற்றோலியக் கூட்டுத்தாபனத்தின் யாழ்ப்பாணம் பிராந்திய அலுவலக வட்டாரங்கள் தெரிவித்தன.


ஒவ்வொரு எரிபொருள் நிரப்பு நிலையத்திற்கும் 6 ஆயிரத்து 600 லீற்றர் வீதம் மண்ணெண்ணெய் விநியோகம்

மேற்கொள்ளப்பட்டுள்ளது. எனவே மக்கள் தட்டுப்பாடின்றிப் பெற்றுக்கொள்ள முடியும் என்று அந்த வட்டாரங்கள் மேலும் தெரிவித்தன.

கடந்த ஓரிரு தினங்களாக யாழ்ப்பாணத்தில் மண்ணெண்ணெய்க்கு நிலவி வந்த தட்டுப்பாடு தற்போது முற்றாக நீங்கியுள்ளது. நுகர்வோர் தமக்குத் தேவையான அளவு மண்ணெண்ணெயைப் பெற்றுக் கொள்ள முடியும் என்றும் அந்த வட்டாரங்கள் மேலும் தெரிவித்தன. (50-224)



சர்வதேச சிறுவர், முதியோர் தினத்தை முன்னிட்டு நெடுந்தீவில் சிறுவர், முதியோருக்கான அபிவிருத்தி நிலையம் ஒன்று திறந்து வைக்கப்பட்டுள்ளது. இந்த நிகழ்வில் கலந்துகொண்ட சமூகசேவைகள் மற்றும் சமூகநலத்துறை அமைச்சர் டக்ளஸ் தேவானந்தாவுக்கு சிறுவன் ஒருவன் மாலை அணிவித்து வரவேற்பதையும், அமைச்சர் நிலையத்தை திறந்து வைப்பதையும், நெடுந்தீவில் அமைந்துள்ள அபிவிருத்தி நிலையம் ஒன்றுக்கு நிற்பதையும் முதல் இரண்டு படங்களில் காணலாம். நிகழ்வில் கலந்து கொண்டோரை மூன்றாவது படத்தில் காணலாம். (படங்கள் - லக்ஷ்மணி)



மண்எண்ணெய்க்கு ஏற்பட்டுள்ள திடீர் தட்டுப்பாட்டை அடுத்து நகரில் உள்ள எரிபொருள் விற்பனை நிலையங்களில் மக்கள் முண்டியடித்தவாறு மண்எண்ணெய்யைப் பெறுவதற்கு நேற்றுக் காத்திருந்தபோது..... (224)

### துயர் பகிர்ச்சிற்றோம்

மொறட்டுவப் பல்கலைக்கழக 3ஆம் வருட தகவல் தொழில்நுட்ப மாணவன் பத்மசீலன் சஜீவன் அவர்களின் அன்புத் தாய் அமர் பத்மசீலன் உருத்திராதேவி (பவானி) அவர்களுக்கு எமது கண்ணீர் அஞ்சலிகளைக் காணிக்கையாக்குவதுடன், அவர்தம் குடும்பத்தினர் துயரில் நாமும் பங்கேற்கின்றோம்.

தகவல் தொழில்நுட்ப பீட மாணவர்கள், மொறட்டுவப் பல்கலைக்கழகம்.



### வீடு வாடகைக்குத் தேவை

இரண்டு குளியல் அறைகளுடன் சகல வசதிகளும் கொண்ட வீடு யாழ்ப்பாணத்தில் எந்தப் பகுதியிலும் தேவை.

T.P.: 0770711074 (90595)

### வீடு உடன் விற்பனைக்கு

நெல்லியடி பஸ் நிலையத்தில் இருந்து 100m தூரத்தில் சகல வசதிகளும் உடைய பெரிய வீடு விற்பனைக்குண்டு. கரவெட்டி கன்பொல்லை வீதியில் (சயன்ஸ் சென்ட்ரல் வீதி).

தொடர்பு: 0779008431

### கண்ணீர் அஞ்சலி

எமது மொழியியல், ஆங்கிலத்துறைத் தலைவர் கலாநிதி திருமதி சுபதி ரமேஷ் அவர்களின் அன்புத் தாய் திருமதி காமலகுமாரி செல்வராஜா 03.11.2009 அன்று லண்டனில் காலமானார். அன்னாரின் பிரிவால் துயரமும் குடும்பத்தாருக்கு எமது ஆழ்ந்த அனுதாபங்களைத் தெரிவிப்பதோடு அவரது ஆன்மா சாந்தியடையப் பிரார்த்திக்கின்றோம்.

மொழியியல், ஆங்கிலத்துறை யாழ்ப்பல்கலைக்கழகம். (90599) மாணவர்கள்.

### மரண அறிவித்தல்

அரியகுட்டி மேரிப்பிள்ளை (மேரி) காங்கேசன்துறை, மாம்பிராயை நிரந்தர வசிப்பிடமாகவும் மல்லாகத்தை தற்காலிக வசிப்பிடமாகவும் கொண்ட அரியகுட்டி மேரிப்பிள்ளை (மேரி) நேற்று (04.11.2009) புதன்கிழமை காலமாகிவிட்டார்.

அன்னார் காலஞ்சென்ற சரவணை அரியகுட்டியின் அன்பு மனைவியும் பிரான்சிஸ் (ஓய்வு பெற்ற உத்தியோகத்தர், யாழ்.மாநகர சபை), அமிர்தராசா (பற்றிக் - முன்னாள் தலைவர், சிற்றூர்திச் சங்கம், தெல்லிப்பழை) ஆகியோரின் பாசமிகு தாயாரும் கிறிஸ்தீனம்மா, சரோஜினிதேவி ஆகியோரின் மாமியும் பேர்னாட் (பிரான்ஸ்), மேரிலக்சனா (கனடா), ரெஜினோல்ட் (ஜேர்மனி), மேரிசுபக்சனா (பிரான்ஸ்), ரீகன் ஜெனாட் (சுவீடினியா), டெனின் லெனாட் ஆகியோரின் பேர்த்தியும் ஆவார்.

அன்னாரின் பூதவுடல் இன்று (05.11.2009) வியாழக்கிழமை மு.ப. 10.30 மணிக்கு அவரது இல்லத்திலிருந்து எடுத்துச் செல்லப்பட்டு புனித சவேரியார் ஆலயத்தில் திருப்பலி ஒப்புக்கொடுக்கப்பட்டு, குளமங்கால் சேமக்காலையில் நல்லடக்கம் செய்யப்படும்.

இந்த அறிவித்தலை உற்றார், உறவினர், நண்பர்கள் அனைவரும் ஏற்றுக்கொள்ளுமாறு கேட்டுக்கொள்கின்றோம்.

சோடாக் கொம்பனி ஒழுங்கை, தகவல்: மல்லாகம். (9/562114) வீணைகள், 12ருட்க்கள்.

### அதிபர்களுக்கான கூட்டம்

யாழ்ப்பாணம், நவ.5 கோப்பாய் கோட்டப் பாடசாலை அதிபர்களுக்கான கூட்டம் நாளை வெள்ளிக்கிழமை பிற்பகல் 2.30 மணிக்கு கோப்பாய் கிறிஸ்தவக் கல்லூரியில் நடைபெறவுள்ளது எனக் கோப்பாய் கோட்டக் கல்விப்பணிப்பாளர் அறிவித்துள்ளார். (204-72)

### யாழ்.மாநகர சபை வெற்றிடங்கள் நிரப்புவதற்கு விண்ணப்பங்கள்

யாழ்ப்பாணம், நவ.5 யாழ்.மாநகர சபை அலுவலகத்தில் நிலவும் ஆளணி வெற்றிடங்களை நிரப்புவதற்கான விண்ணப்பப் படிவங்கள், யாழ்.மாநகர சபை அலுவலகத்தில் வைத்து நேற்று முற்பகல் தொடக்கம் விநியோகிக்கப்பட்டு வருகின்றன.

இவ்விண்ணப்பப் படிவத்தினை பெறுவதற்கு என தேசிய அடையாள அட்டை சகிதம் நூற்றுக்கணக்கான இளைஞர், யுவதிகள் யாழ்.மாநகர சபை முதல்வர் அலுவலகத்தில் திரண்டிருந்ததை அவதானிக்கமுடிந்தது.

சிறுமூழியர்கள், மெக்கானிக், வாகன சாரதிகள், சுகாதாரத் தொண்டர்கள், வீதி வேலைத் தொழிலாளர்கள் உட்பட பல வெற்றிடங்கள் மாநகரசபை அலுவலகத்தில் நிலவுவதாகவும் அவற்றினை விரைவில் நிரப்புவதற்கே விண்ணப்பப் படிவங்கள் விநியோகிக்கப்பட்டு வருவதாகவும் யாழ்.மாநகரசபை வட்டாரங்கள் தெரிவித்தன. (203-14)

### மரண அறிவித்தல்கள்

#### வேலாயுதர் குமாரசுவாமி

செம்பியன்பற்றைப் பிறப்பிடமாகவும், பருத்தித்துறையை வசிப்பிடமாகவும் கொண்ட வேலாயுதர் குமாரசுவாமி நேற்று (04.11.2009) புதன்கிழமை காலமானார். அன்னார் காலஞ்சென்ற கதிர்குலராஜேஸ்வரியின் அன்புக் கணவரும் குமாரதாஸன் (ஏச்.என்.பி. அஷ்குரன்ஸ், யாழ்ப்பாணம்), மைதிலி (கணக்காளர், லண்டன்) ஆகியோரின் பாசமிகு தந்தையும் குமாரதாஸ் (கணக்காளர், லண்டன்), சாரதா (சமுர்த்தி அபிவிருத்தி உத்தியோகத்தர், பருத்தித்துறை) ஆகியோரின் பாசமிகு மாமனும் சிவதாரணியின் (யாழ்ப்பல்கலைக்கழகம்) பெரிய தந்தையும் கதிரவண்ணசாமியின் சகலனும் கீர்த்தனன், கிருஷ்ணா ஆகியோரின் அன்புப் பேரனும் ஆவார்.

அன்னாரின் தகனக்கிரியைகள் நேற்று (04.11.2009) புதன்கிழமை பி.ப. 2 மணியளவில் வெளிச்சீட்டு இந்து மயானத்தில் நடைபெற்றன.

இந்த அறிவித்தலை உற்றார், உறவினர், நண்பர்கள் அனைவரும் ஏற்றுக்கொள்ளுமாறு கேட்டுக்கொள்கின்றோம்.

சாரதா நிலைய வீதி, (9/562107) தகவல்: புலோலி வடக்கு, பருத்தித்துறை. கே.கே.தாஸன் (மகன்).



### முருகப்பர் சுவாமிநாதன்

மண்கும்பான், வேலணையைப் பிறப்பிடமாகவும் யாழ்ப்பாணம், 88, கோயில் வீதியை வசிப்பிடமாகவும் கொண்ட முருகப்பர் சுவாமிநாதன் 03.11.2009 செவ்வாய்க்கிழமை காலமானார்.

அன்னார் காலஞ்சென்ற திருமதி சுவாமிநாதன் ரேவதியின் அன்புக் கணவரும் சுவாமிநாதன் கிருசாந்தன், சுவாமிநாதன் பிரகலாதன் ஆகியோரின் அன்புத் தந்தையுமாவார்.

அன்னாரின் இறுதிக்கிரியைகள் இன்று (05.11.2009) வியாழக்கிழமை மு.ப. 10 மணியளவில் அவரது இல்லத்தில் நடைபெற்று பூதவுடல் வண்ணை கோம்பையன் மணல் மயானத்திற்குத் தகனக் கிரியைக்காக எடுத்துச் செல்லப்படும். இந்த அறிவித்தலை உற்றார், உறவினர், நண்பர்கள் அனைவரும் ஏற்றுக்கொள்ளவும்.

தகவல்: 88, கோயில் வீதி, யாழ்ப்பாணம். (90594) சுவாமிநாதன் கிருசாந்தன் சுவாமிநாதன் பிரகலாதன்.



### 31 ஆம் நாள் நினைவுஞ்சலியும் வீடுக்கிருத்திய அறிவிப்பும்

தோற்றம் 24.04.1933

#### திருமதி தங்கம் வேலுப்பிள்ளை

உள்ளத்தால் உயர்வாகி வாழ்விற்கு வழிகாட்டி இடயத்தில் இருக்கும் எங்கள் அம்மாவே!

உங்கள் ஆத்மா சாந்தியடையப் பிரார்த்திக்கின்றோம்.

கடந்த 06.10.2009 அன்று இறைபதம் எய்திய எமது குடும்ப ஒளி விளக்கின் அந்தியேட்டிச் சிரியைகள் இன்று (05.11.2009) வியாழக்கிழமை காலை 6 மணியளவில் புலோலி புற்றளை சித்தி விநாயகர் ஆலய அந்தியேட்டி மடத்தில் நடைபெறும். அதனைத் தொடர்ந்து வீட்டுக் கிருத்தியக் சிரியைகள் மு.ப. 10 மணியளவில் எமது இல்லத்தில் நடைபெறும்.

இந்நிகழ்வுகளில் குடும்ப சமேதாராய் வருகை தந்து ஆத்ம சாந்திப் பிரார்த்தனையிலும் தொடர்ந்து இடம்பெறும் மதியபோசனத்திலும் கலந்துகொள்ளுமாறு அனைவரையும் அன்புடன் அழைக்கின்றோம்.

இதனைத் தனிப்பட்ட அழைப்பாக ஏற்றுக்கொள்ளவும் சாவகச்சேரி வீதி, மந்திகை, புலோலி.

மறைவு 06.10.2009

### ஏலவிற்பனை அறிவித்தல்

சாவகச்சேரி தேசிய சேமிப்பு வங்கியில் மீட்கப்பட்ட அடகு நகைகளின் ஏலவிற்பனை தேசிய சேமிப்பு வங்கி, சாவகச்சேரிக்கிளையில் 30.09.2008 வரை அடகுவைத்து 30.09.2009 வரைக்கும் மீட்கப்படாத அல்லது வட்டி செலுத்தப்படாத அடகுநகைகள் பகிரங்க ஏல விற்பனை மூலம் விற்பனை செய்யத் தீர்மானிக்கப்பட்டுள்ளது.

ஏலவிற்பனைத் திகதி: 05.12.2009 சனிக்கிழமை காலை 9.30 மணி இடம்: 141, V.M.K. கட்டடம், கண்டி வீதி, சாவகச்சேரி (கிளையில்).

ஏலவிற்பனையை இரத்துச் செய்யும், ஒத்திவைக்கும் உரிமையை வங்கி கொண்டுள்ளது உதவிப் பொதுமுகாமையாளர் (கடன்) - கொழும்பு - 3 சார்பாக முகாமையாளர், சாவகச்சேரி.

NSB



டி.எம்.ஐ. கணினிக் கல்வி நிறுவனத்தின் விருது வழங்கும் நிகழ்வு அண்மையில் வேம்படி மகளிர் உயர்தரப் பாடசாலை மண்டபத்தில் இடம்பெற்றது. இந்நிகழ்வில் சிறப்பு விருந்தினராகக் கலந்துகொண்ட 'யூனியன் அஷ்யூரன்ஸ்' நிறுவனத்தின் வடக்கு மாகாண வலய முகாமையாளர் சி.என்.மதிவதனன் உரையாற்றுவதை முதலாவது படத்தில் காணலாம். நிகழ்வில் கலந்துகொண்ட விருந்தினர்கள் மேடையில் அமர்ந்திருப்பதையும் பிரதம விருந்தினர் யாழ்.வலயக் கல்விப்பணிப்பாளர் திருமதி அ.வேதநாயகம் மாணவி ஒருவருக்கு விருது வழங்குவதையும் நிகழ்வில் கலந்துகொண்டோரில் ஒரு பகுதியினரையும் ஏனைய படங்களில் காணலாம். (படங்கள்: உமா, ஒங்காரன்)

**விஞ்ஞான மதிப்பீட்டு வினாத்தாள் வலயப் பணிமனையில்**

யாழ்ப்பாணம், நவ.5  
தென்மராட்சிக் கல்வி வலயப் பாடசாலைகளில் தரம் 9, தரம் 11 ஆகிய வகுப்பு மாணவர்களுக்கான விஞ்ஞான பாடமதிப்பீட்டு வினாத்தாள்கள் வலயக் கல்வி அலுவலகத்தில் வைக்கப்பட்டுள்ளன. அதிபர்கள் அவற்றினைப் பெற்றுக் கொள்ளுமாறு வலயக் கல்விப்பணிப்பாளர் கு.பிரேமகாந்தன் அறிவித்துள்ளார். (1-207)

**வீரமணி ஐயா நினைவுப் பேருரை இன்று கல்வியியற் கல்லூரியில்**

யாழ்ப்பாணம், நவ.5  
யாழ்ப்பாணம் தேசிய கல்வியியற் கல்லூரியின் ஒன்பதாம் ஆண்டு நிறைவை முன்னிட்டு இயல் இசை வாரிதி ந.வீரமணி ஐயா நினைவுப் பேருரை இன்று வியாழ்க்கிழமை பி.ப. 3 மணிக்குப் பீடாதிபதி எஸ்.கே.யோகநாதன் தலைமையில் நடைபெறும். (1)

**தென்மராட்சி கிழக்கில் சட்டவிரோத மின்பெற்றோர் வசமாக மாட்டிக்கொண்டனர்**

யாழ்ப்பாணம், நவ.5  
தென்மராட்சி கிழக்குப் பகுதியில் சட்டவிரோதமாக மின்சாரம் பெற்ற பல குடியிருப்பாளர்கள் வசமாக மாட்டிக்கொண்டனர். இலங்கை மின்சார சபையின் சாவகச்சேரி அலுவலகத்தினர் மிருசுவில் வடக்கு, தவசிசுளம், இயற்றாலை ஆகிய இடங்களில் அண்மையில் நடத்திய திடீர் பரிசோதனையின்போது சட்டவிரோதமாக மின்சாரம் பெற்ற பலர் அகப்பட்டனர். இவர்களிடமிருந்து கைப்பற்றப்பட்ட பெருமளவு மின் உபகரணங்கள் மின்சார சபை அலுவலகத்தில் வைக்கப்பட்டுள்ளதாகத் தெரிவிக்கப்பட்டது. (203-207)

**நெடுந்தீவு உதவி அரச அதிபர் அலுவலகத்திற்கு புதிய கட்டடம்; நிதி ஒதுக்கீட்டுக்கு ஏற்பாடு**

நல்லூர், நவ.5  
நெடுந்தீவு உதவி அரச அதிபர் பணிமனைக்கு புதிய கட்டடம் அமைப்பதற்கான நடவடிக்கைகள் ஜனவரிக்குப் பின்னர் மேற்கொள்ளப்படும் என்று சமூக சேவைகள் மற்றும் சமூகநலத்துறை அமைச்சர் டக்ளஸ் தேவானந்தா நெடுந்தீவில் வைத்துத் தெரிவித்தார். நெடுந்தீவு உதவி அரச அதிபர் என். திருலிங்கநாதன், நெடுந்தீவு உதவி அரச அதிபர் பணிமனை மிகவும் பழைமையான கட்டடத்தில் உள்ளதாகவும் தற்போது பணிமனை உள்ள கட்டடம் ஒல்லாந்தர் காலத்தைச் சேர்ந்தது எனவும் வசதிகள் கொண்ட புதிய கட்டடம் அமைக்கப்பட வேண்டியது குறித்தும் அமைச்சரிடம் விளக்கிக் கூறினார். உதவி அரச அதிபரின் கோரிக்கையை அடுத்து இதற்கான நிதி ஒதுக்கீடுகள் குறித்து சம்பந்தப்பட்டவர்களுடன் கலந்துரையாடி புதிய கட்டடத்திற்கான ஒழுங்குகளை மேற்கொள்வதாக அமைச்சர் தெரிவித்தார். (203-111)

**வைத்தியசாலைகளின் திறப்பு விழாக்கள் பிற்போடப்பட்டுள்ளன**

யாழ்ப்பாணம், நவ.5  
நாளை வெள்ளிக்கிழமை இடம்பெறவிருந்த சாவகச்சேரி வைத்தியசாலைத் திறப்பு விழாவும், மறுநாள் சனிக்கிழமை இடம்பெறவிருந்த கரவேட்டி வைத்தியசாலைத் திறப்பு விழாவும், ஞாயிற்றுக்கிழமை இடம்பெறவிருந்த இளவாலை வைத்தியசாலைத் திறப்பு விழாவும் தவிர்க்க முடியாத காரணத்தினால் பிற்போடப்பட்டுள்ளன. இவ்வைத்தியசாலைகளுக்கான திறப்பு விழாவிடக்கான புதிய திகதிகள் பின்னர் அறிவிக்கப்படும் என்று பிராந்திய சுகாதாரப் பணிப்பாளர் ஆ.கேதீஸ்வரன் அறிவித்துள்ளார். சுகாதாரத்துறைப் பணியாளர்களுக்கான நடமாடும் சேவை இன்று காலை 9 மணிக்

**வாராந்த நிகழ்வு**

வடமராட்சி, நவ.5  
தொண்டைமானாறு செல்வச்சந்திதியான் ஆச்சிரம சைவகலை பண்பாட்டுப் பேரவை சந்திதியான் ஆச்சிரம மண்டபத்தில் நடத்திவரும் வாராந்த ஆன்மீக நிகழ்வு வரிசையில் நாளை வெள்ளிக்கிழமை முற்பகல் 10.30 மணிக்கு, இசைக்கலைமாணி க.ரஜீவனின் இன்னிசை பக்கவாத்திய சகிதம் இடம்பெறும். (203-236)

**ஜனாதிபதியால் நியமிக்கப்பட்ட அமைச்சர்கள் எவரும் இதுவரையில் பிரதேச செயலகங்களில் பொறுப்பேற்கவில்லை!**

பண்டத்தரிப்பு, நவ.5  
யாழ்.மாவட்டத்தில் உள்ள பிரதேச செயலகங்களுக்கும் அபிவிருத்திப் பணிகளைத் துரிதத்தில் நிறைவேற்ற ஜனாதிபதியினால் அமைச்சர்கள் நியமிக்கப்பட்டபோதும் இதுவரை அவர்களில் எவரும் கடமையேற்கவில்லை எனத் தெரிவிக்கப்படுகிறது. ஜனாதிபதி மஹிந்த ராஜபக்ஷவினால் கடந்த மாதம் யாழ்.குடாவில் உள்ள 10 பிரதேச செயலகங்களுக்கு 10 அமைச்சர்கள் நியமிக்கப்பட்டார்கள். இவ்வாறு நியமிக்கப்பட்டவர்கள் பிரதேச செயலகங்களில் கடமைகளைப் பொறுப்பேற்றால் வடக்கின் வசந்தம், மஹிந்த சிந்தனை என்பன துரிதத்தில் நூர்த்தியாகப்பட்டு பிரதேசம் அபிவிருத்தியடையுமென பிரதேச செயலர்கள் தெரிவித்துள்ளார்கள். (4-130)

**கைதடியில் காவலரன் அகற்றப்பட்டது**

வண்ணை, நவ.5  
கைதடி அஷ்டலக்ஷ்மி அச்சகத்தின் மொட்டை மாடியில் நிறுவப்பட்டிருந்த பாதுகாப்புப் படையினரின் காவலரன் அகற்றப்பட்டுள்ளது. அதேவேளை நாவற்குழிச் சந்திக்கும் தபாற்கட்டைச் சந்திக்கும் இடைப்பட்ட ஏ-9 வீதியில் படையினர் பழைய காவலரண்களைப் புனரமைப்புச் செய்வதுடன் புதிதாகவும் பணைமர்க்குற்றிகளை நிறுத்தி ஓரிரு காவலரண்களை அமைத்து வருவதையும் காண்க்கூடியதாக உள்ளது. (203-160)

**குடாநாட்டில் கட்டடப் பணிகளை மேற்கொள்வதற்கு மணலைப் பெற்றுக்கொள்ள முடியாத நிலையில் மக்கள் வருகின்றனர்.**

யாழ்ப்பாணம், நவ.5  
குடாநாட்டில் சிமெந்து போதியளவு இருந்தும் மணலைப் பெற்றுக்கொள்வதில் பெரும் சிரமப்படுவதாகப் பொதுமக்கள் விசமல் தெரிவித்துள்ளனர். மணல் பற்றாக்குறையால் கட்டடப் பணிகள் மந்தகதியிலேயே இடம்பெற்று வருவதாகத் தெரிவிக்கப்படுகின்றது. கிராமசேவையாளர் மற்றும் பிரதேச செயலர் போன்றோரின் சிபார்சுக் கடிதங்களுடன் மணல் பெறுவதற்காக மக்கள் யாழ்.செயலகம் சென்று அதற்கான அனுமதிகளைப் பெறுவதற்கும் சிரமப்பட்டு வருகின்றனர். ஒரு வகையாக அனுமதியைப் பெற்றாலும் கூட குறித்த நேரத்தில் மணலைப் பெறமுடியவில்லை என்று சுட்டிக்காட்டப்படுகின்றது. இதனால் வெளியிடங்களில் கூடிய விலைக்கு மணலைப் பெறவேண்டிய நிலை ஏற்படுவதாகச் சுட்டிக்காட்டப்படுகிறது. இதை நிவர்த்தி செய்ய சம்பந்தப்பட்ட அதிகாரிகள் நடவடிக்கை எடுக்கவேண்டும் என்றும் பொதுமக்கள் கோரியுள்ளனர். (203-224)

**குறிகாட்டுவானில் குடிதண்ணீரில்லை; அமைச்சரிடம் முறைப்பாடு**

நல்லூர், நவ.5  
குறிகாட்டுவான் துறைமுகத்தில் பொது மக்களின் பாவனைக்கென வைக்கப்பட்டுள்ள தண்ணீர்த்தொட்டியில் நீண்டநாள் களாகக் குடிதண்ணீர் விடப்படவில்லை. இதனால் துறைமுகத்தினூடாகப் பயணிக்கும் மக்கள் சிரமங்களை எதிர்கொள்வதாகவும் புகுபுகுபுகு கடற்படை அதிகாரி சமூகசேவைகள் மற்றும் சமூக நலத்துறை அமைச்சர் டக்ளஸ் தேவானந்தாவிடம் தெரிவித்துள்ளார். அமைச்சர் கடந்த திங்கட்கிழமை நெடுந்தீவுக்குச் சென்றசமயம் இந்த விடயம் கடற்படை அதிகாரியால் அமைச்சருக்கு எடுத்துக்கூறப்பட்டது. இது தொடர்பாக உரிய நடவடிக்கை எடுப்பதாக அமைச்சர் தெரிவித்தார். (203-111)

**நவீன தொழில்நுட்ப அறிவைப் பெற்றுக்கொள்வதன் மூலம் உலகின் தேவைக்கேற்ப எம்மைத் தயார் செய்யமுடியும்**

**யாழ்.வலயக் கல்விப்பணிப்பாளர் உரை**

யாழ்ப்பாணம், நவ.5  
நவீன தொழில்நுட்ப அறிவைப் பெற்றுக்கொள்வதன் மூலம் நவீன உலகத்தின் தேவைக்கு ஏற்ப எம்மைத் தயார்படுத்திக்கொள்ள வேண்டும். யாழ்.வலயக் கல்விப்பணிப்பாளர் திருமதி அ.வேதநாயகம் இவ்வாறு தெரிவித்தார். யாழ்.வேம்படி மகளிர் கல்லூரி மண்டபத்தில் இடம்பெற்ற டி.எம்.ஐ.கணினிக் கல்வி நிறுவனத்தின் பரிசளிப்பு விழாவில் பிரதம விருந்தினராகக் கலந்துகொண்டு உரையாற்றும்போதே அவர் இவ்வாறு தெரிவித்தார். தொடர்ந்து உரையாற்றுகையில் தெரிவித்தவை வருமாறு: மனிதன் சமூகத்தில் மனிதனாக வாழ வேண்டும் எனில் கல்வி கற்க வேண்டும். நுட்ப அறிவைப் பெறுவதற்கு அவர்

மாணு. தற்போது அனைத்து நிறுவனங்களும் கணனி அறிவுடையவர்களையே எதிர் பார்க்கின்றன. தவறின் அவர்களால் வினைத்திற னான முறையில் தமது நிறுவனத்திற்குப் பங்களிக்கமுடியாதவர்களாக இருப்பார்கள். கணனி அறிவில்லாதவர்கள் கண் அற்ற வர்களாகவே வாழவேண்டியுள்ளது. சமூகத்தின் வளர்ச்சிக்கு ஏணிப்படியாக இருக்கும் ஆசிரியர்கள் கணனி தொடர்பான அறிவினைப் பெற்றிருத்தல் மிக அவசியமானது. அதுமட்டுமன்றி அவர்கள் கணனி உபகரணங்கள் கையாளவதில் பரீட்சய மாணவர்களாகவும் இருக்கவேண்டும். தென்பகுதியை விட இங்குள்ளவர்கள் குறைந்த நிலையில் உள்ளனர். தென்பகுதியில் சிறுவர்கள்

தொடக்கம் முதியவர்கள் வரையும் கணனி அறிவினைப் பெற்று வருகின்றனர். நாமும் அவ்வாறு ஆர்வமாக கணனித் துறையில் ஈடுபட வேண்டும். காலத்தின் தேவைக் கேற்ப எமது அறிவைப் பெற்றுக்கொள்வதன் ஊடாகவே இனி வரும் நவீன உலகத்தினை நாம் காண வேண்டியதாக இருக்கும் - என்றார். டி.எம்.ஐ. கணனி கற்கை நிறுவன இயக்குநர் ஆர்.நிரோஷன் தலைமையில் இடம்பெற்ற இந்த நிகழ்வில் 'யூனியன் அஷ்யூரன்ஸ்' நிறுவனத்தின் வடமாகாண வலய முகாமையாளர் சி.என்.மதிவதனன் சிறப்பு விருந்தினராகக் கலந்துகொண்டார். (203-14-9)





விஞ்ஞான தொழில்நுட்ப அமைச்சின் கீழ் உள்ள நிறுவனங்களின் ஏற்பாட்டில் உலக விஞ்ஞான தின நிகழ்வுகள் கடந்த முதலாம், இரண்டாம் திகதிகளில் யாழ்.மத்திய கல்லூரியில் இடம்பெற்றன.  
நிகழ்வின் இறுதி நாளன்று மாலை, உலக விஞ்ஞான தினத்தை முன்னிட்டு நடத்தப்பட்ட கட்டுரை மற்றும் புத்தாக்கப் போட்டிகளில் வெற்றியீட்டிய மாணவர்களுக்கும், கண்காட்சிகளில் தமது உற்பத்திப் பொருள்களைக் காட்சிப்படுத்திய நிறுவனங்களுக்கும் பரிசு வழங்கல் நிகழ்வு யாழ்.மத்திய கல்லூரி மண்டபத்தில் இடம்பெற்றது.  
இந்த நிகழ்வில் உலக விஞ்ஞானதினம் 2009 இன் குழுவின தலைவர் எஸ்.சுதர்சன் தலைமை உரையாற்றுவதனையும் சமூக சேவைகள் மற்றும் சமூகநலத்துறை அமைச்சர் டக்ளஸ் தேவானந்தா கௌரவ விருந்தினர் உரையாற்றுவதனையும் முதல் இரண்டு படங்களிலும் காணலாம்.  
சிறப்புரைகளை, யாழ் அரசு அதிபர் கே.சுனேஷ், மேலதிக அரசு அதிபர் ரூபினி வரதலிங்கம், யாழ்.மத்திய கல்லூரி அதிபர் எல். ஓங்காரமூர்த்தி ஆகியோர் நிகழ்த்துவதை அடுத்துள்ள மூன்று படங்களிலும் காணலாம்.  
விஞ்ஞான தொழில் நுட்ப அமைச்சின் வடமாகாணப் பணிப்பாளர் மஜித் மாணவன் ஒருவருக்கு பரிசில் வழங்குவதையும் நிகழ்வில் கலந்து கொண்டோரில் ஒரு பகுதியினரையும் இறுதி இரண்டு படங்களிலும் காணலாம்.  
(படங்கள்: உமா)

### மனித குலத்தை முன்னேற்றப் பாதையில் கொண்டுசெல்லக் கூடிய கண்டு பிடிப்புக்களையும் ஆற்றல்களையும் வெளிப்படுத்த வேண்டும்

யாழ்ப்பாணம், நவ.5  
மனித குலத்தை முன்னேற்றப் பாதையில் கொண்டு செல்லக் கூடியதான உள்ளூர் கண்டுபிடிப்புக்களையும், ஆற்றல்களையும் வெளிப்படுத்த இளம் சமுதாயம் முன்வருதல் வேண்டும்.  
இவ்வாறு சமூக சேவைகள் மற்றும் சமூக நலத்துறை அமைச்சர் டக்ளஸ் தேவானந்தா தெரிவித்தார்.  
உலக விஞ்ஞான தினத்தை முன்னிட்டு யாழ்.மத்திய கல்லூரியில் இடம்பெற்ற கண்காட்சி நிகழ்வின் இறுதியில் இடம்பெற்ற நேற்றுக் காலை வரை 544.5 மில்லிமீற்றர் மழை நல்லூர், நவ.5 நேற்றுமுன்தினம் செவ்வாய்க்கிழமை காலை 8.30 மணிமுதல் நேற்று புதன் கிழமை காலை 8.30 மணிவரை குடாநாட்டில் 35.2 மில்லிமீற்றர் மழை பதிவாகியுள்ளதாகத் திருநெல்வேலி வானிலை ஆராய்ச்சி மையப் பொறுப்பதிகாரி எஸ்.புஸ்பநாதன் தெரிவித்துள்ளார்.  
நேற்றுக் காலை வரை குடாநாட்டில் 544.5 மில்லிமீற்றர் மழை பெய்துள்ளதாகவும் அவர் மேலும் கூறினார். (203-111)

### சமூக நலத்துறை அமைச்சர் உரை

பரிசளிப்பு நிகழ்வில் கௌரவ விருந்தினராகக் கலந்துகொண்டு உரையாற்றும் போதே அவர் இவ்வாறு தெரிவித்தார்.  
மேலும் உரையாற்றும்போது அவர் தெரிவித்தவை வருமாறு:  
இக் கண்காட்சி மூலம் உள்ளூர் உற்பத்திகளுக்கு சந்தைவாய்ப்புக் கிடைக்கும் நிலைமை ஏற்படும்  
ஏ-9 வீதி மூடப்பட்டிருந்த வேளை உள்ளூர் உற்பத்தியாளர்கள் தமது உற்பத்திகளை சந்தைப்படுத்த அதிக தடைகளை சந்திக்க வேண்டியிருந்தது.  
கடந்த காலங்களில் வாய்ப்புக்கள் பல காத்திருந்தன. ஆனால் அத்தகைய வாய்ப்புக்களைப் பயன்படுத்த அரசியல் தலைமைகள் மறுத்துவந்தன. அவர்கள் இளம் சமூகத்தை அழிவை நோக்கிய புதிய கண்டுபிடிப்புக்களுக்கே ஆர்வப்படுத்தியிருந்தனர்.  
ஜனாதிபதியின் நடவடிக்கையால் தற்போது அவ்வாறான எல்லாத் தடைகளும் நீங்கியுள்ளன.  
வடபகுதிக்கும் தென்பகுதிக்கும் இடையே உற்பத்திப் பொருள்கள் சந்தை

வாய்ப்புக்காக வருகின்றன. உள்ளூர் உற்பத்தியாளர்கள் அதிக சவால்களை எதிர்கொள்ள வேண்டியிருக்கிறது.  
நுகர்வோரைக் கவர்ந்திழுக்கக் கூடிய உற்பத்திகளை, உள்ளூர் உற்பத்தியாளர்கள் படைக்க வேண்டும் என இச்சந்தர்ப்பத்தில் வேண்டிக் கொள்கிறேன். இதை ஆலோசனையாகக் கூடக் கூறிக்கொள்ள விரும்புகிறேன்.  
விஞ்ஞான தொழில்நுட்ப அமைச்சின் மூலம் கிடைத்திருக்கும் சந்தர்ப்பத்தை புதிய கண்டு பிடிப்பாளர்களும், உற்பத்தியாளர்களும் முழுமையாகப் பயன்படுத்த வேண்டும் எனக் கேட்டுக் கொள்கிறேன் - என்றார். (203-14)

### நாவல் குருபுசை தினத்தை முன்னிட்டு கட்டுரை, பேச்சுப் போட்டிகள் மாணவர்களிடையே நடத்த ஏற்பாடு

யாழ்ப்பாணம், நவ.5  
வலி.கிழக்கு சைவசமய அருள்நெறி மன்றத்தின் ஏற்பாட்டில் எதிர்வரும் டிசம்பர் மாதம் 8 ஆம் திகதி நடைபெறவுள்ள ஆறுமுகநாவலர் பெருமானின் குருபுசைத்தின விழாவையொட்டி கட்டுரை, பேச்சு போட்டிகள் நடைபெறவுள்ளன.  
மூன்று பிரிவுகளாக நடைபெறவுள்ள இந்தப் போட்டியில் பாடசாலை மாணவர்கள் அனைவரும் பங்குபற்றலாம் எனத் தெரிவிக்கப்பட்டுள்ளது.  
விண்ணப்பப் படிவங்களை சைவசமய அருள்நெறி மன்றம், வீரபத்திர கோயிலடி, கோப்பாய் தெற்கு என்னும் முகவரியில் பெற்றுக்கொள்ளலாம் என அறிவிக்கப்பட்டுள்ளது. (203-204)

### சண்டிலிப்பாய்க் கோட்டம் பாடசாலைகளின் சிறுவர் தினப் போட்டி முடிவுகள்

யாழ்ப்பாணம், நவ.5  
சண்டிலிப்பாய் கல்விப் கோட்டப் பாடசாலைகளுக்கிடையிலான சர்வதேச சிறுவர் தினப்போட்டி முடிவுகள் அறிவிக்கப்பட்டுள்ளன. முதல் மூன்று இடங்களைப் பெற்றோர் விவரம் கீழே தரப்படுகின்றது.  
**பேச்சுப் பிரிவு - 1**  
நவநீதா சிவநேசநாதன் - மாணிப்பாய் மகளிர் கல்லூரி, அரியநாயகம் அகல்யன் - சண்டிலிப்பாய் இந்துக் கல்லூரி, ச.சோபா - பிரான்பற்று கலைமகள் வித்தி.  
**பேச்சுப் பிரிவு - 2**  
கிருஜிகா கணபதிப்பிள்ளை - மாணிப்பாய் மகளிர் கல்லூரி, யசாந்தினி ரவீந்திரன் - ஆனைக்கோட்டை நோ.க., யோகராஜன் கபில்டன் - சண்டிலிப்பாய் இந்துக் கல்லூரி.  
**பேச்சுப் பிரிவு - 3**  
பாமினி டலஸ் - நவாலி மகா வித்தியாலம், இ.சுபீசன் - சண்டிலிப்பாய் இந்துக் கல்லூரி, துவசீசன் - மாணிப்பாய் இந்துக் கல்லூரி.  
**கவிதைப் பிரிவு - 1**  
ஸயந்தினி அமிர்தலிங்கம் - சுதுமலை சிந்மயபாரதி வித்தி., அன்ரணியூட் சுபிட்சன் - பண்டத்தரிப்பு ஜசிந்தா நோ.க.த.க., மிதிலாலினி இராஜதுரை - மாணிப்பாய் மெமோறியல்.  
**கவிதைப் பிரிவு - 2**  
பிரியங்கா பால்கரன் - மாணிப்பாய் மத

ளிர் கல்லூரி, காஞ்சனகரி கனகசபாபதி - சுதுமலை சிந்மயபாரதி வித்தி., ட.சுகன்யா - சண்டிலிப்பாய் இந்துக் கல்லூரி.  
**கவிதைப் பிரிவு - 3**  
சதாசிவம் ஜெயராணி - பண்டத்தரிப்பு மகளிர் கல்லூரி, பா.மோகன்ராஜ் - மாணிப்பாய் இந்துக் கல்லூரி, துர்மிலா இலட்சுமி காந்தன் - மாணிப்பாய் மகளிர் கல்லூரி.  
**கட்டுரைப் பிரிவு - 1**  
தனஞ்சிகா சின்னராசா - மாணிப்பாய் மகளிர் கல்லூரி, டிலக்ஷணா செபமாலை - பண்டத்தரிப்பு ஜசிந்தா நோ.க.த.க., த.தேவதர்சினி - சண்டிலிப்பாய் இந்துக் கல்லூரி.  
**கட்டுரைப் பிரிவு - 2**  
வி.பானுஜா - மாணிப்பாய் சென். ஆன்ஸ் நோ.க., நா. கஜந்தினி - சண்டிலிப்பாய் இந்துக் கல்லூரி, வே.நிந்துஜா - பண்டத்தரிப்பு மகளிர் கல்லூரி.  
**கட்டுரைப் பிரிவு - 3**  
செ.தர்சிகா - சண்டிலிப்பாய் இந்துக் கல்லூரி, ம.நிலானி - மாணிப்பாய் மகளிர் கல்லூரி, க.கஜிதன் - மாணிப்பாய் இந்துக் கல்லூரி.  
(203-38)

### பாதுகாப்பு அமைச்சின் அனுமதி கிடைத்தால் மட்டுமே ஏ - 9 வீதி ஊடாக முழு அளவிலான போக்குவரத்து

அமைச்சர் லலிந்த அழகியவன் தெரிவிப்பு  
கொழும்பு, நவ.5  
பாதுகாப்பு அமைச்சு அனுமதி வழங்கினால் மட்டுமே ஏ - 9 நெடுஞ்சாலையின் ஊடாக முழு அளவிலான போக்குவரத்தை மேற்கொள்ளமுடியும் - என்று பயணிகள் போக்குவரத்து அமைச்சர் லலிந்த அழகியவன் நேற்று முன்தினம் நாடாளுமன்றில் கூறினார்.  
வாய்மூல விடைக்கான நேரத்தின்போது ஜே.வி.பி. கட்சியின் உறுப்பினரான ஆர். பி. ரணவீரபத்திரான கேட்ட கேள்விக்குப் பதிலளிக்கும்போதே அமைச்சர் இவ்வாறு கூறினார்.  
அவர் மேலும் வாய்மூல விடைக்கான ரயில் சேவையை விரிவுபடுத்துவதற்காக மேலும் ரயில் பெட்டிகள் கொள்வனவு செய்யப்படவுள்ளன. தற்போது வவுனியாவில் இருந்த தாண்டிக்குளம் வரை ரயில் சேவை இடம் பெறுகிறது.  
2010ஆம் ஆண்டு

இறுதிக்குள் யாழ்ப்பாணத்திற்கான ரயில் சேவை ஆரம்பிக்கப்படும். யாழ்ப்பாணத்தின் கடைசி ரயில் நிலையம் வரை ரயில் செல்ல ஏற்பாடு செய்யப்படும். - என்றார்.  
ஏ - 9 ஊடான போக்குவரத்துச் சேவையை அரசு ஏன் இன்னும் முழுமையாக ஆரம்பிக்கவில்லை என்று ஜே.வி.பி. எம்.பி.ஆர். பி. ரணவீரபத்திரான அமைச்சரிடம் கேள்வி எழுப்பினார்.  
அத்தோடு தெரிவுசெய்யப்பட்ட சிலர் மாத்திரம் அப்பாதையில் ஊடாகப் பயணிக்க அமைதி வழங்கப்படுகிறது என்றும் அவர் சொன்னார். பாதுகாப்பு அமைச்சு அனுமதி வழங்கினால் மாத்திரமே முழுமையான அளவில் போக்குவரத்தை மேற்கொள்ள முடியும் என்று அமைச்சர் லலிந்த அழகியவன் பதிலளித்தார். (அ-சி)

#### மரண அறிவித்தல்



#### முத்தையா கனகலிங்கம்

காங்கேசன்துறையைப் பிறப்பிடமாகவும் மாணிப்பாயை தற்காலிக வசிப்பிடமாகவும் கொண்ட முத்தையா கனகலிங்கம் நேற்று முன்தினம் (03.11.2009) செவ்வாய்க்கிழமை காலமானார்.

அன்னார் கனகலிங்கம் அன்புக் கணவரும் சந்தரலிங்கம், காலஞ்சென்ற சிவஞானபுரணி, ஆனந்தராணி ஆகியோரின் சகோதரனும் நந்தகுமார், காலஞ்சென்ற சிவகுமார், உஷாநந்தினி (சுவிஸ்) ஆகியோரின் அன்புத் தந்தையும் கேதீஸ்வரன், சிவதர்ஷினி ஆகியோரின் மாமனும் சுவேதா, மதுமிதா, பிரணவன் ஆகியோரின் அன்புப் பேரனுமாவார்.

அன்னாரின் இறுதிச் சடங்குகள் நேற்று (04.11.2009) புதன் கிழமை நடைபெற்றன. இந்த அறிவித்தலை உற்றார், உறவினர், நண்பர்கள் அனைவரும் ஏற்றுக் கொள்ளவும்.

சந்தையடி லேன், தகவல்: மாணிப்பாய். (90589) நந்தகுமார் (மகள்).



### 'கேள்விக்கு என்ன பதில்' போட்டியில் வெற்றி பெற்றோருக்கான பரிசளிப்பு

'உதயன்'ல் வாரந்தோறும் வெளிவரும் 'கேள்விக்கு என்ன பதில்' போட்டியில் கலந்துகொண்டு வெற்றி பெற்றவர்களுக்கான பரிசில் வழங்கும் நிகழ்வு அண்மையில் நடைபெற்றது. இந்தப் போட்டியில் வெற்றிபெற்ற மாணவர்களுக்கான பரிசினால் உதயன் நூலகரும் ஆசிரியர் பீடப் பிரதிநிதியுமான வி.எஸ்.தங்கராஜா வழங்குவதை முதல் இரு படங்களிலும் உதயன் நிறுவனக் கணக்காளர் ஆ.கனக சபை வழங்குவதை ஏனைய படங்களிலும் காணலாம்.



கதிற்றல் வீதி, யாழ்ப்பாணத்தைச் சேர்ந்த யே.லிமோஜன் பரிசு பெறுகின்றார்.



காட்டுக்கந்தோர் வீதி, சுண்டிக்குழியைச் சேர்ந்த கோ.அபிலாஷினி பரிசு பெறுகின்றார்.



ஏழாலை மேற்கு, சுன்னாகத்தைச் சேர்ந்த இ.துர்க்காயினி பரிசு பெறுகின்றார்.



முளாய் வீதி, வட்டுக்கோட்டையச் சேர்ந்த ஸ்ரீ.சொருபிகா பரிசு பெறுகின்றார்.

### மரத்தில் பூக்காத பூக்கள்

- \* மனிதன் புகழும் பூ - சிறப்பு
- \* மலர்ச்சியில் வரும் பூ - சிரப்பு
- \* காலையில் வரும் பூ - விழப்பு
- \* கோபத்தில் வரும் பூ - வெறுப்பு
- \* பாதங்களை காக்கும் பூ - செருப்பு
- \* மனிதன் பேண வேண்டிய பூ - மதிப்பு
- \* மானம் காக்கும் பூ - உருப்பு
- \* பயத்தினால் வரும் பூ - டயப்பூ
- \* வயலில் உள்ள பூ - வரம்பு
- \* படகோட்டியிடம் உள்ள பூ - தூர்ப்பூ
- \* மனிதனிடையே காணவேண்டிய பூ - பண்பு
- \* எல்லோருக்கும் தேவையான பூ - அன்பு
- \* இதயத்தில் உள்ள பூ - தூடிப்பு
- \* பதவியில் இருக்கும் பூ - வொறுப்பு
- \* கட்டாயத்தைக் கூறும் பூ - திணிப்பு
- \* புத்திசாலியான பூ - ஏறாப்பு
- \* உயர்ச்சிக்கு உதவும் பூ - உழைப்பு

தர்ஷனா சுப்பிரமணியம், தரம் - 13, கலைப்பிரிவு, பண்டிதரிப்பு பெண்கள் பாடசாலை.



- புன்னகை காட்டும் நிலவே  
புதுமுகம் கொண்ட நிலவே  
புதுமைக் கவி பாரதி  
ஏற்றிப் பாடிய நிலவே  
கண்களில் குளிர் தரும்  
ஒளியதாய்  
பெண்களின் அழகினை வென்றிடும்  
நிலவே  
விண்ணரசியாகி வளர்ந்திடும்  
வளர்மதி நிலவே  
வானவர் கண்ணனை  
வாழ்ந்திடும் நிலவே  
ஏழைகள் வீட்டில் அணையாத  
ஒளி விளக்காய் நிலவே  
ஒளி எனும் உணர்வை  
தினம் உணர்த்திடும் நிலவே  
குழந்தைக்கு அமுதூட்டும்  
அன்னைக்குதவும் நிலவே  
கவிதைகள் பல எழுதித் தூண்டும்  
கவிமதி நிலவே  
கலங்கிடும் நெஞ்சின்  
துன்பம் துடைத்திடும் நிலவே  
தினம் தினம் இனிமைகள்  
தர வா நிலவே!

### கேள்விக்கு என்ன பதில்? 45இல் பரிசு பெறுவோர்

- 01) சா.பபிசன், வன்னியசிங்கம் வீதி, கோண்டாவில் கிழக்கு.
- 02) ச.கோபிதன், 66/4, பழம் நோட், சுந்தர்மடம்.
- 03) ப.சுதிர்சினி, புன்னாலைக்கட்டுவன் தெற்கு, சுன்னாகம்.

### கேள்விக்கு என்ன பதில்?-45இன் சரியான விடை

### பென்குயின் கேள்விக்கு என்ன பதில்? - 47

ஐரோப்பாவின் விளையாட்டு மைதானம் என்று அழைக்கப்படும் நாடு எது? (சரியான விடையை 11.11.2009இற்கு முன்னர் அனுப்பிவைக்கவும்).

### சீர்தீக்க சில துளிகள்

- \* வயதில் இளையவனாகவும் அறிவில் மூத்தவனாகவும் இருக்க பழகிக்கொள்.
- \* வரட்டுக் கொளவம் வாழ்க்கைக்கு உதவாது. வரட்டுப் பிடிவாதம் முயற்சிக்கு உதவாது.
- \* தன் கையை பணத்தால் நிரப்பவேண்டும். தன் மனதை குணத்தால் நிரப்பவேண்டும்.
- \* உன் உழைப்பை நம்பு. ஆனால் கடவுளையும் உன் தாயையும் மறந்துவிடாதே.
- \* உன்னால் நண்பர்களை மட்டுமே தேர்ந்தெடுக்க முடியும். உன் பெற்றோர்களைத் தேர்ந்தெடுக்க முடியாது.
- \* பணம் இல்லாவிட்டால் உன்னை யாருக்கும் தெரியாது. பணம் இருந்துவிட்டால் உன்னையே உனக்குத் தெரியாது.

சி.ஜிங்கரன், தரம் - 11B, பரியோவான் கல்லூரி.

### பலன் தராத பதினெட்டு

- \* அன்பு இல்லாத தாய்
- \* மென்மை இல்லாத பெண்மை
- \* கனவுகள் இல்லாத வாழ்க்கை
- \* சிதைவுகள் இல்லாத வரலாறு
- \* பண்பு இல்லாத அறிவு
- \* பக்குவம் இல்லாத முதுமை
- \* இனிமை இல்லாத இளமை
- \* உழைப்பு இல்லாத செல்வம்
- \* மனச்சாட்சி இல்லாத இன்பம்
- \* விக்கிரகம் இல்லாத கோயில்
- \* நேர்மை இல்லாத உழைப்பாளி
- \* ஆராய்வு இல்லாத விஞ்ஞானம்.
- \* தியாகம் இல்லாத வாழ்க்கை
- \* அடிப்படை இல்லாத அரசியல்
- \* வாசனை இல்லாத மலர்கள்
- \* உண்மைகள் இல்லாத உழைப்பு
- \* புன்னகை இல்லாத பூவையர்
- \* இலட்சியம் இல்லாத மனிதன்.

ஜெ.சஞ்சீவ், தரம் - 9சி, யூனியன் கல்லூரி.

சீதைந்து போகும் - என் கனவுகள் சில்லறையாய்ச் சீர்க்கிறதது இலட்சியம் நிறைந்த என் வாழ்வு நிழலை நிஜமாக்க முயன்று தினம் தினம் தேற்றும் போகிறது

வசந்தம் வாசல் வரை வந்து சுகம் விசாரித்துச் செல்கிறது கடுமையும் என் விதி வலுவான நடத்தில் பயணிக்காதோ? சொந்தமும் என் உறவும் மீளவும் என்னிடம் ஈழும்பாதோ?

யூ.மேரி கொன்சியா, தரம் - 11, சென்.ஜேம்ஸ் மகளிர் பாடசாலை.

### இளைஞர், யுவர்களே!

உங்களின் திறமைகளை வெளிக்கொணரவும், பிரச்சினைகள் பற்றிப் பேசவும், தேடல்களுக்குத் தீனி போடவும் 'இளவல்கள் வட்டம்' என்ற இந்தப் பகுதி மலர்ந்துள்ளது. இப்பகுதிக்கான உங்கள் படைப்புகளையும், விமர்சனங்களையும் கீழேயுள்ள படிவத்தோடு இணைத்து அனுப்பிவைக்கவும்.

பெயர் : .....  
 முகவரி : .....  
 திகதி : ..... கையொப்பம் : .....

'இளவல்கள் வட்டம்', 'உதயன்', 361, கந்தாரியார் வீதி, யாழ்ப்பாணம்.

### வரலாற்று நினைவுகள்

ஆண்டு	நவம்பர் 1	நவம்பர் 2	நவம்பர் 3	நவம்பர் 4	நவம்பர் 5
1918ஆம் ஆண்டு ஓக்ரோபர் 30ஆம் திகதி தன்னை ஒரு குடியரசு நாடாக 'செக்கோஸ் லாவோக்கியா' பிரகடனப் படுத்திக் கொண்டது.	புகழ்பெற்ற இத்தாலிய திரைப்பட இயக்குநரும் திரைக்கதை ஆசிரியருமான 'பெட்ரிக்கோ பெலினி' என்பவர் 1993ஆம் ஆண்டு ஓக்ரோபர் 31ஆம் திகதி காலமானார்.	லிஸ்பன் நகரத்தில் 1755ஆம் ஆண்டு நவம்பர் முதலாம் திகதி ஏற்பட்ட மிகப்பெரிய புவி அதிர்ச்சியினால் ஏறக்குறைய 60ஆயிரம் பேர் மாணிக்ந்தனர்.	அமெரிக்காவின் 39ஆவது ஜனாதிபதியாக 'ஜேம்ஸ் ஏர்ல் ஹார்ட்டர்' 1976ஆம் ஆண்டு நவம்பர் 2ஆம் திகதி தேர்தல் மூலம் தெரிவு செய்யப்பட்டார்.	நாடு தேடி பயணித்த கிறிஸ்தோப்பர் கொலம்பஸ் தன்னுடைய இரண்டாவது பயணத்தில் 1493ஆம் ஆண்டு நவம்பர் 3ஆம் திகதி மேற்கிந்திய தீவான 'டொமினிக்கா'வில் காலடி வைத்தார்.	1922ஆம் ஆண்டு நவம்பர் 4ஆம் திகதி எகிப்திய மன்னன் 'பாரோ துட்டாங்கமன்' என்பவரின் பிரமிட்டை பிரித்தானிய அகழ்வாய்வாளரான 'ஹாவார்ட் ஹார்ட்டர்' கண்டுபிடித்தார்.
					ஐஸ்லாந்தின் தென்கிழக்கே பனிப்பாறை ஒன்றின் கீழ் எரிமலை 1996ஆம் ஆண்டு நவம்பர் 5ஆம் திகதி வெடித்துச் சிதறியது. இதனால் அப்பகுதி முழுவதும் வெள்ளக்காடாக மாறியது. மனிதர்கள் அப்பகுதியில் இல்லாததால் எவ்வித உயிர்ச்சேதமும் ஏற்படவில்லை.



### மாவட்ட வலம் - மன்னார்

கல்விப் பொதுத் தராதரப் பத்திர சாதாரணதரப் பரீட்சை, டிசம்பர்-2009  
General Certificate of Education (Ord.Level) Examination, December-2009

கணிதம் - I (புதிய பாடத்திட்டம்)

32-T-I

எல்லா வினாக்களுக்கும் விடை எழுதுக.

பகுதி - A

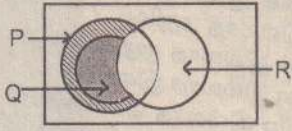
01. ஐந்து இனிப்பின் விலை ஒரு ரூபா எனின், ஒரு இனிப்பின் விலையை ரூபாவில் காணுங்கள்.

02. O வை மையமாகக்கொண்ட வட்டத்தில் முக்கோணி ABC இன் சிறப்பு பெயர் என்ன எனக்கூறுங்கள்.

03. தீர்த்து x இன் பெறுமதியைக் காணுங்கள்  $n + 6 = 5$

04. 0.00345 என்னும் எண்ணை விஞ்சான முறை குறியீட்டில் தருக.

05. வென் உருவில் நிழற்றிய பிரதேசத்தை தொடைக்குறியீட்டில் காணுங்கள்



06. சதுரம் ஒன்றின் மூலை விட்டம் நீளம் 20CM எனின், அதன் பரப்பளவைக் காணுங்கள்.

07.  $A = \{2, 4, 6, 8\}$  என்ற தொகுதியின் முதலமை காணுங்கள்.

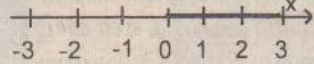
08.  $2\sqrt{5}$  இன் வர்க்கத்தின் பெறுமானத்தைக் காண்க.

09.  $\sqrt[11]{\dots}$  என்ற எண்ணின் அடுத்த இரண்டு அடியுள்ள எண் என்ன எனக்காணுங்கள்.

10. முதலாவது முதன்மை எண்ணுக்கும் முதலாவது சேர்த்தியெண்ணுக்கும் இடையில் உள்ள விகிதம் யாது?

11. பொருள் ஒன்று குறித்த விலையின் 10% கழிவு கொடுத்து விற்கப்பட்டது. கொடுக்கப்பட்ட கழிவு ரூபா 200 எனின்,  
1) குறித்த விலை காணுங்கள்.  
2) விற்ற விலை காணுங்கள்.

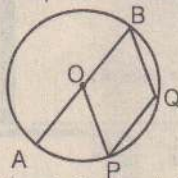
12. தரப்பட்டுள்ள எண் கோட்டில் குறித்து காட்டப்பட்டுள்ளதை எழுதுங்கள்.



13. சதுர வடிவ அடியுள்ள கூம்பகம் ஒன்றின் உயரம் 6CM. அதன் கனவளவு  $98CM^3$  ஆகும் கூம்பகத்தின் அடியின் பக்கமொன்றின் நீளத்தைக் காணுங்கள்.

14.  $\equiv (-1, 3) > Q \equiv (-2, -1), R \equiv (-5, 3)$  எனும் புள்ளிகளில் எப்பள்ளிகள் நேர்கோடு  $2n + 3y = 1$  எனும் சமன்பாட்டைத் தீர்க்கப்பயன்படுகின்றது.

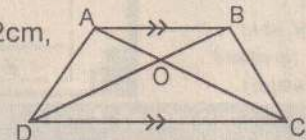
15. உருவில் O வட்டத்தின் மையம் AOB விட்டம்  $OP \parallel BQ$ ,  $\angle AOP = 40^\circ$  எனின்,  
1)  $\angle OBQ$   
2)  $\angle OPQ$  இன் பெறுமானத்தைக் காணுங்கள்.



16. குறித்த ஒரு வேலையை குறிப்பிட்ட காலத்தில் 3 ஆண்கள் செய்யும் வேலையை 4 பெண்கள் செய்து முடிப்பர். 12 ஆண்கள் 16 நாட்களில் செய்யும் வேலையை 5 பெண்கள் எத்தனை நாட்களில் முடிப்பர் என்பதைக் காணுங்கள்.

17. 1)  $x^2 - 6x + a = (x+b)^2$  எனின்,  $a > b$  என்பவற்றின் பெறுமானங்களைக்காணுங்கள்.  
2)  $x^2 - 6x + a$  என்ற இருபடிச் சமன்பாட்டின் ஒரு மூலம் 3 எனின், மற்றைய மூலகத்தைக் காண்க.

18. உருவில்  $AB \parallel DC$ ,  $AB = 4cm$ ,  $DC = 5cm$ ,  $AO = 2cm$ ,  $DO = 3cm$ .  $OB, OC$  என்பவற்றின் நீளங்களைக் காணுங்கள்.

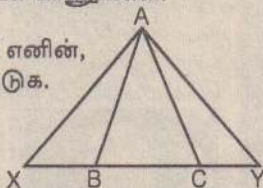


19. மடக்கை அட்டவணை பயன்படுத்தாமல் சுருக்குக.  
 $\lg \sqrt{5} + \frac{1}{2} \lg 80 - \lg$

20.  $x = 4at$ ,  $y = 2at^2$  என அமையும்போது  $\frac{dy}{dx}$  ஐ நீக்கி  $y$  ஐ  $a, x$  என்பவற்றில் தாருங்கள்.

21. ரூபா 14 பங்குகளை ரூபா 20 படி வாங்குவதற்கு குமணன் ரூபா 80,000ஐ கம்பனி ஒன்றில் முதலீடு செய்தார் எனின்,  
1) குமணன் வாங்கிய பங்குகளின் எண்ணிக்கையைக் காணுங்கள்.  
2) மொத்தப்பங்குகளின் பெயர் மாத்திரை பெறுமதியைக் காணுங்கள்.

22. படத்தில் ABC ஒரு சமபக்க முக்கோணி ஆகும்.  $BX = cy$  எனின்,  
1) ஒருங்கிசையும் முக்கோணச் சோடி ஒன்றைப் பெயரிடுக.  
2) அவை ஒருங்கிசையும் சந்தர்ப்பத்தைத் தருக.

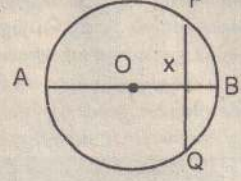


23.  $(x^2 - 1), (x^2 + 2x + 1)$  இன் கோவைகளின் பொது மடங்கின் சிறியதைக் காணுங்கள்.

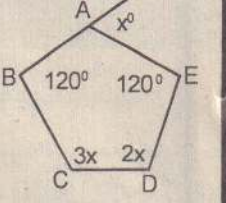
24. அமீயாஸ் தம்மிடமிருந்த பணத்தில்  $\frac{1}{6}$ ஐத் தனது மனைவிக்கும் மிகுதியைச் சமமாகத் தனது மூன்று புத்திரர்களுக்கு பிரித்து கொடுக்கிறான். ஒரு புத்திரனுக்குக் கிடைத்த பங்கைக் காணுங்கள்.

25. -5, a, b, c, d ..... 15, 17 என்பன கூட்டல் விருத்தியில் உள்ள உறுப்புகள் ஆகும்.  $(a + b + c + d)$  இன் பெறுமதியைக் காணுங்கள்.

26. இவ் வட்டத்தின் மையம் O ஆகும்.  $AX = 8cm$ ,  $xB = 2cm$  எனின், நாண் PQ இன் நீளத்தைக் காணுங்கள்.

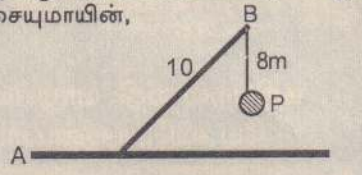


27. ஒரு மட்டமான தரையில் வண்டி மூலம் இரண்டு மணித்தியாலங்களில் 18KM செல்வானாயின்,  
1) வண்டியின் கதியை  $ms^{-1}$  இல் காணுங்கள்.  
2) வண்டி சக்கரத்தின் அச்சின் ஒழுக்கு பற்றி யாது கூறுவீ?



28. உருவில் ABCDE எனும் ஐங்கோணி ஒன்றின் உச்சிக் கோணங்கள் காட்டப்பட்டுள்ளன. இதன் பிரகாரம் X இன் பெறுமதியைக் காணுங்கள்.

29. AB என்பது 10m நீளமான உயர்த்தி. அது A பற்றிச் சுழலுகின்றது. BP எப்போதும் கிடைத்தளத்திற்கு நிலைக்குத்தாக இருக்குமாறு அமைக்கப்பட்டுள்ளது. P ஆனது தரையைத் தொட்டுக்கொண்டு அசையுமாயின்,  
1) P இன் ஒழுக்கு பற்றி யாது கூறுவீ?  
காரணம் தருக.  
2) பரு மட்டைப் படம் வரைக.



30. உருவில் சீரான பாதையொன்றில் முனை A இல் இருந்து 4.4m தூரத்திலுள்ள மறு முனை B யை நோக்கி 7cm ஆரையுடைய ஒரு வட்ட வளையம் 11cm  $51$  எனும் சீரான கதியுடன் சுழல்கின்றது. இவ்வளையம் முனை A இல் இருந்து முனை B யை அடையும்போது,  
1) ஒரு முறை சுழல்கின்றபோது சென்ற தூரத்தை cm இல் காணுங்கள்.  
2) B யை அடையும்போது சுழற்றிகளின் எண்ணிக்கையும் A அடைய எடுத்த நேரத்தையும் காண்க.

பகுதி B

\* எல்லா வினாக்களுக்கும் விடை தருக.  
01. தரவுகளைத் தொகுப்பு கணிப்பீட்டில் தொகுக்கப்பட்ட தகவல்கள் கீழே அட்டவணையில் தரப்பட்டுள்ளன.

கம்பனியின் பெயர்	பங்குலாப விகிதம்	பங்கு ஒன்றின் பெயர் மாத்திரைப் பெறுமானம்	பங்கு ஒன்றின் விற. விலை
முருகவேல் அன் கம்பனி ஜேசு என்டர் பிரைஸ் பென்ஸ்சின் லிமிடெட்	14%	ரூபா 12.00	ரூபா 12.00
	10%	ரூபா 10.00	ரூபா 8.00
	20%	ரூபா 20.00	ரூபா 25.00

a) அட்டவணையைப் பயன்படுத்தி பின்வரும் வினாக்களுக்கு விடை தருக.  
1. எந்த நிறுவனத்தில் சமத்திலும் குறைவாக விற்கப்படுகின்றன?  
2. எந்த கம்பனியில் சமத்தில் விற்பனை நடைபெற்றுள்ளது?  
3. ஜேசு என்டர் பிரைஸ் நிறுவனத்தில் 300 பங்குகளை வாங்கி ஒருவனுக்கு வருடாந்தம் கிடைக்கும் பங்குலாபம் எவ்வளவு?  
4. பென்ஸ்சின் லிமிடெட் ரூபா 400.00ஐ வருடாந்தம் பங்குலாபம் பெறுவதற்கு முதலீடு செய்யவேண்டிய தொகை யாது?

b) r% பங்குலாபம் வழங்கும் கம்பனி ஒன்றில் ரூபா X பெயர்மாத்திரைப் பெறுமானம் கொண்ட பங்குகளை ரூபா Y படி வாங்குவதன் மூலம் வருடாந்தம் ரூபா P ஐ பங்குலாபமாகப் பெறுவதற்கு முதலீடு செய்யவேண்டிய பணம் ரூபா A சார்பில் r, X, y, p என்பவற்றில் எழுதுக.

02. 7/8cm உள் ஆரையுள்ள குழாயொன்றினூடாக  $8cm s^{-1}$  என்ற வேகத்தில் நீர் பாய்கிறது. இந்நீரானது 11cm நீளமும், 7cm அகலமும், 8cm உயரமும் உள்ள கனவடிவத்தொட்டி ஒன்றில் நிரப்பப்படுகின்றது.

- 1) குழாயின் குறுக்கு வெட்டுப் பரப்பளவைக் காண்க.
- 2) குழாயினூடாக ஒரு செக்கனில் வெளி வரும் நீரின் கனவளவைக் காணுங்கள்.
- 3) தொட்டியின் கனவளவைக் காணுங்கள்.
- 4) தொட்டி முற்றாக நிரம்ப எவ்வளவு நேரம் எடுக்கும் எனக் காணுங்கள்.
- 5) தொட்டியின் அடிப்பகுதியில் கிடையாக  $7/16cm$  ஆரையுடைய குழாயினூடாக  $16cm s^{-1}$  வேகத்தில் நீர் பாய்கின்றது எனின், தொட்டியில் உள்ள நீர் முற்றாக வெளியே எடுக்கும் நேரத்தைக் காணுங்கள்.

03. ஆஞ்சனேயர் என்ற நிறுவனம் கடன்தொகைக்கு 12% ஆண்டு வட்டி அறவிடப்படுகின்றது. சப்ராஸ் என்ற நிறுவனத்தில் கடன்தொகைக்கு செல்லும் மீதிக்கு மாதாந்தம் வட்டி அறவிடப்படுகின்றது. ஆண்டுக்கு 12% அறவிடப்படும். கஜேந்தன் என்பவர் ஆஞ்சனேயர் நிறுவனத்திலிருந்து ரூபா 25,000ஐக் கடனாகப் பெறுகின்றார். ரூபாஸ் என்பவர் சப்ராஸ் என்ற நிறுவனத்திலிருந்து அதே தொகையை கடனாகப் பெறுகின்றார். எனின்,  
1) கஜேந்தன் இரண்டு வருடங்களில் செலுத்தவேண்டிய மொத்த வட்டியைக் காணுங்கள்.  
2) ரூபாஸ் 24 மாதங்களில் செலுத்த வேண்டிய மொத்த வட்டியைக் காணுங்கள்.  
3) எந்த நிறுவனத்தில் கடன்பெறுவது இலாபகரமானது.

மறுபக்கம் பார்க்க....

இன்றைய கணித பாட மாவட்டவல செயற்றிட்டத்திற்கு அனுசரனை வழங்குவது



ஸ்ரீ லங்கா

அப்பியாசக் கொப்பிகள்

எழுத்துக்களுக்கு மேலும் அழகு சேர்க்கும்

உங்கள் தோழன்

- \* இறக்குமதி செய்யப்பட்ட உறுதியான தரமான வெள்ளை கடதாசி
- \* ஒவ்வொரு பக்கமும் புதியது போன்ற உணர்வு
- \* இருபக்கத்திலும் எவ்வித தடையும் இல்லாமல்
- \* எழுத்தணுவதுடன் உங்கள் சிந்தனை வேகத்தையும் தூண்டும்
- இன்றே NSP கொப்பிகளை வாங்கி ஏனைய அப்பியாசக் கொப்பிகளுடன் ஒப்பிட்டு பாருங்கள்

NSP இன் சிறப்பை நீங்களாகவே உணர்வீர்கள்

## கணிதம் I இன் தொடர்ச்சி.....

04. சம அளவான நான்கு அட்டைகளில் கீழே காட்டப்பட்டுள்ளவாறு இலக்கமிடப் பட்டிருந்தன.

1 2 3 4

இவற்றிலிருந்து ஓர் அட்டை எழுமாறாக எடுக்கப்பட்டு அதிலுள்ள இலக்கம் குறித்துக் கொள்ளப்பட்ட பின்னர் திரும்பவும் வைக்கப்பட்டது. இரண்டாவது முறையும் ஓர் அட்டை எழுமாறாக எடுக்கப்பட்டு அதிலுள்ள இலக்கம் குறிக்கப்பட்ட பின்னர் திரும்பவும் வைக்கப்பட்டது.

1) மாதிரி வெளியை புள்ளிவரைபு ஒன்றில் எடுத்துக் காட்டுக.

- 2) எடுக்கப்பட்ட இரு அட்டைகளில்,  
a. ஒன்றில் மட்டும் இலக்கம் 4 குறிக்கப்பட்டு இருக்க நிகழ்தகவு யாது?  
b. ஒன்றிலேனும் இலக்கம் 4 குறிக்கப்பட்டு இருக்க நிகழ்தகவு யாது?
- 3) எடுக்கப்பட்ட இரு அட்டைகளிலும் ஒரே இலக்கம் குறிக்கப்பட்டிருக்க நிகழ்தகவு யாது?
- 4) எடுக்கப்பட்ட இரு அட்டைகளிலும் உள்ள இலக்கங்களின் கூட்டுத்தொகை 6 ஆக இருப்பதற்கான நிகழ்தகவு யாது?

05. கடையொன்றில் முதல் 40 நாட்களில் விற்கப்பட்ட சீனியின் அளவுகள் தொடர்பாக மீடறன் பரம்பல் பின்வருமாறு:-

நிறை	31-35	36-40	41-45	46-50	51-55	56-60
நாட்களின் எண்ணிக்கை	03	07	09	12	05	04

- 1) மேலே உள்ள அட்டவணையின் கீழ் எல்லைப் புள்ளிகள், மேல் எல்லைப் புள்ளிகளைக் காணுங்கள்.
- 2) திறன் மீடறன் அட்டவணையைத் தயாரித்து பூரணப்படுத்துக.
- 3) திறன் மீடறன் வரைபை வரைபுத்தாளில் வரைக.
- 4) திறன் மீடறன் வரைபைப் பயன்படுத்தி,  
1. முதலாம் காலணை.  
2. இடையம்.  
3. மூன்றாம் காலணை.  
4. காலணை இடைவீச்சு என்பவற்றைக் காணுங்கள்.

## கணிதம் - II (புதிய பாடத்திட்டம்)

32-T-II

- \* பகுதி Aயிலிருந்து ஐந்து வினாக்களையும் பகுதி Bயிலிருந்து ஐந்து வினாக்களையும் தெரிந்தெடுத்துப் பத்து வினாக்களுக்கு விடை தருக.  
\* ஐந்து வினாக்களுக்கு மாத்திரம் விடை தருக.

### பகுதி - A

- \* ஐந்து வினாக்களுக்கு மாத்திரம் விடை தருக.
01. பொருட்களை உற்பத்தி செய்வதன் ஒருவன் தன் விலைப்பட்டியில் பொருளுக்கு குறித்த விலையிலிருந்து 25% கழிவு கொடுத்து ஒரு மொத்த வியாபாரிக்கு பொருளை விற்றான். அப்படி கழிவு கொடுத்தும் விற்றும் அவன் பொருளை உற்பத்தி செய்ய செலவு செய்த பணத்தில் 12 1/2% இலாபம் பெறுகிறான். மொத்த வியாபாரி பொருளை ரூபா 292.50-இற்கு விற்பதனால் 30% இலாபமடைகிறான். உற்பத்தியாளன்.  
1) மொத்த வியாபாரிக்கு பொருளை விற்ற விலை என்ன?  
2) விலைப்பட்டியில் பொருளுக்கு குறித்திருந்த விலை யாது?  
3) பொருளை உற்பத்தி செய்ய செலவிட்ட தொகையைக் காணுங்கள்.
02. சார்பு  $y = 2(x+1)^2 - 9$  இன் வரைபை வரைவதற்குப் பொருத்தமான X, y ஆகிய வற்றின் பெறுமானங்களைக் கொண்ட பூரணமற்ற அட்டவணை கீழே தரப்பட்டுள்ளது.
- | X | -4 | -3 | -2 | -1 | 0 | 1  | 2 |
|---|----|----|----|----|---|----|---|
| Y | 9  | -1 | -7 |    |   | -1 | 9 |
- a) 1. மேலே உள்ள அட்டவணையின் வெற்றிடத்தை நிரப்புக.  
2. தரப்பட்ட வரைபுத்தாளில் X அச்ச வழியே 10 சிறு சதுரங்களினால் ஓர் அலகையும் Y அச்ச வழியே 10 சிறு சதுரங்களினால் இரு அலகுகளையும் குறிக்குமாறு அளவிடையை எடுத்து வரைபை வரைக.
- b) உமது வரைபைப் பயன்படுத்தி,  
1. சமச்சீர் அச்சின் சமன்பாடு யாது?  
2. திரும்பற் புள்ளியின் ஆள்கூற்றை எழுதுக.  
3.  $Y - 3 = 2(x+1)^2 - 9$  என்னும் சார்பின் இழிவுப் பெறுமானத்தைக் காண்க.  
4. சார்பு மறையாக குறைந்து செல்லும் X இன் பெறுமான வீச்சைக் காணுங்கள்.  
5.  $y = 1/2x$  என்னும் சமன்பாட்டின் வரைபை வரைக.  
6.  $(n+1)^2 + 1/2x + 9$  என்னும் சமன்பாட்டின் தீர்வுகளைக் காணுங்கள்.
03. a) காரணிப்படுத்துக.  $a^3 b^3 + 27$   
b) தரப்பட்ட இரு செவ்வகங்களினதும் பரப்பளவுகள் சமனாகும். அவற்றின் அளவுகள் CM இல் தரப்பட்டுள்ளன.
- |       |        |   |
|-------|--------|---|
| A     | (2a+4) | D |
| (a-4) |        | C |
| B     |        |   |
- |   |       |   |
|---|-------|---|
| P | (a+2) | S |
| a |       | a |
| Q |       | R |
1. a இல் ஓர் இருபடிச் சமன்பாட்டை அமைக்குக.  
2. a இன் பெறுமானத்தைக் காணுங்கள்.  
3. அச் செவ்வகங்களினது சுற்றளவுகளின் வித்தியாசத்தைக் காணுங்கள்.
04. a) தாயம் என்றால் என்ன எனக் கூறுங்கள்  
b)  $A = \begin{bmatrix} 2 & 1 & -3 \\ 3 & - & 0 \\ 4 & 3 & -1 \end{bmatrix}$   $B = \begin{bmatrix} 1 & 0 & 0 \\ 0 & 1 & 0 \\ 0 & 0 & 1 \end{bmatrix}$

1. A என்ற தாயங்கள் எவ்வாறு அழைக்கப்படும்?  
2. B என்ற தாயங்கள் எவ்வாறு அழைக்கப்படும்?  
3. A என்ற தாயத்தின் எத்தனை மூலகங்கள் காணப்படுகின்றன?  
4. B என்ற தாயத்தின் தாய வரிசையை எழுதுங்கள்.  
5. தாயம் A இல் 2, -2, -1 மூலகங்களை இணைக்கும்போது உருவாகும் நேர் கோடு எவ்வாறு அழைக்கப்படும்.  
6. (A + 2B) இன் பெறுமதியைக் காணுங்கள்.

7.  $C = \begin{bmatrix} x & 1 & -3 \\ y & -2 & 0 \\ z & y & -1 \end{bmatrix}$  என்ற தாயம் A என்ற தாயத்திற்கு சமன் ஆயின், X, Y, Z ஐக் காண்க.

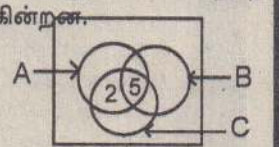
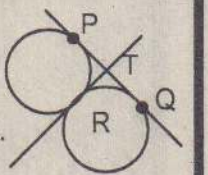
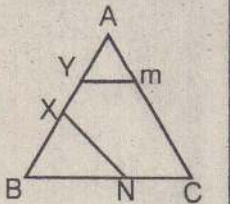
05. 200m இடைத்தூரத்தில் ஒரு பனைமரமும், ஒரு கமுக மரமும் உள்ளன. பனை மரத்தின் உச்சியிலிருந்து கமுக மரத்தின் உச்சியின் இறக்கக் கோணம்  $30^\circ 26'$  ஆகும். கமுக மரத்தின் உச்சியிலிருந்து பனையின் அடியின் இறக்கக் கோணம்  $54^\circ 18'$  ஆகும்.
- a) 1. பரும்படியான படம் வரைந்து தரவுகளைக் குறித்துக் காட்டுக.  
2. திரிகோண கணித விதிக்களைப் பயன்படுத்தி.  
1) கமுக மரத்தின் உயரத்தைக் காண்க.  
2) பனை மரத்தின் உயரத்தைக் காண்க.  
3) இரு மரங்களினதும் உச்சிகளை இணைக்கும் கோட்டின் நீளம் யாது?
06. 40 நாட்களாக உண்டியலில் போட்ட பணம் பற்றி 'i' விவரத்தைக் கீழே மீடறன் அட்டவணையில் தரப்பட்டுள்ளது.

போட்ட பணத்தின் அளவு ரூபா	00-21	22-43	44-65	66-87	88-109
நாட்களின் எண்ணிக்கை	5	10	14	9	2

- a) மேற்படி பரப்பின்  
1. ஆகார வகுப்பைக் காணுங்கள்.  
2. இடை வகுப்பைக் காணுங்கள்.
- b)
- | வகுப்பாயிடை | ந.பெறுமானம் | விலகல் (d) | மீடறன் (f) | fd         |
|-------------|-------------|------------|------------|------------|
| 00 - 21     | .....       | .....      | 5          | .....      |
| 22 - 43     | .....       | .....      | 10         | .....      |
| 44 - 65     | .....       | 0          | 14         | .....      |
| 66 - 87     | 76.5        | 22         | 9          | 198        |
| 88 - 109    | 98.5        | 44         | 2          | 88         |
|             |             |            | ef = ..... | ef = ..... |
1. மேலே உள்ள அட்டவணையை நிரப்புக.  
2. குமுதினி சராசரியாக ஒரு நாளில் போட்ட பணத்தின் அளவைக் காணுங்கள்.  
3. அவள் 40 நாட்களிலும் சேர்த்த மொத்த பணம் எவ்வளவு ரூபா எனக் காணுங்கள்.

### பகுதி - B

- \* ஐந்து வினாக்களுக்கு மாத்திரம் விடை தருக.
07. a) ஒரு கூட்டல் விருத்தியின் n உறுப்புகளின் கூட்டுத்தொகை  $n(n+2)/2$  எனின்,  
1. முதல் மூன்று உறுப்புக்களைக் காணுங்கள்.  
2. பொது வித்தியாசத்தைக் காணுங்கள்.  
3. முதல் 20 உறுப்புக்களின் கூட்டுத்தொகையைக் காண்க.
- b) பெருக்கல் விருத்தி ஒன்றின் முதலாம், மூன்றாம் உறுப்புக்களின் கூட்டுத் தொகை 10, இரண்டாம், நான்காம் உறுப்புக்களின் கூட்டுத்தொகை 5 ஆகும்.  
1. பொது விகிதத்தைக் காணுங்கள்.  
2. முதலாம் உறுப்பைக் காணுங்கள்.
08. cm/mm அளவிடை உள்ள ஒரு நேர் விளிம்பையும் கவராயத்தையும் மாத்திரம் பயன்படுத்தி அமைப்பு கோடுகளைத் தெளிவாகக் காட்டி,  
1)  $BC = 7.5\text{cm}$ ,  $AD = 5.2\text{cm}$ ,  $DC = 8.8\text{cm}$ ,  $\angle DAB = 90^\circ$ ,  $AB = 6.3\text{cm}$  ஆகுமாறு நாற்பக்கல் ABCD ஐ வரைக.  
2) A, B, D எனும் புள்ளிகளினது செல்லும் வட்டத்தை வரைக.  
3) BC, DC என்பவற்றிலிருந்து சமதூரத்தில் அசையும் புள்ளியின் ஒழுக்கை வரைக.  
4) அவ் ஒழுக்கு வட்டத்தை வெட்டும் புள்ளிகளை X, Y எனப் பெயரிடுக.  
5) XY ஐ அளந்தெழுதுக.  
6) நீர் வரைந்த வட்டத்திற்கு B இல் தொடலி ஒன்றை அமைக்குக.
09. Oவை மையமாகவுடைய வட்டத்தில் OB செங்குத்து AC ஆகும்,  $AC = 12\text{cm}$ ,  $OC = 5\text{cm}$ ,  $\angle OAB = 60^\circ$  எனின்,  
1) வட்டத்தின் ஆரையைக் காணுங்கள்.  
2) வட்டத்தின் பரப்பளவைக் காணுங்கள்.  
3) ஆரைச்சிறை OAB ஆனது முழுவட்டத்தின் என்ன பின்னமாகும்?  
4) ஆரைச்சிறை AOB இன் பரப்பளவைக் காணுங்கள்.  
5) முக்கோணி AOC இன் பரப்பளவைக் காணுங்கள்.  
6) நிழற்றப்பட்ட பகுதியின் பரப்பளவைக் காணுங்கள்.
10. யாதாயினும் இரு முக்கோணிகள் ஒருங்கிசைவதற்கான விதிகளைப் படங்களுடன் விளக்குக.
- 1) ABC எனும் முக்கோணியின் பக்கம் AB இல்  $BX = AY$  ஆகுமாறு X, Y எனும் புள்ளிகள் உள்ளன.  $XN \parallel AC$  ஆகவும்,  $ym \parallel BC$  ஆகவும் N.M எனும் புள்ளிகள் அமைகின்றன.  
2) உருவை பிரதி செய்து தரவுகளை அதிற் குறித்துக் காட்டுங்கள்.  
3)  $\triangle AYM = \triangle BXN$  என நிறுவுங்கள்.  
4) BNMY என்பது ஓர் இணைகரம் என நிறுவுக.
11. a) ஒரு வட்டத்திற்கு வெளியேயுள்ள புள்ளியொன்றிலிருந்து அவ்வட்டத்திற்கு இரு தொடலிகள் வரையப்பட்டால் அத்தொடலிகள்  
1. நீளத்தில் சமனாகும்.  
2. வட்ட மையத்தில் சமகோணங்கள் எதிரிமைக்கும்.  
3. வெளிப்புள்ளியையும் மையம் இணைக்கும் கோட்டுடன் சமகோணங்களை அமைக்கும் என நிறுவுக.
- b) உருவில் தரவுகளைக்கொண்டு பின்வருவனவற்றை நிறுவுங்கள்.  
1.  $TP = TR = TQ$  2.  $\angle PRQ = 90^\circ$



12. அருகேயுள்ள வெள்ளுருவத்தில் குறிக்கப்பட்டுள்ள எண்கள் அவ்வப்பிரதேசத்திலுள்ள மூலகங்களின் எண்ணிக்கையை வகை குறிக்கின்றன.  
 $n(A \cap B) = 8$ ;  $n(A' \cap B) = 20$ ,  $n(A \cup B) \cap C = 18$ ,  $n(A) = 19$ ,  $n(A \cup B \cup C) = 17$ ,  $n(C' \cap (A \cup B)) = 24$  எனின்,  
1) வெள்ளுருவை மீள வரைந்து அதிலே மேற்போந்த தரவுகளைக் குறிக்குக.  
2)  $n(B')$  யைக் காணுங்கள்.  
3)  $(A \cup B) \cap C$  ஐ நிழற்படுத்திக் காட்டுக.

நிறைவுற்றது-

ஆசிரியர்: துரைராஜா ஜோன்சன்,  
மன்/சிக்திவிநாயகர் இந்துக் கல்லூரி,  
மன்னார். தொ.பே.இல: 0718618701



வலிகாமம் தெற்குப் பிரதேச சபையின் சிறுவர் தினவிழா சன்னாகம் ஐயன்னா சனசமூக நிலையத்தில் அண்மையில் நடைபெற்றது. இந்தநிகழ்வில் உள்ளூராட்சி உதவியாளர் திருமதி ஜனனி ஆனந்தாண்டேஸ்வரர் மங்கள விளக்கேற்றுவதை முதலாவது படத்திலும், கூட்டத்தில் கலந்து கொண்டோரை அடுத்த படத்திலும், அங்கு இடம்பெற்ற கலை நிகழ்வை மூன்றாவது படத்திலும் காணலாம்.

## அரசின் கணக்கறிக்கைக்கு ஐ.தே.கட்சி கரும் எதிர்ப்பு

கொழும்பு, நவ. 5  
அரசு 2010ஆம் ஆண்டுக்கான இடைக்கால கணக்கறிக்கையை நேற்று முன்தினம் நாடாளுமன்றில் சமர்ப்பித்தமைக்கு ஐ.தே.கட்சியினர் எதிர்ப்புத் தெரிவித்து கூச்சல், குழப்பங்களை விளைவித்தனர். தங்களது மேசைகள் மீதிருந்த புத்தகங்கள், பைல்கள் போன்றவற்றை மேசைகளில் தட்டியும், கூச்சல்களை எழுப்பியும் அவர்கள் இதற்கு எதிர்ப்புத் தெரிவித்தனர். இதனால் ஐ.தே.கட்சியினர் அரங்குமீடையில் சுமார் 40 நிமிடங்கள் வாக்குவாதம் இடம்பெற்றது. இந்தக் கூச்சல் குழப்பங்களுக்கு மத்தியில் அமைச்சர் சரத் அமுனு கம கணக்கறிக்கையை சபையில் சமர்ப்பித்து விவாதத்தைத் தொடக்கி வைத்தார். இந்த அறிக்கையை சமர்ப்பிப்பதற்காக அமைச்சர் சரத் அமுனு கம எழுந்தபோது, எதிர்க்கட்சியின் பிரதம கொரடா ஜோஸப் மைக்கல் பெரேரா ஒழுங்குப் பிரச்சினை ஒன்றை எழுப்பி "இந்த அறிக்கை எந்தச் சட்டத்தின் கீழ் சமர்ப்பிக்கப்படுகின்றது" என்று கேட்டார். இந்த அறிக்கை சட்டத்திற்கு முரணானது அல்ல. இதற்குமுன் 10 தடவைகள் இவ்வாறு இடைக்கால கணக்கறிக்கைகள் சமர்ப்பிக்கப்பட்டுள்ளன என்று அமைச்சர் சரத் அமுனு கம பதி

லளித்தார். கட்சித் தலைவர்களின் கூட்டத்தில் இது தொடர்பாக ஆராய்ந்து அனைவரதும் அமைதியைப் பெற்றே இந்த சபைக்கு கொண்டுவரப்படுகின்றது என்றும் அமைச்சர் சொன்னார். இந்த அறிக்கையை அரசியல் யாப்புக்கும், நிதி முகாமைத்துவ சட்டத்திற்கும் உட்பட்டுத்தான் கொண்டு வரமுடியும் என்றும் யாப்பின் 150 ஆவது சரத்தை மாதிரி அடிப்படையாக வைத்து இதைக் கொண்டுவர முடியாது என்றும் எதிர்க்கட்சித் தலைவர் ரணில் விக்கிரமசிங்க கூறினார். இந்த அறிக்கை பிரேரணையாக இந்தச் சபைக்குக் கொண்டுவரப்படுகின்றது என்றும் அரசியல் யாப்பின் 26 ஆவது சரத்தின் முதலாம் பிரிவின்படி அவசர வேளைகளில் இவ்வாறு கொண்டுவர முடியும் என்றும் சபாநாயகர் கூறினார். சபாநாயகர் இவ்வாறு கூறியதைத் தொடர்ந்து சரத் அமுனு கம அறிக்கையை சபையில் சமர்ப்பித்து விவாதத்தைத் தொடங்கினார். அப்போது ஐ.தே.கட்சி எம்.பிக்கள் அனைவரும் எழுந்து நின்று மேசைகளில் தட்டி கூச்சல், குழப்பங்களை ஏற்படுத்தினர். இந்நிலை 15 நிமிடங்கள் தொடர்ந்தன. சுமார் 40 நிமிடங்கள் கூச்சல், குழப்பம் மற்றும் வாத்தப்பிரதிவாதங்கள் இடம்பெற்று ஓய்ந்தன. (சி)

## முன்றில் இரண்டு பெரும்பான்மையுடன் அரசின் அடுத்த வரவு செலவுத் திட்டம் அமைச்சர் அமுனு கம சவால்

கொழும்பு, நவ.5  
எதிர்வரும் நாடாளுமன்றத் தேர்தலில் முன்றில் இரண்டு பங்கு பெரும்பான்மையைப் பெற்று அடுத்த வருடத்திற்கான வரவு - செலவுத் திட்டத்தை எமது அரசு 2010 இல் சமர்ப்பிக்கும் என்று அமைச்சர் சரத் அமுனு கம செவ்வாயன்று நாடாளுமன்றில் கூறினார். நாடாளுமன்றில் 2010 ஆம் ஆண்டுக்கான இடைக்கால கணக்கறிக்கையை சமர்ப்பித்து உரையாற்றும்போதே அவர் இவ்வாறு கூறினார். அவர் அங்கு மேலும் கூறியவை வருமாறு:-  
2010 ஆம் ஆண்டு ஒரு நம்பிக்கை மிக்க ஆண்டாகும். முழு உலகுமே பொருளாதார நெருக்கடியில் சிக்கியிருந்த நிலையில் எமது நாடு மட்டும் அதிலிருந்து தப்பியிருந்தது. கடந்த வருடங்களில் எம்மால் நான்கு வீத பொருளாதார வளர்ச்சியை எட்ட இராணுவ முகாமில் குண்டு வெடித்துச் சிப்பாய் மரணம்

முடிந்தது. அடுத்த வருடத்தில் அது ஏழு விதமாக மாறும். எம்மால் சமர்ப்பிக்கப்பட்டிருக்கும் இடைக்கால கணக்கறிக்கை நடைமுறைக்கு முரணானது என்று எதிர்க்கட்சி கூறுகின்றது. ஆனால், வரலாற்றில் எத்தனையோ தடவைகள் இவ்வாறு இடைக்கால கணக்கறிக்கைகள் சமர்ப்பிக்கப்பட்டிருக்கின்றன. ஐக்கிய தேசியக் கட்சியின் ஆட்சிக்காலத்திலும் இவ்வாறு சமர்ப்பிக்கப்பட்டுள்ளது. அதேபோல் ரணில் விக்கிரமசிங்கவின் காலத்தில் கூட இவ்வாறு சமர்ப்பிக்கப்பட்டது. இந்த அறிக்கையை நாடாளுமன்றம் ஏற்றுக்கொள்கிறது. ஆனால், ஐ.தே.கட்சி ஏற்க மறுக்கின்றது. இப்படிப்பட்ட கட்சியை இந்நாட்டு மக்கள் எப்படி ஏற்பர்? அடுத்த வருடம் ஏப்ரலில் முன்றில் இரண்டு பெரும்பான்மையுடன் வரவு - செலவுத் திட்டத்தை நாம் சபையில் சமர்ப்பிப்போம். அப்போது ஐ.தே.கட்சி எம்.பிக்கள் இந்தச் சபையில் இருக்கமாட்டார்கள். அவர்கள் தேர்தலில் தோற்றுவிடுவர். யுத்தக் காலத்தில் எமது நாட்டுப் பொருளாதாரம் பாதிப்படையத் தொடங்கியது. யுத்தம் முடிந்ததும் பொருளாதாரம் வளர்ச்சியடைத் தொடங்கியுள்ளது. வெளிநாட்டு முதலீடுகள் அதிகரிக்கத் தொடங்கியுள்ளன. இந்த நிலையில் அரசால் நாடாளுமன்றில் சமர்ப்பிக்கப்பட்டுள்ள இடைக்கால கணக்கறிக்கை நான்கு மாதங்களுக்கு மாததிரிந்தான். அதனைத் தொடர்ந்து நல்லதொரு வரவு - செலவுத் திட்டம் சமர்ப்பிக்கப்படும். - என்றார். (சி)

# 21ஆம் நாளி நினைவுஞ்சலியும் மலர்வி நவம்பர் நவிலவும்

மலர்வி 02.10.1965 உதிர்வு 16.10.2009

## அமரர் சிறீபதி அருள்தாஸ்

(உரிமையாளர், நியுசன் நகை மாளிகை, நெல்லியடி)

கடந்த (16.10.2009) அன்று சிவபதமடைந்த எங்களின் குடும்ப விளக்கு சிறீபதி அருள்தாஸ் அவர்களின் மரணச்சடங்கில் கலந்துகொண்டோருக்கும், உதவிகள் புரிந்தோருக்கும், மலர் வளையம் சாத்தி அஞ்சலி செலுத்தியோருக்கும், தொலைத்தொடர்பு சாதனங்கள் மூலம் அனுதாபம் தெரிவித்தோருக்கும், இரங்கல் உரை ஆற்றியோருக்கும் எங்களின் மனமார்ந்த நன்றியைத் தெரிவித்துக் கொள்ளுகின்றோம்.

அன்னாரின் வீட்டுக்கிருத்திய நிகழ்வுகள் இன்று (05.11.2009) வியாழக் கிழமை முற்பகல் 10 மணிக்கு எமது இல்லத்தில் நடைபெறும். இந்நிகழ்விலும் தொடர்ந்து நடைபெறும் ஆத்மசாந்திப் பிரார்த்தனையிலும் மதியபோசனத்திலும் கலந்து சிறப்பிக்குமாறு அன்புடன் அழைக்கின்றோம்.

மில் லேன், இமையாணன், உடுப்பிட்டி. (90569)

கொழும்பு, நவ.5  
மட்டக்களப்பு கல்லடி இராணுவ முகாம் பகுதியில் நேற்று முன்தினம் நண்பகல் இடம்பெற்ற குண்டு வெடிப்புச் சம்பவ மொன்றில் இராணுவக் குண்டு செயலிழக்கும் பிரிவைச் சேர்ந்த சிப்பாய் ஒருவர் உயிரிழந்துள்ளார் எனத் தெரிவிக்கப்படுகிறது. அத்துடன், அப்பிரிவைச் சேர்ந்த இராணுவ லெப்டினன் தர அதிகாரி ஒருவர், இருபெலிஸ் சான்ஸ் டபிள்கள் ஆகிய மூவர் காயமடைந்துள்ளனர். சம்பவத்தில் காயமடைந்துள்ள மூவரும் மட்டக்களப்பு வைத்தியசாலையில் சிகிச்சை பெற்று வருகின்றனர். உயிரிழந்த இராணுவ சிப்பாய் லான்ஸ் கோப்ரல் தரத்தைச் சேர்ந்த லலித் குமார என அடையாளம் காணப்பட்டுள்ளார் எனக் கூறப்படுகிறது. அண்மைக் காலங்களில் தேடுதல் நடவடிக்கைகளின்போது கண்டுபிடிக்கப்பட்ட கிளேமோர் உட்பட வெடிப் பொருள்களை முகாம் பகுதியில் உள்ள பயிற்சி மைதானத்தில் வழமைபோல் செயலிழக்கச் செய்யும் போதே இந்த விபத்து ஏற்பட்டுள்ளது எனத் தகவல்கள் தெரிவிக்கின்றன. (சி)

இழந்த சக்தியை மீண்டும் பெற்றிடப் பாணியங்கள்

### ரோயல்

100% சுத்தமானது உங்கள் வியாபாரிகளிடம் நீங்கள் குளுக்களை வளங்கும்போது குளுக்களை எண்ணெய் சேர்க்கவும்

சுவை நுகர்வோர்களுக்கு எந்தவிதமான அசௌகரியமும் இல்லை

PACKED BY: Industries ROYAL Colombo 12 T.P. 0777277670

அனைத்துப் பள்ளிகளிலும் கடைகளிலும் பெற்றுக்கொள்ளலாம்.

Composition Dextrose Monohydrate 100% ROYAL Pure Glucose

ஒரு சிறியபோசனத்திற்கு:

**சீவா நறுமணம் பூங்கா**

288, ஆஸ்பத்திரி வீதி, யாழ்ப்பாணம்.

## 27ஆம் நாள் நினைவுஞ்சலியும் வீட்டுக் கிருத்திய அழைப்பும்

அமரர் நாகமணி பிள்ளையான்

அன்னை மறியில் 08.03.1943

ஆண்டவர் அறியில் 10.10.2009

கடந்த (10.10.2009) அன்று இறைவனடி சேர்ந்த எமது குடும்பத் தலைவரின் மரணச் செய்தி கேட்டு நேரிலும், தொலைபேசி மூலமும் தொடர்பு கொண்ட அனைவருக்கும் எமது நன்றிகளைத் தெரிவித்துக் கொள்வதோடு இன்று (05.11.2009) வியாழக்கிழமை எமது இல்லத்தில் நடைபெறும் ஆத்ம சாந்திப் பிரார்த்தனையிலும் அதனைத் தொடர்ந்து இடம்பெறும் மதியபோசனத்திலும் கலந்து கொள்ளுமாறு உற்றார், உறவினர், நண்பர்கள் அனைவரையும் அன்புடன் அழைக்கின்றோம்.

7ஆம் வீட்டாரம், நயிவாதிவு. (90563) பி.நித்தியாபாஸன் (லண்டன்), பி.ஜீயாபாஸன் (லண்டன்), நயிவாதிவு.

# பணம் பழத்தை 'பணம்' பழமாக மாற்றிய பெண்கள்

குடாநாட்டின்

குறியீடாகக் கொள்ளப்படுவது பணம். பணம் பொருள்களுக்கு எப்போதுமே மவுசு குறைவதில்லை. ஆயினும் பணம்பொருள்களை உற்பத்தி செய்பவர்களின் எண்ணிக்கைதான் குறைந்து கொண்டே வருகின்றது. நவீனத்துவத்தின் பரவுகை காரணமாகப்


அந்த வளவுகளில் வீழ்ந்து கிடக்கும் பணம்பழங்களை சேகரித்து வருவர். அதன்பின்னர் அவற்றினைக் கொதிநீரிலிட்டு நன்கு கழுவுவார்கள். இதனால் பணம்பழத்திலுள்ள கிருமிகள்

கைதடி தெற்கு சனசமூக நிலையத்துக்கூடாக சமூக முன்னெடுத்தல் குழுவினருக்கு இத்தகைய நெறிப்படுத்தலை 'கெயார்' தொண்டு நிறுவனம் வழங்கியிருந்தது. ஏனைய தொண்டு நிறுவனங்களின் உதவித்திட்டங்களை விடவும் இந்நிறுவனத்தின் இத்தகைய செயற்பாடு சமூகப் பயனுள்ளதாக அமைந்துள்ளதாகவும் கருத ஏதுவாகின்றது. ஏனெனில் பொருள்களை வழங்குதல், நிவாரணம் வழங்குதல் என்பன போன்ற தொண்டு நிறுவனச் செயற்பாடுகளில் தங்கி வாழும் நிலையையே சமூகத்தில் தோற்றுவிக்கும். எதிர்காலச் சோம்பேறிகளாக எமது சமூகத்தவர்கள் மாறக்கூடிய நிலையும் இதனால் ஏற்படலாம். ஆயினும் தமது சொந்தக்காலில் நின்றுகொண்டே தமது பொருளாதாரப் பலத்தையும் சமூக அபிவிருத்தியையும் முன்னெடுக்கும் தூண்டல்களை உருவாக்கும் செயற்றிட்டங்களே சமூகப் பொருத்தப்பாடுடையவை. இதனூடாக உள்ளூர் வளங்களைக்கொண்டு உச்சப் பயன்பாட்டையடைவதோடு சமூக அபிவிருத்தியும் இயல்பாகவே ஏற்பட்டுவிடும். இதனை இலக்காகக் கொண்டே பணம், தென்னைவள அபிவிருத்திச் சங்கத்தினரின் உதவியுடன் இத்திட்டத்தைக் 'கெயார்' நிறுவனம் நடைமுறைப்படுத்தியுள்ளதாகத் தெரிகிறது. பணம்பழத்தைப் பணம்பெறும் பழமாக இக்குழுவின் உறுப்பினர்கள் மாற்றியுள்ளமை ஒரு முன்மாதிரியான செயற்பாடாகவே கொள்ளவேண்டும்.

இச்சமூக முன்னெடுத்தல் குழுவினர் பல்வேறு சமூக அபிவிருத்தி நடவடிக்கைகளிலும் ஈடுபட்டு வருகின்றனர். மாதத்திற்கொருமுறை தமக்கிடையே கூடிக் கலந்துரையாடல்களில்

என்னும் இலக்குகளை முன்வைத்து இவர்களின் செயற்பாடு தொடர்கிறது.

அச்செயற்பாடுகளில் ஒன்றாகவே இப்போது பணம் பழத்திலிருந்து பனாட்டு, பதப்படுத்தப்பட்ட பணம்'களி என்பவற்றைத் தம்முடைய வீட்டிலேயே உற்பத்தி செய்யத் தொடங்கியிருக்கிறார்கள். ஆயினும்



பணம்பொருள் சார்ந்த உற்பத்திகளில் ஈடுபடுவது கௌரவக் குறைச்சலான விடயமாக எண்ணப்பட்டு மெல்லமெல்ல அவை கைவிடப்படுகின்றன. இதனால் இப்போதுள்ள பணம்பொருள் தயாரிப்பு முறைகள் எம்முடைய சந்ததியோடு அழிந்துவிடும் அபாயமும், எதிர்கால சந்ததியினர் அவற்றினை அறியமுடியாத அவலநிலையும் ஏற்பட்டு விடலாம். புழுக்கொடியல், ஒடியல், பனாட்டு என்பன எல்லோருக்குமே நாவிலே நீரை

அழிக்கப்படுவதோடு, அத்துடைய வெளித்தோலையும் இலகுவாக உரித்தெடுக்க முடியும். அதன்பின்னர் அவற்றிலிருந்து பணங்களினைப் பெற்று நிலத்திலிருந்து ஏழெட்டு அடிகள் உயரமாக அமைக்கப்பட்ட பந்தலில் விரிக்கப்பட்டுள்ள 'தடுக்கில்' (பனாட்டைக் காயவைக்கும் சிறியவகைப் பாய், தடுக்கு என்று சொல்லப்படும்) அவற்றினை உற்றுவார்கள். இவ்வாறு ஏழுநாள் பணங்களினைத் தடுக்கில் வார்ப்பார்கள். ஏறக்குறைய 13 நாட்கள்

## இவர்களின் உற்பத்திகளைக் கொள்வனவு செய்வதன் மூலம் உள்ளூர் வளத்தைப் பெருக்கலாம்

உறுப்பினர்களை உணவுப் பண்டங்கள். இவற்றுக்கு யாழ்ப்பாணத்தில் மட்டுமன்றி தென்னிலங்கையிலும், புலம்பெயர் நாடுகளிலும் பலத்த கிராக்கி நிலவுகின்றது. ஆயினும் அவற்றைப் போதியளவு உற்பத்தி செய்யாத காரணத்தினால் ஏற்றுமதி செய்யும்

நல்ல வெயில் எறித்தால் பனாட்டு சரியான பதத்துக்குத் தயாராகிவிடும். அதன்பின்னர் தடுக்கிலிருந்து துண்டத்துண்டமாக பனாட்டை வெட்டியெடுத்து விற்பனைக்கு அனுப்பிவிடுகிறார்கள்.

பனாட்டினைச் செய்வதற்காக காலநிலை இல்லாதபோது - வெயில் எறிக்காமல் மழை பெய்தால் - பணங்களியைக் கொதிக்கும் வரை குடாக்கி அதனுள் அனுமதிக்கப்பட்ட அளவு பொருளைப் பாதுகாத்து வைக்கும் இரசாயனக் கலவையைச் சேர்ப்பதனூடாக பதப்படுத்தப்பட்ட பணங்களியினைப் பெற்றுக்கொள்கிறார்கள். அத்துடன் அந்தப் பணங்களியின் குடு ஆறியவுடன் சுத்திகரிக்கப்பட்ட கொள்கலன் ஒன்றில் ஊற்றி அதன் மூடியை காற்றுப்புகாவண்ணம் இறுக அடைப்பதனூடாக மிக நீண்டகாலத்துக்குப் பழுதாகாதவண்ணம் பணங்களியைப் பாதுகாக்க முடியுமென்று இதனைத் தயாரிக்கும் பெண்கள் தெரிவிக்கின்றார்கள். பதனிடப்பட்ட பணங்களியினைப் பிற்தொரு நாளில் - பனாட்டுத் தட்டுப்பாடு ஏற்படும் சந்தர்ப்பங்களில் அவற்றினைத் தடுக்கில் வார்த்துச் சுவை மிகுந்த பனாட்டைப் பெற்றுக்கொள்ளலாம். அதுதவிர பணங்களியிலிருந்து செய்யப்படும் பணம்பழக் குளிர்்பான உற்பத்திக்கும் இதனைப் பயன்படுத்தலாம். ஏ-9 வீதி மீளத் திறக்கப்பட்டுள்ள நிலையில் உல்லாசப் பயணிகளும் புலம்பெயர் மக்களும் மீண்டும் குடாநாட்டிற்குள் திரள் திரளாக வரத்தொடங்கியுள்ளனர். அவர்களெல்லாம் உடலுக்கு பலம் சேர்க்கும் உள்ளூர் தயாரிப்பான பணம்பழக் குளிர்்பானத்தை விரும்பி அருந்துகிறார்கள். எனவே, பணங்களியைப் பதப்படுத்தி வைப்பதனூடாக சிறப்பான சந்தை வாய்ப்பினை இவர்கள் பெற்றுக்கொள்ளும்

ஈடுபடுவதோடு குழு உறுப்பினர்களுக்கு சுயதொழில் கடனையும் வழங்கி வருகின்றனர். அதனைவிட சமூகப் பணிகளிலும் தாமாகவே முன்வந்து தோள் கொடுக்கிறார்கள். அண்மையில் வன்னியிலிருந்து அழைத்துவரப்பட்டு நலன்புரி நிலையங்களில் மக்கள் தங்கவைக்கப்பட்டபோது சமூக முன்னெடுத்தல் குழுவினர் அம் முகாம்களுக்குச் சென்று சேவையடிப்படையில் நலன்புரி நிலைய மக்களுக்கான உணவு சமைக்கும் பணியினைச் சில நாட்களுக்குப் பொறுப்பெடுத்துச் செய்வார்கள். இதனைவிட கைதடி தெற்குப் பகுதியிலுள்ள மிக நீளமான வெள்ள வாய்க்காலையும் புனரமைத்து வருகிறார்கள். 36 அங்கத்தவர்களைக் கொண்ட இச்சமூக முன்னெடுத்தல் குழுவில் உள்ள உறுப்பினர்களுக்கிடையேயான உறவுநிலை இப்போது முன்னரைக்காட்டிலும் இறுக்கமடைந்திருப்பதாகக் கூறுகின்றனர். குழுவாக இணைவதற்கு முன்னர் வீடுகள் தாரத்தார இருப்பதாலும் அடிக்கடி சந்தித்துக்கொள்ள முடியாததாலும்



வாய்ப்பை இழந்து நிற்கின்றோம்.

இந்த நிலையில் மரங்களிலிருந்து வீழ்ந்து இதுநாள் வரையும் விணாகிப்போன பணம்பழங்களை 'பனாட்டாக', பதப்படுத்தப்பட்ட பணங்களிகளாக மாற்றிவருகின்றார்கள் கைதடி தெற்கு சனசமூக நிலையத்துக்கூடான சமூக முன்னெடுத்தல் குழுவினர்.

இக்குழுவிலுள்ள பெண்கள் அதிகாலையிலேயே தமக்கு அருகிலுள்ள பணைமரங்கள் நிறைந்துள்ள வளவுக்குச் சென்று - முதல்நாளே சுத்தப்படுத்தப்பட்ட

ஓவணியன் ஓரளவுக்கு விலகல் நிலையிலேயே இவர்களுக்கிடையேயான உறவுநிலை காணப்பட்டது. ஆயினும் 36 பேர்கொண்ட சமூக முன்னெடுத்தல் குழுவில் இணைந்துகொண்டதன் பின்னர் அந்த நிலைமை மாறி இப்போது ஒவ்வொருவரினதும் சுக துக்கங்களில் தோள்கொடுக்கும் பங்காளிகளாக மாறியுள்ளனர். உற்பத்தியும், சுயதொழில் செய்வதற்கும், கிராம அபிவிருத்தி



தென்மராட்சிப் பனாட்டுக்குப் பொதுவாகச் சந்தைகளில் வரவேற்புக்குறைவு. முன்னர் சுத்தமற்ற முறையில் தயாரித்தல், பனாட்டைக் கீழேயே காயவைப்பதால் பனாட்டினுள் மணல் கலத்தல் என்பன காரணமாகவே யாழ்.மக்கள் தென்மராட்சிப் பனாட்டினை விரும்புவதில்லை.


ஆயினும் இப்போது அவையெல்லாம் நிவர்த்திக்கப்பட்டு சுத்தத்துக்கு முதன்மை கொடுத்து, ஒருதுளி மணற்றுக்களையும் கலக்காத வகையில் உயரமான இடத்தில் காயவைத்தே இப்போது இவர்கள் பனாட்டினைத் தயாரித்து வருகிறார்கள். இதனால் குடாநாட்டின் ஏனைய பாகங்களில் தயாரிக்கப்படும் பனாட்டுக்கு எவ்வகையிலும் தரத்திலும் சுவையிலும் குறையில்லாதவண்ணம் தென்மராட்சிப் பனாட்டும் தயாரிக்கப்பட்டுள்ளது. இவர்கள் வெகு விரைவில் தமது உற்பத்திகளை விற்பனை செய்வதற்கான நிலையமொன்றையும் திறக்க இருக்கிறார்கள். எனவே



கொள்கலனில் அடைக்கப்பட்டுள்ள பதப்படுத்தப்பட்டுள்ள பணங்களி.

இவர்களுக்கான சந்தை வாய்ப்புகளை ஆர்வமுள்ளவர்கள் ஏற்படுத்திக் கொடுக்க வேண்டும். அதுனூடாக நமது உள்ளூர் வளத்தின் பயன்பாட்டை அதிகரிக்கச் செய்வதனூடாக ஒரு முன்மாதிரியான இவர்களின் செயற்பாட்டையும் ஊக்குவிக்க முடியும். இதனால் காலப்போக்கில் நமது சமூகம் தன்னிறைவான பொருளாதார நிலையை நோக்கி நகரமுடியும். ★★★





சாவகச்சேரி லயன்ஸ் கழகத்தினரும் பொலிஸாரும் இணைந்து அண்மையில் சாவகச்சேரி பேருந்து நிலையத்திற்கு முன்பாக வீதிப் போக்குவரத்து விதிமுறைகள் தொடர்பான செய்முறைப் பயிற்சிகளை நடத்தினர். பொலிஸார் வீதிப் போக்குவரத்து தொடர்பாக அறிவுறுத்துவதையும் வீதிப் போக்குவரத்து தொடர்பாக சாவகச்சேரி டிரைபேக் கல்லூரியில் மாணவர்களுக்கு நடத்தப்பட்ட பயிற்சி வகுப்பில் கலந்துகொண்டோரையும் படங்களில் காணலாம்.  
(படங்கள்: தென்னவன்)

**முதுகலைமாணி கற்கை நெறிக்கான முதலாம் அரையாண்டுப் பரீட்சை**

யாழ்ப்பாணம், நவ.5  
யாழ். பல்கலைக்கழக பட்டப்பின்படிப்புகள் பீடத்தினால் நடத்தப்பட்டுவரும் முதுகலைமாணி கற்கை நெறிக்கான முதலாம் அரையாண்டுப் பரீட்சை எதிர்வரும் 17 ஆம் திகதி செவ்வாய்க்கிழமை நடைபெறவுள்ளது.  
இந்தப் பரீட்சைக்கான அனுமதி அட்டை, நேர்க்குசி ஆகியவற்றை நாளை வெள்ளிக்கிழமையில் இருந்து பட்டப்பின்படிப்புகள் பீட பீடாதிபதி அலுவலகத்தில் பெற்றுக் கொள்ளலாம் என அறிவிக்கப்பட்டுள்ளது.  
(204)

**நலன்புரி நிலையங்களிலிருந்து மீள் குடியேறியவர்களில் வீடற்றவர்களுக்கு விரைவில் வீடமைக்கும் பணி**

வடமராட்சி, நவ.5  
வவுனியா நலன்புரி நிலையங்களிலிருந்து யாழ். மாவட்டத்தில் மீளக் குடியேறியோர்களில் வீடற்றவர்களுக்கு அரை நிரந்தர வீடுகளை சர்வதேச செஞ்சிலுவைச் சங்கம் கட்டிக் கொடுக்க முன்வந்துள்ளது.  
இத்திட்டத்திற்கமைய வடமராட்சி வடக்கு, பருத்தித்துறை பிரதேச செயலர் பிரிவில் மீளக்குடியேறியோர்களில் சுமார் 400 குடும்பங்களுக்கு வீடுகள் இல்லையென அடையாளம் காணப்பட்டுள்ளது.  
இப்பிரிவில் கிராம சேவையாளர் பிரிவு தோறும் சேகரிக்கப்பட்ட புள்ளி விவரங்களின்படி சுமார் 400 குடும்பங்களுக்கு வீடுகள் எதுவும் இல்லையென கண்டு பிடிக்கப்பட்டது.  
12 x 16 சதுர அடி நீள அகலத்தைக் கொண்டதாக இத்தற்காலிக வீடுகள் அமைக்கப்படவுள்ளன. இடம்பெயர்ந்தோருக்கான தற்காலிக நிரந்தர அரை வீடுகளை அமைப்பதற்குத் தேவையான உபகரணங்கள் மந்திகையில் உள்ள அரச உணவு விடுதியில் சேகரித்து சேமித்து வைக்கப்பட்டுள்ளன என்று தெரிவிக்கப்பட்டது.  
இவ்வீடுகள் அமைக்கும்பணி விரைவில் ஆரம்பமாகும் என வடமராட்சி வடக்கு, பருத்தித்துறை பிரதேச செயலக வட்டாரங்கள் தெரிவித்தன.  
(203-236)

**கரவெட்டி, பருத்தித்துறை பிரதேசங்களில் 7ஆம், 8ஆம் திகதிகளில் நடமடும் சேவை**

யாழ்ப்பாணம், நவ.5  
நீதி மற்றும் மறுசீரமைப்பு அமைச்சின் ஏற்பாட்டில் கரவெட்டி, பருத்தித்துறை ஆகிய பிரதேச செயலர் பிரிவில் எதிர்வரும் 7ஆம், 8ஆம் திகதிகளில் காலம் கடந்த பதிவுகளை மேற்கொள்வதற்கு நடமாடும் சேவை நடைபெறவுள்ளது.  
காலை 8 மணிமுதல் மாலை 5 மணிவரை நடைபெறவுள்ள இந்த நடமாடும் பதிவுச் சேவையில் பதிவாளர் நாயகம் பி. குணசேகர உள்ளிட்ட குழுவினரும், நீதி மற்றும் மறுசீரமைப்பு அமைச்சின் குழுவினரும் கலந்துகொள்ளவுள்ளனர்.  
காலம் கடந்த பிறப்பு, இறப்பு பதிவுகள், தேசிய அடையாள அட்டைகளைப் பெற்றுக் கொடுத்தல் மற்றும் சமூகசேவைகள் அமைச்சினால் வழங்கப்படுகின்ற முதியோர் அடையாள அட்டைகளை வழங்குதல், மனித உரிமை மீறல் தொடர்பான ஆலோசனைகள் இந்த நடமாடும் சேவையில் இடம்பெறவுள்ளன.  
பருத்தித்துறை பிரதேச செயலர் பிரிவில் பருத்தித்துறை வேலாயுதம் மகாவித்தியாலயத்திலும், நெல்லியடி மத்திய மகாவித்தியாலயத்திலும் நடைபெறவுள்ளதாக யாழ். மாவட்ட உதவிப் பதிவாளர் ப. பிரபாகர் தெரிவித்தார்.  
(203-9-236)

**நலன்புரி நிலையங்களிலிருந்து வந்த ஆசிரியர்கள் தற்காலிக இணைப்புக் கோரி விண்ணப்பம்**

யாழ்ப்பாணம், நவ.5  
நலன்புரி நிலையங்களில் இருந்து விடுவிக்கப்பட்டுள்ள யாழ். மாவட்டத்தைச் சேர்ந்த 300 ஆசிரியர்கள் தற்காலிக நியமனத்திற்காக விண்ணப்பித்துள்ளனர்.  
இத்தகவலை மேலதிக மாகாணக் கல்விப் பணிப்பாளர் வி. சி. செல்வரத்தினம் உதயனுக்குத் தெரிவித்தார்.  
இது தொடர்பாக அவர் மேலும் தெரிவித்தவை வருமாறு:  
நலன்புரி நிலையங்களில் தங்க வைக்கப்பட்டுள்ள பொது மக்கள் தற்போது கட்டம் கட்டமாக மீள் குடியேற்றம் செய்யப்பட்டு வருகின்றனர்.  
இவ்வாறு குடியமர்த்தப்படுகின்றவர்களில் 300 ஆசிரியர்கள் இதுவரைக்கும் தற்காலிக இணைப்புக் கோரி விண்ணப்பித்துள்ளனர்.  
அவ்வாறு தற்காலிக இணைப்புக் கோருகின்ற ஆசிரியர்களுக்கு தற்காலிக இணைப்புகளை மேற்கொண்டு வருகின்றோம்.  
ஆசிரியர்கள் வசிக்கின்ற கிராமத்தின் அயல் பாடசாலைகளிலே இந்த நியமனம் வழங்கப்பட்டு வருகின்றது - என்றார் அவர்.  
(9)

**வாசகர் சிருமுகம்**

**அனைவரும் கட்டாக செயல்பட்டு இடம்பெயர்ந்த மாணவர்களின் இடர்களைத் தீர்ப்போம்**

கல்வி இடைவிலகல் அதிகரிப்பு இடம்பெயர்வுடன் காணப்படுவதும் அதனால் சமூகப் பாதிப்பு ஏற்படுவதும் அனுபவரீதியாக வெளிப்பட்டுள்ளது. 1987ஆம் ஆண்டு, 1990ஆம் ஆண்டு, 1995ஆம் ஆண்டு, 1997ஆம் ஆண்டு, 2000ஆம் ஆண்டு யுத்தச் சம்பவங்கள் இதற்குச் சான்றாக உள்ளன.  
அதேபோல் தற்போது வன்னியில் இடம்பெயர்ந்து உள்ள மக்களில் சுமார் 30 ஆயிரம் பேர் வரை மாணவர்கள். இவர்கள் கல்வி கற்பதற்கான சிறந்த சூழல் இன்னும் இரண்டு வருடங்களில் ஏற்படுமோ என்பது ஐயம். இக் காலப்பகுதியில் இவர்கள் கல்வியைக் கைவிடும் நிகழ்வுகள் அதிகரிக்கக்கூடும். மேலும் தற்போது இடம்பெயர்ந்து யாழ். வந்துள்ள மக்களும் தங்கள் பிள்ளைகளைப் பாடசாலைகளில் சேர்ப்பதற்குப் பல கஷ்டங்களை எதிர்கொள்கின்றனர்.  
உண்மையில் ஆசிரியர்கள் ஏணி போன்றவர்கள். அவர்களே கல்வி அறிவை மாணவர்களுக்கு புகட்டி அவர்களை சமூகத்தில் உயர்ந்த நிலைக்கு இட்டுச் செல்பவர்கள். அவர்களது சேவையே சமூகத்தின் அசையியக்கம் எனலாம். அத்தகைய ஆசிரியர்கள் இடம்பெயர்ந்த மாணவர்களுக்கு இரட்டை ஏணியாகச் செயற்பட வேண்டிய சூழல் தற்போது ஏற்பட்டு உள்ளது.  
அதாவது இடம்பெயர்ந்த மாணவர்கள் சமூகத்தின் பாதாளத்தில் உள்ளனர். அவர்களை அதில் இருந்து வெளிக்கொண்டு வந்து சமூகத்தின் உயர்நிலைக்கு உயர்த்த வேண்டிய பொறுப்பு ஆசிரியர்களுக்கு உள்ளது. கல்வியே எமது கலங்கரை விளக்கு என்பதை நடைமுறையில் ஒளிர வைக்க வேண்டிய பொறுப்பு அவர்களுக்கு உள்ளது.

**காலக் கடமை**

இடம்பெயர்ந்த மாணவர்களுக்கு சமூக ஆரோக்கியத்திற்கான கல்விக்கு, கல்விக்கான சமூக ஆரோக்கியம் எமது சூழலில் உருவாக்கப்படல் வேண்டும். குறைந்தது ஒரு வருடத்திற்காவது இம் மாணவர்கள் மீது விசேட கவனம் செலுத்தப்படல் வேண்டும். இதனை வேலைப்பளுவாகக் கருதாது காலக்கடமையாகவே கருதவேண்டும். ஒவ்வொரு மனிதனும் உடலும் உள்ளமும் குடும்பத்திற்கும் தமது சயத்திற்கும் உதவுவதாக இருந்தாலும் ஆத்மா சமூகத்திற்கும் இறைவனுக்கும் சேவை செய்வதாக அமைய வேண்டும். ஆத்மா உடலில் நான்கு நிலைகளில் தொழிற்படுகின்றது. முதலாவது இடுப்பு மட்டத்தில் இத்தகைய நிலையில் ஆத்மா உள்ளவர்கள் தமது இச்சைகளை எவ்வித பாடபுள்ளியும் பாராது நிறைவேற்றுவார்கள். அடுத்து இது மட்டத்தில் ஆத்மா உடையவர்கள். இவர்கள் தமது செயல்களை இலாப நட்டம் பார்த்துச் செயற்படுவார்கள். அடுத்து கழுத்து மட்டத்தில் ஆத்மா செயற்படுவார்கள். இவர்கள் நீதியாகச் செயற்படுவார்கள். அடுத்து மூளையில் ஆத்மா செயற்படுவார்கள். இவர்கள் தவறு செய்யமாட்டார்கள். இறைவன் ஆசியுடனேயே செயல்களைச் செய்பவர்கள்.  
ஒருவரில் ஆத்மா செயற்படும் தன்மை அவர்களது முற்பிறப்பு வினையே. ஆனால் சமூகத்தினை இயக்கும் பெரியவர்களில் ஆத்மா தொழிற்படும் தன்மை அச் சமூகத்தினை முழுதாகவே பாதிக்கின்றது. அந்த வகையில் தற்போது பாடசாலை அறிப்புகளும் எமது சமூகத்திற்குப் பிரயோசனமானவர்களாகச் சிறப்பாகச் செயற்படல் வேண்டும்.  
உதாரணமாக மறைந்த யாழ். இந்துக்கல்லூரி அதிபர் திரு. பி. எஸ். குமாரசாமி அதிபராகவும் தெய்வமாகவுமே செயற்பட்டார். அவரின் சேவை அவரது மாணாக்கர்களால் என்றென்றும் நினைவு கொள்ளத்தக்கது. அவ்வாறே ஏனைய ஆசிரியர்களும் அதிபர்களும் எமது மாணவர்களுக்குச் சேவை செய்தல் வேண்டும். இதன் மூலம் காலத்தால் அழியாத புகழுடன் மாணவர் மத்தியில் வாழலாம்.  
இடம்பெயர் மாணவர்களுக்கு கல்வியூட்டலில் பல வசதி இன்மைகள் பாடசாலைகளில் காணப்படலாம். உதாரணமாக:- தளபாட வசதி, இடவசதி, விடுதி வசதி, கணனி வசதி, ஆசிரியர் வசதி போன்றன. இவற்றினை நாம் பாடசாலைக் குழுக்கள் மூலம் நிவர்த்தி செய்யலாம். ஆலயங்கள், பொது நிறுவனங்கள், இடம்பெயர்ந்தோருக்கான சர்வதேச அமைப்பான IOM, சிறுவர்களுக்கான அமைப்பான UNICEF, SCF என்பவற்றின் ஆலோசனையையும் பெறலாம்.  
இடம்பெயர்ந்த மாணவர்கள் முறிந்த மரக்கொப்புகளுக்கு ஒப்பானவர்கள். அவற்றினை சீட்டுத்தித் தழைக்க விட வேண்டியது எமது சமூகப்பொறுப்பு. இக் கைக்கரியத்திற்கு நாம் எல்லோரும் கூட்டாகச் செயற்பட்டால் எமது சமூகத்திற்கு ஏற்படக்கூடிய பாரிய எதிர்காலப் பாதிப்புகளைக் குறைக்கலாம். மேலும் துன்பத்தில் வாடி உள்ள இடம் பெயர்ந்த குடும்பங்களுக்கு புத்துணர்வினைக் கொடுக்கலாம்.  
வைத்திய கலாநிதி சி.யமுனாநந்தா.

**எது மாறாதிருக்கிறதோ அதுவே சத்யம்**

இறைவனே சத்யம்! அந்த சத்யமே படைப்புக்குப் பொறுப்பேற்றிருக்கிறது. அவ்வாறு சிருஷ்டிக்கப்பட்ட சிருஷ்டியனைத்தும் மீண்டும் சத்தியத்திலே ஐக்கியமாகிறது. எந்த விதக் கலப்புமற்ற, தூய சத்யம் என்றும் நிரந்தரமாகவே இருந்து வந்திருக்கின்றது, தொடர்ந்தும் இருந்து வருகிறது. எல்லாவளமும், செல்வமும், செளக்கியங்களும் எல்லாமே சத்தியத்திலிருந்தேதான் உருவாகி வருகின்றன. அவற்றை நாம் அனுபவித்து மகிழ்கின்றோம். அந்த சத்தியம் தெய்வீகமானது. ஆனால் மனிதன் இதனை உணருவதில்லை. மாயையில் ஆழ்த்தும் உலகியல் பொருள்களையே விரும்பி, அவற்றைப் பின் தொடருகிறான்.



நீங்கள் நினைப்பதெல்லாம், சத்யம் என்பது, நீங்கள் காண்பதும், கேட்பதும், நினைப்பதும் என்பவற்றைத்தான். அவற்றை உண்மையாக அப்படியே வெளிப்படுத்தினால் சத்தியம் என்கிற வரையறைக்குட்படுவதாக நீங்கள் கருதுகிறீர்கள். இதெல்லாம் தற்காலிக சத்யம். முக்காலத்திலும் (கடந்த, நிகழ், எதிர்காலங்களில்) எது மாறாதிருக்கிறதோ அதுதான் நிரந்தர சத்யம். அதுதான் என்றும் மாறாத சத்யம்.

**சாயி சிந்தனை**



உலக கைமுறுவல் தினம் புலோலி புற்றனை மகாவித்தியாலயத்தில் நடைபெற்ற போது பிரதம விருந்தினராகக் கலந்துகொண்ட புலோலி பொது சுகாதாரப் பரிசோதகர் பி.பாலதேவா மங்கள விளக்கேற்றுவதையும் யாழ். பிராந்திய சுகாதாரப் பணிப்பாளர் டாக்டர் ஆ. கேதீஸ்வரன் உரையாற்றுவதையும் முதல் இரண்டு படங்களிலும் காணலாம். கைமுறுவல் தொடர்பாக மாணவன் ஒருவர் விளக்குவதை மூன்றாவது படத்திலும் காணலாம்.  
Digitized by Noolaham Foundation.  
noolaham.org | aavanaham.org

**வேலைக்கு ஆள்கள் தேவை**  
 மாபிள் பெட்டிகள் ஏற்றி இறக்கக் கூடிய வேலைக்கு ஆள்கள் தேவை. நேரில் வரவும்.  
 07.11.2009 காலை 8.30 மணிக்கு.  
 வீரமணி, 27/3, மின்சார நிலைய வீதி, யாழ்ப்பாணம்.

**செயலமர்வு**

வடமராட்சி, நவ.05  
 வடமராட்சி கல்வி வலயத்தினால் தரம் - 12 மாணவர்களுக்கு வணிகக்கல்வி புதிய பாடத்திட்டத்தை கற்பிக்கும் ஆசிரியர்களுக்கான செயலமர்வு நாளை வெள்ளிக்கிழமை நெல்லியடி மத்திய மகா வித்தியாலய ஆசிரியர் நிலையத்திலும் தரம் 12, 13 இல் கற்பிக்கும் தமிழ் புள்ளித்திட்ட பாட ஆசிரியர்களுக்கான செயலமர்வு நாளை மறுதினம் சனிக்கிழமை பருத்தித்துறை வேலாயுதம் மகா வித்தியாலயத்தில் நடைபெறவுள்ளன. (04-236)

**கல்விக்கண்காட்சி**

வடமராட்சி, நவ.05  
 பருத்தித்துறை, தம்பசிட்டி மெதடிஸ்த தமிழ்க் கல்வன் பாடசாலையின் வருடாந்தக் கல்விக்கண்காட்சி இன்று வியாழக்கிழமை காலை 9 மணிக்கு அதிபர் கா. இராமஜெயம் தலைமையில் நடைபெறவுள்ளது. இந்த நிகழ்வுக்கு வடமராட்சி வலயக் கணக்காளர் எஸ். கிரிதரன் பிரதம விருந்தினராகவும், பருத்தித்துறை கோட்டக் கல்வி அதிகாரி பா.இரகுநாதன் சிறப்பு விருந்தினராகவும் கலந்துகொள்வர். (203-236)

**F. Jeewajee & Bros**

No.50, New Moor Street, Colombo-12

அச்சகத் தேவைகளுக்கான சகல விதமான பேப்பர் மற்றும் போர்ட் வகைகள் ரொக்கமாகவும் சில்லறையாகவும் தரமான விலையில் பெற்றுக்கொள்ளலாம்.

- ◆ Art Board
- ◆ Box Board
- ◆ Chip Board
- ◆ Bristol Board
- ◆ Liner Board
- ◆ File Cover etc...
- ◆ A4 Papers
- ◆ Demy Paper
- ◆ Poster Paper
- ◆ Art Paper
- ◆ Bank Paper
- ◆ Ronio Paper
- ◆ Brown Paper
- ◆ Oil Paper
- ◆ NCR Paper
- ◆ Ledger Paper
- ◆ Wrapping Paper

தொடர்புகளுக்கு

S.E.Mariathas, 'Globe'  
 0112638391/ 0777624316

**அபிவிருத்தி அதிர்ஷ்டம்**  
 உத்தியோகபூர்வ முடிவுகள்

வேற்றி இலக்கங்கள்

1136  
 நலம்

13 16 18 32

03-11-2009

ஐக்கப்பாட் பரிசு ரூபா. 2,906,550/- வெல்லப்படவில்லை

இணையும் இலக்கங்கள்	வேற்றியாளர் எண்ணிக்கை	பரிசுத் தொகை	மொத்தம்
1 இலக்கம்	202,788	20/-	4,055,760/-
2 இலக்கங்கள்	18,620	40/-	744,800/-
1 இல. + லக்கினம்	18,432	60/-	1,105,920/-
2 இல. + லக்கினம்	1,657	200/-	331,400/-
3 இலக்கங்கள்	503	1000/-	503,000/-
3 இல. + லக்கினம்	47	10,000/-	470,000/-
4 இலக்கங்கள்	2	200,000/-	400,000/-
4 இல. + லக்கினம்	-	2,906,550/-	-
<b>மொத்தம்</b>			<b>7,610,880/-</b>
வேற்றியோடு டிக்கட்டுகளுக்கான பரிசு	5	100,000/-	500,000/-
<b>வெல்லப்பட மொத்தப் பரிசுத் தொகை</b>	<b>242,054</b>		<b>8,110,880/-</b>

இந்த வெள்ளிக்கிழமை சுப்பர் பரிசுத் தொகை ரூபா 3,811,950/-

**ஆலிந்தயே வாசனாவ**  
 தங்கக்காக வேற்றியாளர் : எஸ்.டி.கரந்தாசு  
 ஊழல்க்குறை : ஊ.ஜி.ஜயந்த பிரதீப்  
 கைத்தொழில்வேதி வேற்றியாளர் : ஊ.ஜி.ஜயந்த பிரதீப்  
 பண்டாரவனை

2009 நவம்பர் 06 ஆம் திகதி வெள்ளிக்கிழமை சீலய நிற டிக்கட்டுக்கள் சீட்டிடுபுக்குச் செல்லுபடியாகும். வேற்றி பெறும் டிக்கட்டுக்கள் 6 மாதங்களுக்குச் செல்லுபடியாகும்.

அபிவிருத்தி அதிர்ஷ்டம் சீட்டிடுபுப்பில் வேற்றி பெறாத டிக்கட்டுக்களில் இருந்து ரூபா 100,000/- பரிசு பெறும் சீட்டுக்கள்.

- பொலன்னறுவை 400661596-9-11
- நுவரெலியா 400655386-8-29
- மாத்தளை 400659024-3-21
- திருகோணமலை 400657244-8-15
- மாத்தளை 400659998-3-12

**வளமான வாழ்விற்கு**  
**அபிவிருத்தி லொத்தர்**  
 அபிவிருத்தி லொத்தர் சபை  
 19, வலத்தி தெருவில் டி.டி.சி. கல்வி மையம், யாழ்ப்பாணம்.

**STUDY IN UK**

Colombo நகரில் UK VISA க்களை பெற்றுக்கொடுத்து சாதனை படைத்துக் கொண்டிருக்கும் எமது நிறுவனம் யாழ் மாணவர்கள் அநேகரின் வேண்டுகோளுக்கு இணங்க யாழ் நகரில் கிளைக் காரியாலயம் ஒன்றை ஆரம்பித்துள்ளது

- ☀ UK பல்கலைக்கழகங்கள், கல்லூரிகளுக்கு உடனடியாக அனுமதி பெற்றுக் கொடுக்கப்படும்
- ☀ UK VISA சம்பந்தமான இலவச ஆலோசனைகள்
- ☀ Sponsor வசதிகள் செய்து கொடுக்கப்படும்
- ☀ நான்கு வாரத்தில் London பயணமாக அரிய வாய்ப்பு

நீங்கள் ஏன் எமது நிறுவனத்தை தெரிவுசெய்யவேண்டும்

- ★ ஆகக் கூடுதலான விசாக்களைப்பெற்றுக்கொடுத்து சாதனை படைத்துக்கொண்டிருப்பதால்
- ★ UK யில் உள்ள பிரபல சட்டத்தரணிகளால் உங்கள் Visa Document தயாரிக்கப்படுகின்றன.
- ★ Free IELTS Classes
- ★ UK இல் பகுதிநேர வேலைவாய்ப்பு
- ★ Admission within 12 hours
- ★ Degree முடிவில் 2 வருட Work permit பெற்றுத்தரப்படும்.
- ★ யாழ்.மாணவர்களுக்கு விசேட விசா ஏற்பாடுகள் செய்துகொடுக்கப்படுகின்றன.

எமது நிறுவனம் ஊடாக UK VISA க்களை பெற்றுக் கொண்ட யாழ் மாணவர்கள் சிலர்.....



Jaffna Office: No.102 2/2, Navalar Road, Jaffna. Web : www.expogroup.lk TP : 0117555511, 0714150995

Colombo Office : No.379, 1/2, Galle Road, Colombo - 06 TP : 0117555511, 12, 13, 14

London Office : No.56, The Gardens, Harrow Middlesex Ha 1 4EY UK.







# யாண் உற்பத்திக்கு விதிக்கப்பட்ட தடை நீதிமன்றத்தால் நீக்கம்

யாழ்ப்பாணம், நவ.05  
யாழ்.நகரப்பகுதி பேக்கரி மற்றும் பேக்கரி உரிமையாளர் சங்கம் ஆகியவற்றில் இருந்து மனிதப்பாவனைக்கு உகந்த நிலையில் இல்லாதது என்ற சந்தேகத்தில் மீட்கப்பட்ட கோதுமை மா தொடர்பான வழக்கு எதிர்வரும் 11 திகதிக்கு ஒத்திவைக்கப்பட்டுள்ளது. யாழ்.நீதிமன்ற இ.வசந்த சேனன் முன்னிலையில் இந்த வழக்கு விசாரணைக்கு எடுக்கப்பட்டது.  
மேற்படி வழக்குத் தொடர்பான விசாரணைகள் பூர்த்தியாகாததையடுத்து வழக்கு விசாரணைகளை எதிர்வரும் 11 ஆம் திகதி வரை நீதிமன்றம் ஒத்திவைத்தார்.  
இந்த வழக்கில் பிரஸ்தாபிக்கப்பட்டு பாண் உற்பத்தியை மேற்கொள்ளக் கூடாது எனத் தடை விதிக்கப்பட்ட பேக்கரி மீதான தடை நீக்கப்படுவதாகவும் நீதிமன்றம் அறிவித்தார். எனினும் மனிதப் பாவனைக்கு உதவாது என்ற சந்தேகத்தில் மீட்கப்பட்ட கோதுமைவைத் தொடர்ந்து பயன்படுத்தக் கூடாது என்றும் விநியோகிக்கக் கூடாது

என்றும் அவர் உத்தரவிட்டார்.  
குறிப்பிட்ட கோதுமை மா தொடர்பாக அடுத்த தவணையில் முடிவு தெரிவிக்கப்படும் என்றும் நீதிமன்றம் கூறினார். (அ-1)

## அநாதரவான நிலையில் பெண்சிசு சங்கானைப் பகுதியில் நேற்று முன்தினம் மீட்பு

யாழ்ப்பாணம், நவ.05  
சங்கானை அரசினர் வைத்தியசாலைக்கு அருகில் அமைந்துள்ள பஸ் தரிப்பிடத்தில் அநாதரவான நிலையில் காணப்பட்ட பெண்சிசு ஒன்று மீட்கப்பட்டுள்ளது.  
இச்சம்பவம் பற்றி மேலும் தெரியவருவதாவது-  
பிறந்து ஒருநாள் கூட ஆகாததாகக் கருதப்படும் பெண் குழந்தை யொன்று, குறித்த பஸ்நிலையத்திலிருந்து கடந்த செவ்வாய்க் கிழமை காலை கண்டெடுக்கப்பட்டுள்ளது. இதன்பின்னர் மானிப்பாய் பொலிஸார் சம்பவ இடத்திற்கு விரைந்து வந்து விசாரணைகளை மேற்கொண்டனர்.  
இரவிரவாகப் பெய்த கொட்டும் மழைநடுவே பஸ்தரிப்பில் விட்டுச் செல்லப்பட்ட இக்குழந்தை பத்திரமாகக் காலையில் மீட்கப்பட்ட சம்பவம் இப்பகுதியில் பரபரப்பை ஏற்படுத்தியுள்ளது. (04-29)

### பாராட்டி வாழ்த்துகின்றோம்



நயினாதீவு 5ஆம் வட்டாரத்தைச் சேர்ந்த திரு.திருமதி ஜெகநாதன் விஜயமலர் தம்பதியினரின் ஏகபுதல்வன்

**செல்வன் ஜெ. டினோஷன்**

அவர்கள் யா/நயினாதீவு ஸ்ரீ நாகபூசணி வித்தியாலத்தில் கல்வி கற்று 2009ஆம் ஆண்டு தரம் 5 புலமைப்பரிசில் பரீட்சையில் 142 புள்ளிகளைப் பெற்றுச் சித்தியடைந்த மையை இட்டு அவருக்கு வழிகாட்டி, ஊக்கு வித்த வித்தியால அதிபர், வகுப்பாசிரியர் செல்வி. பொ.சிவ ஜேஸ் வரி மற்றும் சக ஆசிரியர்களையும் நாம் மனமாரப் பாராட்டு வதுடன் நயினை நாகபூசணி அம்பாளின் அருள் பெற்று சகல சௌபாக்கியங்களுடன் வாழ வாழ்த்துகின்றோம்.

வட்டாரம்-5  
நயினாதீவு

நா.ஜெகநாதன் விஜயமலர் (பெற்றோர்)

### முதலாவது பிறந்தநாள் வாழ்த்து

மணிமாறன்-ஜனனி தம்பதியினர் சிரேஷ்ட புத்திரன் ஜிதுசன் இன்று 5.11.2009 வியாழக்கிழமை தெகிவனையில் உள்ள தனது இல்லத்தில் முதலாவது பிறந்தநாளைக் கொண்டாடுகின்றார். இவரை அப்பா, அம்மா, அண்ணா ஹர்சன், அம்மம்மா, அம்மப்பா, மஞ்சுமாமா, அப்பம்மா, அப்பப்பா, பெரியப்பா, பெரியம்மா, மாமா, அத்தை, தங்கை தாடஷா, டி.லக்ஷினி, சித்தப்பா ஆகியோர் ஜிதுக்குட்புகைய வெள்ளைப்பிள்ளையார் அருள் பெற்று பல்கலையும் பெற்றுப் பல்லாண்டு காலம் வாழ்கவேன் வாழ்த்துகிறார்கள்.

குகவல்: அம்மம்மா குடும்பம்.

**Rajee Restaurant**  
இராமலிங்கம்நோட்,  
திருநெல்வேலிக்கு

## Digital Electronics

Internet Browsing  
Photo Copy  
Fax  
Internet call  
Stationary  
Laminating  
DVD, CD Writing

Browsing Corner  
Typing & Printing  
Net 2 Phone call  
Face to Face call  
Kit, Mobitel card  
Dialog Mobitel Reload

வெஸ்டர்ன் யூனியன் பணப்பரிமாற்ற சேவை உலகில் எய் பாசத்தில் இருந்தும் அனுப்பப்படும் பணத்தினை வேகமாகவும் இலகுவாகவும் பாதுகாப்பாகவும் எம்மிடம் பெற்றுக் கொள்ளலாம் (சனி, ஞாயிறு, போயாவிடுமுறை தினங்களிலும்)

(ஸ்டான்லி வீதி, கொமர்ஷல் வங்கி அருகில்)  
என்பத் வங்கி முன்பாக  
62/16 STANLEY ROAD,  
JAFFNA.  
T.P. 021 222 4040

இன்றைப் பிறவுசிங்  
Internet Browsing  
04.11.2009 - 10.11.2009  
முதல் 36 மணி இலகுவாக

### பதவி வெற்றிடம்

கொழும்பைத் தலைமையகமாகக் கொண்டு இயங்கி வரும் பிரபல நிறுவனத்திற்கு பின்வரும் பதவிகளில் வெற்றிடம் உள்ளது.

1) சர்வதேச விமானரிக்கப் நிறுவன உத்தியோகத்தர் (பெண்கள்)  
INTERNATIONAL AIR TICKETING SERVICE OFFICER  
\*ஆளுமையிக்க 21 - 28 வயது வரையான பெண்கள்  
\*மொழியியல் தேர்ச்சி - ஆங்கிலம் விரும்பத்தக்கது

2) சந்தைப்படுத்தும் உத்தியோகத்தர் (MARKETING EXECUTIVES)  
\*இருபாலரும்  
\*மொழியியல் தேர்ச்சி

3) சர்வதேச பொதிகள் சேவைகளுக்கான உத்தியோகத்தர்  
INTERNATIONAL CARGO SERVICE OFFICER  
\*இருபாலரும்  
\*முன் அனுபவம் விரும்பத்தக்கது  
\*மொழியியல் தேர்ச்சி

சுயவிவரக்கோவையுடன் பின்வரும் முகவரிக்கு (07.11.2009) சனிக்கிழமை காலை 9.30 தொடக்கம் 1.30 வரை, பி.ப. 2 மணி தொடக்கம் 5.30 வரைக்கும் (முன் அனுபவம் இல்லாதவர்களுக்கும் பயிற்சி) TILKO HOLIDAYS அடிப்படையில் இணைத்துக் கொள்ளப்  
NO : 70/6, K. K. S. ROAD, படுவர்)  
JAFFNA.  
Hot Line: 0773083820  
Tel No: 0117200051 E.mail : pcity.colombo@g.mail

### பாராட்டி வாழ்த்துகின்றோம்



நேற்று (04.11.2009) புதன்கிழமை கொழும்பு பண்டாரநாயக்கா சர்வதேச மாநாட்டு மண்டபத்தில் நடைபெற்ற உயர் தொழில்நுட்ப நிறுவனத்தின் 2008 ஆம் ஆண்டுக்கான வெது பட்டமளிப்பு விழாவில் உயர் தேசிய முகாமைத்துவ டிப்ளோமா பட்டம் பெற்ற எங்கள் அன்புமகன்

**திருச்சிற்றம்பலம் நவநீதன்**  
(H.N.D.M 2006-2008)

அவர்களை வாழ்த்துவதோடு அவர் மேலும் பல பட்டங்களைப் பெற்று வாழ்க்கையில் சிறப்புற்ற வாழ வாழ்த்துகின்றோம்.

வாழ்த்துபவர்கள்: அம்மா-நமலசோத்  
அண்ணா-வந்திகரவி (சனியர்)  
தங்கை- அனுசிபா

[பட்டம்பெற்ற சகல மாணவர்களையும் வாழ்த்துகின்றோம்.]


தாரிழ் எம்.ரிக்கன் இருவர் நேற்று நான்கு திரும்பினர்

கொழும்பு, நவ.05  
கடந்த ஒரு வருடத்துக்கு மேலாக வெளிநாட்டில் தங்கியிருந்த தமிழ்த் தேசியக் கூட்டமைப்பின் எம்.ரிக்களான செல்வம் அடைக்கலநாதன், எம்.கே.சிவாஜி லிங்கம் ஆகியோர் நேற்று முற்பகல் நான்கு திரும்பினர்.

நாடாளுமன்ற உறுப்பினர் செல்வம் அடைக்கலநாதன் கடந்த ஒன்றரை வருடங்களுக்கு மேலாக இந்தியாவிலும், நாடாளுமன்ற உறுப்பினர் எம்.கே.சிவாஜிலிங்கம் இரு வருடங்களுக்கு மேலாக இந்தியா மற்றும் ஐரோப்பிய நாடுகளிலும் தங்கியிருந்து இறுதியாக லண்டனில் தங்கியிருந்தார்.

குறித்த நாடாளுமன்ற உறுப்பினர்களில் செல்வம் அடைக்கலநாதன் விமான நிலையத்தில் குற்றப்பலனாய்வுப் பிரிவினரால் விசாரணைக்கு உட்படுத்தப்பட்டார் என்று கூறப்பட்டது.

நாடு திரும்பிய இவர்கள் இருவரும் நேற்று நாடாளுமன்ற அமர்விலும் கலந்துகொண்டனர். (சி)



## UNIVERSITY OF JAFFNA

Procurement Notice

### PROCUREMENT OF COMPUTERS, PRINTERS, AND OTHER ACCESSORIES TO THE UNIVERSITY OF JAFFNA

Bids are invited for the supply of following items by the Chairman, Procurement Committee, University of Jaffna upto 2.00 pm on 25.11.2009

NO	ITEM	QTY
T-001	Multimedia PC	49
T-002A	Note book Computer Type 1	07
T-002B	Note book Computer Type 11	03
T-003A	Impact Printer Type 1	02
T-003B	Impact Printer Type 11	10
T-004A	Lazer Printer Type 1	03
T-004B	Lazer Printer Type 11	06
T-005	Scanner	04
T-006	DVD Writer	02
T-007	LCD Moniter	05
T-008	Web Camera	04
T-009A	UPS 1.2 KVA	32
T-009B	UPS 2 KVA	05
T-009C	UPS 650 VA	34
T-010	Visual Presenter	01
T-011	Multimedia Projector	04

Bidders are requested to pay a non refundable bid fee of Rs. 2500.00 by Money Order drawn in favour of the Bursar, University of Jaffna, payable at the Jaffna Post Office or in Cash at the Shroff Counter of the University of Jaffna. Bidding Documents with relevant specifications, could be collected from the Snr. Asst. Bursar (Supplies), University of Jaffna between 06.11.2009 to 13.11.2009 during Working hours, by producing the Money Order or Cash Receipt. The Money Order/Cash Receipt to be attached with the Bidding Documents.

Bids in duplicate should be send by registered post to reach the Bursar or deposited in the Bid box available at the Bursar's office, University of Jaffna on or before 2.00 pm. on 25th November 2009. Bids will be open on the same day immediately after the closer of Bids in the Board Room of the University of Jaffna. Bidders or their authorised representative could be present at the opening time. the Top of the left hand corner of the envelope should be marked as "Bids for Computers and Accessories - UJ / F / PO / T / 03 / 2009"

Chairman,  
Procurement Committee,  
University of Jaffna.

# வன்னி அகதி முகாம்களிலிருந்து இதுவரை ஒரு லட்சத்து 30 ஆயிரம் பேர் விடுவிப்பு

### வவுனியாவில் இன்னும் 1½ லட்சம் பேர் என்கிறார் அமைச்சர் ரிஷாத்



கொழும்பு, நவ.5 வவுனியா அகதி முகாம்களில் இருந்து இதுவரை ஒரு லட்சத்து 30 ஆயிரம் பேர் மீள்குடியமர்த்தப்பட்டுள்ளனர் என்றும் இன்னும் ஒரு லட்சத்து 50 ஆயிரம் பேர் மீள்குடியமர்த்தப்பட்டுள்ளனர் என்றும் மீள்குடியேற்ற அமைச்சர் ரிஷாத் பதிவுதீர் நேற்றுக் கூறினார்.

நாடாளுமன்றக்குழு அறையில் நேற்று இடம்பெற்ற ஊடகவியலாளர் சந்திப்பில் கலந்துகொண்டு உரையாற்றியபோது அவர் இவ்வாறு கூறினார்.

அவர் மேலும் கூறியவை வருமாறு: - யுத்த காலத்தின்போது வடக்கில் இருந்து இரண்டு லட்சத்து 80 ஆயிரம் பேர் இடம்பெயர்ந்து வந்துள்ளனர். அவர்கள் வவுனியா, மன்னார், யாழ்ப்பாணம் மற்றும் புல்மோட்டை ஆகிய இடங்களில் தங்கவைக்கப்பட்டுப் பராமரிக்கப்பட்டு வருகின்றனர்.

அவர்கள் மீள் குடியேற்றத்துக்குள்ளாகி

வருகின்றனர். இதுவரை ஒரு லட்சம் 30 ஆயிரம் பேர் மீள்குடியமர்த்தப்பட்டுள்ளனர். ஒரு லட்சத்து 50 ஆயிரம் பேர் அகதி முகாம்களில் எஞ்சியுள்ளனர். வடக்கில் கண்ணிவெடிகள் அகற்றி முடிந்ததும் அவர்கள் மீள்குடியமர்த்தப்பட்டுவார்.

கண்ணிவெடிகளை அகற்றுவதற்காக 20 இயந்திரங்கள் பயன்படுத்தப்படுகின்றன. பயிற்றப்பட்ட ஆயிரம் பேர் அப்பணியில் ஈடுபடுத்தப்பட்டுள்ளனர். இன்னும் ஆயிரம் பேர் பயிற்றப்பட்டு வருகின்றனர்.

அகதி முகாம்களில் இருந்து மீள்குடியமர்த்தலுக்காக அழைத்துச் செல்லப்படும் மக்கள் வேறு முகாம்களில் தங்கவைக்கப்படுவதில்லை. பலரின் வீடுகள் எரிந்திருந்தமையால் முன்பு அவ்வாறு செய்யப்பட்டது. இப்போது இல்லை.

அதுவும் அவர்கள் பாடசாலைகளில் தான் தங்கவைக்கப்பட்டனர். அவர்கள் விருப்பத்திற்கேற்ப எங்கும் போய் வருவதற்கு வசதியாகவே அது இருந்தது.

கண்ணிவெடிகள் அகற்றும்பணி எவ்வளவு வேகத்தில் முடிகிறதோ அவ்வளவு வேகத்தில் மீள்குடியேற்றம் இடம்பெறும். தேசத்தைக் கட்டியெழுப்பும் அமைச்சர்

கண்ணிவெடிகள் அகற்றும் பணிகளைச் செய்து வருகிறது.

கிழக்கில் மீள்குடியேற்றம் முற்றாக முடிவடைந்துள்ளது. மன்னார், யாழ்ப்பாணம், வவுனியா போன்ற பகுதிகளைச் சேர்ந்த மக்களும் மீள்குடியமர்த்தப்பட்டுள்ளனர் - என்றார். (அ-சி)

# எதிர்க்கட்சிகளின் கூட்டணியில் தமிழக கூட்டமைப்பு இணையாது

கொழும்பு, நவ.5 ஐக்கிய தேசியக் கட்சி தலைமையிலான எதிர்க்கட்சிகளின் ஐக்கிய தேசிய முன்னணியில் இணையும் நோக்கம் எதுவும் இல்லை என்று தமிழக தேசியக் கூட்டமைப்பு தெரிவித்துள்ளது.

ஐக்கிய தேசிய முன்னணியில் தமிழகக் கூட்டமைப்பு இணையவுள்ளதாக வெளிவந்த தகவல்களுக்கு தமிழகக் கூட்டமைப்பு மறுப்புத் தெரிவித்துள்ளது.

அதிகாரத்தைக் கைப்பற்றுவதற்கான ஐக்கிய தேசியக் கட்சியின் அரசியல் நட

# தெல்லிப்பழையைச் சேர்ந்த 127 பேர் உறவினர்களிடம் நேற்று ஒப்படைப்பு

தெல்லிப்பழைப் பிரதேச செயலர் பிரிவுக்குட்பட்ட 72 கர்ப்பிணித் தாய்மார்கள் உள்ளடங்கலாக 127 பேர் நலன்புரி நிலையங்களிலிருந்து விடுவிக்கப்பட்டு உறவினர்களிடம் நேற்று ஒப்படைக்கப்பட்டனர்.

பஸ் வண்டிகளில் அழைத்துவரப்பட்ட இப்பொதுமக்களை நேற்றிரவு தெல்லிப்பழை தூர்க்காதேவி ஆலயத்தில் வைத்து தெல்லிப்பழைப் பிரதேச செயலர் முரளிதரன் பொறுப்பேற்றுக் கொண்டார். அதன் பின்னர் அவர்கள் உறவினர்களிடம் ஒப்படைக்கப்பட்டனர் என்று யாழ்ப. அரசு அதிபர் கே.கணேஷ் தெரிவித்தார். (04)

# கடலில் மூழ்கிய இலங்கையர்களை தேடும் பணியை கைவிட்டது ஆஸி.

### உயிர் தப்பியவர்கள் கிறிஸ்மஸ் தீவுக்கு

அவுஸ்திரேலியக் கடற்பரப்பில் மூழ்கிய படகிலிருந்து இலங்கையர்களைத் தேடும் பணியை அவுஸ்திரேலிய அரசு கைவிட்டுள்ளது. இந்த அனர்த்தத்தில் உயிர் தப்பியவர்கள் கிறிஸ்மஸ் தீவுக்கு கொண்டு செல்லப்பட்டுள்ளனர்.

இதேவேளை, படகில் பயணம் செய்தவர்களின் குடும்பத்தினர் இலங்கையிலிருந்து அவுஸ்திரேலியாவிலுள்ள தமது உறவினர்களைத் தொடர்புகொண்டு நிலைவரத்தை அறிய விரும்புகின்றனர் எனத் தகவல்கள் வெளியாகியுள்ளன.

அவுஸ்திரேலியாவின் கடல் பாதுகாப்பு அதிகாரசபை, காணாமற்போன ஒன்பது பேரும் கண்டுபிடிக்கப்பட்டுவதற்கான வாய்ப்புகள் இல்லையென ஆலோசனை வழங்கியமையை அடுத்து தேடுதல் நடவடிக்கைகைவிடப்பட்டது.

விபத்தில் சிக்கியவர்களை மீட்பதற்குத் தம்மாலான முயற்சிகள் அனைத்தும் தற்போதைய.....

(முதலாம் பக்கத் தொடர்ச்சி) தெரிவித்தார்.

கூட்டமைப்பின் எதிர்கால நடவடிக்கைகள் தொடர்பாக இன்றைய கூட்டத்தில் விரிவாக ஆராய்ந்து முடிவுகள் எடுக்கப்படும் என்றும் அவர் கூறினார்.

தமிழகத்திலிருந்து நாடு திரும்பியுள்ள நாடாளுமன்ற உறுப்பினர்களான எம்.கே. சிவாஜி லிங்கம், செல்வம் அடைக்கலநாதன் ஆகியோரும் இக்கூட்டத்தில் கலந்து கொள்வார். (அ-1)

இது இவ்வாறிருக்க படகு கவிழ்ந்த சம்பவம் குறித்து அறிந்ததும் இலங்கையிலிருந்து பலர் அவுஸ்திரேலியாவுக்குத் தொலைபேசியில் தொடர்புகொண்டு தமது உறவினர்களின் நிலையை அறிய முயல்கின்றனர் என அவுஸ்திரேலிய தமிழக காங்கிரஸ் தெரிவித்துள்ளது.

இலங்கையின் கிழக்குப் பகுதியிலிருந்து மூன்று வாரங்களுக்கு முன்னர் புறப்பட்ட படகே விபத்துக்குள்ளானது. அவர்கள் அனைவரும் அவுஸ்திரேலியாவுக்கு நேரடியாகச் செல்வதற்குத் திட்டமிட்டிருந்தனர் என அவுஸ்திரேலிய தமிழக காங்கிரஸ் தெரிவித்துள்ளது. (அ-சி)

# வேலையற்ற பட்டதாரிகள் கொழும்பில் ஆர்ப்பாட்டம் பொலிஸார் அடிதடி, கண்ணீர் புகைப் பிரயோகம்!

கொழும்பு, நவ. 05 அரசுக்கு எதிராக ஆர்ப்பாட்டத்தில் ஈடுபட்ட வேலையற்ற பட்டதாரிகளில் ஐந்து பெண்கள் நேற்று பொலிஸாரால் நடத்தப்பட்ட அடிதடிப் பிரயோகத்தில் காயமடைந்துள்ளனர். அத்துடன் ஆர்ப்பாட்டத்தில் ஈடுபட்ட 61 பட்டதாரிகள் கைது செய்யப்பட்டனர் எனத் தெரிவிக்கப்படுகிறது.

வேலையற்ற பட்டதாரிகள் ஆயிரக் கணக்கானோர் கொழும்பு ரயில் நிலையத்துக்கு முன்பாக இந்த ஆர்ப்பாட்டத்தை மேற்கொண்டனர்.

இவர்கள் கோட்டை நிலையத்திலிருந்து அலரி மாளிகையை நோக்கி நேற்றுப் பேரணியாகச் செல்ல முயன்றனர்.

இந்த நிலையில் ஆர்ப்பாட்டக்காரர்கள் அலரி மாளிகைக்குள் உட்பிரவேசிக்கின்ற மையைத் தடுத்து நிறுத்தப் பொலிஸார் அவசரமாகக் குவிக்கப்பட்டனர்.

கொழும்பு ஹில்ல்டன் ஹோட்டலுக்கு அருகாமையில் வைத்து வேலையற்ற பட்டதாரிகளுக்கும் பொலிஸாருக்கும் இடையே

யில் மோதல் ஏற்பட்டது. இதனையடுத்து பொலிஸார் கண்ணீர் புகை, தண்ணீர் பிரயோகம், அடிதடி, இறப்பர்க்குண்டுப் பிரயோகம் ஆகியவற்றை மேற்கொண்டு நிலைமையை கட்டுப்பாட்டுக்குள் கொண்டுவர முயன்றனர்.

இதன் போதே ஐந்து பட்டதாரி பெண்கள் காயமுற்றனர். இவர்கள் உடனடியாக வைத்தியசாலைக்கு எடுத்துச் செல்லப்பட்டனர். மேலும் 61 பட்டதாரிகள் கைது செய்யப்பட்டனர். மூன்று பொலிஸாரும் காயமுற்றனர்.

இதனால் ஆர்ப்பாட்டக்காரர்களின் அலரி மாளிகைக்குள் பிரவேசிக்கும் முயற்சி தோல்வி அடைந்தது.

இருப்பினும் ஆர்ப்பாட்டக்காரர்கள் கலைந்து செல்லவில்லை. அவர்கள் ஹில்ல்டன் ஹோட்டலுக்கு எதிரிலுள்ள வீதியில் அமர்ந்திருந்து மறியல் போராட்டத்தில் இறங்கினர். இதனால் வீதியில் போக்குவரத்து பல மணி நேரமாக அங்கு பாதிக்கப்பட்டிருந்தது.

# ஐனாதிபதி....

(முதலாம் பக்கத் தொடர்ச்சி) மீள்குடியேற்றத்தின் பின்னர் ஏற்படுத்தப்படவேண்டிய கூட்டமைப்பு வசதிகள் குறித்து படைஅதிகாரிகளுடன் ஆராய்ந்தார் என்றும் கூறப்பட்டது. (அ-சி)

# யம்பலப்பட்டி....

(முதலாம் பக்கத் தொடர்ச்சி) என்று பகிரங்கமாகக் கோரிக்கை விடுத்தார்.

இந்த ஆர்ப்பாட்டம் பேரணியால் கோட்டை ரயில் நிலையம் முன்பாக சமார் இரண்டு மணிநேரமாக போக்குவரத்து நெரிசல் ஏற்பட்டது.

**வெளிவந்து விட்டது**  
அரசு முகாம்களில் உதவியாளர் போட்டிப் பரீட்சை வழிகாட்டி

**உயிர் தப்பிய யேரித்திர்**

**இலங்கை 3ஆம் தரவணப் பரீட்சை**  
தரம்: 4 முதல் 10 வரை  
தரம்: 4 முதல் 10 வரை தரம்: 4 முதல் 10 வரை தரம்: 4 முதல் 10 வரை

**GR:6&7 ENGLISH MEDIUM**  
2010 புதிய அனுமதியும் வழங்கியும்.  
உங்கள் மின்னணு தரம்: 4இல் கிறி பழஞ்செய்தல் சாதனை ஆகிரியர் திரு. குமரவேலுராஜாவின் புதிய நிரவு: 2 உடன் ஆரம்பியு

**அதிர்வு சிறப்புத் தள்ளுபடி விற்பனை**  
COLLINS COBUILD ENGLISH DICTIONARY  
2500/- = 1500/-  
மெடிக்ஸ் புத்தகங்களுக்கான கழிவு 30%  
ஏனைய புத்தகங்களுக்கு 10% முதல் 50% வரையான விசேட விலைக்கழிவு.  
ஸ்ரேசனரிப் பொருள்கள் சிறப்புத் தள்ளுபடி விலையில்.  
**ஆல்சீலோன் டிஸ்ட்ரிபியூட்டர்ஸ்**  
212, கே.கே.ஸ்ட், திருவாரூர்.  
Digitized by noolaham foundation.  
noolaham.org | aavanaham.org

**அமெரிக்க....**  
(முதலாம் பக்கத் தொடர்ச்சி) உறுப்பினர்கள் இந்தத் தகவலை வெளியிட்டனர். இராணுவ வட்டாரங்களும் இதனை உறுதி செய்துள்ளதுடன் "சரத் பொன்சேகா இன்று அதிகாலை 4.30 மணியளவில் கொழும்பை வந்தடைவார் என்று தெரிவிக்கப்பட்டது. அவர் அமெரிக்க உள்நாட்டுப் பாதுகாப்பு அமைச்சின் விசாரணைகளை எதிர்கொள்ளவில்லை" எனத் தெரிவித்துள்ளனர்.

இவ்வாறு விசாரணைகளை எதிர்கொள்ளாமல் சரத் பொன்சேகா நாடு திரும்புவதற்கான ஏற்பாடுகளை அரசே மேற்கொண்டது என்று பாதுகாப்பு வட்டாரங்கள் தெரிவித்துள்ளன.

வாஷிங்டன் சென்றிருந்த ஜெனரல் சரத் பொன்சேகாவை விசாரணைக்கு சமூகமளிக்குமாறு அமெரிக்க உள்நாட்டுப் பாதுகாப்பு அமைச்சர் அழைப்பு விடுத்திருந்ததை தெரிந்ததே.

நேற்று அமெரிக்க நேரப்படி மாலை 4.30 மணிக்கு சரத் பொன்சேகாவுக்கும் அமெரிக்க அதிகாரிகளுக்கும் இடையிலான சந்திப்பு இடம்பெறவிருந்தது.

சரத் பொன்சேகாவை அமெரிக்க அதிகாரிகள் யுத்தக் குற்ற விசாரணைக்கு அழைத்த சம்பவம் கொழும்பின் அரசியல் வட்டாரங்களில் மிகுந்த பரபரப்பை உண்டாக்கியிருந்தது.

இந்த நிலையில் பொன்சேகா அமெரிக்க அதிகாரிகளின் முன் ஆஜராகாமலேயே திடீரென நேற்று நாடு திரும்பினார் என்று தெரிவிக்கப்பட்டது. (அ-சி)

**வெளிவந்து விட்டது**  
2010  
மேய்கண்டார் - கலண்டர், லீலா - கண்டார்  
சகல விதமான பயிற்சியை வகைகள் படக் கலண்டர்கள் - 150 வகை  
கவாமி, சீநெற், நபுகர், யூக்கள், நெய்யம் உட்பட.  
விளம்பரங்களுக்கு விசேட விலைக்கழிவு வழங்கப்படும்.

**PHYSICS**  
A/L 2011  
நீர் நிலையியல்  
(Part 3.00, Sat., Aug. 1.00)  
ஆரம்பம்: 05.11.2009  
(இன்று) 3.00 p.m.  
K.கஜஸ்  
**NEC**

அன்னை புத்தகசாலை,  
இல.7, ஆஸ்பத்திரி வீதி, யாழ்ப்பாணம். 222-9881