



வலம்புரி

E-mail: valampurii@yahoo.com,
valampurii@slnet.lk

Valampurii

moving money for better
உறவுகளிடமிருந்து
உலகெங்குள்ள
WESTERN UNION மூலம்
அனுப்பிய பணத்தை ஒருசில
நிமிடங்களில் நீங்கள்
பெற்றுக்கொள்ள.
நாடுங்கள்
இலங்கை மற்றும் ஓரே கரையில் கீழ்
அதில்கரையு, பாதுகாப்பு, சம்பந்தம்மை
Authorised Agent
SRI MURUGAN
TELE COMMUNICATION & AGENCY POST OFFICE
303, K.K.S.ROAD, JAFFNA.
TEL: 021 222 5392, 021 222 2670, FAX: 021 222 3214
E-mail: srimurugan303@gmail.com, E-mail: srimurugan09@gmail.com

சங்கு 21 வள்ளுவர் ஆண்டு 2051 ஆனி 26 வெள்ளிக்கிழமை (10.07.2020) தொலைபேசி 222 3378, 222 7829 ஒலி 204

கஞ்சா கடத்தலின் மையமாக வடக்கு
2,327 கிலோ கிராம் கேரள கஞ்சா
இவ்வருடத்தில் கைப்பற்றப்பட்டது
(யாழ்ப்பாணம்) பொருள் கடற்படையினரால் மையக தகவல்கள் தெரிவிக்க
வடக்கில் இவ்வருடம் 2,327 கைப்பற்றப்பட்டுள்ளதாக வடக்கு கின்றன.
கிலோ கிராம் கஞ்சா போதைப் கடற்படை கட்டளைத் தலைக் கடந்த வருடத்து **▷23**

இலங்கையில் மீண்டும்
கொரோனா
அச்சுறுத்தல்

கல்வியங்காடு இளைஞன்
வரணியில் சடலமாக மீட்பு
(கொழும்பு) தென்மராட்சி வரணி தாவளை இயற்றாலைப் பகுதியில் இளைஞர் ஒருவர் நேற்றுக் காலை சடலமாக மீட்கப்பட்டுள்ளார். இது தொடர்பில் மேலும் தெரிய வருவதாவது, யாழ். கல்வியங்காடு **▷23**

யாழ்.நகரில்
ஒருவருக்கு
கத்திக்குத்து
(யாழ்ப்பாணம்) யாழ்ப்பாணம் வைத்தியசாலை **▷23**

57 பேருக்கு நேற்று வைரஸ் தொற்று
(கொழும்பு) இலங்கையில் மீண்டும் கொரோனா வைரஸ் அச்சுறுத்தல் ஏற்பட்டுள்ளது. நேற்று ஒரே நாளில் மட்டும் 57 பேருக்கு வைரஸ் தொற்று ஏற்பட்டுள்ளதாக சுகாதார சேவைகள் பணிப்பாளர் அனில் ஜாசிங்க தெரிவித்தார். (23ஆம் பக்கம் பார்க்க)

க.பொ.த (சா/த)
மாணவர்களுக்கான
கணித பாட
மாதிரி வினாத்தாள்
பகுதி I, II
உள்ளே **▶**

வாள்வெட்டுக் குழுவின்
வீடு நீர்வேலியில் முற்றுகை
கைக்குண்டுகள், இராணுவச் சீருடை, வாள்கள், மோ.சைக்கிள்கள் மீட்பு
23ஆம் பக்கம் பார்க்க

கெடுபிடிகளுக்கு மத்தியில்
நவாலி படுகொலையின்
25ஆவது நினைவேந்தல்



தந்தையின் கத்திவெட்டில்
5 வயது சிறுமி படுகாயம்
முல்லைத்தீவில் சம்பவம்

(பனிக்கன்குளம்) ளியவளை பொலிஸ் பிரி புலவு பகுதியில் முல்லைத்தீவு முள் விற்கு உட்பட்ட கேப்பாப் நேற்று முன் **▷23**

ஒரு பவுண் தங்கம்
இலட்சமாக உயர்வு
(கொழும்பு) முதன்முறையாக தங்கத் அளவை எட்டி இலங்கை வரலாற்றில் தின் விலை உச்சப்பட்ச யது. 24 கரட் **▷23**

பாராளுமன்றப் பொதுத் தேர்தல் 2020 TNA
யாழ்ப்பாணத் தேர்தல் மாவட்டம்
இலங்கைத் தமிழ் அரசுக் கட்சி

என் அன்புக்குரிய அரச சேவையாளர்களே!
உங்களில் ஒருவனாக 20 ஆண்டுகள் அரச பணியில்ருந்து, அரசியல் பணியில் பிரவேசித்தவன் என்ற உரிமையோடு, கடந்த ஒன்பதரை ஆண்டுகள் நான் ஆற்றியுள்ள மக்கள் பணிகளையும், பற்றுறுத மிக்க எனது தமிழ்த்தேசியப் பயணத்தையும் மனங்கொண்டு உங்கள் வாக்குகளால் எனக்கு வலுச்சேர்ப்பீர்கள் என எதிர்பார்க்கிறேன்.

(C-028)
நிரந்தர அரசியல் உரிமை...
நிலையான அபிவிருத்தி...
நிலத்தினில் தமிழராய் நிமிர்ந்திட...

சீவஞானம் சந்திரன்
M.Ed, B.A, PGDE(Mt), PGDEM, Sp. Tr(Ag)
மேனாள் பாராளுமன்ற உறுப்பினர்,
யாழ்ப்பாணத் தேர்தல் மாவட்டம்,
அ.வ.882, ஆறுமுகம் வீதி, வட்டக்கச்சி, கள்வநாச்சி
மேனாள் அ்தியர் :-
கள்/ கள்வநாச்சி மகாவித்தயாலயம்
கள்/ கண்டாவளை மகாவித்தயாலயம்
கள்/ கோணாவில் மகாவித்தயாலயம்

WWW.FACEBOOK.COM/IMSHRITHARAN WWW.SHRITHARAN.COM

நடுவு நிலை தவறா நன்னெறி காக்கும் உங்கள் நாளிதழ்

யாழ். மாநகர சபையில் கூட்டமைப்பு வெளிநடப்பு

அமர்வை புறக்கணித்ததற்கு முன்னணி, ஈ.பி.டி.பி கண்டனம்

(யாழ்ப்பாணம்) யாழ். மாநகர சபையின் அமர்வு நேற்றைய தினம் இடம்பெற்ற போது அமர்விலிருந்து தமிழ்தேசியக் கூட்டமைப்பின் உறுப்பினர்கள் கூண்டோடு வெளி நடப்புச் செய்தனர்.

கடந்த 27.05.2020 அன்று தமிழ்த் தேசிய மக்கள் முன்னணியின் யாழ். மாநகர சபை உறுப்பினரான தனுஜனின் தந்தை விபத்தில் பலியாகியிருந்தார். இந்நிலையில் கடந்த மாதம் மாநகரசபை அமர்வின் போது அடுத்த மாநகர அமர்வு இன்று நடைபெறுமென அறிவிக்கப்பட்டது.

எனினும், பின்னர் தான் குறித்த தினத்தன்றே தன்னுடைய தந்தையின் 45 ஆவது நாள் வருவதனை தனுஜன் அறிந்து கொண்டார். எனவே, தன்னுடைய தந்தையாரின் இறுதி நிகழ்வில் கலந்து கொண்ட அத்தனை பேரையும் அன்றைய நாளில் அழைக்க வேண்டும் என்பதனால் அவர்கள் அனைவரும் கலந்து கொள்ளும் பொருட்டு அமர்வினை வேறொரு திகதியில் நடத்த முடியுமா? என சபையின் செயலாளர் அ.சீரானிடம் வேண்டுகோள் விடுத்திருந்தார். சபையின் செயலாளரும் மனிதாபி

மான அடிப்படையில் பதில் முதல்வருடன் கலந்துரையாடி தபால் மூல வாக்களிப்பு அடுத்த வாரத்தில் நடைபெறவுள்ளதன் காரணமாக அமர்வினை அடுத்த வாரத்திற்குப் பிற்போட முடியாமையினால் குறித்த அமர்வினை நேற்று நடத்துவதற்குத் தீர்மானித்திருந்தார்.

இந்நிலையில் யாழ். மாநகரசபையின் அமர்வு நேற்று முற்பகல்-10 மணியளவில் மாநகர சபையின் புதிற் முதல்வர் து. ஈசன் தலைமையில் ஆரம்பமானது. குறித்த அமர்வு ஆரம்பமாகிய சில நிமிடங்களில் உரையாற்றிய கூட்டமைப்பு உறுப்பினர் மகாலிங்கம் அருள்குமாரன் மாநகரசபைக் கட்டளைச் சட்டத்தின் பிரகாரம் ஒரு கூட்டமானது நான்கு நாட்களுக்கு முன்னர் அறிவிக்கப்பட வேண்டும். எனினும், மூன்று நாட்கள் முன்னறிவித்தலுடன் இன்றைய(நேற்றைய) கூட்டம் நடத்தப்படுகிறது. எனவே, கூட்டம் சட்டவலுவற்ற கூட்டமென சபைக்குத் தெரியப்படுத்திவிட்டு அங்கிருந்து வெளியேறிச் சென்றுள்ளார்.

இந்நிலையில் அமர்விற்குத் தலைமை தாங்கிய பதில் முதல்வர் இதுதொடர்பில் தனது நிலைப்பாட்டைத் தெரிவிக்கின்றேன் எனத் தெரிவித்த

போதும் அவரது கருத்துக்குச் சிறிதும் செவிசாய்க்காமல் சட்டவலுவற்ற இக் கூட்டத்தில் கலந்து கொள்ள முடியாது எனத் தெரிவித்து யாழ்.மாநகரசபையின் பதில் முதல்வர் தவிர்ந்த அனைத்துத் தமிழ்த் தேசியக் கூட்டமைப்பு உறுப்பினர்களும் வெளி நடப்புச் செய்தனர்.

இதனையடுத்துத் தமிழ்த் தேசியக் கூட்டமைப்பு உறுப்பினர்கள் நேற்றைய அமர்வைப் புறக்கணித்து வெளிநடப்புச் செய்தமைக்கு ஈ.பி.டி.பி மற்றும் தமிழ்த் தேசிய மக்கள் முன்னணி உறுப்பினர்கள் சார்பில் கடும் கண்டனமும் வெளியிடப்பட்டது.

இதனைத் தொடர்ந்து யாழ்.மாநகர சபையின் பதில் முதல்வர் து.ஈசன் உரையாற்றினார். அவர் தனதுரையில் ஒருவருடைய மரணத்திற்கு மதிப்பளிக்க வேண்டுமென்பதில் நான் அக்கறையுடையவனாகவிருக்கின்றேன். இதனால் தான் நாளை (இன்று) நடைபெறவுள்ள அமர்வு இன்றைய தினம் (நேற்று) நடைபெறுகிறது. எல்லோரும் எமது உறுப்பினர்கள். எல்லோரும் எமக்குத் தேவை. எல்லோரும் இணைந்தால் தான் மாநகரசபையைக் கட்டியமுப்ப முடியும். சட்டங்களுக்கேற்ற மாதிரி நாங்கள் இந்த சபையைக் கொண்டு செல்வதாகவிருந்தால் இன்றைய (நேற்றைய) சபையை ஒத்திவைப்பது தான் சிறந்தது எனவும் தெரிவித்தார். (ம-3,18)

வியாவில் ஐயனாருக்கு நாளை கொடியேற்றம்

(யாழ்ப்பாணம்) வரலாற்றுச் சிறப்புமிக்க காரைநகர் வியாவில் ஐயனார் கோவில் வருடாந்த மகோற்சவம் நாளை 11 ஆம் திகதி சனிக்கிழமை கொடியேற்றத்துடன் ஆரம்பமாகி தொடர்ந்து பத்துத் தினங்கள் மகோற்சவம் நடைபெறும்.

தேர்த்திருவிழா எதிர்வரும் 19 ஆம் திகதி ஞாயிற்றுக்கிழமை இடம்பெறும். ஆலய மகோற்சவத்தில் பங்குபற்றும் அடியார்கள் கொரோனா தொற்று நோய்த் தடைக்கான பாதுகாப்பு நடவடிக்கைகளைப் பின்பற்றி உதவுமாறு ஆலய அறங்காவலர் கேட்டுள்ளார். (ம-3)

கொரோனா: குழந்தை பலி

(சென்னை) தமிழகத்தில் பிறந்து 25 நாட்களே ஆன குழந்தை ஒன்று கொரோனா தொற்றால் பாதிக்கப்பட்ட நிலையில் உயிரிழந்துள்ளது. திருவண்ணாமலையைச் சேர்ந்த இந்த குழந்தைக்கு இரத்த ஓட்டத்தில் பாதிப்பு, நரம்பு மண்டலத்தில் பாதிப்பு, அடிவயிற்றில் நோய்தொற்று உள்ளிட்ட

மணமகள் தேவை
யாழ்ப்பாணம் கௌரவ குடும்பத்தைச் சேர்ந்த 1976 ஆம் ஆண்டு பிறந்த குடும்பப் பாங்கான ஆசிரியையாக கடமை புரியும் மணமகளிற்கு தகுந்த வரனை பெற்றோர் எதிர்பார்க்கின்றனர்.
தொடர்பு (3172)
Tel : 077 340 5951
Email : engchelvam@gmail.com

குருவே துணை

வாழ்க வையகம்

வாழ்க வளமுடன்

அன்பர்களின் வேண்டுகோளுக்கமைய மீண்டும் மனவளக்கலை யோகாப் பயிற்சிகள் ஆரம்பமாகிறது

கடந்த சில மாதங்களில் உலகம் முழுவதும் நடைபெற்ற கொடிய கிருமித் தொற்றிலிருந்து மக்கள் இயல்பு நிலைக்கு திரும்பியிருப்பினும் இன்னும் உலகத் தலைவர்களும் விஞ்ஞானிகளும் வைத்தியர்களும் மற்றும் சுகாதாரத்துறை சார்ந்த அனைவரும் மக்களுக்கு அறிவுறுத்துவது மக்கள் தங்களுடைய நோய் எதிர்ப்புச் சக்தியை அதிகரிக்க யோகப் பயிற்சியினை மேற்கொள்ள வேண்டும் என்பதே. அதனை வழங்குவதே அருட்தந்தை யோகிராஜ் வேதாத்திரி மகரிஷி அவர்களின் மனவளக்கலை யோகாப் பயிற்சிகள் ஆகும்.

இலகுவான எண்பது வயது முதியவரும் செய்யக்கூடிய எளியமுறைப் பயிற்சிகள் கைக்கு எட்டிய தூரத்தில் இருக்க ஏனைய மருத்துவங்களும் அநாவசிய செலவுகளும் எதற்காக? எனவே புதிய அன்பர்களும் மாணவச் செல்வங்களும் தவறாது பங்குபற்றி பயன்பெற அன்புடன் அழைக்கின்றோம்.

இம்முறை இலங்கையின் ஒளிவிளக்காகத் திகழும் யாழ். அறிவுத்திருக்கோவில் தலைவரும் பேராசிரியருமான அருள்நிதி சி.முருகானந்தவேல் அவர்கள் பயிற்சியினை வழங்கவுள்ளார் என்பதை மகிழ்வுடன் அறியத்தருகின்றோம்.

- ◎ எளியமுறை உடற்பயிற்சிகள்
- ◎ எளியமுறை தியானப்பயிற்சி
- ◎ காயகல்ப்பப் பயிற்சி
- ◎ அகத்தாய்வுப் பயிற்சி

காலம் : 11.07.2020 சனிக்கிழமை தொடக்கம் 17.07.2020 வெள்ளிக்கிழமை வரை
நேரம் : மாலை 5.00 மணி தொடக்கம் இரவு 7.00 மணி வரை
அறிமுகவுரை : மனவளக்கலை பேராசிரியர் அருள்நிதி சி. முருகானந்தவேல் அவர்கள்
பயிற்சி வழங்குபவர் : துணைப் பேராசிரியர் அருள்நிதி சி. நந்தகுமரன் அவர்கள்
குறிப்பு : கொவிட் - 19 சமூக பாதுகாப்பு விதிகளுக்கமையாக பயிற்சிகள் வழங்கப்படுவதால் மட்டுப்படுத்தப்பட்ட பயிற்சியாளர்களே உள்வாங்கப்படுவர்.

யாழ்ப்பாணம் அறிவுத்திருக்கோவில்
இல.81, பிறவுன் வீதி, கொக்குவில், யாழ்ப்பாணம்.
தொ.இல: 021 222 2772 (C-9865)

கண்ணீர் அஞ்சலி

எமது கல்வி நிலையத்தின் க.பொ.த (உ/த) தமிழ் ஆசான் திரு இராமநாதன் இன்பதான் அவர்களின் பாசமிகு தந்தையார்

அமரர் சிவ்வத்தம்பி இராமநாதன்

மலர்வு 23.07.1933 உதிர்வு 08.07.2020

அவர்கள் (08.07.2020) அன்று அமரத்துவம் அடைந்த செய்தி அறிந்து ஆற்றொணாத தயருற்றோம். அவர் மறைவால் தயருறும் அவரது குடும்பத்தினருக்கு எமது ஆழ்ந்த அனுதாபங்களைத் தெரிவித்துக் கொள்கின்றோம். அவரது ஆத்மா சாந்தியடைய இறைவனைப் பிரார்த்திக்கின்றோம்.

ஓம் சாந்தி! சாந்தி!!! சாந்தி!!!

இயக்குநர், ஆசிரியர்கள், மாணவர்கள் சதாபொருள் கல்வி நிலையம் - அல்வாய் (C-9868)

காரணங்களுக்காக இதுவரை மூன்று முறை அறவை சிகிச்சை மேற்கொள்ளப்பட்டுள்ளது. கொரோனா தொற்று பாதிப்பின் காரணமாக கடந்த 27 ஆம் திகதி சென்னை எழும்பூர் குழந்தைகள் நல மருத்துவமனையில் அனுமதிக்கப்பட்டுள்ளது. இந்நிலையில் சிகிச்சை பலனின்றிக் கடந்த 7 ஆம் திகதி குழந்தை உயிரிழந்தது. (ம-3)

காணி விற்பனைக்கு

யாழ். மாவட்டம், வடமராட்சிப் பகுதி பருத்தித்துறை கோயிற்பற்று, புலோலி கிழக்கு மழுவராய்குறிச்சி யிறையில் "மண்பற்றங்கூடல்" என்னும் காணியில் நிலப் பயர்ப்பு-3 குளி 11 24/32, வெட்டுக் கிணறுடன் பாதை வசதியுடன், நாற்புறமும் மதிலுடன் கூடிய காணி விற்பனைக்குண்டு.

தொடர்பு :- 077 940 9327 (C-9869)

தேர்தல் சட்டங்களை மீறுவோருக்கு எதிராக கடும் சட்ட நடவடிக்கை

பொலிஸ் தலைமையகம் அறிவிப்பு

(கொழும்பு)

தேர்தல் சட்டவழிகளை மீறி செயற்படும் நபர்களுக்கு எதிராக 1981 ஆம் ஆண்டு பாராளுமன்ற தேர்தல் சட்டம், பொலிஸ் கட்டளைச் சட்டம் மற்றும் தொற்று நீக்க சட்டவழிகளுக்கு

கீழ்க்கண்ட சட்ட நடவடிக்கை எடுக்கப்படும் என்று பெரலிஸ் தலைமையகம் அறிவித்துள்ளது.

தேர்தல் காலங்களில் பிரசார நடவடிக்கைகளை மேற்கொள்ளும் போது கடைப்பிடிக்க வேண்டிய சட்டவழிகள் தொடர்

பில் பொலிஸ் தலைமையகத்தினால் நேற்று விடுக்கப்பட்டுள்ள அறிக்கையின்படி மேற்கண்டவாறு தெரிவிக்கப்பட்டுள்ளது. அதில் மேலும் கூறப்பட்டுள்ளதாவது,

பொதுத் தேர்தலில் போட்

டியிடும் வேட்பாளர்களுக்கு ஆதரவளிக்கும் வகையில் மேற்கொள்ளப்படும் பிரசாரங்களில், வேட்பாளர்களின் குடும்ப உறுப்பினர்கள் எவரும் அவர் சார்பில் வீடுகளுக்குச் சென்று பிரசாரங்களில் ஈடுபட முடியாது. வேட்பாளரின் உறவினர்கள் அல்லாத

ஏனையவர்கள் பிரசாரத்தில் ஈடுபடலாம்.

வேட்புமனு தாக்கல் செய்யப்பட்ட தினத்திலிருந்து தேர்தல் முடிவுகள் அறிவிக்கப்பட்டு ஒருவாரம் ஆகும் வரையில் எந்தவித பெரவெரா மற்றும் விழாக்களில் வேட்பாளர்கள் கலந்து கொள்ளக் கூடாது. அதே வேளை சமய நிகழ்வுகளில் அரசியல் சார்ந்த செயற்பாடுகளை முன்னெடுக்கக் கூடாது.

இந்நிலையில் மூன்று பேர் மாத்திரமே வீடுகளுக்குச் சென்று பிரசாரங்களில் ஈடுபட முடியும். இதேவேளை வேட்பாளர்களின் கட்சிக் கொள்கைத்திட்டம், சின்னம், அவர்களது போட்டி இலக்கம், புகைப்படம், துண்டுப்பிரசாரம் மற்றும் சுவரொட்டிகளை வாக்காளர்களின் இல்லங்களுக்குச் சென்று கையளிக்க முடிவதுடன், வாக்காளர்களில் அதனை காட்சிப்படுத்த முடியாது.

இதேவேளை இல்லங்கள் தோறும் சென்று தேர்தல் பிரசாரங்களில் ஈடுபடும் போது, குறித்த வீட்டு உறுப்பினர்களுக்கு பாதிப்பை ஏற்படுத்தாத வகையில் பிரசாரங்களில் ஈடுபடுவதுடன் ஒலிபெருக்கிகளை உபயோகிக்கக் கூடாது. இதன் போது வேட்பாளர்களின் சின்னம், இலக்கம், புகைப்படம் ஆகியவற்றை காட்சிப்படுத்தும் வகையிலான ஆடைகளை அணிந்து செல்வதையும் தவிர்ந்துக் கொள்ள வேண்டும்.

வேட்பாளர்களின் கட்சி, கொடி மற்றும் பதாகைகளை பிரசார கூட்டம், இடம்பெறும் தினத்தில், கூட்டம் நடைபெறும் இடத்தில் மாத்திரமே காட்சிப்படுத்த முடியும். அதே வேளை வேட்பாளர் அவரின் சொந்த வாகனத்தில் அவரது கட்சியின் சின்னம், இலக்கம் மற்றும் கட்சியின் கொடியை காட்சிப்படுத்தலாம். ஆனால் வாகனத்தின் பொதுவான நிறத்தை மாற்றும் வகையிலோ பின்பகுதி கண்ணாடியை மூடும் வகையிலோ காட்சிப்படுத்தக்கூடாது எனக் குறிப்பிடப்பட்டுள்ளது. (ஜ-4)

இலங்கையின் முதல்தர இலத்திரனியல் நிறுவனமான



Abans குழுமத்தின் புதிய பிரமாண்ட காட்சியறை

கோலாகல திருப்புவழி

Abans Elite காட்சியறை

காலம் : 11.07.2020 சனிக்கிழமை

நேரம் : காலை 10.35 மணி

இடம் : 420, 1ம் மாடி, காகில்ஸ் சதுக்கம், யாழ்ப்பாணம்

காட்சியறை இலக்கங்கள்: 0215776040, 6041

e-mail : ade_iff@abansgroup.com

முகாமையாளர் - ஜெ.உத்தமன் 077 317 9593

விற்பனைப் பிரதிநிதிகள்

ச.கஜேந்திரன் - 0770653004

ம.செனகன் - 0771633505

ம.மயூரன் - 0775048724

கி.கென்றிக்சன் - 0777683121

வாடிக்கையாளர்கள் அனைவரையும் அன்புடன் வரவேற்கின்றோம்

LG Abans TOSHIBA Authorized Reseller VIVO Haier

oppo mistral pyrex. PHILIPS ELBA Whirlpool acer hp UEL

90^{ம்} நாள் நினைவு அஞ்சல் நிகழ்வும் சயிண்டிகேரா அழைப்பும்

அமரர் தில்லைநாதன் ஆனந்தவாணன்

மேனாள் பூநகரி பிரதேசசபை உறுப்பினரும் தமிழ்த் தேசிய தொலைக்காட்சி (T.T.N) பிரான்ஸ் நிகழ்ச்சி தயாரிப்பாளரும் செய்தி அறிவிப்பாளரும்

தோற்றம்
22.01.1990

மறைவு
09.04.2020

கடந்த 09.04.2020 அன்று பிரிட்டனில் கொரோனா தொற்றுக்கு இலக்காகி இறைபதம் எய்திய லாங்கன் செல்வமகனின் அந்தியேட்டிக் கிரியையின் பின் இன்று 10.07.2020 வெள்ளிக்கிழமை

10 மணியளவில் அமரரின் பூநகரி 4ம் கட்டையில் உள்ள "ஆனந்தவாசா" இல்லத்தில் நடைபெறும் ஆத்மசாந்திப் பிரார்த்தனையிலும் மதியபோசனத்திலும் கலந்து கொள்ளுமாறு உற்றார், உறவினர், நண்பர்கள் அனைவரையும் அன்புடன் அழைக்கின்றோம்.

மன்னார் வீதி,
4ம் கட்டை, பூநகரி.

குடும்பத்தினர்.
T.P: 0763711795

நரேந்திர மோடியின் ஆதரவு எங்களுக்கே என்பது

தமிழ் மக்களை முட்டாள்கள் ஆக்கும் கருத்து

சம்பந்தனின் பேச்சுக்கு சந்திரகுமார் பதிலடி

(அக்கராயன்)

இந்திய பிரதமர் நரேந்திர மோடி தங்களோடுதான் இருக்கின்றார் என தமிழ்தேசியக் கூட்டமைப்பின் தலைவர் இரா சம்பந்தன் தெரிவித்துள்ள கருத்து தமிழ் மக்களை முட்டாள்களாக்கும் கருத்து என்றும் தமிழ் மக்களை தமிழ்தேசியக் கூட்டமைப்பு மீண்டும் இந்த தேர்தலில் ஏமாற்றுவதற்கு இவ்வாறான அறிக்கைகளை அவர்கள் விடுகின்றனர் என்றும் முன்னாள் பாராளுமன்ற உறுப்பினர் மு.சந்திரகுமார் தெரிவித்தார். அவர் மேலும் தெரிவிக்கையில்,

பிராந்திய அரசியல் நலன்

கள்சார்ந்து இந்தியா எப்பொழுதும் கொழும்புபோதுதான் இருந்துள்ளது. இன்றும் இருந்து வருகிறது. சர்வதேச நாடுகள் அனைத்தும் ஏனைய நாடுகளின் எந்த விடயத்திலும் தலையிடுகின்ற போது தங்களின் நலன்களிலிருந்து சிந்தித்தே முடிவுகளை எடுத்து வருகின்றனர்.

மாறாக அவர்கள் தமிழ் மக்கள் மீதான அக்கறையினால் அல்ல. யுத்தம் நிறைவுற்று கடந்த 10 வருடங்களாக தமிழ் மக்களின் விடயத்தில் சர்வதேச நாடுகளின் செயற்பாடுகள் இவ்விதமே இருந்து வருகின்றன.

ஆனால் ஒவ்வொரு தேர்த

லிலும் தமிழ்த் தேசியக் கூட்டமைப்பு தமிழ் மக்கள் முன் சர்வதேசம் என்ற மாயமான காட்டி வாக்குகளை பெற்று தங்களை வளப்படுத்திக்கொண்டார்களே தவிர தமிழ் மக்கள் எதிர் கொண்டுள்ள உடனடி பிரச்சினைகளை கூட நிவர்த்தி செய்யவில்லை.

பிரதேசங்களின் அபிவிருத்தி, இளம் சமூகத்தின் வேலைவாய்ப்புகள், மக்களின் பொருளாதார முன்னேற்றம் போன்ற மக்களின் நாளாந்த வாழ்க்கை பிரச்சினைகளைக்கூட அவர்களால் தீர்த்து வைக்க முடியவில்லை.

தமிழ்தேசியக் கூட்டமைப்

பில் யாழ்ப்ப. கிளிநொச்சி மாவட்டங்களில் போட்டியிடுகின்ற 10 வேட்பாளர்களும் ஒரே மேடையில் ஒற்றுமையாக இருந்து ஒரு தேர்தல் பிரசாரக் கூட்டத்தை நடத்த முடியுமா? பத்து பேருக்குள்ளும் பத்துவிதமான கருத்துக்கள், ஒருவருக்கொருவர் குழிபறிக்கின்ற செயற்பாடுகள், கட்சிக்குள் அடிபாடுகள், மாறிமாறி ஊழல் மோசடிகளை அம்பலப்படுத்துகின்றனர். நியாயமாக கேள்வி கேட்கின்றவர்களை கட்சியிலிருந்து விலக்குகின்றனர்.

இவ்வாறு தங்களுக்குள் ஒற்றுமையின்றி இருந்து கொண்டு தமிழ் மக்களை ஒர்



றுமையாக தங்களுக்கு வாக்களிக்க கோருவது கேலிக்கூத்தான செயற்பாடு.

எனவே இனியும் இவர்களை நம்பி இவர்களின் வார்த்தைகளை நம்பி தமிழ் மக்கள் ஏமாந்து போகக் கூடாது. மக்களின் நலனில் நாம் கேடயமாக நின்று காப்போம். இதனை கடந்த கால எங்களின் செயற்பாடுகள் கட்டியம் கூறுகின்றது என அவர் மேலும் தெரிவித்தார். (ஜ-4-350)



(யாழ்ப்பாணம்)

அரசியலுக்கு எப்போதும் துணிச்சல் தேவை. அந்த துணிச்சல் இல்லாதவர்கள் அரசியலுக்கு வரக் கூடாது எனத் தெரிவித்த தமிழ் மக்கள் தேசியக் கூட்டணியின் யாழ்ப்பாணம் தேர்தல் மாவட்ட வேட்பாளரும் ஈழத்தமிழர் சுயாட்சிக்கழகத்தின் செயலாளர் நாயகமுமான அனந்தி சசிதரன், கொள்கை மாறாது கடைசிவரை எமது மக்களுக்காக பயணிப்பேன் எனவும் தெரிவித்துள்ளார்.

ஊடகங்களுக்கு அனுப்பிய அவரது அறிக்கையில், 2020 பாராளுமன்றத்தேர்

தமிழ் மக்களுக்கு இழைக்கப்பட்ட அநீதிக்கு கண்ணீர் கூட விடமுடியாத நிலை

அனந்தி சசிதரன் சுட்டிக்காட்டு

தலில் நாங்கள் ஒரு புதிய கூட்டணியாக களமிறங்கி இருக்கின்றோம். அதுவும் கொரோனா என்ற கொடிய தொற்றுநோயின் தாக்கத்தில் இருக்கின்ற போது இலங்கை அரசாங்கத்தினால் இந்த தேர்தல் அறிவிக்கப்பட்டிருக்கின்றது.

எங்களுக்கு இழைக்கப்பட்ட அநீதிக்காக நாம் கண்ணீர் விடக்கூட இந்த அரசாங்கம் எங்களுக்கான அனுமதியை தர தயாராகவில்லை. எனவே இன்று இந்த நிலைமை ஒரு இராணுவ ஆட்சிக்குள் இருக்கின்ற அல்லது இராணுவ முற்றுகைக்குள் இருக்கின்ற சூழ்நிலையில்தான் நாங்கள் இந்த தேர்தலை எதிர்கொள்கின்றோம்.

உங்களுக்கு தெரியும் நாங்கள் எதற்காக தமிழ்தேசியக் கூட்டமைப்புக்கு எதிரான மாற்றணியாக இறங்கி இருக்கிறோம். இன்றைக்கு பலர் சில முகப்புத் தகவர்கள் ஊடாக பேசுகின்றவர்கள் நாங்கள் பதவிகளுக்காக கட்சியைவிட்டு வெளியேறினோம் என்று. இல்லை நாங்கள் கொள்கைகளுக்காக வெளியேறினோம். 2015 ஆம் ஆண்டு நல்லாட்சி அரசாங்கம் என்று இவர்களால் கொண்டு வரப்பட்ட ஆட்சியின் போது மிகத்தெளிவாக சொன்னேன். மனச்சாட்சிக்கு விரோதமாக மைத்திரியையும் ஆதரிக்கமாட்டேன், மகிந்தாவையும் ஆதரிக்கமாட்டேன் என்றும் இரண்டு போர்க்குற்ற

வாளிகள் என்று கூறியதன் காரணமாக கட்சியை விட்டு வெளியேற்றப்பட்டேன்.

எந்த ஒரு கூட்டணிக்குள்ளும் ஒருவரது வெற்றி வாய்ப்பை இன்னொருவர் தட்டிப் பறிக்கின்ற நிகழ்ச்சி நிரலிலுக்குள் அவர்கள் சென்று விடக் கூடாது. ஏன் என்றால் ஒருவரைக் குற்றவாளியாக காட்டிக் கொண்டு என்னைவர்கள் தாய்மையானவர்களாக காட்டிக் கொள்ள முயற்சிக்கின்றார்கள்.

எந்தக் காலத்திலும் கொள்கையை விட்டு விலகிப் போகிறவர்கள் நாங்கள் இல்லை. நான் பாதிப்பிலிருந்து வந்த

பெண் அது மட்டுமல்ல சரணடைந்து காணாமல் போனோர்கள் தொடர்பில் தொடர்ச்சியாக பேசிக்கொண்டிருக்கின்றேன்.

அரசியலுக்கு எப்போதும் துணிச்சல் தேவை. துணிச்சல், இல்லாதவர்கள் அரசியலுக்கு வரக்கூடாது. அரசாங்கம் பிடிக்கும், அடிக்கும், சுடும் என்றெல்லாம் நினைப்பவர்கள் அரசியலுக்கு வர முடியாது. நான் எந்த நேரமும் எதையும் எதிர்கொள்ள தயாராக இருக்கிறேன்.

ஏனென்றால் என் கணவரின் சரணடைவுக்கு பின் மூன்று பெண் பிள்ளைகளுடன் நான் அநாதரவாக நின்றபோது எனக்கு இருந்த நம்பிக்கை அத்தனை பெண் தலைமைத்துவ குடும்பங்களுக்கும் வரவேண்டும் என்று எண்ணுகிறேன் என அவர் அறிக்கை தொடர்ந்து செல்கிறது. (ஜ-4-9)



தமிழ் மக்களுக்கு உறுதியோடு செயற்படும் மாற்று அரசியல் தலைமை ஒன்றே தேவை

(மன்னார்)

தமிழ் மக்கள் எங்களுக்கு வழங்குகின்ற ஆதரவின் ஊடாக நிச்சயமாக நாங்கள் இந்த தேர்தலில் அதிகபட்சமான ஆசனங்களைப் பெற்று இத்தேர்தலுக்கு பிற்பாடு நீண்டகாலமாக தீர்க்கப்படாமல் இருக்கின்ற எமது மக்களுக்கான பிரச்சினைகளுக்கு தீர்வு காணுகின்ற அனைத்து முயற்சிகளையும் மேற்கொள்வோம் என தமிழ் மக்கள் தேசிய கூட்டணியின் வன்னி மாவட்ட வேட்பாளரும் முன்னாள் பாராளுமன்ற உறுப்பினருமான சிவசக்தி ஆனந்தன் தெரிவித்தார்.



மன்னாரில் நேற்று முன்தினம் புதன்கிழமை இடம்பெற்ற மக்கள் சந்திப்பை தொடர்ந்து ஊடகங்களுக்கு கருத்து தெரிவிக்கையிலேயே அவர் இவ்

சிவசக்தி ஆனந்தன் எடுத்துரைப்பு

வாறு தெரிவித்தார்.

அவர் மேலும் தெரிவிக்கையில்,

தொடர்ந்து வடக்கு-கிழக்கில் "தமிழ் மக்கள் தேசியக் கூட்டணிக்கான" மக்கள் ஆதரவு நாளுக்கு நாள் அதிகரித்துச் செல்கின்றது. அந்த வகையில் தமிழ் மக்கள் நூற்றுக்கு நூறு வீதம் இந்த தேர்தலில் வாக்களிக்க வேண்டும்.

நீண்டகாலமாக ஏற்பட்டுள்ள அரசியல் வெற்றிடத்தை நிவர்த்தி செய்யும் வகையில்

"தமிழ் மக்கள் தேசியக் கூட்டணி" அதனுடைய தலைவராக இருக்கக் கூடிய விக்கிளேஸ்வரன் தலைமையில் நடைபெற இருக்கின்ற பாராளுமன்றத் தேர்தலில் வடக்கு-கிழக்கில் அதிகளவான ஆசனங்களைப் பெற்றுக் கொள்ளும்.

தமிழ் மக்கள் நிச்சயமாக ஆணையை எமக்கும் வழங்குவார்கள் என்பதில் சந்தேகம் இல்லை.

எங்களுக்கு எம் மக்கள் மீது அசைக்க முடியாத நம்பிக்கை

உண்டு. மேலும் தமிழ் மக்களினுடைய வாக்குகளை சூறையாடும் வகையில் அரசும் அரசு சார்பான கட்சிகளும் சுயேட்சைக் குழுக்களும் மக்கள் மத்தியில் தாங்கள் பாரிய அளவில் அபிவிருத்திகளை செய்ய உள்ளதாகவும் அதற்காக தமக்கு வாக்களிக்கும் படி கேட்கின்றனர். எனவே தமிழ் மக்கள் மிகவும் தெளிவாகவும் விழிப்பாகவும் இருக்க வேண்டிய ஒரு தேவைப்பாடு உள்ளது.

கடந்த காலத்தில் உறுதியற்ற, அரசிற்கு ஆதரவு வழங்குகின்ற தமிழ்த் தலைமைகளை தெரிவு செய்யாமல் தமிழ் மக்களுக்காக உறுதியோடு செயற்படக்கூடிய புதிய மாற்று அரசியல் தலைமைக்கு தமிழ் மக்கள் தமது ஆதரவை வழங்க வேண்டும் என அவர் தெரிவித்தார். (ஜ-4-285)

மஞ்சள், உழுந்தின் இறக்குமதித் தடையை நீக்குமாறு பிரதமரிடம் யாழ்.வணிகர் கழகம் கோரிக்கை

(யாழ்ப்பாணம்)

நாட்டில் ஏற்பட்ட கொரோனா தாக்கத்தால் மஞ்சள் மற்றும் உழுந்துக்கான தட்டுப்பாடு நிலவி வருகின்ற நிலையில் அவற்றுக்கான இறக்குமதித் தடையை நீக்குமாறு வலியுறுத்தி யாழ்.வணிகர் கழகம் பிரதமர் மகிந்த ராஜபக்ஷவுக்கு கடிதம் அனுப்பி வைத்துள்ளது. அக்கடிதத்தில் மேலும் தெரிவிக்கப்பட்டுள்ளதாவது,

கொரோனாத் தாக்கத்திற்கு முன்பு மார்ச் மாதம் வரை மஞ்சள் 400 ரூபாவாகவும், உழுந்து 300 ரூபாவாகவும் விற்பனை செய்யப்பட்டு வந்தது. தற்போது அதன்

விலைகள் மிக அதிகரித்து மஞ்சள் ஒரு கிலோ கிராம் 3000 ரூபாவாகவும், உழுந்து ஒரு கிலோ கிராம் 600 ரூபாவாகவும் விற்கப்படுகிறது.

அத்துடன் மஞ்சள் இறக்குமதி தடை செய்யப்பட்டுள்ளதாகவும் அறிகின்றோம். நாட்டில் தற்போது மஞ்சள் போதியளவு உற்பத்தி செய்யப்படவில்லை.

மஞ்சள் உற்பத்தியில் தன்னிறைவை அடையும் வரை மஞ்சளைத் தடை செய்யாது இறக்குமதிக்கு அனுமதிக்கும் படி தங்களைத் தாழ்மையுடன் கேட்டுக் கொள்கின்றோம்.

தற்போது ஏற்பட்டுள்ள கொரோனாத் தாக்கத்தின் எதிரொலியாக பொதுமக்கள் நோயெதிர்ப்பு சக்தியுள்ள மஞ்சளை அதிகளவில் பாவனை செய்கின்றார்கள்.

ஆகவே இவ் விடயத்தினையும் கருத்தில் எடுத்து மஞ்சளுக்கான இறக்குமதித் தடையை நீக்கி தாராளமாக மஞ்சள் கிடைப்பதற்கான ஏற்பாடுகளைச் செய்யுமாறு கேட்டுக்கொள்கின்றோம்.

அதேவேளை உழுந்தும்

தடை செய்யப்பட்டுள்ளதாக அறிகின்றோம். கடந்த மார்ச் மாதம் விற்பனை செய்த விலையில் இருந்து 100 வீதமாக அதிகரித்து சுமார் 600 ரூபா அளவில் விற்கப்படுகிறது.

தற்போது நாட்டில் உழுந்து உற்பத்தி போதியளவில் இல்லை. சாதாரண ஏழை மக்கள் இதனால் பெரிதும் பாதிக்கப்படுகின்றார்கள். ஆகையால் அதன் இறக்குமதித் தடையை நீக்கி பொது மக்களுக்கு இவை குறைந்த

விலைக்குக் கிடைக்கக்கூடிய தான ஏற்பாடுகளை செய்து தருமாறும் தெரிவிக்கப்பட்டுள்ளது.

அத்துடன் யாழ்.மாநகர சபைக்குச் சொந்தமான தீயணைப்பு வாகனம் கடந்த 16.06.2020 தீயணைப்புச் சேவைக்குச் சென்றபோது விபத்துக்குள்ளாகி முழுமையாக சேதமடைந்து காணப்படுகிறது. யாழ்.மாவட்டம் முழுவதும் சேவை செய்த தீயணைப்பு வாகனம் அவ்விபத்தின் பின் முழுமையாக செயலிழந்து உள்ளதனால் உடனடியாக யாழ்.மாநகர சபைக்கு தீயணைப்பு வாகனத்தை பெற்றுத் தரக் கோரியும் கடிதம் ஒன்று இணை பிரதமர் மகிந்த ராஜபக்ஷா விற்கு அனுப்பி வைக்கப்பட்டுள்ளது. (ஐ-5)

முன்பள்ளி ஆசிரியர்களுக்கான விழிப்புணர்வு கருத்தரங்கு



(கரணவாய்)

முன்பள்ளிகளை பாதுகாப்புடன் மீளத்திறப்பதற்கான விழிப்புடன் கருத்தரங்கு பருத்தித்துறை வலயக்கல்வி அலுவலக முன்பள்ளிகளுக்கான உதவிக்கல்விப் பணிப்பாளர்

ரின் ஏற்பாட்டில் நேற்று முற்பகல் பருத்தித்துறை பிரதேச சபை மண்டபத்தில் இடம்பெற்றது.

இதில் சுமார் 50 முன்பள்ளி ஆசிரியர்கள் கலந்து கொண்டனர். (4-5-8-60)

தனிமைப்படுத்தலை நிறைவுசெய்த 164 பேர் சொந்த இடங்களுக்கு

(நெளக்குளம்)

வெளிநாடுகளிலிருந்து இலங்கை வந்து வவுனியா பெரிய கட்டு மற்றும் பம்பைமடு தனிமைப்படுத்தல் முகாம்களில் தங்க வைக்கப்பட்டிருந்த 164 பேர் நேற்று விடுவிக்கப்பட்டனர்.

கொவிட்-19 நோய்த் தாக்கம் காரணமாக வெளிநாடுகளில் சிக்கித்தவித்த இலங்கையர்களை நாட்டிற்கு அழைத்து வரும் செயற்பாடுகள் அரசினால் முன்னெடுக்கப்படுகிறது.

அந்த வகையில் கடந்த 27 ஆம் திகதி அமெரிக்கா, பிரித்தானியா, சிங்கப்பூர், பங்களா தேஷ் போன்ற நாடுகளிலிருந்து அழைத்து வரப்பட்டவர்கள் வவுனியா பெரியகட்டு மற்றும் பம்பைமடு தனிமைப்படுத்தல் முகாம்களுக்கு அழைத்து வரப்பட்டு தனிமைப்படுத்தப்பட்டனர்.

அவர்கள் 14 நாட்கள் தனிமைப்படுத்தல் காலத்தை நிறைவுசெய்த நிலையில், பெரியகட்டு முகாமிலிருந்து 72 பேரும்

பம்பைமடு முகாமிலிருந்து 92 பேரும் அவர்களது சொந்த இடங்களான புத்தளம், காலி, மாத்தறை, களுத்துறை போன்ற பகுதிகளிற்கு பேருந்துகள் மூலம் நேற்று அனுப்பி வைக்கப்பட்டனர்.

பி.சி.ஆர்.பரிசோதனைகளில் அவர்களுக்கு கொரோனாத் தொற்று இல்லை என உறுதிப்படுத்தப்பட்ட பின்னரே சொந்த இடங்களுக்கு அனுப்பி வைக்கப்பட்டுள்ளனர். (4-5-299)

மதுபானப் போத்தல்களை கைப்பற்றிய பொலிஸார்

(கரணவாய்)

வடமராட்சியில் பேருந்தொன்றிலிருந்து 180 மில்லி லீற்றர் அளவுடைய 50 மதுபானப் போத்தல்கள் பருத்தித்

துறை பொலிஸாரினால் கைப்பற்றப்பட்டன.

பருத்தித்துறையிலிருந்து கட்டைக்காடு நோக்கிச் செல்லும் பேருந்தில் சந்தேகத்திற்கிட

மான பொதியொன்று காணப்பட்டதையடுத்து பருத்தித்துறை பொலிஸாருக்கு தகவல் வழங்கப்பட்டது.

அதனையடுத்து அங்கு வந்த பொலிஸார் பொதியை பரிசோதித்து அதிலிருந்து 180 மில்லி லீற்றர் அளவுடைய 50 மதுபானப் போத்தல்களைக் கைப்பற்றினர். (8-60)

மணல் ஏற்றியவர்கள் ஓட்டம்; உழவு இயந்திரம் பறிமுதல்

(கொடிகாமம்)

கொடிகாமம் பொலிஸ் பிரிவிற்குட்பட்ட பாலாவி வடக்கு கடற்கரைப் பகுதியில் நேற்று முன்தினம் புதன்கிழமை மாலை உழவு இயந்திரம் ஒன்று மணலுடன் கொடிகாமம் பொலிஸாரால் கைப்பற்றப்பட்டது.

குறித்த பகுதியில் மணல் ஏற்றப்படுவதாக கொடிகாமம்

பொலிஸாருக்குக் கிடைத்த இரகசிய தகவலையடுத்து அவ் இடத்திற்கு பொலிஸார் சென்ற போது சாரதியும் உதவியாளரும் தப்பி ஓடியுள்ளனர்.

அங்கு மணலுடன் நின்ற உழவு இயந்திரத்தை பொலிஸ் நிலையத்திற்குக் கொண்டு சென்றதுடன் விசாரணைகளையும் முன்னெடுத்துள்ளனர். (2-114)



சாவகச்சேரியில், கல்வயல், நுணாவில் பகுதிகளுக்கான தாய்-சேய் பராமரிப்பு நிலையம் நேற்று முன்தினம் திறந்து வைக்கப்பட்டது. இதில் சாவகச்சேரி சுகாதார வைத்திய அதிகாரி வைத்தியர் எஸ்.சுதோக்குமார் கலந்து கொண்டார். பிரித்தானியாவில் வைத்தியராக கடமையாற்றும் வைத்தியர் சிவலிங்கம் சிவதாசன் குறித்த வீட்டை இலவசமாக வழங்கியுள்ளார் என்பது குறிப்பிடத்தக்கது. (படம்: சாவகச்சேரி செய்தியாளர்)

“த நியூஸ் பேப்பர்” அமெரிக்க விருது ஜனாதிபதியிடம் கையளிப்பு



(கொழும்பு)

“த நியூஸ் பேப்பர்” திரைப்படம் அமெரிக்காவில் இடம்பெற்ற The Indie FEST Film விருது விழாவில் விசேட பாராட்டு விருதை பெற்றுள்ளது.

இத்திரைப்படத்திற்கு கிடைத்த விருது சான்றிதழ் நேற்று முன்தினம் பிற்பகல் ஜனாதிபதி அலுவலகத்தில் ஜனாதிபதி கோட்பாய ராஜபக்ஷ மற்றும் பிரதமர் மகிந்த ராஜபக்ஷவிடமும் கையளிக்கப்பட்டது.

இத்தாலி அமெரிக்கா, இந்தியா, அவுஸ்திரேலியா, லெபனான், சிரியா, சுவீட்சலாந்து மற்றும் இங்கிலாந்து உள்ளிட்ட பல நாடுகள் இந்த விருது விழாவிற்கு படைப்புகளை சமர்ப்பித்திருந்தன.

விடுதலை, சமூக நீதி மற்றும் எதிர்ப்பு மனோ நிலையை வெளிப்படுத்தும் சிறந்த படையாக “த நியூஸ் பேப்பர்” திரைப்படம் The Indie FEST Film குழுவின பாராட்டைப் பெற்றது.

“த நியூஸ் பேப்பர்” திரைப்படம் சரத் கொத்தலாவல மற்றும் குமார, திரிமாதூர் ஆகியோரின் இணை இயக்கத்தில் உருவானதாகும். அமைச்சர் பந்துல குணவர்த்தன, ரவீந்திர குருகே மற்றும் எச்.டி.பிரேமசிரி ஆகியோர் இதன் இணைத் தயாரிப்பாளர்கள் ஆவர். (ஐ-4)

யாழ்.நகரில் கழிவுகள் அகற்ற களமிறங்கும் 250 படையினர்

(யாழ்ப்பாணம்)

யாழ்.நகரில் பொலித்தீன் மற்றும் பிளாஸ்டிக் கழிவுகளை அகற்றி சுற்றுச்சூழலை சுத்தப்படுத்தும் பணி முன்னெடுக்கப்படவுள்ளது.

யாழ்ப்பாணம் கட்டளைத் தளபதி மேஜர் ஜெனரல் வணிகசூரிய தலைமையில் 250 படையினரின் பங்களிப்பின்

தூய்மைப்படுத்தும் பணிநாளை மறுதினம் ஞாயிற்றுக்கிழமை காலை 7 மணிக்கு ஆரம்பமாகும்.

யாழ்.நகரில் 9 பிரதான இடங்களில் காணப்படும் பிளாஸ்டிக், பொலித்தீன் கழிவுப் பொருட்களை அகற்றி நகரைச் சுத்தப்படுத்தும் நோக்குடன் இந்தப் பணி முன்னெடுக்கப்படுகின்றது. (4-5)



**கலைப்பீடம், யாழ்ப்பாணப் பல்கலைக்கழகம் - இலங்கை
பட்டப்பின் கல்வியியல் மப்ளோமா கற்கைநெறி**

**பரீட்சைகள் 2018/2020
(பகுதிநேரம்-1) இரண்டாம் அரையாண்டு**

09.03.2020 அன்று இடைநிறுத்தப்பட்ட மேற்படி பரீட்சையானது எதிர்வரும் ஜூலை 18, 19 ஆம் திக்திகளில் நடைபெறும்.

மாணவர்கள் அனுமதி அட்டையுடன் பரீட்சைக்கு சமூகம் தருமாறு கேட்டுக் கொள்ளப்படுகின்றனர்.

பரீட்சைக்கான நேர அட்டவணையை யாழ்ப்பாணப் பல்கலைக்கழக கல்வியியல் துறை அலுவலக விளம்பரப்பலகையில் பார்வையிடலாம்.

(C-9863)

பதிவாளர், யாழ்ப்பாணப் பல்கலைக்கழகம்.



**Faculty of Management Studies & Commerce,
University of Jaffna, Sri Lanka**

**Bachelor of Business Administration / Bachelor of Commerce
1st Year 2nd Semester Examinations - 2018
1st Year 1st Semester Examinations - 2018 Repeat (New / Old Syllabus)**

The above examinations cancelled due to unavoidable circumstances have been rescheduled as follows. Please find further details from our website, <http://www.maco.jfn.ac.lk/>.

Examination	Date
1 st Examination in Business Administration 2 nd Semester - 2018	20 th July 2020
1 st Examination in Commerce 2 nd Semester - 2018	21 st July 2020
1 st Examination in Business Administration, 1 st Semester - 2018 (Repeat)	22 nd - 30 th July 2020
1 st Examination in Commerce, 1 st Semester - 2018 (Repeat)	22 nd - 29 th July 2020
1 st Examination in Business Administration, 1 st Semester - 2018 Repeat (Old Syllabus)	24 th July 2020

Registrar, University of Jaffna.

(C-9864)

சிவமயம்

ஆச்சார்ய அபிஷேக அழைப்பிதழ்

தெளிவு குருவின் திருமேனி காண்டல்
தெளிவு குருவின் திருநாமம் செப்பல்
தெளிவு குருவின் திருவார்த்தை கேட்டல்
தெளிவு குருவின் திருஉரு சிந்தித்தல்தானே

அன்புடையீர்!

ஸ்வஸ்தி ஸ்ரீ நிகமும் மங்களகரமான சார்வரி வருடம் ஆனி மாதம் 28ம் நாள் (12.07.2020) ஞாயிற்றுக்கிழமை ஸப்தமி திதியும் உத்தரட்டாதி நட்சத்திரமும் அமிர்தயோகமும் கூடிய காலை 6.24 முதல் 8.20 மணி வரையுள்ள மிதுனலக்ஷ சுபமுகூர்த்த வேளையில்

கீரிமலை நகுலேஸ்வர ஆதீனத்தைச் சேர்ந்த கார்த்திகேயக்குருக்கள் சாரதாம்பாள் தம்பதியரின் பௌத்திரனும் மாவை ஆதீனம் துரைச்சாமிக்குருக்கள் விசாலாட்சியம்மா தம்பதியரின் தெளவறித்திரனும் கோப்பாய் பரம்மபுரீ மங்களேஸ்வரர்மா இலட்சுமியம்மாள் தம்பதியரின் மருகரும் எமது ஜேஷ்ட புத்திரனுமாகிய

பரம்மபுரீ சுப்பிரமணிய சர்மாவிற்கு

ஸ்ரீ நகுலேஸ்வரப்பெருமான், ஸ்ரீ மாவைக்கந்தன், ஸ்ரீ விஸ்வநாதப் பெருமான், ஸ்ரீ லக்ஷ்மீ விநாயகர், ஸ்ரீ கோப்பாய் முத்துமாரி அம்பாள் திருவருட் துணையுடனும் பெரியோர்களின் ஆசியுடனும் சமய, விசேட, நிர்வாண தீக்கை ஆச்சார்ய அபிஷேகம் நடைபெற இருப்பதால் தாங்கள் தங்கள் குடும்ப ஸமேதராக வருகை தந்து ஆசி வழங்கி/ ஆசி பெற்று கலந்து சிறப்பிக்கும் வண்ணம் அன்பாக அழைக்கின்றோம்.

தீக்ஷா மண்டபம்
நவாலி- அட்டகிரி
விசாலாட்சி அம்பாள் சமேத
ஸ்ரீ விஸ்வநாதீஸ்வரர்
தேவஸ்தானம்

தீக்ஷா குரு
வேதசிவாகமஞானபானு
சிவஸுரீ-மு.சோமசுந்தரக்குருக்கள்
உரும்பிராய்


சுபம்
இங்ஙனம் தங்கள் நல்வரவை நாடும்
சிவஸுரீ. கா.துரைச்சாமிக்குருக்கள் அகிலாண்டேஸ்வரி தம்பதியர்
அட்டகிரி வீதி, நவாலி வடக்கு, மானிப்பாய்
+94778458448, +41795510062

(3251)

யாராட்டி

வாழ்த்துகின்றோம்

இலங்கை பாராளுமன்ற உறுப்பினர்களின் மக்கள் நலன் நடவடிக்கைகளை கண்காணித்து தரவரிசைப்படுத்தும் அமைப்பான MANTHRI.LK இன் மக்கள் சேவையாளர்கள் தரவரிசையில் இலங்கை யூராகவும் தெரிவு செய்யப்பட்ட 25 பாராளுமன்ற உறுப்பினர்களில்



ஒகஸ்டு அகஸ்டு

டக்ளஸ் தேவானந்தா

அவர்கள் இலங்கை தீவில் வெது இடத்திலும் யாழ்ப்பாண மாவட்டத்தில் முதலாவது இடத்திலும் தெரிவு செய்யப்பட்டுள்ளார்.

இவ்விருது பெற்றதை

யாராட்டி வாழ்த்துகின்றோம்.

(3255)

யாராட்டி வாழ்த்துவோர்:

வட ப்ரதேச நல்லொழுக்க சம்மேளனம், சங்காணை.

கல்யாணமலை சர்வதேச திருமண சேவை

இவர்களுக்கு மணமகள் தேவை	இவர்களுக்கு மணமகள் தேவை
பிறப்பு: 1988 இந்து நட்சத்திரம்: சித்திரை 3 கி.பா: 43 செவ் 1 இல் உயரம்: 5'5" தகைமை/தொழில்: BBA, MBA, அரசு வாங்கி உதவி முகாமையாளர் எதிர்பார்ப்பு: தனியார், அரசு உத்தியோகம் பார்க்கும் பெண் தொ.இ: B/10938	பிறப்பு: 1988 இந்து நட்சத்திரம்: அச்சுவினி 4 கி.பா: 51 செவ் 3 இல் உயரம்: 5'1" தகைமை/தொழில்: கல்வியியற்கல்லூரி ஆசிரியை எதிர்பார்ப்பு: அரசு உத்தியோகம் உடையவர் மட்டும் தொ.இ: G/10978
பிறப்பு: 1992 இந்து நட்சத்திரம்: உத்திரட்டாதி கி.பா: செவ் 8 இல் உயரம்: 165cm தகைமை/தொழில்: QS, Digital marketing (private) எதிர்பார்ப்பு: அரசு, தனியார் உத்தியோகம் பார்க்கும் பெண் தொ.இ: B/10941	பிறப்பு: 1994 இந்து நட்சத்திரம்: திருவாதிரை 1 கி.பா: 53 செவ் 1 இல் உயரம்: 5'3" தகைமை/தொழில்: முகாமையாள் பட்டதாரி DEMO எதிர்பார்ப்பு: அரசு உத்தியோகம் அல்லது வெளிநாட்டு மணமகள் தொ.இ: G/10979
பிறப்பு: 1993 இந்து நட்சத்திரம்: ரேவதி 1 கி.பா: செவ் 10 இல் உயரம்: 180cm தகைமை/தொழில்: பட்டதாரி பல்கலைக்கழக விரிவுரையாளர் (அரசு) எதிர்பார்ப்பு: கணக்காளர், ஆசிரியர், விரிவுரையாளர் போன்ற உத்தியோகத்தார் தொ.இ: B/10942	பிறப்பு: 1992 இந்து நட்சத்திரம்: மகம் கி.பா: 18 1/2 செவ் 8 இல் உயரம்: 5'5" தகைமை/தொழில்: வலயக் கல்விப் பணிப்பாளர் எதிர்பார்ப்பு: தகுந்த உள்நாட்டு வரன் தொ.இ: G/10981
பிறப்பு: 1982 இந்து நட்சத்திரம்: அத்தம் 2 கி.பா: 24 செவ் 12 இல் உயரம்: 5'8" தகைமை/தொழில்: க.பொ.த.உ/த. சாரதி (இலங்கை ஏற்றுமதி அபிவிருத்திச் சபை) எதிர்பார்ப்பு: படித்த பெண் தொ.இ: B/10944	பிறப்பு: 1993 இந்து நட்சத்திரம்: மூலம் 3 கி.பா: செவ் 12 இல் உயரம்: 5'3" தகைமை/தொழில்: க.பொ.த.உ/த. I.T Training RDH (gov) எதிர்பார்ப்பு: அரசு, உயர் தனியார் உத்தியோகம் தொ.இ: G/10983

கல்யாணமலை
இல. 144, பிறவுன் வீதி, யாழ்ப்பாணம்
தொடர்பு:- 021 720 1005, 021 221 5434
E-mail:- kalyanamalai.jaffna@gmail.com
அலுவலக நேரம்:- காலை 9 மணி தொடக்கம் மாலை 5 மணிவரை
விடுமுறை தினம்:- ஞாயிற்றுக்கிழமை
பதிவுக் கட்டணம் 1000 ரூபாயுடன் தொலைத்தொடர்பு சேவைக் கட்டணமாக ரூபா 300 அறவிடப்படும்.

யாழ்ப்பாண விஞ்ஞான சங்கத்தின் பிரிவு A வழங்கும்

நாம் வாழும் பூமி



பூமியின் மத்திய பகுதியில் உருகிய நிலையில் உலோகக் குழம்பு காணப்படுவதால் பெருமளவு வெப்ப சக்தியை அது கொண்டுள்ளது. பூமியின் உட்புறவெப்பம் கிரகங்களின் சேர்க்கையினால் (planetary

இலகுவில் ஊடுருவக்கூடியன. எனினும் அதனை ஓர் அலுமினியத் தகட்டால் தடுக்கமுடியும். ஆனால் γ கதிர்களுக்கு ஏற்றமோ திணீவோ இல்லாமை யால் இவை அலுமினியத் தகட்டையும் ஊடுருவக்கூடியது. மிகவும் அடர்ந்த மூலகமான ஈயக்

தொழிற்பாட்டு மாதிரியிலுள்ள கருக்களின் எண்ணிக்கை அரைவாசியாக எடுக்கும் காலம் அரை ஆயுட்காலம் (Half Life Time) எனப்படும்.

உதாரணமாக ஒரு சமதானியில் தற்போது 10,000 அணுக்கள் உள்ளன எனக் கொள்ளின், அதிலுள்ள அணுக்களின் எண்ணிக்கை 5000 ஆகக் குறைவதற்கு எடுக்கும் காலம் அதாவது அரைவாசியாவதற்கு எடுக்கும் காலம் அச்சமதானியின் அரை ஆயுட்காலம் எனலாம். இதன் பெறு



Geiger-Muller Counter




துடன் ஒரு β துணிக்கையைக் காலுவதன் மூலம் நைதரசனாகத் தேய்கின்றது. இவ்விரு செய்முறைகளின் விளைவாகவும் வளிமண்டலத்தில் ${}^{14}_6\text{C}$ உண்டாகும் வீதத்திற்கும் அது தேயும் வீதத்திற்குமிடையே நம்பம் (சமநிலை) இருக்கின்றது. கடந்த சில ஆயிரம் ஆண்டுகளிலே புவியின் வளிமண்டலத்தின் அமைப்பும் அண்டக் கதிர்களின் பாயமும் கணிசமான அளவில் மாறவில்லை. ஆகையால், வளிமண்டலக் காபனீரொட்சைசைட்டில் $1/10^{12}$ ஆக இருக்கும் விகிதம்

வளவினால் யாதாயினும் ஒரு குறித்த காலத்தில் வெளிவிடப்படும் β துணிக்கைகளின் எண்ணிக்கையானது துணிக்கை எண்ணிக்கையைப் (Giger Muller Counter) பயன்படுத்தி முதலில் அளவிடப்படும். இதிலிருந்து வளிமண்டல CO_2 கனவளவில் இருக்கும் ${}^{14}_6\text{C}$ இன் தொழிற்பாட்டினைக் கணிக்கலாம். பின்னர் உயிர்ச்சுவட்டின் ஒரு சிறிய பகுதியைத் தகனமடையச் செய்து அதே நிலைமைகளில் CO_2 இன் சமகனவளவு தயாரிக்கப்படுகின்றது.

அந்த CO_2 கனவளவிலிருந்து காலப்படும் β துணிக்கைகளின் எண்ணிக்கையை அளவிடுவதன் மூலம் அவ்வுயிர்ச்சுவட்டு மாதிரியில் ${}^{14}_6\text{C}$ இன் தொழிற்பாட்டினைக் கணிக்கலாம். மேற்குறித்த தரவுகளைப்பயன்படுத்தி உயிர்ச்சுவட்டின் வயதைத் துணியலாம். பூமியின் மத்தியில் வெப்ப நிலை 7,000 கெல்வினையும் (7000K) மற்றும் அழுக்கம் 360GPa (3.6x 10^{11} Pa) ஐயும் கொண்டிருக்கலாம் என்று கணிப்பீடுகள் மூலமாக அறிய முடிகின்றது.

பூமியின் வெப்பம் பெரும்பாலும் அணுச்சிதைவிலிருந்து உருவாவதால், அறிவியலாளர்களின் கருத்துப்படி பூமியின் ஆரம்பகால கட்டத்தில், அதாவது பூமி உருவாகிய கால கட்டத்தில், குறைந்த அரைவாழ்வுக் காலத்தைக் (Half Life Time) கொண்ட சமதானிகள் (Isotops) தேய்வடைந்து முடிபுழன் புவியின் வெப்பம் அதிகமாயிருந்திருக்கும் என்றும் மூன்று பில்லியன் வருடங்களுக்கு முன் தற்போதைய வெப்பத்தை விட இருமடங்கு வெப்பம் உற்பத்தி ஆகிய போது, பூமியின் வெப்பம் சார் தன்மைகள் மாறியிருந்திருக்கும் என்றும் அதிகமான மூலக புரப்பலும், டெக்சோனிக் பலகை நன்தலும் மேலும் கோம டைட்டஸ் (komatiites) என்ற தீப்பாறைகள் உருவாவதும் ஏற்பட்டிருக்கும் என ஆய்வாளர்கள் கருதுகின்றனர்.



accretion) உண்டாகிய மித வெப்பத்தாலும் (சுமார் 20%) மற்றும் அணுச் சிதைவுகளாலும் - Radioactive decay (80%) உருவாகியுள்ளது. அணுச் சிதைவு என்பது கதிர் வீச்சினால் அணுவென்று தனது ஆற்றலை இழக்கும் செயல்முறையாகும். அதாவது உறுதியற்ற ஒரு கரு உறுதியடைய முனைகையில் சில கதிர்வீச்சல்களை வெளியிட்டு உறுதியடைய முயலும். பூமியில் அதிகமான வெப்பத்தை உருவாக்கும் ஐசோடோப்புகளாக (isotopes) பொட்டாசியம் (potassium) - 40, யுரேனியம் - 238, யுரேனியம் (uranium) - 235 மற்றும் தோரியம் (thorium) - 232 என்பன காணப்படுகின்றன.

குற்றியால் கதிர்களை உறிஞ்சச் செய்ய முடியும். எனினும் 100% ஆன γ கதிர்களும் முழுமையாக ஈயக் குற்றியால் உறிஞ்சச் செய்ய முடியாது. தரப்பட்டுள்ள கதிர் தொழிற்பாட்டு மாதிரியொன்றின் தேய்வு வீதம் அதன் தொழிற்பாட்டு

மதி ஒரு சில செக்கனிலிருந்து பல வருடங்கள் வரை சமதானிக்குச் சமதானி வேறுபட்டிருக்கும். உயிர்ச் சுவடுகளின் வயதைத் துணியப் பயன்படுத்தப்படும் தொழில்நுட்பமாகிய கதிர்க் காபன் தேதியிடல் கதிர்

சில சமதானிகளின் அரை ஆயுட்காலங்கள்	காலங்கள்
பெரிலியம் - 11 (beryllium-11)	13.81 Sec
பொரன் - 7 (boron-7)	350×10^{-24} seconds (yoctoseconds)
பொரன் - 9 (boron-9)	80×10^{-21} seconds (zeptoseconds)
காபன் - 21 (carbon-21)	30×10^{-9} seconds (nanoseconds)
காபன் - 22 (carbon-22)	6.2×10^{-3} seconds (milliseconds)
பொஸ்பரஸ் - 32 (phosphorus-32)	1.235×10^6 seconds (megaseconds)
யுரேனியம் - 232 (uranium-232)	2.17×10^9 seconds (gigaseconds)
காபன் - 14 (carbon-14)	5730 years

எல்லா அணுக்கருக்களும் உறுதியானவையல்ல. உறுதியில்லாத கருக்கள், துணிக்கைகள், துணிக்கைகள், மற்றும் கதிர்கள் ஆகியவற்றைச் சுயமாகக் காலுவதன் மூலம் வேறு கருக்களாக நிலைமாறுகின்றன. இத்தகைய உறுதியில்லாத கருக்கள் கதிர் தொழிற்பாட்டுக் கருக்கள் எனப்படும். பிரெஞ்சு நாட்டைச் சேர்ந்த பெக்ரல் என்பவரால் 1896 ஆம் ஆண்டில் இத்தோற்றப்பாடு கண்டுபிடிக்கப்பட்டது.

(Activity) எனப்படும். அதாவது ஒரு செக்கனில் தேய்வடையும் கருக்களின் எண்ணிக்கை அச்சமதானியின் தொழிற்பாடு எனப்படும்.

இது மாதிரியிலுள்ள உறுதியில்லாத கருக்களின் எண்ணிக்கை N இற்கு நேரடி விகித சமனாகும். இத் தொழிற்பாட்டு விதியை $A = \lambda N$ என எடுத்தாரைக்கலாம். இங்கே λ ஆனது தேய்வு மாறிலியும் T ஆனது அரை ஆயுட்காலமும் ஆகும்.

ஒரு சமதானிக் கரு, அடுத்த செக்கனில் பிரிந்தழிவதற்கான நிகழ்தகவு அதன் தேய்வு மாறிலி (λ) என வரையறுக்கப்படும். மேலும் ஒரு கதிர்

தொழிற்பாட்டின் முக்கிய பிரயோகமாகும். பின்வரும் அட்டவணை ஒரு சில சமதானிகளின் அரைவாழ்வுக் காலத்தை வெளிப்படுத்துகின்றது.

வளியில் இருக்கும் ஒரு நைதரசன் அணுவுக்கும் அண்டக் கதிர்களில் இருக்கும் ஒரு நியூத்திரனுக்குமிடையே நிகழ்ந்து ஒரு புரோத்தனைக் காலும் கருத்தாக்கத்தின் விளைவாகப் புவியின் வளிமண்டலத்திலே தொடர்ச்சியாகக் கதிர் தொழிற்பாட்டுக் காபன் ${}^{14}_6\text{C}$ உண்டாகின்றது.

பின்னர் இந்த ${}^{14}_6\text{C}$ அணு 5730 ஆண்டுகள் ($= 1.8 \times 10^{11}$ s) என்னும் அரை ஆயுட்காலத்

யாக இருக்கின்றதெனக் கருதலாம். உயிருள்ள தாவரங்களும் விலங்குகளும் வளிமண்டலத்திலிருந்து காபனைப் பெற்றுக் கொள்கின்றமையால் அவை உயிருள்ளவாக இருக்கும் வரைக்கும் அவற்றில் இருக்கும் ${}^{14}_6\text{C}$ ஆனது பிரதியிடப்படாமல் தொடர்ந்து தேயும். இதன் விளைவாகக் காலப்போக்கில் ${}^{14}_6\text{C}$ இன் சதவீதம் குறைகின்றது. கதிர் தொழிற்பாட்டுக் காபன் தேதியிடலிலே தரப்பட்ட அழுக்கத்திலும் வெப்பநிலையிலும் இருக்கும் வளிமண்டல CO_2 வாயுவின் நிலைத்தகன

அ. குகன், விரிவுரையாளர், யாழ்ப்பாணம் தேசிய கல்வியியற் கல்லூரி

உள்ளூராட்சி சபைகளின் பரிணாமம்

12

கலாநிதி க.தவலிங்கம்

தவிசாளர் - எல்லை நிர்ணய ஆணைக்குழு,
ஓய்வநிலை நில அளவையாளர் நாயகம்.



மாத்தளை மாவட்டத்தில் உள்ள உள்ளூராட்சி சபைகள் (13)

மாநகர சபைகள் (2) :- 1. மாத்தளை, 13. தம்புள்ளை
நகர சபைகள்:- (இல்லை)
பிரதேச சபைகள்(11):- 2. கலேவலை, 3.தம்புள்ளை- 4. நாவுல, 5. பல்லேபொல, 6.யட்டவத்த, 7.மாத்தளை, 8.அம்பன்கங்கை கோரளை, 9. லக்கை பல்லேகம, 10. வில்கழுவ, 11. ரத்தொட்ட, 12. உக்குவலை

நுவரெலியா மாவட்டத்தில் உள்ள உள்ளூராட்சி சபைகள் (12)

மாநகர சபைகள்(1):- 1. நுவரெலியா நகர சபைகள்(2):- 2. தலவாக்கலை, லிந்துல், 3. ஹட்டன திக்குய
பிரதேச சபைகள்(9):-
4. ஹங்குரான்கெத்த, 5. வலப்பனே, 6. கொத்தமலை, 7. அம்பகமுலை, 8. நுவரெலியா, 9. கொட்டகலை, 10. நோர்வூட், 11. மஸ்கெலியா, 12. அக்கரப்பத்தளை

காலி மாவட்டத்தில் உள்ள உள்ளூராட்சி சபைகள் (20)

மாநகர சபைகள் (1) :- 1. காலி நகர சபைகள்(2):- 2. ஹிக்கடுவ 3. அம்பலாங்கொடை
பிரதேச சபைகள்(17):- 4. பெந்தோட்டை, 5. பலபிட்டிய, 6. கரந்தெனிய, 7. எல்பிட்டிய, 8. நியாகம, 9. தவலம, 10. நெலுவ, 11. நாகொட, 12. வெலிவிட்டிய - திவிதூர், 13. அம்பலாங்கொடை, 14. ரஜ்கம, 15. பத்தேகம, 16. போப்பே போத்தல, 17. அக்கமீமன, 18. யக்கல முல்லை, 19. மதுவ, 20. ஹபராதுவ

மாத்தளை மாவட்டத்தில் உள்ள உள்ளூராட்சி சபைகள் (17)

மாநகர சபைகள்(1):- 1. மாத்தளை நகர சபைகள்(1):- 2. வெலிகம
பிரதேச சபைகள்(15):- 3. பிட்டபெத்தர, 4. கொட்டபொல, 5. பஸ்கொட, 6. முலட்டியன், 7. அத்தரலிய, 8. அக்குரெஸ்ஸ, 9. ஹக்மன, 10. கம்புறுபிட்டிய, 11. மாலிம்பட, 12. வெலிகம, 13. திஹா கொட, 14. மாத்தளை, 15. தெவிநுவர, 16. கிரிந்த புறூல்வெல்லை, 17. திக்குவல்லை

அம்பாந்தோட்டை மாவட்டத்தில் உள்ள உள்ளூராட்சி சபைகள் (12)

மாநகர சபைகள் (1) :- 2. அம்பாந்தோட்டை
நகர சபைகள்(1):- 1. தங்காலை
பிரதேச சபைகள்(10):- 3. கட்டுவன, 4. வீரகெட்டிய, 5. அங்குணைகொல பெலெஸ்ஸ, 6. பெலிஅத்த, 7. தங்கால, 8. அம்பலாந்தோட்டை, 9. சுரியவெவ, 10. அம்பாந்தோட்டை, 11. லுணுகம்வெ ஹர, 12. திள்ளமஹாராம

யாழ்ப்பாண மாவட்டத்தில் உள்ள உள்ளூராட்சி சபைகள் (17)

மாநகர சபைகள் (1) :- 1. யாழ்ப்பாணம்
நகர சபைகள்(3):- 2. வல்வெட்

டித்துறை, 3. புருத்தித்துறை, 4. சாவகச்சேரி

பிரதேச சபைகள்(13):- 5. நெடுநீவு, 6. உரகாவற்றுறை, 7. காரைநகர் 8. வலிகாமம் மேற்கு, 9. வலிகாமம் தென் மேற்கு, 10. வலிகாமம் வடக்கு, 11. வலிகாமம் தெற்கு, 12. வலிகாமம் கிழக்கு, 13. வடமராட்சி தென்மேற்கு 14. புருத்தித்துறை, 15. சாவகச்சேரி, 16. நல்லூர், 17. வேலைணை

குறிப்பு: யாழ்ப்பாண மாநகர சபையின் தோற்றம்- 1861ஆம் ஆண்டின் 10ஆம் இலக்க பெருந்தெருக்கள் குழுகள் தொடர்பான கட்டளைச் சட்டத்தின் கீழ் பெருந்தெருக்கள் குழு என்ற அமைப்பு யாழ்ப்பாணத்தில் அமைக்கப்பட்டது.

பின்னர், 1898 ஆம் ஆண்டின் 13 ஆம் இலக்க உள்ளூர் சபைகள் கட்டளைச் சட்டவிதிகளுக்கு அமைய முதலாவது உள்ளூராட்சி சபை (Local Board) உருவானது. 1920 ஆம் ஆண்டின் 11 ஆம் இலக்க உள்ளூராட்சி மன்றங்கள் கட்டளைச் சட்டத்தின் பிரகாரம் 1921 ஆம் ஆண்டில் இது, நகரப்பகுதிச் சபை (Urban District Council) ஆகவும், பின்னர் 1940 இல் 1939 ஆம் ஆண்டின் 61 ஆம் இலக்க நகர சபைகள் கட்டளைச் சட்டத்தின் பிரகாரம் நகரசபையாகவும் தரம் உயர்த்தப்பட்டது. 1949 ஆம் ஆண்டில் இது மாநகரசபை ஆனது.

கிளிநொச்சி மாவட்டத்தில் உள்ள உள்ளூராட்சி சபைகள் (3)

மாநகர சபைகள்:- இல்லை
நகர சபைகள்:- இல்லை
பிரதேச சபைகள்(3):- 1. புநகரி, 2. கரைச்சி, 3. பச்சிலைப்பள்ளி

மன்னார் மாவட்டத்தில் உள்ள உள்ளூராட்சி சபைகள் (5)

மாநகர சபைகள்:- இல்லை
நகர சபைகள்(1):- 1. மன்னார்
பிரதேச சபைகள்(4):- 2. மன்னார், 3. நானாட்டான், 4. மாந்தை மேற்கு, 5. முசலி

வவுனியா மாவட்டத்தில் உள்ள உள்ளூராட்சி சபைகள் (5)

மாநகர சபைகள்:- இல்லை
நகர சபைகள்(1):- 1. வவுனியா
பிரதேச சபைகள்(4):- 2. வவுனியா வடக்கு, 3. வவுனியா தெற்கு தமிழ், 4. வவுனியா தெற்கு சிங்களம், 5. வெங்கலசெட்டிக்குளம்

முல்லைத்தீவு மாவட்டத்தில் உள்ள உள்ளூராட்சி சபைகள் (4)

மாநகர சபைகள்:- இல்லை
நகர சபைகள்:- இல்லை
பிரதேச சபைகள்(4):- 1. துணுக்காய், 2. புதுக்குடியிருப்பு, 3. மாந்தை கிழக்கு, 4. கரைதுறைப்பற்று

மட்டக்களப்பு மாவட்டத்தில் உள்ள உள்ளூராட்சி சபைகள் (12)

மாநகர சபைகள்(1):- 1. மட்டக்களப்பு
நகர சபைகள்(2):- 2. காத்தான் குடி, 7. ஏறாவூர்

பிரதேச சபைகள்(9):- 3. கோரளைப்பற்று வடக்கு, 4. கோரளைப்பற்று மேற்கு, 5. கோரளைப்பற்று, 6. ஏறாவூர் பற்று, 8. மண்முனை மேற்கு (வவுணதீவு), 9. மண்முனை பற்று, 10. மண்முனை தென்மேற்கு, 11. போரத்திப்பற்று, 12. மண்முனை தெற்கு மற்றும் எருவில்பற்று

அம்பாறை மாவட்டத்தில் உள்ள உள்ளூராட்சி சபைகள் (20)

மாநகர சபைகள்(2):- 1. கல்முனை, 20. அக்கரைப்பற்று
நகர சபைகள்(1):- 2. அம்பாறை
பிரதேச சபைகள்(17):- 3. தெஹியத்தகண்டிய, 4. மகாலயா, 5. பதிய தலாவை, 6. உஹன, 7. நாவிதன்வெளி, 8. சம்மாந்துறை, 9. காரைதீவு, 10. நிந்தவூர், 11. அட்டாளைச்சேனை, 12. அக்கரைப்பற்று, 13. நாமலையா, 14. தமன, 15. ஆயடிவேம்பு, 16. திருக்கோவில், 17. பொத்துவில், 18. லாஹூகல, 19. இறக்காமம்

திருகோணமலை மாவட்டத்தில் உள்ள உள்ளூராட்சி சபைகள் (13)

மாநகர சபைகள்:- இல்லை
நகர சபைகள்(2):- 1. திருகோணமலை, 2. கிண்ணியா
பிரதேச சபைகள்(11):- 3. பதவி ஸ்ரீபுர, 4. குச்சுவெளி, 5. கோமராங்கடவல, 6. மொரவெவ, 7. திருகோணமலை பட்டினமும் சூழலும் 8. தம்பலகாமம், 9. கிண்ணியா, 10. மூதூர், 11. கந்தளாய், 12. சேருவில், 13. வெருகல்

குருநாகல் மாவட்டத்தில் உள்ள உள்ளூராட்சி சபைகள் (21)

மாநகர சபைகள்(1):- 1. குருநாகல் நகர சபைகள்(1):- 2. குளியாப்பிட்டி
பிரதேச சபைகள்(19):- 3. கிரியாவ, 4. கல்கழுவ, 5. பொலித்திகம, 6. மஹவ, 7. நிக்கவெரட்டிய, 8. பிங்கிரிய, 9. கோபேகனை, 10. பண்டுவஸ்நுவர, 11. வாரியப்பொலை, 12. இப்பாகமுல, 13. ரிதீகம, 14. மாவத்தகம, 15. குருநாகல், 16. பொல்கஹவல, 17. குளியாப்பிட்டி, 18. உடுபத்தாவ, 19. பன்னல, 20. அளவ்வ, 21. நாரம்மல

புத்தளம் மாவட்டத்தில் உள்ள உள்ளூராட்சி சபைகள் (12)

மாநகர சபைகள்:- இல்லை
நகர சபைகள்(2):- 1. புத்தளம், 2. சிலாபம்
பிரதேச சபைகள்(10):- 3. வனாத் தவில்லு, 4. கருவலகல்வெவ, 5. நவகத்தேகம, 6. புத்தளம், 7. கற்பிட்டி, 8. ஆனமடுவ, 9. ஆரச்சிகட்டு, 10. சிலாபம், 11. நாத்தாண்டிய, 12. வென்னப்புவ

அநுராதபுரம் மாவட்டத்தில் உள்ள உள்ளூராட்சி சபைகள் (19)

மாநகர சபைகள்(1):- 1. அநுராதபுரம் நகர சபைகள்:- இல்லை
பிரதேச சபைகள்(18):- 2. பதவிய, 3. கெபித்திகொல்லாவ, 4. மதவாச்சி 5. நுவரகம்பலாத மத்தி, 6. ரம்பேவ,

7. கஹட்டகஸ்திகிலிய, 8. ஹொரவ பொத்தான, 9. கலென்பிந்துனுவெவ, 10. மிஹிந்தலை, 11. நுவரகம்பலாத கிழக்கு, 12. நொச்சியாகம, 13. ராஜாங்கனய, 14. தலாவ, 15. திரப்பனே, 16. கெக்கிராவ, 17. இப்பனோகம, 18. கல்நேவ, 19. பலாகல

பொலநறுவை மாவட்டத்தில் உள்ள உள்ளூராட்சி சபைகள் (8)

மாநகர சபைகள்(1):- 8. பொலநறுவை

நகர சபைகள்:- இல்லை
பிரதேச சபைகள்(7):- 1. மெதிரி கிரிய, 2. ஹிங்குரக்கொட, 3. லங்கா புர, 4. வெலிகந்த, 5. பொலநறுவை, 6. எலஹர, 7. திம்புலாகல

பதுளை மாவட்டத்தில் உள்ள உள்ளூராட்சி சபைகள் (18)

மாநகர சபைகள்(2):- 1. பதுளை 2. பண்டாரவளை
நகர சபைகள் (1):- 3. ஹப்புத்தளை

பிரதேச சபைகள்(15):- 4. மஹியங்கனை, 5. ரிதீமலியத்த, 6. கன்தகெடிய, 7. மீகஹகிவுல, 8. சொரணா தொட்ட, 9. உவாபரணகம, 10. ஹாலியெல, 11. பதுளை, 12. பசறை, 13. எல்லை, 14. பண்டாரவளை, 15. அப்புத்தளை, 16. வெலிமட 17. ஹந்துமுள்ள, 18. லுணுகல

மொனராகலை மாவட்டத்தில் உள்ள உள்ளூராட்சி சபைகள் (10)

மாநகர சபைகள்:- இல்லை
நகர சபைகள்:- இல்லை
பிரதேச சபைகள்(10):- 1. பிபை, 2. மடுல்லை, 3. மெதகம, 4. படல்கும்புர, 5. மொனராகலை, 6. சியம்பலாண்டுவ, 7. புத்தல, 8. வெல்லவாய, 9. தனமல்வில, 10. கதிர்காமம்

இரத்தினபுரி மாவட்டத்தில் உள்ள உள்ளூராட்சி சபைகள் (17)

மாநகர சபைகள்(1):- 1. இரத்தினபுரி
நகர சபைகள்(2):- 2. பலாங்கொடை, 3. எம்பிலிப்பிட்டிய

பிரதேச சபைகள்(14):- 4. எகலியகொட, 5. குருவிட்ட, 6. அயகம, 7. இரத்தினபுரி, 8. இம்புல்பே, 9. பலாங்கொடை, 10. வெலிகபொல, 11. கொடக்கவெல, 12. கஹவத்த, 13. பெல்மடுல்லை, 14. நிவித்திகல, 15. கலவான, 16. கொலன்ன, 17. எம்பிலிப்பிட்டிய

கேகாலை மாவட்டத்தில் உள்ள உள்ளூராட்சி சபைகள் (12)

மாநகர சபைகள்:- இல்லை
நகர சபைகள்(1):- 1. கேகாலை
பிரதேச சபைகள்(11):- 2. ரம்புக்கன, 3. வரக்காபொல, 4. கலிகழுவ, 5. கேகாலை, 6. மாவனல்லை, 7. அரநாயக்க, 8. புலத்தொகுப்பிட்டிய, 9. குவன்வெல்லை, 10. யட்டியன் தொட்ட 11. தெஹியோவிட்ட, 12. தெரனியகலை (முற்றும்...)



பாரதம்


பாரதிய ஜனதா கட்சி தலைவர் உட்பட மூவர் சுட்டுக்கொலை

(காஷ்மீர்)

ஜம்மு-காஷ்மீர் ஸ்ரீநகரில் உள்ள பந்திபோரா மாவட்டத்தின் பாரதிய ஜனதா கட்சி தலைவராக இருந்தவர் ஷேக் வாசிம் பாரி.

நேற்று முன்தினம் பந்தி போராவில் உள்ள தனது கடையில் அப்பா மற்றும் சகோதரர் ஆகியோருடன் இருக்கும்போது பயங்கரவாதிகள் மூன்று பேர் மீதும் கண்மூடித்தனமாக சுட்டுள்ளனர்.

இதில் ஷேக் வாசிம் பாரி



சம்பவ இடத்திலேயே உயிரிழந்தார். படுகாயமடைந்த தந்தை மற்றும் சகோதரர் ஆகியோரை அருகில் உள்ள வைத்திய சாலைக்கு கொண்டு சென்றனர். ஆனால் சிகிச்சை பலனின்றி அவர்களும் உயிரிழந்தனர்.

ஷேக் வாசிம் பாரியின் பாதுகாப்பிற்காக 8 பொலிஸார் நியமிக்கப்பட்டிருந்தமை குறிப்பிடத்தக்கது. மேற்படி சம்பவம் தொடர்பாக பொலிஸார் விசாரணை நடத்தி வருகின்றனர். (2)

கொரோனா

ஒப்புக்கொலை

(ஜெனிவா)

கொரோனா வைரஸ் தொற்று, காற்றில் பரவும் ஆதாரங்களை முதல்முறையாக உறுதிப்படுத்தியது.

கொரோனா வைரஸ் தொற்று, புற உலகில் ஒருவரின் தும்மல், இருமல் மூலம் வெளிப்படும் நீர்த்திவலைகள் மூலம் மற்றவர்களுக்கு எளிதில் பரவுகிறது. அத்துடன், தொற்று பாதித்த ஒரு வருடன் கைகளுக்கு கிறீபோது, எதிர்த்தரப்பினர் கைக்கு வைரஸ் தாவி, அவர் தனது கையை முகத்திற்கு கொண்டு போகிறபோது அது வாய், மூக்கின் வழியே நுரையீரலுக்கு பரவிவிடுகிறது. இது உலகளவில் ஒப்புக்கொள்ளப்பட்டுள்ளது.

அதேநேரத்தில், காற்றின் வழியே கொரோனாத்தொற்று பரவும் என்ற கருத்து, கடந்த

ஏப்ரல் மாதம் முதன்முறையாக எழுந்தது. ஆனால் இதை அப்போது ஒப்புக்கொள்ள உலக சுகாதார நிறுவனம் தயங்கியது.

இது குறித்து ஜெனிவா நகரில் உலக சுகாதார நிறுவனத்திடம் கடந்த செவ்வாய்க்கிழமை நிருபர்கள் கேள்விகள் எழுப்பினர்.

அப்போது உலக சுகாதார நிறுவனத்தின் நிபுணர் டாக்டர் பெனிடெட்டா அலெக்ரான்ஸி இதை ஒப்புக்கொண்டார். இது குறித்து அவர் குறிப்பிடுகையில், "காற்றின் வழியே கொரோனா வைரஸ் தொற்று பரவும் என்பது தொடர்பாக வெளியாகி உள்ள

மீண்டும் அவுஸ்திரேலியாவில் முடக்கம் ஐந்து மில்லியன் மக்கள் வெளியேறத்தடை

(கன்பரா)

கொரோனா வைரஸ் க்கு எதிரான அவுஸ்திரேலியாவின் போராட்டத்தின் அடுத்த கட்டம் தொடங்கியுள்ளது.

மெல்பேர்ன், மாநிண்டன் தீபகற்பம் மற்றும் மிட்செல் ஷேர் முழுவதும் ஐந்து மில்லியன் மக்கள் அத்தியாவசிய காரணங்களைத் தவிர்த்து, அடுத்த ஆறு வாரங்களுக்கு வீடுகளை விட்டு வெளியேற

தடை விதிக்கப்பட்டுள்ளது.

எப்போது வேண்டுமானாலும் எங்கும் சோதனைச் சாவடிகள் அமைத்து, நகரத்தை சுற்றி பாதுகாப்பு வளையம் அமைக்கப்படுமென பொலிஸார் கூறுகின்றனர்.

விக்டோரியா மாநிலத்தில் 191 புதிய நோய்த்தொற்றுகள் இனங்காணப்பட்டதைத் தொடர்ந்து கடந்த செவ்வாய்க்கிழமை முடக்கநிலை அறிவிக்கப்பட்டது.

இது தொற்றுநோய் தொடங்கியதிலிருந்து அதன் மிக உயர்ந்த தினசரி எண்ணிக்கை இதுவாகும்.

முந்தைய நாட்களில் பல்பொருள் அங்காடிகளில் கொவிட்-19 தொற்று பரவல் அச்சம் இருந்ததன் காரணமாக புதிய கட்டுப்பாடுகள் நேற்று முன்தினம் முதல் புதன் கிழமை நள்ளிரவு அமுல்படுத்தப்பட்டன. (2)

திபெத் விவகாரம்

சீன அதிகாரிகளுக்கு விசா வழங்க அமெரிக்கா கட்டுப்பாடு

(வோஷிங்டன்)

திபெத் அணுகல் சட்டத்தின் கீழ் சீனாவின் மூத்த அரசு அதிகாரிகள் பலருக்கு விசா வழங்க அமெரிக்கா கட்டுப்பாடுகளை விதித்துள்ளது. இதற்கான அறிவிப்பை அமெரிக்க வெளியுறவு அமைச்சர் மைக் பொம்பியோ வெளியிட்டார்.

திபெத் பகுதிக்குள் சீனாவின் ஆக்கிரமிப்பும் அதிகாரமும்

தொடர்வதால் வெளிநாட்டு சுற்றுலாப் பயணிகள், அமெரிக்க மக்கள், பத்திரிகையாளர்கள், அதிகாரிகள் யாரையும் திபெத்துக்குள் நுழைய சீனா அனுமதிப்பதில்லை. அரசு முறைப் பயணமாக அமெரிக்க அதிகாரிகள் திபெத் செல்ல முயன்றாலும் அதற்கும் சீனா அனுமதி மறுத்து வருகிறது.

இது தொடர்பாக கடந்த 2018

ஆம் ஆண்டு திபெத் அணுகல் சட்டத்தை அமெரிக்கா கொண்டு வந்தது. இந்த சட்டப்படி திபெத்துக்குள் அமெரிக்க மக்களை அனுமதிக்க மறுக்கும் சீன கம்யூனிஸ்ட் கட்சியைச் சேர்ந்த தலைவர்கள், சீனாவின் முக்கிய அதிகாரிகளுக்கும் விசா வழங்குவதில் அமெரிக்கா கட்டுப்பாடுகளை கொண்டு வரும். இந்த சட்டம் நிறைவேற்றப்பட்டாலும் இது



வரை அமெரிக்கா அதை தீவிரமாகச் செயற்படுத்தாமல் இருந்து வந்தது.

இந்த நிலையில் திபெத் அணுகல் சட்டத்தின் கீழ் சீனாவின் மூத்த அரசு அதிகாரிகள் பலருக்கு விசா வழங்க அமெரிக்கா கட்டுப்பாடுகளை விதித்துள்ளது. இதற்கான அறிவிப்பை அமெரிக்க வெளியுறவு அமைச்சர் மைக் பொம்பியோ கடந்த

செவ்வாய்க்கிழமை வெளியிட்டார். இதனிடையே அமெரிக்காவுக்கு பதிலடி தரும் விதமாக ஹொங்காங் விவகாரத்தின் தலையிடுவதை காரணம் காட்டி அமெரிக்க மக்களுக்கு விசா கட்டுப்பாடுகளை சீனா அறிவித்துள்ளது. இதுகுறித்து சீன வெளியுறவு அமைச்சகம் வெளியிட்டுள்ள அறிக்கையில், "பொருளாதார தடைகள் என்கிற பெயரில் ஹொங்காங் கொங்கின் தேசிய பாதுகாப்பை பாதுகாப்பதற்கான சீனாவின் சட்டத்தை தடுக்க அமெரிக்கா முயற்சிக்கிறது.

ஆனால் அது ஒரு போதுமற்றி பெறாது. ஹொங்காங் விவகாரத்தில் தலையிடுப அமெரிக்க மக்களுக்கு விசா வழங்குவதில் கட்டுப்பாடுகள் விதிக்கப்படுகின்றன" என அறிவித்துள்ளது. (2)

உலக சுகாதார அமைப்பின் நிபுணர்குழு நாட்டிற்குள் வர அனுமதியளித்த சீனா

(பீஜிங்)

கொவிட்-19 எனப்படும் வைரஸின் தோற்றம் குறித்து கண்டறிய உலக சுகாதார அமைப்பின் (WHO) நிபுணர்கள் குழுவை பீஜிங்கிற்கு அனுப்ப சீனா நேற்று முன்தினம் அனுமதி அளித்துள்ளது.

இந்த விடயம் தொடர்பாக சீன தரப்பில் ஆலோசனை இடம்பெற்ற

நிலையில், நிபுணர்கள் குழுவை நாட்டுக்குள் அனுமதிப்பதற்கு ஒப்புக்கொள்வதாக சீனாவின் வெளியுறவு அமைச்சக செய்தித் தொடர்பாளர் ஷாவோ லிஜியன் (Zhao Lijian) தெரிவித்துள்ளார். உலகையே அச்சுறுத்தி வரும் கொரோனா வைரஸ் சீனாவில் கடந்த ஆண்டு டிசம்பர் மாதம் கண்டறியப்பட்டது.

வஹான் நகரில் உள்ள ஈரப்பதமான விலங்குகள் மற்றும் பறவைகள் விற்பனை செய்யும் சந்தையில் இருந்து வைரஸ் பரவியதாக சீனா தெரிவித்திருந்தது.

இந்நிலையில், வஹானில் பரவத் தொடங்கிய வைரஸ் தொற்று உலகம் முழுவதும் தற்போது தீவிரமாகப் பரவியுள்ள நிலையில் இந்த வைரஸ் இயற்

கையாக தோன்றவில்லை எனவும் வஹான் உயிரியல் ஆய்வகத்தில் இருந்து பரவியது என்றும் பெரும்புலான நாடுகள் குற்றஞ்சாட்டின.

மேலும், உலக சுகாதார அமைப்பிற்கு சீனா சரியான தகவல்களை அளிக்கவில்லை என்றும் இதுவொரு தொற்று நோய் என சீனா அறிவிக்காமல்

மறைத்து விட்டது எனவும் குற்றச்சாட்டு முன்வைக்கப்பட்டுள்ளது. இந்நிலையில் கொரோனா வைரஸ் எப்படி உருவானது என்பதைக் கண்டறிய சீனாவுக்கு நிபுணர்கள் குழுவை அனுப்புவதற்கான உலக சுகாதார அமைப்பு அண்மையில் அறிவித்தது.

எனினும், உலக சுகாதார அமைப்பின் இந்த முடிவுக்கு சீனா எதிர்ப்புத் தெரிவித்த நிலையில் சீனாவுடன் உலக சுகாதார அமைப்பு ஆலோசனை நடத்தியது. இந்தச் கூழலில் தற்போது உலக சுகாதார அமைப்பின் நிபுணர்கள் குழுவை நாட்டுக்குள் அனுமதிக்க சீனா சம்மதம் தெரிவித்துள்ளது. (2)

வழம்புரி கல்விப் பிரிவு வழங்கும் க.பொ.த. சாதாரண தரப்பரீட்சை கணிதம் மாதிரி வினாத்தாள்

நேரம்: 3 மணித்தியாலம்

வினாப்பத்திரம் - 01

பகுதி - I A

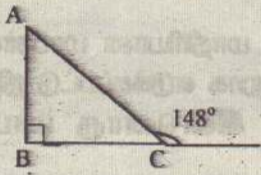
1) பொருள் ஒன்றின் பெறுமதியில் 20% கழிவு வழங்கப்பட்டது. பொருளின் பெறுமதி ரூ200 எனின் கழிவு யாது?

2) வாகனமொன்று 30 நிமிடங்களில் 12km தூரம் சென்றால் அதன் கதியினை மணிக்கு காண்க.

3) $3^x = 81$ என்பதை மடக்கை வடிவில் எழுதுக.

4) கூடுக்குக. $\frac{3}{x-2} + \frac{2}{2-x}$

5) உருவிலுள்ள தரவுகளைக் கொண்டு $\triangle BAC$ இனை காண்க.

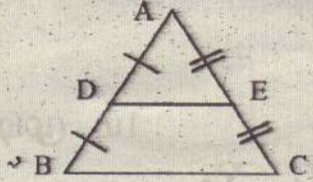


6) ஒரு வேலையை 4 மனிதர்கள் 6 நாட்களில் செய்து முடிப்பர். முதல் 2 நாட்களின் பின்னர் 2 மனிதர்கள் விலகிச் சென்றனர். மீதி வேலையைச் செய்வதற்கு எத்தனை நாட்கள் எடுக்கும்?

7) $x^2 - 9, x(x+3)$ எனும் அட்சர கணிதகோவைகளில் பொது மடங்குகளில் சிறியது எது?

8) $\sqrt{3}$ இன் 1 ம அண்ணளவாக்க பெறுமனம் $1.7/12$ எனின் இன் 1 ம அண்ணளவாக்க பெறுமனம் யாது?

9) தரப்பட்டுள்ள தரவுகளை கொண்டு $\triangle ADE : \triangle ABC$ இற்கான விகிதம் யாது?

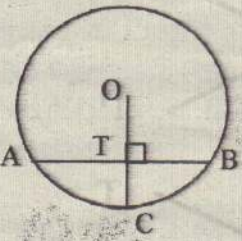


10) A, B என்பன மூட்டற்ற தொடைகளாகும். $n(A \cup B) = 12, n(A) = 8$ எனின் $n(B)$ யாது?

11) காரணிகளை காண்க. $x^2 - 2x - 24$

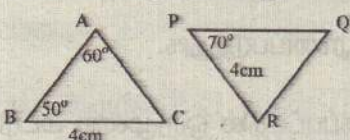
12) 1 தொடக்கம் 10 வரை எண்ணிடப்பட்டுள்ள அட்டை உள்ள பெட்டியிலிருந்து ஒரு அட்டை எழுமாற்றாக எடுக்கப்பட்டால் சதுர எண் ஒன்று கிடைப்பதற்கான நிகழ்தகவு யாது?

13) AB ஆனது O இனை மையமாக உடைய வட்டத்தின் ஒரு நாண் ஆகும். OC ஆனது AB இற்கு செங்குத்தாகும். வட்ட ஆரை 5cm, TC=1cm எனின் AB யின் நீளம் யாது?




14) தீர்க்க. $x^2 - 4 = 0$

15) இரு முக்கோணிகளும் கோணம் கோணம் ஒத்த பக்கம் எனும் நிலையில் ஒருங்கிசைந்தால் PRQ இன் பருமன் யாது?



16) ஒரு வகுப்பிலுள்ள மாணவர் பெற்ற புள்ளிகள் தரப்பட்டுள்ளது. வலையுரு வரையத்தினை வரைக.

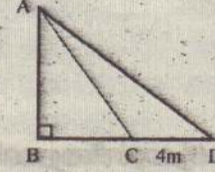
புள்ளிகள்	மாணவர் எண்ணிக்கை
30 - 40	4
40 - 60	12
60 - 70	5



17) கீழே தரப்பட்டுள்ள கூற்றுக்களிற்கு சரியாயின் சரி எனவும் பிழையாயின் பிழை எனவும் இடுக.

$\sqrt{14} > 4$	
$9^{\frac{1}{3}} < 2$	

18) நிலைக்குத்தான கோபுரம் ஒன்றின் அடியிலிருந்து சிறிய தூரத்திலுள்ள புள்ளி ஒன்றிலிருந்து உச்சியினை 50° ஏற்றக் கோணத்தில் ஒருவர் காண்கிறார், பின்னர் 4m தூரம் நடந்து சென்று அதே உச்சியினை 70° ஏற்ற கோணத்தில் காண்கிறார். அவ் இரு ஏற்றக் கோணங்களின் பெறுமானங்களையும் உரிய இடத்தில் குறித்து காட்டுக.

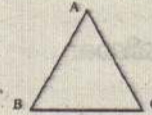


19) $3r$ ஆரையும் $2r$ செங்குத்து உயரமுடைய கூம்பின் கனவளவினை $\lambda > r$ இல் காண்க.

20) P, Q, R என்பன O இனை மையமாகவுடைய வட்டத்தில் முன்று புள்ளிகளாகும். $\angle OPQ = 50^\circ$ எனின் கோணம் $\angle PRQ$ இன் பெறுமானம் யாது?

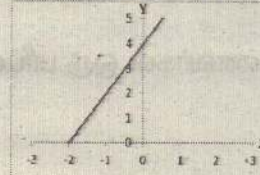


21) AB, BC இலிருந்து சமதூரத்திலும் AC யின் மீது உள்ளதுமான புள்ளியின் அமைவினை ஒழுக்கின் அறிவினை பயன்படுத்தி பருமட்டாக பெறுக.

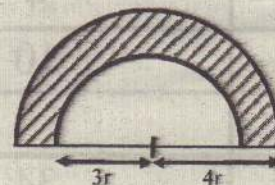


22) $\begin{pmatrix} x & 3 \\ 2 & 4 \end{pmatrix} + \begin{pmatrix} 2 & -3 \\ y & -3 \end{pmatrix} = I$ எனின் x, y இனை காண்க. இங்கு I என்பது சர்வ சமன்பாட்டு தாயம் ஆகும்.

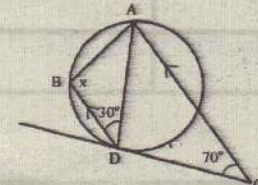
23) தரப்பட்டுள்ள உருவிலுள்ள வரைபின் படித்திரன். சமன்பாடு யாது?



24) $4r, 3r$ ஆரையுடைய அரைவட்டங்கள் உருவில் காட்டப்பட்டுள்ளது. நிழற்றிய பரப்பு 14λ எனின் r இனை காண்க.



25) உருவில் DC ஆனது புள்ளி D யில் வரையப்பட்ட தொடலி ஆகும். BD || AC எனின் X இனை காண்க.




பகுதி I B

1) ஒரு பாத்திரத்தில் முற்றாக நீர் நிரம்பியுள்ளது. அவற்றின் 1/4 பங்கு முதலாம் நாடும் 2/5 பங்கு இரண்டாம் நாடும் பயன்படுத்தப்பட்டது.

- i) முதல் இரண்டு நாட்களிலும் பயன்படுத்திய நீரின் அளவு யாது?
- ii) மீதியின் 4/7 பங்கு நீர் மூன்றாம் நாள் பயன்படுத்தப்பட்டது எனின் மூன்றாம் நாள் பயன்படுத்திய நீர் முழுத் தாங்கியின் என்ன பின்னம்?
- iii) மிகுதி நீரில் 10/ வெளியேற்றிய பின் 1/10 பங்கு நீர் மீதமாக இருந்தது எனின் 10/ இனால் குறிப்பிடப்படும் பின்னம் யாது?
- iv) இத்தாங்கியின் மொத்த கொள்ளளவினை / இல் காண்க.

2) தரப்பட்டுள்ள உருவில் ஒரு செவ்வக பகுதி ABCD ஐயும் மையக் கோணம் 45° ஆகவுள்ள ஒரு வட்டத்தின் இரு ஆரைச்சிறைகளையும் காட்டுகின்றது.



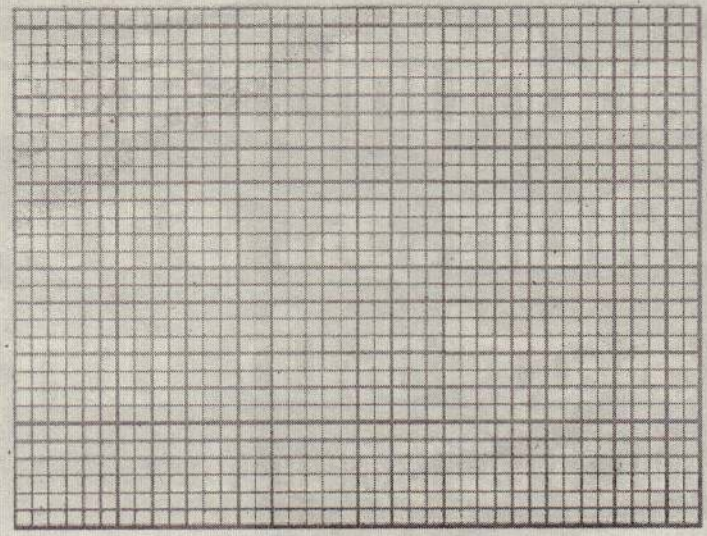
- i) ஆரைச்சிறை ஒன்றின் பரப்பளவு யாது?
- ii) செவ்வகம் ABCD இன் பரப்பளவு இரு ஆரைச்சிறைகளின் பரப்பளவுகளின் 4 மடங்கு எனின் AB யின் நீளத்தினை காண்க.
- iii) வில் BE இன் நீளத்தினை காண்க.
- iv) உருவின் சுற்றளவு யாது?

3) நிதன் கம்பனி Aயில் வைத்திருந்த 100 பங்குகளை ரூ200 வீதம் விற்பதால் ரூ5000 மூலதன இலாபம் பெறுகிறார்.

- i) பங்குகளை விற்பதால் பெற்ற பணம் எவ்வளவு?
- ii) நிறுவனம் Aயில் அவரது முதலீடு யாது?
- iii) நிறுவனம் Aயில் உள்ள பங்குகளை வாங்கிய விலை யாது?
- iv) பங்குகளை விற்பதால் பெற்ற பணத்தினை 4% மாத வட்டி வழங்கும் நிறுவனத்தில் முதலிடும் ஒருவருக்கு 4 மாத முடிவில் கிடைக்கும் மொத்தப் பணம் எவ்வளவு?

4) கீழ்வரும் அட்டவணையானது 60 மாணவர்கள் ஒரு பரீட்சையில் பெற்ற புள்ளிகளை காட்டுகிறது.

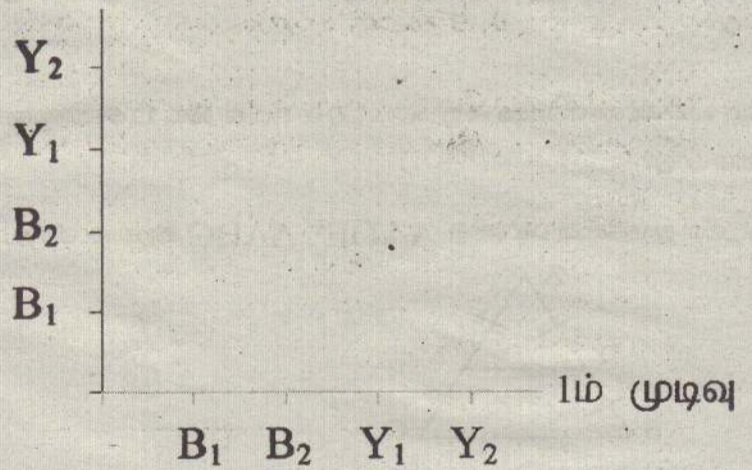
புள்ளிகள்	மீடறன்(f)	திரள் மீடறன்(cf)
0 - 10	4	4
10 - 20		10
20 - 30	10	
30 - 40	14	34
40 - 50		52
50 - 60	8	



- i) மேற்குறிப்பட்ட அட்டவணையில் இடைவெளி நிரப்புக.
- ii) அட்டவணைக்கு ஏற்ப பொருத்தமான அளவிடையைப் பெற்று திரள்மீடறன் வளையியினை வரைக.
- iii) மாணவர்களின் புள்ளிகளின் இடையத்தினை வளையியிலிருந்து பெறுக.
- iv) 40% மாணவர்கள் சித்திபெற தவறினர் எனின் அப்பரீட்சையின் சித்திப்புள்ளி யாது?
- 5) A. ஒரு பெட்டியில் 2 நீலம், 2 மஞ்சள் நிற ஒரே மாதிரியான மாபிள்கள் உள்ளன. அவற்றிலிருந்து ஒரு மாபிள் எழுமாற்றாக எடுக்கப்பட்டு நிறம் குறிக்கப்பட்டு அப்பையினுள் இடப்படாமல் இன்னொரு மாபிள் எடுக்கப்படுகிறது.

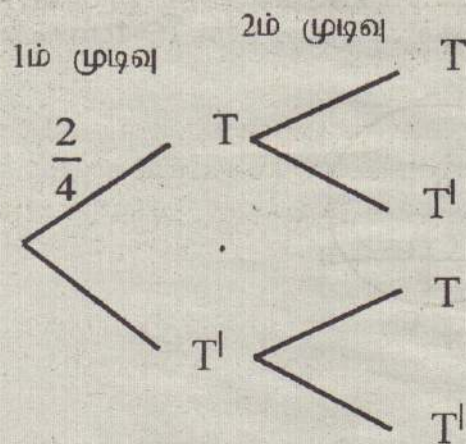
i) மாதிரி வெளியினை நெய்யரியில் குறிக்க?

2ம் முடிவு



ii) இரு முறையும் வெவ்வேறு நிறம் கிடைப்பதற்கான நிகழ்ச்சியினை நெய்யரியில் குறிக்க. அதன் நிகழ்தகவினை காண்க.

B. எடுக்கப்பட்ட மாபிள்கள் அப்பெட்டியில் இடப்பட்டு அவற்றிற்கு 1 தொடக்கம் 4 வரை எண்ணிடப்பட்டு ஒன்றின் பின் ஒன்றாக பிரதி வைப்பின்றி இரு மாபிள்கள் எடுக்கப்படுகிறது. எடுக்கப்பட்ட எண் முக்கோண எண்ணா, இல்லையா என குறிக்கப்படுகின்றது.



- i) மர வரிப்படத்தினை பூரணப்படுத்துக.
- ii) இரு முறையும் எடுக்கப்பட்டதில் ஒருமுறை மட்டும் முக்கோண எண் கிடைப்பதற்கான நிகழ்தகவு யாது?

வலம்புரி கல்விப் பிரிவு வழங்கும் க.பொ.த. சாதாரண தரப்பரீட்சை கணிதம் மாதிரி வினாத்தாள்

நேரம்: 3 மணித்தியாலம்

வினாப்பத்திரம் - 02

பகுதி IIB

01)

(a) சார்பு $y = x^2 + 2x - 2$ இன் வரைபை வரைவதற்கு ஒரு பூரணமற்ற பெறுமான அட்டவணை கீழே தரப்பட்டுள்ளது.

x	-4	-3	-2	-1	0	1	2
y	6	1	-2	-2	1	6

i) $x = (-1)$ ஆகும் போது y இன் பெறுமானத்தை காண்க.

ii) x அச்ச வழியேயும் y அச்ச வழியேயும் 10 சிறிய பிரிவுகளால் ஓர் அகல வகை குறிக்குமாறு உள்ள அளவிடையைப் பயன்படுத்தி ஒரு வரைபு தாளில் மேற்கறிந்த சார்பை வரைக.

(b) வரைபை பயன்படுத்தி பின்வரும் வினாக்களுக்கு விடை தருக.

iii) y மறையாகவும் குறையுமாறும் உள்ள x இன் பெறுமான ஆயிடைகளைக் காண்க.

iv) தரப்பட்டுள்ள சார்பினை $y = (x+a)^2 - b$ வடிவில் எடுத்துரைக்க. a, b இனை காண்க.

v) $y = 0$ ஆகும் போது x இன் பெறுமானத்தை காண்க. இதிலிருந்து $\sqrt{3}$ இன் பெறுமானத்தை 1ம் தசமத்தில் காண்க.

02) ராஜா தொலைத்தொடர்பு நிறுவனத்தில் ஓர் சலுகையினைப் பெற்றுள்ளார். அதாவது மாதாந்தம் 750 நிமிடங்கள் இலவச அழைப்புக்களை மேற்கொள்ள முடியும். அவரது ஒரு மாதத்தில் பெறப்பட்ட 50 அழைப்புக்களின் கால இடைவெளியினை நிமிடத்தில் அட்டவணை காட்டுகின்றது.

கால இடைவெளி (நிமிடம்)	0 - 4	4 - 8	8 - 12	12 - 16	16 - 20	20 - 24
அழைப்புகளின் எண்ணிக்கை	9	11	13	9	6	2

i) அதிகளவான அழைப்புக்கள் எக்கால இடைவெளியில் மேற்கொள்ளப்பட்டுள்ளன.

ii) எடுகொண்ட இடையினை பயன்படுத்தி அல்லது வேறு விதமாக அழைப்புக்களின் இடையை காண்க.

iii) ராஜா ஒரு மாதத்தில் 100 அழைப்புக்களை மேற்கொண்டார் எனின் தொலைத்தொடர்பு நிறுவனம் கட்டணம் அறவிடப்படும் அழைப்புகளின் நிமிடத்தினை காண்க.

iv) மாதாந்த கட்டணம் ரூ600 ஒரு நிமிடத்திற்கு ரூ2 வீதம் அறவிடும் தொலைத்தொடர்பு நிறுவனம் ராஜா ஒரு மாதத்தில் 100 அழைப்புக்களை மேற்கொண்டிருந்தால் அறவிடும் பணத்தொகை யாது?

03) ஓர் அலுவலியினை உடன் காசிற்கு வாங்கும் போது அதன் விலை ரூ200000 ஆகும். அத்தொகையின் 10% இனை முற்பணமாக செலுத்தி மிகுதியினை வட்டியுடன் 18 சம மாதத்தவணைகளாக செலுத்தி பெற முடியும். இக் கொடுப்பனவு முறைக்காக குறைந்து செல்லும் மீதி முறைக்கு வட்டி அறவிடப்படுகிறது. ஆண்டு வட்டி வீதம் 12% எனின் செலுத்த வேண்டிய தவணைப் பணம் யாது?

04) ஒரு கிடைதரையில் P, Q, R எனும் புள்ளிகள் முறையே Pயிற்கு கிழக்கே Q, PQ=120m ஆகும். R இலிருந்து Q இன் திசைகோள் 130° , R இலிருந்து P இன் திசைகோள் 220° ஆகும். அமைந்துள்ளது.

i) P, Q, R ஆகியவற்றின் அமைவுகளை ஒருபுறம்படி படத்தில் வரைந்து தரப்பட்டுள்ள அளவுகளைக் குறிக்க.

ii) கோணம் PQR இன் பருமனைக் காண்க.

iii) திரிகோண கணித அட்டவணையைப் பயன்படுத்தி தூரம் PR இனை மீற்றரில் காண்க.

iv) PT=40m ஆகும். PR இன் மீது புள்ளி T அமைந்துள்ளது எனின் திரிகோண கணித அட்டவணையைப் பயன்படுத்தி கோணம் RQT காண்க. (QT = 100m என்க)

05)

(a) ஒரு தனியார் நிறுவனம் ஒன்றில் வேலை செய்யும் சாரதிகளின் ஒருநாள் வேதனம் தொடர்பாக கீழே தரப்பட்டுள்ளது.

ஒரு லொறி சாரதிக்கு ரூ1200

ஒரு வான் சாரதிக்கு ரூ1000

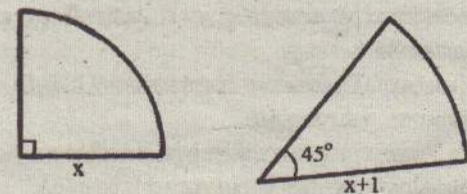
இந்நிறுவனத்தில் வேலை செய்யும் வான் சாரதிகளின் எண்ணிக்கை லொறி சாரதிகளின் எண்ணிக்கையின் 3 மடங்கிலும் 5 குறைவாகும். இச்சாரதிகளிற்காக அந்நிறுவனம் ஒருநாளிற்கு ரூ16000 வேதனமாக வழங்கப்படுகிறது.

i) அந்நிறுவனத்திலுள்ள லொறி சாரதிகளின் எண்ணிக்கை X, வான் சாரதிகளின் எண்ணிக்கை Y எனவும் கொண்டு ஓர் ஒருங்கமை சமன்பாட்டுச் சோடிகளை உருவாக்குக.

ii) ஒருங்கமை சமன்பாட்டு சோடியை தீர்த்து அந்நிறுவனத்தில் உள்ள லொறி சாரதிகளின் எண்ணிக்கையையும் வான் சாரதிகளின் எண்ணிக்கையையும் தனித்தனியே காண்க.

(b) $125x + 4200 \leq 5400$ இனைத் தீர்த்து X எடுக்கத்தக்க உயர்ந்தபட்ச நிறை எண் பெறுமானத்தை காண்க.

06) பின்வரும் இரு தள உருவங்கள் முறையே ஆரை X அலகுகளுடைய ஓர் வட்டத்தின் ஓர் கால்வட்டமும், ஆரை $(x+1)$ அலகுகளுடைய ஓர் ஆரைசிறையும் ஆகும்.



இரு தள உருக்களினதும் பரப்பளவுகள் சமமெனின், X இன் சார்பில் ஓர் இருபடி சமன்பாட்டினை உருவாக்கி $x^2 - 2x - 1 = 0$ என காட்டி X இன் பெறுமானத்தை ஒரு தசமதானத்தில் காண்க. ($\sqrt{2} = 1.41$ என்க)

பகுதி - II B

07)

(a) ஒரு நேரிய கம்பியிலிருந்து வெட்டப்பட்ட துண்டுகளின் நீளங்கள் முறையே 40cm, 50cm, 60cm ஆகும். இருந்தது, வெட்டப்பட்ட இறுதி துண்டின் நீளம் 2m ஆகும்.

i) அக்கம்பியிலிருந்து வெட்டப்பட்ட துண்டுகளின் எண்ணிக்கை யாது?

ii) அந்நேரிய கம்பித் துண்டின் மொத்த நீளத்தினை m இல் காண்க.

(b) ஒரு பெருக்கல் விருத்தியின் முதலாம் உறுப்பு 3 ஆகும். அவ்விருத்தியின் பொது விகிதம் நேராக இருக்கும் அதேவேளை மூன்றாம், இரண்டாம் உறுப்புகளின் வித்தியாசம் 6 ஆகும்.

i) அவ்விருத்தியின் பொது விகிதம் யாது?

ii) அவ்விருத்தியின் 6ம் உறுப்பு 96 எனக் காட்டுக.

08) பின்வரும் அமைப்புக்களுக்கு cm/mm அளவிடை உள்ள ஒரு நேர் விளிம்பையும் ஒரு கவராயத்தையும் பயன்படுத்தி அமைப்புக் கோடுகளை தெளிவாக காட்டுக.

i) $\triangle ABC$ யில் $AB = 6\text{cm}$, $\angle A = 90^\circ$, $BC = 3\text{cm}$ ஆகும். அமைக்க.

ii) $\angle ACB$ யின் கோண இரு கூறாக்கியினை அமைக்க. அது AB யினை D யில் சந்திக்கின்றது.

iii) D யிலிருந்து AC யிற்கு வரையப்பட்ட செங்குத்து AC யினை F இல் சந்திக்கின்றது.

iv) D யினை மையமாகவும் DF இனை ஆரையாகவும் கொண்ட வட்டத்தினை அமைக்க.

v) AC யினை இல் கணிக்க.

vi) A யிலிருந்து இன்னொரு தொடலி AF இனை அமைக்க.

vii) $\frac{\Delta AFD}{\Delta DBC} = \sqrt{5} - 1$ எனக் காட்டுக.


09)

(a) அருகிலுள்ள உருவில் வட்டத்தின் மையம் O , AB ஆனது அதன் விட்டமாகும். $OC \parallel AD$, அத்துடன் கோணம் $\angle OCA = x$ எனின்

i) கோணம் $\angle ABC$

ii) கோணம் $\angle ADC$

iii) கோணம் $\angle ACD$ என்பவற்றின் x சார்பில் காண்க.



(b) மேற்குறித்த உருவில் பைதகரசின் தொடர்பினை பயன்படுத்தி $4AO^2 = BC^2 + AC^2$ என காட்டுக.

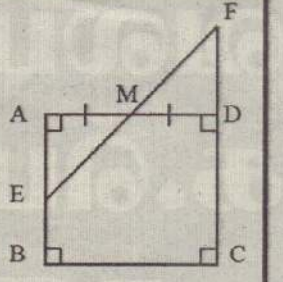
10) உருவில் சதுரம் $ABCD$ யில் AD யின் நடுப்புள்ளி M ஆகும். AB யின் மீதுள்ள புள்ளி E ஆகும். நீட்டப்பட்ட EM , CD என்பன F ல் சந்திக்கிறது.

i) உருவினை உமது விடைத்தாளில் பிரதி செய்து $\triangle AEM \equiv \triangle DMF$ என காட்டுக.

ii) $AEDF$ ஓர் இணைகரம் என நிறுவுக.

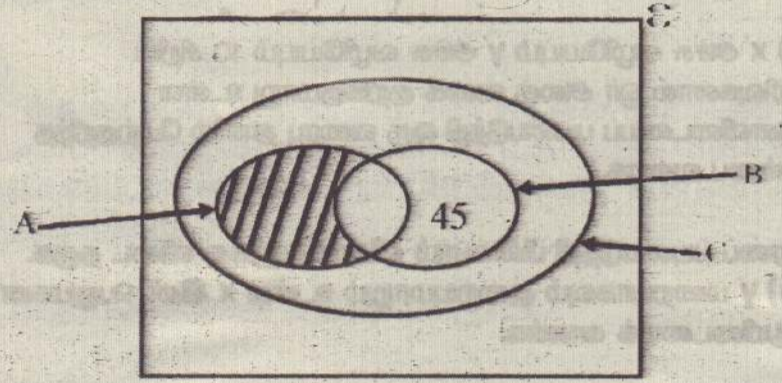
iii) AD யிற்கு செங்குத்தாக M இனூடாக வரையப்படும் நேர்கோடு DE இனை G இனும் BC யினை H இனும் சந்திக்கிறது எனின் $DG = GE$ என நிறுவுக.

iv) $AEDF$ பரப்பளவு $= 8 \times \Delta DGM$ இன் பரப்பளவு என காட்டுக.



11) 2cm ஆரையுடைய ஒரு திண்ம கோளத்தினை உருக்கி அக்கோளத்தின் கனவளவிற்கு சமமான கனவளவுள்ள ஒரு திண்ம செவ்வட்ட கூம்பு அதன் அடியின் ஆரைக்கும் அதன் செங்குத்து உயரத்திற்கும் இடையே உள்ள விகிதம் 2:3 ஆக இருக்குமாறு செய்யப்படுகிறது. அவ்வாறு செய்யப்பட்ட கூம்பின் செங்குத்து உயரம் $2 \times 3^{2/3}$ என காட்டி மடக்கை அட்டவணையினை பயன்படுத்தி அதன் பெறுமானத்தினை இரண்டாம் தசமதானத்தில் காண்க.

12) 200 மாணவர்களிடமிருந்து பெறப்பட்ட தகவல்களை கீழ்வரும் பூரணமற்ற வெண் உரு காட்டுகிறது. A, B, C எனும் வகை குளிர் பானங்களின் விருப்பத் தெரிவாகும்.



i) நிழற்றிய பகுதியினை சொற்களில் விபரிக்குக.

ii) B வகை குளிர் பானத்தை விரும்புவோர் 50 எனின் அம் மூன்று வகையினையும் விரும்புவோர் எத்தனை பேர்?

iii) 80 பேர் மேற்குறித்த ஒன்றையும் விரும்பவில்லை எனின் C வகை குளிர் பானத்தை விரும்புவோர் எத்தனை பேர்?

iv) 65 பேர் A வகை குளிர் பானத்தினை விரும்புகின்றனர் எனின் ஒரு வகையினை மட்டும் விரும்புவோரின் எண்ணிக்கை மூன்று வகையினையும் விரும்புவோரின் இருமடங்கு என காட்டுக.

முயற்சியாண்மைக் கல்வி தொகுதி 1

வினா இல-01

மிகப் பொருத்தமான விடையினைத் தெரிவுசெய்க.

01. 'முயற்சியாண்மை' அண்மைக் காலத்தினுள் உருவாகிய ஓர் எண்ணக்கருவாகும். அதனை மிகத் தெளிவாக விளக்குவது.

1) சூழலில் காணப்படுகின்ற வாய்ப்புக்களை இனங்கண்டு வித்தியாசமான கோணத்தில் சிந்தித்து புத்தாக்கங்களை உருவாக்குதல்.

2) எதிர்காலத்தை மாற்றுவதற்காக முயற்சிக்கும் நபர்களின் நடத்தையாகும்.

3) இயல்பாக உருவாகிய திறமைகளின் மொத்தவடிவமாகும்.

4) சமூகமேம்பாட்டுக் குகாரணமாக அமையக்கூடிய செயற்பாடுகளின் மொத்த வடிவமாகும்.

02. புதிய பொருட்கள், சேவைகளின் உற்பத்தி நடவடிக்கைகளுக்கு பயன்படுத்தும் பல்வேறு வளங்கள் உற்பத்திக் காரணிகள் என அழைக்கப்படும். பின்வருவனவற்றுள் உற்பத்திக் காரணிகளையெல்லாம் உள்ளடக்கிய விடைத் தொகுதியினைத் தெரிவுசெய்க.

1) மூலப்பொருள், காணி, வனம் மற்றும் நிலம்.

2) கட்டடம், யந்திரங்கள், மற்றும் உபகரணங்கள்.

3) நிலம், உழைப்பு, மூலதனம் மற்றும் முயற்சியாண்மை.

4) முயற்சி, புதிய கருத்துக்கள், பொருட்கள் மற்றும் சேவைகள்

03. ஆடைத் தொழிற்சாலையொன்றில் உற்பத்திக்காகப் பயன்படுத்தப்படும் தையல் இயந்திரங்கள், கட்டடம், கருவிகள் என்பவற்றைக் குறிப்பது.

(1) நிலம் (2) உழைப்பு (3) மூலதனம் (4) முயற்சி

04. கொரோனா நோய்த் தொற்று காரணமாக பாடசாலைக்கல்வியை பெறமுடியாத நிலையில் பாதிக்கப்பட்ட, குடும்பவருமானம் குறைந்த, பொ.த (சாதாரண) மாணவர்களுக்கு கற்றல் கையேடுகள் தயாரித்து வழங்குவதற்கான வேலைத் திட்டமொன்று நடைமுறைப்படுத்தப்படுதல் என்பது.

1) ஆக்கத்திறனுடைய முயற்சியாண்மை என்பதாகும்

2) சமூகத்தினூடான முயற்சியாண்மை என்பதாகும்

3) நிறுவனரீதியான முயற்சியாண்மை என்பதாகும்

4) சூழல் ரீதியான முயற்சியாண்மை என்பதாகும்

05. அடிப்படைத் தேவைகள் உள்ளடங்கும் விடைத் தொகுதியினைத் தெரிவுசெய்க.

1) கல்வி, போக்குவரத்து, புகையிரதம், பாடசாலை

2) உணவு, உடை, பாதுகாப்பு, கல்வி

3) ஆடை அணிகள், வீடு, சோற்று, பாண்

4) தொலைபேசி, கல்வி, தொடர்பாடல், தொலைக்காட்சி

06. அண்மையில் முன்பள்ளி டிப்ளோமாவை முடித்த விசாலினி, முன்பள்ளிக் பாடசாலையொன்றை ஆரம்பிப்பதற்கு பொருத்தமான இடமொன்றைத் தேடுகின்றாள். அதற்கு மிகப் பொருத்தமான இடமாக அமைவது.

1) கட்டடத் தொகுதியொன்றுக்கு அருகாமையில் பாதுகாப்பான, அமைதியான சூழல் ஒன்று காணப்படல்

2) கைத்தொழில் பேட்டை ஒன்றுக்கு அருகாமையில் இடமொன்றினை தெரிவுசெய்தல்

3) சந்தைத் தொகுதியொன்றுக்கு அருகாமையில் இடத்தினை தெரிவுசெய்தல்

4) பொதுவிளையாட்டுமேதானத்துக்கு அருகாமையில் இடத்தினைத் தெரிவுசெய்தல்

07. மனித்தேவைகள், விருப்பங்களைப் பூர்த்தி செய்வதற்காக பொருட்கள் மற்றும் சேவைகளை உற்பத்தி செய்தல், விநியோகித்தல் மற்றும் விற்பனை செய்தல் தொடர்பான சகல நடவடிக்கைகளிலும் ஈடுபடுபவரை அழைப்பது.

1) உற்பத்தியாளர் என்றாகும் 2) வணிகர் என்றாகும்

3) முயற்சியாளர் என்றாகும் 4) களஞ்சியசாலைப் பொறுப்பாளர்

08. வணிக அகச்சூழல் ஒன்றினுள் செல்வாக்குச் செலுத்தும் பிரதான காரணிகளாவன.

1) உரிமையாளர், முகாமையாளர், உழியர், வளங்கள்

2) உரிமையாளர், முகாமையாளர், உழியர், வாடிக்கையாளர்

3) உரிமையாளர், முகாமையாளர், வழங்குனர், முதலீட்டாளர்

4) முதலீட்டாளர், முகாமையாளர், உழியர், போட்டியாளர்

09. முயற்சியாண்மை மூலம் முயற்சியாளருக்கு கிடைக்கும் நன்மையல்லாதது.

(1) பயன்படுத்தாத ஆற்றல்களை பயன்படுத்த முடிதல்

(2) சுதந்திரமும், மிக உயர்ந்த ஆத்ம திருப்தியும் உருவாகுதல்

(3) தலைமைத்துவம் கிடைக்கின்றமை

(4) தன்னாதிக்கமுள்ள சுதந்திரமான பொருளாதாரச் சமூகம் உருவாகுதல்

10. முயற்சியாளர் ஒருவர் தனது ஆக்கபூர்வமான சிந்தனைகளை விழிப்புடன் செய்து, புதிய உற்பத்திகளை பரிட்சித்துப் பார்ப்பதற்கு சந்தர்ப்பத்தை வழங்கும் வணிகமாக அமைவது

(1) பேரளவு வணிகம்

(2) நடுத்தரளவு வணிகம்

(3) கூட்டுறவு வணிகம்

(4) சிற்றளவு வணிகம்

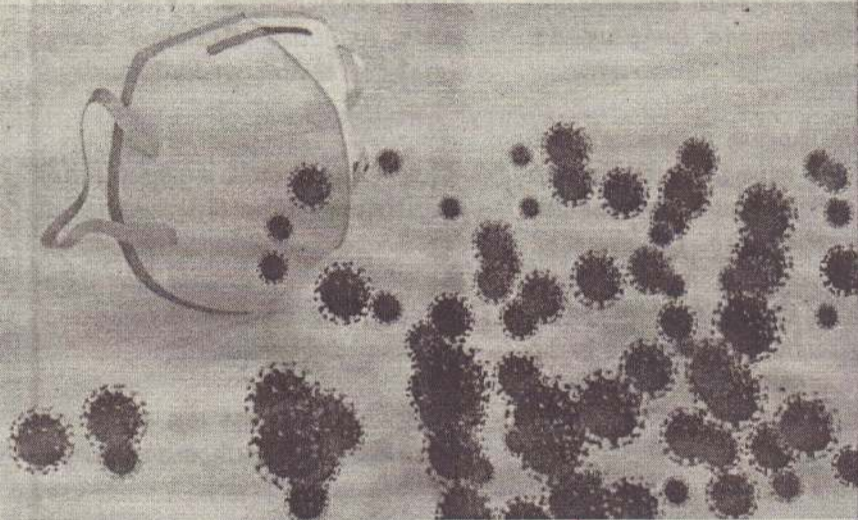
வெளிநாடு

கொரோனா தொற்று, காற்றின் வழியே பரவும்

கொண்ட உலக சுகாதார அமைப்பு


கொற்றின் வழியே பரவக்கூடியது என வெளியாகி
உலக உலக சுகாதார நிறுவனம் ஒப்புக்கொண்டது.

உலக உலக சுகாதார நிறுவனம் ஒப்புக்கொண்டது. இதன் மூலம் கொரோனா தொற்று காற்றின் வழியே பரவக்கூடியது என வெளியாகி உலக உலக சுகாதார நிறுவனம் ஒப்புக்கொண்டது.



புதிய ஆதாரத்தை நாங்கள் ஒப்புக்கொள்கிறோம்.

இந்த ஆதாரத்தை நாங்கள் ஆராய்ந்து பார்க்க வேண்டும்.



தொற்றுப்பரவலில் இதன் தாக்கங்கள் குறித்தும், எடுக்க

வேண்டிய முன் எச்சரிக்கை நடவடிக்கைகள் பற்றியும் நாங்

கள் புரிந்துகொள்ள வேண்டும் எனத் தெரிவித்தார். (2)

கொண்ட வெளியிட வேண்டிய அமெரிக்கா தரும் விதமாக விவகாரத்தில் காரணம் காட்டி ஒரு விசா கட்டுவது அறிவித்துள்ள சீன வெளியுறவு அமைப்பினர். "வொருளாதார சீரமைப்பில் சீன தேசிய துன்புறுத்தல்கள் தடுக்க அமெரிக்கா ஒரு போதும் உதவாது" என அறிவித்துள்ளது. (2)

அமெரிக்காவை அலறவிடும் கொரோனா ஒரு நாளில் மட்டும் 61 ஆயிரம் பேர் பாதிப்பு

(வோஷிங்டன்) உலகிலேயே கொரோனா வைரஸ் தொற்றினால் மிகப் பெரிய பாதிப்பை எதிர்கொண்ட நாடாக விளங்கும் அமெரிக்காவில், நாளொன்றுக்கான அதிகபட்ச பாதிப்பு எண்ணிக்கை பதிவாகியுள்ளது. உத்தியோகபூர்வ புள்ளிவிப

ரங்களின்படி நேற்று முன்தினம் மட்டும் அமெரிக்காவில் 61,848 பேர் பாதிப்படைந்துள்ளனர். மேலும் 890 பேர் உயிரிழந்துள்ளனர். இதற்கிடையே அமெரிக்காவில் வைரஸ் தொற்று தோன்றியதிலிருந்து பதிவான, நாளொன்றுக்கான அதிகபட்ச பாதிப்பு

எண்ணிக்கை இதுவாகும். அத்துடன், அமெரிக்காவில் கொவிட்-19 பெருந் தொற்றினால் பாதிக்கப்பட்டவர்களின் மொத்த எண்ணிக்கை 31 இலட்சத்து 58 ஆயிரத்து 932 ஆகும். அதேபோல, அங்கு உயிரிழந்தவர்களின் மொத்த எண்ணிக்கை ஒரு இலட்சத்து

34 ஆயிரத்து 862 ஆகும். இதுதவிர அங்கு 16 இலட்சத்து 31 ஆயிரத்து 391 பேர் வைத்தியசாலைகளில் சிகிச்சை பெற்று வருகின்றனர். இதில் 15 ஆயிரத்து 457 பேர் தீவிர சிகிச்சையில் அனுமதிக்கப்பட்டுள்ளனர். மேலும், இதுவரை 13 இலட்சத்து 92 ஆயிரத்து 679

பேர் வைரஸ் தொற்றிலிருந்து மீண்டு வீடு திரும்பியுள்ளனர். அமெரிக்காவில் அதிகப்படியாக, நியூயோர்க் மாநிலத்தில் அதிகமாக கொவிட்-19 பாதிப்பு பதிவாகியுள்ளது. அங்கு 4 இலட்சத்து 24 ஆயிரத்து 263 பேர் பாதிப்படைந்துள்ளனர். (2)

அமெரிக்காவில் தலைதூக்கும் புதிய வகை நோய்

(வோஷிங்டன்) கொரோனா வைரஸ் பாதிப்பு மிகத் தீவிரமாக இருக்கும் நிலையில் அமெரிக்காவில் மூளையை தின்னும் அமீபா நோய் பாதிப்பொன்று ஏற்பட்டுள்ளது. மனிதர்கள் உடலில் உள்ள பல அணுக்களில், அமீபா என்பது ஓரணு உயிரி. அமெரிக்காவின் புளோரிடா மாகாணத்தில் நெக்லேரியா பவுலரி என்ற மனித மூளையை தின்னும் அமீபா நோய் பாதிப்பு ஏற்பட்டுள்ளதாக அந்த மாகாண சுகாதாரத் துறை எச்சரித்துள்ளது. மிகமான வெப்பநிலையில்

வைத்தியர்கள் எச்சரிக்கை

உள்ள நல்ல நீரில் இந்த கிருமி இருக்கும் என தெரிய வந்துள்ளது. மேற்படி நோய் தொடர்பாக தெரிய வருவதாவது, மூக்கின் மூலமாக உடலுக்குள் புகுந்து மூளையைச் சென்றடையும். இந்த அமீபா மூளையை கொஞ்சம் கொஞ்சமாக தின்ன ஆரம்பிக்குமா.

ஆனால் இந்த உணர்வு மனிதர்களுக்குத் தெரியாது எனவும் மிகவும் அபூர்வமான இந்த நோயால் அண்மையில்

ஒருவர் பாதிக்கப்பட்டுள்ளதாகவும் பரிசோதனைகளில் உறுதி செய்யப்பட்டுள்ளது. அதனால் ஏரி, குளம், நீச்சல் குளம் போன்றவற்றில் குளிக்கும் போது மூக்கின் வழியாக நீர் உள்ளே செல்வதை தவிர்க்கும்படி வைத்தியர்கள் எச்சரித்துள்ளனர்.

தலைவலி, காய்ச்சல், வாந்தி, கழுத்து வலி ஆகியவையே இதன் அறிகுறிகளென வைத்தியர்கள் தெரிவித்துள்ளனர்.



மேலும், இந்நோய் மூளையில் பாதிப்பை ஏற்படுத்தும் என்பதால் நினைவு இழப்பது, குழப்பங்கள் ஏற்படுவது,

வலிப்பு நோய், உடல் கட்டுப்பாட்டை இழப்பது ஆகியவையும் ஏற்படுமெனவும் எச்சரிக்கப்பட்டுள்ளது. (2)



புலம்பெயர்ந்த ஈழத் தமிழர்கள் ஓர் உலகளாவிய ஆய்வு கலாநிதி முருகர் குணசிங்கம்

18

1983 இல் இலங்கையில் ஈழத்தமிழருக்கு எதிராக நடத்தப்பட்ட படுகொலைத் தாக்குதல்களால் பல்லாயிரக்கணக்கான ஈழத்தமிழர்கள் இலங்கையை விட்டு வெளியேறி இந்தியாவுக்கும் மேற்கு ஐரோப்பிய நாடுகளுக்கும் வட அமெரிக்கா, கனடா போன்ற நாடுகளுக்கும் அகதிகளாகச் சென்றனர்.

இவ்வேளையில் அவுஸ்திரேலிய அரசும் ஈழத்து அகதிகளுக்குத் தனது கதவை அகலத் திறந்து விட்டது. ஆயிரக்கணக்கான ஈழத் தமிழர்கள் அகதிகளாக அவுஸ்திரேலியா நாட்டில் வந்து குவிந்தனர்.

இந்நிலைமை ஒரு குறுகிய காலத்திற்கே அவுஸ்திரேலியாவில் இடம்பெற்றது. அதன் பின்னர் ஈழத்தில் இருந்து வரும் தமிழ் அகதிகளை அவுஸ்திரேலிய அரசு ஏற்பதில் பல தடைகளையும் கட்டுப்பாடுகளையும் விதித்ததன் விளைவாக தமிழ் அகதிகளின் வருகை குறைந்தது.

2009 இல் ஈழப் போராட்டத்தை இலங்கை அரசு முடிவுக்குக் கொண்டு வந்து விட்டதாக அறிவித்ததில் இருந்து பல ஈழத்தமிழர்கள் அவுஸ்திரேலியச் சட்டப்பங்களுக்கு முரணாக (illegally) கடல் வழியாக அவுஸ்திரேலியாவுக்குள் வந்துள்ளனர்.

அவர்களுள் பலருக்குத் தற்காலிக அகதிகள் என்ற அடையாளம் அவுஸ்திரேலியக் குடிவரவு இலாகாவினால் வழங்கப்பட்டுள்ளது.

மேலும் பலரை அவுஸ்திரேலியாவிலும் பல அண்டைத்தீவுகளில் (Christmas Island) உள்ள தடுப்பு முகாம்களில் தடுத்து வைத்து விசாரணை செய்து வருகின்றார்கள்.

மேற்கூறப்பட்டவை தவிர அவுஸ்திரேலிய அரசாங்கம் குடும்பத்துடன் மீள் இணைதல் (Family Reunion) என்ற கொள்கையின் கீழ் 1980களில் இருந்து விண்ணப்பதாரரின் மனைவி அல்லது கணவர், அவர்களின் பிள்ளைகள், தாய், தந்தையர், உடன் பிறந்த சகோதர, சகோதரிகள் ஆகியோர் அவுஸ்திரேலியாவில் உள்ள விண்ணப்பதாரருடன் வந்து இணைந்து கொள்வதற்கான வழியையும் திறந்து விட்டது.

இதன் விளைவாக பலதரப்பட்டவர்கள் அவுஸ்திரேலியா வந்து தமது உறவுகளுடன் இணைந்து கொண்டனர்.

ஆனால் 1990களின் நடுப்பகுதியில் இருந்து மீண்டும் இறுக்கமான கட்டுப்பாடுகள் விதித்ததன் விளைவாக குடும்பத்துடன் மீள் இணைதல் என்ற வழியின் ஊடாக ஈழத்தமிழர்கள் அவுஸ்திரேலியா வருவது மிகமிகக் குறைந்துள்ளது.

எடுத்துக்காட்டாக ஆங்கில அறிவு, பட்டப்படிப்பு, வயது எல்லை, தொழில் சார் திறமை அல்லது பயிற்சி போன்றவை குடும்ப மீள் இணைதல் கொள்கையின் ஊடாக வருபவர்களிடம் இரு


ந்து எதிர்பார்க்கப்படுகின்றது.

ஆனால் ஈழத்தில் உள்ள தமிழர்களில் அவ்வாறான தகுதி உள்ளவர்களுள் பெரும்பான்மையினர் ஏதோ வகையில் ஏற்கனவே பல நாடுகளுக்கும் சென்று விட்டனர்.

தற்போது ஈழத்தில் உள்ள தமிழர்களிடம் மேற்கண்ட திறமைகள் குறைந்து காணப்படுகின்றன.

இதன் காரணமாகவும் அவுஸ்திரேலியா வரும் ஈழத் தமிழர்களின் எண்ணிக்கை மிகமிகக் குறைந்து வருகின்றது.

மேற்கு ஐரோப்பா, அமெரிக்கா, கனடா, சிங்கப்பூர், மலேசியா, தென் அமெரிக்கா, மத்திய கிழக்கு நாடுகளில் சென்று வாழ்ந்து கொண்டு இருந்த ஈழத் தமிழர்களுள் தங்கள் கல்வித் தகைமை, தொழிற்நிறமை, பயிற்சி, வயது போன்றவற்றின் அடிப்படையில் அவுஸ்திரேலியாவுக்கு மீள் புலம்பெயர்ந்து வந்தவர்களும் கணிசமான அளவில் நிரந்தர வதிவிட உரிமை பெற்று உள்ளவர்கள்.



மத்திய கிழக்கு நாடுகளில் தொழில் புரிந்த ஈழத் தமிழர்கள் சுற்றுலா விசாவில் (Tourist visa) அவுஸ்திரேலியா வந்த பின்னர் இலங்கைக்குப் போக முடியாத காரணங்களைக் காட்டி அகதி அந்தஸ்துக் கோரி விண்ணப்பித்து அவர்களுள் அகதிகளாக ஏற்றுக்கொள்ளப்பட்ட சிறுதொகையினரும் இதில் அடங்குவர். இறுதியாக மாணவர் விசா (Student visa) பெற்று அவுஸ்திரேலியாவில் பல்கலைக்கழகங்களில் பட்டப்படிப்பு, மேற்படிப்பு, தொற்கல்வி படிக்க வந்த ஈழத்தமிழ் இளம்தலைமுறையினர் படிப்பு முடிந்தவுடன் தொழில் பெற்று அதனுடாக திறமை அடிப்படையில் நிரந்தர வதிவிட விசா பெற்று தங்கி இருக்கிறார்கள்.

அவுஸ்திரேலிய அரசின் குடிசன மதிப்பு இலாகா எண்ணிக்கையின்படி 1971 இற்கு முன்னர் 202 பேர் மட்டுமே தமிழ்மொழி பேசுவவர்களாக இருந்தனர் என்பதனை அறிய முடிகின்றது.

ஆனால் இத்தொகையில் எத்தனை பேர் ஈழத்தமிழர்கள், எத்தனை பேர் இந்தியத் தமிழர்கள், அல்லது ஏனைய

நாடுகளில் இருந்து குடியேறிய தமிழர்கள் என்பது பற்றி அறிய முடியவில்லை.

ஆனால் அவுஸ்திரேலியாவில் வாழும் தமிழர்களின் எண்ணிக்கை 1980 களில் இருந்து ஒவ்வொரு ஆண்டும் அதிகரித்துக்கொண்டு போவதைக்காண முடிகின்றது.

1991 ஆம் ஆண்டு மக்கள் தொகைக் கணக்கின்படி 11,376, 1996 இல் 18,690, 2001 இல் 24,067, 2006 இல் 32,701 தமிழர்கள் அவுஸ்திரேலியாவில் நிரந்தரமாக வாழ்வதாகக் கணிக்கப்பட்டுள்ளது.

ஆனால் மேற்படி கணக்கெடுப்பில் தமிழ் பேசும் ஈழத்துத் தமிழர்களும் இந்தியத் தமிழர்களும் பிற நாடுகளான மலேசியா, சிங்கப்பூர், நியூசிலாந்து, ஐக்கிய அமெரிக்கா, கனடா, தென் ஆபிரிக்காவில் இருந்து அவுஸ்திரேலியா வந்து குடியேறிய தமிழர்களும் தமிழ் பேசும் மக்கள் என்ற அடிப்படையிலேயே சேர்க்கப்பட்டுள்ளனர்.

வீட்டில் தமிழ்மொழி பேசுகின்ற

தமிழர் என்ற அடிப்படையிலும் எந்தெந்த நாட்டில் இருந்து வந்தவர்கள் என்ற அடிப்படையில்தான் மேற்படி மக்கள் தொகைக் கணக்கு எடுக்கப்பட்டு இருப்பதைப் பார்க்க முடிகின்றது.

ஆனால் ஈழத்தமிழர்களின் இளம் தலைமுறையினர் ஆங்கில மொழியில் படித்தவர்கள் "வீட்டில் பேசும் மொழி" என்னும் பகுதியை நிரப்பும்போது "தமிழ் மொழி" என்று குறிப்பிடாது.

"ஆங்கில மொழி" எனக்குறிப்பிடுவதால் மொத்தத் தமிழர்களின் எண்ணிக்கையைப் பெற முடியவில்லை. மேலும் வயது வந்த தமிழர்களும் ஆங்கில மொழியில் பேசுகின்ற தமிழர்களும் இலங்கையில் நடைபெறுகின்ற இனப் பிரச்சினை காரணமாக வீட்டில் பேசுகின்ற மொழி ஆங்கிலம் எனப் படிவங்களில் போடுவதாலும் தமிழர் பற்றிய மொத்தத் தொகையைப் பெற முடியாத நிலை இருக்கின்றது.

அதேபோன்று மேற்படி இலாகாவினரால் மேற்கொள்ளப்படும் குடிசன மதிப்பு எண்ணிக்கையின்போது "பிறந்த நாடு"

என்ற அடிப்படையிலும் மக்கள் தொகைக் கணக்கு எடுக்கப்படுகின்றது.

இதனால் அவுஸ்திரேலியாவிலும் ஏனைய நாடுகளிலும் பிறந்து வளர்ந்த இளம்தலைமுறையினர்கள் "பிறந்த நாடு" என்று பகுப்பினுள் இலங்கை என்று குறிப்பிடாமல் தாம் பிறந்த நாடு எதுவோ அவற்றையே குறிப்பிடுகின்றார்கள்.

இதன் விளைவாகத் தமிழ் இளம் தலைமுறையினரின் தொகை இக்கணக் கெடுப்பில் "இலங்கை" என்ற பகுப்பினுள் இடம்பெறாமல் போய்விடுகின்றது.

மத அடிப்படையில் ஈழத்தமிழர்கள் பெரும்பான்மையினர் இந்துக்களாகவும் சிறுதொகையினர் கிறிஸ்தவர்களாகவும் இருக்கின்றார்கள். சிங்கள இன மக்களில் சிறு தொகையினர் கிறிஸ்தவர்களாக இருக்கின்றார்கள்.

இதன் விளைவாக மத அடிப்படையிலும் இலங்கைத் தமிழரைச் சரியாகக் கணக்கிட முடியவில்லை.

எனவே அவுஸ்திரேலியாவில் இன அடிப்படையில் மக்கள் தொகைக் கணக்கெடுப்பு எடுக்காதவரை எத்தனை ஈழத் தமிழர்கள் அவுஸ்திரேலியாவில் உள்ளனர் என்று சரியாகக் கணிப்பது இயலாது.

இந்நிலையே ஈழத்தமிழர்கள் குடி பெயர்ந்து வாழுகின்ற சுமார் 16 நாடுகளில் இருப்பதை 2013-14 காலப்பகுதியில் இந்நூலாசிரியரின் ஆய்வுப் பயணத்தின்போது நேரில் கண்டறியக் கூடியதாக இருந்தது.

இதற்கான காரணங்களைக் கேட்ட பொழுது இன அடிப்படையில் மக்கள் தொகை கணக்கெடுப்பதை அந்த நாட்டு அரசாங்கங்கள் விரும்பவில்லை எனப் பொதுவாகத் தெரிவிக்கப்பட்டது.

இவ்வாறான பல்வேறுபட்ட சிக்கல்களுக்கு நடுவே அவுஸ்திரேலிய அரசின் குடிசன மதிப்பு இலாகாவினால் 1991 தொடக்கம் 2010 வரையில் எடுக்கப்பட்ட சனத் தொகைக் கணக்கெடுப்பினைப் பல்வேறு கோணங்களில் அலசி ஆராய்ந்து பார்த்த பொழுது சுமார் 20,000 இற்குக் கூடுதலாக 25 ஆயிரத்துக்கு உட்பட்ட ஈழத்தமிழர்கள் அவுஸ்திரேலியாவின் ஆறு மாநிலங்களிலும் நிரந்தரமாக வாழ்ந்து வருவதைக்காண முடிகின்றது.

இதில் நியூ சவுத்வேல்ஸ் மாநிலத்தில் கூடுதலாகவும் அடுத்ததாக விக்டோரிய மாநிலத்திலும் அதனைத் தொடர்ந்து குயின்ஸ்லாண்ட் மாநிலத்திலும் ஈழத் தமிழர்கள் அதிகளவில் தமது குடியிருப்புக்களை அமைத்து இருக்கின்றார்கள்.

ஏனைய மாநிலங்களில் மிகக் குறைந்த எண்ணிக்கையிலேயே ஈழத்தமிழர்கள் வாழ்ந்து வருகின்றார்கள்.

(தொடரும்)

டிப்பர் வாகனம் மோதியதில் 18 மாடுகள் உடல் சிதறிப் பலி! ஏ-35 வீதியில் துயரம்

(கண்டாவளை)

கிளிநொச்சி-பரந்தன் ஏ-35 வீதியின் வெலிக்கண்டல் சந்திப்புகுதியில் வாகனத்தில் மோதுண்டு 18 மாடுகள் உயிரிழந்துள்ளன. இத்துயரச் சம்பவம் கிளிநொச்சி-பரந்தன் முல்லைத்தீவு ஏ-35 வீதியில் நேற்று அதிகாலை இடம்பெற்றது.

விசுவமடு பகுதியில் இருந்து 35 வீதியூடாக வேகமாக வந்த டிப்பர் வாகனம் வீதியால் சென்ற மாடுகளை மோதித் தள்ளி விட்டு குறித்த டிப்பர் வாகனம் அப்பகுதியில் இருந்து

தப்பிச் சென்றுள்ளதாக இதனை அவதானித்தவர்கள் தெரிவித்தனர்.

கிளிநொச்சி இரணை மடுக்குளத்தின் கீழ் சிறு போக செய்கை மேற்கொள்ளப்பட்டுள்ள நிலையில்

கால்நடை பண்ணையாளர்கள் தமது கால்நடைகளை பயிர்ச்செய்கைக்கு உட்படாத பகுதியான வெலிக்கண்டல்பகுதியில் வைத்து பராமரித்து வருகின்ற நிலையில் இவ்வாறு விபத்து



விபத்துக்களால் உயிரிழந்தவர்களில் பெரும்பான்மை இளவயதினரே

(முற்கண்டம்)

கிளிநொச்சி மாவட்டத்தில் இடம்பெற்ற விபத்துக்களால் உயிரிழந்தவர்களில் 70 வீதமானோர் இளவயதுடையவர்கள் என கிளிநொச்சி வைத்தியசாலையின் சட்ட வைத்திய அதிகாரி தெரிவித்துள்ளார்.

கிளிநொச்சி வைத்தியசாலையில் நேற்று முன்தினம் காலை இடம்பெற்ற வீதி விபத்துக்கள் தொடர்பான செய்தியாளர் மாநாட்டிலேயே அவர் மேற்கண்டவாறு தெரிவித்தார்.

அவர் மேலும் தெரிவிக்கையில்,

அண்மைய நாட்களாக விபத்துக்களால் உயிரிழப்பவர்களின் வீதம் அதிகரித்துச் செல்கின்றது. குறிப்பாக டிப்பர் உள்ளிட்ட கனரக வாகனங்களாலேயே அதிகளவான விபத்துக்கள் ஏற்பட்டிருக்கின்றன. இந்த விபத்துக்களில் உயிரிழந்த

சட்ட வைத்திய அதிகாரி



தவர்களில் 70 வீதமானவர்கள் இள வயதுடையவர்களாகக் காணப்படுகின்றனர் எனத் தெரிவித்தார்.

இதேவேளை இளவயதுடையவர்களும் அதிகளவில் காயங்களுக்கு உள்ளாகியுள்ளதாகவும் குறிப்பிட்டார்.

கிளிநொச்சி மாவட்ட பொது வைத்தியசாலையிலே விபத்துக்களால் உயி

ரிழந்தவர்களது உடலங்கள் உரிய உடல் கூற்று பரிசோதனைகள் மேற்கொள்ளப்பட்டு உறவினர்களிடம் கையளிக்கப்படுகின்றன. அவர்களில் போதைப் பொருள் பாவனையினால் உயிரிழந்தவர்களின் எண்ணிக்கை என இதுவரை பதிவாகவில்லை எனவும் உயிரிழந்தவர்களின் உடல் கூற்று பரிசோதனைகள், இரத்த மாதிரிகளில் அவ்வாறு பதிவாகவில்லை எனவும் அவர் குறிப்பிட்டார்.

வீதி விபத்துக்களால் ஏற்படும் பாதிப்புகள் தொடர்பில் சாரதிகளும் பொது மக்களும் விழிப்புடன் செயற்பட்டால் மாத்திரமே தவிர்க்க முடியும் என அவர் மேலும் தெரிவித்தார்.

(4-5-100)

வடக்கிற்கான புகையிரத சேவை முடிமைக்குத் திரும்பியது

(நெளக்குளம்)

வவுனியாவில் நேற்று முன்தினம் அதிகாலை கொழும்பு நோக்கிச் சென்ற புகையிரதம் ஈரப்பெரியகுளம் புளாவை எல்லைப் பகுதியில் தடம்புரண்டதையடுத்து புகையிரதப் பாதை சீரமைப்புப் பணிகளும் தடம்புரண்ட புகையிரதப் பெட்டிகளை அகற்றும் பணிகளும் இடம்பெற்று பிற்பகல் 2.30 மணியளவில் வடக்கிற்கான புகையிரத சேவைகள் வழமையாகத் திரும்பின.

வவுனியாவில் நேற்று முன்தினம் அதிகாலை கொழும்புக்குச் சென்ற கடு

கதி புகையிரதம் ஈரப்பெரியகுளம் புளாவை எல்லைப் பகுதியில் புகையிரதப் பாதையைவிட்டு விலகி தடம்புரண்டுள்ளது. இதையடுத்து தடம்புரண்ட புகையிரதப் பெட்டிகளை கழற்றி விட்டு ஏனைய பெட்டிகளுடன் ஒரு மணி நேரத்தின் பின்னர் புகையிரதம் கொழும்பு நோக்கி தனது சேவையை மேற்கொண்டது.

இந்நிலையில் தடம்புரண்ட பெட்டிகளை அகற்றும் பணிகள் புகையிரத அதிகாரிகளினால் மேற்கொள்ளப்பட்டிருந்த அதே வேளை யாழ்ப்பாணத்தி

லிருந்து கொழும்பு நோக்கிச் சென்ற புகையிரதங்கள் அனைத்தும் வவுனியா புகையிரத நிலையத்தில் தரித்து வைக்கப்பட்டுள்ளதுடன் கொழும்பிலிருந்து யாழ்ப்பாணம் வந்த புகையிரதங்கள் மதவாச்சி புகையிரத நிலையில் தரித்து நிறுத்தப்பட்டிருந்தது. எனினும் பிற்பகல் 2.30 மணியளவில் புகையிரதப் பாதைகள் சீரமைக்கப்பட்டு தடம்புரண்ட புகையிரதப் பெட்டிகள் அங்கிருந்து அகற்றப்பட்டு வடபகுதிக்கான புகையிரத சேவைகள் வழமையாகத் திரும்பியது. (4-5-299)

நாடாளுமன்றத் தேர்தல் - 2020

யாழ்ப்பாணம், கிளிநொச்சி மாவட்டம்


தமிழ் மக்கள் தேசிய கூட்டணி

இருளைக் குறை கூறுவதால் ஆகப்போவது எதுவுமில்லை ஒளியை ஏற்றுவதே இருளைப் போக்குவதற்கான ஒரே வழி

ஒளியை ஏற்றும் பணி எம் இனிய மக்களிடம். தமிழ் மக்களுக்கான நேர்மையான அரசியல் தலைமையை உருவாக்க...



நதியரசர் சி.வி.விக்னேஸ்வரன்



10




தவச்செல்வம் சிற்பரன் (Architect மொரட்டுவ பக்கலைக்கழகம்)

பிள்ளைகளுக்கு சிறந்த எதிர்காலத்தை உருவாக்கும் நோக்கில் நாட்டைக் கட்டியெழுப்ப வேண்டும்

பிரதமர் திட்டவட்டம்

(கொழும்பு)

பிள்ளைகளுக்கு சிறந்த எதிர்காலத்தை உருவாக்கும் நோக்கில் நாட்டையும் தேசத்தையும் கட்டியெழுப்ப வேண்டும் என்றும் அதற்காக தனது கடமையை நிறைவேற்றுவதற்கான உரிய தருணம் தற்போது வந்துள்ளதாகவும் ஸ்ரீலங்கா பொதுஜன பெரமுனவின் தலைவர், பிரதமர் மகிந்த ராஜபக்ஷ தெரிவித்தார்.



குளியாப்பிட்டிய பிரதேசத்தில் நேற்று முன்தினம் நடைபெற்ற சந்திப்பொன்றின் போதே பிரதமர் இதனைத் தெரிவித்தார். அவர் மேலும் தெரிவிக்கையில், எதிர்கால சந்ததியினருக்காக தமது ஆட்சிக்காலத்தில் நிறுவப்பட்ட துறைமுகம், விமான நிலையம் போன்ற வளங்களை இருநூறு வருட காலத்திற்கு விற்பனை செய்வதற்கு கடந்த நல்லாட்சி அரசாங்கம் நடவடிக்கை மேற்கொண்டது. நாட்டின் வளங்களை இவ்வாறு விற்பனை செய்வது பாரிய

குற்றமாகும் என பிரதமர் இதன்போது சுட்டிக்காட்டினார்.

எதிர்கால சந்ததியினருக்காக ஏதேனும் மொன்றை விட்டுச்செல்ல வேண்டும் என்ற நோக்கத்துடனேயே தமது ஆட்சிக்காலத்தில் இவ்வாறானதொரு அபிவிருத்தி செயற்பாடு முன் எடுக்கப்பட்டதாக சுட்டிக் காட்டிய பிரதமர், எனவே இம்முறை தேர்தலில் இந்த செயல்கள் அனைத்தையும் மனதில் கொண்டு நன்கு சிந்தித்து மக்கள் தமது பொன்னான வாக்குகளை வழங்க வேண்டும் என்றும் தெரிவித்தார்.

தற்போது இரண்டாக பிளவுபட்டுள்ள ஐக்கிய தேசிய கட்சி சிறிகொத்தாவை கைப்பற்றுவதற்கே மக்களின் ஆணையைப்பெற முயற்சிக்கிறது எனத் தெரிவித்த பிரதமர், தான் மக்களின் ஆணையைக் கோருவது நாட்டின் கல்வி, சுகாதாரம், வேலை வாய்ப்பு அபிவிருத்தி மற்றும் கிராம மட்ட அபிவிருத்தி உள்ளிட்ட அபிவிருத்தி நடவடிக்கைகளை செயற்படுத்துவதற்கே என்றும் குறிப்பிட்டார். (ஜ-4)

ஐக்கிய அரபு இராச்சியத்திலிருந்து 298 பேர் நாடு திரும்பினர்

(கொழும்பு)

கொரோனா வைரஸ் தொற்று காரணமான ஐக்கிய அரபு இராச்சியத்தில் சிக்கியிருந்த 298 இலங்கையர்கள் நேற்று நாடு திரும்பினர். ஸ்ரீலங்கன் விமான சேவைக்கு சொந்தமான விசேட விமானம் ஒன்றின்

மூலம் குறித்த நபர்கள் வருகை தந்தனர். இவர்கள் அனைவரும் மத்தள விமான நிலையத்திற்கே அழைத்து வரப்பட்டனர். இவர்கள் அனைவரும் மத்தள விமான நிலையத்தில் வைத்து பி.சி.ஆர்.பரிசோதனைகளுக்கு உட்படுத்தப்பட்டனர். (ஜ-4)

கட்சி உறுப்புரிமையிலிருந்து விலகினார் ரோஹித போகொல்லாகம

(கொழும்பு)

ஐக்கிய தேசியக் கட்சியின் உறுப்புரிமையை முன்னாள் அமைச்சர் ரோஹித போகொல்லாகம இராஜினாமா செய்துள்ளார்.

இற்கமைய தாம் ஐக்கிய தேசியக் கட்சியின் பொதுத் தேர்தல் தேசியப் பட்டியல் மற்றும் கட்சியின் உறுப்புரிமையில் இருந்து விலகியுள்ளதாக ரோஹித போகொல்லாகம அறிவித்துள்ளார்.

இது தொடர்பிலான கடிதத்தை ஐக்கிய தேசியக் கட்சியின் பொதுச் செயலாளர் அகிலவிராஜ் காரியவசத்திற்கு அனுப்பி



வைத்ததாகவும் அவர் குறிப்பிட்டுள்ளார். இதற்கு முன்னர் ரோஹித போகொல்லாகம கிழக்கு மாகாண ஆளுநராகவும் செயற்பட்டிருந்தார் என்பது குறிப்பிடத்தக்கது. (ஜ-4)

ஹோட்டல் உரிமையாளர் படுகொலை 30 பேரிடம் வாக்குமூலம் பதிவு

(பிலியந்தல)

பிலியந்தல பகுதியில் உள்ள ஹோட்டல் ஒன்றின் உரிமையாளர் கொலை செய்யப்பட்ட சம்பவம் தொடர்பில் விசாரணைகள் முன்னெடுக்கப்பட்டுள்ளன.

இந்த நிலையில், சம்பவம் தொடர்பில் 30 பேரிடம் இதுவரை வாக்குமூலம் பெற்றுக்கொண்டுள்ளதாக பொலிஸார் தெரிவித்துள்ளனர்.

அத்துடன், சுற்றியுள்ள சி.சி.ரி.வி காட்சிகளை ஆய்வு செய்து வருவதாக பொலிஸ் தலைமையகம் கூறியுள்ளது.

50 வயதுடைய ஹோட்டல் உரிமையாளர் சடலமாக கடந்த 7 ஆம் திகதி மீட்கப்பட்டதுடன் அவரது மனைவி படுகாயமடைந்த நிலையில் களுபோவில் வைத்தியசாலையில் அனுமதிக்கப்பட்டுள்ளார் என்பது குறிப்பிடத்தக்கது. (ஜ-4)

இன்று ஒரு தகவல்

தென்கச்சி கோ. சுவாமிநாதன்

மனிதர்கள் ஜாக்கிரதை!

நாய்கள் ஜாக்கிரதை என்று அங்கங்கே பலகை மாட்டியிருக்கின்றதைப் பார்த்திருப்பீர்கள். காலம் போகின்ற போக்கைப் பார்த்தால் “மனிதர்கள் ஜாக்கிரதை என்று தெருவுக்குத் தெரு எழுதி மாட்டி வைக்கலாம் போல இருக்கு.

ஆமாம் சேர். இவன் எப்பொழுது வருவான்...? எந்த ரூபத்திலே வருவான்? என்ன செய்வான்? என்கிறதை உணிக்கிறது மிகவும் கஷ்டம். நுகர்வோர் பாதுகாப்பு (Consumer Protection) என்று எல்லோரும் சொல்கின்றார்களே... அந்தப் பாதுகாப்பு யாரிடம் இருந்தது? மனிதனிடம் இருந்து மனிதனைப் பாதுகாக்கின்ற ஒரு முயற்சியானே அது?

புலியும் சிங்கமும் வந்தால் இங்கே கலப்படம் செய்து கொண்டிருக்கு?

கரடியும் நரியும் வந்தால் வாய்ப்பான முத்திரையை குத்தி வியாபாரம் செய்து கொண்டிருக்கு? எல்லாம் மனிதன் செய்கின்ற தப்புத்தான்... மனிதனே அதற்கு பலியாகின்றான்.

மிளகாய்த் தூளிலே மரத்தூளை கலந்து விடுகின்றான் சேர். அதை வாங்கி ஆகா பேஷ்... என்று சமையல் செய்து சாப்பிட்டு விடுகின்றான். அதற்குப் பின் வயிறைப் பிடித்துக் கொண்டு நிற்கின்றான் வயிறு வலிக்குதே என்று.

மனிதனிலே உள்ள நம்பிக்கை மனிதனுக்கு நாளுக்கு நாள் குறைந்து கொண்டே தான் வருகின்றது.

இனிமேல் வருங்காலத்திலே மனிதனுடைய நடவடிக்கைகளை இயந்திரங்கள் கண்காணிக்க வேண்டிய கட்டாய சூழ்நிலை வந்து கொண்டிருக்கு. இப்பொழுது கேட்டால் ஆச்சரியப்படுவீர்கள். ஆனால் வரப் போகிறது என்னமோ உண்மை தான்.

யாருக்கும் தெரியாமல் ஒரு மனிதனுடைய நடவடிக்கைகளை கணனி மூலமாக கண்காணிக்க முடியும்.

தாய்லாந்திலே பதினைந்து வயதிற்கு மேற்பட்டவர்களுக்கெல்லாம் அடையாள அட்டை கொடுத்து விடுகின்றார்களாம். அதிலே அந்த நபருடைய வர்ணம் பட்டம், முகவரி, அடையாளக்குறி, கைரேகை, குடும்பப் பின்னணி, குற்றப்பட்டியல் எல்லாம் இருக்கும்.

சிங்கப்பூரிலே உள்ள 27 இலட்சம் மக்களுக்கு ஏற்கனவே இது மாதிரியான மின்னணு அடையாளச் சீட்டு கொடுத்து விட்டார்களாம். ஒவ்வொரு மோட்டார் வண்டியிலேயும் மின்னணு எண் பலகையும், சின்னக் கறுப்புப் பெட்டியும் பொருத்தப் போகிறார்களாம்.

தெருக்களிலே வீதியின் மேற்பரப்பிலேயும் உணர்வுகருவிகள் (Sensors) பொருத்தப்படும். இது மூலமாக தனி நபரின் வீதி உபயோகம் எவ்வளவு என்பதை கணக்குப் போடுகின்றார்களாம்.

சிறையிலேயிருந்து கைதிகள் விடுதலையாகுகின்றார்களே... அப்போ அவர்கள் உடம்பிலே மின்னணு முறையாலே அடையாளம் போட்டுவிடுகிறது... பின்பு அவர்கள் நடமாடத்தை கண்காணிக்கிறது... எங்கே போகின்றார்கள், வருகின்றார்கள் என்பது தெரிந்துவிடும். இந்தப் பழக்கம் இப்பொழுதும் அமெரிக்காவிலே உண்டாம். ஒலியெழுப்புகின்ற ஒரு கருவியை (Beeper) உடம்பிலேயே மாட்டிவிட்டு விடுகின்றார்கள். அதை ஒன்றும் செய்ய முடியாது. (Tamper proof beeper).

குற்றவாளி குறிப்பிட்ட எல்லையை மீறி எங்கேயாவது போனால்... அந்தக் கருவி சத்தம் போட்டு அதிகாரிகளுக்குக் காட்டிக் கொடுத்துவிடும்.

இன்னொரு குறிப்பிட்ட எல்லையை மீறி எங்கேயாவது போனால்.. அந்தக் கருவி சத்தம் போட்டு அதிகாரிகளுக்குக் காட்டிக் கொடுத்துவிடும். இன்னொரு செய்தி என்ன தெரியுமா?

வலது கையிலே மின்னணுச் சில்லு (chip) ஒன்றைப் பொருத்திக்கொள்கிறது.

கடையிலே போய் பொருட்கள் வாங்குகின்றோம். வாங்கிக் கொண்டு அதற்குப் பின்பு வலது கையை நுண்டம் எடுக்கின்ற கருவி (Scanner) மேலே காட்டினால் போதும் உங்கள் பேர் கணக்கிலே அந்த செலவு சரிக்கட்டப்படும்.

இன்னொரு நுண் சில்லு உண்டு... Micro chip. மிகச் சிறியது. இதை உணசி மூலமாக உடம்புக்குள்ளே செலுத்தி விடலாம். அதற்குப் பின் அந்த ஆள் எங்கே போனாலும் தெரிந்து போய்விடும். இப்பொழுது மிருகங்களுக்கு இதை செய்து கொண்டு இருக்கின்றார்களாம். மனிதன் தொடர்ந்து ஏமாற்றிக் கொண்டிருந்தால் அவனுக்கும் இது மாதிரி செய்ய வேண்டிய அவசியம் வந்துவிடும்.

இதையெல்லாம் நினைத்துப் பார்த்தாவது மனிதன் திருந்த வேண்டும். இன்னொருத்தரை ஏமாற்றுகின்ற வேலையை நிறுத்த வேண்டும். இல்லை என்றால் வருங்காலத்திலே இப்பொழுது நான் சொன்னதெல்லாம் வந்து தான் தீரும்! அவ்வளவு தூரத்திற்கு ஏன்? எழுத்திலே சுவட ஏமாற்று வேலை நடக்கின்றது சேர்? ஒரு ஆள் ஒரு புத்தகம் எழுதினார். “பணம் சம்பாதிக்க நூறு வழிகள்” என்று. இப்படி ஒரு புத்தகம் எழுதிவிட்டு அவரே பிச்சை எடுத்துக் கொண்டிருந்தார். என்ன இது? பணம் சம்பாதிக்க நூறு வழிகள் என்று புத்தகம் எழுதிவிட்டு... நீங்கள் பிச்சை எடுக்கின்றீர்களே என்று கேட்டார்கள். அதற்கு அவர்... “அந்த நூறு வழிகளிலே இதுவும் ஒரு வழி” என்றாராம்.

பச்சை நிறத்தை சஜித் அணி பயன்படுத்தக்கூடாது



(கொழும்பு)
ஐக்கிய தேசியக் கட்சியின் வர்ணமான பச்சை நிறத்தை தமது தேர்தல் பிரசார நடவடிக்கைகளின் போது பயன்படுத்துவதன் உட்பாக கட்சி ஆதரவாளர்களைக் குழப்புவதற்கு ஐக்கிய மக்கள் சக்தி முயற்சிப்பதாக ஐக்கிய தேசியக் கட்சியின் பொதுச்செயலாளர் அகிலவிராஜ் காரியவசம் குற்றஞ்சாட்டியதுடன் சஜித் பிரேமதாஸ தரப்பினர் பச்சை வர்ணத்தைப் பயன்படுத்துவதற்குத் தடை விதிக்க வேண்டும் என்றும் வலியுறுத்தினார்.

ஆணைக்குழுவிற்கு அகிலவிராஜ் கடிதம்

இதுகுறித்து தெளிவுபடுத்தி தேர்தல்கள் ஆணையாளர் மகிந்த தேசப்பிரியவிற்கு அவர் அனுப்பி வைத்திருக்கும் கடிதத்தில் இவ்வாறு குறிப்பிடப்பட்டுள்ளது. (ஐ-4)

இலங்கை மத்திய வாங்கி, நிலையான வைப்பு வசதி வீதம் மற்றும் நிலையான கடன் வழங்கல் வீதம் ஆகியவற்றைக் குறைக்க முடிவு செய்துள்ளது.

ஆன்மீகம்



ஒன்றையே பற்று, உறுதியாகப் பற்று!

நிற்கிறது. தமிழகத்தையே தலைநிமிர்வைக்கிறது. வயல்வெளியாக இருக்கும் இப்பகுதியில் இப்படி ஒரு கோயில் அமைப்பது சாத்தியமா என ராஜராஜன் தன் இலட்சியத்தில் பின்வாங்கியிருந்தால் அவன் இப்படி ஒரு பேர் வாங்கியிருக்க முடியுமா?

“குறியைக் குறியாது குறித்தறியும் நெறி” - என்று ஒரு சொற்றொடரை நம் சிந்தனைக்குத் தருகிறார் அருணகிரிநாதர். “வாக்கிற்கு அருணகிரி” என்று புலவர்களாலேயே புகழப்பெறுகின்ற அருணகிரிநாதர் சுந்தர் அநுபூதியில் காட்டும் மந்திரச்சொல் இது. ஏற்றுக் கொண்ட இலட்சியமே குறி. அந்தக் குறியில் மிகக் கவனமாக இருந்து வேறு எதையும் குறியாமல் அது ஒன்றையே உள்வாங்கிக் கொண்டு அதை நோக்கி நடைபோடுவதுதான் குறியை அடையும் நெறி என்கிறார். இதை மகாபாரத சம்பவம் ஒன்று மனதில் பதியும்படி விளக்குகின்றது. குருநாதராகப் பாண்டவர்களுக்கும் கௌரவர்களுக்கும் அமைந்தவர் துரோணர். அவர் ஒருநாள் குருகுலத்தில் மாணவர்களுக்கு குறி பார்த்து கணை விடும் பயிற்சி வகுப்பை எடுத்தார். அடர்ந்து வளர்ந்திருந்த ஒரு மரம். அந்த மரத்தின் ஒரு கிளையில் ஒரு காக்கை பொம்மையைக் கட்டி வைக்கச் சொன்னார். துரோணர் அனைவரையும் அழைத்தார். “இந்தக் காக்கை தான் உங்கள் குறி. அம்பைச் செலுத்தி அதைக் கீழே வீழ்த்துபவனுக்கு ஒரு அன்பளிப்பு கட்டாயம் உண்டு. ஒரே முறைதான் கணை செலுத்த வேண்டும்” என்றார். எல்லோரும் ஆடாமல் அசையாமல் வில்லும் அம்பும் ஏந்தி நின்றார்கள். துரோணர் “துரியோதனா! இலட்சியத்தைப் பார்க்கின்றாயா?” என்றார். “பார்க்கின்றேன்” என்றான் துரியோதனன்.

அப்போதைக்கு அப்போது தோன்றி மறைவது ஆசை! ஒன்றையே எப்போதும் உள்ளத்தில் இருத்தி ஒளிர வைப்பதே இலட்சியம். இலட்சியம் என்று ஒன்றை வகுத்துக் கொள்ளாத மனிதன் தன் வாழ்வையே அலட்சியம் செய்கிறான் என்பதுதான் பொருள். ஆசை என்பது ஒரு மாம்பழத்தைச் சாப்பிடுவது போன்றது என்பது ஒரு மாந்தோப்பை உருவாக்குவது போன்றது.

நம்மால் அதையெல்லாம் நடத்திக்கூடாட்ட முடியுமா என்று நினைக்காமல் சாதிக்க முடியும் என்று நம் முன்னோர்கள் எண்ணியதால்தான் கட்டாந்தரைகள் கட்டடங்கள் ஆகியிருக்கின்றன. பொட்டல் காடுகள் பூஞ்சோலைகளாக மாறியிருக்கின்றன. வறண்ட பிரதேசங்கள் வயல்வெளிகளாக உருப்பெற்றிருக்கின்றன.

“கண்ணில் தெரியும் பொருளினைக் கைகள் கவர்ந்திட மாட்டோவோ? - அட மண்ணில் தெரியுது வானம் - அது நம் வசப்படலாகாதோ?”

-என்றான் மகாகவி பாரதி
“எண்ணிய நான் எண்ணியவாறு எனக்கருளும் தெய்வம்” என்று பாடுகிறார் வள்ளற்பெருமான். அயர்ச்சி இல்லாத முயற்சி நம்மை உயர்ச்சியில் வைக்கிறது. மருந்துக்குக்கூட கல் கிடைக்காத மருத நிலப்பகுதியில் - தஞ்சையில் - குறிஞ்சியைக் கொண்டு வந்தானே ராஜராஜ சோழன். பெரிய கோயில் - பெரிய நந்தி - பெரிய லிங்கம் எல்லாம் எப்படி வந்தன? “பெரிதினும் பெரிது கேள்” என்ற பாரதியின் வாக்கிற்கிணங்க அவன் எண்ணம் பெரிதாக இருந்தது. இலட்சியம் உறுதியாக இருந்தது.

அதனால்தான் தஞ்சை பெரிய கோயில் இப்போது தமிழகத்தில் தலைநிமிர்ந்து

“காக்கை பொம்மை கட்டிய கிளை தெரிகின்றதா?”
“தெரிகின்றது”
“மரம் தெரிகின்றதா?”
“தெரிகின்றது”
“நான் தெரிகின்றேனா?”
“தெரிகின்றீர் குருநாதரே!”
துரியோதனா! கீழே வில்லை வைத்துவிட்டு துரியோதனன் நிலத்தில் வில்லை வைத்தவுடன் தருமர் தொடங்கி அனைத்து மாணவர்களையும் அழைத்து மேற்கண்ட கேள்விகளையே கேட்டார். அனைவரும் துரியோதனன் சொன்னவாறே பதில் கூறினார்கள். முடிவில் அர்ஜுனனை அழைத்தார். (தொடரும்)

செய்தீர்துளிகள்

பொருளாதார மீளுருவாக்கம் மத்திய வாங்கி சலுகை!

(கொழும்பு)
இலங்கை மத்திய வாங்கி, நிலையான வைப்பு வசதி வீதம் மற்றும் நிலையான கடன் வழங்கல் வீதம் ஆகியவற்றைக் குறைக்க முடிவு செய்துள்ளது.

இலங்கை மத்திய வாங்கியின் நாணய சபையின் கூட்டம் நேற்று முன்தினம் புதன்கிழமை இடம்பெற்ற நிலையில் இந்த முடிவு எடுக்கப்பட்டுள்ளது. இதன்படி, தலா 100 அடிப்படைப் புள்ளிகள் மூலம் நிலையான வைப்பு வசதி 4.50 சதவீதமாகவும் மற்றும் கடன் வழங்கல் வீதம் 5.50 ஆகவும் குறைக்கப்பட்டுள்ளது.

கொரோனா நெருக்கடி காரணமாக ஏற்பட்டுள்ள பொருளாதார தொய்வு நாட்டின் பொருளாதார வளர்ச்சியில் கணிசமான தாக்கத்தை ஏற்படுத்தியுள்ளது. இந்தத் தாக்கம் 2020 ஆம் ஆண்டின் இரண்டாம் காலாண்டில் கடுமையாக ஏற்பட்டுள்ளது.

எனவே, பொருளாதார மீளுருவாக்கம் எதிர்பார்க்கப்படும் நிலையில் ஆண்டின் இரண்டாம் பாதியில் நாணய மற்றும் நிதி ஊக்க நடவடிக்கைகளின் ஆதரவுடன், வளர்ச்சியை ஊக்குவித்தல், நம்பிக்கையை மேம்படுத்துதல், பொருளாதார கட்டமைப்பை உயர்த்துவது கட்டாயமாகின்றது என்பது குறிப்பிடத்தக்கது. (ஐ-4)

ஹெரோயின், தோட்டாக்களுடன் மூன்று பெண்கள் கைது

(கொழும்பு)
ஹீங்கம் பொலிஸ் பிரிவிற்குட்பட்ட பகுதியில் மேற்கொள்ளப்பட்ட சுற்றிவளைப்பின் போது ஹெரோயினுடன் மூன்று பெண்கள் கைது செய்யப்பட்டுள்ளனர்.

நேற்று முன்தினம் மாலை 4.30 மணியளவில் மேற்கொள்ளப்பட்ட சுற்றிவளைப்பின் போது குறித்த பெண்கள் கைது செய்யப்பட்டுள்ளனர்.

இதன்போது குறித்த பெண்களிடம் இருந்து 52 கிராம் 615 மில்லிகிராம் ஹெரோயின், 9 மில்லி மீற்றர் துப்பாக்கிகளுக்கு பயன்படுத்தும் தோட்டாக்கள் 2, மகசின் ஒன்று, சட்டலை தொலை பேசி ஒன்று மற்றும் 4 கையடக்கத் தொலைபேசிகள் கைப்பற்றப்பட்டுள்ளன. (ஐ-4)

சந்தைகளில் நேற்றைய விலை

மரக்கறி வகைகள்	திருநெல்வேலி மருதனார்மடம் சாவகச்சேரி கிளிநொச்சி			
	ரூபா	ரூபா	ரூபா	ரூபா
கத்தரிக்காய்	60	80	50	80
உருளைக்கிழங்கு	140	140	160	200
பச்சையளிகாய்	140	120	180	300
தக்காளி	130	150	120	160
மரவள்ளிக்கிழங்கு	120	120	110	100
கோவா	150	120	120	140
கரட்	120	140	140	200
பூசணி	40	35	40	60
புடோல்	50	80	60	120
வாழைக்காய்	140	100	80	100
சின்ன வெங்காயம்	120	100	240	150
பெரிய வெங்காயம்	70	90	80	100
பாகற்காய்	180	240	220	200
வெண்டிக்காய்	60	80	60	80
கருணைக் கிழங்கு	120	130	100	120
பயற்றங்காய்	80	100	60	60
லீக்ஸ்	150	110	140	120
பீற்றூட்	100	100	100	120
கறியின்காய்	180	180	240	240
முருங்கைக்காய்	150	150	140	200
போஞ்சி	160	130	140	160
கத்தரிதம்புள்ளி	50	60	--	60
கீரை - 1 பிடி	30	25	30	20
தேசிக்காய்	300	200	300	300
தேங்காய் (ஒன்று)	60	50	50	60-80
இராசவள்ளி	--	250	300	280
வெங்காயப்பூ	220	240	--	--
முள்ளங்கி	80	90	--	80
பொன்னாங்காணி	40	25	40	30
வல்லாரை	15	50	20	20
ஈரப்பலா	50	60	50	60

ஒரு காட்டில் சிங்கம் ஒன்று வாழ்ந்து வந்தது. அது அங்கிருந்த பிராணிகளை தன் உணவுக்காக தொடர்ந்து வேட்டையாடியது. இதனால் காட்டில் உள்ள பிராணிகள் பயத்துடனேயே வாழ்ந்து வந்தன.

நாளுக்கு நாள் சிங்கத்தின் தொல்லை அதிகரித்தது. அதனால் எல்லாப் பிராணிகளும் சேர்ந்து ஒரு முடிவுக்கு வந்தன. சிங்கத்திடம் சென்று, நீங்கள் சாப்பிடுவதற்காக எங்களில் ஒருவர் ஒவ்வொரு நாளும் உங்கள் இருப்பிடத்துக்கு அனுப்பி வைக்கப்படுவர்.

இனிமேல் வேட்டையாடுவதற்கு வெளியில் வர வேண்டிய அவசியம் இல்லை என்றது. அதற்கு சிங்கமும் சரி என்றது.

முயல் செல்ல வேண்டிய முறை வந்தது. நண்பர்களே! எனக்கு சற்று அவகாசம் தாரங்கள். எனது தந்திரத்தால் நீங்களும் சிங்கத்தின் அநியாயத்திலிருந்து தப்ப வழி பிறக்கும். வருங்கால சந்ததிகள் காட்டில் நிம்மதியாக வாழ முடியும் என்றது.

பிறகு முயல் தாமதமாகச் சிங்கம் இருக்கும் இடத்திற்கு



சிங்கத்தை ஏமாற்றிய முயல்

சென்றது. சிங்கம் முயலை நோக்கி அட அறிவு கெட்டவனே ஏன் இவ்வளவு தாமதம்? என்று கேட்டது.

முயல், அரசே நான் வரும் வழியில் என்னை இன்னொரு சிங்கம் தாக்க வந்தது. அதனிடம் இருந்து நான் தப்பித்து வர தாமதமாகி விட்டது என்றது.

என்னைப்போல் ஒருவனா? இந்த காட்டிற்கு நான் மட்டும் தான் ராஜாவாக இருக்க வேண்டும். முதலில் அவனை அழித்தால் தான் நமக்கு தினமும் சரியாக உணவு கிடைக்கும் என்று சிங்கம் நினைத்தது.

அதனால் புதிதாக காட்டுக்குள் வந்திருப்பவனை கொல்ல நினைத்து முயலிடம் அவன்



இருக்கும் இடத்தைக் காட்டு, முதலில் அவனைக் கொன்று விட்டுப் பிறகு உன்னை சாப்பிடுகிறேன் என்றது.

முயல் தந்திரமாக சிங்கத்தை தூரத்தில் தெரியும் கிணற்றுக்கு அழைத்துச் சென்றது. இந்த கிணற்றில் தான் அந்த சிங்கம்

பதுங்கியிருக்கிறது என்றது.

சிங்கம் கிணற்றுக்குள் எட்டிப் பார்த்தது. அதில் சிங்கத்தின் முகம் தெரிந்தது. அது தன்னுடைய முகம் தான் என்று அறியாத சிங்கம் தன்னுடைய எதிரி என்று நினைத்து அவனை அழிக்க நினைத்து கிணற்றுக்குள் குதித்தது.

றுக்குள் குதித்தது.

சிங்கம் கிணற்றுக்குள் விழுந்த பின் முயல் மற்றப் பிராணிகளை நோக்கி சந்தோஷத்தால் துள்ளிக் குதித்து ஓடியது. சிங்கம் இறந்து போனது. மற்றப் பிராணிகளிடம் சென்று நம்முடைய எதிரி அழிந்து விட்டான் என்று சந்தோசத்தில் கத்திச் சொன்னது.

முயலின் இச்செய்தியைக் கேட்ட பிராணிகள் அனைத்தும் ஒன்று கூடி மகிழ்ச்சி ஆரவாரம் செய்தன. காட்டு மிருகங்கள் அனைத்தும் முயலுக்கு மரியாதை செய்தன. அனைத்து மிருகங்களும் நிம்மதியாக வாழ்ந்தன.

நீதி:
கோபத்தில் எடுக்கும் முடிவு சரியாக இருக்காது.

ராஜராஜ சோழப்பேரரசின் வரலாறு

கொடுங்கோன் மற்றும் சிம்ம விஷ்ணுவிடம் தோல்வியடைந்த களப்பிரர்கள், பல்லவர் காலத்தில் சிற்றரசர்களாக அடங்கிப் போனார்கள்.

இந்தச் சிற்றரசர்களையும் முதலாம் நரசிம்ம வர்மனும் இரண்டாம் நந்திவர்மனும் வென்று களப்பிரர்களை துளிச் சுவடி ல்லாமல் மறையச் செய்தார்கள். தமிழகம், மீண்டும் மூவேந்தர்களின் ஆட்சியின் கீழ் வந்தது.

களப்பிரர்களுக்கு அடுத்து தமிழகம் பல்லவர்களின் கட்டுப்பாட்டுக்குள் கொண்டு வரப்பட்டது.

அக்காலக்கட்டத்திலும் சோழர்களின் ஆதிக்கம் சொல்லிக்கொள்ளும் படியாக இல்லை.

கி.பி.875 வரை சோழர்களால் தலையெடுக்க முடியவில்லை. ஆட்சியதி காரம் முற்றிலும் பறிக்கப்பட்டுச் சோழர்களின் எதிர்காலமே கேள்விக் குறியாக இருந்த காலமது.

கி.பி.5இலிருந்து 8ஆம் நூற்றாண்டு வரை பழையாறை, உரகபுரம் ஆகிய ஊர்களில் மட்டுமே சோழர்கள் வாழ்ந்து வந்தார்கள். தவிரவும், செல்வாக்கு இல்லாத அக் கால

வீரப்பரம்பரை



கட்டத்தில் சோழர்கள் காவிரிக்கரையோரமாக வாழ்ந்து முற்றிலுமாக நசிந்து போகாமல் பலர் தங்கள் இருப்பிடங்களை விட்டுத் தெலுங்கு, கன்னட நாடுகளுக்கு குடி பெயர்ந்தார்கள். அவர்கள் ரேனாண்டுச் சோழர்கள் என்றழைக்கப்பட்டார்கள்.

எப்படி ராஜராஜன் காலத்தில் தஞ்சாவூருக்கு ஒரு தனிச்சிறப்பு இருந்ததோ, அதுபோல அதற்கு முன்னர் சோழர்களின் வாழ்விடமாக இருந்தது, பழையாறை. இது நீண்ட வரலாறு கொண்ட நகரம் ஆகும்.

இங்கே வரலாற்றுக் காலத்துக்கு முந்தைய முதலக்கள் தாழிகளும் பாணையோடுகளும் ஏராளமாகக் கிடைத்துள்ளன. சோழர் காலத்தில் அது பழைய ஆறை என்றும் அழைக்கப்பட்டது.

பல்லவர்கள் தென்னாட்டை ஆண்ட சமயத்தில் பழையாறை சோழர்களின் தலைநகரமாக இருந்திருக்கிறது. பழையாறை சோழர்களின் தலைநகரமாக இருந்திருக்கிறது. பழையாறையில் வாழ்ந்து கொண்டு பல்லவர்களுக்கு அடிபணிந்து வரி செலுத்திக் கொண்டிருந்தார்கள் சோழர்கள்.

மீண்டும் விஜயாலய சோழனால் சோழர் ஆட்சி திரும்பிய போதும் பழை

யாறையின் முக்கியத்துவம் குறையவில்லை. சோழ அரசின் தலைநகரமாகத் தஞ்சை மாற்றப்பட்டாலும் சோழர்களின் பல மாளிகைகள் பழையாறையில் தான் இருந்தன. (கல்கியின் பொன்னியின் செல்வனில் பெரும்பாலான நிகழ்ச்சிகள் பழையாறையில் தான் நிகழ்கின்றன)

களப்பிரர்களிடமிருந்து காஞ்சியை மீட்ட பல்லவர்கள், மீதமுள்ள குறுநில மன்னர்களையும் தோற்கடித்துக் காவிரிக்கரை வரை தங்கள் அதிகார எல்லையை விரிவுபடுத்தினார்கள். திருப்பம் கி.பி. 850இல் வந்தது. அதை விஜயாலய சோழன்

ஏற்படுத்தினார்.

திருவாலங்காட்டுச் செப்பேடு, அந்தத் திருப்பத்தை அதாவது, விஜயாலய சோழன் தஞ்சையைக் கைப்பற்றி சோழராஜ்ஜியத்தை நிறுவியதை இவ்வாறு கூறுகிறது.

'கோச்செங்கணான் மரபில், வெற்றிக்கு இருப்பிடமாயும் தோள் வலிமை கொண்டவனாயும் மன்னர்களால் வணங்கப்படும்பாதபீடம் உடைய வளாகவும் திகழ்ந்த விஜயாலயப்பிறந்தான்'

என்று வர்ணிக்கும் அந்தச் செப்பேடு, அழகான மாளிகைகள் உடைய தஞ்சாபுரியை விஜயாலய சோழன் வென்றான் என்கிறது.

சோழர்களுக்கு முன்னால் தஞ்சையை ஆண்டவர்கள், பாண்டியர்களோ, சோழர்களோ, சேரர்களோ அல்லர். முத்தரையர்கள் என்கிற ஓர் இனத்தவர் தஞ்சையை ஆண்டு வந்தார்கள்.

இவர்கள் தமிழ்நாட்டைச் சேர்ந்தவர்கள் அல்லர். எப்படி, இரண்டாம் நூற்றாண்டில் கர்நாடகாவிலிருந்து களப்பிரர்கள் தமிழ்நாட்டுக்குள் நுழைந்தார்களோ, அதுபோல இவர்களும் கர்நாடகாவிலிருந்து தமிழ்நாட்டைச் சேர்ந்தவர்கள் அல்லர். (தொடரும்)

இராசிபலன்

10.07.2020
 ஆனி 26, வெள்ளிக்கிழமை
 பஞ்சமி பிற்பகல் 12.52 மணிவரை
 பூரட்டாதி முழுவதும்
 சுபநேரம் 5.58 - 7.28 மணிவரை
 இராகுகாலம் 10.28 - 11.58 மணிவரை
 சந்திராஷ்டமம் மகம்

வளவன்

	ஆற்றல் மிக்கவர்களின் ஒத்துழைப்பு கிடைக்கும், பயணங்கள் கைகூடும் வாய்ப்புண்டு, மதிப்பும் மரியாதையும் உயரும் நாள், வருமானம் திருப்தி தரும் வகையில் அமையும்.
	வழிபாட்டில் ஆர்வம் காட்டுவீர்கள், சமுதாயத்தில் உயர்ந்த நிலைக்கு வரத் தோன்றும், உறவினர்களும் நண்பர்களும் வலிய வந்து உதவுவார்கள், போசன நன்மை யுண்டு.
	வழிபாட்டால் சிறப்பினைக் காண வேண்டிய நாள், இழுபறியாக இருந்த காரியங்களில் முன்னேற்றம் காண்பீர்கள், பகை விலகி பாசம் கூடும் நாள்.
	கவலைகள் தீர கண்பதியை வழிபட வேண்டிய நாள், நேசித்த ஒருவருடன் யோசித்துப் பேசும் சூழ்நிலை ஏற்படலாம், திருடர் பயமுண்டு, மருத்துவச் செலவுகள் ஏற்படும் வாய்ப்புண்டு.
	தொலைபேசி வழியில் சுப தகவல்கள் வந்து சேரலாம், சிந்தனை ஆற்றலால் சிறப்படைவீர்கள், வருமானம் திருப்தி தரும் வகையில் அமையும், போசன நன்மையுண்டு.
	பல நாட்களாக வசூலிக்காமல் இருந்த கடன்கள் திடீரென வசூலாகலாம், வழிபாட்டில் ஆர்வம் காட்டுவீர்கள், முன்னேற்றம் பெற பெரிதும் பாடுபடுவீர்கள்.
	நிதிநிலை உயர்ந்து நிம்மதி கிடைக்கும், வளர்ச்சி கூடும் நாள், கோரிக்கைகள் நிறைவேற கோயிலுக்குச் செல்ல வேண்டிய நாள், பிள்ளைகளின் நலனில் அக்கறை கூடும்.
	உறவினர் வருகையுண்டு, வாகன சுகமுண்டு, குடும்பத்தினர்களின் தேவைகளைப் பூர்த்தி செய்யும் எண்ணம் உருவாகும், வழிபாட்டுச் சிந்தனை மேலோங்கும் நாள்.
	நேற்றை பிரச்சினையொன்று இன்று நல்ல முடிவுக்கு வரலாம், வெளியூர்த் தொடர்புகள் அனுசூலம் தரும், வியாபார விரோதம் விலகும், பயணங்கள் கைகூடும்.
	பிரியமான சிலரின் சந்திப்பு இடம் பெறலாம், பொது வாழ்வில் புகழ் கூடும் நாள், அதிர்ஷ்டகரமான நாள், தொலைபேசி வழியில் சுப தகவல்கள் வந்து சேரலாம்.
	வழிபாட்டில் ஆர்வம் கூடும், சான்றோர்களின் சந்திப்பால் சந்தோசமடைவீர்கள், தொழில் நலன்கருதி முக்கிய முடிவுகள் எடுப்பீர்கள், போசன சுகமுண்டு.
	எப்படி நடக்குமோவென நினைத்த காரியம் நல்லவிதமாக அமையலாம், உடன் பிறப்புக்கள் உங்களின் முன்னேற்றத்தில் அக்கறை காட்டுவர், வருமானம் திருப்தி தரும்.

உன்னை எரித்தாலும் அகில் போல மனம் பரப்பு


கொரோனாவின் இரண்டாவது அலையை தடுக்கும் பொறுப்பு பொதுமக்களுக்கும்

முன்னாள் சபாநாயகர் கரு சுட்டிக்காட்டு

(கொழும்பு)

வெலிக்கடை சிறைச்சாலையில் கைதி ஒருவருக்கு கொரோனாவை வரஸ் தொற்று உறுதி செய்யப்பட்டிருக்கும் நிலையில், மக்கள் தமது அனைத்துவித செயற்பாடுகளையும் உயர் சுகாதாரப் பாதுகாப்பு நடைமுறைகளைப் பின்பற்றி மேற்கொள்ள வேண்டும் என்று வலியுறுத்திய முன்னாள் சபாநாயகர் கரு ஜயசூரிய, கொவிட்-19 வைரஸ் பரவலின் இரண்டாவது அலை ஏற்படுவதைத் தடுக்கும் பொறுப்பு பொதுமக்களுக்கும் இருக்கிறது என்றும் சுட்டிக்காட்டினார்.

வெலிக்கடை சிறைச்சாலையிலுள்ள கைதி ஒருவருக்கு கொரோனா வைரஸ் தொற்றுக்கு உள்ளாகியிருப்பது உறுதி செய்யப்பட்டதையடுத்து அங்கு கைதிகளைப் பார்வையிடுவதற்கு வழங்கப்பட்டிருந்த அனுமதி தற்காலிகமாக இடைநிறுத்தப்பட்டிருப்பதுடன்.



Karu Jayasuriya @KaruOnline

As a prison inmate tested positive for Covid-19, people must switch back to the highest safety protocols in all activities. Washing hands or wearing masks must not be a mere health ritual. Preventing a second wave is a common responsibility of the government and the people alike.

8:14 AM · Jul 8, 2020 · Twitter Web App

சிறைச்சாலையிலும் கந்தக் காட்டிலுள்ள போதைப்பொருட்களுக்கு அடிமையானவர்களுக்குப் புனர்வாழ்வளிக்கும்

நிலையத்திலும் பலரைத் தனிமைப்படுத்துவதற்கும் நடவடிக்கை எடுக்கப்பட்டுள்ளது. இந்நிலையில் முன்னாள்

சபாநாயகர் கரு ஜயசூரிய தனது டுவீட்டர் பதிவில் குறிப்பிட்டுள்ளதாவது.

தற்போது சிறைக்கைதி ஒருவர் கொவிட்-19 கொரோனா வைரஸ் தொற்றுக்கு உள்ளாகியிருப்பது உறுதிப்படுத்தப்பட்டிருப்பதால், அனைத்து செயற்பாடுகளின் போதும் மக்கள் உயர் சுகாதாரப் பாதுகாப்பு நெறிமுறைகளைப் பின்பற்ற வேண்டியது அவசியமாகும்.

அவ்வப்போது கைகளைக் கழுவவதும் முகக்கவசம் அணிவதும் வெறுமனே கட்டாயத்தின் பேரில் செய்கின்ற ஓர் சடங்கு போன்று இருக்கக் கூடாது. நாட்டில் கொரோனா வைரஸ் பரவலின் இரண்டாவது அலை ஏற்படுவதைத் தடுப்பது அரசாங்கத்திற்கும் மக்களுக்கும் பொதுவான பொறுப்பாகும் என்று குறிப்பிட்டுள்ளார். (ஜ-4)

பிணைமுறி மோசடி விவகாரம்

ரணிலும் அவரது சகாக்களும் ஒருபோதும் தப்பிக்க முடியாது-சசில்

(கொழும்பு)

பிணைமுறி மோசடியில் இருந்து முன்னாள் பிரதமர் ரணில் விக்கிரமசிங்க மற்றும் அவரது சகாக்கள் ஒருபோதும் தப்பிக்க முடியாது என முன்னாள் பாராளுமன்ற உறுப்பினர் சசில் பிரேம ஜயந்த தெரிவித்தார்.

பொதுஜன பெரமுனவின் காரியாலயத்தில் நேற்று இடம் பெற்ற உட்கவியலாளர் சந்திப்பில் கலந்து கொண்டு கருத்துரைக்கையில் அவர் மேற்கண்டவாறு குறிப்பிட்டார்.

அவர் மேலும் தெரிவிக்கையில்,

பிணைமுறி கொடுக்கல்-வாங்கல் விநியோக மோசடி தொடர்பில் முன்னாள் பிரதமர் ரணில் விக்கிரமசிங்க பொறுப்பற்ற விதத்தில் கருத்துரைக்கிறார். மோசடி தொடர்பில் பொறுப்புக்கூறலில் இருந்து இவரும். மோசடி இடம்பெறவில்லை என்று குறிப்பிட்டு புத்தகம் வெளியிட்ட ஐக்கிய



மக்கள் சக்தியினரும் விலக முடியாது.

பிணைமுறிகள் விநியோகத்தில் மோசடி இடம்பெற்றது என எதிர்த்தரப்பினர் குறிப்பிட்டபோது அதனை அப்போதைய ஆளும் தரப்பினர் எதிர்த்தார்கள்.

குற்றச்சாட்டு தொடர்பில் ஆராய்வதற்கு ரணில் விக்கிரமசிங்க நீதியரசர்கள் மூவரை உள்ளடக்கிய பிடியாணைக் குழுவை நியமித்தார்.

மோசடிகள் இடம்பெறவில்லை என்றே அறிக்கை சமர்ப்பிக்கப்பட்டது. பின்னர் அறிக்கையின் உள்ளடக்கங்

களும் பொய்யாக்கப்பட்டன.

மோசடி தொடர்பில் ஆராய்ந்த முதலாவது கோப் குழுவின் அறிக்கையை பாராளுமன்றத்திற்கு சமர்ப்பிக்காத வகையில் ரணில் விக்கிரமசிங்க அரசியல் காய் நகர்த்தி பாராளுமன்றத்தை கலைத்தார்.

இதன் காரணமாக பல விடயங்கள் வெளியாகவில்லை. தற்போது ஜனாதிபதி விசாரணை ஆணைக்குழுவின் உட்கவியலாளர்கள் உறுதிப்படுத்தப்பட்டுள்ளன. ஆகவே கடந்த அரசாங்கத்தில் அங்கம் வகித்தவர்கள் அனைவரும் பொறுப்புக்கூற வேண்டும்.

அத்துடன் அரசியலமைப்பின் 19 ஆவது திருத்தத்தை மாற்றியமைத்து புதிய திருத்தத்தை உருவாக்க வேண்டுமாயின் ஸ்ரீலங்கா பொதுஜன பெரமுன மூன்றில் இரண்டு பெரும்பான்மை ஆசனங்களை பெற வேண்டும் என்றும் அவர் வலியுறுத்தினார். (ஜ-4)

முகக்கவசம் அணியாதோர் மீது சட்டரீதியான நடவடிக்கை

வடக்கு சுகாதாரப் பணிப்பாளர் எச்சரிக்கை

(யாழ்ப்பாணம்)

“வடமாகாணத்தின் பல இடங்களில் பொதுமக்கள் முகக் கவசம் அணியாது நடமாடுவது அவதானிக்கப்பட்டு முறைப்பாடு செய்யப்பட்டுள்ளது. இது தொடர்பாக இனிவரும் நாட்களில் மிகவும் இறுக்கமாக கண்காணிக்கப்பட்டு சட்டரீதியான நடவடிக்கை எடுக்கப்படும்.”

இவ்வாறு வடக்கு மாகாண சுகாதார சேவைகள் பணிப்பாளர் மருத்துவர் ஆ.கேதீஸ்வரன் அறிவித்துள்ளார்.

இதுதொடர்பில் அவர் நேற்று மாலை வெளியிட்டுள்ள சிறப்பு ஊடக அறிக்கையில் தெரிவிக்கப்பட்டுள்ளதாவது,

நமது நாட்டில் கோரோனா நோய் தொடர்பான அபாயம் தொடர்ந்தும் இருப்பதால் மக்கள் தங்கள் வீடுகளுக்கு வெளியே செல்லும் பொழுது முகக் கவசம் அணிவதும், குறைந்தது இருவருக்கிடையில் ஒரு மீற்றர் இடைவெளியை பேணுவதும், சரியான முறையில் கைகளை அடிக்கடி கழுவவதும் பொதுச் சுகாதார பாதுகாப்பு

நடைமுறைகளாக கைக்கொள்ளப்பட்டு வருகின்றன.

மேலும் தற்போது நமது நாட்டில் மக்கள் வீட்டிற்கு வெளியில் செல்லும் போதும், பொது இடங்கள் மற்றும் பொது நிகழ்வுகளுக்கு வருகை தரும் பொழுதும், முகக்கவசம் அணிவது கட்டாயமாக்கப்பட்டுள்ளது. அவ்வாறு முகக் கவசம் அணியாது நடமாடுபவர்களுக்கு எதிராக சட்டரீதியான நடவடிக்கை எடுக்கப்படுவதுடன் 14 நாட்கள் கட்டாய தனிமைப்படுத்தலுக்கும்

உட்படுத்தப்படுவார்களென ஏற்கனவே அறிவிக்கப்பட்டுள்ளது.

இருப்பினும் வடமாகாணத்தின் பல இடங்களில் பொதுமக்கள் முகக் கவசம் அணியாது நடமாடுவது அவதானிக்கப்பட்டு முறைப்பாடு செய்யப்பட்டுள்ளது. இது தொடர்பாக இனிவரும் நாட்களில் மிகவும் இறுக்கமாக கண்காணிக்கப்பட்டு சட்டரீதியான நடவடிக்கை எடுக்கப்படும்.

எனவே மக்கள் பொது இடங்களில் நடமாடும்போது கட்டாயமாக முகக்கவசம் அணிவதை உறுதிப்படுத்துவதன் மூலம் தங்களையும் தங்கள் சமூகத்தினையும் கொரோனா நோய் தொற்றிலிருந்து பாதுகாத்துக்கொள்வதுடன் கட்டாய தனிமைப்படுத்தலுக்கு உள்ளாவதை தவிர்த்துக் கொள்ளுமாறும் கேட்டுக்கொள்கின்றோம் என்றுள்ளது. (ம-3)

வலம்புரி

விளம்பரத் தொழிலுக்கு
021 221 7603, 021 567 1532

கணக்கீடு

புதிய மாணவர் வருகையால்		
புதிய அலகுகள், புதிய பிரிவுகள் நாளை ஆரம்பம்		
A/L 2022	ஆரம்பம்	11a.m
A/L 2022	கணக்கு சமன்பாடு	10a.m
A/L 2021	உற்பத்தி கிரயக் கூற்று	9a.m
A/L 2020	சம்பளப் பட்டியல்	8a.m
A/L 2020 Day	கம்பனி (திங்கள் - வெள்ளி)	3 - 5p.m

கருத்தரங்கு ஒவ்வொரு செவ்வாய் - 3 p.m
[மாத சேவைக் கட்டணம் ரூபாய் 300/- மட்டும்]

கடந்த வருட பெறுபெற்றில் யாழ். நிலை 01,02 மற்றும் தொடர் நிலைகள் பெற்ற மாணவர்களை உருவாக்கிய

S.தவா

D.C.Mn யாழ். நகர்
(யாழ்/வேம்படி மகளிர் உயர்தர பாடசாலை அருகாமை)
தொடர்பு :- 077 239 5858

வடக்கு கிழக்கு தமிழ் மக்களுக்கு தேர்தல் தொடர்பில் அக்கறையில்லை மகிந்த தேசப்பிரிய தெரிவிப்பு

(கொழும்பு)
வடக்கு கிழக்கு தமிழ் மக்களிடம் தேர்தல் தொடர்பில் அக்கறையின்மை ஏற்பட்டுள்ளதாக தேர்தல் ஆணைக் குழுவின் தவிசாளர் மகிந்த தேசப்பிரிய

தெரிவித்துள்ளார்.

தேர்தல் செயலகத்தில் நேற்று ஊடக பிரதானிகளை சந்தித்த போதே அவர் இதனைக் கூறினார்.

தேர்தலின் முக்கியத்துவம் தொடர்பில் மக்களுக்கு ஊடகங்கள் தெளிவுப்படுத்த வேண்டும். இதேவேளை எதிர்வரும் தேர்தலில் மக்கள் அச்சமின்றி வாக்களிக்க முடியும்.

கொரோனா அச்சம் நீங்கவில்லை என்பதை அனைவரும் மனதில் வைத்துக்கொள்ள வேண்டும். தேர்தலை விட மக்களின் உயிரே எமக்கு மேலானது. இதற்கு அமைவாகவே வாக்களிப்பு நிலையங்களில் அனைத்து ஏற்பாடுகளும் செய்யப்பட்டுள்ளன. இம்முறை தேர்தல் பணிகளில் இராணுவத்தினரை ஈடுபடுத்தப் போவதில்லை என்றார்.. (ம-3)

விற்பனைக்கு / குத்தகைக்கு

2ஆம் குறுக்குத்தரு, பருத்தித்துறை (பருத்தித்துறை மத்திய சந்தைக்குப் பின்புறமாக) 2 பரப்புக் காணியுடன் கூடிய இரண்டு கட்டையுடன் கூடிய பேக்கரி விற்பனைக்கு அல்லது குத்தகைக்கு விடப்படும்.

நிறுவனமாகவும் அல்லது பேக்கரியாகவும் பாவிக்கும் வகையில் உள்ளது. விரும்பிய வர்கள் தொடர்பு கொள்ளவும்.

தொடர்புகளுக்கு (C-9867)
077 421 5879

AMC ACADEMY
Clock Tower Road, Jaffna.
PERSONAL CLASSES

	Medium	
A/L Accounting 2020, 21,22	Tamil	English
AAT ALL Stages	✓	✓
External B.Com	✓	✓
EB Exam	✓	—
Gr. 7 All Subjects	—	✓

A.Kalaichelvan 077 694 4543

இலங்கை விசா நீடிப்பு

வெளிநாட்டிலிருந்து இலங்கை வருவோருக்கான இலங்கை விசா நீடிப்பு யாழ்ப்பாணத்திலேயே செய்து கொடுக்கப்படும்.

VISA EXTENSION (விசா நீடிப்பு) FOR FOREIGN PASSPORT

வந்து கிளைகள்

யாழ்ப்பாணம்	கிளிநொச்சி
நேல்வேடி	கொழும்பு
புதுக்குடியிருப்பு	கன்னடகம்
மருதகோணம்	பருத்தித்துறை
சாவகச்சேரி	திருகோணாலை
என்பாடி	வெட்டித்துறை

V2 TRAVELS 0768227499

பயிற்சியுடன் வேலை வாய்ப்பு
உடனடி

தகுதி - 30 மணிக்கு உட்பட்டவர்கள் - O/L, A/L வகுப்பினர் விடுமத்தக்கு (இருபாலாறும்)

விமானப் பயணச்சீட்டுக்கள் விரைவுப் பொதிகள் சேவை விசா சேவைகள் V2 TRAVELS

வந்து கிளைகள்

கிளிநொச்சி	கன்னடகம்	● பயிற்சியை அளிப்போம் - 10'000/-
சாவகச்சேரி	என்பாடி	● யாழ்ப்பாணம் குடிசை சந்தை அடிப்படையில்
நேல்வேடி	பருத்தித்துறை	● யாழ்ப்பாணம் குடிசை சந்தை அடிப்படையில்
பொலன்னேறு	வெட்டித்துறை	● ஆரம்ப சம்பளம் - 15'000/-
என்பாடி		

16/1, மாற்குளையக்கட்டம் கல்நாரியார் வீதி, யாழ்ப்பாணம்.
0768226243
v2vacancies@gmail.com

நடைப்பயிற்சியில் ஈடுபட்டவர்கள் மீது மோ.சைக்கிள் மோதியதில் சாவகச்சேரியில் 3பேர் காயம்

(சாவகச்சேரி)
நடைப்பயிற்சியில் ஈடுபட்டவர்கள் மீது மோட்டார் சைக்கிளில் வந்தவர் மோதி விபத்துக்குள்ளாக்கியதில் 3 பேர் காய மடைந்துள்ளனர்.

ஏ 9 வீதி, சாவகச்சேரி பகுதியில் நேற்று இரவு இந்த விபத்து இடம்பெற்றுள்ளது.

சாவகச்சேரியிலிருந்து யாழ்ப்பாண திசையாக ஏ 9 வீதியால் இருவர் நடைப்பயிற்சியில் ஈடுபட்டிருந்தபோது, மோட்டார் சைக்கிளில் பின்னால் வந்தவர் அவர்கள் மீது மோதியுள்ளார்.

இதில் மூவரும் காயமடைந்தனர். மருதங்கேணி பிரதேசசெயலக உத்தியோகத்தரான மதிதரன் என்பவர் கால் முறிந்த நிலையிலும், தவராசா பாஸ்கரன் (வயது-43) என்பவர் தலையில் காயமடைந்த நிலையிலும் வைத்தியசாலையில் அனுமதிக்கப்பட்டனர்.

விகிதவா
கல்வி நிறுவனம்
52, ஸ்ரான்லி வீதி, யாழ்ப்பாணம்

O/L Day Class
(8.00 to 2.00)

புதிய பிரிவினருக்கான அனுமதிக்கள் வழங்கப்படுகின்றன. (C-9866)

T.P : 076 482 4490

நிரு ரீயுசன் சென்ட்ரர்

A/L 2022
புதிய பிரிவு

கலை, வர்த்தகம், தொழில்நுட்பம்

ஆரம்பம் :- 11.07.2020
சனி காலை 7 மணி (3250)

மோட்டார் சைக்கிளை செலுத்தி சென்ற, யாழ்ப்பாணத்தை சேர்ந்த வர்த்தக நிலைய உரிமையாளரான சண்முகநாதன் பிரதீபன் (வயது-38) என்பவரே அவர்கள் மீது மோதினார். விபத்தின் போது அவரும் காயமடைந்து வைத்தியசாலையில் அனுமதிக்கப்பட்டார். அவர்கள் மேலதிக சிகிச்சைக்காக யாழ் போதனா வைத்தியசாலைக்கு மாற்றப்பட்டனர். (ம-3)

காரைநகர் வியாவில் பதி
ஆதிஷேத்திரம் திருவருள்மித
பூரண புட்கல சமேத
ஹரி ஹர புத்ர ஜயப்பசுவாமி
தேவஸ்தானம்
திவ்விய மகோற்சவம் - 2020

கொடியேற்றம் (ஆனி 27)
11.07.2020 (சனிக்கிழமை) பகல் 10.30 மணி
தேர்த்திருவிழா 19.07.2020 (ஞாயிற்றுக்கிழமை)
காலை 7.00 மணிக்கு வசந்தமண்டப யுகை ஆடம்பெற்று
9.00 மணியளவில் தேர் வீதி உலா நடைபெறும்.

குறிப்பு :- கொரோனாத் தொற்றுக் காரணமாக அனைத்து அடியார்களும் சுகாதார நடைமுறைகளைப் பின்பற்றுமாறு தயவுடன் வேண்டப்படுகின்றனர்.

வியாவில் ஜயனார் தேவஸ்தானம். ஆலய அறங்காவலர்
விளம்பர அனுசரணை

கஜமுகன் ஹாட்லெயர்ஸ்
147, 149, ஸ்ரான்லி வீதி, யாழ்ப்பாணம்.
021 222 7144 (C-9855)

வேண்டும்

வெளிநாடுகளுக்கான துரித தபால்கள் பொதிகள் சேவை

அசாதாரண சூழ்நிலை காரணமாக முடங்கியிருந்த எமது சேவை மீண்டும் வழமைபோல் அனைத்து நாடுகளுக்கும் 100% பாதுகாப்புடன் நடைபெறுகின்றது. (C-9831)

அருள் குளோபல் எக்ஸ்பிரஸ்

இல.01, பிறவுண் வீதி, நாவலர் வீதிச் சந்தி, யாழ்ப்பாணம்
தொ.பே:- 021 222 6113

அருள்ஸ் (பிறைவேற்) லிமிடெடட்

இல.10, புதிய மாநகர சபை கட்டிடத் தொகுதி, கஸ்தூரியார் வீதி, யாழ்ப்பாணம்
தொ.பே:- 021 222 3536