

பொருளியல்

பல்தேர்வு வினாக்கள்

கோ்ளி 01 - 05

M.C. சதாசரன் B.Com (Hons), PG Dip in Edu

பொருளியல்

பஸ்தேர்வு வினாக்கள்

[தேர்ச்சி 01 – 05]

1000 M.C.Qs

with

Answers

M.C. சுதாகரன் B.Com (Hons) PG Dip in Edu.

Subject : *Economics*

Title : *Multiple Choice Questions
(Component 01 – 05)*

Author : *Mr. M.C. Suthakaran*

Copy Right : *Mrs. Raseetha Suthakaran*

Edition : *1st Edition – March 2008 (500 MCQs)*
2nd Edition – July 2014 (1000 MCQs)

Pages : *Viii + 215*

Copies : *2000*

Address : *“Thishalaya”
Maligawaththai,
Chankanai.*

[REDACTED] : **[REDACTED]**

Publisher : *MCS Publication
Chankanai.*

Printers : *Sairam Printers, Chankanai.*

Price : *700 LKR.*

சமர்ப்பணம்

இன்னல்களை இதயத்திலே தாங்கி
வன்னிப் பெருநிலப் பரப்பெங்கும்
இன்முகத்துடன் உன்னத சேவைபுரியும்
ஆசியர்களுக்குச் சமர்ப்பணம்.

ஆசியுரை

திரு. M.C. சதாசுரன் அவர்கள் சிறந்த பொருளியல் ஆசிரியராக கிளி/அக்கராயன் மகா வித்தியாலயத்தில் பணிபுரிகின்றார். வணிகப் பட்டதாரியான அவர் பொருளியல் கற்பித்தலில் ஏறத்தாழ இரு தசாப்தங்களாக ஈடுபட்டு வருகின்றார். எமது வலயத்தின் பொருளியல் பாட வளவளராகவும், பிரபல பொருளியல் ஆசிரியராகவும் தொழிற்படுபவர்.

க. பொ. த. உயர்தரப் பரீட்சைக்குத் தோற்றும் கலை, வர்த்தக, தொழில்- நுட்பத்துறை சார்ந்த மாணவர்களால் விருப்புடன் கற்கும் ஒரு பாடமாக பொருளியல் விளங்குகின்றது. தனது நீண்டகால கற்பித்தல் அனுபவத்தின் மூலம் பரீட்சையில் உயர்புள்ளிகளைப் பெற்றுத்தரும் பல்தேர்வு வினாக்களை விடைகளுடன் தொகுத்துள்ளமை பொருளியல் மாணவர்களுக்குப் பெரிதும் வரப்பிரசாதமாகும்.

புதிய பாடத்திட்டத்திற்கு தமிழில் போதியளவு நூல்கள் இல்லாத நிலையில் இவ் வெளியீடு மிகவும் வரவேற்கத்தக்கதாகும். ஆசிரியரின் முயற்சியைப் பாராட்டுவதுடன் எம் மாணவ சமூகத்திற்குத் தேவையான மேலும் பலநூல்களை வெளியிட வேண்டுமென இறையாசியை வேண்டுகின்றேன்.

திரு. க. முருகவேல்
வலயக் கல்விப் பணிப்பாளர்,
வலயக் கல்வி அலுவலகம்,
கிளிநொச்சி.

09.07.2014

வாழ்த்துரை

சாதனைகளைச் சவாலாக ஏற்று வீறுநடைபோடும் தொழில்நுட்ப உலகில் பொருளியல் துறை இன்றியமையாததாக உள்ளது. இத்துறையில் அதி உயர் தேர்ச்சியினைப் பெறுவதன் மூலம் தொழில் வாய்ப்புக்களைப் பெற்றுக்கொள்ள முடியும்.

இதனடிப்படையில் எமது கல்லூரியின் பொருளியல் பாட ஆசிரியராகப் பணிபுரிந்து வருகின்ற திரு. M.C.சுதாகரன் அவர்கள் 1000 பஸ்தேர்வு வினாக்களை உள்ளடக்கி இந்நூலை வெளியீடு செய்வதனைக் காணமுடிகின்றது. க.பொ.த (உ/த) பொருளியல் மாணவர்களுக்கு இந்நூல் ஒரு கொடையாக இருக்கும் என்பது எனது கருத்தாகும்.

மேலும் ஒரு வணிகப்பட்டதாரியான இவர் பொருளியலில் இருதசாப்த காலங்களாக கற்பித்தல் அனுபவங்களைப் பெற்று புதிய பாடத்திட்டத்திற்கு அமைவாக முதல் 05 தேர்ச்சிகளையும் உள்ளடக்கி இந்நூலை வெளியிட்டுள்ளார்.

இவ் ஆசிரியரின் அயராத முயற்சி ஓயாத அலையாக என்றும் ஓங்கி ஒலிக்க வேண்டும். M.C.சுதாகரன் அவர்கள் தனது துறையின் பொருட்டு மென்மேலும் பல நூல்களை வெளியீடு செய்ய வேண்டுமெனவும், எனது வாழ்த்தினையும் தெரிவித்துக் கொள்கின்றேன்.

திரு.க. மதுரநாயகம்

அதிபர் .

கிளி/அக்கராயன் மகா வித்தியாலயம்,

அக்கராயன் குளம்.

கிளிநொச்சி.

02.07.2014

அணிந்துரை

மிக வேகமாக வளர்ந்து வரும் இன்றைய உலகில் பொருளியல் துறை மிகவும் பிரதான இடத்தைப் பெற்றுள்ளது. க.பொ.த உயர்தரத்தில் பொருளியலை ஒரு பாடமாகக் கற்கின்ற தமிழ் மொழிமூல மாணவர்களுக்கு “பொருளியல் பஸ்தேர்வு வினாக்கள்” எனும் இந்நூல் ஒரு வரப்பிரசாதமாக அமையும் என நம்புகின்றேன்.

க.பொ.த உயர்தரத்தைப் பொறுத்தவரையில் போட்டிப் பரீட்சைக்கு மாணவர்கள் தம்மைத் தயார்ப்படுத்துவதிலும் ஆசிரியர்கள் மாணவர்களைத் தயார்ப்படுத்துவதிலும் பலத்த சிரமங்களை எதிர் நோக்குகின்றனர். இந்நிலையில் இந்நூல் பொருளியல் கற்கும் மாணவர்களுக்கும் கற்பிக்கும் ஆசிரியர்களுக்கும் பேருதவியாக அமையும்.

பொருளியல் பாடத்தில் தேர்ச்சி 01 தொடக்கம் 05 வரையான பகுதியில் அமையக்கூடிய பஸ்தேர்வு வினாக்களை விடைகளுடன் ஆக்கி இலகு மொழி நடையில் 1000 வினாக்களை நூலாசிரியர் தொகுத்துள்ளார். மாணவர்கள் பஸ்தேர்வு வினாக்கள் பகுதியில் அதிக புள்ளிகளைப் பெறுவதிலுள்ள இடர்பாடுகளை களைய முடியும் என்பதில் ஐயமில்லை.

M.C. சுதாகரன் தனது 19 வருட கற்பித்தல் அனுபவத்தினை இந்நூலில் வெளிப்படுத்தியிருக்கின்றார். அவர் தொடர்ந்தும் இவ்வாறான முயற்சியில் ஈடுபட வேண்டும் என வாழ்த்தி அதற்கு எல்லாம் வல்ல இறைவன் துணை புரிய வேண்டும் என பிரார்த்திக்கின்றேன்.

திரு.தி.சிவரூபன்

சேவைக்கால ஆசிரிய ஆலோசகர் (வர்த்தகம்)

வலயக் கல்வி அலுவலகம்,

கிளிநொச்சி.

07.07.2014

முன்னுரை

சமூக விஞ்ஞானக் கற்கையிலும் வணிகக் கற்கையிலும் “பொருளியல்” முக்கியமானதாக உள்ளது. உயர்தர பொருளியல் மாணவர்கள் பொருளியல் பாடவினாத்தாளில் கட்டுரை அமைப்பு வினாக்கள், கணக்குகள் என்பவற்றில் உயர் புள்ளிகளைப் பெறுகின்றபோதும் 50% முக்கியம் பெறும் பஸ்தேர்வு வினாக்களில் புள்ளிகளைப் பெரிதும் இழக்கின்றனர். இந்நிலையைக் கருத்திற் கொண்டே முதல் ஐந்து தேர்ச்சிகளையும் (தரம் 12) உள்ளடக்கி 1000 பஸ்தேர்வு வினாக்களை விடைகளுடன் தொகுத்துள்ளேன். இவற்றைக் கசடறக் கற்பதன் மூலம் பரீட்சையில் சிறப்பான புள்ளிகளைப் பெற்று தமது இலக்கினை அடையமுடியும் என்பது எனது நம்பிக்கையாகும். இந்நூலில் கடந்த கால வினாக்கள், பல்வேறு பரீட்சை வினாக்கள் என்பவற்றையும் எனது நீண்டகால அனுபவத்தின் வாயிலான வினாக்களையும் தொகுத்துள்ளேன். இந்நூல் பொருளியல் சார்ந்தவர்களுக்கு நிச்சயம் உதவுமென நம்புகின்றேன்.

இந்நூலுக்கு ஆசியுரைகள் வழங்கிய கிளிநொச்சி வலயக் கல்விப் பணிப்பாளர் உயர்திரு.க.முருகவேல் அவர்களுக்கும் கிளி/அக்கராயன் மகாவித்தியாலய அதிபர். திரு.க.மதுரநாயகம் அவர்களுக்கும் கற்பித்தல் செயற்பாட்டிற்குத் துணை புரிகின்ற கிளி/மத்திய மகாவித்தியாலய அதிபர். திரு.மு.ரவீந்திரன் அவர்களுக்கும் அணிந்துரை வழங்கிய கிளிநொச்சி கல்வி வலய வர்த்தக பாட சேவைக்கால ஆசிரிய ஆலோசகர் திரு.தி.சிவரூபன் அவர்களுக்கும் என்னையும் நூலையும் அறிமுகப்படுத்திய கிளிநொச்சி வலய பிரதிக் கல்விப் பணிப்பாளர் (க/அ) திரு.சு.ஸ்ரீகுமரன் அவர்களுக்கும் என் நன்றியறிதல்களைத் தெரிவித்துக் கொள்கின்றேன்.

மேலும் எனது நூலாக்கத்திற்கு வீட்டில் சகல வழிகளிலும் ஒத்துழைத்த என் அன்பார்ந்த குடும்பத்தினருக்கும் அழகுற அச்சமைத்த சாய்ராம் பிறிண்டேர்ஸ் முகாமைப் பணிப்பாளர் த.ததீஸ்வரன், பி.இராஜேந்திரன் அவர்களுக்கும் மனமார்ந்த நன்றிகளைத் தெரிவித்துக் கொள்கின்றேன்.

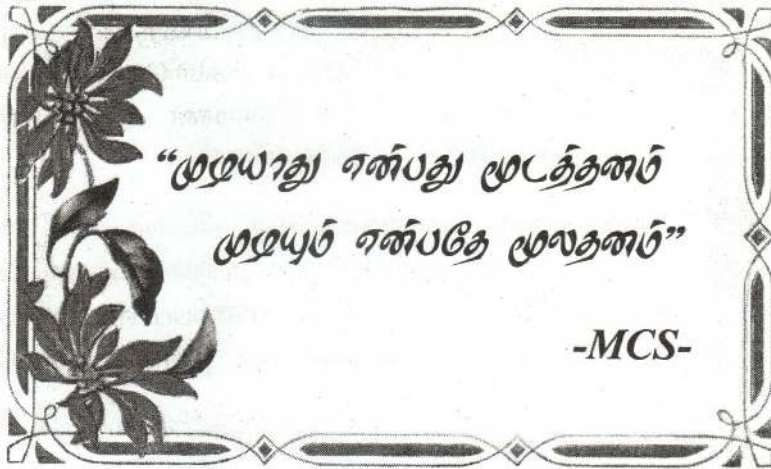
நூலாசிரியன்.

M.C.சுதாகரன்

11.07.2014

பொருளடக்கம்

	பக்கம்
➤ தேர்ச்சி 01	01 – 46
➤ தேர்ச்சி 02	47 – 99
➤ தேர்ச்சி 03	100 – 140
➤ தேர்ச்சி 04	141 – 180
➤ தேர்ச்சி 05	181 – 213
➤ விடைகள்	214 – 215



தேர்ச்சி - 01

பொருளாதார அமைப்பொன்றில் அழிப்படைப் பொருளாதாரப் பிரச்சனைகளைத் தீர்த்தல்.

1. பொருளியல் ரீதியாகச் சிந்தித்தல் என்பதனால் கருதப்படுவது
 - 1) நுகர்வோர் உற்பத்தியாளர் ஒருமித்து தீர்மானம் மேற்கொள்ளல்.
 - 2) மொத்த வருமானத்தையும் மொத்தச் செலவையும் ஒப்பீடு செய்து தீர்மானம் எடுத்தல்.
 - 3) சராசரி வருமானத்தையும் சராசரிச் செலவையும் ஒப்பீடு செய்து தீர்மானம் எடுத்தல்.
 - 4) எல்லை நன்மையையும் எல்லைச் செலவையும் ஒப்பீடு செய்து தீர்மானம் எடுத்தல்.
 - 5) இலாபம் நட்டம் என்பவற்றை கருத்தில் கொண்டு தீர்மானம் எடுத்தல்.
2. பின்வருவனவற்றில் நியமக் கூற்றாக அமைவது எது?
 - 1) பொருளியலாளர்கள் பொருளாதார வளங்களை நிலம், உழைப்பு, மூலதனம், முயற்சியென வகைப்படுத்துகின்றனர்.
 - 2) சூழல் என்பது ஓர் அருமையான வளத்திற்கான ஓர் உதாரணமாகும்.
 - 3) வருமானம் உயர்வடையுமாயின் ஆடம்பரப் பண்டங்களின் விற்பனை வீழ்ச்சியடையும்.
 - 4) அளவற்ற விருப்பங்களைப் பூர்த்தி செய்யும் பொருட்டு பொருளாதாரங்கள் வரையறுக்கப்பட்ட வளங்களையே கொண்டுள்ளன.
 - 5) சமமற்ற வளப்பகிர்வானது நியாயமற்ற ஒன்றாகும்.
3. நீர் ஏற்றுக்கொள்ளும் கூற்று எது?
 - 1) வரையறையற்ற மனித விருப்பங்கள் பூர்த்தி செய்யப்படாத நிலை வறுமை ஆகும்.
 - 2) தேவைகள் வரையறையற்றவை.
 - 3) மனித தேவைகள் பொருட்கள் சேவைகளால் மட்டும் பூர்த்தி செய்யப்படுவதில்லை.
 - 4) மனித விருப்பங்களைப் பூர்த்தி செய்யும் பல்வேறு வடிவங்களே தேவைகளாகும்.
 - 5) மனிதன் அவசியம் நிறைவு செய்துகொள்ள வேண்டிய இயல்புக்க நிலைமைகள் விருப்பங்களாகும்.
4. ஒரு பொருளாதார பண்டத்தின் சிறப்பியல்பு என்ன?
 - 1) நுகர்வோன் தேவையினைத் திருப்திபடுத்தும் பொருளாக இருத்தல்.
 - 2) அப்பொருள் மனித வாழ்விற்கு முக்கியமானதாக இருத்தல்.
 - 3) வழங்கப்படும் பொருள் உற்பத்திச் சாதனங்களின் பயன்பாட்டை ஏற்படுத்துவதாக இருத்தல்.

தேர்ச்சி - 01 - M.C.Q

- 4) இப்பொருளை உற்பத்தி செய்வது இலாபகரமுடையதாக இருத்தல்.
 - 5) தனியாரால் உற்பத்தி செய்யப்படுவதாக இருத்தல்.
5. பின்வருவனவற்றில் எது உற்பத்திக் காரணியாகும்?
 - 1) நிறுவனங்களால் உழைக்கப்பட்ட இலாபங்கள்.
 - 2) நிறுவனங்களுக்கு சொந்தமான அல்லது வாடகைக்கு பெறப்பட்ட நிலம்.
 - 3) நிறுவனங்கள் அவற்றின் வங்கிக் கணக்குகளில் வைத்துள்ள பணம்.
 - 4) ஊழியத்தின் விளைதிறன்.
 - 5) விளம்பரச் செலவுகள்.
 6. பொருளாதார ரீதியான பிரதிபலனுக்காக ஊழியத்தை நிரம்பல் செய்யத் தயாராக உள்ள பிரிவினராக கருதப்படாதவர்கள் யார்?
 - 1) தொழில் வழங்குனர்கள்
 - 2) தொழிலற்றோர்
 - 3) சம்பளம் பெறாத குடும்ப ஊழியர்
 - 4) சுயதொழிலில் ஈடுபடுவோர்
 - 5) சிரமதான வேலை செய்வோர்
 7. பின்வருவனவற்றுள் சமூகப்பொதுப்பணி மூலதனம் எது?
 - 1) துறைமுகங்கள்
 - 2) மின்சார வழங்கல்
 - 3) விமான நிலையங்கள்
 - 4) குடிநீர் விநியோகம்
 - 5) நீர்பாசன முறைகள்
 8. கிடைத்தக்க வளங்களுடன் மனித விருப்பங்கள் முழுமையாகப் பூர்த்தி செய்ய முடிவதில்லை என்ற உண்மையை விளக்கும் பிரச்சனை
 - 1) அமையச் செலவு
 - 2) அருமை
 - 3) தெரிவுப் பிரச்சனை
 - 4) எதனை உற்பத்தி செய்வது?
 - 5) யாருக்காக பங்கீடு செய்தல்?
 9. தனியார் பண்டங்களையும் பொதுப் பண்டங்களையும் உற்பத்தி செய்யும் ஒரு பொருளாதாரத்தைக் கருதுக. அப்பொருளாதாரம் உற்பத்திசாத்திய எல்லையில் செயற்படும் போது பொதுப்பண்டங்களின் உற்பத்தியில் ஏற்படும் அதிகரிப்பு
 - 1) தனியார் பண்டங்களின் உற்பத்தியைப் பாதிக்கமாட்டாது.
 - 2) தனியார் பண்டங்களின் அமையச் செலவை உயர்த்தும்.
 - 3) பொதுப் பண்டங்கள் போட்டியற்றனவாதலால் மொத்த உற்பத்தியை அதிகரிக்கும்.
 - 4) தனியார் பண்டங்களின் உற்பத்தி குறைவதைக் குறிக்கும்.
 - 5) உற்பத்திச் சாத்திய எல்லைக்கோட்டை இடப்புறமாக நகர்த்தும்.
 10. உற்பத்திசாத்திய வளையியை வரைவதற்கு பயன்படுத்தப்படும் எடுகோள் அல்லாதது எது?
 - 1) இரு பொருட்கள் மட்டும் உற்பத்தி செய்யப்படுதல்.
 - 2) நாட்டில் அசாதாரண நிலை காணப்படுகின்றது.
 - 3) நாடு முழு வேலைவாய்ப்பிலும் உச்ச திறமையிலும் அதாவது முழு உற்பத்தியிலும் உள்ளது.

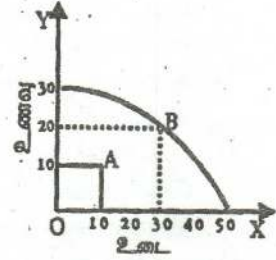
தேர்ச்சி - 01 - M.C.Q

- 4) கிடைத்தக்க எல்லா வளங்களின் அளவும் நிலையானது.
- 5) தொழில்நுட்பம் நிலையானது.

11. பொருளியல் கருத்தின் படி இலவசப் பொருட்கள் விபரிக்கும் சிறந்த முறையாவது, அப்பொருள்

- 1) நுகர்வோருக்கு பூச்சிய விலையில் கிடைக்கும் என்பதாகும்.
- 2) உற்பத்தியில் அருமையான வளங்கள் பயன்படுத்தப்படுவதில்லை என்பதாகும்.
- 3) அரசாங்கத்தினால் இலவசமாக வழங்கப்படும் என்பதாகும்.
- 4) நிலம் அல்லது கடலிலிருந்து நேரடியாக பெறப்படுகிறது என்பதாகும்.
- 5) நிலையான அமையச் செலவில் உற்பத்தி செய்யப்படமுடியும் என்பதாகும்.

12. இங்கு காட்டப்பட்டுள்ள வரைபடம் ஒரு பொருளாதாரத்தின் உற்பத்தி அயல்தகவு வளையியைக் காட்டுகிறது. இப் பொருளாதாரத்தின் உற்பத்தி மட்டமானது புள்ளி A இருந்து B நோக்கி மாற்றமடைவதன் அமையச் செலவானது



- 1) 20 அலகு ஆடைகளாகும்.
- 2) பூச்சியமாகும்.
- 3) 10 அலகு உணவு ஆகும்.
- 4) ஓரலகு உணவுக்கு 1/2 அலகு ஆடைய ஆகும்.
- 5) 30 அலகு ஆடைகளும் 20 அலகு உணவுமாகும்.

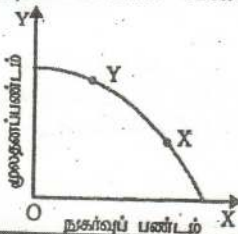
13. உலகில் கலப்புப் பொருளாதார முறைமைகள் காணப்படுவதற்கான ஓர காரணம் யாதெனில்

- 1) தாராளச் சந்தைப் பொருளாதாரங்கள் வளங்களை திறன்மிக்க விதத்தில் ஒதுக்கீடு செய்வது என்பதாகும்.
- 2) இலாபம் உழைக்கும் நோக்கமானது புதிய நிறுவனங்கள் கைத்தொழிலில் பிரவேசிப்பதை அதைரியப்படுத்தும் என்பதாகும்.
- 3) போட்டித் தன்மையானது எப்போதுமே விரும்பத்தக்க ஒன்றன்று என்பதாகும்.
- 4) தாராளச் சந்தைப் பொருளாதாரம் வருமானப் பங்கீட்டு சமமின்மைகளை உருவாக்கலாம் என்பதாகும்.
- 5) தாராளச் சந்தைப் பொருளாதாரத்தில் ஊழிய உற்பத்தித்திறன் குறைவென்பதாகும்.

14. கட்டில்லா சந்தைப் பொருளாதாரமொன்றிற்கும் ஒரு மத்திய திட்டமிட்ட பொருளாதாரத்திற்குமிடையிலான முக்கிய வேறுபாடுகளிலொன்று யாதெனில், முன்னையதில்

தேர்ச்சி - 01 - M.C.Q

- 1) சில சாதனங்கள் தனியார் துறைக்கும் வேறு சில அரசுக்கும் உடமையாகவிருத்தலாகும்.
 - 2) சந்தைப் பொருளாதாரமொன்றில் மட்டுமே சாதனங்கள் அருமையாகவிருப்பதாகும்.
 - 3) எல்லா சாதனங்களும் தனியார் துறைக்கு உரித்தாகவிருப்பதும் அவை சந்தைச் சக்திகளினூடாக ஒதுக்கீடு செய்யப்படுதலுமாகும்.
 - 4) பெரும்பாலான சாதனங்கள் மூலதனப் பண்டங்களின் உற்பத்திக்கே கையாளப்படுதலாகும்.
 - 5) சாதனங்கள் சந்தைச் சக்திகளால் ஒதுக்கீடு செய்யப்படுவதால் அவை அருமைத்தன்மை இல்லாதனவாக இருப்பதாகும்.
15. திட்டமிட்ட பொருளாதாரமொன்றில் யாருக்கு உற்பத்தி செய்வது? என்ற வினா பிரதானமாக
- 1) போட்டிச் சந்தைகளில் வருமானக் கொடுப்பனவுகளுக்காக சாதனங்களின் விற்பனையால்,
 - 2) சமூக வழக்காறுகளைக் கையாண்டு சமூகத்தின் அங்கத்தவர்களுக்கு உற்பத்தியை பங்கீடு செய்வதன் ஊடாக,
 - 3) குறைந்த வருமானம் உழைப்போருக்கு பொருட்களையும் சேவைகளையும் விலைகளையும் அரசாங்கம் தானே நிர்ணயித்தலினூடாக,
 - 4) அரசாங்கம் பொருளாதாரத் திட்டமொன்றின் அங்கமாக வேதனங்களையும் விலைகளையும் தானே நிர்ணயித்தலின் ஊடாக,
 - 5) பொருள் கொள்வோருக்கும் தொழில் வழங்குனருக்கும் இடையே பேரம் பேசலினூடாக நிர்ணயிக்கப்படும்.
16. அருமைத்தன்மைப் பிரச்சனையானது,
- 1) கலப்புப் பொருளாதாரமொன்றில் தங்கியிருக்கும் பொருளாதாரங்களில் மட்டுமே காணப்படும்.
 - 2) விலைகளை வீழ்ச்சியடையச் செய்யுமானால் நீக்கப்பட்டு விடும்.
 - 3) சில பொருட்களுக்கு தட்டுப்பாடு நிலவுவதைக் குறிக்கும்.
 - 4) கிடைக்கும் சாதனங்களைக் கொண்டு மனித தேவைகளைப் பூர்த்தி செய்ய முடியாவிடில் காணப்படும்.
 - 5) இப்பொழுது காணப்பட்டபோதும் பொருளாதார வளர்ச்சி ஏற்படும் போது நீங்கிவிடும்.
17. பின்வரும் வரிப்படம் பொருளாதாரம் ஒன்று தொடர்பான உற்பத்தி சாத்தியங்களின் வளையியைக் காட்டுகிறது.



உற்பத்தி உட்படம் வளையியில் X இலிருந்து Y இன் நகர்வுதனால் இன்றைய, வருங்கால வாழ்க்கைத் தரங்களின் மீது உட்படம் மாற்றங்களின் சரியான சேர்க்கையைக் காட்டுக.

தேர்ச்சி - 01 - M.C.Q

	இன்றைய வாழ்க்கைத்தரம்	வருங்கால வாழ்க்கைத்தரம்
1.	தேய்வு	தேய்வு
2.	தேய்வு	அதிகரிப்பு
3.	அதிகரிப்பு	தேய்வு
4.	அதிகரிப்பு	அதிகரிப்பு
5.	அதிகரிப்பு	மாறாதிருத்தல்

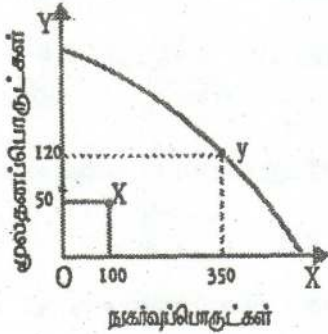
18. அருமைத்தன்மையுள்ள வளம் பின்வருவனவற்றுள் 'எது?
- 1) நிலக்கரி
 - 2) நீர்
 - 3) வினைத்திறனுள்ள உழைப்பு
 - 4) காலம்
 - 5) மேற்கூறிய அனைத்தும்
19. அனைத்து நாடுகளும் எதிர்கொள்ளும் அடிப்படையான பொருளாதாரப் பிரச்சனை,
- 1) பெருமளவு பணம் சொற்ப பண்டங்களின் பின் செல்வதாகும்.
 - 2) புவியின் கிடைத்தற்கரிய வளங்களின் மிகையான உபயோகம்.
 - 3) சூழல் மாசடைதல்.
 - 4) எல்லைக்குட்பட்ட வளங்களினால் வரையறுக்கப்பட்ட எல்லையற்ற விருப்பங்கள்.
 - 5) அதிகரிக்கும் வறுமை.
20. அதிகரித்த சிறப்புத் தேர்ச்சியின் விளைவாகப் பின்வருவனவற்றுள் எது ஏற்படுதல் மிகச் சாத்தியமானது?
- 1) உற்பத்தி குறைந்து போதல்.
 - 2) அதிகரிக்கும் அலகுக் கிரயங்கள்.
 - 3) தொழிலாளி ஒருவருக்கான கூலிகள் குறைந்து போதல்.
 - 4) உற்பத்தியின் திறன் அதிகரித்தல்.
 - 5) தொழிநுட்ப அறிவு குறைந்து போதல்.
21. சந்தைப் பொருளாதாரம் ஒன்றிலே விலைப் பொறிமுறை ஒன்றினால் சாதிக்கமுடியாதிருப்பது பின்வருவனவற்றுள் எது?
- 1) நுகர்வோர் நாட்டங்களிலான மாற்றங்கள் குறித்து சைகை காட்டுதல்.
 - 2) கேள்வியிலான மாற்றங்களுக்கு ஏற்ப நிரம்பலைச் சரிப்படுத்தல்.
 - 3) மிகையான நிரம்பலையும் மிகையான கேள்வியையும் தவிர்த்தல்
 - 4) சகல வகையான பண்டங்களினதும் நீயாயமான பங்கீட்டை உறுதிப்படுத்தல்
 - 5) வரையறைக்குட்பட்ட வளங்களை மாற்று உபயோகங்களுக்குப் பங்கீடு செய்தல்.
22. பின்வருவனவற்றுள் எது கட்டாயமாக ஒரு சந்தைத் தோல்வியைக் குறிக்கும்?

தேர்ச்சி - 01 - M.C.Q

- 1) அதிகரிக்கும் உற்பத்திச் செலவு.
- 2) கேள்வி அதிகரிப்பின் காரணமாக விலைகள் உயர்தல்.
- 3) நிறுவனங்கள் உற்பத்தி செய்யும் பண்டங்கள் இனிமேலும் தேவைப்படாததால் அவை மூடப்படுதல்.
- 4) தமது உற்பத்தி காரணமாக எழும் புற நன்மைகள் தொடர்பில் தமது உற்பத்தியாளர்கள் விலையொன்றை அறவிடமுடியாமை.
- 5) தனியார் செலவுகளும் சமூகச் செலவுகளும் சமமாக இருத்தல்.

23. இங்குள்ள தரப்பட்டுள்ள வரிப்படம் மூலதனப் பொருட்களையும் நுகர் பொருட்களையும் உற்பத்தி செய்யும் ஒரு பொருளாதாரத்தின் உற்பத்திசாத்திய வளையியைக் காட்டுகிறது. இவ் வரிப்படத்தில் காட்டப்பட்டுள்ள பொருளாதாரம் தனது உற்பத்தி மட்டத்தை X புள்ளியிலிருந்து Y புள்ளிக்கு மாற்றாமாயின்,

இது



- 1) மூலதனப் பொருட்களின் 70 அலகுகள் அமையச் செலவினை ஏற்படுத்தும்.
- 2) நுகர்பொருள்களின் 250 அலகுகள் அமையச் செலவினை ஏற்படுத்தும்.
- 3) வேலையின்மையில் அதிகரிப்பை ஏற்படுத்தும்.
- 4) அமையச் செலவினை ஏற்படுத்தமாட்டாது.
- 5) நுகர்பொருட்கள் துறையிலிருந்து மூலதனப் பொருட்கள் துறைக்குச் சாதனங்களை மாற்றும்.

24. கலப்புப் பொருளாதாரமொன்றில் சாதனங்களானவை,

- 1) நுகர்வோரதும் உற்பத்தியாளரதும் தேவைகளைப் பூர்த்தி செய்வதற்கு ஒதுக்கீடு செய்யப்படும்.
- 2) நுகர்பொருட்களின் உற்பத்திக்கு ஒரு பகுதியும் மூலதனப் பொருட்களின் உற்பத்திக்கு இன்னொரு பகுதியும் ஒதுக்கீடு செய்யப்படும்.
- 3) பகுதியளவில் சந்தைச் சக்தியினாலும் பகுதியளவில் அரசினாலும் ஒதுக்கீடு செய்யப்படும்.
- 4) முற்றிலும் முயற்சியாளரின் செலவீட்டுத் தீர்மானங்களால் ஒதுக்கீடு செய்யப்படும்.
- 5) முற்றிலும் நுகர்வோரது செலவீட்டுத் தீர்மானங்களால் ஒதுக்கீடு செய்யப்படும்.

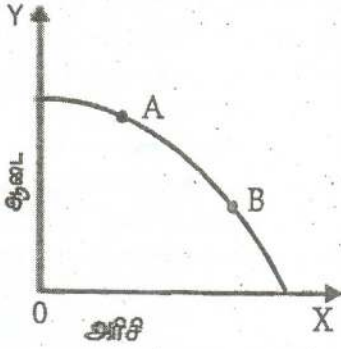
25. சந்தைத் தோல்வி என்பது,

- 1) கேள்வியானது நிரம்பலுக்குச் சமமாகவில்லாத நிலையாகும்.
- 2) சந்தையானது சாதனங்களைத் திறமையாக ஒதுக்கீடு செய்யாத நிலையாகும்.

தேர்ச்சி - 01 - M.C.Q

- 3) நிறுவனங்கள் ஒரு தொழிலைவிட்டு வெளியேறுவதால் ஏற்படும் நிலையாகும்.
- 4) மத்திய ரீதியில் திட்டமிடப்பட்ட பொருளாதாரங்களோடு மட்டும் தொடர்புள்ள நிலையாகும்.
- 5) அரசாங்கமானது கட்டில்லாச் சந்தைச் சமநிலை விலையிலும் பார்க்க உயர்ந்த விலையை நிர்ணயிப்பதன் விளைவாகும்.

26. பின்வரும் வரிப்படம் ஆடை, அரிசி என்பவற்றால் வரையறுக்கப்பட்ட ஒரு உற்பத்திச்சாத்திய வளையியைக் காட்டுகிறது.



இப்பொருளாதாரம் தனது உற்பத்தி A புள்ளியிலிருந்து B புள்ளிக்கு மாற்றுமாயின் ஆடை, அரிசி என்பவற்றின் அமையச் செலவு பற்றிய பின்வரும் கூற்றுக்களுள் எது சரியானது?

- 1) ஆரிசியின் அமையச் செலவு அதிகரிக்க, ஆடையின் அமையச் செலவு குறையும்.
- 2) அரிசியின் அமையச் செலவு குறைய, ஆடையின் அமையச் செலவு அதிகரிக்கும்.
- 3) அரிசி, ஆடை என்ற இரண்டினதும் அமையச் செலவு அதிகரிக்கும்.
- 4) அரிசி, ஆடை என்ற இரண்டினதும் அமையச் செலவு குறையும்.
- 5) ஆடையினதும் அமையச் செலவு மாறாதிருக்க அரிசியின் அமையச் செலவு அதிகரிக்கும்.

27. பொருளாதாரப் பண்டம் என்பது யாது?

- 1) இலாபத்தில் விற்கப்படும் ஒரு பண்டம்.
- 2) அதிகரித்துச் செல்லும் திறன் கொண்ட நிலைமைகளின் கீழ் உற்பத்தி செய்யப்படும் ஒரு பண்டம்.
- 3) தனியார் துறையினால் மட்டும் நிரம்பல் செய்யப்படக்கூடிய ஒரு பண்டம்.
- 4) அமையச் செலவு உள்ள ஒரு பண்டம்.
- 5) பொதுத்துறையினால் மட்டும் நிரம்பல் செய்யப்படக்கூடிய ஒரு பண்டம்.

28. திட்டமிட்ட பொருளாதாரமொன்றில் எதனை உற்பத்தி செய்வது என்ற பொருளாதார பிரச்சனையானது தீர்மானிக்கப்படுவது,

- 1) முயற்சியாளரது ஏதேச்சையான தீர்மானங்களால்
- 2) நுகர்வோரதும் அரசாங்கத்தினதும் கூட்டுத்தீர்மானங்களினால்
- 3) பகுதியளவில் சந்தைச் சக்திகளினாலும் பகுதியளவில் அரசினாலும்
- 4) அரசாங்க அறிவுறுத்தல்களினால்
- 5) நுகர்வோரது செலவீட்டுத் தீர்மானங்களினால்

29. பின்வருவனவற்றுள் ஒன்று சந்தைத் தோல்விக்கான காரணமன்று. அது எது?

- 1) பொதுப் பண்டங்கள் இருத்தல்
- 2) வெளிவாரிச் செலவுகள்
- 3) வெளிவாரி நன்மைகள்
- 4) நுகர்வோர் இறைமை
- 5) தனியுரிமைகள் காணப்படுதல்

30. பொருட்கள் சேவைகள் உற்பத்தியில் எல்லா சமூகங்களும் தெரிவுப் பிரச்சனைக்கு முகம் கொடுக்கின்றன என ஏன் நாம் கூறுகின்றோம்?

- 1) மனிதத் தேவைகள் வரையறையற்றவையாக இருப்பதனால்
- 2) பொருளாதாரங்கள் குறைவிருத்தியுடையவையாக இருப்பதனால்
- 3) மூலவளங்கள், மனித விருப்பங்கள் தொடர்பில் அருமைத்தன்மை உடையவையாகவும் மாற்றுப் பயன்பாடு உடையவையாகவும் இருப்பதனால்
- 4) உற்பத்திக் காரணிகளின் பல்வேறுபட்ட சேர்க்கைகளைப் பயன்படுத்துவதன் மூலம் ஒரு குறிப்பிட்ட தொகைப் பொருட்கள் சேவைகளையே உற்பத்தி செய்ய முடியுமென்பதால்.
- 5) மனிதத் தேவைகளுடன் ஒப்பிடும்போது வளங்களின் அளவு குறைவாக காணப்படுகின்றமை.

31. சமூகத்தின் அடிப்படைப் பொருளாதாரப் பிரச்சனையான யாருக்காக உற்பத்தி செய்யப்படுகிறது என்பதனால் கருதப்படுவது யாது?

- 1) உற்பத்தி தொடர்பான தீர்மானத்தை எடுப்பதில் உற்பத்தியாளர் இலக்கு வைத்துள்ள நுகர்வோர் தொகுதி எது என்பதனையாகும்.
- 2) உற்பத்தியானது ஏற்றுமதிக்குரியதா அல்லது உள்ளூட்டு சந்தைக்குரியதா என்பதனையாகும்.
- 3) உற்பத்தியானது நுகர்வோர்க்குரியதா அல்லது முதலீட்டுக்குரியதா என்பதனையாகும்.
- 4) பொருளாதாரத்தின் மொத்த வெளியீடு எவ்வழியில் வீட்டுத்துறையினரிடையே பங்கீடு செய்யப்படுகின்றது என்பதனையாகும்.
- 5) காரணித் தெரிவுப் பிரச்சினையாக உள்ளமையாம்.

32. ஆரம்பப் புள்ளிக்கு குழிவான உற்பத்திசாத்திய வளையியொன்றினை அனுமானித்துக் கொள்க. அத்தகைய வளையி ஒன்றுக்கு இயைவான கீழ்நோக்கிய அசைவு எதனைக் குறிக்கின்றது?

- 1) ஒரு பொருளின் உற்பத்தி குறைவடைதலும் இன்னொரு பொருளின் உற்பத்தி அதிகரித்தலும்
- 2) தரப்பட்ட ஒரு தொகை மூலவளங்கள் மாற்றுச் சேர்க்கையான பொருட்களை உற்பத்தி செய்யும்.
- 3) உற்பத்தியில் அமையச் செலவு உள்ளது.
- 4) ஒரு பொருளின் மேலதிக அலகொன்றை உற்பத்தி செய்வதற்காக இன்னொரு பொருளில் இழக்கப்படும் அலகுகளின் தொகையானது அதிகரித்தல்.
- 5) எல்லை அமையச் செலவு குறைதல்.

33. X,Y ஆகிய இரு பொருள்களை உற்பத்தி செய்யும் ஒரு எளிதான பொருளாதாரத்தில் தொடக்கப் புள்ளிக்கு நேரான வகையில் அமையும் ஒரு உற்பத்திசாத்திய எல்லை எதனைக் காட்டுகின்றது?
- 1) எல்லா வளங்களும் முழுமையாக பயன்படுத்தப்பட்டால் X,Y ஆகியவற்றில் வெவ்வேறு அளவுகளை உற்பத்தி செய்யலாம்.
 - 2) வளங்கள் முழுமையாக நிலவுகின்ற தொழில்நுட்ப பின்னணியிலும் உத்தம முறையிலும் பயன்படுத்தும் இடத்து மாறா. அமையச் செலவில் X,Y ஆகியவற்றில் மாற்று அளவுகளை உற்பத்தி செய்யலாம்.
 - 3) கிடைக்கும் வளங்களும் தொழில்நுட்பமும் கொண்டு பொருளாதாரத்தினால் அடையப்படக்கூடிய பொருளாதார வளர்ச்சி மட்டம்.
 - 4) உற்பத்தி சாதனங்களை மாற்று வழிகளில் பயன்படுத்தி ஓரிலு ஆகியவற்றில் வெவ்வேறு அளவுகளை உற்பத்தி செய்யலாம்.
 - 5) வளங்களின் பூரண மாற்றுப் பயன்பாடின்மை
34. முயற்சியாண்மையின் தனித்துவமான தொழிற்பாட்டை இனங்காண்க.
- 1) உற்பத்தி முறைமையின் திறமையான முகாமை.
 - 2) ஒரு உற்பத்தி நிறுவனத்தின் உற்பத்தித் திட்டங்களை நடைமுறைப்படுத்தல்.
 - 3) எதனை, எவ்வாறு உற்பத்தி செய்வது என்பது பற்றிய தீர்மானங்களை எடுத்தலும் காரணிச் சேவைகளை பயன்படுத்தி நடைமுறைப்படுத்தலும்.
 - 4) உற்பத்தியில் ஆபத்துக்களை ஏற்படுத்தல்.
 - 5) இலாபத்தினை உழைத்தல்.
35. மனித முதல் பின்வரும் முறைகளில் எதனால் ஆக்கப்படுகின்றது?
- 1) புதிய முதல் உபகரணங்களுடன் ஊழியத்தினைப் பயன்படுத்தல்.
 - 2) முதல் உபகரணங்கள் உற்பத்தி செய்வதில் வேலையற்ற ஊழியத்தினை பயன்படுத்தல்.
 - 3) ஊழியப்படையின் கல்வி மட்டத்தினை உயர்த்துதலும், அறிவு, திறன் ஆகியவற்றை பயிற்சி, கற்றல் என்பவற்றினூடாக விருத்தி செய்தலும்.
 - 4) ஊழியச் செறிவான உற்பத்தி முறைகளைப் பயன்படுத்தல்.
 - 5) உழைப்பினை குறிப்பிடும்.
36. பின்வரும் கூற்றுக்களில் எது பொருளாதாரத்தின் பங்களிப்பினை சிறப்பாக விபரிக்கின்றது?
- 1) குறைந்த பட்ச செலவிலான பொருட்கள் சேவைகளின் உற்பத்தி
 - 2) பணவீக்கத்தினைக் கட்டுப்படுத்தலும் அரசாங்க வரவு செலவுத் திட்டத்திலும் சென்மதி நிலுவையிலும் பற்றாக்குறைகளை குறைந்த பட்ச அளவிலும் வைத்திருத்தலும்.
 - 3) சமுத்தின் மனித தேவைகளை திருப்திப்படுத்தும் நோக்கத்துடன் பொருள்களையும் சேவைகளையும் உற்பத்தி செய்து வழங்கல்.

தேர்ச்சி - 01 - M.C.Q

- 4) உற்பத்தி முறைமையினை திட்டமிடுதலும் இலக்குகளை வரையறை செய்தலும்.
- 5) பொருள் சாரா தேவைகளை நிறைவேற்றுதல்.
37. மாணவன் ஒருவனுக்கு பல்கலைகழக கல்வியின் அமையச் செலவு என பின்வருவனவற்றில் எதனைக் கூறுவீர்?
- 1) மாணவனுக்கு ஏற்படும் சீவனச் செலவும் புத்தகங்களின் செலவும்.
 - 2) பல்கலைகழக மாணவனாக இருக்கும் பொழுது வேலை செய்யக்கூடிய வாய்ப்பு கிடைக்கப்பெற்றிருந்தால் அதனால் இழப்பாக இருந்துள்ள வருமானம்.
 - 3) பல்கலைகழக மாணவன் ஒருவனுக்கு கல்விக்காக ஏற்படும் சராசரி அரசாங்க செலவு.
 - 4) ஒரு பல்கலைகழக மாணவனுக்கு குறித்த பெற்றோரினால் செய்யப்பட்ட செலவு.
 - 5) மாணவனுக்கு ஏற்படும் உடைச் செலவு.
38. பின்வரும் கூற்றுக்களில் சந்தைப் பொருளாதாரத்தின் பிரதான இயல்பொன்றினை விபரிக்கும் கூற்று எது?
- 1) அரசாங்கத்தினால் வரையறுக்கப்பட்ட ஒரு பொதுத் திட்டத்திற்கமைய நிறுவனங்கள் பொருள் உற்பத்தி பற்றி தீர்மானித்தல்.
 - 2) வெவ்வேறு பொருளாதார நடவடிக்கைகளுக்கிடையே சாதனங்களின் பயன்பாட்டை சந்தையினூடாக இயங்கும் சார்பு விலைகள் நிர்ணயித்தல்.
 - 3) உற்பத்தி தொடர்பாக ஊழியச் செறிவான முறைகள் பயன்படுத்தப்படுதல்.
 - 4) எப்பொழுதும் கேள்வி, நிரம்பல் சக்திகளினால் விலைகள் நிர்ணயிக்கப்படுதல்.
 - 5) வெளிவாரி விளைவுகளை ஒழுங்குபடுத்தல்.
39. நிலம் என்ற உற்பத்திக் காரணியாக பின்வரும் பொருள்களில் எதை வகைப்படுத்த முடியும்?
- 1) ஒரு தேயிலைத் தோட்டம்
 - 2) ஒரு இயற்கைக் காடு
 - 3) நீபாசனத்துக்காக கட்டப்பட்ட ஒரு புராதன குளம்
 - 4) ஒரு இரத்தினக்கல் சுரங்கம்
 - 5) அணைக்கட்டு
40. கீழ் வருவனவற்றுள் சரியான கூற்றினைத் தெரிவு செய்க.
- 1) ஊழியம் நிறை பயன்பாட்டில் இருப்பின் உற்பத்திப் புள்ளியானது எப்போதும் உற்பத்தி இயல்தகவு எல்லையின் மீது காணப்படும்.
 - 2) வழிநடாத்தப்பட்ட பொருளாதாரத்தில் எதுவித விலைகளும் இலாபங்களும் இல்லை.

தேர்ச்சி - 01 - M.C.Q

- 3) வேலையின்மை நிலைமையின் போது இரு பொருளின் உற்பத்தியையும் அமையச் செலவின்றி அதிகரிக்க முடியும்.
 - 4) ஏற்றுமதி இடம்பெறும் போது உற்பத்திப் புள்ளியும் நுகர்வுப் புள்ளியும் ஒரே இடத்தில் காணப்படும்.
 - 5) பொதுப்பண்டங்களின் உற்பத்தியில் அமையச் செலவு இல்லை.
41. ஒரு தூய சந்தைப் பொருளாதாரத்திற்கான முக்கிய இயல்பு
- 1) விலைப்பொறி முறையின் சுதந்திரமான செயற்பாடு இருத்தல்.
 - 2) தனியார் துறையில் இலாபங்களில் கட்டுப்பாடு இருத்தல்.
 - 3) சந்தைப் பொருளாதாரத்தில் அரசாங்கம் தலையிடல்.
 - 4) நுகர்வோர் இறைமையுடையவர்களாக இருத்தல்.
 - 5) சமூக நலன் உயர்வாகக் காணப்படும்.
42. A,B எனும் இரு பண்டங்கள் தொடர்பில் உற்பத்திசாத்தி எல்லையை வெளிப்புறமாக இடம்பெயரச் செய்யத்தக்க காரணியை இனங்காண்க?
- 1) முகாமையின் மாற்றமொன்றை தொடர்ந்து உற்பத்தியின் வினைத்திறமையீனங்கள் குறைந்து போதல்.
 - 2) இரு கைத்தொழில்களிலும் திருத்தமான தொழில்நுட்பங்கள் கைக்கொள்ளப்படுதல்.
 - 3) X கைத்தொழிலில் ஊழியத்தின் உற்பத்தித் திறன் மேம்பாடடைதல்.
 - 4) உற்பத்தி அதிகரிப்பை ஏற்படுத்தும் போது.
 - 5) பொருளாதாரப் பின்னடைவின் போது
43. X,Y என்னும் பண்டங்களை உற்பத்தி செய்யும் ஒரு பொருளாதாரத்தில் அமையச் செலவு மாறாதிருக்கும் நிலைமையை இனங்காண்க.
- 1) X உம் Y உம் நெருங்கிய பிரதியீடுகளாகும்.
 - 2) X இன் ஓர் அலகினை உற்பத்தி செய்வதற்குத் தியாகம் செய்யப்படவேண்டிய Y அலகுகளின் எண்ணிக்கை அதிகரிக்கின்றது.
 - 3) இரு பண்டங்களினதும் நிரம்பல் வளையிகள் கிடையான நேர்கோடுகளாக உள்ளன.
 - 4) இரு பண்டங்களினதும் நிலையான செலவுகள் உற்பத்திச் செலவுகளின் முக்கியமான ஒரு பகுதியாக உள்ளன.
 - 5) வளங்களின் பூரண பதிலீட்டுத்தன்மை.
44. வளங்களின் உற்பத்தித் திறன் கோட்பாட்டை விளக்கும் கூற்றினை இனங்காண்க.
- 1) உற்பத்தியில் பயன்படும் காரணிகள் அளவினை அதிகரித்தல்.
 - 2) உள்ளீடுகள் அதிகரிக்கும் வீதத்திலும் குறைவாக வெளியீடு அதிகரித்தல்.
 - 3) குறிப்பிட்ட வெளியீடு ஒன்றில் பயன்படுத்தப்படும் உள்ளீடுகளின் அளவு குறைதல்.

தேர்ச்சி - 01 - M.C.Q

- 4) குறைந்த இலாபமுடைய நடவடிக்கைகளிலிருந்து கூடிய இலாபமுடைய நடவடிக்கைகளுக்கு காரணிகளை மாற்றுதல்.
- 5) குறிப்பிட்ட வெளியீடு ஒன்றில் பயன்படுத்தப்படும் உள்ளீடுகளின் அளவு மாறாதிருத்தல்.
45. ஒரு பொருளியல் மாணவன் என்ற ரீதியில் நீங்கள் ஏற்றுக்கொள்ளக்கூடிய கூற்றினை இனங்காண்க.
- 1) வரட்சிக்காலத்தில் மழை இல்லாததனால் நீர் ஒரு அருமை பொருளாகின்றது. அதனால் அது ஒரு பொருளாதாரப் பண்டமாகின்றது.
 - 2) மாணவர்களுக்கு இலவசமாக கிடைப்பதனால் பாடசாலைப் பாடப்புத்தங்களை ஒரு பொருளாதாரப் பண்டமாகக் கருதுவதில்லை.
 - 3) உற்பத்தி சாத்திய எல்லைக்கு இடதுபக்கமாக ஒரு புள்ளியில் சாதனங்களின் நிறைந்த பயன்பாடு காட்டப்படுகின்றது.
 - 4) நகரத்தில் வாழ்கின்றவர்களுக்கு குடிதண்ணீர் ஒரு பொருளாதாரப் பண்டமாகும்.
 - 5) கடல் மீன்கள் இலவசப் பண்டமாகும்.
46. பின்வரும் கூற்றுக்கள் உற்பத்திசாத்திய எல்லைகளைப் பற்றி குறிப்பிடுகின்றன. நீர் ஏற்றுக்கொள்ளும் கூற்றினை அடையாளப்படுத்துக.
- 1) உற்பத்திக் காரணிகளின் இருப்பு அதிகரித்தாலே உற்பத்தி எல்லை வலது பக்கமாக அசைவுறும்.
 - 2) ஊழியம் நிறைவுப் பயன்பாட்டிலிருந்தால் உற்பத்திப் புள்ளி எப்பொழுதும் எல்லையில் அமையும்.
 - 3) எல்லையின் சாய்வு உற்பத்தியின் அதிகரிக்கும் அமையச் செலவினை பிரதிபலிக்கின்றது.
 - 4) எல்லையில் உள்ள புள்ளிகள் சமூகத்தினால் தெரிந்துகொள்ளக்கூடிய பொருள்களின் மாற்று அளவுச் சேர்க்கைகளைக் காட்டுகின்றன.
 - 5) பொருளாதார செயற்திறன் எல்லையின் இடதுபுறத்தில் காணப்படும்.
47. நீர் ஏற்றுக்கொள்ளாத கூற்றினை இனங்காண்க.
- 1) ஒரு திட்டமிடப்படும் பொருளாதாரத்தில் விலைகள், இலாபங்கள் ஆகியவற்றின் பங்களிப்பு இல்லை.
 - 2) திட்டமிடப்பட்ட பொருளாதாரங்களாக இருந்தவை, சந்தைப் பொருளாதாரங்களாக மாற்றப்பட்டு வருபவை இக்காலத்தில் நிலை மாற்றப் பொருளாதாரங்களாகக் கருதப்படும்.
 - 3) தொழில் நிறுவனங்களின் தனியார் உடமை முதலாளித்துவத்தின் பிரதான இயல்பாகும்.
 - 4) எந்தவொரு சமூகமும் எத்தகைய? எவ்வாறு? யாருக்காக? என்ற அடிப்படைப் பொருளாதார பிரச்சனைகளைத் தீர்த்துக் கொள்ளுதல் வேண்டும்.
 - 5) அருமை, தெரிவு, மாற்றம் என்பன மூலாதாரப் பிரச்சனைகளாகும்.

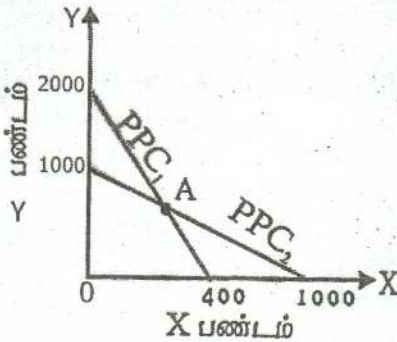
தேர்ச்சி - 01 - M.C.Q

48. பின்வரும் பொருட்கள் சேவைகளில் எதற்கு வழிவந்த கேள்வி காணப்படும்.
- 1) கணணி தொழிற்படுத்துனரின் சேவைகள்
 - 2) சேட்டுக்கள்
 - 3) பாண்
 - 4) குடும்பப் பிரயாணத்துக்குப் பயன்படுத்தும் மோட்டார் வாகனம்.
 - 5) மரக்கறிகள்

49. கீழ்வருவனவற்றுள் ஓர் இலவச பண்டம் எது?
- 1) அரசினால் வழங்கப்பட்ட இலவச உணவு
 - 2) குழாய் நீர்
 - 3) இலவச சிங்கப்பர் பயணம்
 - 4) நீர்
 - 5) நீர்வீழ்ச்சி

50. பின்வருவனவற்றுள் நேர்ப் பொருளியல் (Positive Economic) கூற்று எது?
- 1) பொருளியல் விஞ்ஞானத்திற்கு அடிப்படை அருமை ஆகும்.
 - 2) உணவுப் பங்கீட்டு முறை ஒரு நியாயமற்ற ஒதுக்கீட்டு முறை ஆகும்.
 - 3) சுதந்திர சந்தைப் பொருளாதாரத்தில் விலை நிர்ணயிக்கப்படுவது நேர்மையானதாகும்.
 - 4) எந்தவொரு பொருளாதார முறையிலும் என்ன? எப்படி? யாருக்கு? என்ற வினாக்களுக்கு தீர்வு காண வேண்டிய தேவையுண்டு.
 - 5) வழிநடத்தப்பட்ட பொருளாதாரம் சந்தைப் பொருளாதாரத்தினை விட சிறப்பாக தொழிற்படுகின்றன.

51. கீழே தரப்பட்ட வரைபடங்கள் இரண்டு நாடுகளின் உற்பத்திச் சாத்திய வளையிகளாகும். X, Y பண்டங்களில் A புள்ளியில் உற்பத்தி செய்யும் பொருட்சேர்க்கை முறையே எது?



- 1) 750, 250
- 2) 825, 350
- 3) 750, 300
- 4) 250, 750
- 5) 200, 800

52. பின்வரும் கூற்றுக்களில் கட்டில்லா பொருளாதாரமொன்றின் பிரதான இயல்பினை விபரிக்கும் கூற்று எது?
- 1) மாறுபட்ட பொருளாதார நடவடிக்கைகளிடையே சாதனப் பயன்பாட்டை சந்தையின் சார்பு விலைகள் தீர்மானித்தல்.
 - 2) கேள்வி நிரம்பல் எனும் முரண்பட்ட சக்திகளினால் விலைகள் நிர்ணயிக்கப்படல்.

தேர்ச்சி - 01 - M.C.Q

- 3) சந்தைப் பொருளாதாரத்தில் பல்வேறு காரணங்கள் கருதி அரசாங்கம் தலையிடுதல்.
- 4) நுகர்வோர் பூரண இறைமையையுடையவர்கள்.
- 5) புறவிளைவுகள் கருத்திற் கொள்ளப்படுவதில்லை.

53. ஓர் உற்பத்தி இயல்தகவு எல்லை குறித்து நிற்பது

- 1) தரப்பட்ட இரு காரணிகளைப் பயன்படுத்தி பொருளாதாரம் ஒன்று உற்பத்தி செய்யக்கூடிய இருவேறுபட்ட பண்டங்களின் உச்சமட்ட உற்பத்தியாகும்.
- 2) தரப்பட்ட காரணிகளைப் பயன்படுத்தி பொருளாதாரம் ஒன்று உற்பத்தி செய்யக்கூடிய இருவேறுபட்ட பண்டங்களின் உச்சமட்ட உற்பத்தியாகும்.
- 3) பொருளாதாரமொன்றின் கிடைக்கத்தக்க மாற்றுப்பயன்பாடுடைய வளங்களின் அளவைக் காட்டுவதாகும்.
- 4) பொருளாதாரமொன்றின் தொழில்நுட்பம் மாறாநிலையிலான உச்சமட்ட உற்பத்தியாகும்.
- 5) சாத்திய எல்லையின் சரிவு உற்பத்தியில் அதிகரித்துச் செல்லும் அமையச் செலவினைக் காட்டுகின்றது.

54. நிறைதொழில் மட்ட நிலையின் பண்புகளில் ஒன்றாக அமையாதது எது?

- 1) உற்பத்திசாத்திய எல்லையின் மீது உற்பத்திப் புள்ளி காணப்படல்.
- 2) இரு பொருட்களின் உற்பத்தியையும் அமையச் செலவின்றி ஒரே நேரத்தில் அதிகரிக்க முடியாமை.
- 3) இரு பொருட்களின் உற்பத்தியையும் அமையச் செலவின்றி ஒரே நேரத்தில் அதிகரிக்க முடிதல்.
- 4) உச்ச செயற்திறன் வாய்ந்த உற்பத்தியாக காணப்படும்.
- 5) ஒரு பொருளின் உற்பத்தியை அதிகரிக்க மற்றைய பொருளின் உற்பத்தியை தியாகம் செய்தல்.

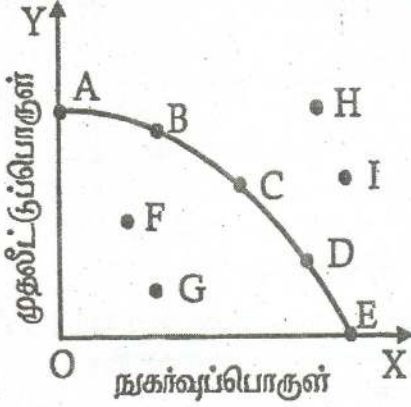
55. மத்திய திட்டமிடல் பொருளாதாரம் ஒன்று எவ்வாறு உற்பத்தி செய்வது? என்ற பிரச்சனைக்கு தீர்வு காண்பது.

- 1) விலை முறைமையினால் மேற்கொள்ளப்படும்.
- 2) அரசின் தொழில்நுட்பத் தெரிவால் மேற்கொள்ளப்படும்.
- 3) அரசின் பங்கீட்டு முறையினால் மேற்கொள்ளப்படும்.
- 4) திட்டமிடல் முறையினால் மேற்கொள்ளப்படும்.
- 5) ஊழியச் செறிவினால் மேற்கொள்ளப்படும்.

56. உற்பத்திக் காரணிகளின் விலை நிர்ணயம் பற்றிய பிரச்சனையானது எதனைக் குறிக்கும்.

- 1) என்ன பொருளை உற்பத்தி செய்தல்.
- 2) வேலையின்மை
- 3) அருமை பிரச்சனை
- 4) எவ்வாறு பங்கீடு செய்தல்.
- 5) சாதன ஒதுக்கீடுத் தெரிவுப் பிரச்சனை.

57, 58ம் வினாக்களுக்கு பின்வரும் உற்பத்திசாத்திய எல்லையைக் கருத்திற்கொண்டு விடையளிக்க.



57. அடையக் கூடிய புள்ளிகளைக் காட்டும் தொகுதி
 1) A, B, H 2) F, I 3) H, I 4) G, D, I 5) A, C, E, G
58. விரைவான பொருளாதார வளர்ச்சியை எய்தும் வகையில் காணப்படும் உற்பத்திப் புள்ளி.
 1) D 2) B 3) F 4) H 5) C
59. தியாகச் செலவு பூச்சியமாக இருக்கக்கூடிய சந்தர்ப்பங்களில் ஒன்றல்லாதது.
 1) வளங்கள் பல பயன்பாட்டைக் கொண்டிருக்காத போது
 2) வளங்கள் ஏராளமாக (அருமையற்று) காணப்படும் போது
 3) நிறை தொழில் மட்டம் காணப்படும் போது
 4) குறிப்பிட்ட தேவைக்கு மட்டும் வளங்கள் பயன்படுத்தப்படும் போது
 5) குறை தொழில் மட்டம் காணப்படும் போது
60. பொருளாதாரத்தின் அடிப்படைப் பொருளாதாரப் பிரச்சனையான எவ்வாறு பங்கீடு செய்தல் என்பதன் கருத்து யாது?
 1) உற்பத்தியானது நுகர்வுக்கானதா அல்லது முதலீட்டுக்கானதா என்பதாகும்.
 2) பொருளாதாரத்தின் மொத்த உற்பத்தி எவ்வழியில் குடித்தனத் துறையினரிடையே பங்கீடு செய்யப்படுகின்றன என்பதாகும்.
 3) உற்பத்தி தீர்மானத்தின் போது உற்பத்தியாளரின் இலக்கு எது என்பதாகும்.
 4) தொழில் நுட்பம் சார்ந்த ஒரு தெரிவுப் பிரச்சனையாகும்.
 5) வளங்களை எண்ணற்ற மனித தேவைகள் சார்பாக ஒதுக்கிடுதல்.

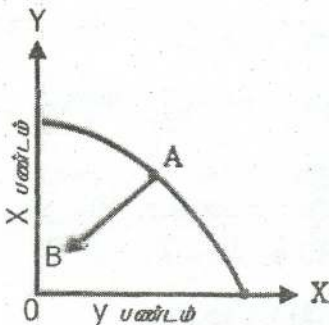
தேர்ச்சி - 01 - M.C.Q

61. பின்வருவனவற்றுள் பிழையான கூற்றினை தெரிவு செய்க.
- 1) சாத்திய எல்லையின் நகர்வின் மூலம் வளங்களில் ஏற்படும் மாற்றம் வெளிக்காட்டப்படுகின்றது.
 - 2) அளவுத்திட்ட சிக்கனமின்மைகள் காரணமாக அதிகரிக்கும் அமையச் செலவு ஏற்படுகிறது.
 - 3) சந்தர்ப்பச் செலவானது வளங்களின் அருமைத் தன்மையினால் மட்டும் ஏற்படுவதில்லை.
 - 4) மெய் உலகில் உற்பத்திசாத்திய எல்லையானது ஏக பரிமாணமானதாக காணப்படுகின்றது.
 - 5) நிறை தொழில் மட்டப் புள்ளிகள் எப்போதும் உற்பத்திசாத்திய எல்லையில் அமைந்திருப்பதில்லை.

62. பொருளியலானது ஏன் ஒரு சமூக விஞ்ஞானமாக கருதப்படுகிறது?
- 1) சமூக, அரசியல், கலாசார மாற்றங்களை விபரிப்பதால்.
 - 2) சமூகத்தின் கூறுகளை விளக்குவதால்.
 - 3) பொருளாதாரம் எனும் சமூக அமைப்பினை ஆய்வு செய்வதால்.
 - 4) ஆய்வுகளை மேற்கொள்வதால்.
 - 5) அருமையினை விளக்குவதால்.

63. அனைத்து நாடுகளும் எதிர்கொள்ளும் மூலாதாரப் பொருளியல் பிரச்சனையாது?
- 1) சூழல் மாசடைதல்
 - 2) பரிமாற்றம்
 - 3) வறுமை
 - 4) மாற்றுப் பயன்பாட்டினால் எழுகின்ற தெரிவு
 - 5) வரையறையுடைய வளங்களினால் வரையறுக்கப்பட்ட மனித தேவைகள்

64. கீழேயுள்ள உற்பத்திசாத்திய எல்லையை கருத்திற் கொள்க. இங்கு A புள்ளியிலிருந்து B புள்ளிக்கு நகர்வதன் மூலம் வெளிப்படுவது யாது?



- 1) வேலையின்மையின் குறைவு.
- 2) Y பண்டத்தில் உற்பத்தி குறைவு.
- 3) திறமையின்மை அதிகரிப்பு.
- 4) பூச்சிய அமையச் செலவு ஏற்படும்.
- 5) இரு பண்டங்களிலான உற்பத்தி அதிகரிப்பு.

65. பின்வருவனவற்றுள் நீர் ஏற்றுக் கொள்ளக்கூடிய கூற்று எது?

தேர்ச்சி - 01 - M.C.Q

- 1) ஆக்கச் செலவு காணப்படினும் மனித தேவையை பூர்த்தி செய்யாதவையாக இருப்பின் அது பொருளாதாரப் பண்டமன்று.
 - 2) இலவசப் பண்டங்களுக்கு எல்லையற்ற நிரம்பலுண்டு.
 - 3) பேனா நண்பி ஒருத்தியால் அன்பளிப்பாக வழங்கப்பட்ட பேனை பொருளாதாரப் பண்டமன்று.
 - 4) எவ்வாறு பங்கீடு செய்தல் எனும் பிரச்சனை சகல பொருளாதாரங்களிலும் காணப்படுகின்றது.
 - 5) மாற்றுப் பயன்பாடு வளங்களுக்கு ஏற்படாத போது சந்தர்ப்பச் செலவு குறைவடைந்து செல்லும்.
66. பொருளியல் விடயப்பரப்புடன் தொடர்புடைய தேவைகளின் தொகுதி
- 1) சுயமரியாதை, குடும்பம்
 - 4) சந்தைப்படுத்தல் நடவடிக்கைகள்
 - 2) காதல், நட்பு
 - 5) உளவியல் தேவைகள்
 - 3) விழித்தல்
67. உற்பத்தித் தொழிற்பாட்டின் தொடர்ச்சித் தன்மையை உறுதிப்படுத்தல் கீழ்வருவனவற்றில் எதனால் ஏற்படும்.
- 1) மூலதன புனரமைப்பை மேற்கொள்ளல்.
 - 2) மெய்ச் சொத்துக்களை அதிகரித்தல்.
 - 3) தனியார் முதலீடுகளை அதிகரித்தல்.
 - 4) ஆபத்து நட்டங்களை ஏற்றல்.
 - 5) குடித்தன சேமிப்பை உயர்த்தல்.
68. பின்வருவனவற்றில் ஏற்றுக்கொள்ள முடியாத கூற்று எது?
- 1) சமவுடைமைப் பொருளாதாரத்தில் நியாயமான இலாபம் உண்டு.
 - 2) வளங்கள் முழுமையாக பயன்படுத்தப்படாத சந்தர்ப்பத்தில் அமையச் செலவு ஏற்படுவதில்லை.
 - 3) வளங்களை முழுமையாக பயன்படுத்தினால் வருங்காலத் தலைமுறையினருக்கு வளங்கள் இல்லாமல் போகும்.
 - 4) உற்பத்திசாத்திய வளையிலுள்ள அனைத்துப் புள்ளிகளும் உற்பத்தியின் உச்ச செயற்திறனைக் காட்டுகின்றன.
 - 5) நிறைதொழில் மட்ட நிலையின்போது ஒரு பண்ட உற்பத்தியை அதிகரிக்க மற்றைய பண்ட உற்பத்தியை குறைத்தல் வேண்டும்.
69. குறிப்பிட்டதொரு பண்டம் இலவசப் பண்டமாகவிருந்து, சிக்கனப் பண்டமாக மாற்றமடைவதற்கு பிரதான காரணமாக அமைவது.
- 1) பயன்பாடு குறைந்து செல்லல்.
 - 2) மாறும் செலவு/பணச் செலவு ஏற்படல்.
 - 3) மனித தேவைகளை நிறைவேற்றல்.
 - 4) இயற்கையின் கொடை முதல்களாக இருத்தல்.
 - 5) உரிமை கோர முடியாதிருத்தல்.
70. மாற்றுப் பயன்பாட்டை மதிப்பிடப் பயன்படுவது

தேர்ச்சி - 01 - M.C.Q

- 1) தனிப்பட்ட செலவு 4) உட்கிடையான செலவு
 2) மெய்செலவு 5) சமூகச் செலவு
 3) வெளிவாரிச் செலவு
71. ஊழிய விளைதிறனை அதிகரிக்கும் காரணி அல்லாதது.
 1) முகாமைத்துவம் திறமையாக்கப்படல்
 2) தொழில்நுட்ப பின்னடைவு
 3) மனித மூலதன நடவடிக்கைகள் அதிகரிக்கப்படல்
 4) தொழில்நுட்ப முன்னேற்றம்
 5) ஊழியத்தின் விளைத்திறன் அதிகரித்தல்
72. ஒரு நேர்ப் பொருளியல் கூற்று அல்லாதது.
 1) 2013இல் பொருளாதார வளர்ச்சி 7.3%
 2) ஆசியாவின் ஒரு நாடு இலங்கையாகும்.
 3) விலை குறைந்தால் கேள்வி அதிகரிக்கும்.
 4) வட்டிவீதம் குறைவடைய சேமிப்பு குறைவடையும்.
 5) வாழ்க்கைச் செலவு அதிகரிப்புக்கேற்ப குறைந்தபட்ச கூலி 10,000/= ஆக அதிகரிக்கப்படல் வேண்டும்.
73. மனித தேவைகள் தொடர்பாக ஏற்றுக்கொள்ள முடியாத கூற்று எது?
 1) அடிப்படைத் தேவைகள் பூர்த்திசெய்யப்படாத நிலை வறுமையாகும்.
 2) அனைத்து மனித தேவைகளும் பொருளியல் பரப்பில் ஆராயப்படுகின்றன.
 3) மனித தேவைகள், விருப்பங்கள் என்பன எல்லையற்றவை.
 4) தேவைகள் பொருள்சார் எண்ணக்கரு மட்டுமன்றி பல்துறை சார்ந்த எண்ணக்கருவாக உள்ளன.
 5) மனித தேவைகளை நிறைவேற்றுபவை பண்டங்களாகும்.
74. பிழையான கூற்றைத் தெரிவு செய்க.
 1) கிணற்று நீர் இலவசமல்லா பண்டமாகும்.
 2) ஆற்றங்கரை நீர் இலவசப்பண்டமாகும்.
 3) இடம்பெயர்ந்தோருக்கு இலவசமாக வழங்கப்படும் அரிசி பொருளாதாரப் பண்டமாகும்.
 4) நீர் எப்போதும் இலவசப் பண்டமாகும்.
 5) சூரிய அடுப்புக்கு பயன்படுத்தப்படும் சூரிய வெளிச்சம் இயற்கைப் பண்டமாகும்.
75. இலங்கையில் ஊழியப்படை பின்வருமாறு கணிப்பிடப்படுகின்றது.
 1) 10 வயதிற்கு மேற்பட்ட சனத்தொகையின் எண்ணிக்கையை கணிப்பதன் மூலம்.
 2) 10 வயதிற்கு மேற்பட்ட வேலை செய்பவர்களின் எண்ணிக்கையை கூட்டுவதன் மூலம்.

தேர்ச்சி - 01 - M.C.Q

- 3) 10 வயதும் அதற்கு மேற்பட்டதுமான வேலை செய்பவர்களையும் வேலை தேடுவோரையும் கூட்டுவதன் மூலம்.
 - 4) வேலை செய்வோரையும் வேலை தேடுவோரையும் கூட்டுவதன் மூலம்.
 - 5) 15 - 64 வயது சனத்தொகையிலிருந்து பொருளாதாரமற்ற முயற்சியில் ஈடுபடுவோரை கழிப்பதன் மூலம்.
76. பொருளியல் மாணவன் என்ற வகையில் நீர் ஏற்காத விடயம் எது?
- 1) பொருளாதாரமல்லாப் பண்டங்களுக்கு எல்லையற்ற நிரம்பல் உண்டு.
 - 2) தேவைகளை விட விருப்பங்கள் அளவற்றவை.
 - 3) மனித வாழ்க்கைக்கு இலவசப் பண்டங்களும் பொருளாதாரப் பண்டங்களும் பயன்படுகின்றன.
 - 4) அருமை மையப் பிரச்சனையாகும்.
 - 5) ஓரலகு உள்ளீட்டுக்கான வெளியீட்டின் அளவு அதிகரித்தல் வளங்களின் உற்பத்தித் திறன் அதிகரிப்பாகும்.
77. ஒரு நியமப் பொருளியல் கூற்றல்லாதது.
- 1) சென்ற வருடம் புதிய கொழும்பு நுகாவோர் விலைச்சுட்டி 7.6% ஆக அதிகரித்தது.
 - 2) வறியவர்களுக்கான சமுர்த்தி உதவிக் கொடுப்பனவுகள் அதிகரிக்கப்படல் வேண்டும்.
 - 3) 8% - 10% வரையிலான பொருளாதார வளர்ச்சியை ஏற்படுத்த வேண்டுமாயின் முதலீட்டை 35% - 40% வரை உயர்த்தல் வேண்டும்.
 - 4) நாட்டின் பிரச்சனையைத் தீர்ப்பதற்கு ஒரே நேரத்தில் 100% வேலையற்றோருக்கும் வேலை வழங்கவேண்டும்.
 - 5) இலங்கை போன்ற வளர்முக நாடுகள் தமது உற்பத்தியை மேலும் அதிகரிப்பதற்கு சிறந்த முகாமைத்துவ முறைகளைப் பயன்படுத்த வேண்டும்.
78. பிழையான கூற்றை தெரிவு செய்க.
- 1) செல்வந்த நாடுகளிலும் செல்வந்தர்களிலும் அருமைப் பிரச்சனை உண்டு.
 - 2) பொருளியலின் மையப்பிரச்சனை அருமையாகும்.
 - 3) நாட்டின் உற்பத்தி இயலளவை வளத்திரட்சி தீர்மானிக்கின்றன.
 - 4) இலங்கை கடலால் சூழப்பட்டுள்ளமையால் மீன்களுக்கு அருமையில்லை.
 - 5) சூரியஒளி, காற்று போன்வற்றுக்கு அருமை தோன்றுவதில்லை.
79. நிலைத்து நிற்கும் அபிவிருத்தி என்பது எதைக் குறிக்கின்றது?
- 1) உயர் பணவீக்கத்தைக் கட்டுப்படுத்தல்.
 - 2) விரைவான பொருளாதார வளர்ச்சியை ஏற்படுத்தல்.

தேர்ச்சி - 01 - M.C.Q

- 3) இயற்கை வளங்களைப் பாதுகாத்து நிகழ்கால எதிர்கால தலைமுறையினரின் தேவைகளை நிறைவேற்றும் வகையில் பொருளாதார அபிவிருத்தியை ஏற்படுத்தல்.
- 4) வளங்களைப் பூரணமாக பயன்படுத்தல்.
- 5) நியாயமற்ற வருமான பங்கீட்டினை உருவாக்கல்.

80. சமூகப் பொதுப்பணி மூலதனம் அல்லாதது

- 1) பாடசாலை
- 2) வைத்தியசாலை
- 3) பல்கலைக்கழகம்
- 4) மின் உற்பத்தி ஆலைகள்
- 5) கல்வியல் கல்லூரிகள்

81. பொருளியலில் இயற்கைப் பொருட்களை (Free Goods) விபரிக்கும் சிறந்த முறை.

- 1) நிலையான அமையச் செலவில் உற்பத்தி செய்யமுடியும் என்பதாகும்.
- 2) உற்பத்தியில் அருமையான வளங்கள் பயன்படுத்தப்படுவதில்லை என்பதாகும்.
- 3) நிலத்திலிருந்து நேரடியாக பெறப்படுகிறது என்பதாகும்.
- 4) அரசினால் இலவசமாக வழங்கப்படும் என்பதாகும்.
- 5) நுகர்வோருக்கு பூச்சியவிலையில் தாராளமாக கிடைக்கும் என்பதாகும்.

82. நவீன உற்பத்தி முறையானது பின்வரும் எவ்வியல்பினை அடிப்படையாகக் கொண்டிருக்கவில்லை.

- 1) பணம் பொதுவான பரிமாற்று ஊடகமாக காணப்படல்.
- 2) உற்பத்தித் திறன் மட்டம் உயர்வாக இருத்தல்.
- 3) தொழிற்பிரிப்பும் சிறப்புத்தேர்ச்சியும் இருத்தல்.
- 4) சர்வதேச வர்த்தக விருத்தி, நாணயமாற்றுவீத வளர்ச்சி என்பன காணப்படல்.
- 5) பொருட்கள் நேரடிப் பரிமாற்ற முறையில் இடம்பெறல்.

83. பின்வருவனவற்றில் இலவசப் பொருளுக்கு உதாரணமாகக் கூறக்கூடியது.

- 1) கப்பல் பயணத்தை மேற்கொள்ள பயன்படும் கடல் நீர்.
- 2) மின் விசிறியொன்றிலிருந்து பெறப்படும் காற்று.
- 3) குளத்தில் பெறப்படும் நீர்.
- 4) நிலவுக்குச் சென்ற விஞ்ஞானி சுவாசிப்பதற்குப் பயன்படுத்தும் வளி.
- 5) பசு தரும் பால்.

84. சரியான கூற்றினை இனங்காண்க.

- 1) முதலாளித்துவ பொருளாதாரமொன்றில் தனியார் முயற்சி மாத்திரமே உண்டு.
- 2) முதலாளித்துவப் பொருளாதாரமொன்றில் வளங்களின் ஒதுக்கீடானது சந்தைச் சக்திகளால் திசைப்படுத்தப்படுகின்றது.
- 3) மனித வாழ்க்கைக்கு இன்றியமையாத அனைத்துப் பண்டங்களும் சிக்கனப்பண்டங்களாகும்.

தேர்ச்சி - 01 - M.C.Q

- 4) சமதர்மப் பொருளாதாரத்தில் இலாபத்திற்கான செயற்பங்கு எதுவுமில்லை.
- 5) வளப்பற்றாக்குறை என்பது அனைத்து நாட்டிலும் இயற்கை வளங்களின் கிடைக்கக் கூடிய தன்மைக்கு ஒரு பெளதீக வரையறை உண்டு என்பதாகும்.
85. ஊழிய நிரம்பல் வளையி பின்னோக்கி நகர்வதற்கு காரணம் அல்லாதது.
- 1) தொழில் ஏற்படும் சலிப்புத் தன்மை.
 - 2) சமூகக் கடமைகளை நிறைவேற்றுதல்.
 - 3) வருமானவரி போன்றவற்றிலிருந்து தப்பித்துக் கொள்ளல்.
 - 4) ஊழியம் நோய்வாய்ப்பட்டிருத்தல்.
 - 5) சம்பள மட்டம் அதிகரித்தல்.
86. பொருளாதார முறைமைகள் வேறுபடுவதற்கான அடிப்படைக் காரணம்.
- 1) மனித தேவைகள் அதிகமாக இருத்தல்.
 - 2) அடிப்படைப் பொருளாதாரப் பிரச்சனைகள் பொதுவாக இருத்தல்.
 - 3) அடிப்படை பொருளாதாரப் பிரச்சனைகளுக்கு தீவுகாணும் முறையிலான வேறுபாடு.
 - 4) வருமானப் பகிர்வுப் பிரச்சனை இருத்தல்.
 - 5) வளங்கள் வரையறையுடையவை.
87. உற்பத்திசாத்திய எல்லையை நகர்த்தாத காரணியாக கொள்ள முடியாதது எது?
- 1) சாதன ஒதுக்கீட்டை அதிகரித்தல்.
 - 2) தனியார் மயப்படுத்தலினால் முகாமை திறமையாக்கப்படல்.
 - 3) வேலைக்கு அமர்த்தப்படாத உழைப்பு வேலைக்கு அமர்த்தப்படுதல்.
 - 4) புதிய தொழிலாளர்கள் வேலைகள் ஆட்சேர்க்கப்படுதல்.
 - 5) பொருள் ஒன்றுக்கான கேள்வி குறைதல்.
88. மாறுநிலைப் பொருளாதாரங்கள் எனக் குறிப்பிடக்க நாடு அல்லாதது எது?
- | | | |
|--------------|------------------|-------------|
| 1) சீனா | 3) வடகொரியா | 5) ருமேனியா |
| 2) பல்கேரியா | 4) செக் குடியரசு | |
89. தூய முதலாளித்துவ பொருளாதாரத்தின் முக்கிய அம்சம் பின்வருவனவற்றுள் எது?
- 1) வருமானப் பரம்பல் சமனாக இருத்தல்.
 - 2) உற்பத்திக் காரணிகள் அரசு, பொது உடமையாக இருத்தல்.
 - 3) கட்டிலனாகா கரமாக விலைப்பொறிமுறை இயங்குதல்.
 - 4) நுகர்வோர் இறைமை இருத்தல்.
 - 5) புறவாரிக் கிரயம் கருத்திற் கொள்ளப்படல்.

தேர்ச்சி - 01 - M.C.Q

90. பொருளாதாரமொன்று வருமான சமத்துவத்தை (ஒப்புரவு) பேண வேண்டியதன் காரணம் என்ன?
- 1) சென்மதி நிலுவைப் பற்றாக்குறையை சமப்படுத்த.
 - 2) வருமானம் கூடியவர்களின் வருமானத்தைக் குறைக்க.
 - 3) சமூகநலச் சேவைகளை மேற்கொள்ள.
 - 4) சமூக நீதியினூடாக வறுமை நிலையைக் குறைக்க.
 - 5) விருத்திமுறை வரியைப் பின்பற்ற
91. நவீன உற்பத்தியின் சிறப்பியல்பு அல்லாதது
- 1) பணத்தின் உபயோகம்
 - 2) பேரளவு உற்பத்தி
 - 3) சிறப்புத் தேர்ச்சி
 - 4) தனியார் மயமாக்கல்
 - 5) சர்வதேச வர்த்தக விருத்தி
92. பொருளாதார நன்மை கருதி குறித்த ஊழியம் வழங்கும் ஊழிய மணித்தியாலங்கள்
- 1) ஊழியப்படை
 - 2) ஊழிய வழங்கல்
 - 3) ஊழியப் பிரிப்பு
 - 4) மனித வளம்
 - 5) ஊழியப்படை பங்கு பற்றல் வீதம்
93. காரணித் திரட்டு என்பதன் கருத்து
- 1) உற்பத்திக் காரணிகளின் நிரம்பலும் உற்பத்தித் திறனும்
 - 2) முயற்சியாண்மையும், உட்கட்டுமான வசதிகளும்
 - 3) தொழில்நுட்ப கிடைப்பனவும் முகாமை மட்டமும்
 - 4) காரணி வளப்பேற்றின் அளவு
 - 5) அனைத்தும் சரியானவை.
94. மனித மூலதனம் எவ்வாறு மதிப்பிடப்படுகின்றது.
- 1) மனித மூலதனம் = அறிவு + ஆற்றல்
 - 2) மனித மூலதனம் = இறுதி மூலதனம் - ஆரம்ப மூலதனம்
 - 3) மனித மூலதனம் = பொருளாதாரப் பொதுப் + சமூகப் பொதுப் பணி மூலதனம் பணி மூலதனம்
 - 4) மனித மூலதனம் = மெய் சொத்துக்கள்
 - 5) மனித மூலதனம் = ஊழியப்படை - பயிற்றப்படாத தொழிலாளர்
95. முயற்சியாண்மையின் விசேட ஆளுமைப் பண்பாக கருத முடியாதது எது?
- 1) தலைமை தாங்கும் பங்கு
 - 2) தூரநோக்கு
 - 3) தன்னம்பிக்கை
 - 4) சாதனைப் படைக்கும் துணிச்சல்
 - 5) காரணிகளை இணைத்தல்
96. பின்வருவனவற்றுள் பொருளாதார நோக்கமாகக் கருதக்கூடியது?
- 1) நியாயத்துவத்தைக் கடைபிடித்தல்.
 - 2) புரண தொழில் நிலையை ஏற்படுத்தல்.
 - 3) பொருளாதார வளர்ச்சி அபிவிருத்தியை ஏற்படுத்தல்.

தேர்ச்சி - 01 - M.C.Q

- 4) பொருளாதார உறுதியை ஏற்படுத்தல்.
- 5) மேற்கூறிய யாவும்.

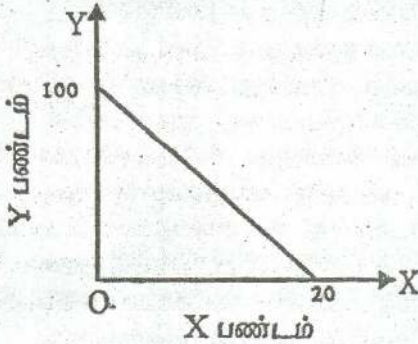
97. உழைப்பின் பண்பாக கருத முடியாதது.

- 1) அழியும் தன்மை உடையது
- 2) உயிர்வாழும் மனித வளம்
- 3) ஊழிய நிரம்பல் நிலையானது
- 4) உழைப்பு சக்தி பிரிபடும் தன்மையற்றது.
- 5) பேரம்பேசும் ஆற்றல் உடையது.

98. பின்வருவனவற்றுள் சரியான கூற்றைத் தெரிவு செய்க.

- 1) ஆக்க இயல்தகவு எல்லையின் நகர்வின் மூலம் சாதன ஒதுக்கீட்டில் ஏற்படும் மாற்றத்தைக் காட்டலாம்.
- 2) வெளிநோக்கி குவிவாக காணப்படும் சாத்திய வளையியானது அதிகரிக்கும் அமையச் செலவைக் குறிக்கும்.
- 3) யதார்த்தத்தில் சந்தர்ப்பச் செலவு வளையியானது ஏக பரிமாண வடிவமுடையதாக காணப்படும்.
- 4) உட்கிடையான செலவு ஏற்படுவதற்கு பிரதான காரணம் அருந்தல் ஆகும்.
- 5) சமவுடமைப் பொருளாதாரத்தில் பொருட்தட்டுப்பாடுகள், மிகை இருப்புக்கள் இருப்பதில்லை.

99. பின்வரும் சாத்திய வளையிக்குரிய சமன்பாட்டை இனங்காண்க.

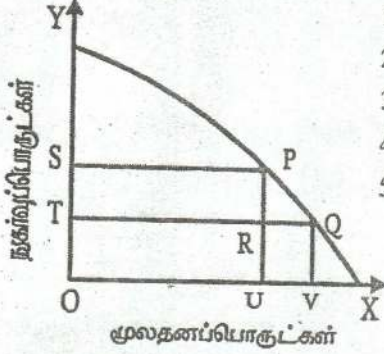


- 1) $Y = 20 - 0.2X$
- 2) $Y = 100 + 0.2X$
- 3) $Y = 100 - 0.2X$
- 4) $Y = 100 - 5X$
- 5) $Y = 20 + 5X$

100. பின்வருவனவற்றுள் இடைநிலைப் பொருட்களைக் கொண்ட தொகுதி எது?

- 1) எரிபொருள், பசளை, கிருமிநாசினி
- 2) எரிபொருள், பசளை, பெருந்தெருக்கள்
- 3) கிருமிநாசினி, துணி, இயந்திரம்
- 4) பொறிகள், உழைப்பு, மூலப்பொருட்கள்
- 5) விதைகள், கட்டிடம், மின்சாரம்

101. பின்வரும் சாத்திய வளையியின் அடிப்படையில் பொருளாதார வளர்ச்சிக்கான அமையச் செலவைக் குறிப்பிடுக.



- 1) OS எனும் அளவிளான நுகர்வுப் பொருள்
- 2) UV எனும் அளவான மூலதனப் பொருள்
- 3) ST எனும் அளவான நுகர்வுப் பொருள்
- 4) RQ எனும் அளவான மூலதனப் பொருள்
- 5) OT எனும் அளவான நுகர்வுப் பொருட்கள்

102. பின்வருவனவற்றுள் தவறான கூற்று அல்லாதது

- 1) அருமையான வளங்களை நிகழ்கால சமூகம் முழுமையாக பயன்படுத்துவதால் எதிர்கால சமூகம் பாதிக்கப்படும்.
- 2) நிறை தொழில்மட்ட நிலையினை எய்தியுள்ள ஒரு பொருளாதாரம் சாத்திய வளையியிக்கு இடதுபுற புள்ளியில் தொழிற்படலாம்.
- 3) வளங்களின் வினைத்திறனை முகாமை மட்டுமே தீர்மானிக்கின்றது.
- 4) திட்டமிடல் பொருளாதாரத்தில் அதிகரித்த அரசியல் தலையீடே அரசாங்கத் தோல்விக்கு பிரதான காரணியாகும்.
- 5) விவசாயப் பொருட்களுக்கான சாதன ஒதுக்கீட்டில் ஏற்படும் வீழ்ச்சி சாத்திய எல்லையில் ஒரு இடப்பெயர்ச்சியை ஏற்படுத்தும்.

103. சமூக விஞ்ஞானத்துக்குள் அடங்காத துறை எது?

- 1) பொருளியல்
- 2) அரசியல்
- 3) வரலாறு
- 4) இந்து நாகரீகம்
- 5) புவியியல்

104. புறவாரிக் கிரயம் இருப்பின்

- 1) தனிப்பட்ட கிரயத்தை விட சமூக கிரயம் உயர்வாகும்.
- 2) தனிப்பட்ட நன்மைகளை விட சமூக நன்மைகள் அதிகமாகும்.
- 3) தனியார் செலவுகளும் சமூகச் செலவுகளும் சமனாக காணப்படும்.
- 4) கேள்வி, நிரம்பல் கோடுகள் வலது புறம் நகரும்.
- 5) குறை உற்பத்தி ஏற்பட்டு சந்தைத் தோல்வி ஏற்படும்.

105. கட்டில்லா சந்தைப் பொருளாதாரம் ஒன்றில் அரசாங்கம் தலையிட காரணமல்லாதது

- 1) வருமான சமமின்மையை நீக்குதல்.
- 2) பொதுப் பண்ட உற்பத்திகளை வழங்கல்.
- 3) வெளிவாரி விளைவுகளை ஒழுங்குபடுத்தல்.
- 4) சட்டத்தையும் ஒழுங்கையும் கையாளல்.
- 5) இலாப நோக்கினை தூண்டுதல்.

தேர்ச்சி - 01 - M.C.Q

106. ஒரு சமவட்டம் பொருளாதாரத்திலிருந்து சந்தைப் பொருளாதாரம் எவ்வகையில் வேறுபடுகிறது.

- 1) பொருளாதாரத்தில் பெரும்பங்கு அரசுடமையாக இருக்கும்.
- 2) வருமான ஏற்றத்தாழ்வு ஒப்பீட்டளவில் குறைவாகும்.
- 3) விலைப் பொறிமுறையே தீர்மானங்களை மேற்கொள்ளும்.
- 4) அரசின் உயர்சேவைக் குழு தீர்மானங்களை மேற்கொள்ளும்.
- 5) தனியார் முயற்சியாண்மையும் அரசாங்க முயற்சியாண்மையும் இணைந்து காணப்படும்.

107. பின்வருவனவற்றுள் எது தொழிற்பிரிப்பின் பிரதான நன்மையாகும்.

- 1) உற்பத்தி செலவு குறைதல்.
- 2) நேரச் சிக்கனம் ஏற்படல்.
- 3) தொழிலாளர் திருப்தி கொள்ளல்.
- 4) பொருட்கள் சேவைகளின் தரம் அதிகரிக்கும்.
- 5) தொழிலாளர் சலிப்புத் தன்மை அடைவர்.

108. ஓர் உற்பத்திசாத்திய வளையில் இரண்டு பொருட்களினதும் உற்பத்தியையும் ஒரே நேரத்தில் அதிகரிக்க முடியவில்லை. இதனால் விளக்கப்படும் எண்ணக்கரு யாது?

- 1) வேலையின்மை
- 2) பங்கீட்டு வினைத்திறன்
- 3) உற்பத்தி வினைத்திறன்
- 4) பொருாதார வளர்ச்சி
- 5) வேலையின்மை குறைவு

109. வங்கியொன்றின் வைப்பாளர் ஒருவருக்கு பரிசுச் சீட்டிழுப்பில் பரிசொன்று கிடைக்கின்றது. இதன் மூலம் 50 இலட்சம் பெறுமதியான வீட்டினை அல்லது 40 இலட்சம் பெறுமதியான வாகனத்தை பெறமுடியும். இவர் வாகனத்தை பெறுவதற்கான அமையச் செலவு யாது?

- 1) ரூபா 40 இலட்சம்
- 2) ரூபா 10 இலட்சம்
- 3) ரூபா 90 இலட்சம்
- 4) ரூபா 50 இலட்சம்
- 5) ரூபா 60 இலட்சம்

110. ஓர் உற்பத்திசாத்திய வளைகோட்டில் அமைந்துள்ள ஒரு உற்பத்தி சேர்க்கையானது நுகர்வோர் சுவையைக் காட்டுவதுடன் உரிய வீதத்தில் வளங்கள் ஒதுக்கப்பட்டுள்ளமையையும் காட்டுகிறது. இதன் கருத்து என்ன?

- 1) பங்கீட்டில் வினைத்திறன்
- 2) ஊழிய வினைத்திறன்
- 3) உற்பத்தியில் வினைத்திறன்
- 4) நிறைதொழில் மட்டம்
- 5) மூலதன உற்பத்தித்திறன்.

111. பண்டம் என்பதை எவ்வாறு வரையறுப்பீர்?

- 1) உற்பத்திச் செலவுடைய பொருட்கள் சேவைகள்.
- 2) அமையச் செலவின்றி கிடைக்கும் பொருட்கள் சேவைகள்
- 3) நுகர்வோர் தேவையினை நிறைவேற்ற முடியாத பொருட்கள் சேவைகள்.

தேர்ச்சி - 01 - M.C.Q

- 4) நுகர்வோர் தேவையினை திருப்திப்படுத்தும் பொருட்கள் சேவைகள்.
- 5) அருமையின்றி கிடைக்கும் பொருட்கள் சேவைகள்.

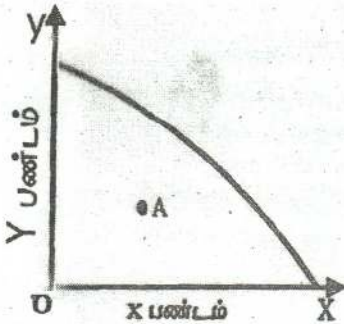
112. அருமை என்ற எண்ணக்கருவை முதலில் முன்வைத்தவர்

- 1) அடம்ஸ்மித்
- 2) சாமுவெல்ஸ்
- 3) லெனின்
- 4) லயனல் ரொபின்சன்
- 5) கெயின்ஸ்

113. பிழையான கூற்றை இனங் காண்க.

- 1) ஆக்கக் காரணிகள் அனைத்தும் பெறுமான இழப்புக்கு உட்படுகின்றன.
- 2) இலாபம் நிதிவருட முடிவிலான ஓர் ஒப்பந்தக் கொடுப்பனவாகும்.
- 3) உயிர்வாழா வளமான நிலம் குறைந்து செல்லும் எல்லை விளைவு விதிக்கு உட்பட்டது.
- 4) குறிப்பிடதொரு நேரத்தில் உள்ள நிலையான சொத்துக்கள் இருப்பு மாறி ஆகும்.
- 5) தனியார் முதலீடுகளானவை இலாபத்தன்மையாலும் பாதுகாப்புத் தன்மையாலும் தீர்மானிக்கப்படுகின்றன.

114. கீழுள்ள உற்பத்திசாத்திய வளையியின் படி தவறான கூற்றைத் தெரிக.



- 1) இரு பண்ட உற்பத்திகளிலும் வேலையின்மையை குறைக்க முடியும்.
- 2) X பண்ட உற்பத்தியைக் குறைக்காமல் Y பண்ட உற்பத்தியை அதிகரிக்க முடியும்.
- 3) Y பண்ட உற்பத்தியை குறைக்காமல் X பண்ட உற்பத்தியை அதிகரிக்க முடியும்.
- 4) அமையச் செலவின்றி இரு பண்டங்களினதும் உற்பத்தியை அதிகரிக்கலாம்.
- 5) குறித்தவொரு பண்ட உற்பத்தியை அதிகரிப்பதற்கு மற்றைய பண்ட உற்பத்தியைக் குறைத்தல் வேண்டும்.

115. பெருந்தொரு அமைப்பதற்கான சந்தர்ப்பச் செலவு

- 1) பாதை அமைப்பதற்கு செலவிடப்பட்ட பணம்
- 2) பாதை அமைக்கப்படாதிருந்தால் உற்பத்தி செய்திருக்கக் கூடிய பொருட்கள் சேவைகளின் அளவு.
- 3) பாதை அமைப்பதற்காக அரசாங்கம் பெற்ற கடன்.
- 4) பாதை அமைப்பதற்காக வரிமுலம் சேகரிக்க வேண்டியேற்பட்ட வரியின் அளவு.
- 5) பாதை அமைப்பினால் ஏற்பட்ட உற்பத்திச் செலவு வீழ்ச்சி.

116. பின்வருவனவற்றுள் நிறுவன ரீதியான தொழில் பிரிப்பு எது?

- 1) சீனி உற்பத்தி செய்யும் நிறுவனத்தின் தொழில் பிரிப்பு

தேர்ச்சி - 01 - M.C.Q

- 2) இந்தியாவின் பருத்தி உற்பத்தி
 - 3) இலங்கையில் மலையக பிரதேசத்தின் தேயிலை உற்பத்தி
 - 4) புத்தளத்தில் தேங்காய் உற்பத்தி
 - 5) அமெரிக்காவில் கணணி உற்பத்தி
117. பொருளியல் மாணவன் என்ற ரீதியில் ஏற்றுக்கொள்ளாத விடை எது?
- 1) உற்பத்திக் காரணிகள் எல்லாவற்றினதும் நிரம்பல் ஒரே சீராக அதிகரிக்க வாய்ப்பில்லை.
 - 2) நவீன பொருளாதாரம் ஒன்றின் உற்பத்தி அதிகரிப்பிற்கு தொழில்நுட்ப முன்னேற்றம் காரணமாகும்.
 - 3) கீழ் உழைப்பு நிலவுகின்ற போது சாத்திய வளையியின் இடதுபுறத்தில் ஓர் புள்ளியில் உற்பத்தி நடைபெறும்.
 - 4) உற்பத்தியின் போது ஏற்படும் வெளிவாரி விளைவுகளை விலைப் பொறிமுறை மொத்த விலைக்குள் உள்ளடக்குவதில்லை.
 - 5) உள்ளீட்டின் அதிகரிப்பின் வீதமும், உற்பத்தியின் அதிகரிப்பு வீதமும் சமனாக இருப்பதே வினைத்திறன் அதிகரிப்பாகும்.
118. மூலதன ஆக்கத்தின் நிதி மூலாதாரம் என்ற வகையில் வியாபார சேமிப்பு என்பதனுள் உள்ளடங்காதவை எவை?
- 1) பகிர்ந்தளிக்கப்படாத இலாபம்
 - 2) பங்குப் பத்திரம்
 - 3) தேய்வு ஒதுக்கம்
 - 4) பொது ஒதுக்கம்
 - 5) தொகுதிக் கடன் ஒதுக்கம்
119. சமூகப்பணி மூலதனத் தொகுதி எது?
- 1) கல்வி, சுகாதாரம், தொடர்பாடல், போக்குவரத்து
 - 2) கல்வி, சுகாதாரம், இயந்திரம், பங்கு முதல்
 - 3) கல்வி, சுகாதாரம், கடற்றொழில், போக்குவரத்து
 - 4) கல்வி, சுகாதாரம்? வீடமைப்பு, பொழுதுபோக்கு வசதிகள்
 - 5) கல்வி, சுகாதாரம், தொலைதொடர்பு வர்த்தகம்.
120. நிறைதொழில் மட்டத்திலுள்ள பொருளாதாரத்தில் வளங்கள் மேலும் திறமையாக ஒதுக்கிடப்படின்
- 1) தலாவருமானம் ஒப்புரவுத் தன்மையுடையதாக பகிரப்படும்.
 - 2) தலாவருமானம் அதிகரிப்பதில்லை.
 - 3) வேலையின்மை நிலவும்.
 - 4) மெய்த்தலா வருமானமட்டம் உயரும்.
 - 5) உற்பத்தியாளர் நன்மையடைவர்.
121. பொருளாதாரப் பொதுப் பணி மூலதனம் (பொருளாதார மேந்தலை) என்பதன் சரியான கூற்று எது?
- 1) நாட்டின் கைத்தொழில் துறையை மேம்படுத்துவதற்காக மேற்கொள்ளப்படும் முதலீடுகள்.

தேர்ச்சி - 01 - M.C.Q

- 2) பொருளாதார வளர்ச்சியை மேம்படுத்தி வாழ்க்கைத் தரத்தை உயர்த்துவதற்காக மேற்கொள்ளப்படும் முதலீடுகள்.
 - 3) பொருளாதார, சமூகநலனை மேம்படுத்தி வாழ்க்கைத் தரத்தை அதிகரிப்பதற்காக மேற்கொள்ளப்படும் முதலீடுகள்.
 - 4) வேலை வாய்ப்புக்களை ஏற்படுத்துவதற்கான முதலீடுகள்.
 - 5) பொருளாதார வளர்ச்சியை ஏற்படுத்துவதற்கான முதலீடுகள்.
122. அபிவிருத்தி அடைந்த நாடுகளுக்கு பொருத்தமற்றது.
- 1) மனிதவள அபிவிருத்திச் சுட்டெண் உயர்வாகும்.
 - 2) கல்வி கற்றோர் வீதம் குறைவாகும்.
 - 3) விஞ்ஞான தொழிநுட்ப அறிவு வளர்ச்சியடைந்திருக்கும்.
 - 4) கீழ் உழைப்பு, வேலையின்மை காணப்படும்.
 - 5) தொழில்நுட்ப பெறுபேற்றுச் சுட்டி அதிகமாகும்.
123. அடிப்படை பொருளாதாரப் பிரச்சனையுடன் தொடர்புடைய பிழையான கூற்று எது?
- 1) எவ்வாறு பங்கீடு செய்தல் வருமானப் பகிர்வுப் பிரச்சனையுடன் தொடர்புடையது.
 - 2) வள ஒதுக்கீட்டுப் பிரச்சனை உற்பத்தி தெரிவில் தங்கியுள்ளது.
 - 3) எவ்வாறு உற்பத்தி செய்தல் காரணித் தெரிவுகளில் தங்கியுள்ளது.
 - 4) வளஅருமை மாற்றுப்பயன்பாட்டினால் தீர்வுகாண வேண்டிய பிரச்சனைகள் ஏற்படுகின்றன.
 - 5) அடிப்படை பிரச்சனைகள் நாடுகளுக்கிடையே வேறுபடுகின்றன.
124. கீழ்வருவனவற்றுள் எதற்கு அமையச் செலவு ஏற்படுவதில்லை.
- 1) பல்கலைக்கழக மாணவரின் கல்விச் செலவு
 - 2) தேசிய மட்ட விளையாட்டு சான்றிதழ்
 - 3) ஆடையை உலரவைக்கப்படும் சூரியஒளி
 - 4) வெளிநாட்டிலிருந்து வருகை தந்து இலங்கையில் பெறும் சூரியக்குளியல்.
 - 5) சொந்த சேமிப்பின் சொந்த முதலீடு
125. அடிப்படைய பொருளாதாரப் பிரச்சனைகள் தோன்றுவது?
- 1) சந்தைப் பொருளாதாரங்களில்
 - 2) அபிவிருத்தியடையாத பொருளாதாரங்களில்
 - 3) மத்திய திட்டமிடல் பொருளாதாரங்களில்
 - 4) மாறுநிலைப் பொருளாதாரங்களில்
 - 5) எல்லா பொருளாதார முறைகளிலும்
126. மெய்க்கூலி என்பதனால் கருதப்படுவது
- 1) மொத்தச் சம்பளத்திலிருந்து வரிகளைக் கழித்த பின் கிடைக்கும் சம்பளமாகும்.

- 2) மொத்தச் சம்பளத்துடன் மாற்றல் பெறுகைகளைக் கூட்டியபின் கிடைக்கும் சம்பளமாகும்.
 - 3) பணரீதியான சம்பளத்தை ஒரு நுகர்வோர் விலைச் சுட்டெண்ணால் சுருக்கிய பின் கிடைக்கும் வருமானமாகும்.
 - 4) ஊழியனொருவன் உண்மையாகப் பெறும் தேறிய சம்பளமாகும்.
 - 5) கடன் தவணைப் பணத்தையும் அதற்குரிய வட்டியையும் கழித்த பின் கிடைக்கும் சம்பளமாகும்.
127. பொருளியலின் ஆய்வு முறை அல்லாதது.
- 1) நேர்ப் பொருளியல்
 - 2) மெய்ப்பொருளியல்
 - 3) நியமப் பொருளியல்
 - 4) பேரினப் பொருளியல்
 - 5) நலப் பொருளியல்
128. மனித தேவைகளின் தன்மையாக கொள்ளப்படாதது
- 1) மனிதத் தேவைகள் பலதரப்பட்டவை.
 - 2) மனிதத் தேவைகள் வளர்ச்சியடைந்து செல்பவை.
 - 3) விருப்பம், பயன் அடிப்படையில் வேறுபடுகின்றது.
 - 4) நுகர்வினால் தேவை புர்த்தியடைவது மட்டுமன்றி அதிலிருந்து புதிய தேவைகள் உருவாகின்றன.
 - 5) தேவைகள், விருப்பங்களை விட எண்ணற்றவை.
129. பொருளாதார நலன்கருதி உழைப்பை வழங்கும் பிரிவு அல்லாதோர்
- 1) தொழில் கொள்வோர்
 - 2) தொழில் தேடுவோர்
 - 3) சம்பளமின்றி குடும்பவருமான செயற்பாட்டில் ஈடுபடுவோர்
 - 4) சுயதொழில் புரிவோர்
 - 5) சம்பளம் பெறுவோர்
130. சந்தை முறையின் விலைத் தொழிற்பாடு அல்லாதது.
- 1) தூண்டல் தொழிற்பாடு
 - 2) ஒதுக்கீட்டுத் தொழிற்பாடு
 - 3) விலைத் தொழிற்பாடு
 - 4) பங்கீட்டுத் தொழிற்பாடு
 - 5) சமீக்கைத் தொழிற்பாடு
131. பொதுப்பண்டம் ஒன்றின் இன்றியமையாத இயல்பு ஒன்று
- 1) அமையச் செலவிலும் குறைந்த விலையில் விலக்குதல் விதியில் பொதுத் துறையால் வழங்கப்படுவது.
 - 2) சந்தை விலையிலும் குறைந்த விலையில் விலக்குதல் விதியில் தனியார் துறையால் வழங்கப்படுவது.
 - 3) அரசு, தனியார் துறை இரண்டினாலும் சந்தை விலையிலும் குறைந்த விலையில் வழங்கப்படுவது.
 - 4) ஒருவரது நுகர்ச்சியை ஏனையோரால் தடுக்க முடியாதிருத்தல்.
 - 5) அமையச் செலவின்றி உற்பத்தி செய்யப்படுவது.
132. உற்பத்திசாத்திய வளையியானது இடமிருந்து வலமாக மேலிருந்து கீழாக நகருவதற்கு காரணமாக அமைவது.
- 1) வளங்களின் சிறப்புத் தன்மை

தேர்ச்சி - 01 - M.C.Q

- 2) வளங்களின் மாற்றுப் பயன்பாடற்ற தன்மை
- 3) வளங்களின் பிரயோகம்
- 4) வளங்களின் அருமை
- 5) வளங்களின் வேறுபாடு

133. பின்வருவனவற்றில் நியமக் கூறாக அமைவது எது?

- 1) பொருளியலாளர்கள் இயற்கை வளங்களை புதுப்பிக்கத்தக்க வளங்கள் மற்றும் புதுப்பிக்கப்படமுடியா வளங்கள் என வகைப்படுத்துகின்றனர்.
- 2) சுற்றாடல் என்பது அருமையான வளத்திற்கான ஓர் உதாரணமாகும்.
- 3) பொருளாதாரங்கள் வரையறையற்ற விருப்பங்களை பூர்த்தி செய்ய வரையறுக்கப்பட்ட வளங்களைக் கொண்டுள்ளன.
- 4) இலங்கையின் பணவீக்கம் தற்போது ஒற்றை இலக்கத்தில் உள்ளது.
- 5) வருமானம் சமமற்ற முறையில் பங்கீடு செய்யப்படுவது நியாயமற்றதாகும்.

134. நிறை தொழில் மட்டத்திலுள்ள பொருளாதாரமொன்றில் மூலதன முதலீட்டினை அதிகரித்துக் கொள்வதற்கான அமையச் செலவாக அமைவது.

- 1) நுகர்வில் ஏற்படும் ஒரு வீழ்ச்சி
- 2) வருமானத்தில் ஏற்படும் ஒரு வீழ்ச்சி
- 3) சேமிப்பில் ஏற்படும் ஒரு அதிகரிப்பு
- 4) வட்டிவீதத்தில் ஏற்படும் ஒரு அதிகரிப்பு
- 5) வெளியீட்டில் ஏற்படும் ஒரு வீழ்ச்சி

135. “மாறுநிலைப் பொருளாதாரம்” (Transition Economy) என்பதால் விபரிக்கப்படுவது.

- 1) ஊழியச் செறிவுடைய முறைகளுக்குப் பதிலாக மூலதனச் செறிவுடைய முறைகளை கைக்கொள்ளும் ஒரு நாட்டையாகும்.
- 2) மத்திய திட்டமிடலிலிருந்து சந்தைமுறைமையை நோக்கி நகரும் ஒரு நாட்டையாகும்.
- 3) குறைந்த வருமானம் பெறும் நாடுகளின் வரிசையிலிருந்து நடுத்தர வருமானம் பெறும் நாடுகள் வரிசைக்கு நகரும் நாட்டையாகும்.
- 4) வர்த்தக நிலுவைப் பற்றாக்குறை நிலையிலிருந்து வர்த்தக நிலுவை மிகைநிலைக்கு மாறும் நாட்டையாகும்.
- 5) பாரம்பரிய பொருளாதாரத்திலிருந்து மத்திய திட்டமிடற் பொருளாதாரமாக மாறும் ஒரு நாட்டையாகும்.

136. மத்திய திட்டமிடற் பொருளாதார முறைமையின் ஒரு முக்கிய பண்பாக அமைவது

- 1) வளஒதுக்கீடு சார்பு விலைகளை அடிப்படையாக கொண்டிருப்பதாகும்.
- 2) பொருளாதார வளர்ச்சிக்கு அடிப்படையாகவுள்ள தனியார் சொத்துரிமை காணப்படுவதாகும்.

- 3) பொருளாதாரத்தில் பொருள்களையும் சேவைகளையும் எவ்வாறு சிறப்பாக உற்பத்தி செய்யலாம் என்பது பற்றிய தீர்மானங்கள் அரசாங்க கொள்கை வகுப்பாளர்களால் மேற்கொள்ளப்படுவதாகும்.
 - 4) சந்தை பொருளாதார முறையைவிட அதிசிறந்த பொருளாதார வினைத்திறனை அடைவதாகும்.
 - 5) வருமானம் மற்றும் செல்வம் என்பன மிகவும் சமமற்ற விதத்தில் பங்கீடு செய்யப்படுவதாகும்.
137. வளங்களின் அருமைத்தன்மைக் காரணமாக
- 1) ஒவ்வொரு சமூகமும் மத்திய திட்டமிடலை மேற்கொள்ள வேண்டும்.
 - 2) அரசாங்கம் கிடைக்கப்பெறும் வளங்களை எவ்வாறு ஒதுக்கீடு செய்வதென தீர்மானிக்க வேண்டும்.
 - 3) ஒவ்வொரு சமூகத்திலும் வாழும் அங்கத்தவர்கள் சிலர் வறுமை நிலையில் வாழ வேண்டும்.
 - 4) ஒவ்வொரு சமூகமும் கிடைக்கப்பெறும் வளங்களை மாற்றுப் பயன்பாடுகளுக்கிடையே தெரிவு செய்ய வேண்டும்.
 - 5) கிடைக்கப்பெறும் வளங்களின் அளவு அவற்றின் சாத்தியமான பயன்பாடுகளைவிட அதிகமாக இருக்கும்.
138. சமூகத்தில் பின்வருவனவற்றில் உற்பத்தி இயல்தகவு எல்லையை வெளிப்புறமாக நகர்வடையச் செய்யாதது
- 1) தொழில்நுட்ப முன்னேற்றமாகும்.
 - 2) தாராள வர்த்தகத்தை நோக்கியதான மிக வெளிப்படையான ஒரு நகர்வாகும்.
 - 3) வேலையின்மை வீழ்ச்சியடைவதாகும்.
 - 4) பொதுமக்களின் கல்வி மட்டத்தில் ஏற்படும் அதிகரிப்பாகும்.
 - 5) உற்பத்தித் திறனில் ஏற்படும் முன்னேற்றமாகும்.
139. எல்லா உற்பத்தி நடவடிக்கைகளிலும் வளங்கள் பூரண பதிலீடுகளாகப் பயன்படுத்தப்படுமாயின் பின்வருவனவற்றில் எக்கூற்று உண்மையாகும்?
- 1) சகல பொருள்களினதும் வெளியீட்டை பூச்சிய அமையச் செலவில் அதிகரிக்கலாம்.
 - 2) உற்பத்தி இயல்தகவு வளையி ஒரு நேர்கோடாகும்.
 - 3) சிறப்புச் தேர்ச்சியும் பரஸ்பர நன்மையுள்ள வர்த்தகமும் ஏற்படுவது சாத்தியமில்லை.
 - 4) ஒரு நாடோ அல்லது தனிநபரோ எந்தவொரு நடவடிக்கைகளிலும் ஒப்பீட்டு நன்மையைக் கொண்டிருக்க முடியாது.
 - 5) வளங்களின் அருமைத்தன்மை அறவே ஒழிக்கப்படும்.
140. பின்வருவனவற்றுள் எது கட்டாயமாக ஒரு சிற்றினப் பொருள் தலைப்பாகும்.
- 1) வட்டி வீதங்களில் ஏற்படும் பொதுவானதோர் அதிகரிப்பு.
 - 2) பணவீக்கத்தில் ஏற்படும் ஒரு வீழ்ச்சி.

தேர்ச்சி - 01 - M.C.Q

- 3) ஐக்கிய அமெரிக்காவின் மொத்த உள்நாட்டு உற்பத்தியில் ஏற்படும் ஓர் அதிகரிப்பு.
- 4) இலங்கையில் வேலையின்மை வீதத்தில் ஏற்படும் ஓர் வீழ்ச்சி.
- 5) பால்மா விலையில் ஏற்படும் ஒரு அதிகரிப்பு.

141. இலவசப் பண்டமொன்று பின்வரும் பண்புகளின் எப்பண்பினைக் கொண்டிருக்கும்?

- 1) அது நிரம்பலில் அமையச் செலவைக் கொண்டிருக்காது.
- 2) அதன் நுகர்வு சமூகரீதியில் விரும்பத்தக்கதாகையால் பொதுவாக அது அரசாங்கத்தினாலே நிரம்பல் செய்யப்படும்.
- 3) அதன் உற்பத்தி அல்லது நுகர்வில் வெளிவாரிகள் காணப்படமாட்டாது.
- 4) அது பூரண நெகிழ்வற்ற நிரம்பலைக் கொண்டிருக்கும்.
- 5) அதன் உற்பத்தி குறைந்து செல்லும் விளைவு விதிக்கு உட்பட்டதாகும்.

142. பின்வருவனவற்றில் எது தாராள சந்தை முறையின் அடிப்படைப் பண்பாகும்.

- 1) அரசாங்கத்தின் தலையீடு அதிகளவில் காணப்படல்.
- 2) வளங்களின் உரிமை பொதுவாக இருத்தல்.
- 3) தனியார் சொத்துரிமை நிலவுதல்.
- 4) மத்திய திட்டமிடலாளர்கள் விலைகள் மற்றும் கூலிகளைத் தீர்மானித்தல்.
- 5) தொழில்வழங்குநர்கள் பொருத்தமான தொழிற் திறன்களைக் கொண்ட தொழிலாளர்களை வேலைக்கமர்த்தும் பொருட்டு அரச முகவர் நிலையங்களின் வழிகாட்டல்களை கோருவர்.

143. உற்பத்தி இயல்தகவு எல்லையின் உள்ளே அமைந்துள்ள ஒரு புள்ளியானது

- 1) வேலையற்றிருக்கும் வளங்கள் சில உள்ளதைக் குறிப்பிடும்.
- 2) அடைய முடியாத ஒன்றாகும்.
- 3) உற்பத்தி இயல்தகவு எல்லையின் மீதுள்ள புள்ளிகளைவிட சிறந்த ஒன்றாகும்.
- 4) வளங்கள் பூரணமாக வேலை கொள்ளப்பட்டுள்ளதைக் குறிப்பிடும்.
- 5) அமையச் செலவு பற்றிய கருத்தினை வெளிப்படுத்தும்.

144. வீட்டுத்துறையினரும் நிறுவனத்துறையினரும் தனித்தனியே

மேற்கொள்ளும் தீர்மானங்கள் பற்றி ஆய்வு செய்யும் பொருளியல் ஆய்வுப் பிரிவானது

- 1) பேரினப் பொருளியல் ஆகும்.
- 2) சிற்றினப் பொருளியல் ஆகும்.
- 3) நேர்ப் பொருளியலாகும்.
- 4) நியமப் பொருளியலாகும்.
- 5) மனைப் பொருளியலாகும்.

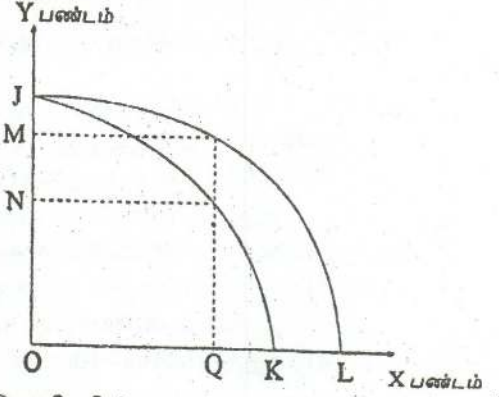
தேர்ச்சி - 01 - M.C.Q

145. பின்வருவனவற்றில் நியமக் கூற்றாக அமைவது எது?
- 1) பொருளியலாளர்கள் பொருளாதார வளங்களை நிலம், உழைப்பு, மூலதனம் முயற்சியென வகைப்படுத்துகின்றனர்.
 - 2) சுற்றாடல் என்பது அருமையான வளத்திற்கான ஓர் உதாரணமாகும்.
 - 3) வருமானம் உயர்வடையுமாயின் ஆடம்பரப் பண்டங்களின் விற்பனை வீழ்ச்சியடையும்.
 - 4) அளவற்ற விருப்பங்களைப் பூர்த்தி செய்யும் பொருட்டு பொருளாதாரங்கள் வரையறுக்கப்பட்ட வளங்களையே கொண்டுள்ளன.
 - 5) சமமற்ற வளப்பகிர்வானது நியாயமற்ற ஒன்றாகும்.

146. பின்வருவனவற்றில் இயற்கை வளத்திற்கு ஓர் உதாரணமாக அமைவது எது?

- | | |
|----------------------------|----------------------------|
| 1) விக்ரோறியா அணைக்கட்டு | 4) கோழிப் பண்ணை |
| 2) அம்பாந்தோட்டை துறைமுகம் | 5) துன்ஹிந்தை நீர்வீழ்ச்சி |
| 3) வயல் நிலம் | |

147. X பண்ட உற்பத்தியில் செல்வாக்குடைய தொழில்நுட்ப மாற்றத்திற்கு முன்னும் பின்னும் காணப்படும் உற்பத்தி இயல்தகவு வளையிகள் வரைபடத்திற்காட்டப்பட்டுள்ளன.



X பண்டத்தின் முழு அளவை உற்பத்தி செய்வதற்கான அமையச் செலவானது Y பண்டம் தொடர்பில் வீழ்ச்சியடைந்துள்ளமையைச் சரியாகக் காட்டும் இடைவெளி பின்வருவனவற்றில் எது?

- | | | |
|-------|-------|-------|
| 1) JO | 3) MN | 5) QK |
| 2) JN | 4) KL | |

148. உற்பத்திக் காரணிகள் தனியாருக்கு உரிமையாக இருத்தல். சந்தையூடான வள ஒதுக்கீடு, பன்முகப்படுத்தப்பட்ட தீர்மானமெடுத்தல் போன்ற பண்புகளைக் கொண்டுள்ள பொருளாதார முறைமை

- 1) சந்தைப் பொருளாதாரமாகும்.
- 2) மரபுரீதியான பொருளாதாரமாகும்.
- 3) சமூகச் சந்தைப் பொருளாதாரமாகும்.
- 4) கட்டளைப் பொருளாதாரமாகும்.
- 5) மத்திய திட்டமிடற் பொருளாதாரமாகும்.

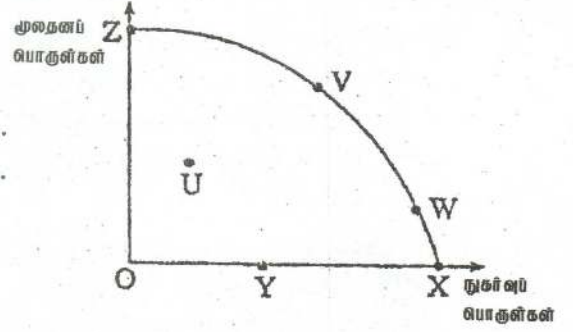
149. மூடப்பட்ட பொருளாதார முறையொன்றில் உள்ள தீர்மானம் மேற்கொள்ளும் 3 செயற்பாட்டாளர்கள்.

- 1) வீட்டுத்துறையினர், வியாபார நிறுவனங்கள், மற்றும் வங்கிகள் ஆகும்.

- 2) வீட்டுத்துறையினர், வியாபார நிறுவனங்கள் மற்றும் அரசாங்கம் ஆகும்.
 - 3) வீட்டுத்துறையினர், அரசாங்கம் மற்றும் கூட்டுறவு சங்கங்கள் ஆகும்.
 - 4) வியாபார நிறுவனங்கள், அரசாங்கம் மற்றும் வங்கிகள் ஆகும்.
 - 5) வியாபார நிறுவனங்கள், அரசாங்கம் மற்றும் கூட்டுறவு சங்கங்கள் ஆகும்.
150. சுதந்திரமான சந்தை பொருளாதாரமொன்றில் விலைப் பொறிமுறையின் தொழிற்பாடு தொடர்பான பின்வரும் கூற்றுக்களில் சரியானது எது?
- 1) சந்தைவிலை உயர்வடைய அனுமதிப்பதனுடாகப் பொருளொன்றின் மிகை நிரம்பலை அகற்றுகிறது.
 - 2) விலையுறுதி நிலையை உறுதி செய்கிறது.
 - 3) உற்பத்தி இலக்குகளை நிர்ணயிக்கும் பொருட்டு விலைப் பொறிமுறையை அரசாங்கம் பயன்படுத்துகிறது.
 - 4) விலைகள் வீழ்ச்சியடைகின்றமை நிறுவனங்கள் சந்தையில் நுழைவதை ஊக்குவிக்கும்.
 - 5) விலைப் பொறிமுறையானது ஒரு பங்கீட்டு உபகரணமாகத் (rationing device) தொழிற்படுகிறது.
151. கலப்புப் பொருளாதார முறைமைகள் காணப்படுவதற்கான காரணங்களில் ஒன்று
- 1) சுதந்திரமான சந்தைப் பொருளாதாரமானது தனியார் சொத்துரிமைகளை உறுதி செய்யாமையாகும்.
 - 2) இலாப நோக்கமானது எப்போதும் விரும்பத்தக்கதாக இல்லாமையாகும்.
 - 3) நிறுவனங்களுக்கு இடையிலான போட்டித்தன்மையானது நுகர்வோன் நலன் உச்சப்படுத்தப்படுவதை உறுதி செய்கின்றமையாகும்.
 - 4) சுதந்திரமான சந்தைப் பொருளாதாரமானது சந்தைத் தோல்விக்கு இட்டுச் செல்லலாம் என்பதாகும்.
 - 5) சுதந்திரமான சந்தைப் பொருளாதாரமானது எப்போதும் வளங்களை வினைத்திறனுடன் ஒதுக்கீடு செய்கிறது என்பதாகும்.
152. நுகர்வோன் இறைமை ஏற்படுவது.
- 1) நுகர்வோன் கேள்வியானது எது உற்பத்தி செய்யப்பட வேண்டும் என்பதை நிர்ணயிக்கும் போதாகும்.
 - 2) நுகர்வோன் தான் ஒரு பொருளுக்கு செலுத்த விரும்பும் விலையை விடக் குறைந்த விலையினை செலுத்தும் போதாகும்.
 - 3) சந்தையில் பொருளுக்கு விளம்பரம் இல்லாத போதாகும்.
 - 4) கேள்வி நிரம்பலுக்கு சமப்படும் போதாகும்.
 - 5) சந்தையில் தெரிவொன்றை மேற்கொள்ள வாய்ப்பிருக்கும் போதாகும்.
153. இங்குள்ள வரைபடமானது நாடொன்றின் உற்பத்தி இயல்தகவு வளையியைக் காட்டுகிறது. பின்வருவனவற்றில் எப் புள்ளிகளுக்கிடையிலான அசைவு அமையச் செலவினை ஏற்படுத்தாது?

தேர்ச்சி - 01 - M.C.Q

- 1) Y இலிருந்து Z வரையாகும்.
- 2) V இலிருந்து W வரையாகும்.
- 3) W இலிருந்து X வரையாகும்.
- 4) U இலிருந்து V வரையாகும்.
- 5) X இலிருந்து W வரையாகும்.



154. தனியார் பல்கலைக்கழகமொன்றில் கல்வி கற்பதன் அமையச் செலவாகக் கருதத்தக்கவற்றில் உள்ளடங்காதது பின்வருவனவற்றில் எது?
 - 1) அவசியமான பாடநூல்களின் மீதான செலவு
 - 2) கல்விக் கட்டணம். (Tuition Fees)
 - 3) பல்கலைக்கழக பருவங்களின் போது வகுப்புகளுக்கு செல்வதன் காரணமாக இழக்கப்படும் வருமானம்.
 - 4) பல்கலைக்கழகப் பருவங்களின்போது மாணவர்கள் சிகை அலங்காரத்தின் பொருட்டு மேற்கொண்ட செலவுகள்
 - 5) குறிப்புகள் எடுப்பதற்கான தாள்கள் மற்றும் பென்சில்கள் என்பவற்றின் மீதான செலவுகள்
155. பொருளாதாரத்தில் அரசாங்க ஈடுபாட்டின் அளவு மிக உயர்வாக இருப்பது
 - 1) கட்டளைப் பொருளாதாரமொன்றிலாகும்.
 - 2) கலப்புப் பொருளாதாரமொன்றிலாகும்.
 - 3) சந்தைப் பொருளாதாரமொன்றிலாகும்.
 - 4) மரபுரீதியான பொருளாதாரமொன்றிலாகும்.
 - 5) சமூக சந்தைப் பொருளாதாரமொன்றிலாகும்.
156. தற்போதைய உலகப் பொருளாதார பின்னடைவினால் மோசமாக பாதிக்கப்பட்டுள்ள நாடுகளில் ஐப்பானும் ஒன்றாகும். பொருளாதார வீழ்ச்சியினால் ஐப்பானியப் பொருளாதாரத்தில் ஏற்படக்கூடிய உடனடி விளைவு.
 - 1) அதன் உற்பத்தி இயல்தகவு எல்லையின் வெளிநோக்கிய நகர்வாகும்.
 - 2) அதன் உற்பத்தி இயல்தகவு எல்லையின் ஓர் வெளிநோக்கிய நகர்வாகும்.
 - 3) அதன் உற்பத்தி இயல்தகவு எல்லையின் உட்புறமுள்ள புள்ளியொன்றிலிருந்து இயல்தகவு எல்லையை நோக்கியதோர் அசைவாகும்.
 - 4) அதன் உற்பத்தி இயல்தகவு எல்லையின் உட்புறமுள்ள புள்ளியொன்றிலிருந்து மேலும் உள்ளநோக்கியதோர் அசைவாகும்.
 - 5) அருமை அதிகரித்திருப்பதன் காரணமாக பொருட்கள் பலவற்றின் விலைகளில் ஓர் அதிகரிப்பு ஏற்படுவதாகும்.

தேர்ச்சி - 01 - M.C.Q

- 4) கட்டளைகளால் வழிநடத்தப்படும் பொருளாதாரமொன்றில் உள்ளீடுகள் அல்லது வெளியீடுகளின் பற்றாக்குறையானது மிக அரிதாக ஏற்படும்.
- 5) கட்டளைகளால் வழிநடத்தப்படும் பொருளாதாரங்களில் மட்டுமே சந்தை விலைகள் நிலவும் என்பதாகும்.

161. சமூக சந்தைப் பொருளாதாரம் தொடர்பாக மிகவும் பொருத்தமான கூற்றை தெரிவு செய்க.

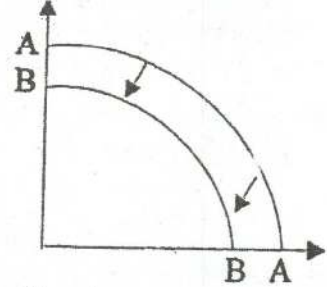
- 1) சம உடமை சந்தை பொருளாதாரம் ஓர் சமூக சந்தைப் பொருளாதாரம் ஆகும்.
- 2) சமூகத்திற்கு சார்பான விலைத்திட்டத்தை உடைய தனியார் சொத்துடமையைக் கொண்ட பொருளாதார முறைமை.
- 3) சமூக நலனுக்காக திட்டமிடல் செயன்முறையினூடாக செயல்படும் பொருளாதார முறைமையாகும்.
- 4) சமூக நீதிக்கு குறைந்த கவனத்தை செலுத்தும் பொருளாதார முறைமை ஆகும்.
- 5) சந்தை பொருளாதார முறைமையைக் கொண்டுள்ள சமூக நீதியை வலியுறுத்தும் ஓர் முறைமை ஆகும்.

162. பின்வரும் வளங்களில் மீளூருவாக்கப்பட முடியாத வளமாக அமைவது எது?

- | | | |
|-------------|-----------------|---------------|
| 1) காடுகள் | 3) பெற்றோலியம் | 5) புற்றரைகள் |
| 2) மீன்வளம் | 4) வனவிலங்குகள் | |

163. பொருளாதாரமொன்றின் உற்பத்திசாத்திய வளையியானது AA யிலிருந்து BB க்கு நகர்த்துவதற்கு அதிக சாத்தியமான காரணியாக அமைவது.

- 1) பெரியளவிலான உற்பத்திச் சிக்கனங்கள்
- 2) குறைந்த தேறிய முதலீடு
- 3) பொதுச் செலவில் ஓர் அதிகரிப்பு
- 4) உற்பத்தித் திறனில் ஓர் அதிகரிப்பு
- 5) புதிய வளங்கள் கண்டு பிடிக்கப்படல்



164. சந்தைப் பொருளாதாரத்தில் அரசாங்கத்தின் செயற்பாடாக அமையக்கூடியது

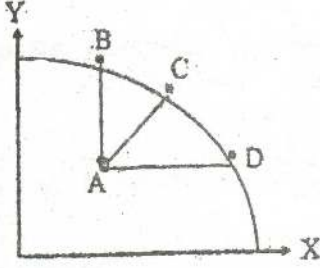
- 1) பொருளாதார அபிவிருத்தியினை ஏற்படுத்தல்.
- 2) வேலையின்மையைக் குறைத்தல்.
- 3) விலைப் பொறிமுறையினால் உற்பத்தி செய்து வழங்காத பொதுப் பண்டங்களை உற்பத்தி செய்தல்.
- 4) அரச உடமைகளை தனியாருக்கு வழங்குதல்.
- 5) மேற்கூறிய அனைத்தும்.

165. பிழையான கூற்றை இனங்காண்க.

தேர்ச்சி - 01 - M.C.Q

- 1) இயற்கை வளங்கள், மூலதனம், சொத்து வளங்களாகக் கருதப்படும்.
 - 2) மட்டுப்படுத்தப்பட்ட நிரம்பலைக் கொண்ட வளங்கள் பொருளாதார வளங்களாகக் கருதப்படும்.
 - 3) பூச்சிய விலையில் இலவசப் பண்டங்களின் நிரம்பல் வரையறையற்றது.
 - 4) ஊழியம் மனித வளத்தில் உள்ளடங்கும்.
 - 5) ஒரு நாட்டினுடைய வளத்திரட்சி உற்பத்தித் திறனையும் உள்ளடக்குகின்றது.
166. ஒரு பொருளாதார முறைமை ஒன்றின் மதிப்பீடு செய்வதற்கு பயன்படுத்தப்பட முடியாத எண்ணக்கரு ஒன்று.
- 1) பொருளாதார வளர்ச்சி
 - 2) நிறைதொழில் மட்டம்
 - 3) பொருளாதார சுதந்திரம்
 - 4) வெளிநாட்டு வர்த்தக விகிதம்
 - 5) விலை உறுதிப்பாடு
167. கெட்ட பண்டமொன்றை இனங்காண்பதில் அடிப்படையாகக் கொள்ளப்படும் காரணி யாது?
- 1) அப்பண்டத்தின் நுகர்வினைப் படிப்படியாக அதிகரிக்கும் போது ஒரு குறிப்பிட்ட மட்டத்தின் பின்னர் எல்லைப் பயன்பாடு மறைப் பெறுமதி பெறும்.
 - 2) அப்பண்டத்தில் தனிப்பட்ட பயன்பாட்டைப் போல் சமூக பயன்பாடொன்றும் காணப்படல்.
 - 3) இப்பண்டங்களினால் தனிநபர்களுக்கு உபயோகமற்ற தன்மையொன்று ஏற்படுதல்.
 - 4) தனியார் வருமானம் அதிகரிக்கும் போது அப்பண்டத்திற்கான சந்தைக் கேள்வி குறைவடைதல்.
 - 5) அப்பண்டம் வறியவர்களினால் பெருமளவில் கொள்வனவு செய்யப்படுவதும் செல்வந்தர்களால் குறைவாக நுகர்வு செய்யப்படலும்.
168. பின்வருவனவற்றுள் உம்மால் உடன்பட முடியாத கூற்றை இனங்காண்க.
- 1) அருமை என்பது கீர்வு காணமுடியாததும் ஆனால் அடிப்படை பொருளாதாரப் பிரச்சனைக்கான தீர்வு ஒரு முக்கிய கடமையாகும்.
 - 2) உற்பத்திக் காரணிகளுக்கு வழிவந்த கேள்வி காணப்படும் போது நுகர்வுப் பொருட்களுக்கு நேர்க் கேள்வி காணப்படும்.
 - 3) வறுமை என்பது அருமையல்ல.
 - 4) அடிப்படை பொருளாதாரப் பிரச்சனை யாவும் தெரிவுப் பிரச்சனையாகும்.
 - 5) சந்தர்ப்பச் செலவு கணிப்பீட்டின் போது காலம் கருத்தில் கொள்ளப்படுவதில்லை.
169. வளங்கள் குறைபயன்பாட்டை நோக்கிச் செயற்படும் திசையைச் சரியாக காட்டுவது?
- 1) A யிலிருந்து B வரை
 - 2) B யிலிருந்து C வரை
 - 3) C யிலிருந்து D வரை

தேர்ச்சி - 01 - M.C.Q



- 4) D யிலிருந்து C வரை
5) B யிலிருந்து A வரை

170. சாத்தியமான வளங்களின் வெளியீட்டாற்றல் என்பதால் கருதப்படுவது
- 1) நாடொன்றினது வருடாந்த மெய்யான உற்பத்தி ஆற்றல்.
 - 2) நாடொன்றினது வருடாந்த பெயரளவிலான மொத்த தேசிய உற்பத்தி.
 - 3) கிடைக்கத்தக்கதான வளங்களின் வினைத்திறன்மிக்க பயன்பாட்டிலான வெளியீட்டாற்றல்.
 - 4) உற்பத்திசாத்திய எல்லையிலுள்ள புள்ளி ஒன்று கருதும் உற்பத்தியாக்கம்.
 - 5) உற்பத்திசாத்திய எல்லையின் இடது புறத்திலுள்ள புள்ளி.
171. நாடொன்று பொருளாதாரப் பின்னடைவையும், பொருளாதாரத் தடையையும் எதிர்கொள்வதை உற்பத்திசாத்திய எல்லையில் நோக்கினால்.
- 1) முன்னையதில் உற்பத்திசாத்திய வளையி இடதுபுறம் நகர பின்னையதில் உற்பத்திசாத்திய எல்லையில் உள்ள புள்ளி இடதுபுறம் உள்ள புள்ளிக்கு நகரும்.
 - 2) முன்னையதில் உற்பத்திசாத்திய எல்லைக்கு அண்மையில் உட்புறம் உள்ள புள்ளி மேலும் உள்நோக்கிய புள்ளியை நோக்கி நகர பின்னையதில் உற்பத்திசாத்தி மற்ற பிரதேச உற்பத்திப் புள்ளி எல்லைக்கு நகரும்.
 - 3) முன்னையதில் உற்பத்திசாத்திய எல்லைக்கு அண்மையில் உட்புறம் உள்ள உற்பத்திப் புள்ளி மேலும் உள்நோக்கியுள்ள புள்ளியை நோக்கி நகர பின்னையதில் உற்பத்திசாத்திய எல்லை உற்பத்தி சாத்திய பிரதேசத்தில் நகரும்.
 - 4) இரு சந்தர்ப்பத்திலும் உற்பத்திசாத்திய எல்லையிலுள்ள உற்பத்தி புள்ளி மேலும் உள்நோக்கியுள்ள புள்ளி ஒன்றுக்கு நகரும்.
 - 5) இரு சந்தர்ப்பத்திலும் உற்பத்திசாத்திய வளையி இடதுபுறம் நகர்வடையும்.
172. சரியான கூற்றை தெரிவுசெய்க.
- 1) நிகழ்கால நுகர்வினை இழக்காது பொருளாதார வளர்ச்சியினை ஏற்படுத்தலாம்.
 - 2) நிகழ்கால நுகர்வினை இழக்காது பொருளாதார வளர்ச்சியினை ஏற்படுத்த முடியாது.
 - 3) குறைதொழில் மட்டப் பொருளாதாரம் ஒன்றில் ஒரு பண்டத்தின் உற்பத்தி அதிகரிக்கும் போது மற்றைய பண்டத்தின் உற்பத்தியை குறைக்க வேண்டி ஏற்படும்.

தேர்ச்சி - 01 - M.C.Q

- 4) பொருளாதார வளர்ச்சியுடைய நாடு ஒன்றில் அமையச் செலவின்றி ஒரு உற்பத்தியினை அதிகரிக்க முடியாது.
- 5) மேற்கூறிய கூற்றுக்கள் யாவும் பிழையானது.

173. கட்டளைப் பொருளாதார முறையொன்றினது பலவீனமாக அமையாத விடயம் யாது?

- 1) தெரிவுச் சுதந்திரம், நுகர்வோர் இறைமைகள் மட்டுப்படுத்தப்படல்.
- 2) அரசு நிருவாக முறைகளில் சிர்கேடுகள், சுயாதீன அதிகாரங்கள்.
- 3) தனியார் உடமைச் சுதந்திரம், தொழில் சுதந்திரம் மட்டுப்படல்.
- 4) பொது வளங்களின் சிறப்பான பயன்பாடு காணப்படல்.
- 5) தூண்டுதலில் உள்ள குறைபாடுகள் அது நீண்டகால பொருளாதார விருத்திக்கு போதுமானதாக அமையாமையும்.

174. நுண்பாக பொருளாதார ஆய்வில் அக்கறை செலுத்தப்படுவது.

- 1) பொருளாதார மாறிகள் பற்றி நுட்பமாக கற்றலாகும்.
- 2) விலை வீக்கத்திற்கான காரணமும் அதனை கட்டுப்படுத்த எடுக்கவேண்டிய கொள்கைகள் பற்றியும் கற்றலாகும்.
- 3) பொருளாதார மாறிகளை தனித்தனியாகக் கற்கலாம்.
- 4) தனித்தனியாக தீர்மானம் மேற்கொள்ளும் அலகுகளின் பொருளாதார நடத்தைகளைக் கற்றலாகும்.
- 5) நுண்பாக பொருளாதார மாறிகளுக்கும் பேரினப் பொருளாதார மாறிகளுக்கும் இடையில் காணப்படும் தொடர்பு பற்றி கற்றலாகும்.

175. பின்வருவனவற்றில் இருந்து இலவசப் பொருட்களை மட்டும் உள்ளடக்கிய தொகுதியைத் தெரிக.

- 1) ஆறுகள், அருவிகள், ஏரிகள், சமுத்திரங்கள்
- 2) மழை, காற்று, சுழிகள், சூரியஒளி, ஈரப்பதன்
- 3) தெருக்கள், புகையிரதப் பாதைகள், விமானநிலையம், விளையாட்டரங்கு
- 4) நீர்வீழ்ச்சிகள், கடல், நீர்த்தேக்கங்கள், கண்டங்கள், குளங்கள்
- 5) பாடசாலைகள், வைத்தியசாலைகள், சுகாதார நிலையங்கள், சனசமூக நிலையங்கள்

176. வீட்டுத்துறையும் நிறுவனங்களும் எவ்வாறு தனிப்பட்ட ரீதியாகத் தீர்மானங்களை மேற்கொள்ளுகின்றன என்பதனையும் குறிப்பிட்ட சந்தைகளில் எவ்வாறு அவை தம்மத்தியில் ஊடு தொடர்பு கொள்கின்றன, என்பதையும் ஆராய்வது,

- 1) நுண்பாகப் பொருளியல்
- 2) பருநிலைப் பொருளியல்
- 3) நேர்ப்பொருளியல்
- 4) அபிவிருத்திப் பொருளியல்
- 5) நியமப் பொருளியல்

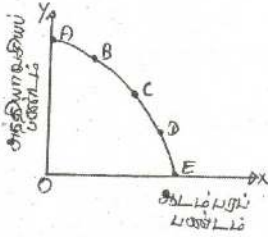
177. வருமானப் பரம்பல் பிரச்சனையை விளக்குவது

- 1) எந்த உற்பத்தி முறையை பயன்படுத்தப்படல்

தேர்ச்சி - 01 - M.C.Q

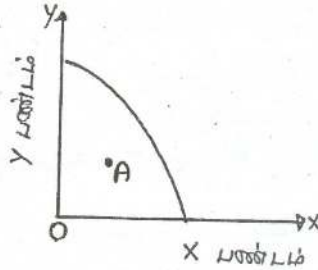
- 2) எந்தப் பொருட்கள் சேவைகள் பங்கிடப்பட வேண்டும்.
- 3) பொருளாதாரம் ஒன்றின் வெளியீட்டை எவ்வாறு பங்கிடுவது.
- 4) எவ்வளவு தொகைப் பண்டங்களை உற்பத்தி செய்ய வேண்டும்.
- 5) வருமானச் சமமின்மையை கட்டாயம் இழிவுபடுத்தப்படல் வேண்டும்.

178. பின்வரும் உற்பத்திசாத்திய எல்லையை கருத்திற்கொண்டு செல்வந்த நாட்டின் உற்பத்திச் சேர்க்கையை வெளிகாட்டும் புள்ளி



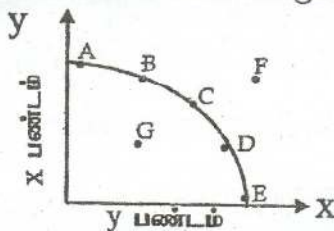
- 1) A 2) B 3) C 4) D 5) E

179. கீழுள்ள உற்பத்திசாத்திய வளையியின் படி தவறான கூற்றைத் தெரிக.



- 1) இரு பண்ட உற்பத்திகளிலும் வேலையின்மைக் குறைக்க முடியும்.
- 2) X பண்ட உற்பத்தியை குறைக்காமல் Y பண்ட உற்பத்தியை அதிகரிக்க முடியும்.
- 3) Y பண்ட உற்பத்தியை குறைக்காமல் X பண்ட உற்பத்தியை அதிகரிக்க முடியும்.
- 4) அமையச் செலவின்றி இரு பண்டங்களினதும் உற்பத்தியை அதிகரிக்கலாம்.
- 5) குறித்தவொரு பண்ட உற்பத்தியை அதிகரிப்பதற்கு மற்றைய பண்ட உற்பத்தியைக் குறைத்தல்.

180. பின்வரும் சாத்திய வளையியை கருத்திற்கொண்டு பொருளாதார பின்னடைவை வெளிகாட்டும் சரியான கூற்று.



- 1) G இலிருந்து B க்கு நகருவது
- 2) C இலிருந்து G க்கு நகருவது
- 3) C இலிருந்து F க்கு நகருவது
- 4) G இலிருந்து F க்கு நகருவது
- 5) B இலிருந்து C க்கு நகருவது

181. பொருளாதார வினைத்திறன் என்பதனை சரியாக விளக்கும் கூற்று
- 1) உற்பத்திசாத்திய வளையின் மீதான ஒரு புள்ளியில் பொருளாதாரம் இயங்குதல்.
 - 2) வளங்கள் நாட்டிற்குத் தேவையான உற்பத்திகள் எல்லாவற்றிற்கும் சிறப்பாக பங்கிடப்பட்டிருத்தல்.
 - 3) சாத்திய வளையின் மீதான புள்ளியிலும் அப்புள்ளி $P=MC$ ஆகவும் இருக்கக் கூடிய புள்ளி.
 - 4) பொருளாதாரம் பொருளாதார உறுதியைப் பேணுகின்ற போது.
 - 5) சாத்திய வளையின் வலப்புற நகர்வின் போது ஏற்படுவது.
182. மூலதனம் பற்றிய பின்வரும் கூற்றுக்களில் உம்மால் ஏற்றுக்கொள்ள முடியாதது எது?
- 1) பொருளாதார பொதுப்பணி மூலதனத்தின் இருப்பு மாற்றம் மற்றும் பொருளியல் நடவடிக்கைகளை இலகுபடுத்தும் சேவைகள் என்பன அடங்கும்.
 - 2) நிலையான மூலதனம் என்பதில் குறிப்பிட்ட வருடத்தை தாண்டி பிரதிபலனை பெற்றுத்தரும் மெய் சொத்துக்களின் மாத்திரமே உள்ளடங்கும்.
 - 3) குறிப்பிட்ட காலமொன்றில் மூலதனத்தை உருவாக்குவதற்கு வளங்களை பிரபோகித்தல் முதலீடு எனப்படும்.
 - 4) சமூகப் பொதுப்பணி மூலதனம் என்பது நிலையான மூலதனத்தின் பகுதியாகும்.
 - 5) பொருளியல் நிதிச் சொத்துக்கள் மூலதனமாகக் கருதப்படும்.
183. இலவசப் பண்டம் பொருளாதார வளமாக மாற்றமடையும் சந்தர்ப்பம் எது?
- 1) போத்தலில் அடைக்கப்பட்ட நீர்.
 - 2) சுவாசத்திற்கு கிடைக்கும் காற்று.
 - 3) மின்சாரத்தினை உற்பத்தி செய்வதற்கு பயன்படும் காற்று.
 - 4) ஆடைகளை உலரவைக்கும் சூரிய ஒளி.
 - 5) வயலுக்கு கிடைக்கும் குளத்து நீர்.
184. A. காடுகள் B. ஒருமணிநேர சட்ட ஆலோசனை
C. கணணி மென்பொருள் D. சில்லறைக்கடை
E. காரியப்படிமம்
- பின்வருவனவற்றுள் எத்தொகுதி சொத்து வளத்தை உள்ளடக்கியது:
- 1) A,E 2) C,E 3) A,C 4) A,E,C 5) A,C,D
185. பொருளியல் உற்பத்தி செலவு என்பது தொடர்பாக மிகச்சரியான விடயம்
- 1) நிறுவனம் வெளியில் இருந்து கொள்வனவு செய்த உள்ளீட்டிற்கான பணக் கொடுப்பனவு

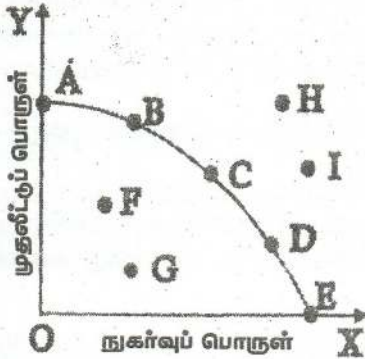
தேர்ச்சி - 01 - M.C.Q

- 2) நிறுவனம் தனது உள்ளீடுகளை பயன்படுத்தாமல் ஏற்பட்ட உத்தம காரணி வருமான அளவான சந்தர்ப்பச் செலவு
- 3) உற்பத்தி தொடர்பாக ஏற்பட்ட பணச் செலவுகளின் அளவு
- 4) உற்பத்திக்காக இழக்கப்படும் பொருளாதார வளங்கள் தொடர்பான அனைத்து அமையச் செலவுகளும்
- 5) சாதாரண இலாபம் தவிர்ந்த ஏனைய செலவுகள் யாவும்.

186. உற்பத்தி நிறுவனம் ஒன்றின் பண்டமொன்றுக்கான நேர் செலவு 7000 ரூபா. நிலையான சொத்து தேய்வு 1000 ரூபா. மொத்த வருமானம் 20000 ரூபா. நேரில் செலவு 6000 ரூபா. இந்நிறுவனத்தின் கணக்கியல் இலாபம். பொருளியல் இலாபம் என்பவற்றைக் காண்க.

- 1) கணக்கியல் இலாபம் 13000, பொருளியல் இலாபம் 7000
- 2) கணக்கியல் இலாபம் 12000, பொருளியல் இலாபம் 7000
- 3) கணக்கியல் இலாபம் 14000, பொருளியல் இலாபம் 6000
- 4) கணக்கியல் இலாபம் 12000, பொருளியல் இலாபம் 6000
- 5) கணக்கியல் இலாபம் 14000, பொருளியல் இலாபம் 7000

187. பின்வரும் உற்பத்திசாத்திய எல்லையைக் கருத்திற்கொண்டு விடையளிக்க.



அடையக்கூடிய புள்ளிகளைக் காட்டும் தொகுதி.

- 1) A,B,H 2) F,I
- 3) H,I 4) G,D,I
- 5) A,C,E,G

188. கிடையச்சில் X பண்டத்தையும் குத்தச்சில் Y பண்டத்தையும் காட்டுகின்ற உற்பத்திசாத்திய வளையி ஒன்றின் உற்பத்திச் சேர்க்கைகள் சில கீழே தரப்பட்டுள்ளன.

X பண்டம்	Y பண்டம்
0	50
40	40
70	30
85	20
95	10
100	0

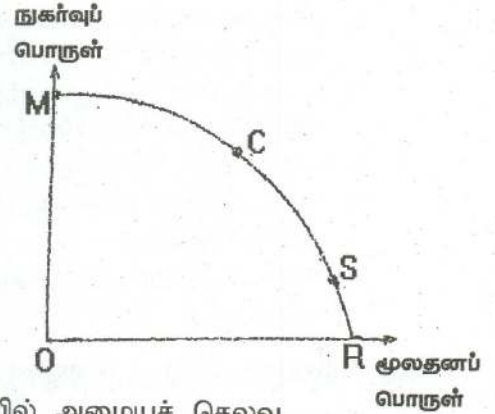
மேற்படி தகவல்களின்படி

- 1) சகல உற்பத்தி மட்டங்களிலும் அமையச் செலவு நிலையான பெறுமதியைப் பெறுகின்றது.
 - 2) X மற்றும் Y பண்டங்களின் உற்பத்தியில் பயன்படுத்தப்படும் தொழில்நுட்பம் நிலையானது.
 - 3) X பண்டத்திற்குப் பயன்படுத்தப்படும் வளங்கள் Y பண்டத்திற்கும் பூரண பதிலீடாகும்.
 - 4) சாத்திய வளையின் வழியாக மேலே செல்லும்போது அமையச் செலவு விகிதம் படிப்படியாகக் குறைவடையும்.
 - 5) சாத்திய வளையின் வழியாக மேலே செல்லும்போது அமையச் செலவு விகிதம் படிப்படியாகக் குறைவடையும்.
189. பின்வருவனவற்றுள் பொருளாதார வளமாகக் கருதப்படுவது
- 1) நெற்பயிர்ச் செய்கைக்குப் பயன்படும் பருவக்காற்று மழை
 - 2) பப்படம் உலர்வதற்குப் பயன்படுத்தப்படும் சூரியஒளி
 - 3) சூரிய சக்தியை உற்பத்தி செய்யப் பயன்படும் சூரிய ஒளி
 - 4) நீர்மின் உற்பத்திற்குப் பயன்படும் ஆற்றுவீர்.
 - 5) உணவு சமைப்பதற்குப் பயன்படுத்தப்படும் சூரியசக்தியால் ஆன எரிசக்தி.
190. பின்வரும் கூற்றுக்களில் தவறான கூற்றாக நீர் கருதும் கூற்றைக் தெரிவு செய்க.
- 1) வரையறுக்காத சமூக விருப்பங்களும் வரையறைக்குட்பட்ட வளங்களும் அருமைப் பிரச்சனைக்கான பிரதான காரணங்களாகும்.
 - 2) பொருளொன்றுக்கு சந்தையில் நிலவும் தற்காலிக பற்றாக்குறையை அருமைப் பிரச்சனையாகக் கருத முடியும்.
 - 3) அருமையில்லாத சமூகத்தில் பொருளாதாரப் பண்டம் என்று எதுவும் இருக்க முடியாது.
 - 4) அருமையான வளங்களைப் பயன்படுத்தி உற்பத்தி செய்யப்படும் எல்லாப் பொருட்களும் சேவைகளும் பொருளாதாரப் பண்டங்களாகும்.
 - 5) பூச்சிய விலையில் எல்லையற்ற நிரம்பலைக் கொண்டு காணப்படும் பண்டம் இலவசப் பண்டமாகும்.
191. உற்பத்திக் காரணிகளின் விசேட தன்மையை உணர்த்தும் எண்ணக்கரு
- | | |
|-----------------------------------|---------------------------------------|
| 1) அருமை | 4) அதிகரித்துச் செல்லும் அமையச் செலவு |
| 2) தெரிவு | 5) மாறா அமையச் செலவு |
| 3) குறைந்து செல்லும் அமையச் செலவு | |
192. அருமைப் பிரச்சனையானது
- 1) சந்தைப் பொறிமுறையில் இயங்கும் பொருளாதார முறைமையினுள் மட்டுமே காணப்படும்.
 - 2) திட்டமிடற் பொறிமுறையில் இயங்கும் பொருளாதார முறைமையினுள் மட்டுமே காணப்படும்.
 - 3) எல்லாப் பொருளாதாரங்களிலும் காணப்படும்.
 - 4) மனிதர்கள தமது வருமானத்தை உத்தமமான விதத்தில் செலவிடாத போது மட்டும் ஏற்படும்.
 - 5) காணப்படுகின்ற போதிலும் பொருளாதார வளர்ச்சியின் மூலம் அது அகற்றப்பட்டு விடும்.

193. பொருளாதாரமொன்றின் உற்பத்தி இயல்தகவு எல்லை வரைபடத்திற் காட்டப்பட்டுள்ளது.

உற்பத்தி இயல்தகவு எல்லையில் C புள்ளியிலிருந்து S புள்ளியை நோக்கி நகர்வதனால் கருதப்படுவது யாதெனில்

- 1) பொருளாதாரத்தின் உற்பத்தி வினைத்திறன் மென் மேலும் அதிகரித்துச் செல்வதையாகும்.
- 2) பொருளாதாரத்தின் வளங்கள் அதிகளவில் பயன்படுத்தப்படுவதை ஆகும்.
- 3) அளவுத்திட்டச் சிக்கனங்களால் பொருளாதாரத்திற்கு நன்மையான விளைவுகள் ஏற்படுவதையாகும்.
- 4) மூலதனப் பொருள்களின் உற்பத்தியில் அமையச் செலவு வீழ்ச்சியடைகின்றமையாகும்.
- 5) மூலதனப் பொருள்களின் உற்பத்தியில் அமையச் செலவு அதிகரித்துச் செல்வதையாகும்.



194. பின்வருவனவற்றில் எது ஒரு உற்பத்திக் காரணியாகும்?

- 1) நிறுவனங்களால் உழைக்கப்பட்ட இலாபங்கள்.
- 2) நிறுவனங்களுக்கு சொந்தமான அல்லது வாடகைக்கு பெறப்பட்ட நிலம்.
- 3) நிறுவனங்கள் அவற்றின் வங்கிக் கணக்குகளில் வைத்துள்ள பணம்.
- 4) ஊழியத்தின் வினைத்திறன்.
- 5) விளம்பரச் செலவுகள்.

195. உற்பத்தி இயல்தகவு வளையியைப் பயன்படுத்தி பொருளாதார வளர்ச்சியை பின்வருவனவற்றில் எதன் மூலம் காட்டலாம்?

- 1) வளையின் ஒரு வலப்புற நகர்வின் மூலம்.
- 2) தற்போதுள்ள வளையியின் மீதுள்ள புள்ளியிலிருந்து மேல் நோக்கிய அசைவின் மூலம்.
- 3) தற்போதுள்ள வளையியின் மீதுள்ள புள்ளியிலிருந்து கீழ் நோக்கிய அசைவின் மூலம்.
- 4) வளையியின் வெளிப்புறமுள்ள ஒரு புள்ளியிலிருந்து வளையியின் மீதுள்ள ஒரு புள்ளியை நோக்கிய அசைவின் மூலம்.
- 5) வளையியின் மீதுள்ள ஒரு புள்ளியிலிருந்து வளையியின் உட்புறமுள்ள ஒரு புள்ளியை நோக்கிய அசைவின் மூலம்.

196. பின்வருவனவற்றில் எது முதலாளித்துவப் பொருளாதாரமொன்றின் மிகப் பிரதானமான பண்பாகக் கருதப்படுகிறது?

- 1) நன்கு இயங்கும் மூலதனச் சந்தைகள்.
- 2) தனியார் சொத்துரிமையும் சொத்துரிமைகளின் பாதுகாப்பும்.
- 3) நியாயமான வருமானப் பங்கீடும் வரிகள் குறைந்த மட்டத்தில் காணப்படுவதும்.
- 4) சகலருக்கும் சம வாய்ப்புக்கள் காணப்படல்.
- 5) வளங்களின் செயற்திறனான ஒதுக்கீடு காணப்படல்.

தேர்ச்சி - 01 - M.C.Q

197. கோட்பாடு ரீதியில் பின்வருவனவற்றில் எது திட்டமிட்ட பொருளாதாரமொன்றின் நன்மையாகக் கருதப்படும்?
- 1) தீர்மானங்கள் சமூக செலவுகள் மற்றும் சமூக நன்மைகளின் அடிப்படையில் மேற்கொள்ளப்படல்.
 - 2) உற்பத்தியானது குறைந்து செல்லும் அளவுத்திட்ட விளைவு விதியினைக் கொண்டிருத்தல்.
 - 3) அரசாங்கம் எப்போதும் வரவு செலவுத் திட்டத்தைச் சமப்படுத்தல்.
 - 4) உற்பத்தியின் அமைப்பு நுகர்வோரின் விருப்பத் தெரிவுகளை பிரதிபலித்தல்.
 - 5) ஊழியத்திற்கும் மூலதனத்திற்கும் இடையில் பூரண பதிலீட்டுத் தன்மை காணப்படல்.
198. பொருட்டட்டுப்பட்டு தோன்றுமிடத்து “கியு”முறை” தோன்றும் பொருளாதாரம் எது?
- 1) சந்தைப் பொருளாதாரம்
 - 2) சமூக சந்தைப் பொருளாதாரம்
 - 3) சமவுடமை பொருளாதாரம்
 - 4) கலப்புப் பொருளாதாரம்
 - 5) எழுச்சி பெற்றுவரும் சந்தைப் பொருளாதாரம்
199. எல்லாப் பொருளாதாரங்களிலும் அடிப்படையான பொருளாதார பிரச்சனையாக அமைவது
- 1) நுகர்வோர் தாம் விரும்பிய அளவில் பணத்தை வைத்திருக்க முடியாதிருப்பதாகும்.
 - 2) மனித விருப்பங்களுடன் சார்பளவில் வளங்கள் அருமையாக இருப்பதாகும்.
 - 3) குறிப்பிட்டளவு வளங்கள் எப்பொழுதும் வேலையின்றியிருப்பதாகும்.
 - 4) வளங்களின் நிரம்பல் எப்போதும் அவற்றுக்கான கேள்வியைக் காட்டிலும் குறைவாக இருப்பதாகும்.
 - 5) விலைகள் தொடர்ச்சியாக அதிகரித்துச் செல்வதாகும்.
200. அமையச் செலவு என்ற பதத்தினால் கருதப்படுவது
- 1) ஒரு பொருளின் செலவுக்கும் அதன் விலைக்கும் இடையிலான வித்தியாசமாகும்.
 - 2) உற்பத்திச் செலவிலும் பார்க்க குறைவாக பொருட்களை விற்பதனையாகும்.
 - 3) உற்பத்திசாத்திய எல்லையிலான ஒரு நகர்விலிருந்தான விளைவாக செலவில் ஏற்படும் ஒரு மாற்றமாகும்.
 - 4) ஏதாவதொன்றை உற்பத்தி செய்வதற்காக விட்டுக்கொடுக்கப்படும் பொருட்களின் சிறந்த பெறுமதியாகும்.
 - 5) குறிப்பிட்ட பொருளின் உற்பத்திற்காக பணவடிவில் இழக்கப்படும் செலவாகும்.

தேர்ச்சி - 02

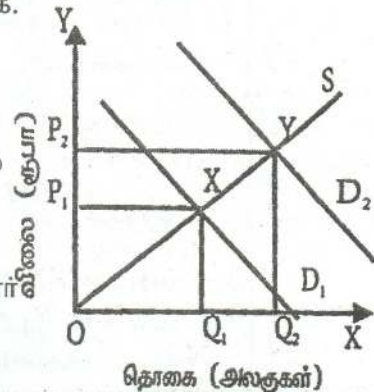
சந்தையொன்றில் வீட்டுத்துறையினரும் நிறுவனத்
துறையினரும் செயற்படும் விதம்

- அரிசிக்கான கேள்விக்கோடு கீழ் நோக்கிய சரிவுடையதாகும். அரிசிக்கான கேள்வி விலை நெகிழ்வற்றதாயின் அரிசி விலையில் ஏற்படும் ஒரு வீழ்ச்சி.
 - அரிசியில் மிகை நிரம்பலை ஏற்படுத்தும்.
 - அரிசியின் கேள்வித் தொகையில் அதிகரிப்பை ஏற்படுத்தும்.
 - பாணின் மீதான மொத்தச் செலவீட்டில் ஓர் அதிகரிப்பை ஏற்படுத்தும்.
 - கோதுமை மாவின் விற்பனையில் ஓர் அதிகரிப்பை ஏற்படுத்தும்.
 - அரிசியின் மீதான மொத்தச் செலவீட்டில் ஓர் அதிகரிப்பை ஏற்படுத்தும்.
- பின்வரும் அட்டவணை சில பொருட்கள் சேவைகளுக்கான விலைக் கேள்வி நெகிழ்ச்சி பற்றிய விபரங்களைத் தருகிறது.

வகை	கேள்வியின் விலை நெகிழ்ச்சி
மோட்டார் கார்கள்	- 1.5
மோட்டார் சைக்கிள்கள்	- 1.0
சினிமா நுளைவுச் சீட்டுக்கள்	- 0.4
தீப்பெட்டிகள்	0.0

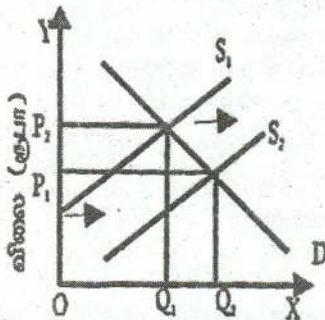
துரப்பட்ட தகவல்களின் படி ஒவ்வொரு வகையினதும் விலைகளின் 1% அதிகரிப்பானது விற்பனை வருமானங்களில் அதிகரிப்பினை ஏற்படுத்துவது

- மோட்டார் கார்கள் தொடர்பில் மட்டுமேயாகும்.
 - மோட்டார் கார்கள், மோட்டார் சைக்கிள்கள் தொடர்பில் மட்டுமேயாகும்.
 - சினிமா நுளைவுச் சீட்டுக்கள், தீப்பெட்டிகள் தொடர்பில் மட்டுமேயாகும்.
 - சினிமா நுளைவுச் சீட்டுக்கள் தொடர்பில் மட்டுமேயாகும்.
 - தீப்பெட்டிகள் தொடர்பில் மட்டுமேயாகும்.
- இங்கு காட்டப்பட்டுள்ள வரைபடமானது போட்டிச் சந்தையொன்றில் மீனுக்கான கேள்வி அதிகரிப்பதனால் ஏற்படும் விளைவுகளைக் காட்டுகிறது. இவ் அதிகரிப்பின் காரணமாக.
 - உற்பத்தியாளர் மிகையும் நுகர்வோர் மிகையும் அதிகரிக்கும்.
 - உற்பத்தியாளர் மிகையும் நுகர்வோர் மிகையும் வீழ்ச்சியடையும்.
 - உற்பத்தியாளர் மிகை வீழ்ச்சியடையும் நுகர்வோர் மிகை அதிகரிக்கும்.
 - உற்பத்தியாளர் மிகை அதிகரிக்கும் நுகர்வோர் மிகை மாறாதிருக்கும்.
 - உற்பத்தியாளர் மிகையிலோ நுகர்வோர் மிகையிலோ மாற்றமேற்படா.

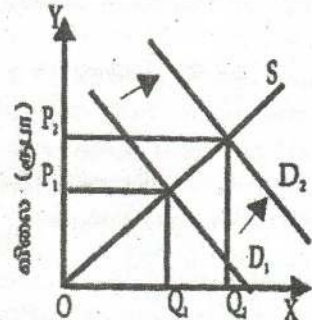


தேர்ச்சி - 02 - M.C.Q

4. உற்பத்தியில் உள்ளாந்த செலவுகள் (Implicit Costs) இருக்குமாயின்
- 1) கணக்கியல் இலாபம் பொருளியல் இலாபத்தை விட உயர்வாக இருக்கும்.
 - 2) பொருளியல் இலாபம் எப்போதும் பூச்சியமாக இருக்கும்.
 - 3) பொருளியல் இலாபம் கணக்கியல் இலாபத்தை விட உயர்வாக இருக்கும்.
 - 4) கணக்கியல் இலாபம் எப்போதும் பூச்சியமாக இருக்கும்.
 - 5) பொருளியல் இலாபமும் கணக்கியல் இலாபமும் சமனாகும்.
5. நுகர்வோர் ஆய்வொன்று மதுசாரக் குடிவகைகளின் விலையில் ஏற்படும் 20% அதிகரிப்பு செல்வந்தர்களின் மதுசாரக் குடிவகை நுகர்வை 3% இனாலும் வறியவர்களின் நுகர்வை 10% இனாலும் வீழ்ச்சியடையச் செய்யும் எனக் கண்டறிந்தது இதிலிருந்து பெறப்படும் முடிவின்படி
- 1) வறியவர்களை விட செல்வந்தர்களே மதுசாரக் குடிவகைகள் மூலம் அதிகம் திருப்தியடைகின்றனர்.
 - 2) செல்வந்தர்களுக்கு மதுசாரக் குடிவகை ஒரு இழிவுப் பொருளாகும்.
 - 3) வறியவர்களுக்கு மதுசாரக் குடிவகை ஒரு சாதாரண பொருளாகும்.
 - 4) வறியவர்களின் கேள்வி விலை நெகிழ்வுள்ள அதே வேளை செல்வந்தர்களின் கேள்வி விலை நெகிழ்வற்றதாகும்.
 - 5) வறியவர்களினதும் செல்வந்தர்களினதும் கேள்வியானது விலை நெகிழ்வற்றதாகும்.
6. கீழே தரப்பட்டுள்ள வரைபடங்கள் X பண்டத்தின் நிரம்பலில் ஏற்படும் ஒரு நகர்வு Y பண்டத்தின் கேள்வியில் எவ்வாறு நகர்வு ஏற்படுகின்றது என்பதைக் காட்டுகின்றன.



X பண்டத்தின் கேட்கப்படும் தொகையும் நிரம்பப்படும் தொகையும்



Y பண்டத்தின் கேட்கப்படும் தொகையும் நிரம்பப்படும் தொகையும்

பின்வரும் சோடிகளுள் எது X, Y பண்டங்களை பெருமளவுக்கு குறிப்பதாகவிருக்கும்.

- 1) தேயிலையும் கோப்பியும்
- 2) பஸ் பயணமும் ரயில் பயணமும்
- 3) அரிசியும் கோதுமை மாவுமும்

தேர்ச்சி - 02 - M.C.Q

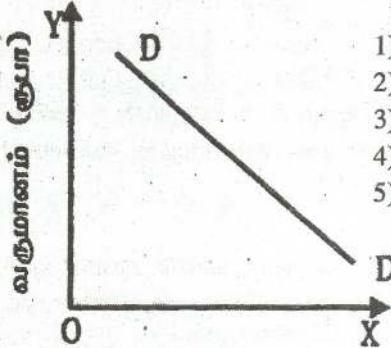
- 4) சீனியும் கருப்பட்டியும்
5) ரயர்களும் டியூப்களும்
7. பின்வரும் அட்டவணை A,B,C,D,E என்ற ஐந்து வேறுபட்ட பொருட்களுக்கு இருவேறு வருமான மட்டங்களில் இரு வீட்டுத்துறையினது கேள்வியைக் காட்டுகின்றது.

வருமானம்	கேட்கப்பட்ட பண்ட அலகுகள்				
	A	B	C	D	E
ரூ. 10,000	200	200	200	200	200
ரூ. 12,000	200	240	260	280	300

மேலே தரப்பட்டுள்ள வருமான வீச்சில் எந்தப் பண்டத்திற்கு வீட்டுத் துறையின் வருமானம் சார் கேள்வி நெகிழ்ச்சி ஒருமையாகவிருக்கும்?

- 1) A 2) B 3) C 4) D 5) E
8. கீழே தரப்பட்டுள்ள வரைபடம் X பண்டத்தின் கேட்கப்படும் தொகைக்கும் வருமானத்திற்குமுள்ள தொர்பைக் காட்டுகிறது.

மேற்படி வரைபடம் X பண்டம் பின்வருவனவற்றுள் எந்த வகையானது என்பதைக் காட்டுகிறது?



- 1) ஒரு இழிவுப் பண்டம்
2) ஒரு நியமப் பண்டம்
3) ஒரு இணைப்பண்டம்
4) ஒரு அத்தியாவசியப் பண்டம்
5) ஒரு ஆடம்பரப் பண்டம்

X பண்டத்தின் கேட்கப்படும் தொகை

9. ஒவ்வொரு மாதமும் ஒரு விவசாயி (தேனீ வளர்ப்போன்) 10 போத்தல் தேனை ஒவ்வொன்றும் ரூபா 400இற்கு விற்கின்றான். ஒவ்வொரு மாதமும் அவன் போத்தல்களுக்காகவும் வேறு பொருட்களுக்காகவும் ரூபா. 200உம், ஊழியத்திற்காக ரூபா. 1000உம் செலுத்துகின்றான். அத்துடன் மாதமொன்றிற்கு ரூபா. 500இற்கு வாடகைக்கு விடக்கூடிய தனது சொந்த நிலத்தையும் தனது பண்ணையில் வேலை செய்யாது வேறெங்காவது வேலை செய்திருப்பானாயின் மாதமொன்றிற்கு ரூ. 1300ஐ உழைத்திருக்கக் கூடிய தனது நேரத்தையும் கையாளுகின்றான். அவனது மாதாந்த சிக்கன இலாபம் யாது?
- 1) ரூ. 4000 2) ரூ. 2800 3) ரூ. 2300 4) ரூ. 1300 5) ரூ. 1000

தேர்ச்சி - 02 - M.C.Q

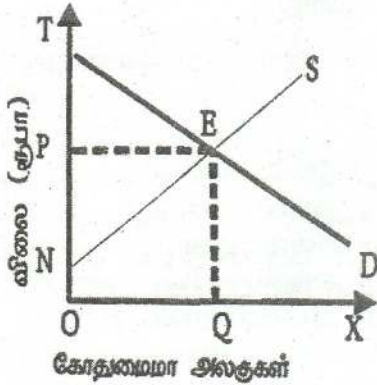
10. பின்வரும் தரவுகள் குறிப்பிட்டதொரு காலப்பகுதியில் X பண்டத்தின் சந்தைக் கேள்வி, நிரம்பல் பட்டியலைக் காட்டுகின்றன.

தலா அலகு விலை (ரூ)	கேட்கப்படும் தொகை (அலகுகள்)	நிரம்பல் செய்யப்படும் தொகை (அலகுகள்)
80	500	900
70	600	800
60	700	700
50	800	600
40	900	500

அரசாங்கம் இப்பொழுது X பண்டத்தின் உற்பத்தியாளருக்கு அலகொன்றிற்கு ரூ. 20 மானியத்தை அறிமுகம் செய்யுமாயின் புதிய சமநிலை விலை எதுவாகவிருக்கும்?

- 1) ரூ. 80 2) ரூ. 70 3) ரூ. 60 4) ரூ. 50 5) ரூ. 40

11. கீழே தரப்பட்டுள்ள வரைபடம் கோதுமைமாவுக்கான நிரம்பல் வளையியையும் (NS) கேள்வி வளையியையும் (TD) காட்டுகிறது.



பின்வரும் பரப்புகளுள் எது உற்பத்தியாளர் மிகையைக் காட்டுகிறது.

- 1) NTE 4) NEQO
2) TPE 5) OPEQ
3) NPE

12. இழிவுப் பண்டம் ஒன்றிற்கான கேள்வியின் வருமான நெகிழ்ச்சி

- 1) பூச்சியமாகும் 4) எதிர்கணியமானது
2) நெகிழ்வற்றது 5) நேர்கணியமானது
3) அலகு நெகிழ்ச்சியாகும்

13. உற்பத்தியாளரொருவர் மின்குமிழ் ஒன்றின் விலையை 5% இனால் குறைக்கிறார். அதன் விளைவாக மின்குமிழ்களின் விற்பனை அளவு 2% இனால் உயர்வடைகிறது. மின்குமிழ்களுக்கான கேள்வியின் விலை நெகிழ்ச்சி யாது?

- 1) - 0.4 2) - 0.8 3) - 2.5 4) - 4.0 5) - 10.0

14. உற்பத்திப் பொருளொன்றுக்கான கேள்வியானது விலை நெகிழ்ச்சி கொண்டதாயின் மொத்த வருமானம்.

- 1) விலை உயர்த்தப்படும் பொழுது குறையும்
2) விலை மாற்றத்தின் திசை எவ்வாறமையினும் அதிகரிக்கும்.

தேர்ச்சி - 02 - M.C.Q

- 3) விலை உயர்த்தப்படும் பொழுது அதிகரிக்கும்.
 4) விலை மாற்றம் எவ்வாறமையினும் மாற்றமடையாது இருக்கும்.
 5) விலை குறைக்கப்படுமாயின் குறையும்.
15. பண்டமொன்றின் மீது அரசாங்கம் ஒரு இழிவு விலையினை விதிக்குமாயின்
 1) அதன் விளைவாக மிகை நிரம்பல் ஏற்படும்.
 2) அதன் விளைவாக மிகைக் கேள்வி ஏற்படும்.
 3) சமநிலை விலையில் வியாபாரம் நடைபெறும்.
 4) வணிக நிறுவனங்கள் இவ் விலையில் தாம் விரும்பும் அளவினை விற்கும்.
 5) நுகர்வோர் மிகை அதிகரிக்கும்.
16. “பண்டம் Y இன் விலை வீழ்ச்சியடையுமாயின் அப் பண்டத்தின் மீதான மொத்தச் செலவீடு உயரும் ஆனால் வருமானம் வீழ்ச்சியடையுமாயின் அச் செலவீடு குறையும்”
 பின்வருவனவற்றிலிருந்து மேற்போந்த கூற்றுக்குப் பொருத்தமான சரியான சேர்க்கையை இனங்காண்க.

பண்டம் X இற்கான கேள்வியின் விலை நெகிழ்ச்சி	பண்டம் X இற்கான கேள்வியின் வருமான நெகிழ்ச்சி
1. நெகிழ்ச்சியுடையது	எதிர்கணியமானது
2. நெகிழ்ச்சியுடையது	நேர்கணியமானது
3. நெகிழ்ச்சியற்றது	எதிர்கணியமானது
4. நெகிழ்ச்சியற்றது	நேர்கணியமானது
5. அலகு நெகிழ்ச்சியாகவிருக்கும்	நேர்கணியமானது

17. நுகர்வோன் கேள்வி வளையியொன்றினை வரையும் பொழுது பின்வருவனவற்றுள் எது மாறாததாக கொள்ளப்படுவதில்லை?
 1) கவனத்திலெடுக்கப்படும் பொருளின் விலைகள்.
 2) துணை (இணை)ப் பொருட்களின் விலைகள்.
 3) பதிலீட்டுப் பொருட்களின் விலைகள்.
 4) உற்பத்திக் காரணிகளின் விலைகள்.
 5) நுகர்வோனது வருமானம்.
18. கணணிகளின் விலைகள் வீழ்ச்சியடைதல் மென்பொருள் சந்தையில் எவ்வித தாக்கத்தைக் கொண்டிருக்கும்?
 1) கேள்வி அதிகரிப்பு 4) நிரம்பல் குறைதல்
 2) நிரம்பல் அதிகரிப்பு 5) கேட்கப்படும் அளவில் அதிகரிப்பு
 3) கேள்வி குறைதல்

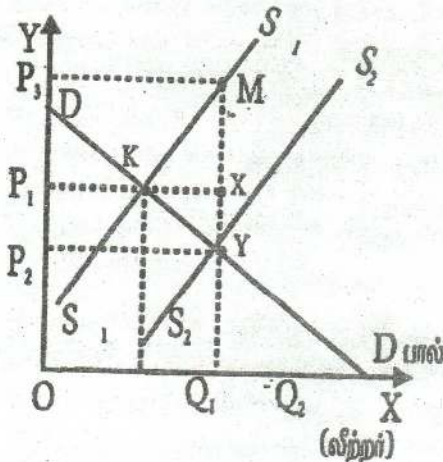
தேர்ச்சி - 02 - M.C.Q

19. நெகிழ்ச்சியுள்ள கேள்வியையும் நெகிழ்வற்ற நிரம்பலையும் கொண்ட ஒரு சந்தையின் மீது வரியொன்று விதிக்கப்படுமாயின்
 - 1) வரியின் பெருமளவு பளுவை நுகர்வோரே சுமப்பர்.
 - 2) வரியின் பளுவை நுகர்வோர் மட்டுமே சுமப்பர்.
 - 3) வரியின் பெருமளவு பளுவை விற்போரே சுமப்பர்.
 - 4) வரியின் பளுவானது நுகர்வோர், விற்போர் என்போரிடையே சமமாகப் பகிரப்படும்.
 - 5) வரியின் பளு எவ்வாறு பகிரப்படுமென்பதை நிர்ணயிக்க இயலாது.

20. பொருளொன்றினது விலையிலேற்படும் ஒரு மாற்றம் மொத்த வருமானத்தில் மாற்றத்தை ஏற்படுத்தாவிடில்.
 - 1) அப்பொருளுக்கான கேள்வி நெகிழ்ச்சியுள்ளதாகும்.
 - 2) அப்பொருளுக்கான கேள்வி நெகிழ்ச்சியற்றதாகும்.
 - 3) விலை மாற்றத்தால் நுகர்வோர் பெருமளவிற்கு ஈக்கப்படமாட்டார்கள்.
 - 4) அப்பொருளுக்கான கேள்வி அலகு நெகிழ்ச்சி கொண்டதாகும்.
 - 5) அப்பொருளுக்கான கேள்வி நெகிழ்ச்சி பூச்சியமாகும்.

21. கேள்வி வளையியில் மாற்றமின்றியே பின்வரும் காரணிகளுள் எது நெல்லுக்கான விலையில் அதிகரிப்பை ஏற்படுத்தவல்லது?
 - 1) நெல் விவசாயிகளினது உற்பத்தித் திறனில் ஓர் அதிகரிப்பு.
 - 2) நுகர்வோரது மெய் வருமானத்தில் ஓர் அதிகரிப்பு.
 - 3) விவசாயத் தொழிலாளரின் கூலிகளில் ஓர் அதிகரிப்பு.
 - 4) நெற்சாகுபடிக்கான பசளை மானியத்தில் ஓர் அதிகரிப்பு.
 - 5) நெல்லைப் பிரதான உணவாகக் கொண்ட மக்கட் தொகையில் அதிகரிப்பு

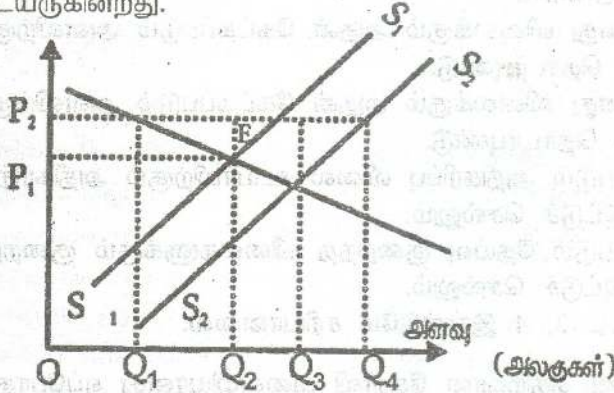
22. பின்வரும் வரிப்படத்தில் காட்டியது போன்று இலங்கையில் பால் உற்பத்திற்கு உதவுவதற்காக அரசாங்கம் ஒரு மானியத்தைப் பிரகடனம் செய்வதாகக் கருதுக.



பின்வருவனவற்றுள் எது அரசாங்கத்திற்கான மானியச் செலவைக் குறித்து நிற்கும்?

- 1) P_2P_3MY
- 2) $OP_2 YQ_2$
- 3) $OP_1 XQ_2$
- 4) $OP_3 YQ_2$
- 5) P_1P_3MX

23. பின்வரும் வரிப்படத்தில் காட்டியது போன்று, நெல்லுக்கான சந்தை இப்பொழுது S_1S_1 என்ற நிரம்பல் வளையியிலும் D என்ற கேள்வி வளையியும் E புள்ளியில் சமநிலையில் இருக்கின்றது. 1ஆம் வருடத்தில் அரசாங்கமானது OP_2 என்ற உத்தரவாத இழிவு விலையை பிரகடனம் செய்து, இதனால் ஏற்படும் நெல்லின் மிகை உற்பத்தியைக் கொள்வனவு செய்ய முன்வருகின்றது. 2ஆம் வருடத்தில் நெல் உற்பத்தியானது S_2S_2 என இடம் பெயர்ந்த நிரம்பல் வளையியினால் காட்டப்படும் அளவிற்கு உயருகின்றது.



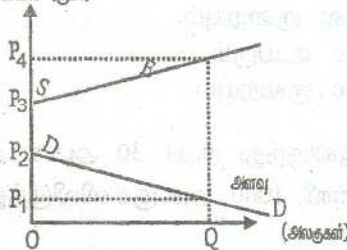
2ஆம் வருடத்தில் விவசாயிகளிடமிருந்து அரசாங்கம் கொள்வனவு செய்யவேண்டிய நெல்லின் அளவு யாது?

- 1) Q_3 இலிருந்து Q_4
- 2) Q_2 இலிருந்து Q_3
- 3) Q_2 இலிருந்து Q_4
- 4) Q_1 இலிருந்து Q_3
- 5) Q_1 இலிருந்து Q_4

24. வருமானங்கள் குறையும் பொழுது X என்ற பொருளின் கேட்கப்படும் அளவு அதிகரிக்குமாயின் அப்பொருள்

- 1) ஓர் இணைப் பொருளாகும்.
- 2) ஒரு பதிலீட்டுப் பொருளாகும்.
- 3) ஒரு சாதாரணப் பொருளாகும்.
- 4) ஓர் இழிவுப் பொருளாகும்.
- 5) ஒரு நெகிழ்ச்சியற்ற பொருளாகும்.

25. இங்கு தரப்பட்டுள்ள வரிப்படத்தில் சந்தைக் கேள்வியானது எல்லா விலைகளிலுமே நிரம்பலிலும் பார்க்கக் குறைவாக உள்ளது. சமூகம் OQ அலகுகளைக் கொள்வனவு செய்யவேண்டுமென அரசாங்கம் விரும்புமாயின் அது.



- 1) OP_1 இலும் பார்க்க விலை உயரக் கூடாதென விதிக்க வேண்டும்.
- 2) நிரம்பலாளர் OP_4 விலையை விதிக்க அனுமதிக்க வேண்டும்.

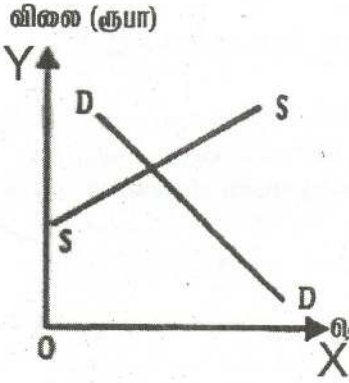
- 3) விற்பனை செய்யப்படும் ஒரு அலகிற்கு P_2P_3 உற்பத்தி மானியமளிக்க வேண்டும்.
 - 4) விற்பனை செய்யப்படும் ஒரு அலகிற்கு P_1P_3 உற்பத்தி மானியமளிக்க வேண்டும்.
 - 5) விற்பனை செய்யப்படும் ஒரு அலகிற்கு P_1P_4 உற்பத்தி மானிய மளிக்கவேண்டும்.
26. கேள்வி விதிக்கு அமைய
- 1) ஒரு பொருளினது விலைக்கும் அதன் கேட்கப்படும் அளவிற்குமிடையே நேர்க்கணியத் தொடர்புண்டு.
 - 2) ஒரு பொருளினது விலைக்கும் அதன் கேட்கப்படும் அளவிற்குமிடையே எதிர்க்கணியத் தொடர்புண்டு.
 - 3) கேள்வியிலேற்படும் அதிகரிப்பு விலை உயர்விற்கும் அதிகரித்த அளவிற்கும் இட்டுச் செல்லும்.
 - 4) கேள்வியிலேற்படும் தேய்வு குறைந்த விலைகளுக்கும் குறைந்த அளவிற்கும் இட்டுச் செல்லும்.
 - 5) மேலே தரப்பட்ட 3, 4 இரண்டுமே சரியானவை.
27. ஒரு சாதாரண பண்டத்திற்கான கேள்வி வளையியானது எப்போது இடப்புறமாக நகரும்?
- 1) நுகர்வோரது வருமானங்கள் அதிகரிக்கும் பொழுது.
 - 2) அப்பண்டத்தின் விலை அதிகரிக்கும் பொழுது.
 - 3) நிரப்பு பண்டங்களினது விலைகள் அதிகரிக்கும் பொழுது.
 - 4) நிரப்பு பண்டங்களின் மீதான விளம்பரச் செலவுகள் அதிகரிக்கும் பொழுது.
 - 5) அப்பண்டத்திற்கான தேர்வு அதிகரிக்கும் போது.
28. தேங்காய்க்கான சந்தைக் கேள்விச்சார்பு பின்வருமாறு
 $Q_d = 300 - 6P$
 தேங்காய்க்கான சந்தை நிரம்பல் சார்பு பின்வருமாறு
 $Q_s = 20 + 8P$
 தேங்காயின் விலை ரூபா 15 ஆகவிருக்குமாயின் தேங்காய்க்கான சந்தையில்
- 1) சமநிலை காணப்படும்.
 - 2) மிகைக் கேள்வி ஏற்பட்டு விலை உயரும்.
 - 3) மிகைக் கேள்வி ஏற்பட்டு விலை குறையும்.
 - 4) மிகை நிரம்பல் ஏற்பட்டு விலை உயரும்.
 - 5) மிகை நிரம்பல் ஏற்பட்டு விலை குறையும்.
29. X பண்டத்தின் விலை ரூபா 50 இலிருந்து ரூபா 30 ஆகக் குறையும் பொழுது. Y பண்டத்திற்கான கேள்வி 1000 அலகுகளிலிருந்து 1200

தேர்ச்சி - 02 - M.C.Q

அலகுகளாக அதிகரிக்கின்றது. X க்கும் Y க்குமிடையிலான குறுக்குக் கேள்வி நெகிழ்ச்சி யாது?

- 1) 0.5 2) - 0.5 3) 2.0 4) - 2.0 5) 2.5

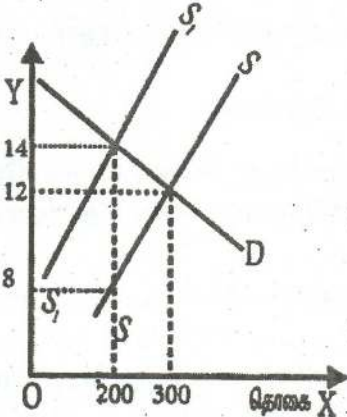
30. கீழேயுள்ள வரிப்படம் சமநிலையிலிருந்து ஒரு நுகர்வோர் பண்டத்திற்கான சந்தையைக் காட்டுகின்றது.



இப்பண்டத்தின் உற்பத்தியாளருக்கு மானியம் வழங்கும் அரசாங்கத்தினது ஒரு தீர்மானம் நன்மையளிப்பது

- 1) நுகர்வோருக்கு மட்டும்.
- 2) உற்பத்தியாளருக்கு மட்டும்.
- 3) நுகர்வோருக்கும் உற்பத்தியாளருக்கும் சமமாக.
- 4) உற்பத்தியாளருக்கும் மேலாக நுகர்வோருக்கு.
- 5) நுகர்வோருக்கு மேலாக உற்பத்தியாளருக்கு.

31. பண்டமொன்றின் உற்பத்தியின் மீதும் அரசாங்கம் ஒரு குறித்த நேரில்வரியை விதிக்கும் பொழுது, சந்தை நிரம்பல் வளையி SS இலிருந்து S_1S_1 க்கு நகருவதைப் பின்வரும் வரிப்படம் காட்டுகின்றது.



உற்பத்தியாளர் மீதும் நுகர்வோர் மீதும் வரியினது தாக்கம் எவ்வளவாகவிருக்கும்?

- 1) நுகர்வோர் ரூபா 1200ஐயும் உற்பத்தியாளர் ரூபா 400ஐயும் தாங்கிக் கொள்வர்.
- 2) நுகர்வோர் ரூபா. 800ஐயும் உற்பத்தியாளர் ரூபா 1200 ஐயும் தாங்கிக் கொள்வர்.
- 3) நுகர்வோர் ரூபா. 400ஐயும் உற்பத்தியாளர்கள் ரூபா 1200ஐயும் தாங்கிக்கொள்வர்.
- 4) நுகர்வோர் ரூபா 800ஐயும் உற்பத்தியாளர் ரூபா. 400ஐயும் தாங்கிக்கொள்வர்.
- 5) நுகர்வோர் ரூபா. 400ஐயும் உற்பத்தியாளர் ரூபா. 800 ஐயும் தாங்கியுள்ளார்.

32. ஒரு பொருளுக்கான கேள்வி விலை நெகிழ்ச்சியற்றதாகவிருக்குமாயின் மொத்த வருமானம்.

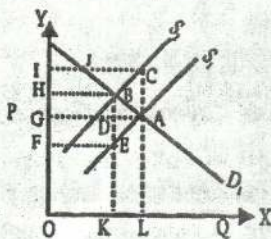
தேர்ச்சி - 02 - M.C.Q

- 1) விலை உயர்த்தப்பட்டால் குறையும்.
 - 2) விலை மாற்றம் எத்திசையில் ஏற்பட்டாலும் அதிகரிக்கும்.
 - 3) விலை குறைக்கப்பட்டால் அதிகரிக்கும்.
 - 4) எவ்வித விலைமாற்றம் ஏற்பட்டாலும் மாறாதிருக்கும்.
 - 5) விலை உயர்த்தப்பட்டால் அதிகரிக்கும்.
33. பொருளாதாரத்தில் இழிவுப்பண்டம் என வரைவிலக்கணப்படுத்தப்படும் பொருளொன்று கொண்டுள்ள இயல்பு யாது?
- 1) விலை வீழ்ச்சியடையும் போது கேட்கப்படும் தொகையானது மாற்றமற்று இருத்தல்.
 - 2) வருமானத்திலான குறைவின் போது கேள்வி அதிகத்தல்.
 - 3) விலை அதிகரிக்கும் போது கேட்கப்படும் தொகை வீழ்ச்சியடைதல்.
 - 4) விலை அதிகரிக்கும் போது நுகர்வோர் வேறு பண்டங்களுக்கு மாறிக் கொள்ளல்.
 - 5) விலை அதிகரிக்கும் போது கேள்வித்தொகை அதிகரித்தல்.
34. பொருளியலில் அதிஇழிவுப் பொருள் எனக் கொள்ளப்படும் பொருளின் பிரதான இயல்புகளை இனங்காணல்.
- 1) ஒரு நுகர்வோன் அவனது வருமானம் கூடுமிடத்தில் பொருளை பெருமளவு குறைத்து கொள்வனவு செய்கின்றான்.
 - 2) ஒரு நுகர்வோன் சந்தை விலை குறையுமிடத்து அப்பொருளை குறைத்து வாங்குகின்றான்.
 - 3) போசாக்கு குறைவாகவுள்ள பொருள்.
 - 4) குறைந்த வருமானங்கள் பெறும் குடும்பங்களினால் பிரதானமாக நுகர்வு செய்யப்படும் பொருளாக இருத்தல்.
 - 5) விலை அதிகரிக்க கேள்வித்தொகை குறையும்.
35. X இன் விலை 20% ஆக வீழ்ச்சியடையுமிடத்து வேண்டப்படும் தொகை 8% ஆக அதிகரிக்கின்றது. அத்தகைய நிலைமையினை தோற்றுவிக்கும் சூழ்நிலையை இனங்காண்க.
- 1) Xஇற்கு நெருங்கிய பிரதியீடுகள் இல்லாதிருத்தல்
 - 2) X ஒரு ஆடம்பரப் பொருள்
 - 3) X ஒரு குறுகிய அடிப்படையில் விரைவிலக்கணப்படுத்திய பொருள்
 - 4) கேள்வி அதிகளவான விலை நெகிழ்ச்சியுடையது.
 - 5) விலைக்கும் நுகர்வோன் செலவுக்கும் இடையில் எதிர்கணியத் தொடர்பு நிலவும்.
36. ஒரு கேள்விக் கோடு அதன் முழு அளவிலும் நிலையான விலை நெகிழ்ச்சியை காட்டாத சந்தர்ப்பம்
- 1) அதனுடைய முழு நீளத்திலும் கேள்வி வளையியின் சரிவு நிலையானதாக இருத்தல்.

- 2) விலையில் ஏற்படும் சதவீத மாற்றம் எப்பொழுதும் வேண்டப்படும் தொகையில் ஏற்படும் சதவீத மாற்றத்திற்கு சமனாகும்.
 - 3) கேள்விக் கோடு ஒரு கிடைக்கோடாக தொகை அச்சுக்கு சமாந்தரமாக அமைதல்.
 - 4) கேள்விக் கோடு ஒரு செவ்வக அதிபர வளையியாக இருத்தல்.
 - 5) கேள்விக் கோடு ஒரு நிலைக்குத்து அச்சுக்கு சமாந்தரமாக அமைதல்.
37. கிபன் பண்டமொன்றின் மிகப்பிரதான இயல்பு யாது?
- 1) வருமானம் உயரும் பொழுது பொருளுக்கான கேள்வி குறைகின்றது. வருமானம் வீழ்ச்சியடையும் பொழுது கேள்வி கூடுகின்றது.
 - 2) தரத்திற்குக் குறைவாக பொருளின் தன்மை காணப்படுதல்.
 - 3) விலை வீழ்ச்சியடையும் பொழுது வேண்டப்படும் கேள்வித் தொகை குறைகின்றது. விலையுயரும் பொழுது கேள்வித்தொகை கூடுகின்றது.
 - 4) விலைகள் மாறுமிடத்தும் பொருளின் வேண்டப்படும் கேள்வித்தொகை நிலையானதாகவிருத்தல்.
 - 5) கௌரவப் பண்டமாகும்.
38. X இற்கான கேள்வி நெகிழ்ச்சியடையதாக இருப்பது.
- 1) X இன் விலை வீழ்ச்சியடையுமிடத்து அதன் கேள்வித்தொகை கூடும் பொழுது
 - 2) X இன் விலையிலான வீழ்ச்சியொன்று அப்பண்டத்தின் மொத்தச் செலவு குறைக்கப்படும் விளைவினை ஏற்படுத்தும் பொழுது
 - 3) X இன் விலையிலான ஒரு வீழ்ச்சி, கேள்வித் தொகையில் குறைந்த விகிதாசார ரீதியான அதிகரிப்பினை ஏற்படுத்தும் பொழுது
 - 4) X இன் விலையிலான ஓர் அதிகரிப்புப் பண்டத்தின் மொத்தச் செலவில் குறைவினை விளைவிக்கும் பொழுது
 - 5) அத்தியாவசியப் பண்டமாக இருக்கும்போது.
39. பண்டமொன்றின் கேள்வி நெகிழ்ச்சி -2 எனின், 2% இலான விலை அதிகரிப்பானது,
- 1) கேள்வித் தொகையினை 4% இனால் குறைவடையச் செய்யும்.
 - 2) கேள்வித் தொகையினை 1% இனால் குறைவடையச் செய்யும்.
 - 3) கேள்வித் தொகையினை 1% இனால் அதிகரிக்கச் செய்யும்.
 - 4) கேள்வித் தொகையினை 4% இனால் அதிகரிக்கச் செய்யும்
 - 5) மொத்த வருமானம் குறைவடையும்.
40. Y என்ற பண்டத்துக்கான கேள்வி நெகிழ்ச்சியற்றதாக இருப்பது
- 1) Y இன் விலை வீழ்ச்சியடையுமிடத்து அதன் கேள்வித் தொகை அதிகரிக்கும் போது.
 - 2) Y இன் விலையிலான ஓர் வீழ்ச்சி கேள்வித் தொகையில் அதிக வீதாசார அதிகரிப்பினை ஏற்படுத்தும் போது.

தேர்ச்சி - 02 - M.C.Q

- 3) Y இன் விலையிலான அதிகரிப்பொன்று அப்பண்டத்தின் மொத்தச் செலவில் குறைவினை விளைவிக்கும் போது.
 - 4) Y இன் விலையிலான வீழ்ச்சியொன்று அப்பண்டத்தின் மொத்தச் செலவில் குறைவினை விளைவிக்கும் போது.
 - 5) நீண்டகாலத்தைக் கொண்டுள்ளது.
41. பண்டம் ஒன்றின் விலை உயரும் பொழுது அப்பண்டத்திற்கான நுகர்வோன் செலவீடு குறைந்து செல்கின்றது. எந்நிலமையின் கீழ் நிகழக்கூடும்?
- 1) பண்டம் குறைவான நெகிழ்ச்சியான கேள்வியை கொண்டுள்ள போது.
 - 2) பண்டம் மிக நெருங்கிய பிரதியீடுகளைக் கொண்டிருக்கும் போது.
 - 3) பண்டத்திற்கான கேள்வி மிகவும் நெகிழ்ச்சியற்றதாகக் காணப்படும் போது.
 - 4) இப்பண்டம் ஓர் இழிவுப் பொருளாகக் காணப்படும் போது.
 - 5) இப் பண்டம் ஓர் கிபன் பொருளாகக் காணப்படும் போது.
42. ஒரு பண்டத்தின் நிரம்பல் வளையி வலப்புறம் இடம்பெயர்வதற்கு ஏதுவான காரணியை அடையாளம் காண்க.
- 1) கேள்வியிலான ஒரு விரிவு
 - 2) உள்ளீட்டு விலைகளிலான ஒரு வீழ்ச்சி
 - 3) தொழில்நுட்பத்திலான ஒரு பின்னடைவு
 - 4) பண்டத்தை உற்பத்தி செய்வதனால் அதிக இலாபகரத் தன்மையை ஏற்படுத்தும் நிலையிலான ஒரு உயர்வு.
43. பின்வரும் கூற்றுக்களில் எது பிழையானது என நீர் கருதுவீர்?
- 1) நீண்ட காலத்தை கவனத்திற்கு எடுத்துக் கொள்ளுமளவுக்கு ஒரு பண்டத்தின் நிரம்பல் நெகிழ்ச்சி கூடுதலாக இருக்கும்.
 - 2) ஒரு பண்டத்திற்கான கேள்வி அதன் விலை மாறாமல் அதிகரிக்க இடமில்லை.
 - 3) தொடக்க விலையினூடாக ஒரு நேர்க்கோட்டு நிரம்பல் வளையி ஒருமை நெகிழ்ச்சியினைக் கொண்டதாகும்.
 - 4) ஒரு நேர்க்கோட்டு கேள்வி விளையியில் கேள்வியின் விலை நெகிழ்ச்சி பூச்சியத்திலிருந்து முடிவிலி வரையான அளவாகும்.
 - 5) கேள்விக் கோட்டின் சரிவு கேள்வி நெகிழ்ச்சியன்று.
44. குறித்த பண்டமொன்றின் மீது நேரில்வரி விதிக்கப்படும் போது சந்தைச் சமநிலையில் ஏற்படும் மாற்றத்தை கீழுள்ள வரிப்படம் காட்டுகிறது.



இங்கு நுகர்வோரின் வரிச்சுமையின் அளவு

- 1) FGDE
- 2) GICA
- 3) BDGH
- 4) GHBA
- 5) FHBE

45. பின்வரும் கூற்றுக்களிலிருந்து மிகச் சரியானதை தெரிவு செய்க.
- 1) நெகிழ்வற்ற கேள்வியைக் கொண்டுள்ள விவசாயப் பொருளின் சந்தை நிரம்பல் வீழ்ச்சியடையின் அதனை நிரம்பல் செய்வோரின் விற்பனை வருமானம் வீழ்ச்சியடையும்.
 - 2) விவசாயம் பொருட்களுக்கு நெகிழ்வுள்ள கேள்வி காணப்படுகின்ற போது அதன் நிரம்பல் அதிகரிப்பின் அதனை நிரம்பல் செய்வோரின் விற்பனை வருமானம் வீழ்ச்சியடையும்.
 - 3) விவசாயம் பொருட்களுக்கு நெகிழ்வற்ற கேள்வி நிலவும் போது அப்பொருளின் நிரம்பல் குறைவதனால் நிரம்பலாளரின் வருமானம் அதிகரிக்கப்படும்.
 - 4) விவசாயப் பொருட்களின் கேள்வி நெகிழ்ச்சி ஒன்றுக்கு கூடியதாக காணப்படுகிறது.
 - 5) விவசாயப் பொருட்களின் விலைகள் தளம்பல் அடைவதில்லை.
46. கேள்வி வளையியில் மாற்றமின்றியே கீழ்வரும் காரணிகளுள் எது குரக்கனாக்கான விலையில் வீழ்ச்சியை ஏற்படுத்தக் கூடியது?
- 1) குரக்கன் உற்பத்தியில் உற்பத்தித்திறன் குறைவு.
 - 2) மக்கள் பண வருமானத்தில் ஏற்பட்ட அதிகரிப்பு.
 - 3) உரமானியத்தில் ஏற்பட்ட வீழ்ச்சி.
 - 4) உற்பத்திச் செலவில் ஏற்பட்ட வீழ்ச்சி.
 - 5) சனத்தொகை அளவில் ஏற்பட்ட குறைவு.
47. X பண்டத்தின் விலை ரூபா 100 இலிருந்து 60 ஆக குறையும் போது Y பண்டத்திற்கான கேள்வி 1000 அலகுகளிலிருந்து 1200 அலகுகளாக அதிகரிக்கின்றது எனின் கேள்வி நெகிழ்ச்சி யாது?
- 1) 0.5 2) 2 3) -0.5 4) -2 5) -1.5
48. ஆடம்பரப்பொருள் ஒன்றின் மீது வரிவிதிக்கப்படும் போது
- 1) வரிச்சுமை முழுவதும் நுகர்வோரால் செலுத்தப்படும்.
 - 2) பெரும்பகுதி வரிச்சுமை உற்பத்தியாளரால் செலுத்தப்படும்.
 - 3) அதிகளவான வரிப்பளு நுகர்வோராலும் சிறிதளவான வரிப்பளு நிரம்பலாளராலும் சுமக்கப்படும்.
 - 4) உற்பத்தியாளர் வரிச்சுமையினை ஏற்பதில்லை.
 - 5) வரிச்சுமை முழுவதும் உற்பத்தியாளரால் செலுத்தப்படும்.
49. குறிப்பிட்ட பொருளை விற்பனை செய்யக்கூடிய உச்சபட்ச விலையை அரசு விதிக்குமாயின் அதன் விளைவான மிகச் சரியான கூற்று.
- 1) பொருளின் கேள்வித் தொகையும் நிரம்பல் தொகையும் அதிகரிப்பதனால் மிகைக் கேள்வி ஏற்படாது.
 - 2) பொருளின் நிரம்பலளவு அதிகரிக்க கேள்வித் தொகையளவு குறைவடையும்.
 - 3) பொருளின் நிரம்பல் குறைவடைந்து கேள்வித் தொகை அதிகரிப்பதால் மிகைக் கேள்வி நிலை ஏற்படும்.

தேர்ச்சி - 02 - M.C.Q

- 4) பொருளின் நிரம்பல் தொகை வீழ்ச்சியடைய கேள்வித் தொகை அதிகரிப்பதால் விலையும் அதிகரிக்கும்.
- 5) பொருளின் நிரம்பல் அதிகரித்து கேள்வித் தொகை குறைவதால் மிகை நிரம்பல் நிலை ஏற்படும்.

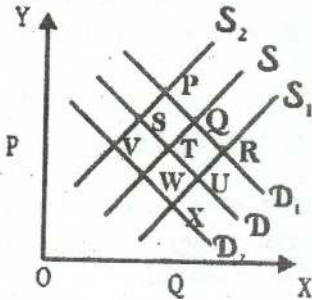
50. சமூகச் செலவு என்பது பின்வருவனவற்றில் எதனைக் குறித்து நிற்கும்?

- 1) குறித்த பொருள் உற்பத்தி தொடர்பாக உள்ளீடுகளுக்காக உற்பத்தியாளர் மேற்கொண்ட செலவுடன் வெளிவாரிச் செலவையும் கூட்டுவதன் மூலம் பெறப்படுவது.
- 2) குறித்தபொருளின் உற்பத்திக்காக உற்பத்தியாளரால் மேற்கொள்ளப்பட்ட உள்ளீடுகள் தொடர்பான செலவு.
- 3) குறித்தபொருள் உற்பத்தியாளர் தவிர்ந்த ஏனையோர் குறித்த பொருள் தொடர்பாக மேற்கொண்ட செலவு.
- 4) தனியார் நலனுடன் வெளிவாரி நலனையும் கூட்டுவதன் மூலம் பெறப்படுவது.
- 5) வெளிப்படையான செலவினையும் உட்கிடையான செலவினையும் சேர்த்ததாகும்.

51. பண்டமொன்றின் உற்பத்தி தொடர்பாக தனியார் பெறும் நலனிலும் பார்க்க சமூக நலன் அதிகமாக உள்ளது. எனவே அரசாங்கம்

- 1) குறித்த பண்ட உற்பத்தியை நேரடியாக கட்டுப்படுத்தலாம்.
- 2) குறித்த பண்ட உற்பத்திற்கு மானியம் வழங்கலாம்.
- 3) குறித்த பண்ட உற்பத்தி மீது நேரில் வரி விதிக்கலாம்.
- 4) குறித்த பண்ட விற்பனை மீது உயர்ந்த பட்ச கட்டுப்பாடுவிலையை விதிக்கலாம்.
- 5) குறித்த பண்ட உற்பத்தியின் மானியத்தை நிறுத்தலாம்.

இக்கேள்வி நிரம்பல் கோடுகளையும் சமநிலைகளையும் கருத்திற் கொண்டு 52, 53ஆம் வினாக்களுக்கு விடையளிக்க. (ஆரம்ப சமநிலைப் புள்ளி T என்க)



52. குறிப்பிட்ட பொருளுக்கு இணைப்புப் பொருளாக காணப்படும் பொருளின் விலையானது அதிகரிப்பின் புதிய சமநிலைப் புள்ளி எது?

- 1) S
- 2) W
- 3) U
- 4) Q
- 5) R

53. குறிப்பிட்ட பொருளின் உற்பத்திக் காரணிகளின் விலை அதிகரித்துள்ளதால் நுகர்வோர் வருமானமும் குறைவடைந்துள்ளது. புதிய சமநிலைப் புள்ளி எது?
- 1) V 2) P 3) R 4) X 5) T
54. மிகைநிரம்பல் விலை காணப்படுவது.
- 1) சமநிலை விலையில் 4) சமநிலைத் தொகைக்கு கீழாக
2) சமநிலைத் தொகையில் 5) சமநிலை விலைக்கு மேலாக
3) சமநிலைத் தொகைக்கு மேலாக
55. சந்தைச் சமநிலையின் இயல்பு அல்லாதது.
- 1) கேள்வியும் நிரம்பலும் சமனாக இருத்தல்.
2) கேள்வி விலையும் நிரம்பல் தொகையும் சமனாக இருத்தல்.
3) மிகைக் கேள்வி, மிகை நிரம்பல் இல்லாத நிலை.
4) மிகைக் கேள்வி விலை, மிகை நிரம்பல் விலை என்பன பூச்சியமாக இருத்தல்.
5) கேள்வி விலையும் நிரம்பல் விலையும் சமனாக இருத்தல்.
56. பகுத்தறிவுள்ள நுகர்வோர் தனது வரையறுக்கப்பட்ட வருமானத்தை செலவிடுவது.
- 1) மொத்த செலவு இழிவுபடுவதற்கு.
2) தெரிவு செய்யப்படும் பண்டங்களின் எண்ணிக்கையை குறைப்பதற்கு.
3) எல்லை பயன்பாட்டை சமனாக்குவதற்கு.
4) சேமிப்பை ஊக்குவிப்பதற்கு.
5) மொத்த பயனை உச்சப்படுத்துவதற்கு.
57. குறிப்பிட்ட பொருளின் நிரம்பலை அதிகரிப்பதற்கு நீண்டகாலம் தேவைப்படின் அதன் நிரம்பல் நெகிழ்ச்சி.
- 1) நெகிழ்ச்சியுடையது. 4) நெகிழ்ச்சியற்றது.
2) முற்றாக நெகிழ்வற்றது. 5) ஒருமை நெகிழ்ச்சியுடையது.
3) பூரண நெகிழ்வுள்ளது.
58. பின்வருவனவற்றுள் எவ்நிலமை கேள்வி நெகிழ்ச்சி வாய்ந்த நிலைக்கு பொருத்தமற்றது.
- 1) குறித்த பொருள் பரந்த அடிப்படையில் வரையறுக்கப்பட்டமை.
2) குறித்த பண்டத்திற்கு அதிக பதிலீடுகள் இருத்தல்.
3) விலையிலான மாற்றம் ஒன்றின் விளைவினை அளவிட நீண்டகாலம் அனுமதிக்கின்றமை.
4) வருமானத்தினால் ஏற்படும் அதிகரிப்பினால் பண்டத்தின் மீதான செலவினம் பெருமளவு அதிகரிப்பை ஏற்படுத்தல்.
5) ஆடம்பரப் பொருளாக இருத்தல்.

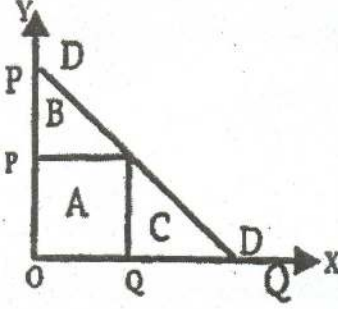
தேர்ச்சி - 02 - M.C.Q

59. பொருளொன்றின் கேள்விக்கோடு மேலிருந்து கீழாக இடமிருந்து வலமாக நகர்வதற்குப் பொறுப்பாக இருப்பது.
- 1) குறித்த பொருளின் விலை மாறாதிருக்க இணைப்புப் பொருளின் விலை குறைதல்.
 - 2) புதிலீட்டு விளைவு.
 - 3) வருமான விளைவு.
 - 4) பதிலீட்டு விளைவும் வருமான விளைவும்.
 - 5) பதிலீட்டு விளைவு அல்லது வருமான விளைவு.
60. ஒரு பண்டத்தின் விலை 25/- ஆக உள்ளபோது மொத்த நுகர்வோன் செலவு 7500/- ஆகும். இப்பொருளின் விலை 20% இனால் குறைக்கப்படும் போது அதன் கேள்வி நெகிழ்ச்சி -2 ஆகும். தற்போது அப்பண்டத்தின் நுகர்வோன் செலவு யாது?
- 1) 2,400 2) 8,400 3) 9,500 4) 10,000 5) 7,300
61. நிலைக்குத்தச்சு வெட்டிச் செல்லும் ஒரு நேரான நிரம்பல் கோட்டின் நெகிழ்ச்சி பற்றிய சரியான விடையினை தெரிவு செய்ய்க.
- 1) விலை அதிகரிக்க குறைவடையும்.
 - 2) விலை அதிகரிக்க அதிகரிக்கும்.
 - 3) ஒன்றை விடக் கூடியது. ஆனால் விலை அதிரிக்க அதிகரிக்கும்.
 - 4) ஒன்றை விடக்கூடியது. ஆனால் விலை அதிகரிக்க குறையும்.
 - 5) ஒன்றைவிட குறைவு. ஆனால் விலை அதிகரிக்க அதிகரிக்கும்.
62. $Q_d = 1000 - 50p$ என்ற கேள்விச் சமன்பாட்டில் 12/- விலையில் நுகர்வோன் மிகை யாது?
- 1) 1,600 2) 2,500 3) 400 4) 600 5) 3,000
63. நிரம்பல் கோட்டின் இடதுபுற நகர்வைத் தீர்மானிப்பது.
- 1) பொருளின் விலை குறைத்தல்.
 - 2) போட்டி நிரம்பல் பொருளின் விலை அதிகரித்தல்.
 - 3) போட்டி நிரம்பல் பொருளின் விலை குறைத்தல்.
 - 4) கூட்டு நிரம்பல் பொருளின் விலை அதிகரித்தல்.
 - 5) உற்பத்திக் காரணிகளின் விலை குறைத்தல்.
64. நேரான கேள்விக் கோடொன்றின் சரிவு $\frac{1}{4}$ ஆகும். பொருளின் விலை 20/- ஆயின் கேள்வித் தொகை 80 அலகுகளாகும். 20/- இல் கேள்வியின் புள்ளி நெகிழ்ச்சி யாது?
- 1) 1.6 2) 6.67 3) -1.6 4) -4 5) 1
65. கேள்வி விதிக்கு முரணாக அமையாத சந்தர்ப்பமாக கருதக் கூடியது
- 1) குறித்த பண்ட விலை அதிகரிக்க கேள்வித் தொகையும் அதிகரித்தல்.
 - 2) கிபன் பண்டமாக இருத்தல்.

தேர்ச்சி - 02 - M.C.Q

- 3) சமூக அந்தஸ்தைக் கொண்டுள்ள பொருள்.
- 4) கேள்விக் கோடு மேலிருந்து கீழாக நகருதல்.
- 5) பொருளின் தரம் விலையினால் தீர்மானிக்கப்படுதல்.

66.



DD என்பது கேள்விக் கோடாகும். குறித்த ஒரு நிறுவனம் குறித்தவொரு சேவைக்கான கட்டணத்தை ஆரம்பித்தல் OP என தீர்மானிக்கும் போது கேள்வி OQ எனக் காணப்படுகின்றது. தற்போது இலவச சேவையாக வழங்கத் தீர்மானிப்பின் நுகர்வோர் மிகையில் ஏற்படும் அதிகரிப்பு என்ன?

- 1) A+B
- 2) B+C
- 3) (B+A)-A
- 4) A+B+C
- 5) A+C

67. கிபன் பண்டத்தின் போது

- 1) பதிலீட்டு விளைவு, வருமான விளைவு, விலை விளைவு என்பன நேர்க்கணியமாக காணப்படும்.
- 2) நேர்க்கணியப் பதிலீட்டு விளைவு விட எதிர்க்கணிய வருமான விளைவு உயர்வாக காணப்பட்டு எதிர்கணிய விலை விளைவை கொண்ட பண்டம்.
- 3) நேர்க்கணிய பதிலீட்டு விளைவை விட எதிர்க்கணிய வருமான விளைவு குறைவாக காணப்பட்டு நேர்க்கணிய விலை விளைவு காணப்படும்.
- 4) பதிலீட்டு விளைவும் வருமான விளைவும் சமனாகக் காணப்படும்.
- 5) பதிலீட்டு விளைவும் எதிர்க்கணியமாகவும் வருமான விளைவு நேர்க்கணியமாகவும் காணப்படும்.

68. உலகின் புதிய ஏழு அதிசயங்களில் ஒன்றின் நிரம்பல் கோடு

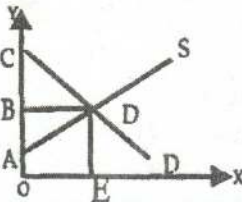
- 1) தொகையச்சுக்கு சமாந்தரமாகக் காணப்படும்.
- 2) மூலப்புள்ளியிலிருந்து ஆரம்பித்துச் செல்லும்.
- 3) செங்குத்து அச்சுக்கு சமாந்தரமாகக் காணப்படும்.
- 4) விலை அச்சுக்கு குத்துச் சாய்வாக இருத்தல்.
- 5) தொகை அச்சுக்கு குத்துச் சாய்வாக இருத்தல்.

69. சந்தைச் சமநிலையின் போது கேள்வி அதிகரிப்பும் நிரம்பல் குறைவும் சமனாக இருப்பின்

- 1) சமநிலை விலை குறையும்.
- 2) சமநிலை விலை மாறாது.
- 3) சமநிலைத் தொகை அதிகரிக்கும்.
- 4) சமநிலைத் தொகை மாறாது.
- 5) சமநிலைத் தொகை குறையும்.

தேர்ச்சி - 02 - M.C.Q

70. பூச்சியக் குறுக்குக் கேள்வி நெகிழ்ச்சியுடைய பண்டம்.
 1) சாதாரண பண்டம் 4) இணைப்புப் பண்டம்.
 2) சுயேட்சைப் பண்டம். 5) அத்தியாவசியப் பண்டம்.
 3) பதிலீட்டுப் பண்டம்.
71. அரசாங்கம் குறித்தவொரு பண்டத்தின் மீது மானியம் வழங்கும் போது நிரம்பல் சார்பு பின்வருமாறு மாறும்.
 1) $QS = a + bp$ 4) $QS = a + b (P + T)$
 2) $QS = a + b (P - S)$ 5) $QS = a + b (P + S)$
 3) $QS = a - b (P + S)$
72. நிரம்பல் நெகிழ்ச்சி அற்றதாயின்.
 1) பொருளாதார வாடகையிலும் மாற்றுக் கட்டணம் உயர்வாகும்.
 2) மாற்று உழைப்புக்களை விட சிக்கன வாடகை பெரிதாகும்.
 3) மாற்றல் வருமானங்களை விட பொருளாதார வாடகை அதிகமாகும்.
 4) மொத்த வருமானம் முழுவதும் மாற்றுக் கட்டணங்களாகும்.
 5) மாற்றுக் கட்டணமும் சிக்கன வாடகையும் சமனாகும்.
73. குறித்த ஒரு நுகர்வோன் குறித்த பொருளின் விலை அலகொன்று 10/- ஆக உள்ளபோது 800/- செலவிடுகின்றான். பொருளின் அலகு விலை 20/- ஆயின் 960/- ஐ செலவிடுகின்றான் எனின் விலைசார் கேள்வி நெகிழ்ச்சி யாது?
 1) 2.5 2) -2.5 3) -0.4 4) 0.4 5) 1.6
74. பின்வருவனவற்றுள் பிழையான கூற்றைத் தெரிக.
 1) நெகிழ்ச்சியற்ற கேள்வியையுடைய பொருளின் விலை அதிகரிக்கும் போது மொத்த வருமானம் அதிகரிக்கும்.
 2) முற்றாக நெகிழ்ச்சியற்ற கேள்வியின் போது உற்பத்தியாளர் வரிச்சமையை ஏற்படுத்துவதில்லை.
 3) நேராக கேள்விக் கோட்டின் நடுப்புள்ளியில் அலகுக் கேள்வி நெகிழ்ச்சி காணப்படும்.
 4) முற்றாக நெகிழ்வற்ற வழங்கல் கோட்டின் அனைத்துப் புள்ளிகளிலும் ஒருமை நெகிழ்ச்சி காணப்படும்.
 5) சிலருரிமைச் சந்தையின் கேள்விக் கோட்டு இடைமுறிக் கோடாக காணப்படும்.
75. பின்வரும் வரைபின் அடிப்படையில் மாற்றுக்கட்டணம், சிக்கன வாடகை என்பவற்றின் பரப்புக்கள் முறையே



- 1) BCD, ABD 4) ADEO, BDA
 2) ABD, OADE 5) ACD, DEOA
 3) OBDE, BCD

தேர்ச்சி - 02 - M.C.Q

76. ஒரு பொருளின் விலை பூச்சியமாக இருக்கும் போது கேள்வித் தொகை 800 அலகுகளாக இருந்தது. விலை ஒரு ரூபாவால் அதிகரிக்க அதனது கேள்வித்தொகை 50 அலகுகளால் குறைவடைகிறது எனின் கேள்விச் சார்பு யாது?
- 1) $QD = -800 + 1/50P$ 4) $QS = 800 - 50P$
 2) $50P = 800 - Qd$ 5) $QS = 800 - 50P$
 3) $Qd = 800 + 50P$
77. பொருளாதார உறுதியை நிலைநாட்டுவதற்கு அரசு மானியம் வழங்குதல் வேண்டும். எனினும் செலவினை இழிவுபடுத்த அரசாங்கம் என்ன உபாயத்தைக் கையாளும்.
- 1) கேள்வி நெகிழ்ச்சி வாய்ந்த பொருட்களுக்கு மானியம் வழங்குதல்.
 2) மானியத்தை நிறுத்துதல்.
 3) மிகை நிரம்பல் கொள்வனவு செய்தல்.
 4) விரியினை விதித்தல்.
 5) கேள்வி நெகிழ்ச்சியற்ற பொருட்களுக்கு மானியம் வழங்குதல்.
78. ஒரு பண்டத்தின் கேள்வி விலை நெகிழ்ச்சியற்றதாயின் விலையில் ஏற்படும் அதிகரிப்பு.
- 1) தொகையில் சிறிய வீத வீழ்ச்சியை ஏற்படுத்தும்.
 2) தொகையில் உயர்ந்த வீத வீழ்ச்சியை ஏற்படுத்தும்.
 3) நுகர்வோர் செலவைக் குறைக்கும்.
 4) தொகையின் சமனான வீழ்ச்சியை ஏற்படுத்தும்.
 5) மொத்த வருமானம் மாறுவதில்லை.
79. அரசாங்கம் இறைக்கொள்கையினூடாக வளங்களை சிறப்பாக ஒதுக்கிடுவதற்காக வரிவிதிக்கும் போது.
- 1) முடிவிலி நிரம்பல் நெகிழ்வுடைய பொருளுக்கு வரிவிதித்தல்.
 2) நிரம்பல் நெகிழ்ச்சி வாய்ந்த பொருட்களுக்கு குறைந்த வரிவிதித்தல்.
 3) நேர்வரியைக் குறைத்தல்.
 4) நிரம்பல் நெகிழ்ச்சியற்ற பண்டங்களுக்கு வரியைக் குறைத்தல்.
 5) வரியை நிறுத்தல்.
80. சர்வதேச வர்த்தக ஒப்பந்தத்தில் ஈடுபடும் நாடு கருத்திற்கொள்ள வேண்டிய நிரம்பல் நெகிழ்ச்சி யாது?
- 1) $ES = 1$ 2) $ES > 1$ 3) $ES < 1$ 4) $ES = 0$ 5) $ES = \infty$
81. கேள்வி நிரம்பல் நிச்சயமற்றிருக்கும் நிலைமைகளை எதிர்நோக்கும் போது பொருளின் விலைத்தளம்பலை தவிர்ப்பதற்கு அரசு கையாளும் நடவடிக்கை.
- 1) ஏற்றுமதிகள் மீது பூரண கட்டுப்பாடுகளை விதித்தல்.
 2) அதிகளவு கொள்வனவு செய்து தாங்கிருப்பை வைத்திருத்தல்.
 3) அதிகளவு பணத்தை வைத்திருத்தல்.

தேர்ச்சி - 02 - M.C.Q

- 4) இறக்குமதிகளை பூரணமாக கட்டுப்படுத்தல்.
- 5) செலவுகளை அதிகரித்தல்.

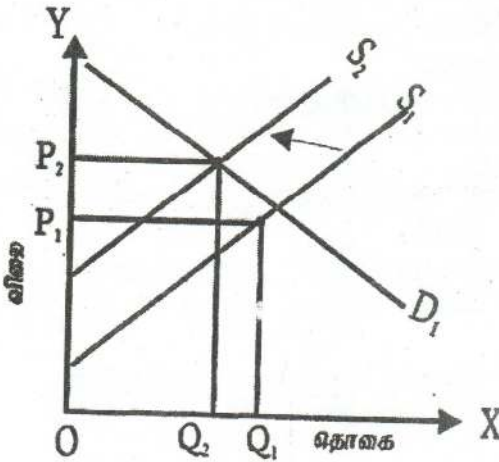
82. கோதுமை மா விற்பனையாளர்கள் தமது மாவின் விலை 25% இனால் குறைக்குமாறு அரசினால் கேட்கப்படுகின்றனர். 60/- இல் மாவுக்கான தினசரிக் கேள்வி 4000kg ஆகும். மாவுக்கான கேள்வி நெகிழ்ச்சி -0.75 ஆகும். எனின் எத்தனை கிலோ மா மேலதிகமாக உற்பத்தி செய்யப்படல் வேண்டும்?

- 1) 570 2) 750 3) 1000 4) 3250 5) 4000

83. நேரான கேள்விக் கோடொன்றின் வழியே நெகிழ்ச்சி வேறுபடக் காரணம்.

- 1) ஆரம்ப விலை, தொகை மாறாதிருத்தல்.
- 2) விலை மாற கேள்வித்தொகை மாறுதல்.
- 3) சரிவு மாறாதிருக்க ஆரம்ப விலை தொகை மாற்றமடைதல்.
- 4) சரிவு மாற்றமடைதல்.
- 5) ஆரம்பவிலை மட்டும் மாற்றமடைதல்.

84. போட்டிச் சந்தையொன்றில் பொருளொன்றுக்கான சமநிலை மாற்றங்களை வரிப்படம் காட்டுகின்றது.



நிரம்பல் கோடு S_1 இலிருந்து S_2 இற்கு நகரும் போது

- 1) நுகர்வோன் மிகையும் உற்பத்தியாளர் மிகையும் குறைவடையும்.
- 2) நுகர்வோன் மிகையும் உற்பத்தியாளர் மிகையும் அதிகரிக்கும்.
- 3) நுகர்வோன் மிகை அதிகரிக்க உற்பத்தியாளர் மிகை குறையும்.
- 4) நுகர்வோன் மிகை குறைவடைய உற்பத்தியாளர் மிகை அதிகரித்தல்.
- 5) சிக்கன வாடகை அதிகரிக்கும்.

85. அதிக வரி வருமானத்தைத் திரட்ட அரசாங்கம் எத்தகைய பண்டத்தின் மீது வரியினை அதிகரித்தல் வேண்டும்.

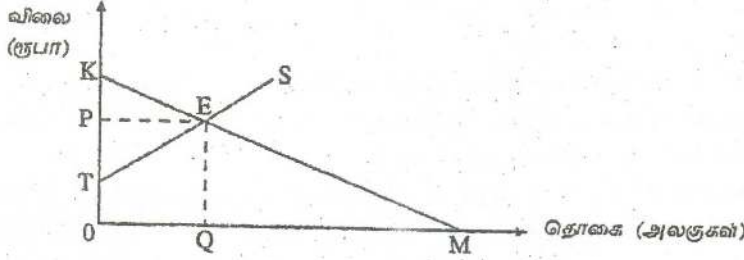
- 1) நேர்கணிய வருமானம் சார் கேள்வி நெகிழ்ச்சியுடைய பண்டங்கள்.
- 2) எதிர்கணிய வருமானம் சார் கேள்வி நெகிழ்ச்சியுடைய பண்டங்கள்.
- 3) அதிகளவான விலைசார் கேள்வி நெகிழ்ச்சியுடைய பண்டங்கள் மீது.
- 4) உயர்ந்த விலைசார் நிரம்பல் நெகிழ்ச்சியுடைய பண்டங்கள் மீது.
- 5) குறைந்த விலைசார் கேள்வி நெகிழ்ச்சியுடைய பண்டங்கள் மீது.

86. பண்டத்திற்கு பண்டம் கேள்வி நெகிழ்ச்சி வேறுபடக் காரணம் அல்லாதது.

தேர்ச்சி - 02 - M.C.Q

- 1) பொருட்களின் தன்மை
- 2) நுகர்வினைப் பிற்போடக்கூடி தன்மை
- 3) பண்டத் தொகுதி வரையறுக்கப்படும் விதம்
- 4) சனத்தொகை அளவு
- 5) வருமானத்தில் செலவிடும் வீதம்

87. வரைபடமானது பொருளொன்றின் கேள்வி நிரம்பல் வளையிகளைக் காட்டுகிறது.



சமநிலைமட்ட வெளியீட்டிற்காக நுகர்வோர் செலுத்தத் தயாராகவுள்ள மொத்த பண அளவினைக் காட்டும் பகுதி எது?

- 1) OQEP 3) PEK 5) OKEQ
- 2) OTEQ 4) OKM

88. அட்டவணையானது ஐந்து கம்பனிகளின் உற்பத்திப் பொருள் தொடர்பில் அவற்றின் நெருங்கிய பதிலீடுகளின் விலைகள் குறித்த குறுக்குக் கேள்வி நெகிழ்ச்சி அளவுகளைக் காட்டுகிறது.

கம்பனி	குறுக்குக் கேள்வி நெகிழ்ச்சி குணகம்
கம்பனி A	+ 3.0
கம்பனி B	+ 2.5
கம்பனி C	+ 1.0
கம்பனி D	+ 0.8
கம்பனி E	+ 0.2

இத்தரவுகளின் அடிப்படையில் மிக உயர்வான சந்தைச் சக்தியைக் கொண்டுள்ள கம்பனி எது?

- 1) கம்பனி A 3) கம்பனி C 5) கம்பனி E
- 2) கம்பனி B 4) கம்பனி D

89. நிறுவனத்தின் மொத்த வருவாய் குறைவடைவது,

- 1) நிரம்பல் நெகிழ்வுள்ள நிலையில் விலை அதிகரிக்கும் போதாகும்.
- 2) கேள்வி நெகிழ்வுள்ள நிலையில் விலை வீழ்ச்சியடையும் போதாகும்.
- 3) கேள்வி நெகிழ்வற்ற நிலையில் விலை அதிகரிக்கும் போதாகும்.
- 4) கேள்வி நெகிழ்வுள்ள நிலையில் விலை அதிகரிக்கும் போதாகும்.

- 5) கேள்வி அலகு நெகிழ்ச்சியுள்ள நிலையில் விலை வீழ்ச்சியடையும் போதாகும்.
90. தோடம்பழங்களுக்கான சந்தை சமநிலையில் உள்ளதாக கருதுக. தோடம்பழங்களின் நிரம்பல் வீழ்ச்சியடையும் அதேவேளை அவற்றுக்கான கேள்வி அதிகரிக்குமாயின், சந்தையில் தோடம்பழங்களின் விலை மற்றும் தொகை பற்றி நீர் என்ன கூறமுடியும்?
- 1) விலை, தொகை ஆகிய இரண்டுமே அதிகரிக்கும்.
 - 2) விலை அதிகரிக்கும் ஆனால் தொகையில் ஏற்படும் மாற்றம் நிச்சமற்றதாகும்.
 - 3) விலை, தொகை ஆகிய இரண்டுமே வீழ்ச்சியடையும்.
 - 4) தொகை அதிகரிக்கும் ஆனால் விலையில் ஏற்படும் மாற்றம் நிச்சயமற்றதாகும்.
 - 5) கேள்வி, நிரம்பல் வளையிகளில் ஏற்படும் மாற்றங்கள் ஒன்றையொன்று ஈடுசெய்து விடுவதால் விலையும் தொகையும் மாறாதிருக்கும்.
91. சிகரட்டுக்களின் விலைக்கேள்வி நெகிழ்ச்சி ஒன்றுக்குக் குறைவானதாக உள்ளதெனக் கருதுக. சிகரட் உற்பத்தி மீது கலால்வரி விதிக்கப்படுமாயின் அது பின்வருவனவற்றில் எவ்விதத்தில் விலை, தொகை மற்றும் சிகரட் மீதான நுகர்வோன் செலவு என்பவற்றில் மாற்றத்தை ஏற்படுத்தும்.

	விலை	தொகை	நுகர்வோரின் செலவீடு
(1)	குறையும்	அதிகரிக்கும்	அதிகரிக்கும்
(2)	குறையும்	குறையும்	குறையும்
(3)	அதிகரிக்கும்	குறையும்	குறையும்
(4)	அதிகரிக்கும்	குறையும்	அதிகரிக்கும்
(5)	அதிகரிக்கும்	அதிகரிக்கும்	அதிகரிக்கும்

92. பிள்ளைகளை பகல் வேளைகளில் பராமரிக்கும் (daycare) நிலையங்களுக்கு அனுப்பும் செலவை ஈடுசெய்ய மானியமாகப் பயன்படுத்தக் கூடியவாறு ஒவ்வொரு பெற்றோருக்கும் அரசாங்கம் கூப்பன்களை வழங்குமாயின் பகல் வேளைகளில் பராமரிப்புச் சேவையினை வழங்கும் நிறுவனங்களின் சந்தையில் யாது நிகழுமென நீர் எதிர்ப்பார்க்பீர்?
- 1) பகல் வேளை பராமரிப்புச் சேவைக்கான கேள்வி குறைவதோடு விலையும் வீழ்ச்சியடையும்.
 - 2) பகல் வேளை பராமரிப்புச் சேவைக்கான கேள்வி அதிகரிப்பதோடு விலையும் அதிகரிக்கும்.
 - 3) பகல் வேளைப் பராமரிப்புச் சேவை நிரம்பல் அதிகரிப்பதோடு அதன் விலை வீழ்ச்சியடையும்.
 - 4) பகல் வேளை பராமரிப்புச் சேவை நிரம்பல் வீழ்ச்சியடையும் அதேவேளை விலை அதிகரிக்கும்.
 - 5) பகல் வேளைப் பராமரிப்புச் சேவைக்கு நிரந்தரமாக ஒரு பற்றாக்குறை நிலவும்.

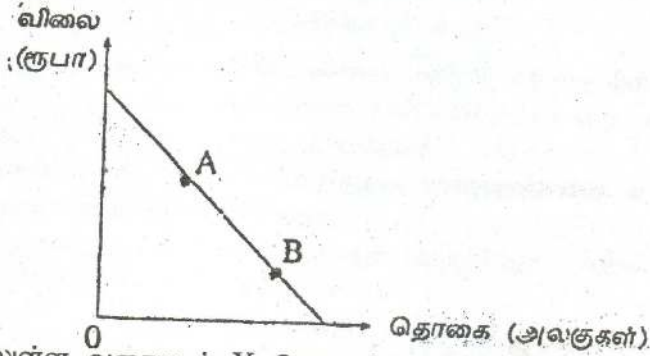
தேர்ச்சி - 02 - M.C.Q

93. நுகர்வோன் மிகை பூச்சியமாக மாறத் தேவையான நிபந்தனை எது?
- 1) கேள்வி பூரண விலை நெகிழ்வுள்ளது.
 - 2) கேள்வி பூரண விலை நெகிழ்வற்றது.
 - 3) நிரம்பல் பூரண நெகிழ்வுள்ளது.
 - 4) நிரம்பல் பூரண நெகிழ்வற்றது.
 - 5) கேள்வியின் விலை நெகிழ்ச்சியானது சார்பளவில் நிரம்பலின் விலை நெகிழ்ச்சியைவிட உயர்வானது.

94. "சாதாரண பொருளொன்றின்" விலை மற்றும் சந்தையில் அதன் விற்பனைத் தொகை இரண்டிலுமே ஏக காலத்தில் ஒரு அதிகரிப்பினை ஏற்படுத்தக் கூடிய நிகழ்வாக அமைவது.

- 1) பொருளின் மீது விதிக்கப்பட்டிருந்த பயனுறுதிமிக்க உயர்ந்தபட்ச விலையானது நீக்கப்பட்டமை.
- 2) பொருளின் உற்பத்தியில் ஏற்படும் தொழில்நுட்ப முன்னேற்றம்.
- 3) பொருளின் மீது வரிவிதிக்கப்படல்.
- 4) பொருள் உற்பத்தியாளர்களுக்கு மானியமொன்று வழங்கப்படல்.
- 5) குறித்த பொருளின் பதிலீடொன்றின் விலையில் ஏற்படும் வீழ்ச்சி

95.



மேலுள்ள வரைபடம் X பொருளின் சந்தைக் கேள்வியை காட்டுகிறது.

A புள்ளியிலிருந்து B புள்ளியை நோக்கிய ஓர் அசைவு ஏற்பட சாத்தியமான காரணியாக அமைவது

- 1) Y எனும் பதிலீட்டுப் பொருளின் விலையில் ஏற்பட்ட ஓர் அதிகரிப்பாகும்.
- 2) நுகர்வோனின் வருமானத்தில் ஏற்பட்ட ஓர் அதிகரிப்பாகும்.
- 3) நுகர்வோனின் வருமானத்தில் ஏற்பட்ட ஓர் வீழ்ச்சியாகும்.
- 4) X பொருளின் உற்பத்திச் செலவில் ஏற்பட்ட ஓர் வீழ்ச்சியாகும்.
- 5) X பொருளின் நிரம்பலில் ஏற்பட்ட ஒரு வீழ்ச்சியாகும்.

96. பின்வருவனவற்றில் பொருளொன்றின் நிரம்பல் வளையியை இடப்புறமாக நகர்த்துவது எது?

- 1) உற்பத்திச் செலவில் ஏற்படும் ஓர் அதிகரிப்பு.
- 2) உற்பத்திச் செலவில் ஏற்படும் ஒரு வீழ்ச்சி.

- 3) விலையில் ஏற்படும் ஓர் அதிகரிப்பு.
- 4) விலையில் ஏற்படும் ஒரு வீழ்ச்சி.
- 5) கேள்வியில் ஏற்படும் ஒரு வீழ்ச்சி.

97. ஏனைய மாறாநிலையில் நுகர்வோனொருவன் அரிசியின் விலை வீழ்ச்சியடைந்த பின்னரும் அரிசியின் மீதான தனது மொத்தச் செலவு மாறாதுள்ளதை காண்கின்றான். இவ்விலை மாற்றம் தொடர்பில் பின்வருவனவற்றில் உண்மையான கூற்று எது?

- 1) அரிசியானது இந்நுகர்வோனுக்கு ஓர் இழிவுப்பண்டம் ஆகும்.
- 2) விலை மாற்றத்தின் காரணமாக அரிசியின் மீதான இந்நுகர்வோனின் கேள்வி அதிகரித்துள்ளது.
- 3) அரிசிக்கான இந்நுகர்வோனின் கேள்வி பூரண விலை நெகிழ்வுள்ளது.
- 4) அரிசிக்கான இந்நுகர்வோனின் கேள்வி பூரண விலை நெகிழ்வற்றது.
- 5) அரிசிக்கான இந்நுகர்வோனின் கேள்வி அலகு விலை நெகிழ்ச்சி கொண்டது.

98. செயற்திறன் வாய்ந்த தளவிலையொன்றை உருவாக்கும்போது

- 1) நுகர்வோன் மிகையும் உற்பத்தியாளன் மிகையும் அதிகரிக்கும்.
- 2) நுகர்வோன் மிகை அதிகரிக்கும், உற்பத்தியாளன் மிகை குறையும்.
- 3) நுகர்வோன் மிகையும் உற்பத்தியாளன் மிகையும் குறையும்.
- 4) நுகர்வோன் மிகை குறையும் உற்பத்தியாளன் மிகை அதிகரிக்கும்.
- 5) நுகர்வோன் மிகை உற்பத்தியாளன் மிகை என்பன பாதிக்கப்படாது.

99. X பொருளின் வருமானக் கேள்வி நெகிழ்ச்சி எதிர்க்கணியமாகவும் X மற்றும் Y பொருள்களுக்கிடையிலான குறுக்குக் கேள்வி நெகிழ்ச்சி எதிர்க்கணியமாகவும் இருப்பின் X பொருள் தொடர்பில் பின்வரும் கூற்றுக்களில் சரியானது எது?

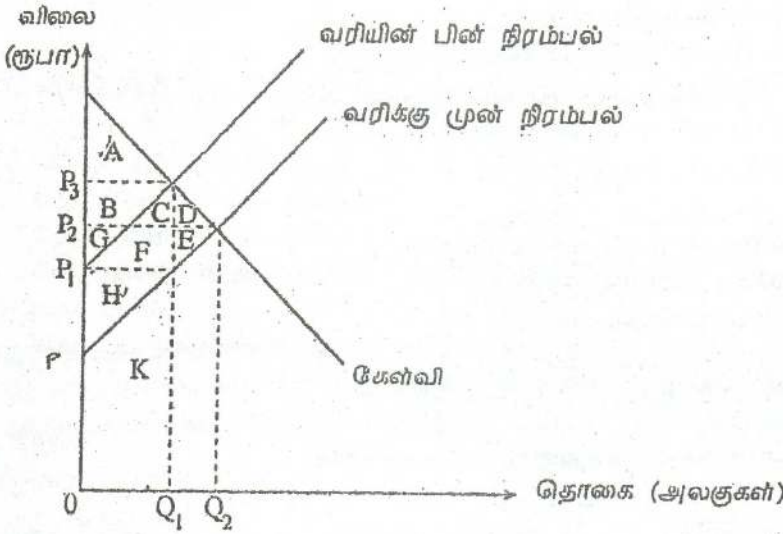
- 1) X பொருள் ஒரு சாதாரண பொருளாகும். அத்துடன் அது Y பொருளின் ஒரு பதிலீடாகும்.
- 2) X பொருள் ஒரு சாதாரண பொருளாகும். அத்துடன் அது Y பொருளின் நிரப்பீடாகும்.
- 3) X பொருள் ஒரு இழிவுப் பொருளாகும். அத்துடன் அது Y பொருளின் ஒரு பதிலீடாகும்.
- 4) X பொருள் ஓர் இழிவுப் பொருளாகும். அத்துடன் அது Y பொருளின் ஒரு நிரப்பீடாகும்.
- 5) X பொருள் ஒரு சாதாரண பொருளாகும். அத்துடன் Y பொருள் ஓர் இழிவுப் பொருளாகும்.

100. போத்தலில் அடைக்கப்பட்ட நீருக்கான கேள்வி சார்பளவில் விலை நெகிழ்வுள்ளதுகக் கருதுக. போத்தலில் அடைக்கப்பட்ட நீருக்கான நிரம்பலில் ஏற்படும் ஓர் அதிகரிப்பு பின்வருவனவற்றில் எதனை ஏற்படுத்தும்?

தேர்ச்சி - 02 - M.C.Q

- 1) விலையில் ஒரு வீழ்ச்சி, மற்றும் மொத்த வருவாயில் ஓர் அதிகரிப்புக்கு இட்டுச் செல்லும்.
- 2) விலையில் ஏற்படும் ஒரு வீழ்ச்சி, மற்றும் மொத்த வருவாயில் ஒரு வீழ்ச்சிக்கு இட்டுச் செல்லும்.
- 3) போத்தலில் அடைக்கப்பட்ட நீருக்கு மிகை நிரம்பல் ஏற்படும்.
- 4) போத்தலில் அடைக்கப்பட்ட நீருக்கு மிகை கேள்வி ஏற்படும்.
- 5) விலையில் சார்பளவில் சிறிய ஒரு வீழ்ச்சி ஏற்படுவதுடன் சமநிலைத் தொகை மாறாதிருக்கும்.

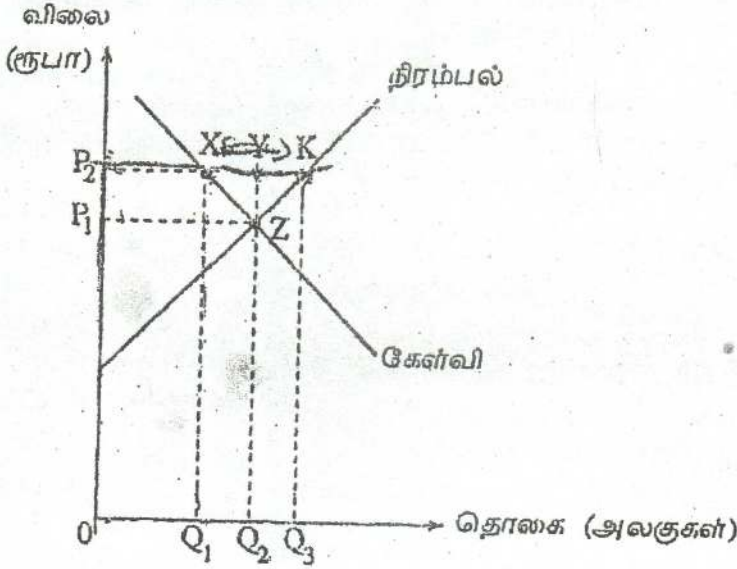
101.



மேலுள்ள வரைபடம் X பொருளின் சந்தையினைக் காட்கிறது. அரசாங்கமானது X பொருளின் ஒவ்வொரு அலகின் மீதும் தொகை வரியொன்றை விதிக்குமாயின் பின்வருவனவற்றில் எது வரியின்பின் நுகர்வோன் மிகை, உற்பத்தியாளன் மிகை மற்றும் மீளமுடியா இழப்பு என்பவற்றைப் பிரிதிநிதித்துவப்படுத்தும் விடையாக அமையும்?

நுகர்வோன் மிகை	உற்பத்தியாளன் மிகை	மீளமுடியா இழப்பு
1) A	G + F + E + H	D + E
2) A	H	D + E
3) A + B	G + F + E	C + D
4) A + B + C + D	G + F + E + H	D + E
5) A + B + C + D	H + F + C	E

102. பின்வரும் வரைபடம் விவசாய உற்பத்தியொன்றின் சந்தையைப் பிரதிநிதித்துவப்படுத்துகிறது.



அரசாங்கம் OP_2 வினை குறைந்தபட்ச விலையாக நிர்ணயிக்கிறது. அக்குறைந்த மட்ட விலையில் நிலவும் மிகைக் கையிருப்பினை அரசாங்கம் முழுமையாகக் கொள்வனவு செய்வதாகக் கருதுக. இந்நிலையில் விவசாயிகளின் மொத்த வருவாயாக அமையும் பகுதி எது?

- 1) OP_2KQ_3 ஆகும். 3) OP_2XQ_1 ஆகும். 5) P_1P_2ZY ஆகும்.
 2) OP_1ZQ_2 ஆகும். 4) Q_1XYQ_2 ஆகும்.

103. உற்பத்திப் பொருளொன்றின் கேள்வி விலையில் ஒரு வலப்புற நகர்வுக்கு ஏதுவாக அமையக்கூடியது

- 1) கிட்டிய பதிலீடொன்றின் விலைவீழ்ச்சியாகும்.
- 2) கருதப்படும் பொருளின் விலையில் ஏற்படும் வீழ்ச்சியாகும்.
- 3) வருமான அதிகரிப்பாகும்.
- 4) நிரப்புப் பொருளொன்றின் விலை அதிகரிப்பாகும்.
- 5) உற்பத்தி செலவு அதிகரிப்பாகும்.

104. குறிப்பிட்டதொரு சாதாரண பொருளின் கேள்வியானது விலையுடன் எதிர்கணி ரீதியில் தொடர்புபட்டுள்ள அதேவேளை நிரம்பலானது விலையுடன் நேர்கணி ரீதியில் தொடர்புபட்டுள்ளது. தரப்பட்ட காலப்பகுதியொன்றில் 5000 அலகுகள் அலகொன்றிற்கு ரூ.50 வீதம் விற்கப்பட்டன. பின்னர் வந்த ஒரு காலப்பகுதியில் 8000 அலகுகள் அலகொன்றிற்கு ரூ.60 வீதம் விற்கப்பட்டன. பின்வருவனவற்றில் இம்மாற்றத்திற்குக் காரணமாக அமையத்தக்கது எது?

- 1) நிரப்புப் பொருளொன்றின் விலையில் ஏற்படும் ஓர் அதிகரிப்பு.

தேர்ச்சி - 02 - M.C.Q

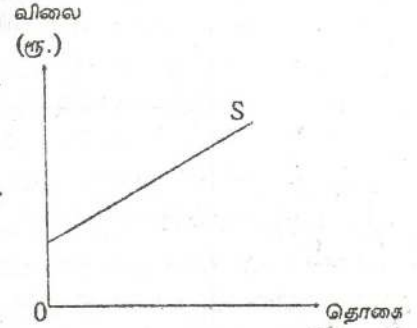
- 2) பதிலீடொன்றின் விலையில் ஏற்படும் ஓர் அதிகரிப்பு.
- 3) பொருளின் மீது விற்பனை வரியொன்று விதிக்கப்படல்.
- 4) உள்ளீடுகளின் உற்பத்தித் திறனில் ஏற்படும் ஓர் அதிகரிப்பு.
- 5) மூலப் பொருள் விலையில் ஏற்படும் ஓர் அதிகரிப்பு.

105. நிறுவனமொன்று உற்பத்தி செய்த பொருளொன்றின் விலைக் கேள்வி நெகிழ்ச்சி -0.8 ஆகும். இந்நிறுவனம் உற்பத்திப் பொருளின் விலையை உயர்த்துமாயின் அதன் வருவாய்

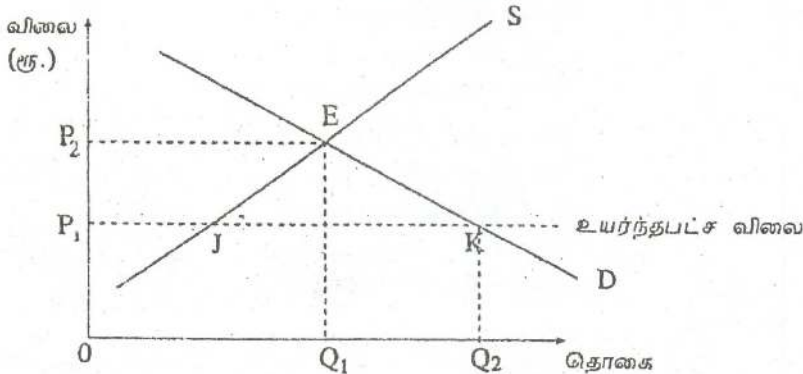
- 1) அதிகரிக்கும்
- 2) வீழ்ச்சியடையும்
- 3) மாறாதிருக்கும்
- 4) 8%இனை விடக் கூடுதலாக வீழ்ச்சியடையும்.
- 5) 8% இனை விடக் குறைவாக வீழ்ச்சியடையும்.

106. இங்கு காட்டப்பட்டுள்ள வரைபடத்தில் நிரம்பல் வளையியின் வழியே நிலவும் விலை நெகிழ்ச்சியைச் சரியாக விவரிக்கும் கூற்று எது?

- 1) எல்லா நிரம்பல் தொகையின் போதும் நெகிழ்ச்சி ஒன்றை விடக் கூடுதலாகவும் மாறாததாகவும் இருக்கும்.
- 2) எல்லா நிரம்பல் தொகைகளின் போதும் நெகிழ்ச்சி ஒன்றைவிட குறைவாகவும் மாறாததாகவும் இருக்கும்.
- 3) எல்லா நிரம்பல் தொகைகளின் போதும் நெகிழ்ச்சி ஒன்றுக்குச் சமனாகக் காணப்படும்.
- 4) நிரம்பல் தொகை அதிகரிக்கும் போது நெகிழ்ச்சி வீழ்ச்சியடையும்.
- 5) நிரம்பல் தொகை அதிகரிக்கும்போது நெகிழ்ச்சி அதிகரிக்கும்.



107. பின்வரும் வரைபடம் அரிசிக்கான கேள்வி நிரம்பல் வளையிகளையும் E புள்ளியில் சந்தைச் சமநிலையையும் காட்டுகிறது. ஓரலகு அரிசிக்கு P_1 உயர்ந்தபட்ச விலையை விதிக்க அரசாங்கம் தீர்மானிப்பதாக கொள்க.



தேர்ச்சி - 02 - M.C.Q

குறைந்தபட்ச விலைக் கொள்கையினால் ஏற்படக்கூடிய மிகச் சாத்தியமான விளைவு எது?

- 1) JK அளவினால் அரிசிக்கு மிகை நிரம்பல் காணப்படும்.
- 2) OQ_2 அளவினால் அரிசிக்கு பற்றாக்குறை நிலவும்.
- 3) அரிசிக்கான சமநிலை விலை OP_2 வுக்குக் கூடுதலாக அதிகரிக்கும்.
- 4) அரிசியின் விலை OP_1 இனை விடக் குறைவடையும்.
- 5) JK அளவினால் அரிசிக்கு மிகைக் கேள்வி நிலவும்.

108. பின்வருவனவற்றுள் எந்தநிலைமை போட்டிச் சந்தையொன்றின் சமநிலை விலையில் ஓர் அதிகரிப்பிற்கு இட்டுச் செல்லும்?

- 1) கேள்வி பூரண நெகிழ்வுள்ள நிலையில் நிறுவனங்களின் ஊழியச் செலவுகள் அதிகரித்தல்.
- 2) கேள்வி பூரண நெகிழ்வற்ற நிலையில் நிறுவனங்களின் ஊழியச் செலவுகள் வீழ்ச்சியடைதல்.
- 3) கேள்வி பூரண நெகிழ்வற்ற நிலையில் நிறுவனங்களின் ஊழியச் செலவுகள் அதிகரித்தல்.
- 4) நிரம்பல் பூரண நெகிழ்வுள்ள நிலையில் பதிலீட்டுப் பொருளொன்றின் விலை வீழ்ச்சியடைதல்.
- 5) கேள்வி குறைவடைய நிரம்பல் அதிகரித்தல்.

109. செல்லிடத் தொலைபேசி கம்பனியொன்று 'அபிமானம்'

என்றழைக்கப்படும் சிறப்புச் சேவைப் பொதியினை நடாத்துகிறது. ஒரு மில்லியன் வாடிக்கையாளரைக் கொண்டுள்ளது. இச்சேவையின் பொருட்டு ஒவ்வொரு வாடிக்கையாளரும் ரூ. 100 மாதாந்தக் கட்டணத்தை செலுத்துகிறார். அபிமானம் சேவைப் பொதிக்கான விலைசார் கேள்வி நெகிழ்ச்சியானது -4.0 ஆகுமென கம்பனி மதிப்பீடு செய்கிறது. கம்பனி மாதாந்தக் கட்டணத்தை ரூபா. 25க்கு குறைக்குமாயின், மொத்த வருவாயானது.

- 1) ரூபா. 100 மில்லியனால் அதிகரிக்கும்.
- 2) ரூபா. 50 மில்லியனால் அதிகரிக்கும்.
- 3) ரூபா. 75 மில்லியனால் அதிகரிக்கும்.
- 4) ரூபா. 50 மில்லியனால் வீழ்ச்சியடையும்.
- 5) ரூபா. 100 மில்லியனால் வீழ்ச்சியடையும்.

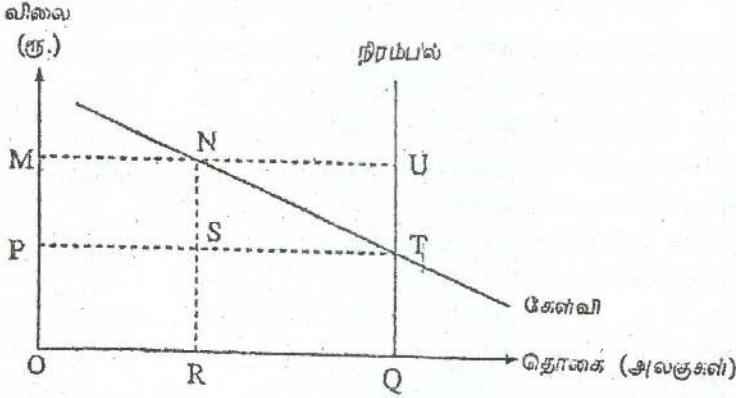
110. விலை மாற்றமொன்றின் பதிலீட்டு விளைவென்பது

- 1) மெய்வருமானம் மாறா நிலையில், விலையில் ஏற்படும் ஒரு மாற்றத்தின் காரணமாக கேள்வித் தொகையில் ஏற்படும் மாற்றமாகும்.
- 2) ஏனையவை மாறாநிலையில், சார்பு விலையில் ஏற்படும் ஒரு மாற்றத்தின் காரணமாக கேள்வி தொகையில் ஏற்படும் ஒரு மாற்றமாகும்.
- 3) பயன்பாடு மாறாநிலையில், சார்பு விலையில் ஏற்படும் ஒரு மாற்றத்தின் விளைவாகக் கேள்வி குறித்த பண்ட கேள்வியில் ஏற்படும் மாற்றமாகும்.

தேர்ச்சி - 02 - M.C.Q

- 4) சார்பு விலைகள் மாறா நிலையில் மெய்வருமானத்தில் ஏற்படும் ஒரு மாற்றத்தின் விளைவாக கேள்வித் தொகையில் ஏற்படும் மாற்றமாகும்.
- 5) இரண்டு அல்லது அதற்கு மேற்பட்ட பொருள்களின் சார்பு விலைகளில் ஏற்படும் ஒரு மாற்றத்தின் விளைவாகக் கேள்வித் தொகையில் ஏற்படும் ஒரு மாற்றமாகும்.

111.



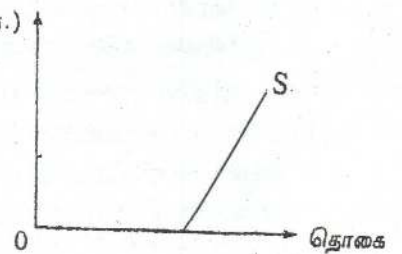
மேலுள்ள வரைபடம் விவசாயப் பொருளொன்றுக்கான சந்தைக் கேள்வி நிரம்பல் வளையிகளைக் காட்டுகிறது. அரசாங்கம் மிகை நிரம்பலைக் கொள்வனவு செய்வதன் மூலம் விலையினை OM மட்டத்தில் ஆதரவளிக்கிறது. அரசாங்கமானது தற்போது இவ்விலை ஆதரவினை நீக்கிக் கொள்ளுமாயின் அந்நடவடிக்கை அரசாங்கத்தின் செலவீட்டினை

- 1) NUT அளவினால் வீழ்ச்சியுறச் செய்யும்.
- 2) NUTS அளவினால் வீழ்ச்சியுறச் செய்யும்.
- 3) STQR அளவினால் வீழ்ச்சியுறச் செய்யும்.
- 4) NUQR அளவினால் வீழ்ச்சியுறச் செய்யும்.
- 5) PMUT அளவினால் வீழ்ச்சியுறச் செய்யும்.

112. இங்குள்ள வரைபடம் பண்டமொன்றின் சந்தை நிரம்பல் வளையியைக் காட்டுகின்றது.

இவ்வளையியின் வழியே நிரம்பல் விலை (ரூ.) நெகிழ்ச்சியை விபரிக்க பொருத்தமான கூற்று எது?

- 1) சகல தொகைகளிலும் நிரம்பல் நெகிழ்ச்சி மாறாததாயும் ஒன்றைவிடக் கூடியதாயும் இருக்கும்.
- 2) சகல தொகைகளிலும் நிரம்பல் நெகிழ்ச்சி மாறாததாயும் ஒன்றைவிட குறைந்ததாகவும் இருக்கும்.



தேர்ச்சி - 02 - M.C.Q

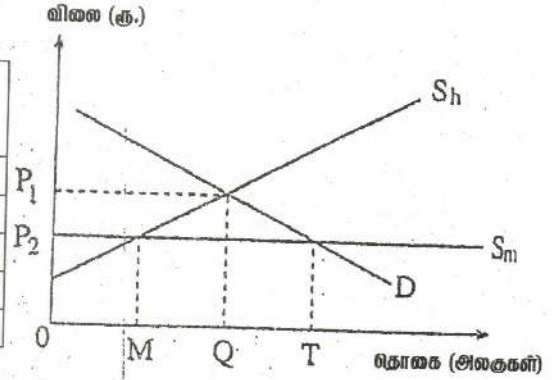
- 3) தொகை அதிகரிக்கும் போது நிரம்பல் நெகிழ்ச்சி குறைந்து செல்லும் அதேவேளை ஒன்றைவிட கூடுதலாக இருக்கும்.
- 4) தொகை அதிகரிக்கும் போது நிரம்பல் நெகிழ்ச்சி அதிகரித்துச் செல்லும் அதேவேளை ஒன்றைவிட குறைவாக இருக்கும்.
- 5) தொகை அதிகரிக்கும் போது நிரம்பல் நெகிழ்ச்சி குறைந்து செல்லும் அதேவேளை எதிர்க்கணிமமானதாக இருக்கும்.

113. இங்கு தரப்பட்டுள்ள வரைபடமானது உள்நாட்டு உற்பத்தியினால் பகுதியளவிலும் இறக்குமதிகளால் பகுதியளவில் நிரம்பல் செய்யப்படும் ஒரு சந்தையினைக் காட்டுகின்றது.

S_h உள்நாட்டு நிரம்பலையும் பிற S_m இறக்குமதிகளையும் பிரதிநிதித்துவப்படுத்துகின்றன. D சந்தைக் கேள்வியைப் பிரதிநிதித்துவப்படுத்துகின்றது.

சந்தை சமநிலையில் உள்ளபோது மொத்தக் கேள்வித் தொகை யாது? இறக்குமதித் தொகை யாது?

மொத்தக் கேள்வித் தொகை	இறக்குமதியின் அளவு
1) OQ	MQ
2) OQ	OT
3) QT	MQ
4) OT	MT
5) OQ	MT



114. பொருளொன்றின் நுகர்வைக் குறைக்க அரசாங்கம் விற்பனை வரியொன்றை விதிக்கின்றது. நுகர்வைக் குறைவடையச் செய்வதில் விலைக் கேள்வி நெகிழ்ச்சி மற்றும் விலை நிரம்பல் நெகிழ்ச்சி என்பவற்றின் எந்த இணைப்பு உயர்ந்தளவான தாக்கத்தைக் கொண்டிருக்கும்?

- 1) நெகிழ்வுள்ள கேள்வியும் நெகிழ்வுள்ள நிரம்பலும்.
- 2) நெகிழ்வுள்ள கேள்வியும் நெகிழ்வற்ற நிரம்பலும்.
- 3) நெகிழ்வற்ற கேள்வியும் நெகிழ்வுள்ள கேள்வியும்.
- 4) நெகிழ்வற்ற கேள்வியும் நெகிழ்வற்ற நிரம்பலும்.
- 5) அலகு நெகிழ்வுள்ள கேள்வியும் அலகு நெகிழ்வுள்ள நிரம்பலும்.

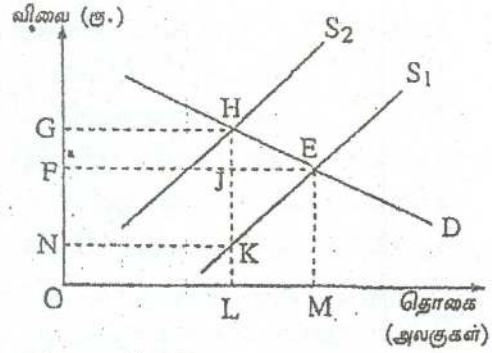
115. இங்கு தரப்பட்டுள்ள வரைபடத்தில் அரசாங்கம் பொருளொன்றின் மீது நேரில் வரியொன்றை விதிப்பதனால் நிரம்பல் வளையி S_1 இலிருந்து S_2 ஆக இடம்பெயர்ந்துள்ளது.

அரசாங்கத்தின் வரிவருமானமானது காட்டப்பட்டுள்ள பிரதேசம்.

- 1) NFJK ஆகும்.

தேர்ச்சி - 02 - M.C.Q

- 2) OGHL ஆகும்.
- 3) FGHJ ஆகும்.
- 4) NGHK ஆகும்.
- 5) FEHG ஆகும்.



116. இழிவுப் பண்டமொன்றைப் பொறுத்த மட்டில்
- 1) விலைக்கேள்வி நெகிழ்ச்சி எதிர்க்கணியம், வருமானக் கேள்வி நெகிழ்ச்சி எதிர்க்கணியம்.
 - 2) விலைக்கேள்வி நெகிழ்ச்சி நேர்க்கணியம், வருமானக் கேள்வி நெகிழ்ச்சி எதிர்க்கணியம்.
 - 3) விலைக்கேள்வி நெகிழ்ச்சி எதிர்க்கணியம், வருமானக் கேள்வி நெகிழ்ச்சி நேர்க்கணியம்.
 - 4) விலைக்கேள்வி நெகிழ்ச்சி நேர்க்கணியம், வருமானக் கேள்வி நெகிழ்ச்சி நேர்க்கணியம்.
 - 5) விலைக்கேள்வி நெகிழ்ச்சி ஒன்றை விடக்குறைவு, வருமானக் கேள்வி நெகிழ்ச்சி ஒன்றைவிட அதிகரிப்பு.

117. கேள்வி வளையி $Q_d = 120 - 8P$ மற்றும் சந்தை விலை 10/-இல் நுகர்வோன் மிகையானது.

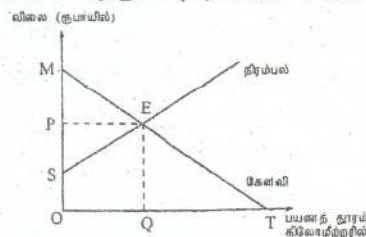
- 1) 15 ஆகும்.
- 2) 120 ஆகும்.
- 3) 100 ஆகும்.
- 4) 400 ஆகும்.
- 5) 112 ஆகும்.

118. சிகரெட்டுக்கான விலைக்கேள்வி நெகிழ்ச்சி -0.5 ஆயின் விலையில் ஏற்படும் 20% அதிகரிப்பான

- 1) கேள்வித் தொகையில் 10% வீழ்ச்சியை ஏற்படுத்தும்.
- 2) கேள்வித் தொகையில் 20% வீழ்ச்சியை ஏற்படுத்தும்.
- 3) கேள்வித் தொகையில் 50% வீழ்ச்சியை ஏற்படுத்தும்.
- 4) கேள்வித் தொகையில் 100% வீழ்ச்சியை ஏற்படுத்தும்.
- 5) கேள்வித் தொகையில் மாற்றமில்லை.

119. இங்குள்ள வரைபடமானது நகரசபை பிரதேசமொன்றில் பொதுப்போக்குவரத்துக்கான கேள்வி மற்றும் நிரம்பல் வளையிகளைக் காட்டுகிறது. இங்கு OP

என்பது மாறா விலையாகும் (flat rate). இச்சேவையைப் பெற விரும்பும் சகலருக்கும் இந்நகர சபையானது அதனை இலவசமாக வழங்க முடிவு

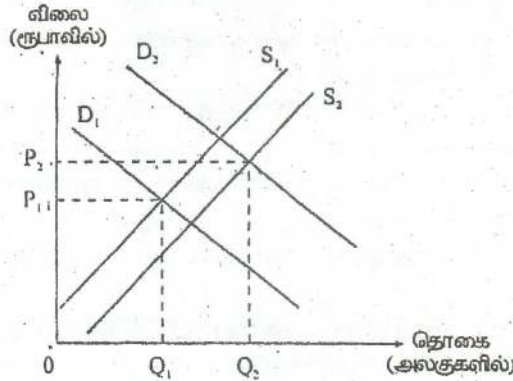


தேர்ச்சி - 02 - M.C.Q

செய்யுமாயின் நுகர்வோர் மிகையானது

- 1) MEP அளவினால் வீழ்ச்சியடையும்.
- 2) SPE அளவினால் அதிகரிக்கும்.
- 3) OPEQ அளவினால் அதிகரிக்கும்.
- 4) OPET அளவினால் அதிகரிக்கும்.
- 5) OSEQ அளவினால் அதிகரிக்கும்.

120. பின்வரும் வரைபடம் நுகர்வுப் பொருளொன்றின் கேள்வி மற்றும் நிரம்பல் வளையிகளைக் காட்டுகிறது. P_1 ஆரம்பச் சமநிலை விலையாகும்.



விலையில் P_1 இலிருந்து P_2 வரையிலான அதிகரிப்பு ஏற்பட மிகவும் பொருத்தமான காரணமாக அமையக்கூடிய

- 1) பதிலீடுகளின் விலையில் ஏற்படும் ஓர் அதிகரிப்பும் மூலப்பொருட்களின் விலைகளில் ஏற்படும் வீழ்ச்சியுமாகும்.
- 2) வருமானத்தில் ஏற்படும் ஓர் வீழ்ச்சியும் வட்டி வீதங்களில் ஏற்படும் ஓர் அதிகரிப்பும் ஆகும்.
- 3) சகல ஊழியர்களுக்கும் வழங்கப்பட்ட கூலிகளில் ஏற்படும் ஓர் அதிகரிப்பாகும்.
- 4) வருமான வரி, பெறுமதி சேர் வரி என்பவற்றில் ஏற்படும் ஓர் அதிகரிப்பாகும்.
- 5) சந்தையில் நிரம்பலாளர்களின் எண்ணிக்கையில் ஏற்படும் ஓர் அதிகரிப்பாகும்.

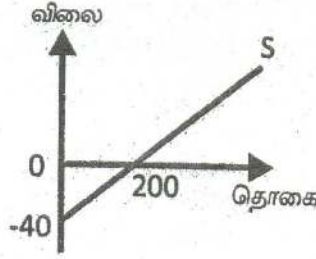
121. சந்தையில் பண்டமொன்றுக்கான கேள்வி மற்றும் நிரம்பல் சார்புகள் $Q_d = 100 - 5P$, $Q_s = -20 + 5P$ அரசாங்கம் ரூ. 10.00 உயர்ந்தபட்ச விலையாக அமுல்படுத்துமாயின், அப் பண்டத்துக்கு உருவாக்கக் கூடிய அதிகபட்ச கறுப்பு சந்தை விலை யாது?

- | | | |
|-----------|--------------|-----------|
| 1) ரூ. 12 | 3) ரூ. 11.50 | 5) ரூ. 16 |
| 2) ரூ. 14 | 4) ரூ. 13 | |

தேர்ச்சி - 02 - M.C.Q

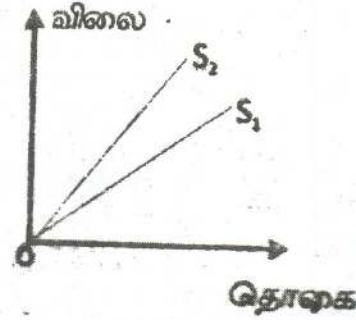
122. பண்டமொன்றின் நிரம்பல் கோடானது பின்வருமாறு காணப்படுகின்றது. தரப்பட்ட நிரம்பல் கோட்டின் சமன்பாடாக அமைவது.

- 1) $QS = -40 + 5P$
- 2) $QS = 40 + 5P$
- 3) $QS = 200 + 5P$
- 4) $QS = 200 + P/5$
- 5) $QS = 50 + 5P$



123. வரைபடத்தின்படி நிரம்பல் கோடானது S_1 இலிருந்து S_2 ஆக மாறுகின்றது எனில்

- 1) நிரம்பல் நெகிழ்ச்சியானது குறைவடையும்
- 2) நிரம்பல் நெகிழ்ச்சியானது அதிகரிக்கும்.
- 3) நிரம்பல் நெகிழ்ச்சியானது மாற்றமடையமாட்டாது.
- 4) அரசு அலகு வரிவிதிக்கின்றது.
- 5) அரசு பண்டத்துக்கு மானியம் வழங்குகின்ற பொழுது.

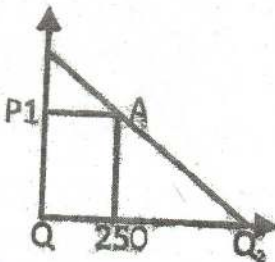


124. பொருள் ஒன்றின் கேள்விச் சமன்பாடு ஒரு சந்தர்ப்பத்தில்

$Qd=1500 - 50P$ ஆக இருந்து பிற்தொரு சந்தர்ப்பத்தில் $Qd=2250 - 75P$ ஆக மாற்றமடைந்தது. இம்மாற்றத்திற்கு ஏதுவாக இருக்கக் கூடியது என நீர் கருதும் நிலைமையினை பின்வரும் அட்டவணையிலிருந்து தெரிவு செய்க.

- | | |
|-------------------|---------------------|
| விலை | தொகை |
| 1) 25 அதிகரிப்பு | மாற்றமில்லை |
| 2) மாற்றமில்லை | 750 அலகு அதிகரிப்பு |
| 3) 50% அதிகரிப்பு | 50% வீழ்ச்சி |
| 4) 25% வீழ்ச்சி | 75% அதிகரிப்பு |
| 5) மாற்றமில்லை | 50% அதிகரிப்பு |

125.

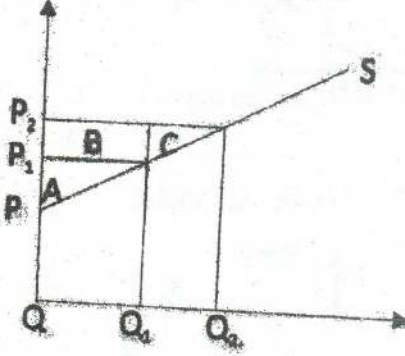


தரப்பட்ட வரைபடமானது போட்டிச் சந்தையொன்றில் விற்பனை செய்யப்படும் பண்டமொன்றின் கேள்விக் கோட்டைக் காட்டுகின்றது. புள்ளி A யில் விலைசார் கேள்வி நெகிழ்ச்சியின் பெறுமதி 1.4 ஆகும். Q2 இல் இருக்கக்கூடிய தொகையின் அளவு பின்வருவனவற்றுள் எது?

தேர்ச்சி - 02 - M.C.Q

- 1) 150 அலகு 3) 450 அலகு 5) அளவிட முடியாது.
2) 350 அலகு 4) 600 அலகு

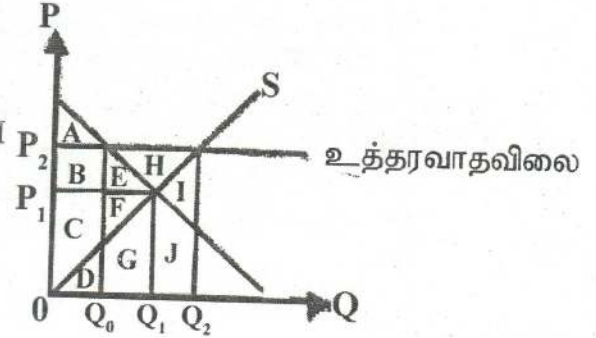
126. பின்வரும் வரைபடத்தில் விலையானது P_1 இலிருந்து P_2 ஆக அதிகரிக்கும் போது புதிய உற்பத்தியாளருக்கான உற்பத்தியாளர் மிகையினை இனங்காண்க.



- 1) A
2) A + B + C
3) B + C
4) B
5) C

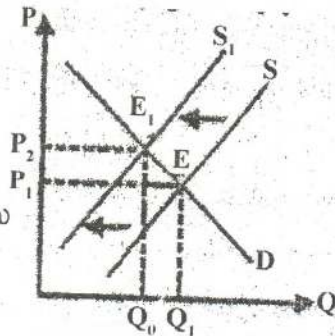
127. அரசு P_2 என்ற கட்டுப்பாட்டு விலை விதித்ததன் பின் காணப்படுகின்ற நிலை வரை படத்தில் காட்டப்படுகின்றது. இதன்படி உற்பத்தியாளர் மிகையாது?

- 1) $A + B + CD - (I + J + G + D)$
2) $A + B + C + E + F - (A + D)$
3) $B + C + D + E + F + G + H + I + J - (D + G + I + J)$
4) $B + C + D - (D + G + J + I)$
5) $C + F$



128. வரைபடத்தில் சந்தை சமநிலை E யிலிருந்து E_1 ஆக நகர்வடைகிறது. இதற்கான காரணமாகக் கருதக்கூடியது யாது?

- 1) சந்தையின் பண்டத்தின் விலை வீழ்ச்சியடைதல்.
2) சந்தைக் கேள்வியில் ஏற்பட்டுள்ள வீழ்ச்சி.
3) பதிலீட்டுப் பண்டத்தின் விலை வீழ்ச்சியடைதல்.
4) உற்பத்திக் காரணிகளுக்குரிய விலை உயர்வடைதல்.
5) மேற்கூறிய எவையும் அன்று.



129. எந்நிலைமைகளின் கீழ் பொருள் ஒன்றிற்குரிய ஆகக் குறைந்த நிரம்பல் விலை பச்சியமாக காணப்படும்.

- 1) விலைசார் கேள்வி நெகிழ்வற்றதாகவுள்ளபோது.
- 2) விலைசார் கேள்வி முடிவிலியாகவுள்ளபோது.
- 3) விலைசார் நிரம்பல் ஒருமை நெகிழ்வுடையதாகவுள்ளபோது.
- 4) விலைசார் நிரம்பல் நெகிழ்ச்சி வாய்ந்ததாகவுள்ளபோது.
- 5) விலைசார் நிரம்பல் நெகிழ்வற்றதாகவுள்ளபோது.

130. $Q_s = 250 - 3P$ உள்ளது. இங்கு மீனின் சந்தை விலை 40 ரூபா ஆக உள்ள நிலைமையில் சந்தையமான நடவடிக்கையாக அமைவது.

- 1) மிகை நிரம்பல் ஏற்பட்டு சந்தை விலை உயரும்.
- 2) மிகை நிரம்பல் ஏற்பட்டு சந்தை விலை குறையும்.
- 3) மிகைக் கேள்வி ஏற்பட்டு சந்தை விலை குறையும்.
- 4) மிகைக் கேள்வி ஏற்பட்டு சந்தை விலை உயரும்.
- 5) மிகைக் கேள்வியோ மிகை நிரம்பலோ ஏற்படாது.

131. சந்தை சமநிலையில் உள்ளபோது அலகுவரி விதிக்கப்படுகின்றது.

இதன்போது ஏற்படும் பொருளாதார விளைவு அல்லாதது,

- 1) நுகர்வோன் வரியை சுமக்க நேரிடும்.
- 2) சமூக நலன் அதிகரிக்கும்.
- 3) அரசிற்கு வரி வருமானம் கிடைக்கும்.
- 4) நுகர்வோன் மிகை குறைவடையும்.
- 5) உற்பத்தியாளர் மிகை குறைவடையும்.

132. நிரம்பல் விதிக்கான பிரதானமான காரணமாக அமைவது எது?

- 1) விலை அதிகரிக்கும் பொழுது பொருளை வழங்கும் உற்பத்தியாளர் ஆற்றல் அதிகரிக்கும்.
- 2) கூடிச் செல்லும் சந்தர்ப்பச் செலவாகும்.
- 3) உற்பத்தி அதிகரிக்கும் பொழுது உள்ளீட்டுச் செலவு அதிகரித்தல்.
- 4) விலை அதிகரிக்கும் போது உற்பத்தியாளருக்கு இலாபத்தின் அளவு தொடர்பான சைகை கிடைக்கின்றது.
- 5) குறைந்து செல்லும் எல்லை விதி தொழிற்படல்.

133. பின்வரும் தரவுகளை குறிப்பிட்டவொரு காலப்பகுதியில் X பண்டத்தின் சந்தைக் கேள்வி நிரம்பல் பட்டியலைக் காட்டுகின்றது.

P	Qd	Qs
50	250	450
40	300	400
30	350	350
20	400	300
10	450	250

தேர்ச்சி - 02 - M.C.Q

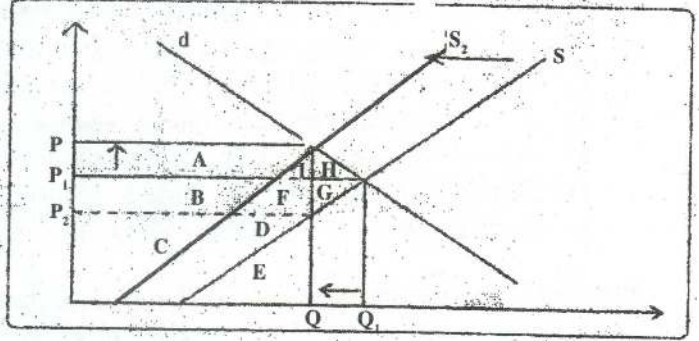
அரசாங்கம் இப்போது X பண்டத்தின் உரிமையாளருக்கு அலகொன்றுக்கு ரூ. 20 மானியத்தை அறிமுகம் செய்யுமாயின் புதிய சமநிலை விலை எதுவாக இருக்கும்?

- 1) ரூபா.30 2) ரூபா.20 3) ரூபா.25 4) ரூபா.15 5) ரூபா.10

134. போட்டிச் சந்தையொன்றில் உற்பத்திப் பொருள்மீது அரசு அலகு வரி விதிக்கும் நிலைமையை பின்வரும் வரைபடம் காட்டுகின்றது.

வரியின் பின்னரான வழங்குனர் மிகை

- 1) C + D
2) C + D + E
3) A + B + C
4) B + C + D + F + G
5) B + C + D + F



135. பிழையான கூற்றை மட்டும் தெரிவு செய்க.

- ஒரு சாதாரண பண்டம் நேர்க்கணிய வருமான நெகிழ்ச்சியைக் கொண்டிருக்கும்.
- ஆடம்பரப் பொருளொன்று ஒன்றுக்கும் கூடிய வருமான நெகிழ்ச்சியைக் கொண்டிருக்கும்.
- ஒரு கி;பன் பண்டத்தினது விலை வீழ்ச்சியாலேட்படும் வருமான விளைவு எதிர்கணியமாக இருக்கும்.
- ஒரு இழிவுப் பண்டத்தின் விலை வீழ்ச்சியாலேட்படும் வருமான விளைவு எதிர்கணியமாக இருக்கும்.
- ஒரு சாதாரண பண்டத்தின் விலை வீழ்ச்சியாலேட்படும் வருமான விளைவு நேர்கணியமாக இருக்கும்.

136. குறித்தவொரு நுகர்வோன் குறித்த பொருளின் விலை அலகொன்று ரூபா.10 ஆக உள்ளபோது ரூபா.800 செலவிடுகின்றான். பொருளின் அலகு விலை ரூபா.20 ஆயின் ரூபா.960ஐ செலவிடுகின்றான் எனின் விலைசார் கேள்வி நெகிழ்ச்சி யாது?

- 1) 2.5 2) -2.5 3) -0.4 4) 0.4 5) 1.6

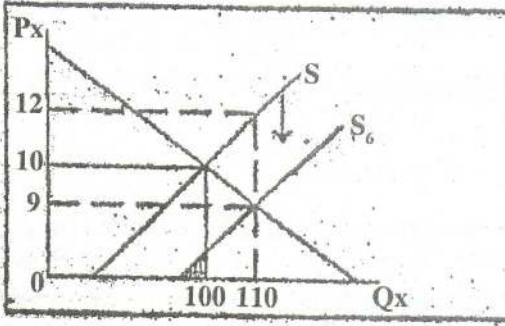
137. கேள்வி வளையியின் வலப்புற நகர்விற்கு காரணமாக அமைவது.

- அரசு நுகர்வின் மீது அறவீடு.
- பதிலீட்டு பண்ட விலை வீழ்ச்சி.
- உற்பத்தியாளருக்கு மானியம் வழங்கல்.
- விலை குறைப்பு என்ற ஊகம் அதிகரித்தல்.
- கொள்வளவாளனுக்கு மானியம் வழங்கல்.

138. கீழ்வருவனவற்றில் கூட்டு நிரம்பலுக்கான வெளிப்பாடாக தெரியக்கூடியது யாது?

- 1) இளநீரும், தேங்காயும்
- 2) கோழியும் முட்டையும்
- 3) மீனும், கருவாடும்
- 4) இறைச்சியும், பாலும்
- 5) இறைச்சியும், தோலும்

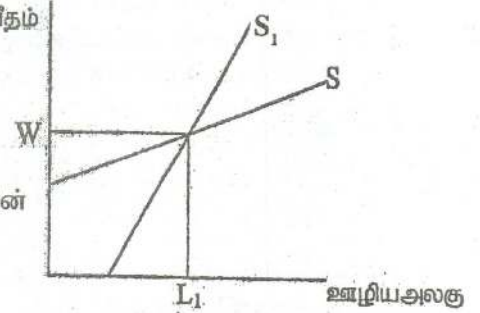
139. தரப்பட்டுள்ள வரைபடம் பண்டமொன்றின் உற்பத்தி மீது மானியம் வழங்கியதன் பின்னுள்ள சந்தை நிலமையைக் காட்டுகின்றது. இம்மானியம் வழங்கினால் நுகர்வோரது ஆரம்ப நுகர்வுக்கான மேலதிக நுகர்வோன் மிகை எவ்வளவு.



- 1) ரூ.100
- 2) ரூ.200
- 3) ரூ.15
- 4) ரூ.330
- 5) ரூ.250

140. குறித்த தொழிலொன்றின் ஊழியர் சந்தைத் தகவல்கள் வரைபடத்தில் காட்டப்பட்டுள்ளன. சந்தை நிரம்பல் வளையி S இலிருந்து S ஆக மாற்றமடையுமாயின் மாற்றல் வருவாய்கள் சிக்கன வாடகை என்பவற்றின் மீது ஏற்படுத்தும் தாக்கம் என்ன?

சம்பளவீதம்



மாற்றல் வருவாய்கள்	பொருளியல் வாடகை
1) அதிகரிக்கும்	அதிகரிக்கும்
2) மாறாது	குறையும்
3) அதிகரிக்கும்	குறையும்
4) குறையும்	அதிகரிக்கும்
5) குறையும்	மாறாது

141. பொருளொன்றின் விலை அதிகரிப்பு மொத்த வருமானத்தினைக் குறைக்குமாயின் அப்பொருளின் நெகிழ்ச்சி,

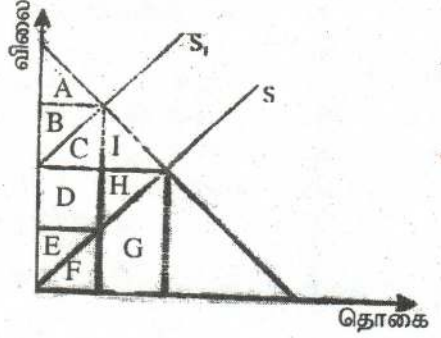
- 1) நெகிழ்ச்சியற்ற கேள்வி
- 2) நெகிழ்ச்சி வாய்ந்த நிரம்பல்
- 3) நெகிழ்ச்சி வாய்ந்த கேள்வி

தேர்ச்சி - 02 - M.C.Q

- 4) ஒருமை கேள்வி நெகிழ்ச்சி
- 5) நெகிழ்ச்சியற்ற நிரம்பல்

142. வரிக்கு பின்னரான நுகர்வோர் மிகை மற்றும் உற்பத்தியாளர் மிகை என்பவற்றை முறையே காட்டும் கூற்று.

- 1) நுகர்வோர் மிகை A உற்பத்தியாளர் மிகை B
- 2) நுகர்வோர் மிகை A உற்பத்தியாளர் மிகை E + F
- 3) நுகர்வோர் மிகை A உற்பத்தியாளர் மிகை E
- 4) நுகர்வோர் மிகை A உற்பத்தியாளர் மிகை B + D + F
- 5) நுகர்வோர் மிகை A + B + C உற்பத்தியாளர் மிகை D + E

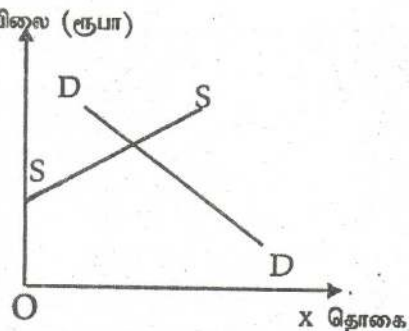


143. மற்றவைகள் மாறாதபோது பொருளொன்றின் விலை ரூ.10 இலிருந்து ரூ.5 ஆக குறைவடையும் போது கேள்வித்தொகை 100 அலகிலிருந்து 250 அலகுகளாக அதிகரித்துள்ளது எனின் வருமான விளைவு. பதிலீட்டு விளைவு. விலை விளைவு என்பன முறையே.

- 1) 50 அலகு. 100 அலகு. 150 அலகு.
- 2) 100 அலகு. 50 அலகு. 150 அலகு.
- 3) -100 அலகு. 50 அலகு. -50 அலகு.
- 4) -50 அலகு. 100 அலகு. 50 அலகு.
- 5) 100 அலகு. 100 அலகு. 200 அலகு.

144. கீழேயுள்ள வரிப்படம் சமநிலையிலிருந்து ஒரு நுகர்வோர் பண்டத்திற்கான சந்தையைக் காட்டுகின்றது. இப்பண்டத்தின் உற்பத்தியாளருக்கு மானியம் வழங்கும் அரசாங்கத்தினது ஒரு தீர்மானம் நன்மையளிப்பது.

- 1) நுகர்வோருக்கு மட்டும்.
- 2) உற்பத்தியாளருக்கு மட்டும். Y விலை (ரூபா)
- 3) நுகர்வோருக்கும் உற்பத்தியாளருக்கும் சமமாக.
- 4) உற்பத்தியாளருக்கு மேலாக நுகர்வோருக்கு.
- 5) நுகர்வோருக்கு மேலாக உற்பத்தியாளருக்கு

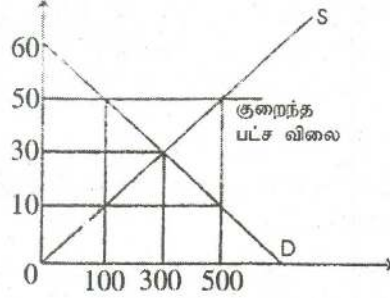


145. குறிப்பிட்ட பண்டமொன்றை விற்பனை செய்வதற்காக குறைந்த பட்சக் கட்டுப்பாடு விலையை அரசு நிர்ணயம் செய்து இவ்விலையில் நிலவும் மிகை நிரம்பலை அரசு கொள்வனவு செய்யும் முறையை கீழே உள்ள

தேர்ச்சி - 02 - M.C.Q

வரைபு விளக்குகின்றது. இவ்வரைபின் படி அரசு தலையீடு காரணமாக சமூகத்திற்கு கிடையாது போகும் தேறிய சமூக நலன்

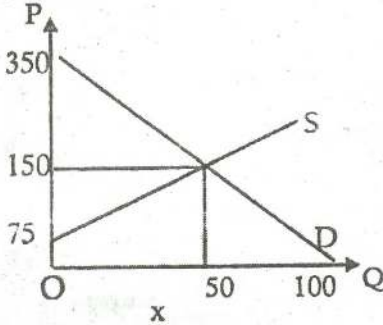
- 1) ரூபா. 500 ஆகும்.
- 2) ரூபா. 4000 ஆகும்.
- 3) ரூபா. 5000 அகும்.
- 4) ரூபா. 16000 ஆகும்.
- 5) ரூபா. 20000 ஆகும்.



146. வருமானம் அதிகரிக்க வருமானத்தில் செலவிடும் வீதம் குறைவடையுமாயின் அப்பொருள்,

- | | |
|-------------------------|--------------------|
| 1) ஆடம்பரப் பண்டம் | 4) சாதாரணப் பண்டம் |
| 2) இழிவுப் பண்டம் | 5) கிபன் பண்டம் |
| 3) அத்தியாவசியப் பண்டம் | |

147. உழைப்புக்கான சந்தைக்கேள்வி நிரம்பல் வரைபு கீழுள்ளவாறு அமைந்துள்ளபோது உழைக்கப்படும் “பொருளாதார வாடகை” எவ்வளவு?



- 1) 3750
- 2) 1875
- 3) 1750
- 4) 7500
- 5) 5625

148. பொருளொன்றின் சமநிலை விலையில் கேள்வி நெகிழ்ச்சி 1-2 ஆகும். நிரம்பல் நெகிழ்ச்சி 0.8 ஆகும். பொருளின் எல்லா அலகுகளுக்கும் ரூபா. 10 உற்பத்தி வரி விதிக்கப்படுமாயின் வரியில் உற்பத்தியாளர் தாங்கும் பாகம்?

- | | |
|-------------------|----------------------|
| 1) ரூபா. 6 ஆகும். | 4) ரூபா. 3 ஆகும். |
| 2) ரூபா. 4 ஆகும். | 5) ரூபா. 7.50 ஆகும். |
| 3) ரூபா. 7 ஆகும். | |

149. கிபன் பண்டத்தின் போது,

- 1) பதிலீட்டு விளைவு, வருமான விளைவு, விலை விளைவு என்பன நேர்க்கணியமாகக் காணப்படும்.
- 2) நேர்க்கணியப் பதிலீட்டு விளைவை விட எதிர்க்கணிய வருமான விளைவு உயர்வாக காணப்பட்டு எதிர்க்கணிய விலை விளைவை கொண்ட பண்டம்.

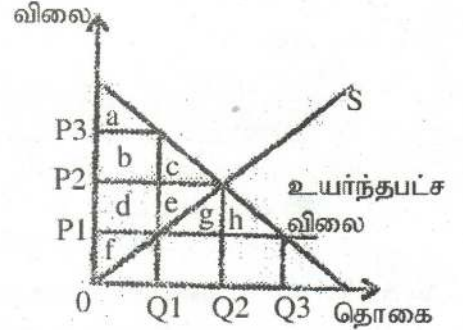
தேர்ச்சி - 02 - M.C.Q

- 3) நேர்க்கணியப் பதிலீட்டு விளைவைவிட எதிர்க்கணிய வருமான விளைவு குறைவாக காணப்பட்டு நேர்க்கணிய விலை விளைவு காணப்படும்.
- 4) பதிலீட்டு விளைவு வருமான விளைவும் சமனாகக் காணப்படும்.
- 5) பதிலீட்டு விளைவு எதிர்க்கணியமாகவும் வருமான விளைவு நேர்க்கணியமாகவும் காணப்படும்.

150. சந்தையில் விற்பனை செய்யப்படும் பண்டமொன்றின் மீது அரசாங்கம் ஆகக்கூடிய விலையொன்றை நிர்ணயித்துள்ள நிலமையொன்று கீழே காட்டப்படுகிறது.

அரசினால் ஆகக்கூடிய விலை நிர்ணயிக்கப்பட்ட பின்னர் இழக்கப்படுகின்ற பொருளாதார மிகையாக அமைவது.

- 1) a யும் f உம்
- 2) a யும் h உம்
- 3) c யும் e யும்
- 4) b யும் c உம்
- 5) d யும் e யும்



151. பின்வருவனவற்றில் குறித்தவொரு பொருளின் கேள்வி அதிகரிப்புக்கு இட்டுச் செல்லாதது எது?

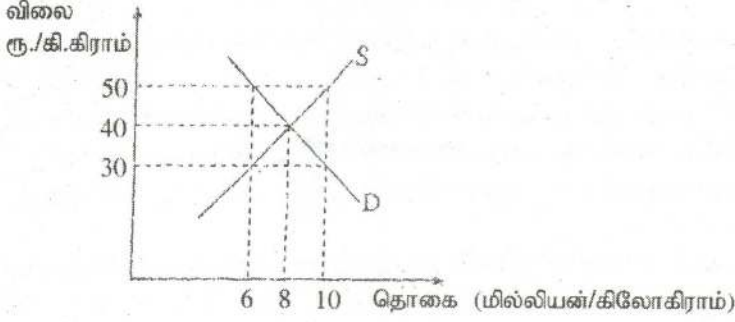
- 1) வருமானத்தில் ஏற்படும் அதிகரிப்பு.
- 2) அப்பொருளின் விலை வீழ்ச்சியடைதல்.
- 3) பதிலீட்டுப் பொருளின் விலை வீழ்ச்சியடைதல்.
- 4) நிரப்புப் பொருளின் விலை வீழ்ச்சியடைதல்.
- 5) அப்பொருளுக்கான சுவையில் ஏற்படும் அதிகரிப்பு.

152. கீழ்நோக்கிச் சரிந்து செல்லும் கேள்வி வளையியைக் கொண்ட சாதாரண பொருளொன்று தொடர்பான பின்வரும் சேர்க்கைகளில் சரியானது எது?

சேர்க்கை	வருமானக் கேள்வி நெகிழ்ச்சி	விலைக் கேள்வி நெகிழ்ச்சி
1)	நேர்க்கணியம்	நேர்க்கணியம்
2)	நேர்க்கணியம்	எதிர்க்கணியம்
3)	எதிர்க்கணியம்	எதிர்க்கணியம்
4)	எதிர்க்கணியம்	நேர்க்கணியம்
5)	ஓன்றிற்குச் சமன்	நெகிழ்வற்றது

153. விவசாயப் பொருளொன்றிற்கான சந்தைக் கேள்வி மற்றும் நிரம்பல் வளையிகள் வரைபடத்திற் காட்டப்பட்டுள்ளன.

தேர்ச்சி - 02 - M.C.Q



கிலோகிராம் ஒன்றிற்கு ரூ.50 குறைந்தபட்ச விலையினை விதித்து அதனால் ஏற்படும் மிகை நிரம்பலைக் கொள்வனவு செய்வதன் மூலம் அவ்விலையினை நடைமுறைப்படுத்த அரசாங்கம் தீர்மானித்துள்ளதாக கருதுக. இத்தலையீட்டின் காரணமாக சமூகத்திற்கு ஏற்படும் நல இழப்பு

- 1) 200 மில்லியன் ரூபாவாகும்.
- 2) 240 மில்லியன் ரூபாவாகும்.
- 3) 360 மில்லியன் ரூபாவாகும்.
- 4) 180 மில்லியன் ரூபாவாகும்.
- 5) 600 மில்லியன் ரூபாவாகும்.

154. சிறப்பு உற்பத்தி (அலகு) வரியொன்றை விதிக்கும் போது வரிச் சுமையை உற்பத்தியாளரைவிட நுகர்வோரே அதிகம் தாங்கும் நிலை பின்வரும் எச்சூழ்நிலையில் ஏற்படும்.

விலைக் கேள்வி நெகிழ்ச்சி

- 1) நெகிழ்வானது
- 2) நெகிழ்வற்றது
- 3) நெகிழ்வற்றது
- 4) பூரண நெகிழ்வற்றது
- 5) அலகு நெகிழ்ச்சி

விலை நிரம்பல் நெகிழ்ச்சி

- 1) நெகிழ்வற்றது
- 2) நெகிழ்வானது
- 3) பூரண நெகிழ்வற்றது
- 4) நெகிழ்வுள்ளது
- 5) நெகிழ்வுள்ளது

155. அரசாங்கம் அலகு மானியமொன்றை உற்பத்தியாளருக்கு வழங்குவதாக கருதுக. இந்நிலையில் விற்பனையில் மிகப்பெரிய அதிகரிப்பு பின்வரும் எச்சூழ்நிலையின் கீழ் ஏற்படக்கூடும்?

- 1) நிரம்பல் விலை நெகிழ்வுள்ளதாயிருத்தல்.
- 2) நிரம்பல் விலை நெகிழ்வற்றிருத்தல்.
- 3) கேள்வி விலை நெகிழ்வுள்ளதாயிருத்தல்.
- 4) கேள்வி விலை நெகிழ்வற்றிருத்தல்.
- 5) கேள்வி மற்றும் நிரம்பல் இரண்டும் விலை நெகிழ்வற்றிருத்தல்.

156. சிறிய நிறுவனமொன்று உலக சந்தையில் ஒரே விலையில் மூலப்பொருளின் எந்தளவையும் கொள்வனவு செய்யக்கூடியதாக உள்ளது. இதன் கருத்து யாதெனில் இந்நிறுவனம்.

- 1) மூலப்பொருளுக்கு பூரண நெகிழ்வுள்ள கேள்விக் கோட்டை எதிர்நோக்குகிறது.

தேர்ச்சி - 02 - M.C.Q

- 2) மூலப்பொருளுக்கு பூரண நெகிழ்வற்ற கேள்விக் கோட்டை எதிர்நோக்குகிறது.
 - 3) மூலப்பொருளுக்கு அலகு நெகிழ்ச்சியுள்ள கேள்விக் கோட்டை எதிர்நோக்குகிறது.
 - 4) மூலப்பொருளுக்கு பூரண நெகிழ்வுள்ள நிரம்பல் கோட்டை எதிர்நோக்குகிறது.
 - 5) மூலப்பொருளுக்கு பூரண நெகிழ்வற்ற நிரம்பல் கோட்டை எதிர்நோக்குகிறது.
157. பொருளொன்றின் விலை அதிகரிப்பு மற்றொரு பொருளின் கேள்வியை குறைக்குமாயின் அவ்விரு பொருள்களும்
- 1) இழிவுப் பொருள்களாகும்.
 - 2) ஆடம்பரப் பொருள்களாகும்.
 - 3) சாதாரணப் பொருள்களாகும்.
 - 4) பதிலீட்டுப் பொருள்களாகும்.
 - 5) நிரப்புப் பொருள்களாகும்.
158. கைக்கடிகாரங்களுக்கான நிரம்பல் வளையியின் இடப்புற நகர்வுக்குக் காரணமாய் அமையக்கூடியது,
- 1) கைக்கடிகாரங்களின் விலையில் ஏற்படும் ஓர் அதிகரிப்பு.
 - 2) கைக்கடிகாரங்களை உற்பத்தி செய்யும் ஊழியர்களுக்கு வழங்கப்படும் கூலியில் ஏற்படும் ஓர் அதிகரிப்பு.
 - 3) கைக்கடிகார உற்பத்தியுடன் தொடர்புபட்ட தொழில்நுட்பத்தில் ஏற்படும் ஒரு முன்னேற்றம்.
 - 4) கைக்கடிகார உற்பத்தியில் பயன்படுத்தப்படும் உதிரிப்பாகங்களின் விலையில் ஏற்படும் ஒரு வீழ்ச்சி.
 - 5) சனத்தொகையில் ஏற்படும் ஓர் அதிகரிப்பு.
159. பொருளொன்றின் வருமானக் கேள்வி நெகிழ்ச்சி -1.7 ஆயின் நாம் பெறக்கூடிய முடிவு,
- 1) வருமானத்தில் ஏற்படும் அதிகரிப்பு குறித்த பொருளின் கேள்வியில் ஓர் அதிகரிப்புக்கு இட்டுச் செல்லும்.
 - 2) இது நிச்சயமாக ஓர் அத்தியாவசியப் பொருளாகும்.
 - 3) இது ஒரு சாதாரணப் பொருளாகும்.
 - 4) விலையில் ஏற்படும் 1% வீழ்ச்சியானது பொருளின் கேள்வியில் 1.7% அதிகரிப்பினை ஏற்படுத்தும்.
 - 5) வருமானத்தில் ஏற்படும் ஒரு வீழ்ச்சி பொருளின் கேள்வியில் ஓர் அதிகரிப்புக்கு இட்டுச் செல்லும்.
160. கேள்வி மாற்றம் கேள்வி தொகை மாற்றம் ஆகியவற்றிற் கிடையிலான வேறுபாடு யாது?
- 1) கேள்வி மாற்றத்தில் விலை தவிர்ந்த ஏனைய காரணிகள் தாக்கம் புரிவதோடு கேள்வி தொகை மாற்றத்தில் குறித்த பொருளின் விலை தாக்கம் புரியும்.

தேர்ச்சி - 02 - M.C.Q

- 2) கேள்வி மாற்றம் மற்றும் வருமான நெகிழ்ச்சி ஊடாக கணிக்கப்படுவதோடு கேள்வித்தொகை மாற்றம் விலைசார் கேள்வி நெகிழ்ச்சி ஊடாக கணிக்கப்படும்.
- 3) கேள்வி மாற்றம் கேள்விக் கோட்டில் காட்டப்படுவதோடு கேள்வித் தொகை மாற்றம் கேள்விக் கோட்டின் ஒரு புள்ளியில் காட்டப்படும்.
- 4) கேள்வி மாற்றம் வளையின் நகர்வின் ஊடாக காட்டப்பட கேள்வித் தொகை மாற்றம் கேள்விக் கோட்டின் வழியேயான அசைவின் மூலம் காட்டப்படும்.
- 5) கேள்வி மாற்றத்தில் நுகர்வின் வருமானம் நேரடியாக தொடர்புகொள்வதோடு கேள்வித்தொகை மாற்றத்தில் வருமானம் மற்றும் பதிலீடு விளைவு தொடர்புறும்.

161. X எனும் பண்டத்தின் விலைசார் கேள்வி நெகிழ்ச்சி -0.5 ஆகும்.

கேள்வித்தொகை 30% ஆல் அதிகரிக்குமாயின் X பண்டத்தின் விலை

- 1) 10% இனால் வீழ்ச்சியடையும்.
- 2) 30% இனால் வீழ்ச்சியடையும்.
- 3) 20% இனால் வீழ்ச்சியடையும்.
- 4) 60% இனால் அதிகரிக்கும்.
- 5) 60% இனால் வீழ்ச்சியடையும்.

162. உற்பத்தி நிறுவனத்தின் நிரம்பல் கோடு $Q_s = -100 + 10p$ எனும் வடிவம் பெறுகிறது.

நெகிழ்ச்சி

- 1) நெகிழ்ச்சியுடையது
- 2) நெகிழ்வற்றது
- 3) நெகிழ்வுடையது
- 4) நெகிழ்வற்றது
- 5) நெகிழ்வற்றது

நெகிழ்ச்சிக் குணகம்

- மேலே செல்லச் செல்ல பெறுமானம் அதிகரிக்கும்
 மேலே செல்லச் செல்ல பெறுமானம் குறையும்.
 மேலே செல்லச் செல்ல பெறுமானம் குறையும்.
 மேலே செல்லச் செல்ல பெறுமானம் அதிகரிக்கும்.
 பெறுமானம் எல்லாப் புள்ளிகளிலும் சமானமாகும்.

163. X, Y, Z என்னும் பொருள்கள் தொடர்பாக ஒரு நுகர்வோனுடைய கேள்வி நிலைமை பின்வருமாறு இருந்தது.

வருமான மட்டம்	X பொருளுக்கான கேள்வி	Y பொருளுக்கான கேள்வி	Z பொருளுக்கான கேள்வி
1	100	200	100
2	140	240	90

முதலாவது வருமான மட்டத்துடன் ஒப்பிடும்போது இரண்டாவது வருமான மட்டத்தில் 20% அதிகரித்தது, அதன்படி முறையே இழிவுப்பண்டமும் ஆடம்பரப்பண்டமும் எவையாகும்.

- 1) Y உம் X உம்
- 4) Y உம் Z உம்

தேர்ச்சி - 02 - M.C.Q

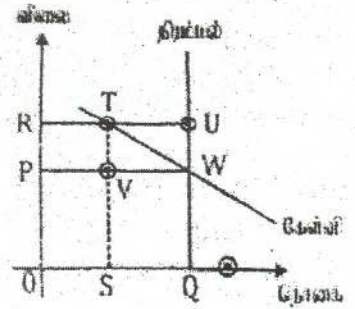
- 2) X உம் Z உம் 5) Z உம் X உம்
 3) X உம் Y உம்

164. பண்டமொன்றில் விலை மாற்றம் அடையும் போது வருமான விளைவொன்று தோன்றுகிறது. வருவான விளைவு என்பது
- 1) பணவருமானம் மாறா நிலையில் மெய் வருமானத்தில் ஏற்படும் மாற்றத்தின் விளைவாக அதன் கேள்வித் தொகையில் ஏற்படும் மாற்றமாகும்.
 - 2) பண வருமானம் மாறா நிலையில் சார்பு விலையில் ஏற்படும் மாற்றத்தின் விளைவாக அதன் கேள்வித் தொகையில் ஏற்படும் மாற்றமாகும்.
 - 3) சார்பு விலைகள் மாறாநிலையில் மெய் வருமானத்தில் ஏற்படும் மாற்றத்தின் விளைவாக அதன் கேள்வித் தொகையில் ஏற்படும் மாற்றமாகும்.
 - 4) மெய்வருமானம் மாறா நிலையில் முழு விலையில் ஏற்படும் மாற்றத்தின் விளைவாக அதன் கேள்வித் தொகையில் ஏற்படும் மாற்றமாகும்.
 - 5) விலைகளில் ஏற்படும் மாற்றம் காரணமாக அதன் கேள்வித்தொகையில் ஏற்படும் மாற்றம்.

165. போட்டிச் சந்தையொன்றில் விற்கப்படும் பண்டமொன்று தொடர்பான தரவு வருமாறு.

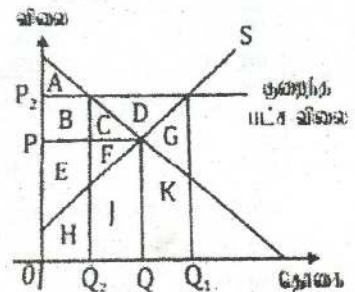
அரசாங்கம் உத்தரவாத விலைத்திட்டம் ஒன்றை உருவாக்கி மிகை நிரம்பலை கொள்வனவு செய்வதன் மூலம் அதனைப் பேண முற்படுகின்றது. இதன் காரணமாக அரசுக்கு ஏற்படக்கூடிய செலவின் அளவு யாது?

- 1) ORTS 4) SVWQ
 2) STUQ 5) TUVW
 3) OPVS



166. போட்டிச் சந்தையொன்றிலுள்ள பண்டம் ஒன்றின் விலை P ஆகவும் அளவு Q ஆகவும் இருந்த போது அரசாங்கம் ஆகக் குறைந்த கட்டுப்பாட்டு விலை யொன்றைத் தீர்மானித்து ஆதரவு விலைத் திட்டத்தினூடாக மிகை நிரம்பலை கொள்வனவு செய்யத் தீர்மானித்தால் உற்பத்தியாளர் மிகையானது

- 1) E + F இருந்து E+F+B+C+D ஆக மாற்றமடையும்.
 2) E+F இருந்து E+F+H+J+K ஆக மாற்றமடையும்.



தேர்ச்சி - 02 - M.C.Q

- 3) E இருந்து E+F+B+C+D ஆக மாற்றமடையும்.
- 4) A இருந்து A+B+C+D ஆக மாற்றமடையும்.
- 5) A இருந்து A+B+C+D+E+F ஆக மாற்றமடையும்

167. பண்டமொன்றினது நிரம்பல் வளையியானது இடதுபுறம் நகர்வதற்கு பொறுப்பாக அமையக்கூடியது.

- 1) கருதப்படும் பொருளின் விலையில் ஏற்பட்ட வீழ்ச்சியாகும்.
- 2) பதிலீட்டு விலைப்பொருளின் விலையில் ஏற்பட்ட வீழ்ச்சி.
- 3) கூட்டு விளைபொருளின் விலையில் ஏற்பட்ட அதிகரிப்பு.
- 4) உற்பத்திக் காரணியொன்றின் விலையில் ஏற்பட்ட வீழ்ச்சி.
- 5) பதிலீட்டு விளைபொருள் ஒன்றின் விலையில் ஏற்பட்ட அதிகரிப்பு.

168. நுகர்வோரின் வருமானம் 10% உயர்வடையும் போது X பண்டத்தின் கேள்வி 8% உயர்வடைவதோடு Y பண்டத்திற்கான விலை 10% வீழ்ச்சியடைகின்றது. இதன்போது X பண்டத்தின் கேள்வி 20% வீழ்ச்சியடைகின்றது. இத்தகவல்களைக் கொண்டு கீழ்வரும் கூற்றுக்களுள் சரியான கூற்றினை இனங்காண்க.

- 1) X பண்டமானது சாதாரண பண்டமாக கருதப்படுவதோடு இணைப்புப் பண்டமாகவும் காணப்படுகின்றது.
- 2) X பண்டமானது அத்தியாவசியப் பண்டமாக கருதப்படுவதோடு பதிலீட்டுப் பண்டமாகவும் காணப்படுகின்றது.
- 3) X பண்டமானது ஆடம்பரப் பண்டமாக கருதப்படுவதோடு இணைப்புப் பண்டமாகவும் காணப்படுகின்றது.
- 4) X பண்டமானது சாதாரணப் பண்டமாக கருதப்படுவதோடு இழிவுப் பண்டமாகவும் காணப்படுகின்றது.
- 5) X பண்டமானது அத்தியாவசியப் பண்டமாக கருதப்படுவதோடு இழிவுப் பண்டமாகவும் காணப்படுகின்றது.

169. குறிப்பிட்ட பண்டமொன்று தொடர்பாக காணப்படுகின்ற கேள்வி நெகிழ்ச்சியுடையதாக காணப்படுவதற்கான காரணம் பின்வருவனவற்றுள் எது?

- 1) விலை உயரும் போது கேள்வி உயர்வடையும்.
- 2) விலை குறைகின்ற போது அப்பண்டம் தொடர்பாக செலவிடுகின்ற மொத்தத் தொகையில் ஏற்படுகின்ற அதிகரிப்பு ஆகும்.
- 3) விலை குறைகின்ற போது கேள்வித்தொகை அதிகரிப்பதோடு சமநிலைத் தொகையோடு உயர்ந்த தொகையொன்று நிலவும்.
- 4) விலை உயர்கின்ற பட்சத்தில் அப்பண்டம் தொடர்பாக ஏற்படுகின்ற செலவு அதிகரிக்கின்ற நிலை காணப்படும்.
- 5) கேள்வி மற்றும் விலை என்பன சமவிகிதத்தில் மாற்றமடையும்.

170. பண்டமொன்றின் நிரம்பல் உயர்வடைதல் அல்லது வீழ்ச்சியடைதலின் போது விலையின் தாக்கம் மிகக் குறைவாக காணப்படுகின்ற நிலைமையாது?

தேர்ச்சி - 02 - M.C.Q

- 1) கேள்வி வளையியானது மேலிருந்து கீழாக வலப்புறமாக காணப்படுகின்ற போது,
- 2) கேள்வி வளையியானது பூரண நெகிழ்வற்றதாக காணப்படுகின்ற போது,
- 3) குறிப்பிட்ட பண்டம் அத்தியாவசியப் பண்டமாக காணப்படுகின்றபோது,
- 4) கேள்வி வளையியானது பூரண நெகிழ்வுடையதாக காணப்படுகின்ற போது,
- 5) விலையும் கேள்வித்தொகை மாற்றமும் சமவிகிதத்தில் காணப்படும் போது,

171. கேள்வி விதிக்கு மாறான முறையில் கேள்வி நடத்தைக்கான காரணத்தை இனங்காண்க.

- 1) நேர்க்கணிய பதிலீட்டு விளைவை விட எதிர்கணிய வருமான விளைவுச் செல்வாக்கு பெரிதாக இருத்தல்
- 2) எதிர்க்கணிய வருமான விளைவை விட நேர்க்கணிய பதிலீட்டு விளைவுச் செல்வாக்கு பெரிதாக இருத்தல்.
- 3) நேர்க்கணிய வருமான விளைவை விட நேர்க்கணிய பதிலீட்டு விளைவுச் செல்வாக்கு பெரிதாக இருத்தல்.
- 4) நேர்க்கணிய பதிலீட்டு விளைவை விட நேர்க்கணிய வருமான விளைவுச் செல்வாக்கு பெரிதாக இருத்தல்.
- 5) எதிர்க்கணிய பதிலீட்டு விளைவை விட நேர்க்கணிய வருமான விளைவுச் செல்வாக்கு பெரிதாக இருத்தல்.

172. பின்வரும் கூற்றுக்கள் தொடர்பாக உம்மால் சரியாக தெரிவு செய்யப்படுவது யாது?

- 1) கிபன் பண்டங்கள் அனைத்தும் நேர்க்கணிய வருமான விளைவைக் கொண்டவை.
- 2) பதிலீட்டுப் பண்டங்களின் விலை அசைவுகளின் நிமித்தம் குறிப்பிட்ட பண்ட கேள்வி தொகை தலைகீழ் தொடர்புடையதாக மாற்றமடையும்.
- 3) ஏனையவை மாறாத போது நுகர்வோர் செலவிடத்தக்க வருமானம் அதிகரிக்கும் போது நுகர்வோன் செலவுத் தொகை குறைவது சாதாரண பண்ட நிலையாகும்.
- 4) விலை நெகிழ்ச்சியற்ற நிலையில் குறிப்பிட்ட பண்ட கேள்வி தொகை அதிகரிக்கும் நிலையில் நுகர்வோன் செலவும் அதிகரிக்கும்.
- 5) அனைத்தும் பிழையானவை.

173. A,B ஆகிய பண்டங்கள் பற்றிய தரவுகள் பின்வருமாறு.

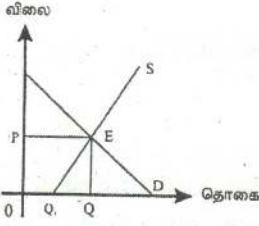
	A	B
விலைசார் கேள்வி நெகிழ்ச்சி	-0.5	-0.8
வருமானம் சார் கேள்வி நெகிழ்ச்சி	-0.3	1.6
A,B பண்டங்களுக்கான குறுக்கு நெகிழ்ச்சி	2.5	

தரவின்படி பிழையான கூற்று.

- 1) A கிபன் பண்டமாகும்.
 - 2) A யும் B யும் பதிலீட்டுப் பண்டங்களாகும்.
 - 3) B ஆடம்பரப் பண்டமாகும்.
 - 4) B யின் விலை அதிகரிப்பு A யின் கேள்வியில் உயர் அதிகரிப்பை ஏற்படுத்தும்.
 - 5) A ஒரு இழிவுப் பண்டாகும்.
174. பின்வரும் எந்த நிலமையானது போட்டிச் சந்தையொன்றிலுள்ள பண்டம் ஒன்றின் சந்தைச் சமநிலை விலை குறைவடையக் காரணமாக அமையும்.
- 1) கேள்வி பூரண நெகிழ்வுடைய நிலையில் ஊழியருக்கான கூலியில் வீழ்ச்சி.
 - 2) நிரம்பல் பூரண நெகிழ்வுடைய நிலையில் நுகர்வோர் வருமானம் குறைவடைதல்.
 - 3) நிரம்பல் பூரண நெகிழ்வற்ற நிலையில் நுகர்வோர் வருமானம் கூடுதல்.
 - 4) நிரம்பல் பூரண நெகிழ்வற்ற நிலையில் நுகர்வோர் வருமானம் குறைதல்.
 - 5) கேள்வி பூரண நெகிழ்வுடைய நிலையில் ஊழியத்துக்கான கூலியில் அதிகரிப்பு.
175. பண்டம் ஒன்றினது சந்தைக் கேள்வியில் மாற்றமில்லா நிலையில் எந்நிகழ்வு சந்தைச் சமநிலை விலையை உயர்த்துவதற்கு காரணமாக அமையும்.
- 1) பதிலீட்டு உற்பத்திகளின் விலையில் அதிகரிப்பு.
 - 2) பதிலீட்டு உற்பத்திகளின் விலைகளில் வீழ்ச்சி.
 - 3) இணைந்த விளைவுப் பொருட்களின் விலைகளில் உயர்வு.
 - 4) தொழிலாளர் கூலிகளில் வீழ்ச்சி.
 - 5) மூலப்பொருட்களின் விலைகளில் ஓர் வீழ்ச்சி.
176. தனியார் தொலைக்காட்சி நிறுவனமொன்று தனது சேவைக்கு 1 இலட்சம் வாடிக்கையாளரைக் கொண்டுள்ளது. இச்சேவையைப் பெறுவதற்கு வாடிக்கையாளர்கள் 20 ரூபாவை மாதாந்தக் கட்டணமாக செலுத்துகின்றனர். அச் சேவையினது விலைசார் கேள்வி நெகிழ்ச்சி பெறுமானம் -5.0 என்க.
- நிறுவனம் தனது கட்டணத்தை 20% ஆல் குறைத்தால் நிறுவன மொத்த வருமானம் எவ்வளவால் மாற்றமடையும்.
- 1) 12 இலட்சம் ரூபாவால் அதிகரிக்கும்.
 - 2) 12 இலட்சம் ரூபாவால் குறையும்.
 - 3) 10 இலட்சம் ரூபாவால் அதிகரிக்கும்.
 - 4) 10 இலட்சம் ரூபாவால் குறையும்.
 - 5) 8 இலட்சம் ரூபாவால் குறையும்
177. காரணிச் சந்தையில் ஆக்கச் சாதனம் ஒன்றுக்கான சந்தைக் கேள்வி நிரம்பல் தொடர்பான தரவுகள் வருமாறு. காரணி வருமானத்திலடங்கும்

தேர்ச்சி - 02 - M.C.Q

பொருளியல் வாடகை, மாற்றல் வருமானங்களின் பரப்பளவை இனம் காண்க.



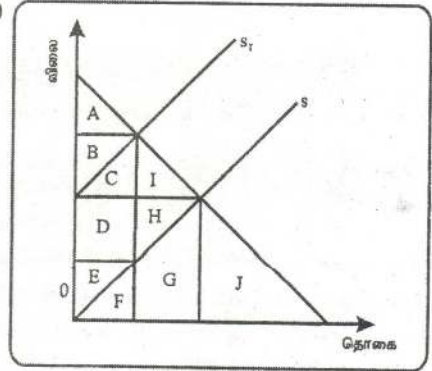
- (அ)
- (ஆ)
- (இ)
- (ஈ)
- (உ)

பொருளியல் வாடகை	மாற்றல் வருவாய்
OPEQ	OPEQ ₁
Q ₁ EQ	OPEQ
OPEQ	Q ₁ EQ
Q ₁ EQ	OPEQ ₁
OPEQ ₁	Q ₁ EQ

178. பண்டமொன்றின் விலை ரூபா. 5 ஆகவும் அதன் விலைசார் கேள்வி நெகிழ்ச்சி -2 ஆகவும் காணப்பட்டபோது நுகர்வோர் 40 அலகுகளைக் கொள்வனவு செய்தனர். இப்பண்டத்தின் விலை ரூபா. 4 ஆகக் காணப்பட்டின் எத்தனை அலகுகளை அவர்கள் கொள்வனவு செய்வர்?
- 1) 4 அலகுகள்
 - 2) 25 அலகுகள்
 - 3) 46 அலகுகள்
 - 4) 56 அலகுகள்
 - 5) 48 அலகுகள்

179. வரிக்கு பின்னரான நுகாவோர் மிகை மற்றும் உற்பத்தியாளர் மிகை என்பவற்றை முறையே காட்டும் கூற்று.

- 1) நுகர்வோர் மிகை A உற்பத்தியாளர் மிகை B.
- 2) நுகர்வோர் மிகை A உற்பத்தியாளர் மிகை B+F.
- 3) நுகர்வோர் மிகை A உற்பத்தியாளர் மிகை E.
- 4) நுகர்வோர் மிகை A உற்பத்தியாளர் மிகை B+D+F.
- 5) நுகர்வோர் மிகை A+B+C உற்பத்தியாளர் மிகை D+E.



180. பண்டமொன்றின் விலை ரூபா. 200 ஆக இருந்த போது அதன் கேள்வித்தொகை 2 மில்லியன் அலகுகளாக காணப்பட்டது. இப்பண்டத்திற்கான விலைக் கேள்வி நெகிழ்ச்சி -3 ஆகவுள்ளது என நிறுவனம் மதிப்பீடு செய்தது. நிறுவனம் பண்டத்தின் விலையை 50% இனால் குறைக்குமாயின் நிறுவனத்தின் விற்பனை வருவாயானது.
- 1) ரூபா. 300 மில்லியனால் அதிகரிக்கும்.
 - 2) ரூபா. 500 மில்லியனால் அதிகரிக்கும்.
 - 3) ரூபா. 300 மில்லியனால் குறையும்.
 - 4) ரூபா. 500 மில்லியனால் குறையும்.
 - 5) ரூபா. 3 மில்லியனால் அதிகரிக்கும்.

தேர்ச்சி - 02 - M.C.Q

181. பின்வருவனவற்றில் கிபன் பொருளின் இயல்பாக கருதப்படாதது எது?

- 1) புறுநடைக்கேள்வி காணப்படும்.
- 2) இது ஒரு இழிவுப் பொருளாகும்.
- 3) விலைசார் கேள்வி நெகிழ்ச்சி நேர்க்கணியம்.
- 4) வருமானச் சார் கேள்வி நெகிழ்ச்சி நேர்க்கணியம்.
- 5) விலை விளைவு எதிர்க்கணியம்.

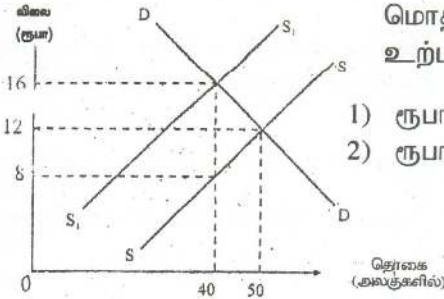
182. சந்தையொன்று சமநிலையில் உள்ளதாக வரைவிலக்கணப்படுத்தப்படுவது

- 1) மிகக் குறைந்த செலவில் உச்ச வெளியீடு பெறப்படும் போதாகும்.
- 2) உற்பத்தியாளன் மிகை உச்சப்படுத்தப்படும் போதாகும்.
- 3) விலைகள் அவற்றின் சாத்தியமான குறைந்த மட்டத்தில் உள்ள போதாகும்.
- 4) நுகர்வோன் திருப்தி உச்சப்படுத்தப்படும் போதாகும்.
- 5) சந்தைவிலை மாற்றமடைவதற்கான ஏதுநிலை இல்லாத போதாகும்.

183. பொருளொன்றின் விலைக் கேள்வி நெகிழ்ச்சி பூச்சியமாகக் கருதப்படின் அப்பொருள் வெளியீட்டின் மீது விதிக்கப்படும் வரியானது

- 1) நிரம்பல் வளையியின் இட அமைவினை மாற்றாது.
- 2) நிரம்பல் வளையியை வலப்புறமாக நகர்த்தும்.
- 3) கேள்வி வளையியை வலப்புறமாக நகர்த்தும்.
- 4) உற்பத்தியாளரால் முழுமையாக செலுத்தப்பட வேண்டும்.
- 5) வரியின் முழு அளவினால் பொருளின் விலையை உயர்த்தும்.

184. கீழுள்ள வரைபடத்தில் காட்டப்பட்டுள்ளவாறு அரசாங்க வரிவிதிப்பொன்று நிரம்பல் வளையியை SS இலிருந்து S_1S_1 ஆக இடம்பெயரச் செய்கிறது.



மொத்த வரிச்சுமையின் எந்தளவு உற்பத்தியாளர் மீது சுமத்தப்படும்?

- | | | |
|--------------|--------------|--------------|
| 1) ரூபா. 120 | 3) ரூபா. 280 | 5) ரூபா. 480 |
| 2) ரூபா. 160 | 4) ரூபா. 320 | |

185. பண்டமொன்றின் வருமான விளைவு நேர்க்கணியமாயின் அப்பண்டம்

- 1) ஆடம்பரப் பண்டம்
- 2) கிபன் பண்டம்
- 3) இழிவுப் பண்டம்
- 4) சாதாரண பண்டம்
- 5) அத்தியாவசி பண்டம்

186. பாண், பட்டர், மாஜரின் என்பவற்றில் பாண், பட்டர் எனபவற்றிற்கும் பட்டர், மாஜரின் எனபவற்றிற்கும் இடையிலான தொடர்பு பற்றி சரியானது.

- 1) இணைப்புப் பண்டங்கள், பிரதியீட்டுப் பண்டங்கள்
- 2) சாதாரண பண்டங்கள், ஆடம்பரப் பண்டங்கள்
- 3) பிரதியீட்டுப் பண்டங்கள், இணைப்புப் பண்டங்கள்
- 4) இணைப்புப் பண்டங்கள், அடம்பரப் பண்டங்கள்
- 5) பிரதியீட்டுப் பண்டங்கள், சாதாரண பண்டங்கள்

187. விலைசார் கேள்வி நெகிழ்ச்சி குணகம் ஒன்றைவிடக் குறைவாக உள்ளபோது.

- 1) விலை அதிகரிப்பு வீதம் சிறிதாக இருக்க தொகை குறையும் வீதம் பெரிதாக இருக்கும்.
- 2) விலை குறையும் வீதத்தைவிட தொகை அதிகரிக்கும் வீதம் பெரிதாக இருக்கும்.
- 3) விலை குறைகின்ற வீதத்தைவிட கேள்வித்தொகை குறைகின்ற வீதம் குறைவாக இருத்தல்.
- 4) கேள்வித் தொகை அதிகரிக்கும் வீதத்தை விட விலை குறைகின்ற வீதம் பெரிதாகக் காணப்படும்.
- 5) விலைமாற்ற வீதமும் தொகை மாற்ற வீதமும் சமனாகக் காணப்படும்.

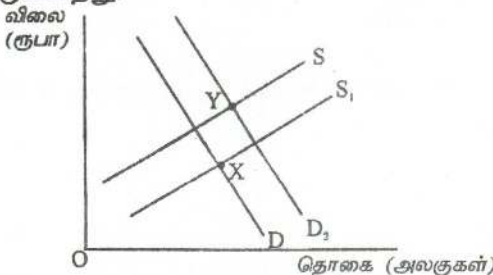
188. பின்வரும் அட்டவணையானது சம்பா அரிசிக்கான கேள்வி நிரம்பலைக் காட்டுகின்றது. ஆரம்ப சமநிலை விலை ரூபா 15 ஆகும்.

1Kg விலை (ரூபா)	30	25	20	15	10	5
கேள்வி அளவுகள் (Kg)	11	12	13	15	17	20
நிரம்பலி அளவுகள் (Kg)	22	19	17	15	13	11

அரசாங்கம் உற்பத்தியாளருக்கு கிலோ ஒன்றிற்கு ரூபா 10 மானியம் வழங்குகின்றது. நுகர்வோருக்குரிய புதிய சமநிலை விலையில் ஏற்படும் மாற்றம் யாது

- 1) ரூபா 5
- 2) ரூபா 25
- 3) ரூபா 15
- 4) ரூபா 20
- 5) ரூபா 10

189. பின்வரும் வரிப்படம் புதிய வீடுகளின் சந்தை நிலைமையினைக் காட்டுகின்றது.



சந்தைச் சமநிலை X புள்ளியிலிருந்து Y புள்ளிக்கு நகர்வதற்கான காரணம் யாது?

- 1) வருமான வரிகள் அதிகரித்தலும், கட்டச் செலவுகள் குறைதலும்

- 2) வட்டி வீதங்களின் வீழ்ச்சியும் வீட்டுக் கட்டிடங்களின் வினைத்திறன் அதிகரித்தலும்.
- 3) சனத்தொகை வீழ்ச்சியடைதலும், கட்டிட மூலப் பொருள்கள் மீதான செலவினங்கள் அதிகரித்தலும்.
- 4) கட்டிடங்களுக்கான மானியம் அதிகரித்தலும் வருமானம் வீழ்ச்சியடைதலும்.
- 5) வருமான வரிகள் வீழ்ச்சியடைதலும் கட்டிடச் செலவுகள் அதிகரித்தலும்.

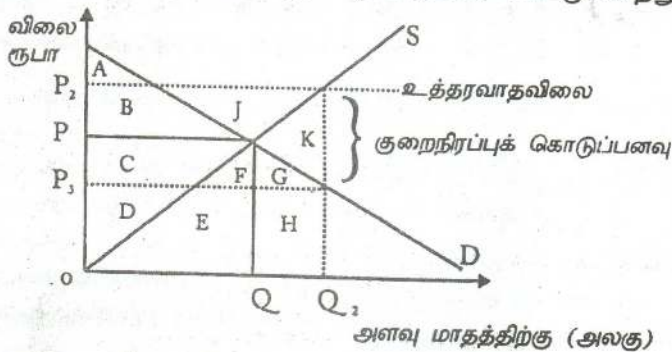
190. குறிப்பிட்ட காலப்பகுதியில் வானொலிக்கான கேள்வி அதிகரித்தது. அதேவேளை வானொலி விலைகள் வீழ்ச்சியடைந்தன. இதனைக் குறிப்பிடும் சரியான விடை.

- 1) வானொலிக்கான கேள்வி அதிகரித்தமை.
- 2) வானொலிக்கான நிரம்பல் அதிகரித்தமை.
- 3) வானொலிக்கான கேள்வியும் நிரம்பலும் சம அளவால் அதிகரித்தமை.
- 4) வானொலிக்கான கேள்வியும் நிரம்பலும் வீழ்ச்சியடைந்தமை.
- 5) வானொலிக்கான கேள்வி அதிகரிப்பிலும் பார்க்க நிரம்பல் உயர்ந்த அளவில் அதிகரித்தமை.

191. பின்வருவனவற்றில் நிரம்பல் கோட்டின் அசைவினை ஏற்படுத்தாத காரணி எது?

- 1) மூலப் பொருட்களின் விலை ஏற்றம்.
- 2) தொழிலாளர்களின் கூலி அதிகரித்தமை.
- 3) குறிப்பிட்ட பொருளின் விலையில் ஏற்பட்ட அதிகரிப்பு.
- 4) நாட்டில் காணப்பட்ட கடும் வரட்சி.
- 5) குறைநிரப்புப் பண்டத்தின் விலை குறைதல்.

192. பின்வரும் வரைபடமானது உற்பத்தியாளர் நலன் பேணும் பொருட்டு உத்தரவாத விலையொன்று விதிப்பதனை காட்டுகின்றது.



உத்தரவாத விலையினை செயற்றினனாக்குவதற்கு அரசு குறைநிரப்புக் கொடுப்பனவை வழங்குமாயின் அரசுக்கான செலவு.

- 1) C,F,G
- 2) B,J
- 3) B,C,FG,K,J
- 4) B,C,F,J
- 5) B,C,F,G

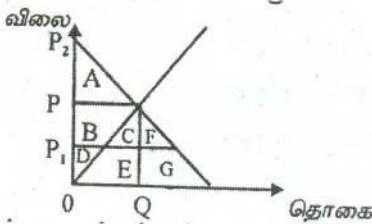
தேர்ச்சி - 02 - M.C.Q

193. ஏனைய காரணிகள் மாறாதபோது பண்டமொன்றின் விலை அதிகரிக்க அதன் கேள்வித்தொகை வீழ்ச்சியடைந்தது. இம்மாற்றத்தை குறித்து நிற்கும் எண்ணக்கரு யாது?
- | | |
|-------------------------|-------------------|
| 1) கேள்வி ஒடுக்கம் | 4) கேள்வி மாற்றம் |
| 2) கேள்வி நீட்டம் | 5) கேள்வி கூடுதல் |
| 3) கேள்வித்தொகை மாற்றம் | |

194. சந்தையொன்றில் விற்கப்படும் குறித்த பொருளின் விலை மாறாதிருக்க போட்டிப்பொருள் விலையில் அதிகரிப்பு ஏற்பட்டால்
- 1) குறித்த பொருளின் கேள்வித்தொகை கூடும்.
 - 2) குறித்த பொருளின் கேள்வித்தொகை குறையும்.
 - 3) குறித்த பொருளின் கேள்வி குறையும்.
 - 4) குறித்த பொருளின் கேள்வி கூடும்.
 - 5) குறித்த பொருளின் கேள்வி மாறாது.

195. பண்டமொன்றின் விலை 10% ஆல் அதிகரிக்கும்போது அப்பண்டத்தின் கேள்வித்தொகை 15% ஆல் அதிகரித்தது. எனவே இப்பண்டம்
- 1) அத்தியாவசியப் பண்டம்
 - 2) ஆடம்பரப் பண்டம்
 - 3) இழிவுப் பண்டம்
 - 4) கிபன் பண்டம்
 - 5) பதிலீடுகள் கூடிய பண்டம்

196. அரிசிச் சந்தையின் கேள்வியைக் காட்டும் வரைபு பின்வருமாறு உள்ளது. ஆரம்பத்தில் அரிசிச் சந்தையில் கிலோ ஒன்றின் விலை ⁰ ஆகக் காணப்பட்டது. அரசு அரிசி உற்பத்திற்கான மானியக் கொடுப்பனவினை வழங்குவதால் அரிசியின் விலை ¹ ஆக மாற்றமடைந்தது. இச் செயற்பாடு தொடர்பாக நுகர்வோர் மிகையில் ஏற்பட்ட மாற்றம் யாது?



- | | |
|------------|------------|
| 1) A,B,D,F | 4) B+D+E+G |
| 2) B,C,F | 5) B+C+E |
| 3) B,C,F,A | |

197. நிறுவனமொன்று உற்பத்தி செய்த பொருளொன்றின் விலைக்கேள்வி நெகிழ்ச்சி -0.8 ஆகும். இந்நிறுவனம் உற்பத்திப் பொருளின் விலையை உயர்த்துமாயின், அதன் வருவாய்
- | | |
|--------------------|---|
| 1) அதிகரிக்கும் | 4) 8% இனை விடக்கூடுதலாக வீழ்ச்சியடையும் |
| 2) வீழ்ச்சியடையும் | 5) 8% இனை விடக் குறைவாக வீழ்ச்சியடையும் |
| 3) மாறாதிருக்கும் | |

தேர்ச்சி - 02 - M.C.Q

198. அட்டவணையானது 5 நிறுவனங்களின் பொருள் தொடர்பில் அவற்றின் நெருங்கிய பிரதியீடுகளின் விலைகள் குறித்த குறுக்கு கேள்வி நெகிழ்ச்சி அளவைக் காட்டுகிறது.

நிறுவனம்	A	B	C	D	E
குறுக்கு கேள்வி நெகிழ்ச்சிக்குணகம்	3	2	1.5	0.8	0.3

மேற்குறித்த தரவுகளின் அடிப்படையில் சந்தையில் அதிக போட்டியாளர்களை கொண்டுள்ள நிறுவனம் எது?

- 1) A 2) B 3) C 4) D 5) E

199. செயற்படு கேள்வி உள்ளடக்குவது.

- 1) கொள்வனவுக்கான ஆற்றல், வருமானம், விருப்பம்.
- 2) கொள்வனவுக்கான ஆற்றல், தகுதி, திட்டம்.
- 3) கொள்வனவுக்கான விருப்பம், ஆற்றல், சந்தை
- 4) கொள்வனவுக்கான விருப்பம், ஆற்றல், திட்டம்.
- 5) கொள்வனவுக்கான விருப்பம், சந்தர்ப்பம், ஆயத்தம்.

200. சந்தையில் கணனிக்கான கேள்வி அதிகரிப்பிலும் பார்க்க கணனிக்கான நிரம்பல் அதிகரிப்பு குறைவாகக் காணப்பட்டது. எனின் சந்தையில் யாது நிகழும் என எதிர்ப்பார்க்கின்றீர்?

- 1) கணனியின் விலையும் தொகையும் அதிகரிக்கும்.
- 2) கணனிக்கான விலையும் தொகையும் குறைவடையும்.
- 3) கணனியின் விலை குறைவடைய தொகை அதிகரிக்கும்.
- 4) கணனியின் விலை அதிகரிக்க தொகை குறைவடையும்.
- 5) கணனியின் விலையும் தொகையும் மாறாது.

┆ ┆ ┆ ┆ ┆

┆ ┆ ┆ ┆

┆ ┆ ┆

┆ ┆

┆

தேர்ச்சி - 03

சந்தையினுள் உற்பத்தி நிறுவனங்களின் நடத்தை

1. பின்வரும் உற்பத்திக் காரணிகளுள் எது குறுகிய கால ஓட்டத்தில் நிலையானதாக கருதப்படலாம்.
 - 1) தாபனத்தின் இட அமைவு
 - 2) ஊழிய மணித்தியாலங்களின் எண்ணிக்கை
 - 3) நுகரப்படும் மின்சார அலகுகளின் எண்ணிக்கை
 - 4) உபயோகிக்கப்படும் காகிதாதிகளின் அளவு
 - 5) உபயோகிக்கப்படும் மூலப் பொருட்களின் அளவு
2. பொருளியல் வாடகை என்பது
 - 1) நிலத்தை பயன்படுத்துவதன் பொருட்டு மேற்கொள்ளப்படும் ஒரு கொடுப்பனவாகும்.
 - 2) உற்பத்திக் காரணிகளை அவற்றின் தற்போதைய வேலை வாய்ப்பில் தொடர்ந்து வைத்திருக்கும் பொருட்டு செலுத்தப்படவேண்டிய கொடுப்பனவுகளாகும்.
 - 3) அரசாங்க சேவைகளை பயன்படுத்தற் பொருட்டு மத்திய அரசாங்கத்திற்குச் செலுத்தப்பட வேண்டிய ஒரு கொடுப்பனவாகும்.
 - 4) வளங்களின் அமையச் செலவின் பொருட்டு வழங்கப்படும் ஓர் இழப்பீடாகும்.
 - 5) உற்பத்திக் காரணிகளை அவற்றின் தற்போதைய வேலைவாய்ப்பில் வைத்திருக்க அவசியமான கொடுப்பனவை விட மேலதிகமாகச் செலுத்தப்படும் கொடுப்பனவுகளாகும்.
3. நிறைபோட்டி நிறுவனமொன்றின் எல்லை வருவாய் எப்பொழுதும் சமனாக இருப்பது,
 - 1) சராசரி மொத்தச் செலவிற்கு
 - 2) பண்டத்தின் விலைக்கு
 - 3) சராசரி நிலையான செலவிற்கு
 - 4) மொத்த வருவாயிற்கு
 - 5) சராசரி மாறும் செலவிற்கு
4. நிறைபோட்டியில் தனிப்பட்ட ஒரு நிறுவனம் எதிர்நோக்கும் கேள்வி நெகிழ்ச்சியானது
 - 1) பூச்சியமாகவிருக்கும், ஏனெனில் அந்நிறுவனம் தனித்துவம் வாய்ந்த ஒரு பொருளை உற்பத்தி செய்கிறது.
 - 2) பூச்சியமாகவிருக்கும். ஏனெனில், ஓரினத்தன்மை வாய்ந்த பொருட்களை ஏனைய பல நிறுவனங்கள் உற்பத்தி செய்கின்றன.
 - 3) எல்லையற்றதாகவிருக்கும், ஏனெனில் அந்நிறுவனம் தனித்துவம் வாய்ந்த ஒரு பொருளை உற்பத்தி செய்கின்றது.
 - 4) எல்லையற்றதாகவிருக்கும், ஏனெனில், ஓரினத்தன்மைக் கொண்ட பொருட்களை ஏனைய பல நிறுவனங்களுக்கும் உற்பத்தி செய்கின்றன.
 - 5) பூச்சியத்திற்கும் எல்லையற்ற நெகிழ்ச்சிக்கும் இடைப்பட்டதாகவிருக்கும், எனெனில், அத்தொழில் பல நிறுவனங்கள் இருக்கின்றன.
5. நிறுவனமொன்று எவ்வெளியீட்டு மட்டத்தில் எப்பொழுதுமே அசாதாரண இலாபத்தைச் சம்பாதிக்கும்?

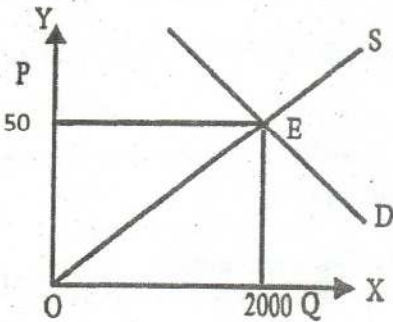
- 1) எல்லை வருமானம் எல்லைச் செலவிற்கு சமமாகவிருக்கும் போது
 - 2) மொத்தச் செலவு மொத்த வருமானத்திலும் கூடுதலாகவிருக்கும் போது
 - 3) சராசரி வருமானம் சராசரிச் செலவிலும் உயர்வாகவிருக்கும் போது
 - 4) சராசரி மாறும் செலவு சராசரி வருமானத்திலும் குறைவாக இருக்கும் போது
 - 5) சராசரிச் செலவு வீழ்ச்சியடையும் போது
6. ஒரு நிறுவனத்தின் நிலையான செலவுகள் இரட்டிக்குமாயின் எல்லைச் செலவு
- 1) இரட்டிக்கும்
 - 2) இருமடங்கிற்கும் மேலாக அதிகரிக்கும்
 - 3) மாறாதிருக்கும்
 - 4) 50 வீதத்தால் அதிகரிக்கும்
 - 5) 100 வீதத்தால் குறையும்
7. சாதாரண இலாபம் என்பது எவ்வகையான வருமான விகிதமாக வரையறுக்கப்படும்?
- 1) நிறுவனம் ஒன்றின் ஒரு சில வருட காலப்பகுதிக்கான வருமான விகிதம்.
 - 2) தொழிலொன்றின் ஒரு சில வருட காலப்பகுதிக்கான வருமான விகிதம்.
 - 3) வளங்களை அவற்றின் இன்றைய உபயோகத்தில் தொடர்ந்தும் வைத்துக் கொள்வதற்குத் தேவைப்படும் வருமான விகிதம்.
 - 4) நிறுவனமொன்றினைச் சமநிலையில் வைத்துக்கொள்வதற்குத் தேவைப்படும் வருமான விகிதம்.
 - 5) எல்லைச் செலவு வருமானத்திற்குச் சமமாகவிருக்கும் புள்ளியில் உற்பத்தி செய்யும் பொழுது உழைக்கப்படும் வருமான விகிதம்.
8. நிறைபோட்டி நிறுவனமொன்று இலாபத்தை உச்சப்படுத்துவது,
- 1) எல்லைச் செலவு விலைக்குச் சமமாகவும், விலை ஆகக் குறைந்த சராசரி மாறும் செலவுக்கு மேலாகவும் இருக்கும் பொழுது.
 - 2) எல்லைச் செலவு விலைக்குச் சமமாகவும், விலை ஆகக் குறைந்த சராசரி நிலையான செலவுக்கு மேலாகவும் இருக்கும் பொழுது.
 - 3) மொத்த வருமானம் உச்சமாகவிருக்கும் போது.
 - 4) சராசரி மாறும் செலவு ஆகக் குறைவாக இருக்கும் பொழுது.
 - 5) சராசரி மொத்த செலவு ஆகக்குறைவாகவிருக்கும் பொழுது.
9. பின்வருவனவற்றுள் எது ஒரு நிறைபோட்டித் தொழிலின் பண்பன்று?
- 1) கீழ் நோக்கிச் சரியும் தொழில் கேள்வி வளையி.
 - 2) தனிப்பட்ட ஒவ்வொரு நிறுவனத்திற்கும் பூரண நெகிழ்ச்சி கொண்ட கேள்வி வளையி.
 - 3) ஒவ்வொரு நிறுவனமும் தனது வெளியீட்டு மட்டத்தை நிர்ணயித்தல்.
 - 4) ஓரளவு வேறுபடுத்தப்பட்ட உற்பத்திப் பொருட்கள்.
 - 5) தொழிலினது மொத்த நிரம்பலில் ஒவ்வொன்றும் ஒரு சிறு விகிதாசாரத்தை நிரம்பல் செய்யும் பல நிறுவனங்கள் இருத்தல்.
10. தனியுரிமைப் போட்டியிலிருக்கும் நிறுவனமொன்று நீண்ட காலத்தில்
- 1) பூரண நெகிழ்ச்சி கொண்ட கேள்வி வளையியை எதிர்நோக்கும்.
 - 2) சராசரி மொத்தச் செலவை (ATC) ஆகக்குறைந்ததாக்கும் அளவிலும் பார்க்க கூடிய தொகையை உற்பத்தி செய்யும்.
 - 3) சராசரி மொத்தச் செலவை ஆகக்குறைந்ததாக்கும் அளவிலும் பார்க்கக் குறைவான தொகையினை உற்பத்தி செய்யும்.

- 4) சராசரி மொத்தச் செலவை ஆகக் குறைந்ததாக்கும் தொகையினை உற்பத்தி செய்யும்.
- 5) சராசரி இலாபத்திலும் பார்க்கக் கூடிய இலாபத்தை உழைக்கும்.
11. நிறைபோட்டியில் நிறுவனம் ஒன்று நெடுங்காலத்தில் சாதாரண இலாபத்தை மட்டுமே உழைக்க முடியுமென நாம் கூறுவது ஏன்?
- 1) நிறுவனம் ஓரினத் தன்மையான பண்டத்தை உற்பத்தி செய்வதால்.
 - 2) தொழிலினுள் பிரவேசிப்பதற்கும், தொழிலை விட்டு வெளியேறுவதற்கும் பூரண சுதந்திரம் காணப்படுவதால்.
 - 3) நிறுவனம் விலையினை ஏற்பவனாக காணப்படுவதால்.
 - 4) தொழிலில் பெருமளவு நிறுவனங்கள் உள்ளதால்.
 - 5) நிறுவனம் விலை தீர்மானிப்போனாக இருப்பதால்.
12. பின்வரும் கூற்றுக்களில் எது நிறைபோட்டிச் சந்தைச் சமநிலையில் சரியாகின்றது.
- 1) உற்பத்தியாளர்கள் சாதாரண இலாபம் மட்டும் பெறமுடியும்.
 - 2) நிரம்பல் கேள்வி நிலைகளில் மாற்றங்கள் ஏற்படுகின்ற போதும் சந்தை விலை நிலையாக இருத்தல்.
 - 3) வருமானத்தில் மாற்றம் ஏற்படுவதாக இருப்பினும் நுகர்வோர் அதே அளவு பொருள்களை கொள்வனவு செய்கின்றார்.
 - 4) வழங்கப்படும் தொகை குறித்த நிரம்பலாளர்களின் தீர்மானங்கள் வாங்கப்படும் தொகை குறித்த நுகர்வோர் தீர்மானங்களுடன் ஒத்துச் செல்கின்றன.
 - 5) எல்லை செலவு எல்லை வருமானத்திற்கு சமனாக இருத்தல்.
13. எத்தகைய சூழ்நிலையில் தனியொரு நிறுவனத்தினால் உற்பத்தி செய்யப்படும் பண்டத்திற்கான கேள்வி நிறைவு நெகிழ்ச்சி உடையதாக இருக்கும்?
- 1) உற்பத்தி தொடர்பாக நிறுவனம் ஒரு தனியுரிமை நிலையினை அனுபவிக்கின்றது.
 - 2) அரசாங்கம் உச்ச விற்பனை விலையினை விதிக்கின்றது.
 - 3) சிறிய உற்பத்தியாளராக இருப்பதனால் நிலவும் சந்தை விலையில் நிறுவனம் உற்பத்தி முழுவதையும் விற்பனை செய்யமுடிகின்றது.
 - 4) நிறுவனம் முத்திரைப் பெயரின் கீழ் பண்டத்தினை விற்பனை செய்தல்.
 - 5) ஓரினத்தன்மை வாய்ந்த பொருட்களைக் கொண்டிருப்பதால்.
14. எல்லைச் செலவு பற்றிய பின்வரும் கூற்றுக்களுக்குள் சரியானது எது?
- 1) எல்லைச் செலவு என்பது இறுதி உற்பத்தி அலகிற்கான செலவாகும்.
 - 2) எல்லைச் செலவு என்பது உற்பத்தியில் மேலும் ஓர் அலகினை உற்பத்தி செய்தலின் விளைவாக முழுச் செலவுடன் கூட்டப்படும் தொகையாகும்.
 - 3) நிறைபோட்டி நிறுவனமொன்றின் எல்லைச் செலவு நிலையாகக் காணப்படும்.
 - 4) எல்லைச் செலவு என்பது தரப்பட்டுள்ள ஒரு பண்டத்தின் அதிகரிக்கும் உற்பத்திக்குரிய அமையச் செலவாகும்.
 - 5) சராசரிச் செலவுக் கோட்டின் சரிவாகும்.
15. நிறைபோட்டி நிறுவனமொன்றிலிருந்து தனியுரிமைப் போட்டி நிறுவனமொன்று எவ்வழியில் வேறுபடுகின்றது?
- 1) நிறுவனம் வேறாக்கம் செய்யப்பட்ட உற்பத்திப் பொருட்களை விற்பனை செய்வதன் மூலம்.
 - 2) நிறுவனத்தின் உற்பத்திற்கான கேள்வி வளையி மேல் நோக்கி சரிந்து செல்வதன் மூலம்.
 - 3) புதிய நிறுவனங்கள் நுழைவதற்கு எவ்வித தடையும் இல்லாதிருப்பதன் மூலம்.

தேர்ச்சி - 03 - M.C.Q

- 4) நிறுவனம் நீண்ட காலத்தில் அசாதாரண இலாபத்தை உழைப்பதன் மூலம்.
 5) போட்டி விளம்பரங்களை மேற்கொள்வதன் மூலம்.
16. நிறைபோட்டிச் சந்தை ஒன்றில் உள்ள நிறுவனமொன்றின் பொருளுக்கான கேள்வி வளையியினது இயல்புகளை இனங்காண்க.
- 1) நிலவும் சந்தை விலையிலிருந்து ஆரம்பிக்கும் கிடையான நேர்க்கோடாக கேள்விக் கோடு அமைகிறது.
 - 2) கேள்வி நெகிழ்ச்சியற்றது.
 - 3) விளம்பரப்படுத்தல் நிறுவனம் அதனுடைய கேள்விக் கோட்டை இடது பக்கமாக நகர்வதற்கு வழிவகுக்கின்றது.
 - 4) கேள்வி அலகு (ஒருமை) நெகிழ்ச்சியுடையது.
 - 5) முற்றாக கேள்வி நெகிழ்வற்றது.
17. ஒரு நிறைபோட்டிச் சந்தையில் காணப்படும் இயல்பினை இனங்காண்க.
- 1) குறுங்காலத்தில் சாதாரண இலாபம் மட்டும் நிறுவனங்கள் பெறுகின்றன.
 - 2) தனிப்பட்ட நிறுவனங்களின் பொருள்களுக்கு ஏற்படும் நுகாவோன் இணைப்பு விளம்பரப்படுத்தலினால் ஏற்படுகின்றது.
 - 3) இச்சந்தையில் புதிய நிறுவனங்கள் சேருவதற்கு தடையில்லை.
 - 4) இச்சந்தையின் நிறுவனங்களின் எண்ணிக்கை ஒரு சில நிறுவனங்களிலிருந்து மிகக்கூடிய எண்ணிக்கையுடைய நிறுவனங்கள் வரையாக உள்ளது.
 - 5) நிறைபோட்டிச் சந்தை விலை ஏற்போனாக இயங்குகின்றது.
18. குறைந்து செல்லும் அளவுத்திட்ட விளைவு விதி தொழிற்பட காரணம் எது?
- 1) அளவுத்திட்டச் சிக்கனங்கள் இருத்தல்.
 - 2) உள்ளீட்டு அதிகரிப்பு வீதாசாரமும் வெளியீட்டு அதிகரிப்பு வீதாசாரமும் சமனாக இருத்தல்.
 - 3) உள்ளீட்டு அதிகரிப்பு வீதத்தைவிட வெளியீட்டு அதிகரிப்பு வீதம் உயர்வாக இருத்தல்.
 - 4) உள்ளீடுகளின் விலைகள் அதிகரித்தல்.
 - 5) வெளியீட்டு அதிகரிப்பினை விட உள்ளீட்டு அதிகரிப்பு குறைவாக இருத்தல்.
19. பின்வருவனவற்றில் சரியான கூற்றினை தெரிவு செய்க?
- 1) சிலருரிமைச் சந்தையில் அதிகளவான விலை போட்டி இடம்பெறும்.
 - 2) நிறைபோட்டி நிறுவனங்கள் விளம்பரம் மேற்கொள்ளவேண்டும்.
 - 3) ஒரு நிறுவனம் சமநிலையில் இருக்கும்போது அதன் எல்லை வருமானமும் எல்லைச் செலவும் சமமாக இருக்கும்.
 - 4) குறுங்கால உற்பத்தியின் போது ஒரு நிறுவனத்தின் சராசரி செலவுக் கோட்டுக்கும் சராசரி மாறும் செலவுக் கோட்டிற்கும் இடையேயான நிலைக்குத்தச்ச ரீதியான தூரம் மொத்த நிலையான செலவு ஆகும்.
 - 5) தனியுரிமைச் சந்தையில் சாதாரண இலாபநிலை எய்தப்படும்.
20. நிறுவனமொன்று எவ்வெளியீட்டு மட்டத்தில் சாதாரண இலாபத்தை உழைக்கும்?
- 1) எல்லை வருமானம் எல்லைச் செலவுக்கு சமமாக இருக்கும் போது
 - 2) மொத்தச் செலவு மொத்த வருமானத்திற்கு சமமாக இருக்கும் போது
 - 3) சராசரி வருமானம் சராசரி மாறும் செலவிற்கு சமமாக இருக்கும் போது
 - 4) எல்லை வருமானம் சராசரிச் செலவிற்கு சமமாக இருக்கும் போது
 - 5) சராசரி வருமானம் எல்லைச் செலவுக்கு சமமாக இருக்கும் போது
21. விளம்பரம் விற்பனை மேம்படுத்தல் அதிக முக்கியம் பெறும் சந்தை அமைப்பு,
- 1) நிறைபோட்டிச்சந்தை
 - 4) சிலருரிமைச் சந்தை

- 2) தனியுரிமைச் சந்தை 5) இருவருரிமைச் சந்தை
 3) தனியுரிமைச் போட்டிச் சந்தை
22. சராசரி நிலையான செலவழக்க கோட்டின் வடிவம் எவ்வாறு காணப்படும்.
 1) ஒடுங்கிய "U" வடிவமாக காணப்படும்.
 2) அகன்ற "U" வடிவமாகக் காணப்படும்.
 3) நீள் சதுர அதிபர வளையியாக காணப்படும்.
 4) மேலிருந்து கீழ்நோக்கிச் செல்லும் நேர்கோடாக காணப்படும்.
 5) கிடையச்சுக்கு சமாந்தரமாக காணப்படும் நேர்கோடு.
23. பின்வரும் கூற்றுக்களில் பிழையான கூற்று எது?
 1) சராசரி செலவுக்கோட்டின் அதிதாழ்ந்த புள்ளியை எல்லைச் செலவுக்கோடு வெட்டிச் செல்லும்.
 2) ஊழிய நிரம்பல் கோடு பின்னோக்கி வளையும் தன்மை உடையது.
 3) தனியுரிமை நிறுவனத்தை விட நிறைபோட்டி நிறுவனம் அதிக செயற்திறனுடன் வளங்களை பிரயோகிக்கும்.
 4) நெகிழ்ச்சி வாய்ந்த கேள்வியுடைய பொருளை உற்பத்தி செய்யும் உற்பத்தியாளன் தனது வருமானத்தை அதிகரிப்பதற்கு பொருளின் விலையை மேலும் உயர்த்த வேண்டும்.
 5) தனியுரிமைச் சந்தையில் எல்லை வருமானத்தை விட சராசரி வருமானம் அதிகமாகக் காணப்படும்.
24. நிறைபோட்டி சந்தையொன்றின் குறிப்பிட்ட பொருளுக்கான சந்தைச் சமநிலையை வரப்படும் காட்டுகிறது.



சந்தையில் 500 நிறுவனங்கள் இருப்பின் ஒரு நிறுவனத்தின் மொத்த வருமானம் யாது?

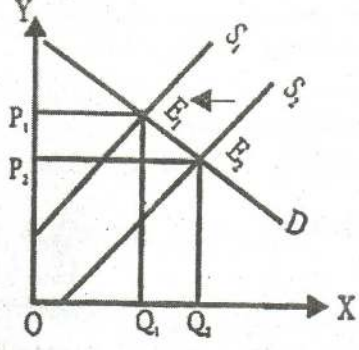
- 1) 10,000 4) 100
 2) 2,500 5) 500
 3) 200

25. பின்வருவனவற்றுள் பிழையான கூற்று எது?
 1) நீண்டகால சராசரிச் செலவுக்கோடு அகன்ற "U" வடிவமாக காணப்படும்.
 2) மொத்த மாறும் செலவில் ஏற்படும் மாற்றத்தின் மூலம் எல்லைச் செலவைக் கணிப்பிடலாம்.
 3) குறுங்கால சராசரி நிலையான செலவையும் (AFC) சராசரி மாறும் செலவையும் (AVC) சேர்ப்பதன் மூலம் சராசரி மொத்தச் செலவை (ATC) மதிப்பிடலாம்.
 4) சராசரிச் செலவுக் கோட்டிற்கும் சராசரி மாறும் செலவுக் கோட்டிற்கும் இடையிலான இடைவெளி தொடர்ச்சியாக குறைவடையும்.
 5) நிறைபோட்டிச் சந்தையின் கேள்விக்கோடு முடிவிலி கேள்வி நெகிழ்ச்சியுடையதாக இருக்கும்.
26. நிறைபோட்டிச் சந்தையிலுள்ள நிறுவனம்,

தேர்ச்சி - 03 - M.C.Q

- | | |
|------------------------|----------------------|
| 1) விலை தீர்மானிப்போன் | 4) விலை தொடர்பாளன் |
| 2) விலை உருவாக்குவோன் | 5) விலையை ஏற்பதில்லை |
| 3) விலை ஏற்போன் | |

27. பின்வரும் கேள்வி நிரம்பல் கோடுகளை அவதானிக்குக.
 நிரம்பல் கோடு S_1 இலிருந்து S_2 ஆக இடது புறம் நகரும் போது.



- 1) சிக்கன வாடகை அதிகரிக்கும். மாற்றுக் கட்டணம் குறைவடையும்.
- 2) சிக்கன வாடகை குறையும் மாற்றுக் கட்டணம் அதிகரிக்கும்.
- 3) சிக்கன வாடகையும் மாற்றுக் கட்டணமும் குறையும்.
- 4) சிக்கன வாடகையும் மாற்றுக் கட்டணமும் குறையும்.
- 5) சிக்கன வாடகை, மாற்றுக் கட்டணம் என்பவற்றில் மாற்றம் ஏற்படாது.

28. குறித்தவொரு நிறுவனம் உற்பத்தியை நிறுத்தும் போது ஏற்கவேண்டிய தவிர்க்க முடியாத செலவு.

- | | |
|------------------------|-------------------------|
| 1) மொத்தச் செலவு | 4) சராசரி நிலையான செலவு |
| 2) மொத்த நிலையான செலவு | 5) மொத்த சராசரிச் செலவு |
| 3) மொத்த மாறும் செலவு | |

29. சராசரிச் செலவுக்கோடு மேல்நோக்கிச் செல்லும்போது எல்லைச் செலவுக்கோடு,

- 1) அதிகரிக்கும்
- 2) குறையும்
- 3) அதி தாழ்ந்த புள்ளியில் இருக்கும்.
- 4) சராசரிச் செலவுக்கோட்டுக்கு மேலாக அமையும்.
- 5) சராசரிச் செலவுக்கோட்டுக்கு கீழாக அமையும்.

30. நிறைபோட்டி நிறுவனம் குறுங்காலத்தில் வெளியீட்டை நிறுத்தும் நிலை பின்வரும் நிலையில் ஏற்படும்.

- 1) மொத்த வருமானம் மொத்த மாறும் செலவிலும் குறைவாக இருக்கும் போது
- 2) மொத்த வருமானம், மொத்த நிலையான செலவைவிட குறைவாக இருக்கையில்.
- 3) சராசரி வருமானம், எல்லைச் செலவிலும் குறைவாக இருக்கையில்.
- 4) எல்லை வருமானம், சராசரிச் செலவிலும் குறைவாக இருக்கையில்.
- 5) சாதாரண இலாபத்திலும் குறைவாக உழைக்கும் போது.

31. சிலநூரிமைச் சந்தையிலுள்ள நிறுவனம் ஒன்று தனது சொந்த உற்பத்திக்கு விலையை குறைப்பதில் எச்சரிக்கையாக இருப்பதன் காரணம்.

- 1) ஏனைய நிறுவனங்கள் தமது விலையை மாற்றாது விட்டால் விலை தீர்மானிக்கலாம்.
- 2) போட்டியாளரின் விலைக் குறைப்பிற்கு இது வழிவகுக்கும்.
- 3) தொழிலில் புதிய நிறுவனம் உள்நுழைவதற்கு இது வழிவகுக்கும்.
- 4) அதன் கேள்விக்கோடு, நிறைநெகிழ்ச்சியற்றது.
- 5) நிறுவனம் எப்போதும், விலையிடலில், மற்றைய நிறுவனங்களுடன் உடன்படுதல்.

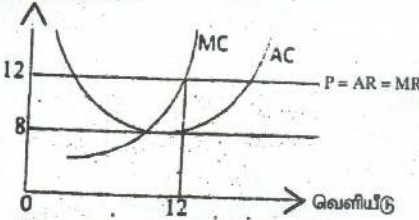
32. ஊழியத்தின் எல்லை உற்பத்தியானது ஊழியத்தின் சராசரி உற்பத்திக்குச் சமனாகும் போது

- 1) ஊழியத்தின் எல்லை உற்பத்தி உச்சத்திலிருக்கும்.
- 2) உற்பத்தியின் எல்லைச் செலவு உச்சத்திலிருக்கும்.
- 3) எல்லைச் செலவானது சராசரி மாறும் செலவின் அதிகுறைந்த மட்டத்திற்குச் சமனாகும்.
- 4) சராசரி மொத்தச் செலவு அதிகுறைந்த மட்டத்திலிருக்கும்.
- 5) ஊழியத்தின் மொத்த உற்பத்தி அதி உச்சத்திலிருக்கும்.

33. உற்பத்தி நிறுவனம் ஒன்று பயன்படுத்துகின்ற மாறும் காரணி என்பது தொடர்பாக ஏற்றுக்கொள்ள முடியாத கூற்று, பின்வருவனவற்றுள் எது?

- 1) உற்பத்தியாளர் ஒருவர் தனது விருப்பத்திற்கு அமைய மாற்றியமைக்கக்கூடிய காரணிகள் இவையாகும்.
- 2) வெளியீட்டு மாற்ற அளவுக்கும் இக்காரணிகள் மாற்ற அளவுக்கும் இடையே நேரான தொடர்பொன்று காணப்படும்.
- 3) உற்பத்தி நிறுவனத்தின் உற்பத்தி செலவினத்துக்கும், இக் காரணிகள் மாற்று அளவிற்கும் இடையே நேரொத்த தொடர்பு காணப்படும்.
- 4) நிறுவனம் ஒன்றின் மொத்த உற்பத்திப் போக்கில் நிலையான காரணியுடன் மாறும் காரணியும் செல்வாக்கு செலுத்தும்.
- 5) வருடம் தோறும் சந்தை பெறுமதியில் தளம்பளடையும் பெறுமானத்தைக் கொண்ட நிறுவனம் ஒன்றின் காணித் துண்டொன்றை இதற்கு உதாரணமாக காட்டலாம்.

34. விலை/செலவு (ரூபா)



மேலுள்ள வரைபடம் நிறை போட்டிச் சந்தையின் நிலைமையை விளக்குகின்றது. இவ் நிறுவனத்தின் ஒரு பண்டத்தின் விற்பனை விலை ரூ. 12.00 ஆயின்,

- 1) நிறுவனம் ரூ.144.00 இலாபமான உழைக்கும்.
- 2) நிறுவனம் ரூ.96.00 வருமானமாக உழைக்கும்.
- 3) நிறுவனம் ரூ.48.00 நட்டம் அடையும்.
- 4) நிறுவனம் ரூ.84.00 செலவாக தாங்கும்.
- 5) நிறுவனம் ரூ.48.00 இலாபமாக உழைக்கும்.

35. உற்பத்திக் காரணிகளின் நிரம்பல் நெகிழ்ச்சி அதிகரித்துச் செல்லும் போது ஏற்படும் விளைவு

- 1) சிக்கன வாடகை அதிகரிக்கும். மாற்றுக்கட்டணம் குறையும்.
- 2) சிக்கன வாடகை குறையும். மாற்றுக்கட்டணம் அதிகரிக்கும்.
- 3) போலி வாடகை அதிகரிக்கும். மொத்த வருமானம் அதிகரிக்கும்.
- 4) பொருளாதார வாடகை அதிகரிக்கும். மொத்த வருமானம் குறையும்.
- 5) மாற்றல் வருமானங்கள் குறையும். மொத்த வருமானம் அதிகரிக்கும்.

36. குறுங்கால உற்பத்தி செலவு வளையிகளின் வடிவம் தொடர்பான பின்வரும் கூற்றுக்களில் சரியானது எது.

- 1) சராசரி மொத்தச் செலவு வளையிக்கும் சராசரி மாறுஞ் செலவு

- வளையிக்கும் இடையிலான நிலைக்குத்துத் தூரம் மொத்த நிலையான செலவாகும்.
- 2) மொத்த செலவு வளையியின் சரிவினால் எல்லைச் செலவு காட்டப்படுகிறது.
 - 3) மொத்த செலவு வளையியின் மீதுள்ள ஏதாவது ஒரு புள்ளிக்கு ஆரம்பப் புள்ளியிலிருந்து வரையப்படும் நேர்க்கோட்டின் சரிவு எல்லைச் செலவினைக் காட்டும்.
 - 4) மொத்த செலவு வளையியின் மீதுள்ள ஏதாவது ஒரு புள்ளிக்கு ஆரம்பப் புள்ளியிலிருந்து வரையப்படும் நேர்க்கோட்டின் சரிவு சராசரி நிலையான செலவினைக் காட்டும்.
 - 5) வெளியீட்டை அதிகரிக்கும்போது சராசரி நிலையான செலவு வளையி கீழ்நோக்கி சரிந்து சென்று பின் மீள மேல் நோக்கிச் சரிந்து செல்லும்.
37. மாறும் காரணி விகித விதி என்பது.
- 1) மாறும் உள்ளீடுகளினது எல்லை உற்பத்தியும் (MP), சராசரி உற்பத்தியும் ஓர் எல்லைக்கு அப்பால் குறைவடையும் என்பதை குறிக்கும்.
 - 2) மாறும் உள்ளீடுகளினது எல்லை உற்பத்தியும் (MP), சராசரி உற்பத்தியும் (AP) மாறாதிருக்கும் என்பதைக் குறிக்கும்.
 - 3) மாறும் உள்ளீடுகளினது எல்லை உற்பத்தியும் (MP), சராசரி உற்பத்தியும் (AP) ஓர் எல்லைக்கு அப்பால் அதிகரிக்கும் என்பதை குறிக்கும்.
 - 4) மாறும் உள்ளீடுகளினது எல்லை உற்பத்தியும் (MP), சராசரி உற்பத்தியும் (AP) ஆரம்பத்தில் குறைந்து ஓர் எல்லைக்கு அப்பால் அதிகரிக்கும் என்பதைக் குறிக்கும்.
 - 5) நிலையான உள்ளீடுகளினது எல்லை உற்பத்தியும் (MP), சராசரி உற்பத்தியும் (AP) ஓர் எல்லைக்கு அப்பால் குறைவடையும் என்பதைக் குறிக்கும்.
38. ஆழ்ந்த செலவு அல்லது தொலைந்த செலவு என்பது
- 1) உற்பத்தியின் போது ஏற்பட்ட செலவு ஒன்றை மீள்பெற முடியாது போனால் அது ஆழ்ந்த கிரயமாகும்.
 - 2) உற்பத்தியின் போது ஏற்படும் ஈடு செய்யமுடியாத இழப்புகள் ஆழ்ந்த செலவாகும்.
 - 3) மூலப்பொருட்கள், தொழிலாளர் தொடர்பான செலவுகள் ஆழ்ந்த செலவாகும்.
 - 4) ஆழ்ந்த செலவு ஒரு மாறும் செலவு ஆகும்.
 - 5) ஆழ்ந்த செலவு பொருளியல் உற்பத்தி செலவு அல்ல.
39. நிறுவனமொன்று தனது ஊழியப்படையை 100 இலிருந்து 101 தொழிலாளர்களாக அதிகரிக்கும் போது அதன் நாளாந்தக் கூலியினை ரூபா.600 இலிருந்து ரூபா.650 ஆக அதிகரிக்க வேண்டியுள்ளது. இந்நிலைமையின் கீழ் ஊழியத்தின் நாளொன்றுக்கான எல்லைச் செலவு
- 1) ரூபா.50 ஆகும்.
 - 2) ரூபா.650 ஆகும்.
 - 3) ரூபா.5650 ஆகும்.
 - 4) ரூபா.60,000 ஆகும்.
 - 5) ரூபா.65,650 ஆகும்.

தேர்ச்சி - 03 - M.C.Q

40. நிறுவனம் X பொருளை உற்பத்தி செய்யும் பொருட்டு நிலையான மூலதன அளவொன்றுடன் மாறும் அளவு ஊழியத்தைப் பயன்படுத்துகிறது. ஊழியத்திற்கு வழங்கப்படும் நாளாந்தக் கூலியின் அளவு உயருமாயின் அது நிறுவனத்தின் செலவுகளை எவ்வாறு பாதிக்கும்?

மொத்த மாறும் செலவு	மொத்த நிலையான செலவு	மொத்த செலவு
1) குறையும்	மாறாது	குறையும்
2) குறையும்	குறையும்	குறையும்
3) அதிகரிக்கும்	குறையும்	மாறாது
4) அதிகரிக்கும்	மாறாது	அதிகரிக்கும்
5) அதிகரிக்கும்	அதிகரிக்கும்	அதிகரிக்கும்

41. நிறைபோட்டிக் கைத்தொழிலில் இயங்கும் நிறுவனமொன்றின் எல்லை வருவாய் பற்றிய பின்வரும் கூற்றுக்களில் சரியானது,

- 1) அது நிலையானது.
- 2) விற்கப்படும் வெளியீடுகளின் எண்ணிக்கை அதிகரிக்க எல்லை வருவாய் உயரும்.
- 3) விற்கப்படும் வெளியீடுகளின் எண்ணிக்கை அதிகரிக்க எல்லை வருவாய் வீழ்ச்சியடையும்.
- 4) முதலில் அது அதிகரிக்கும். பின்னர் வீழ்ச்சியடையும்.
- 5) முதலில் அது வீழ்ச்சியடையும். பின்னர் அதிகரிக்கும்.

42. தனியுரிமைப் போட்டிச் சந்தையானது,

- 1) ஒரு தனி நிறுவனத்தைக் கொண்டுள்ள சந்தை அமைப்பாகும்.
- 2) சிறு எண்ணிக்கையிலான நிறுவனங்களைக் கொண்டுள்ள சந்தை அமைப்பாகும்.
- 3) ஓரினத்தன்மை கொண்ட பொருள்களை உற்பத்தி செய்யும் அதிக எண்ணிக்கையிலான நிறுவனம் காணப்படும் சந்தை அமைப்பாகும்.
- 4) வேறாக்கம் செய்யப்பட்ட பொருள்களை உற்பத்தி செய்யும் அதிக எண்ணிக்கையிலான நிறுவனங்கள் காணப்படும் சந்தை அமைப்பாகும்.
- 5) விளம்பரம் காணப்படாத சந்தை அமைப்பாகும்.

43. “குறைந்து செல்லும் விளைவு விதி” தொழிற்படுவதை பின்வருவனவற்றில் எக்சூற்று சிறப்பாக விபரிக்கின்றது?

- 1) பொருளொன்றின் நுகர்வு அதிகரிக்கும்போது மொத்தத் திருப்தியானது குறைந்துசெல்லும் வீதத்தில் அதிகரிக்கும்.
- 2) ஒரு நிலையான காரணியுடன் மாறும் காரணியினை அதிகளவில் இணைக்கும்போது மொத்த உற்பத்தி குறைந்து செல்லும் வீதத்தில் அதிகரிக்கும்.
- 3) உற்பத்தியில் சகல காரணிகளும் அதிகரிக்கப்படும்போது மொத்த உற்பத்தி குறைந்து செல்லும் வீதம் அதிகரிக்கும்.
- 4) ஒரு நிலையான காரணியுடன் மாறும் காரணியினை அதிகளவில் இணைக்கும்போது உற்பத்தியின் எல்லைச் செலவு வீழ்ச்சியடையும்.
- 5) சகல காரணிகளும் சம வீதாசாரத்தில் அதிகரிக்கப்படும்போது உற்பத்தியின் எல்லைச் செலவு அதிகரிக்கும்.

44. நிறைபோட்டி நிறுவனமொன்று வாராந்தம் 200 பேனைகளை உற்பத்தி செய்து பேனையொன்றை ரூ.25க்கு விற்கின்றது. இவ்வாராந்த 200 பேனை வெளியீட்டின் செலவுகள் பின்வருமாறு:

மொத்த நிலையான செலவு = ரூ. 2,000

மொத்த மாறும் செலவு = ரூ. 4,000

எல்லைச் செலவு = ரூ. 25

குறுங்காலத்தில் நிறுவனம் தனது இலாபத்தை உச்சப்படுத்த அல்லது நட்டங்களை இழிவுபடுத்த யாது செய்யும்?

- 1) விலையினை அதிகரிக்கும்.
 - 2) வெளியீட்டை அதிகரிக்கும்.
 - 3) வெளியீட்டை குறைக்கும்.
 - 4) வெளியீட்டை தற்போதைய மட்டத்தில் பேணிச் செல்லும்
 - 5) உற்பத்தியை முழுமையாக நிறுத்தும்.
45. நிறைபோட்டி நிறுவனமொன்றின் பூரண நெகிழ்வுள்ள கேள்வி வளையி என்பதனாற் கருதப்படுவது யாதெனில்.
- 1) நிலவுகின்ற விலையில் அது எல்லையற்ற தொகையொன்றினை விற்க முடியும் என்பதாகும்.
 - 2) விலையை அதிகரிப்பதன் மூலம் நிறுவனம் மொத்த வருமானத்தை உயர்த்த முடியும் என்பதாகும்.
 - 3) நிறுவனம் வெளியீட்டை விரிவாக்கும்போது அதன் எல்லை வருமானம் வீழ்ச்சியடையும் என்பதாகும்.
 - 4) உற்பத்தி செய்யப்படும் தொகை யாதாக இருப்பினும் மொத்த வருமானம் நிலையானதாக இருக்கும் என்பதாகும்.
 - 5) நிறுவனம் உற்பத்தி செய்யத்தக்க எந்த வெளியீட்டு மட்டங்களாலும் உற்பத்திப் பொருளின் விலையானது பாதிக்கப்படமாட்டாது என்பதாகும்.
46. பின்வரும் சந்தை நிலைமைகளில் எதில் நிறுவனமும் தொழிலும் ஒன்றாக இருக்கும்?
- 1) தனியுரிமை
 - 2) சிலருரிமை
 - 3) நிறைவில் போட்டி
 - 4) நிறைபோட்டி
 - 5) தனியுரிமை போட்டி
47. அளவுத்திட்டச் சிக்கனங்கள்.
- 1) எப்போதுமே அசாதாரண இலாபத்தில் ஓர் அதிகரிப்பிற்கு இட்டுச் செல்லும்.
 - 2) சராசரிச் செலவை அதிகரிக்கும்.
 - 3) பல்தேசியக் கம்பனிகளுக்கு நன்மை பயக்கும்.
 - 4) நீண்டகால சராசரிச் செலவை வீழ்ச்சியடையச் செய்யும்.
 - 5) வெளியீட்டில் வீதாசார அதிகரிப்புக்குச் இட்டுச் செல்லும்.
48. வெளியீடு 20 அலகுகளாகும் போது சராசரி மாறுஞ் செலவு ரூ.15 ஆகும். மொத்தச் செலவு ரூ.500 ஆகும். வெளியீட்டை 40 அலகுகளாக அதிகரிக்கும் போது எல்லைச் செலவு ரூ.10 ஆகும். 40 அலகு வெளியீட்டின் போது சராசரி மாறுஞ் செலவு.
- 1) ரூ. 10.00 ஆகும்.
 - 2) ரூ. 12.50 ஆகும்.
 - 3) ரூ. 15.00 ஆகும்.
 - 4) ரூ. 17.50 ஆகும்.
 - 5) ரூ. 20.00 ஆகும்.
49. காரணிச் சந்தை ஒன்று தொடர்பாக குறிப்பிடப்பட்டுள்ள தகவல்களில் தவறான கூற்றைத் தெரிவு செய்க.

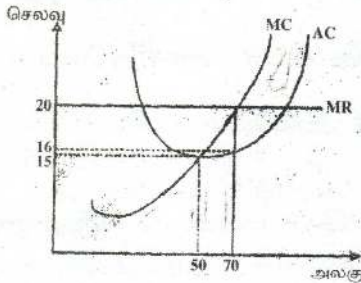
தேர்ச்சி - 03 - M.C.Q

- 1) எல்லை வருமான உற்பத்தியும் எல்லைக் காரணி செலவும் சம்ப்படுகின்ற இடத்தில் உழைப்பு அலகுகளின் எண்ணிக்கை தீர்மானிக்கப்படும்.
- 2) தனிநபரின் ஊழிய நிரம்பல் கூலியின் ஓர் நேர்க்கணிய தொழிற்பாடாகும்.
- 3) மொத்த கேள்வி மற்றும் மொத்த நிரம்பலில் எவ்வித மாற்றமும் ஏற்படாத விடத்து பொருளியல் இலாபம் பூச்சியமாகும்.
- 4) காரணி நிரம்பல் பூரண நெகிழ்வற்றதாகும் போது முழுவதும் மாற்றல் கட்டணமாகும்.
- 5) பெயரளவு வட்டி வீதத்திலிருந்து பணவீக்க வீதத்தை கழித்து மெய்வட்டி வீதத்தைப் பெறலாம்.

50. குறுங்கால உற்பத்தியாளன் உற்பத்தியினை நிறுத்தும் இடத்தைத் தீர்மானிக்கும் போது

- 1) அதிகரித்துச் செல்லும் அளவுத்திட்ட விளைவு விதி முடிவடையும் போது
- 2) மாறா விளைவு தொழிற்பட ஆரம்பிக்கும் போது
- 3) எல்லை விளைவு பூச்சியமாக உள்ளபோது
- 4) சிக்கனங்கள் பேணப்படும் போது
- 5) சிக்கனங்கள் குறைவடையும் போது

51. நிறைபோட்டி நிறுவனம் ஒன்றின் குறுங்காலச் சமநிலை உமக்குத் தரப்படுகின்றது. இலாபத்தின் அளவு



- 1) 280.00 அசாதாரண இலாபம்
- 2) 140.00 அசாதாரண இலாபம்
- 3) 420.00 அசாதாரண இலாபம்
- 4) 100.00 அசாதாரண இலாபம்
- 5) 300.00 அசாதாரண இலாபம்

52. சாதாரண இலாபம் என்பது எவ்வகை வருமான விகிதமாக வரையறுக்கப்படும்.

- 1) நிறுவனமொன்றின் ஒரு சில வருட காலப்பகுதிக்கான வருமான விகிதம்.
- 2) தொழிலொன்றின் ஒரு சில வருட காலப்பகுதிக்கான வருமான விகிதம்.
- 3) வளங்களை அவற்றின் இன்றைய உபயோகத்தில் தொடர்ந்தும் வைத்துக் கொள்வதற்குத் தேவைப்படும் வருமான விகிதம்.
- 4) நிறுவனமொன்றினைச் சமநிலையில் வைத்துக்கொள்வதற்குத் தேவைப்படும் வருமான விகிதம்.
- 5) எல்லைச் செலவு வருமானத்திற்குச் சமமாகவிருக்கும் புள்ளியில் உற்பத்தியையும் பொழுது உழைக்கப்படும் வருமான விகிதம்.

53. நிறுவனம் எந்தப் பொருளையும் உற்பத்தி செய்யாத போது ஏற்பட்ட மொத்தச் செலவு 200 ரூபா ஆகும். இந்நிறுவனம் 5 அலகுகளை உற்பத்தி செய்தபோது ஏற்பட்ட மொத்த செலவு 300 ரூபா ஆகும். 5வது அலகு உற்பத்தி செய்வதற்கான சராசரி மாறும் செலவு யாது?

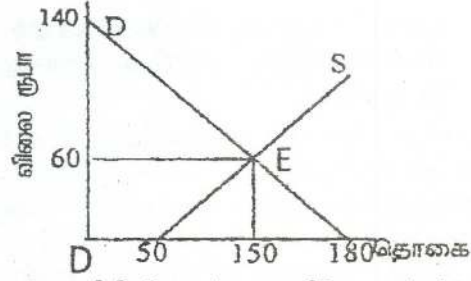
- 1) 75
- 2) 20
- 3) 40
- 4) 50
- 5) 125

54. பின்வரும் வரைபடத்தின்படி மாற்றல் வருமானம், பொருளியல் வாடகை என்பவற்றின் பெறுமதிகளை காட்டும் தொகுதி

- 1) ரூபா. 6000 ரூபா. 3000
- 2) ரூபா. 3000 ரூபா. 6000

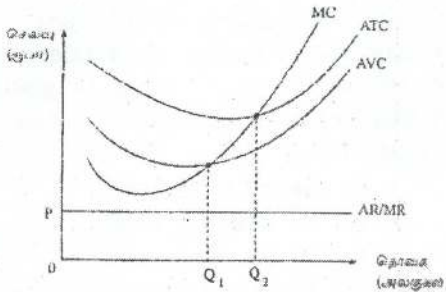
தேர்ச்சி - 03 - M.C.Q

- 3) ரூபா. 6000 ரூபா. 900
- 4) ரூபா. 3000 ரூபா. 900
- 5) ரூபா. 9000 ரூபா. 6000



55. குறைந்து செல்லும் எல்லை விளைவு விதி தொடர்பான கீழே தரப்பட்டுள்ள கூற்றுக்களில் தவறான கூற்று எது?
 - 1) எல்லை உற்பத்தியும் சராசரி உற்பத்தியும் ஆரம்பத்தில் அதிகரித்துச் செல்லும்.
 - 2) எல்லை உற்பத்தி வீழ்ச்சியடையும் போது மொத்த உற்பத்தி கட்டாயமாகவே வீழ்ச்சியடைய வேண்டும்.
 - 3) சராசரி உற்பத்தி வீழ்ச்சியடையும் போது எல்லை உற்பத்தி சராசரி உற்பத்தியிலும் பார்க்க விரைவான விகிதத்தில் வீழ்ச்சியடையும்.
 - 4) மொத்த உற்பத்தி வீழ்ச்சியடையும் போது எல்லை உற்பத்தி மறைப் பெறுமானத்தை பெறும்.
 - 5) சராசரி உற்பத்தி அதிகரிக்கும் போது சராசரி உற்பத்தியைவிட எல்லை உற்பத்தி கூடுதலாக காணப்படும்.
56. நிறைபோட்டிக் கைத்தொழிலில் இயங்கும் நிறுவனமொன்றின் குறுங்கால நிரம்பல் வளையியானது
 - 1) அதன் முழுமையான எல்லைச் செலவு வளையியாகும்.
 - 2) எல்லைச் செலவு வளையியின் மேலுள்ள அதன் சராசரிச் செலவு வளையியாகும்.
 - 3) எல்லைச் செலவு வளையியின் மேலுள்ள அதன் சராசரி மொத்த செலவு வளையியாகும்.
 - 4) அதன் சராசரி மொத்தச் செலவு வளையியின் இழிவுப் புள்ளிக்கு மேலுள்ள எல்லைச் செலவு வளையியாகும்.
 - 5) அதன் சராசரி மாறுஞ் செலவு வளையியின் இழிவுப் புள்ளிக்கு மேலுள்ள எல்லைச் செலவு வளையியாகும்.

57.



மேலுள்ள வரைபடத்தில் உள்ளவாறு கேள்வி, நிரம்பல் வளையிகளை எதிர்நோக்கும் போட்டித் தன்மை வாய்ந்த நிறுவனமொன்று

- 1) உடனடியாக தொழிலை முடிவுறுத்த வேண்டும்.
- 2) எல்லைச் செலவு எல்லை வருவாய்க்கு சமப்படும் உற்பத்தியை மேற்கொள்ள வேண்டும்.
- 3) குறுங்காலத்தில் உற்பத்தி செய்ய வேண்டும். ஆனால் நீண்ட காலத்தில் உற்பத்தி செய்யக் கூடாது.

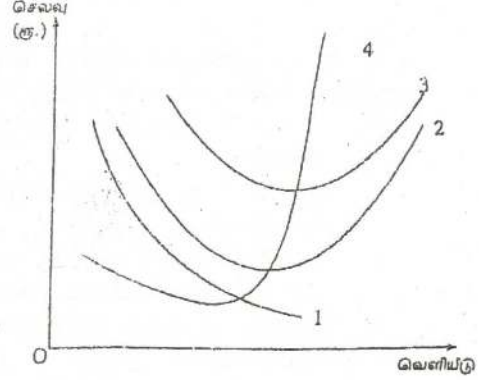
தேர்ச்சி - 03 - M.C.Q

- 4) குறுங்காலத்திலும் நீண்டகாலத்திலும் தொடர்ந்து உற்பத்தி செய்யலாம்.
5) எல்லைச் செலவு சராசரி வருவாய்க்கு சமப்படும் இடத்தில் உற்பத்தி செய்யலாம்.

58. உற்பத்தி நிறுவனமொன்றின் குறுங்கால செலவு வளையிகள் சில வரைபடத்திற்கு காட்டப்பட்டுள்ளன.

வரைபடத்தின்படி பின்வருவனவற்றுள் குறுங்கால செலவு வளையி பற்றிய சரியான கூற்று எது?

- 1) 1 ஆம் வளையி சராசரி நிலையான செலவு (AFC) வளையியாகும்.
- 2) 2 ஆம் வளையி சராசரி மொத்த செலவு (ATC) வளையியாகும்.
- 3) 3 ஆம் வளையி எல்லைச் செலவு (MC) வளையியாகும்.
- 4) 4 ஆம் வளையி சராசரி மாறுஞ் செலவு (AVC) வளையியாகும்.
- 5) 4 ஆம் வளையி சராசரி நிலையாக செலவு (AFC) வளையியாகும்.



59. பின்வரும் அட்டவணையை ஒரு நிறைபோட்டி நிறுவனத்தின் X பொருளின் உற்பத்திற்கான மொத்தச் செலவைக் காட்டுகின்றது. நிறுவனத்தின் நிலையான செலவு 100 ரூபாவாகும். குறுங்காலத்தில் நிறுவனம் தொடர்ந்து தொழில் இருப்பதற்குத் தேவைப்படும் சூறைந்தபட்ச விலை யாது?

X பொருளின் தொகை	மொத்தச் செலவு
1	200
2	280
3	340
4	460
5	600

- 1) 600 ரூபா
- 2) 80 ரூபா
- 3) 100 ரூபா
- 4) 113.33 ரூபா
- 5) 120 ரூபா

60. ஒரு கட்டிட நிறுவனம் 5 வீடுகள் கட்டுவதற்குத் தேவையான ஒரு காணித்துண்டினை 20 இலட்சம் ரூபாவிற்குக் கொள்வனவு செய்கின்றது. இந்நிறுவனம் நான்கு வீடுகளைக் கட்டினால் ஒரு வீட்டிற்கு 15 இலட்சம் ரூபா செலவாகின்றது. மாறாக 5 வீடுகளைக் கட்டினால் ஒரு வீட்டிற்கு 14 இலட்சம் ரூபா செலவாகின்றது. இந்நிறுவனம் 5 வீடுகளைக் கட்டுமாயின் எல்லைச் செலவும் சராசரிச் செலவும் என்னவாயிருக்கும்?

- | எல்லைச் செலவு | சராசரிச் செலவு |
|--------------------|-----------------|
| 1) 10 இலட்சம் ரூபா | 15 இலட்சம் ரூபா |
| 2) 10 இலட்சம் ரூபா | 14 இலட்சம் ரூபா |
| 3) 15 இலட்சம் ரூபா | 19 இலட்சம் ரூபா |
| 4) 10 இலட்சம் ரூபா | 18 இலட்சம் ரூபா |
| 5) 19 இலட்சம் ரூபா | 18 இலட்சம் ரூபா |

61. உற்பத்தி நிறுவனம் ஒன்றினது வெளியீடுகள் தொடர்பான தரவுகள் வருமாறு.

தேர்ச்சி - 03 - M.C.Q

65. நிறைபோட்டி உற்பத்தி நிறுவனமொன்றின் குறுங்கால செலவு தொடர்பான தகவல்கள் கீழுள்ள அட்டவணையில் காட்டப்பட்டுள்ளது.

உற்பத்தி (அலகு)	எல்லைச் செலவு (ரூபா)
1	50
2	30
3	10
4	14
5	26
6	40

இந் நிறுவனத்தின் மொத்த நிலையான செலவு 40 ரூபா ஆகும். எனில் உற்பத்தி 5 அலகுகளில் சராசரி மாறும் செலவு.

- 1) 3.50 2) 11 3) 14 4) 26 5) 36

66. குறுங்கால உற்பத்தித் தொழிற்பாட்டுடன் தொடர்புடைய பின்வரும் கூற்றுக்களில் சரியான கூற்றாக அமைவது எது?

- 1) மாறும் உள்ளீடுகளை அதிகரிப்பதன் மூலம் உற்பத்தியை விரிவாக்க முயலும்போது மொத்த உற்பத்தி நிலையான ஒரு வேகத்தில் அதிகரிக்கும்.
- 2) மாறும் உள்ளீடுகள் அதிகரிக்கும்போது சராசரி உற்பத்தி தொடர்ச்சியாக அதிகரிக்கும்.
- 3) எல்லை உற்பத்தி வளையியின் உச்சப்புள்ளியை ஊடறுத்து சராசரி உற்பத்தி வளையியியானது கீழ்நோக்கிச் செல்லும்.
- 4) சராசரி உற்பத்தி குறைவடைய ஆரம்பித்த சந்தர்ப்பத்திலிருந்து எல்லை உற்பத்தியானது எதிர்க்கணிய பெறுமதியை எடுக்கும்.
- 5) மொத்த உற்பத்தி அதிஉயர் புள்ளியை அடையும் போது தொடர்புடைய மாறும் உள்ளீட்டின் எல்லை உற்பத்தி பூச்சியமாகும்.

67. குறுங்கால உற்பத்தி செலவு வளையிகளின் வடிவம் தொடர்பான பின்வரும் கூற்றுக்களில் சரியானது எது?

- 1) சராசரி மொத்தச் செலவு வளையிக்கும் சராசரி மாறுஞ் செலவு வளையிக்கும் இடையிலான நிலைக்குத்துத் தூரம் மொத்த நிலையான செலவு ஆகும்.
- 2) மொத்த செலவு வளையியின் சரிவினால் எல்லைச் செலவு காட்டப்படுகிறது.
- 3) மொத்தச் செலவு வளையியின் மீதுள்ள ஏதாவது ஒரு புள்ளிக்கு ஆரம்பப் புள்ளியிலிருந்து வரையப்படும் நேர்க்கோட்டின் சரிவு எல்லைச் செலவினைக் காட்டும்.
- 4) மொத்த செலவு வளையியின் மீதுள்ள ஏதாவது ஒரு புள்ளிக்கு ஆரம்பப் புள்ளியிலிருந்து வரையப்படும் நேர்க்கோட்டின் சரிவு சராசரி நிலையான செலவினைக் காட்டும்.
- 5) வெளியீட்டை அதிகரிக்கும் போது சராசரி நிலையான செலவு வளையி கீழ்நோக்கி சரிந்து சென்று பின் மீள் மேல் நோக்கிச் சரிந்து செல்லும்.

68. X பொருளை உற்பத்தி செய்வதற்கான குறுங்கால எல்லைச் செலவு பின்வரும் அட்டவணையில் காட்டப்படும்.

X பொருள் அலகு	1	2	3	4	5	6	7
எல்லைச் செலவு (ரூ)	30	20	16	24	40	56	64

மொத்த நிலையான செலவு ரூ.30 ஆயின், எந்த உற்பத்தி மட்டத்தில் குறுங்கால சராசரி மொத்தச் செலவு வளையி (ATC) அதன் அதிதாழ்ந்த புள்ளியில் இருக்கும்?

- 1) 2 அலகுகள் 3) 4 அலகுகள் 5) 6 அலகுகள்
2) 3 அலகுகள் 4) 5 அலகுகள்

69. பின்வருவனவற்றில் நிறைபோட்டி நிலையுடன் பொருந்தாதது எது?

- 1) அதிக எண்ணிக்கையிலான உற்பத்தியாளரும் நுகர்வோரும் காணப்படுவர்.
2) தனித்தனி நிறுவனங்கள் விளம்பர நடவடிக்கையில் ஈடுபடும்.
3) ஒரேயொரு சந்தைவிலை மாத்திரமே காணப்படும்.
4) ஓரினத்தன்மை வாய்ந்த பொருள் காணப்படும்.
5) ஒவ்வொரு நிறுவனமும் பூரண நெகிழ்வுள்ள கேள்வி வளையியை எதிர்நோக்கும்.

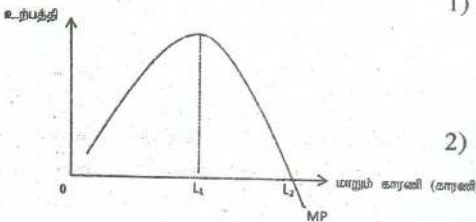
70. நிறைபோட்டி நிறுவனமொன்று சமநிலையில் உள்ளபோது அதன் சராசரி வருவாய்.

- 1) எல்லை வருவாயைவிடக் குறைவாக உள்ளதுடன் அவ்விரண்டும் நேர்க்கணியமாக இருக்கும்.
2) எல்லை வருவாய்க்குச் சமமாக உள்ளதுடன் அவ்விரண்டும் பூச்சியமாக இருக்கும்.
3) எல்லை வருவாய்க்குச் சமமாக உள்ளதுடன் அவ்விரண்டும் நேர்க்கணியமாக இருக்கும்.
4) எல்லை வருவாயைவிட அதிகமாக உள்ளதுடன் எல்லை வருவாய் பூச்சியமாகும்.
5) எல்லை வருவாயைவிட அதிகமாக உள்ளதுடன் எல்லை வருவாய் நேர்க்கணியமாகும்.

71. உற்பத்தி செயற்பாடு ஒன்று தொடர்பாக குறுங்காலம் என்பதை சரியாக வரைவிலக்கணப்படுத்தும் கூற்று.

- 1) ஆகக் குறைந்தது ஒரு மாறும் காரணியாவது காணப்படும் காலம்.
2) ஆகக்குறைந்தது ஒரு நிலையான காரணியாவது காணப்படும் காலம்.
3) எல்லை உற்பத்தியும் சராசரி உற்பத்தியும் குறைந்து செல்லும் காலம்.
4) மொத்த உற்பத்தி குறைந்து செல்லும் வேகத்தில் அதிகரிக்கும் காலம்.
5) ஒரு வருடத்தைவிட குறைந்த காலப் பகுதியாகும்.

72. கீழுள்ள வரிப்படத்தில் காட்டப்படுவது உற்பத்திச் செயற்பாட்டுக்குரிய எல்லை உற்பத்தி தொழிற்படும் விதமாகும். இக்கோட்டின் சரியான கூற்று யாது?



- 1) மாறும் காரணிகளை L1 வரை அதிகரிக்கும்போது எல்லை உற்பத்தியைவிட சராசரி உற்பத்தி உயர்வாக அமையும்.
2) மாறும் காரணிகளை L2 ஐ விட அதிகரிக்கும்போது நிறுவனத்தின் மொத்த உற்பத்தி அதிகரிக்கும்.
3) L2 மாறும் காரணி மட்டத்தின்போது மொத்த உற்பத்தி ஆகக் கூடிய மட்டத்தில் இருக்கும்.

தேர்ச்சி - 03 - M.C.Q

- 4) மாறும் காரணிகளை L1 வரை அதிகரிக்கும்போது குறைந்துசெல்லும் எல்லை விளைவுவிதி செயற்படும்.
- 5) L1 இலிருந்து L2 வரை காரணிகளை அதிகரிக்கும்போது மொத்த உற்பத்தி படிப்படியாகக் குறைவடையும்.

73. நிறுவனமொன்று ஒருவருட காலப்பகுதியில் பின்வரும் செலவுகளை மேற்கொண்டதாக பொருளியலாளர் ஒருவர் கணிப்பிடுகிறார்.

செலவு வகை	செலவு (ஆயிரம் ரூபாவில்)
கூலிகளும் சம்பளங்களும்	150
உரிமையாளரின் நேரத்தின் அமையச் செலவு	40
உற்பத்தி உள்ளீட்டுப் பொருள்கள்	80
வாடகை	30
சந்தைப்படுத்தல் செலவுகள்	20
வங்கிக் கடன்கள் மீதான வட்டி	25
உரிமையாளர் வழங்கிய நிதிக்காக இழந்த வட்டி வருவாய்	15

இத்தகவல்களின் அடிப்படையில் கணக்கியலாளரொருவரால் கணிப்பிடும் மொத்தச் செலவைவிட பொருளியலாளரால் கணிப்பிடப்படும் மொத்தச் செலவு எந்த அளவினால் கூடுதலாக இருக்கும்?

- 1) ரூபா. 30,500
- 2) ரூபா. 55,000
- 3) ரூபா.85,000
- 4) ரூபா.305,000
- 5) ரூபா.360,000

74. A என்னும் நிறுவனம் தனது வேலையாட்களை 250 இலிருந்து 200 ஆகக் குறைக்கின்றது. இதன் விளைவாக அதன் வெளியீடானது நாளொன்றுக்கு 5000 அலகுகளிலிருந்து 4800 அலகுகளாக வீழ்ச்சியடைகிறது. B என்னும் நிறுவனம் தனது வேலையாட்களை 800 இலிருந்து 1000 ஆக அதிகரிக்கின்றது. இதன் விளைவாக நிறுவனத்தின் வெளியீடு நாளொன்றுக்கு 2000 அலகுகளிலிருந்து 2200 அலகுகளாக அதிகரிக்கின்றது. இவ்விரு நிறுவனங்களிலுமுள்ள ஊழியர்களின் ஊழிய உற்பத்தித்திறனில் எத்தகைய மாற்றம் ஏற்படும்?

நிறுவனம் A யின்
உற்பத்தித் திறன்

நிறுவனம் B யின்
உற்பத்தித் திறன்

- 1) குறையும்
- 2) அதிகரிக்கும்
- 3) அதிகரிக்கும்
- 4) குறையும்
- 5) அதிகரிக்கும்

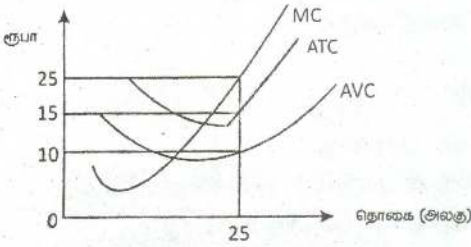
- அதிகரிக்கும்
- குறையும்
- அதிகரிக்கும்
- குறையும்
- மாறாதிருக்கும்

75. ஒரு கைத்தொழில் பெரும் எண்ணிக்கையிலான நிறுவனங்களைக் கொண்டிருப்பதோடு ஒவ்வொரு நிறுவனமும் ஓரினத்தன்மை வாய்ந்த பொருள்களை உற்பத்தி செய்கின்றது. இந்நிலையில் ஒவ்வொரு தனிப்பட்ட நிறுவனமும் கீழ்நோக்கிச் சரிந்து செல்லும் கேள்வி வளையியை எதிர்நோக்குமாயின் அதனை பின்வருவனவற்றில் எது விளக்கக் கூடும்?

- 1) எல்லா நிறுவனங்களும் விலையை ஏற்போராகத் தொழிற்படுகின்றன.
- 2) பிரவேச மற்றும் வெளியேற்ற சுதந்திரம்.
- 3) உற்பத்தி வளங்கள் பூரண அசைவுள்ளன.

- 4) நுகர்வோர் செலவிடுவதற்காகக் கிடைக்கும் பணத்தொகை வரையறைக்குட்பட்டிருத்தல்.
5) நுகர்வோரின் சந்தைப்பற்றிய அறிவு பூரணமற்றிருத்தல்.

76. மேலுள்ள வரைபடமானது 25 அலகு வெளியீட்டை மேற்கொள்ளும் போட்டித்தன்மை வாய்ந்த நிறுவனமொன்றின் செலவு வளையியைக் காட்டுகின்றது. 25 அலகு உற்பத்தியை மேற்கொள்ளும்போதுள்ள மொத்த மாறும் செலவு மொத்த நிலையான செலவுகள் எவை?



TVC

TFC

- | | |
|--------------|-----------|
| 1) ரூபா. 250 | ரூபா. 300 |
| 2) ரூபா. 250 | ரூபா. 125 |
| 3) ரூபா. 375 | ரூபா. 500 |
| 4) ரூபா. 425 | ரூபா. 550 |
| 5) ரூபா. 500 | ரூபா. 625 |

77. உற்பத்திக் காரணியொன்று தனது அமையச் செலவைவிட மேலதிகமாகப் பெற்றுக் கொள்ளும் வருமானம்.

- | | |
|---------------------|------------------|
| 1) பொருளாதார வாடகை | 4) போலி வாடகை |
| 2) மொத்த வருமானம் | 5) சாதாரண இலாபம் |
| 3) மாற்றல் வருமானம் | |

78. உற்பத்தியில் உள்ளாந்த செலவுகள் இருக்குமாயின்,

- 1) கணக்கியல் இலாபம் பொருளியல் இலாபத்தை விட உயர்வாக இருக்கும்.
- 2) பொருளியல் இலாபம் கணக்கியல் இலாபத்தை விட உயர்வாக இருக்கும்.
- 3) பொருளியல் இலாபம் எப்போதும் பூச்சியமாக இருக்கும்.
- 4) கணக்கியல் இலாபம் எப்போதும் பூச்சியமாக இருக்கும்.
- 5) பொருளியல் இலாபமும் கணக்கியல் இலாபமும் சமனாக இருக்கும்.

79. ஒரு நிறுவனத்தினது நிலையான செலவு ரூபா. 500 மில்லியனிலிருந்து ரூபா. 1,000 மில்லியனாக அதிகரிக்கின்றது. இந்நிகழ்வு சராசரி மாறும் செலவு எல்லைச் செலவை எவ்வாறு பாதிக்கும்?

AVC

Mc

- | | |
|-----------------|--------------|
| 1) அதிகரிக்கும் | அதிகரிக்கும் |
| 2) அதிகரிக்கும் | மாறாது |
| 3) மாறாது | அதிகரிக்கும் |
| 4) மாறாது | மாறாது |
| 5) குறையும் | மாறாது |

80. நிறைபோட்டிச் சந்தையின் பண்பாக அமையாதது பின்வருவனவற்றுள் எது?

- 1) ஒரு நிறுவனத்தின் சந்தையின் பங்கு மிக மிகக் குறைவு.
- 2) எல்லா நிறுவனங்களும் பூரண நெகிழ்வுள்ள கேள்வியைக் கொண்டிருக்கும்.
- 3) எல்லைச் செலவு விலைக்குச் சமனாகக் காணப்படும்.
- 4) பிரவேசச் சுதந்திரம் காணப்படுதல்.
- 5) விலை வேறாக்கம் காணப்படும்.

81. குறுங்கால உற்பத்திச் செயற்பாடொன்றில் உற்பத்தி பூச்சியமாகின்றது போது மொத்தச் செலவு 180 ரூபாவாகும். 12 அலகுகளை உற்பத்தி செய்கின்றபோது

தேர்ச்சி - 03 - M.C.Q

மொத்தச் செலவு 720 ரூபாவாகும். எனில் அவ்வெளியீட்டு மட்டத்தின்போது சராசரி மாறும் செலவு.

- 1) ரூபா. 15.00 3) ரூபா. 45.00 5) ரூபா. 75.00
2) ரூபா. 30.00 4) ரூபா. 60.00

82. நீண்டகால உற்பத்திச் செயற்பாடொன்றில் சராசரிச் செலவு குறைவடைவதற்கு காரணமாக அமைவது,
- 1) குறைந்து செல்லும் அளவுத்திட்ட விளைவு விதியாகும்.
 - 2) பேரளவுச் சிக்கனமாகும்.
 - 3) குறைந்து செல்லும் எல்லை விளைவுவிதியாகும்.
 - 4) தொழில்நுட்ப சிக்கனமின்மையாகும்.
 - 5) சந்தைப்படுத்தல் சிக்கனமின்மையாகும்.
83. எல்லைச் செலவு (MC) வளையி வெட்டிச் செல்வது.
- 1) ATC, AVC மற்றும் AFC வளையிகளின் அதிதாழ் புள்ளிகளையாகும்.
 - 2) ATC மற்றும் AFC வளையிகளின் அதிதாழ் புள்ளிகளையாகும்.
 - 3) AVC, மற்றும் AFC வளையிகளின் அதிதாழ் புள்ளிகளையாகும்.
 - 4) ATC மற்றும் AVC வளையிகளின் அதிதாழ் புள்ளிகளையாகும்.
 - 5) TC மற்றும் TFC வளையிகளின் அதிதாழ் புள்ளிகளையாகும்.
84. ஒரு ஊழியரின் சராசரி உற்பத்தி என்பது
- 1) மொத்த உற்பத்திக் கோட்டின் சரிவாகும்.
 - 2) எல்லை உற்பத்திக் கோட்டின் சரிவாகும்.
 - 3) மொத்த உற்பத்தியிலான அதிகரிப்பை வேலை செய்யும் ஊழியரின் அதிகரிப்பினால் பிரித்து பெறப்படுவதாகும்.
 - 4) மொத்த உற்பத்தியை வேலை செய்யும் ஊழியரின் எண்ணிக்கையால் பிரித்து பெறப்படுவதாகும்.
 - 5) மேலுள்ள எதுவுமல்ல.
85. பின்வருவனவற்றில் ஒரு மறைமுகச் செலவு (implicit cost) அல்லாதது எது?
- 1) பொருளாதாரத் தேய்வு
 - 2) இழந்த வட்டி
 - 3) உட்கிடையான வாடகை
 - 4) மூழ்கிய செலவு
 - 5) சாதாரண இலாபம்
86. பொருளியல் இலாபம் பூச்சியமாக உள்ளபோது.
- 1) குறுங்காலத்தில் அப்பண்டம் உற்பத்தி செய்யப்படமாட்டாது.
 - 2) நீண்டகாலத்தில் அப்பண்டம் உற்பத்தி செய்யப்படமாட்டாது.
 - 3) நிறுவனங்கள் தொழிலைவிட்டு நீங்கும்.
 - 4) வருமானங்கள் வெளிப்படையான செலவை ஈடுசெய்யப் போதுமானதாக இல்லை.
 - 5) மேற்காட்டிய எவையும் நிகழமாட்டாது.
87. எல்லைச் செலவானது
- 1) மேலதிகமாக ஒரு ஊழியரை வேலைக்கு அமர்த்துவதால் மொத்தச் செலவில் ஏற்படும் ஓர் அதிகரிப்பு ஆகும்.
 - 2) மேலதிகமாக ஒரு ஊழியரை வேலைக்கு அமர்த்துவதால் நிலையான செலவில் ஏற்படும் அதிகரிப்பு ஆகும்.

தேர்ச்சி - 03 - M.C.Q

- 3) மேலதிகமாக ஒரு ஊழியரை வேலைக்கு அமர்த்துவதால் மாறும் செலவில் ஏற்படும் அதிகரிப்பு ஆகும்.
 - 4) மேலதிகமாக ஒரு அலகு வெளியீட்டை உற்பத்தி செய்யும்போது மொத்த செலவில் ஏற்படும் அதிகரிப்பு ஆகும்.
 - 5) மேலதிகமாக ஒரு அலகு வெளியீட்டை உற்பத்தி செய்யும்போது நிலையான செலவில் ஏற்படும் அதிகரிப்பு ஆகும்.
88. ஒரு நிறுவனம் தனது சராசரிச் செலவு வளையியின் அதிதாழ்ந்த புள்ளியில் உற்பத்தினை மேற்கொள்ளும்போது அது அடைந்து கொண்டது.
- 1) ஒதுக்கீட்டுச் செயற்திறன்
 - 2) சாதாரண இலாபம்
 - 3) சமநிலை செயற்திறன்
 - 4) தொழில்நுட்பச் செயற்திறன்
 - 5) பொருளாதாரச் செயற்திறன்
89. பின்வரும் அட்டவணை ஒரு நிறுவனத்தின் குறுங்கால மற்றும் நீண்டகால செலவுகளைக் காட்டுகின்றது.

வெளியீடு	1	2	3	4	5
குறுங்கால மொத்த செலவு	10	18	24	28	30
நீண்டகால மொத்தச் செலவு	10	22	36	52	70

இத்தகவல்களிலிருந்து குறுங்காலத்திலும் நீண்டகாலத்திலும் உற்பத்தியின் பண்புகள் பற்றி பொருந்தக்கூடிய நிபந்தனைகள் எவை?

குறுங்காலம்

- 1) அதிகரிக்கும் சராசரிச் செலவுகள்
- 2) அதிகரிக்கும் சராசரிச் செலவுகள்
- 3) குறையும் சராசரிச் செலவுகள்
- 4) குறையும் சராசரிச் செலவுகள்
- 5) மாறாச் சராசரிச் செலவுகள்

நீண்டகாலம்

- அளவுத்திட்ட சிக்கனங்கள்
அளவுத்திட்ட சிக்கனமின்மைகள்
அளவுத்திட்ட சிக்கனமின்மைகள்
அளவுத்திட்ட சிக்கனங்கள்
அளவுத்திட்ட சிக்கனமின்மைகள்

90. தனியுரிமைப் போட்டியிலிருக்கும் நிறுவனமொன்று நீண்டகாலத்தில்
- 1) பூரண நெகிழ்ச்சி கொண்ட கேள்வி வளையியை எதிர்நோக்கும்.
 - 2) சராசரி மொத்தச் செலவு ஆகக் குறைந்ததாக்கும் அளவிலும் பார்க்கக் கூடிய தொகையை உற்பத்தி செய்யும்.
 - 3) சராசரி மொத்தச் செலவை ஆகக் குறைந்த தாக்கும் அளவிலும் பார்க்கக் குறைவான தொகையை உற்பத்தி செய்யும்.
 - 4) சராசரி மொத்தச் செலவை ஆகக் குறைந்ததாக்கும் தொகையினை உற்பத்தி செய்யும்.
 - 5) சராசரி இலாபத்திலும் பார்க்கக் கூடிய இலாபத்தை உழைக்கும்.
91. பிரவேசத் தடைகள் (Barriers to entry) காணப்படுவது.
- 1) தனியுரிமைச் சந்தையிலாகும்.
 - 2) தனியுரிமை போட்டிச் சந்தையிலாகும்.
 - 3) சிலருரிமைச் சந்தைகளிலாகும்.
 - 4) சிலருரிமை மற்றும் தனியுரிமைச் சந்தைகளிலாகும்.
 - 5) தனியுரிமை மற்றும் தனியுரிமை போட்டிச் சந்தைகளிலாகும்.
92. நிறைபோட்டியில் நிறுவனமொன்று நெடுங்காலத்தில் சாதாரண இலாபத்தை மட்டுமே உழைக்க முடியுமென நாம் கூறுவது ஏன்?
- 1) நிறுவுனம் ஓரினத்தன்மையான பண்டத்தை உற்பத்தி செய்வதால்.

தேர்ச்சி - 03 - M.C.Q

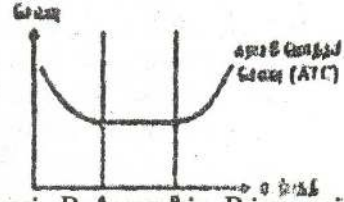
- 2) தொழிலினுள் பிரவேசிப்பதற்கும் தொழிலை விட்டு வெளியேறுவதற்கும் ப்ரண சுதந்திரம் காணப்படுவதனால்.
 - 3) நிறுவனம் விலையினை ஏற்பவனாக காணப்படுவதால்.
 - 4) தொழிலில் பெருமளவு நிறுவுனங்கள் உள்ளதால்.
 - 5) மேற்கூறிய எவையுமன்று.
93. பின்வரும் தகவல்கள் நிறைபோட்டி நிறுவனமொன்றின் குறுங்கால மொத்த மாறும் செலவு அட்டவணையொன்றுக்குரியன ஆகும்.

வெளியீடு	மொத்த மாறும் செலவு (ரூ)
1	5
2	20
3	40
4	70
5	110
6	160
7	220

5ஆவது அலகு வெளியீட்டின் எல்லைச் செலவு.

- 1) ரூபா. 30 ஆகும்.
- 2) ரூபா. 40 ஆகும்.
- 3) ரூபா. 55 ஆகும்.
- 4) ரூபா. 90 ஆகும்.
- 5) ரூபா. 110 ஆகும்.

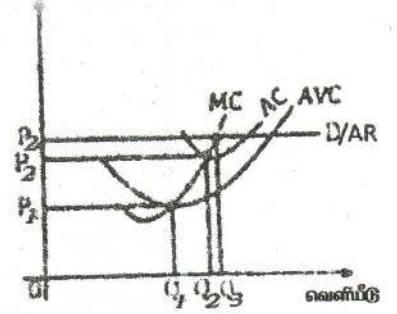
94. நிறுவனம் ஒன்று உழைப்பு, மூலதனம், மூலப்பொருள் போன்ற சகல உற்பத்திக் காரணிகளையும் அதிக அளவில் சேர்க்கும்போது அந்நிறுவனச் சராசரி மொத்தச் செலவு மாற்றமடையாத வரையு காட்டுகின்றது.



வெளியீட்டு மட்டம் முறையே A வரையும், A முதல் B வரையும், Bக்கு அப்பால் அதிகரிக்கும் போது சராசரி செலவின் போக்கு மாற்றமடையக் காரணமாக அமைவது.

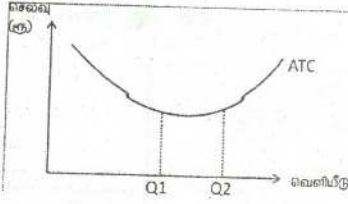
A வரையும்	A முதல் B வரையும்	Bக்கு அப்பால்
1. பேரளவு அளவுத்திட்ட சிக்கனம்	மாறாச் சிக்கனம்; செலவுகளின் நிலையான தன்மை	பேரளவு அளவுத்திட்டச் சிக்கனம் இன்மை
2. பேரளவு அளவுத்திட்ட சிக்கனமின்மை	செலவுகளின் நிலையான தன்மை	பேரளவு அளவுத்திட்டச் சிக்கனம்
3. பேரளவு அளவுத்திட்ட சிக்கனம்	பேரளவு அளவுத்திட்டச் சிக்கனமின்மை	செலவுகளின் நிலையான தன்மை
4. செலவுகளின் நிலையான தன்மை	பேரளவு அளவுத்திட்டச் சிக்கனம்	பேரளவு அளவுத்திட்டச் சிக்கனமின்மை
5. பேரளவு செலவுகளின் நிலையான தன்மை	அளவுத்திட்ட சிக்கனமின்மை	பேரளவு அளவுத்திட்டச் சிக்கனம்

விலை/வருமானம்/செலவு



95. பின்வரும் வரைபு நிறைபோட்டி நிறுவனமொன்றின் உற்பத்தி தொடர்பானது. இதனடிப்படையில் சரியான விடையைத் தெரி்க.
- 1) நிறுவனம் பொருளியல் இலாபத்தை அனுபவிக்கின்றது.
 - 2) நிறுவனம் பொருளியல் நட்டத்தை அனுபவிக்கின்றது.
 - 3) நிறுவனம் பூச்சிய பொருளியல் இலாபத்தை அனுபவிக்கின்றது.
 - 4) நிறுவனம் தொழிலை விட்டு வெளியேற வேண்டும்.
 - 5) மொத்த வருவாயைவிட மொத்தச் செலவு உயர்வாக உள்ளது.
96. தவறான கூற்றாக உம்மால் கருதப்படும் கூற்றைத் தெரிவு செய்க.
- 1) சராசரிச் செலவுகளில் எப்பொழுதும் ஓரளவு சாதாரண இலாபம் அடங்கியிருக்கும்.
 - 2) நிறைபோட்டி நிறுவனம் குறுங்காலத்திலும் நீண்ட காலத்திலும் நேர்க்கணிய இலாபத்தையே உழைக்கும்.
 - 3) தனியுரிமைப் போட்டி நிறுவனங்கள் நீண்ட காலத்தில் பூச்சிய சிக்கன இலாபத்தையே உழைக்கும்.
 - 4) நிறைபோட்டி நிறுவனங்கள் விலையினை ஏற்போனாக எப்பொழுதும் காணப்படும்.
 - 5) நிறைபோட்டி நிறுவனங்கள் தமது வெளியீட்டு மட்டத்தைத் தாமாக நிர்ணயிக்க முடியும்.
97. நீங்கள் உடன்படாத கூற்றைத் தெரிவு செய்க.
- 1) நீண்ட கால சராசரி செலவுக் கோட்பாட்டின் வடிவத்தைத் தீர்மானிப்பது அளவுத்திட்ட விளைவு விதியாகும்.
 - 2) சராசரி நிலையான கோடானது செவ்வக அதிபர வளைகோடாகக் காணப்படும்.
 - 3) எல்லைச் செலவுக் கோட்டின் அதிகுறைந்த புள்ளியை வெட்டிச் செல்வதாக சராசரி செலவுக் கோடு காணப்படும்.
 - 4) குறுங்கால சராசரிச் செலவுக் கோடுகளை நீண்டகால சராசரிச் செலவுக் கோடானது ஒரு பொழுதும் வெட்டிச் செல்லாது தொட்டுச் செல்லும்.
 - 5) நிறுவனச் சமநிலையின் போது எல்லை வருமானமும் எல்லைச் செலவும் சமனாகக் காணப்படுதல் வேண்டும்.
98. வெளியீடானது 20 இலிருந்து 30 அலகுகளாக அதிகரித்த போது மொத்தச் செலவானது ரூபா. 500யிலிருந்து 600 ஆக அதிகரித்தது. நிலையான செலவு ரூ. 200 ஆகும். பின்வருவனவற்றில் சரியானது.
- 1) எல்லைச் செலவு ரூ. 20
 - 2) சராசரிச் செலவு உயரும்.
 - 3) மாறும் செலவு ரூபா. 200ஆல் உயரும்.
 - 4) சராசரி நிலையான செலவு ரூபா. 20
 - 5) சராசரி செலவு வீழ்ச்சியடையும்.
99. வரைபடமானது நிறுவனமொன்று மூலதனம் மற்றும் ஊழியம் என்பவற்றை உள்ளடக்கிய சகல உற்பத்திக் காரணிகளையும் அதிகளவு வேலைக்கு

தேர்ச்சி - 03 - M.C.Q



அமர்த்தும் போது அதன் சராசரி மொத்தச் செலவு எவ்வாறு மாற்றம் அடையும் என்பதைக் காட்டுகின்றது.

நிறுவனம் தனது வெளியீட்டை $Q_1 - Q_2$ வாக அதிகரிக்கும்பொழுது இவ்வரைபடம்

- 1) தனியுரிமைச் சக்தியின் நன்மைகளைக் காட்டுகின்றது.
- 2) அதிகரித்த சிறப்புத் தேர்ச்சியின் நன்மையைக் காட்டுகின்றது.
- 3) அளவுத்திட்ட சிக்கனமின்மையை காட்டுகின்றது.
- 4) அதிகரிக்கும் அளவுத்திட்ட சிக்கனத்தைக் காட்டுகின்றது.
- 5) அதிகரிக்கும் உற்பத்தி விளைத்திறனைக் காட்டுகின்றது.

100. எல்லைச் செலவை விட சராசரிச் செலவு குறைவாகக் காணப்படும் பொழுது நிறுவனம் வெளியீட்டை அதிகரிக்குமாயின்

- 1) எல்லைச் செலவு வீழ்ச்சியடையும்.
- 2) எல்லை வருமானம் எல்லைச் செலவைவிட குறைவாகக் காணப்படும்.
- 3) நிறுவனம் அசாதாரண இலாபத்தை உழைக்கும்.
- 4) நிறுவனம் தொழிலைவிட்டு வெளியேறும்.
- 5) சராசரிச் செலவு அதிகரிக்கும்.

101. குறைந்து செல்லும் எல்லை விளைவு என்பதன் மூலம் நீர் கருதுவது யாது?

- 1) மாறும் காரணியும் நிலையான காரணியும் அதிகரிக்கும் போது குறித்த மட்டத்தின் பின் எல்லை, சராசரி வெளியீடு குறைவடையும்.
- 2) நீண்ட காலத்தின் உற்பத்தி அதிகரிக்கும் போது வெளியீட்டின் தொடர்பு குறைவடையும்.
- 3) குறித்த மட்டத்தில் நிலையான காரணிகள் மாறும் காரணிகள் அதிகரிப்பதால் மொத்த வெளியீடு குறைவடையும்.
- 4) குறித்த மட்டத்தில் நிலையான மாறும் காரணிகள் அதிகரிக்கும் போது எல்லை வெளியீடு குறைவடையும்.
- 5) நிலையான மாறும் காரணிகளின் மாற்றத்தால் குறித்த நிலையான மட்டத்தில் உற்பத்தியின் எல்லை வெளியீடு குறைவடையும்.

102. உற்பத்தி நிறுவனம் பற்றிய தகவல்கள் பின்வருமாறு.

வெளியீடு (Q)	மொத்த செலவு (TC)	எல்லைச் செலவு (MC)
1	25	20
2	40	15

2வது அலகில் சந்தையின் நிலையான செலவு (TFC) சராசரிச் செலவு (AC) . முறையே

	TFC	AC
1	10	10
2	5	10
3	25	15
4	10	5
5	5	20

103. காரணிச் சந்தை தொடர்பான பொருத்தமான கூற்றைத் தெரிவு செய்க.

- 1) ஒன்றிற்கு சமமான நிரம்பல் நெகிழ்ச்சி நிலையில் மொத்த உழைப்பிற்குள் மாற்றல் உழைப்பு உள்ளடக்கப்பட்டுள்ளது.

- 2) நிரம்பல் நெகிழ்ச்சியுள்ள நிலையில் மாற்றல் உழைப்பு அதிகரிக்கும் போது படிப்படியாக பொருளியல் வாடகை குறைவடையும்.
- 3) பூச்சிய நிரம்பல் நெகிழ்ச்சி மொத்த உழைப்பிற்குள் மாற்றல் உழைப்பு உள்ளடக்கப்பட்டிருக்கும்.
- 4) பூரண நிரம்பல் நெகிழ்ச்சி நிலையில் மொத்த உழைப்பிற்குள் மாற்றல் உழைப்பு உள்ளடக்கப்பட்டிருக்கும்.
- 5) ஒன்றிற்கு குறைவான நிரம்பல் நெகிழ்ச்சி நிலையில் பொருளியல் வாடகைப் பெறுமானம் அதிகரிக்கின்றது.

104. குறுங்கால சராசரி மாறுஞ் செலவு (AVC) வளைகோடானது "U" வடிவம் கொண்டதாக அமைவதற்கான முக்கிய காரணம்.

- 1) சராசரி நிலையான செலவு ஆரம்பத்தில் விழ்ச்சியடைந்து பின்னர் அதிகரிக்கச் செல்வதாகும்.
- 2) எல்லை உற்பத்தி வளைகோடானது ஆரம்ப மூலத்தினை நோக்கிக் குவிந்திருப்பதாகும்.
- 3) அது குறைந்து செல்லும் எல்லை விளைவு விதியினால் நிர்ணயிக்கப்படுவது.
- 4) சிக்கனங்கள் சிக்கனமின்மைகள் ஆகிய இரண்டின் காரணமாகவும் அளவுத்திட்ட விளைவுகளையும் கொண்டிருப்பதனால் ஆகும்.
- 5) மேந்தரப்பட்ட யாவும் தவறானவை.

105. உற்பத்திக் காரணிகளின் நிரம்பல் நெகிழ்ச்சி அதிகரித்துச் செல்லும்போது ஏற்படும் விளைவு

- 1) சிக்கன வாடகை அதிகும். மாற்றுக் கட்டணம் குறையும்.
- 2) சிக்கன வாடகை குறையும் மாற்றுக்கட்டணம் அதிகரிக்கும்.
- 3) போலி வாடகை அதிகரிக்கும் மொத்த வருமானம் அதிகரிக்கும்.
- 4) பொருளாதார வாடகை அதிகரிக்கும். மொத்த வருமானம் குறையும்.
- 5) மாற்றல் வருமானங்கள் குறையும். மொத்த வருமானம் அதிகரிக்கும்.

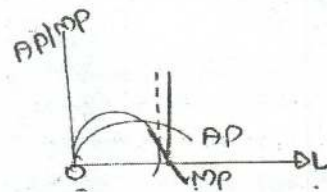
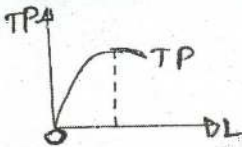
106. எல்லைச் செலவை விட எல்லை வருமானம் உயர்வாகக் காணப்படும் பொழுது நிறைபோட்டி நிறுவனமானது.

- 1) உற்பத்தியை அதிகரிக்க வேண்டும்.
- 2) உற்பத்தியை மாறாமல் அதே இடத்தில் பேண வேண்டும்.
- 3) உற்பத்தியைக் குறைக்க வேண்டும்.
- 4) தனியுரிமைப் போட்டியாக மாற வேண்டும்.
- 5) சந்தையை விட்டு விலக வேண்டும்.

107. நிறைபோட்டிச் சந்தையொன்றின் பண்பாக அமையாதது பின்வருவனவற்றில் எது?

- 1) கீழ் நோக்கிய சரிவுடைய சந்தைக் கேள்வி வளையி காணப்படல்.
- 2) எல்லா நிறுவனங்களும் பூரண நெகிழ்வுள்ள கேள்வி வளையியொன்றை எதிர்நோக்கல்.
- 3) எல்லா நிறுவனங்களும் எல்லை வருவாய் விலைக்கு சமப்படல்.
- 4) நீண்டகாலத்தில் பொருளியல் இலாபம் காணப்படல்.
- 5) நிறுவனம் விலை ஏற்போனாக இருத்தல்.

108. குறுங்கால உற்பத்தி நடத்தையினை விளக்கும் வரைபடத்திலிருந்து பெறப்பட்ட பின்வரும் தகவல்களில் தவறானது.



தேர்ச்சி - 03 - M.C.Q

- 1) மொத்த உற்பத்தி உச்ச நிலையிலுள்ள போது எல்லை உற்பத்தி பூச்சியமாகும்.
 - 2) எல்லை உற்பத்தியும் சராசரி உற்பத்தியும் சமமாகவுள்ளது சராசரி உற்பத்தி அதன் உச்ச நிலையிலிருக்கும்.
 - 3) எல்லை உற்பத்தியை விட சராசரி உற்பத்தி உயர்வாக உள்ள போது சராசரி உற்பத்தி வீழ்ச்சிப் போக்கினைக் காட்டும்.
 - 4) எல்லை உற்பத்தியை விட சராசரி உற்பத்தி குறைவாக உள்ளபோது சராசரி உற்பத்தி அதிகரிக்கும் தன்மையைக் கொண்டிருக்கும்.
 - 5) எல்லை உற்பத்தியையும் சராசரி உற்பத்தியையும் சமனாக உள்ளபோது எல்லை உற்பத்தி அதன் உச்ச நிலையில் காணப்படும்.
109. நிறுவனமொன்று பூச்சிய பொருளியல் இலாபத்தை உழைக்குமாயின்
- 1) அதன் வருவாய்கள் வெளிப்படையான செலவுகளை செலுத்தப் போதுமானதாகும். ஆனால் உட்கிடையான செலவுகளைச் செலுத்தப் போதுமானதன்று.
 - 2) நிறுவன உரிமையாளர் தனக்கு ஒரு சம்பளத்தைப் பெற முடியாதிருக்கும்.
 - 3) நீண்ட காலத்தில் தொழில் முடிவுறுத்தப்படும். ஆனால் குறுங்காலத்தில் தொடர்ந்து இயங்கும்.
 - 4) நிறுவன உரிமையாளர் தான் செலவிட்ட மற்றும் முதலீட்டின் பொருட்டு ஒரு கொடுப்பனவைப் பெற்றுக் கொள்ளும்.
 - 5) குறித்த நிறுவனம் இலாபத்தை உச்சப்படுத்தும் வெளியீட்டுத் தீர்மானத்தை மேற்கொள்ளவில்லை.
110. இலங்கையில் காணப்படும் பின்வரும் கைத்தொழில்களை வகைப்படுத்தக்கூடிய சந்தை அமைப்புக்களை சரியாகக் காட்டுவது எது?

குளிர்பானச் சந்தை	புகையிரதச் சேவை	சிகையலங்காரச் சேவை
1) தனியுரிமைப்போட்டி	சிலருரிமை	நிறைபோட்டி
2) சிலருரிமை	தனியுரிமை	தனியுரிமைப்போட்டி
3) சிலருரிமை	தனியுரிமை	நிறைபோட்டி
4) சிலருரிமை	தனியுரிமைப்போட்டி	நிறைபோட்டி
5) தனியுரிமைப்போட்டி	தனியுரிமை	சிலருரிமை

111. 4 அலகுகள் வெளியீட்டிற்கான மொத்தச் செலவு 20 ரூபா மற்றும் 6 அலகுகள் வெளியீட்டிற்கான மொத்தச் செலவு 36 ரூபா. வெளியீட்டின் 4 மற்றும் 6 அலகுகளுக்கான எல்லைச் செலவு.
- 1) சராசரி மொத்தச் செலவைவிட குறைவானதாக இருக்கும்.
 - 2) சராசரி மொத்தச் செலவிற்கு சமமானதாக இருக்கும்.
 - 3) சராசரி மாறும் செலவிற்கு சமமானதாக இருக்கும்.
 - 4) சராசரி மொத்தச் செலவைவிட பெரிதாக இருக்கும்.
 - 5) மேலதிக தகவல்கள் இல்லாமல் எத்தகைய ஒப்பீட்டையும் செய்ய முடியாது.
112. TC மற்றும் TVC வளையிகளுக்கிடையிலான நிலைக்குத்தான தூரம்
- 1) வெளியீடு அதிகரிக்கும் போது குறையும்.
 - 2) வெளியீடு அதிகரிக்கும் போது அதிகரிக்கும்.
 - 3) AFCக்கு சமமாக இருக்கும்.
 - 4) TFCக்கு சமமாக இருக்கும்.

- 5) MCக்கு சமமாக இருக்கும்.
113. X பொருளை உற்பத்தி செய்வதற்கான குறுங்கால எல்லைச் செலவு பின்வரும் அட்டவணையில் காட்டப்பட்டுள்ளது.

X பொருள் (அலகு)	1	2	3	4	5	6	7
எல்லைச் செலவு (ரூ)	30	20	16	24	40	56	64

மொத்த நிலையான செலவு ரூ.30ஆயின், எந்த உற்பத்தி மட்டத்திற்கு குறுங்கால சராசரி மொத்தச் செலவு வளையி (ATC) அதன் அதி தாழ்ந்த புள்ளியில் இருக்கும்?

- 1) 2 அலகுகள் 3) 4 அலகுகள் 5) 6 அலகுகள்
2) 3 அலகுகள் 4) 5 அலகுகள்
114. எல்லைச் செலவு அதிதாழ்வாக இருக்கும்போது,
1) எல்லை உற்பத்தி அதி உச்சமானதாக இருக்கும்.
2) சராசரி உற்பத்தி அதி குறைவானதாக இருக்கும்.
3) சராசரி உற்பத்தி அதி உச்சமானதாக இருக்கும்.
4) எல்லை உற்பத்தி அதி குறைவானதாக இருக்கும்.
5) எல்லை செலவு அதி குறைவாக இருக்கும்.
115. நீங்கள் உடன்படாத கூற்று
1) குறுங்காலத்திலும் நீண்ட காலத்திலும் நிலையான செலவுகள் உள்ளன.
2) அளவுத்திட்டபடி வருவாய்கள் குறுங்காலத்தில் ஏற்படுகின்றன.
3) குறைந்து செல்லும் எல்லை விளைத்திறன் நீண்டகாலத்தில் ஏற்படுகின்றன.
4) புதிய தொழில்நுட்பம் பயன்படுத்தப்படுவதனால் நிறுவனமொன்றின் உற்பத்தி செலவு குறுங்காலத்தில் வீழ்ச்சியடைகின்றது.
5) மேற்கூறியவை யாவும்.
116. சந்தை அமைப்புக்களை வகைப்படுத்தும் அடிப்படையான அம்சங்களுள் அடங்காதது எது?
1) நிறுவனங்களின் உற்பத்தியாளரின் எண்ணிக்கை.
2) நுகர்வோரின் எண்ணிக்கை.
3) உற்பத்திகளின் தன்மை.
4) பிரவேசிக்க அல்லது விலகவுள்ள சுதந்திரம் அல்லது தடைகள்.
5) நிறுவனங்களுக்கிடையிலான போட்டித்தன்மை.
117. பின்வருவனவற்றில் ஒரு கைத்தொழிலில் புதிய நிறுவனங்கள் பிரவேசிப்பதற்கான ஒரு இயற்கையான தடை எது?
1) தொழிலுக்கான அனுமதிப் பத்திரம் 4) ஒரு பொது வாக்குரிமை
2) அளவுத்திட்ட சிக்கனம் 5) மேலுள்ள எல்லாம்.
3) ஒரு தனியுரிமைப் பத்திரம் வழங்குதல்.
118. நிறைபோட்டியிலன்றி தனியுரிமைப் போட்டிச் சந்தையில் காணக்கூடிய பண்பு எது?
1) சந்தையில் அதிக எண்ணிக்கையான நிறுவனங்கள் இருக்கும்.
2) பிரவேச சுதந்திரம் காணப்படும்.
3) சந்தைக் கேள்விக்கோடு கீழ்நோக்கிய சரிவுடையதாகவிருக்கும்.
4) நீண்டகாலத்தில் சாதாரண இலாபமுழைக்கும்.
5) விலை எல்லைச் செலவைவிட உயர்வானது.

119. A என்ற நிறுவனம் நிறைபோட்டிச் சந்தையில் தனது உற்பத்தியினை விற்பனை செய்கிறது. B என்ற நிறுவனம் சிலருரிமைச் சந்தையில் செயற்படுகிறது. C என்ற நிறுவனம் ஒரு தூய தனியுரிமையாகும். அவற்றின் உற்பத்திப் பொருள் தொடர்பான பின்வரும் விளக்கங்களில் சரியானது எது?

நிறுவனம் A
உற்பத்தி

நிறுவனம் B
உற்பத்தி

நிறுவனம் C
உற்பத்தி

- | | | |
|-----------------------------|--------------------------|-------------------------|
| 1) வேறாக்கம் செய்யப்பட்டது. | வேறாக்கம் செய்யப்பட்டது. | துனித்தன்மை வாய்ந்தது |
| 2) தனித்தன்மை வாய்ந்தது | ஒரினத்தன்மை கொண்டது | வேறாக்கம் செய்யப்பட்டது |
| 3) ஒரினத்தன்மை கொண்டது | வேறாக்கம் செய்யப்பட்டது. | தனித்தன்மை வாய்ந்தது |
| 4) தனித்தன்மை வாய்ந்தது | தனித்தன்மை வாய்ந்த | வேறாக்கம் செய்யப்பட்டது |
| 5) ஒரினத்தன்மைக் கொண்டது | தனித்தன்மை வாய்ந்தது | வேறாக்கம் செய்யப்பட்டது |

120. நிறைபோட்டி நிறுவனத்தின் கேள்விக் கோடு தொகை அச்சிற்குச் சமாதந்தரமாக காணப்படுவது ஏன்?

- 1) கடும் போட்டி காணப்படுதல்.
- 2) ஆடம்பரப் பொருட்களை உற்பத்தி செய்தல்.
- 3) சந்தை விலையில் செல்வாக்கு செலுத்த முடியாதிருத்தல்.
- 4) விளம்பரம் செய்ய முடியாதிருத்தல்.
- 5) விலைக் கட்டுப்பாடுகள் இருத்தல்.

121. நிறைபோட்டிச் சந்தையிலுள்ள உற்பத்தியாளர்கள் எல்லோரும் ஒரே விலையை அறவிடுவதற்கு காரணம் யாது?

- 1) அவர்கள் எல்லோரும் இலாபத்தை உச்சப்படுத்துவார்கள்.
- 2) பொருள் வேறுபடுகின்றமையாகும்.
- 3) உற்பத்தி ஒரே தன்மையானதாகும்.
- 4) எல்லா நிறுவனங்களும் சிறியவை.
- 5) எல்லைச் செலவு மாறாதிருப்பதாகும்.

122. குறுங்காலத்தில் சராசரி வருவாயானது சராசரி செலவை விடக் குறைவாக இருப்பினும் நிறுவனம் தொழில் நீடித்திருக்க வேண்டுமாயின் அதன் சராசரி வருமானம்.

- 1) சராசரி நிலையான செலவைவிட உயர்வாக இருக்க வேண்டும்.
- 2) எல்லைச் செலவை விட உயர்வாக இருக்க வேண்டும்.
- 3) சராசரி மாறும் செலவைவிட உயர்வாக இருக்க வேண்டும்
- 4) மாறுஞ் செலவுகள் மற்றும் நிலையான செலவுகளின் கூட்டுத்தொகையை விட உயர்வாக இருக்க வேண்டும்.
- 5) எல்லை வருவாயைவிட உயர்வாக இருக்க வேண்டும்.

123. பின்வருவனவற்றில் தவறான கூற்று எது?

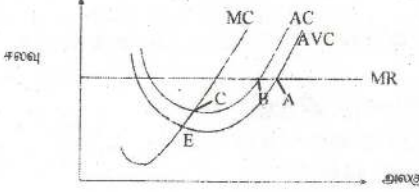
- 1) காரணிச் சந்தையில் பரிமாற்றப்படும் காரணிகளின் விலை மற்றும் தொகை என்பவற்றின் அடிப்படையில் காரணி வருமானங்கள் தீர்மானிக்கப்படும்.ஷ
- 2) இறுதிப் பொருட்கள் சேவைகளுக்கு காணப்படும் கேள்வியின் அடிப்படையில் உற்பத்திக் காரணிகளுக்கு கேள்வி ஏற்படுகிறது.
- 3) நிலத்தின் நிரம்பல் நெகிழ்வற்றதாகும்.
- 4) ஊழியப்படை, ஊழியன் ஒருவரது வேலை செய்யும் சராசரிக் காலம் என்ற இரண்டாலும் ஊழிய நிரம்பல் தீர்மானிக்கப்படுகிறது.
- 5) தரப்பட்ட சந்தர்ப்பம் ஒன்றில் யன்படுத்தப்படுகின்ற மெய்ச்சொத்துக்கள் மூலதன நிரம்பலாகும்.

124. ஒரே தன்மையான பண்டம் உற்பத்தி செய்யப்படுவதுடன் நுழைவதற்கும் வெளியேறுவதற்கும் எவ்வித தடையும்ற்ற பல நிறுவனங்களை உள்ளடங்கிய சந்தை நிலைமை.
- 1) தனியுரிமைச் சந்தை
 - 2) நிறைபோட்டிச் சந்தை
 - 3) சிலருரிமைச் சந்தை
 - 4) தனியுரிமைப் போட்டிச் சந்தை
 - 5) காரணிச் சந்தை
125. பொருளாதார வாடகை உற்பத்திக் காரணிகளுக்குரிய வெகுமதியாக குறிப்பதற்கு காரணம்?
- 1) மாற்றுக் கட்டணத்திற்கு மேலதிகமாகக் கிடைத்தல்.
 - 2) எதிர்பார்க்கப்பட்ட வருமானப் பெறுமதிக்கு சமனாகுதல்.
 - 3) எல்லை வருமான உற்பத்திக்கு சமனாகுதல்.
 - 4) எல்லை உற்பத்திக்கு பெறுமதிக்கு சமனாகுதல்.
 - 5) நிரம்பல் விலைக்குச் சமனாகுதல்.
126. நிறைபோட்டி நிறுவனம் ஒன்று நீண்ட காலத்தில் சாதாரண இலாபத்தை மட்டும் உழைப்பது ஏன்?
- 1) ஓரினத்தன்மை வாய்ந்த பொருட்கள் காணப்படுதல்.
 - 2) விளம்பரம் காணப்படாமை.
 - 3) எண்ணற்ற உற்பத்தியாளர்.
 - 4) நிறுவனம் விலையை மாற்றமுடியாமை.
 - 5) பிரவேச சுதந்திரம்.
127. தனியுரிமை சந்தைக்கு உதாரணம் அல்லாதது.
- 1) புகையிரத போக்குவரத்து
 - 2) நீர் வழங்கல்
 - 3) பிறிமா நிறுவனத்தின் கோதுமை மா உற்பத்தி
 - 4) இலங்கை மத்திய வங்கி
 - 5) லித்ரோ காஸ் (Liro Gas)
128. நிறைபோட்டி நிறுவனம் ஒன்று ஏன் சராசரி மாறும் செலவுக்குக் குறைவான மட்டத்தில் உற்பத்தி செய்வதில்லை.
- 1) நட்டமடையும் என்ற காரணத்திற்காக
 - 2) நிறுவனத்தின் மொத்த வருமானமானது மொத்த செலவைக்கூட ஈடு செய்ய முடியாதிருத்தல்.
 - 3) மாறும் செலவில் ஒரு பகுதி மட்டும் வருமானமாகக் கிடைத்தல்.
 - 4) எல்லை வருமானத்தை விட எல்லைச் செலவு உயர்வாக இருத்தல்.
 - 5) சராசரிச் செலவை விட வருமானம் குறைவாக இருத்தல்.
129. பின்வருவனவற்றுள் நிறைபோட்டி சந்தையின் பண்பல்லாதது எது?
- 1) சந்தையின் கேள்விக்கோடு கிடையச்சுக்கு சமாந்தரமானது.
 - 2) நிறுவனம் விலை ஏற்போனாக காணப்படுவர்.
 - 3) சராசரி வருமானம் எல்லை வருமான விலை என்பன நிறுவனத்தில் சமமாக காணப்படும்.
 - 4) பூரண பதிலீட்டுப் பொருட்கள் உற்பத்தி செய்யப்படும்.
 - 5) பிரவேச சுதந்திரம் காணப்படும்.
130. நிறைபோட்டி நிறுவனமொன்று குறுங்காலத்தில் பொருளாதார இலாபம் பெறும்போது
- 1) சராசரி செலவுக்கோட்டின் அதி குறைந்த புள்ளியில் உற்பத்தி இடம்பெறும்.
 - 2) சராசரி செலவுக் கோட்டில் குறைந்து செல்லும் பகுதியில் உற்பத்தி இடம்பெறும்.

தேர்ச்சி - 03 - M.C.Q

- 3) சராசரி செலவுக் கோட்டின் அதிகரித்துச் செல்லும் பகுதியில் உற்பத்தி இடம்பெறும்.
- 4) சராசரி வருமானத்தை விட எல்லை வருமானம் உயர்வாகக் காணப்படும்.
- 5) சராசரி செலவை விட வருமானம் குறைவாகக் காணப்படும்.

131. நிறைபோட்டி நிறுவனம் ஒன்று உற்பத்தியை நிறுத்தும் புள்ளி.



- | | | |
|------|------|------|
| 1) A | 3) B | 5) C |
| 2) D | 4) E | |

132. குறுங்கால உற்பத்தித் தொழிற்பாடு தொடர்பாக தவறான விடயம் யாது?

- 1) குறுங்காலம் என்பதில் குறைந்த ஒரு உள்ளீடாவது நிலையான உள்ளீடாக அமைய வேண்டும் என்பது விதியாகும்.
- 2) குறுங்காலத்தில் வெளியீட்டின் அளவை அதிகரிக்க வேண்டுமாயின் மாறும் உள்ளீட்டின் அளவை மட்டுமே அதிகரிக்க வேண்டும்.
- 3) குறுங்காலத்தில் குறையும் எல்லை விளைவுதிறன் விதி தொழிற்படும்.
- 4) குறுங்காலத்தில் நிலையான உள்ளீடுகளை அதிகரித்தும் வெளியீட்டின் அளவை பெருக்கலாம்.
- 5) குறுங்காலத்தில் நிலையான உள்ளீடுகளும், மாறும் உள்ளீடுகளும் காணப்படும்.

133. அதிகரிக்கும் அளவுத்திட்ட விளைவுகள் தொடர்பாக தவறான விடயம் யாது?

- 1) உள்ளீடுகள் அதிகரிக்கும் சதவீதத்தை விட மேலான சதவீதத்தில் வெளியீடுகள் அதிகரித்தல்.
- 2) உற்பத்திக் காரணிகளின் பிரிக்க முடியாத தன்மையும், இயந்திர உபகர பயன்பாடும் ஏற்படல்.
- 3) உள்ளீடுகள் அதிகரிக்கும் சதவீதத்தை விட குறைவான சதவீதத்தில் மொத்த உற்பத்தி அதிகரித்தல்.
- 4) பேரளவு உற்பத்திச் சிக்கனம் அல்லது அளவுத்திட்ட சிக்கனங்கள் ஏற்படல்.
- 5) நீண்டகால சராசரி மொத்தச் செலவு வீழ்ச்சியடைதல்.

134. நிறைபோட்டிச் சந்தைக் கட்டமைப்பு ஒன்று தொடர்பாக தவறான தரவு யாது?

- 1) பெருமளவிலான நுகர்வோரும் விற்பனையாளர்களும் காணப்படுவதால் ஒரு நுகர்வோர், ஒரு நிறுவனமோ சந்தையில் ஆதிக்கம் செலுத்த முடியாது.
- 2) உற்பத்தி செய்யப்படும் பொருட்கள் சேவைகள் விலை, உற்பத்தித் தரம், விளைபொருள் போன்ற அடிப்படைகளில் கிட்டிய பதிலீடுகளாகும்.
- 3) சந்தையில் பிரவேசிக்க தடையற்ற சுதந்திரமும் அதேபோல சந்தையில் இருந்து வெளியேற தடைகளும் இல்லை.
- 4) சந்தை பற்றிய தரவுகளை கிரயமின்றி பெறலாம்.
- 5) கொள்வனவாளரும், விற்பனையாளரும் சந்தை பற்றிய நிறுவன அறிவை கொண்டிருப்பர்.

135. இயற்கைத் தனியுரிமை என்பதால் கருதப்படுவது யாது?

- 1) உயர்வான சராசரி செலவில் மொத்த சந்தைக்கும் தேவையான பொருளை ஒரு நிறுவனம் வழங்குதல்.

- 2) பேரளவுச் சிக்கனம் காரணமாக குறைந்த சராசரிச் செலவில் மொத்தச் சந்தைக்கும் தேவையான பொருளை ஒரு நிறுவனம் வழங்கல்.
- 3) பேரளவுச் சிக்கனம் காரணமாக குறைந்த சராசரி செலவில் மொத்தச் சந்தைக்கும் தேவையான பொருளை பல நிறுவனங்கள் வழங்கல்.
- 4) மூலப்பொருள் தொடர்பாக நிறுவனம் ஒன்று பெற்றுக்கொள்ளும் தனியுரிமை.
- 5) அரசின் சட்ட ரீதியான தடைகள் காரணமாக தோன்றும் தனியுரிமை.

136. நிறைபோட்டி நிறுவனமொன்றின் தரவுகள் வருமாறு. எந்த உற்பத்தி அலகின் போது நிறுவனம் தனது இலாபத்தினை உச்சப்படுத்துகின்றது.

	உற்பத்தி அலகு Q	மொத்த வருமானம் TR	மொத்த செலவு TC
1)	25	250	300
2)	40	400	400
3)	50	500	480
4)	60	600	560
5)	80	800	760

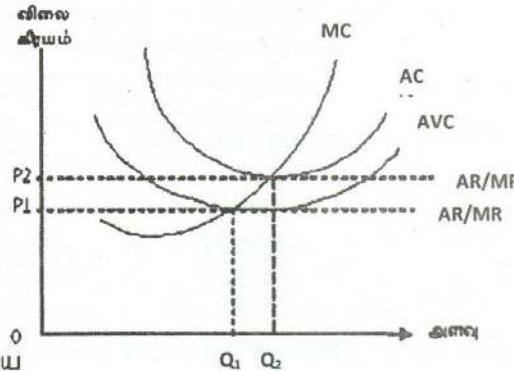
137. நிறைபோட்டி சந்தையொன்றின் கேள்வி மற்றும் நிரம்பல் வளையி,

	நிரம்பல் வளையி	கேள்வி வளையி
1.	குறிப்பிடமுடியாது	பூரண நெகிழ்ச்சியுடையது
2.	நெகிழ்வுடையது	பூரண நெகிழ்வற்றது
3.	இடப்புறத்திலிருந்து வலப்புறம் மேல்நோக்கி செல்லும்	இடப்புறத்திலிருந்து வலப்புறம் கீழ்நோக்கி செல்லும்
4.	இடப்புறத்திலிருந்து வலப்புறம் நோக்கி உயர்வடைந்து செல்லும்	குறிப்பிடமுடியாது
5.	குறிப்பிடமுடியாது	பூரண நெகிழ்வற்றது

138. நிறைபோட்டிச் சந்தையில் செயலாற்றும் ஒரு நிறுவனத்தின் குறுங்கால நடத்தையை வரிப்படம் காட்டுகிறது.

வரைபடத்துக்குப் பொருத்தமான கூற்றைத் தெரிவு செய்க.

- 1) நிறுவனத்திலும் நிலவும் இரு உற்பத்தி மட்டங்களும் பேணக்கூடிய உற்பத்தி மட்டங்கள் அல்ல.
- 2) அலகு விலை ரூபா. P1ல் கட்டாயமாக நிறுவனம் மூடிவிடப்பட வேண்டும்.
- 3) உற்பத்தி மட்டம் அலகு Q2 பொருளாதார இலாபம் உழைக்கக் கூடிய உற்பத்தி மட்டமாகும்.
- 4) விலை எல்லைக்கிரயத்தைக் கடந்து செல்வதால் உற்பத்தியில் ஈடுபடுதல் அனுகூலமாகும்.
- 5) பொருளாதார இலாபம் இல்லாத போதும் Q2 உற்பத்தியைப் பேணக்கூடிய உற்பத்தி மட்டமாகும்.



139. தவறான கூற்றைத் தெரிவு செய்க.

- 1) நிறுவனத்தின் மொத்த விளைதிறன் உச்சமாகும்போது எல்லை விளைதிறன் பூச்சியமாகும்.

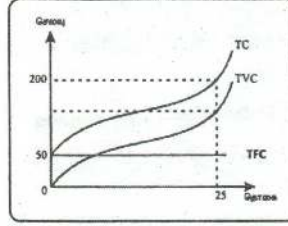
- 2) எல்லை விளைதிறன் கோடு சராசரி விளைதிறன் கோட்டில் உச்சமான புள்ளியை வெட்டி கீழிறங்கும்.
 - 3) நீண்டகாலத்தில் ஆரம்பத்தில் நிலையான கிரயம் அதிகரிக்கும் வேகத்தை விட வெளியீடு அதிகரிப்பதால் விளைதிறன் உயர்வடையும்.
 - 4) நிறைபோட்டியில் நிறுவனத்தின் மொத்த வருமானக்கோடு நேர்கோடாகும்.
 - 5) குறுங்காலச் சராசரி நிலையான கிரயக்கோடு வெளியீட்டின் அதிகரிப்புடன் படிப்படியாக கீழிறங்கும்.
140. நிறைபோட்டியில் நிறுவனம் குறுங்காலத்தில் செய்யும் கிரயங்களில் ஆழ்ந்த (உள்ளடங்கிய) கிரயமாகக் கருதப்படுவது.
- 1) மூலப் பொருள்களுக்காக செய்யப்பட்ட கிரயம்
 - 2) ஊழியர்களுக்கு சம்பளக் கொடுப்பனவு.
 - 3) இயந்திர உபகரணங்களைக் கொள்வனவு செய்ய ஏற்பட்ட கிரயம்.
 - 4) போக்குவரத்துக் கட்டணம்.
 - 5) பொதியிடல் கிரயம்.
141. தனியுரிமைப் போட்டியில் நிறுவனத்தின் கேள்விக்கோடு இடமிருந்து வலம் கீழ்நோக்கி சரிந்து செல்வதற்கான காரணம்.
- 1) நிறுவனங்கள் பெரும் எண்ணிக்கையாக இருத்தல்.
 - 2) உற்பத்திகளுக்கிடையில் வேறுபாடு காணப்படுதல்.
 - 3) எல்லா நிறுவனங்களும் குறிப்பிடத்தக்க அளவில் சந்தைப்பாகத்தை உரிமையாக்கியிருத்தல்
 - 4) நிறுவனத்திற்கே உரியதான நுகர்வோர் நாட்டம் உரித்தாக இருத்தல்.
 - 5) நிறுவனங்களும் ஒவ்வொன்றும் சுயாதீனமாகக் கருமமாற்றுதல்
142. இலங்கையில் செயற்படும் சிலருரிமைச் சந்தைக் கட்டமைப்புக்கு உதாரணமான தொகுதி
- 1) ரூபாவாஹினி, போசனசாலைகள், மின்வழங்கல்
 - 2) சீமெந்து, மின்வழங்கல், பத்திரிகைகள்
 - 3) தொலைபேசிச் சேவை வழங்கல் நிறுவனங்கள், போசனசாலைகள், வணிக வங்கிகள்
 - 4) பத்திரிகைகள், சீமெந்து, ரூபாவாஹினி அலைவரிசைகள்
 - 5) வணிக வங்கிகள், மின்வழங்கல், சீமெந்து
143. நீண்டகால உற்பத்தி தொடர்மானிடால் அதிகரித்துச் செல்லும் அளவுத்திட்ட விளைவு தோன்றினால்
- 1) உள்ளீட்டின் அதிகரிப்பு தத்தை விட வெளியீட்டின் அதிகரிப்பு வீதம் குறைவாகும்.
 - 2) பேரளவு உற்பத்தி மகனமின்மைகள் தோன்றும்.
 - 3) நீண்டகால சமநிலை மாதத்தச் செலவினம் வீழ்ச்சியடையும்.
 - 4) உள்ளீட்டின் அதிகரிப்பு வீதமும் வெளியீட்டின் அதிகரிப்பு வீதமும் சமமாய் அமையும்
 - 5) அளவுத்திட்ட மகனமின்மைகள் உயர்வாக அமையும்.
144. தூய தனியுரிமைச் சந்தைக் கட்டமைப்பு ஒன்றில் புதிய நிறுவனங்கள் நுளைவதற்கு தடையாயுள்ள காரணிகள் தொடர்பாக பொருத்தமற்ற விடயம்
- 1) மூலப்பொருள் தொடர்பான உரிமை ஒரு நிறுவனம் மட்டும் கொண்டிருத்தல்.
 - 2) இயற்கை தனியுரிமைத் தோன்றுதல்.
 - 3) தனியொரு நிறுவனம் அளவுத்திட்ட சிக்கனங்களை கொண்டிருத்தல்.
 - 4) அரசின் சட்ட ரீதியான அனுமதிப் பத்திரம்.
 - 5) உற்பத்தியின் நற்பெயரை ஒரு நிறுவனம் மட்டும் கொண்டிருத்தல்.

145. நிறைப்போட்டிக் கட்டமைப்பில் நிறுவனம் ஒன்று ஒப்படைக்கப்பட்ட விலையினை எதிர்கொள்வதால் அது தொடர்பாக பொருத்தமற்ற விடயம்.
- 1) ஒரு வழங்குனர் சந்தையின் நிரம்பலில் செயல்திறனுடையவர்.
 - 2) பண்ட விலையும் எல்லை வருவாயும் சமமாகும். ($P = AR$)
 - 3) பண்டக் கேள்விக் கோடு பூரண நெகிழ்வுடையது.
 - 4) ஒரு வழங்குனர் சந்தையில் செயற்திறனற்றவர்.
 - 5) பண்டக் கேள்விக் கோடு தொகை அச்சுக்கு சமாந்தரமானது.
146. சரியான கூற்றினை தெரிவு செய்க.
- 1) எல்லைச் செலவு என்பது மொத்த செலவு கோட்டின் சரிவாகும்.
 - 2) எல்லைச் செலவு என்பது இறுதி அலகொன்றினை உற்பத்த செய்வதற்கான கிரயமாகும்.
 - 3) நீண்ட காலத்தில் குறைந்து செல்லும் எல்லைச் செலவு விதி தொழிற்படும்.
 - 4) நிலையான செலவுகள் நீண்டகாலத்திலும் காணப்படும்.
 - 5) எல்லை உற்பத்தித் திறன் மற்றும் எல்லைப் பயன் என்பன ஒரே எண்ணக்கருக்களாகும்.
147. தனியுரிமை சந்தையொன்றில் இடமிருந்து வலமாக கீழ்நோக்கி செல்கின்ற கேள்விக் கோடு நிலவுவது ஏன்? மிகச் சரியான கூற்றினை தெரிவு செய்க.
- 1) ஒரே தன்மைகள் வாய்ந்த உற்பத்திகள் இடம்பெறுவதால்.
 - 2) சந்தையில் தனியான நிறுவனம் மட்டும் காணப்படுவதால்.
 - 3) தனித்தன்மை வாய்ந்த உற்பத்தியை மேற்கொள்ளுவதால்.
 - 4) உள்நுளைவு காணப்பட தடைகள் காணப்படுவதால்.
 - 5) விளம்பரங்கள் காணப்படுவதால்.
148. தனியுரிமைப் போட்டிச் சந்தையின் விசேட பண்பாகக் கொள்ளக்கூடியது,
- 1) உள்நுளைவுக்கான தடைகள் காணப்படுதல்.
 - 2) நீண்ட காலத்தில் பொருளாதார இலாபத்தினை உழைத்துக் கொள்ளல்.
 - 3) விளம்பரங்கள் காணப்படல்.
 - 4) சாதாரண கேள்விக் கோடாகக் காணப்படல்.
 - 5) கிட்டத்தட்ட பதிலீடு செய்யக்கூடியவறாக பதிலீடுகளின் உற்பத்தி இடம்பெறுதல்.
149. நிறைப்போட்டி சந்தையில் நிறுவனமொன்று பொருளியல் நடத்தினை எதிர்நோக்குமாயின்,
- 1) எல்லைச் செலவு எல்லை வருமானத்திற்கு சமனாக காணப்படும்.
 - 2) விலை சராசரி மொத்தச் செலவிலும் குறைவாக காணப்படும்.
 - 3) விலை சராசரி மொத்தச் செலவிலும் உயர்வாக காணப்படும்.
 - 4) விலை சராசரி மொத்தச் செலவும் சமனாகக் காணப்படும்.
 - 5) கேள்விக் கோடானது உற்பத்தித் தொகை கோட்டோடு சமனாகக் காணப்படும்.
150. நிறைப்போட்டி நிறுவனமொன்று கட்டாயமாக சந்தையை விட்டு வெளியேறும் நிலைமை பின்வருவனற்றுள் எது.
- 1) சராசரி வருமானத்தை விட சராசரி செலவு உயர்வாக இருக்கும்போது.
 - 2) சராசரி வருமானமும், சராசரி மாறும் செலவும் சமனாகக் காணப்படும் போது.
 - 3) சராசரி மாறும் செலவைவிட சராசரிச் செலவு உயர்வாக இருக்கும் போது
 - 4) சராசரி வருமானத்தைவிட சராசரி மாறும் செலவு குறைவாக இருக்கும் போது

- 5) சராசரி வருமானத்தை விட சராசரி மாறும் செலவு உயர்வாக இருக்கும் போது
151. அளவுத்திட்ட சிக்கனமின்மை என்பதன் பொருள் யாது?
- 1) சராசரி செலவுகள் குறைவடைதல்.
 - 2) எப்போதும் அசாதாரண இலாபத்தில் ஓர் வீழ்ச்சி.
 - 3) நீண்டகால சராசரி செலவில் (LAC) ஓர் அதிகரிப்பு ஏற்படல்.
 - 4) வெளியீட்டில் ஏற்படும் விகிதாசார வீழ்ச்சி.
 - 5) நிறுவனங்கள் நன்மைகளைப் பெறும்.
152. நிறுவனம் ஒன்றினது மொத்தச் செலவு, மொத்த வருமானம் தொடர்பான தரவுகளில் மிகச் சரியான தரவு யாது?
- 1) மொத்தச் செலவுக்கோடானது தொடர்ந்து கீழிருந்து மேலாகச் செல்லாது மொத்த வருமானக் கோடானது ஆரம்பத்தில் கீழிருந்து மேலாகச் சென்று ஒரு எல்லைக்கு அப்பால் மேலிருந்து கீழாகச் செல்லும்.
 - 2) மொத்த செலவுக்கோடானது கீழிலிருந்து மேலாகச் செல்ல மொத்த வருமானக் கோடானது மேலிருந்து கீழாகச் செல்லும்.
 - 3) மொத்த செலவுக்கோடும் மொத்த வருமானக் கோடும் தொடர்ச்சியாக கீழிருந்து மேலாகச் செல்லும்.
 - 4) மொத்தச் செலவுக்கோடும் மொத்த வருமானக் கோடும் தொடர்ச்சியாக மேலிருந்து கீழாகச் செல்லும்.
 - 5) மொத்த செலவுக்கோடானது மேலிருந்து கீழாகச் செல்ல மொத்த வருமானக் கோடானது கீழிருந்து மேலாகச் செல்லும்.
153. குறுங்காலத்தில் சராசரி வருவாயானது சராசரிச் செலவைவிட குறைவாக இருப்பினும் நிறுவனம் தொழில் நீடித்திருக்க வேண்டுமாயின் அதன் சராசரி வருமானம்.
- 1) சராசரி நிலையான செலவைவிட உயர்வாக இருக்க வேண்டும்.
 - 2) எல்லைச் செலவைவிட உயர்வாக இருக்கவேண்டும்.
 - 3) சராசரி மாறுஞ் செலவைவிட உயர்வாக இருக்க வேண்டும்.
 - 4) மாறுஞ் செலவுகள் மற்றும் நிலையான செலவுகளின் கூட்டுத்தொகையை விட உயர்வாக இருக்க வேண்டும்.
 - 5) எல்லை வருவாயைவிட உயர்வாக இருக்க வேண்டும்.
154. ஒரு உற்பத்தி நிறுவனத்தின் குறுங்காலச் செலவுகள் தொடர்பான கூற்றுக்களில் சரியானதைத் தேர்வு செய்ய்க.
- 1) சராசரிச் செலவானது தொடர்ந்து குறைவடைந்து செல்லும்.
 - 2) சராசரி மாறுஞ் செலவானது ஆரம்பத்தில் அதிகரித்து பின்னர் குறைவடைந்து செல்லும்.
 - 3) நிலையான செலவுகள் ஒரு எல்லைக்கு அப்பால் உயர்வடைந்து செல்லும்.
 - 4) எல்லா செலவுக்கோட்டின் அதிகுறைந்த புள்ளியை சராசரி செலவுக்கோட்டு வெட்டிய செலவ்தாகக் காணப்படும்.
 - 5) சராசரி மொத்தச் செலவுக்கோட்டுக்கும் சராசரி நிலையான செலவுக்கோட்டுக்கும் இடையேயான குத்தச்சு ரீதியான தூரம் சராசரி மாறும் செலவாகும்.
155. ஒரு நிறுவனத்தின் செலவு தொடர்பான தரவுகளை பின்வரும் வரைபடம் காட்டுகின்றது. நிறுவனத்தின் சராசரி மாறும் செலவு யாது?

தேர்ச்சி - 03 - M.C.Q

- 1) ரூபா. 8
- 2) ரூபா. 6
- 3) ரூபா. 2
- 4) ரூபா. 150
- 5) ரூபா. 50



156. சாதாரண இலாபங்களை விபரிக்கின்ற கூற்றினைப் பின்வருவனவற்றில் இருந்து தெரிவு செய்க.
- 1) வருவாய்களுக்கும் செலவினங்களுக்கும் இடையிலான வித்தியாசம்.
 - 2) வணிக முயற்சியாண்மையால் சம்பாதிக்கப்பட்ட இலாபங்களில் சராசரி இலாபம்.
 - 3) நீண்டகாலத்தில் முயற்சியாண்மையாளர் ஒருவரால் சம்பாதிக்கப்பட்ட இலாபங்கள்.
 - 4) கைத்தொழில் தொடர்ந்து இருப்பதற்கு ஒரு முயற்சியாண்மையாளருக்கு தேவைப்படும் இலாப மட்டம்.
 - 5) பூச்சிய சிக்கன இலாபங்களுக்கு மேலதிகமாக பெறும் இலாபம்.
157. எல்லைக் கிரயம் சராசரி மொத்தக் கிரயத்தை விட உயரச் செல்லுமானால் அப்போது நிச்சயமாக
- 1) எல்லைக்கிரய வீழ்ச்சி காணப்படும்.
 - 2) சராசரி மொத்தக் கிரயம் உயர்ந்து செல்லும்.
 - 3) மொத்த நிலையான கிரயம் உயர்ந்து செல்லும்.
 - 4) எல்லை வருமானம் உயர்ந்து செல்லும்.
 - 5) சராசரி செலவு வளையி எல்லை செலவு வளையியின் இழிவுப்புள்ளியை ஊடறுத்து மேலே செல்லும்.
158. சரியான கூற்றைத் தெரிவு செய்க.
- 1) நிறைபோட்டி நிறுவனம் பூரண நெகிழ்ச்சிக் கேள்வி வரைபை எதிர்கொள்ளும்.
 - 2) தனியுரிமை நிறுவனத்தில் நிரம்பல் வரைபை இனங்காண முடியாது.
 - 3) சராசரிக் கேள்வி வரைபுகள் இரண்டைக் கருத்தில் கொண்ட போது ஒப்பீட்டில் குறைவான சரிவு கொண்ட கேள்வி வரைபின் நெகிழ்ச்சி நெகிழ்வுடையதாக இருந்தபோது ஒப்பீட்டில் சரிவு கூடிய கேள்வி வரைபின் நெகிழ்வு குறைவாக இருந்தது.
 - 4) நிறைபோட்டி நிறுவனம் குறுங்காலத்தில் அதன் உற்பத்திக்கான விலை அதன் சராசரிக் கிரயத்தை விட குறைவான போதிலும் சந்தையிலிருந்து அகலாது தொழிற்படும்.
 - 5) சிலருரிமைச் சந்தையொன்றில் நிறுவனங்கள் தனியுரிமை நிலையை எய்த முடியும்
159. நிறைபோட்டிச் சந்தைக்கும் தனியுரிமைப் போட்டிச் சந்தைக்கும் இடையிலான வேறுபாடாகக் கொள்ளக்கூடியது.
- | | |
|---------------------------------|----------------------------------|
| 1) பொருள் விளம்பரம் | 4) எண்ணற்ற நிறுவனங்கள் காணப்படல் |
| 2) நுழைவுச் சுதந்திரம் | 5) பரஸ்பர தொடர்பு |
| 3) நீண்டகாலத்தில் சாதாரண இலாபம் | |
160. தனியுரிமைச் சந்தையின் பண்பொன்றாகக் கருதமுடியாதது.
- 1) தனித்தன்மை வாய்ந்த பொருளொன்றை உற்பத்தி செய்தல்.
 - 2) விலையை தீர்மானிப்பவராக செயற்படல்.

தேர்ச்சி - 03 - M.C.Q

- 3) நீண்டகாலத்தில் அசாதாரண இலாபத்தை உழைத்தல்.
- 4) நுழைவில் பூரண தடையின்மை.
- 5) சாதாரண கேள்விக் கோடு காணப்படல்.

161. நிறுவனம் ஒன்றின் பொருளியல் இலாபம் பூச்சியம் என்பதால் கருதப்படுவது யாது?

- 1) நிறுவனம் நட்புமடைவதற்கான தயார் நிலையில் காணப்படுகிறது.
- 2) நிறுவனம் அசாதாரண இலாபத்தினை உழைக்கிறது.
- 3) நிறுவனம் சாதாரண கிரயங்களை ஈடுசெய்கின்றது.
- 4) சந்தர்ப்பச் செலவைத் தாண்டி இலாபம் உழைக்கின்றது.
- 5) சராசரி மாறும் செலவை ஈடுசெய்கின்றது.

162. நிறைபோட்டிச் சந்தையில் நிறுவனம் ஒன்று நீண்டகாலத்தில் சாதாரண இலாபத்தினை உழைக்கக் காரணம்.

- 1) பூரண தகவல்கள் கிடைப்பதால்
- 2) 100% பதிலீடு கொண்ட உற்பத்தி நிலவுதல்.
- 3) முடிவிலிக் கேள்வி நெகிழ்ச்சிக்கு முகங்கொடுத்தல்.
- 4) நுழைவுச் சுதந்திரம்.
- 5) விலையை ஏற்போனாகச் செயற்படல்.

163. பின்வரும் அட்டவணை மொத்தச் செலவு பற்றிய தரவினைக் காட்டுகிறது.

உற்பத்தி Q	0	1	2	3	4	5	6
மொத்தச் செலவு (TC)	200	260	290	320	360	420	500

இங்கு 4வது அலகு உற்பத்தியின் போது சராசரி மாறும் செலவு என்ன?

- 1) 90
- 2) 50
- 3) 45
- 4) 40
- 5) 44

164. பின்வரும் கூற்றுக்களில் ஏற்றுக்கொள்ளக் கூடியது.

- 1) வெளியீட்டின் அனைத்துக் காரணிகளையும் மாற்றமுடியாத காலம் குறுங்காலம்.
- 2) குறுங்காலத்தில் நிலையான காரணிகள் இருப்பதில்லை.
- 3) உற்பத்தியின் குறுங்காலம் என்பது ஒரு வருடத்திற்கு உட்பட்ட காலமாகும்.
- 4) நீண்ட காலத்தில் காரணிகள், தொழில்நுட்பம் என்பவற்றில் மாற்றம் ஏற்படுவதில்லை.
- 5) குறுங்கால உற்பத்தியை மாறும் காரணிகள் மட்டுமே தீர்மானிக்கின்றன.

165. கீழுள்ள அட்டவணை நிறுவனமொன்றின் மொத்த மற்றும் எல்லைச் செலவுகளைக் காட்டுகிறது.

வெளியீடு (Q)	மொத்தச் செலவு (₹)	எல்லைச் செலவு (₹)
1	200	20
2	215	15
3	225	10
4	240	15
5	260	20
6	285	25

5 அலகுகள் உற்பத்தி செய்வதற்கான சராசரி நிலையான செலவு யாது?

- 1) ரூ. 20
- 2) ரூ. 36
- 3) ரூ. 52
- 4) ரூ. 180
- 5) ரூ. 200

166. பின்வரும் கூற்றுக்களில் மிகச் சரியான கூற்றினை இனங்காண்க.

- 1) நிறை போட்டி நிறுவனத்தின் நிரம்பல் வளைகோடு நிறுவனத்தின் எல்லைச் செலவு வளைகோடாகும்.
 - 2) நிறைபோட்டி நிறுவனம் உற்பத்தியின் பொருட்டு எதிர்பார்க்கும் குறைந்தபட்ச விலை சராசரிச் செலவின் இழிவுப் புள்ளி விலையாகும்.
 - 3) நிறுவனத்தின் சராசரிச் செலவு வளைகோட்டிற்கும், சராசரி மாறும் செலவு வளைகோட்டிற்கும் இடையிலான வேறுபாடு சாதாரண இலாபமாகும்.
 - 4) மொத்த மாறும் செலவு வளைகோட்டின் தொடுகோட்டுச் சரிவு எல்லைச் செலவாக அமையும்.
 - 5) மொத்த செலவு வளைகோட்டின் ஒரு புள்ளியில் இருந்து உற்பத்தித் தானத்திற்கு வரையும் கோட்டின் சரிவு எல்லைச் செலவாகும்.
167. நிறைபோட்டி நிறுவனமொன்றின் 3ஆம் அலகு வெளியீட்டிற்கான மொத்த மாறும் செலவு (TVC) 40 ரூபாவும் 4ஆம் அலகுக்கான எல்லைச் செலவு (MC) 30 ரூபாவும் 5ஆம் அலகுக்கான எல்லைச் செலவு 40 ரூபாவும் ஆகும். நிறுவனத்தின் மொத்த நிலையான செலவு ரூபா 50 எனின், 5ஆம் அலகுக்கான சராசரிச் செலவு யாது?
- 1) ரூ.22
 - 2) ரூ.35
 - 3) ரூ.42
 - 4) ரூ.40
 - 5) ரூ.32
168. பின்வரும் கூற்றுக்களில் சரியான கூற்றினை இனங்காண்க.
- 1) குறுங்காலத்தில் எல்லைச் செலவு வீழ்ச்சியடைவதனாலே சராசரிச் செலவும் வீழ்ச்சியடைகின்றது.
 - 2) குறுங்கால எல்லை உற்பத்தி உச்சமடையும் வேளை குறுங்கால எல்லைச் செலவும் உச்சமடைகின்றது.
 - 3) குறுங்கால சராசரி உற்பத்தி உச்சமடையும் வேளை குறுங்கால சராசரிச் செலவு இழிவுப்புள்ளியை எய்துகின்றது.
 - 4) குறுங்கால சராசரிச் செலவும், சராசரி மாறும் செலவும், ஒரே வெளியீட்டின் போது இழிவுப்புள்ளியை அடைகின்றன.
 - 5) குறுங்காலத்தில் சராசரிச் செலவு முதலில் இழிவுப்புள்ளியை அடைந்த பின்னரே சராசரி மாறும் செலவு இழிவுப்புள்ளியை அடையும்.
169. காரணி ஒன்றினது மொத்த உழைப்புக்கள் யாவும் மாற்றல் கட்டணமாக அமையும் சந்தர்ப்பம் பின்வருவனவற்றுள் எது?
- 1) காரணியின் நிரம்பல் வளையி முடிவிலி நெகிழ்வுடையதாக அமைதல்.
 - 2) காரணியின் கேள்வி வளையி செவ்வக அதிபர வளையியாக அமைதல்.
 - 3) காரணியின் நிரம்பல் வளையி செவ்வக அதிபர வளையியாக அமைதல்.
 - 4) காரணியின் நிரம்பல் வளையி பூரண நெகிழ்ச்சியற்றதாக அமைதல்.
 - 5) கேள்வி வளையி நெகிழ்வுள்ளதாகவும், நிரம்பல் வளையி நெகிழ்வற்றதாகவும் அமைதல்.
170. பின்வருவனவற்றுள் குறுங்கால உற்பத்தி தொடர்பாக தவறான கூற்று?
- 1) மொத்த உற்பத்திக் கோட்டின் சரிவு எல்லை உற்பத்தியாகும்.
 - 2) மொத்த உற்பத்தி கூடிய வேகத்தில் கூடும் போது எல்லை உற்பத்தி, சராசரி உற்பத்தி அதிகரிக்கும்.
 - 3) மொத்த உற்பத்தி உச்சமடையும் போது எல்லை உற்பத்தி பூச்சியமாகும்.
 - 4) மொத்த உற்பத்தி குறைந்த வேகத்தில் அதிகரிக்கும்போது எல்லை உற்பத்தி கூடும். சராசரி உற்பத்தி குறையும்.

தேர்ச்சி - 03 - M.C.Q

5) மொத்த உற்பத்தி வீழ்ச்சியடையும் போது எல்லை உற்பத்தி சராசரி உற்பத்தி குறைவடையும்.

171. நிறைபோட்டி நிறுவனமொன்றின் மொத்த செலவு அட்டவணை தரப்பட்டுள்ளது.

வெளியீடு (அலகுகளில்)	மொத்தச் செலவு (ரூபாவில்)
0	50
10	120
20	170
30	210
40	260
50	330
60	430

சந்தை விலை அலகுக்கு 7.00 ரூபா எனக் கொள்க.

நிறுவனத்தின் இலாப உச்சப்படுத்தல் வெளியீட்டின் மட்டமாக அமைவது.

- 1) 10 அலகுகள் 3) 30 அலகுகள் 5) 50 அலகுகள்
2) 20 அலகுகள் 4) 40 அலகுகள்

172. பேனா உற்பத்தி செய்யும் நிறுவனம் ஒன்றின் அலகுக்கான மாறும் செலவு ரூபா.1.50, நிலையான செலவு ரூபா.100, நிறுவனம் 500 பேனாக்களை உற்பத்தி செய்கிறது. சராசரி செலவைக் கணிக்க.

- 1) 50 ரூபா. 2) 1.50 ரூபா. 3) 1.70 ரூபா 4) 2.00 ரூபா 5) 2.50 ரூபா

173. நிறைபோட்டி நிறுவனத்தின் குறித்த வெளியீட்டு மட்டத்தில் எல்லைச் செலவானது எல்லை வருமானத்திலும் உயர்வாக உள்ளது. இலாபத்தை அதிகரிக்க விரும்பும் நிறுவனம் மேற்கொள்ளக் கூடிய நடவடிக்கை.

- 1) விலையைக் குறைத்தல் 4) வெளியீட்டை அதிகரித்தல்
2) விலையை அதிகரித்தல் 5) 2உம், 3உம் சரியானவை
3) வெளியீட்டைக் குறைத்தல்

174. ஒரு நிலையான உள்ளீட்டின் விலையில் ஏற்படும் அதிகரிப்பின் காரணமாக ஒரு நிறுவனத்தினுடைய

- 1) சராசரி மாறும் செலவு வளையி மேல் நோக்கி நகரும்.
2) சராசரி மொத்த செலவு வளையி மேல் நோக்கி நகரும்.
3) சராசரி மொத்த செலவு வளையி கீழ் நோக்கி நகரும்.
4) எல்லைச் செலவு வளையி மேல் நோக்கி நகரும்.
5) எல்லைச் செலவு வளையி கீழ் நோக்கி நகரும்.

175. நிலையான அளவுத்திட்ட விளைவுகள் என்பதால் கருதப்படுவது.

அனைத்து உள்ளீடுகளும் அதிகரிக்கும் போது,

- 1) மொத்த வெளியீடு தொடர்ந்தும் நிலையாக இருப்பதாகும்.
2) சராசரி மொத்தச் செலவு நிலையாக இருப்பதாகும்.
3) உள்ளீடுகள் அதிகரிக்கும் அதே வீதத்தில் சராசரி மொத்தச் செலவு அதிகரிப்பதாகும்.
4) நீண்டகால சராசரிச் செலவு தொடர்ந்தும் நிலையாக இருக்கும்.
5) உள்ளீடுகள் அதிகரிக்கும் அதே வீதத்தில் நீண்டகால சராசரிச் செலவு அதிகரிக்கும்.

176. பின்வரும் சந்தை நிலைமைகளில் எதில் நிறுவனமும் தொழிலும் ஒன்றாக இருக்கும்?

- 1) தனியுரிமை 4) நிறைபோட்டி

தேர்ச்சி - 03 - M.C.Q

- 2) சிலருரிமை 5) தனியுரிமைப் போட்டி
- 3) நிறைவில் போட்டி
177. நிறைபோட்டி நிறுவனமொன்றிலிருந்து தனியுரிமைப் போட்டி நிறுவனமொன்று எவ்வழிகளில் வேறுபடுகின்றது?
- A. நிறுவனம் வேறாக்கம் செய்யப்பட்ட உற்பத்திப் பொருட்களை விற்பனை செய்வதன் மூலம்
- B. புதிய நிறுவனங்கள் நுளைவதற்கு எவ்வித தடையும் இல்லாதிருப்பதன் மூலம்
- C. நிறுவனத்தின் உற்பத்திக்கான கேள்வி வளையி கீழ்நோக்கி சரிந்து செல்வதன் மூலம்
- D. நிறுவனம் நீண்ட காலத்தில் அசாதாரண இலாபத்தை உழைப்பதன் மூலம்
- 1) (A) மற்றும் (B) 4) (B) மற்றும் (C)
- 2) (A) மற்றும் (C) 5) (B) மற்றும் (D)
- 3) (A) மற்றும் (D)
178. நிறுவனங்கள் சந்தை மீது ஆதிக்கம் செலுத்தும் சந்தை வகை எது?
- 1) நிறைபோட்டி 4) சிலருரிமை
- 2) தனியுரிமை 5) அனைத்தும்
- 3) தனியுரிமைப் போட்டி
179. ஒரு நிறுவனம் அதன் உற்பத்திக்கு ஒரு பூரண நெகிழ்ச்சியுள்ள கேள்வியை எதிர்நோக்குமாயின்
- 1) அது ஒரு விலை ஏற்பவர் அல்ல.
- 2) அது விற்பனையை அதிகரிப்பதற்கு அதன் விலையைக் குறைக்க வேண்டும்.
- 3) அது மொத்த வருமானத்தை அதிகரிப்பதற்கு அதன் விலையை அதிகரிக்க வேண்டும்.
- 4) அதனது எல்லை வருமான வளையி பண்டத்தின் விலைக்குச் சமமாக இருக்கும்.
- 5) அது எப்போதும் சாதாரண இலாபத்தையே உழைக்கும்.
180. வெளியீடு மொத்தச் செலவு மொத்த வருவாய்
- (அலகுகள்) (ரூபா) (ரூபா)
- | | | |
|---|----|----|
| 1 | 8 | 30 |
| 2 | 18 | 50 |
| 3 | 30 | 66 |
| 4 | 46 | 80 |
| 5 | 65 | 90 |
| 6 | 90 | 96 |

மேலுள்ள அட்டவணையில் தரப்பட்ட தரவுகளுக்குரிய நிறுவனம் செயற்படுவது

- 1) நிறைபோட்டி மற்றும் நிலையான எல்லைச் செலவுகளின் கீழாகும்.
- 2) நிறைவில் போட்டி மற்றும் குறைந்து செல்லும் எல்லைச் செலவுகளின் கீழாகும்.
- 3) நிறைபோட்டி மற்றும் அதிகரிக்கும் எல்லைச் செலவுகளின் கீழாகும்.
- 4) நிறைவில் போட்டி மற்றும் அதிகரிக்கும் எல்லைச் செலவுகளின் கீழாகும்.

5) நிறைபோட்டி மற்றும் குறைந்து செல்லும் எல்லைச் செலவுகளின் கீழாகும்.

181. நிறைபோட்டி நிறுவனமொன்று இலாபத்தை உச்சப்படுத்துவது.

- 1) எல்லைச் செலவு விலைக்கு சமமாகவும், விலை ஆகக் குறைந்த சராசரி மாறும் செலவிற்கு மேலாகவும் இருக்கும் பொழுது.
- 2) எல்லைச் செலவு விலைக்கு சமமாகவும் விலை ஆகக் குறைந்த சராசரி நிலையான செலவுக்கு மேலாகவும் இருக்கும் பொழுது.
- 3) மொத்த வருமானம் உச்சமாகவிருக்கும் பொழுது.
- 4) சராசரி மாறும் செலவு ஆகக் குறைவாக இருக்கும் பொழுது.
- 5) சராசரி மொத்தச் செலவு ஆகக் குறைவாக இருக்கும் பொழுது.

182. உற்பத்திக் காரணியொன்றின் நிரம்பல் வளையி நெகிழ்ச்சியற்ற நிலையிலிருந்து நெகிழ்ச்சியுள்ள நிலைமைக்கு நகருமாயின்,

- | | |
|-----------------|-----------------|
| மாற்றல் வருவாய் | பொருளியல் வாடகை |
| 1) அதிகரிக்கும் | அதிகரிக்கும் |
| 2) மாறாது | குறையும் |
| 3) அதிகரிக்கும் | குறையும் |
| 4) குறையும் | அதிகரிக்கும் |
| 5) குறையும் | மாறாது |

183. ஒரு நிறுவனத்தின் நிலையான செலவு 100 ரூபாவாகும். வெளியீட்டின் ஒரு அலகிற்கான மொத்த செலவு 200 ரூபாவாகவும் மற்றும் இரு அலகுகளுக்கான மொத்த செலவு 310 ரூபாவாகவும் இருப்பின் இரண்டாவது அலகின் எல்லைச் செலவு யாது?

- 1) 100ரூபா 2) 110ரூபா 3) 200ரூபா 4) 210ரூபா 5) 310ரூபா

184. கீழே பிரயோக உலகில் காணப்படும் 5 வகையான சந்தைகள் தரப்பட்டுள்ளன. அவற்றை கோட்பாட்டு ரீதியாக நீர் கற்ற சந்தை அமைப்புகளுள் பொருத்தும் போது சரியான ஒழுங்கை காட்டும் தொகுதியை தெரிவுசெய்க.

1. மோட்டார் கார்களை உற்பத்தி செய்யும் நிறுவனம்
2. வெங்காய உற்பத்தியில் ஈடுபடும் விவசாயிகள்
3. இலங்கை புகையிரத சேவை
4. சிகை அலங்கரிப்பு நிலையம்
5. இலங்கையிலுள்ள தொலைபேசி நிறுவனம்

- | |
|------------------------------|
| A - நிறைபோட்டிச் சந்தை |
| B - தனியுரிமைச் சந்தை |
| C - சிலநுரிமைச் சந்தை |
| D - தனியுரிமை போட்டிச் சந்தை |

- 1) ACDBC 2) CABDC 3) ACBDC 4) DCBBA 5) CDBAB

185. நிறைபோட்டிக்கும் தனியுரிமைக்கும் இடையிலான ஒற்றுமை என்ன?

- 1) நிறுவனக் கேள்விக் கோடு கிடையச்சுக்கு சமாந்தரமாகக் காணப்படும்.
- 2) சந்தை விலை தீர்மானிப்போன்.
- 3) நிறுவனம் விலை ஏற்போன்.
- 4) ஓரினத் தன்மை வாய்ந்த பொருட்கள்.
- 5) விளம்பரம் மேற்கொள்ளப்படுவதில்லை.

186. எல்லை உற்பத்தி பூச்சியமாக காணப்படும் போது ஏற்படும் வேலையின்மை.

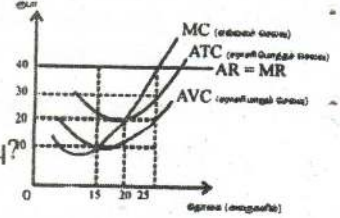
- 1) தகுதிக் கேற்ற வேலையின்மை
- 2) மறைமுக வேலையின்மை
- 3) உராய்வு வேலையின்மை
- 4) பருவகால வேலையின்மை
- 5) அமைப்பு ரீதியான வேலையின்மை

187. நிறைபோட்டி நிறுவனமொன்றில் எல்லை வருமானம் (MR) ஏன் சராசரி வருமானத்திற்கு (AR) சமனாக காணப்படுகிறது?
- 1) விற்பனை அலகுகள் மாற்றமின்றி காணப்படுகின்றமை.
 - 2) கொடுக்கப்பட்ட விலையில் விரும்பிய அலகுகளை விற்பனை செய்கின்றமை.
 - 3) கொடுக்கப்பட்ட விலையில் ஓரினத்தன்மை வாய்ந்த பொருட்களை தாராளமாக விற்பனை செய்கின்றமை.
 - 4) நிறுவனம் விலை தீர்மானிப்போனாகத் தொழிற்படுகின்றமை.
 - 5) நிறுவனத்தின் சந்தை நிரம்பல் அதிகமாக காணப்படுகின்றமை.
188. நிறைபோட்டி நிறுவனமொன்றினது 10 அலகு வெளியீட்டின் போது AFC ரூபா.15 ஆகவும் TC ரூபா.450 ஆகவும் உள்ளது. வெளியீடு 20 அலகுகளால் அதிகரிக்கும் போது எல்லைச் செலவு ரூபா.75 ஆகும். இந்நிலையில் சராசரி மாறும் செலவு யாது?
- 1) 75
 - 2) 5
 - 3) 60
 - 4) 30
 - 5) 25
189. நிறைபோட்டிச் சந்தையொன்றில் சமநிலை விலை ரூபா.400 ஆகவும், எல்லைச் செலவுச் சமன்பாடு $MC=200+4Q$ எனவும் இருப்பின் நிறுவனத்தின் குறுங்கால இலாபத்தை உச்சப்படுத்தும் வெளியீடு யாது?
- 1) 100
 - 2) 50
 - 3) 1800
 - 4) 2000
 - 5) 200
190. நிறைபோட்டி நிறுவனமொன்றின் குறுங்காலத்தில் நட்டமடையும் நிலை என்பது.
- 1) நிறுவனத்தின் சராசரி வருமானத்தை விட சராசரிச் செலவு உயர்வாக இருத்தல்.
 - 2) நிறுவனத்தின் எல்லை வருமானத்தை விட எல்லைச் செலவு குறைவாக இருத்தல்.
 - 3) நிறுவனத்தின் மொத்த வருமானம் மொத்தச் செலவை விட உயர்வாக இருத்தல்.
 - 4) நிறுவனத்தின் மொத்த வருமானத்தைவிட மொத்தச் செலவு உயர்வாக இருத்தல்.
 - 5) நிறுவனத்தின் சராசரி வருமானமும் எல்லைச் செலவும் சமனாக இருத்தல்.
191. எல்லை உற்பத்தி (MP) என்பது.
- 1) அனைத்து அலகுகளுக்குமான வெளியீடு
 - 2) ஓரலகு ஊழியத்துக்கான வெளியீடு
 - 3) ஓரலகு மேலதிக ஊழியத்தினால் மொத்த வெளியீட்டில் ஏற்படும் அதிகரிப்பு.
 - 4) சராசரி உற்பத்திக் கோட்டின் சரிவு
 - 5) மொத்த வெளியீட்டில் ஏற்படும் மாற்றத்திற்கும் ஊழிய எண்ணிக்கையில் ஏற்படும் மாற்றத்திற்கும் இடையிலான நூற்றுவீதமாகும்.
192. குறைந்து செல்லும் எல்லை விளைவு விதிக்கான எடுகோள் அல்லாதது.
- 1) தொழில்நுட்பம் மாறாது.
 - 2) குறிப்பிட்ட ஒரு காரணி மட்டும் மாறும் காரணி.
 - 3) வெளியீட்டின் போதான அனைத்து உள்ளீடுகளும் மாற்றமடையும்.
 - 4) மாறும் காரணிகள் ஓரினத்தன்மை வாய்ந்தவை.
 - 5) குறிப்பிட்ட ஒரு காரணி மாறும் ஏனையவை நிலையானவை
193. அளவுத் திட்டச் சிக்கனங்களை ஏற்படுத்தும் காரணி அல்லாதது.
- 1) நிதியீட்டச் சிக்கனம்
 - 2) வளத் தேய்வு
 - 3) தொழில்நுட்பச் சிக்கனம்
 - 4) ஊழியச் சிக்கனம்
 - 5) தொழிற்பிரிப்பும் சிறப்புச் தேர்ச்சியும்

194. நீண்டகாலச் சராசரிச் செலவுக் கோடு (LAC) குறிப்பிட்ட எல்லையின் பின் மேல்நோக்கிச் செல்வதற்கான காரணம்.

- 1) அளவுத்திட்டச் சிக்கனங்கள்
- 2) அதிகரிக்கும் அளவுத்திட்ட விளைவு விதி
- 3) அளவுத்திட்டச் சிக்கனமில்லிகள்
- 4) மாறா அளவுத்திட்ட விளைவு விதி
- 5) மாறும் சமவிகித விதி

195. பின்வரும் வரைபடம் நிறைபோட்டி நிறுவனமொன்று குறுங்காலத்தில் எதிர் நோக்கும் செலவு மற்றும் வருமான வளையிகளைக் காட்டுகிறது.



- ஓரளவுக்கான சந்தை விலை ரூபா.40.00 ஆயின் நிறுவனத்தின் மொத்தப் பொருளியல் இலாபம் எவ்வளவு?
- 1) ரூபா.500
 - 2) ரூபா.400
 - 3) ரூபா.700
 - 4) ரூபா.250
 - 5) ரூபா.600

196. உழைப்பிற்கான கேள்வியை நிர்ணயிக்கும் பிரதான காரணி எது?

- 1) சம்பளங்களின் அளவு
- 2) கல்வி, பயிற்சி
- 3) வேலை வாய்ப்பு
- 4) மூலதனம்
- 5) விளைதிறன்

197. பின்வரும் எந்த சந்தை வகையில் உத்தமவள ஒதுக்கீடு நடைபெறுதல் சாத்தியமானது?

- 1) நிறைபோட்டி
- 2) தனியுரிமை
- 3) தனியுரிமைப் போட்டி
- 4) சிலருரிமை
- 5) நிறைவில் போட்டி

198. ஒரு நிறுவனம் குறித்த பண்டத்தில் 20 அலகுகளை உற்பத்தி செய்தது. அலகொன்றின் சராசரிச் செலவு ரூபா.8000 ஆகும். தற்போது உற்பத்தியை 21 அலகுகளாக அதிகரிக்கின்றது. மேலதிக உற்பத்தியின் காரணமாக சராசரிச் செலவு ரூபா.7900 ஆகக் குறைந்தது. இம் மேலதிக உற்பத்தியின் எல்லைச் செலவு என்ன?

- 1) ரூபா.100
- 2) ரூபா.376
- 3) ரூபா.470
- 4) ரூபா.5900
- 5) ரூபா.7900

199. ஊழியரின் சராசரி உற்பத்தியை காட்டிலும் ஊழியரின் எல்லை உற்பத்தி குறைவாக உள்ளபோது.

- 1) ஊழியரின் சராசரி உற்பத்தி அதிகரித்துச் செல்லும்.
- 2) ஊழியரின் எல்லை உற்பத்தி அதிகரித்துச் செல்லும்.
- 3) மொத்த உற்பத்தி வளையி எதிர்கணிய சரிவுடையதாக இருக்கும்.
- 4) நிறுவனம் குறையும் விளைதிறனை கொண்டிருக்கும்.
- 5) மேற்கூறிய எதுவும் உண்மையற்றது.

200. பின்வருவனவற்றுள் தவறான கூற்று அல்லாதது.

- 1) எல்லை உற்பத்திக் கோட்டின் அதிஉச்சப் புள்ளியினூடாக சராசரி உற்பத்திக் கோடு வெட்டிச் செல்லும்.
- 2) AFC கோடு ஒருங்கிய "U" வடிவமாக காணப்படும்.
- 3) சராசரி உற்பத்திக் கோட்டின் உச்சப்புள்ளியினூடாக எல்லை உற்பத்திக் கோடு வெட்டி கீழ்நோக்கிச் செல்கின்றபோது சராசரிச் செலவுக்கோட்டின் அதி தாழ்ந்த புள்ளியினூடாக எல்லைச் செலவுக்கோடு மேல் நோக்கிச் செல்லும்.
- 4) சராசரிச் செலவுக்கோட்டிற்கும் சராசரி மாறும் செலவுக்கோட்டிற்கும் இடையிலான இடைவெளி மொத்த நிலையான செலவாகும்.
- 5) குறைந்து செல்லும் விளைவு விதிபினால் நீண்டகாலச் செலவுகள் அதிகரித்துச் செல்கின்றன.

தேர்ச்சி - 04

பேரினப் பொருளாதாரச் செயற்பாட்டின் அடிப்படையில்
தேசிய கணக்கீட்டைத் தயாரித்தல்.

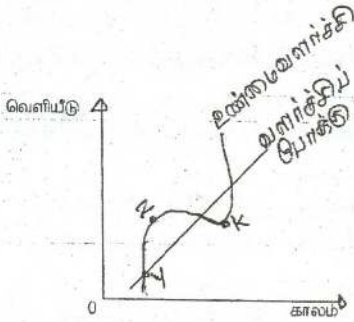
1. தேசிய கணக்கீடு என்பதன் பொருள் என்ன?
 - 1) ஒரு பொருளாதாரத்திலுள்ள அனைத்து உற்பத்தி அலகுகளினதும் கணக்குகளின் கூட்டுத்தொகை.
 - 2) கூட்டிய பெறுமதியினைப் பயன்படுத்தி பெறப்படும் தேசிய வெளியீடு.
 - 3) ஒரு நாட்டின் உற்பத்தி தொடர்பான வெளியீடு, வருமானம், செலவீடு ஆகிய வழிமுறைகளைப் பயன்படுத்தி பெறப்படும் பெறுமதி ஆகும்.
 - 4) காரணி வருமானங்களான வாடகை, கூலி, வட்டி, இலாபம், சுயதொழில் வருமானம் என்பவற்றின் கூட்டிய பெறுமதி.
 - 5) மொத்த உள்நாட்டு உற்பத்தியுடன் வெளிநாட்டிலிருந்து கிடைத்த தேசிய காரணி வருமானத்தைச் சேர்த்த பெறுமதி.
2. வெளியீடு, வருமானம், செலவு ஆகிய மாற்றீடான அணுகு முறைகளைப் பயன்படுத்தி தேசிய உற்பத்திப் பற்றிய மதிப்பீகள் மேற்கொள்ளப்படும் போது ஏன் ஒரே முடிவினைத் தருகின்றன?
 - 1) ஒரு பொருளாதாரத்தின் மொத்த வெளியீடு, மொத்த வருமானம், மொத்தச் செலவீடு என்பன கட்டாயம் சமனாக உள்ளமையால்.
 - 2) தேசிய வெளியீட்டின் பெறுமதி, அவ்வெளியீட்டிலிருந்து பெறப்படும் வருமானம், வெளியீட்டின் மீதான செலவு என்பன ஒரே விடயத்தைக் குறிப்பதனால்.
 - 3) தேசிய வருமானச் சுற்றோட்டம் அவை சமனாவதை உறுதிப்படுத்துவதால்.
 - 4) உற்பத்தி முழுவதும் கொள்வனவு செய்யப்படுவதால்.
 - 5) காரணி வருமானங்களின் கூட்டிய பெறுமதியாக இருப்பதால்.
3. பின்வரும் செலவு வகைகளில் தேசிய கணக்கீட்டில் உள்ளடக்கப்படும் செலவு யாது?
 - 1) அரசு உத்தியோகத்தருக்கான சம்பளக் கொடுப்பனவு.
 - 2) இரண்டாம்தரப் பங்குச் சந்தையொன்றில் 2000 ரூபா பெறுமதியான கம்பனிப் பங்குகளை கொள்வனவு செய்தல்.
 - 3) வங்கித் துறையிடமிருந்து அரசாங்கம் பெற்ற குறுங்காலக் கடனுக்கான வட்டி செலுத்தல்கள்.
 - 4) தளபாட மலிவு விற்பனையில் 5000 ரூபா பெறுமதியான தளபாடங்களை கொள்வனவு செய்தல்.
 - 5) ஓய்வு பெற்ற அரசாங்க ஊழியர் பெறும் மாதாந்த ஓய்வூதியக் கொடுப்பனவு.
4. பின்வருவனவற்றுள் தவறான கூற்று எது?
 - 1) சந்தை விலை மொத்த உள்நாட்டு உற்பத்தியும் மொத்த உள்நாட்டு உற்பத்தி மீதான செலவும் சமனாகக் காணப்படும்.
 - 2) முடிய பொருளாதாரத்தில் மொத்த உள்நாட்டுச் செலவும் மொத்தத் தேசிய உற்பத்தியும் சமனாக அமையும்.

தேர்ச்சி - 04 - M.C.Q

- 3) மொத்தத் தேசிய உற்பத்திகளின் சராசரி விலை மட்டங்களை தேசிய உள்ளாந்த விலைச் சுட்டெண் மதிப்பிடுகிறது.
 - 4) மொத்த உள்நாட்டு வருமானத்தினுள் பெறுமானத் தேய்வு உள்ளடங்குவதில்லை.
 - 5) வளங்கிடைப்பனவுகளும், வளப்பயன்பாடுகளும் எப்போதும் சமனாகும்.
5. நாட்டின் தேசியக் கணக்கீட்டில் வெளிநாட்டிலிருந்து கிடைத்த தேறிய கரணி வருமானம் எதிர்க்கணியமாக இருப்பினும்.
- 1) பொருட்கள் நிலுவைப் பற்றாக்குறையாக காணப்படும்.
 - 2) தேறிய காரணி அல்லாப்பணி எதிர்க்கணியமாக இருக்கும்.
 - 3) GDP இனை விட GNP உயர்வாகும்.
 - 4) சென்மதி நிலுவையின் நடைமுறைக்கணக்கு பற்றாக்குறையாக காணப்படும்.
 - 5) சென்மதி நிலுவையின் வருமானக்கணக்கு நிலுவை எதிர்கணியமாக அமையும்.
6. மொத்த உள்நாட்டுச் செலவினை விட மொத்த தேசிய உற்பத்தி உயர்வாக இருக்கக் காரணம்.
- 1) காரணிப்பணி இறக்குமதியைவிட காரணிப்பணி ஏற்றுமதி பெரிதாக இருத்தல்.
 - 2) வெளிநாட்டில் இருந்து கிடைத்த தேறிய காரணி வருமானம் நேர்க்கணியமாக இருத்தல்.
 - 3) பொருட்கள் காரணியல்லா பணிகளின் தேறிய ஏற்றுமதி எதிர்க்கணியமாக இருத்தல்.
 - 4) பொருட்கள் சேவைகள் நிலுவை நேர்க்கணியமாக இருத்தல்.
 - 5) பொருட்கள் சேவைகள் ஏற்றுமதியை விட பொருட்கள் சேவை இறக்குமதி உயர்வாக இருத்தல்.
7. பின்வருனவற்றுள் பிழையான சமன்பாடு?
- 1) காரணி விலைத்தேறிய உள்நாட்டு உற்பத்தி = வாடகை + கூலி + வட்டி + இலாபம்
 - 2) காரணிவிலை = சந்தைவிலை + தேறிய மானியம்
 - 3) மெய்த்தேசிய - மாறாவிலைத்தேசிய = ஏற்றுமதிகளால் வர்த்தக வருமானம் உற்பத்தி மாற்று விகிதத்தில் எழுந்த விளைவுகள்
 - 4) மொத்த தேசிய = மொத்த தேசிய - மொத்த நுகர்வு சேமிப்பு செலவிடத்தக்க வருமானம்
 - 5) காரணிவிலை மொத்த உள்நாட்டு = மொத்த உள்நாட்டு உற்பத்தி உற்பத்தி மீதான செலவு
8. சந்தைவிலை மொத்த தேசிய உற்பத்தி என்பது.
- 1) நேரில்வரி உள்ளடக்கப்படும் மானியம் நீக்கப்படும் மதிப்பிடப்படுவது.
 - 2) காரணிவிலை GNP இலிருந்து தேறிய நேரில்வரி நீக்கிய பெறுமதியாகும்.
 - 3) காரணிவிலை உடன் தேறிய மானியம் கூட்டப்பட்டு மதிப்பிடுவது ஆகும்.
 - 4) மானியங்களை உள்ளடக்கியும் நேரில்வரியினை நீக்கியும் மதிப்பிடப்படுவது.
 - 5) மொத்தத் தேசிய உற்பத்தி மீதான செலவுக்கு சமனற்று காணப்படும்.
9. வரைபடமானது பொருளாதாரமொன்றின் வளர்ச்சிப் போக்கினையும் உண்மை வளர்ச்சிப் பாதையினையும் காட்டுகின்றது. உண்மை வளர்ச்சிப் பாதையில் புள்ளி

தேர்ச்சி - 04 - M.C.Q

Y யிலிருந்து Z வரையிலான அசைவின் போது பொருளாதாரத்தில் நிலவும் தன்மையினை பின்வருவனவற்றுள் எச்சேர்க்கை விபரிக்கின்றது?



வர்த்தக சகடோட்ட நிலை	வெளியீட்டு இடைவெளி
1. செழிப்பு (விரிவாக்கம்)	எதிர்க்கணியம்
2. பின்னடைவு (சுருக்கம்)	நேர்க்கணியம்
3. செழிப்பு	நேர்க்கணியம்
4. பின்னடைவு (சுருக்கம்)	எதிர்க்கணியம்
5. மந்தம்	நேர்க்கணியம்

10. பின்வருவனவற்றில் மொத்த மெய் உள்நாட்டு உற்பத்தியின் அளவில் பாதிப்பை ஏற்படுத்தாதது எது?
- 1) நுகர்வோன் ஒருவன் தனது தனிப்பட்ட உபயோகத்திற்காக புதிய மோட்டார் வண்டியொன்றை கொள்வனவு செய்தல்.
 - 2) அரசாங்கம் தனது பாதுகாப்பு கற்கை நிறுவனத்திற்காக புதிய பேருந்து வண்டியொன்றை கொள்வனவு செய்தல்.
 - 3) நுகர்வோனொருவன் சிகையலங்கார சேவையினைப் பெற்றுக் கொள்ளல்.
 - 4) ஒரு முதலீட்டாளன் அரியவகை ஓவியமொன்றை ஏலத்தில் கொள்வனவு செய்தல்.
 - 5) ஒரு நிறுவனம் தனது தொழிற்சாலைக்காக புதிய மின்பிறப்பாக்கியொன்றை கொள்வனவு செய்தல்.
11. மொத்த உள்நாட்டு வருமானமும் மொத்தத் தேசிய வருமானமும் சமனாக அமையாத சந்தர்ப்பம்.
- 1) வெளிநாட்டிலிருந்து கிடைத்த தேறிய காரணி வருமானம் பூச்சியமாக இருத்தல்.
 - 2) காரணிப்பணி ஏற்றுமதியும் காரணிப்பணி இறக்குமதியும் ஒன்றுக்கொன்று சமனாக இருத்தல்.
 - 3) குறித்த பொருளாதாரம் மூடப்பட்ட பொருளாதாரம் உள்ளபோது.
 - 4) தேறிய காரணிப்பணி ஏற்றுமதி இல்லாதிருத்தல்.
 - 5) பொருட்கள் காரணியல்லா பணி ஏற்றுமதியும் பொருட்கள் காரணியல்லா பணி இறக்குமதியும் சமனாக இருத்தல்.
12. மொத்த உள்நாட்டு உற்பத்தியானது?
- 1) தரப்பட்ட வருடமொன்றில் பரிமாற்றம் செய்யப்பட்ட மொத்த பொருள்கள் சேவைகளின் பெறுமதியாகும்.
 - 2) தரப்பட்ட வருடமொன்றில் மேற்கொள்ளப்பட்ட பங்குகளின் கொள்வனவு முறிகளின் விற்பனை போன்ற நிதிப் பரிமாற்றங்களை உள்ளடக்கியதாகும்.
 - 3) உற்பத்தியின் இடைநிலையில் தெரிவுசெய்யப்பட்ட பொருட்கள் உள்ளடக்கியதாகும்.
 - 4) தரப்பட்ட வருடமொன்றில் உள்நாட்டில் உற்பத்தி செய்யப்பட்ட எல்லா இறுதிப்பொருள்கள் சேவைகள் மீது மேற்கொள்ளப்பட்ட மொத்த உற்பத்திகளின் கூட்டிய பெறுமதியாகும்.

தேர்ச்சி - 04 - M.C.Q

- 5) தரப்பட்ட வருடமொன்றில் உற்பத்தி செய்யப்பட்ட எல்லாப் பொருள்கள் சேவைகளையும் உள்ளடக்குகின்றது.
13. பின்வரும் கூற்றுக்களில் தேசிய வருமானத்தை வெளிப்படுத்தும் சரியான கூற்று?
- 1) வாடகை + கூலி + தேறியவட்டி + இலாபம் + வெளிநாட்டு தேறியகாரணி வருவாய்
 - 2) வாடகை + கூலி + மொத்தவட்டி + இலாபம் + வெளிநாட்டுத் தேறிய காரணி வருவாய்.
 - 3) வாடகை + கூலி + தேறிய வட்டி + இலாபம் + தேறிய ஏற்றுமதி
 - 4) வாடகை + கூலி + தேறியவட்டி + இலாபம் + தேறிய வெளிநாட்டு நடைமுறை மாற்றல்கள்.
 - 5) வாடகை + கூலி + தேறியவட்டி + இலாபம் + தேறிய நேரில்வரி
14. தவறான கூற்றாக உங்களால் கருதப்படுவதனை இனங்காண்க.
- 1) மொத்த உள்நாட்டு உற்பத்தி மீதான செலவீடு மொத்த உள்நாட்டு உற்பத்தியினைக் கொள்வனவு செய்வதற்கான செலவாகும்.
 - 2) மொத்த உள்நாட்டு உற்பத்தியுடன் வெளிநாட்டு வர்த்தக நிலுவையினைக் கூட்டுமிடத்து கிடைப்பது மொத்த தேசிய உற்பத்தி.
 - 3) வருமான அணுகுமுறையினைப் பயன்படுத்தி தேசிய உற்பத்தியினை மதிப்பிடும் பொழுது காரணி (உழைப்பு) வருமானங்களே கணக்கில் எடுக்கப்படும்.
 - 4) ஒரு வருடத்து மொத்த தேசிய உற்பத்தியினை அதற்கு முற்பட்ட ஆண்டு நிலையான விலைகளில் மதிப்பீடு செய்து பெறுவது மெய்த் தேசிய உற்பத்தியாகும்.
 - 5) நடப்பு விலைகளில் உள்ள மொத்தத் தேசிய உற்பத்தியினை நிலையான விலைகளிலான மொத்த தேசிய உற்பத்தியாக மாற்றுமிடத்து அதன் விளைவாக உள்ளாந்த மொத்தத் தேசிய விலைச்சட்டி கிடைக்கின்றது.
15. ஒரு நாட்டின் தேசிய உற்பத்தியினை செலவீட்டு முறையினைப் பயன்படுத்தி மதிப்பிடும் பொழுது நீக்கப்படும் செலவீட்டுக் கூறினை இனங்காண்க.
- 1) போர் தொடர்பாக அரசாங்கத்திற்கு ஏற்படும் செலவு.
 - 2) தொழில் நிறுவனங்களால் இறுதிப் பொருள்களின் மீது செய்யப்பட்ட செலவு.
 - 3) வெளிநாட்டிலிருந்து அரசாங்கத்தினால் கடன் பெற்றுச் செய்யப்பட்ட செலவு.
 - 4) நிலம், சொத்து ஆகியவற்றின் மீள் விற்பனை.
 - 5) மேற்காட்டிய எவையுமன்று.
16. பொருளாதாரமொன்றின் தரவுகள் வருமாறு.

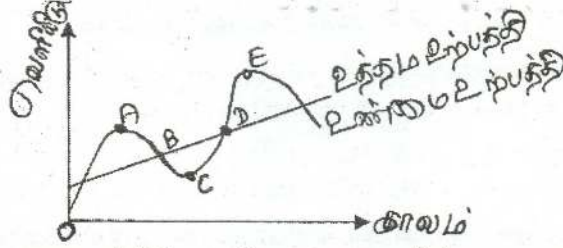
விடயம்	பெறுமதி மில்லியன் ரூபா.
வீட்டுத்துறை நுகர்வு	1,200
அரசு கொள்வனவு	600
தேறிய முதலீடுகள்	700
தேறிய வெளிநாட்டு கேள்வி	500
உள்நாட்டு சேமிப்புக்கள்	1,300

சந்தைவிலையிலான மொத்த உள்நாட்டு உற்பத்தி யாது?

- 1) 2,600 மில்லியன் ரூபா.
- 2) 2,700 மில்லியன் ரூபா.
- 3) 2,800 மில்லியன் ரூபா.
- 4) 2,900 மில்லியன் ரூபா.

தேர்ச்சி - 04 - M.C.Q

- 2) 3,100 மில்லியன் ரூபா. 5) 3,200 மில்லியன் ரூபா.
3) 4,100 மில்லியன் ரூபா.
17. குறிப்பிட்ட பொருளாதாரம் ஒன்றின் உண்மை உற்பத்தியினையும் சாத்தியவள உற்பத்தியினையும் பின்வரும் வரைபு காட்டுகின்றது.



- மேற்கரப்பட்ட வரைபடத்தின் படி பொருளாதார பின்னடைவாக காணப்படுவது?
- 1) A இலிருந்து Cக்கு பின்னோக்கிச் செல்லும் கால கட்டத்தில்.
2) C இலிருந்து Eக்கு உயர்ந்து செல்லும் கால கட்டத்தில்.
3) Dயில் Eக்கு உயர்ந்து செல்லும் கால கட்டத்தில்.
4) Bயிலிருந்து Cக்கு பின்னோக்கிச் செல்லும் போது
5) Cயில் இலிருந்து D வரை உயர்ந்து செல்லும் கால கட்டத்தில்

18. கற்பனையான பொருளாதாரத்தின் தகவல்கள் வருமாறு.

விடயம்	மில்லியன் ரூபா
பெறுமானத் தேய்வு	20
தேறிய மூலதன ஆக்கம்	200
தேறிய ஏற்றுமதி	-50
தனியார் நுகர்வு	120
தேறிய காரணி வருமானம்	-70

இங்கு மொத்த உள்நாட்டு சேமிப்பின் பெறுமதி யாது?

- 1) 150 மில்லியன் 3) 270 மில்லியன் 5) 100 மில்லியன்
2) 170 மில்லியன் 4) 220 மில்லியன்
19. கீழ்வரும் வருமான மூலங்களுள் வேலை வாய்ப்பு வருமானத்தில் உள்ளடங்கும் விடயத்தொகுதி யாது?
- 1) ஊழியர்கள் சம்பளம், வாழ்க்கைப்படி, வதிவிடக் கொடுப்பனவு, சுயதொழில் வருமானம்.
2) ஊழியர்கள் சம்பளம், வாழ்க்கைப்படி, வதிவிடக் கொடுப்பனவு, மெய்யாதனத்திற்கான வாடகை.
3) ஊழியர்கள் சம்பளம், வாழ்க்கைப்படி, வதிவிடக்கொடுப்பனவு, பொருள்களாக வழங்கப்படும் ஏனைய நலன்கள்.
4) வாழ்க்கைப்படி, வதிவிடக் கொடுப்பனவு, சுயதொழில் வருமானம், பொருள்களாக வழங்கப்படும் ஏனைய நலன்கள்.
5) ஊழியர்கள் சம்பளம், வதிவிடக் கொடுப்பனவு, சுயதொழில் வருமானம், பொருள்களாக வழங்கப்படும் ஏனைய நலன்கள்.
20. கற்பனையான பொருளாதாரம் ஒன்று தொடர்பான தரவுகள் பின்வருமாறு.

தேர்ச்சி - 04 - M.C.Q

வாடகை	400
சூலியும் சம்பளமும்	600
வட்டி	250
இலாபங்கள்	150
மூலதன நுகர்ச்சி	75
தேறிய நேரில் வரி	100
வெளிநாட்டில் இருந்ததான தேறிய காரணி வருமானம்	50

இப் பொருளாதாரத்தின் தேறிய வருமானம் சந்தை விலையில் மொத்த உள்நாட்டு உற்பத்தி என்பன முறையே.

- 1) 1525, 1625 3) 1450, 1575 5) 1450, 1625
 2) 1450, 1400 4) 1575, 1625

21. வர்த்தக சகடவோட்மொன்றின் விரிவாக்க கட்டத்தில் பின்வருவனவற்றில் எது பெரும்பாலும் நிகழக்கூடும்?
- 1) மெய்மொத்த உள்நாட்டு உற்பத்தி அதிகரிக்கும் அதேவேளை வேலையின்மை வீழ்ச்சியடையும்.
 2) மெய்மொத்த உள்நாட்டு உற்பத்தி வேலையின்மை என்பன அதிகரிக்கும்.
 3) மெய்மொத்த உள்நாட்டு உற்பத்தி குறைவடையும் அதேவேளை பணவீக்கம் உயரும்.
 4) வட்டி வீதங்கள் உயரும் அதேவேளை தோல்வியடையும் வர்த்தக முயற்சிகளின் எண்ணிக்கை உயரும்.
 5) பணவீக்கம் உயரும் அதேவேளை தொழில் வாய்ப்புக்கள் வீழ்ச்சியடையும்.
22. சந்தை விலைகளில் தேறிய உள்நாட்டு உற்பத்தியானது,
- 1) நுகர்வு, அரசு கொள்வனவு, தேறிய ஏற்றுமதிகள், முதலீட்டு செலவீடு என்பவற்றின் கூட்டுத்தொகையாகும்.
 2) நுகர்வு, அரசுகொள்வனவு, தேறிய ஏற்றுமதிகள், தனிநபர் வரிகள் என்பவற்றின் கூட்டுத்தொகையாகும்.
 3) வர்த்தக நேரில்வரிகள், தனிநபர் வருமான வரிகள், தேறிய ஏற்றுமதிகள் என்பவற்றின் கூட்டுத்தொகையாகும்.
 4) எல்லா உள்நாட்டுக் காப்பி வருமானங்களையும் நேரில் வரிகளையும் கூட்டி மானியங்களைக் கழித்து உயரும் தொகையாகும்.
 5) எல்லாக் காரணி வருமானங்களின் கூட்டுத்தொகையிலிருந்து பெறுமானத் தேய்வினைக் கழிக்கவருவதாகும்.
23. காலணி உற்பத்தியாளர் ஒருவர் ரூபா.1500 பெறுமதியான தோல், ரூபா.200 பெறுமதியான நூல் என்பவற்றைக் கொள்வனவு செய்து காரணிகளை உற்பத்தி செய்து நுகர்வோருக்கு அவற்றை 10,000ரூபாவுக்கு விற்பனை செய்கிறார். மொத்த உள்நாட்டு உற்பத்திக்கு அவரது பங்களிப்பு.
- 1) ரூபா.11,750 ஆகும். 4) ரூபா.1,700 ஆகும்.
 2) ரூபா.10,200 ஆகும். 5) ரூபா.8,300 ஆகும்.
 3) ரூபா.10,000 ஆகும்.
24. நடப்பு ஆண்டில் பொருளாதாரத்தில் மொத்த உள்நாட்டு மெய்யுற்பத்தி ரூபா.8000 மில்லியனாகவும் அதே ஆண்டில் பெயரளவிலான மொத்த உள்நாட்டு உற்பத்தி ரூபா. 6000 மில்லியனாகவும் இருக்குமாயின் மொத்த உள்நாட்டு உற்பத்திச் சுருக்கி.

தேர்ச்சி - 04 - M.C.Q

- 1) 0.75ற்கு சமனாகும். 4) 1.75ற்கு சமனாகும்.
 2) 0.33ற்கு சமனாகும். 5) 2.00ற்கு சமனாகும்.
 3) 0.66ற்கு சமனாகும்.
25. சந்தை விலைகளில் கணிக்கப்படும் தேறிய உண்ணாட்டு வருமானம் எதற்குச் சமனாகும்?
- 1) தனியார் நுகர்வுச் செலவு + அரசாங்க நுகர்வு + தேறிய ஏற்றுமதிகள் + முதலீட்டுச் செலவு
 - 2) தனியார் நுகர்வுச் செலவு + அரசாங்க நுகர்வு + ஏற்றுமதிகள் + தனியார் வரிகள்
 - 3) நேரில் வியாபார வரிகள் + தனிநபர் வருமானம் + தேறிய ஏற்றுமதிகள் - பெறுமானத் தேய்வு
 - 4) முழுக்காரணி வருமானங்கள் + நேரில் வரிகள் - மானியங்கள்
 - 5) முழுக்காரணி வருமானங்கள் - பெறுமானத்தேய்வு
26. மொத்த தேசிய உற்பத்திக் கணிப்பீட்டில் இரட்டை எண்ணல் பிரச்சனையை தவிர்ப்பதற்கு?
- 1) வெளியீட்டுப் பெறுமதியிலிருந்து இறக்குமதி செய்யப்பட்ட பொருட்களின் பெறுமதியை நீக்குதல்.
 - 2) இடைநிலைப் பொருட்களின் பெறுமதியைத் தவிர்த்தல்.
 - 3) உற்பத்திப் பெறுமதியிலிருந்து மறைமுக வரியினை நீக்கி உதவிப் பணத்தை சேர்த்தல்.
 - 4) உற்பத்தி செய்த பொருட்கள் சேவைகளின் பெறுமதியைச் சேர்த்தல்.
 - 5) மாற்றல் வருமானங்களைச் சேர்த்தல்.
27. பின்வரும் கூற்றுக்களில் சரியான கூற்றினை இனங்காண்க.
- 1) மொத்த உள்நாட்டுச் செலவிலும் பார்க்க மொத்த உள்நாட்டு உற்பத்தி பெரிதாக இருக்கும் போது மொத்த உள்நாட்டு சேமிப்பிலும் பார்க்க மொத்த முதலீடு சிறிதாக இருக்கும்.
 - 2) மொத்த உள்நாட்டு உற்பத்தி மீதான செலவிலும் பார்க்க மொத்த உள்நாட்டுச் செலவு சிறிதாக இருக்கும்போது மொத்த முதலீட்டிலும் பார்க்க மொத்த உள்நாட்டு சேமிப்பு சிறிதாக இருக்கும்.
 - 3) வெளிநாட்டிலிருந்து கிடைத்த தேறிய காரணி வருமானம் எதிர்க்கணியமாக இருப்பின் மொத்த உள்நாட்டுச் சேமிப்பிலும் பார்க்க மொத்த தேசிய சேமிப்பு சிறிதாக காணப்படும்.
 - 4) விலை உறுதிப்பாடு அற்ற நிலை பெரினப்பொருளாதார சமநிலையாகும்.
 - 5) வாடகை, கூலி, வட்டி, இலாபம் என்பவற்றின் பெறுமதி சந்தையில் கூட்டிய பெறுமதியாகக் காணப்படுகிறது.
28. ஒரு பொருளாதாரக் கருத்தில் பின்வருவனவற்றுள் எது தேறிய முதலீட்டில் உள்ளடக்கப்படும்?
- 1) மருந்துப் பொருட்களின் மீது அரசாங்கச் செலவீடு
 - 2) வரையறுத்த பொதுக்கம்பனிகளால் வெளியிடப்படும் பங்குகளின் கொள்வனவு.
 - 3) தேசிய சேமிப்பு வங்கியில் நுகர்வோரது சேமிப்புகள்.
 - 4) பழைய உபகரணங்களுக்குப் புதியவற்றைப் பதிலீடு செய்தல்.
 - 5) புதியதொரு கைத்தொழில் பேட்டையை நிர்மாணித்தல்.

29. பின்வருவனவற்றுள் எது தரப்பட்ட ஒரு ஆண்டிற்கான மொத்த உள்நாட்டு உற்பத்தியில் சேர்த்துக்கொள்ளப்படும்?
- 1) கம்பனி ஒன்றினது 1000 பங்குகளின் கொள்வனவு.
 - 2) பங்குக் கொடுக்கல் வாங்கலில் ஈடுபடும் ஒரு தரகு நிறுவனத்திற்கு ஒருவன் வாங்கிய பங்குகளின் பெறுமதியில் 2% வீதத்தைச் செலுத்துதல்.
 - 3) ஓய்வு பெற்ற ஒருவர் அரசாங்க சேவையாளர் பெறும் மாதாந்த ஓய்வுத் தியக் கொடுப்பனவு.
 - 4) பல்கலைக்கழக மாணவன் ஒருவன் பெறும் மாதாந்த புலமைப்பரிசில் படி
 - 5) திறைசேரி உண்டியல்களின் மீது அரசாங்கம் செலுத்தும் வட்டிக்கொடுப்பனவு
30. பின்வரும் கூற்றுக்களில் எது காரணிச் செலவு விலைகளிலான மொத்த உள்நாட்டு உற்பத்தியினை சிறப்பாக வரைவிலக்கணப்படுத்துகின்றது.
- 1) குறிப்பிட்ட ஒரு காலத்து உள்நாட்டு உற்பத்தி செய்யப்பட்ட மொத்த வெளியீடு (தேறிய மறைமுக வரிகள் கழிவாக சந்தை விலைகளில் கணிப்பிடப்படுதல்)
 - 2) குறிப்பிட்ட காலப்பகுதியில் (தேய்வுப்பெறுமானம் உட்பட) உற்பத்தியில் பயன்படுத்தப்பட்ட உற்பத்திக் காரணிகளின் மொத்தப் பெறுமதி
 - 3) உற்பத்தியில் மானியங்கள் உட்படவும் மறைமுக வரிகள் நீங்கலாகவும் கூட்டப்படும் பெறுமதி
 - 4) குறிப்பிட்ட ஒரு பிரதேசத்தில் உற்பத்தி செய்யப்பட்ட வெளியீட்டினதும் நுகர்வு செய்யப்பட்ட வெளியீட்டினதும் பெறுமதி.
 - 5) காரணி வருமானங்களின் மொத்தப் பெறுமதி.
31. மொத்தத் தேசிய உற்பத்தியின் உள்ளாந்த விலைச்சுட்டெண் பற்றிய பின்வரும் கூற்றுக்களில் எது சிறந்த வரைவிலக்கணமாக கருதப்படலாம்?
- 1) நுகர்வோர் விலைகளும் உற்பத்தியாளர்கள் விலைகளும் உள்ளடக்கியதாக கணிக்கப்பட்ட விலைக்குறிகாட்டி.
 - 2) நடைமுறை விலைகளில் மொத்தத் தேசிய உற்பத்தியினை நிலையான விலைகளிலான மொத்தத் தேசிய உற்பத்தியாகப் பெறுவதற்கு வெவ்வேறு விலைக் குறிகாட்டிகளினால் கருக்கி நிலையான மொத்தத் தேசிய உற்பத்தி கிடைக்கப்பெற்ற பின்னர் வருவித்த விலைக்குறிகாட்டி.
 - 3) நாட்டில் நுகர்வு செய்யப்படும் எல்லாப் பொருள்களையும் சேவைகளையும் உள்ளடக்கிய மத்திய வங்கியினால் தயாரிக்கப்பட்ட பிரசுரிக்கப்படாத ஒரு விலைக் குறிகாட்டி.
 - 4) அனைத்துப் பொருட்கள் சேவைகளினதும் நிறைப்படுத்திய சராசரி விலைச்சுட்டியாகும்.
 - 5) பொருட்கள் சேவைகளின் மொத்த விற்பனை விலைச் சுட்டெண்.
32. நீர் இணங்கக் கூடியதாகவுள்ள கற்றிலான நுணங்காண்க.
- 1) மொத்தத் தேசிய செலவு என்பது பொருளாதாரமொன்றின் நுகர்வு, முதலீட்டுச் செலவுகள் என்பவற்றின் கூட்டுத்தொகையாகும்.
 - 2) மொத்த உள்நாட்டுச் செலவிலிருந்து இறக்குமதிகளின் பெறுமதியைக் கழிப்பதன் மூலம் மொத்த உள்நாட்டு உற்பத்தியைப் பெறலாம்.
 - 3) மொத்தத் தேசிய உற்பத்தியிலிருந்து மூலதனச் சாதனங்களின் பெறுமானத் தேய்வினைக் கழிக்கும் பொழுது தேறிய உற்பத்தி பெற்றுக்கொள்ளப்படும்.
 - 4) உற்பத்தியிலிருந்து தோற்றுவிக்கப்படும் கூலிகள், வாடகை, வட்டி, இலாபங்கள் என்பவற்றின் கூட்டுத்தொகை தேறிய உள்நாட்டு உற்பத்திக்குச் சமனாகும்.
 - 5) திறந்த பொருளாதாரத்தின் மொத்தக் கேள்வி மொத்த உள்நாட்டுச் செலவாகும்.

33. சரியான கூற்றாக உங்களால் கருதப்படுவதனை இனங்காண்க.
- 1) மொத்த உள்நாட்டுச் செலவீடு உள்நாட்டு உற்பத்தியினை கொள்வனவு செய்வதற்கான செலவாகும்.
 - 2) மொத்த உள்நாட்டு உற்பத்தியுடன் வெளிநாட்டு வர்த்தக நிலுவையினைக் கூட்டுமிடத்து கிடைப்பது மொத்தத் தேசிய உற்பத்தி ஆகும்.
 - 3) வருமான அணுகுமுறைகளைப் பயன்படுத்தி தேசிய உற்பத்தியினை மதிப்பிடும் பொழுது உழைப்பு வருமானங்களே கணக்கில் எடுக்கப்படும்.
 - 4) தேறிய தேசிய உற்பத்தியினுள் பெறுமானத்தேய்வு உள்ளடங்குகின்றது.
 - 5) வாண்மைத் தொழில் வருமானம் தேசிய மதிப்பீட்டில் உள்ளடக்கப் படுவதில்லை.
34. மொத்த உள்நாட்டு உற்பத்தியில் இருந்து பெறுகின்ற வருமானங்களில் பின்வரும் எந்த வருமானம் சேர்க்கப்படுவதில்லை.
- 1) அரசாங்க படுகடன் மீது செலுத்தப்படும் வட்டி.
 - 2) தொழில் நிறுவனங்களின் பங்கிடப்படாத இலாபங்கள்.
 - 3) பங்குலாபம்
 - 4) அரசாங்கச் சொத்து வருமானம்
 - 5) சுயதொழில் வருமானம்
35. ஒரு நாட்டின் தேசிய உற்பத்தியினை, செலவீட்டு முறையினைப் பயன்படுத்தி மதிப்பிடும் பொழுது நீக்கப்படும் செலவீட்டுக் கூறு எது?
- 1) போர் தொடர்பாக அரசாங்கத்திற்கு ஏற்படும் செலவு.
 - 2) தொழில் நிறுவனங்களினால் இடைப்பொருள்களின் மீது செய்யப்பட்ட செலவு.
 - 3) வெளிநாட்டிலிருந்து அரசாங்கத்தினால் கடன் பெற்று செய்யப்பட்ட செலவு.
 - 4) மொத்த உள்நாட்டு நிலையான மூலதனவாக்கம்.
 - 5) சம்பளங்கள் மீதான கொடுப்பனவு.
36. மொத்தத்தேசிய வருமானத்திலிருந்து மொத்த உள்நாட்டு உற்பத்தியை மதிப்பிடுவதற்கான சீராக்கம் எது?
- 1) வெளிநாட்டிலிருந்து கிடைத்த காரணி வருமானம் சேர்க்கப்பட்டு வெளிநாட்டிற்கு அனுப்பிய காரணி வருமானம் நீக்கப்படுகிறது.
 - 2) வெளிநாட்டிலிருந்து கிடைத்த காரணி வருமானம் நீக்கப்பட்டு வெளிநாட்டிற்கு அனுப்பிய காரணி வருமானம் சேர்க்கப்படுகிறது.
 - 3) வெளிநாட்டிற்கு கிடைத்த தேறிய காரணி வருமானம் கூட்டப்படுகிறது.
 - 4) பெறுமானத்தேய்வு நீக்கப்படுகின்றன.
 - 5) பொருட்கள் காரணி அல்லாப் பணி தேறிய ஏற்றுமதி நீக்கப்படுகிறது.
37. மொத்தத் தேசிய செலவிடத்தக்க வருமானத்திலிருந்து தேறிய வெளிநாட்டு மாற்றல்களை நீக்கவருவது.
- 1) மொத்த தேசிய வருமானம்
 - 2) மொத்த உள்நாட்டு வருமானம்
 - 3) தேறிய தேசிய வருமானம்
 - 4) குடித்தன காரணி வருமானம்
 - 5) குடித்தன வருமானம்
38. காரணி வருமானங்கள் மொத்த வெளியீட்டுப் பெறுமதிக்கு சமனாகும் என்பதை வெளிக்காட்டுவது.
- 1) காரணி வருமானம் = மொத்த நுகர்வு + மொத்த முதலீடு
 - 2) கூட்டிய பெறுமதி = நுகர்வு + சேமிப்பு
 - 3) வருமானம் = வெளியீடு

தேர்ச்சி - 04 - M.C.Q

- 4) கூட்டிய பெறுமதி = வாடகை + கூலி + வட்டி + இலாபம்
 5) வெளியீடு = காரணி வருமானம் + மாற்றல் வருமானம்
39. காரணி விலைக்கும் சந்தை விலைக்கும் இடையிலான வேறுபாட்டைத் தீர்மானிப்பது.
- 1) நேரில்வரி 3) நேர்வரியும் மானியமும் 5) நேர்வரி
 2) மானியம் 4) தேறிய நேரில்வரி
40. தேசிய கணக்கீட்டின் பொதுநுகர்வு வரவு செலவுத்திட்டத்தில் கருதப்படுவது.
- 1) வட்டிக் கொடுப்பனவுகள்
 2) உண்மைச் சொத்துக் கையேற்பு
 3) பொருட்கள் சேவைகள் மீதான நடைமுறைச் செலவு
 4) நடப்பு மாற்றல்களும் உதவு தொகைகளும்
 5) மூலதன மாற்றல்கள்
41. பின்வருவனவற்றில் எது தேசிய கணக்கீட்டு நடவடிக்கைகளில் சேர்க்கப்படுவதில்லை.
- 1) வீட்டுப் பணிப்பெண்கள் ஆற்றும் சேவைகள்.
 2) இலாபம்.
 3) மின்வலு, நீர்
 4) சூழல் மாசடைதல், இயற்கை வளங்கள் தேய்வடைதல்.
 5) அரசின் பொருட்கள் சேவைகள் மீதான நடைமுறைச் செலவு
42. தேசிய வருமான மதிப்பீட்டினுள் இடம்பெறாத குடித்தன வருமானத்தினுள் உள்ளடங்கும் வருமானம் எது?
- 1) மாற்றல் வருமானம் 4) பெறுமானத் தேய்வு
 2) பகிரப்படாத இலாபம் 5) அரசின் வரியில்லா வருமானம்
 3) வர்த்தக வரி
43. மொத்த சேமிப்பின் உடமையாளர்கள்.
- 1) விவசாயத்துறை, கைத்தொழில்துறை, சேவைகளு்துறை
 2) தனியார்துறை, அரசதுறை
 3) தனியார்துறை, வெளிநாட்டுத்துறை
 4) வீட்டுத்துறை, நிறுவனத்துறை, அரசதுறை
 5) வீட்டுத்துறை, நிறுவனத்துறை, அரசதுறை, வெளிநாட்டுத்துறை
44. மொத்த உள்நாட்டுச் செலவுக்கு சமமானதாக அமைவது எது?
- 1) $C + G + I$ 4) $I + G = S + T$
 2) $C + G$ 5) $C + G + I + NX$
 3) $C + G + I + X + M$
45. நாட்டு மக்களின் வாழ்க்கைத் தர மாற்றங்களை சிறப்பாக அளவிடும் குறிகாட்டி.
- 1) பணத்தலா வருமானம்
 2) மெய் மொத்தத் தேசிய உற்பத்தி
 3) மெய்த்தலா வருமானம்
 4) ஊழியப்படை மெய்தலா வருமானம்
 5) நடப்பு விலை மொத்தத் தேசிய உற்பத்தி
46. தேசிய கணக்கீட்டு மதிப்பீட்டினுள் சேர்த்துக்கொள்ளப்படும் நடவடிக்கை.
- 1) மாற்றல் வருமானங்கள்

- 2) பயன்தரா செலவுகள்
 - 3) இடைக் கொடுப்பனவு
 - 4) இடைநிலைப் பொருட்கள் சேவைகள் மீதான செலவீனம்
 - 5) முடிவுப் பொருட்கள் சேவைகள் மீதான செலவீனம்
47. தேறிய மானியம் எதிர்க்கணியமாக காணப்படின்
- 1) சந்தைவிலை GDP இனைவிட காரணிவிலை GDP பெரிதாக காணப்படும்.
 - 2) காரணிவிலை GNP இனைவிட சந்தைவிலை GNP சிறிதாக காணப்படும்.
 - 3) காரணிவிலை NNP இனைவிட சந்தைவிலை NNP பெரிதாக காணப்படும்.
 - 4) நேரில் வரியினை விட மானியம் அதிகமாக இருக்கும்.
 - 5) மொத்த உள்நாட்டு உற்பத்தியை விட மொத்த உள்நாட்டு உற்பத்தி மீதான செலவு குறைவாக காணப்படும்.
48. மொத்த முதலீட்டை விட நிலையான முதலீடு உயர்வாக இருப்பின்
- 1) மொத்த உள்நாட்டு சேமிப்பு உயர்வாகும்.
 - 2) இருப்புக்கள் மாற்றம் எதிர்க்கணியமாகும்.
 - 3) மொத்த தேசிய சேமிப்பு குறைவாகும்.
 - 4) இருப்புக்களின் மாற்றம் நேர்க்கணியமாகும்.
 - 5) மொத்த உள்நாட்டுச் செலவு அதிகமாகும்.
49. மொத்த உள்நாட்டு வருமானத்துக்கும் மொத்த தேசிய உற்பத்திக்கும் இடையிலான வேறுபாடு.
- 1) இருப்பு மாற்றம்
 - 2) தேறிய காரணிப்பணி ஏற்றுமதி
 - 3) தேறிய பொருட்கள் காரணி அல்லாப் பணி இறக்குமதி
 - 4) தேறிய பொருட்கள் சேவைகளின் ஏற்றுமதி
 - 5) தேறிய வெளிநாட்டு முதலீடு
50. சாதனப் பயன்பாட்டிற்கு சமனாக அமையாதது.
- 1) தனியார் + அரசு + மொத்த + பொருட்கள் காரணியல்லாப் பணி நுகர்வு நுகர்வு முதலீடு ஏற்றுமதி
 - 2) மொத்த + மொத்த + பொருட்கள் காரணியல்லா நுகர்வு முதலீடு பணி ஏற்றுமதி
 - 3) மொத்த உள்நாட்டு - பொருட்கள் காரணியல்லா செலவு பணி இறக்குமதி
 - 4) மொத்த உள்நாட்டு + பொருட்கள் காரணியல்லா பணி வருமானம் இறக்குமதி
 - 5) மொத்த உள்நாட்டுச் + பொருட்கள் காரணியல்லா செலவு பணி ஏற்றுமதி
51. காரணி அல்லா சேவையினுள் உள்ளடங்காத விடயம் எது?
- 1) போக்குவரத்து
 - 2) தொடர்பாடல் பணிகள்
 - 3) தூதவராலயச் செலவுகள்
 - 4) வணிகப் பொருட் காப்புறுதி
 - 5) இலாபம், பங்கிலாபம்
52. பின்வருவனவற்றுள் சரியான கூற்றினை இனங்காண்க.
- 1) பொருளாதாரத் துறைகளின் மொத்த கூட்டப்பட்ட பெறுமானமே நாட்டின் மொத்த உள்நாட்டு உற்பத்தியாகும்.

தேர்ச்சி - 04 - M.C.Q

- 2) நடப்பு விலைகளில் ஒரு நாட்டின் மொத்தத் தேசிய உற்பத்தியில் ஏற்படும் அதிகரிப்பின் அடிப்படையிலேயே பொருளாதார வளர்ச்சி தீர்மானிக்கப்படுகிறது.
 - 3) வரி, அரசு செலவீடு, சேமிப்பு என்பன தேசிய வருமானச் சுற்றோட்டத்தில் பின்வாங்கல்களாகும்.
 - 4) வாழ்க்கைத் தரத்தை அளவிடுவதில் தலாவருமானம் திருப்திகரமான குறிகாட்டியாகும்.
 - 5) வாழ்வாதார நடவடிக்கைகள் தேசிய மதிப்பீட்டினுள் உள்ளடக்கப்படுகின்றன.
53. வருமான வழியிலான தேசிய கணக்கீட்டில் உள்ளடக்கப்படாத வருமானம்,
- 1) ஊழியருக்கான சம்பளம்
 - 2) குழந்தை பராமரிப்புக்கென பணியாளருக்கு வழங்கப்பட்ட சம்பளம்
 - 3) சீட்டிழுப்பொன்றில் ஒருவரால் பெற்றுக்கொள்ளப்பட்ட பணம்
 - 4) செலுத்தப்பட்ட வருமான வரி
 - 5) பகிரப்படாத இலாபம்
54. மொத்த உள்நாட்டு வருமானமும் மொத்தத் தேசிய வருமானமும் சமனாக அமையாத சந்தர்ப்பம்.
- 1) வெளிநாட்டிலிருந்து கிடைத்த தேறிய காரணி வருமானம் பூச்சியமாக இருத்தல்.
 - 2) காரணிப் பணி ஏற்றுமதியும் காரணிப்பணி இறக்குமதியும் ஒன்றுக்கொன்று சமனாக இருத்தல்.
 - 3) குறித்த பொருளாதாரம் மூடப்பட்ட பொருளாதாரம் உள்ளபோது
 - 4) தேறிய காரணிப்பணி ஏற்றுமதி இல்லாதிருத்தல்.
 - 5) பொருட்கள் காரணியல்லா பணி ஏற்றுமதியும் பொருட்கள் காரணியல்லா பணி இறக்குமதியும் சமனாக இருத்தல்.
55. சந்தை விலை மொத்த உள்நாட்டு உற்பத்தியானது காரணிவிலை தேறிய உள்நாட்டு உற்பத்தியை விட உயர்வாக இருக்கக் காரணங்கள்
- 1) பெறுமானத்தேய்வு
 - 2) பெறுமானத்தேய்வு + மானியம் - நேரில்வரிகள்
 - 3) வெளிநாட்டு தேறிய காரணி வருமானம் + தேறிய வருமானம்
 - 4) விடுமதி தேய்மானம் + தேறிய மறைமுக வரிகள்
 - 5) நேரில்வரி - மானியம்
56. இரட்டை எண்ணல் பிரச்சனையை தீர்ப்பதற்கு பின்பற்றப்படும் சிறந்த வழிமுறை எது?
- 1) கூட்டிய பெறுமதி முறை
 - 2) இறுதி உற்பத்தி முறை
 - 3) காரணி வருமானங்களை சேர்த்தல்
 - 4) இடைக் கொடுப்பனவுகளை நீக்குதல்
 - 5) பயன்தரா செலவினங்களை சேர்த்தல்
57. தேசிய கணக்கீட்டிற்கும் சென்மதி நிலுவைக்கும் தொடர்பற்ற சமன்பாடு
- 1) மொத்த உள்நாட்டு = மொத்த உள்நாட்டுச் + பொருட்கள் பணிகள்
உற்பத்தி செலவு நிலுவை
 - 2) மொத்த தேசிய = மொத்த உள்நாட்டு + வருமான
உற்பத்தி உற்பத்தி நிலுவை
 - 3) மொத்த தேசிய = மொத்த உள்நாட்டுச் + பொருட்கள் பணிகள்
உற்பத்தி செலவு வருமான நிலுவை

- 4) செலவிடத்தக்க மொத்த தேசிய உற்பத்தி = மொத்த உள்நாட்டுச் செலவு + நடைமுறைக் கணக்கு நிலுவை
- 5) மொத்த வளக் கிடைப்பளவு = மொத்த உள்நாட்டு + இறக்குமதி உற்பத்தி
58. பின்வருவனவற்றில் தவறான கூற்றை இனங்காண்க.
- 1) நாட்டின் நடைமுறைக்கணக்கு நிலுவையே அந்நாட்டின் தேறிய வெளிநாட்டு முதலீடாகும்.
 - 2) மொத்த உள்நாட்டு உற்பத்தி மீதான செலவோடு பொருட்கள், சேவைகளின் தேறிய ஏற்றுமதிகளை கூட்டுவதன் மூலம் பெறப்படும் தொகை மொத்தச் தேசியச் செலவாகும்.
 - 3) சந்தை விலையிலான மொத்த உள்நாட்டு உற்பத்தி, மொத்த உள்நாட்டு உற்பத்தி மீதான செலவிற்கு சமனாகும்.
 - 4) வெளிநாட்டிற்கு அனுப்பிய தேறிய காரணி வருமானம் எதிர்க்கணியமாக இருப்பின் மொத்த உள்நாட்டு உற்பத்தியிலும் பார்க்க மொத்த தேசிய உற்பத்தி சிறிதாகும்.
 - 5) தேறிய மறைமுக வரி நேர்க்கணியமாக இருப்பின் காரணி விலையிலும் பார்க்க சந்தை விலை பெரிதாக இருக்கும்.
59. பின்வரும் சமன்பாடுகளில் பிழையானது எது?
- 1) மொத்த தேசிய = மொத்த தேசிய செலவிடக் - மொத்த நுகர்வு சேமிப்பு கூடிய வருமானம்
 - 2) மொத்த தேசிய = மொத்த சேமிப்பு - வெளிநாட்டு சேமிப்பு சேமிப்பு
 - 3) மொத்த நுகர்வு = மொத்த உள்நாட்டு - மொத்த முதலீடு செலவு
 - 4) செலவிடத்தக்க வருமானம் = சொந்த வருமானம் - *நேரில் வரி வருமானம்
 - 5) மொத்த உள்நாட்டு வருமானம் = காரணி வருமானம் + பெறுமானத் தேய்வு
60. தேசிய கணக்கீட்டின் குறைபாடு அல்லாதது.
- 1) வளத் தேய்வு கருத்திற் கொள்ளாமை.
 - 2) வாழ்வாதார நடவடிக்கைகள் சேர்த்துக்கொள்ளப்படாமையினால் குறைமதிப்பீடு ஏற்படுகிறது.
 - 3) இரட்டை எண்ணல்.
 - 4) புள்ளிவிபரக் குறைபாடு.
 - 5) காரணி வருமானப் பங்கீட்டை மதிப்பிடல்.
61. நியாயத்துவம் (equity) என்பதனால் கருதப்படுவது?
- 1) வேலையின்மையை குறைந்த மட்டத்தில் பேணுவதாகும்.
 - 2) விலைமட்ட வேறுபாட்டைக் குறைந்த மட்டத்தில் பேணுவதாகும்.
 - 3) நாணயமாற்று வீத தளம்பளை குறைந்த மட்டத்தில் பேணுவதாகும்.
 - 4) வருமானப்பரம்பலில் வேறுபாட்டை குறைந்த மட்டத்தில் பேணுவதாகும்.
 - 5) சுகல வீட்டுத்துறையினரிடையேயும் சமமான முறையில் வருமானத்தை பங்கிடுவதாகும்.
62. நிலைபேறுடைய அபிவிருத்தி (Sustainable development) என்பதனால் கருதப்படுவது.
- 1) நிலையான மொத்த உற்பத்தியாகும்.

தேர்ச்சி - 04 - M.C.Q

- 2) நிலையான வேலைமட்டமாகும்.
- 3) பொருளாதாரம், அரசியல், சமூகம் ஆகிய மூன்று பக்கங்களும் சமநிலையாக அபிவிருத்தியடைவதாகும்.
- 4) பொருளாதாரம், சமூகம், கலாசாரம் ஆகிய மூன்று பக்கங்களும் சமநிலையாக அபிவிருத்தியடைவதாகும்.
- 5) பொருளாதாரம், சமூகம், சூழல் ஆகிய மூன்று பக்கங்களும் சமநிலையாக அபிவிருத்தியடைவதாகும்.

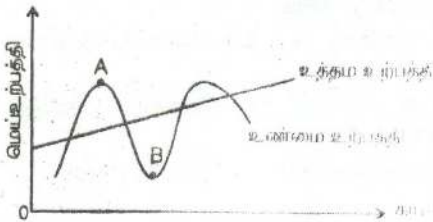
63. நிலைபேறான அபிவிருத்திக்கு பொருளாதார வளர்ச்சிக்கு மேலதிகமாக எதிர்ப்பார்க்கப்படுவது.

- 1) வறுமையை குறைத்தல் மற்றும் சூழல் பாதுகாப்பு.
- 2) நியாயமான வருமானப் பரம்பல் மற்றும் பொருளாதார செயற்திறன்.
- 3) பொருளாதார கட்டமைப்பு மாற்றம் மற்றும் பொருளாதார உறுதி.
- 4) சூழல் பாதுகாப்பு மற்றும் பொருளாதார கட்டமைப்பு மாற்றம்.
- 5) சமூக அபிவிருத்தி மற்றும் சூழல் பாதுகாப்பு.

64. ஒரு வியாபார சகடவோட்டத்தின் சரியான வரிசைக் கிரமம் எது?

- 1) உச்சி, பின்னடைவு, பள்ளம், மீட்சி
- 2) பின்னடைவு, மீட்சி, உச்சி, பள்ளம்
- 3) உச்சி, மீட்சி, பின்னடைவு, பள்ளம்
- 4) மீட்சி, பின்னடைவு, பள்ளம், உச்சி
- 5) மீட்சி, பள்ளம், பின்னடைவு, உச்சி

65.



மேலுள்ள வரிபடத்தில் A இலிருந்து B வரை உற்பத்திப் புள்ளி மாற்றமடையும் போது கீழே தரப்பட்டுள்ள எந்தத் தொடர்பு சரியானதாகும்?

மொத்தக் கேள்வி மாற்றமடையும்	பணவீக்க அல்லது பணச்சுருக்கப் போக்கு
1. அதிகரிக்கும்	பணவீக்கமாகும்
2. அதிகரிக்கும்	பணச்சுருக்கமாகும்
3. குறைவடையும்	பணச்சுருக்கமாகும்
4. குறைவடையும்	பணவீக்கமாகும்
5. குறைவடையும்	பணவீக்கமின்மையாகும்

66. செலவிடத்தக்க மொத்த தேசிய வருமானத்தைப் பெற மொத்த உள்நாட்டு செலவுடன் சீராக்கம் செய்யப்பட வேண்டியது.

- 1) வர்த்தகக் கணக்கு மீதியையாகும்.
- 2) சேவைகள் கணக்கு மீதியையாகும்.
- 3) வருமானக் கணக்கு மீதியையாகும்.
- 4) நடைமுறை மாற்றல்கள் கணக்கு மீதியையாகும்.
- 5) நடைமுறைக்கணக்கு மீதியையாகும்.

67. நிலையான விலைகளில் கணிக்கப்பட்ட மொத்த தேசிய உற்பத்தியுடன் வர்த்தகமாற்று விதத்தினால் ஏற்பட்ட தாக்கங்களைச் சீராக்கம் செய்யும் போது பெறப்படுவது.

- 1) மெய்த் தேசிய உற்பத்தியாகும்.
- 2) மெய்த் தேசிய வருமானமாகும்.

- 3) சந்தை விலைகளில் மொத்தத் தேசிய உற்பத்தியாகும்.
- 4) தேறிய முதலீட்டின் பெறுமதியாகும்.
- 5) செலவிடத்தக்க தேசிய வருமானமாகும்.
68. தேசிய சேமிப்பைக் கணிப்பிடுகின்ற விதத்தைக் காட்டும் சரியான முறை எது?
- 1) உள்நாட்டுச் சேமிப்பு + தேறிய வெளிநாட்டுக் காரணி வருமானம் + வெளிநாட்டு தேறிய நடைமுறை மாற்றல் = தேசிய சேமிப்பு
 - 2) உள்நாட்டுச் சேமிப்பு - தேறிய வெளிநாட்டுக்காரணி வருமானம் + வெளிநாட்டு தேறிய நடைமுறை மாற்றல் = தேசிய சேமிப்பு
 - 3) உள்நாட்டுச் சேமிப்பு + தேறிய வெளிநாட்டுக் காரணி வருமானம் - வெளிநாட்டு தேறிய நடைமுறை மாற்றல் = தேசிய சேமிப்பு
 - 4) உள்நாட்டுச் சேமிப்பு + வெளிநாட்டுத் தேறிய காரணி வருமானம் - அரச சேமிப்பு = தேசிய சேமிப்பு
 - 5) உள்நாட்டுச் சேமிப்பு - தனியார் சேமிப்பு + அரசசேமிப்பு = தேசிய சேமிப்பு
- 69.

வகை	பெறுமதி (ரூ.பில்லியன்)
வீட்டுத்துறை நுகர்வுச் செலவினம்	70
அரசாங்கக் கொள்வனவுகள்	20
தேறிய வரி (வரி - மாற்றல்கள்)	25
முதலீடு	15
இறக்குமதி	5
ஏற்றுமதி	10

மேற்படி அட்டவணையிலுள்ள தரவுகளின் படி இப்பொருளாதாரத்தின் வீட்டுத்துறையைச் சேமிப்பளவு

- 1) ரூ - 40 பில்லியன் ஆகும்.
 - 2) ரூ - 15 பில்லியன் ஆகும்.
 - 3) ரூ - 15 பில்லியன் ஆகும்.
 - 4) ரூ - 40 பில்லியன் ஆகும்.
 - 5) ரூ - 45 பில்லியன் ஆகும்.
70. தேசிய வருமானக் கணக்குகளில் பொருளாதாரத்தில் உற்பத்தி செய்யப்படும் பொருள்கள் சேவைகள் சில சேர்க்கப்படாதது ஒரு குறைபாடாகக் கருதப்படுகின்றது. பின்வருவனவற்றில் எதனை நீர் அவ்வாறானதாக கருதுவீர்.
- 1) இடைப்பொருட்கள்
 - 2) நிதிக் கொடுக்கல் வாங்கல்கள்
 - 3) வெளிநாட்டிலிருந்து தனியாரால் அனுப்பப்படும் பணம்
 - 4) தலைமறைவான அல்லது சட்ட விரோதமான பொருளாதார நடவடிக்கைகள்
 - 5) ஓய்வூதியங்கள்
71. காரணி விலையிலான மொத்தத் தேசிய உற்பத்தி என்பதற்கான மிகச் சிறந்த வரைவிலக்கணமாக அமைவது:
- 1) ஒரு குறிப்பிட்ட காலப்பகுதியில் ஒரு பொருளாதாரத்தினுள் உற்பத்தி செய்யப்பட்ட மொத்தப் பொருட்கள் சேவைகளாகும்.
 - 2) உள்நாட்டில் உற்பத்தி செய்யப்பட்ட பொருட்கள் சேவைகள் மீது நுகர்வோர் மேற்கொண்ட மொத்தச் செலவீடுகளாகும்.
 - 3) ஒரு நாட்டில் வதிவோரால் உள்நாடு மற்றும் வெளிநாடுகளுக்கு காரணிச் சேவைகளை வழங்கியமைக்கான வெகுமதியாகப் பெற்றுக்கொள்ளும் எல்லா காரணி வருமானங்களுமாகும்.

தேர்ச்சி - 04 - M.C.Q

- 4) உள்நாட்டில் உற்பத்தி செய்யப்பட்ட மொத்த வெளியீட்டின் பெறுமதியுடன் வெளிநாடுகளிலிருந்து பெற்ற சொத்து வருமானங்களைக் கூட்டி மூலதன நுகர்வை கழிப்பதன் மூலம் பெறப்படுவது.
- 5) மேற்கூறப்பட்ட எவையுமன்று.
72. தவறான கூற்றாக உங்களால் கருதப்படுவதனை இனங்காண்க.
- 1) மொத்த உள்நாட்டு உற்பத்தி மீதான செலவீடு, மொத்த உள்நாட்டு உற்பத்தியினைக் கொள்வனவு செய்வதற்கான செலவாகும்.
 - 2) மொத்த உள்நாட்டு உற்பத்தியுடன் வெளிநாட்டு வர்த்தக நிலுவையினைக் கூட்டுமிடத்து கிடைப்பது மொத்த தேசிய உற்பத்தி.
 - 3) வருமான அணுகுமுறையினைப் பயன்படுத்தி தேசிய உற்பத்தியினை மதிப்பிடும் பொழுது காரணி (உழைப்பு) வருமானங்களே கணக்கில் எடுக்கப்படும்.
 - 4) ஒரு வருடத்து மொத்த தேசிய உற்பத்தியினை அதற்கு முற்பட்ட ஆண்டு நிலையான விலைகளில் மதிப்பீடு செய்து பெறுவது மெய்த்தேசிய உற்பத்தியாகும்.
 - 5) நடப்பு விலைகளில் உள்ள மொத்ததேசிய உற்பத்தியினை நிலையான விலைகளிலான மொத்த தேசிய உற்பத்தியாக மாற்றுமிடத்து அதன் விளைவாக உள்ளார்ந்த மொத்த தேசிய விலைச் சட்டி கிடைக்கின்றது.
73. நீர் இணங்கக் கூடியதாகவுள்ள கூற்றினை இனங்காண்க.
- 1) மொத்த உள்நாட்டுச்செலவு என்பது பொருளாதாரமொன்றின் நுகர்வு, முதலீட்டுச் செலவுகள் மூலதன நுகர்வு என்பவற்றின் கூட்டுத் தொகையாகும்.
 - 2) மொத்த உள்நாட்டு செலவிலிருந்து இறக்குமதிகளின் பெறுமதியைக் கழிப்பதன் மூலம் மொத்த உள்நாட்டு உற்பத்தியைப் பெறலாம்.
 - 3) மொத்த தேசிய உற்பத்தியிலிருந்து மூலதனச் சாதனங்களின் பெறுமானத் தேய்வினைக் கழிக்கும் பொழுது தேறிய தேசிய உற்பத்தி பெற்றுக் கொள்ளப்படும்.
 - 4) உற்பத்தியிலிருந்து தோற்றுவிக்கப்படும் கூலிகள், வாடகை, வட்டி, இலாபங்கள் என்பவற்றின் கூட்டுத்தொகை மொத்த உள்நாட்டு உற்பத்திக்குச் சமனாகும்.
 - 5) மேற்கூறப்பட்ட எவையுமன்று.
74. கீழே தரப்படுவது கருதுகோள் ரீதியான பொருளாதாரமொன்று தொடர்பான புள்ளிவிபரங்கள் சிலவாகும்.
- | | |
|---------------------------------|--------|
| தேறிய உள்நாட்டு வருமானம் | 20,000 |
| வெளிநாட்டு தேறிய காரணி வருமானம் | -500 |
| மூலதனத் தேய்வு | 4,000 |
| தேறிய நேரில் வரி | 800 |
- இத்தகவல்களின் படி சந்தை விலையின் கீழ் மொத்த தேசிய உற்பத்தியாவது,
- 1) 16,300
 - 2) 19,200
 - 3) 19,500
 - 4) 24,000
 - 5) 24,300
75. சந்தை விலைகளில் கணிக்கப்படும் தேறிய உள்நாட்டு உற்பத்தி எதற்குச் சமனாகும்?
- 1) தனியார் நுகர்வுச் செலவு + அரசாங்க நுகர்வு + தேறிய ஏற்றுமதிகள் + முதலீட்டுச்செலவு

தேர்ச்சி - 04 - M.C.O

- 2) தனியார் நுகர்வுச் செலவு + அரசாங்க நுகர்வு + ஏற்றுமதிகள் + தனியார் வரிகள்
 - 3) நேரில் வியாபார வரிகள் + தனிநபர் வருமானம் + தேறிய ஏற்றுமதிகள் + பெறுமானத்தேய்வு
 - 4) முழுக் காரணி வருமானங்கள் + நேரில் வரிகள் - மானியங்கள்
 - 5) முழுக்காரணி வருமானங்கள் - பெறுமானத்தேய்வு
76. பின்வருவனவற்றில் எவ்வழியில் தேசிய வருமானம் கணிப்பிடப்பட முடியும்?
- 1) சந்தை விலைகளிலான GDP - நேரில் வரிகள்
 - 2) சந்தை விலைகளிலான GNP + பெறுமானத்தேய்வு
 - 3) சந்தை விலைகளிலான GNP - பெறுமானத்தேய்வு - தேறிய நேரில் வரிகள்
 - 4) தனியாள் நுகர்வுச் செலவு + மொத்த தனியார் உள்நாட்டு முதலீடு + அரசாங்கக் கொள்வனவு + ஏற்றுமதிகள்
 - 5) தனியாள் வருமானம் - வரிகள் - மாற்றல்கள்
77. தேசிய கணக்குகளைத் தயாரிக்கும் போது கீழ் தரப்பட்டுள்ளவற்றுள் எது சேர்க்கப்படும்?
- 1) தான் குடியிருக்கும் வீட்டை ரூபா 2 இலட்சத்திற்கு விற்பனை செய்தல்.
 - 2) பயிர்ச்செய்கைக்காக நிலமொன்றை கொள்வனவு செய்தல்.
 - 3) பங்குச் சந்தையில் இருந்து பங்குகளைக் கொள்வனவு செய்தல்.
 - 4) கம்பனியொன்றிடமிருந்து புதிய வீடொன்றைக் கொள்வனவு செய்தல்.
 - 5) அரசின் திறைசேரி உண்டியல்களைக் கொள்வனவு செய்தல்.
78. மொத்தத் தேசிய உற்பத்தி மீதான செலவானது.
- 1) சந்தை விலைகளிலான மொத்த உள்நாட்டு உற்பத்திக்கு சமம்.
 - 2) காரணி விலைகளிலான மொத்த உள்நாட்டு உற்பத்திக்கு சமம்.
 - 3) சந்தை விலைகளிலான மொத்தத் தேசிய உற்பத்திக்குச் சமம்.
 - 4) காரணி விலைகளிலான மொத்தத் தேசிய உற்பத்திக்குச் சமம்.
 - 5) மொத்தத் தேசிய சேமிப்புக்குச் சமம்.
79. பின்வரும் அட்டவணையானது கருதுகோல் ரீதியான பொருளாதார மொன்றின் தெரிவு செய்யப்பட்ட தரவுகளைக் காட்டுகின்றது.

தேசிய வருமானக்கூறு	மில்லியன் (ரூ.)
சேமிப்பு	50
முதலீடு	30
வரிகள்	40
ஏற்றுமதிகள்	50
அரசாங்கக் கொள்வனவுகள்	20
இறக்குமதிகள்	30

அட்டவணையில் தரப்பட்டுள்ள தகவல்களின்படி பொருளாதாரம் தொடர்பான சரியான கூற்றாக அமைவது எது?

- 1) வரவு செலவுத்திட்டப் பற்றாக்குறையொன்று உள்ளது.
 - 2) பொருளாதாரம் சமநிலையில் உள்ளது.
 - 3) சென்மதி நிலுவையில் நடைமுறைக் கணக்குப் பற்றாக்குறையாக உள்ளது.
 - 4) வெளிப்பாய்ச்சல்கள் உட்பாச்சல்களைவிட உயர்வாக உள்ளன.
 - 5) பொருளாதாரம் விரிவாக்கமடையும்.
80. பின்வருவனவற்றுள் ஒன்றைத் தவிர ஏனையவை யாவும் மொத்த உள்நாட்டு உற்பத்தி கணிப்பீட்டில் உள்ளடக்கப்படுவதில்லை. அது எது?
- 1) இடைநிலைப் பொருள்களின் பெறுமதி
 - 2) கருதப்படும் ஆண்டில் கட்டப்பட்ட சகல வீடுகளின் பெறுமதி

- 3) ஏற்கனவே உபயோகிக்கப்பட்ட பொருள்களின் பெறுமதி
 - 4) தூய நிதிசார் கொடுக்கல் வாங்கல்கள்
 - 5) அரசாங்கத்திடமிருந்து பெறப்படும் மானியங்கள்
81. பொருளாதாரமொன்றின் தெரிவு செய்யப்பட்டபேரினப் பொருளாதாரத் தரவுகள் கீழே தரப்படுகின்றன.

(புள்ளி விபரங்கள் பில்லியன் ரூபாயில்)	
அரசாங்கக் கொள்வனவுகள்	500
கூலிகளும் ஏனைய ஊழிய வருமானங்களும்	2000
பெறுமானத்தேய்வு	400
மொத்த முதலீடு	400
தனியார் நுகர்வு	2200
தேறிய ஏற்றுமதிகள்	-50
தேறிய நேரில் வரிகள்	150

சந்தை விலைகளிலான தேறிய உள்நாட்டு உற்பத்தியின் அளவு

- | | |
|-------------------------|-------------------------|
| 1) ரூபா. 2650 பில்லியன் | 5) ரூபா. 4650 பில்லியன் |
| 2) ரூபா. 3050 பில்லியன் | 4) ரூபா. 3400 பில்லியன் |
| 3) ரூபா. 3150 பில்லியன் | |

82. மாம்பழச் செய்கையாளர்கள் தமது அறுவடையினை மாம்பழப்பாகு உற்பத்தித் தொழிற்சாலையொன்று ரூ.5000 இற்கு விற்பனை செய்கின்றனர். அத்தொழிற்சாலை ரூ.8000 பெறுமதியான பழப்பாகினை ஒரு பல்பொருள் அங்காடிக்கு விற்பனை செய்கின்றது. இவ்வற்பத்திச் செயன்முறை பற்றிய சரியான கூற்று எது?

- 1) பல்பொருள் அங்காடியின் பெறுமதிச் சேர்க்கை ரூ.10000 ஆகும்.
- 2) தொழிற்சாலையின் பெறுமதிச் சேர்க்கை ரூ.8000 ஆகும்.
- 3) உற்பத்தி நடவடிக்கையில் மொத்தப் பெறுமதிச் சேர்க்கை ரூ.23000 ஆகும்.
- 4) பல்பொருள் அங்காடியின் பெறுமதி சேர்க்கை ரூ.3000 ஆகும்.
- 5) மொத்தப் பெறுமதிச் சேர்க்கை ரூ.10000 ஆகும்.

83. பிரதான பேரினப் பொருளாதார மாறிகளில் உள்ளடங்காதது எது?

- | | |
|-------------------|---------------------|
| 1) தேசிய உற்பத்தி | 4) நியாயத்துவம் |
| 2) வேலைவாய்ப்பு | 5) நாணயமாற்று வீதம் |
| 3) விலை மட்டம் | |

84. இறுதி உற்பத்தி முறையில் தேசிய கணக்குகளைத் தயாரிக்கும் போது பயன்படுத்தப்படும் கூறுகளை சரியாகக் காட்டுவது எது?

- 1) மூலதனப் பண்டங்கள், நுகர்வுப் பண்டங்கள் மற்றும் இடைநிலைப் பண்டங்களின் இருப்பு மாற்றம்.
- 2) மூலதனப் பண்டங்கள், இடைநிலைப் பண்டங்கள் மற்றும் சேவை உற்பத்திகள்.
- 3) நுகர்வுப் பண்டங்கள், முதலீட்டுப் பண்டங்கள் மற்றும் சேவை உற்பத்தி
- 4) நுகர்வுப் பண்டம், முதலீட்டுப் பண்டம் மற்றும் இறுதி உற்பத்திகளின் பெறுமதி
- 5) விவசாயப் பண்டம், கைத்தொழில் பண்டம், மற்றும் சேவை உற்பத்திகள்

85. கற்பனையான பொருளாதாரமொன்றின் தேசிய வருமானம் தொடர்பான தரவுகள் பின்வருமாறு

	பில்.ரூபா
உழைப்புக்கான கொடுப்பனவு	4,000
வாடகை	1,500

தேர்ச்சி - 04 - M.C.Q

தேறிய வட்டி	750
இலாபம்	600
காரணியல்லா கொடுப்பனவு (முலதன தேய்வு)	400
தேறிய மறைமுக வரிகள்	250
வெளிநாட்டிலிருந்ததான தேறிய காரணி வருமானம்	150

இப் பொருளாதாரத்தின் தேசிய வருமானம்.

- 1) 7400 2) 7250 3) 7650 4) 6850 5) 7000

86. முடப்பட்ட பொருளாதாரமொன்றில் பொருட்கள் சேவைகளுக்கான மொத்த கேள்வி சமனாக இருப்பது.

- 1) வீட்டுத்துறை நுகர்வு
- 2) வீட்டுத்துறை நுகர்வு + முதலீடு
- 3) வீட்டுத்துறை நுகர்வு + முதலீடு + அரசாங்க கொள்வனவு
- 4) வீட்டுத்துறை நுகர்வு + முதலீடு + அரசாங்க கொள்வனவு - வரிகள்
- 5) வீட்டுத்துறை நுகர்வு + அரசாங்க நுகர்வு + முதலீடு + தேறிய ஏற்றுமதி

87. பின்வருவனவற்றுள் தேசிய சேமிப்பில் உள்ளடக்கப்படும் உருப்படிகளின் சேர்க்கை எது?

- A - உள்நாட்டுச் சேமிப்புக்கள்
- B - அரசாங்க சேமிப்புக்கள்
- C - தனியார் சேமிப்புக்கள்
- D - வெளிநாட்டிலிருந்ததான தேறிய தனியார் மாற்றல்கள்
- E - அரசு கூட்டுத்தாபன முதலீடு
- F - வெளிநாட்டிலிருந்ததான தேறிய காரணி வருமானம்

- 1) A,D,F 2) A,B,C 3) A,C,E 4) B,C,E 5) A,C,F

88. கற்பனையான பொருளாதாரமொன்றின் சில தரவுகள் அட்டவணையில் தரப்பட்டுள்ளன.

உருப்படிகள்	பில்லியன் ரூபாய்களில்
மொத்தத் தேசிய உற்பத்தி	50
மொத்த நுகர்வு	30
பொருள்கள் சேவைகள் மீதான அரசு செலவு	12
முதலீடு	11
இறக்குமதிகள்	1
தேறிய வெளிநாட்டுக் காரணி வருமானம்	2

மேற்படி அட்டவணையில் குறிப்பிட்ட தகல்களின் படி இப்பொருளாதாரம் பொருட்கள் சேவைகளின் ஏற்றுமதிக்காகச் செலவிடும் தொகை.

- 1) ரூபா.13 மில்லியன் ஆகும்.
- 2) ரூபா.1 மில்லியன் ஆகும்.
- 3) ரூபா.9 மில்லியன் ஆகும்.
- 4) ரூபா.12 மில்லியன் ஆகும்.
- 5) ரூபா.10 மில்லியன் ஆகும்.

89. பின்வருவனவற்றில் எது நாடொன்றினது தேசிய கணக்கில் தேறிய முதலீடாக இடம் பெறும்

- 1) தனியார் ஊழியருக்கான சம்பளக் கொடுப்பனவு.
- 2) அரசு மருத்துவமனைக்கான அம்புலன்ஸ் வண்டிகள் திருத்தப்படல்.
- 3) தொழிற்சாலை ஒன்றினது பகுதலைந்த இயந்திரங்கள் திருத்தப்படல்.

- 4) இலங்கை புகையிரத சேவையின் புதிய இயந்திரங்கள் இணைக்கப்படல்.
- 5) சனாமியால் அழிவடைந்த கட்டுமானங்கள் மீள் உருவாக்கம்.
90. பின்வருவனவற்றில் எது மொத்த தேசிய செலவிற்கு சமமாக அமையும்.
- 1) சகல காரணி வருமானங்களினதும் கூட்டுத்தொகை + பெறுமானத்தேய்வு + தேறிய நேரில் வரி + தேறிய காரணி வருமானம்
 - 2) சகல காரணி வருமானங்களினதும் கூட்டுத்தொகை - தேய்வு + தேறிய நேரில் வரி + தேறிய காரணி வருமானம்
 - 3) சகல காரணி வருமானத்தினதும் கூட்டுத்தொகை + பெறுமானத்தேய்வு - தேறிய நேரில் வரி + தேறிய காரணி வருமானம்
 - 4) சகல காரணி வருமானங்களின் கூட்டுத்தொகை + தேய்வு + தேறிய நேரில் வரி - தேறிய காரணி வருமானம்
 - 5) சகல காரணி வருமானங்களின் கூட்டுத்தொகை + தேய்வு + தேறிய நேர்வரி + தேறிய காரணி வருமானம்
91. தேசிய கணக்கீடு தொடர்பான உள்ளாந்த விலைச்சுட்டெண் என்பது தொடர்பாக மிகச் சரியான விடை யாது?
- 1) மொத்த விற்பனை விலைச்சுட்டியுடன் ஏற்றுமதி இறக்குமதி விலைகளையும் சீராக்க வருவது.
 - 2) சந்தை விலைகளிலான மொத்த உள்நாட்டு உற்பத்தியை காரணிச் செலவு விலையிலான மொத்த உள்நாட்டு உற்பத்தியுடன் ஒப்பிட்டு பெறப்படுவதாகும்.
 - 3) நடைமுறையிலான மொத்த உள்நாட்டு உற்பத்தியை நிலையான விலைகளிலான மொத்த உள்நாட்டு உற்பத்தியாக பெறுவதற்கு தயாரிக்கப்பட்ட விலைச்சுட்டி ஆகும்.
 - 4) நாட்டில் நுகரப்படும் சகல பொருட்கள் சேவைகளையும் உள்ளடக்கிய மத்திய வங்கியால் தயாரிக்கப்பட்ட விலைச்சுட்டி ஆகும்.
 - 5) நுகர்வோர் விலைகளை மட்டும் உள்ளடக்கியதாக மத்திய வங்கியால் தயாரிக்கப்பட்ட விலைச்சுட்டியாகும்.
92. ஏனையவை மாறாதிருக்க செலவீடக்கூடிய வருமானம் அதிகரிக்குமாயின் அது தொடர்பாக தவறான தரவு எது?
- 1) நுகர்வு, சேமிப்பு ஆகிய இரண்டும் அதிகரிக்கும்.
 - 2) சராசரி நுகர்வு நாட்டம் குறையும்.
 - 3) சராசரி சேமிப்பு நாட்டம் கூடும்.
 - 4) எல்லை நுகர்வு நாட்டம், சராசரி நுகர்வு நாட்டம் என்பன மாறாது.
 - 5) நுகர்வு குறைந்து சேமிப்பு அதிகரிக்கும்.
93. செலவீட்டு அடிப்படையில் தேசிய கணக்கினை மேற்கொள்ளும் போது நீக்கத் தேவையற்ற செலவு யாது?
- 1) ஓய்வூதியக் கொடுப்பனவுகள்
 - 2) அரசகடன் வட்டி
 - 3) பாடசாலை செலவினங்கள்
 - 4) சர்வதேச பொருட்களைக் கொள்வனவு செய்வதற்கான செலவு
 - 5) வெளிநாடுகளுக்கான ஒப்பந்தங்கள்
94. தேசிய கணக்கீட்டில் உட்படுத்தப்படாத உற்பத்தி திறனற்ற பொருளாதார நடவடிக்கையானது
- 1) இல்லத்தரசியரின் சேவை
 - 2) சட்டவிரோத விலைமாது தொழில்
 - 3) மறைந்த பொருளாதார நடவடிக்கைகள்

தேர்ச்சி - 04 - M.C.Q

- 4) தமது வீடுகளில் இருந்தவாறே மேற்கொள்கின்ற மாற்றல் கட்டணம்
5) நிதிப்பத்திரங்களிலான கொடுக்கல் வாங்கல்
95. செலவிடத்தகு மொத்த தேசிய உற்பத்தியை கணிக்கக் கூடிய சரியான சமன்பாடு எது?
- 1) மொத்த உள்நாட்டு உற்பத்தி + தேறிய ஏற்றுமதி + தனியார் மாற்றல்
 - 2) மொத்த உள்நாட்டு செலவு - சென்மதி நிலுவையின் நடைமுறைக்கணக்கு மீதி
 - 3) மொத்த தேசிய செலவு + உள்நாட்டு சேமிப்பு + தேசிய சேமிப்பு
 - 4) மொத்த உள்நாட்டு உற்பத்தி + சென்மதி நிலுவையின் நடைமுறைக்கணக்கு மீதி
 - 5) மொத்த உள்நாட்டு வருமானம் + தேறிய வெளிநாட்டு காரணி வருமானம் + தேறிய நேரில் வரி
96. பின்வருவனவற்றுள் மொத்த உள்நாட்டு உற்பத்தியை பிரதிபலிப்பது?
- 1) மொத்த வளங்கள் + பொருட்கள் காரணியல்லா சேவைகளின் ஏற்றுமதி
 - 2) மொத்த வளங்கள் - பொருட்கள் காரணியல்லா சேவைகளின் ஏற்றுமதி
 - 3) மொத்த வளங்கள் - பொருட்கள் காரணியல்லா சேவைகளின் இறக்குமதி
 - 4) மொத்த வளங்கள் + பொருட்கள் காரணியல்லா சேவைகளின் இறக்குமதி
 - 5) மொத்த வளங்கள் + பொருட்கள் காரணிச் சேவைகளின் இறக்குமதி
97. பின்வருவனவற்றுள் முறைசாராத பொருளாதார நடவடிக்கையாக கருத முடியாதது?
- 1) முறையான ஆவணப்படுத்தல் இல்லாத நடவடிக்கைகள்
 - 2) குடும்ப உழைப்பில் தங்கியிருத்தல்
 - 3) வரி செலுத்துவதிலிருந்து தவிர்த்திருத்தல்
 - 4) கம்பனி இலாபங்கள்
 - 5) அரசின் சட்ட நிபந்தனைகளுக்கு இணங்க விரும்பாமை
98. பின்வருவனவற்றுள் எது மொத்த உள்நாட்டு உற்பத்திக்குள் சேர்க்கப் படுவதில்லை?
- 1) தேறிய வட்டி
 - 2) விவசாயிகள் உழைக்கும் வருமானம்
 - 3) வெள்ள அனர்த்தத்திற்கு அரசு வழங்கிய உணவுப் பொதிகள்
 - 4) அரசு ஊழியர்களுக்கான சம்பளம்
 - 5) ஊழியர் சார்பாக தொழில் வழங்குனர் ஓய்வூதிய நிதியத்திற்கு செலுத்தும் கொடுப்பனவுகள்
99. தேசிய கணக்கீட்டில் உட்படுத்தப்படாத செயற்திறன் வாய்ந்த பொருளாதார நடவடிக்கை.
- 1) அரசின் கல்விக்கான செலவு
 - 2) சட்டவிரோதப் பொருளாதார நடவடிக்கை
 - 3) இல்லத்தரசியரின் நாளாந்த சேவை
 - 4) பங்குகளைக் கொள்வனவு செய்தல்
 - 5) வீட்டில் இருந்தவாறே உழைக்கும் மாற்றல் வருமானம்
100. மறைவான பொருளாதார நடவடிக்கையாகக் கருதப்படக்கூடியது.
- 1) சட்டவிரோத பொருளாதார நடவடிக்கை
 - 2) அரசின் அங்கீகாரம், கட்டுப்பாடு, பாதுகாப்பு இன்றி வறிய மக்களால் மேற்கொள்ளப்படும் பொருளாதார நடவடிக்கை
 - 3) தரம்குறைந்த பொருட்களின் உற்பத்தி

- 4) மறைந்த வகையில் மேற்கொள்ளும் உற்பத்திகள்
 5) பின்னடைவான நுட்பங்களைப் பயன்படுத்தி மேற்கொள்ளும் உற்பத்தி
101. பொருளாதார சிதைவு என்பதால் கருதப்படுவது யாது?
 1) நீண்ட காலத்திற்கு அதாவது ஒருவருடத்திற்கு மேற்பட்ட காலத்திற்கு உள்நாட்டு உற்பத்தி மற்றும் வேலைவாய்ப்பு மட்டம் வீழ்ச்சியடைதல்.
 2) ஓட்டுமொத்த பொருளாதார நடவடிக்கைகளில் ஏற்படும் பின்னடைவு.
 3) வணிக நடவடிக்கைகளில் வீழ்ச்சி.
 4) சாத்திய உற்பத்திக்கும் உண்மை உற்பத்திக்கும் இடையிலான வித்தியாசம்.
 5) ஆறுமாத காலத்திற்கு உள்நாட்டு உற்பத்தி மற்றும் வேலை வாய்ப்பு மட்டம் வீழ்ச்சியடைதல்.
102. சந்தை விலையிலான மொத்த உள்நாட்டு உற்பத்தியிலிருந்து காரணி விலையிலான மொத்த உள்நாட்டு உற்பத்தியைப் பெற வேண்டுமாயின்.
 1) நேரில் வரிகளைக் கூட்டி மானியங்களைக் கழிக்க வேண்டும்.
 2) நேரில் வரிகளைக் கழித்து மானியங்களைக் கூட்ட வேண்டும்.
 3) நேரில் வரிகளையும் மானியங்களையும் கழிக்க வேண்டும்.
 4) நேரில் வரிகளையும் மானியங்களையும் கூட்ட வேண்டும்.
 5) பெறுமானத்தேய்வைக் கழிக்க வேண்டும்.
103. நுகர்வோருக்கும் உற்பத்தியாளருக்கும் இடையில் நடைபெறும் பொருளாதார நடவடிக்கைகளின் வட்டப்பாய்ச்சலில் பின்வருவனவற்றில் எது உள்ளடக்கப்படும்?
 (அ) வீட்டுத்துறையினர் நிறுவனத்துறையினருக்கு காரணிச் சேவைகளை கொள்வனவு செய்தல்.
 (ஆ) வீட்டுத்துறையினர் நிறுவனத்துறையினரிடமிருந்து காரணிச் சேவைகளை விற்பனை செய்தல்.
 (இ) வீட்டுத்துறையினர் நிறுவனத்துறையினரிடமிருந்து வெளியீடுகளைக் கொள்வனவு செய்தல்.
 (ஈ) வீட்டுத்துறையினர் நிறுவனத்துறையினருக்கு வெளியீடுகளை விற்பனை செய்தல்.
 1) (அ) மட்டும் மற்றும் (இ) மட்டும்
 2) (ஈ) மட்டும் மற்றும் (ஈ) மட்டும்
 3) அ) மற்றும் (ஆ) மட்டும்
104. அரசாங்கம் தனது கொள்வனவுகளை ரூபாய் 10 பில்லியன்களாலும் வரி அறவீடுகளை ரூபாய் 10 பில்லியன்களாலும் அதிகரிக்குமாயின் அதனால் வரவு செலவுத்திட்ட மீதி மற்றும் மொத்த உள்நாட்டு உற்பத்தியில் ஏற்படும் விளைவினைச் சரியாக விளக்கும் இணைப்பு பின்வருவனவற்றில் எது?
 வரவு செலவுத்திட்ட மீதி மொத்த உள்நாட்டு உற்பத்தி
 1) மாறாது குறையும்
 2) மிகை குறையும்
 3) மாறாது மாறாது
 4) மிகை அதிகரிக்கும்
 5) மாறாது அதிகரிக்கும்
105. உழைப்பு வருமானம், வாடகை வருமானம் தேறிய வட்டி, கம்பனி இலாபம், சுயவேலைவாய்ப்பு வருமானம் ஆகியவற்றின் மொத்தப் பெறுமதியை கொண்டது.
 1) மொத்த உள்நாட்டு வருமானம்
 2) மொத்த வீட்டுத்துறை வருமானம்

தேர்ச்சி - 04 - M.C.Q

- 3) தேறிய உள்நாட்டு வருமானம்
 - 4) தேசிய வருமானம்
 - 5) செலவிடத்தகு தேசிய வருமானம்
106. தனியார் வருமானம், தேசிய வருமானம் என்பவற்றின் வேறுபாட்டிற்குக் காரணமாக இல்லாதது.
- 1) பங்கு இலாபம்
 - 2) அரசு வீட்டுத்துறை மாற்றல்கள்
 - 3) கம்பனி இலாபத்தில் அரசிற்கு வழங்கும் கம்பனி வரி
 - 4) சமூகப் பாதுகாப்பு கொடுப்பனவுக்கு ஊழியரின் பங்களிப்பு
 - 5) தனியார் வெளிநாட்டு நடப்பு மாற்றல்
107. பின்வருவனவற்றில் தவறான கூற்றை இனங்காண்க.
- 1) நாட்டில் நடைமுறை கணக்கு நிலுவையே அந்நாட்டில் தேறிய வெளிநாட்டு முதலீடாகும்.
 - 2) மொத்த உள்நாட்டு உற்பத்தி மீதான செலவோடு பொருட்கள் சேவைகளின் தேறிய ஏற்றுமதிகளை கூட்டுவதன் மூலம் பெறப்படும் தொகை மொத்தத் தேசிய செலவாகும்.
 - 3) சந்தை விலையிலான மொத்த உள்நாட்டு உற்பத்தி, மொத்த உள்நாட்டு உற்பத்தி மீதான செலவிற்கு சமனாகும்.
 - 4) வெளிநாட்டிற்கு அனுப்பிய தேறிய காரணி வருமானம் எதிர்க்கணியமாக இருப்பின் மொத்த உள்நாட்டு உற்பத்தியிலும் பார்க்க மொத்த தேசிய உற்பத்தி சிறிதாகும்.
 - 5) தேறிய மறைமுக வரி நேர்க்கணியமாக இருப்பின் காரணி விலையிலும் பார்க்க சந்தை விலை பெரிதாக இருக்கும்.
108. நிலையான விலைகளில் கணிக்கப்பட்ட மொத்த தேசிய உற்பத்தியுடன் வர்த்தகமாற்று விகிதத்தினால் ஏற்பட்ட தாக்கங்களைச் சீராக்கம் செய்யும் போது பெறப்படுவது.
- 1) மெய்த் தேசிய உற்பத்தியாகும்.
 - 2) மெய்த் தேசிய வருமானமாகும்.
 - 3) சந்தை விலைகளில் மொத்தத் தேசிய உற்பத்தியாகும்.
 - 4) தேறிய முதலீட்டின் பெறுமதியாகும்.
 - 5) செலவிடத்தக்க தேசிய வருமானமாகும்.
109. செலவிடத்தக்க மொத்தத் தேசிய வருமானத்தைப் பெற மொத்த உள்நாட்டு செலவுடன் சீராக்கம் செய்யப்பட வேண்டியது.
- 1) வர்த்தகக் கணக்கு மீதியையாகும்.
 - 2) சேவைகள் கணக்கு மீதியையாகும்.
 - 3) வருமானக் கணக்கு மீதியையாகும்.
 - 4) நடைமுறை மாற்றல்கள் கணக்கு மீதியையாகும்.
 - 5) நடைமுறைக் கணக்கு மீதியையாகும்.
110. தேசிய கணக்கீட்டை நடைமுறை விலைகளிலும் நிலையான விலைகளிலும் மேற்கொள்வதன் முக்கியமான நன்மையாக அமைவது.
- 1) விலைமட்ட மாற்றங்களை இனங்காண முடிவதாகும்.
 - 2) பொருளாதாரத்தின் வளப்பயன்பாட்டை இனங்காண உதவுவதாகும்.
 - 3) மொத்த உள்நாட்டு உற்பத்தியின் துறைகள் உள்ளடக்கத்தை இனங்காண உதவுவதாகும்.

தேர்ச்சி - 04 - M.C.Q

- 4) பொருளாதாரத்தின் சாத்திய வள வெளியீட்டு மட்டத்தை இனங்காண உதவுவதாகும்.
- 5) காரணி வருமான பங்கீட்டை இனங்காண உதவுவதாகும்.
111. பின்வருவனவற்றுள் எது பேரினப்பொருளாதார குறிக்கோளாகக் கருதப்பட முடியாதது.
- 1) நிறைதொழில் மட்டம் 4) நியாயத்துவம்
2) பொருளாதார உறுதி 5) பொருளாதார வளர்ச்சி
3) பொதுப்பண்டங்களை வழங்குதல்
112. பேரினப் பொருளாதார நோக்கங்களில் வெளியக உறுதி என்பது குறிப்பது
- 1) விலை உறுதி, வேலை மட்ட உறுதி
2) விலை உறுதி, நாணயமாற்று உறுதி
3) சென்மதி நிலுவை உறுதி, நாணயமாற்று உறுதி
4) வேலை உறுதி, சென்மதி நிலுவை உறுதி
5) மேற்கூறியவை எதுவும் இல்லை.
113. நியாயத்துவம் என்பதால் கருதப்படுவது.
- 1) சட்டம் ஒழுங்கு நிலைநாட்டப்படுதல்.
2) சகல வீட்டுத்துறையினரிடையேயும் வருமானப் பங்கீடு சமமாக இருத்தல்.
3) வருமானப் பரம்பலில் வேறுபாட்டை குறைந்த மட்டத்தில் பேணுதல்.
4) பிரச்சினைகளின் போது சரியான தீர்ப்பை வழங்குதல்.
5) கிணக்குணகத்தின் பெறுமானம் அதிகரித்துச் செல்லுதல்.
114. பேண்தரு அபிவிருத்தியை உறுதி செய்வதற்கு நால்வகை மூலதனங்களுள் அடங்காதது எது?
- 1) பௌதீக மூலதனம் 4) இயற்கை மூலதனம்
2) நிதி மூலதனம் 5) சமூக மூலதனம்
3) மனித மூலதனம்
115. மொத்த உள்நாட்டுச் சேமிப்பில் இருந்தும் மொத்தத் தேசிய சேமிப்பு பின்வரும் எவ்வடிப்படையில் வேறுபடுகின்றது?
- 1) தேறிய வெளிநாட்டு முதலீடுகள்
2) தேறிய இறக்குமதிகள்
3) அலுவல்சார் மாற்றல்களின் தேறிய பெறுவனவுகள்
4) தேறிய தனியார் மாற்றல் பெறுவனவு, தேறிய வெளிநாட்டு காரணி வருமானம்
5) தேறிய வெளிநாட்டுக்கடன் பெறுவனவுகள்
116. பின்வருவனவற்றில் தேசிய வருமானத்தைப் பிரதிபலிப்பது
- 1) சந்தை விலை மொத்த தேசிய உற்பத்தி - பெறுமானத்தேய்வு
2) சந்தை விலைகளில் தேறிய தேசிய உற்பத்தி - தேறிய நேரில்வரி
3) காரணி விலை தேறிய தேசிய உற்பத்தி + தேறிய நேரில்வரி
4) காரணி விலை தேறிய தேசிய உற்பத்தி - நேரில்வரி
5) சந்தை விலை மொத்தத் தேசிய உற்பத்தி + நேரில்வரி
117. மெய்த் தேசிய உற்பத்தியை கணிப்பிட்டுக்கொள்வதற்கு
- 1) நடைமுறைவிலை தேசிய உற்பத்தியோடு தேறிய நேரில்வரிகளை சீராக்கம் செய்தல்.
2) நடைமுறை விலை தேசிய உற்பத்தியோடு சென்மதி நிலுவைப் பற்றாக்குறையை சீராக்கம் செய்தல்.

தேர்ச்சி - 04 - M.C.Q

- 3) நடைமுறை விலை தேசிய உற்பத்தியோடு பெறுமானத்தேய்வை சீராக்கம் செய்தல்.
 - 4) நடைமுறை விலை தேசிய உற்பத்தியோடு மாற்றல்களை சீராக்கம் செய்தல்.
 - 5) நடைமுறை விலை தேசிய உற்பத்தியோடு விலை மட்ட மாற்றங்களை சீராக்கம் செய்தல்.
118. பின்வரும் வருமானங்களில் சுயதொழில் வருமானத்திற்குள் உள்ளடங்காதது?
- 1) கம்பனிகளாக பதிவு செய்யப்படாத தனிவியாபாரம்
 - 2) பங்குடமையும் கூட்டுறவு முயற்சியும்
 - 3) விவசாயிகள்
 - 4) வாண்மைத் தொழில்கள்
 - 5) கம்பனி வருமானம்
119. மொத்த தேசிய வருமானத்துடன் தேறிய வெளிநாட்டு மாற்றல்களை சேர்த்துப் பெறப்படுவது?
- 1) தேறிய தேசிய வருமானம்
 - 2) உண்மைத் தேசிய வருமானம்
 - 3) வீட்டுத்துறையினரின் செலவிடக்கூடிய வருமானம்
 - 4) மொத்த தேசிய செலவிடக்கூடிய வருமானம்
 - 5) நிலையான விலைத்தேசிய வருமானம்
120. பின்வருவனவற்றுள் கம்பனி இலாபமாக கருதப்படுவது.
- 1) தேசிய வருமான கணிப்பின் போது வரி அறவிடுவதற்கு முன்னுள்ள இலாபம்
 - 2) தேசிய வருமான கணிப்பின் போது வரி அறவிடு செய்யப்பட்டதன் பின்பான இலாபம்
 - 3) தேசிய வருமானத்துடன் மானியத்தை சேர்த்ததன் பின்னான இலாபம்
 - 4) தேசிய வருமானத்துடன் மானியத்தை சேர்த்ததன் முன்னான இலாபம்
 - 5) தேசிய வருமானக் கணிப்பின்போது வரி மானியம் என்பவற்றை சேர்க்க வரும் இலாபம்
121. பின்வருவனவற்றுள் காரணி வருமானங்களாகக் கருத முடியாதது.
- 1) வாடகை வருமானம்
 - 2) தேறிய வட்டி
 - 3) மாற்றல் வருமானம்
 - 4) தொழில் உள்ளோரது வருமானம்
 - 5) முயற்சியாளர் வருமானம்
122. சந்தை விலைகளிலான மொத்த தேசிய உற்பத்தியை சிறப்பாக விபரிப்பது எது?
- 1) ஒரு குறிப்பிட்ட காலத்தில் பொருளாதாரம் ஒன்றில் உருவாக்கப்பட்ட மொத்த பொருட்கள் சேவைகள் அளவு.
 - 2) உள்நாட்டில் உருவாக்கப்பட்ட பொருட்கள் சேவைகள் மீது நுகர்வோர் மேற்கொண்ட மொத்தச் செலவு.
 - 3) ஒரு நாட்டின் வதிவுள்ளோர் உள்நாட்டிலும், வெளிநாட்டிலும் காரணச் சேவைகளை வழங்கி பெற்றுக்கொள்ளும் அனைத்து வருமானம்.
 - 4) உள்நாட்டில் உருவாக்கப்பட்ட மொத்த வெளியீட்டின் பெறுமதியோடு தேறிய வெளிநாட்டு காரணி வருமானத்தையும் கூட்டி பெறுமானத்தேய்வாக கழித்தல்.
 - 5) மொத்த உள்நாட்டு உற்பத்தியோடு தேறிய வெளிநாட்டிற்கு அனுப்பிய காரணி வருமானத்தை கூட்டி நேரில் வரிகளை கூட்டுவதன் மூலம் பெறப்படுவது.
123. பின்வரும் விடயங்களில் தேசிய கணக்கீட்டில் சேர்த்துக் கொள்ளப்படும் விடயம் எது?
- 1) மாற்றல் கொடுப்பனவு
 - 2) நிதிச் சந்தை கொடுக்கல் வாங்கல்
 - 3) கணக்கீட்டுக் காலத்திற்குள் உட்படாத உற்பத்தி செலவுகள்

தேர்ச்சி - 04 - M.C.Q

- 4) இடைநிலைப் பண்டங்களின் பரிமாற்றம்
 5) அரசு பெறும் வட்டி வருமானம்
124. நாடொன்றின் மொத்த உள்நாட்டு உற்பத்தி ரூபா 6,000 பில்லியன் எனவும், பொது விலை மட்டச் சுட்டெண் 150 ஆக இருந்ததாகவும் கொள்க. விலைச் சுட்டெண்ணின் அடியாண்டில் நிலவிய விலைகளின் படி இந்நாட்டின் மொத்த உள்நாட்டு உற்பத்தியின் பெறுமதி யாது?
- 1) ரூபா. 7,500 பில்லியன் ஆகும்.
 2) ரூபா. 4,000 பில்லியன் ஆகும்.
 3) ரூபா. 3,500 பில்லியன் ஆகும்.
 4) ரூபா. 3,000 பில்லியன் ஆகும்.
 5) ரூபா. 2,000 பில்லியன் ஆகும்.
125. நீர் ஏற்றுக்கொள்ளாத கூற்றுக்களை இனங்காண்க.
- 1) நாட்டின் மொத்த வெளியீட்டுப் பெறுமதியிலிருந்து ஏற்றுமதிப் பெறுமதியை கழிப்பதன் மூலம் மொத்த உள்நாட்டு உற்பத்தியைப் பெறலாம்.
 2) ஒரு நாட்டு மக்களால் உற்பத்தி செய்யப்படும் மொத்த வெளியீட்டுப் பெறுமதியே மொத்த தேசிய உற்பத்தியாகும்.
 3) நிலையான விலையில் கணிப்பிடப்பட்ட மொத்தத் தேசிய வெளியீடே மெய்யான மொத்தத் தேசிய உற்பத்தியாகும்.
 4) மொத்தத் தேசிய வருமானமே காரணிச் செலவிலான மொத்தத் தேசிய உற்பத்தியாகும்.
 5) மேற்கூறப்பட்ட எல்லாம்.
126. மொத்த உள்நாட்டு உற்பத்தியில் இருந்து பெறுகின்ற வருமானங்களில் பின்வரும் எந்த வருமானங்கள் தேசிய கணக்கீட்டில் சேர்க்கப்படுவதில்லை?
- 1) அரசாங்க படுகடன் மீது செலுத்தப்படும் வட்டி.
 2) தொழில் நிறுவனங்களில் பங்கிடப்படாத இலாபங்கள்.
 3) பகிரப்படாத இலாபங்கள்.
 4) அரசாங்கத்தின் சொத்து வருமானம்.
 5) அரசாங்கம் பெற்ற வட்டி வருமானம்.
127. பின்வருவனவற்றுள் முறைசாராத பொருளாதார நடவடிக்கையாக கருத முடியாதது?
- 1) முறையான ஆவணப்படுத்தல் இல்லாத நடவடிக்கைகள்
 2) குடும்ப உழைப்பில் தங்கியிருத்தல்
 3) வரி செலுத்துவதிலிருந்து தவிர்த்து இருத்தல்
 4) கம்பனி இலாபங்கள்
 5) அரசின் சட்ட நிபந்தனைகளுக்கு இணங்க விரும்பாமை
128. சந்தை விலையிலான மொத்த உள்நாட்டு உற்பத்தியை காரணி விலையிலான தேறிய தேசிய உற்பத்தியாக மாற்றுவதற்குப் பின்வருவனவற்றுள் எத்தகைய மாற்றம் செய்யப்பட வேண்டும்?

	பெறுமானத் தேய்வு	வெளிநாட்டிலிருந்ததான தேறிய காரணி வருமானம்	நேரில் வரிகள்	மானியங்கள்
1)	சுட்டு	சுட்டு	கழி	சுட்டு
2)	சுட்டு	கழி	கழி	சுட்டு
3)	சுட்டு	கழி	சுட்டு	குழி
4)	கழி	சுட்டு	கழி	சுட்டு
5)	கழி	சுட்டு	சுட்டு	கழி

129. தேசிய கணக்குகளைத் தயாரிக்கும் போது கீழ் தரப்பட்டுள்ளவற்றுள் எது சேர்க்கப்படும்.

- 1) தான் குடியிருக்கும் வீட்டை ரூபா 2 இலட்சத்திற்கு விற்பனை செய்தல்.
- 2) பயிர்ச்செய்கைக்காக நிலமொன்றை கொள்வனவு செய்தல்.
- 3) பங்குச் சந்தையிலிருந்து பங்குகளை கொள்வனவு செய்தல்.
- 4) சொத்துக் கம்பனியொன்றிலிருந்து புதிய வீடொன்றை கொள்வனவு செய்தல்
- 5) அரசின் திறைசேரி உண்டியல்களைக் கொள்வனவு செய்தல்.

130. கீழே தரப்படுவது கருதுகோள் ரீதியான பொருளாதாரமொன்று தொடர்பான புள்ளிவிபரங்கள் சிலவாகும்.

தேறிய உள்நாட்டு வருமானம்	20,000
வெளிநாட்டு தேறிய காரணி வருமானம்	-500
மூலதனத் தேய்வு	4,000
தேறிய நேரில் வரி	800

இத்தகவல்களின் படி சந்தை விலையின் கீழ் மொத்தத் தேசிய உற்பத்தியாவது

- 1) 16,300 2) 19,200 3) 19,500 4) 24,000 5) 24,300

131. தேசிய சேமிப்பை கணிப்பிடுகின்ற விதத்தைக் காட்டும் சரியான முறை எது?

- 1) உள்நாட்டு சேமிப்பு + தேறிய வெளிநாட்டு காரணி வருமானம் + வெளிநாட்டு தேறியநடைமுறை மாற்றல் = தேசிய சேமிப்பு
- 2) உள்நாட்டு சேமிப்பு - தேறிய வெளிநாட்டுக் காரணி வருமானம் + வெளிநாட்டு தேறியநடைமுறை மாற்றல் = தேசிய சேமிப்பு
- 3) உள்நாட்டு சேமிப்பு + வெளிநாட்டுத் தேறிய காரணி வருமானம் - வெளிநாட்டு தேறியநடைமுறை மாற்றல் = தேசிய சேமிப்பு
- 4) உள்நாட்டுச் சேமிப்பு + வெளிநாட்டு தேறிய காரணி வருமானம் - அரச சேமிப்பு = தேசிய சேமிப்பு
- 5) உள்நாட்டுச் சேமிப்பு - தனியார் சேமிப்பு + அரச சேமிப்பு = தேசிய சேமிப்பு

132. தேசிய வருமானம் என்பது.

- 1) சந்தை விலை மொத்த உள்நாட்டு உற்பத்தி, பெறுமானத்தேய்வு, தனிநபர் வருமான வரிகள், பகிரப்படா இலாபங்கள் என்பவற்றின் கூட்டுத்தொகையாகும்.
- 2) காரணி விலை, உற்பத்திப் பெறுமதியில் இருந்து பெறுமானத் தேய்வு, நேரில் வரிகள் என்பவற்றைக் கழித்துப் பெறப்படும் தொகையாகும்.
- 3) சந்தைவிலை மொத்தத் தேசிய உற்பத்திப் பெறுமதியில் இருந்து பெறுமானத் தேய்வு, ஏற்றுமதிகள் என்பவற்றைச் கழித்துப் பெறப்படும் தொகையாகும்.
- 4) சந்தைவிலை மொத்தத் தேசிய உற்பத்தியிலிருந்து மூலதன நுகர்ச்சி மற்றும் நேரில் வரிகளைக் கழித்துப் பெறப்படும் தொகையாகும்.
- 5) மொத்த உள்நாட்டு செலவுடன் ஏற்றுமதிகள் கூட்டிப் பெறுமானத் தேய்வு, இறக்குமதிகள் மற்றும் நேரில் வரிகள் என்பவற்றை கழித்துப் பெறப்படும் தொகையாகும்.

133. கற்பிதமான பொருளாதாரமொன்றில் தேறிய முதலீடு 500MR வும் உள்நாட்டு சேமிப்பு 700MR வும் தேறிய ஏற்றுமதி -200MR வும் உள்ளது. இப்பொருளாதாரத்தினது மூலதன நுகர்ச்சி யாது?

தேர்ச்சி - 04 - M.C.Q

- 1) 200MR 3) 400MR 5) 150MR
 2) 700MR 4) 100MR

134. தேசிய வருமானம் ஒன்றினை மதிப்பீடு செய்யுமிடத்து பின்வருவனவற்றுள் எது உள்ளடக்கப்படுவதில்லை?

- 1) சுயதொழில் வருமானங்கள் 4) நிறுவன பகிரப்படா இலாபங்கள்
 2) அரசிடமிருந்தான வட்டி வருவாய் 5) கம்பனி வரிகள்
 3) பங்கிலாபங்கள்

135. பின்வருவனவற்றில் சரியான கூற்றினை இனங் காண்க.

- 1) சென்மதி நிலுவையின் மிகை அரச சேமிப்பாகும்.
 2) வணிகத்துறை சேமிப்பு, வீட்டுத்துறை சேமிப்பு என்பவற்றின் கூட்டுத்தொகை உள்நாட்டுச் சேமிப்பாகும்.
 3) மொத்த உள்நாட்டு உற்பத்தியை விட மொத்த உள்நாட்டு செலவு அதிகமாயின் தேறிய ஏற்றுமதி மறைப் பெறுமானம் பெறும்.
 4) மொத்த நுகர்ச்சியில் இருந்து அரசாங்கக் கொள்வனவைக் கழித்து அரச சேமிப்பை பெறலாம்.
 5) மொத்தக் கம்பனி இலாபத்தின் ஒரு கூறாக மறைமுக வரிகள் காணப்படுகின்றன.

136. எவ்வகை உற்பத்திகள் தேசிய உற்பத்திக் கணிப்பீட்டில் சேர்த்துக் கொள்ளப்படுவதில்லை.

- 1) மொத்தக் கம்பனி இலாபங்கள்
 2) பகிரப்படா இலாபங்கள்
 3) முறைசாராப் பொருளாதாரத்தின் பயனள்ள செயற்பாடுகள்
 4) விவசாய உற்பத்திகளின் கூட்டிய பெறுமதி
 5) உயர் தொழில் வருமானங்கள்

137. சந்தைவிலை மொத்த உள்நாட்டு உற்பத்தி என்பது.

- 1) மொத்த உள்நாட்டு கேள்வி, தேறிய வெளிநாட்டுக் கேள்வி என்பவற்றின் கூட்டுத்தொகையாகும்.
 2) மொத்த முதலீடு, தேறிய ஏற்றுமதி, பெறுமானத் தேய்வு என்பவற்றின் கூட்டுத்தொகையாகும்.
 3) தனியார் நுகர்ச்சி, மொத்த முதலீடு, மூலதன நுகர்ச்சி, தேறிய ஏற்றுமதி என்பவற்றின் கூட்டுத்தொகையாகும்.
 4) விவசாயப் பொருளின் கூட்டிய பெறுமதி, கைத்தொழில் மற்றும் பணிகளின் கூட்டிய பெறுமதி, தனியார் நுகர்ச்சி என்பவற்றின் கூட்டுத் தொகையாகும்.
 5) தனியார் நுகர்ச்சி, பொது நுகர்ச்சி, தேறிய முதலீடு என்பவற்றின் கூட்டுத்தொகையாகும்.

138. தேறிய உள்நாட்டு வருமானத்தை மொத்த உள்நாட்டு உற்பத்திக்கு (சந்தைவிலை) சம்பந்தத்த சீராக்க வேண்டிய நடவடிக்கைகள்.

- 1) + மூலதனத் தேய்வு + தேறிய நேரில் வரிகள்
 2) - தேறிய நேரில் வரி + தேறிய ஏற்றுமதிகள்
 3) + தேறிய வெளிநாட்டு முதலீடுகள் - மானியங்கள்
 4) - மூலதனதேய்வு + தேறிய நேரில்வரிகள்
 5) + தேறிய வெளிநாட்டு காரணி வருமானம் + மறைமுகவரி - மானியங்கள்

139. பின்வருவனவற்றுள் எது வருமான வட்டப்பாய்ச்சலின் வெளிப்பாய்ச்சலாகக் கருதப்படமுடியாது.
- 1) வெளிநாட்டு பொருள்கள் மீதான செலவு
 - 2) நேரில்வரிகள்
 - 3) பகிரப்படாத இலாபங்கள்
 - 4) வேலையின்மையின் நன்மைகள்
 - 5) வீட்டுத்துறை சேமிப்புகள்
140. முழுக்காரணி வருமானம் + பெறுமானத்தேய்வு எதற்குச் சமனாகும்.
- 1) காரணி விலையில் மொத்த உள்நாட்டு உற்பத்தி
 - 2) சந்தை விலையில் மொத்த தேசிய உற்பத்தி
 - 3) தேசிய வருமானம்
 - 4) உள்நாட்டு வருமானம்
 - 5) தனிநபர் வருமானம்
141. பின்வருவன தேசிய கணக்கீட்டு தரவுகளாகும்.
- மொத்த நுகர்வு 800
 - அரசு கொள்வனவு 400
 - சந்தை விலையில் மொத்த உள்நாட்டு உற்பத்தி 2000
 - பெறுமானத் தேய்வு 100
 - பொருட்கள் காரணியல்லா சேவைகளின் தேறிய ஏற்றுமதி 200
- தேறிய முதலீட்டை கணிப்பீடு செய்க
- 1) 400 மில்லியன் ரூபா
 - 2) 900 மில்லியன் ரூபா
 - 3) 600 மில்லியன் ரூபா
 - 4) 700 மில்லியன் ரூபா
 - 5) 800 மில்லியன் ரூபா
142. ஒரு பொருளாதாரம் சம்பந்தமான தரவுகள் வருமாறு (யாவும் மில்லியன் ரூபாய்க்களில்)
- | | |
|------------------------------------|-------|
| விவாசாயத்துறையின் கூட்டிய பெறுமதி | 6000 |
| கைத்தொழிந்துறையின் கூட்டிய பெறுமதி | 8000 |
| சேவைகள் துறையின் கூட்டிய பெறுமதி | 10000 |
| தேறிய மறைமுகவரிகள் | 4000 |
| தேறிய ஏற்றுமதிகள் | 5000 |
- மொத்த உள்நாட்டு செலவு யாது?
- 1) 24000 மி.ரூபா
 - 2) 19000 மி.ரூபா
 - 3) 33000 மி.ரூபா
 - 4) 20000 மி.ரூபா
 - 5) 23000 மி.ரூபா
143. கீழே தரப்படும் கூற்றுக்களில் தேசிய வருமானத்தை கணிப்பிடுவதற்குரிய கூற்றாக அமைவது.
- 1) சந்தை விலைகளில் மொத்த தேசிய உற்பத்தி - நேரில் வரிகள்
 - 2) சந்தை விலைகளில் மொத்த தேசிய உற்பத்தி + பெறுமானத் தேய்வு
 - 3) சந்தை விலைகளில் மொத்தத் தேசிய உற்பத்தி - பெறுமானத் தேய்வு - தேறிய நேரில் வரிகள்
 - 4) காரணி விலைகளில் மொத்தத் தேசிய உற்பத்தி + பெறுமானத் தேய்வு
 - 5) மொத்த நுகர்வு + மொத்த முதலீடு + தேறிய ஏற்றுமதிகள் + தேறிய நேரில் வரிகள்
144. கற்பித்த பொருளாதாரமொன்றின் பொருளாதார தரவுகள் வருமாறு.

தேர்ச்சி - 04 - M.C.Q

விடயம்	பெறுமதி மில்லியன் ரூபா
தனியார் நுகர்ச்சி	1,200
அரசாங்க கொள்வனவு	800
உள்நாட்டுக் கேள்வி	4,000
தேறிய ஏற்றுமதி	1,000

மேற்படி அட்டவணையிலுள்ள தரவுகளின்படி இப்பொருளாதாரத்தின் உள்நாட்டு சேமிப்பின் அளவு

- | | |
|-------------------------|-------------------------|
| 1) 1,200 மில்லியன் ரூபா | 4) 2,500 மில்லியன் ரூபா |
| 2) 300 மில்லியன் ரூபா | 5) 3,000 மில்லியன் ரூபா |
| 3) 2,000 மில்லியன் ரூபா | |

145. 2016இல் இலங்கை அடையத்திட்டமிட்டுள்ளவை.

தலாவருமானம் (ஐ.அ.டொலர்)	முதலீட்டு வீதம்
1) 3,000ற்கு மேல்	28 - 32%
2) 3,500ற்கு மேல்	30 - 33%
3) 4,000ற்கு மேல்	33 - 35%
4) 4,000ற்கு மேல்	36 - 38%
5) 4,500ற்கு மேல்	38 - 40%

146. ஒரு நாட்டின் காரணி விலையிலான மொத்த உள்நாட்டுற்பத்தியில் இருந்து தேசிய வருமானத்தினைக் கணிப்பதற்கு.

- 1) மொத்த உள்நாட்டுற்பத்தியில் இருந்து தேறிய கிடைத்த வெளிநாட்டுக் காரணி வருமானத்தையும் பெறுமானத்தேய்வையும் நீக்குதல் வேண்டும்.
- 2) மொத்த உள்நாட்டுற்பத்தியுடன் பெறுமானத்தேய்வினைக் கழித்தல் வேண்டும்.
- 3) மொத்த உள்நாட்டுற்பத்தியுடன் தேறிய மறைமுக வரியினைக் கூட்டி பெறுமானத்தேய்வினைக் கழித்தல் வேண்டும்.
- 4) மொத்த உள்நாட்டுற்பத்தியுடன் தேறிய கிடைத்த வெளிநாட்டு காரணி வருமானத்தைக் கூட்டி கம்பனி வரியைக் கழித்தல் வேண்டும்.
- 5) மொத்த உள்நாட்டுற்பத்தியுடன் தேறிய கிடைத்த வெளிநாட்டுக் காரணி வருமானத்தைக் கூட்டி பெறுமானத்தேய்வினைக் கழித்தல் வேண்டும்.


147.

வகை	பெறுமதி மில்லியன் ரூபா
சந்தைவிலை உள்நாட்டுற்பத்தி	230
தேறிய ஏற்றுமதிகள்	-20
தேறிய மறைமுக வரிகள்	25
மூலதன நுகர்ச்சி	15
தேறிய கிடைத்த வெளிநாட்டு காரணி வருவாய்	50

மேற்படி தரவுகளின்படி இப்பொருளாதாரத்தின் தேசிய வருமான மட்டத்தின் அளவு

- | | | |
|------------------|------------------|------------------|
| 1) 260 மில்லியன் | 3) 245 மில்லியன் | 5) 240 மில்லியன் |
| 2) 265 மில்லியன் | 4) 280 மில்லியன் | |

148.



மேலேயுள்ள வரைபில் X, Y புள்ளிக்களுக்கிடையில் வெளியீட்டு வேறுபாடு 400 மில்லியன் ரூபா எனவும், எல்லை நுகர்வு நாட்டம் (MPC) 0.6 எனவும் கருதுக. Y புள்ளியின் வெளியீட்டு மட்டத்தினையடைய வேண்டுமாயின்,

- 1) முதலீட்டினை 120 மில்லியனால் அதிகரிப்பதாகும்.
 - 2) அரசாங்க செலவீட்டை 160 மில்லியனால் குறைப்பதாகும்.
 - 3) வரிகளை 400 மில்லியனால் குறைத்தலாகும்.
 - 4) அரசாங்கக் கொள்வனவை 160 மில்லியனால் உயர்த்துதல்.
 - 5) இறக்குமதிகளை 150 மில்லியனால் குறைத்தல்.
149. 2010இல் ஒரு நாட்டின் மொத்த உள்நாட்டு உற்பத்தி ரூபா 10,000 ஆகவும் விலைச் சுட்டெண் 100 எனவும் காணப்பட்டது. 2014இல் மொத்த உள்நாட்டு உற்பத்தி 12075 எனவும் விலைச்சுட்டெண் 105 எனவும் அதிகரித்திருந்தது. 2010 ஆம் ஆண்டிலிருந்து 2014 ஆம் ஆண்டிற்கு மெய் ரீதியான மொத்த உள்நாட்டு உற்பத்தி எத்தனை சதவீதத்தினால் அதிகரித்தது?
- 1) 5
 - 2) 14.7
 - 3) 15
 - 4) 20.75
 - 5) 25
150. பின்வரும் அட்டவணை நெல் உற்பத்தியின் வெவ்வேறு கட்டங்களில் பெற்ற வருடாந்த விற்பனை வருமானத்தினைக் காட்டுகின்றது.
- | | |
|----------------------------|------------|
| விதை நெல் உற்பத்தியாளர் | ரூபா.3000 |
| நெல் உற்பத்தியாளர் | ரூபா.6200 |
| அரிசி உற்பத்தியாளர் | ரூபா.10000 |
| அரிசி சில்லறை விற்பனையாளன் | ரூபா.22500 |
- பொருளாதாரத்தின் தேசிய வருமானத்திற்கு நெல் உற்பத்தியின் பங்களிப்பு என்ன?
- 1) ரூபா 10000
 - 2) ரூபா 19500
 - 3) ரூபா 41700
 - 4) ரூபா 51700
 - 5) ரூபா 22500
151. குறித்த வருட காலப்பகுதியில் தேசிய வருமானம் 10 சத விதத்தினால் அதிகரித்தது. விலைச்சுட்டெண் 8 சத விதத்தினால் அதிகரித்தது. மொத்த சனத்தொகை 2 சத விதத்தினால் வீழ்ச்சியடைந்தது. ஏறத்தாழ தலைக்குரிய மெய்த் தேசிய வருமானம் எத்தனை வீதத்தினால் அதிகரித்தது.
- 1) 0%
 - 2) 2%
 - 3) 4%
 - 4) 6%
 - 5) 12%
152. பின்வருவனவற்றுள் தேசிய வருமானக்கணக்கீட்டு நோக்கங்களுக்காக மாற்றல் கொடுப்பனவுகள் என்ற பதத்திற்குள் அடக்க முடியாதது எது?
- 1) அரச இருப்பை வைத்திருப்பவர்களுக்குச் செலுத்தும் வட்டி
 - 2) பாராளுமன்ற உறுப்பினர்களுக்குச் செலுத்தப்படும் சம்பளங்கள்
 - 3) அரச ஓய்வூதியக் கொடுப்பனவுகள்
 - 4) சமூகப் பாதுகாப்புக் கொடுப்பனவுகள்
 - 5) உள்நாட்டில் இடம்பெயர்ந்தவர்களுக்கான அரச கொடுப்பனவுகள்
153. குறிப்பிட்ட காலப்பகுதியினுள் குறித்த புவியியற் பிரதேசமொன்றிலான உற்பத்திச் செயற்பாடுகள் அனைத்திலும் கூட்டப்பட்ட பெறுமதிகளின் மொத்தம்
- 1) மொத்த தேசிய உற்பத்தி
 - 2) மொத்த உள்நாட்டு உற்பத்தி
 - 3) மெய்த் தேசிய உற்பத்தி
 - 4) மொத்தக் கைத்தொழில் வெளியீடு
 - 5) மேற்கூறப்பட்ட எவையுமில்லை
154. பின்வருவனவற்றில் எச்செலவீட்டு வகுதிகளில் கையிருப்பில் ஏற்படும் மாற்றங்கள் உள்ளடக்கப்படும்?
- 1) மொத்த உள்நாட்டு தனியார் முதலீடு
 - 2) தேறிய ஏற்றுமதிகள்
 - 3) அரசாங்கக் கொள்வனவுகள்
 - 4) நெடுவாழ்வுப் பொருட்கள் மீதான தனியார் நுகர்வு
 - 5) குறுகிய வாழ்வு கொண்ட பொருட்கள் மீதான தனியார் நுகர்வு

155. சந்தை விலைகளில் மொத்த உள்நாட்டு உற்பத்தியானது
- 1) நுகர்வு, அரசு கொள்வனவு, தேறிய ஏற்றுமதிகள், முதலீட்டுச் செலவீடு என்பவற்றின் கூட்டுத்தொகையாகும்.
 - 2) நுகர்வு, அரசு கொள்வனவு, தேறிய ஏற்றுமதிகள், தனிநபர் வரிகள் என்பவற்றின் கூட்டுத்தொகையாகும்.
 - 3) வர்த்தக நேரில் வரிகள், தனிநபர் வருமான வரிகள், தேறிய ஏற்றுமதிகள் என்பவற்றின் கூட்டுத்தொகையாகும்.
 - 4) எல்லா உள்நாட்டுக் காரணி வருமானங்களையும் நேரில் வரிகளை கழித்து மானியங்களைக் கூட்டி வரும் தொகையாகும்.
 - 5) எல்லாக் காரணி வருமானங்களின் கூட்டுத்தொகையிலிருந்து பெறுமானத் தேய்வினைக் கழிக்க வருவதாகும்.

156. வருமான முறையினூடாக மொத்ததேசிய உற்பத்தியின் மதிப்பீட்டினைச் செய்யுமிடத்து பின்வருவனவற்றில் எது நீக்கப்படுகின்றது?
- 1) கூலிகள்
 - 2) புலமைப்பரிசில் பெறுமதி
 - 3) பங்கிலாபங்கள்
 - 4) நேர்வரிகள்
 - 5) தொழில் நிறுவனங்களின் பங்கிடப்படாத இலாபங்கள்

157. “வெளியீட்டு இடைவெளி” என்பது
- 1) குறுங்கால உற்பத்தித் தொழிற்பாட்டில் உள்நாட்டு உற்பத்திக்கும் தேசிய உற்பத்திக்குமிடையிலான வேறுபாடு.
 - 2) நிறுவனமொன்றின் முடிவுப் பொருள் உற்பத்திப் பெறுமதிக்கும் சந்தைபடுத்தும் உற்பத்திப் பெறுமதிக்கும் இடையிலான வேறுபாடு.
 - 3) உண்மை உற்பத்தி மட்டத்திற்கும் மெய்த் தேசிய உற்பத்தி மட்டத்திற்கு மிடையிலான வேறுபாடு.
 - 4) பொருளாதாரத்திற்குள்ளே அரசு தலையீட்டு ஸ்திரப்பாட்டுக் கொள்கையை அறிமுகம் செய்யக்கூடிய வெளியீட்டு மட்டம்.
 - 5) வியாபாரச் சுற்றோட்டத்தின் வழி பொருளாதாரத்தின் உண்மையான வெளியீட்டு மட்டத்திற்கும், உத்தம உற்பத்தி மட்டத்திற்குமிடையிலான வேறுபாடு.

158. பின்வரும் தகவல்கள் உமக்குத் தரப்பட்டுள்ளன.

விபரம்	மில்லியன்
விவசாயத்தின் மொத்த உற்பத்தி	3000
தேறிய நேரில் வரி	20
கைத்தொழிலின் உள்ளீட்டுக் கொடுப்பனவு	500
சேவைத்துறையின் மொத்த உற்பத்தி	7000
சேவைத்துறைக்கான உள்ளீடு	500
விவசாயத்தின் உள்ளீட்டுக் கொடுப்பனவு	1000
கைத்தொழிலின் மொத்த விற்பனைப் பெறுமதி	6000

இப்பொருளாதாரத்தின் சந்தைவிலையிலான மொத்த உள்நாட்டு உற்பத்தி யாது?

- 1) 16000 மில்.ரூபா
- 2) 16020 மில்.ரூபா
- 3) 14500 மில்.ரூபா
- 4) 14520 மில்.ரூபா
- 5) 14020 மில்.ரூபா

159. ஒரு கற்பனையான பொருளாதாரத்தின் தேசிய கணக்கீட்டு தகவல்கள் வருமாறு.

மொத்த உள்நாட்டு உற்பத்தி	1000
சனத்தொகை	20
வெளிநாட்டு தேறிய காரணி வருமானம்	100
பொருளாதார சுருக்கி (2010=100)	100

இப்பொருளாதாரத்தின் மெய்த்தலா மொத்த தேசிய உற்பத்தியின் அளவு.

- 1) 50
- 2) 1100
- 3) 550
- 4) 55
- 5) 60

160. பணவீக்க இடைவெளி என்பது.

- 1) அரசு வருமானத்தைவிட அரசு செலவீடு கூடுதலாக இருக்கும் போது
- 2) நிறைதொழில்மட்ட தேசிய வருமானத்தில் உட்பாய்ச்சலை விட வெளிப்பாய்ச்சல் கூடுதலாக இருக்கும்போது
- 3) நிறைதொழில் மட்ட தேசிய வருமானத்தை விட மொத்தக் கேள்வி கூடுதலாக இருக்கும்போது
- 4) சமநிலை தேசிய வருமான மட்டத்தைவிட நிறை தொழில்மட்ட தேசிய வருமானம் கூடுதலாக இருக்கும் போது
- 5) இரு காலப்பகுதியில் பணவீக்கத்தில் காணப்படும் வேறுபாடாகும்.

161. கோதுமை உற்பத்தியாளர்கள் 4,000 ரூபா கோதுமையினை மா ஆலை ஒன்றிற்கு விற்பனை செய்கின்றனர். மா ஆலை 6,000 ரூபா கோதுமை மாவினை பேக்கரி உரிமையாளர்களுக்கு விற்பனை செய்கின்றனர். இவ்வற்பத்தி செயன்முறை பற்றிய சரியான கூற்று எது?

- 1) பாவனையாளர்களின் பெறுமதிச் சேர்க்கை ரூபா.20,000 ரூபாவாகும்.
- 2) மொத்த உற்பத்திச் சேர்க்கை ரூபா.10,000 அகும்.
- 3) உற்பத்தி நடவடிக்கையின் மொத்த பெறுமதிச் சேர்க்கை ரூபா.20,000 வாகும்.
- 4) மா அலையின் பெறுமதிச் சேர்க்கை 6,000 ரூபாவாகும்.
- 5) பேக்கரியாளர்களின் பெறுமதிச் சேர்க்கை 4,000 ரூபாவாகும்.

162. பொருளாதாமொன்றின் வளப் பயன்பாட்டில் உள்ளடக்கப்படுவது.

- 1) மொத்த உள்நாட்டுச் செலவும் பொருட்கள் சேவைகளின் இறக்குமதிப் பெறுமதியுமாகும்.
- 2) மொத்த உள்நாட்டு உற்பத்தியும் பொருட்கள் சேவைகளின் ஏற்றுமதிப் பெறுமதியுமாகும்.
- 3) நுகர்வுச் செலவும் பொருட்கள் சேவைகளின் ஏற்றுமதிப் பெறுமதியுமாகும்.
- 4) மொத்த உள்நாட்டு உற்பத்தியும் பொருட்களின் சேவைகளின் இறக்குமதிப் பெறுமதியுமாகும்.
- 5) மொத்த உள்நாட்டுச் செலவும் பொருட்கள் சேவைகளின் ஏற்றுமதிப் பெறுமதியுமாகும்.

163. குறிப்பிட்டவொரு பொருளாதாரத்தில் இறப்பர் பால் உற்பத்தியின் பெறுமதி 10,000 மில்லியன் ரூபாவாகும். இறப்பர் ஷீட் உற்பத்தியில் புதிதாக கூட்டப்பட்ட பெறுமதி 18,000 மில்லியன் ரூபாவாகும். இவ்வுள்ளீடுகளின் மூலம் இறப்பர் பாதணிகள் உற்பத்தி செய்யப்பட்டால் இவ் அனைத்து உற்பத்திகளின் முழுப் பெறுமதி 72,000 மில்லியன் ரூபாவாகும். எனவே பாதணி உற்பத்திச் செயற்பாட்டின் கூட்டப்பட்ட பெறுமானங்களின் மொத்தம்.

- 1) 56,000 மில்லியன் ரூபாவாகும்.
- 2) 44,000 மில்லியன் ரூபாவாகும்.
- 3) 26,000 மில்லியன் ரூபாவாகும்.
- 4) 18,000 மில்லியன் ரூபாவாகும்.
- 5) 10,000 மில்லியன் ரூபாவாகும்.

164. சென்மதி நிலுவை தொடர்பான தரவுகள் சில கீழே தரப்பட்டுள்ளன.

	ஆமெரிக்க டொலரில்
வர்த்தக மீதி	-9409
சேவைக் கணக்கு மீதி	1250
வருமானக் கணக்கு மீதி	-1148

தேசிய கணக்குகளில் மேற்கூறப்பட்ட பெறுமதிகள் மூலம் ஏற்படும் பாதிப்பினை சரியாகக் காட்டும் விடை எது?

தேர்ச்சி - 04 - M.C.Q

- 1) மொத்த உள்நாட்டு உற்பத்தியை விட மொத்தத் தேசிய உற்பத்தி அதிகரித்துள்ளது.
- 2) மொத்த உள்நாட்டு செலவைவிட மொத்த உள்நாட்டு உற்பத்தி அதிகரித்துள்ளது.
- 3) மொத்த உள்நாட்டுச் செலவைவிட மொத்த உள்நாட்டு உற்பத்தியின் மீதான செலவு அதிகரித்துள்ளது.
- 4) மொத்த உள்நாட்டு உற்பத்தி, மொத்த உள்நாட்டு செலவைவிடக் குறைந்துள்ளது.
- 5) மொத்த உள்நாட்டு உற்பத்தி, மொத்த உள்நாட்டு செலவுக்குச் சமமாகவுள்ளது.

165. தேசிய கணக்குகளுக்கு ாடுக்கக் கூடிய கணக்கு வகை எது?

- 1) நிதிக்கூற்றுடன் தொடர்புடைய கொடுக்கல் வாங்கல்கள்
- 2) அரசு உற்பத்திகள் தொடர்பான தொழிற்பாடுகள்
- 3) சட்டரீதியற்ற உற்பத்தித் தொழிற்பாடுகள்
- 4) பதியப்படாத உற்பத்தித் தொழிற்பாடுகள்
- 5) நுகர்வுப் பொருட்கள் விற்பனை தொடர்பான கொடுக்கல் வாங்கல்கள்

166. பொருளாதாரமொன்றின் தகவல்கள் உமக்கு கீழே தரப்பட்டுள்ளன.

நடைமுறைவிலைக்கான தேசிய வருமானம்	ரூ.12,000
நடைமுறை விலைக்கான விலைச்சட்டெண்	ரூ.120 (100)
தேறிய ஏற்றுமதி	ரூ.1000
மொத்த இறக்குமதி செலவினம்	ரூ.5000
வர்த்தக மாற்று விகிதம்	ரூ.110 (100)

இப்பொருளாதாரத்தின் மெய் வருமானம் யாது?

- 1) 10,600 2) 10,000 3) 12,600 4) 13,000 5) 10,010

167. மொத்த தேசிய வருமானத்தை கணிப்பிடுவதற்கு மொத்த உள்நாட்டு

உற்பத்தியில் என்ன சீராக்கத்தை செய்தல் வேண்டும்?

- 1) மொத்த உள்நாட்டுச் செலவுடன் தேறிய வெளிநாட்டு நடைமுறை மாற்றங்கள் மற்றும் தேறிய ஏற்றுமதிகளை சீராக்கம் செய்தல்.
- 2) மொத்த உள்நாட்டு செலவுடன் தேறிய உள்நாட்டு நடைமுறை மாற்றல் தேறிய வெளிநாட்டு காரணி வருமானம் மற்றும் தேறிய ஏற்றுமதி என்பவற்றை சீராக்கம் செய்தல்.
- 3) மொத்த உள்நாட்டு செலவுடன் தேறிய வெளிநாட்டு நடைமுறை மாற்றல்கள் தேறிய வரி மற்றும் தேறிய ஏற்றுமதிகள் என்பவற்றை சீராக்கம் செய்தல்.
- 4) மொத்த உள்நாட்டு உற்பத்தி செலவுடன் தேறிய நேரில் வரி, தேறிய காரணி வருமானம் மற்றும் தேறிய ஏற்றுமதி என்பவற்றை சீராக்கம் செய்தல்.
- 5) மொத்த உள்நாட்டு செலவுடன் சென்மதி நிலுவையில் உள்ள நடைமுறைக் கணக்கு நிலுவைச் சீராக்கம் செய்தல்.

168. மொத்த உள்நாட்டு உற்பத்தியுடன் வெளிநாட்டு தேறிய காரணி வருமானத்தை சீராக்குவதன் மூலம் பெறப்படுவது?

- 1) தேறிய தேசிய உற்பத்தி
- 2) மொத்த தேசிய உற்பத்தி
- 3) மொத்த உள்நாட்டு செலவு
- 4) செலவிடத்தக்க வருமானம்
- 5) சந்தை விலை தேசிய உற்பத்தி

169. காரணி விலை தேறிய தேசிய உற்பத்தி பின்வருவனவற்றில் எதற்கு சமனாகும்?

- 1) தேசிய வருமானம்
- 2) மொத்த உள்நாட்டு வருமானம்

- 3) மொத்த உள்நாட்டு உற்பத்தி
- 4) மொத்த உள்நாட்டு செலவு
- 5) சந்தை விலை உள்நாட்டு உற்பத்தி

170. சந்தை விலையிலான மொத்த உள்நாட்டு உற்பத்தியிலிருந்து காரணி விலையிலான தேறிய தேசிய உற்பத்தியைப் பெற என்ன செய்ய வேண்டும்?

பெறுமானத் தேய்வு	வெளிநாட்டிலிருந்ததான தேறிய காரணி வருமானம்	தேறியநேரில் வரிகள்
1) கூட்டுக	கூட்டுக	கழிக்குக
2) கூட்டுக	கழிக்குக	கூட்டுக
3) கழிக்குக	கூட்டுக	கூட்டுக
4) கூட்டுக	கழிக்குக	கழிக்குக
5) கழிக்குக	கூட்டுக	கழிக்குக

171. பின்வரும் தகவல்கள் ஒரு நாட்டின் தேசிய வருமானக் கணக்குக் தகவல்களைக் காட்டுகின்றது.

	ரூபா(மில்)
மொத்த உள்நாட்டுச் செலவு	100
பொருட்கள் காரணியல்லாப் பணி ஏற்றுமதி	24
பொருட்கள் காரணியல்லாப் பணி இறக்குமதி	26
நேரில் வரிகள்	20
மானிய உதவு தொகைகள்	10
வெளிநாட்டிலிருந்ததான தேறிய காரணி வருமானம்	01
பெறுமானத்தேய்வு	10

காரணி விலையில் தேறிய தேசிய உற்பத்தி எவ்வளவு?

- | | | |
|-----------------|-----------------|-----------------|
| 1) 78 மில்.ரூபா | 3) 81 மில்.ரூபா | 5) 89 மில்.ரூபா |
| 2) 79 மில்.ரூபா | 4) 83 மில்.ரூபா | |

172. பின்வரும் கூற்றுக்களில் தேறிய உள்நாட்டு வருமானத்தை வெளிப்படுத்தும் சரியாக கூற்று எது?

- 1) வாடகை + கூலி + தேறிய வட்டி + இலாபம்
- 2) வாடகை + கூலி + மொத்த வட்டி + இலாபம் + வெளிநாட்டு தேறிய காரணி வருவாய்
- 3) வாடகை + கூலி + தேறிய வட்டி + இலாபம் + தேறிய ஏற்றுமதிகள்
- 4) வாடகை + கூலி + தேறிய வட்டி + இலாபம் + தேறிய வெளிநாட்டு நடைமுறைகள் மாற்றல்கள்
- 5) வாடகை + கூலி + தேறிய வட்டி + இலாபம் - மூலதன நுகர்ச்சி

173. தனிநபரின் செலவிடத்தக்க வருமானம் கணிப்பிடப்படுவது.

- 1) தனிநபர் வருமானம் - வருமான வரி + மானியம் - பகிரப்படாத வியாபார இலாபம்
- 2) தேசிய வருமானம் + மானியம் - வருமான வரி - பகிரப்படாத வியாபார இலாபம்
- 3) தேசிய வருமானம் + வருமான வரி - மானியம் - பகிரப்படாத வியாபார இலாபம்
- 4) தனிநபர் வருமானம் + வருமான வரி + பகிரப்படாத வியாபாரம் இலாபம்
- 5) தேசிய வருமானம் + வெளிநாட்டு தேறிய காரணி வருமானம் - வருமான வரி

174. ஆண்டு 1இல் பெயரளவு மொத்த உள்நாட்டு உற்பத்தி ரூபா.800 பில்லியன் எனக் கருதுக. 5 ஆண்டுகளில் மெய் வெளியீடு 25% இனால் அதிகரிக்க மொத்த உள்நாட்டு உற்பத்திச் சுருக்கி இரு மடங்காக அதிகரிப்பின் 5வது ஆண்டில் பெயரளவு மொத்த உள்நாட்டு உற்பத்தியின் பெறுமதி யாது?
- 1) ரூபா.2000 பில்லியன்
 - 2) ரூபா.1500 பில்லியன்
 - 3) ரூபா.1000 பில்லியன்
 - 4) ரூபா.1600 பில்லியன்
 - 5) ரூபா.1250 பில்லியன்
175. பின்வரும் சமன்பாடுகளில் பிழையானது எது?
- 1) மொத்த உள்நாட்டு செலவு = நுகர்வு + முதலீடு
 - 2) மொத்த முதலீடு - தேறிய ஏற்றுமதி = மொத்த உள்நாட்டு சேமிப்பு
 - 3) மொத்த உள்நாட்டு உற்பத்தி - மொத்த நுகர்வு = மொத்த உள்நாட்டு சேமிப்பு
 - 4) மொத்த உள்நாட்டு உற்பத்தி + இறக்குமதி = நுகர்வு + முதலீடு + ஏற்றுமதி
 - 5) மொத்த உள்நாட்டு உற்பத்தி = மொத்த உள்நாட்டு செலவு + பொருட்கள் காரணியல்லாத சேவைகளின் தேறிய ஏற்றுமதி
176. பின்வரும் தரவுகள் நாடொன்றின் தேசிய கணக்குகள் அட்டவணையிலிருந்து பிரித்தெடுக்கப்பட்டவையாகும்.
- | | |
|---|------|
| தனியார் நுகர்வுச் செலவு | 2000 |
| மொத்த உள்நாட்டு மூலதனவாக்கம் | 800 |
| தொக்குகளின் மாற்றம் | 50 |
| அரசு கொள்வனவு | 500 |
| ஏற்றுமதி | 250 |
| இறக்குமதி | 350 |
| வெளிநாட்டிலிருந்து கிடைத்த தேறிய காரணி வருமானம் | -150 |
| நேரில் வரிகள் | 260 |
| மானியம் | 60 |
| மூலதன நுகர்ச்சி | 150 |
- நடைமுறைச் சந்தை விலைகளில் தேறிய தேசிய உற்பத்தியின் பெறுமதி (NNP)யாதாக இருக்கும்?
- 1) 2950 பில்லியன் ரூபா
 - 2) 3100 பில்லியன் ரூபா
 - 3) 2700 பில்லியன் ரூபா
 - 4) 2900 பில்லியன் ரூபா
 - 5) 3050 பில்லியன் ரூபா
177. சரியான கூற்றாக உம்மால் கருதப்படும் கூற்றை இனங்காண்க.
- 1) மொத்த உள்நாட்டுச் செலவும் மொத்த உள்நாட்டு உற்பத்தியும் எப்பொழுதும் சமமாக காணப்படும்.
 - 2) மொத்த உள்நாட்டு உற்பத்தியுடன் வெளிநாட்டு தேறிய முதலீட்டைக் கூட்டுவதன் மூலம் பெறப்படுவது மொத்த தேசிய செலவாகும்.
 - 3) தேசிய வருமானக் கணிப்பீட்டில் நேர்வரிகள் உள்ளடக்கப்படுவதில்லை.
 - 4) குடித்தன வருமானத்திற்குள் அரசிடமிருந்தான வட்டிப் பெறுவனவுகள் உள்ளடக்கப்படுவதில்லை.
 - 5) தேசிய வருமானமானது நடைமுறை காரணிச் செலவு விலைகளில் தேறிய தேசிய உற்பத்திக்கு சமனாக காணப்படும்.
178. உங்களுக்கு X பொருளாதாரத்திற்குரியதான, தேசிய வருமானத்துடன் தொடர்புடைய புள்ளி விபரங்கள் உமக்கு கீழே தரப்பட்டுள்ளன.

தேர்ச்சி - 04 - M.C.Q

இறக்குமதிகள்	10,000
ஏற்றுமதிகள்	5,000
வெளிநாட்டிலிருந்து தேறிய காரணி வருமானம்	500
இருப்பில் மாற்றம்	100
மொத்த உள்நாட்டு முதலீடுகள்	10,000
நுகர்வு செலவினங்கள் - பொதுத்துறை	25,000
நுகர்வு செலவினங்கள் - தனியாத்துறை	40,000

மொத்த தேசிய உற்பத்தியின் பெறுமதி எதுவாகவிருக்கும்?

- 1) 79500 மில்.ரூபா 3) 69500 மில்.ரூபா 5) 69600 மில்.ரூபா
2) 70500 மில்.ரூபா 4) 79600 மில்.ரூபா

179. சென்மதி நிலுவையின் பொருட்கள் பணிகள் வருமான நிலுவையானது தேசிய கணக்கீட்டில் எதற்குச் சமாகும்?

- 1) வெளிநாட்டிலிருந்து கிடைத்த தேறிய காரணி வருமானத்திற்கு
2) தேறிய பொருட்கள் காரணி அல்லாப் பணி ஏற்றுமதிக்கு
3) தேறிய வெளிநாட்டு மாற்றல்களுக்கு
4) பொருட்கள் காரணியல்லாப் பணியினதும் காரணிப் பணியினதும் தேறிய பெறுமதிக்கு
5) தேறிய வெளிநாட்டு முதலீட்டுக்கு

180. வருமான வழிக் கணிப்பீட்டில் மொத்த இலாபத்தினுள் அடங்காதது.

- 1) பகிரப்படாத இலாபம் 4) வாடகை வருமானம்
2) பங்கிடப்பட்ட இலாபம் 5) கம்பனி இலாப வரி
3) வர்த்தக வரி

181. காரணி வருமானங்களினுள் சுயதொழில் வருமானம் என்பதனுள் உள்ளடக்கப்பட முடியாதது.

- 1) கம்பனியின் இலாபம்
2) சமூகப் பாதுகாப்பு முறைகளுக்கு தொழில் தருநர்களின் பங்களிப்பு
3) விவசாயிகளின் வருமானம்
4) தனி வியாபார அமைப்புக்கள்
5) வாண்மைத் தொழில் வருமானம்

182. வியாபார சகடவோட்டத்துடன் தொடர்புடைய மாறிகள்.

- 1) மெய் மொத்த உள்நாட்டு உற்பத்தி, வேலைவாய்ப்பு, வருமானம்
2) வேலைவாய்ப்பு, வருமானம், முதலீடு
3) உச்சி, பின்னடைவு, தேக்கம், விரிவு
4) பணவீக்கம், முதலீடு, வர்த்தக நம்பிக்கை
5) தொழில்வாய்ப்பு, பணவீக்கம்

183. பின்வருவனவற்றுள் எது நிலவுலகப் பொருளாதார நடவடிக்கை அல்ல.

- 1) கணிகையர் தொழில்
2) போதைவஸ்துப் பிரயோகம்
3) கள்ளக்கடத்தல்
4) இல்லத் தலைவியின் சேவைகள்
5) வரியின் பொருட்டு வருமானத்தைக் குறைத்துக் காட்டல்.

184. மொத்த தேசிய சேமிப்புடன் தொடர்புபடாதது.

- 1) மொத்த தேசிய செலவிடத்தக்க வருமானம் - மொத்த நுகர்வு

Sathurshan

- 2) மொத்த முதலீடு + தேறிய ஏற்றுமதி + தேறிய வெளிநாட்டிலிருந்து கிடைத்த காரணி வருமானம் + தேறிய தனியார் மாற்றல்
 - 3) மொத்த உள்நாட்டு சேமிப்பு + தேறிய வெளிநாட்டிலிருந்து கிடைத்த காரணி வருமானம் + தேறிய தனியார் மாற்றல்
 - 4) மொத்த தேசிய உற்பத்தி - மொத்த நுகர்வு
 - 5) வீட்டுத்துறை சேமிப்பு + நிறுவனத்துறை சேமிப்பு + அரசாங்க சேமிப்பு
185. இரட்டை எண்ணலை தீர்ப்பதற்கான பிரதான முறை
- 1) முடிவுப் பொருள் உற்பத்தி முறை
 - 2) கூட்டிய பெறுமதி முறை
 - 3) உற்பத்தி பெறுமதி முறை
 - 4) மாற்றல் வருமானங்களை நீக்குதல்
 - 5) ஒருபக்கச் செலவுகள் / இடைக் கொடுப்பனவுகளை நீக்குதல்
186. காரணி விலை மொத்த உள்நாட்டு உற்பத்தியினை விட மொத்த உள்நாட்டு உற்பத்தி மீதான செலவு உயர்வாக இருக்கக் காரணமாக அமைவது.
- 1) தேறிய மானியம் நேர்க்கணியமாக இருத்தல்.
 - 2) தேறிய ஏற்றுமதி நேர்க்கணியமாக இருத்தல்.
 - 3) தேறிய மறைமுகவரி நேர்க்கணியமாக இருத்தல்.
 - 4) தேறிய நேரில்வரி எதிர்க்கணியமாக இருத்தல்.
 - 5) நேரில்வரியை விட மானியம் உயர்வாக இருத்தல்.
187. செலவிடத்தக்க வருமானத்திற்கு தொடர்பற்ற சமன்பாடு
- 1) Y-T 2) Y-NT 3) Y-TR 4) Y-T+TR 5) C+S
188. தேசிய வருமானத்திலிருந்து குடித்தன வருமானத்தை மதிப்பிடும் போது நீக்கப்படும் விடயம் அல்லாதது.
- 1) பஃரப்படாத இலாபம் 4) அரசு சொத்து வருவாய்
 - 2) வர்த்தக வரி 5) சமூகப் பாதுகாப்பு உதவு தொகை
 - 3) பெறுமானத் தேய்வு
189. பின்வருவனவற்றுள் மொத்த இலாபத்தினுள் உள்ளடங்குவது.
- 1) தேறிய வட்டி 4) சம்பளம்
 - 2) தனியாள் வருமான வரி 5) வரிக்கு முந்திய இலாபம்
 - 3) பங்கிடப்பட்ட இலாபம்
190. பெயரளவு மொத்த உள்நாட்டு உற்பத்தி ரூபா.1100 பில்லியனாகவும் மெய் மொத்த உள்நாட்டு உற்பத்தி 1000 பில்லியனாகவும் காணப்படின மொத்த உள்நாட்டு உற்பத்திச் சுருக்கி யாது?
- 1) 9.09 2) 0.91 3) 1.11 4) 11.1 5) 0.11
191. இல்லத்தலைவிகளின் சேவைகள் தேசிய கணக்கீட்டில் சேர்த்துக் கொள்ளப் படாம்க்குப் பிரதான காரணம்.
- 1) சந்தைப் படுத்தும் நோக்கம் காணப்படுகின்றமை
 - 2) பணரீதியான கொடுக்கல் வாங்கல்களுக்கு உட்பட்டிருக்காமை
 - 3) ஊழியப் படையினுள் உள்ளடக்கப்படாமை
 - 4) தரவுகள் கிடைப்பனவின்மை
 - 5) நிலவுலகப் பொருளாதார நடவடிக்கையாக காணப்படுகின்றமை

தேர்ச்சி - 04 - M.C.Q

192. A,B,C ஆகிய நிறுவனங்கள் முறையே கோதுமைத் தானியம், கோதுமை மா, பாண் ஆகியவற்றை ரூபா.10,000, ரூபா.15,000, ரூபா.18,000 என உற்பத்தி செய்கின்றன. B நிறுவனம் A யிடமிருந்தும் C நிறுவனம் B யிடமிருந்தும் உள்ளீடுகளைப் பெறுகின்றன. மொத்த உள்நாட்டு உற்பத்தியின் பெறுமதி யாது?
- 1) ரூபா.43,000 3) ரூபா.18,000 5) ரூபா.5,000
2) ரூபா.15,000 4) ரூபா.10,000
193. முடிய பொருளாதாரத்தின் மொத்த செலவு பின்வருவனவற்றுள் எதற்குச் சமாகும்?
- 1) மொத்த உள்நாட்டு உற்பத்தி 4) மொத்த உள்நாட்டு வருமானம்
2) மொத்த உள்நாட்டுச் செலவு 5) மொத்த நுகர்வு
3) வெளிநாட்டுக் கேள்வி
194. இரட்டை எண்ணலை தவிர்ப்பதற்கு பின்பற்றப்படும் முறையல்லாதது.
- 1) கூட்டிய பெறுமதி முறை
2) காரணி வருமானங்களைச் சேர்த்தல்
3) முடிவுப் பொருட்கள் சேவைகள் மீதான செலவுகளைச் சேர்த்தல்.
4) இடம்பெயர் வருமானங்களைச் சேர்த்தல்.
5) இடைக் கொடுப்பனவுகளை நீக்குதல்.
195. மொத்த உள்நாட்டு நிலையான முதலீட்டின் கூறாக கருத முடியாதது.
- 1) கட்டிட வாக்கத்தின் மீதான செலவு
2) காணி அபிவிருத்தியும் பயிர் நடுகையும்
3) போக்குவரத்துச் சாதனங்களைக் கொள்வனவு செய்தல்
4) பொறி இயந்திரங்களை கொள்வனவு செய்தல்
5) கையிருப்புக்களிலான மாற்றம்
196. தேசிய கணக்கீட்டின் முக்கியத்துவம் அல்லாதது
- 1) நாட்டின் பேரினப் பொருளாதார இலக்குகளை அறிய முடியும்
2) காரணி வருமானப் பங்கீட்டினை அறிய முடியும்
3) நாட்டின் உற்பத்தி மட்டத்தினை அறிய முடியும்
4) வளக்கிடைப்பனவுகளையும் வளப்பயன்பாடுகளையும் மதிப்பிடலாம்.
5) வளத்தேய்வு, சூழல் மாசடைதல் கருத்திற்கொள்ளப்படாமை.
197. அரசாங்க சேமிப்பு என்பதற்குப் பொருத்தமற்ற சமன்பாடு.
- 1) T-G 3) NT-G 5) T-(G+TR)
2) T-G-TR 4) NT-(G+TR)
198. வளப்பயன்பாடு என்பதுடன் தொடர்புபடாதது.
- 1) மொத்த நுகர்வு + மொத்த முதலீடு + ஏற்றுமதி
2) தனியார் நுகர்வு + அரசநுகர்வு + மொத்த முதலீடு + ஏற்றுமதி
3) மொத்த உள்நாட்டு உற்பத்தி மீதான செலவு + ஏற்றுமதி
4) மொத்த உள்நாட்டுச் செலவு + ஏற்றுமதி
5) மொத்த நுகர்வு + நிலையான முதலீடு + கையிருப்புக்களிலான மாற்றம் + ஏற்றுமதி

தேர்ச்சி - 04 - M.C.Q

199, 200ஆம் வினாக்களுக்கு பின்வரும் தரவுகளைப் பயன்படுத்தி விடையளிக்குக.

கணக்கு	தொகை (ரூபா/மில்லியன்)
தனிநபர் நுகர்வு	450
ஊழியர்களுக்கான நட்டஈடு	375
ஏற்றுமதிகள்	120
தேறிய வெளிநாட்டு காரணி வருமானம்	30
அரசாங்கக் கொள்வனவுகள்	60
மொத்த முதலீடுகள்	100
இறக்குமதிகள்	160
தேறிய நேரில் வியாபார வரிகள்	15
தேறிய வட்டி	60
இலாபங்கள்	70
வாடகை வருமானம்	40
வீட்டு துறையினருக்கான மாற்றல் கொடுப்பனவுகள்	05
தனிநபர் வரிகள்	20

199. மொத்த உள்நாட்டு உற்பத்தி எவ்வளவு?

- 1) 610 2) 570 3) 650 4) 510 5) 600

200. தரப்பட்ட வருடத்திற்கான பெறுமானத்தேய்வு யாது?

- 1) 25 2) 20 3) 10 4) 15 5) 30

**

*

தேர்ச்சி - 05

பேரினப் பொருளாதார சமநிலை

1. பின்வரும் கூற்றுக்களில் பேரினப் பொருளாதார சமநிலை காணப்படுவதை விளக்கும் சரியான கூற்று.
 - 1) நிறைதொழில் மட்டம் நிலவும் ஒரு நிலையாகும்.
 - 2) வருமான வெளியீட்டு மட்டங்களில் மாற்றத்தை ஏற்படுத்தும் சக்திகள் செயற்படாத ஒரு நிலையாகும்.
 - 3) சந்தையின் கேள்வி நிரம்பல் என்பன சமப்படும் ஒரு நிலையாகும்.
 - 4) பணவீக்கமற்ற ஒரு உறுதியான நிலையாகும்.
 - 5) பேரினப் பொருளாதார உறுதிப்பாடு உள்ள ஒரு நிலையாகும்.
2. அரசாங்க தலையீட்டுற்ற பொருளாதாரமொன்றின் வெளியீடு சமநிலையில் உள்ளபோது நிறுவனத்துறையினது முதலீட்டில் வீட்டுத்துறையினது சேமிப்புக்கு ஏற்றவாறான அதிகரிப்பு ஏற்படாத போது சமநிலைக்கு யாது நிகழும்?
 - 1) முதலீட்டு மட்டத்தை உயர்த்துவதற்கு அரசாங்கம் தலையிட அது சேமிப்புக்கு சமனாக காணப்படும்.
 - 2) சமநிலையானது மாற்றமின்றி இருக்கும்.
 - 3) வருமானச் சுற்றோட்டம் சுருங்குவதுடன் தேசிய வருமானச் சமநிலையும் குறைவடையும்.
 - 4) தேசிய வருமானச் சுற்றோட்டம் விரிவடைய சமநிலைத் தேசிய வருமானம் அதிகரிக்கும்.
 - 5) உள்ளோட்டம் வெளியோட்டம் சமனாக உள்ளமையினால் வருமானம் சமநிலையில் இருக்கும்.
3. முடப்பட்ட பொருளாதாரம் ஒன்றின் MPC மாறாது சமனாக உள்ளது. அரசு விதிப்பை 500 மில்லியன் ரூபாவாலும் அரசு செலவீட்டை 500 மில்லியன் ரூபாவாலும் அதிகரிப்பின் தேசிய வருமானம்.
 - 1) 500 மில்லியன் ரூபாவால் அதிகரிக்கும்.
 - 2) 500 மில்லியன் ரூபாவால் குறையும்.
 - 3) 500 மில்லியன் ரூபாவிலும் குறைவாக அதிகரிக்கும்.
 - 4) 500 மில்லியன் ரூபாவிலும் கூடுதலாக அதிகரிக்கும்.
 - 5) தொடர்ந்து மாறாதிருக்கும்.
4. ஒரு பொருளாதாரத்தின் சராசரி நுகர்வு நாட்டமும் எல்லை நுகர்வு நாட்டமும் எப்போது சமனாகக் காணப்படும்.
 - 1) சராசரி நுகர்வு நாட்டம் மாறாதிருத்தல்.
 - 2) சராசரி நுகர்வு நாட்டம் அதிகரித்தல்.
 - 3) தன்னிச்சையான நுகர்வு இல்லாதிருத்தல்.
 - 4) நுகர்வுக்கோடு உற்பத்தித் தானத்திற் மேலாக ஆரம்பித்துச் செல்லல்.
 - 5) நுகர்வு குறைவடைதல்.
5. வருமானம் 4000 ஆகவுள்ள போது $ASP = -0.2$ ஆகவும் $MPC = 0.75$ ஆகவும் இருப்பின் நுகர்வுச் சார்பினைத் தருக.
 - 1) $C = 200 - 0.75y$
 - 2) $C = 800 + 0.25y$
 - 3) $C = 800 + 0.75y$

தேர்ச்சி - 05 - M.C.Q

4) $C = 200 + 0.75y$ 5) $C = 200 + 0.2y$

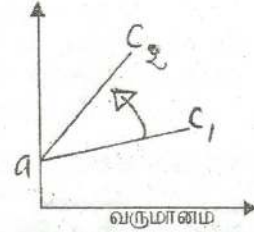
6. எளிய பொருளாதாரமொன்றில் 200 மில்லியன் ரூபாவால் அதிகரிக்க முதலீட்டுச் செலவின் 3வது சுற்று வருமான மாற்றம் என்ன?

- 1) 200/= 2) 40/= 3) 128/= 4) 1000/= 5) 72/=

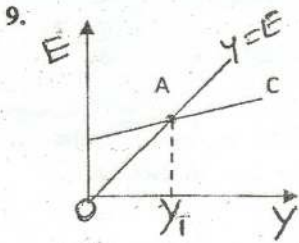
7. அரசாங்கமும் வெளிநாட்டுத் துறையும் இல்லாத ஒரு எளிய பொருளாதார மாதிரியினை கருதுக. சேமிப்புச் சார்பு $S = -300 + 0.1y$ யாக வரையறுக்கப்படும் நிலையில் முதலீடு 200ஆல் அதிகரிக்குமாயின் நுகர்வு எவ்வளவால் அதிகரிக்கும்?

- 1) 180 2) 200 3) 1800 4) 2000 5) 2100

8. கீழ்வரும் வரிப்படம் ஒரு பொருளாதாரத்தின் நுகர்வுக் கோடுகளாகும். இங்கு நுகர்வுச் சார்பு C_1 இலிருந்து C_2 இற்கு இடதுபுறம் நுகர்வடைய பொருளாதாரத்தின் MPC, MPS பெருக்கி (K) சமநிலை வருமானம் (Y) என்பன எவ்வாறு மாற்றமடையும்.



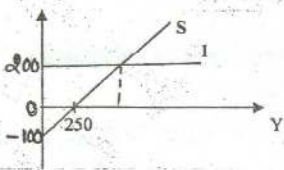
MPC	MPS	K	Y
1. அதிகரிக்கும்	குறையும்	அதிகரிக்கும்	ஆதிகரிக்கும்
2. குறையும்	அதிகரிக்கும்	குறையும்	குறையும்
3. அதிகரிக்கும்	அதிகரிக்கும்	அதிகரிக்கும்	குறையும்
4. குறையும்	குறையும்	குறையும்	அதிகரிக்கும்
5. அதிகரிக்கும்	குறையும்	மாறாது	மாறாது



A புள்ளியிலுள்ள “Y” என்ற வருமானத்திலும் உயர்ந்த வருமானங்களில்,

- 1) திட்டமிட்ட நுகர்வு வருமானத்திலும் உயர்வாக உள்ளது.
- 2) திட்டமிட்ட நுகர்வு வருமானத்திலும் குறைவாக உள்ளது.
- 3) திட்டமிட்ட நுகர்வும் வருமானமும் சமனாக இருத்தல்.
- 4) திட்டமிட்ட சேமிப்பு எதிர்க்கணியமாக இருத்தல்.
- 5) திட்டமிட்ட சேமிப்பு பூச்சியமாக இருத்தல்.

10. தரப்பட்டுள்ள வரைபானது எளிய பொருளாதாரம் ஒன்றின் தேசிய வருமானச் சமநிலையைக் காட்டுகின்றது. பின்வரும் சோடி உருப்படிகளில் எது இப் பொருளாதாரத்தின் சேமிப்புச் சார்பினையும் சமநிலையின் அளவினையும் சரியாக வெளிப்படுத்துகின்றது.




சேமிப்புச் சார்பு	வருமானச் சுற்றோட்ட சமநிலை அளவு
1. $-100+0.4Y$	250 மி ரூபா
2. $-250+0.25Y$	750 மி ரூபா
3. $100+0.6Y$	1000 மி ரூபா
4. $-100+0.4Y$	750 மி ரூபா
5. $100+0.6Y$	250 மி ரூபா

தேர்ச்சி - 05 - M.C.Q

11. $C = 1000 + 0.75Y_d$, $I = 300$, $G = 200$, $NX = -100$, $T = 100$ எனின் பொருளாதாரத்தின் சுயாதீன மொத்தச் செலவு யாது?
 1) 5600 2) 1325 3) 5200 4) 1400 5) 500
12. ஏனையவை மாறாநிலையில் பின்வருவனவற்றில் எது மொத்தக் கேள்வியை அதிகரிக்கச் செய்யும்?
 1) வருமானம் மீதான வரியில் ஏற்படும் ஓர் அதிகரிப்பு.
 2) வட்டி வீதத்தில் ஏற்படும் ஓர் அதிகரிப்பு.
 3) அரசாங்க செலவீட்டில் ஏற்படும் ஓர் அதிகரிப்பு.
 4) இறக்குமதிகளில் ஏற்படும் ஓர் அதிகரிப்பு.
 5) சேமிப்புக்களில் ஏற்படும் ஓர் அதிகரிப்பு.
13. அரச துறையற்ற மூடப்பட்ட பொருளாதாரமொன்றில் நுகர்வுச்சார்பு $C = 300 + 0.7Y$ ஆகவுள்ளபோது, சமநிலை வருமான மட்டம் ரூபா 3000 மில்லியனாக இருப்பின் முதலீட்டு மட்டத்தின் அளவு.
 1) ரூபா 600 மில்லியனாகும். 4) ரூபா 2400 மில்லியனாகும்,
 2) ரூபா 1000 மில்லியனாகும். 5) ரூபா 3000 மில்லியனாகும்.
 3) ரூபா 2100 மில்லியனாகும்.
14. தரப்பட்ட பொருளாதாரமொன்றின் சேமிப்புச் சார்பினை இங்குள்ள வரைபடம் காட்டுகின்றது. இப் பொருளாதாரத்தில் செலவிடத்தக்க வருமானம் அதிகரிக்குமாயின் எல்லைச் சேமிப்பு நாட்டம் சராசரி சேமிப்பு நாட்டம் என்பவற்றிற்கு யாது நிகழும்?

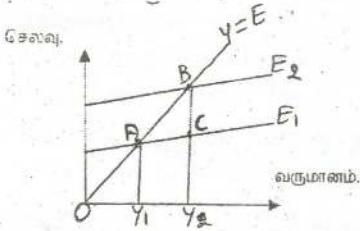
- MPS**
- 1) மாறாதிருக்கும்
 - 2) குறையும்
 - 3) அதிகரிக்கும்
 - 4) அதிகரிக்கும்
 - 5) மாறாதிருக்கும்

- APS**
- குறையும்
 - அதிகரிக்கும்
 - குறையும்
 - அதிகரிக்கும்
 - அதிகரிக்கும்



15. எல்லை நுகர்வு நாட்ட அளவீடானது.
 1) வருமானத்தில் மாற்றம் நுகர்வோர் பயன்பாட்டில் மாற்றம் என்பவற்றுக்கிடையிலான தொடர்பாகும்.
 2) நுகர்வோர் பொருட்கள் மீது செலவிடப்படும் வீட்டுத்துறை வருமானத்தின் விகிதமாகும்.
 3) நுகர்வோர் பொருட்கள் மீது செலவிடப்படும் மொத்த தேசிய வருமானத்தின் விகிதமாகும்.
 4) நுகர்வில் மாற்றம் மற்றும் வருமானத்தில் மாற்றம் என்பவற்றிற்கிடையிலான தொடர்பாகும்.
 5) வீட்டுத்துறையின் அதிகூடிய நுகர்வின் எல்லையாகும்.
16. பொருளாதாரம் நுகர்வுச் சார்பு $C = 600 + 0.8Y$ எனத் தரப்பட்டுள்ளது. இத்தகவலிலிருந்து பெறக்கூடிய முடிவு யாது?
 1) சகல வருமான மட்டங்களிலும் சேமிப்பு நேர்க்கணிமமாகும்.
 2) வருமானம் அதிகரிக்கும் போது எல்லை சேமிப்பு நாட்டம் குறைவடையும்.
 3) வருமானம் அதிகரிக்கும் போது எல்லை நுகர்வு நாட்டம் குறைவடையும்.
 4) வருமானம் அதிகரிக்கும் போது சராசரி நுகர்வு மட்டம் குறைவடையும்.
 5) சராசரி நுகர்வு நாட்டம் நிலையானதாகும்.

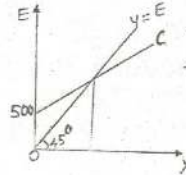
17. எளிமையான பொருளாதாரமொன்றின் மொத்தச் சேமிப்பு வளையியின் சரிவு அதிகரிப்பதனால் ஏற்படக்கூடிய பொருளாதார விளைவாக அமைவது.
- 1) பெருக்கியின் பெறுமதி உயர்வதுடன் சமநிலை வருமானம் அதிகரிக்கும்.
 - 2) பெருக்கியின் பெறுமதி குறைவதுடன் சமநிலை வருமானம் அதிகரிக்கும்.
 - 3) பெருக்கியின் பெறுமதி குறைவதுடன் சமநிலை வருமானம் குறையும்.
 - 4) பெருக்கியின் பெறுமதி உயர்வதுடன் சமநிலை வருமானம் குறையும்.
 - 5) பெருக்கியின் பெறுமதி குறைவதுடன் சமநிலை வருமானம் மாற்றமின்றிருக்கும்.
18. 45° கோட்டிற்கு மேலாக நுகர்வுக் கோடு செல்லும் வருமான மட்டங்களில் வீட்டுதிறையானது
- 1) வருமானத்தில் ஏற்படும் அதிகரிப்பு முழுவதையும் நுகர்வு செய்யும்.
 - 2) செலவிடத்தக்க வருமானத்தை விடக் குறைவாக நுகர்வு செய்யும்.
 - 3) வருமானத்தின் குறிப்பிட்ட ஒரே சதவீதத்தைச் சேமிக்கும்.
 - 4) வருமானத்தில் சேமிக்கப்படும் வீதம் குறைந்து செல்லும்.
 - 5) எதிர்க்கணிய சேமிப்பில் ஈடுபடும்.
19. தூண்டப்பட்ட நுகர்வுச் செலவு என்பதனால் கருதப்படுவது.
- 1) வருமானம் பூச்சியமாக இருக்கின்ற போது காணப்படும் நுகர்வுச் செலவு ஆகும்.
 - 2) தன்னிச்சையான நுகர்வுச் செலவையும் மீறி ஏற்படும் நுகர்வுச் செலவாகும்.
 - 3) வருமானம் பூச்சியமாக இருக்கின்றபோது காணப்படும் நுகர்வுச் செலவாகும்.
 - 4) வருமானம் அதிகரிப்பதன் காரணமாக அதிகரிக்கும் நுகர்வுச் செலவாகும்.
 - 5) பணவீக்க நிலைமையொன்றின் போது சேமிப்பை அதிகரித்துச் செய்யப்படும் நுகர்வுச் செலவாகும்.
- 20.



வரைபின் அடிப்படையில் சுருக்க இடைவெளியைக் குறிப்பது?

- 1) AB
- 2) AC
- 3) BC
- 4) AY
- 5) Y_1C

21. அருகே காட்டப்பட்டுள்ள வரைபடம் பொருளாதாரமொன்றின் நுகர்வுச்சார்பினைக் காட்டுகின்றது. இப்பொருளாதாரத்தின் எல்லை நுகர்வு நாட்டம் குறையுமாயின் சமநிலை வருமானம் மற்றும் நுகர்வு மட்டங்களில் ஏற்படும் மாற்றம் பின்வருவனவற்றில் எவ்வகையினதாக இருக்கும்.



	சமநிலை வருமான மட்டம்	சமநிலையில் நுகர்வு மட்டம்
1.	மாறாது	மாறாது
2.	மாறாது	அதிகரிக்கும்
3.	அதிகரிக்கும்	மாறாது
4.	அதிகரிக்கும்	அதிகரிக்கும்
5.	குறையும்	குறையும்

22. தரப்பட்ட பொருளாதாரமொன்றின் சமநிலை வெளியீட்டு மட்டம் ரூபா 2,500 பில்லியன் எனவும் சாத்திய வெளியீட்டு மட்டம் ரூபா 2,600 பில்லியன் எனவும் எல்லை நுகர்வு நாட்டம் ரூபா 0.75 எனவும் கருதுக. இந்நிலைமைகளின் கீழ் சாத்திய வெளியீட்டை அடைய வேண்டுமாயின் விதந்துரைக்கப்படக் கூடியது.

- 1) வரிகளை ரூபா 25 பில்லியனால் குறைப்பதாகும்.
- 2) வரிகளை ரூபா 100 பில்லியனால் குறைப்பதாகும்.
- 3) அரசாங்கக் கொள்வனவுகளை ரூபா 25 பில்லியனால் அதிகரிப்பதாகும்.
- 4) அரசாங்கக் கொள்வனவுகளை ரூபா 33 பில்லியனால் அதிகரிப்பதாகும்.
- 5) அரசாங்கக் கொள்வனவுகளை ரூபா 100 பில்லியனால் அதிகரிப்பதாகும்.

23. பின்வருவனவற்றில் எக்காரணி பெருக்கியின் பெறுமதி அதிகரிக்க காரணமாகும்?

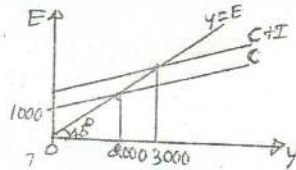
- 1) அரசாங்கத்தின் முதலீட்டு செலவு அதிகரித்தல்.
- 2) எல்லை நுகர்வு நாட்டம் அதிகரித்தல்.
- 3) எல்லைச் சேமிப்பு நாட்டம் அதிகரித்தல்.
- 4) நுகர்வுச் செலவு அதிகரித்தல்.
- 5) ஏற்றுமதி பருமன் அதிகரித்தல்.

24. அரசு தலையீட்டற்ற மூடப்பட்ட பொருளாதாரத்தல் முதலீட்டு 100 மில்லியன் ரூபாவால் அதிகரிக்கும் போது சமநிலைத் தேசிய வருமானம் 1000 மில்லியன் ரூபாவால் அதிகரித்தது. MPC யாது?

- 1) 0.10 2) 10 3) 0.90 4) 0.8 5) 0.2

25. இப்பொருளாதாரத்தின் மொத்த முதலீடு என்ன?

- 1) 500/- 4) 1500/-
- 2) 2000/- 5) 1250/-
- 3) 1000/-



26. அரசாங்க நடவடிக்கையில்லாத மூடப்பட்ட பொருளாதாரத்தில் மொத்தக் கேள்வியை எவ்வாறு அதிகரிக்கலாம்?

- 1) நுகர்வு செலவை அதிகரித்தல் இறக்குமதியை அதிகரித்தல்.
- 2) நுகர்வுச் செலவை அதிகரித்தல் ஏற்றுமதியை குறைத்தல்.
- 3) முதலீட்டுச் செலவை அதிகரித்தல் இறக்குமதியை அதிகரித்தல்.
- 4) நுகர்வுச் செலவை அதிகரித்தல் முதலீட்டுச் செலவை குறைத்தல்.
- 5) சேமிப்பைக் குறைத்தல் முதலீட்டுச் செலவை அதிகரித்தல்.

27. வெளிநாட்டு வர்த்தகமும் அரசாங்க நடவடிக்கைகளும் இல்லாத ஒரு எளிமையான பொருளாதாரத்தில் ஒரு வருட காலப்பகுதியில் புதிய முதலீட்டுச் செலவில் ஏற்படும் ரூபா 200 மில்லியன் அதிகரிப்பு சமநிலைத் தேசிய வருமானத்தை ரூபா 800 மில்லியனால் உயர்த்தும் இப்பொருளாதாரத்தில் எல்லை நுகர்வு நாட்டத்தின் பெறுமதி யாது?

- 1) 0.25 2) 0.75 3) 0.8 4) 4.0 5) 7.5

28. பின்வருவனவற்றுள் எது மொத்தக் கேள்வியின் ஒரு கூறு அன்று

- 1) ஏற்றுமதிகள் 4) முதலீடு
- 2) தனியார் நுகர்வு 5) அரசாங்க நுகர்வு
- 3) உற்பத்தித் திறன்

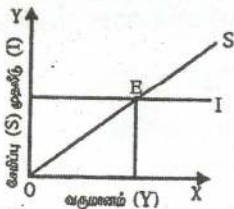
தேர்ச்சி - 05 - M.C.Q

29. பின்வரும் தகவல்கள் உமக்கு வழங்கப்பட்டுள்ளன. (தரவுகள் அனைத்தும் ரூபா மில்லியன்களில் ஆகும்.)

சேமிப்புக்கள்	= 550	வரிகள்	= 200
இறக்குமதிகள்	= 250	முதலீகள்	= 400
மொத்த அரசாங்கச் செலவீடு	= 250	ஏற்றுமதிகள்	= 300

இத்தகவல்களுக்கு அமைய சரியான கூற்று எது?

- 1) மொத்த வெளியீடு அதிகரிக்கும், பாதிடு மிகை நிலையிலிருக்கும்.
 - 2) மொத்த வெளியீடு அதிகரிக்கும், பாதிடு பற்றாக்குறையாக இருக்கும்.
 - 3) மொத்த வெளியீடு குறையும், பாதிடு மிகை நிலையிலிருக்கும்.
 - 4) மொத்த வெளியீடு குறையும், பாதிடு பற்றாக்குறையாகவிருக்கும்.
 - 5) மொத்த வெளியீடு மாற்றமடையாது.
30. ஏனைய விடயங்கள் மாறாதிருக்க செலவிடக்கூடிய வருமானம் அதிகரிக்குமாயின் அதன் விளைவாக
- 1) நுகர்வு குறைந்து சேமிப்பு அதிகரிக்கும்.
 - 2) நுகர்வு அதிகரித்து சேமிப்பு குறையும்.
 - 3) சேமிப்புக்கள், நுகர்வு ஆகிய இரண்டுமே அதிகரிக்கும்.
 - 4) அதிகரிக்கும் வருமானம் முழுமையாக நுகரப்படும்.
 - 5) வருமானத்திலான அதிகரிப்பு முழுவதும் சேமிக்கப்படும்.
31. மூடிய பொருளாதாரமொன்றில் பேரினப் பொருளாதார சமநிலையின் போது பின்வருவனவற்றுள் எது பொருத்தமற்றது?
- 1) $Y = C+I+G$
 - 2) $S+T-G = I$
 - 3) $S-I = G-T$
 - 4) $Y=C+I+(G-T)$
 - 5) $I+G=S+T$
32. வருமானம் பூச்சியமாகவுள்ள நிலையில் நுகர்வு ரூபா 300 ஆகும். வருமானம் ஒவ்வொரு ரூபாவினால் அதிகரிக்கும் போது நுகர்வு 75 சதத்தால் அதிகரிக்கின்றது. முதலீடு ரூபா 200 ஆக நிலையாக இருப்பின் சமநிலையில் நுகர்வின் அளவு யாது?
- 1) 2000/-
 - 2) 1500/-
 - 3) 1800/-
 - 4) 4200/-
 - 5) 5300/-
33. எளிய பொருளாதாரமொன்றில் 500 மில்லியன் ரூபாவில் அதிகரித்த முதலீட்டுச் செலவின் 2வது சுற்று எல்லை நுகர்வு நாட்ட விலையும் எல்லை சேமிப்பு நாட்ட விளைவும் முறையே
- (MPC = 0.9)
- 1) 45,450
 - 2) 45,405
 - 3) 364,405
 - 4) 40,545
 - 5) 40,550
34. பின்வரும் வரைபடத்தை கருதுக.



Y என்ற வருமான வட்டத்தில்

- 1) வருமானம் நுகர்வுக்கு சமமான உள்ளது.
- 2) மொத்த வருமானத்திலும் மொத்த செலவு அதிகமாக இருப்பதால் வருமானம் அதிகரிக்கும்.
- 3) திட்டமிட்ட முதலீடு சேமிப்புக்கு சமனாக உள்ளது.
- 4) சேமிப்பிலும் பார்க்க திட்டமிட்ட முதலீடு உயர்வாக உள்ளது.
- 5) சேமிப்பு பூச்சியமாக உள்ளது.

35. $T=50$ ஆகவும், நுகர்வுச் சார்பு $C=0.75(Y-T)+100$ ஆகவுமிருக்குமாயின், சேமிப்புச் சார்பானது.

- 1) $S=0.75(Y-T)-100$ 4) $S=0.25(Y-T)-175$
 2) $S=0.75(Y-T)+150$ 5) $S=0.25(Y-T)+100$
 3) $S=0.25(Y-T)-100$

36. தரப்பட்ட ஒரு பொருளாதாரம் தெர்டர்பாக பின்வருவனவற்றைக் கருதுக.

ஏற்றுமதிகள் = 300, இறக்குமதிகள் = 400, வரிகள் = 1100,
 அரசாங்கச் செலவீடுகள் = 1400, சேமிப்பு = 900

இப்பொருளாதாரத்தின் முதலீட்டு மட்டம் யாது?

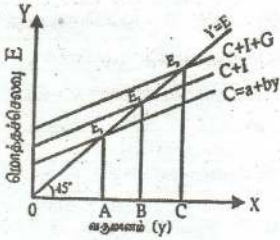
- 1) 600 2) 700 3) 900 4) 1100 5) 1300

37. திறந்த பொருளாதாரமொன்றின் கீழ்வரும் சேர்மானங்களில் மொத்த உள்நாட்டு உற்பத்திக்குச் சமமானதாக அமைவது எது?

- 1) $C+G+I$ 4) $C+G+I+X-M$
 2) $C+G+I+X$ 5) $C+G+I+NR$
 3) $C+G+I+NF$

38. அரச தலையீட்டற்ற முடிய பொருளாதாரத்தின் தேசிய வருமான சமநிலையைக் காட்டும் வருமானம் யாது?

- 1) A
 2) B
 3) C
 4) E_1
 5) E_3



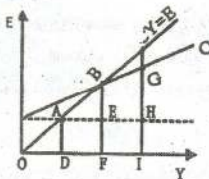
39. ஒரு முடிய பொருளாதாரத்தில் அதிகரித்த அரசாங்க செலவில் ஏற்படும் 100 ரூபா மாற்றம் சமநிலைத் தேசிய வருமானத்தை 500 ரூபாவால் அதிகரிப்பின அரசாங்க செலவினைப் பெருக்கி யாது?

- 1) 0.2 2) 5 3) 1 4) 1/5 5) 4

40. எளிய பொருளாதாரமொன்றில் எல்லை நுகர்வு நாட்டத்திற்கும் (MPC) பெருக்கிக்கும் (K) இடையிலான தொடர்பு.

- 1) எதிர்க்கணியத் தொடர்பு
 2) நேர்க்கணியத் தொடர்பு 4) MPC அதிகரிக்க பெருக்கி குறையும்
 3) பூச்சியத் தொடர்பு 5) MPC குறைவுடைய பெருக்கி மாறாதிருக்கும்

41. பின்வரும் வரைபின் அடிப்படையில் தன்னிச்சையான நுகர்வு, தூண்டப்பட்ட நுகர்வு என்பன முறையே



- 1) AD, AE
 2) EF, AD
 3) CG, HI
 4) FE, BE
 5) HG, HI

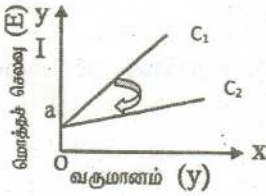
42. திறந்த பொருளாதாரத்தின் உட்பாய்ச்சல்களை வெளிப்பாய்ச்சல்களுக்கு சம்ப்படுத்துவதில் தவறானது.

- 1) $I+G+X=S+T+M$
- 2) $I+G=(S+T+M)-X$
- 3) $I+G+NX=S+T$
- 4) $S+(T-TR)+M=I+G+X$
- 5) $I+G=S-T+TR+M-X$

43. மூடிய பொருளாதாரத்தின் மொத்தக் கேள்வி (AD) தேசிய கணக்கீட்டில் எதற்குச் சமமானது.

- 1) மொத்த உள்நாட்டுச் செலவு
- 2) மொத்த உள்நாட்டு உற்பத்தி
- 3) தேறிய தேசிய வருமானம்
- 4) மொத்த தேசிய செலவு
- 5) மொத்த உள்நாட்டு உற்பத்தி மீதான செலவு

44. பின்வரும் வரைபடம் பொருளாதாரத்தின் சேமிப்பு மாற்றத்தின் போதான நுகர்வுச் சார்புகளாகும்.



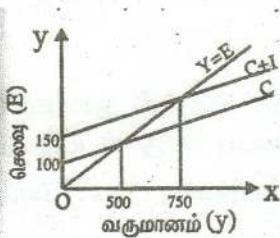
இங்கு நுகர்வுக்கோடு C1 இலிருந்து C2 என வலதுபுறம் நகர்வடைய பொருளாதாரத்தின் MPS, முதலீட்டுப் பெருக்கி (k) என்பன எவ்வாறு மாற்றமடையும்.

MPS	முதலீட்டுப்பெருக்கி
1. குறையும்	குறையும்
2. அதிகரிக்கும்	அதிகரிக்கும்
3. அதிகரிக்கும்	குறையும்
4. குறையும்	அதிகரிக்கும்
5. மாறாது	மாறாது

45. ஒரு மூடிய பொருளாதாரத்தின் முதலீடு 200 மில்லியன் ரூபாவாலும் அரசாங்கச் செலவீடு 100 மில்லியன் ரூபாவாலும் அதிகரிக்கின்றது எனவும் $MPS = 0.25$ எனவும் இருப்பின் சமநிலைத் தேசிய வருமானம் எவ்வளவால் அதிகரிக்கும்?

- 1) 800
- 2) 400
- 3) 1500
- 4) 1200
- 5) 300

46. பின்வரும் வரைபடத்தின் உதவியுடன் எல்லை முதலீட்டு நாட்டத்தைக் (MPI) காண்க.



- 1) 0.2
- 2) 5
- 3) 50
- 4) பூச்சியம்
- 5) 250

47. மூடிய பொருளாதாரமொன்றில் எல்லை சேமிப்பு நாட்டம் 0.1 ஆகும். இப் பொருளாதாரத்தின் வருமானத்தை 2000 மில்லியன் ரூபாவால் அதிகரிப்பதற்கு தேவைப்படும் அரசாங்கச் செலவீடு?

- 1) 100
- 2) 200
- 3) 10
- 4) 20000
- 5) 2000

48. பின்வருவனவற்றில் எச் செலவீட்டு பகுதிகளில் கையிருப்பில் ஏற்படும் மாற்றங்கள் உள்ளடக்கப்படும்?
- 1) மொத்த உள்நாட்டு தனியார் முதலீடு
 - 2) தேறிய ஏற்றுமதிகள்
 - 3) அரசாங்கக் கொள்வனவுகள்
 - 4) நெடுவாழ்வுப் பொருட்கள் மீதான தனியார் நுகர்வு
 - 5) குறுகிய வாழ்வு கொண்ட பொருட்கள் மீதான தனியார் நுகர்வு
49. பின்வருவனவற்றில் எவ்வழியில் தேசிய வருமானம் கணிப்பிடப்பட முடியும்?
- 1) சந்தை விலைகளிலான GDP - நேரில் வரிகள்
 - 2) சந்தை விலைகளிலான GNP + பெறுமானத் தேய்வு
 - 3) சந்தை விலைகளிலான GNP - பெறுமானத் தேய்வு - நேரில் வரிகள்
 - 4) தனியார் நுகர்வுச் செலவீடு + மொத்த தனியார் உள்நாட்டு முதலீடு + அரசாங்கக் கொள்வனவு + ஏற்றுமதிகள்
 - 5) தனியார் வருமானம் - வரிகள் - மாற்றல்கள்
50. பின்வரும் அட்டவணையானது கருதுகோள் ரீதியான பொருளாதாரமொன்றின் தெரிவு செய்யப்பட்ட தரவுகளைக் காட்டுகின்றது.

தேசிய வருமானக்கூற்று	மில்லியன் (ரூ.)
சேமிப்பு	50
முதலீடு	30
வரிகள்	40
ஏற்றுமதிகள்	50
அரசாங்கக் கொள்வனவுகள்	20
இறக்குமதிகள்	30

அட்டவணையில் தரப்பட்டுள்ள தகவல்களின்படி பொருளாதாரம் தொடர்பான சரியான கூற்றாக அமைவது எது?

- 1) வரவு செலவுத்திட்டப் பற்றாக்குறையொன்று உள்ளது.
 - 2) பொருளாதாரம் சமநிலையில் உள்ளது.
 - 3) சென்மதி நிலுவையில் நடைமுறைக்கணக்கு பற்றாக்குறையாக உள்ளது.
 - 4) வெளிப்பாய்ச்சல்கள் உட்பாய்ச்சல்களை விட உயர்வாகவுள்ளன.
 - 5) பொருளாதாரம் விரிவாக்கமடையும்.
51. முடப்பட்ட பொருளாதாரமொன்றின் எல்லைச் சேமிப்பு நாட்டம் (MPC) = 0.8 ஆகவுள்ளது. முதலீட்டில் ஏற்படும் ஓர் அதிகரிப்பு தேசிய வருமானத்தை ரூபா 250 பில்லியனால் உயர்த்துகிறது. ஏனைய மாறாநிலையில் முதலீட்டில் ஏற்பட்ட அதிகரிப்பின் அளவென்ன?
- 1) ரூ. 20 பில்லியன்
 - 2) ரூ. 50 பில்லியன்
 - 3) ரூ. 150 பில்லியன்
 - 4) ரூ. 200 பில்லியன்
 - 5) ரூ. 250 பில்லியன்
52. ஏனையவை மாறாநிலையில் முதலீட்டுச் செலவில் ஏற்பட்ட ரூ. 75 பில்லியன் அதிகரிப்பானது தேசிய வருமானத்தில் ரூ. 300 மில்லியன் அதிகரிப்பினை ஏற்படுத்தியதாயின் எல்லை நுகர்வு நாட்டத்தின் (MPC) பெறுமதி யாது?
- 1) 0.80 ஆகும்.
 - 2) 0.75 ஆகும்.
 - 3) 0.50 ஆகும்.
 - 4) 0.40 ஆகும்.
 - 5) 0.25 ஆகும்.

53. பின்வரும் அட்டவணை பொருளாதாரமொன்றின் தெரிவு செய்யப்பட்ட பேரினப் பொருளியற் தரவுகளைக் காட்டுகிறது.

ஆண்டு	வருமான மட்டம் (y) (ரூபா பில்லியன்)	நுகர்வு மட்டம் (C) (ரூபா பில்லியன்)
1	400	300
2	500	350
3	600	400
4	?	500

MPC மாறாநிலையில் நான்காம் (4) இப் பொருளாதாரத்தில் நுகர்வுச் செலவீடு (C) ரூ.500 பில்லியனாக அதிகரிக்குமாயின் புதிய சமநிலைத் தேசிய வருமான மட்டம் (y) என்னவாக இருக்கும்?

- 1) ரூ. 200 பில்லியனாகும்.
- 2) ரூ. 400 பில்லியனாகும்.
- 3) ரூ. 650 பில்லியனாகும்.
- 4) ரூ. 800 பில்லியனாகும்.
- 5) ரூ. 850 பில்லியனாகும்.

54. அரச துறையற்ற மூடப்பட்ட பொருளாதாரமொன்றின் முதலீட்டுப் பெருக்கியின் பெறுமதி 5 ஆகும். முதலீடு ரூ. 200 மில்லியனாக அதிகரித்தால் நுகர்வானது எந்தளவினால் அதிகரிக்கும்?

- 1) ரூ. 200 மில்லியன்
- 2) ரூ. 400 மில்லியன்
- 3) ரூ. 600 மில்லியன்
- 4) ரூ. 800 மில்லியன்
- 5) ரூ. 1000 மில்லியன்

55. பெருக்கி என்பதனால் பொதுவாகக் கருதப்படுவது யாதெனில் முதலீட்டில் அல்லது அரசாங்க செலவீட்டில் அல்லது ஏற்றுமதி வருவாய்களில் ஏற்படும் ஆரம்ப அதிகரிப்பின் காரணமாக பின்வரும் மாறியொன்றில் ஏற்படும் மிகப் பெரிய அதிகரிப்பேயாகும். அம்மாறி

- 1) விலை மட்டம் ஆகும்
- 2) வட்டி வீதம் ஆகும்.
- 3) வேலையின்மை மட்டமாகும்.
- 4) சேமிப்பு ஆகும்.
- 5) வருமான மட்டம் ஆகும்.

56. பொருளாதாரமொன்று சமநிலையில் இயங்குவதாகக் கருதுக. இப் பொருளாதாரத்தின் ஏற்றுமதிகள் ரூபா.400 மில்லியனாகவும் இறக்குமதிகள் ரூபா.500 மில்லியனாகவும் வரிகள் ரூபா.1200 மில்லியனாகவும் அரசாங்கக் கொள்வனவுகள் ரூபா.1500 மில்லியனாகவும் சேமிப்புக்கள் ரூபா.1000 மில்லியனாகவுமிருப்பின் முதலீட்டு மட்டத்தின் அளவு

- 1) ரூபா.700 மில்லியனாகும்.
- 2) ரூபா.800 மில்லியனாகும்.
- 3) ரூபா.1000 மில்லியனாகும்.
- 4) ரூபா.1200 மில்லியனாகும்.
- 5) ரூபா.1300 மில்லியனாகும்.

57. பின்வருவனவற்றில் எது மொத்தக் கேள்வியில் மிகப் பெரிய அதிகரிப்பை ஏற்படுத்தும்?

- 1) வரிகளில் ஏற்படும் ரூபா.100 மில்லியன் அதிகரிப்பு.
- 2) வரிகளில் ஏற்படும் ரூபா.100 மில்லியன் வீழ்ச்சி.
- 3) அரசாங்கக் கொள்வனவுகளில் ஏற்படும் ரூபா.100 மில்லியன் அதிகரிப்பு.
- 4) அரசாங்கக் கொள்வனவுகளில் ரூபா.100 மில்லியன் அதிகரிப்பும் வரிகளில் ஏற்படும் ரூபா.100 மில்லியன் வீழ்ச்சியும்.
- 5) அரசாங்கக் கொள்வனவுகளில் ரூபா.100 மில்லியன் அதிகரிப்பும் வரிகளில் ஏற்படும் ரூபா.100 மில்லியன் வீழ்ச்சியும்.

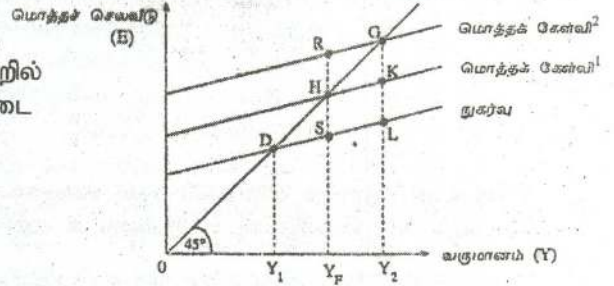
58. பொருளாதாரமொன்றின் தன்னிச்சையான செலவீடுகளில் ஏற்படும் ரூபா.100 மில்லியன் அதிகரிப்பு மெய் மொத்த உள்நாட்டு உற்பத்தியை 500 ஆல் அதிகரிப்பின் பெருக்கி யாது?

- 1) 0.2 ஆகும். 3) 0.5 ஆகும். 5) 5.0 ஆகும்.
2) 0.5 ஆகும். 4) 0.8 ஆகும்.

59. பின்வரும் வரைபடம் வெவ்வேறு மொத்தக் கேள்வி நிலைமைகளின் கீழ்க் காணப்படும் பல்வேறு சமநிலை வருமான மட்டங்களைக் காட்டுகிறது.

Yf என்பது நிறைதொழில் மட்ட வருமானமாயின் பின்வருவனவற்றில் எந்த இடைவெளி பணவீக்க இடை வெளியைக் குறைக்கும்?

- 1) SH 4) Y_FR
2) RH 5) Y₂G
3) LG



60. பொருளாதாரமொன்றின் தன்னிச்சையான நுகர்வு ரூபா.400 எனவும் எல்லை நுகர்வு நாட்டம் 0.8 எனவும் கொள்க. செலவிடத்தக்க வருமானம் ரூபா.1200 வினால் அதிகரிக்குமாயின் நுகர்வுச் செலவீடு அதிகரிக்கும் அளவு.

- 1) ரூ.1600 ஆகும். 3) ரூ.1200 ஆகும். 5) ரூ.400 ஆகும்.
2) ரூ.1360 ஆகும். 4) ரூ.960 ஆகும்.

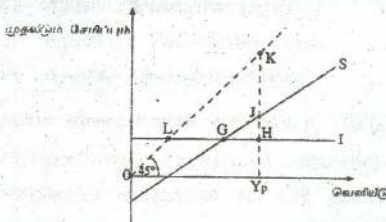
61. நிலையான வரியினை மாத்திரம் கொண்டுள்ள மூடப்பட்ட பொருளாதாரமொன்றில் எல்லைச் சேமிப்பு நாட்டம் 0.25 ஆகக் காணப்படுமாயின் அரசாங்க செலவீட்டில் ஏற்படும் ரூபா.80 பில்லியன் அதிகரிப்பானது வெளியீட்டில் ஏற்படுத்தக் கூடிய உச்ச அதிகரிப்பினளவு.

- 1) ரூ.80 பில்லியனாகும். 4) ரூ.240 பில்லியனாகும்.
2) ரூ.80.25 பில்லியனாகும். 5) ரூ.320 பில்லியனாகும்.
3) ரூ.160 பில்லியனாகும்.

62. அரச துறையற்ற மூடப்பட்ட பொருளாதாரமொன்றில் நுகர்வுச்சார்பு $C=30+0.7y$ ஆகவுள்ளது. (இங்கு C என்பது நுகர்வாகும். Y என்பது வருமானமாகும்) சமநிலை வருமான மட்டம் ரூபா.300 மில்லியனாக இருப்பின் முதலீட்டு மட்டத்தின் அளவு.

- 1) ரூ.60 மில்லியனாகும். 4) ரூ.240 மில்லியனாகும்
2) ரூ.100 மில்லியனாகும். 5) ரூ.300 மில்லியனாகும்
3) ரூ.210 மில்லியனாகும்.

63. பின்வரும் வரைபடம் அரச துறையற்ற மூடப்பட்ட பொருளாதாரமொன்றின் சேமிப்பு மற்றும் முதலீட்டு வளையிகளைக் காட்டுகிறது.



வெளியீட்டின் சாத்தியவள மட்டம் Y_p யாகும். எனவே சாத்தியவள வெளியீட்டிற்கும் உண்மையான வெளியீட்டிற்கும் இடையிலான இடைவெளியானது

தேர்ச்சி - 05 - M.C.Q

- 1) LG இனால் அளவிடப்படும். 4) KJ இனால் அளவிடப்படும்.
 2) GH இனால் அளவிடப்படும். 5) HK இனால் அளவிடப்படும்.
 3) JH இனால் அளவிடப்படும்.

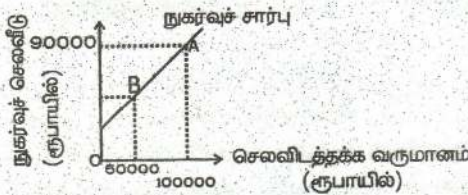
64. குறித்தவொரு ஆண்டில் ஒரு நாட்டின் நுகர்வு, முதலீடு மற்றும் அரசு கொள்வனவுகள் என்பவற்றின் மீதான செலவீடுகள் அந்நாட்டின் மொத்த உள்நாட்டு உற்பத்தியின் 105% க்கு காணப்பட்டன. இந்நிலை சாத்தியமாவது.

- 1) பணநிரம்பல் அதிகரிக்கப்பட்டால் மட்டுமேயாகும்.
 2) தேறிய ஏற்றுமதிகள் நேர்க்கணியமாக இருந்தால் மட்டுமேயாகும்.
 3) தேறிய ஏற்றுமதிகள் எதிர்க்கணியமாக இருந்தால் மட்டுமேயாகும்.
 4) அரசாங்கம் பாதிட்டில் ஒரு மிகைநிலையினைக் கொண்டிருந்தால் மட்டுமேயாகும்.
 5) அரசாங்கம் சமநிலை பாதிட்டைக் கொண்டிருந்தால் மட்டுமேயாகும்.

65. எளிமையான பொருளாதாரமொன்றின் வருமான மட்டம் ரூபா.2000 பில்லியனாகும் போது நுகர்வானது ரூபா.1500 பில்லியன் ஆகும். வருமானம் ரூபா.3000 பில்லியனாகும் போது நுகர்வானது ரூபா.2000 பில்லியனாக மாறிகளுக்கிடையில் நேர்க்கோட்டுத் தொடர்புள்ளதெனக் கருதினால் வருமான மட்டம் ரூபா.4200 பில்லியனாகும் போது நுகர்வானது ரூபா.

- 1) 2100 பில்லியனாகும். 4) 3020 பில்லியனாகும்.
 2) 2520 பில்லியனாகும். 5) 3600 பில்லியனாகும்.
 3) 2600 பில்லியனாகும்.

66. பின்வரும் வரைபடம் எல்லை நுகர்வு நாட்டம் (MPC) 0.82 இற்குச் சமனான நேர்க்கோடு மொத்த நுகர்வுச் சார்பினைக் காட்டுகிறது.



B புள்ளியில் நுகர்வுச் செலவீட்டின் அளவு யாது?

- 1) 82000 3) 49000 5) 33000
 2) 50000 4) 41000

67. வருமானத்தைவிட நுகர்வு கூடுதலாகக் காணப்படுமாயின், சராசரி நுகர்வு நாட்டம்.

- 1) ஒன்றைவிட குறைவாகக் காணப்படும்.
 2) ஒன்று ஆக இருக்கும்.
 3) பூச்சியத்திற்கும் ஒன்றுக்குமிடையில் இருக்கும்.
 4) ஒன்றைவிடக் கூடியதாக காணப்படும்.
 5) எதிர்க்கணியமாக இருக்கும்.

68. தன்னிச்சையான நுகர்வு இல்லாத எளிய பொருளாதாரம் ஒன்றில் நுகர்வுச் சார்பு செலவிடத்தக்க வருமானத்தில் 0.8 ஆயின் $C=0.8$ yd வருமானம் அதிகரிக்கும் போது.

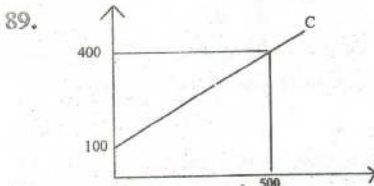
எல்லை நுகர்வு நாட்டம் (MPC)	சராசரி நுகர்வு நாட்டம் (APC)
1. அதிகரிக்கும்	அதிகரிக்கும்
2. குறையும்	குறையும்
3. குறையும்	அதிகரிக்கும்
4. அதிகரிக்கும்	குறையும்
5. மாறாது	மாறாது

69. வீட்டுத்துறையொன்றின் வருடாந்த செலவிடத்தக்க வருமானம் ரூபா 60,000 ஆகவும் நுகர்வுச் செலவிட ரூபா.45,000 ஆகவும் உள்ளதுபோது அதன்,
 1) எல்லை நுகர்வு நாட்டம் (MPC) 0.25 ஆகும்.
 2) எல்லை நுகர்வு நாட்டம் (MPC) 0.75 ஆகும்.
 3) சராசரி நுகர்வு நாட்டம் (APC) 0.75 ஆகும்.
 4) சராசரி நுகர்வு நாட்டம் (APC) 0.75 ஆகும்.
 5) எல்லை சேமிப்பு நாட்டம் (MPS) 0.25 ஆகும்.
70. வருமானம் ரூபா.2000 இல் சராசரி நுகர்வு நாட்டம் 0.8 ஆகும். அதேவேளை வருமானம் ரூபா.4000 இல் சராசரி நுகர்வு நாட்டம் 0.7 ஆகும். இவ்ளளிய பொருளாதாரத்தில் சேமிப்புச் சார்பாவது.
 1) $S = -400 + 0.8Y$ 4) $S = -400 + 0.4Y$
 2) $S = 400 + 0.2Y$ 5) $S = -400 + 0.3Y$
 3) $S = -400 + 0.2Y$
71. அரசாங்க நடவடிக்கை இல்லாத மூடப்பட்ட பொருளாதாரத்தை ஏடுத்துக் கொள்ளவும். இதில் $I=600$, $S=0.25Y$ என்பவற்றுடன் பொருளாதாரம் சமநிலையிருப்பின் Y, C ஆகியவற்றின் பெறுமதிகள் முறையே எவை?
 1) 2400 மற்றும் 400 4) 3000 மற்றும் 600
 2) 2400 மற்றும் 600 5) 2400 மற்றும் 800
 3) 1200 மற்றும் 600
72. எளிய பொருளாதாரம் ஒன்றில் $C=200+0.8Y$
 $I=100$ மில். ரூபா ஆயின், சமநிலைத் தேசிய வருமானத்தில் நுகர்வின் அளவு
 1) 1000 மில் ரூபா 4) 1800 மில் ரூபா
 2) 1400 மில் ரூபா 5) 2000 மில் ரூபா
 3) 1500 மில் ரூபா
73. அரச துறையற்ற மூடப்பட்ட பொருளாதாரமொன்றின் முதலீட்டுப் பெருக்கியின் பெறுமதி 5 ஆகும். முதலீடு ரூ.200 மில்லியனாக அதிகரித்தால் நுகர்வானது எந்தளவினால் அதிகரிக்கும்?
 1) ரூ.200 மில்லியன் 4) ரூ.800 மில்லியன்
 2) ரூ.400 மில்லியன் 5) ரூ.1000 மில்லியன்
 3) ரூ.600 மில்லியன்
74. எளிமையான பொருளாதாரமொன்றின் எல்லை நுகர்வு நாட்டம் 0.6 ஆகும். தன்னிச்சையான முதலீடு ரூபா.மில்லியன் 40 இனால் அதிகரிக்குமாயின் சமநிலை வருமான மட்டம்.
 1) ரூபா.16 மில்லியனினால் விரிவடையும்
 2) ரூபா.24 மில்லியனினால் விரிவடையும்
 3) ரூபா.40 மில்லியனினால் விரிவடையும்
 4) ரூபா.67 மில்லியனினால் விரிவடையும்
 5) ரூபா.100 மில்லியனினால் விரிவடையும்
75. குறிப்பிட்ட எளிய பொருளாதாரத்தில் தேசிய உற்பத்தி 1000 இனால் அதிகரித்தது. முதலீடு 100 இனால் அதிகரிக்கப்பட்டமையாலாகும். இந்தப் பொருளாதாரத்தின் நுகர்வுச் சார்பு?
 1) $C=0.1Y$ 3) $C=0.5Y$ 5) $C=0.9Y$
 2) $C=0.2Y$ 4) $C=0.8Y$

76. பேரினப் பொருளாதாரச் சமநிலை $Y=E$ என்ற சமன்பாட்டினால் காட்டப்படுகின்றது. இது எதனைக் குறிக்கின்றது?
- 1) எளிய பொருளாதாரத்தில் வருமான செலவு சமநிலை
 - 2) மூடிய பொருளாதாரத்தில் வருமான செலவு சமநிலை
 - 3) திறந்த பொருளாதாரத்தில் வருமான செலவு சமநிலை
 - 4) எளிய பொருளாதாரத்தில் உட்பாய்ச்சல் வெளிப்பாய்ச்சல் சமநிலை
 - 5) மூடிய பொருளாதாரத்தில் உட்பாய்ச்சல் வெளிப்பாய்ச்சல் சமநிலை
77. தன்னியல்பான வரியைக் மட்டும் கொண்ட பொருளாதாரமொன்றில் சமநிலை உற்பத்தி மட்டம் ரூபா மில்லியன் 1760 ஆகும். கீழே சில தகவல்கள் தரப்பட்டுள்ளன.
- $$C=300 + 0.75Y_d \quad I=100 \quad T=100$$
- இப்பொருளாதாரத்தில் அரசு நுகர்வுச் செலவானது ரூபா பில்லியன்
- 1) 100 ஆகும்.
 - 2) 115 ஆகும்.
 - 3) 300 ஆகும்.
 - 4) 325 ஆகும்.
 - 5) 375 ஆகும்.
78. மொத்த உள்நாட்டு உற்பத்தி சமநிலையிலுள்ள போது
- 1) சென்மதி நிலுவை சமநிலையிலிருக்கும்
 - 2) அரசாங்க வரவு செலவுத்திட்டம் சமநிலையிலிருக்கும்
 - 3) மொத்த திட்டமிட்ட செலவுகள் உச்சப்படுத்தப்பட்டிருக்கும்
 - 4) அங்கே மொத்த உள்நாட்டு உற்பத்தி மாறுவதற்கான ஏதுநிலை எதுவுமில்லை
 - 5) சேமிப்புக்கள் முதலீடுகளுக்குச் சமமாகவிருக்கும்
79. ஒரு பொருளாதாரத்தின் மொத்தக் கேள்வியில் பின்வருவனவற்றில் எவை சேர்க்கப்படுகின்றன?
- 1) வரி, சேமிப்பு, இறக்குமதி
 - 2) ஏற்றுமதி, நுகர்வு, அரசசெலவு
 - 3) நுகர்வு அரச செலவு, முதலீடு ஏற்றுமதி
 - 4) நுகர்வு, அரச செலவு, முதலீடு, இறக்குமதி
 - 5) நுகர்வு, அரசசெலவு, முதலீடு, பெறுமானத் தேய்வு, ஏற்றுமதி
80. திறந்த பொருளாதாரம் ஒன்றில் மொத்தக் கேள்வியைக் குறைக்கச் செய்கின்ற தொகுதியானது.
- 1) சேமிப்பு, வரி, ஏற்றுமதி
 - 2) சேமிப்பு, வரி, முதலீடு
 - 3) வரி, அரசசெலவு, ஏற்றுமதி
 - 4) சேமிப்பு, அரசசெலவு, இறக்குமதி
 - 5) வரி, சேமிப்பு, இறக்குமதி
81. கீழே தரப்படும் கூற்றுக்களுள் ஒரு நாட்டின் உற்பத்தி மட்டத்தை அதிகரிப்பதில் செல்வாக்குச் செலுத்துகின்ற முக்கிய காரணியாக அமைவது.
- 1) உள்நாட்டு சேமிப்பை அதிகரித்தல்.
 - 2) அரச மானியங்களை குறைத்தல்.
 - 3) அரச வரிகளை உயர்த்துதல் .
 - 4) அரசாங்க நுகர்வுச் செலவுகளை அதிகரித்தல்.
 - 5) இறக்குமதிகளை அதிகரித்தல்.
82. எளிய பொருளாதாரம் ஒன்றில் சராசரி நுகர்வு நாட்டம் 0.8 முதலீடு 1000மாக காணப்படும் போது பொருளாதாரத்தின் சமநிலை வெளியீட்டு மட்டம் யாது?
- 1) 5000
 - 2) 1000
 - 3) 2500
 - 4) 3000
 - 5) 4000

தேர்ச்சி - 05 - M.C.Q

83. ஒரு குறிப்பிட்ட பொருளாதாரமொன்றில் சேமிப்பு $S = -80 + 0.2Y$ இதன் மூலம் கருதப்படுவது.
- 1) எல்லை நுகர்வு நாட்டமானது வருமானத்தில் நேர்ப்பெறுமதியைக் கொண்டுள்ளது.
 - 2) எல்லை நுகர்வு நாட்டமானது வருமானத்தில் மறைக்கணியத்தைக் கொண்டுள்ளது.
 - 3) தன்னிச்சையான சேமிப்பு வருமானத்தில் நேர்க்கணியத்தைக் கொண்டுள்ளது.
 - 4) வருமானம் அதிகரிக்கும் போது சேமிப்பு அதிகரிக்கும்.
 - 5) வருமானம் அதிகரிக்கும் போது சேமிப்பு வீழ்ச்சியடையும்.
84. $C = 100 + 0.75y_d$ எனின் சேமிப்பு சார்பு யாது?
- 1) $S = 0.25y - 100$
 - 2) $S = 0.75y_d - 100$
 - 3) $S = 0.25(y-t) - 100$
 - 4) $S = 0.25(y-t) + 100$
 - 5) $S = 100 + 0.25y_d$
85. திறந்த பொருளாதாரம் தொடர்பான தகவல்கள் வருமாறு
- | | | |
|-----------------------------|---|--------|
| செலவிடக்கூடிய வருமானம் (yd) | = | 3400 m |
| தனியார் நுகர்வு (C) | = | 3000 m |
| அரசாங்க நுகர்வு (G) | = | 400 m |
| மொத்த முதலீடு (I) | = | 500 m |
| தேறிய ஏற்றுமதி | = | -100 m |
- வரியின் அளவு யாது?
- 1) 550
 - 2) 500
 - 3) 400
 - 4) 350
 - 5) 300
86. எளிய பொருளாதாரம் ஒன்றில் முதலீடு 150 மில்லியனால் அதிகரிக்க சமநிலைத் தேசிய வருமானம் 600 மில்லியனால் அதிகரித்தது எனின் எல்லை நுகர்வு நாட்டம் (MPC)
- 1) 4
 - 2) 0.25
 - 3) 0.75
 - 4) 2
 - 5) 0.45
87. எல்லை நுகர்வு நாட்டமும் (MPC) எல்லைச்சேமிப்பு (MPS) நாட்டமும் சமனாகக் காணப்பட்டால் பெருக்கியின் பெறுமதி யாது?
- 1) 5
 - 2) 4
 - 3) 3
 - 4) 2
 - 5) 1
88. கீழ்வரும் அட்டவணைக்குரிய நுகர்வுச் சமன்பாடு யாது?
- | | |
|--------------|--------------|
| Y (வருமானம்) | S (சேமிப்பு) |
| 100 | -50 |
| 500 | 150 |
- 1) $C = -100 + 0.5y$
 - 2) $C = 100 + 0.5y$
 - 3) $C = 150 + 0.5y$
 - 4) $C = -150 + 0.5y$
 - 5) $C = -200 + 0.5y$



எல்லைச் சேமிப்பு நாட்டம் (MPS) பெறுமதி யாது?

- 1) 0.6
- 2) 0.5
- 3) 0.5
- 4) 0.3
- 5) 0.2

90. $C=500+0.9y_d$

(T) வரி (T) = 0.2y

மாற்றல் (TR) = 50

வருமானத்தின் சார்பாக நுகர்வுச் சமன்பாட்டைத் தருக?

- 1) $C=545+0.72y$ 4) $C=554+0.72y$
 2) $C=545+0.8y$ 5) $C=550+0.8y$
 3) $C=545+0.7y$

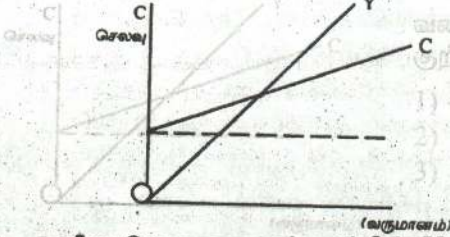
91. சுருக்கத் தாக்கம் தொடர்பான சரியாக கூற்று.

- 1) சேமிப்பு முதலீடு சமனாக இருத்தல்
 2) மொத்த நிரம்பலை விட மொத்தக் கேள்வி அதிகமாக இருத்தல்.
 3) வெளிப்பாய்ச்சலை விட உட்பாய்ச்சல் அதிகமாக இருத்தல்.
 4) உட்பாய்ச்சலைவிட வெளிப்பாய்ச்சல் அதிகமாக இருத்தல்.
 5) ஏற்றுமதியைவிட இறக்கமதி குறைவாக இருத்தல்.

92. MPC = 0.8 சமநிலை வருமானம் 2000, நிறைதொழில் வருமான மட்டம் 3000 எனின் வீக்க அல்லது சுருக்க இடைவெளி?

- 1) 200 சுருக்க இடைவெளி 4) 1000 சுருக்க இடைவெளி
 2) 200 வீக்க இடைவெளி 5) 500 வீக்க இடைவெளி
 3) 1000 வீக்க இடைவெளி

93.



வரைபடத்தில் C கோட்டின் சரிவு குறிப்பது யாது?

- 1) APC 2) MPS 3) MPC 4) MPS
 5) பெருக்க (K)

94. எளிய பொருளாதாரம் ஒன்றின் $Y_d=5000$, $C=0.8Y$, $I=50$ எனின் சமநிலையில் தன்னிச்சையான நுகர்வு யாது? (தரவுகள் மில்லியன் ரூபாவில்)

- 1) 1050 2) 950 3) 850 4) 750 5) 600

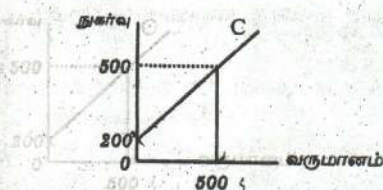
95. பின்வரும் விடங்கள் உமக்குத் தரப்படுகின்றது. (அனைத்தும் மில்லியன் ரூபாய்க்களில்)

சேமிப்புகள்	800	அரசு செலவு	400	400
வரி	200	ஏற்றுமதி	300	300
முதலீடு	600			

மேற்குறித்த தரவுகளின் படி இப் பொருளாதாரத்தின் இறக்குமதி செலவாக அமைவது.

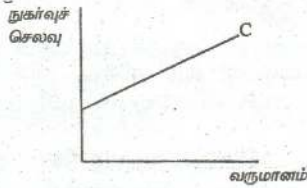
- 1) 200 மி.ரூ 3) 400 மி.ரூ 5) 600 மி.ரூ
 2) 300 மி.ரூ 4) 500 மி.ரூ

96. கீழ்வரும் வரைபில் எல்லை சேமிப்பு நாட்டத்தின் பெறுமதி யாது?



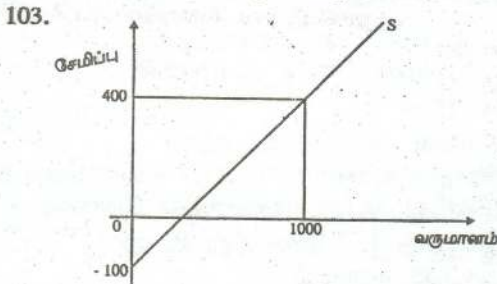
- 1) 0.6 4) 0.5
 2) 0.7 5) 0.8
 3) 0.4

97. மூடிய பொருளாதாரம் ஒன்று தொடர்பான தரவுகள் வருமாறு.
 $C=500 + 0.75Y_d$ $I=300$ $T=100$
 இப் பொருளாதாரத்தின் தன்னிச்சையான செலவுகளின் பெறுமதி யாது?
 1) 1100 2) 800 3) 525 4) 725 5) 975
98. ஒரு பொருளாதாரத்தில் எல்லை நுகர்வு நாட்டம் 0.75 ஆகும். சமநிலைத் தேசிய வருமானம் 1000 ரூபாக்களாகும். முதலீடு 30 ரூபாவால் அதிகரிக்க சமநிலைத் தேசிய வருமானத்தில் எவ்வித மாற்றமும் ஏற்படாதிருக்க வரி எவ்வளவால் அதிகரிப்படல் வேண்டும்.
 1) 30 2) 20 3) 10 4) 50 5) 40
99. அரசு துறையற்ற மூடப்பட்ட பொருளாதாரத்தின் முதலீட்டு பெருக்கியின் பெறுமதி 5 ஆகும். முதலீடு ரூபா 200 ஆல் அதிகரித்ததால் நுகர்வானது எந்தளவால் அதிகரிக்கும்.
 1) 200 2) 400 3) 600 4) 800 5) 1000
100. அரசாங்க தலையீட்டற்ற மூடப்பட்ட பொருளாதாரமொன்றில் நிறைதொழில் மட்ட வருமானம் = 400 மில்லியன் ரூபா சமநிலைத் தேசிய வருமானம் = 300 மில்லியன் ரூபா பணச்சுருக்க இடைவெளி 4 மில்லியன் எனில், எல்லை நுகர்வு நாட்டம் யாது?
 1) 0.2 2) 0.25 3) 0.75 4) 0.8 5) 0.4
101. பின்வரும் வரைபடம் வருமானத்திற்கும், நுகர்வு செலவுக்கும் இடையிலான தொடர்பினைக் காட்டுகின்றது.



சரியான கூற்று யாது?

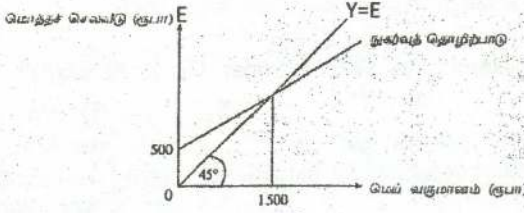
- 1) சராசரி நுகர்வு நாட்டம் மாற்றமடையாது
 - 2) சராசரி நுகர்வு நாட்டம் அதிகரிக்கும்.
 - 3) எல்லை நுகர்வு நாட்டம் சராசரி நுகர்வு நாட்டத்திற்குச் சமனாகும்.
 - 4) எல்லை நுகர்வு நாட்டம் சராசரி நுகர்வு நாட்டத்திலும் குறைவாகக் காணப்படும்
 - 5) எல்லை நுகர்வு நாட்டம் சராசரி நுகர்வு நாட்டத்திலும் அதிகமாகக் காணப்படும்.
102. நுகர்வின் மீது செல்வாக்குச் செலுத்தும் பிரதான காரணி எது?
 1) பணவீக்கம் 4) வட்டி வீதம்
 2) சமூக மனப்பாங்குகள் 5) விட்டுத்துறையால் பெறப்பட்ட கடன்கள்
 3) செலவிடக்கூடிய வருமானம்



அருகிலுள்ள வரைபடமானது பொருளாதாரமொன்றின் சேமிப்புச் சார்பினைக் காட்டுகின்றது. இங்கு எல்லை சேமிப்பு நாட்டம் வீழ்ச்சியடையுமாயின் பெருக்கி மற்றும் சேமிப்பு மட்டங்களில் ஏற்படும் மாற்றம் பின்வருவனவற்றுள் எதுவாகும்.

	பெருக்கி	சேமிப்பு மட்டம்
1.	குறையும்	அதிகரிக்கும்
2.	அதிகரிக்கும்	அதிகரிக்கும்
3.	குறையும்	குறையும்
4.	அதிகரிக்கும்	குறையும்
5.	அதிகரிக்கும்	மாறாது

104.



மேலுள்ள பொருளாதாரமொன்றின் நுகர்வுச் சார்பினைக் காட்டுகிறது. இப்பொருளாதாரத்தின் எல்லை நுகர்வு நாட்டம் அதிகரிக்குமாயின் சமநிலை வருமானம் மற்றும் நுகர்வு மட்டங்களில் ஏற்படும் மாற்றம் பின்வருவனவற்றுள் எவ்வகையினதாக இருக்கும்?

சமநிலை வருமான மட்டம்

சமநிலை நுகர்வு மட்டம்

- 1) மாறாது
- 2) மாறாது
- 3) அதிகரிக்கும்
- 4) அதிகரிக்கும்
- 5) குறையும்

- மாறாது
- அதிகரிக்கும்
- மாறாது
- அதிகரிக்கும்
- குறையும்

105. தரப்பட்டுள்ள பொருளாதாரமொன்றின் சமநிலை வெளியீட்டு மட்டம் ரூபா.2500 பில்லியன் எனவும் சாத்திய வெளியீட்டு மட்டம் ரூபா.2600 பில்லியன் எனவும் எல்லை நுகர்வு நாட்டம் ரூபா.0.75 எனவும் கருதுக. இந்நிலைமைகளின் கீழ் சாத்திய வெளியீட்டை அடைய வேண்டுமாயின் விதந்துரைக்கப்படக் கூடியது.

- 1) வரிகளை ரூபா 25 பில்லியனால் குறைப்பதாகும்.
- 2) வரிகளை ரூபா 100 பில்லியனால் குறைப்பதாகும்.
- 3) அரசாங்க கொள்வனவுகளை ரூபா 25 பில்லியனால் அதிகரிப்பதாகும்.
- 4) அரசாங்க கொள்வனவுகளை ரூபா 33 பில்லியனால் அதிகரிப்பதாகும்.
- 5) அரசாங்க கொள்வனவுகளை ரூபா 100 பில்லியனால் அதிகரிப்பதாகும்.

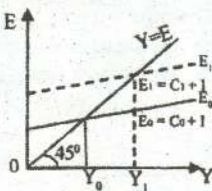
106. தூண்டப்பட்ட நுகர்வு (MPC) 0.8 ஆக உள்ள ஓர் பொருளாதாரத்தில் ரூபா.200 மில்லியன் முதலிடப்பட்டுள்ளது. இவ் முதலீட்டின் மூலமான 2ம் சுற்றில் தூண்டப்பட்ட நுகர்வு செலவு யாது?

- 1) ரூ.200 மில்லியன்
- 2) ரூ.128 மில்லியன்
- 3) ரூ.160 மில்லியன்
- 4) ரூ.102 மில்லியன்
- 5) ரூ.100 மில்லியன்

107. பொருளாதாரத்தில் மொத்தக் கேள்வியை அதிகரிக்க அரசு யாது செய்ய வேண்டும்?

- 1) பாதி மிகை
- 2) சேமிப்பை தூண்டல்
- 3) செலவினைக் குறைத்தல்
- 4) வரியினைக் குறைத்தல்
- 5) முதலீட்டைக் குறைத்தல்

108.



தரப்பட்டுள்ள வரைபானது, எளிய பொருளாதாரமொன்றில் நிலவும் சமநிலையைக் காட்டுகின்றது. பொருளாதாரத்தின் மொத்தச் செலவுக்கோடு EO யிலிருந்து E1 ஆக நுகர்வடையக் காரணம்.

- 1) முதலீட்டில் ஏற்பட்ட அதிகரிப்பாகும்.
- 2) நுகர்வுச் சார்பில் ஏற்பட்ட மாற்றமாகும்.
- 3) தன்னிச்சையான நுகர்வில் ஏற்பட்ட அதிகரிப்பு.
- 4) எல்லை நுகர்வு மட்டத்தில் ஏற்பட்ட அதிகரிப்பாகும்.
- 5) சரியாக வரையறுக்க முடியாது.

109. மூடப்பட்ட பொருளாதாரமொன்றில் மற்றவைகள் மாறாத நிலையில் முதலீட்டில் 50 பில்லியன் அதிகரிக்கும்போது சமநிலைத் தேசிய வருமானம் 250 பில்லியனாக உயர்த்துகின்றது. இப்பொருளாதாரத்தின் எல்லை நுகர்வு நாட்டம் (MPC) எல்லை சேமிப்பு நாட்டம் (MPS) என்பவை பின்வருவனவற்றுள் எது?

MPC எல்லை நுகர்வு மட்டம்	MPC எல்லை சேமிப்பு நாட்டம்
1) 0.75	0.25
2) 0.90	1.10
3) 0.80	0.20
4) 0.60	0.40
5) 0.85	0.15

110. திறந்த பொருளாதாரமொன்றின் தரவுகள் கீழே தரப்படுகின்றன.

தன்னார்வ நுகர்ச்சி (a)	= 200MR
முதலீடு (I)	= 100 MR
அரசாங்கக் கொள்வனவு (G)	= 200 MR
ஏற்றுமதிகள் (X)	= 400 MR
இறக்குமதிகள் (m)	= 100 MR

பொருளாதாரத்தின் எல்லை நுகர்வு நாட்டம் (mpc) 0.8 எனின் சமநிலைத் தேசிய வருமான மட்டம் யாது?

- | | |
|------------------------|------------------------|
| 1) 3000 மில்லியன் ரூபா | 4) 2500 மில்லியன் ரூபா |
| 2) 2000 மில்லியன் ரூபா | 5) 4000 மில்லியன் ரூபா |
| 3) 1600 மில்லியன் ரூபா | |

111. அரசாங்கம் ஏற்றுமதிகள் மற்றும் இறக்குமதிகள் இல்லாத பொருளாதார மொன்றில் மொத்த நுகர்வு $C=400+0.60Y_d$ யும் முதலீடு $I=100$ மாகும். இப்பொருளாதாரத்தின் அரசாங்கம் பண்டங்கள் சேவைகள் மீது 150 மில்லியன் ரூபாவை செலவிடுவதாகும். 100 மில்லியன் ரூபா வரி விதிப்பதாகவும் கருதுக. பொருளாதாரத்தில் சமநிலை வருமான மட்டம் எவ்வளவில் மாற்றமடையும்?

- | | |
|-----------------------------------|--------------------------------|
| 1) 225 மில்லியனாக குறையும் | 4) 50 மில்லியனாக அதிகரிக்கும் |
| 2) 150 மில்லியனாக அதிகரிக்கும் | 5) 225 மில்லியனாக அதிகரிக்கும் |
| 3) 150 மில்லியனாக வீழ்ச்சியடையும் | |

112. பொருளாதாரமொன்றின் வரிப்பெருக்கி குணகம் -1.5 எனின் எல்லை சேமிப்பு நாட்டத்தின் (mpc) பெறுமதி யாது?

- | | |
|---------------|---------------|
| 1) 0.60 ஆகும் | 4) 0.40 ஆகும் |
| 2) 0.80 ஆகும் | 5) 0.50 ஆகும் |
| 3) 0.25 ஆகும் | |

113. பொருளாதாரமொன்றில் தேசிய ஏற்றுமதி 400 மில்லியன் ரூபாவும் தேறிய வெளிநாட்டு மாற்றல் 200 மில்லியன் ரூபாவும் வருமானக் கணக்கு மீதி 150 மில்லியன் ரூபாவும் தேசிய சேமிப்பு 1750 மில்லியன் ரூபாவும் எனக் கருதுக. பொருளாதாரத்தின் மொத்த முதலீடு யாது?

- | | |
|------------------------|------------------------|
| 1) 1400 மில்லியன் ரூபா | 4) 1000 மில்லியன் ரூபா |
| 2) 1750 மில்லியன் ரூபா | 5) 1200 மில்லியன் ரூபா |
| 3) 350 மில்லியன் ரூபா | |

தேர்ச்சி - 05 - M.C.Q

114. அரச துறையற்ற ஓர் எளிய பொருளாதாரமொன்றில் எல்லை சேமிப்பு நாட்டம் (MPC) 0.2 ஆகும். அரசாங்கச் செலவுகள் அதிகரித்தமையினால் நுகர்வு 600 மில்லியன் ரூபா அதிகரித்திருப்பின் அரச செலவு எவ்வளவால் அதிகரித்திருக்க வேண்டும்?

- 1) 75 மில்லியன் ரூபா 4) 750 மில்லியன் ரூபா
2) 100 மில்லியன் ரூபா 5) 150 மில்லியன் ரூபா
3) 15 மில்லியன் ரூபா

115. எளிய பொருளாதாரமொன்றின் தரவுகள் கீழே தரப்படுகின்றன. வருமானம் ஒரு ரூபாவால் அதிகரிக்கும்போது நுகர்ச்சி 60 சதத்தினால் அதிகரிக்கின்றது. தன்னார்வ நுகர்ச்சி 100 மில்லியன் ரூபா.

இப் பொருளாதாரத்தின் சேமிப்புச் சார்பு யாது?

- 1) $S=100+0.6y$ 4) $S=100+0.4y$
2) $S=-100+0.6y$ 5) $S=100+0.2y$
3) $S=-100+0.4y$

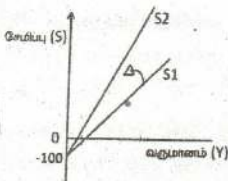
116. அரசாங்கக் கொள்வனவுகள் 200 மில்லியன் ரூபாவினால் அதிகரிக்கின்றது எனவும் அரசு 200 மில்லியன் ரூபா வரி விதிக்கின்றது எனவும் கருதுக. பெருக்கின் குணகம் 4 எனத் தரப்படும் நிலையில் சமநிலை வருமான மட்டம் எவ்வளவால் மாற்றமடையும்.

- 1) 200 மில்லியனால் அதிகரிக்கும் 4) 2000 மில்லியனால் அதிகரிக்கும்
2) 200 மில்லியனால் குறையும் 5) 800 மில்லியனால் அதிகரிக்கும்
3) 2000 மில்லியனால் குறையும்

117. பின்வருவனவற்றில் தவறான கூற்றினை இனங்காண்க.

- 1) பொருளாதாரத்தில் எல்லை நுகர்வு நாட்டம் அதிகரிக்கும் போது பெருக்கியின் பெறுமதியும் அதிகரிக்கும்.
2) பொருளாதாரத்தில் எல்லை நுகர்வு நாட்டம் குறையும்போது பெருக்கியின் பெறுமானம் அதிகரிக்கும்.
3) பொருளாதாரத்தில் எல்லை நுகர்வு நாட்டம் குறையுமாயின் எல்லை சேமிப்பு நாட்டம் அதிகரிக்கும்.
4) பெருக்கிக்கும் எல்லை நுகர்வு நாட்டத்திற்குமிடையில் நேரான தொடர்புண்டு.
5) பெருக்கிக்கும் எல்லை சேமிப்பு நாட்டத்திற்குமிடையில் எதிரான தொடர்புண்டு.

118.



வரைபில் S1 சேமிப்பு வளைகோடானது S2 சேமிப்பு வளைகோடாக இடப்புறம் சுழற்சியடைந்துள்ளது எனின் பின்வருவனவற்றில் சரியானது எது?

**எல்லை நுகர்வு நாட்டம்
MPC**

- 1) அதிகரித்துள்ளது
2) அதிகரித்துள்ளது
3) குறைந்துள்ளது
4) குறைந்துள்ளது
5) அதிகரித்துள்ளது

**எல்லை சேமிப்பு நாட்டம்
MPS**

- குறைந்துள்ளது
அதிகரித்துள்ளது
குறைந்துள்ளது
அதிகரித்துள்ளது
குறைந்துள்ளது

பெருக்கி K

- குறைந்துள்ளது
அதிகரித்துள்ளது
குறைந்துள்ளது
குறைந்துள்ளது
அதிகரித்துள்ளது

119. பொருளாதாரம் ஒன்றின் எல்லை நுகர்வு நாட்டம் 0.75 ($MPC = 0.75$) எனக் கருதுக. ரூபா 10 பில்லியன் வரி விதிக்கப்படுமாயின் சமநிலை வருமான மட்டம் எவ்வளவால் மாற்றமடையும்?
- 1) ரூபா.10 பில்லியன் வீழ்ச்சி
 - 2) ரூபா.20 பில்லியன் அதிகரிப்பு
 - 3) ரூபா.30 பில்லியன் அதிகரிப்பு
 - 4) ரூபா.20 பில்லியன் வீழ்ச்சி
 - 5) ரூபா.30 பில்லியன் வீழ்ச்சி
120. எளிய பொருளாதாரமொன்றில் மொத்த நுகர்வு $C=600+0.9Y_d$ எனவும் முதலீடு $I=50$ பில்லியன் எனவும் கருதுக. நிறைதொழில் மட்டம் வருமானம் (YF) 5500 பில்லியனாக அமையுமாயின் வீக்க இடைவெளி யாது?
- 1) 1000 பில்லியன்
 - 2) 10 பில்லியன்
 - 3) 500 பில்லியன்
 - 4) 8 பில்லியன்
 - 5) 100 பில்லியன்
121. முடிய பொருளாதாரமொன்றின் சமநிலை வெளியீடு ரூபா.1250 எல்லை நுகர்வு நாட்டம் 0.8 1500 அலகு சாத்திய வெளியீட்டை அடைய முதலீட்டை 20 மில்லியனாக அதிகரிக்குமாறு கூறப்பட்டால் மேலதிகமாக எடுக்கப்பட வேண்டிய நடவடிக்கை யாது?
- 1) முதலீடு 20 பில்லியனால் அதிகரிக்க வேண்டும்.
 - 2) அரச செலவு 25 மில்லியனால் அதிகரிக்கும்.
 - 3) அரச செலவு 50 மில்லியனால் அதிகரிக்கும்.
 - 4) முதலீடு 25 மில்லியனால் குறைவடையும்.
 - 5) வரி வருமானம் 25 மில்லியனால் அதிகரிக்கும்.
122. பொருளாதாரம் ஒன்றில் நுகர்வுக்காக செலவிடப்படும் ஒவ்வொரு ரூபாவிிற்கான செலவிடத்தக்க வருமானம் 80 சதம் ஆகும். எந்த வருமான மட்டத்திலும் முதலீடு ரூபா.100 இது மாறாததாகவும் காணப்படும். அரச செலவாக ரூபா.50 வை நிலையான வரியாக விதிக்கும் போது சமநிலை வெளியீடு 600 ஆக இருக்கத்தக்கதாக அரச செலவு திருத்தியமைக்கப்பட வேண்டிய பெறுமானம் யாது? (முதலீடு மாறிலியாகவும் உள்ளது)
- 1) 50
 - 2) 100
 - 3) 60
 - 4) 25
 - 5) 75
123. எளிமையான பொருளாதாரமொன்றின் மொத்தச் சேமிப்பு வளையின் சரிவு குறைவதால் ஏற்படக்கூடிய பொருளாதார விளைவாக அமைவது.
- 1) பெருக்கியின் பெறுமதி உயர்வதுடன் சமநிலை வருமானம் அதிகரிக்கும்.
 - 2) பெருக்கியின் பெறுமதி குறைவடைவதுடன் சமநிலை வருமானம் அதிகரிக்கும்.
 - 3) பெருக்கியின் பெறுமதி குறைவடைவதுடன் சமநிலை வருமானம் குறையும்.
 - 4) பெருக்கியின் பெறுமதி உயர்வதுடன் சமநிலை வருமானம் குறையும்.
 - 5) பெருக்கியின் பெறுமதி உயர்வதுடன் சமநிலை வருமானம் மாற்றமின்றியிருக்கும்.
124. எளிமையான பொருளாதாரமொன்றின் எல்லை நுகர்வு நாட்டம் 0.6 ஆகும் தன்னிச்சையான முதலீடு ரூபா மில்லியன் 40 இனால் அதிகரிக்குமாயின் சமநிலை வருமான நாட்டம்.
- 1) ரூபா 16 மில்லியனால் விரிவடையும்
 - 2) ரூபா 24 மில்லியனினால் விரிவடையும்
 - 3) ரூபா 40 மில்லியனினால் விரிவடையும்
 - 4) ரூபா 67 மில்லியனினால் விரிவடையும்
 - 5) ரூபா 100 மில்லியனினால் விரிவடையும்

125. மூடப்பட்ட பொருளாதாரமொன்றில் தன்னிச்சையான வரி மற்றும் அரசாங்க கொள்வனவுகள் முறையே ரூபா 20 மில்லியன் அளவினால் அதிகரிப்பட்டது. இதன் காரணமாக சமநிலை வருமானம்.

- 1) ரூபா 20 மில்லியனினால் வீழ்ச்சியடையும்
- 2) ரூபா 20 மில்லியனினால் அதிகரிக்கும்.
- 3) ரூபா 40 மில்லியனினால் அதிகரிக்கும்.
- 4) ரூபா 40 மில்லியனினால் வீழ்ச்சியடையும்
- 5) மாறாதிருக்கும்.

126. மொத்த தேசிய உற்பத்தி 1200 மில்லியன் ஆகும். தனியார் மற்றும் அரச நுகர்வு 900 மில்லியன் ஆகும். வெளிநாட்டு சேமிப்பு 100 மில்லியன் ஆகும். தேறிய ஏற்றுமதி 50 மில்லியன் ஆகும்.

தேசிய சேமிப்பு	செலவிடத்தக்க மொத்த தேசிய வெளியீடு
1) 150 மில்லியன்	1050 மில்லியன்
2) 450 மில்லியன்	1350 மில்லியன்
1050 மில்லியன்	1250 மில்லியன்
3) 450 மில்லியன்	1250 மில்லியன்
1350 மில்லியன்	2250 மில்லியன்

127. எளிய பொருளாதாரமொன்றின் தன்னிச்சையான முதலீடு 100 மில்லியனால் அதிகரிக்கும் போது சமநிலை வெளியீட்டு மட்டம் 500னால் அதிகரிக்கின்றது. இங்கு எல்லை நுகர்வு நாட்டம் யாது?

- 1) 0.8
- 2) 0.75
- 3) 0.6
- 4) 0.9
- 5) 0.5

128. குறிப்பிட்ட பொருளாதாரம் தொடர்பாக பின்வரும் கூற்றுக்கள் தரப்படுகின்றது. (அனைத்து தகவல்களும் மில்லியன் ரூபாய்கள் எனக் கொள்க)

- முதலீடு 500
- வரி 300
- இறக்குமதி 375
- நுகர்வு 900
- சேமிப்பு 350
- ஏற்றுமதி 250

சமநிலையின் போது அரசின் கொள்வனவு அல்லது செலவு யாது எனக் கண்டறிக.

- 1) 250 மில்லியன்
- 2) 300 மில்லியன்
- 3) 350 மில்லியன்
- 4) 25 மில்லியன்
- 5) 275 மில்லியன்

129. பின்வரும் கூற்றுக்களில் பிழையானது எது?

- 1) எல்லை நுகர்வு நாட்டத்தின் பெறுமதி 1 ஐவிட பெரிதாக காணப்படமாட்டாது.
- 2) வருமானத்தைவிட நுகர்வு அதிகமாகக் காணப்படின் சராசரி சேமிப்பு நாட்டத்தின் பெறுமதி நேர்க்கணியமாக காணப்படும்.
- 3) வருமானத்தைவிட நுகர்வு குறைவாகக் காணப்படின் சராசரி சேமிப்பு நாட்டத்தின் பெறுமதி நேர்க்கணியமாக காணப்படும்.

- 4) சமநிலை வரவுசெலவு திட்ட பெருக்கியின் பெறுமதியானது எப்பொழுதும் 1 ஆகக் காணப்படும்.
- 5) எல்லை நுகர்வு நாட்டத்தினதும் எல்லை சேமிப்பு நாட்டத்தினதும் கூட்டுத் தொகையானது எப்பொழுதும் 1 ஆகக் காணப்படும்.
130. திறந்த பொருளாதாரமொன்றில், வருமான வட்டப்பாய்ச்சலில் பொருத்தமான உட்பாய்ச்சலாகக் கருதமுடியாதது எது?
- 1) முதலீடுகள் 3) ஏற்றுமதிகள் 5) வரிகள்
2) அரசாங்க செலவினங்கள் 4) 1உம் 2உம்
131. எளிய பொருளாதாரமொன்றின் எல்லை நுகர்வின் போக்கு 0.8 ஆகக் காணப்பட்டது. அப்பொருளாதாரத்தில் தற்போதைய முதலீடு 200. இம்முதலீடானது மேலும் 100 ஆல் அதிகரிப்பின், 4ம் சுற்றில் சேர்க்க வேண்டிய உற்பத்தி.
- 1) 500 2) 300 3) 100 4) 40.25 5) 51.20
132. எளிய பொருளாதார மாதிரி ஒன்றின் எல்லைச் சேமிப்பு நாட்டம் $MPS=0.2$ என்க. பொருளாதாரத்தின் முதலீட்டு மட்டம் ரூபா.200 ஆல் அதிகரித்தால் 3வது சுற்றில் வருமான மாற்றம் யாது? நுகர்வு மாற்றம் யாது? சேமிப்பு மாற்றம் யாது?
- | 3ம் சுற்றில் வருமான மாற்றம் | 3ம் சுற்றில் நுகர்வு மாற்றம் | 3ம் சுற்றில் சேமிப்பு மாற்றம் | மொத்த வருமான மாற்றம் |
|-----------------------------|------------------------------|-------------------------------|----------------------|
| 1) ரூபா.128 | ரூபா.102.4 | ரூபா.25.6 | ரூபா.1000 |
| 2) ரூபா.128 | ரூபா.25.6 | ரூபா.102.4 | ரூபா.1000 |
| 3) ரூபா.102.4 | ரூபா.128 | ரூபா.25.6 | ரூபா.1000 |
| 4) ரூபா.128 | ரூபா.102.4 | ரூபா.25.6 | ரூபா.200 |
| 5) ரூபா.128 | ரூபா.102.4 | ரூபா.25.6 | ரூபா.200 |
133. எளிய பொருளாதார மாதிரி ஒன்றில் தரவுகள் வருமாறு.
 $C=160+0.8yd$ தன்னியல்பான முதலீடு 100 இலிருந்து 80 ஆக மாற்றமடைந்தால் ஆரம்ப சமநிலை வருமானம், வருமான மாற்றம், புதிய சமநிலை வருமானம் என்பன.

ஆரம்ப சமநிலை வருமானம்	வருமான மாற்றம்	புதிய சமநிலை வருமானம்
1. 1300	100 குறையும்	1400
2. 1300	100 கூடும்	1400
3. 1300	100 குறையும்	1200
4. 1200	100 குறையும்	1100
5. 1200	100 கூடும்	1300

134. திறந்த பொருளாதார மாதிரி ஒன்றின் தரவுகள் வருமாறு, அதனடிப்படையில் பொருளாதாரத்தின் மொத்த வளங்களின் பெறுமதியையும் வளப்பயன்பாட்டின் பெறுமதியையும் மொத்த உட்பாய்ச்சல் அளவுகளையும் காண்க.

$$M = 400$$

$$X - M = 200$$

$$C = 200$$

$$I = 200$$

$$T - G = 200$$

$$T = 600$$

வளப்பெறுமதி or வளப்பயன்பாட்டின் பெறுமதி	மொத்த வெளிப்பாய்ச்சல்
1. 1400	1200
2. 1400	1400
3. 1200	1400
4. 1200	1200
5. 1200	1000

தேர்ச்சி - 05 - M.C.Q

135. எளிய பொருளாதாரமொன்றின் சராசரி நுகர்வு மட்டம் 0.75 என்க. சமனிலை வருமான மட்டம் 2000 ஆக அமைந்தால் சமனிலையின் போது நுகர்வு மட்டம், சேமிப்பு மட்டம் முறையே.

- 1) 1600, 400 4) 2000, 1600
2) 1500, 500 5) 2000, 400
3) 1400, 600

136. மூடிய பொருளாதாரமொன்றின் தரவுகள் வருமாறு.

$$C = 200 + 0.8y_d, \quad T = 150 \quad G = 50, \quad Tr = 100$$

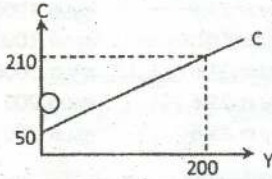
அரசு செலவு 30 ஆல் கூடினால் புதிய சமனிலை வருமான மட்ட மாற்றம் யாது?

- 1) சமனிலை வருமான மட்டம் 60 ஆல் உயரும்.
2) சமனிலை வருமான மட்டம் 150 ஆல் உயரும்.
3) சமனிலை வருமான மட்டம் 70 ஆல் உயரும்.
4) சமனிலை வருமான மட்டம் 75 ஆல் குறையும்.
5) சமனிலை வருமான மட்டம் 150 ஆல் குறையும்.

137. எல்லை சேமிப்பு நாட்டம் $MPC = 0.2$ சமனிலை வருமானம் 2000 நிறைதொழில் வருமான மட்டம் 1500 எனின் வீக்க அல்லது சுருக்க இடைவெளி?

- 1) 100 சுருக்க இடைவெளி 4) 500 சுருக்க இடைவெளி
2) 100 வீக்க இடைவெளி 5) 250 வீக்க இடைவெளி
3) 500 வீக்க இடைவெளி

138.



வரைபின் படி சேமிப்புச் சார்பு யாது?

- 1) $S = 50 + 0.8Y$ 4) $S = -50 + 0.2Y$
2) $S = 50 + 0.2Y$ 5) $S = -50 + 100Y$
3) $S = -50 + 0.8Y$

139. குறிப்பிட்ட கற்பனையான பொருளாதாரத்தில் செலவிடக்கூடிய வருமானம், சேமிப்பு தொடர்பான தகவல்கள் வருமாறு.

செலவிடக்கூடிய வருமானம் Y_d	சேமிப்பு (S)
1000	100
1500	200

இப்பொருளாதாரத்தின் நுகர்வுத் தொழிற்பாடு யாது?

- 1) $C = 100 + 0.2Y_d$ 4) $C = 100 + 0.8y_d$ 5) $C = -150 + 0.75y_d$
2) $C = 100 + 0.8y_d$ 5) $C = -50 + 0.75y_d$

140. எளிய பொருளாதாரமொன்றில் $C=100+0.8y_d, I=100$ ரூபா.25ஆல் குறைடையுமாயின் புதிய சமனிலை தேசிய வருமானம் யாது?

- 1) ரூ.1000 2) ரூ.1125 3) ரூ.1250 4) ரூ.875 ரூ.625

141. திறந்த பொருளாதாரமொன்றின் தகவல்கள் வருமாறு:

$$Y = 5000 \quad I = 1000 \quad C = 1000$$

$$m = 2000 \quad T-G = 1000$$

$$x-m = 1000 \quad T = 3000$$

இப்பொருளாதாரத்தின் வளங்களின் பெறுமதியும் அதன் பயன்பாடும் பெறுமதியும் வளங்களின் பெறுமதி பயன்பாட்டுப் பெறுமதி

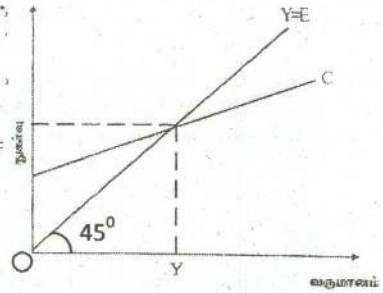
- 1) 11000 11000
2) 12000 12000
3) 13000 12000
4) 12000 11000
5) 5000 5000

142. அரசாங்கத் தலையீடுள்ள திறந்த பொருளாதாரமொன்றின் தகவல்கள் பின்வருமாறு தரப்படுகின்றது. எச்சூழ்நிலையில் பொருளாதாரம் சமநிலையில் காணப்படும். (மில். ரூபாய்களில்)

	C	I	S	G	T	X	M
1)	300	100	50	65	40	35	100
2)	400	100	60	65	40	35	100
3)	500	100	40	65	40	35	100
4)	600	100	40	65	40	35	100
5)	700	100	70	65	40	35	100

143. படத்தில் காட்டியது போல 45° கோட்டிற்கு மேலாக நுகர்வுக்கோடு செல்லும் வருமான மட்டங்களில் வீட்டுத்துறையானது,

- 1) வருமானத்தில் ஏற்படும் அதிகரிப்பு முழுவதையும் நுகர்வு செய்யும்.
- 2) செலவிடத்தக்க வருமானத்தை விடக் கூடுதலாக நுகர்வு செய்யும்.
- 3) வருமானத்தில் குறிப்பிட்ட சதவீதத்தைச் சேமிக்கும்.
- 4) வருமானத்தில் ஏற்படும் அதிகரிப்பு முழுவதையும் சேமிக்கும்.
- 5) எதிர்க்கணிய சேமிப்பில் ஈடுபடும்.



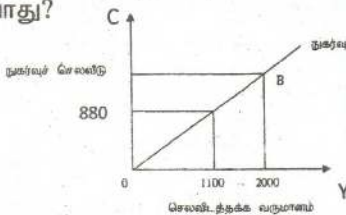
144. பேரினப் பொருளாதாரம் ஒன்றின் எல்லை நுகர்வு நாட்டம் (MPC) எல்லை சேமிப்பு நாட்டம் (MPS) பெருக்கி K என்பவற்றிற்கு இடையிலான தொடர்புகள்.

	எல்லை நுகர்வு நாட்டம் MPC	எல்லை சேமிப்பு நாட்டம் MPS	பெருக்கி K
1.	அதிகரிப்பு	அதிகரிப்பு	வீழ்ச்சி
2.	அதிகரிப்பு	வீழ்ச்சி	அதிகரிப்பு
3.	வீழ்ச்சி	வீழ்ச்சி	அதிகரிப்பு
4.	வீழ்ச்சி	வீழ்ச்சி	வீழ்ச்சி
5.	அதிகரிப்பு	அதிகரிப்பு	அதிகரிப்பு

145. கருதுகோள் ரீதியான பொருளாதார ஒன்றின் முதலீடு 150Mr ஆல் அதிகரித்த போது சமநிலைத் தேசிய வருமானம் 750Mr ஆல் அதிகரித்தது எனில் இப் பொருளாதாரத்தின் எல்லை சேமிப்பு நாட்டம்.

- 1) 5
- 2) 0.6
- 3) 0.75
- 4) 0.8
- 5) 0.2

146. பின்வரும் வரைபடம் எல்லை நுகர்வு நாட்டம் $MPC = 0.8$ இற்கு சமமான நேர்கோட்டு நுகர்வுச் சார்பினைக் காட்டுகிறது. புள்ளி Bயில் நுகர்வுச் செலவு யாது?



புள்ளி Bயில் நுகர்வுச் செலவு.

- 1) 1200
- 2) 1000
- 3) 2000
- 4) 800
- 5) 1600

147. எளிய பொருளாதாரமொன்றில் சேமிப்பானது முதலீட்டை விட அதிகமாகக் காணப்படுமாயின்.

- 1) வெளியீடு அதிகரிக்கும்
- 2) வெளியீடு குறைவடையும்
- 3) வெளியீடு மாற்றமடையாது
- 4) வெளிப்பாய்ச்சல் குறைவாக இருக்கும்.
- 5) எதுவும் கூற முடியாது.

தேர்ச்சி - 05 - M.C.Q

148. கருதுகோள் ரீதியான பொருளாதாரம் ஒன்றின் தரவுகள் பின்வருமாறு. இப்பொருளாதாரம் தொடர்பான சரியான கூற்று.

தேசிய வருமானக் கூறுகள்		M. R
முதலீடு	I	110
அரச செலவிடு	G	130
நுகர்வு	C	740
ஏற்றுமதி	X	120
இறக்குமதி	M	100
வரி	T	200

- 1) சமநிலைத் தேசிய வருமானம் 1000 ரூபாவாகும்.
- 2) வரவு செலவு திட்டப் பற்றாக்குறை ஏற்படும்.
- 3) சென்மதி நிலுவைப் பற்றாக்குறை ஏற்படும்.
- 4) உட்பாய்ச்சல் வெளிப்பாய்ச்சல் விட அதிகமாகக் காணப்படுகின்றது.
- 5) அரசு சுருக்க தாக்கத்தினை அனுமதிக்கின்றது.

149. பின்வரும் கூற்றுக்களில் பிழையானதை தெரிவு செய்க.

- 1) ஒரு பொருளாதாரத்தின் எல்லை நுகர்வு நாட்டம் கூடிய பெற்றுமதியை எடுக்கும் போது சமநிலை வெளியீட்டு மட்டம் அதிகரிக்கும்.
- 2) அரச வரியைவிட அரச செலவு கூடுதலாக இருப்பின் சமநிலைத் தேசிய வருமானம் அதிகரிக்கும்.
- 3) முதலீட்டை விட சேமிப்பு அதிகமாக உள்ளபோது சமநிலை வெளியீட்டு மட்டம் குறைவடையும்.
- 4) ஏற்றுமதியானது இறக்குமதியைவிட கூடுதலாக உள்ளபோது சமநிலை வெளியீட்டு மட்டம் உயர்வடையும்.
- 5) எல்லை நுகர்ச்சி நாட்டம் அதிகரித்தால் செலவுப் பெருக்கி வீழ்ச்சியடையும்.

150. எளிய பொருளாதாரமொன்றில் நுகர்வுச் சார்பு $C=200+0.75y$ எனத் தரப்படுகின்றது. இங்கு முதலீடானது 300 மில்லியனால் அதிகரிக்குமாயின் நுகர்வு எத்தனை மில்லியனால் அதிகரிக்கும்?

- 1) 300 மில்லியன்
- 2) 1200 மில்லியன்
- 3) 0 மில்லியன்
- 4) 2000 மில்லியன்
- 5) 900 மில்லியன்

151. பொருளாதாரமொன்றின் தேசிய வருமானம் மற்றும் நுகர்வுச் செலவு என்பன உமக்குத் தரப்பட்டுள்ளன.

Y தேசிய வருமானம்	C நுகர்வுச் செலவு
30	27
70	51

இங்கு எல்லை நுகர்வு நாட்டம் மற்றும் எல்லைச் சேமிப்பு நாட்டம் என்பன முறையே

	எல்லை நுகர்வு நாட்டம் MPC	எல்லைச் சேமிப்பு நாட்டம் MPS
1)	0.9	0.1
2)	0.6	0.2
3)	0.8	0.2
4)	0.4	0.6
5)	0.6	0.4

152. திறந்த பொருளாதாரமொன்றின் தகவல்கள் வருமாறு.

நுகர்வு	C	= 200+0.75yd
முதலீடு	I	= 400 பில்லியன் ரூபா
ஆரச செலவு	G	= 275 பில்லியன் ரூபா
நேர்வரி	T	= 100 பில்லியன் ரூபா
ஏற்றுமதி	X	= 250 பில்லியன் ரூபா
இறக்குமதி	M	= 350 பில்லியன் ரூபா

இப்பொருளாதாரத்தின் வளக்கிடைப்பனவின் பெறுமதி.

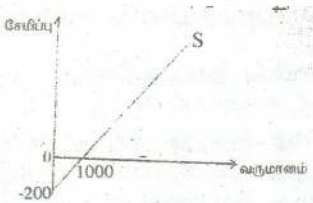
- 1) ரூபா.2800 பில்லியன்
 - 2) ரூபா.2000 பில்லியன்
 - 3) ரூபா.3150 பில்லியன்
 - 4) ரூபா.5000 பில்லியன்
 - 5) ரூபா.4125 பில்லியன்
153. பின்வரும் கூற்றுக்களில் பிழையானது எது?
- 1) சராசரி நுகர்வு நாட்டத்தின் பெறுமதி 1ஐவிட பெரிதாக காணப்படமாட்டாது.
 - 2) வருமானத்தை விட நுகர்வு அதிகமாகக் காணப்படின் சராசரி சேமிப்பு நாட்டத்தின் பெறுமதி எதிர்க்கணியமாக காணப்படும்.
 - 3) வருமானத்தைவிட நுகர்வு குறைவாகக் காணப்படின் சராசரி சேமிப்பு நாட்டத்தின் பெறுமதி நேர்க்கணியமாகக் காணப்படும்.
 - 4) சமநிலை வரவு செலவுத்திட்ட பெருக்கியின் பெறுமதியானது எப்பொழுதும் 1ஆகக் காணப்படும்.
 - 5) எல்லை நுகர்வு நாட்டத்தினதும் எல்லை சேமிப்பு நாட்டத்தினதும் கூட்டுத்தொகையானது எப்பொழுதும் 1ஆகக் காணப்படும்.
154. எளிய பொருளாதாரமொன்றின் எல்லை நுகர்வின் போக்கு 0.8 ஆகக் காணப்பட்டது. அப்பொருளாதாரத்தில் தற்போதைய முதலீடு 200. இம்முதலீடானது மேலும் 100ஆல் அதிகரிப்பின். 4ம் சுற்றில் சேர்க்க வேண்டிய உற்பத்தி.
- 1) 500
 - 2) 300
 - 3) 100
 - 4) 40.25
 - 5) 51.20
155. எளிமையான பொருளாதாமொன்றின் எல்லை நுகர்வு நாட்டம் 0.75 ஆகும். தன்னிச்சையான முதலீடு ரூபா.மில்லியன் 40இனால் அதிகரிக்குமாயின் சமநிலை வருமான மட்டம்.
- 1) ரூபா.160 மில்லியனினால் விரிவடையும்
 - 2) ரூபா.240 மில்லியனினால் விரிவடையும்
 - 3) ரூபா.400 மில்லியனினால் விரிவடையும்
 - 4) ரூபா.670 மில்லியனினால் விரிவடையும்.
 - 5) ரூபா.1000 மில்லியனினால் விரிவடையும்.
156. பொருளாதாரமொன்றில் எல்லை நுகர்வு நாட்டம் (MPC) 0.8 எனவும், அரசு கொள்வனவு 200 மில்லியன் ரூபாவால் அதிகரிக்கின்றது எனவும், அரசாங்கம் 200 மில்லியன் ரூபா வரியினை அதிகரிக்கின்றது எனவும் கருதுக. பொருளாதாரத்தில்
- 1) சமநிலை வெளியீடு ரூபா.200 மில்லியனால் தேறிய விரிவாக்கம் அடையும்.
 - 2) சமநிலை வெளியீடு ரூபா.200 மில்லியனால் தேறிய சுருக்கமடையும்.
 - 3) சமநிலை வெளியீட்டில் மாற்றம் எதுவும் நிகழாது.
 - 4) மொத்த வெளியீடு ரூபா.1000 மில்லியனால் தேறிய விரிவடையும்.
 - 5) மொத்த வெளியீடு ரூபா.800 மில்லியனால் தேறிய விரிவடையும்.
157. மூடப்பட்ட பொருளாதாரமொன்றின் வருமானம் (y), சராசரி சேமிப்பு நாட்டம் (APS) என்பவற்றைக் குறிக்கும் அட்டவணை தரப்படுகின்றது.
- | வருமானம் (y) | சராசரி சேமிப்பு நாட்டம் (APS) |
|--------------|-------------------------------|
| ரூபா.1000 | 0.10 |
| ரூபா.2000 | 0.15 |
- ஏனையவை மாறாநிலையில் எல்லை நுகர்வு நாட்டம் (MPC) யாது?
- 1) 0.75
 - 2) 0.60
 - 3) 0.70
 - 4) 0.90
 - 5) 0.80
158. நுகர்வுச் சார்பில் பெயர்ச்சியை ஏற்படுத்துவதில் செல்வாக்கற்ற காரணி எது?
- 1) சொத்துக்களின் இருப்பு
 - 2) வீட்டுத்துறையின் எதிர்ப்பார்ப்பு
 - 3) வரி வசூலித்தல்
 - 4) வீட்டுத்துறையால் பெறப்படும் கடன்
 - 5) விலை மட்டம்

தேர்ச்சி - 05 - M.C.Q

159. அரசதுறையற்ற வெளிநாட்டு வர்த்தகம் தொழிற்படாத பொருளாதாரம் ஒன்றின் நுகர்வுச் சார்பு $C=200-0.8y$ எனவும், முதலீட்டுச் செலவு $I=100$ மில்லியன் ரூபா எனவும் கருதுக. மேலும் 100 மில்லியன் என்ற அதிகரித்த முதலீட்டின் பெருக்கி விளைவின் முதல் 3 சுற்றினால் நுகர்விச் செலவில் ஏற்படும் அதிகரிப்பு.

- 1) ரூபா.34.40 3) ரூபா.80.00 5) ரூபா.500.00
2) ரூபா.68.00 4) ரூபா.202.40

160. எளிமையான பொருளாதாரமொன்றின் சேமிப்புக் கோடு பின்வருமாறு தரப்படுகின்றது. தன்னிச்சையான முதலீடு காணப்படும் நிலையில் இப்பொருளாதாரத்தின் பெருக்கியின் பெறுமதி பின்வருவனவற்றுள் எது?



- 1) 5
2) 10
3) 4
4) 20
5) 8

161. வருமானத்திலேற்படும் ரூபா.8000 அதிகரிப்பு நுகர்வை ரூபா.6000யினால் அதிகரிக்குமாயின் எல்லை நுகர்வு நாட்டம், எல்லை சேமிப்பு நாட்டம், பெருக்கி என்பன தொடர்பாக சரியான தகவலைக் காட்டுவது.

	எல்லை நுகர்வு நாட்டம் mpc	எல்லை சேமிப்பு நாட்டம் mps	பெருக்கி k
1)	0.8	0.6	0.5
2)	0.6	0.8	4
3)	0.75	0.25	4
4)	0.25	0.75	5
5)	0.8	0.2	4

162. $T=50$ ஆகவும், சேமிப்புச் சார்பு $S=-210+0.2y_d$ ஆகவும் இருக்குமாயின் Yஇன் சார்பாக நுகர்வுச் சார்பு

- 1) $C=210+0.8y$ 3) $C=160+0.8y$ 5) $C=200+0.2y$
2) $C=210+0.2y$ 4) $C=170+0.8y$

163. பொருளாதாரத்தில் பின்வாங்கலைவிட செலுத்துதல்கள் கூடுதலாக இருப்பின்.

- 1) தேசிய வருமானம் அதிகரிக்கும் 4) விலைகள் அதிகரிக்கும்
2) தேசிய வருமானம் குறையும் 5) தேசிய வருமானம் சமநிலையில் இருக்கும்
3) விலைகள் குறைவடையும்

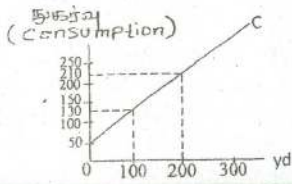
164. எளிய பொருளாதாரத்தில் எல்லை நுகர்வு நாட்டமும், எல்லை சேமிப்பு நாட்டமும் சமனாகக் காணப்படுமாயின் முதலீட்டுப் பெருக்கி.

- 1) 1 2) 2 3) 0.5 4) 0 5) கணிக்க முடியாது

165. மொத்த நுகர்வுச் சார்பு $C=80+0.8y$ எனவும், தேசிய வருமானம் (y) $Y=1000$ எனவும் தரப்படுமாயின், இரு துறைகளைக் கொண்ட ஒரு பொருளாதாரத்தில் சேமிப்பு மட்டம் எவ்வளவாக இருக்கும்.

- 1) 120 2) 300 3) 800 4) 780 5) 880

166. பின்வரும் வரைபடத்தை பயன்படுத்தி விடையளிக்குக.



வளையியின் படி சேமிப்புச் சார்பு யாது?

- 1) $S=50+0.5y_d$
2) $S=-130+5y_d$
3) $S=-50+0.5y_d$
4) $S=-50+0.8y_d$
5) $S=-50+0.2y_d$

167. தூண்டப்பட்ட நுகர்வு (MPC) 0.8 ஆக உள்ள ஒரு பொருளாதாரத்தில் ரூபா.200 மில்லியன் முதலிடப்பட்டுள்ளது. இவ் முதலீட்டின் பேறாக 2ம் சுற்றில் தூண்டப்பட்ட சேமிப்பு யாது?

- 1) ரூ.200 மில்லியன் 3) ரூ.160 மில்லியன் 5) ரூ.40 மில்லியன்
2) ரூ.128 மில்லியன் 4) ரூ.32 மில்லியன்

168. பின்வரும் நிலமைகளில் எந்நிலைமை விரிவுத்தாக்கத்தை ஏற்படுத்தும்.

- 1) $S+T>I+G$ 3) $W<J$ 5) $AD=AS$
2) $AD<AS$ 4) $Y>C+I+G$

169. பின்வரும் பேரின பொருளாதார தரவுகளின் படி வரவு செலவுத்திட்ட நிலுவை.

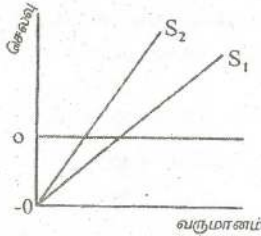
தேசிய வருமானம்	-	5000m ரூபா
செலவிடத்தகு வருமானம்	-	4500m ரூபா
முதலீடு	-	500m ரூபா
அரச செலவீடு G	-	700m ரூபா

- 1) 200m ரூபா 3) -200m ரூபா 5) 350m ரூபா
2) 300m ரூபா 4) -300m ரூபா

170. பின்வருவனவற்றில் எது எளிய பொருளாதாரமொன்றின் மொத்தக் கேள்வியில் குறைவை ஏற்படுத்தாது?

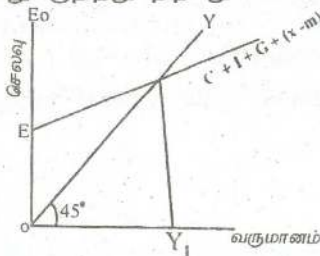
- 1) முதலீட்டு செலவு அதிகரித்தல் 4) ஏற்றுமதி அதிகரித்தல்
2) சேமிப்பு அதிகரித்தல் 5) வரி அதிகரித்தல்
3) அரச செலவீடு அதிகரித்தல்

171. படத்தில் சேமிப்பு மட்ட கோடு S_1 இருந்து S_2 ஆக அதிகரிக்கக் காரணம்.



- 1) தூண்டப்படும் நுகர்வு அதிகரித்தல்.
2) தூண்டப்படும் சேமிப்பு குறைவடைதல்
3) தன்னிச்சையான நுகர்வு அதிகரித்தல்
4) தூண்டப்படும் நுகர்வு குறைவடைதல்
5) தன்னிச்சையான முதலீடு அதிகரித்தல்

172. மேலே உள்ள படம் சமநிலை தேசிய வருமானத்தைக் காட்டுகின்றது. இங்கு E என்பது குறித்து நிற்பது



- 1) தன்னிச்சையான நுகர்வாகும்.
2) தூண்டப்படும் நுகர்வு
3) தன்னிச்சையான செலவு
4) மொத்த செலவினைக் குறிக்கும்
5) தூண்டப்படும் செலவைக் குறிக்கும்

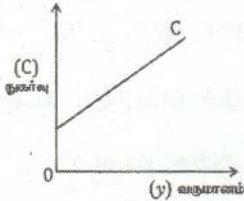
173. வரிபெருக்கி தொடர்பாக பிழையான கூற்று யாது?

- 1) வரிக்கும் சமநிலை தேசிய வருமானத்திற்குமான தொடர்பைக் காட்டுகிறது.
2) வரிக்கும் சமநிலைத் தேசிய வருமானத்திற்கும் நேர்க்கணிய தொடர்பை காட்டுகின்றது.
3) வரியின் அளவு அதிகரிக்க சமநிலைத் தேசிய வருமானம் குறைவடையும்.
4) வரி பெருக்கியின் பெறுமதியைப் பொறுத்து சமநிலை வருமான மாற்றம் அமையும்.
5) வரிப்பெருக்கியின் பெறுமானம் எதிர்க்கணியமாக காணப்படும்.

174. தன்னிச்சையான நுகர்வுச் செலவு யாது?

- 1) செலவிடத்தக்க வருமானம் பூச்சியமாகத் தக்கதாக நுகர்வில் ஈடுபடுத்தும் செலவு.
- 2) பூச்சிய வருவாய் மட்டத்தின் போது காணப்படும் நுகர்வுச் செலவை மீறி, செலவிடத்தக்க வருமானம் அதிகரித்ததன் விளைவாக நுகர்விற்காக ஈடுபடுத்தும் செலவு.
- 3) செலவிடத்தக்க வருவாயை மீறி கொடுக்கப்படும் குறிக்கப்பட்ட எல்லைக்குள் நுகர்விற்கான செலவு.
- 4) வருமான சார்பு நுகர்வு சார்பு என்பன இணையும் புள்ளியில் இடம்பெறும் செலவு.
- 5) சேமிப்பினால் ஏற்படும் விளைவாக நுகர்விற்காக ஒதுக்கப்பட்ட வளங்களின் பெறுமதி.

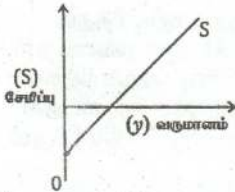
175. நுகர்விற்கும் வருமானத்திற்குமிடையிலான தொடர்பினை பின்வரும் வரைபடம் காட்டுகின்றது.



பின்வருவனவற்றில் சரியானது.

- 1) சராசரி நுகர்வு நாட்டம் மாறாது.
- 2) சராசரி நுகர்வு நாட்டம் அதிகரிக்கும்.
- 3) எல்லை நுகர்வு நாட்டம் நிலையானது.
- 4) எல்லை நுகர்வு நாட்டம் அதிகரிக்கும்.
- 5) எல்லை நுகர்வு நாட்டம் குறையும்.

176. பொருளாதாரமொன்றின் சேமிப்புத் தொழிற்பாட்டைப் பின்வரும் வரைபடம் காட்டுகின்றது.



வருமானம் குறைவடையும் போது பின்வருவனவற்றுள் எது வீழ்ச்சியடையும்?

- 1) சராசரி நுகர்வு நாட்டம்
- 2) சராசரி சேமிப்பு நாட்டம்
- 3) எல்லை நுகர்வு நாட்டம்
- 4) எல்லை சேமிப்பு நாட்டம்
- 5) அனைத்தும் மாற்றமடையும்

177. மூடிய பொருளாதாரமொன்றின் தன்னிச்சையான செலவீடுகளின் பெறுமதி 2000 மில்லியன் ரூபா ஆகும். வருமானத்தில் 90% நுகர்விற்காக செலவிடப்படுகின்றது. இப் பொருளாதாரத்தின் சமநிலை வருமானத்தின் அளவு.

- 1) 25000MR
- 2) 20,000 MR
- 3) 10,000 MR
- 4) 18,000 MR
- 5) 2000 MR

178. பேரினப் பொருளாதாரத்தில் சமநிலை வெளியீடு மட்டம் 7000 மில்.ரூபா எனவும், நிறை தொழில்மட்ட வருமானம் 5000 மில்.ரூபா எனவும் பெருக்கியின் பெறுமதி 5 எனவும், கருதுக.

அவ்வாறாயின் பணவீக்க இடைவெளியின் அளவு.

- 1) 200 மில்.ரூபா
- 2) 400 மில்.ரூபா
- 3) 2000 மில்.ரூபா
- 4) 500 மில்.ரூபா
- 5) 1400 மில்.ரூபா

179. $S = -200 + 0.25y$, $I = 300$ Mill, $G = 150$ Mill எனில் சமநிலை தேசிய வருமானம் யாது?

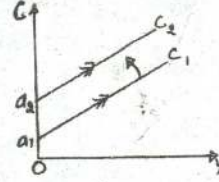
- 1) 1800 Mill
- 2) 2200 Mill
- 3) 2400 Mill
- 4) 2600 Mill
- 5) 25000 Mill

180. முதலீடானது 100 மில்லியனால் அதிகரிக்கின்றது எனவும் முதலீட்டுப் பெருக்கி 4 எனவுள்ள போது நுகர்வு எத்தனை மில்லியனால் அதிகரிக்கும்?

- 1) ரூபா.100 M
- 2) ரூபா.200 M
- 3) ரூபா.250 M
- 4) ரூபா.300 M
- 5) ரூபா.400 M

181. வரைபடத்தின் படி நுகர்வுக் கோடானது C_1 இல் இருந்து C_2 ஆக அதிகரிக்கின்ற பொழுது முதலீட்டு பெருக்கிக்கு யாது நிகழும்?

- 1) முதலீட்டு பெருக்கி மாறாது.
- 2) முதலீட்டு பெருக்கி குறைவடையும்.
- 3) முதலீட்டு பெருக்கி அதிகரிக்கும்.
- 4) முதலீட்டு பெருக்கி அதிகரித்து குறையும்.
- 5) மேற்சூறிய யாவும் தவறு.



182. திறந்த பொருளாதாரமொன்றின்

சமநிலைத் தேசிய வருமானம் (y)	=	ரூபா மில். 4000
நுகர்வுச் செலவீடு (C)	=	ரூபா மில். 2700
வரி அறவீடுகள் (T)	=	ரூபா மில். 500
இறக்குமதிகள் (M)	=	ரூபா மில். 200
அரசாங்கக் கொள்வனவுகள் (G)	=	ரூபா மில். 500
முதலீட்டுச் செலவீடு (I)	=	ரூபா மில். 700

ஏற்றுமதிகளின் (X) பெறுமதி

- 1) ரூபா 100 மில்லியன் ஆகும்.
- 2) ரூபா 300 மில்லியன் ஆகும்.
- 3) ரூபா 800 மில்லியன் ஆகும்.
- 4) ரூபா 200 மில்லியன் ஆகும்.
- 5) ரூபா 600 மில்லியன் ஆகும்.

183. எளிமையான பொருளாதாரமொன்றின் எல்லை நுகர்வு நாட்டம் 0.8 ஆகும். தன்னிச்சையான முதலீடு ரூபா.மில்லியன் 40 இனால் குறையுமாயின் சமநிலை வருமான மட்டம்.

- 1) ரூபா 200 மில்லியனால் விரிவடையும்
- 2) ரூபா 24 மில்லியனால் விரிவடையும்
- 3) ரூபா 40 மில்லியனால் விரிவடையும்
- 4) ரூபா 320 மில்லியனால் விரிவடையும்
- 5) ரூபா 200 மில்லியனால் குறைவடையும்

184. சமநிலை வரவு செலவுத்திட்டப் பெருக்கிக்கு பொருத்தமற்ற சமன்பாடு.

- 1) $\frac{1-b}{1-b}$
- 2) $\frac{mps}{mps}$
- 3) $\frac{1-mpc}{1-mpc}$
- 4) $\frac{1}{1-b} + \frac{-b}{1-b}$
- 5) $\frac{b}{1-b}$

185. மாற்றல் பெருக்கி 4 எனின் வரிப்பெருக்கி, வருமானப் பெருக்கி என்பன முறையே.

- 1) 0.25, 0.75
- 2) - 4, 3
- 3) - 4, 5
- 4) 5, 4
- 5) 3, - 4

186. முடிய பொருளாதாரமொன்றில் நுகர்வுச் சார்பு

$C=100+0.75y_d$, தேறிய வரி 40 என தரப்பட்டுள்ளது.

Yஇன் சார்பாக சேமிப்புச் சார்பினைத் தருக.

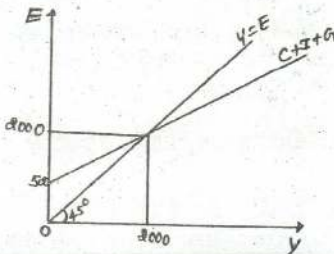
- 1) $S=100+0.25y$
- 2) $S=-100+0.25y$
- 3) $S=-110+0.25y$
- 4) $S=-70+0.25y$
- 5) $S=-110+0.75y$

187, 188, 189 ம் வினாக்களுக்கு பின்வரும் முடிய பொருளாதாரமொன்றின் தரவுகள் வருமாறு.

$C=200+0.9y_d$, $I=100$, $G=150$, $TR=20$

தேர்ச்சி - 05 - M.C.Q

187. வரவு செலவுத்திட்ட மீதி எவ்வளவு?
 1) 100 பற்றாக்குறை 3) 120 பற்றாக்குறை 5) 120 மிகை
 2) 100 மிகை 4) 80 மிகை
188. எவ்வருமான மட்டத்தில் சேமிப்பு பூச்சியம்?
 1) 2050 3) 4230 5) 2000
 2) 2030 4) 4200
189. தன்னிச்சையான மொத்தச் செலவு யாது?
 1) 4230 3) 5100 5) 4500
 2) 4050 4) 3900
190. நுகர்வுக்கோடும் சேமிப்புக்கோடும் ஒரேகோடாக அமையும் சந்தர்ப்பத்தினை இனங் காண்க.
 1) MPC உம் APC உம் சமனாக இருத்தல்.
 2) MPS உம் APS உம் சமனாக இருத்தல்.
 3) MPC = 0.5 ஆகக் காணப்படும் போது.
 4) தன்னிச்சையான நுகர்வு இல்லாத நிலையில் MPS=0.5 ஆக இருத்தல்.
 5) தன்னிச்சையான நுகர்வு காணப்படும் நிலையில் MPC=MPS ஆகக் காணப்படும் போது.
191. சமநிலையிலுள்ள மூடப்பட்ட பொருளாதாரமொன்றின் தரவுகள்.
 $Y=14$, $T=3$, $TR=1$, $I=3$, $C=7$
 பொருளாதாரத்தின் அரசாங்கச் செலவு யாது?
 1) 2 2) 5 3) 11 4) 4 5) 5
192. பொருளாதாரமொன்று நிறைதொழில் மட்டத்தில் உள்ள போது சமநிலை வருமான மட்டத்தில் மாற்றங்கள் ஏற்படாதவாறு அரசசெலவீட்டை 400 மில்லியனால் அதிகரிக்க விரும்புவதாக கருதுக. $mpc=0.8$ எனில் அரசின் மேற்படி நோக்கத்தை அடைய வரியினை எவ்வளவால் அதிகரிக்க வேண்டும்.
 1) 250 2) 450 3) 400 4) 500 5) 800
193. தன்னிச்சையான நுகர்வு உள்ளநிலையில் சேமிப்புக்கோடு கிடையச்சை வெட்டும் வருமானத்தில்
 1) சேமிப்பு எதிர்க்கணியம் 4) $Y > C$ ஆகும்
 2) $Y = C$ ஆகும் 5) சேமிப்பு பூச்சியமற்ற நிலையாகும்
 3) $Y < C$ ஆகும்
194. $C=100+0.8y$, $I=50$, நிறைதொழில் மட்ட வருமானம் 900 எனின் எதிர்பாராத தன்னார்வற்ற கையிருப்புத் திரட்சி மட்டம் யாது?
 1) 850 2) 250 3) -90 4) -150 5) 150
195. $C=100+0.6 Y$ எனில் மாற்றல் பெருக்கி
 1) 2.5 2) 1.5 3) 1.67 4) 2 5) 3
196. முடிய பொருளாதாரமொன்றின் சமநிலையை வரைபடம் காட்டுகின்றது.



இங்கு எல்லை நுகர்வு நாட்டம் யாது?

- 1) 0.8 4) 0.9
 2) 0.6 5) 0.25
 3) 0.75

தேர்ச்சி - 05 - M.C.Q

197, 198, 199ம் வினாக்களுக்கு பின்வரும் தரவுகளை பயன்படுத்துக.
 எளிய பொருளாதாரம்
 நுகர்வுத் தொழிற்பாடு $C=150+0.8y$
 முதலீடு $I=100$

197. முதலீட்டுக்கு சமமான சேமிப்புக்கான வருமான மட்டம் யாது?
 1) 150 2) 100 3) 1250 4) 750 5) 500
198. நுகர்வுக்குச் சமமான வருமானத்தைக் காண்க.
 1) 750 2) 150 3) 1150 4) 100 5) 1000
199. முதலீட்டுப் பெருக்கி யாது?
 1) 4 2) 5 3) 3 4) 2 5) 1
200. எளிய பொருளாதாரமொன்றின் வருமானப் பெருக்கியும் மூடிய பொருளாதாரமொன்றின் வருமானப் பெருக்கியும் ஏன் சமனாகக் காணப்படுகின்றது?
 1) தூண்டப்பட்ட வரி காணப்படுகின்றமை.
 2) நிலையான வரி காணப்படுகின்றமை.
 3) முதலீடும் வரியும் சமனாக காணப்படுகின்றமை.
 4) $S = I$ ஆக உள்ளமை.
 5) எல்லை வரி நாட்டம் (MPT) காணப்படுகின்றமை.

விடைகள்

வினா இல	தேர்ச்சி 01	தேர்ச்சி 02	தேர்ச்சி 03	தேர்ச்சி 04	தேர்ச்சி 05
01	4	2	1	3	2
02	5	3	5	2	3
03	3	1	2	1	1
04	3	1	4	4	3
05	2	5	3	5	4
06	5	5	3	4	3
07	4	2	3	5	3
08	2	1	1	1	1
09	4	5	4	3	2
10	2	5	4	4	4
11	2	3	2	5	2
12	2	4	4	4	3
13	4	1	3	1	1
14	3	1	2	2	5
15	4	1	1	4	4
16	4	2	1	2	4
17	2	1	3	1	3
18	5	1	4	2	4
19	4	3	3	3	4
20	4	4	2	3	3
21	4	3	4	1	5
22	4	1	3	4	3
23	4	5	4	5	3
24	3	3	3	1	3
25	2	5	5	4	1
26	1	2	3	2	5
27	4	3	2	1	2
28	4	2	2	5	3
29	4	2	4	2	4
30	3	4	1	3	3
31	4	5	2	2	4
32	4	5	3	3	3
33	2	2	2	3	2
34	3	1	5	1	3
35	3	1	2	2	3
36	3	1	2	2	2
37	1	3	1	1	4
38	2	4	1	4	3
39	2	1	3	4	2
40	3	4	4	3	2
41	1	2	1	4	4
42	2	2	4	1	5
43	5	2	2	5	1
44	3	3	4	1	3
45	4	3	5	3	4
46	4	3	1	5	4
47	1	3	4	3	2
48	1	2	2	2	1
49	5	3	4	2	3
50	4	1	3	3	4

வினா இல	தேர்ச்சி 01	தேர்ச்சி 02	தேர்ச்சி 03	தேர்ச்சி 04	தேர்ச்சி 05
51	4	2	1	5	2
52	1	2	3	1	2
53	2	1	2	3	4
54	3	3	2	5	5
55	2	2	2	4	5
56	4	5	5	1	2
57	5	1	1	5	4
58	2	1	1	2	5
59	3	4	2	4	2
60	2	2	4	5	4
61	4	4	2	4	5
62	3	1	5	5	1
63	5	2	4	5	2
64	3	5	3	1	3
65	1	4	4	3	3
66	4	5	5	5	3
67	1	2	2	2	4
68	3	3	3	1	5
69	2	4	2	3	3
70	4	2	3	4	4
71	2	5	2	3	5
72	5	2	3	2	2
73	2	3	2	3	4
74	4	4	2	5	5
75	3	4	5	4	5
76	1	2	2	3	3
77	1	5	5	4	2
78	4	1	1	3	4
79	3	4	4	4	3
80	4	2	5	2	5
81	2	2	3	1	4
82	5	2	2	5	1
83	1	3	4	4	4
84	2	1	4	1	3
85	5	5	4	4	3
86	3	4	5	3	3
87	4	5	4	1	4
88	3	5	4	3	2
89	3	4	3	4	1
90	4	2	3	1	5
91	4	4	4	3	4
92	2	2	2	5	1
93	1	1	2	4	3
94	5	1	1	3	2
95	5	4	1	2	2
96	5	1	2	3	3
97	3	5	3	4	4
98	2	4	5	3	5
99	4	4	3	3	4
100	1	1	5	1	3

விடைகள்

வினா எண்	தேர்ச்சி 01	தேர்ச்சி 02	தேர்ச்சி 03	தேர்ச்சி 04	தேர்ச்சி 05
101	3	2	1	2	1
102	2	1	5	2	3
103	4	3	4	4	4
104	1	2	3	5	4
105	5	1	2	3	3
106	3	4	1	2	2
107	2	5	4	2	4
108	3	3	5	2	3
109	4	3	4	5	3
110	1	2	2	1	5
111	4	4	4	3	5
112	4	4	4	3	1
113	2	4	3	3	4
114	5	1	1	2	5
115	2	4	5	4	3
116	1	2	2	2	5
117	5	3	2	5	2
118	2	1	5	5	4
119	4	4	3	4	5
120	1	1	3	1	5
121	2	2	3	3	3
122	2	3	3	1	3
123	5	3	5	5	1
124	3	5	2	2	5
125	5	4	1	1	2
126	3	5	5	1	2
127	2	3	5	4	1
128	5	4	2	4	5
129	2	3	1	4	2
130	3	4	3	5	5
131	4	2	4	1	5
132	4	2	4	4	1
133	5	2	3	3	3
134	1	1	4	2	1
135	2	5	2	3	2
136	3	3	5	3	2
137	4	5	3	1	1
138	3	5	5	1	4
139	2	1	4	4	2
140	5	3	3	1	4
141	1	3	3	2	5
142	3	3	4	5	2
143	1	2	3	3	5
144	2	4	5	5	2
145	5	4	1	3	5
146	5	3	1	5	5
147	3	2	3	5	2
148	1	1	4	4	1
149	2	2	2	3	5
150	5	3	5	5	5

வினா எண்	தேர்ச்சி 01	தேர்ச்சி 02	தேர்ச்சி 03	தேர்ச்சி 04	தேர்ச்சி 05
151	4	3	3	3	5
152	1	2	3	2	3
153	4	4	3	2	1
154	4	2	5	1	5
155	1	3	2	1	1
156	4	1	4	2	1
157	3	5	4	5	5
158	3	2	4	5	1
159	2	5	1	4	-
160	2	1	4	3	1
161	5	5	4	2	3
162	3	3	4	4	4
163	2	5	4	2	1
164	3	1	1	4	2
165	5	2	2	5	1
166	3	1	4	5	5
167	3	5	5	4	4
168	5	2	3	2	3
169	5	2	1	1	3
170	3	4	4	5	1
171	3	1	5	2	4
172	1	4	5	1	3
173	4	1	5	2	2
174	4	4	2	1	1
175	1	1	4	2	3
176	1	1	1	4	1
177	3	5	2	5	2
178	4	4	4	1	2
179	5	3	4	4	4
180	2	2	4	4	4
181	3	4	1	1	1
182	5	5	3	1	2
183	1	5	2	4	5
184	4	2	2	4	5
185	4	4	2	2	3
186	2	1	2	3	3
187	5	4	3	3	3
188	5	1	5	3	2
189	5	2	2	3	1
190	2	5	1	3	4
191	4	3	3	2	2
192	3	3	3	3	4
193	5	1	2	2	2
194	2	4	3	4	5
195	1	4	4	5	2
196	2	2	5	5	3
197	1	1	2	4	3
198	3	1	4	3	1
199	2	4	4	2	2
200	4	1	3	3	2

[The page contains extremely faint, illegible text, likely bleed-through from the reverse side of the document. The text is arranged in approximately 15 horizontal lines across the page.]

கீர்நொச்சு கல்வீ வலயத்தீன் யொருளியல் பாட வளவாளாக
 வீளாங்கும் தீரு. M.C சதாசரன் யொருளியல் பாடத்துறைமீல்
 தீர்ந்த ஓசீரியாக வீளாங்குதீன்றார். இவர் கற்பீத்த
 பாடசாலைகளீலும் தனீயார் கல்வீ நீறுவனாங்களீலும் பல
 மாணவர்களை முன்னணீயீ பெறுபெறுகளைப் பெறுசீ செய்வதீல்
 பெரீதும் பாங்காற்றீயுள்ளார். யாழ்ப்பாணப் பல்கலைக்கழகத்தீன்
 வணீகப் பீடதாரீயான இவர் பீடப்பீன் கல்வீ டீபீளோமா பீடத்தையும் பெற்றுள்ளார்.
 ஓத்தூடன் யொருளியல் பாடத்தீல் முதாமாணீயீ பீடப்பீடிப்பை நீறைவு செயீயும்
 நீலையீலும் ஁ள்ளார். மாணவர்களதூ கற்றல் நோக்கீய செயற்பாட்டீளை
 தீசைப்படுத்தும் வகையீல் இந்நூலை ஓக்கீயளீத்துள்ளார். இந்நூல்
 மாணவர்களீன் சய கற்றலுக்கும் சய மதீயீடிற்றும் ஓரு தூணைசீ சாதனமாக
 வீளாங்குவதூடன் சரீவரக் கற்பதனீ மூலம் பரீசைமீல் ஁யார் புள்ளீகளைப் பெறுமுடியும்.
 மாணவர்கள் பரீசை மையத்தீல் வீடையெழுதுவதற்கான வழீயடுத்தலைசீ செயீயும்
 வகையீல் இந்நூலை ஓக்கீயளீத்தமைக்காக ஓசீரியருக்கு எனது பாராட்டுக்களையும்
 ஓதரீவீத்துக் கொள்ளுகனீன்றீன்.



தீரு. ச.ஸ்ரீகுமரன் SLEAST III

B.A. Dip in Edu, Com. Trd, M.Ed

பீரூத கல்வீயீ பணீயாளார் (க/ஓ)

வலயக் கல்வீ ஓலுவலகம்,

கீர்நொச்சு.

20.07.2014



சாயீரம் பீறீண்டீள், சங்காணை.