

யாழ் வட்டம்

2014-15

புலமைப்பரிசில் வழிகாட்டி



யாழ். பிரபல
புலமைப்பரிசில் ஆசிரியர்களின்
கூட்டுமுயற்சி



வெளியீடு:

“பொற்கமலதேவி வாசா”
புதிய செங்குந்த வீதி,
திருநெல்வேலி கிழக்கு,
யாழ்ப்பாணம்.

புலமைப்பரிசில் வழிகாட்டி

கொழும்புத் தமிழ்ச் சங்கம்
நூலகம்

- 20 மாதிரி வினாத்தாள்கள் விடைகளுடன்
- புலமைப்பரிசில் மாணவர்களுக்கான விடயங்கள், படங்கள்

கொழும்புத் தமிழ்ச் சங்கம்
நூலகத்திலிருந்து நீக்கப்பட்டது

யாழ். பிரபல புலமைப்பரிசில்
ஆசிரியர்களின் கூட்டுமுயற்சி

வெளியீடு:

“பொற்கமலதேவி வாசா”
புதிய செங்குந்த வீதி,
திருநெல்வேலி கிழக்கு,


யாழ்ப்பாணம்.

Digitized by Noolaham Foundation.
noolaham.org | aavanaham.org



சென்னை
பதிவு எண்

1948



மாணவர்களைப் பாடசாலைகளுக்குத் தேர்ந்தெடுப்பதற்கும் மாணவர்களுக்கு உதவிப்பணம் வழங்குவதற்கும்
ஐந்தாம் தர மாணவர்களுக்கு நடாத்தப்படும் மாதிரிப் பரீட்சை

MODEL EXAMINATION FOR YEAR FIVE STUDENTS FOR SELECTION TO SCHOOLS AND FOR THE AWARD OF BURSARIES

கூட்டெண் :

வினாப்பத்திரம் I

நேரம் : 45 நிமிடம்

எல்லா வினாக்களுக்கும் இத்தாளிலேயே விடையளிக்க.

D100111

- 1 ஆம் 2 ஆம் வினாக்களில் கூட்டிலுள்ள இரு எண்களுக்குப் பதிலாக ஈடுபடுத்தக்கூடிய எண்களின் தொகுதியைத் தெரிவு செய்க.

01. $20 + \boxed{10 + 7} = 37$

1. $\boxed{20 - 3}$

2. $\boxed{6 + 10}$

3. $\boxed{30 - 10}$

4. $\boxed{17 - 10}$

02. $1 + \boxed{6 - 3} = 4$

1. $\boxed{30 - 10}$

2. $\boxed{30 - 15}$

3. $\boxed{30 - 27}$

4. $\boxed{10 - 3}$

- தரப்பட்டுள்ள வினாக்களிற்கு மிகச்சரியான விடையின் கீழ்க் கோடிடுக.

03. தேசியக் கொடியில் உள்ள பச்சை நிறம் குறிப்பது

1. முஸ்லீம்கள்

2. தமிழர்

3. பறங்கியர்

4. சிங்களவர்

04. மாலைக்கண் நோய் ஏற்படுவதற்கு எந்த உயிர்ச்சத்துக் குறைவு காரணம்?

1. விற்றமின் E

2. விற்றமின் A

3. விற்றமின் C

4. விற்றமின் K

05. தாய் தன் குழந்தையை காத்து வந்தாள்.

1. கீரியும் பாம்பும் போல

2. கண்ணை இமை காப்பது போல

3. பசுமரத்தாணி போல

4. நகமும் சதையும் போல

06. தமிழ் இலக்கியப் பரப்பில் திருவள்ளுவரின் பெருமை விளங்குகிறது.

1. பசுமரத்தாணி போல

2. உள்ளங்கை நெல்லிக்கனி போல

3. குன்றிட்டதீபம் போல

4. நீர்மேல் எழுத்துப் போல

07. நீரைச் சுத்திகரிக்கும் முறை அல்லாதது.

1. வடிகட்டுதல்

2. கொதிக்க வைத்தல்

3. குளோரின் இடுதல்

4. போத்தலில் அடைத்தல்

08. திரவநிலையிலுள்ள உலோகம்

1. இரசம்

2. தங்கம்

3. இரும்பு

4. அலுமினியம்

09. வாரியிறைத்தல் என்னும் மரபுத்தொடரின் பொருள் என்ன?

1. தண்ணீர் ஊற்றுதல்

2. உதவி செய்தல்

3. அள்ளிக் கொடுத்தல்

4. ஏமாற்றுதல்

10. மிகவும் சிறிய இலக்கம்

1. 99990

2. 99009

3. 9995

4. 99999

11. $\frac{7}{12} = \frac{\square}{96}$ கூட்டினுள் வரவேண்டிய எண்ணை எழுதுக.

1. 56

2. 53

3. 63

4. 70

12. உயிர் எழுத்துள்ள தொகுதியின் கீழ் கோடிடுக.

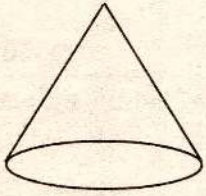
1. க், ச், ட், த்

2. க, சி, சு, க, கெ

3. கை, மை, க், சி

4. அ, ஆ, இ, ஈ

● படத்தைப் பார்த்து விடை எழுதுக.



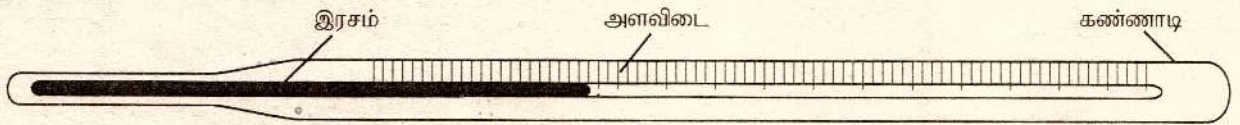
13. இவ்வுருவின் பெயர் யாது?

14. இதற்கு எத்தனை முகங்கள் உள்ளன?

15. இதற்கு எத்தனை விளிம்புகள் உள்ளன?

16. இதற்கு எத்தனை உச்சிகள் உள்ளன?

● படத்தை அவதானித்து புள்ளிக்கோட்டில் எழுதுக.

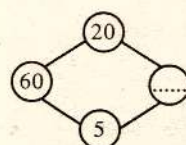
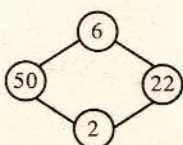
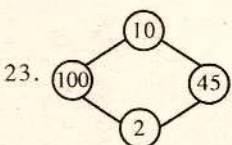
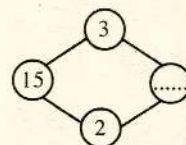
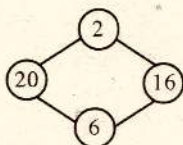
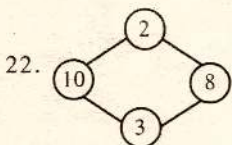
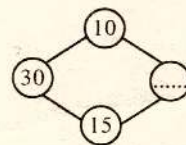
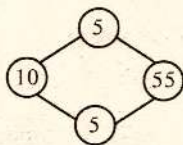
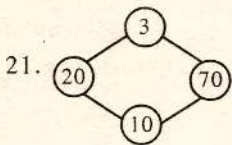
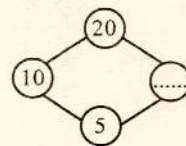
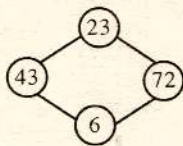
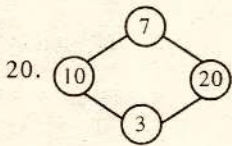


17. இதன் பெயர் யாது?

18. இதை எதற்காகப் பயன்படுத்துகிறார்கள்?

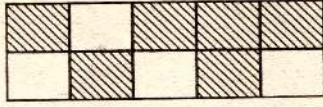
19. ஒரு சாதாரண மனிதனின் உடல் வெப்பநிலையை செல்சியசில் தருக.

● பின்வரும் கோலத்திற்கேற்ப இடைவெளியைப் பூர்த்தி செய்க.

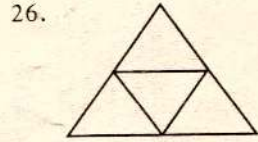


● பின்வரும் வினாக்களுக்குரிய விடையைப் புள்ளிக்கோட்டில் எழுதுக.

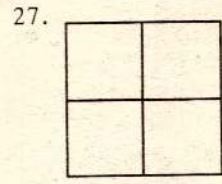
24. நிழற்றப்படாத பின்னத்தை எழுதுக.



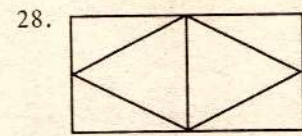
25. தீர்க்குக. $\frac{5}{10} + \frac{3}{10} = \dots\dots\dots$



இதில் எத்தனை முக்கோணிகள் உள்ளன?



இதில் எத்தனை சதுரங்கள் உள்ளன?



இதில் எத்தனை செங்கோண முக்கோணிகள் உள்ளன?

● பின்வரும் வினாக்களுக்கு புள்ளிக்கோட்டின் மீது விடை எழுதுக.

29. புல் என்பதன் பன்மைச் சொல்
30. கணவனை இழந்தவள் விதவை, மனைவியை இழந்தவன்
31. ஆலும் வேரும் பல்லுக்குறுதி நாலும் இரண்டும் உறுதி.
32. இலங்கையின் தற்போதைய கல்வியமைச்சர் யார்?
33. பி. ப. 3.50 இதை நியமநேரத்தில் எழுதுக.

● பின்வரும் வினாக்களுக்குரிய விடையை புள்ளிக்கோட்டில் எழுதுக.

34. மிகவும் பெறுமதியுள்ள உலோகம்
1. வெள்ளி 2. இரும்பு 3. பித்தளை 4. பிளாட்டினம்
35. முள்ளந்தண்டு இல்லாத பிராணி
1. எலி 2. மண்புழு 3. ஆடு 4. யானை
36. ஆணிவேர் இல்லாத தாவரம்
1. கமுகு 2. பலா 3. வேம்பு 4. கொய்யா
37. இலங்கைக்கு அருகில் உள்ள நாடு
1. இந்தியா 2. தென்ஆபிரிக்கா 3. அமெரிக்கா 4. நியூசிலாந்து
38. உலகில் பெரிய தீவு
1. அவுஸ்திரேலியா 2. இந்தியா 3. கிறீன்லாந்து 4. நெடுந்தீவு
39. இலங்கையில் உள்ள அழகான மாகாணம்
1. மத்திய மாகாணம் 2. வட மாகாணம் 3. கிழக்கு மாகாணம் 4. மேல் மாகாணம்
40. உலகில் உயரமான மலைச்சிகரம்
1. பேதுறுதாலகாலமலை 2. இமயமலை 3. எவரெஸ்ட் மலை 4. சிவனொலிபாதமலை

உலகில் உலகில் உலகில்

- உலகில் அதிகம் பேசப்படும் மொழிகள் எவை?
மண்டாரின் (சீனமொழி),
- உலகில் மிக நீளமான தெரு உள்ள நாடு எது?
கனடா
- உலகில் உயர்ந்த மலைச்சிகரம் எது?
எவரெஸ்ட் (இமயமலை)
- உலகில் சனத்தொகை கூடிய நகரம் எது?
டோக்கியோ
- உலகில் மிகப்பெரிய ஜனநாயகநாடு எது?
இந்தியா
- உலகில் மிகப் பெரிய கம்யூனிசநாடு எது?
சீனா
- உலகில் சிறிய தேசிய கீதம் எது?
யப்பான் (4 வரிகள்)
- உலகில் மிக நீளமான மலை எது?
அந்திஸ் மலை (4500 மைல் நீளம்)
- உலகில் மிகப் பெரிய கடல் எது?
மத்திய தரைக்கடல்
- உலகில் மிக ஆழமான பகுதி எது?
மரியானா ஆழி. பசுபிக் சமுத்திரம்
- உலகில் மிகப்பெரிய தீவு எது?
கிறின்லாந்து
- உலகில் அதிக மழைவீழ்ச்சி பெறும் இடம் எது?
சீராப்புஞ்சி - இந்தியா 429 அங்குலம்
- உலகில் மிக உயரமான அணை எது?
போல்டர் அணை - அமெரிக்காவில் கொலராடோ நகரில் உள்ளது.
- உலகில் மிகப்பெரிய பிளாட்டின சுரங்கம் உள்ள நாடு எது?
தென் ஆபிரிக்கா
- உலகில் மிகப் பெரிய அஞ்சல்துறை உள்ள நாடு எது?
இந்தியா
- உலகில் பெரிய காடு எது?
தென் அமெரிக்காவில் உள்ள அமேசன் காடு
- உலகில் முதலாவது பெண் ஜனாதிபதி யார்?
இசுபெல் பெரான் (ஆர்ஜன்டினா)
- உலகில் மிகச் சிறிய கடற்கரை உள்ள நாடு எது?
மொரொக்கோ (5.5 km நீளம்)
- உலகிலே மிகக்குறைந்த ராணுவவீரர்களைக் கொண்ட நாடு எது?
அண்டிகுவா, 150 பேர்
- உலகில் பெரிய புகையிர நிலையம் எது?
நியூயோர்க்கில் உள்ள கிராண்ட் சென்ட்ரல் டிட்மினல் (42 பிளட் போம்கள்)
- உலகில் தீவுகள் அதிகம் உள்ள கண்டம் எது?
ஐரோப்பா
- உலகில் மிகப்பெரிய துறைமுகம் உள்ள நாடு எது?
நியூயோர்க் (அமெரிக்கா)
- உலகில் பெரிய கால்பந்து மைதானம் உள்ள இடம் எது?
பிரேசில் (ரியோடி ஜெனீரா)

மாணவர்களைப் பாடசாலைகளுக்குத் தேர்ந்தெடுப்பதற்கும் மாணவர்களுக்கு உதவிப்பணம் வழங்குவதற்கும் ஐந்தாம் தர மாணவர்களுக்கு நடாத்தப்படும் மாதிரிப் பரீட்சை

MODEL EXAMINATION FOR YEAR FIVE STUDENTS FOR SELECTION TO SCHOOLS AND FOR THE AWARD OF BURSARIES

சுட்டெண் :

வினாப்பத்திரம் II

நேரம் : 1 மணி 15 நிமிடம்

எல்லா வினாக்களுக்கும் இத்தாளிலேயே விடையளிக்க.

D100112

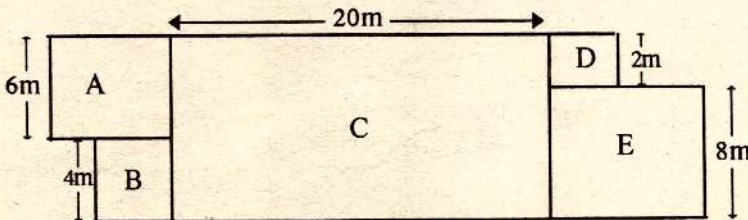
● பின்வரும் பாடலை வாசித்து கீழுள்ள வினாக்களுக்கு விடை அளிக்க.

குயிலின் இனிய குரலினிலே
மயிலின் நடன அரங்கினிலே
மறைந்தே இறைவன் இருக்கின்றான்
மகிழ்வுடன் உலகைக் காண்கின்றான்.

தென்றல் காற்றின் இனிமையிலே
தேனாம் நிலவின் தனிமையிலே
கலந்தே இறைவன் இருக்கின்றான்
கருத்துடன் உலகைக் காக்கின்றான்.

01. கருத்துடன் உலகைக் காப்பவர் யார்?
02. மகிழ்ச்சி என்ற சொல்லின் ஒத்த கருத்துச் சொற்கள் 3 தருக.
1. 2. 3.
03. மயில் யாது செய்கிறது?
04. “இறைவன் இயற்கை எழில் எங்கும் நிறைந்துள்ளவன்” எனும் கூற்று சரியானதா?
05. இறை நம்பிக்கை அற்றவன் யார்?
1. ஆத்திகள் 2. நாத்திகள் 3. நம்பிக்கையினன்
06. பாடலில் உள்ள பெயர்ச்சொற்கள் 2 தருக.
1. 2.
07. பாடலில் உள்ள வினைச்சொற்கள் 2 தருக.
1. 2.
08. “மறைந்தே” எனும் சொல் பெயர் அடைமொழியா? வினை அடைமொழியா?
.....

● பின்வரும் படத்தைப் பார்த்து வினாக்களுக்கு விடை தருக.

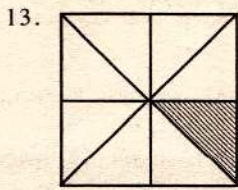


குறிப்பு : A, B, D, E என்பன சதுரங்களாகும்.

09. A யின் சுற்றளவு யாது?
10. B யின் பரப்பளவு யாது?

11. A, C ஆகிய இரண்டினதும் மொத்த பரப்பளவு யாது?

12. முழு உருவின் சுற்றளவு யாது?

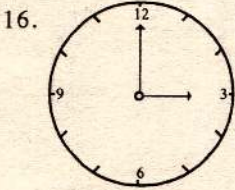


இவ்வுருவில் நிழற்றப்படாத பகுதியின் பின்னத்தை எழுதுக.



14. இவ்வுருவின் பெயர் யாது?

15. இதற்கு எத்தனை முகங்கள் உள்ளன?





இந்த நேரத்தை முகம்பார்க்கும் கண்ணாடியில் பார்த்தால் தெரியும் நேரம் யாது?


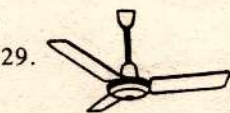


17. 00 : 05 h இதை சதாரண நேரத்தில் எழுதுக.

18. $10.75 - 1.36 =$ வெற்றிடத்தில் வரவேண்டிய இலக்கத்தை எழுதுக.

● பின்வரும் படங்களின் பெயர்களை ஆங்கிலத்தில் எழுதுக.



● பின்வரும் படங்களின் பெயர்களை சிங்களத்தில் எழுதுக.



● அட்டவணையைப் பார்த்து வினாக்களுக்கு விடை தருக.

வகுப்பு	மாணவர் தொகை	
	ஆண்	பெண்
தரம் 1	18	22
தரம் 2	20	20
தரம் 3	15	25
தரம் 4	27	13
தரம் 5	20	15
தரம் 6	18	17
தரம் 7	10	25

- * தரம் 1, 2 என்பவை முதன்மைநிலை ஒன்று.
- * தரம் 3, 4 என்பவை முதன்மைநிலை இரண்டு.
- * தரம் 5 முதன்மைநிலை மூன்று.
- * தரம் 1, 2, 3, 4, 5 ஆரம்பப் பிரிவில் அடங்கும்.

31. முதன்மைநிலை ஒன்றில் எத்தனை ஆண்பிள்ளைகள் உள்ளனர்?
32. முதன்மைநிலை இரண்டில் உள்ள மொத்தப் பிள்ளைகள் எத்தனை பேர்?
33. முதன்மைநிலை மூன்றில் உள்ள பெண்பிள்ளைகள் எத்தனை பேர்?
34. ஆரம்பப் பிரிவில் மொத்தம் எத்தனை பிள்ளைகள் உள்ளனர்?
35. தரம் 6, தரம் 7 ஆகியவற்றில் மொத்தம் உள்ள பெண்பிள்ளைகள் எத்தனை?
36. இவ்வட்டவணையில் உள்ள மொத்த ஆண்பிள்ளைகள் எத்தனை?

● பின்வரும் சொற்களை வைத்து இடைவெளி நிரப்புக.

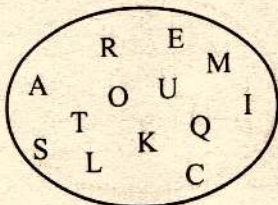
நிருபர், விதவை, விமர்சகர், வலவன், பாகன்

37. ஊடகம் ஒன்றிற்கு செய்தி சேகரிப்பவர்
38. ஆக்கம் ஒன்றின் குறைநிறைகளை எடுத்துக் கூறுபவர்
39. கணவனை இழந்த பெண்
40. தேர் செலுத்துபவன்
41. விமானம் செலுத்துபவன்

● பின்வருவனவற்றைத் தொடர்புபடுத்துக.

- | | |
|--------------|----------------|
| 42. மயில் | குறுகுறுக்கும் |
| 43. புறா | பிளிறும் |
| 44. எருது | உறுமும் |
| 45. தேவாங்கு | அகவும் |
| 46. புலி | கர்ச்சிக்கும் |
| 47. சிங்கம் | அழும் |
| 48. யானை | முக்காரமிடும் |

● பின்வரும் ஆங்கில எழுத்துத் தொகுதியினை வைத்து விடை எழுதுக.



49. இதில் உள்ள ஆங்கில உயிர் எழுத்துக்களை எழுதுக.

50. இதில் "C" இல் ஆரம்பிக்கும் பிராணி ஒன்று குழம்பியுள்ளது. அது எது?

51. "சாப்பிடுதல்" இதற்கான ஆங்கிலச்சொல் குழம்பியுள்ளது. அது எது?

- பின்வரும் எண்களின் தொகுதியினை வைத்து விடை எழுதுக.

1	3	8
4	9	10
5	2	7
6		

52. இதிலுள்ள ஒற்றை எண்களை எழுதுக.

.....

53. இதிலுள்ள இரட்டை எண்களை எழுதுக.

.....

- கடையொன்றில் இலக்கங்களுக்குப் பதிலாக ஆங்கில எழுத்துக்களில் விலைகள் குறிக்கப்பட்டிருந்தது. அதன் விபரம் வருமாறு :

0	1	2	3	4	5	6	7	8	9
P	Q	R	S	T	U	V	W	X	Y

54. ரூபா 27.30 ஐக் குறியீட்டில் எழுதுக.

55. RPP.SU இதை இலக்கத்தில் எழுதுக.

56. $SY - QR = \dots? \dots$ இங்கே வெற்றிடத்தில் வரவேண்டிய எழுத்துக்கள் எவை?

57. $4350 + 3740 = \dots$ வெற்றிடத்தில் வரவேண்டிய இலக்கத்தை ஆங்கிலக் குறியீட்டில் வெற்றிடத்தில் எழுதுக.

58. $RP \div U = \dots? \dots$ இதில் வரவேண்டிய ஆங்கில எழுத்து யாது?

59. $UP \times QP = \dots? \dots$ இதில் வரவேண்டிய ஆங்கில எழுத்துக்கள் எவை?

- பின்வரும் அட்டவணையிலுள்ள இடைவெளிகளை நிரப்புக.

முன்னுள்ள இலக்கம்	இலக்கம்	பின்னுள்ள இலக்கம்
60.	4002
61.	7000
62.	3799
63.	4648
64.	9999

- “நான் ஒரு கணினி” எனும் தலைப்பில் ஆறு வாக்கியங்கள் எழுதுக.

(ஒவ்வொரு வாக்கியங்களும் நான்கு சொற்களுக்குக் குறையாமல் இருத்தல் வேண்டும். இவ்வாக்கியங்களின் எழுவாய், பயனிலைத் தொடர்பு திருத்தமனாதாக அமைதல் வேண்டும்.)

65.

66.

67.

68.

69.

70.

மாணவர்களைப் பாடசாலைகளுக்குத் தேர்ந்தெடுப்பதற்கும், மாணவர்களுக்கு உதவிப்பணம் வழங்குவதற்கும்
ஐந்தாம் தர மாணவர்களுக்கு நடாத்தப்படும் மாதிரிப் பரீட்சை

MODEL EXAMINATION FOR YEAR FIVE STUDENTS FOR SELECTION TO SCHOOLS AND FOR THE AWARD OF BURSARIES

சுட்டெண் :

வினாப்பத்திரம் I

நேரம் : 45 நிமிடம்

எல்லா வினாக்களுக்கும் இத்தாளிலேயே விடையளிக்க.

D 100121

● மிகச்சரியான சொல்லின் கீழ்க் கீறிடுக.

01. கண்களில் இருந்து கண்ணீர் (மளமள, வளவள, பொலபொல) என்று வடிந்தது.
02. நீரோடையில் இருந்து நீர் (சலசல, கலகல, சில்சில்) என்று ஓடியது.
03. கால்களின் கொலுசுகள் (ஐல்ஐல், டிங்டிங், டக்டக்) என்று ஒலித்தது.
04. வகுப்பறையில் மாணவர்கள் (வளவள, கலகல, கழகழ) என்று சிரித்தனர்.
05. கள்வனிடம் பொலிஸ் அதிகாரி (வினவிவினவி, நச்சரித்து, துருவித்துருவி) கேள்வி கேட்டார்.

● தரப்பட்டுள்ள சொல்லுடன் விடைகளில் உள்ள ஒரு சொல் வித்தியாசப்படுகிறது. அவ்வாறு வித்தியாசப்படும் சொல்லைத் தெரிவு செய்க.

06. சூரியன் - வியாழன், ஞாயிறு, ஆதவன், பகலவன்
07. தேன் - எறும்பு, வண்ணத்துப்பூச்சி, தேனீர், வண்டு
08. கிளி - புறா, பூனை, கோழி, காகம்
09. தலை - சிரசு, நுனி, உடம்பு, முதல்
10. மழை - காலநிலை, குளிர், கோடை, வெயில்

● 11 - 15 வரையான வினாக்களுக்கு தரப்பட்ட தரவுகளை வைத்து அது குறிக்கும் பழமொழியைத் தெரிந்து அதன் கீழ்க் கோடிடுக.

11. வீண்செலவு செய்தாலும், அக்கணக்கையும் அறிந்திருத்தல் நன்று.
 - I. பாத்திரமறிந்து பிச்சையிடு
 - II. ஆற்றிலே போட்டாலும் அளந்து போடு
 - III. விரலுக்குத் தக்கது தான் வீக்கம்
12. கிடைக்கும் சந்தர்ப்பத்தைப் பயன்படுத்திக்கொள்ள வேண்டும்.
 - I. காற்றுள்ள போதே தூற்றிக்கொள்
 - II. ஐயர் வருகிற வரை அமாவாசை காத்திருக்குமா?
 - III. ஆரியக்கூத்தாடினாலும் காரியத்தில் கண்ணாயிரு.
13. உள்ளதை உள்ளபடி சொன்னால் பலரைப் பகைத்துக்கொள்ள வேண்டி வரும்.
 - I. ஊர்வாயை முட உலை முடி இல்லை.
 - II. கெடுகுடி சொற்களாது.
 - III. யதார்த்தவாதி வெகுசன விரோதி.

14. திரும்பத்திரும்ப முயற்சி செய்தால் நினைத்ததை அடைந்துவிடலாம்.

- I. அடிமேல் அடிவைத்தால் அம்மியும் நகரும்
- II. இட்டுக்கேட்டார் எங்குமில்லை
- III. ஆனைக்கும் அடி சறுக்கும்

15. பலதடிகளை முறிப்பதை விட ஒரு தடியை முறிப்பது இலகு.

- I. கூடி வாழ்ந்தால் கோடி நன்மை
- II. ஆழமறிந்து காலை விடு
- III. அடம்பன் கொடியும் திரண்டால் மிடுக்கு

● சரியான சொல்லின் கீழ்க் கீறிடுக.

16. யானைக்கால் நோய் பரவக்காரணம்

- I. மலேரியா
- II. அனோபிலஸ்
- III. கியூலக்ஸ்

17. குட்டி ஈன்று பால் கொடுக்கும் பிராணி

- I. வெளவால்
- II. புறா
- III. கோழி

18. நுளம்பினால் பரவும் நோய்

- I. நெருப்புக்காய்ச்சல்
- II. வயிற்று வலி
- III. டெங்கு

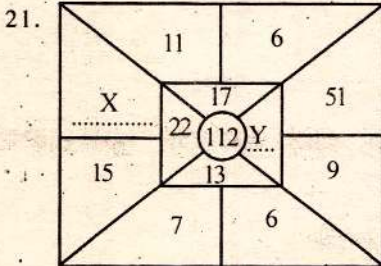
19. பறவைகள் பறப்பதற்கு உதவுபவை

- I. சிறகு
- II. கால்
- III. அலகு


20. குட்டி ஈனும் பிராணி

- I. வாத்து
- II. குரங்கு
- III. தேனீ

● கீழே தரப்பட்டுள்ள கூடுகளில் உள்ள எண்களுக்கிடையிலான தொடர்பினை விளங்கிக் கொண்டு வெற்றிடங்களை நிரப்புக.



- I. X
- II. Y



- I. A
- II. B

● கீழே உள்ள வசனங்கள் ஒழுங்குமாறுபட்டுக் காணப்படுகின்றன. இதை ஒழுங்கு முறைப்படி காட்ட அதன் எதிரே உள்ள கூட்டினுள் ஒழுங்குமுறைப்படி இலக்கங்களைக் குறிப்பிடுக.

23. A - என்று அம்மா கூப்பிட்டாள்.

B - இருவரும் படிக்கத் தொடங்கினர்.

C - அக்கா, தங்கை இருவரும் விளையாடிக் கொண்டிருந்தனர்.

D - விளையாடியது போதும் வந்து படியங்கள்.

E - அவர்கள் முகம் கைகால் கழுவினர்.

24. P - மாதிரி வினாத்தாள்களை செய்து பார்த்தான்.

Q - பரீட்சையை சிறப்பாக எழுதினான்.

R - மாதவன் கண்விழித்துப் படித்தான்.

S - பரீட்சையில் சிறந்த பெறுபேறுகளைப் பெற்றான்.

T - மாதவன் படிப்பில் ஆர்வமுடையவன்.

25. J - அதுமட்டுமன்றி உழைப்பும், முயற்சியும் வேண்டும்.

K - செய்யும் தொழிலே தெய்வமாகும்.

L - வியாபாரம் செய்ய, முதல் ஒன்று தேவை.

M - இப்படி நடந்தால் வாழ்க்கையில் முன்னேறலாம்.

N - எல்லாம் சரியாக நடந்தால் நன்றாக உழைக்கலாம்.

● பின்வரும் தீர்வுகளை விளங்கிக் கொண்டு வினாக்களிற்கு விடை தருக.

$$\begin{array}{r} A L S \\ + A L S \\ \hline 264 \end{array} \quad \begin{array}{r} S R F \\ - A S L \\ \hline 134 \end{array} \quad \begin{array}{r} F S L \\ - S A S \\ \hline 511 \end{array} \quad L \times F = ?$$

26. A யின் பெறுமதி என்ன?

27. S இன் பெறுமதி என்ன?

28. R இன் பெறுமதி என்ன?

29. L இன் பெறுமதி என்ன?

30. இறுதித் தீர்வின் பெறுமானம் யாது?

● கீழ்வரும் வினாக்களுக்கு மரபுச் சொற்களை வைத்து இடைவெளிகளை நிரப்புக.

31. அவரையின் உள்ளீடு பருப்பு என்பதுபோல நெல்லின் உள்ளீடு

32. தென்னையின் இலை ஓலை என்பதுபோல கரும்பின் இலை

33. கமுதையின் மலம் விட்டை என்பதுபோல பறவையின் மலம்

34. ஆடுமேய்ப்பவன் இடையன் என்பதுபோல யானைமேய்ப்பவன்

35. பேருந்து செலுத்துபவர் நடத்துநர் என்பது போல கப்பல் செலுத்துபவன்

● மிகச் சரியான விடையின் கீழ்க் கோடிடுக.

36. 8 m தூரத்திற்குச் சமனான இடைவெளியில் நடுவதற்கு 9 கம்பங்கள் தேவை. 24 m தூரத்திற்கு அதே சமனான இடைவெளியில் நட எத்தனை கம்பங்கள் தேவை?
- I. 27 II. 25 III. 19 IV. 24 கம்பங்கள்
37. 6 மணித்தியாலத்தில் எத்தனை நிமிடங்கள் உண்டு?
- I. 60 நிமிடங்கள் II. 360 நிமிடங்கள் III. 72 நிமிடங்கள் IV. 300 நிமிடங்கள்
38. சீதாவினதும் ரேகாவினதும் வயதுகளின் கூட்டுத்தொகை 36 ஆண்டுகள். சீதாவின் வயது ரேகாவின் வயதிலும் 3 மடங்கு அதிகம் எனின், ரேகாவின் வயது எத்தனை ஆண்டுகள்?
- I. 9 II. 7 III. 24 IV. 27
39. 1 kg சீனியின் விலை ரூபா 68.00 எனின், 375 g சீனியின் விலை என்ன?
- I. 34.00 II. 17.00 III. 35.50 IV. 25.50
40. ஜீவா வீடொன்றைக்காட்டி “இவ்வீட்டில் இருப்பவரின் மகளின் அப்பப்பா எனக்கு அப்பா” என்றார். வீட்டில் இருப்பவர் ஜீவாவிற்கு என்ன உறவு முறை?
- I. மாமி II. அம்மா III. சகோதரன் IV. சித்தப்பா

மாணவர்களைப் பாடசாலைகளுக்குத் தேர்ந்தெடுப்பதற்கும், மாணவர்களுக்கு உதவிப்பணம் வழங்குவதற்கும்
ஐந்தாம் தர மாணவர்களுக்கு நடாத்தப்படும் மாதிரிப் பரீட்சை

MODEL EXAMINATION FOR YEAR FIVE STUDENTS FOR SELECTION TO SCHOOLS AND FOR THE AWARD OF BURSARIES

சுட்டெண் :

வினாப்பத்திரம் II

நேரம் : 1 மணி 45 நிமிடம்

எல்லா வினாக்களுக்கும் இத்தாளிலேயே விடையளிக்க.

D 100122

● பின்வரும் பாடலை வாசித்து கீழே தரப்பட்டுள்ள வினாக்களுக்கு விடையளிக்க.

சுத்தம் சுகம் தரும்
காடும் வயலும் இந்நாளில்
கண்டபடிக்கு அழிவதுடன்
கூடும் குப்பை கூளங்களால்
குடிநீர் கெட்டு வருகிறதாம்

நல்ல காற்றை நமக்காக
நாளும் தருகிற நல்மரங்கள்
இல்லை யென்று ஆவதானால்
எங்கும் பசுமை அழிகிறதாம்

கோடிக் கணக்கில் சாலைகளில்
குதித்துப் பாயும் ஊர்திகளால்
ஓடிப் பரவும் நற்காற்று
உலகில் மாறி வருகிறதாம்

சுற்றுச் சூழல் எப்பொழுதும்
தூய்மையாக ஆனால் தான்
குற்றம் குறைகள் இல்லாமல்
கூடி வாழ வழி செய்யும்

ஆழகாளர்

01. காடு வயல் அழிவதால் இங்கு ஏற்படும் தீமைகளை குறிப்பிடுக.
02. தூய்மையாக சூழல் இருந்தால் எப்படி வாழ வழி செய்யும்?
03. முதலாவது வினாவில் குறிப்பிட்ட தீமைகள் எவற்றின் செயற்பாட்டினால் ஏற்படுகிறது?
.....
04. நல்ல காற்றை எமக்குத் தருவது எது?
05. ஊர்திகளின் எண்ணிக்கை இங்கு குறிப்பிடப்பட்டுள்ளது. அவ்வெண்ணிக்கை யாது?.....
06. குப்பை கூளங்களை நாம் அகற்றுவதற்கு சரியான வழி எது?
07. சுற்றுச்சூழல் எப்படி இருக்க வேண்டும்?
08. பின்வருவனவற்றைப் பிரித்து எழுதுக.

I. நல்மரங்கள்

II. நற்காற்று

09. பின்வரும் சொற்களின் ஒத்தக்கருத்து சொல்லை எழுதுக.

I. சாலைகள்

II. ஊர்திகள்

III. தூய்மை

IV. குற்றம்

10. ஆவது + ஆனால் என்பதைச் சேர்த்து எழுதுக.

● பின்வரும் சொற்கள் சரியாயின் (✓) எனவும், பிழையாயின் (x) எனவும் அடையாளமிடுக.

11. இலங்கையின் தற்போதைய பிரதமர் மங்களசமரவீர. (.....)

12. நங்கூரம் கடலில் கிடப்பதாகும். (.....)

13. இலங்கையின் தேசிய மரம் நாகமரமாகும். (.....)

14. பழவகையில் விற்றமின் D மட்டுமே உண்டு. (.....)

15. குளிர் பிரதேசத்திற்கு ஏற்ற உடை கம்பளி ஆகும். (.....)

● சரியான விடையின் கீழ்க் கீறிடுக.

16. காட்டுராஜாவாக குறிப்பிடப்படும் பிராணி

I. ஓநாய்

II. யானை

III. சிங்கம்

IV. கரடி

17. பறவைகளின் அழகாகக் கூடுகட்டும் பறவை

I. காகம்

II. கொக்கு

III. மைனா

IV. தூக்கணாங்குருவி

18. இலங்கையின் பிரதான தொழில்

I. விவசாயம்

II. நெசவு

III. தையல்

IV. இறப்பர்

19. எமது நாட்டின் புராதன தலைநகரம்

I. கண்டி

II. அநுராதபுரம்

III. கொழும்பு

IV. பொலநறுவை

20. நீரில் மிதக்கக் கூடிய ஒரு பொருள்

I. கல்

II. ஆணி

III. ரெஜிபோம்

IV. கடதாசி

● பின்வரும் சொற்கள் ஒவ்வொன்றிற்கும் சமமான ஆங்கிலச் சொல்லை எழுதுக.

21. நன்றி -

22. மலர் -

23. கிளி -

24. நீர் -

25. மரங்கள் -

● பின்வரும் பந்தியை வாசித்து கேட்கப்பட்ட வினாக்களுக்கு விடை தருக.

ஐயோ என்ன நடந்தது என்பிள்ளைக்கு இப்போதுதானே அம்மா சாப்பிடசோறுதா என்று கேட்டு விட்டு இப்படி உயிரற்ற உடலாய் இறக்கின்றானே

26. மேலுள்ள பந்தியில் உரிய இடத்தில் சரியான குறியீட்டை இட்டு பந்தியை மீண்டும் திருத்தி எழுதுக.

.....

.....

.....

.....

27. இப்படிப் புலம்பி அழுவது யார்?

28. உயிரற்ற உடல் என்பது எதனைக் குறிக்கும்?

29. இவ்விடயம் துக்ககரமானதா? அல்லது சந்தோசமானதா?

30. தாய் என்பதற்கு ஒத்தசொல் யாது?

● பின்வரும் ஆங்கிலச் சொல்லின் தமிழ்க்கருத்தை எழுதுக.

31. Mango -

32. Letter -

33. Road -

34. Lovely -

35. News -

● பின்வரும் வினாக்களுக்குச் சுருக்கமான விடை தருக.

36. இலங்கையில் மண் சரிவு ஏற்படும் இடம் எது?

37. நதிகள் இல்லாத நாடு எது?


38. சிகிரியா ஓவியம் யாரால் வரையப்பட்டது?

39. இலங்கையில் நேரம் 1.00 மணியாக இருந்தால் சவுதிஅரேபியாவில் என்ன நேரம்?

40. கசாப்புக்கடை எனப்படுவது யாது?

- ஒரு பழக்கடையில் விற்ற பழங்களின் விபரங்கள் பின்வருமாறு :
 அப்பிள் - 45 விளாம்பழம் - 5
 பப்பாசி - 20 திராட்சை - 15 வாழைப்பழம் - 50

41. மேலுள்ள தகவலைக் கொண்டு பின்வரும் நிரல்வரைபில் நிழற்றிக்காட்டுக.



42. வரைபின் அடிப்படையில் கூடுதலாக விற்ற பழம் எது?
43. குறைவாக விற்ற பழம் எது?
44. கடையில் விற்ற மொத்த பழங்களின் எண்ணிக்கை யாது?
45. திராட்சைப்பழத்தை விட அப்பிள் பழம் எத்தனை கூடுதலாக விற்கப்பட்டது?

- இன்றைய காலப்பகுதியில் “கணினியும் மக்களும்” என்ற தலைப்பில் 6 வாக்கியங்கள் எழுதுக. (ஒவ்வொரு வாக்கியத்திலும் எழுவாய், பயனிலை இயைபு திருத்தமானதாக அமைந்திருத்தல் வேண்டும்.)

46.
47.
48.
49.
50.
51.

மாணவர்களைப் பாடசாலைகளுக்குத் தேர்ந்தெடுப்பதற்கும், மாணவர்களுக்கு உதவிப்பணம் வழங்குவதற்கும்
ஐந்தாம் தர மாணவர்களுக்கு நடாத்தப்படும் மாதிரிப் பரீட்சை

MODEL EXAMINATION FOR YEAR FIVE STUDENTS FOR SELECTION TO SCHOOLS AND FOR THE AWARD OF BURSARIES

சுட்டெண் :

வினாப்பத்திரம் I

நேரம் : 45 நிமிடம்

எல்லா வினாக்களுக்கும் இத்தாளிலேயே விடையளிக்க.

D 100211

- கீழ்வரும் கூற்றை சரியாக அவதானித்து, அவற்றின் கீழ் தரப்பட்டுள்ள ஒவ்வொரு வினாவுக்கும் உரிய விடையின் கீழ்க் கோடிடுக.

தரம் 5 இல் கல்வி கற்கும் மாணவர்களின் உயர விபரங்கள் பின்வருமாறு :

குகன்	$1\frac{1}{4}$ m	அனோஜ்	1 m 15 cm
அரவிந்தன்	$1\frac{1}{2}$ m	பிரதீபன்	1 m

01. உயரத்தின் அடிப்படையில் இம்மாணவர்களின் பெயர்கள் குறிப்பிடப்பட்டுள்ள விடை

01. குகன், அரவிந்தன், அனோஜ், பிரதீபன்
02. அனோஜ், பிரதீபன், குகன், அரவிந்தன்
03. பிரதீபன், அரவிந்தன், அனோஜ், குகன்
04. பிரதீபன், அனோஜ், குகன், அரவிந்தன்

02. இம்மாணவர்களில் உயரம் கூடியவர் யார்?

1. பிரதீபன்
2. குகன்
3. அரவிந்தன்
4. அனோஜ்

03. உயரத்தில் கூடிய மாணவனுக்கும், உயரம் குறைந்த மாணவனுக்கும் இடையே உள்ள உயர வித்தியாசம் யாது?


1. 25 cm
2. 50 cm
3. 35 cm
4. 15 cm

- பின்வரும் வினாக்களுக்குப் பொருத்தமான படத்தின் கீழ்க் கோடிடுக.


04. எமக்கு தீமை செய்யும் பிராணி



(1)



(2)

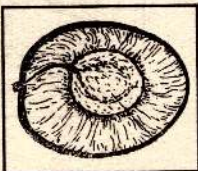


(3)



(4)


05. காற்றினால் பரவும் வித்து




(1)



(2)



(3)



(4)


06. நீரில் மிதக்கும் தாவரம்



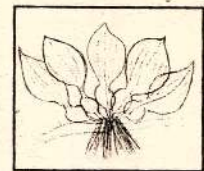
(1)



(2)



(3)



(4)

● சரியான விடையின் கீழ்க் கோடிடுக.

07. பத்திரிகை ஒன்றில் அதிகமாக இருப்பது,

1. பக்கங்கள் 2. எழுத்துக்கள் 3. சொற்கள் 4. விளம்பரங்கள்

08. தமிழ்மொழியில் உள்ள மெய் எழுத்துக்களின் எண்ணிக்கை

1. 16 2. 12 3. 18 4. 247

09. முற்கால அரசர்கள் பாதுகாப்புகளுடன் தங்கிய இடம்

1. அந்தப்புரம் 2. பாசறை 3. கோட்டை 4. சுரங்கம்

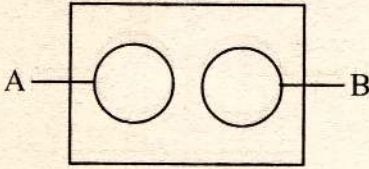
10. வியாபாரிகளுக்கிடையில் காசுக்கு பதிலாக பரிமாற்றப்படும் பத்திரம்

1. காசுப்பத்திரம் 2. காசுத்தாள் 3. கடன் அட்டை 4. காசோலை

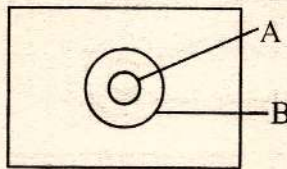
● கீழே காணப்படும் ஒவ்வொரு வினாவிலும் தரப்பட்டுள்ள கூற்றுக்குப் பொருத்தமான விடையை தெரிந்து கோடிடுக.

11. A- பாடசாலையிலுள்ள மாணவர்கள்

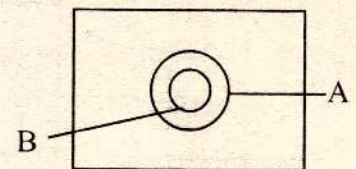
B. பாடசாலையிலுள்ள பெண் பிள்ளைகள்



(1)

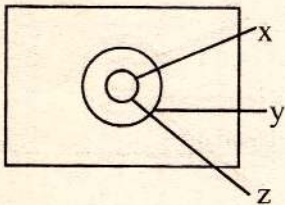


(2)

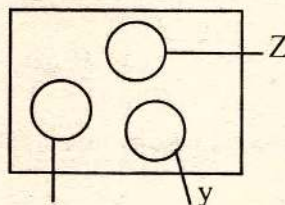


(3)

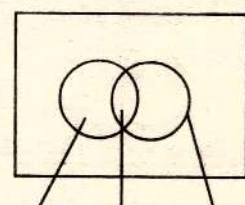
12. x நீரில் வாழ்வன, y நிலத்தில் வாழ்வன, z நீரிலும் நிலத்திலும் வாழ்வன.



(1)



(2)



(3)

● பின்வரும் பெரியார்களின் பெயர்களை எழுதுக.

13.



14.



15.



16.



● பின்வரும் விபரத்தை வாசித்து வினாக்களுக்கு விடை தருக.

- யோசினியிடம் ரூபா. 50 பெறுமதியான முத்திரை ஒன்றும், ரூபா. 5 பெறுமதியான முத்திரைகள் மூன்றும், ரூபா. 1 பெறுமதியான முத்திரைகள் நான்கும் இருக்கின்றன.
- சுவாதியிடம் ரூபா. 10 பெறுமதியான இரண்டு முத்திரைகளும், ரூபா. 5 பெறுமதியான முத்திரைகள் நான்கும், ரூபா. 20 பெறுமதியான முத்திரை ஒன்றும் இருக்கின்றன.
- செளமியாவிடம் ரூபா. 5 பெறுமதியான இரண்டு முத்திரைகளும், ரூபா. 4 பெறுமதியான அஞ்சல் அட்டைகள் நான்கும், ரூபா. 20 பெறுமதியான முத்திரைகள் நான்கும் இருக்கின்றன.

17. மிகக் குறைந்த எண்ணிக்கையான முத்திரை யாரிடமுள்ளது?
18. மிகக் கூடிய பெறுமதிமிக்க முத்திரைகள் யாரிடமுள்ளது?
19. மிகக் குறைந்த பெறுமதியுள்ள முத்திரைகள் யாரிடமுள்ளது?
20. கொழும்பிலிருக்கும் செளமியா யாழ்ப்பாணத்திலிருக்கும் அவளது மாமாவுக்கு பதிவுத்தபால் அனுப்பவேண்டுமாயின் அவள் ஒட்ட வேண்டிய முத்திரையின் பெறுமதி யாது?

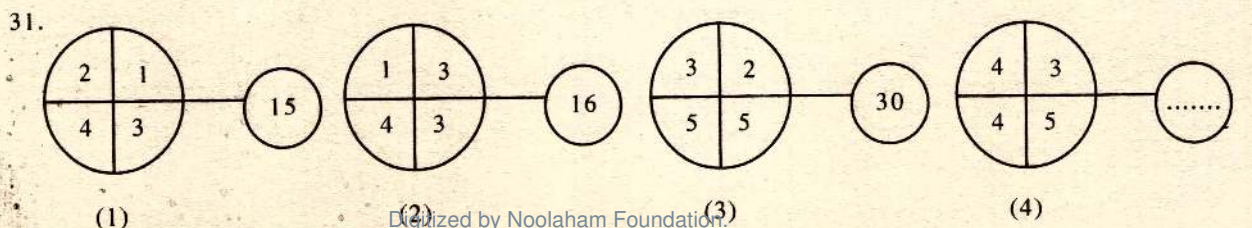
● “A” பகுதியில் உள்ளவற்றுக்கு பொருத்தமானதை “B” பகுதியில் இருந்து தெரிவு செய்து தொடர்புபடுத்துக.

A	B
21. கலா வாவி	1. குருணாகல்
22. அபய வாவி	2. முகம் பார்த்தல்
23. எரிபொருள் சுத்திகரிப்பு நிலையம்	3. அநுராதபுரம்
24. யாப்பகூவ	4. தாதுசேனன்
25. தளவாடி	5. பண்டுகாபயன்
26. சிகிரியா	6. சபுகஸ்கந்த

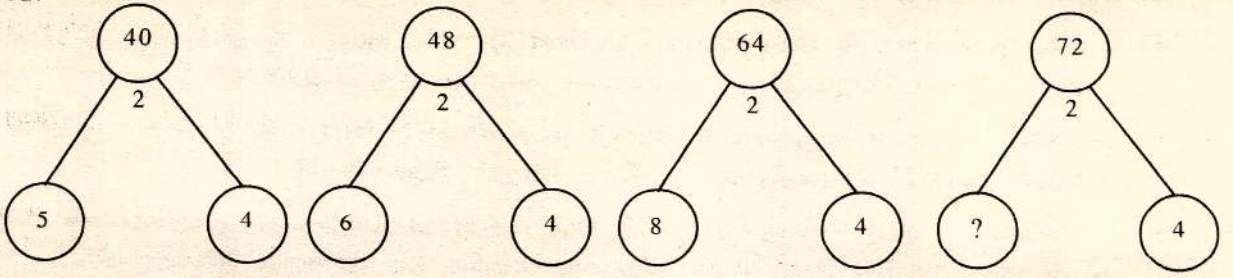
● பின்வரும் தமிழ் சொற்களுக்கு பொருத்தமான சிங்கள மொழிக் கருத்தை தமிழில் எழுதுக.

27. புது வருட வாழ்த்துக்கள்
28. உனது பெயர் என்ன?
29. நேரம் என்ன?
30. சுக துக்கம் எப்படி?

● கீழே காணப்படும் கோலத்தை விளங்கி இடைவெளி நிரப்புக.



32.



- பின்வரும் உணவுப் பொருட்களைப் பேணும் முறையினை எழுதுக.

33. தேசிக்காய்

.....

34. மீன்

.....

35. பனங்கிழங்கு

.....

36. பழங்கள்


.....

- கீழே காணப்படும் விளையாட்டுக்களை “உள்ளக விளையாட்டு”, “வெளியக விளையாட்டு” என பொருத்தமாகக் கோடிடப்பட்ட இடத்தில் எழுதுக.

37.




38.



39.



40.



37.

38.

39.

40.

கட்டெண் : **வினாப்பத்திரம் II** நேரம் : 1 மணி 15 நிமிடம்

எல்லா வினாக்களுக்கும் இத்தாளிலேயே விடையளிக்க. **D 100212**

● **கொடுக்கப்பட்ட பந்தியை வாசித்துக் கேட்கப்பட்ட வினாக்களுக்கு விடை எழுதுக.**

சோமசுந்தரப் புலவர் வட மாகாணத்தில் நவாலி ஊரிலே கி.பி. 1880 ஆம் ஆண்டு ஆனித் திங்கள் 12 ஆம் நாள் இலக்குமிப்பிள்ளை அம்மையாருக்கும், கதிர்காமர் என்னும் பெரியாருக்கும் பிள்ளையாகப் பிறந்தார். தாயாரின் அரவணைப்பிலும் தந்தையாரின் நல்வழி காட்டலிலும் வளர்ந்த சோமசுந்தரனாருக்கு சிறுவயதிலேயே தமிழ் சூழலோடு ஒன்றிய வாழ்க்கை, இயற்கையில் அதிக பற்று, இறை பக்தி அனைத்தும் சேர்ந்து இணையற்ற தமிழ் புலமையை வளர்த்தது. இவருக்கு சிறுவர் இலக்கியம், சமூக சீர்த்திருத்தம், இயற்கை நிகழ்வுகள் அனைத்திலும் கவித்துவம் பொங்கி ததும்பியது. இவர் சிறுவர் இலக்கியத்தில் தன் ஆர்வத்தையும், திறமையையும் காட்டியதால் சிறுவர்கள் இவருக்கு “தங்கத் தாத்தா” என்று செல்லமாக பெயர் சூட்டி மகிழ்ந்து கொண்டாடினார்கள். இவர் பாடிய தேன் ஒழுக்கும் கவிதைகளுள் “ஆடிப்பிறப்பு” “கத்தரி தோட்டத்து வெருளி” ஆகியவை ஈழவள நாட்டிலே மிகப் பிரசித்தமானவை. அன்னார் 1953 ஆம் ஆண்டு இறைவனடி சேர்ந்தார்.

01. சோமசுந்தரப் புலவர் எங்கே எப்போது பிறந்தார்?
02. இவரின் தாய் தந்தையின் பெயர் என்ன?
03. இவர் பாடிய கவிதை நூல்கள் எவை?
04. சிறுவர்கள் இவரை எவ்வாறு அழைத்தனர்?
05. இவருக்கு எவற்றில் கவித்துவம் பொங்கி ததும்பியது?
06. எமது ஈழத்தில் அவதரித்த தமிழ் பெரியார்கள் இருவரின் பெயர் தருக.
.....
07. ஒத்த சொல் தருக.
01. மகிழ்ச்சி 02. பெயர்
08. கீழ்வரும் தமிழ் சொற்களுக்குரிய ஆங்கில கருத்தை ஆங்கிலத்தில் எழுதுக.
01. சிறுவர்கள் 02. பெயர்
03. நாடு 04. தாத்தா

● **சரியான விடையின் கீழ்க் கோடிடுக.**

01. கருவாட்டில் இருந்து உடலுக்குக் கிடைக்கும் போசணைக்கூறு எது?
1. கொழுப்பு 2. விற்றமின் 3. மாப்பொருள் 4. புரதம்
02. புளி கலந்த உணவில் கூடுதலாக இருப்பது எது?
1. கல்சியம் 2. விற்றமின் A 3. விற்றமின் C 4. புரதம்
03. மனைவியை இழந்தவன்
1. விதவை 2. தபுதாரன் 3. கைம்பெண் 4. சுயநலவாதி
04. விசர் நாயக்கடி மருந்தைக் கண்டுபிடித்தவர்
1. நியூட்டன் 2. கலிலியோ 3. லூயிபாஸ்டர் 4. அலெக்சாண்டர்

05. கமலன் எவ்வேலைகளைச் செய்தாலும் அவ்வேலையில் திருப்தி இல்லாமல் செய்வான். அவனது செயலுக்கு பொருத்தமான பழமொழி

1. இக்கரை மாட்டுக்கு அக்கரை பச்சை
2. சிறுதுரும்பும் பல்லுக்குத்த உதவும்
3. அடிமேல் அடியடித்தால் அம்மியும் நகரும்
4. இளங்கன்று பயமறியாது

06. "மியூசியம்" என்பதன் நவீன தமிழ் வடிவம்

1. வாசிகசாலை
2. அருங்காட்சியகம்
3. உலக வர்த்தக மையம்
4. நூதனசாலை

● பின்வரும் வினாக்களுக்கான விடையைப் புள்ளிக் கோட்டில் எழுதுக.

01. மைதான நிகழ்ச்சிகள் இரண்டின் பெயர்களைத் தருக.

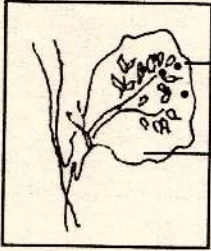
02. தாவரங்கள் விலங்குகளிடம் இருந்து தம்மை பாதுகாக்க உதவுவன?

03. சந்திரவட்டக்கல்லில் காணக்கூடிய விலங்குகள்?

04. இலங்கையின் புராதன வரலாற்றை அறிய உதவும் நூல்?

05. தாவரங்களை பேணிப் பாதுகாக்க நாம் மேற்கொள்ள வேண்டிய வழிகள் 2 தருக.

● பின்வரும் விஞ்ஞானப் பரிசோதனையை அவதானித்து அதன் கீழ்வரும் வினாக்களுக்கு விடை தருக.



நீர்த்துளிகள்

பொலித்தீன் பை

01. தாவரத்துடன் முடிக்கட்டப்பட்டுள்ள பொலித்தீன் பையினுள் நீர்த்துளிகள் தோன்றியமைக்கான காரணம் யாது?

● கீழே கொடுக்கப்பட்டுள்ள வினாக்களுக்கு விடையை புள்ளிக் கோட்டில் எழுதுக.

01. ஒரு பக்க நீளம் 6 cm கொண்ட சதுரவடிவில் அமைந்த கம்பியை சமமான பக்கங்களையுடைய முக்கோணம் ஒன்றை ஆக்கினால், அதன் ஒரு பக்க நீளம் எவ்வளவு?

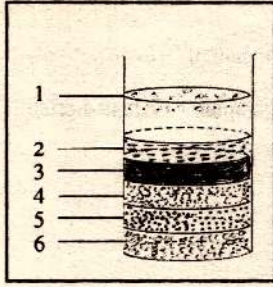
02. சங்கீத் தனது கடிகாரம் 25 நிமிடங்கள் பிந்தி நேரம் காட்டுகிறது என்று தனது நண்பனிடம் கூறினான். அப்படியானால் பி. ப. 2 மணிக்கு பாடசாலை முடிவடையும் போது அவனது கடிகாரம் காட்டும் நேரம் என்ன?

03. ஒரு கூடையில் காணப்பட்ட முட்டைகளில் $\frac{2}{5}$ பங்கு உடைந்துவிட்டன, உடையாத முட்டைகளின் எண்ணிக்கை 75 எனின், ஆரம்பத்தில் கூடையில் காணப்பட்ட மொத்த முட்டைகளின் எண்ணிக்கை யாது?

04. கமலன் 30 நிமிடங்களில் 8 பொத்தான்களை தைப்பான். விமலன் 45 நிமிடங்களில் 12 பொத்தான்களை தைப்பான். இருவரும் $1\frac{1}{2}$ மணித்தியாலத்தில் எத்தனை பொத்தான்களை தைப்பார்கள்.

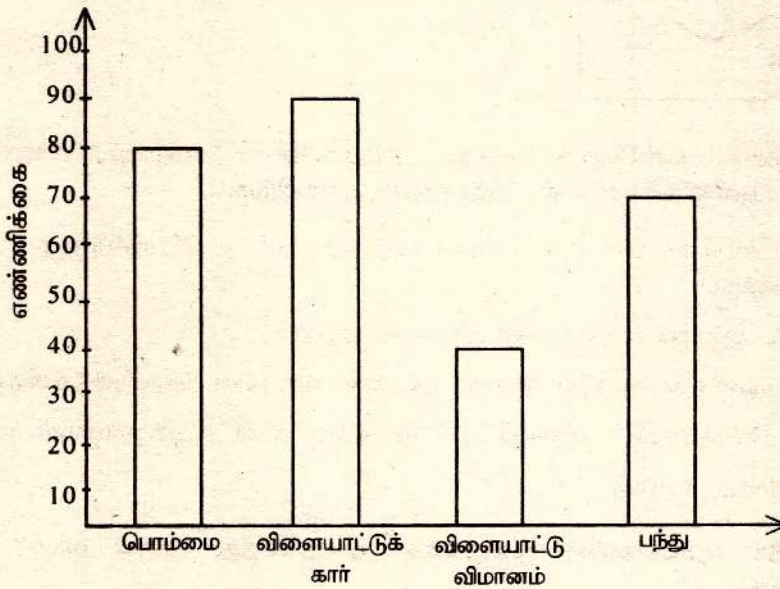
05. ஒரு பண்ணையில் உள்ள பசுக்களினதும், கோழிகளினதும் எண்ணிக்கை 12. அவற்றின் கால்களின் எண்ணிக்கை 34, அப்பண்ணையில் உள்ள கோழிகள் எத்தனை?

- கீழே கொடுக்கப்பட்டுள்ள படம் மண்ணின் கூறுகளைக் காட்டுகிறது. படத்தில் குறித்துக் காட்டப்பட்டுள்ள இலக்கங்களுக்குரிய விடையைப் புள்ளிக்கோட்டில் எழுதுக.



01. 02.
 03. 04.
 05. 06.
 07. பயிர்வளர்ச்சிக்கு ஏற்ற மண் எது?

- விளையாட்டுப் பொருட்கள் விற்பனை செய்யப்படும் கடையொன்றில் குறிப்பிட்ட ஒரு நாளில் விற்பனை செய்யப்பட்ட பொருட்கள் பற்றிய விபரம் வரைபில் காட்டப்பட்டுள்ளது. இதனை அவதானித்து பின்வரும் வினாக்களுக்கு விடை தருக.



01. அன்றைய தினத்தில் விற்பனையாகிய விளையாட்டுக் கார்கள் எத்தனை?
02. அன்றைய தினத்தில் விற்கப்பட்ட விளையாட்டு பொருட்களின் எண்ணிக்கை யாது?

❖ அவ்விளையாட்டு பொருட்கள் ஒவ்வொன்றினதும் விலை பின்வருமாறு :

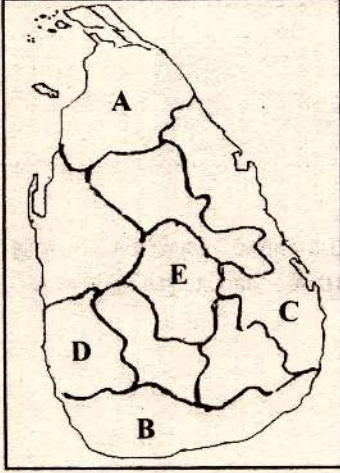
பொம்மை	60/=
விளையாட்டுக் கார்	50/=
விளையாட்டு விமானம்	75/=
பந்து	12/=

03. அன்றைய தினம் விளையாட்டுக் காரினால் கிடைத்த பணம் எவ்வளவு?
04. எந்தப் பொருள் விற்பனையால் குறைந்தளவு பணம் கிடைத்தது?
05. விற்பனையாகிய விளையாட்டுக் காரிற்கும், விளையாட்டு விமானத்திற்கும் இடையிலுள்ள எண்ணிக்கையின் வித்தியாசம் யாது?
06. சர்மிஜா 20 பொம்மைகளை வாங்கினாள். கடைக்காரர் அவளுக்கு 10% கழிவு வழங்கினார். அவ்வாறாயின் அவள் கடைக்காரருக்கு செலுத்த வேண்டிய பணம் எவ்வளவு?

07. அன்றைய தினத்தில் விற்பனை செய்த பந்துகளில் $\frac{2}{7}$ பங்கு பந்துகளே முதல் நாள் விற்பனை செய்யப்பட்டது எனின், முதல்நாள் விற்பனை செய்யப்பட்ட பந்துகளின் எண்ணிக்கை யாது?

08. அன்றைய தினத்தில் விற்பனையால் பெற்ற மொத்த பணம் எவ்வளவு?

● கீழே தரப்பட்ட இலங்கைப்படத்தில் குறிக்கப்பட்டுள்ள மாகாணங்களின் பெயர்களை எழுதுக.



01. A

02. B

03. C

04. D

05. E

● கீழே தரப்பட்டுள்ள ஒவ்வொரு கூற்றும் சரியாயின் “✓” எனவும், பிழையாயின் “x” எனவும் எதிரே உள்ள புள்ளிக்கோட்டின் மீது அடையாளமிடுக.

01. பொலித்தீன் பைகள், பிளாஸ்டிக் போன்றவற்றை நாம் உபயோகிப்பதை தடுக்க வேண்டும். (.....)

02. விறற்றமின் A குறைபாட்டால் கண்டக்கழலை ஏற்படும். (.....)

03. தாவரங்கள் ஒளித்தொகுப்பின் போது ஒட்சிசன் வாயுவை வெளிவிடுகின்றன. (.....)

04. சந்தையில் பொருட்களின் விலைமட்டம் நாளுக்கு நாள் கூடிக்குறையும். (.....)

05. காற்றிற்கு நிறை உண்டு. (.....)

● கீழே காணப்படும் பறவைகளின் அலகுகளை அவதானித்து அவை எந்தப் பறவைகளுக்குரியன எனப் பெயரிடுக.



1. 2. 3. 4.

● “நானும் எனது நண்பர்களும் அடர்ந்த காட்டிற்குள் சென்றோம். சிறிது தூரம் சென்றபின் எனது நண்பர்களைக் காணவில்லை” என்னும் சம்பவத்தைத் தொடர்ந்து எழுவாய் பயனிலை திருத்தமாக அமைந்த ஆறு வாக்கியங்கள் எழுதுக.

01.

02.

03.

04.

05.

06.

மாணவர்களைப் பாடசாலைகளுக்குத் தேர்ந்தெடுப்பதற்கும், மாணவர்களுக்கு உதவிப்பணம் வழங்குவதற்கும்
ஐந்தாம் தர மாணவர்களுக்கு நடாத்தப்படும் மாதிரிப் பரீட்சை

MODEL EXAMINATION FOR YEAR FIVE STUDENTS FOR SELECTION TO SCHOOLS AND FOR THE AWARD OF BURSARIES

சுட்டெண் :

வினாப்பத்திரம் I

நேரம் : 45 நிமிடம்

எல்லா வினாக்களுக்கும் இத்தாளிலேயே விடையளிக்க.

D 100221

- கீழே தரப்பட்ட உருவங்களில் இரண்டு உருவங்கள் ஏதோ ஒரு விதத்தில் பொருந்துகிறது. அதற்கமைய மிகப் பொருத்தமான விடையினைத் தெரிவு செய்து அதன் கீழ்க் கீறிடுக.


01.




A




B



C



D



E

I. AC

II. CD


III. AD

IV. BE


02.



A




B



C



D



E

I. BE

II. BD

III. AC

IV. CE

- பின்வரும் வினாக்களுக்குரிய சரியான விடையின் எண்ணை புள்ளிக்கோட்டில் எழுதுக.

03. ஆனைக்கும் அடி சறுக்கும் என்பதன் கருத்து

1. யானைக்கும் சறுக்கும் போது அடி தான் சறுக்கும்.
2. பலசாலியும் தோல்வி அடையலாம்.
3. யானை பெரிய மிருகம் என்பதால் அடி சறுக்கும். (.....)

04. “காற்றுள்ளபோதே தூற்றிக்கொள்” என்பதன் கருத்து

1. காற்றில் தான் நெல்லைத் தூற்ற வேண்டும்.
2. காற்று வீசுவதை அவதானித்து பயன்படுத்திக் கொள்ள வேண்டும்.
3. சந்தர்ப்பத்தைச் சரியாக பயன்படுத்திக் கொள்ள வேண்டும். (.....)

- பின்வரும் வினாக்களுக்குரிய சரியான விடையின் கீழ்க் கோடிடுக.

05. இலங்கையின் மிகச் சிறிய மாவட்டம் எது?

1. அனுராதபுரம்
2. பதுளை
3. கொழும்பு
4. முல்லைத்தீவு

06. தானே தன்னைப்பற்றி எழுதும் வரலாறு

1. பதிப்புரை
2. நாடகம்
3. சுயசரிதை
4. கவிதை

07. மஞ்சள், சிவப்பு நிறங்களைக் கலந்தால் பெறப்படும் நிறம் எது?

1. பச்சை 2. நீலம் 3. செம்மஞ்சள் 4. கறுப்பு

08. முட்டைகளை அடைகாக்கும் ஆண் பறவை

1. மரங்கொத்தி 2. ஹம்மிங்போட் 3. வெளவால் 4. நெருப்புக்கோழி

09. வகுப்பறையில் எப்போதும் இருப்பது

1. மாணவர்கள் 2. கூரை 3. கதிரை 4. ஆசிரியர்

● பின்வரும் வீதிச்சமிக்கைகள் எவை என புள்ளிக்கோட்டில் எழுதுக.

10.



11.



12.



● 13 ஆம் 14 ஆம் வினாக்களில் காணப்படும் சொற்களை நன்கு விபரிக்கின்ற கூற்றினை தெரிவு செய்து அதன் கீழே கோடிடுக.

13. வங்கி என்பது

1. பணத்தைச் சேமிக்கும் இடம்
2. பணத்தைக் கடனாக வழங்கும் இடம்
3. பணக் கொடுக்கல் வாங்கல் செய்யும் இடம்

14. விகடகவி எனப்படுவோன்

1. அரச சபைக் கவிஞராக இருப்பவன்
2. இயற்கையாகவே கவி இயற்ற வல்லவன்
3. நகைச்சுவையாகப் பேசவும் பாடவும் வல்லவன்

● வியாபார நிலையமொன்றில் பொருள் ஒன்றின் விலை ரூ 325.99 என்பது CBE. II எனக் குறிக்கப்பட்டுள்ளது எனின்,

15. ரூ. 584.99 எனக் குறிக்கப்பட்டுள்ள பொருளின் விலையை மேலே தரப்பட்டுள்ள குறியீடுகளைக் கொண்டு எவ்வாறு குறிக்கலாம்?

1. CDX.II 2. ABE.II 3. ECD.II 4. EHD.II

16. IHF. BE எனக் குறிக்கப்பட்டுள்ள பொருளின் விலை என்ன?

1. ரூ. 975.25 2. ரூ. 986.25 3. ரூ. 908.26 4. ரூ. 786.20

● கீழ்வரும் வினாக்களுக்கு சரியான விடையின் கீழ்க் கோடிடுக.

17. தரம் 5 வகுப்பில் கல்வி கற்கும் மாணவர்களில் 1/5 பங்கினர் சமூகமளிக்கவில்லை. சமூகமளித்தோரின் எண்ணிக்கை 10 ஆகும். அவ்வாறாயின் அந்த வகுப்பில் கல்வி பயிலும் மொத்த மாணவர் தொகையாதாக இருக்கும்?

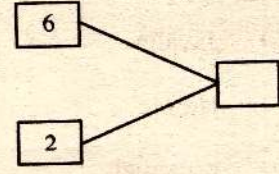
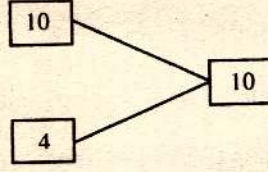
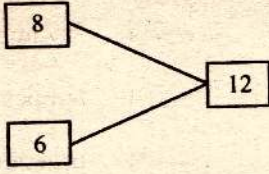
1. 40 2. 50 3. 60 4. 25

18. கபிலினதும் திலிபினதும் வயதுகளின் கூட்டுத்தொகை 30 வருடங்களாகும். கபிலினின் வயது திலிபினின் வயதிலும் பார்க்க ஐந்து மடங்காயின், திலிபினின் வயது எத்தனை?

1. 6 2. 10 3. 15 4. 5

- வெற்றிடத்துக்குள் வரவேண்டிய எண்ணைத் தரப்பட்ட விடைகளிலிருந்து தெரிவு செய்க.

19.



1. 5

2. 3

3. 4

4. 12

20. $3 \rightarrow 4 \rightarrow 6 \rightarrow 9 \rightarrow 13 \rightarrow \square$

1. 17

2. 19

3. 18

4. 15

21. ஒரு சதுரத்தின் சுற்றளவு 36 cm எனின், அதன் நீளம் யாது?

1. 4 cm

2. 9 cm

3. 6 cm

4. 12 cm

22. ஒரு மைதானத்தில் முதலில் சிவப்பு கொடியும் அடுத்து நீல கொடியும் அதற்கடுத்து ஒரு மஞ்சள் கொடியும் மாறி மாறி காணப்படுகின்றன. அந்த வரிசையில் 18 ஆவது கொடி யாது?

1. சிவப்பு

2. மஞ்சள்

3. நீலம்

4. கூறமுடியாது

- கீழுள்ள பிரசினங்களில் கோட்டில் வரவேண்டிய பொருத்தமான குறியீட்டுச் சோடியின் கீழ் கோடிடுக.

23. $6 - 8 - 10 = 38$ 1. X, - 2. +, X 3. +, - 4. X, +

24. $6 - 7 - 4 = 52$ 1. +, + 2. X, - 3. +, X 4. X, ÷

25. $20 - 4 - 6 = 30$ 1. ÷, + 2. ÷, X 3. +, ÷ 4. X, +

- மிகப் பொருத்தமான விடையின் கீழ் கோடிடுக.

26. யானைக்கால் நோய் பரவுவதற்கு காரணமாக உள்ளது

1. அனோபிலிஸ் நுளம்பு

2. கியுலெக்ஸ் நுளம்பு

3. வைரஸ்

4. பற்றிரியா

27. வீதியால் செல்லும் போது வலது பக்கத்தால் கட்டாயம் செல்ல வேண்டியவர்கள்

1. வயோதிபர்கள்

2. வாகனக்காரர்

3. பாதசாரிகள்

4. மாணவர்கள்

28. உப்பிட்டு பாதுகாக்கக்கூடிய உணவு

1. மீன்

2. பாகற்காய்

3. வெங்காயம்

4. தக்காளி

29. 8 அப்பிள் பழங்களின் விலை 84 ரூபா எனின், ஒரு அப்பிளின் விலை என்ன?

1. ரூபா 10.00

2. ரூபா. 12.00

3. ரூபா 10.50

4. ரூபா 10.25

30. 4 kg இல் அடங்கியுள்ள 250 g களின் எண்ணிக்கை?

1. 10

2. 16

3. 8

4. 20

31. பயணம் ஒன்றிற்கு 4 மணி 15 நிமிடங்கள் எடுக்கிறது. பயணம் முடிவுற்ற நேரம் பி.ப 7.30 எனின் பயணம் தொடங்கிய நேரம்

1. மு. ப. 10.15

2. மு. ப. 3.15

3. பி. ப. 3.45

4. பி. ப. 3.15

● சரியாக எழுதப்பட்ட சொல்லின் கீழ் கோடிடுக.

32. 1. Javalin 2. jevalin 3. javelin 4. Javalein
 33. 1. temple 2. tample 3. tempal 4. tempel
 34. 1. principal 2. princepal 3. pricepal 4. principle

● கீழுள்ள கூடுகளை அவதானித்து பின்வரும் வினாக்களுக்கு பொருத்தமான விடையை கட்டமிடுக.

A
புறா
வெளவால்
கிளி
காகம்
கழுகு

B
பருந்து
எழு
புறா
கிளி
கழுகு

C
அன்னம்
புறா
எழு
கிளி
பருந்து

D
அன்னம்
பருந்து
எழு
புறா
கழுகு

35. நேராக மட்டும் பறக்க கூடிய பறவை அமைந்துள்ள கூடு
 1. A 2. B 3. D 4. C
 36. எல்லா கூடுகளிலும் உள்ள பறவை எது?
 1. கிளி 2. பருந்து 3. புறா 4. கழுகு
 37. ஞாபக சக்தி கூடிய பறவை உள்ள கூடு எது?
 1. D 2. B 3. A 4. C
 38. பறக்க முடியாத பறவை இல்லாத கூடு எது?
 1. A 2. D 3. B 4. C

● தரப்பட்டுள்ள குறியீட்டுக்கமைய பொருத்தமான விடையின் கீழ் கோடிடுங்கள்.

39. கமலம் என்பது TCYM என குறிக்கப்படின் கலம் என்பது
 1. CYM 2. TCM 3. TYM 4. TCY

40. வட்டம் என்பது     எனக் குறிக்கப்படின், வட்டம் என்பது



மாணவர்களைப் பாடசாலைகளுக்குத் தேர்ந்தெடுப்பதற்கும், மாணவர்களுக்கு உதவியணம் வழங்குவதற்கும்
 ஐந்தாம் தர மாணவர்களுக்கு நடாத்தப்படும் மாதிரிப் பரீட்சை
 MODEL EXAMINATION FOR YEAR FIVE STUDENTS FOR SELECTION TO SCHOOLS AND FOR THE AWARD OF BURSARIES

சுட்டெண் :

வினாப்பத்திரம் II

நேரம் : 1 மணி 15 நிமிடம்

எல்லா வினாக்களுக்கும் இத்தாளிலேயே விடையளிக்க.

D 100222

01. கீழே தரப்பட்டுள்ள பாடலை வாசித்து அதன் கீழுள்ள வினாக்களுக்கு விடை எழுதுக.

சின்னஞ் சிறிய பூச்சியே
 சிறகடிக்கும் பூச்சியே
 வண்ண வண்ணப் பூச்சியே
 வண்ணத்துப் பூச்சியே
 உந்தன் மேனி நிறத்திற்கு
 உதவியது யார்
 எனக்கும் சொல்லி அவரிடம்
 இட்டுக் கொள்ளப் பொட்டுத்தா
 பறந்து பறந்து அமர்ந்திடும்
 பல நிறத்து மலர்களிலே
 உறுஞ்சிக் குடித்த தேனிலே
 உண்ண எனக்கும் கொடுத்திடு
 குதித்து நானும் உன்னைப் போல
 குதாகலமாய் ஆடுவேன்

- (i) இப்பாடல் யாரை நோக்கிப் பாடுவதாக அமைந்துள்ளது?
- (ii) குதாகலம் என்பதன் எதிர்ப்பதமுடைய சொல் ஒன்றை எழுதுக.
- (iii) மேனி என்பதன் ஒத்த கருத்து சொல் ஒன்றை தருக.
- (iv) அடுக்கு மொழிச் சொல் ஒன்று எழுதுக.
- (v) அடுக்கிடுக்கு மொழிச் சொல் ஒன்று எழுதுக.
- (vi) மலர்களிலே என்ற சொல்லின் ஒருமை சொல்லை தருக.
- (vii) உயர்திணை, தன்மை, ஒருமை சொல் ஒன்றை தருக.
- (viii) ஆங்கில பதம் தருக.

வண்ணத்துப்பூச்சி மலர்கள்

02. கீழே தரப்பட்ட வாக்கியத்தை பூரணப்படுத்த சரியான சொல்லை அடைப்பினுள் இருந்து தெரிவு செய்க.

- (i) மாணவர்கள் உடையவர்களாய் வாழ வேண்டும்.
 (நல்லொளுக்கம், நல்லொழுக்கம், நல்லொலுக்கம்)
- (ii) உடையார் வாழ்வில் என்றுமே முன்னேற்றம் காண்பர்.
 (முயட்சி, முயற்சி, முயர்ச்சி)

03. பின்வருவனவற்றுக்குரிய மரபுத்தொடர்களை எழுதுக.

(i) நாக்கு புரளுதல் -----

(ii) உச்சி குளிருதல் -----

04. பின்வரும் வெற்றிடங்களை நிரப்புக.

(i) பெண்கள் ----- வெனச் சிரித்தார்கள்.

(ii) அருவியிலிருந்து நீர் ----- வெனப் பாய்ந்தோடியது

05. பின்வரும் சிங்கள தொடர்களின் கருத்தை தமிழில் எழுதுக.

(i) அபே பந்தியே குருத்துமா -----

(ii) ஓயா கொயத இன்னே? -----

06. பின்வருவனவற்றின் தமிழ் கருத்துக்களை எழுதுக.

(i) Please bring -----

(ii) I am hungry -----

07. கீழே தரப்பட்டுள்ள சொற்களை கொண்டு அட்டவணையை நிரப்புக.

ஆணி, பென்சில், கடதாசி, தகரத்துண்டு, இறப்பர், பிளாஸ்டிக் அடிமட்டம், சவர அலகு, ஊசி, இரும்புத்துண்டு, தக்கை

காந்தத்தால் கவரப்படுபவை	காந்தத்தால் கவரப்படாதவை

● 8 முதல் 16 வரையிலான வினாக்களுக்கு சரியான விடையின் கீழ் கோடிடுக.

08. இறப்பர் ஆராய்ச்சி நிலையம் அமைந்துள்ள இடம்

1. லுணுவில 2. அம்பலாங்கொடை 3. அகலவத்தை 4. தலவாக்கலை

09. விமானத்தைப் போல தரையில் சிறிது ஓடிப் பறக்கும் பறவை எது?

1. காகம் 2. அன்னம் 3. புறா 4. பருந்து

10. கரப்பந்தாட்ட விளையாட்டில் ஒரு அணியில் இடம்பெறும் வீரர்களின் எண்ணிக்கை

1. 7 2. 6 3. 4 4. 11

11. இலங்கையில் பராக்கிரமபாகுவின் சிலை அமைந்துள்ள இடம்
 1. கண்டி 2. அநுராதபுரம் 3. பொலனறுவை 4. குருநாகல்
12. தாவரமொன்றில் காய் காய்ப்பதற்கு உதவுவது
 1. தேனீ 2. குருவி 3. மண்புழு 4. எறும்பு
13. கர்ப்பான் பூச்சியின் இரத்தத்தின் நிறம்
 1. கறுப்பு 2. மஞ்சள் 3. வெள்ளை 4. சிவப்பு
14. நகைப்பட்டறையில் வேலை செய்பவன்
 1. தச்சன் 2. பொற்கொல்லன் 3. பாகன் 4. கொல்லன்
15. நுகர்வுக்கான வர்த்தகப் பொருள்களின் தரத்தினை உறுதிப்படுத்தும் இலங்கையின் இலச்சினை
 1. SLS 2. SOS 3. ISO 4. ISBN
16. தேசப்படங்களில் பெருந்தெருக்களை காட்டுவதற்காக பயன்படுத்தும் நிறம் எது?
 1. கறுப்பு 2. நீலம் 3. பச்சை 4. சிவப்பு
17. பின்வரும் படத்தை அவதானித்து வினாக்களுக்கு விடை தருக.



(i) இதன் பெயர் என்ன?

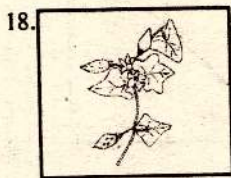
.....

(ii) ஆங்கில எழுத்துக்கள் குறிப்பதை புள்ளிக்கோட்டில் எழுதுக.

- A. ----- B. ----- C. -----
 D. ----- E. ----- F. -----
 G. -----

- 18 முதல் 22 வரையிலான வினாக்களுக்கு தரப்பட்ட தாவரங்களின் பெயரை தரப்பட்ட அடைப்பினுள் இருந்து தெரிவு செய்து எழுதுக.

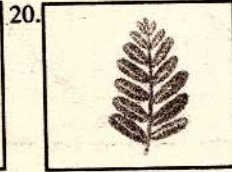
அகத்தி , பசளி, கொவ்வை, கொன்றை, கோரை



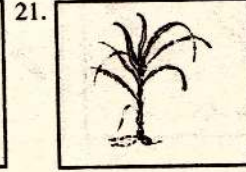
.....



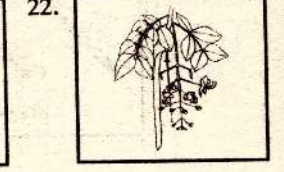
.....



.....



.....



.....

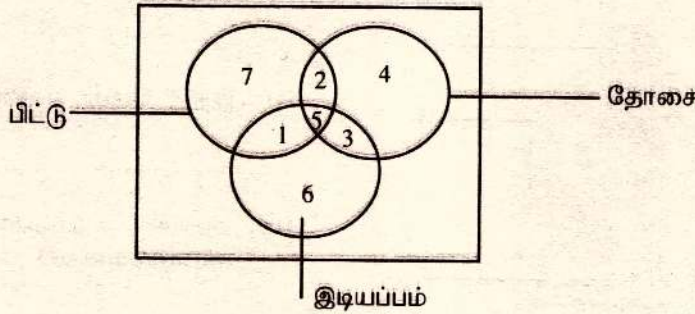
- 23 முதல் 27 வரையிலான வினாக்களுக்கு தரப்பட்ட இசைக்கருவிகளின் பெயர்களை அடைப்பினுள் இருந்து தெரிவு செய்து எழுதுக.

தபேலா, வயலின், மேளம், சல்லாரி, தம்புரா



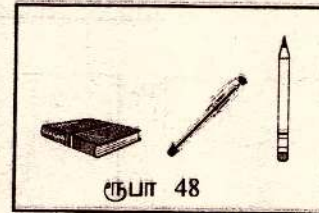
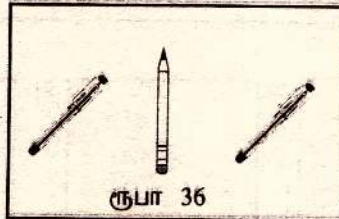

- பின்வரும் வினாக்களுக்கான விடையை புள்ளிக்கோட்டில் எழுதுக.

28. ஆண்டு 5 வகுப்பில் மாணவர்கள் சிலர் விரும்பியுண்ணும் உணவு வகைகளும் மாணவர்களின் எண்ணிக்கையும் கீழே காட்டப்பட்டுள்ளன.



- (i) தோசையை மட்டும் விரும்புவோர் எண்ணிக்கை?
- (ii) இடியப்பத்தையும் பிட்டையும் மட்டும் விரும்புவோர் எத்தனை பேர்?
- (iii) மூன்று வகையான உணவுகளையும் உண்ணக் கூடியவர் எத்தனை பேர்?
- (iv) தோசையையும் இடியப்பத்தையும் விரும்புவோர் எத்தனை பேர்?

- கீழே புத்தகம், பேனை, பென்சில் ஆகியவற்றின் விலைகள் மொத்தமாக தரப்பட்டுள்ளன.



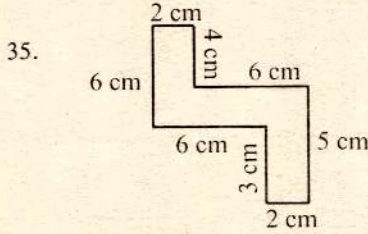
29. பேனை ஒன்றின் விலை என்ன?
30. புத்தகம் ஒன்றின் விலை என்ன?

● பின்வரும் வினாக்களுக்கான விடையைப் புள்ளிக் கோட்டில் எழுதுக.

31. சதுரமுகியின் ஒரு பக்கத்தின் நீளம் 24 cm ஆகும். அதனது முகமொன்றின் பரப்பளவு யாது?
32. அச்சதுரமுகியின் நிறை 425 g எனின், அதையொத்த 6 சதுரமுகியின் மொத்த நிறை யாது?
33. அகர்ஷனிடம் ரூபா 324 இருந்தது. தந்தையிடம் ரூபா 150 உம், தாயிடம் ரூபா 75 உம் வாங்கி கொண்டு புத்தகக்கடைக்குச் சென்றான். கடையில் ஒரு புலமை பரிசில் புத்தகம் ரூபா 375 க்கும், 150 க்கு பென்சில் பெட்டியும் வாங்கினான். தற்போது அவனிடம் மீதமாக உள்ள பணம் எவ்வளவு?
34. பின்வரும் சாதாரண நேரங்களை நியம நேரமாக மாற்றி எழுதுக.

நள்ளிரவு 12.00

பி. ப . 8.45

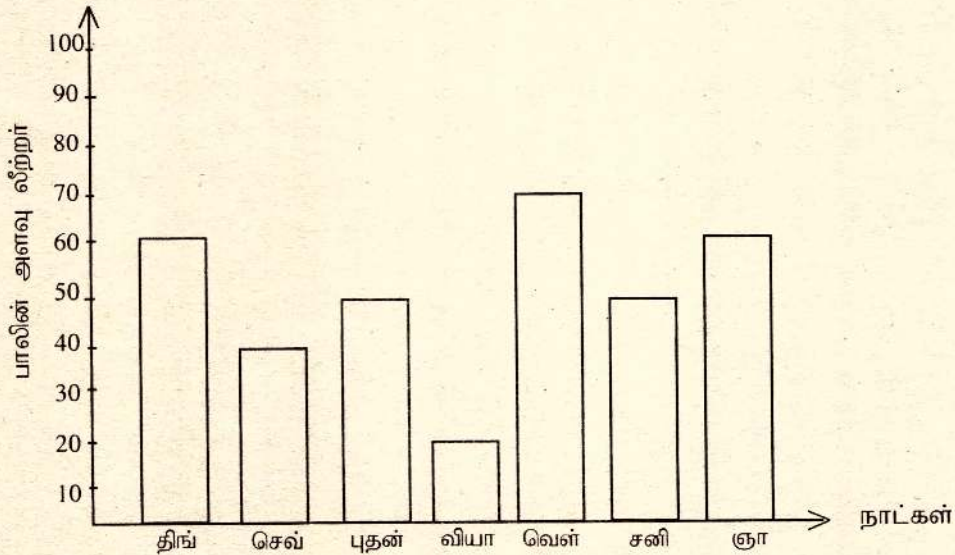


இவ்வுருவின் சுற்றளவைக் காண்க.

36. ஒரு கயிற்றுத்துண்டின் நீளம் 424 cm. அவ்வாறான 4 கயிற்றுத்துண்டின் நீளத்தை மீற்றரில் தருக.

● ஒரு வியாபார நிலையத்தில் 7 நாட்கள் விற்பனையாகியுள்ள பாலின் அளவு காட்டப்பட்டுள்ளது.

37. தரப்பட்டுள்ள வரைபை அவதானித்து வினவப்பட்டுள்ள வினாக்களிற்கு விடை தருக.



- (i) வெள்ளிக்கிழமை விற்பனையாகிய பாலின் அளவு யாது?

- (ii) திங்கள், செவ்வாய் ஆகிய இரு தினங்களிலும் விற்பனையாகிய மொத்த பாலின் அளவு?

(iii) வியாழக்கிழமையை விட புதன்கிழமை மேலதிகமாக விற்கப்பட்ட பாலின் அளவு யாது?

(iv) அக்கிழமை முழுவதும் விற்பனையாகிய பாலின் அளவு யாது?

(v) பால் ஒரு லீற்றர் 70 ரூபா எனில், ஞாயிற்றுக்கிழமை விற்பனை பாலினால் பெற்ற வருமானம் யாது?

- “அன்று நானும் எனது நண்பர்களும் மைதானத்தில் விளையாடிக் கொண்டிருந்தோம் திடீரென.....”இதைத் தொடர்ந்து இடம்பெற்றதாகக் கருதக்கூடியதாக உமது எண்ணத்தில் தோன்றும் கருத்துள்ள ஆறு வாக்கியங்களை எழுதுக. (ஒவ்வொரு வாக்கியங்களும் நான்கு சொற்களுக்கு குறையாமலும் எழுவாய், பயனிலை திருத்தமானதாகவும் அமைதல் வேண்டும்)

(i)

(ii)

(iii)

(iv)

(v)

(vi)

மாணவர்களைப் பாடசாலைகளுக்குத் தேர்ந்தெடுப்பதற்கும், மாணவர்களுக்கு உதவிப்பணம் வழங்குவதற்கும்
ஐந்தாம் தர மாணவர்களுக்கு நடாத்தப்படும் மாதிரிப் பரீட்சை
 MODEL EXAMINATION FOR YEAR FIVE STUDENTS FOR SELECTION TO SCHOOLS AND FOR THE AWARD OF BURSARIES

சுட்டெண் :

வினாப்பத்திரம் I


நேரம் : 45 நிமிடம்

எல்லா வினாக்களுக்கும் இத்தாளிலேயே விடையளிக்க.


D 100311

● கீழுள்ள வினாக்களில் தரப்பட்டுள்ள சொற்களுக்கு மிகப் பொருத்தமான உரு யாது?


01. பணப்பயிர், ஒருவித்திலை தாவரம்



I.




II.



III.


02. முலையூட்டி உணவை வடித்து உண்ணும்.



I.

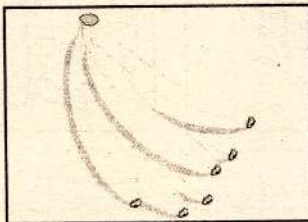


II.




III.


03. கூட்டு பழம், விதையில்லாதது



I.



II.



III.

● சரியான விடையினைத் தெரிவு செய்து அதன் கீழ் கோடிடுக.

04. நாயின் ஆண் கடுவன் என்பது போல யானையின் ஆண்

I. பிடி

II. களிறு

III. கடா

IV. கடுவன்

05. நூலாசிரியர் தமது நூல் பற்றி எழுதும் உரை

I. அணிந்துரை

II. சுயசரிதை

III. முன்னுரை

IV. பதிப்புரை

06. கணவனை இழந்தவள் விதவை போல மனைவியை இழந்தவன்

- I. சிரஞ்சீவி II. நாத்திகன் III. தபுதாரன் IV. விதவன்

- பின்வரும் பிரசினைகளில் முதல் கூட்டில் உள்ள இரு எண்களுக்கு பதிலாகப் பிரதியீடு செய்யக்கூடிய எண்களைக் கொண்ட கூட்டைத் தெரிவு செய்து அதன் கீழ் கோடிடுக.

07. $24 + \boxed{32 \div 4} = 32$

- I. 4×0 II. 4×8 III. 4×2 IV. $32 - 8$

08. $\boxed{IX + XI} + XI = XXXI$

- I. $XVI + XVI$ II. $XXV - V$ III. $XL - VIII$ IV. $IX + XL$

09. $\boxed{18 \times 0} + 10 = 10$

- I. 18×1 II. $14 + 3$ III. $5 + 5$ IV. $18 - 18$


- சரியான விடையின் கீழ் கோடிடுக.

10. கலாவாவியை கட்டிய மன்னன்

- I. மகாசேனன் II. காசியப்பன் III. தாதுசேனன் IV. தேவநம்பியதீசன்

11. "பிரித் ஓதிய நீர் தெளித்தல்" இச்சமய சடங்கு காணப்படும் மதம்

- I. பௌத்தம் II. இஸ்லாம் III. இந்து IV. கிறிஸ்தவம்


12.  கொடுக்கப்பட்ட தையலின் பெயர் யாது?

- I. நரம்புத்தையல் II. சங்கிலி தையல் III. அடைப்புத்தையல் IV. சோம் தையல்

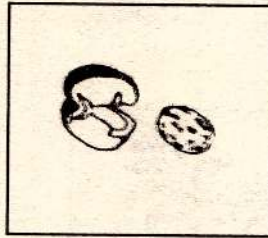
13. நெருப்பு எரியக் காற்றை வழங்கும் உபகரணம்

- I. சம்மட்டி II. துருத்தி III. அரம் IV. காற்று திசைக்காட்டி


14. காற்றினால் பரவும் வித்து



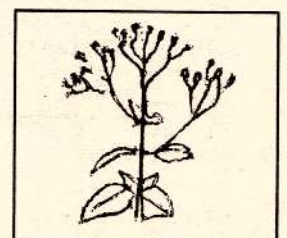
I.



II.

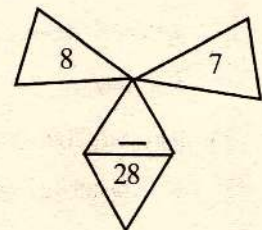
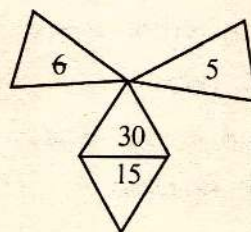
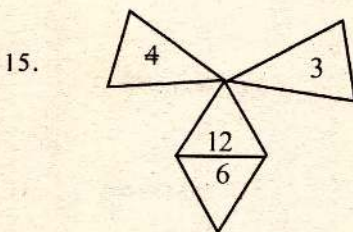


III.



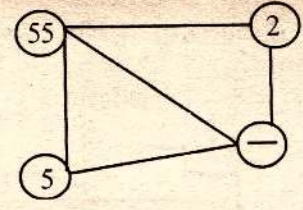
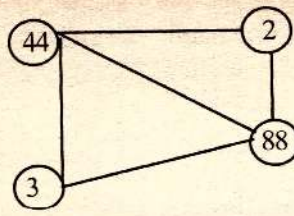
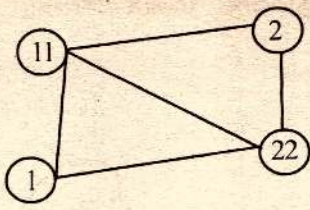
IV.

- கீழேயுள்ள உருவங்களிலுள்ள எண்கோலங்களை நன்கு அவதானித்து இடைவெளிக்கு பொருத்தமான எண்ணை எழுதுக.



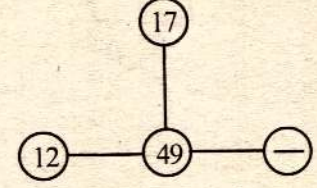
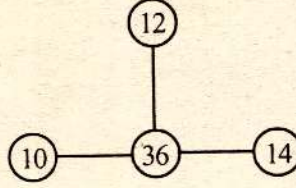
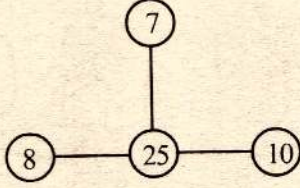
(.....)

16.




(.....)

17.



(.....)

● பின்வரும் பிராணிகளின் பெயர்களை புள்ளிக்கோட்டில் எழுதுக.



18.

19.

20.

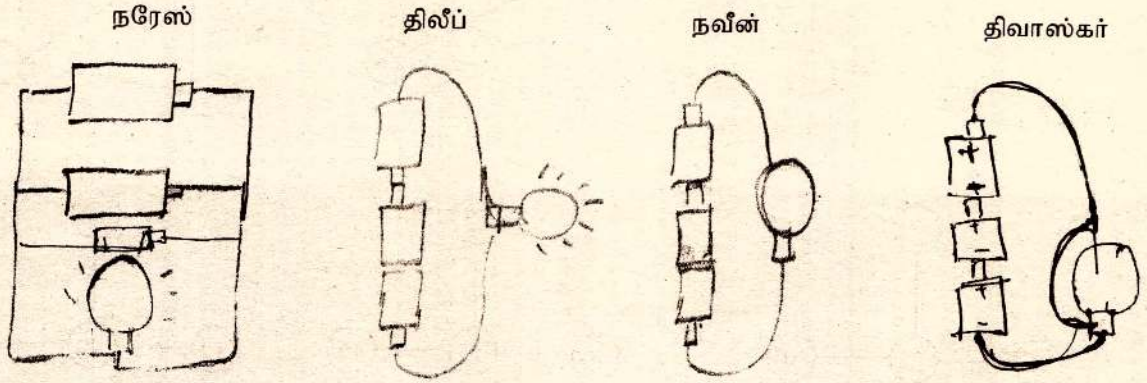
● கீழ்க்காணப்படும் தகவல்கள் சரியாயின் “√” எனவும், பிழையாயின் “X” எனவும் அடையாளமிடுக.

21. கறையான்கள் கூம்பு வடிவான புற்றுக்களை அமைக்கின்றன. (.....)
22. 20 ஓர் சதுர எண்ணாகும். (.....)
23. நீர் பாத்திரங்களை கொடுத்து வரவேற்றல் இந்துக்களின் திருமணப் பழக்க வழக்கங்களில் ஒன்றாகும். (.....)
24. இலங்கை ஒரு அபிவிருத்தியடைந்த நாடாகும். (.....)
25. ஈமெயில் என்பதன் தமிழ் வடிவம் ‘இணையம்’ ஆகும். (.....)

● சரியான விடையின் கீழ் கோடிடுக.

26. நிவேதாவிடம் ரூபா 70 உள்ளது. தர்சிகாவிடம் ரூபா 100 உள்ளது. அவர்கள் இருவரிடமும் இருக்கும் பணம் சமனாக வரவேண்டுமாயின் தர்சிகா நிவேதாவுக்கு எவ்வளவு பணம் கொடுக்க வேண்டும்.
- I. ரூபா 10 II. ரூபா 15 III. ரூபா 20 IV. ரூபா 30
27. சதுர வேலி ஒன்றின் ஒரு பக்கத்தில் 16 தூண்கள் உள்ளன. சுற்றிவர காணப்படும் தூண்களின் எண்ணிக்கை யாது?
- I. 64 II. 66 III. 39 IV. 60
28. கீழே தரப்படும் நேரங்களில் மணிமுள் நிமிட முட்களுக்கிடையில் கூர்கோணத்தை காட்டும் நேரம்
- I. 3.15 II. 9.00 III. 6.00 IV. 4.45

- தரம் 5 மாணவர்களில் 4 மாணவர்கள் பின்வருமாறு மின்குமிழை மின்கலங்களுடன் இணைந்து ஒளிர செய்வதற்கு முயற்சி செய்தனர்.



29. சரியான முறையில் ஒளிர செய்தவர்கள்

- I. திலீப், நவீன் II. நவீன், நரேஷ் III. நரேஷ், திவாஸ்கர் IV. திவாஸ்கர், திலீப்

- பின்வரும் மரபுத் தொடர்களுக்குப் பொருத்தமான சொற்களின் கீழ்க் கோடிடுக.

30. கால் பின்னுதல்

- I. ஆரம்பித்தல் II. தடைபடல் III. தொடர்ந்து பற்றுதல் IV. எட்டி பிடித்தல்

31. வாலாட்டுதல்

- I. பழித்தல் II. முற்றாய் விலகல் III. சேட்டை பண்ணுதல் IV. விடாது நெருங்கல்

32. காது கொடுத்தல்

- I. அவதானித்தல் II. ஏமாற்றுதல் III. இரகசியம் கூறல் IV. வெளிவருதல்

33. ஆறு பந்துகளின் விலை ரூபா 57.00 ஒரு பந்தின் விலை யாது?

- I. 7.50 II. 8.50 III. 9.00 IV. 9.50

34. $\frac{2}{4}$ யை தசமத்தில் தருக.

- I. .75 II. .25 III. .5 IV. 2.0

35. ஒரு கூடையில் 36 மாம்பழங்கள் உள்ளன. அவற்றில் $\frac{1}{3}$ பங்கு பழுதடைந்துவிட்டன. பழுதடையாத பழங்களின் எண்ணிக்கை யாது?

- I. 12 II. 6 III. 24 IV. 21

36. இன்று சனிக்கிழமை. நேற்று முன்தினம் 14ம் திகதி ஆகும். அவ்வாறாயின் நாளை மறுநாள் எத்தனையாம் திகதியாகும்.

- I. 13 ஆம் திகதி II. 15 ஆம் திகதி III. 17 ஆம் திகதி IV. 18 ஆம் திகதி

- வேறுபட்ட சொல்லின் கீழ் கோடிடுக.

37. தவளை, ஆமை, மீன், முதலை

38. கழுகு, பருந்து, ஆந்தை, காகம்

39. கள்ளி, நாகதாளி, கற்றாளை, வற்றாளை

40. வயலின், சேமக்கலம், தாளம், சல்லாரி

மாணவர்களைப் பாடசாலைகளுக்குத் தேர்ந்தெடுப்பதற்கும், மாணவர்களுக்கு உதவீப்பணம் வழங்குவதற்கும்
ஐந்தாம் தர மாணவர்களுக்கு நடாத்தப்படும் மாதிரிப் பரீட்சை
 MODEL EXAMINATION FOR YEAR FIVE STUDENTS FOR SELECTION TO SCHOOLS AND FOR THE AWARD OF BURSARIES

கட்டெண் :

வினாப்பத்திரம் II

நேரம் : 1 மணி 15 நிமிடம்

எல்லா வினாக்களுக்கும் இத்தாளிலேயே விடையளிக்க.

D 100312

1. பின்வரும் பந்தியை வாசித்து கீழே தரப்பட்டுள்ள வினாக்களுக்கு விடை தருக.

விரிந்த வயற்பரப்பு வரப்புகளால் எல்லையிடப்பட்டிருந்தது. கதிர் கொண்ட நெல்லினங்கள் நிலம் நோக்கி தாழ்ந்திருந்தன. தாய்மை எனும் தெய்வீகப் பேரழகு அவற்றிற் பொலிந்தது. நற்குடிப் பிறந்த நங்கை நாணி நகும் நளிளம் அவற்றில் வெளிப்பட்டது. காலையிளந்தென்றல் தழுவ நெல்லினங்கள் 'கலகல்' எனச் சத்தமிடுகின்றன. அன்றி பதர்கள் பண்பற்ற நடத்தையுள்ள பாவையர்போல தம் முகம் காட்டி சிரிக்கின்றன. அறிவின் தெளிவு அதிகமான அமைதியும் அடக்கமும் பொலியும் தன்மை அந்த இயற்கைக் கோலத்தில் இயல்பாய் எழுதப்படுகிறது.

(i) இங்கு கூறப்படும் காட்சி எது?

(ii) இங்கு காணக்கூடிய காட்சிகள் 2 தருக.

(iii) இப்பந்தியில் வந்துள்ள உவமைத்தொடர் எது?

(iv) பின்வருவனவற்றிற்கு ஒத்த சொல் தருக.

(i) வயல்

(ii) நிலம்

(iii) முகம்

(iv) தாய்

(v) பின்வருவனவற்றிற்கு எதிர் சொல் தருக.

(i) தெளிவு

(ii) அமைதி

(iii) இயற்கை

(iv) காலை

(vi) பேரழகு என்பதை பிரித்து எழுதுக.

(vii) இங்கு இடம்பெற்றுள்ள உயர்திணை பெண்பால் பெயர் சொல் ஒன்று தருக.

(viii) இங்கு இடம்பெற்றுள்ள இரட்டை கிளவி எது?

2. பின்வரும் பழமொழிகளை பூர்த்தி செய்து எழுதுக.

(i) ஆத்திரகாரனுக்குப்

(ii) பாத்திரம் அறிந்து

3. பின்வரும் சொற்களுக்குரிய ஆங்கிலச் சொற்களை எழுதுக.

(i) உந்துருளி

(ii) தொடருந்து

(iii) மலசலகூடம்

(iv) வெதுப்பகம்

4. சரியான விடையின் கீழ் கோடிடுக.

(i) தென்னைக்கு இளமைப் பெயர் பிள்ளை போல் பனைக்கு

1. கன்று

2. வடலி

3. பிள்ளை

4. நாற்று

(ii) பத்து ஆண்டுகள் நிறைவில் எடுக்கப்படும் விழா

1. அலுமினிய விழா 2. காகித விழா 3. வெள்ளி விழா 4. பருத்தி விழா

5. தமிழ்க்கருத்தை எழுதுக.

(i) Good bye (ii) We work very hard

6. பின்வரும் சிங்களத் தொடர்களின் தமிழ்க் கருத்தை எழுதுக.

(i) தாத்தா வெட்டி கியா (ii) அலுத் அவறுது

7. கீழ்வரும் சொற்களை அவற்றின் பொருள் விளங்குமாறு வாக்கியம் அமைக்க.

கறி :-

கரி :-

● 8 - 16 வரையிலான வினாக்களுக்கு சரியான விடையின் கீழ் கோடிடுக.

8. அண்மையில் நடந்த கிரிக்கெட் உலகக்கோப்பையை வென்ற நாடு எது?

1. இலங்கை 2. மேற்கிந்திய தீவுகள் 3. அவுஸ்திரேலியா 4. இந்தியா

9. ஒரு வருடத்தில் உள்ள வாரங்களின் எண்ணிக்கை யாது?

1. 48 2. 54 3. 52 4. 50

10. மஞ்சள், சிவப்பு நிறங்களைக் கலந்தால் பெறப்படும் நிறம் எது?

1. பச்சை 2. செம்மஞ்சள் 3. நீலம் 4. கறுப்பு

11. தீயணைக்கும் கருவிகளில் காணப்படும் வாயு

1. ஓட்சிசன் 2. நைதரசன் 3. காபனீரொட்சைட் 4. ஐதரசன்

12. இங்கே தரப்பட்டுள்ள குறியீடு குறிப்பது



1. வாகனங்கள் நிறுத்தக்கூடாது.
2. வாகனம் செல்லத்தடை
3. வழி விடவும்
4. சகல வாகனங்களுக்கும் வீதி மூடப்பட்டுள்ளது


13. பின்வரும் அடையாளம் குறிப்பது | |

1. மின்குமிழ் 2. மின்கலம் 3. ஆளி 4. மேற்கூறியது எதுவுமல்ல

14. தண்டுகளில் உணவை சேமிக்கும் தாவரம் அல்லாதது

1. வெங்காயம் 2. இஞ்சி 3. மஞ்சள் 4. வற்றாளை

15.



இந்நீர் வாழ் தாவரம் எது?

1. வலிசினேரியா 3. ஐதரில்லா
2. தாமரை 4. சல்வீனியா

16. வானவில்லின் இறுதி நிறம் யாது?

1. சிவப்பு 2. ஊதா 3. நீலம் 4. செம்மஞ்சள்

- நிரல் “அ” இல் தரப்பட்டுள்ள சொற்களுக்குப் பொருத்தமான சொல்லை நிரல் “ஆ” இல் இனங்கண்டு தொடர்புபடுத்துக.

அ

17. முதலாவது தலைநகரம்
18. சிறிய மாவட்டம்
19. பாலைவன தாவரம்
20. நிலக்கீழ்த் தண்டு
21. பதநீர்


ஆ

- தென்னை
- சேம்பு
- கொழும்பு
- அநுராதபுரம்
- கற்றாளை

- 22 - 26 வரையிலான வினாக்களுக்கு தரப்பட்ட இடங்களின் பெயர்களை தரப்பட்ட அடைப்பினுள் இருந்து தெரிவு செய்க.

(தலதா மாளிகை, சந்திரவட்டக்கல், ருவன்வெலிசாய, சிகிரியா, தூபராம தாதுகோபம்)

22.




23.




24.



25.



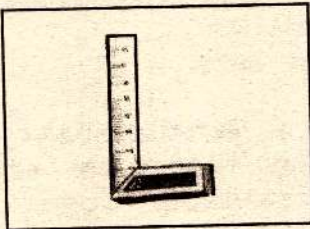
26.



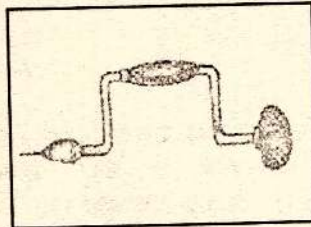
- 27 - 31 வரையிலான வினாக்களுக்கு தரப்பட்ட உபகரணங்களின் பெயர்களை தரப்பட்ட அடைப்பினுள் இருந்து தெரிவு செய்து எழுதுக.

(சதுர மணியாக, சதுர அளவுமானி, தூக்குக்குண்டு, மரச்சம்மட்டி, துறப்பணம், சதுரஅளவுமானி)

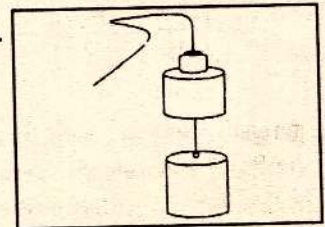
27.




28.



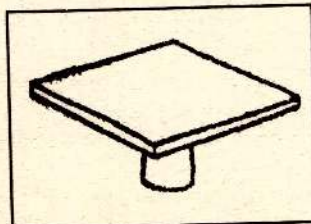
29.



30.



31.



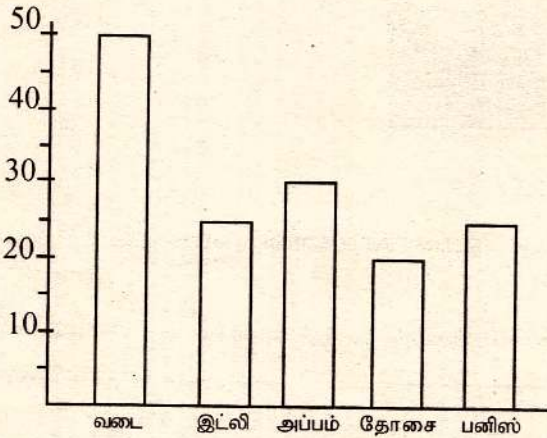
● பின்வரும் வினாக்களுக்கு விடை தருக.

32. புத்தகம் ஒன்று 13.75 ரூபாய் ஆயின் ஒரு டசின் புத்தகங்களின் விலை யாது?
33. வினோஜா 1994 ஆம் ஆண்டு 2 ஆம் மாதம் 20 ஆம் திகதி பிறந்தாள்.
2008 ஆம் ஆண்டு 6 ஆம் மாதம் 15 ஆம் திகதி அவளின் வயது யாது?
34. கபிலன் தனது மூன்று நண்பர்களுடன் கடைக்கு சென்று 100/= ரூபாவைக் கொடுத்து 4 குளிர்பான போத்தல்களை வாங்கினான். கடைக்காரர் கபிலனிடமிருந்து 2 ரூபாவை கொண்டு 20 ரூபாவை திருப்பி கொடுத்தார் எனின் ஒரு குளிர்பான போத்தலின் விலை யாது?
35. மூன்று அடிமட்டங்களின் விலைக்கு ஒரு பேனை வாங்கலாம். ஐந்து பேனைகளின் விலைக்கு ஒரு பென்சில் பெட்டி வாங்கலாம். ஒரு பென்சில் பெட்டியின் விலை 105 ஆகும் எனின், ஒரு அடிமட்டத்தின் விலை யாது?
36. கூட்டுக. $\frac{2}{4} + \frac{3}{12} =$

● தரப்படும் சிட்டையைப் பூர்த்தி செய்து மொத்தத்தைக் காண்க.

பொருள்	விலை (கி.கி.)	ரூ. சதம்
37. 1 1/2 kg அரிசி	80.00	
38. 250 g பருப்பு	60.00	
39. 750 g கிழங்கு	100.00	
40. 200 g தக்காளி	25.00	
41.	மொத்தம்	

● சிற்றுண்டிச்சாலை ஒன்றில் குறிப்பிட்ட ஒரு நாளில் விற்பனை செய்யப்பட்ட உணவுகள் பற்றிய விபரம் வரைபில் காட்டப்பட்டுள்ளது. பின்வரும் வினாக்களுக்கு விடை தருக.



42. அன்றைய தினம் கூடுதலாக விற்பனையாகிய உணவு எது?
43. அப்பம் ஒன்று ரூபா 12/= படி விற்பனை செய்யப்பட்டால் அப்பம் விற்பனையால் கிடைத்த மொத்த வருமானம்?
44. விற்பனையாகிய வடைகளுக்கும் தோசைகளுக்கும் இடையிலுள்ள எண்ணிக்கை வித்தியாசம் யாது?
45. சமமான எண்ணிக்கையில் விற்பனையாகிய உணவுகள் எவை?
46. அன்று பனிஸ் விற்பனையால் கிடைத்த மொத்த வருமானம் 225/= எனின், பனிஸ் ஒன்றின் விலை யாது?

● நாலும் எனது நண்பர்கள் சிலரும் கடற்கரையில் விளையாடி கொண்டிருந்தோம். திடீரென பாரிய அலைகள் எங்களை நோக்கி வந்தன. இதனை தொடர்ந்து உமது கற்பனையில் எழுவாய் - பயனிலை தொடர்பு திருத்தமானதாக ஆறு வாக்கியங்கள் எழுதுக.

47.
48.
49.
50.
51.
52.

மாணவர்களைப் பாடசாலைகளுக்குத் தேர்ந்தெடுப்பதற்கும், மாணவர்களுக்கு உதவிப்பணம் வழங்குவதற்கும்
ஐந்தாம் தர மாணவர்களுக்கு நடாத்தப்படும் மாதிரிப் பரீட்சை
 MODEL EXAMINATION FOR YEAR FIVE STUDENTS FOR SELECTION TO SCHOOLS AND FOR THE AWARD OF BURSARIES

கட்டெண் :

வினாப்பத்திரம் I

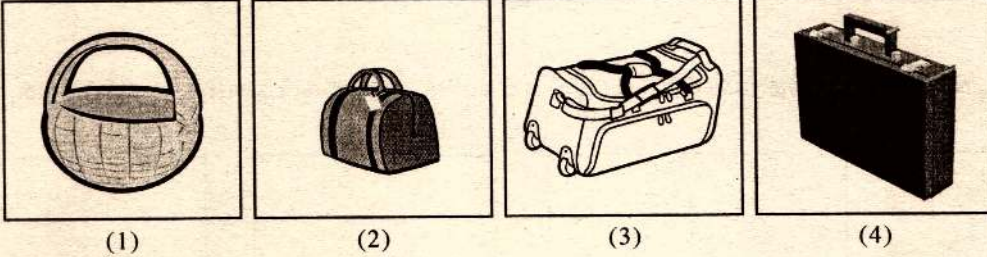
நேரம் : 45 நிமிடம்

எல்லா வினாக்களுக்கும் இத்தாளிலேயே விடையளிக்க.

D 100321

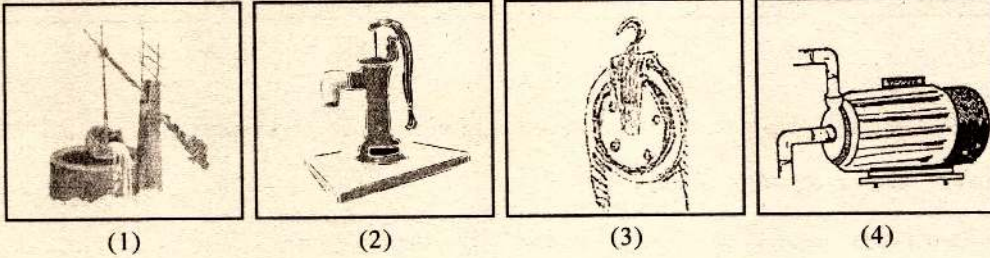
● கொடுக்கப்பட்ட விடைகளை வினாக்களின் தன்மைக்கேற்ப தெரிந்து சரியான விடையின் கீழ் கோடிடுக.

01. பயணங்களில் அதிக பொருட்களைக் கொண்டு செல்லப் பயன்படும் இரண்டு



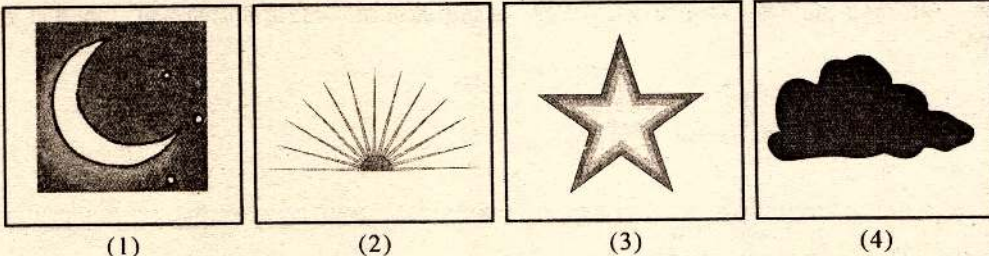
- (1) 1, 3
 (2) 1, 2
 (3) 3, 4

02. பாரம்பரிய நீரிறைக்கும் முறைகள்



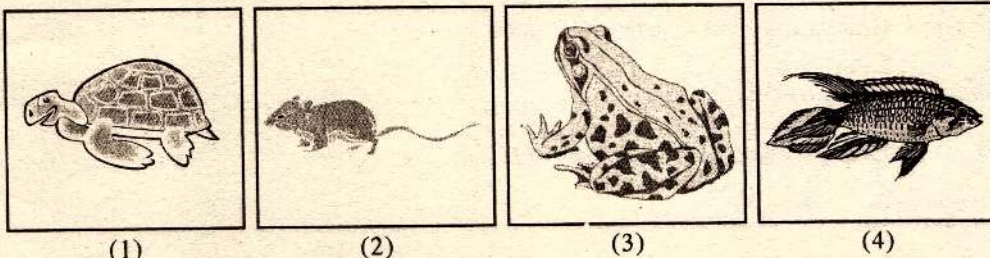
- (1) 1, 3
 (2) 1, 2
 (3) 3, 4

03. ஒரே வகையினது



- (1) 2, 3
 (2) 1, 2
 (3) 3, 4

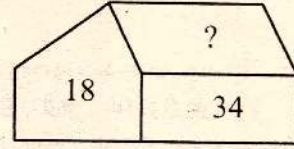
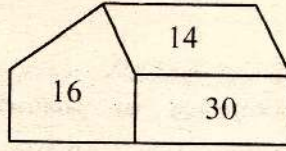
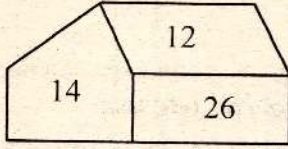
04. ஈருடகம் அல்லாதவை



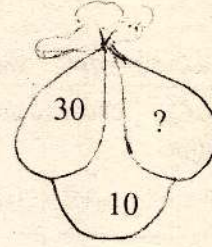
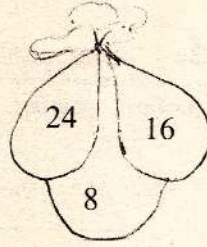
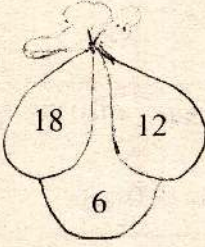
- (1) 1, 3
 (2) 1, 2
 (3) 2, 4

- வினா 5ம் 6ம் இல் உள்ள எண்கோலங்களைப் பூர்த்தி செய்க.

05.



06.




- உரிய இடங்களில் படத்திற்கேற்ற வாக்கியங்களின் இலக்கங்களைக் குறிப்பிடுக.




(1)



(2)



(3)



(4)

07. தோட்டத்தில் மேயும் வெள்ளைப்பசு அங்கே துள்ளிக் குதிக்குது கன்றுக்குட்டி
08. கஞ்ச மகள் வந்து காணிற் சிரிக்குமோ?
09. கத்தரித்தோட்டத்து மத்தியிலே நின்று காவல் புரிகின்ற சேவகா.
10. பெண்கள் முகம் போல் வருவாய் வெண்ணிலாவே.

- சொற்களை பொருத்தமாக ஒழுங்குபடுத்தி கருத்துள்ள வாக்கியங்கள் ஆக்குதற்கேற்ப இலக்கமிடுக.

1 2 3 4

11. பக்தி / இராயப்பு / உடையவன் / மிகுந்த

1 2 3

12. உய்விக்கும் / அமரருள் / அடக்கம்

1 2 3 4

13. உறவென்று / வேண்டாம் / மாற்றாணை / நம்ப

1 2 3 4

14. தண்ணீர் / தூரத்து / ஆபத்துக்கு / உதவாது

● பொருத்தமான பதங்களை உரிய இடத்தில் பொருத்துக.

ஆபிரகாம்லிங்கன் பறங்கியர் திரிபீடகம் யாழ்நூல்

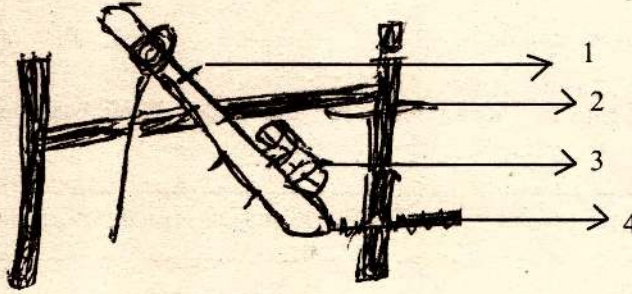
15. விபுலானந்தர் என்னும் புத்தகத்தினை எழுதினார்.
 16. இலங்கைக்கு வந்த மேல்நாட்டவரின் வாரீசுகளே ஆகும்.
 17. பௌத்த தத்துவத்தைக் கூறும் நூல்களில் ஒன்றாகும்.
 18. கறுப்பு இனத்தின் விடுதலைக்காக உழைத்தவர் ஆவார்.

● எழுத்துக்களை உரிய சொற்களுடன் இணைத்து தெளிவாக எழுதுக.

19. மாணவர் கள் நீர் குடித்த தால் உற்சா கம் பெற்றனர்.
-

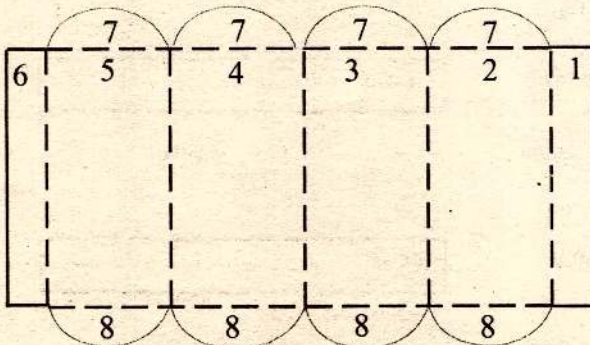
20. விளம்ப ரங்கள் மனி தரைக் கவர் கின்றன.
-

● பொருத்தமான விடைக்குரிய இலக்கங்களை இணைக்குக.



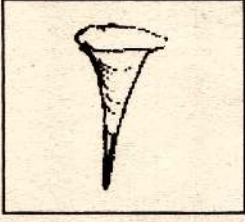
21. அச்சலக்கை (2)
 22. பார இரும்பு (4)
 23. ஆடுகால் (1)
 24. பிணைக்கட்டை (3)

27. ஒரு விசக்கோத்துப் பெட்டி தயாரிக்க வெட்டப்பட்ட பகுதிகள் வரையப்பட்டுள்ளன. அவற்றில் இடப்பட்ட இலக்கங்களை வினாவுக்கு உரிய இடத்தில் குறிப்பிடுக.




25. மேற்புற மூடி
 26. கீழ் புறமூடி
 27. ஒட்டுவதும் ஒட்டப்படுவதும்


28. வெட்டிய மரங்களை நீள்பாட்டில் இரண்டாகப் பிளக்கப் பயன்படும் முக்கிய கருவி எது?



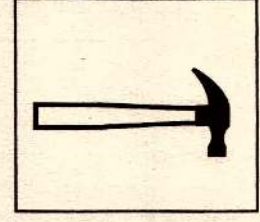
ஆப்பு



கோடரி



உளி



சுத்தியல்

- “அ” பகுதிக்குப் பொருத்தமான “ஆ” பகுதியைத் தெரிவு செய்து அதன் இலக்கத்தை “அ” பகுதியில் எழுதுக.

அ

ஆ

- | | | |
|---|---------|-----------------------|
| 29. உயிரியல் வாயு | (.....) | 1. காளான் |
| 30. சமையல் வாயு | (.....) | 2. ஆமை |
| 31. பாலூட்டி | (.....) | 3. பெற்றோலிய உற்பத்தி |
| 32. முட்டையிடுவது | (.....) | 4. கொம்போஸ்தர் உரம் |
| 33. மாமிசம் என்றும் தாவரம் என்றும் கருதப்படுவது | (.....) | 5. திமிங்கிலம் |

- வாக்கியங்களுக்குப் பொருத்தமான சொற்களைத் தெரிந்து இடைவெளிகளைப் பூர்த்தி செய்க.

தொழில், வேம்பு, சதுரங்கம், பூதக்கண்ணாடி, குறிஞ்சி, உதைபந்தாட்டம், மாயக்கண்ணாடி, கரும்பு

34. சித்திரை மாதத்தில் பூக்கின்றது
35. ஓர் உள்ளக விளையாட்டு
36. நாவிதன் வெளி என்ற சொல்லில் ஒரு குறிக்கப்படுகிறது.
37. உருவத்தைப் பெரிதாகக் காட்டப் பயன்படுவது
38. சீனி உற்பத்திக்கு பீற்றுட் கிழங்கு பயன்படுவது போல வேறு எதனைப் பயன்படுத்தலாம்?

- பின்வரும் வினாக்களில் உள்ள வெற்றிடங்களுக்கு மிகப் பொருத்தமான சொல்லைத் தரப் பட்டுள்ள விடைகளிலிருந்து தெரிவு செய்க.

39. நோய் : மருந்து எனின் மழை :
- (1) வெயில் (2) குடை (3) முகில்

40. ஆகாயம் : விமானம் எனின் கடல் :
- (1) கன்னி (2) அலை (3) கப்பல்

மாணவர்களைப் பாடசாலைகளுக்குத் தேர்ந்தெடுப்பதற்கும், மாணவர்களுக்கு உதவியணம் வழங்குவதற்கும்
ஐந்தாம் தர மாணவர்களுக்கு நடாத்தப்படும் மாதிரிப் பரீட்சை

MODEL EXAMINATION FOR YEAR FIVE STUDENTS FOR SELECTION TO SCHOOLS AND FOR THE AWARD OF BURSARIES

சுட்டெண்:

வினாப்பத்திரம் II

நேரம் : 1 மணி 15 நிமிடம்

எல்லா வினாக்களுக்கும் இத்தாளிலேயே விடையளிக்க.

D 100322

1. பின்வரும் பாடலை வாசித்து அதன் கீழுள்ள வினாக்களுக்கு விடை எழுதுக.

காயிலே புளிப்பதென்னே? கண்ண பெருமானே நீ
கனியிலே இனிப்பதென்னே? கண்ண பெருமானே
நோயிலே படுப்பதென்னே? கண்ண பெருமானே நீ
நோன்பிலே உயிர்ப்பதென்னே? கண்ண பெருமானே.

(i) இப்பாடலில் வரும் வாக்கியங்கள் காட்டும் குறியீடு என்ன?

(ii) இப்பாடல் யாரை விழித்துப் பாடப்பட்டுள்ளது?

(iii) நான்கு வரிகளிலும் வருகின்ற ஒரு சொல்லைக் குறிப்பிடுக.

(iv) காயினது தன்மை, கனியினது தன்மை இரண்டையும் கவிஞர் எவ்வாறு குறிப்பிடுகிறார்?
.....

(v) ஒத்த பதம் ஒவ்வொன்று தருக.

(i) கனி (ii) நோன்பு

(iii) படுப்பது (iv) பாடல்

(vi) எதிர்ப்பதம் ஒவ்வொன்று தருக.

(i) காய் (ii) இனிப்பு

(iii) நோய் (iv) உயிர்ப்பது

2. ஒழுங்கற்ற சொற்களை ஒழுங்குபடுத்தி கருத்துள்ள வாக்கியங்களாக அமைக்குக.

(i) நாறுமா / மீன் / காசு / விறற்
.....

(ii) மருந்தம் / மூன்று / விருந்தம் / வேளை
.....

(iii) சிறப்பு / சென்ற / கற்றோருக்கு / இடமெல்லாம்
.....

(iv) நம்பி / ஆற்றில் / மண்குதிரையை / இறங்காதே
.....

3. கீழே தரப்பட்டுள்ள பந்திக்கு நிறுத்தக் குறிகளை உரிய இடத்தில் இடுக.

மாணவர் வாழ்வுக்கு வலிமையூட்டுவது கல்வி கல்லாதவன் மண்ணால் செய்த பாவை போன்றவன் வெறும் உடல் அழகைக் கொண்டவன் கற்க மறுப்பது வாழ் மறுக்கும் செயல் அல்லவா

4. “அ” பகுதியில் கொடுக்கப்பட்ட விடயங்களுக்குப் பொருத்தமான “ஆ” யை இணைக்குக.

அ

ஆ

(i) காதி நீதிபதி

யானை

(ii) நல்ல பாம்பு

மகாபாரதம் / இராமாயணம்

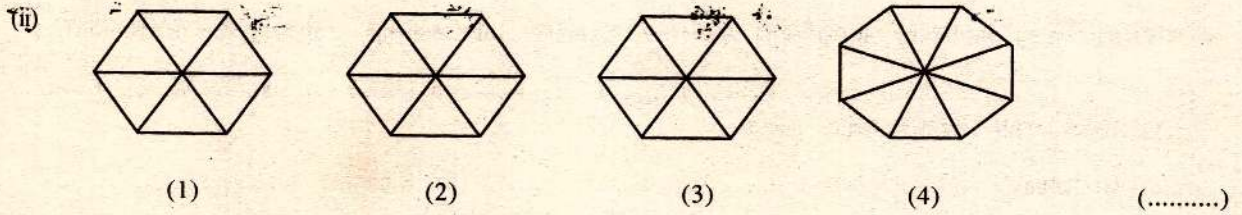
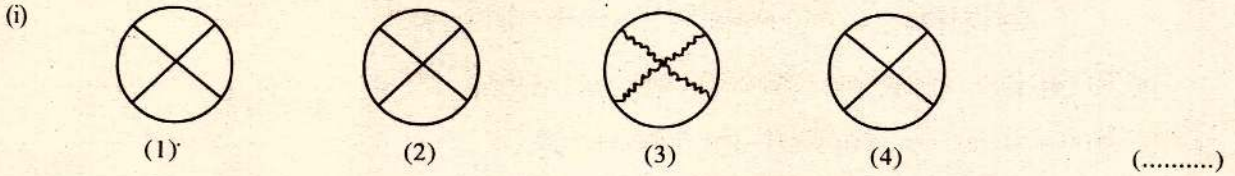
(iii) இதிகாஷம்

இஸ்லாம்

(iv) அங்குசம்

நாகம்

5. கொடுக்கப்பட்ட உருக்களில் வேறுபட்ட அமைப்பு இருப்பின் அதன் இலக்கத்தைப் புள்ளிக் கோட்டில் தருக.



6. கீழே தரப்பட்டுள்ள கூட்டினை அவதானித்து கேட்கப்பட்ட வினாக்களுக்க விடை தருக.

	40	20
45	20	
	30	45

(i) கொடுக்கப்பட்ட பகுதிகளில் எப்பகுதியிலிருந்து கூட்டினாலும் முடிவில் 90 என்பதே கூட்டுத் தொகையாக வரும். எனவே வெற்றிடங்களில் வரும் இலக்கங்களைக் கூட்டில் எழுதுக

.....

(ii) இரு தடவைகள் வருகின்ற எண்கள் மூன்றையும் கூட்டில் வட்டமிடுக.

(iii) பத்துக்களில் முடியும் எண்களை ஒரே நேரிலுள்ள கூடுகளில் குறிப்பிட்டுக் காட்டுக.

7. பின்வரும் வினாக்களுக்கான விடையைப் புள்ளிக்கோட்டில் எழுதுக.

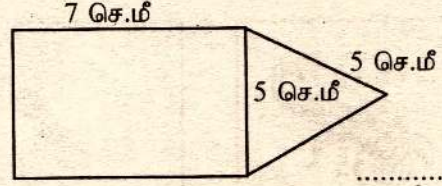
(i) ஒரு வியாபாரி ஒரு உறையிலுள்ள பூங்கன்றை 50 ரூபா வீதம் விற்றான். 350 ரூபாவுக்கு எத்தனை பூங்கன்று உறைகளை விற்றிருப்பான்?

.....

(ii) ஒரு அன்னாசிப் பழத்தை நீள்வட்டமான 05 துண்டுகளாக வெட்டலாமெனில், 28 அன்னாசிப் பழத்தில் அத்தகைய எத்தனை துண்டுகளை வெட்டலாம்?

.....

(iii) கொடுக்கப்பட்ட உருவின் சுற்றளவைக் காண்க.



.....

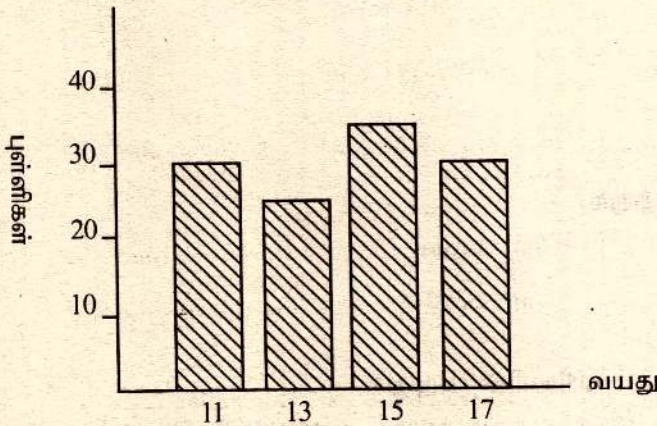
(iv) ஒரு கதவின் நீளம் 6 அடி. அப்படியான ஆறு கதவுகளுக்கு திரைச்சீலை வெட்டப்பட்டுள்ளது. 40 அடி நீளமான சேலையில் வெட்டிய அப்பகுதி எடுக்கப்பட்ட பின் எவ்வளவு அடி மீதியாக இருக்கும்?

.....

(v) ஒருவர் ஒரு நாளில் எட்டுமணி நேரப்படி இரு நாட்களில் எத்தனை மணி நேரம் செய்வார்? 240 மணி நேர வேலையை எத்தனை நாளில் செய்து முடிப்பார்?

.....

8. ஒருவர் தனது வெவ்வேறு வயதுகளில் சம்பியனாக வந்த போது பெற்ற புள்ளிகள் வரைபில் தரப்பட்டுள்ளது. இதனை அவதானித்து கேட்கப்பட்ட வினாக்களுக்கு விடை தருக.



(i) எத்தனையாவது வயதில் சம்பியனாக வந்த போது கூடிய புள்ளிகள் பெற்றார்? புள்ளிகளையும் தருக.

.....

(ii) எத்தனையாவது வயதில் குறைந்த புள்ளிகளுடன் சம்பியனாக வந்துள்ளார்? புள்ளிகளையும் குறிப்பிடுக.

.....

(iii) இரு வயதுப் பருவங்களில் சமமான புள்ளிகளைப் பெற்று சம்பியனாக வந்துள்ளார். அவ்வயதுகளையும் புள்ளிகளையும் தருக.

.....

9. பொருத்தமான விடைகளைத் தெரிவு செய்து எழுதுக.

ரூவன்வெலிசாயா, மண்ணரிப்பு, மின்சாரம், சோழர், குறாவளிகள்

(i) பொலநறுவையில் சிவன் கோயில்களைக் கட்டினார்கள்.

(ii) துட்டகைமுனுவால் என்ற விகாரை கட்டப்பட்டது.

(iii) மரங்களை நடுவதாலும் தடுக்கலாம்.

(iv) மத்திய மலைநாட்டில் உருவாகும் நீர் வீழ்ச்சிகள் உற்பத்தி செய்ய பயன்படுத்தலாம்.


(v) திடீரென தாழ்முக்கம் ஏற்படும் போது உருவாகின்றன.

10. படத்திலுள்ள உருக்களின் பெயர்களை தரப்பட்டுள்ள சொற்களில் இருந்து தெரிவு செய்து புள்ளிக் கோட்டில் எழுதுக.

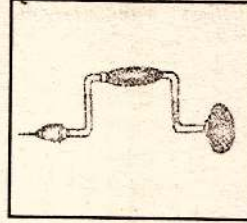
உடும்பு, மரச்சீவுளி, இடப்பக்கம் செல்லவும், இப்பக்கம் செல்லவும், உளி, தூரிகை, புள்ளிடித் தையல், துறப்பணம், அரம், தேள்



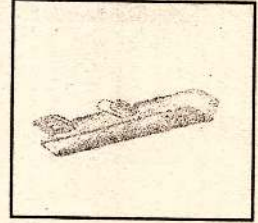
(1)



(2)



(3)



(4)

11. ஒவ்வொரு உருவிலும் காட்டப்பட்டுள்ள தாவரத்தின் பெயரை தரப்பட்டுள்ள பெயர்களில் தெரிவு செய்து புள்ளிக்கோட்டின் மீது எழுதுக.

நந்தியாவட்டை, இஞ்சி, இலுப்பை, ஊமத்தை, எருக்கு, குன்றுமணி, கொவ்வை



(1)



(2)



(3)



(4)

12. பொருத்தமான தமிழ்ப் பதங்களைத் தருக.

- | | |
|-------------------|--------------------|
| (i) Address | (ii) Visitor |
| (i) அடிமை | (ii) மூலம் |

13. கொடுக்கப்பட்ட பந்தியின் மீதியை ஆறு வரிகளில் எழுதுக.

மாமிச உணவை உண்ணாத விலங்குகள் மிகச் சாந்தமாகவும் ; தைரியசாலிகளாகவும் உள்ளன. மான், மாடு, முயல், ஆடு, யானை என்பன தாவர உண்ணிகளாகும். இவற்றைப் பார்த்து

1.
2.
3.
4.
5.
6.

மாணவர்களைப் பாடசாலைகளுக்குத் தேர்ந்தெடுப்பதற்கும், மாணவர்களுக்கு உதவியணம் வழங்குவதற்கும்
ஐந்தாம் தர மாணவர்களுக்கு நடாத்தப்படும் மாதிரிப் பரீட்சை

MODEL EXAMINATION FOR YEAR FIVE STUDENTS FOR SELECTION TO SCHOOLS AND FOR THE AWARD OF BURSARIES

கூட்டெண் :


வினாப்பத்திரம் I

நேரம் : 45 நிமிடம்

எல்லா வினாக்களுக்கும் இத்தாளிலேயே விடையளிக்க.

D 100411

● இங்கு காட்டப்பட்டுள்ள பிராணிகளை இரண்டு கூட்டங்களாகப் பிரிக்கலாம்.



(A)

(B)

(C)

(D)

01. இக்கூட்டங்களை சரியாக காட்டும் விடையைத் தெரிவு செய்து விடையின் கீழுள்ள இலக்கத்தை புள்ளிக்கோட்டில் இடுக.

(1)

AB
CD

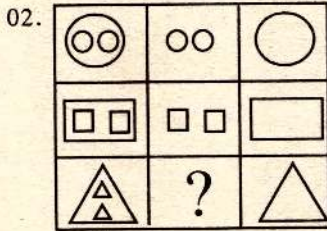
(2)

AC
BD

(3)

AD
BC

● பின்வரும் வினாக்கள் ஒவ்வொன்றிலும் அடுத்துவரும் வெற்றிடத்தில் வரவேண்டிய விடையை தெரிவு செய்து புள்ளிக்கோட்டில் இடுக.




(1) Δ

(2) $\Delta\Delta$

(3) Δ

03.

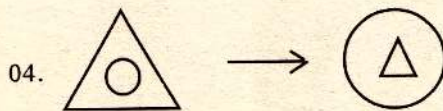


(1)

(2)

(3)

● முதல் இரு படத்திற்கும் உள்ள தொடர்பை அவதானித்து, அடுத்த படத்துடன் மிக நெருங்கிய தொடர்புடைய உருவின் இலக்கத்தைப் புள்ளிக்கோட்டில் இடுக.



(1)

(2)

(3)

● பின்வரும் வினாக்கள் ஒவ்வொன்றிலும் முதலில் தரப்படும் கூற்று பிழை. அக்கூற்று ஏன் பிழையானது எனக் குறிக்கும் விடையைத் தெரிவு செய்து புள்ளிக்கோட்டில் இடுக.

05. கண்ணன் சனிக்கிழமை பாடசாலைக்குச் சைக்கிளில் சென்றான்.

- (1) கண்ணனிடம் சைக்கிள் இல்லை.
- (2) அவன் வழமையாக பேருந்தில் செல்வான்.
- (3) அவனிற்கு வழமையாக சனிக்கிழமைகளில் பாடசாலை இல்லை.

06. மீன் தன் குட்டிகளை சில காலம் வாயினுள் வைத்து பாதுகாக்கிறது.

- (1) மீனின் வாய் சிறியது.
- (2) மீனின் பிள்ளைகளை குட்டி என்பதில்லை.
- (3) மீன் குட்டிகளை தின்று விடும்.

● பின்வரும் வினாக்களில் தரப்பட்டுள்ள சம்பவங்களை சரியாக ஒழுங்குபடுத்தும் போது நடுவில் வரும் சம்பவத்தை காட்டும் விடையை தெரிந்து புள்ளிக்கோட்டில் இடுக.

07. (A) ராணி மழையில் நனைந்தபடி பாடசாலைக்குச் சென்றாள்.

- (B) ஆகவே வைத்தியரிடம் சிகிச்சை பெறச் சென்றாள்.
- (C) அதனால் அவள் சுகயீனம் உற்றாள்.
- (D) அவள் அந்நேயிலிருந்து விடுபட்டாள்.
- (E) பின் ஒரு வாரம் ஓய்வாக இருந்து சத்துணவும் மருந்தும் உட்கொண்டாள்.

● பின்வரும் வினாக்களுக்கான விடையைப் புள்ளிக்கோட்டில் எழுதுக.

08. அடுத்து வரும் கோலத்தை பூர்த்தி செய்க.

<div style="border: 1px solid black; padding: 5px; display: inline-block;">30</div>	<div style="border: 1px solid black; border-radius: 50%; padding: 5px; display: inline-block;">3</div>	<div style="border: 1px solid black; padding: 5px; display: inline-block;">△ 10</div>	<div style="border: 1px solid black; padding: 5px; display: inline-block;">5</div>	<div style="border: 1px solid black; padding: 5px; display: inline-block;">▱ 15</div>	
<div style="border: 1px solid black; padding: 5px; display: inline-block;">12</div>	<div style="border: 1px solid black; border-radius: 50%; padding: 5px; display: inline-block;">2</div>	<div style="border: 1px solid black; padding: 5px; display: inline-block;">△ 6</div>	<div style="border: 1px solid black; padding: 5px; display: inline-block;">4</div>	<div style="border: 1px solid black; padding: 5px; display: inline-block;">▱ 10</div>	
<div style="border: 1px solid black; padding: 5px; display: inline-block;">18</div>	<div style="border: 1px solid black; border-radius: 50%; padding: 5px; display: inline-block;">9</div>	<div style="border: 1px solid black; padding: 5px; display: inline-block;">△ 2</div>	<div style="border: 1px solid black; padding: 5px; display: inline-block;">18</div>	<div style="border: 1px solid black; padding: 5px; display: inline-block;">▱ ?</div>	(1) 20 (2) 5 (3) 16

09.

<div style="border: 1px solid black; border-radius: 50%; padding: 10px; display: inline-block;">40</div>	<div style="border: 1px solid black; border-radius: 50%; padding: 10px; display: inline-block;">60</div>	<div style="border: 1px solid black; border-radius: 50%; padding: 10px; display: inline-block;">20</div>	
<div style="border: 1px solid black; border-radius: 50%; padding: 5px; display: inline-block;">5</div>	<div style="border: 1px solid black; border-radius: 50%; padding: 5px; display: inline-block;">5</div>	<div style="border: 1px solid black; border-radius: 50%; padding: 5px; display: inline-block;">5</div>	
<div style="border: 1px solid black; border-radius: 50%; padding: 10px; display: inline-block;">48</div>	<div style="border: 1px solid black; border-radius: 50%; padding: 10px; display: inline-block;">72</div>	<div style="border: 1px solid black; border-radius: 50%; padding: 10px; display: inline-block;">24</div>	
<div style="border: 1px solid black; border-radius: 50%; padding: 5px; display: inline-block;">6</div>	<div style="border: 1px solid black; border-radius: 50%; padding: 5px; display: inline-block;">6</div>	<div style="border: 1px solid black; border-radius: 50%; padding: 5px; display: inline-block;">6</div>	
<div style="border: 1px solid black; border-radius: 50%; padding: 10px; display: inline-block;">24</div>	<div style="border: 1px solid black; border-radius: 50%; padding: 10px; display: inline-block;">36</div>	<div style="border: 1px solid black; border-radius: 50%; padding: 10px; display: inline-block;">?</div>	(1) 6 (2) 18 (3) 12
<div style="border: 1px solid black; border-radius: 50%; padding: 5px; display: inline-block;">3</div>	<div style="border: 1px solid black; border-radius: 50%; padding: 5px; display: inline-block;">3</div>	<div style="border: 1px solid black; border-radius: 50%; padding: 5px; display: inline-block;">3</div>	


10. ஒரு வாரத்தில் வியாழக்கிழமை வருவது

- (1) செவ்வாய்கிழமைக்கு மறுநாள்
 - (2) புதன்கிழமைக்கு மறுநாள்
 - (3) புதன்கிழமைக்கு முந்திய நாள்
-

11. “சுதன் தமிழ் புத்தகம் படித்தான்” இவ்வாக்கியத்தில் வரும் எழுவாய்

- (1) தமிழ்
 - (2) புத்தகம்
 - (3) சுதன்
-

12. பின்வரும் படங்கள் ஒன்றுக்கொன்று ஒத்திருந்தாலும் அவற்றில் ஒன்று மற்றவைகளில் வேறுபடுகிறது. அதற்குரிய ஆங்கில எழுத்தைப் புள்ளிக்கோட்டில் எழுதுக.



(A)

(B)

(C)


(D)

13. தீவு பற்றிய சரியான கூற்று

- (1) நான்கு பக்கமும் கடலால் சூழப்பட்டது.
- (2) இலங்கை போலவே இந்தியாவும் தீவாகும்.
- (3) எல்லாத்தீவும் சிங்கள, தமிழ், முஸ்லிம் மக்களால் ஆனவை.
- (4) 3 பக்கமும் கடலாலும் ஒரு பக்கம் தரையாலும் ஆனதே தீவு ஆகும்.

● ஏதோ ஒரு விதத்தில் பொருத்தமற்ற உருவின் இலக்கத்தை புள்ளிக்கோட்டில் இடுக.

14.




(1)

(2)

(3)

(4)

15.



(1)

(2)

(3)

(4)

16. கமலா; ராதா, சுனில், மிர்ஷா நால்வரும் நண்பர்கள். இவர்களுள். கமலா மிர்ஷாவை விட ஒரு வயது குறைவாகவும், ராதா கமலாவை விட 3 வருடங்கள் பெரியவளாகவும், சுனிலும் மிர்ஷாவும் சமவயதினராகவும் காணப்பட்டனர். எனவே இவர்களுள் வயது கூடியவர் யார்?

- (1) கமலா
- (2) ராதா
- (3) சுனில்

17. என் வயதைப் போல் என் அப்பாவின் வயது 3 மடங்காகும். அப்பாவின் வயதையும் என் வயதையும் கூட்டினால் வரும் கூட்டுத்தொகை 52. ஆகவே என் வயது

- (1) 39
- (2) 13
- (3) 26
- (4) 12

● இலக்கம் 18 முதல் 20 வரையான வினாக்களிற்குத் தரப்பட்டுள்ள பொருட்களின் அளவை அளக்கக்கூடிய அளவையைத் தெரிந்து கீழ் கோடிடுக.

18. சீனியின் நிறை

- (1) kg
- (2) km
- (3) l

19. துணியின் நீளம்

- (1) கிலோலீற்றர்
- (2) மீற்றர்
- (3) கிலோகிராம்

20. தேங்காய் எண்ணெய்

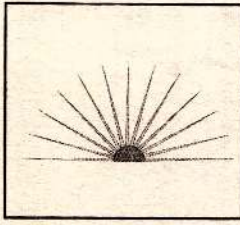
(1) km

(2) l


(3) mm

● பின்வருவற்றுள் பொருத்தமான விடையின் இலக்கத்தைப் புள்ளிக்கோட்டில் இடுக.


21. இயற்கை முதல்



(1)



(2)



(3)

.....

22. பச்சையம் அற்றது

(1) மாமரம்

(2) காளான்

(3) மஞ்சள் பூச்செடி

.....

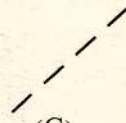
23. பின்வரும் இரேகைகளின் ஒழுங்கை சரியாக குறிப்பவை.



(A)



(B)



(C)



(D)

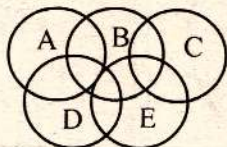
.....

(1) அலைரேகை, அரைவட்ட ரேகை, சாய்வுரேகை, மெல்லிய ரேகை

(2) முறிவுரேகை, அரைவட்ட ரேகை, சாய்வுரேகை, தடித்தரேகை

(3) முறிவுரேகை, வளைவுரேகை, ஒழுக்குரேகை, மெல்லியரேகை

24. ஒலிம்பிக் கொடியில் காணப்படும் 5 நிறங்களும் முறையே



A

B

C

D

E

(1) நீலம்

கறுப்பு

சிவப்பு

மஞ்சள்

பச்சை

(2) மஞ்சள்

சிவப்பு

நீலம்

கறுப்பு

பச்சை

(3) வெள்ளை


மஞ்சள்

பச்சை

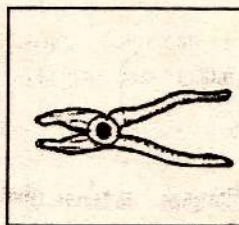
கறுப்பு

சிவப்பு

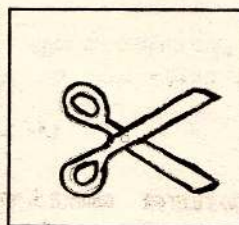
25.



(A)



(B)



(C)

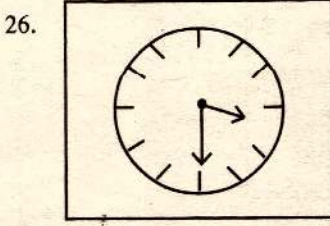
இவற்றுள் மேசனால் பயன்படுத்தப்படும் ஆயுதம்

(1) A

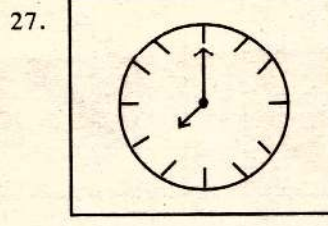
(2) B

(3) C

- 26ம் 27ம் வினாக்களில் காணப்பட்டுள்ள கைக்கடிகாரம் இரண்டில் உள்ள முகங்கள் குறிக்கும் சரியான நேரத்தைப் புள்ளிக்கோட்டில் எழுதுக.

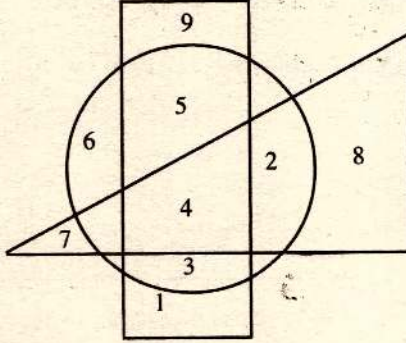


- (1) பி. ப. 6.15
(2) பி. ப. 3.30
(3) பி. ப. 4.00



- (1) மு. ப. 9.30
(2) மு. ப. 8.00
(3) மு. ப. 12.40

- கீழே காணப்படும் உருவை அவதானித்து 28 முதல் 30 வரையான வினாக்கள் ஒவ்வொன்றுக்கும் புள்ளிக்கோட்டின் மீது விடை எழுதுக.



28. வட்டத்திற்கு மட்டும் உரிய இலக்கம்
29. வட்டத்திற்கும் முக்கோணத்திற்கும் உரிய இலக்கம்
30. வட்டம், செவ்வகம், முக்கோணம், 3ற்கும் மட்டும் உரிய இலக்கம்

- கீழே பின்வரும் பழமொழிகளின் கருத்தை நன்கு விபரிக்கும் விடையினை புள்ளிக்கோட்டில் இடுக.

31. “காற்றுள்ளே போதே தூற்றிக்கொள்”

- (1) காற்று வீசும் போதே எல்லா வேலைகளையும் செய்யவேண்டும்.
(2) சந்தர்ப்பம் வரும் போது சரியாகப் பயன்படுத்த வேண்டும்.
(3) ஒவ்வொரு சந்தர்ப்பங்களிலும் காற்று வீசுகிறதா எனப் பார்த்தல்

32. “சிறு துரும்பும் பல்குத்த உதவும்”

- (1) சாப்பிட்ட பின் சிறுகுச்சியால் பற்களை துப்பரவு செய்யலாம்.
(2) எந்தவொரு சிறு பொருளும் ஏதாவது ஒரு சந்தர்ப்பத்தில் பயன்படுத்தலாம்.
(3) வேப்பங்குச்சி மூலம் பல்குத்தலாம்.

- வெற்றிடத்திற்குப் பொருத்தமான சொல்லை புள்ளிக்கோட்டில் எழுதுக.

33. இளையது குட்டி : இளையது


34. சொல்லும் :

- பின்வரும் போக்குவரத்து சமிக்ஞைகள் முறையே குறிக்கும் விடையை புள்ளிக்கோட்டில் இடுக.


35.



(A)



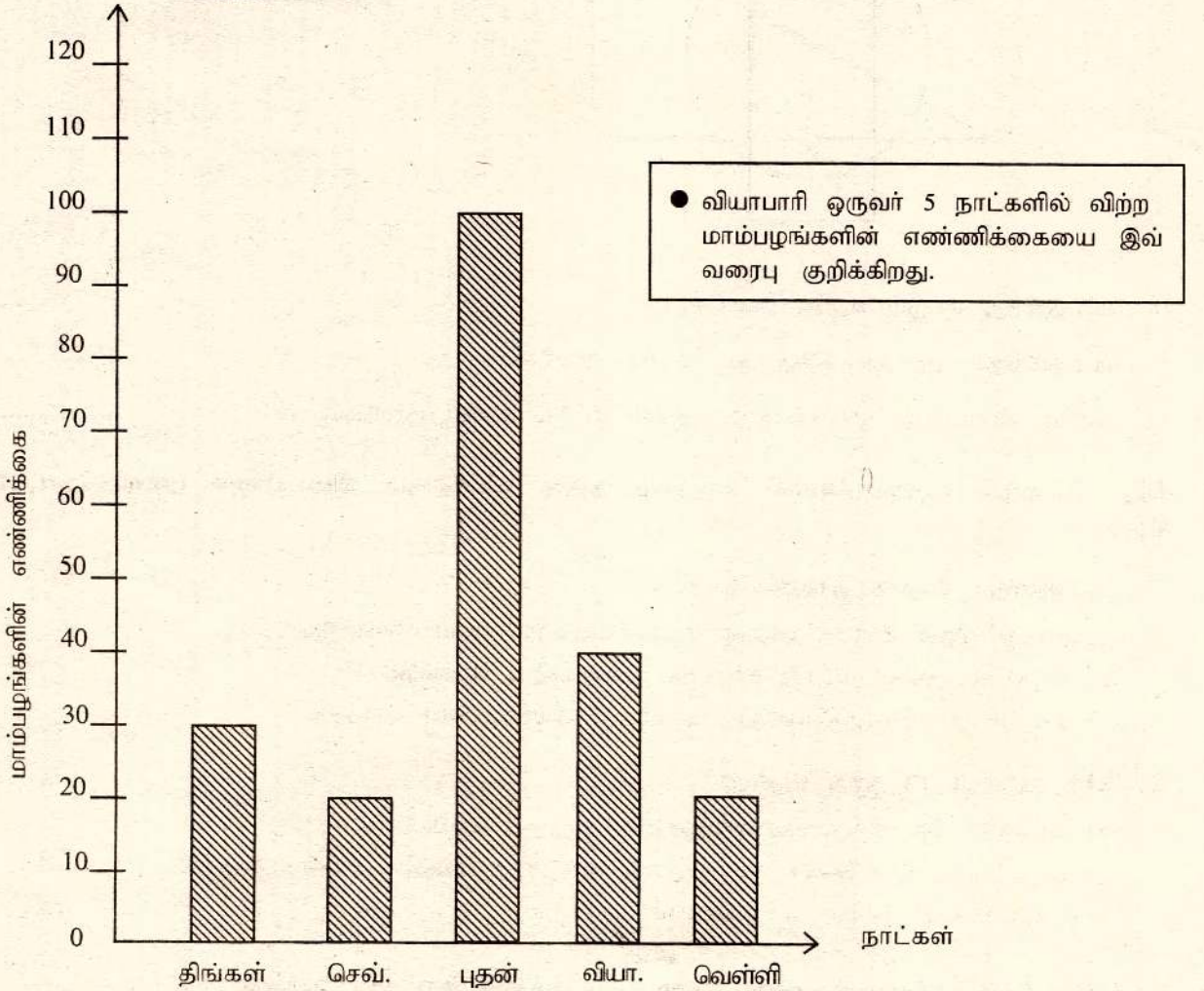
(B)



(C)

- (1) வலது பக்கம் திரும்பத் தடை, இந்தப்பக்கம் செல்லவும், வாகனம் செல்லத்தடை.
- (2) வேகத்தின் வரையறைமுடிவு, இடதுபக்கம் திரும்பவும், நேரே செல்லவும்.
- (3) முந்திச்செல்லத்தடை, இடதுபக்கம் திரும்பவும், வாகனம் செல்லத்தடை.

- 36 தொடக்கம் 40 வரையிலான வினாக்களுக்கு பின்வரும் வரைபைப் பயன்படுத்துக.



36. 2ம் நாள் வியாபாரி விற்ற மாம்பழங்களின் எண்ணிக்கை
37. 3ம் நாள் வியாபாரி விற்ற மாம்பழங்களின் எண்ணிக்கை
38. ஆகக்கூடிய மாம்பழம் விற்ற நாள்
39. 20 மாம்பழங்களை வியாபாரி விற்ற நாட்கள்
40. வியாபாரி விற்ற மாம்பழங்களின் மொத்த எண்ணிக்கை

சுட்டெண் :

வினாப்பத்திரம் II

நேரம் : 1 மணி 15 நிமிடம்

எல்லா வினாக்களுக்கும் இத்தாளிலேயே விடையளிக்க.

D 100412

01. பின்வரும் பாடலை வாசித்து அதன் கீழுள்ள வினாக்களுக்கு விடை எழுதுக.

“மீனிமம் ஓடிப்பறக்குதம்மா - ஊடே
வெள்ளி ஓடம் ஒன்று செல்லுதம்மா
வானும் கடலாக மாறுதம்மா - இந்த
மாட்சியில் உள்ளம் மறுகுதம்மா”

(i) பாடலாசிரியர் இப்பாடலை எக்காட்சியை மனதில் வைத்து இயற்றியுள்ளார்?

.....

(ii) பின்வரும் சொற்பதங்கள் எதனை குறித்து நிற்கின்றன?

(i) மீனிமம் (ii) வெள்ளிஓடம்

(iii) இப்பாடலின் பொருளை உமது உரைநடையில் எழுதுக.

.....

.....

.....

(iv) பின்வருவனவற்றைப் பிரித்து எழுதுக.

(i) மீனிமம் (ii) கடலலை

(iii) பேரலை (iv) பறக்குதம்மா

02. ஒழுங்கற்ற சொற்களை ஒழுங்குபடுத்தி கருத்துள்ள வாக்கியங்களாக அமைக்குக.

(i) வீழ்ந்து / மலையில் / நீர்வீழ்ச்சி / இருந்து / கொண்டிருந்தது

.....

(ii) சமய / இஸ்லாம் / வழிபாட்டிடம் / மார்க்கத்தினரின் / பள்ளிவாசல்

.....

(iii) இனிய நண்பர்கள் / பாடசாலையில் / எனது / உள்ள / அனைத்து மாணவர்களும்

.....

(iv) பரீட்சையில் / சித்தி / மகிழ்வார்கள் / அடைந்தால் / பெற்றோர்கள் / நான்

.....

03. பின்வரும் சொற்களுக்குரிய ஆங்கில பதம் எழுதுக.

- | | |
|------------------------|---------------------|
| (i) காலைப்பொழுது | (ii) ஆசிரியர் |
| (iii) காகம் | (iv) மீன் |
| (v) ஒளி | (vi) வளி |


04. பின்வரும் வெற்றிடத்திற்குப் பொருத்தமான சொல்லை எழுதுக.

- (i) அவர்கள் இல் நனைந்து கொண்டிருந்தனர்.
(மலை, மளை, மழை)
- (ii) கண்ணன் ஊதினான்.
(குலன், குழன், குழல்)
- (iii) இன்றைய நாடகங்கள் தரம் குறைந்தவை.
(தொளைக்காட்சி, தொலைக்காட்சி, தொலைக்காற்சி)

05. சரியாயின் “√” எனவும், பிழையாயின் “X” எனவும் அடைப்பிற்குள் எழுதுக.

- (i) இலங்கையின் மிக உயர்ந்த மலை சிவனொளிபாதமலை. (.....)
- (ii) இலங்கையின் முதலாவது பெண்பிரதமர் சந்திரிகா குமாரதுங்க. (.....)
- (iii) இலங்கை சுதந்திரம் பெற்ற ஆண்டு 1948 ஆகும். (.....)
- (iv) இலங்கையின் நிர்வாக மாகாணங்கள் 9 ஆகும். (.....)
- (v) இலங்கையின் உயரமான மேட்டு நிலம் நுவரெலியா. (.....)

06. இங்குள்ள சிறிய சதுரத்தின் ஒரு பக்க நீளம் 3 cm எனின்,



- (i) பெரிய சதுரத்தின் மொத்த பரப்பளவை காண்க.
- (ii) பெரிய சதுரத்தின் சுற்றளவை காண்க.
- (iii) ஒரு சிறிய சதுரத்தின் பரப்பளவு, சுற்றளவுகளைக் காண்க.
- (iv) நிழற்றிய உருவின் பரப்பளவை காண்க.
- (v) நிழற்றிய உருவின் சுற்றளவை காண்க.
- (vi) எஞ்சிய உருவின் பரப்பளவை காண்க.

07. எனது தந்தை தனது சம்பளத்தில் $\frac{1}{3}$ பகுதியை உணவிற்கும், $\frac{1}{4}$ பகுதியை வீட்டு வாடகைக்கும், $\frac{1}{8}$ பகுதியை ஆடைகளுக்கும், $\frac{1}{8}$ பகுதியை ஏனைய செலவுகளுக்கும் செலவு செய்கிறார். மிகுதிப்பணம் ரூபா 6000 ஐ வங்கிக் கணக்கில் வைப்பிலிடுகிறார்.

- (i) அவர் வைப்பிலிடும் பணத்தின் பங்கை பின்னத்தில் தருக.
- (ii) உணவுக்குச் செலவிடும் பணம் எவ்வளவு?
- (iii) மொத்த சம்பளம் யாது?

08. தேசிய வீரர்கள் நால்வரின் படங்கள் கீழே காணப்படுகின்றன. அடைப்புக்குள் தரப்பட்டுள்ள பெயர்களிடையே ஒவ்வொரு உருவுக்கும் உரிய பெயரைத் தெரிவு செய்து அதன் இலக்கத்தை உருவின் கீழுள்ள புள்ளிக்கோட்டில் எழுதுக.

சேர் பொன், இராமநாதன், ஏ. ஈ. குணசிங்க, ஆறுமுகநாவலர், டி.ஸ். சேனநாயக்கா, ஆனந்தகுமாரசுவாமி, ரீ. பி. ஜாயா, பாரதியார்



(i)



(ii)



(iii)



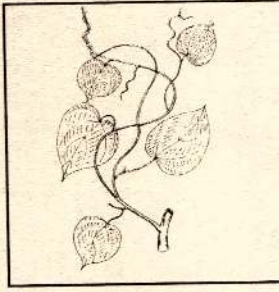
(iv)

09. நான்கு தாவரங்களின் வரிப்படங்கள் கீழே தரப்பட்டுள்ளன. அடைப்புக்குள் தரப்பட்டுள்ள பெயர்களிடையே ஒவ்வொரு வரிப்படத்துக்கும் உரிய பெயரைத் தெரிவு செய்து அதன் இலக்கத்தை வரிப்படத்தின் கீழுள்ள புள்ளிக் கோட்டில் எழுதுக.

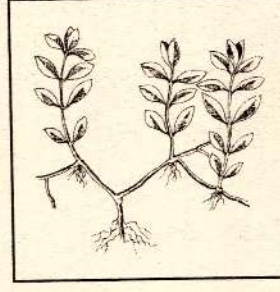
மரமஞ்சள், கோரை, பொன்னாவரை, முள்ளங்கி, பொன்னாங்காணி, மிளகு



(i)



(ii)



(iii)



(iv)

10. 1200 g சீனியின் விலை 72/= எனின், 2 1/2 kg சீனியின் விலை யாது?

11. ஒரு முட்டையின் விலைக்கு 2 பென்சில்கள் வாங்க முடியும். ஒரு பென்சிலினதும் ஒரு முட்டையினதும் விலைக்கு ஒரு தேங்காய் வாங்கமுடியும். 1 தேங்காயின் விலை 15/= எனின், 2 முட்டையினதும் ஒரு பென்சிலினதும் 4 தேங்காயினினதும் விலை யாது?

12. சரியான விடையைப் புள்ளிக்கோட்டில் எழுதுக.

(i) சுருக்குக. $0.783 + 1.345$

(ii) 3 மணித்தியாலயம் 48 நிமிடம் என்பதனை நிமிடத்தில் தருக.

(iii) 4/6 என்பதை தசமத்தில் தருக.

(iv) 2085 x 20 என்பதை பெருக்கி எழுதுக.

(v) $3\frac{1}{2} + 1\frac{3}{4} + 5\frac{1}{5}$ சுருக்குக.

(vi) 88, 84, 80, 76,,,
இடைவெளிகளில் வரும் எண்கள் எவை?

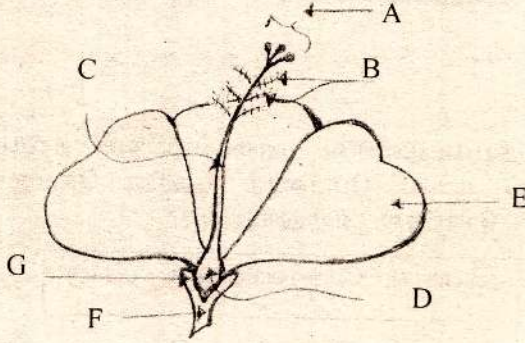
13. பின்வரும் தொடரின் தமிழ்க் கருத்தினை எழுதுக.

(i) Come quick (ii) Look at the side

14. பின்வரும் பதங்களிற்கு சிங்களப் பதங்களை தருக.

(i) பூ (ii) வணக்கம்
(iii) முட்டை

15.



(i) A - G வரையான பகுதிகளைப் பெயரிடுக.

A -
B -
C -
D -
E -
F -
G -

(ii) பூக்களினால் நாம் அடையும் பயன்கள் 2 தருக.

.....

(iii) நீரினால் பரம்பலடையும் வித்துக்கள் 2 தருக.

.....

(iv) வித்து முளைப்பதற்கு வேண்டிய காரணிகள் 3 தருக.

.....

16. ஒரு நாள் நானும் என் தம்பியும் கடைவீதிக்குச் சென்ற போது வீதியில் ஒரு பை அநாதரவாக இருந்தது. அதில் பணமும்; ஒருவருடைய அடையாள அட்டையும் இருப்பதை அவதானித்தோம். மேலே கொடுக்கப்பட்ட சம்பவத்தின் எஞ்சிய பகுதியைப் பூர்த்தி செய்யக்கூடிய ஆறு வாக் கியங்களை எழுதுக. (எழுவாய் - பயனிலை கொண்டவையாகவும் நான்கு சொற்களுக்கு குறையாமலும் அமைதல் வேண்டும்.)

(i)
(ii)
(iii)
(iv)
(v)
(vi)

மாணவர்களைப் பாடசாலைகளுக்குத் தேர்ந்தெடுப்பதற்கும், மாணவர்களுக்கு உதவியுணம் வழங்குவதற்கும்
ஐந்தாம் தர மாணவர்களுக்கு நடாத்தப்படும் மாதிரிப் பரீட்சை

MODEL EXAMINATION FOR YEAR FIVE STUDENTS FOR SELECTION TO SCHOOLS AND FOR THE AWARD OF BURSARIES

சுட்டெண் :

வினாப்பத்திரம் I


நேரம் : 45 நிமிடம்

எல்லா வினாக்களுக்கும் இத்தாளிலேயே விடையளிக்க.


D 100421

- 1 தொடக்கம் 16 வரையுள்ள வினாக்கள் ஒவ்வொன்றுக்கும் மூன்று விடைகள் தரப்பட்டுள்ளன. அவற்றில் சரியான விடையைத் தெரிவு செய்து அதன் கீழ்க் கோடிடுக.


01. இவ்விபரத்தில் விவரிக்கப்பட்டுள்ள மிருகத்தினைத் தெரிவு செய்க.
 மிக விரைவாக வெருட்சி அடையக்கூடியது. எதிரிகளிடமிருந்து பாதுகாக்க விரைவாக ஓடும்.
 அழகிய கொம்பு உண்டு.



(1)

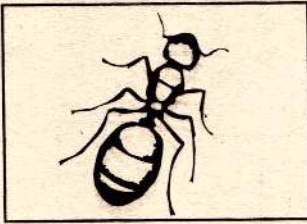


(2)




(3)


02. இவ்விபரத்தில் விவரிக்கப்பட்டுள்ள பூச்சியினைத் தெரிவு செய்க.
 விசேடமான வேலைப்பாட்டைக் கொண்ட கூட்டை அமைத்தல், சுறுசுறுப்பாக இயங்கக் கூடியது,
 சமுதாயமாக வாழக்கூடியது.



(1)











(2)



(3)

- தரப்பட்டுள்ள அடைப்புகளில் உள்ள உருக்களை பார்க்க, ஒவ்வொரு உருவுக்கும் ஆங்கில எழுத்துக்கள் இடப்பட்டுள்ளது.

A 	B 	C 	D 
E 	F 	G 	H 

03. ஒன்றுடன் ஒன்று தொடர்பினை விளங்கி சரியான விடையைத் தெரிவு செய்க.

(1) AF, GB

(2) CE, DF

(3) BH, CE

● சரியான விடையின் கீழ்க் கோட்டுக.

04. விதுஷனின் விளையாட்டு திறமையைக் கண்டு அவனது ஆசிரியர் “நீ எதிர்காலத்தில் சிறந்த விளையாட்டு வீரனாக வருவாய்” என்று கூறினார். இதனை உணர்த்தும் பழமொழி எது?

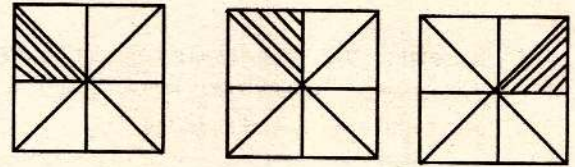

- (1) முயற்சி உடையார் இகழ்ச்சி அடையார்.
- (2) இளங்கன்று பயமறியாது.
- (3) விளையும் பயிரை முளையில் தெரியும்.
- (4) சிறுதுளி பெருவெள்ளம்.

05. கண்ணை இமை காப்பது போல காத்தான் என்றால்

- (1) மிகக் கவனமாக காத்தான்.
- (2) கண்மூடித்தனமாகக் காத்தான்.
- (3) விருப்பமாகக் காத்தான்.
- (4) மகிழ்ச்சியாகக் காத்தான்.

● பின்வரும் வினா ஒவ்வொன்றிலும் அடுத்து வரவேண்டிய உருவைத் தெரிவு செய்க.

06.

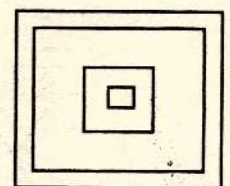
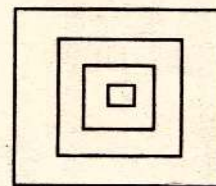

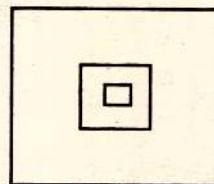
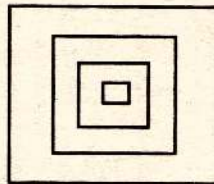
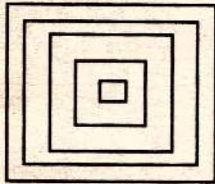


(1)

(2)

(3)

07.



(1)

(2)

(3)

08. அடுத்து வரும் கோலத்தில் வரவேண்டிய எண்ணிக்கை எத்தனை ஆகும்?



(1) 12



(2) 15



(1)

(2)


(3)

(3) 16


09. கீழே தரப்பட்டிருப்பது ஒரு கடதாசியை நான்காக மடித்து துவாரம் இடப்பட்டிருக்கும் தோற்றமாகும்.



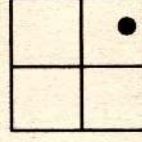
இக்கடதாசியை விரித்தால் எவ்வாறு தோற்றமளிக்கும் என்பதைச் சரியாகக் காட்டும் படத்தின் இலக்கத்தின் கீழ் கோடிடுக.



(1)

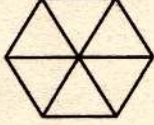


(2)



(3)

10.



அருகில் தரப்பட்டுள்ள உருவில் $2/6$ பங்குக்குச் சமமான உருவம்.



(1)



(2)



(2)

11.

0	1	2	3	4	5	6	7	8	9	10	11	12	13	14	15
---	---	---	---	---	---	---	---	---	---	----	----	----	----	----	----

சிறுவன் ஒருவன் மேலே தரப்பட்ட விதமாக நிலத்தில் ஒரு நிரை சதுரங்களை வரைந்து, அவற்றுள் ஒழுங்குமுறையாக எண்களை எழுதினான். 0 எழுதப்பட்ட சதுரத்தில் நின்று முன்னும் பின்னுமாக பாய்ந்தான். அவன் அவ்வாறு முன்னும் பின்னுமாக பாய்ந்து நின்ற சதுரங்கள் முறையே பின்வரும் எண்களைக் கொண்டவையாகும்.

5, 2, 7, 4, 9, 6, 11, 8

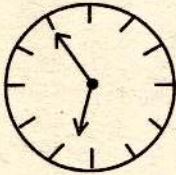
அடுத்த முறை அவன் முன்னும் பின்னுமாக பாய்ந்து நிற்கும் சதுரங்களின் எண்கள் முறையே

(1) 13, 9

(2) 13, 10

(3) 10, 13

12. முகம் பார்க்கும் கண்ணாடியில் கடிகாரம் தோன்றும் விதம் உருவில் காணப்படுகின்றது. இக்கடிகாரத்தின் உண்மை நேரம் என்ன?



(1) 5.05

(2) 7.55

(3) 6.55

● பின்வரும் சொற்களை வாசித்து இதற்கேற்ப பின்வரும் வினாக்களுக்கு விடை எழுதுக.

காலை எழுந்தவுடன் படிப்பு - பின்பு

கனிவு கொடுக்கும் நல்ல பாட்டு

மாலை முழுவதும் * என்று

வழக்கப்படுத்திக் கொள்ளு பாப்பா

13. எப்பொழுது பாடம் படிக்க வேண்டும்?

(1) மாலை

(2) இரவு

(3) காலை

14. * என்ற இடத்தில் வரவேண்டிய சொல்லைத் தெரிவு செய்க.

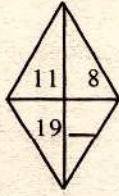
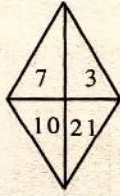
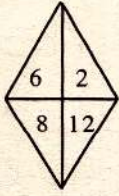
(1) படிப்பு

(2) நித்திரை

(3) விளையாட்டு

● வெற்றிடத்தில் வரவேண்டிய எண்ணைத் தெரிவு செய்க.

15.

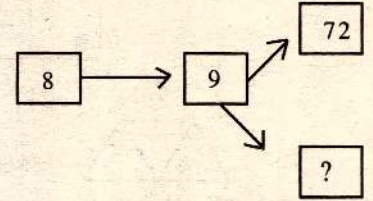
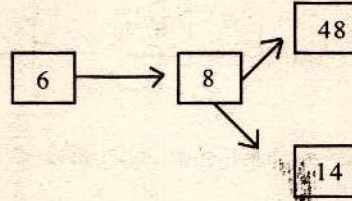
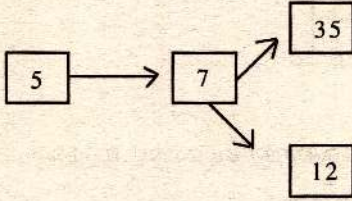


(1) 44

(2) 22

(3) 88

16.



(1) 18

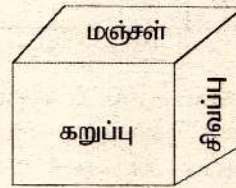
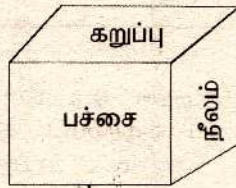
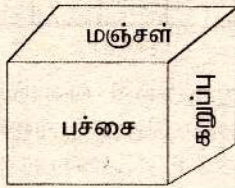
(2) 17

(3) 9

● சரியான விடையினைப் புள்ளிக்கோட்டின் மீது எழுதுக.

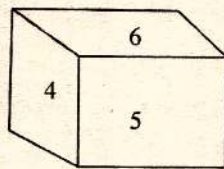
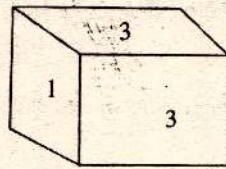
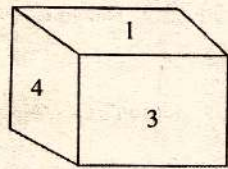
ஒரே சதுரமுகியின் பல்வேறு பக்கங்கள் இங்கே காட்டப்பட்டுள்ளன.

17.




சிவப்புக்கு எதிரே உள்ள பக்கத்தின் நிறம் யாது?

18.



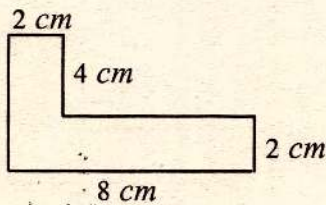
3 க்கு எதிரே உள்ள இலக்கம் யாது?

19.



இந்த செங்கற்குவியலில் எத்தனை செங்கற்கர்கள் அடுக்கப்பட்டுள்ளன.

20.



கற்றளவை காண்க.

21. அதிக தடவைகள் உள்ள எழுத்து யாது?

A	B	A	A	B	A	F
B	E	C	B	C	A	C
C	E	C	B	E	C	B

22. பின்வரும் குறுக்கெழுத்துப் புதிரில் இடமிருந்து வலமாகவும், மேலிருந்து கீழாகவும் கருத்துள்ள சொற்களை அமைத்து இப்புதிரை நிரப்புக. தரப்பட்டுள்ள உதவிக் கூற்றுகளைப் பயன்படுத்துக.

☞ இடமிருந்து வலம்

1. யானை விரும்பி உண்ணும்
2. எல்லா இடமும் உள்ளது.

☞ மேலிருந்து கீழ்

1. பார்ப்பதற்கு உதவும்
3. பாம்பு அமைப்பது

(1)			(3)

23. சரியான விடையின் கீழ்க் கோடிடுக.

கொழும்பில் இருந்து லண்டன் செல்வதற்கு விமானம் ஒன்று 15 மணித்தியால நேரம் எடுக்கின்றது. கொழும்பு நேரம் மு.ப. 8.30 மணியாக இருக்கும் போது, லண்டன் நேரம் அதே நாள் மு.ப. 3.00. விமானம் கொழும்பிலிருந்து மு.ப. 8.30 மணிக்குப் புறப்பட்டால், அது லண்டனை அடையும் போது அங்கு நேரம் யாது?

1. அதே நாள் பி.ப. 6.00 மணி
2. அதே நாள் பி.ப. 11.30 மணி
3. அடுத்த நாள் மு.ப. 6.00 மணி

24. (சி) — (ப) — (ம) — (க) — (சி) — (ப) — (ம) — (க) — (சி) —

இதே ஒழுங்கில் 20 ஆக காணப்படும் நிறம் யாது?

- (1) சி
- (2) க
- (3) ம

25. பிரபு 150 ரூபாவிற்கு ஒரே 5 வகையான பேனைகளை வாங்கி, அவற்றில் நான்கினை பிரசாத்திற்கு தான் வாங்கிய விலைக்கு விற்றான். நான்கு பேனைகளுக்கும் பிரசாத் செலுத்தும் தொகை யாது?

- (1) 60
- (2) 120
- (3) 75

26. 2500 மில்லி லீற்றர் தேங்காய் எண்ணெயை 1/4 லீற்றர் கொள்ளும் எத்தனை தகரப் பேணிகளில் நிரப்பலாம்?

- (1) 5
- (2) 10
- (3) 25


27. ஒரு பையில் 3 மஞ்சள் நிறப் பந்துகளும், 5 சிவப்பு நிறப் பந்துகளும் உள்ளன. சரியாக ஒரு மஞ்சள் நிறப் பந்தினைப் பெற்றுக்கொள்வதற்கு பையிலிருந்து ஆகக்குறைந்த எண்ணிக்கையாக எத்தனை பந்துகள் வெளியே எடுக்கப்பட வேண்டும்?

- (1) 8
- (2) 5
- (3) 3

28. மதி, ரதி, வானதி மூவரும் உண்டியலில் சேர்த்த பணம் பற்றி தகவல்கள் :



மதி



ரதி



வானதி

- A - 5 ரூபா B - 2 ரூபா
C - 1 ரூபாய் D - 50 சதம்
E - 10 ரூபாய்

மதியிடம் 5 ரூபா நாணயங்கள் 40 காணப்படின், கூடிய அளவிலான பணம் காணப்பட்டது யாரிடம்?

- (1) மதி
- (2) ரதி
- (3) வானதி


29. குறைவான பெறுமதியையுடைய பணம் யாரிடமிருந்தது?

- (1) மதி
- (2) ரதி
- (3) வானதி

30. பின்வரும் தகவல்களைத் கூர்மையாக அவதானித்து ஆக்கக்கூடிய சொல்லைப் புள்ளிக்கோட்டில் எழுதுக.

தாகத்தில் உண்டு நாகத்தில் இல்லை
மனத்தில் உண்டு மணத்தில் இல்லை
குடத்தில் உண்டு குடலில் இல்லை

● பின்வரும் விடயத்தை அவதானித்து கீழுள்ள வினாக்களுக்கு விடை தருக.



31. 200 ரூபா செலுத்தி மிகுதி பணமில்லாது வாங்கக்கூடிய மூன்று பொருட்கள் எவை?

32. நான் எல்லா பொருட்களையும் வாங்கிவிட்டு 500 ரூபா தான் நாணயம் ஒன்றை கொடுத்தேன். எனக்கு மிகுதியாக எவ்வளவு பணம் கிடைக்கும்?

33. ஒரு டசின் புத்தகத்தின் விலை யாது?

● பின்வரும் புதிர் பெட்டியில் உள்ள இடைவெளிகளை நிரப்புக.

	X	5	8
34.	_____	15	24
	_____	_____	40
35.			36.

34.

35.

36.

● நான்கு மாணவர்களின் நிறைகள் தரப்பட்டுள்ளன. அவற்றினை அவதானித்து சரியான விடையின் கீழ் கோடிடுக.

குகன் 22 kg 900 g	பிரவீன் 23kg 000 g	லினாத் 23 kg 750 g	நிவியன் 22 kg 700 g
-------------------	--------------------	--------------------	---------------------

37. நிறை கூடிய மாணவன் யார்?

- (1) குகன் (2) பிரவீன் (3) லினாத்

38. நிறை கூடிய மாணவனுக்கு நிறை குறைந்த மாணவனுக்கு உள்ள வித்தியாசம் எவ்வளவு?

- (1) 900 g (2) 850 g (3) 1 kg 750 g

● பின்வரும் வினாக்களுக்கான விடையைப் புள்ளிக்கோட்டில் எழுதுங்கள்.

39. பின்வரும் எழுத்துக் கோலத்திற்கேற்ப வெற்றுக்கூட்டிற்குரிய விடையைத் தெரிவு செய்து புள்ளிக் கோட்டில் எழுதுக.

ABCXY → BCDVW → CDETU

- (1) DEFST (2) DEFSR (3) DEFRS

40. கீழே தரப்பட்ட கட்டத்தினுள் உள்ள எண்களைப் பயன்படுத்தி விடையளிக்குக.

228	330
222	327
445	

2 ஆல் மீதியின்றி வகுப்படும் எண்கள்.



காயத்திரி பப்ளிகேஷன்

மாணவர்களைப் பாடசாலைகளுக்குத் தேர்ந்தெடுப்பதற்கும், மாணவர்களுக்கு உதவியணம் வழங்குவதற்கும்
ஐந்தாம் தர மாணவர்களுக்கு நடாத்தப்படும் மாதிரிப் பரீட்சை

MODEL EXAMINATION FOR YEAR FIVE STUDENTS FOR SELECTION TO SCHOOLS AND FOR THE AWARD OF BURSARIES

சுட்டெண் :

வினாப்பத்திரம் II

நேரம் : 1 மணி 15 நிமிடம்

எல்லா வினாக்களுக்கும் இத்தாளிலேயே விடையளிக்க.

D 100422

01. கீழே தரப்பட்டுள்ள பாடலை வாசிக்க.

உடலின் உறுதி உடையவரே

உலகில் இன்பம் உடையவராம் ;

இடமும் பொருளும் நோயாளிக்கு

இனிய வாழ்வு தந்திடுமோ?

காலை மாலை உலாவிநிதம்

காற்று வாங்கி வருவோரின்

காலைத் தொட்டுக் கும்பிட்டுக்

காலன் ஓடிப் போவானே!

சுத்தமுள்ள இடமெங்கும்

சுகமும் உண்டு; நீ அதனை

நித்தம் நித்தம் பேணுவையேல்;

நீண்ட ஆயுள் பெறுவாயே?

கூழையே நீ குடித்தாலும்

குளித்த பிறகு குடி அப்பா!

ஏழையே நீ ஆனாலும்

இரவில் நன்றாய் உறங்கப்பா!

● பாடல் அடிகளைக் கொண்டு (01) தொடக்கம் (10) வரையுள்ள வினாக்களுக்கு விடை தருக.

(01) உடல் என்ற சொல்லின் ஒத்த சொல்லை தருக.

.....

(02) இந்தப் பாடல்கள் முழுவதிலும் வலியுறுத்தும் கருத்து யாது?

.....

(03) இனிய வாழ்வு தருவது எது?

.....

(04) 'சுகம்' என்ற சொல்லின் எதிர்சொல்லை தருக.

.....

(05) இப்பாடலில் இடம்பெறும் உயர்திணை ஆண்பாற் பெயர்ச்சொல் யாது?

.....

(06) இங்கு இடம்பெறும் முன்னிலை, ஒருமை, பெயர் சொல்லை தருக.

.....

(07) இந்தப் பாடற்பகுதிக்குப் பொருந்தும் கருத்து எது?

1. நாம் எப்பொழுதும் கூழையே குடிக்க வேண்டும்.

2. கூழானாலும் அதனை நாம் குளித்த பின்பே குடிக்க வேண்டும்.

3. நாம் ஏழைகளாக வாழ்ந்தே ஆக வேண்டும்.

4. நாம் இரவும் பகலும் நன்றாக உறங்க வேண்டும்.

.....

(08) காற்று வாங்கி வருதல் என்பதன் பொருள் யாது?

(09) பின்வருவனவற்றைப் பிரித்து எழுதுக.

(1) இடமெங்கும் (2) சுத்தமுள்ள

(10) நோயாளிக்கு என்ற சொல்லை பன்மையில் தருக.

02. சொற்களைப் பொருத்தமாக ஒழுங்குபடுத்திக் கருத்துள்ள வாக்கியமாக்கி எழுதுக.

1. வாசிக்கும் / பெரியோர்களின் / புத்தகங்களை / தெரிவு செய்ய / வழிகாட்டலுடன் / வேண்டும்

2. சேர்த்துக் / கொள்ள / நாம் / பல வகை / வேண்டும் / உணவில் / உணவுகளை

03. பின்வரும் உவமை தொடர்களால் உணர்த்தப்படும் கருத்தினை எழுதுக.

1. ஆற்றில் கரைத்த புளி போல

2. கல்லிலே நார் உரிப்பது போல

04. வெற்றிடத்துக்குப் பொருத்தமான சொல்லைத் தெரிவு செய்து இடைவெளியில் எழுதுக.

1. ஏழைபடும் துயர் கண்ட கருணை வள்ளலின் உள்ளம்
(படபடத்தது, துடிதுடித்தது, கனகனத்தது)

2. பாடசாலைக்கு நேரமாகிவிட்டதால் மாணவன் சென்றான்.
(ஓட்டமும் நடையுமாக, கோணல் மாணலாக, துறுக்கு நெடுக்குமாக)

3. கிழவன் ஒருவன் குளிர் தாங்க முடியாது நடுங்கினான்.
(கடகடவென, தகதகவென, கிடுகிடுவென)

05. பின்வரும் சிங்கள தொடர்களின் கருத்தைப் தமிழில் தருக.

1. மே அபே பந்திய.

2. மம பாசல்ட யனவா.

06. பின்வரும் ஆங்கிலச் சொற்களின் கருத்தினை தமிழில் எழுதுக.

1. Help please 2. God bless you

3. Good night

07. பின்வரும் சொற்களை ஆங்கிலத்தில் எழுதுக.

1. நுளம்பு 2. கடற்கரை

● 08 தொடக்கம் 27 வரையுள்ள வினாக்களின் விடையின் கீழ் கோடிடுக.

08. மிக விரைவாக முளைக்கும் வித்து

(1) மா (2) பயறு (3) பாகல் (4) தென்னை

09. பின்வருவனவற்றில் தேசிய அடையாளங்கள் அல்லாதது எது?

(1) நீலோற்பவம் (2) நிறைகலசம் (3) நாகமரம் (4) காட்டுக்கோழி

10. பாராக்கிரம சமுத்திரம் அமைந்துள்ள சரித்திரப் புகழ் வாய்ந்த நகரம் யாது?

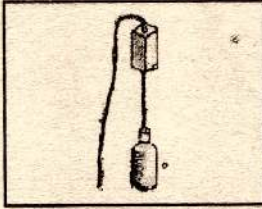
(1) கதிர்காமம் (2) மட்டக்களப்பு (3) அநுராதபுரம் (4) பொலநறுவை

11. உணவு நஞ்சடையும் சந்தர்ப்பம் பின்வருவனவற்றில் எது?


(1) அலுமினியப் பாத்திரங்களில் புளிப்பான உணவைச் சமைத்தல்.

- (2) மண்பாத்திரங்களில் உணவு சமைத்தல்.
 (3) உணவு வகைகளை உரியவாறு மூடி வைத்தல்.
 (4) கண்ணாடி போத்தலில் ஊறுகாயை இட்டு வைத்தல்.


12. தபால் உறையில் இடாத திறந்த நிலை தபாலுக்கான (Open Post) கட்டணம்
 (1) 4.50 (2) 5.00 (3) 3.50 (4) 5.50
13. பூனைக் கடிக்கு பயன்படும் தாவரம் எது?
 (1) நொச்சி (2) நாயுருவி (3) குப்பைமேனி (4) இஞ்சி
14. இலங்கையில் முதன்முதலில் தேயிலை பயிரிடப்பட்ட இடம்?
 (1) நுவரெலியா (2) கண்டி (3) பண்டாரவளை (4) அட்டன்
15. இலங்கையைத் தாக்கிய சுனாமியால் அதிக உயிர் இழப்புகள் எந்த மாவட்டத்தில் ஏற்பட்டன?
 (1) காலி (2) கொழும்பு (3) அம்பாறை (4) மட்டக்களப்பு
16. மீன்தொட்டியினுள் காணப்படும் ஒரு தாவரம் எது?
 (1) சைப்பிரஸ் (2) குரோட்டன் (3) நாகதாளி (4) வலிஸ்னேரியா
17. சூரியபடலத் தொகுதி பொருத்தப்பட்டிருக்கும் சாதனம் எது
 (1) மின்குள் (2) மின்மணி (3) கணிப்பான் (4) மின்கேத்தல்
18. மேசன் வேலை செய்வீரர் பயன்படுத்தும் உபகரணம் அல்லாதது?




(1)



(2)



(3)



(4)

19. அரசுடன் தொடர்புடைய நிறுவனமல்லாதது
 (1) சுப்பர் மாக்கற் (2) ச.தொ.ச.
 (3) சலுசல (4) கூட்டுறவு மொத்த விற்பனை நிலையம்
20. ஊசித்துளைக் கமராவில் தோன்றும் விம்பத்தின் இயல்பு
 (1) பொருளை விடப் பெரியது (2) நேரான விம்பம்
 (3) உண்மையான விம்பம் (4) மேற்கூறியது எதுவுமல்ல
21. ஹெராக்வி விளையாட்டில் விளையாடும் விளையாட்டு வீரர்களின் எண்ணிக்கை
 (1) 11 (2) 10 (3) 12 (4) 6
22. நீரினுள் அமிழும்திரவம் எது?
 (1) தேங்காய் எண்ணெய் (2) டீசல் (3) கிளிசரின் (4) பெற்றோல்
23. கட்டில் செவிப்புல தகவல் சாதனம் எது?
 (1) தொலைக்காட்சி (2) இணையம் (3) ஒலிபெருக்கி (4) வானொலி
24. மஞ்சள் நிறப் பூ எது?
 (1) கொன்றைப்பூ (2) அவரைப்பூ (3) கத்தரிப்பூ (4) தூதுவளைப்பூ
25. நுளம்புகளால் பரப்பப்படும் நோய் அல்லாதது எது?
 (1) டெங்கு (2) மலேரியா (3) யானைக்கால் (4) தைபொயிட்

26. உடல் வளர்ச்சிக்கு உதவும் உணவின் கூறு எது?

- (1) காபோவைதரேற்று (2) இலிப்பிட்டு
(3) விற்றமின் (4) புரதம்

27.

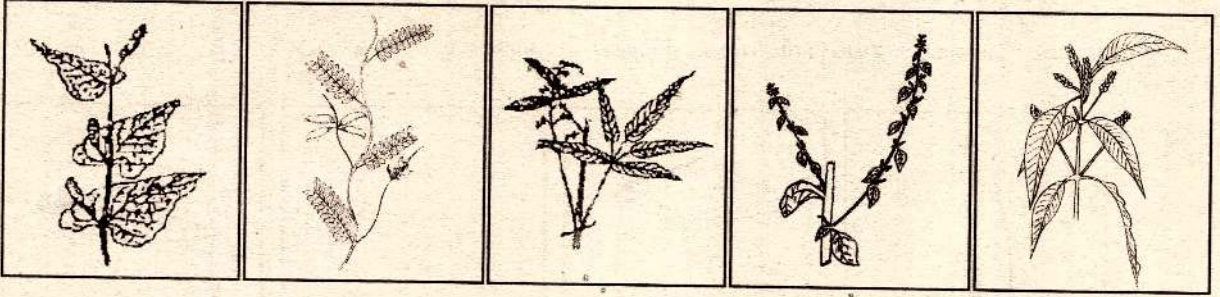


இக்குறியீடு குறிப்பது

- (1) வாகனங்கள் நிறுத்தக் கூடாது (2) வாகனம் செல்லத்தடை
(3) முந்திச் செல்லத் தடை (3) மேற் கூறியது எதுவுமல்ல

● 28 முதல் 32 வரையிலான வினாக்களுக்கு தரப்பட்ட தாவரங்களின் பெயர்களை அடைப்பினுள் இருந்து தெரிவு செய்க.

குன்றிமணி, பொன்னாவரசு, ஆடாதோடை, திப்பிலி, தேங்காய்ப்பூ கீரை



28.

29.

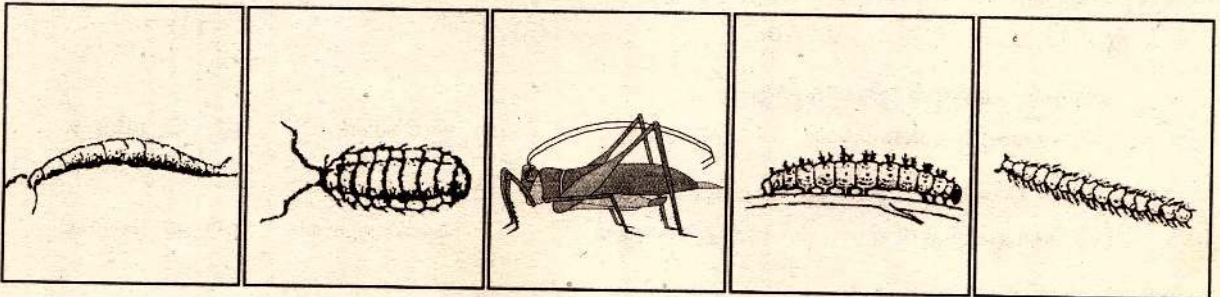
30.

31.

32.

● 33 முதல் 37 வரையிலான வினாக்களுக்கு தரப்பட்ட பூச்சிகளின் பெயர்களை அடைப்பினுள் இருந்து தெரிவு செய்து எழுதுக.

மரஅட்டை, மரவண்டு, மயிர்க்கொட்டி, முட்டைப்புழு, வெட்டுக்கிளி, கரப்பொத்தான்



33.

34.

35.

36.

37.

● பின்வரும் வினாக்களுக்கான விடையைப் புள்ளிக்கோட்டில் எழுதுக.

38. ஒலிம்பிக் விளையாட்டு விழா நான்கு ஆண்டுகளுக்கு ஒரு தடவை நடைபெறும். 29 ஆவது ஒலிம்பிக் விளையாட்டு விழா 2008 நடைபெறவுள்ளது. ஆகவே, 18 ஆவது ஒலிம்பிக் விளையாட்டு விழா எவ்வாண்டில் நடைபெற்றது?
39. விஜய் குடையின் விலையின் $\frac{3}{5}$ பங்கினை புத்தகம் வாங்குவதற்கு செலவிட்டான். குடையின் விலை 350 ரூபாவாக இருந்ததெனின் புத்தகம் ஒன்றின் விலை யாது?
40. 75 ரூபா 5 பிள்ளைகளிடையே சமமாகப் பகிர்ந்தளிக்கப்பட்டது. 4 பிள்ளைகளுக்குக் கிடைத்த மொத்த பணம் எவ்வளவு?
41. அகலத்தைப் போன்று மூன்று மடங்கு நீளமுள்ள ஒரு தோட்டத்தைச் சுற்றி 3 மீற்றர் இடைவெளி விட்டு தடிகள் நடப்பட்டன. தோட்டத்தின் நீளம் 45 மீற்றர் எனின் நடப்பட்ட தடிகளின் எண்ணிக்கை யாது?
42. முறையே 2.65 kg, 3.45 kg, 4.40 kg கொண்ட மூன்று பொதிகளை உள் எடக்கிய பெட்டியின் முழு நிறை 13 kg ஆயின் வெற்றுப் பெட்டியின் நிறையைக் காணுங்கள்.
43. 13.50 மணிக்கு இங்கு புகையிரத நிலையத்திற்கு வந்தடைய இருந்த புகையிரதம் 15 நிமிடம் பிந்தி வருவதாக அறிவிக்கப்பட்டது. அவ்வாறெனின் அப்புகையிரதம் வந்தடையும் நேரம் யாது?
44. கூட்டுக. $\frac{1}{3} + \frac{4}{9} =$
45. 1 kg பருப்பின் விலை 60.00 ஆகும். 1 kg 300 g நிறையுள்ள பருப்பின் விலை யாது?

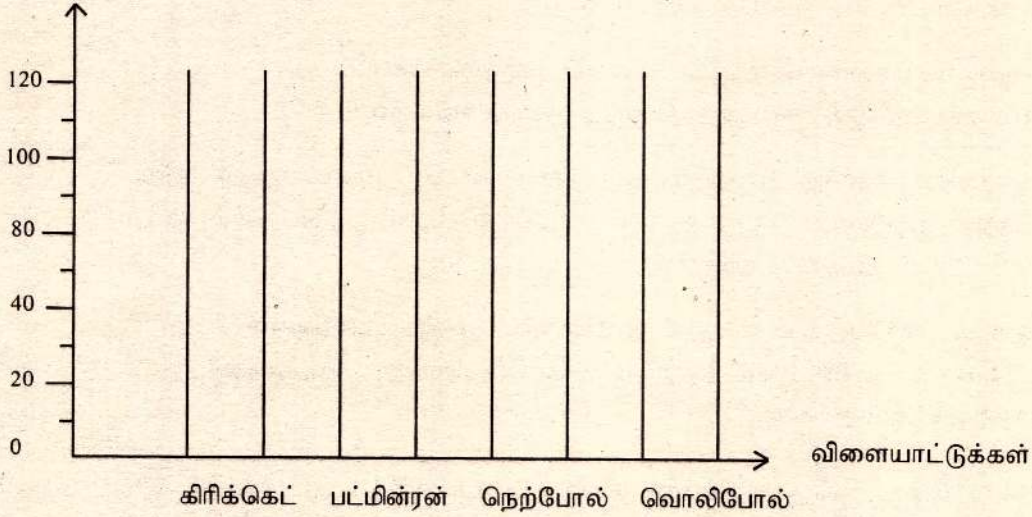
● ஒரு குறித்த பாடசாலையில் பிள்ளைகளிடம் அவர்கள் விரும்பும் விளையாட்டுக்கள் பற்றி விசாரிக்கப்பட்டது. அதன் மூலம் பெறப்பட்ட தகவல்களை அட்டவணை காட்டுகின்றது.

விளையாட்டு	பிள்ளைகளின் எண்ணிக்கை	
	ஆண்	பெண்
கிரிக்கெற்	80	68
பட்பின்ரன்	87	105
நெற்போல்	0	126
வொலிபோல்	90	0

46. பிள்ளைகளிடையே மிகவும் பிரசித்தி பெற்ற விளையாட்டு யாது?
47. அட்டவணையில் குறிப்பிடப்பட்டுள்ள ஆண்பிள்ளைகளின் மொத்த எண்ணிக்கை யாது?
48. பட்பின்ரன் விளையாட்டை விரும்பும் பிள்ளைகளின் மொத்த எண்ணிக்கை யாது?

49. கிரிக்கெற் விளையாட்டை மிகவும் விரும்புவதாகத் தெரிவித்த மாணவர்கள் ஒவ்வொருவருக்கும் 3 வீதம் டிசேட்கள் வழங்கப்பட்டதெனின், வழங்கப்பட்ட டிசேட்களின் எண்ணிக்கை யாது?

50. ஒவ்வொரு விளையாட்டிலும் விருப்பமுள்ள ஆண்பிள்ளைகளின் எண்ணிக்கையைக் காட்டும் நிரல் வரைபை வரைந்து நிரல்களை நிழற்றுக.



● ஒரு நாள் நான் வீட்டில் தனியே இருந்தேன். அப்பாவும், அம்மாவும் வெளியே சென்றிருந்தார்கள். மாலை நேரமாகியும் அவர்கள் திரும்பி வரவில்லை. அப்போது திடீரென அறையில் ஏதோ சத்தம் கேட்டது. இதனைத் தொடர்ந்து உமது எண்ணத்தில் தோன்றக்கூடிய பிரதிபலிப்பைக் காட்டும் வகையில் ஆறு வாக்கியங்களை எழுதுக.

(ஒவ்வொரு வாக்கியத்திலும் நான்கு சொற்களேனும் இடம்பெறல் வேண்டும். இவ்வாக்கியங்களின் எழுவாய் - பயனிலைத் தொடர்பு திருத்தமானதாக இருத்தல் வேண்டும்.)

51.
52.
53.
54.
55.
56.

மாணவர்களைப் பாடசாலைகளுக்குத் தேர்ந்தெடுப்பதற்கும் மாணவர்களுக்கு உதவியணம் வழங்குவதற்கும்
ஐந்தாம்தர மாணவர்களுக்கு நடாத்தப்படும் பரீட்சை

எதிர்பார்க்கை வினாத்தாள்

MODEL EXAMINATION FOR YEAR FIVE STUDENTS FOR SELECTION TO SCHOOLS AND FOR THE AWARD OF BURSARIES

சுட்டெண் :

வினாப்பத்திரம் I

நேரம் : 45 நிமிடம்

எல்லா வினாக்களுக்கும் இத்தாளிலேயே விடையளிக்க.

D 100511



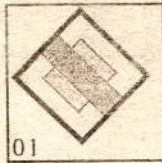
- தரப்பட்டுள்ள உருக்களில் தொடர்பற்ற உருவத்தைக் குறிக்கும் எண்ணைப் புள்ளிக்கோட்டில் எழுதுக.

01. தொழில்ல்லாதது.



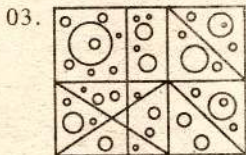
(.....)

02. போக்குவரத்து சமிக்ஞை இல்லாதது.



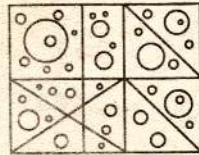
(.....)

- 03 ஆம் 04 ஆம் வினாக்கள் ஒவ்வொன்றிலும் உள்ள உருக்களிடையே ஒத்த இரண்டு உருக்களைக் குறிக்கும் எழுத்துக்கள் உள்ள விடையின் கீழே கோடு இடுக.



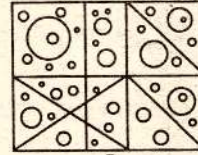
A

(1) A உம் B உம்



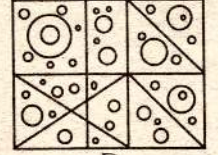
B

(2) B உம் C உம்



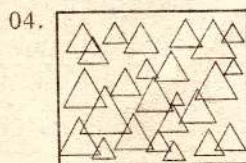
C

(3) A உம் D உம்



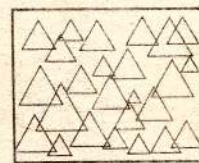
D

(4) A உம் C உம்



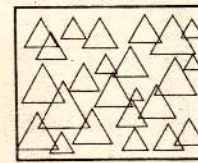
A

(1) A உம் C உம்



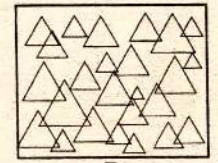
B

(2) B உம் D உம்



C

(3) A உம் D உம்



D

(4) C உம் D உம்

- கீழே நான்கு கூற்றுக்கள் காணப்படுகின்றன. அவை ஒவ்வொன்றும் ஒன்றுடன் ஒன்று தொடர்புடையதாயின் (✓) எனவும், இல்லையெனின் (x) அடையாளமிடுக.

05. கவனமாகப் படித்தால் பரீட்சையில் சித்தியடையலாம்.

கமலன் பாடசாலைக்கே போனதில்லை.

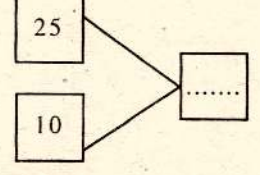
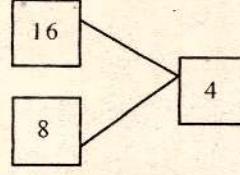
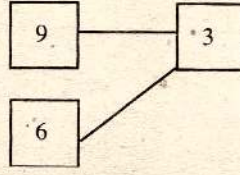
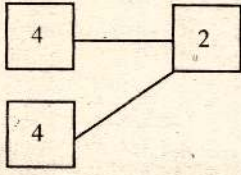
பரீட்சையில் அனைவரும் சித்தியடையலாம்.

பாடசாலைக் கல்வியில் பரீட்சைப் பழக்கியுள்ளதானும்.

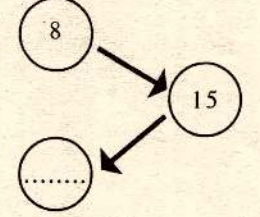
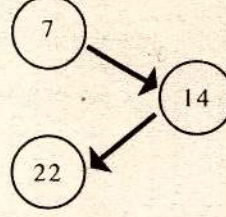
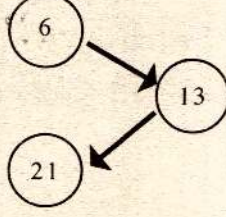
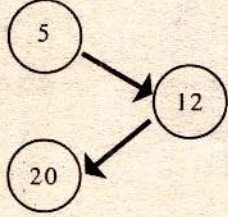
()

- தரப்பட்டுள்ள வினாக்களுக்கு உரிய விடையைப் புள்ளிக்கோட்டில் எழுதுக.

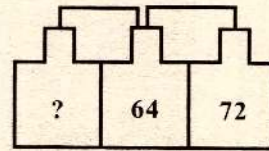
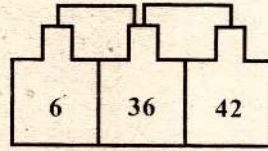
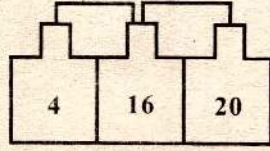
06. பின்வரும் எண்களின் கோலங்களை அவதானித்து பொருத்தமான பெறுமானத்தைத் தருக.



07. (.....)



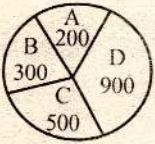
08. (.....)



(.....)

- பின்வரும் வரைபடத்தில் பாடசாலை ஒன்றில் ஐந்தாந்தரத்திலுள்ள நான்கு பிரிவுகளின் மூன்றாம் தவணைக்கான வரவு தரப்பட்டுள்ளது. இதனை அவதானித்து வினாக்களுக்கு விடை தருக.

09. எந்த வகுப்பில் மிகக் குறைவான வரவு காணப்பட்டது?



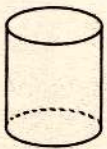
10. ஆகக் கூடிய வரவு எந்த வகுப்பில் காணப்பட்டது?

11. A வகுப்பிற்கும், C வகுப்பிற்குமிடையேயுள்ள வரவு வேறுபாடு எவ்வளவு?

12. B வகுப்பிற்கும், C வகுப்பிற்கும் இடையிலான வேறுபாடு எவ்வளவு?

13. நான்கு வகுப்புக்களினதும் மொத்த வரவினைக் காண்க.

- கீழே தரப்பட்டுள்ள படத்தினை அவதானித்து கேட்கப்படும் வினாக்களுக்கு விடை தருக.



14. இத்திண்மத்தின் பெயர் என்ன?

15. முகங்கள் எத்தனை உண்டு?

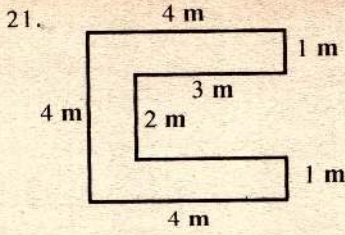
16. முகம் ஒன்றின் வடிவம் யாது?

- வாக்கியத்தில் மொழிக்கான குறியீடுகளை உரிய இடத்தில் இடுவதுடன் அவற்றின் பெயர்களைப் புள்ளிக்கோட்டில் எழுதுக.

நீச்சல் ஒரு கலை இதை அனைவரும் கற்றிருப்பது பாதுகாப்பானது நீச்சலைக் கற்கும் போதும் நீச்சலைக் கற்றதும் நாம் எல்லாம் வல்லவரென எண்ணி தன்னிச்சையாக நீந்த முயலக்கூடாது யாரும் இளம்பிள்ளைகளை தவறான வழியில் நீரில் இறங்கத் தூண்டவோ அனுமதிக்கவோ கூடாது இளங்கன்று பயமறியாது என்று எல்லாச் செயல்களிலும் தீவிரமாக முன்னெச்சரிக்கையில்லாது இருக்க முடியாது

17. 18.


19.



இதன் சுற்றளவைக் காண்க.

- பின்வரும் வினாக்களுக்குப் பொருத்தமான விடையைக் குறிக்கும் இலக்கத்தைக் கட்டமிடுக.

22. இந்த உருவைப் பூரணப்படுத்துவதற்கு தரப்பட்டுள்ள பகுதிகளில் மிகப்பொருத்தமானதைத் தெரிந்து அதன் கீழ் கோடிடுக.



(1)



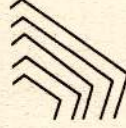
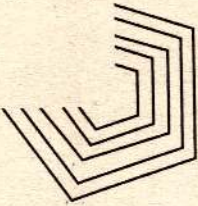
(2)



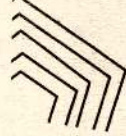
(3)



23. இந்த உருவைப் பூரணப்படுத்துவதற்குக் கீழே தரப்பட்டுள்ள பகுதிகளிலிருந்து பயன்படுத்தக்கூடிய பகுதியைத் தெரிவு செய்க.



(1)



(2)



(3)

- பின்வரும் வினாக்களுக்குப் பொருத்தமான விடையைக் குறிக்கும் இலக்கத்தைக் கட்டமிடுக.

24. 7 பேர் தெற்குத்திசையைப் பார்த்தவாறு அமர்ந்திருந்தனர். மாலாவின் இடதுபக்கம் ரவியும், ரவியின் இடதுபக்கம் ராணியும், சுமியின் வலது பக்கம் கல்யாணியும், ராணிக்கும் சுமிக்கும் நடுவில் கல்யாணியும், கமலியின் வலதுபக்கம் அர்ச்சனாவும், ரவிக்கும் கமலிக்கும் நடுவில் மாலாவும் இருந்தனர் எனின் நடுவில் இருந்தவர் யார்?

25. என்னிடம் உள்ள ஈக்கில்களின் எண்ணிக்கையின் இருமடங்கிலும் 2 ஈக்கில்கள் அதிகமாக என் அக்காவிடம் உள்ளன. எனது தங்கையிடம் இருந்த ஈக்கில்களின் எண்ணிக்கை எனது அக்காவிடம் இருந்த ஈக்கில்களின் எண்ணிக்கையின் 3 மடங்காகும். தங்கையிடம் 30 ஈக்கில்கள் இருந்தெனின் என்னிடம் உள்ள ஈக்கில்கள் எத்தனை?

26. ரமேஷ் 150 m நீளமும் 75 m அகலமும் உடைய மைதானம் ஒன்றைச் சுற்றி 2 தடவைகள் ஓடுவதற்கு 7 நிமிடமும் 30 செக்கன்களும் எடுத்தான். ரமேஷின் சாதாரண ஓட்டவேகம் யாது?

- பின்வரும் வினாக்களில் ஒழுங்கின்றிக் கிடக்கும் வாக்கியங்களை ஒழுங்குவரிசைப்படி எழுதுக.

27. P - ரோஜா உரிய நேரத்திற்கு பரீட்சை மண்டபத்திற்குச் சென்றாள்.

Q - உரிய நேரத்தில் பரீட்சை எழுதி முடித்தாள்.

R - பரீட்சைத்தாளில் முதலில் தனது சுட்டெண்ணை எழுதினாள்.

S - ரோஜா மகிழ்ச்சியோடு வீடு திரும்பினாள்.

T - எல்லா வினாக்களும் இலகுவாக இருந்தது.

28. K - மரம் ஓரளவு வளர்ந்திருந்தது.

L - நாட்டிய மரத்திற்கு நீர் ஊற்றினேன்.

M - மரம் பூத்திருந்தது.

N - மரம் ஒன்றை நாட்டினேன்.

O - மரம் நிறைய பிஞ்சுகள் விழுவதற்கு வளர்ந்தது.

- பாலன், இராமன், நாதன் ஆகிய மூன்று நண்பர்களும் முத்திரை சேகரிப்போராவர்.
 - மூவரிடமும் தற்போது 91 முத்திரைகள் உள்ளன.
 - ஒவ்வொருவரிடமும் 24 இற்கு மேற்பட்ட முத்திரைகள் உள்ளன.
 - ஒவ்வொருவரிடமும் ஒற்றையெண்ணிக்கை முத்திரைகள் உள்ளன.
 - மூவரிடமும் உள்ள முத்திரைகளின் எண்ணிக்கைகள் சமனானவை அன்று.
- 29. சுமனிடம் 39 முத்திரைகள் இருப்பின் அமலிடம் இருக்கக்கூடிய முத்திரைகளின் எண்ணிக்கை யாது?

(1) 26 (2) 29 (3) 27
- 30. அமலிடமும் சுரேஷிடமும் உள்ள முத்திரைகளின் கூட்டுத்தொகை 52 எனின், சுரேஷிடமுள்ள முத்திரைகளின் எண்ணிக்கை யாதாக இருக்கலாம்?

(1) 26 (2) 25 (3) 27

- பின்வரும் வினாக்களுக்குரிய சரியான விடையின் இலக்கத்தைச் சுற்றி வட்டமிடுக.

31. கடலில் எப்போதும் இருப்பது

1. நீர் 2. மீன் 3. அலை 4. படகு

32. பாடசாலையொன்றில் எப்போதும் இல்லாதவை

1. பிள்ளைகள் 2. கதிரைகள் 3. மேசைகள் 4. கூரை


- இலக்கம் 33 ஆம் 34 ஆம் வினாக்களில் உள்ள சரியான விடையின் கீழ்க் கோடிடுக.

33. இப்படத்தில் சிங்கத்தின் அளவுடன் ஒப்பிடும்போது பிழையான அளவில் காணப்படுவது எது?



1. மாடு
2. மான்
3. குரங்கு
4. காளை

34. இப்படத்தில் காட்டப்படும் பறவைகளில் மிகவும் வேகமாக ஓடக்கூடியது.



1. A ஆகும்.
2. B ஆகும்.
3. C ஆகும்.
4. D ஆகும்.

- “அ” பகுதிக்குப் பொருத்தமான வாக்கியத்தை பகுதி “ஆ” இல் இருந்து தெரிந்து அதன் இலக்கத்தைப் புள்ளிக்கோட்டில் எழுதுக.

35. ஒட்டுப்பலகைத் தொழிற்சாலை (.....) 1. வியாங்கொடை
36. கடதாசித் தொழிற்சாலை (.....) 2. பிலியந்தலை
37. புடவைத் தொழிற்சாலை (.....) 3. ஜின்தோட்டை
38. உருக்குத் தொழிற்சாலை (.....) 4. எம்பிலிப்பிட்டிய
39. மட்பாண்ட தொழிற்சாலை (.....) 5. ஒறுவெல

- பின்வரும் வினாக்களுக்குப் பொருத்தமான விடையைப் புள்ளிக்கோட்டில் எழுதுக.

40. பயிர்ச்செய்கைக்கு தீங்கு விளைவிக்கும் பிராணி




1




2



3





4



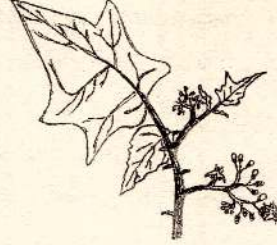
5

03. பிணவருவன எந்த உயிரினங்களின் கூடுகள் என்பதைப் புள்ளிக்கோட்டில் எழுதுக.



(i) (ii) (iii) (iv)

04. தரப்பட்டுள்ள தாவரங்களின் பெயர்களை புள்ளிக்கோட்டின் மீது எழுதுக.



(i)

(ii)

(iii)

(iv)

05. கீழ்வரும் ஒவ்வொரு கூற்றும் சரியாயின் "சரி" எனவும் பிழையாயின் "பிழை" எனவும் எழுதுக.

- (i) தையல் வகைகளில் சோம் தையலும் ஒன்றாகும். (.....)
- (ii) ஓணான் விவசாயின் நண்பனாகும். (.....)
- (iii) சமைத்த உணவு பொருட்களை முடி வைத்தல் கூடாது. (.....)
- (iv) ஒரு வருடத்தில் 52 வாரங்கள் காணப்படும். (.....)
- (v) தாவரங்கள் ஒளித்தொகுப்பின்போது காபனீரொட்சைடை வெளிவிடுகின்றன. (.....)
- (vi) இந்தியாவையும், இலங்கையையும் பிரிப்பது பனாமா கால்வாயாகும். (.....)

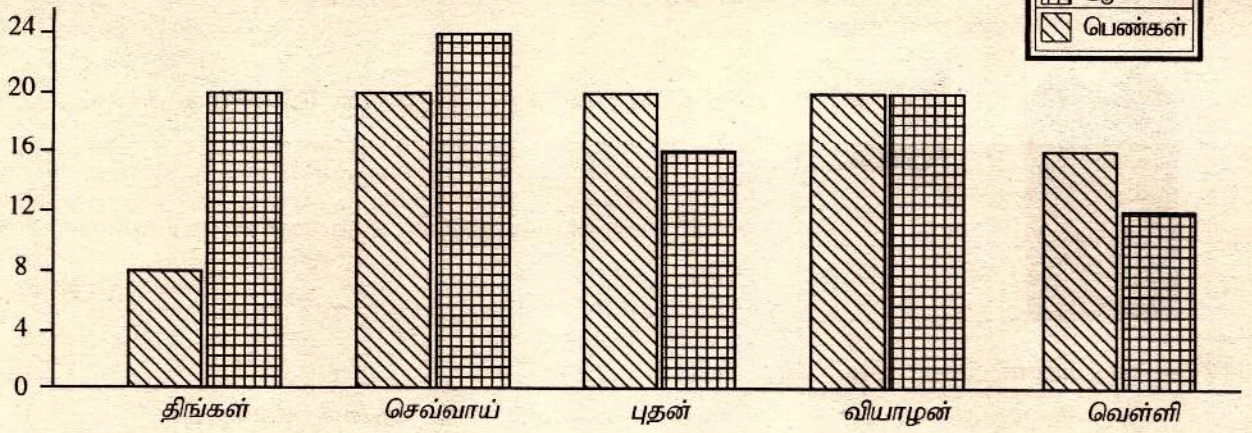
06. கீழேயுள்ள படவரைபின் மூலம் குறிப்பிட்ட ஒரு தினத்தில் புத்தக விற்பனை நிலையத்தில் விற்பனை செய்யப்பட்ட நூல்களின் விபரம் பின்வருமாறு :

☉ இவ்வுரு 12 புத்தகங்களைக் காட்டுகிறது

சிறுவர் நூல்கள்	☉	☉	☉	☉		
கதைப்புத்தகங்கள்	☉	☉	☉	☉	☉	☉
ஆங்கில நூல்கள்	☉	☉	☉	☉		
அரசியல் நூல்கள்	☉	☉				
வரலாற்று நூல்கள்	☉	☉	☉			

- (i) அன்றைய தினம் எவ்வகையான நூல் அதிகளவு விற்பனை செய்யப்பட்டது?-----
- (ii) அன்று மிகக் குறைவாக விற்பனை செய்யப்பட்ட நூல் எது?-----
- (iii) வரலாற்று நூல்களைவிட ஆங்கில நூல்கள் எத்தனை மேலதிகமாக விற்பனை செய்யப்பட்டது?-----
- (vi) அன்று விற்பனை செய்யப்பட்ட மொத்த நூல்களின் எண்ணிக்கை யாது?-----
- (v) அன்று விற்பனை செய்யப்பட்ட சிறுவர் நூல்களினதும் வரலாற்று நூல்களினதும் எண்ணிக்கை?-----

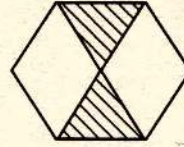
07. குறித்த ஒரு பாடசாலையில், ஐந்து நாட்களில் 5 ஆம் தர மாணவர்களின் பாடசாலை வரவுகளைக் கீழ்வரும் வரைபு காட்டுகிறது.



- (i) ஆண்பிள்ளைகளினதும் பெண்பிள்ளைகளினதும் தொகை சமமாக இருந்த நாள் எது?
- (ii) சமமான தொகை மாணவர்கள் வகுப்புக்குச் சமூகமளித்த நாட்கள் இரண்டும் எவை?
- (iii) கூடுதலான மாணவர்கள் சமூகமளித்த நாள் எது?
- (vi) மாணவர்கள் கூடுதலாக சமூகமளித்த நாளுக்கும் குறைவாக சமூகமளித்த நாளுக்கும் இடையிலான வித்தியாசம் என்ன?
- (v) ஐந்து நாட்களிலும் சமூகமளித்த ஆண் பிள்ளைகளின் மொத்த எண்ணிக்கை?

08. பின்வரும் வினாக்களுக்கான விடைகளைப் புள்ளிக்கோட்டில் எழுதுக.

- (i) அருகில் உள்ள உருவில் நிழற்றப்பட்ட பகுதி முழு உருவின் என்ன பின்னமாகும்?



- (ii) கீழே தரப்பட்டுள்ள எண் நிரையில் அடுத்து வரும் எண் என்ன?

1	3	6?....
---	---	---	-----------

09. சரியான விடையின் கீழ்க் கோடிடுக.

- (i) வடக்கு என்பது ↑ என்னும் குறியீட்டால் காட்டப்படின் கிழக்கு என்பது காட்டப்படக்கூடிய குறியீடு?
 (1) ↑ (2) ← (3) →
- (ii) 3020 என்ற குறியீடு வருத்தம் என்று பொருள்படுமாயின் வதம் எவ்வாறு குறிக்கப்படலாம்?
 (1) 320 (2) 302 (3) 30

10. பின்வரும் வினாக்களில் உள்ள வெற்றிடங்களுக்கு மிகப் பொருத்தமான சொல்லைத் தரப்பட்டுள்ள விடைகளிலிருந்து தெரிவு செய்க.

- (i) அன்பு : தாய் எனின் கல்வி :

- (1) புத்தகம் (2) ஆசிரியர் (3) பாடசாலை

- (ii) மின்னல் : ஒளி எனின் முழக்கம் :

- (1) இடி (2) மழை (3) ஓசை

மாணவர்களைப் பாடசாலைகளுக்குத் தேர்ந்தெடுப்பதற்கும், மாணவர்களுக்கு உதவியணம் வழங்குவதற்கும்
 ஐந்தாம் தர மாணவர்களுக்கு நடாத்தப்படும் மாதிரிப் பரீட்சை
 MODEL EXAMINATION FOR YEAR FIVE STUDENTS FOR SELECTION TO SCHOOLS AND FOR THE AWARD OF BURSARIES

கட்டெண் :

வினாப்பத்திரம் I


நேரம் : 45 நிமிடம்

எல்லா வினாக்களுக்கும் இத்தாளிலேயே விடையளிக்க.


D 100521

● பின்வரும் வினாக்களுக்கு மிகச் சரியான விடையின் கீழ் கீறிடுக.

01. இங்குள்ள உருக்களில் காட்டப்பட்டுள்ள பொருள்களை இரு கூட்டங்களாகப் பிரிக்கலாம்.



A



B



C



D

இக்கூட்டங்களை சரியாகக் காட்டும் விடையைத் தெரிவு செய்க.

1.

AB
CD

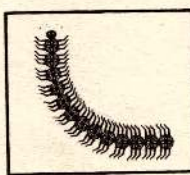
2.

BC
AD


3.

AC
BD

02. இங்குள்ள உருக்களில் காட்டப்பட்டுள்ள பிராணிகளை மூன்று கூட்டங்களாகப் பிரிக்கலாம்.




A



B




C



D



E



F

இக்கூட்டங்களைச் சரியாகக் காட்டும் விடையைத் தெரிவு செய்க.

1.

AB
DF
AE

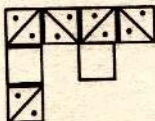
2.

CB
DB
AF

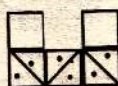
3.

AD
BC
EF

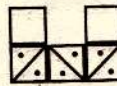
03. இந்த உருவை பூரணப்படுத்துவதற்கு கீழே தரப்பட்டுள்ள பகுதிகளிலிருந்து பயன்படுத்தக்கூடிய பகுதியைத் தெரிவு செய்க.



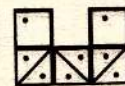
1.



2.

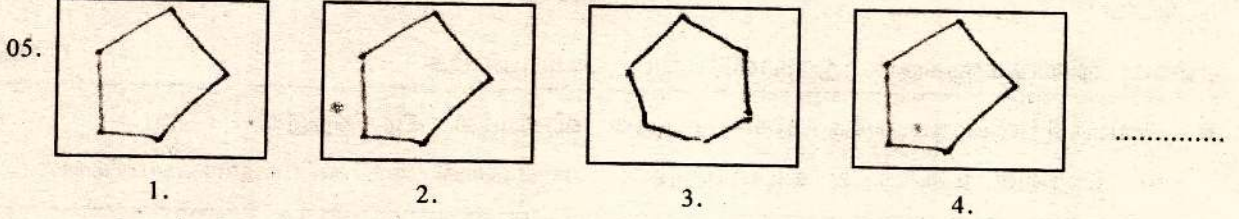
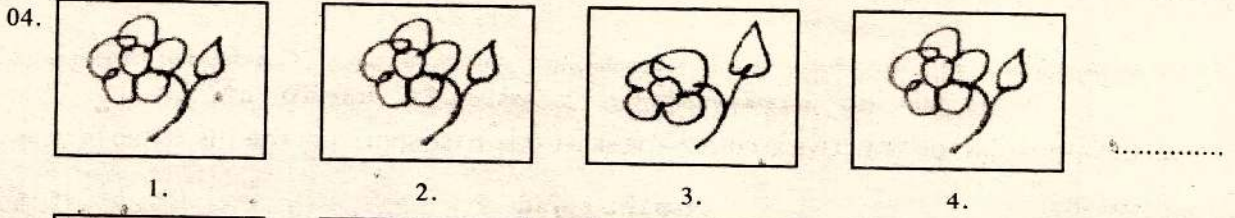


3.

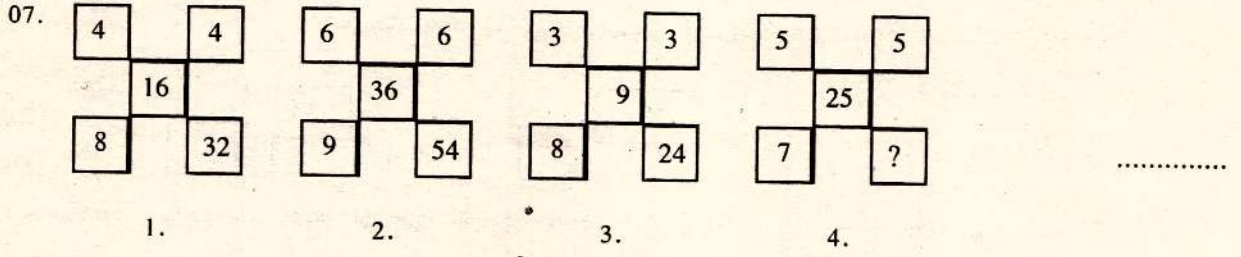
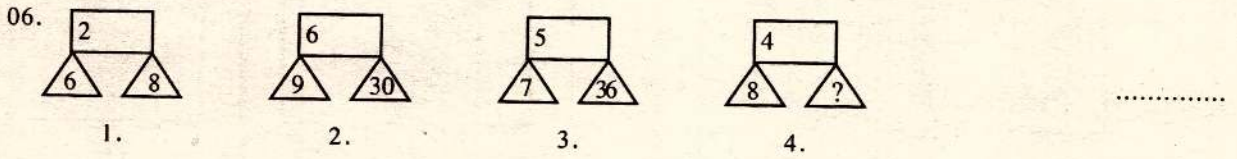


.....

- கீழுள்ள உருக்களில் மூன்று ஏதோ ஒரு விதத்தில் ஒத்தவையாகவும், ஏனைய ஒன்று வித்தியாசமானதாகவும் காணப்படுகிறது. வேறுபட்டதைத் தெரிவு செய்து புள்ளிக்கோட்டில் எழுதுக.



- கீழுள்ள படங்களில் எழுதப்பட்டுள்ள எண்கள் ஒரு கோல வடிவில் உள்ளன. அதனை அவதானித்து நான்காவது படத்தில் உள்ள வெற்றிடத்தைப் பூர்த்தி செய்க.



- பிழையற்ற விடையின் இலக்கத்தைப் புள்ளிக்கோட்டில் எழுதுக.


08. பூண்டு வகைகள்



09. முலையூட்டிப் பறவை



- பின்வரும் படங்களை அவதானித்து கேட்கப்பட்ட வினாக்களின்படி செயல்படுக.



10. வீட்டில் வளர்க்கப்படும் உயிரினங்கள்

1. ABD 2. DEF 3. BFG

11. தாவரங்களை மட்டும் உணவாக உண்பவை

1. DE 2. DF 3. AH

12. குதிரை முக அமைப்பையும் பாம்பின் வால் அமைப்பும் கொண்ட உயிரினம்

1. A 2. B 3. E

- பின்வரும் பழமொழிகளின் கருத்தை நன்கு விளக்கும் விடையைத் தெரிவு செய்க.

13. "ஆழம் அறியாமல் காலை விடாதே"

1. அப்படிச் செய்யாவிடில் விழுந்து விடுவோம்.
2. எதையும் ஆராய்ந்து செய்தல் வேண்டும்.
3. எதையும் அளவுடன் செய்தல் வேண்டும்.

14. 'செய்த வினைகளின் பயன்' எனும் கருத்தை உணர்த்தி நிற்கும் பழமொழி

1. இரக்கப் போனாலும் சிறக்கப் போ.
2. அடாது செய்பவர் படாது படுவர்.
3. மனமுண்டால் இடமுண்டு.

15. கதிரவனின் தோலில் சிவப்பு நிற புள்ளிகள் காய்ச்சலுடன் காணப்பட்டது. இதற்கு காரணம்

1. கதிரவனுக்கு மலேரியாக் காய்ச்சல்.
2. அவனிற்கு யானைக்கால் காய்ச்சல்.
3. அவனிற்கு டெங்குக் காய்ச்சல்.


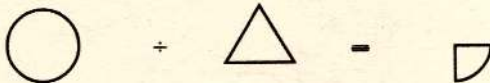
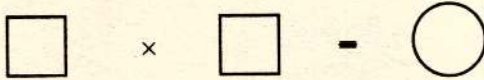
16. மாலதி வாந்திபேதி நோயினால் துன்புற்றாள். இதற்கு காரணம்....

- A. அவள் ஒழுங்காக சாப்பிடுவதில்லை.
- B. அவள் ஈமொய்த்த உணவுகளை உண்பாள்.
- C. அவள் சாப்பிட முன் ஒருபோதும் கைகளை கழுவுவதில்லை.

இவற்றுள் சரியான காரணம்

1. AB 2. BC 3. AC

- கீழே உள்ள உருக்களை அவதானித்து விடையளிக்குக.



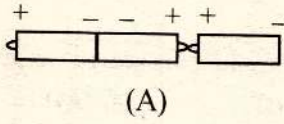
17. இங்கு உரு \square இன் பெறுமானம்

1. 8 2. 36 3. 72

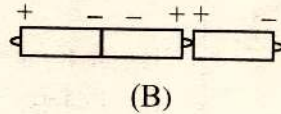
18. \triangle இன் பெறுமானம்

- 19 - 27 வரையிலான வினாக்களுக்கு பொருத்தமான விடையைத் தெரிவு செய்து அதன் இலக்கத்தை புள்ளிக் கோட்டில் இடுக.

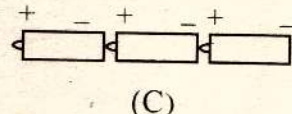
19. மிகச் சரியான விதத்தில் தொடுக்கப்பட்டு உள்ள மின்கலங்கள் காட்டப்பட்டுள்ள உரு



(A)

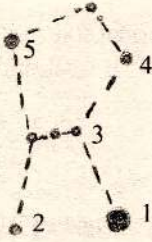


(B)



(C)

20.



பின்வரும் உடுத்தொகுதி குறிப்பது

1. வேட்டைக்காரன்
2. தென்சிலுவை
3. விருச்சிகம்

21. பொல்பரசு காணப்படும் உணவு வகைகள்

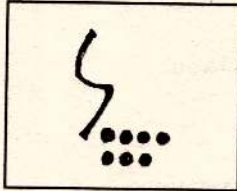
1. தட்டைப்பயறு
2. அயடின் உப்பு
3. கீரை வகைகள்

22. பின்வரும் எண்பிரசின்னங்களில் வெற்றிடத்திற்குப் பொருத்தமான எண்ணைத் தெரிவு செய்து புள்ளிக்கோட்டில் இடுக.

$$\begin{array}{r} 8 \quad 7 \quad 6 \\ 7 \quad \text{---} \quad 4 \\ \hline 1 \quad \text{---} \quad 2 \end{array}$$

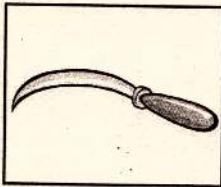
1. $\frac{8}{1}$
2. $\frac{6}{1}$
3. $\frac{5}{1}$

23. கீழே காட்டப்பட்ட இலச்சினையை சரியாகக் குறிக்கும் பெயரைத் தெரிவு செய்து புள்ளிக்கோட்டில் எழுதுக.




1. இலங்கை காப்புறுதித் திணைக்களம்
2. யுனிசெப்
3. ஸ்ரீ லங்கா ரெலிகொம்

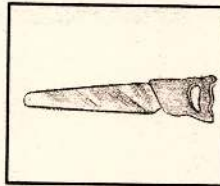
24. கமலா துணிகளை அளவாக வெட்டிக் கொண்டிருந்தாள். இதில் கமலா பயன்படுத்திய கருவியாக இருக்கக்கூடியது.



1.




2.


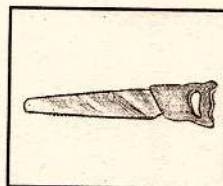


3.

25. பரதன் தச்சுத்தொழிலை செய்பவன். அவன் பயன்படுத்தப்படக்கூடிய கருவி



1.



சுட்டெண் :

வினாப்பத்திரம் II

நேரம் : 1 மணி 15 நிமிடம்

எல்லா வினாக்களுக்கும் இத்தாளிலேயே விடையளிக்க.

D 100522

● பின்வரும் கவிப்பகுதியை வாசித்து கீழுள்ள வினாக்களுக்கு விடையளிக்க.

தோழர்களே	மனிதா!
தூக்கம் எம்மை	விலை மட்டம் விண்ணைத் தொட்டுக்
தூக்கித் திரிந்தபோதும்	கொண்டிருக்க
தூக்கத்தை இனி	உன்தலை மட்டும்
தூக்கியெறிவோம் வாரும்	தலையணையைத் தொடுவது
பாலர் வகுப்பினருக்கும்	நியாயமா?
பாடங்கள் அதிகமிப்போ	மனிதா நீ பாயில்
வெற்றி பெற வேண்டுமென்றால்	உறங்கிக் கொண்டிருப்பதால் - தான்
விழி உறங்க முடியாது	உன் பையில் பணம் உறங்க மறுக்கிறது

01. இக்கவிதைக்குப் பொருத்தமான தலைப்பை இடுக.

02. இக்கவிதையில் மையக்கருத்து என்ன?

● பின்வரும் சொற்பதங்களுக்கு எதிரான பதங்களைத் தருக.

03. தூக்கம் 04. நியாயம்

● பின்வரும் சொற்பதங்களுக்கு ஒத்த பதங்களைத் தருக.

05. விண் 06. விழி

07. தோழன்

08. எதனால் பையில் பணம் உறங்க மறுக்கிறதாக இக்கவிஞர் கூறுகிறார்?

09. இப்பாடலிருந்து நீர் கற்றுக்கொள்ளக்கூடிய படிப்பினை ஒன்று தருக.

10. பாலர் வகுப்பினரைப் பற்றிய கவிஞரின் கருத்து என்ன?

● கீழே கொடுக்கப்பட்டுள்ள வாக்கியங்கள் சரியாயின் “√” எனவும், பிழையாயின் “X” எனவும் புள்ளிக்கோட்டில் இடுக.

11. உலகிலே மிகப்பெரிய பாலைவனம் சஹாரா பாலை வனம். (.....)

12. உருக்குத் தொழிற்சாலை அமைந்துள்ள இடம் வாழைச்சேனை. (.....)


13. இலங்கையில் முதலாவதாக கட்டப்பட்ட வரலாற்று முக்கியத்துவம் வாய்ந்த தூபி தூபராம தாதுகோபுரம். (.....)

14. தாய் இரு குரவர்கள் ஒருவராவர். (.....)

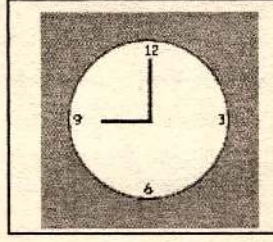
15. லேசரைக் கண்டுபிடித்தவர் சேர் ஐசாக் நியூட்டன் ஆவார். (.....)

- பின்வரும் படத்தில் காட்டப்படுபவைக்குரிய ஆங்கிலப் பதங்களை எழுதுக.

16.




17.



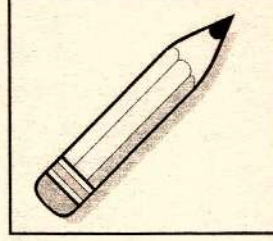
18.



19.



20.



- கடந்த மாதம் அமலியின் தந்தை வீட்டுப்பொருட்கள் வாங்கி வந்த போது கிடைத்த பற்றுச் சீட்டிலிருந்து பெற்ற விபரங்கள் கீழே காட்டப்பட்டுள்ளன. அவற்றை வாசித்து இலக்கம் 21 தொடக்கம் 30 வரையிலான வினாக்களுக்கு விடை தருக.

Family Super Dehiwela			
2004. 06. 10			
அளவு	விபரம்	பணம்	
		ரூபா	சதம்
750 g	செத்தல் மிளகாய்	156	00
4 kg	சீனி	288	00
600 g	பருப்பு	48	00
50 g	பிளம்ஸ்	7	50
1250 g	வெங்காயம்	55	00
4	சன்லைட்	90	00
300 g	கடலை	21	75
600ml	தே.எண்ணெய்	84	00
4 பை	மாரி பிஸ்கட்	72	00
7	முட்டை	63	00
5	தேங்காய்	80	00
		965	25

21. அவர்கள் செலவு செய்த மொத்தப் பணத்தை சொற்களில் எழுதுக.

22. கடைக்காரரிடம் ரூபா 1000 செலுத்தினால் அவர் மிகுதியாகப் பெற்ற பணம்?

23. 2 kg வெங்காயம் வாங்கத் தேவையான பணம் எவ்வளவு?

24. 500 g செத்தல் மிளகாய் வாங்க எவ்வளவு பணம் செலவாகியிருக்கும்?

25. $1\frac{1}{2}$ l தேங்காய் எண்ணெய்யும், 10 முட்டைகளையும் வாங்கத் தேவையான பணம் எவ்வளவு?

26. 3 kg கடலையை வாங்கிய பின் 500/= வை கொடுத்தால் மிகுதியாக எவ்வளவு பணம் கிடைக்கும்?

27. சீனி 1 kg 10 ரூபாவினால் குறையுமாயின், 4 kg சீனியையும் வாங்க இப்பொழுது செலுத்த வேண்டிய தொகை யாது?

28. 1 kg பருப்பு 5 ரூபாவினால் குறையுமாயின், 3 kg பருப்பும், 2 kg செத்தல் மிளகாயும் வாங்கத் தேவையான பணம் எவ்வளவு?

29. அடுத்த மாதம் அமலியும் தந்தையும் வீட்டுச் சாமான்களை 3875 ரூபாவிற்கு வாங்கி இதனை 5 தவணைகளில் அவர் செலுத்து வதாக ஒப்புக்கொள்வாராயின், அவர் 1ம் தவணை செலுத்த வேண்டிய தொகை யாது?

30. அமலியிடம் இம்மாதம் அவளின் கைச்செலவிற்காய் 10 சன்லைட்டுக்களின் பெறுமதிக்கு சமமான பணத்தொகையை அவரின் தந்தை வழங்குவாராயின் அவள் பெற்ற பணத்தொகை எவ்வளவு?

● கீழே தரப்பட்டுள்ள ஆங்கிலப் பதத்திற்குரிய தமிழ்க் கருத்தினை எழுதுக.


31. Search

32. Study

33. Temple

34. Hospital

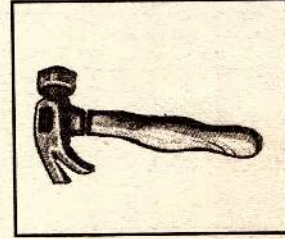
● 35 தொடக்கம் 39 வரையிலான வினாக்களிற்கு உள்ள படங்களில் இருந்து தெரிவு செய்து வெற்றிடத்தில் அவற்றிற்குரிய ஆங்கில எழுத்தை எழுதுக.




A




B



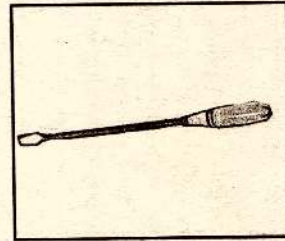
C



D



E



F

35. திருமணம் போன்ற மங்களகரமான நிகழ்வுகளுக்குப் பயன்படுத்தப்படுவது

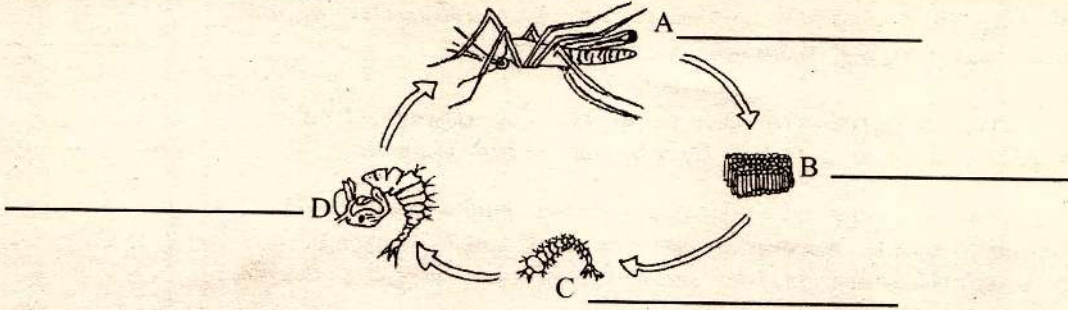
36. உலகில் பிரசித்தி பெற்ற ஓவியங்களுள் ஒன்று இதுவாகும்.

37. சட்டி பானை செய்யும் தொழிலாளி

38. கவிஞனுக்கு எழுதுகருவி போல தச்சனுக்கு

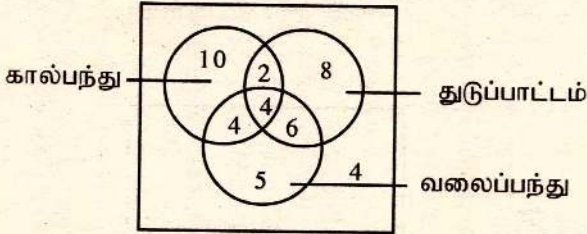
39. கண்ணன் சுவரொன்றில் படம் ஒன்றை தொங்க விடுவதற்காக ஆணியை சுவரில் அடித்தான். அவன் உபயோகித்த கருவி

பின்வரும் 40 தொடக்கம் 45 வரையிலான வினாக்களிற் கு விடையளிக்க. பின்வரும் வாழ்க்கை வட்டத்தை உபயோகிக்க.



40. A-D வரையிலானவற்றை பெயரிடுக.
41. இது எந்த உயிரினத்தின் வாழ்க்கைச் சக்கரம்?
42. இவற்றினால் பரம்பலடையும் நோய்கள் 2 தருக.
-
43. அவற்றினை தடை செய்ய நீர் மேற்கொள்ளும் கருமங்கள் இரண்டு தருக.
-
-
44. மலேரியா நோயினைப் பரப்பும் நுளம்பைப் பெயரிடுக.
- 45 டெங்கு காய்ச்சலின் போது அவதானிக்கும் குணங்குறிகள் 2 தருக.
-
-

பாடசாலை ஒன்றில் தரம் 5 மாணவர்களிடையே துடுப்பாட்டம், கால்பந்தாட்டம், வலைப்பந்து போன்றவற்றை விரும்புவோரின் விபரம் பின்வரும் வரைபடம் மூலம் காட்டப்பட்டுள்ளது.



46. மொத்த மாணவர்களின் தொகையை காண்க.
47. மூன்று விளையாட்டையும் விரும்புவோரின் எண்ணிக்கை
48. துடுப்பந்தாட்டமும் வலைப்பந்தையும் மட்டும் விரும்புவோரின் எண்ணிக்கை

49. கால்பந்தாட்டம் மட்டும் விரும்புவார் தொகை
50. மூன்று விளையாட்டையும் விரும்பாதவர் தொகை

பின்வரும் பிரபலமானவர்களின் பெயர்களை எழுதுக.

51.



52.



53.



- அருள் என்னும் மாணவன் மைதானத்தில் விளையாடிக் கொண்டிருக்கும் வேளையில் அவனைச் சுற்றியுள்ள பொருட்கள் படத்தில் உள்ளவாறு காணப்படுகிறது. கேட்கப்படும் வினாக்களுக்கு விடையளிக்குக.



வடக்கு



54. அருளிற்கு வடமேல் திசையில் இருப்பது என்ன?
55. மலசலகூடத்திற்கு எதிராக இருப்பது என்ன?
56. அருளிற்கு தெற்கு திசையில் இருப்பது என்ன?
57. அவனிற்ரு ஈசான மூலையில் இருப்பது என்ன?

- பின்வரும் தொடர்புக்கமைய சரியான சொல்லைத் தெரிவு செய்க.

58. கமுகு : பிள்ளை போல நாணல் : (கன்று, நாத்து, பிள்ளை)
59. கல் : குவியல் போல ஆ : (கூட்டம், பந்தி, நிரை)
60. ஆடு : இடையன் போல தேர் : (மாலுமி, பாகன், இடையன்)


- “அன்று கடும் மழை” எனத் தொடங்கி ஆறு வாக்கியம் எழுதுக. ஒவ்வொரு வாக்கியத்திலும் எழுவாய், பயனிலை இயைபு திருத்தமாக அமைவதோடு நான்கு சொற்களுக்குக் குறையாமலும் அமைய வேண்டும்.

61.
62.
63.
64.
65.
66.


இவங்கைக




தேசிய இலச்சினை



தேசிய விளையாட்டு




தேசிய கொடி



தேசிய மலர்

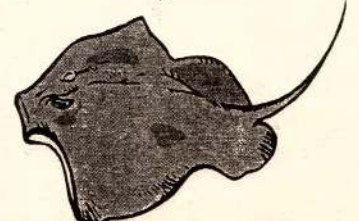
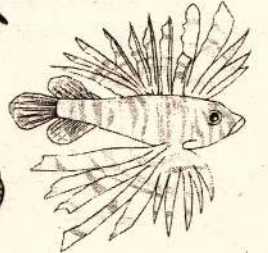
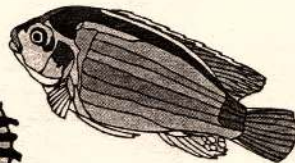
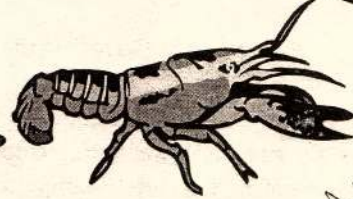






தேசிய மரம்



தேசிய பறவை

கடல்வாழ் உயிரினங்கள்



நன்றி : புலமை அலயம்

வினாப்பத்திரம் I விடைகள்

வினாத்தாள் இல.: D100111

01. 1	09. 3	17. வெப்பமானி	25. 8/10 அல்லது 4/5	33. 15.50 மணித்தியாலம்
02. 3	10. 3	18. வெப்பத்தை அளக்க	26. 5	34. 4
03. 1	11. 56	19. 37°C	27. 5	35. 2
04. 2	12. 4	20. 35	28. 4	36. 1
05. 2	13. கூம்பு	21. 315	29. புற்கள்	37. 1
06. 2	14. 1	22. 7	30. தபுதாரன்	38. 3
07. 4	15. 1	23. 8	31. சொல்லுக்கு	39. 1
08. 1	16. 1	24. 4/10 அல்லது 2/5	32. சசில் பிரேமஜயந்த	40. 3

வினாப்பத்திரம் II விடைகள்

வினாத்தாள் இல.: D100112

01. இறைவன்	15. 2	34. 195	54. RW.SP
02. ஆனந்தம், களிப்பு, மகிழ்ச்சி	16. 9.00 மணி	35. 42	55. 200.35
03. நடனமாடுகிறது	17. மு. ப. 12.05	36. 128	56. RW
04. ஆம், சரியானது	18. 9.39	37. நிருபர்	57. XPYP
05. 2	19. Television	38. விமர்சகர்	58. T
06. மயில், குயில், இறைவன், அரங்கு	20. Radio	39. விதவை	59. UPP
07. காக்கின்றான், இருக்கின்றான், காண்கின்றான், கலந்து, மறைந்து	21. Table	40. பாகன்	60. 4001, 4003
08. பெயர் அடைமொழி	22. Chair	41. வலவன்	61. 6999, 7001
09. 24 m	23. Clock	42. அகவும்	62. 3798, 3800
10. 16 m ²	24. Frock	43. குறுகுறுக்கும்	63. 4647, 4649
11. 236 m ²	25. சை	44. முக்காரமிடும்	64. 9998, 10000
12. 88 m	26. ஓசை	45. அழும்	65. - 70.
13. 7/8	27. சகாசம்	46. உறுமும்	* அனைத்து வாக்கியங்களும் ஆகக் குறைந்தது நான்கு சொற்களுக்கு குறையாமல் இருத்தல் வேண்டும்.
14. உருளை	28. ஒலன்சைசை	47. கர்ச்சிக்கும்	* எழுவாய், பயனிலை, செயப்படுபொருள் அமைந்திருத்தல் வேண்டும்.
	29. விஜயலக்ஷ்மி	48. பிளிறும்	
	30. சைவம்	49. A, E, I, O, L, U	
	31. 38	50. CAT	51. EAT
	32. 80	52. 1, 3, 5, 7, 9	
	33. 15	53. 2, 4, 6, 8, 10	

வினாப்பத்திரம் I விடைகள்

வினாத்தாள் இல.: D100121

01. பொலபொல	11. II	21. X - 7, Y - 60	31. அரிசி
02. சலசல	12. I	22. A - 5, B - 14	32. தோகை
03. ஜல் ஜல்	13. III	23. A - 3, B - 5, C - 1, D - 2, E - 4	33. எச்சம்
04. கலகல	14. I	24. P - 3, Q - 4, R - 2, S - 5, T - 1	34. பாகன்
05. துருவித்துருவி	15. III	25. J - 3, K - 1, L - 2, M - 5, N - 4	35. மாலுமி
06. வியாழன்	16. II	26. A - 1	36. I
07. தேனீர்	17. I	27. S - 2	37. II
08. பூனை	18. III	28. R - 5	38. I
09. உடம்பு	19. I	29. L - 3	39. IV
10. காலநிலை	20. II	30. 3 x 7 = 21	40. III

வினாப்பத்திரம் II விடைகள்

வினாத்தாள் இல.: D100122

01. குடிநீர் கெட்டுவருகிறது, பசுமை அழிகிறது, காற்று தூய்மையற்று போகிறது	II. வாகனங்கள் III. சுத்தம் IV. மாசு	23. Paret	34. அழகான, வசீகரமான
02. குற்றம் குறைகள் இல்லாமல் வாழலாம்	10. ஆவதானால் 11. X	24. Water	35. செய்தி
03. குப்பைக்கூளங்களால், மரங்களை அழிப்பதால், ஊர்திகளினால்	12. ✓ 13. ✓ 14. X	25. Trees	36. மலைநாடு
04. நல்ல மரங்கள்	15. ✓	26. ஐயோ! என்ன நடந்தது என் பிள்ளைக்கு? இப்போது தானே "அம்மா சாப்பிட சோறு தா" என்று கேட்டு விட்டு இப்படி உயிரற்ற உடலாய் கிடக்கிறானே!	37. சவுதிஅரேபியா 38. காசியப்பமன்னனால் 39. 10 மணி 40. இறைச்சிக்கடை 41. -
05. கோடிக்கணக்கு	16. III	27. தாய்	42. வாழைப்பழம்
06. புதைத்தல்	17. IV	28. பிணம், பிரேதம்	43. விளாம்பழம்
07. தூய்மையாக இருக்க வேண்டும்	18. I 19. II	29. துக்கரமானது	44. 135
08. I. நல்ல + மரங்கள் II. நல்ல + காற்று	20. III 21. Thanks 22. Flower	30. அன்னை, மாதா 31. மாங்காய் 32. சூதும், மடல், எழுத்து 33. வீதி	45. 30 46. - 51. எழுத்துப்பிழையின்றி எழுவாய் பயனிலை இயைபு திருத்தமாக அமைந்திருத்தல் வேண்டும்.
09. I. வீதிகள்			

புலமைப் பரிசில் மாணவர்களுக்குத் தேவையான சில தாவரங்கள்



வல்லாரை



பயற்றங்கொடி



முள்முருங்கை



மிளகு



சோளம்



கங்குன்



தாமரை



பூசனிக்கொடி



அகத்தி



கொத்தமல்லி



றம்பை



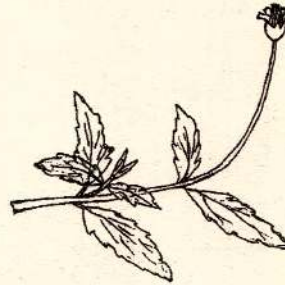
புடோலங்கொடி



சுண்டங்கத்தரி



கச்சோலைக்கிழங்கு



மூக்குத்திப்பூண்டு



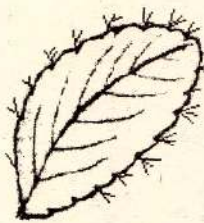
சீமைக்கிழவை



பலா



வெண்ணமத்தை

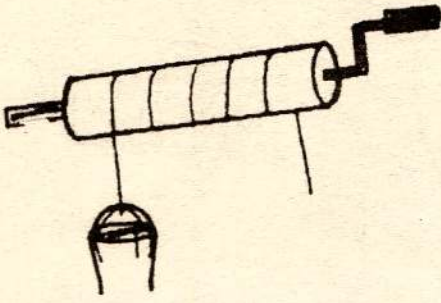


சதைக்கரைச்சான்

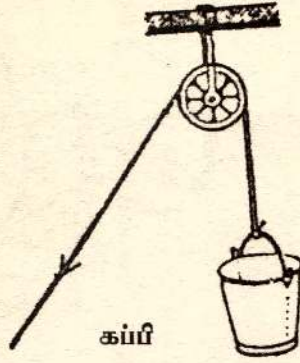


வெற்றிலைக்கொடி

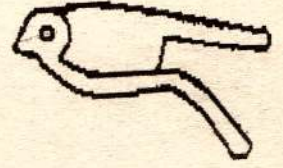
வேலையை இலகுவாக்கும் கருவிகள் / வொறிகள்



சில்லும் அச்சாணியும்



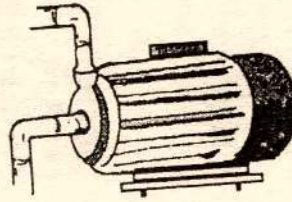
கப்ரி



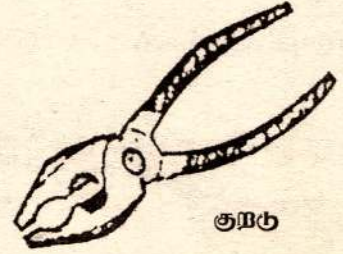
பாக்குவெட்டி



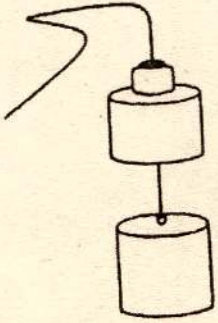
வாள்




நீர்ப்பம்ரி



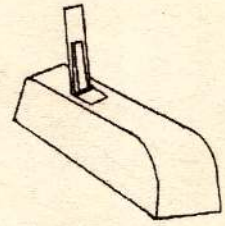
குறடு




தூக்குக் குண்டு



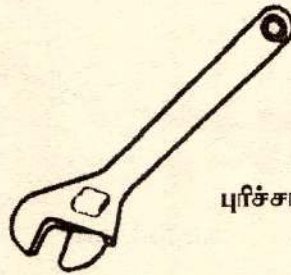
நெல்லுக்குற்றும்
இயந்திரம்




சீவுளி




திருகை



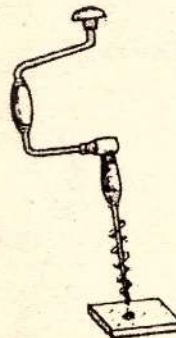
புரிச்சாவி




மின்னழுத்தி



தையல் இயந்திரம்



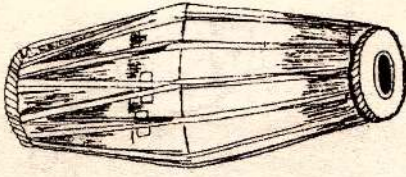
துளைக்கருவி



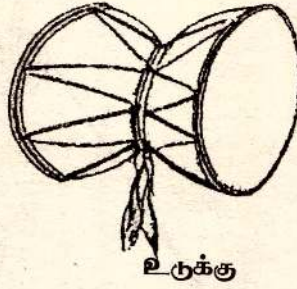
சுரையாணி கழற்சி

இசைக்கருவிகள்

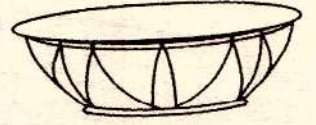
தோற்கருவிகள்



மிருதங்கம்

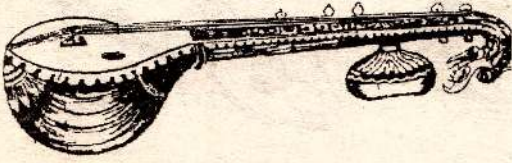


உருக்கு



றபான்


நரம்புக்கருவிகள்



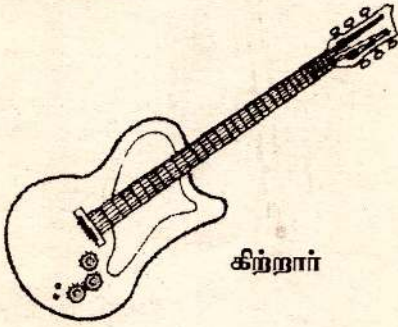
வினை



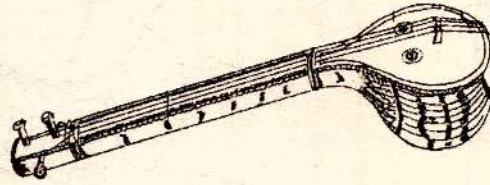
வயலின்



யாழ்

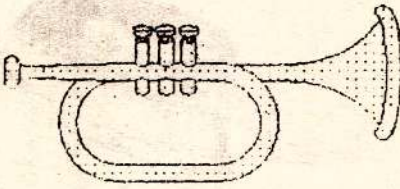


கிற்றார்

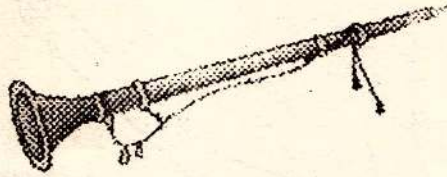


தம்புரா

துளைக்கருவிகள் (காற்று வாத்தியங்கள்)



றம்பட்




நாதஸ்வரம்

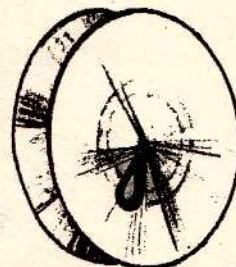


மகுடி

கஞ்சக்கருவிகள் (கன வாத்தியங்கள்)




தாளம்



ஜால்ரா (சிம்பள்)

போக்குவரத்துச் சமீக்கை



வாகனம் செல்லத் தடை



இடப்பக்கம் திரும்பத் தடை



வலப்பக்கம் திரும்பத் தடை



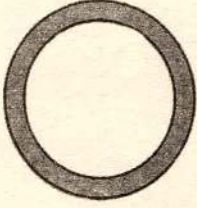
“U” முடக்குத் திரும்பத் தடை



முந்திச் செல்லத் தடை



ஒலியெழுப்பத் தடை



சகல வாகனங்களுக்கும் வீதி மூடப்பட்டுள்ளது



பஸ்வண்டிகளுக்கு வீதி மூடப்பட்டுள்ளது



லொறிகளுக்கு வீதி மூடப்பட்டுள்ளது



மோட்டார் வாகனங்களுக்கு வீதி மூடப்பட்டுள்ளது



வாகனங்கள் நிறுத்தக் கூடாது



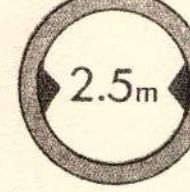
வாகனங்கள் நிறுத்தவும் தரிக்கவும் கூடாது



ஒற்றை நாட்களில் வாகனங்கள் நிறுத்தக்கூடாது



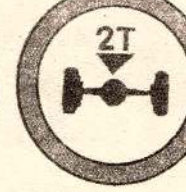
இரட்டை நாட்களில் வாகனங்கள் நிறுத்தக்கூடாது



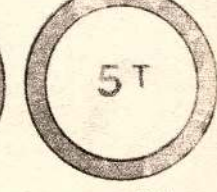
அகலத்தின் வரையறை



உயரத்தின் வரையறை




ஓர் அச்சாணி மீது எடையின் வரையறை



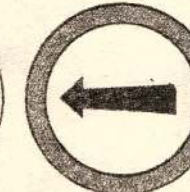
எடையின் வரையறை




வேகத்தின் வரையறை




வேகத்தின் வரையறை முடிவு




இடப்பக்கம் திரும்பவும்




வலப்பக்கம் திரும்பவும்




நேரே செல்லவும்




முன்னால் இடப்பக்கம் திரும்பவும்




முன்னால் வலப்பக்கம் திரும்பவும்




இந்தப் பக்கம் செல்லவும்



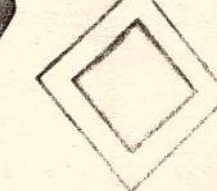
கட்டாயச் சுற்று வட்டம்




நிறுத்துக




வழி விடவும்




முந்தாமை வீதி




முன்னால் வரும் வாகனத்திற்கு முந்துரிமை



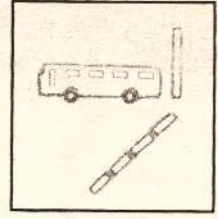
முன்னால் வரும் வாகனத்தின் மீது முந்துரிமை



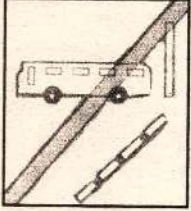
பஸ் நிறுத்துமிடம்




முந்துரிமை முடிவு



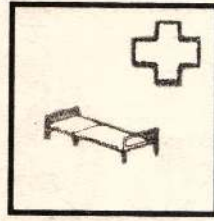
பஸ் வண்டி மட்டும் செல்லும் ஒழுங்கை ஆரம்பம்



பஸ்வண்டி மட்டும் செல்லும் ஒழுங்கை முடிவு



வாகனம் நிறுத்துமிடம்



வைத்தியசாலை

அபாய எச்சரிக்கைச் சைகைகள்



முன்னால் இடப்பக்க வளைவு



முன்னால் வலப்பக்க வளைவு




முன்னால் இடப்பக்கமாக இரட்டை வளைவு



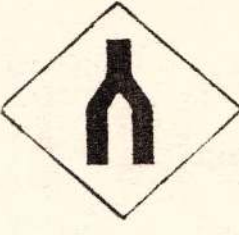
முன்னால் வலப்பக்கமாக இரட்டை வளைவு




முன்னால் வலப்பக்கமாக கொண்டை ஊசி வளைவு




முன்னால் இடப்பக்கமாக கொண்டை ஊசி வளைவு




இரட்டை வண்டிப் பாதை முன்னால் முடிவடைகிறது




வீதி முன்னால் ஒடுங்குகிறது




முன்னால் குறுக்கு வீதிகள்



“T” சந்தி முன்னால்



முதலாவது பக்க வீதியை இடப்பக்கமாகக் கொண்டு அடுத்தடுத்து வரும் சந்தி



முதலாவது பக்க வீதியை வலப்பக்கமாகக் கொண்டு அடுத்தடுத்து வரும் சந்தி




முன்று வீதிகளின் சந்தி முன்னால்




இடமிருந்து வரும் வாகனம் முன்னால் இணைகிறது



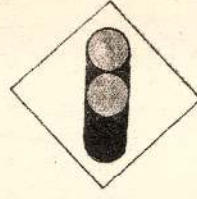
வலமிருந்து வரும் வாகனம் முன்னால் இணைகிறது



ஒடுக்கமான பாலம்
முன்னால்



முன்னால் நிறுத்தவும்



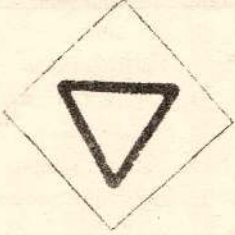
முன்னால்
ஒளிச்சமிக்கைகள்



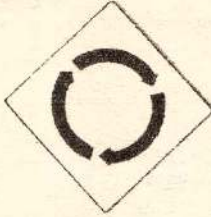
அபாயகரமான சரிவு
முன்னால்



முன்னால்
கற்பாறைகள் விழும்



முன்னால் வழி
விடவும்



முன்னால் சுற்று
வளைவு



வழுக்கும் வீதி
முன்னால்



ஓடத்துறை ஒன்றிலுள்ள
வீதி முன்னால்



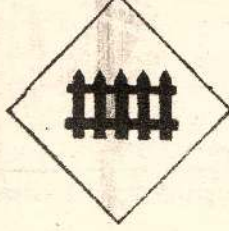
மந்தை அல்லது
வேறு விலங்குகள்
முன்னால்
பாதையைக் கடக்கக்
கூடும்



முன்னால்
பாதசாரிகள் கடவை



முன்னால் பாதை
வேலை




பாதுகாப்புடைய
புகையிரதக் கடவை
முன்னால்




துவிச்சக்கர வண்டி
கடவை முன்னால்



துவிச்சக்கர வண்டி
ஒழுங்கை முன்னால்



பாதுகாப்பற்ற
புகையிரதக் கடவை
முன்னால்



பஸ்வண்டி
ஒழுங்கை முன்னால்



முன்னால் சிறுவர்
கடவை



அபாயகரமான ஏற்றம்
முன்னால்

சிவப்பு செம்மஞ்சள் - வாகனங்களை நிறுத்தவேண்டும். பச்சை விளக்கு வந்ததும்,
நகர அடங்கலாக இருக்க வேண்டும் என்பதையும் உணர்த்துகிறது.

சிவப்பு - வாகனங்களை நிறுத்த வேண்டும் என்பது இதன் அர்த்தம்.

பச்சை - பச்சை ஒளி முன்னோக்கியுள்ள வாகனங்கள் நேராக முன் செல்லலாம். அல்லது
பாதுகாப்பானதெனில் இடதுபக்கம் அல்லது வலது பக்கம் திரும்பலாம் என்பதைக் காட்டுகிறது.

செம்மஞ்சள் - நிறுத்தல் வேண்டும். சிவப்புக்கான மாற்றம்
ஏற்படப்போகின்றதென்று அர்த்தம்.

வினாப்பத்திரம் I விடைகள்

வினாத்தாள் இல. : D100211

01. 4	09. 3	17. செளமியா	25. 2	33. உப்பிடுவதனூடாக
02. 3	10. 4	18. செளமியா	26. 3	34. உப்பிடு காயவைத்தல்
03. 2	11. 3	19. சுவாதி	27. சுப அலுத் அவறுது வேவா	35. காய வைப்பதன் ஊடாக
04. 1	12. 3	20. 20/=	28. ஓயாகே நம மொக்கத?	36. பழப்பாகு / பழரசம்
05. 4	13. பாரதியார்	21. 4	29. வெலாவ கீயத?	37. உள்ளக விளையாட்டு
06. 1	14. மகாத்மா காந்தி	22. 5	30. செப சனீப கோமத?	38. உள்ளக விளையாட்டு
07. 2	15. ஆறுமுக நாவலர்	23. 6	31. 27	39. வெளியக விளையாட்டு
08. 3	16. சேர் பொன் இராமநாதன்	24. 1	32. 9	40. உள்ளக விளையாட்டு

வினாப்பத்திரம் II விடைகள்

வினாத்தாள் இல. : D100212

● 01. வடமாகாணத்தில் நவாலி ஊரிலே கி. பி. 1880 - 6 - 12 இல்	● 01. 4	● 01. நீர் ஆவியாகும்	08. 13,140/=
02. இலக்குமிப்பிள்ளை, கதிர்காமர்	02. 3	● 01. 8 cm	● A - வடமாகாணம்
03. "ஆடிப்பிறப்பு", "கத்தரி தோட்டத்து வெருளி"	03. 2	02. 1 மணி 35 நிமிடம்	B - தென்மாகாணம்
04. தங்கத் தாத்தா	04. 3	03. 125	C - கிழக்குமாகாணம்
05. சிறுவர் இலக்கியம், சமூக சீர்திருத்தம், இயற்கை நிகழ்வுகள்	05. 1	04. 48 பொத்தான்	D - மேல்மாகாணம்
06. விபுலானந்தர், ஆறுமுகநாவலர்	06. 2	05. 7 கோழிகள்	E - மத்தியமாகாணம்
07. 01. உவகை	● 01. உயரம் பாய்தல், நீளம் பாய்தல்	● 01. உக்கல்	● 01. ✓
02. நாமம்	02. முட்கள் கொண்டிருத்தல், சுவையற்ற பால் கொண்டிருத்தல்	02. அடையல்	02. X
08. 01. Children	03. அன்னம், பசு, யானை	03. களிமண்	03. ✓
02. Name	04. மகாவம்சம், தீபவம்சம்	04. சிறுமணல்	04. ✓
03. Country	05. அயற்கூழலில் உள்ள தாவரங்கள், மரஞ்செடி	05. பெருமணல்	05. ✓
04. Grand father	06. 1. கொடிகளை பேணிப் பாதுகாத்தல்	06. குறுணிக்கல்	● 01. காகம்
	2. புதிய மரம், செடி கொடிகளை நடுதல்	07. இருவாட்டிமண் / நண்மண்	02. வளைந்த கொம்புச் சொண்டுப் பறவை
		● 01. 90	03. கொக்கு
		02. 80 + 90 + 40 + 70 = 280	04. கழுகு
		03. 4500 /=	
		04. பந்து	
		05. 50	
		06. 1080/=	
		07. 20	

வினாப்பத்திரம் I விடைகள்

வினாத்தாள் இல. : D100221

01. III	09. 2	17. 2	25. 2	33. 1
02. III	10. வாகனங்கள் நிறுத்த வேண்டாம்	18. 4	26. 2	34. 1
03. 2	11. வலப்பக்கம் திரும்பத்தடை	19. 2	27. 3	35. 1
04. 3	12. பாதசாரிகள் கடவை முன்னால்	20. 3	28. 1	36. 3
05. 3	13. 3	21. 2	29. 3	37. 3
06. 3	14. 3	22. 2	30. 2	38. 1
07. 3	15. 4	23. 1	31. 4	39. 3
08. 4	16. 2	24. 3	32. 3	40. 4

வினாப்பத்திரம் II விடைகள்

வினாத்தாள் இல. : D100222

01. (i) வண்ணத்துப்பூச்சி	06. (i) தயவு செய்து கொண்டு வாருங்கள்	(ii) A - தர்மச்சக்கரம்	(iii) 5
(ii) துன்பம்	(ii) எனக்கு மிகவும் பசி	B - நெற்கதிர்	(iv) 8
(iii) உடல்	07. காந்தத்தால் கவரப்படுபவை - ஆணி, தகரத்துண்டு, சவர அலகு, ஊசி, இரும்புத்துண்டு	C - சூரியன்	29. 16 ரூபா / 16/=
(iv) வண்ண வண்ண	கவராதவை - பென்சில், இறப்பர், கடதாசி, பிளாஸ்டிக், அடிமட்டம், தக்கை	D - நிறைகலசம்	30. 28 ரூபா / 28/=
(v) சின்னஞ் சிறிய		E - சந்திரன்	31. 576 cm ²
(vi) மலரிலே		F - வானோந்திய சிங்கம்	32. 2550 g / 2 kg 550 g
(vii) நானும்		G - தாமரை	33. 24/=
(viii) Butterfly / BUTTERFLY, Flowers / FLOWERS		18. கொவ்வை	34. (i) 00:00 h
02. (i) நல்லொழுக்கம்	08. 3	19. பசளி	(ii) 20:45 h
(ii) முயற்சி	09. 2	20. அகத்தி	35. 34 cm
03. (i) பேச்சு மாறுதல் / வாக்குத் தவறுதல்	10. 2	21. கோரை	36. 16 m 96 cm / 16.96 m
(ii) மிக்க மகிழ்ச்சி	11. 3	22. கொன்றை	37. (i) 70 ல்
04. (i) கல கல (ii) சல சல	12. 1	23. சல்லாரி	(ii) 100 ல்
05. (i) எங்களுடைய வகுப்பு ஆசிரியர்.	13. 3	24. தம்புரா	(iii) 30 ல்
(ii) நீங்கள் எங்கே இருக்கிறீர்கள்?	14. 2	25. வயலின்	(iv) 340 ல்
	15. 1	26. தபேலா	(v) 4200 ரூபா
	16. 4	27. மேளம்	
	17. (i) அரச இலக்கணம்	28. (i) 4 (ii) 1	

கூர்நாடலின் அழகு

கண்ட கண்ட இடத்தில் எச்சில்
துப்பக் கூடாது - நாம்
காலை வைத்து மிதித்து அதில்
நடக்கக் கூடாது!

எச்சில் தொட்டி எதற்கு இருக்கு
மறக்கக் கூடாது - நாம்
எந்த நோயும் ஒண்ட இடம்
கொடுக்கக் கூடாது!

குப்பை பெருக்கித் தொட்டியிலே
கொட்டிட வேண்டும் - நாம்
குடும்பத் தூய்மை காப்பதிலே
முந்திட வேண்டும்!


குளித்து நாளும் துப்பரவாய்
இருந்திட வேண்டும் - நாம்
கலகலப்பாய்ப் பேசி நன்றாய்ச்
சிரித்திட வேண்டும்!

சோம்பல் தானே நோய்களுக்கு
முதல்படி யாகும் - நமக்குச்
சுற்றுப் புறத் தூய்மைதானே
அடிப்படை யாகும்!

ஒன்றுபட்டு நாட்டைத் தூய்மை
ஆக்கிட வேண்டும் - நோயே
இல்லாமல் நாம் நூறாண்டுகள்
வாழ்ந்திட வேண்டும்!

கவிஞர் குழந்தை கதிரேசன்
நன்றி :- பாடுவோம் அறிவியல்

நெற்பாசையும் எலியும்



பாட்டியின் வீட்டுப் பழம்பாசை - அந்த
பாசைஓ ருபுறம் ஓட்டைய டா ;
ஓட்டைவ ழியொரு சுண்டெலி யும் - அதன்
உள்ளேபு குந்துநெல் தின்றத டா


உள்ளே புகுந்து நெல்தின்று தின்று - வயிறு
ஊதிப் புடைத்துப் பருத்தத டா
மெள்ள வெளியில் வருவதற்கும் - ஓட்டை
மெத்தச் சிறிதாகிப் போச்சுதடா

பாசையைக் காலை திறந்தவுடன் - அந்தப்
பாட்டியின் பக்கமாய் வந்த ஒரு
பூசை எலியினைக் கண்டதடா - ஓடிப்
போய் அதைக் கௌவியே சென்றதடா

கள்ள வழியினில் செல்பவரை - எமன்
காலடி பற்றித் தொடர்வானடா
உள்ள படியே நடப்பவர்க்குத் தெய்வம்
உற்ற துணையாக நிற்குமடா

- தேசிக விநாயகம்பிள்ளை -

கப்பற் பாட்டு - ஐலஸா



மண்ணை நம்பி	- ஏலேலோ	- மரம் இருக்க	- ஐலஸா
மரத்தை நம்பி	- ஏலேலோ	- கிளையிருக்க	- ஐலஸா
கிளையை நம்பி	- ஏலேலோ	- கோலிருக்க	- ஐலஸா
கோலை நம்பி	- ஏலேலோ	- இலையிருக்க	- ஐலஸா
இலையை நம்பி	- ஏலேலோ	- பூவிருக்க	- ஐலஸா
பூவை நம்பி	- ஏலேலோ	- பிஞ்சிருக்க	- ஐலஸா
பிஞ்சை நம்பி	- ஏலேலோ	- காயிருக்க	- ஐலஸா
காயை நம்பி	- ஏலேலோ	- கனியிருக்க	- ஐலஸா
கனியை நம்பி	- ஏலேலோ	- நீயிருக்க	- ஐலஸா
உன்னை நம்பி	- ஏலேலோ	- நானிருக்கேன்	- ஐலஸா

ஆறு

கல்லும் மலையும் குதித்து வந்தேன் பெருங்
காடும் செடியும் கடந்து வந்தேன்
எல்லை விரிந்த சமவெளி எங்கும் நான்
இறங்கித் தவழ்ந்து தவழ்ந்து வந்தேன்.

சட்டும் அணையேறிச் சாடி வந்தேன் - அதன்
கண்ணறை தோறும் நுழைந்து வந்தேன்
திட்டுத் திடர்களும் சுற்றி வந்தேன் மடைச்
சீப்புகள் மோதித் திறந்து வந்தேன்

காயும் நிலத்தில் ஆற்றி வந்தேன் - அதில்
கண் குளிர்ப்பயிர் கண்டு வந்தேன்
ஆயும் மலர்ப்பொழில் செய்து வந்தேன் - அங்கே
ஆசை தீர விளையாடி வந்தேன்.

ஆயிரம் காலால் நடந்து வந்தேன் - நன்செய்
அத்தனையும் சுற்றிப் பார்த்து வந்தேன்
நேயமுற முன் செய்க் காட்டிலும் - அங்கங்கு
நீரை இறைத்து நெடுக வந்தேன்.

பஞ்சை அரைத்து நூல் நூற்று வந்தேன் - நல்ல
பாகமாய்ச் செய்து கொடுத்து வந்தேன்
நெஞ்சம் உவர்ந்த நெடுநகரில் குழாய்
நீராகவும் சென்று பாய்ந்து வந்தேன்.

மாங்கனி தேங்கனி வாரிவந்தேன் - நல்ல
வாசமலர்க்கும் அள்ளி வந்தேன்
தீங்கரும் பாயிரம் தள்ளி வந்தேன் - மிகத்
தேனும் தினையுமே சேர்ந்து வந்தேன்.

அல்லும் பகலும் அலைந்து வந்தேன் - எங்கள்
ஆழி இறைவனைக் காண வந்தேன்
நில்லும் எனக்கினி நேரமில்லை - இன்னும்
நீண்ட வழி போக வேண்டும் அம்மா.

- கவிமணி தேசிய விநாயகம்பிள்ளை

பொங்கல் பாட்டு

பட்டி பெருக வேணும் தம்பிரானே
பாற்பாணை பொங்க வேணும் தம்பிரானே
மேழி பெருக வேணும் தம்பிரானே
வேளாண்மை விளைய வேணும் தம்பிரானே
நாடு செழிக்க வேணும் தம்பிரானே
நல்ல மழை பெய்ய வேணும் தம்பிரானே
ஏரு தழைக்க வேணும் தம்பிரானே
எல்லாரும் வாழ வேணும் தம்பிரானே

தோட்டம்

தோட்டம் எங்கள் தோட்டம் - மண்ணில்
தோன்றி வளரும் பயிர்கள்
வாட்டமின்றி வளரும் - நீர்
வாய்க்கால் தன்னில் ஓடும்

சின்னஞ் சிறிய இலைகள் - தாங்கி
செழித்து வளரும் மிளகாய்
பென்னம் பெரிய கிழங்கு - தந்து
பேணும் நம்மைச் செடியே

பயற்றங் கொடிகள் வளர்ந்து - எங்கும்
பச்சை மாலை யாகும்
வயிற்றுக் கினிய உணவு - தந்து
வளரும் வாழை மரங்கள்
வெண்டி கத்திரியோடு - ஈர
வெண்காயம் ; பூசணிக்காய்
கொண்டு வளரும் தோட்டம் - பயன்
கொடுக்கும் எங்கள் தோட்டம்

இனிய 'கப்பல்' 'இதரை' - கறிக்கு
ஏற்ற சாம்பல் மொந்தன்
கனியக் கொஞ்சம் புளிக்கும் - அந்தக்
கதலி வாழை எல்லாம்

செழித்து வளரும் தோட்டம் - நல்ல
செம்மண் நிறைந்த தோட்டம்
உழைத்து நாங்கள் வாழ்வோம் - இந்த
உலகை வெற்றி காண்போம்.

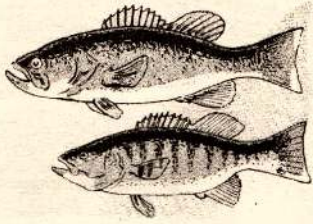
கவிஞர் வாகரை வாணன்
நன்றி : சின்னச் சின்னப் பூக்கள்

தீபாவளி வாழ்த்து

உள்ளத்தில் விளக்கெடுத்து
உறவெனும் நெய்யெடுத்து
அன்பென்னும் கோயிலிலே
அழகாய் ஏற்றி வைத்து
முல்லைப் பூ சரந் தொடுத்து
முக்கனிச் சாறெடுத்து
அனுப்பிடும் கவிதையிலே
ஆயிரம் வாழ்த்துக்களே.



மீன்கள்



எண்ணற்ற வண்ணமாம் மீன்கள் - கடல்
ஏரி குளங்களில் நீந்துதடா
கண்ணுக்கு நல்லழகென்று தம்பி - தொட்டி
கட்டியும் வீட்டில் வளர்ப்பாரடா

மின்னும் ஒளிக்கீற்று அசைவது போல் - சிறு
மீன்கள் தடாகத்தில் நீந்துதடா
பொன்னும் பொருட்களும் தேடாமல் - நீருள்
புகுந்து மிதந்தவை போகுதடா

ஆழி நதிகள் குளங்களிலும் - அவை
அமிழ்ந்து அழகுற நீந்துதடா
வாழத் துடிக்கும் மனிதருக்கே - தமை
வழங்கியே நல்லுணவு ஆகுதடா.

- நெடுந்தீவு மகேஷ்

மீ லங்கா



குடியரசு சானது எம் நாடு
குதூகலம் கொள்வோம் எந் நாளும்
மீலங் காவெனும் அதன் நாமம்
சிறப்புக்கள் நிறைந்த திருநாமம்

நாட்டுப் பற்றை எம்முணர் வில்
நலமாய்ப் பூண்டு நாம் வாழ்வோம்
பூரண சுதந்திரம் எமக்குண்டு
பூசலும் பிணக்கும் இனியின்றி

அன்னை லங்கா வளம் ஓங்க
அரும்பணி புரிவோம் ஒன்றாக.

எம். எச். எம். ஹலீம்தீன்

நன்றி: இதய மலர்கள்

சுத்தம் சுகம் தரும்

காடும் வயலும் இந் நாளில்
கண்டபடிக்கு அழிவதுடன்
சூடும் குப்பைக் கூளங்களால்
குடிநீர் கெட்டும் வருகிறதாம்!

நல்ல காற்றை நமக்காக
நாளும் தருகிற நல் மரங்கள்
இல்லை யென்று ஆவதனால்
எங்கும் பசுமை அழிகிறதாம்!

கோடிக் கணக்கில் சாலைகளில்
குதித்துப் பாயும் ஊர்திகளால்
ஓடிப் பரவும் நற்காற்று
உலகில் மாறி வருகிறதாம்!

சுற்றுச் சூழல் எப்பொழுதும்
தூய்மை யாக ஆனால் தான்
குற்றம் குறைகள் இல்லாமல்
கூடி வாழ வழி செய்யும்.

- அழகனார் -

அர்வீ வெட்டுப்பாடல்

உண்ண உணவு தந்திடும்
உழவர் வாழ்க வாழ்கவே!
மண்ணை உழுது பயிர்களை
வளர்க்கும் உழவர் வாழ்கவே!

பாடு பட்டு உழுபவர்
பலனும் கண்டு தருபவர்
நாடு வளர வாழ்பவர்
நன்கு வாழ்க வாழ்கவே!

ஒன்றை நூறு நெற்களாய்
உண்டு பண்ணித் தருபவர்.
நன்கு உழுது வியர்வையால்
நனைந்து போக உழைப்பவர்.

கண்ணைப் போலப் பயிர்களைக்
காத்து உயிர்கள் காப்பவர்
உண்ண உணவு இன்றியே
உடல் வருந்தல் நீதியோ?

பாடு பட்டு உழுபவர்
பலனும் கண்டு தருபவர்
நாடு வளர வாழ்பவர்
நன்கு வாழ்க வாழ்கவே!

- அழ வள்ளியப்பா

01. II	09. IV
02. I	10. III
03. II	11. I
04. I	12. III
05. III	13. II
06. III	14. IV
07. III	15. 56
08. II	16. 110

17. 20
18. கடற்குதிரை
19. நட்சத்திர மீன்
20. ஓக்டபஸ்
21. ✓
22. X
23. ✓
24. X

25. X	33. IV
26. II	34. III
27. IV	35. III
28. I	36. IV
29. III	37. மீன்
30. II	38. காகம்
31. III	39. வற்றாளை
32. I	40. வயலின்

வினாப்பத்திரம் II விடைகள்

வினாத்தாள் இல. : D100312

01. (i) வயற்காட்சி
02. (i) கதிர் கொண்ட நெல்லினங்கள்.
நிலம் நோக்கி தாழ்ந்திருந்தன
(ii) விரிந்த வயற்பரப்பு
வரப்புகளால் எல்லை
யிடப்பட்டிருந்தன.
(iii) அன்றி பதர்கள் பண்பற்ற
நடத்தையுள்ள பாவையர்
போல
(iv) (i) கழனி / கமம் (ii) தரை
(iii) வதனம் (iv) மாதா
(v) (i) மயக்கம் (ii) ஆரவாரம்
(iii) செயற்கை (iv) மாலை
(vi) பெருமை + அழகு
(vii) பாவையர்
(viii) கல கல
02. (i) புத்தி மட்டு
(ii) பிச்சை கொடு / போடு

03. (i) Motor cycle /
MOTOR CYCLE
(ii) Train / TRAIN
(iii) Toilet / TOILET
(iv) Bakery / BAKERY
04. (i) 2 (ii) 1
05. (i) போய் வருகிறேன்
(ii) நாங்கள் மிகவும்
கடுமையாக வேலை
செய்கிறோம்.
06. (i) அப்பா வேலைக்கு
போய்விட்டார்.
(ii) புதுவருட்பிறப்பு
07. கறி :- அம்மா இன்று கறி
சமைத்தார்
கரி :- கரி மிகவும் பெரிய
மிருகம்
08. 3 09. 3

10. 2 11. 3
12. 3 13. 2
14. 4 15. 3
16. 1
17. அநுராதபுரம்
18. கொழும்பு
19. கற்றாளை
20. சேம்பு
21. தென்னை
22. சிகிரியா
23. சந்திரவட்டக்கல்
24. தலதா மாளிகை
25. றுவன்வெலிசய
26. தூபராம தாதுகோபம்
27. சதுர அளவுமானி
28. துறப்பணம்
29. தூக்குக்குண்டு
30. மரச்சம்மட்டி
31. சதுரமணியாசு
32. 165/=
33. 14-3-25
34. 20.50 சதம்
35. 7/=
36. $\frac{9}{12} = \frac{3}{4}$
37. 120/=
38. 15/=
39. 75/=
40. 5/=
41. 215
42. வடை
43. 360/=
44. 30
45. இட்லி, பனிஸ்
46. 9/=
47. - 52



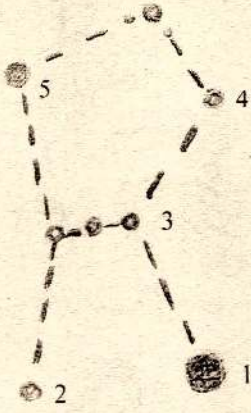
நல்ல பெண்மணி

கிராகம்: தோடி

தாளம்: ஏகம் (சதுஸ்ர நடா)

நல்ல பெண்மணி மிக நல்ல பெண்மணி நம்
நாட்டின் நாகரிகம் பேணி நடப்பவளெவளோ அவளே (நல்ல)
காலையிலே எழுந்து தினம் கரும மாற்றுவாள்
மாலை வரை ஓய்வில் லாது உழைப்பை நல்குவாள்
தாய் தந்தை கற்பித்த நெறியிலே நிற்பாள்
பாரிலுள்ளோர் போற்றிட நற் பண்புடன் வாழ்வாள் அவளே (நல்ல)
பல்கலைகள் பயின்று பெரும் பண்டிதை ஆவாள்
நல்லறிவுச் சுடரத்தை நாட்டில் ஏற்றுவாள்
இல்லத்தை இன்னொளியால் இலங்கிடச் செய்வாள்
பாலர் தழ்மைப் பரிஷுடனே பேணி வளர்ப்பாள் - அவளே (நல்ல)
கொண்டவனின் குறிப்பறிந்து குடும்பம் நடத்துவாள்
கருமங்கள் அனைத்திலுங்கை கொடுத்து உதவுவாள்
தாயாவாள் தோழியுமாய்ச் சேவகியாவாள்
நோயுற்ற போதிலே தாதியுமாவாள் ; அவளே (நல்ல)
தேடி வந்த விருந்தினரைப் பேணி மகிழ்வாள்
நாடி வந்து நலிந்தவர் தம் இன்னல் நீக்குவாள்
வீட்டினிலே நற்சேவை ஆற்றுதல் போலே
நாட்டிலும் சேவைதனை நாளும் ஆற்றுவாள் - அவளே (நல்ல)

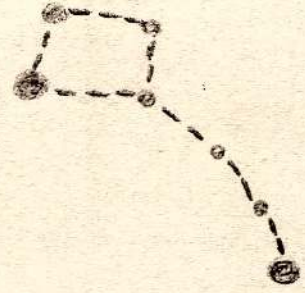
நட்சத்திரங்கள்



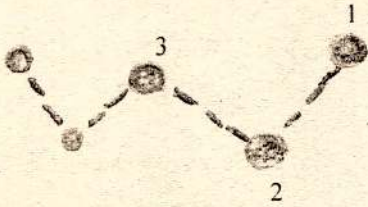
வேட்டைக்காரன்



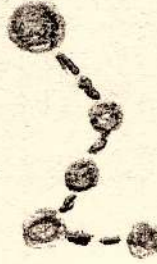
பெருங்கரடி



சிறு கரடி



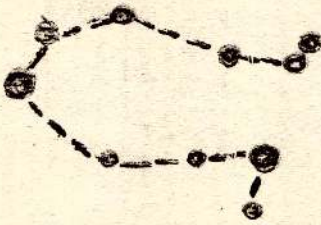
கசயோப்பியா



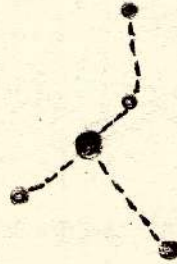
மேடம்



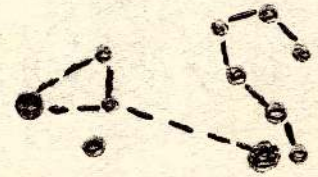
இடபம்



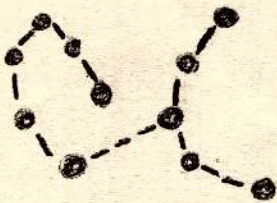
மிதுனம்




கடகம்



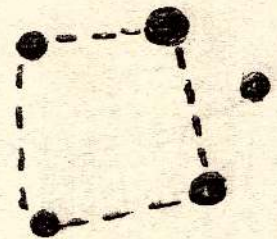
சிங்கம்



கன்னி



தனு



துலாம்

வேலைகள்



நெல் அறுவடை செய்தல்



புடவை உலரவிடுதல்



தண்ணீர் கொண்டு செல்லுதல்



வாசல் சுட்டுதல்



நெல் புடைத்தல்



அரிசியில் கல் அரித்தல்



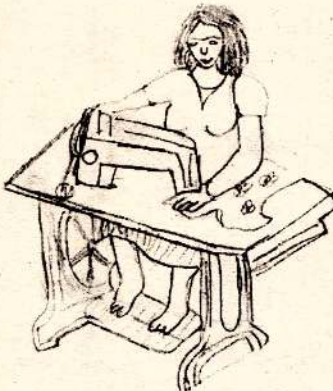
உடற் பயிற்சி



மரம் வெட்டுதல்



சுடையில் பொருட்கள் சுமத்தல்



ஆடை தைத்தல்




தேய்காய் துருவுதல்



நெற்கதிர் சுமத்தல்

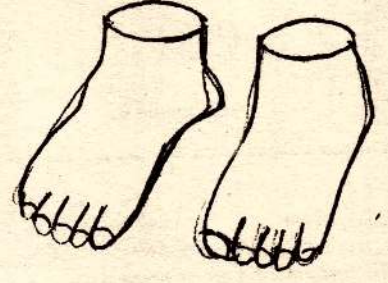
ஆபரணங்கள்




கிரீடம் ஸ்ரீ விக்கிரம இராஜசிங்க மன்னரின் கிரீடம்



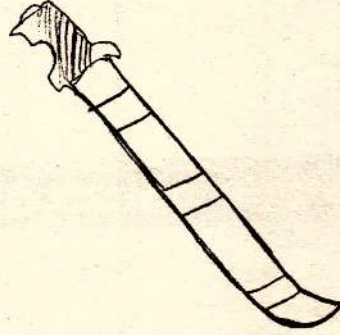
பஞ்சாயுதம், சுரை



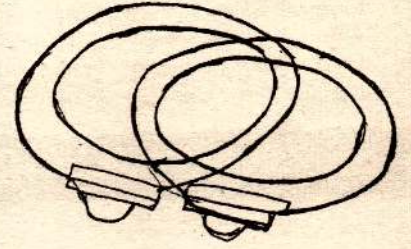
ஸ்ரீ விக்கிரம இராஜசிங்கனின் பாதணி




வளையல் - புராதன காலத்தில் தங்கத்தினால் செய்யப்பட்ட வளையல்



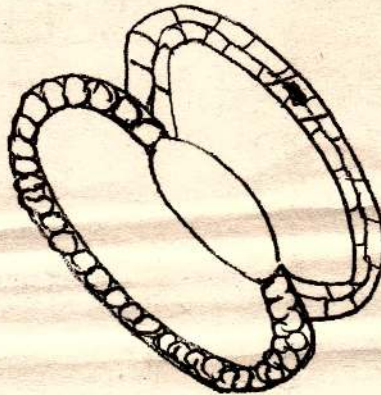
ஸ்ரீ விக்கிரம இராஜசிங்கன் பயன்படுத்திய வாள்



கடுக்கன் - ஆண்கள் அணிவது



இடைப்பட்டி - பெண்கள் இடையில் அணியும் வெள்ளிப்பட்டி



கைமாலை



நெற்றிப்பதக்கம்

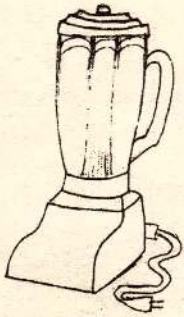
01. 3 09. 2 17. திரிபீடகம் 23. ஆடுகால் - 2 32. 2 33. 1
 02. 1 10. 1 18. ஆபிரகாம்லிங்கன் 24. பிணைக்கட்டை - 4 34. வேம்பு
 03. 1 11. 2, 4, 1, 3 19. மாணவர்கள் நீர் குடித்ததால் 25. 7 35. சதுரங்கம்
 04. 3 12. 3, 2, 1 20. விளம்பரங்கள் மனிதரைக் 26. 8 36. தொழில்
 05. 16 13. 3, 1, 4, 2 21. அச்சலக்கை - 1 27. 1, 6 37. பூதக்கண்ணாடி
 06. 20 14. 2, 1, 3, 4 22. பாரஇரும்பு - 3 28. ஆப்பு 38. கரும்பு
 07. 3 15. யாழ்நூல் 29. 4 30. 3 39. 2
 08. 4 16. பறங்கியர் 30. 3 31. 5 40. 3

வினாப்பத்திரம் II விடைகள்


1. (i) வினா இலங்கை
 (ii) கண்ணபெருமானைக் காலிஸ் படை
 (iii) என்னே / கண்ணபெருமானே
 (iv) காய் புளிக்கும், கனி இனிக்கும்
 (v) (i) கனி - பழம்
 (ii) நோன்பு - விரதம், தவம்
 (iii) படுப்பது - துயில்வது, அழிவது
 (iv) பாடல் - செய்யுள், கவி
 (vi) (i) கர்ய - கனி
 (ii) இனிப்பு - உவர்ப்பு
 (iii) நோய் - நலம்
 (iv) உயிர்ப்பது - இறப்பு, படுப்பது
2. (i) மீன் விற்ப்பு காசு நானா?
 (ii) விருந்தும் மருந்தும் மூன்று வேளை.
 (iii) கற்றோருக்கு சென்ற இடமெல்லாம் சிறப்பு.
 (iv) மண் குதிரையை நம்பி ஆற்றில் இறங்காதே.
3. நிறுத்தல் குறிகளையிடுக.
 மாணவர் வாழ்வுக்கு வலிமையூட்டுவது கல்வி.
 கல்லாதவன் மண்ணால் செய்த பாலை போன்றவன்;
 வெறும் உடல் அழகைக் கொண்டவன். கற்க
 மறுப்பது வாழ் மறுக்கும் செயல் அல்லவா?
4. (i) காதிநீதிபதி - இல்லாமை
 (ii) நல்லபாம்பு - நாகம்
 (iii) இதிகாஷம் - மகாபாரதம் / இராமாயணம்
 (iv) அங்குசம் - யானை
5. (i) 3 (ii) 4
6. (i) 30, 25, 15 (ii) 20, 30, 45
- (iii)

30	40	20
	20	
	30	
7. (i) 7
 (ii) 140
 (iii) 34 ச.செ.மீ
 (iv) 6 துண்டும் 4 அடிமீதியும்
 (v) 16 மணி, 30 நாட்கள்
8. (i) 15 வயது 35 புள்ளிகள்
 (ii) 13 வயது 25 புள்ளிகள்
 (iii) 11 வயது, 17 வயது - 30 புள்ளிகள்
9. (i) சோழர்
 (ii) ருவன் வெலிசாய
 (iii) மண்ணரிப்பு
 (iv) மின்சாரம்
 (v) சூறாவளிகள்
10. (1) தேள்
 (2) இப்பக்கம் செல்லவும்
 (3) துறப்பணம்
 (4) மரச்சீவுளி
11. (1) கொவ்வை
 (2) குன்றுமணி
 (3) இஞ்சி
 (4) நந்தியாவட்டை
12. (i) முகவரி / விலாசம்
 (ii) விருந்தாளி
 (i) தூரம் - (ஆத்த)
 (ii) தம்பி - (மல்லி)
13. -

மின்சார உபகரணங்கள்



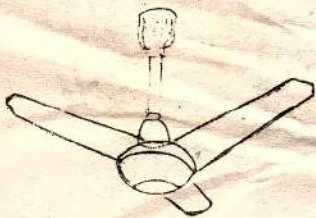
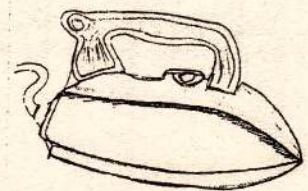
பழக்கலவை இயந்திரம்



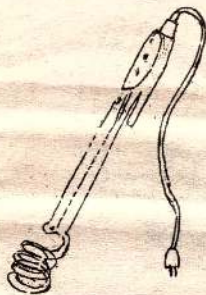
மேசை மேல் வைக்கும் மின்விசிறி



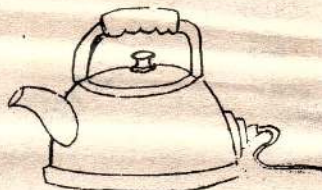
சோறு சமைக்கும் இயந்திரம் ஆடை தேய்க்கும் இயந்திரம்



சீலிங் மின்விசிறி



மின்சார சூடாக்கி



மின்சார கேத்தல்



மின்சார அடுப்பு

இலட்சினைகளும் குறியீடுகளும்



இலங்கை தேசிய இலட்சினை



இலங்கை பொலிஸ் படை



இலங்கை கடற்படை இலட்சினை



இலங்கை வான் படை



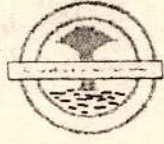
இலங்கை பாதுகாப்பு படை இலட்சினை



இலங்கை தேசிய டிரோன் பிரிவு



இலங்கை மத்திய வங்கி




தேசிய நீர் வழங்கல் வடிகால் அமைப்புச் சபை



தேசிய விஞ்ஞான மன்றம்



இலங்கை செஞ்சிலுவைச் சங்கம்



இலங்கை சாரணிய இலட்சினை



இலங்கை ரூபவாஹினி கூட்டுத்தாபனம்



இலங்கை தர நிர்ணய இலட்சினை



உலக வங்கி



சர்வதேச செஞ்சிலுவைச் சங்கம்



அரசு மருந்தாக்கற் கூட்டுத்தாபனம்



சர்வதேச சாரணிய இலட்சினை



அகதிகளுக்கான ஐ. நா. ஆணையாளர் காரியாலயம்



ஐக்கிய நாட்டு ஆயுதக் கைத்தொழில் அமைப்பு



ஐக்கிய நாடு அமைப்பு



ஐக்கிய நாட்டு சுற்றுநிலை வேலைத்திட்டம்



ஐக்கியநாட்டு அமைப்பின் சிறுவர் நிதியம்



ஐக்கியநாட்டு சனத்தொகை நிதியம்



இலங்கை மின்சார சபை



நீதி



புகைத்தல் தடை



மீள் உற்பத்தி



அபாயம்



அமைதி



மூலங்கா ரெலிகொம்




விமான நிலையம்




பெண்கள் மலச்சலகூடம்



ஆண்கள் மலச்சலகூடம்



பதிப்புரிமை



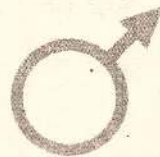





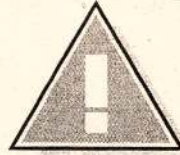


பதிவு செய்யப்பட்ட




ஈரலிப்பான நிலம்


பின்வரும் குறியீடுகளை அவதானித்து அறிந்து கொள்ளுங்கள்




பறவைகளின் அலகுகள்




வாத்து




மைனா




கிளி




தேன்குருவி



கருங்குருவி




கொக்கு



பிலெமிங்கா




டோகென்



தவிட்டுப் பூரா



தீக்கோழி



பாபெட்



கமுகு




சேவல்




மெகோ



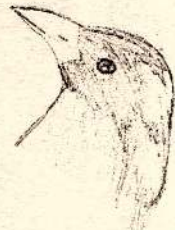
ஆந்தை



காணாங்குருவி




கரச்சான்



மஞ்சள் குருவி



செவ்வினத்தான் கோழி



கிவி

மரங்கள் சில.....



புளியமரம்



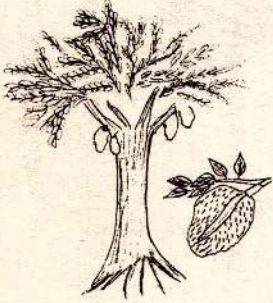
கொக்கோ மரம்




அரச மரம்



மாதுளை மரம்



தூரியன் மரம்



ஆலமரம்



முந்திரி மரம்



மங்குஸ்தான் மரம்



ஈரப்பலா மரம்



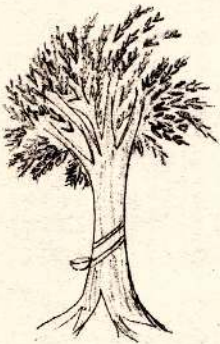
பலா மரம்




மா மரம்




கோப்பி மரம்



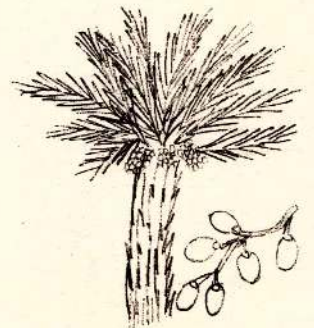
றப்பர் மரம்



கமுக மரம்



கித்துள் மரம்



ஈச்சை மரம்

வினாப்பத்திரம் I விடைகள்

வினாத்தாள் இல. : D100411

01. 2	09. 3	17. 2	25. 1	33. குருளை
02. 3	10. 2	18. 1	26. 2	34. கரையும்
03. 2	11. 3	19. 2	27. 2	35. 1
04. 2	12. C	20. 2	28. 6	36. 20
05. 3	13. 1	21. 1	29. 2	37. 100
06. 2	14. 2	22. 2	30. 4	38. புதன்கிழமை / 3 ம் நாள்
07. B	15. 2	23. 3	31. 2	39. 2ம், 5ம் நாள் / செவ்வாய், வெள்ளி
08. 1	16. 2	24. 1	32. 2	40. 210

வினாப்பத்திரம் II விடைகள்

வினாத்தாள் இல. : D100412

01. (i) இராக்கால வானம்	(ii) Teacher	08. (i) டி. எஸ். சேனநாயக்கா	14. (i) மல
(ii) நட்சத்திரம்	(iii) Crow	(ii) டி. பி. ஜாயா	(ii) ஆயுபவான்
(iii) மீன்கள் போன்று நட்சத்திரங்கள் மின்ன. நீலக்கடல் போன்ற வானில் வெள்ளி ஓடம் போல் சந்திரன் காட்சியளிக்கின்றது. இதனைப் பார்க்கும் போது உள்ளம் மகிழ்கிறது.	(iv) Fish	(iii) சேர். பொன் இராமநாதன்	(iii) பித்தர
(iv) (i) மீன் + இனம் (ii) கடல் + அலை (iii) பெரிய + அலை (iv) பறக்குது + அம்மா	(v) Light	(iv) ஏ. ஈ. குணசிங்க	15. (i) A - குறி B - மகரந்தமணி C - தம்பம் D - சூலகம் E - அல்லி F - தண்டு, காம்பு G - புல்லி
02. (i) நீர்வீழ்ச்சி மலையில் இருந்து வீழ்ந்து கொண்டிருந்தது.	(vi) Air	09. (i) பொன்னாவரை (ii) மரமஞ்சள் (iii) பொன்னாங்கானி (iv) கோரை	(ii) அழகிற்காக, தேன் எடுப்பதற்கு, வாசனைத் திரவியங்கள் செய்ய (iii) தேங்காய், பாக்கு (iv) வளமான மண், நீர், காற்று, ஒளி
(ii) இஸ்லாம் மார்க்கத்தினரின் சமய வழிபாட்டிடம் பள்ளிவாசல்.	04. (i) மழை (ii) குழல் (iii) தொலைக்காட்சி	10. 150/=	16. - -
(iii) பாடசாலையில் உள்ள அனைத்து மாணவர்களும் எனது இனிய நண்பர்கள்.	05. (i) X (ii) X (iii) √ (iv) X (v) √	11. 85/=	
(iv) நான் பரீட்சையில் சித்தி அடைந்தால் பெற்றோர்கள் மகிழ்வார்கள்.	06. (i) 225 cm ² (ii) 60 cm (iii) 9 cm ² , 12 cm (iv) 126 cm ² (v) 60 cm (vi) 99 cm ²	12. (i) 2.138 (ii) 228 நிமிடம் (iii) 0.66 (iv) 41700 (v) 9 $\frac{9}{20}$ (vi) 72, 68, 64	
03. (i) Good morning	07. (i) $\frac{4}{24} / \frac{1}{6}$ (ii) 12000/= (iii) 36000/=	13. (i) விரைவில் வா (ii) அந்தப்பக்கம் பார்	

வினாப்பத்திரம் I விடைகள்

வினாத்தாள் இல. : D100421

01. 2	10. 2	19. 48	26. 2	34. 3
02. 2	11. 2	20. 28 cm	27. 2	35. 5
03. 3	12. 1	21. B	28. 3	36. 25
04. 3	13. 3	22. 8	29. 1	37. 3
05. 1	14. 3	1. கரும்பு 3. புற்று	30. தானம்	38. 2
06. 3	15. 3	1. கண் 2. காற்று	31. குடை, பேனை, கை மணிக்கூடு	39. 3
07. 1	16. 2	23. 1	32. 234/=	40. 228, 330, 222
08. 3	17. பச்சை	24. 2	33. 288/=	
09. 1	18. 5	25. 2		

வினாப்பத்திரம் II விடைகள்

வினாத்தாள் இல. : D100422

01. (01) மேனி, தேகம்	04. 1. துடிதுடித்தது	17. 3	37. மரஅட்டை
(02) நோயற்ற வாழ்வு	2. ஓட்டமும் நடையுமாக	18. 3	38. 1964
(03) உடல் உறுதி	3. கிடுகிடுவென	19. 1	39. 210/=
(04) துக்கம்	05. 1. இது எங்கள் வகுப்பறை.	20. 3	40. 60/=
(05) காலன், அப்பா	2. நான் பாடசாலைக்கு போகிறேன்.	21. 1	41. 36
(06) நீ	06. 1. தயவு செய்து உதவுங்கள்	22. 2	42. 2.5 kg
(07) சூழானாலும் அதனை நாம் குளித்த பின்பே குடிக்க வேண்டும்.	2. இறைவன் ஆசீர்வதிப்பாராக	23. 1	43. 14.05 மணி
(08) சுத்தமான காற்றைச் சுவாசித்தல்	3. இரவு வணக்கம்	24. 1	44. $\frac{7}{9}$
(09) இடம் + எங்கும் சுத்தம் + உள்ள	07. 1. Mosquito / MOSQUITO	25. 4	45. 78/=
(10) நோயாளிகளுக்கு	2. Beach / BEACH	26. 4	46. பட்மின்ரன்
02. 1. வாசிக்கும் புத்தகங்களை பெரியோர்களின் வழிகாட்டலுடன் தெரிவு செய்ய வேண்டும்.	08. 3	27. 3	47. 257
2. நாம் உணவில் பல வகை உணவுகளை சேர்த்துக் கொள்ள வேண்டும்.	09. 2	28. திப்பிலி	48. 192
03. 1. வீண் விரயம்	10. 4	29. குன்றிமணி	49. 444
2. வீணான முயற்சி	11. 1	30. நொச்சி	50. —
	12. 1	31. தேங்காய்ப்பூ கீரை	
	13. 2	32. ஆடாதோடை	
	14. 2	33. முட்டைப்புழு	
	15. 3	34. மரவண்டு	
	16. 4	35. வெட்டுக்கிளி	
		36. மயிர்க்கொட்டி	

வினாப்பத்திரம் I விடைகள்

வினாத்தாள் இல. : D100511

01. 3	09. A	16. வட்ட வடிவம்	25. 4	33. 4
02. 4	10. D	17. முற்றுப்புள்ளி (.)	26. 2 m/s	34. 4
03. 4	11. C வகுப்பு A யை விட 300	18. முக்காற்புள்ளி (;)	27. P, R, T, Q, S	35. 3
04. 3	வரவுகள் அதிகமாக உள்ளது	19. மேற்கோள்குறி (" ")	28. N, L, K, M, O	36. 4
05. X	12. B யை விட C வகுப்பு 200	20. காற்புள்ளி (,)	29. 3	37. 1
06. 5	அதிகம்	21. 22 cm	30. 2	38. 5
07. 23	13. 1900	22. 2	31. ①	39. 2
08. 8	14. உருளை	23. 1	32. ①	40. 5
	15. இரண்டு	24. ரவி		

வினாப்பத்திரம் II விடைகள்

வினாத்தாள் இல. : D100512

01. (i) தரம் 7 மாணவிகள்	05. (i) √	09. (i) 3
(ii) காலை 11. 15	(ii) √	(ii) 3
(iii) சான்றிதழ் வழங்குதல்	(iii) X	10. (i) 2
(iv) அவ்விழாவில் பங்கு கொண்டு சிறப்பித்தவர்களுக்கு நன்றி தெரிவித்தல்	(iv) √	(ii) 3
(v) 6 நிகழ்ச்சிகள்	(v) X	11. (i) 100
	(vi) X	(ii) 31 cm ²
02. உங்களுடைய பெயர் என்ன? என்னுடைய பெயர் ராஜா	06. (i) கதைப்புத்தகங்கள்	12. (i) 1
03. (i) அணில்	(ii) அரசியல் நூல்கள்	(ii) 3
(ii) சிட்டுக்குருவி	(iii) 12 புத்தகங்கள்	(iii) 2
(iii) நெற்குருவி	(iv) 228	(iv) 3
(iv) பருந்து	(v) 84	(v) 1
04. (i) கண்டங்கத்தரி	07. (i) வியாழன்	(vi) 2
(ii) குன்றிமணி	(ii) திங்கள், வெள்ளி	13. (i) தனுசு
(iii) சுண்டை மரம்	(iii) செவ்வாய்	(ii) கன்னி
(iv) கோரை	(iv) 16 நாட்கள்	(iii) இடபம்
	(v) 92	14. -
	08. (i) $\frac{2}{6} / \frac{1}{3}$ (ii) 10	

வினாப்பத்திரம் I விடைகள்

வினாத்தாள் இல. : D100521

01. 3	09. 2	17. 1	25. 2	33. 3
02. 3	10. 3	18. 2	26. 1	34. 3
03. 1	11. 2	19. C	27. 1	35. 3
04. 3	12. 3	20. 1	28. 2	36. மரம்
05. 3	13. 2	21. 1	29. 1	37. கடல்
06. 104	14. 2	22. 2	30. 3	38. 3
07. 35	15. 3	23. 3	31. 2	39. 1
08. 1	16. 2	24. 2	32. 2	40. 3

வினாப்பத்திரம் II விடைகள்

வினாத்தாள் இல. : D100522

01. (1) தூக்கத்தை உதறி எழு / தூக்கத்தை தொலை துணிந்தெழு (இவ்வாறு தூக்கத்தை வகுத்து முயற்சி செய்வது போல் சுமையும் தலைப்புகள்)	(21) தொள்ளாயிரத்து அறுபத்தைந்து ரூபாய் இருபத்தைந்து சதம்	குழலில் உள்ள சிரட்டை, தகரப் பேணிகளை ஒழித்தல், நுளம்பு வலை பயன்படுத்தல் / நுளம்புத்திரி பயன்படுத்தல்
(2) சோம்பி தூங்காது முயற்சி செய்து உழைத்தல்	(22) 34.75 /= (23) 88 ரூபா	(44) அனோபிளஸ்
(3) விழிப்பு (4) அநியாயம்	(24) 104 ரூபா (25) 300 ரூபா	(45) தோலில் செந்நிற புள்ளிகள் தோன்றும், காய்ச்சல் காணப்படும்.
(5) ஆகாயம் (6) கண்	(26) 282.50 ரூபா (27) 248 ரூபா	(46) 43 பேர் (47) 4
(7) நண்பன்	(28) 641 ரூபா (29) 775 ரூபா	(48) 6 (49) 10
(8) நாம் உறங்கி கொண்டிருப்பதால்	(30) 225 ரூபா (31) தேடுதல்	(50) 4
(9) நாம் பணம் சம்பாதிக்க வேண்டுமானால் உழைத்தல் வேண்டும்	(32) படித்தல் (33) கோவில்	(51) சுவாமி விவேகானந்தர்
(10) பாடங்கள் கூடுதலாகி விட்டன	(34) வைத்தியசாலை / ஆஸ்பத்திரி	(52) அன்னைதிரேசா
(11) √ (12) X	(35) A (36) D	(53) திருவள்ளூர்
(13) √ (14) √	(37) B (38) E	(54) வெளிச்சவீடு
(15) X (16) Flower	(39) C	(55) பந்து
(17) Clock (18) Ice cream	(40) A - நிறையுடலி நுளம்பு B - முட்டை C - குடம்பி D - கூட்டுப்புழு	(56) பாடசாலை கட்டிடம்/ கட்டிடம்/வீடு
(19) Eight (20) Pencil	(41) நுளம்பினுடையது	(57) கமல் (58) நாத்து
	(42) மலேரியா, டெங்கு, யானைக்கால் நோய்	(59) நிரை (60) பாகன்
	(43) தண்ணீரை தேங்க வைக்காது	(61) —

சில வரியார்கள்



S. W. R. D பண்டாரநாயக்க



ஹிக்கடுவே ஸ்ரீ சமங்கலதேரர்



அநகாரிக தர்மபால



சேர். பொன்னம்பலம் இராமநாதன்



குமாரதுங்க முனிதாச



எம். சி. சித்திலெப்பை



டி. எஸ் சேனாநாயக்க



டட்லி சேனாநாயக்க



N. M. பெரேரா



சேர் டி. பி. ஜெயதிலக்க




சேர் ஜசாக் நியூட்டன்



தோமஸ் அல்வா எடிசன்

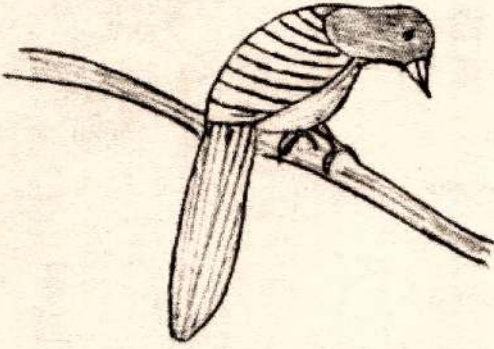
பறவைகள் சில




கிளி



சின்ன மாம்பழக் குருவி



செம்பகம்



இரட்டைவால் குருவி



வல்லூறு



மாம்பழக் குருவி



கழுஞ்சு



திக்கோழி


சில வீட்டுப் பொருட்கள்



முட்டி



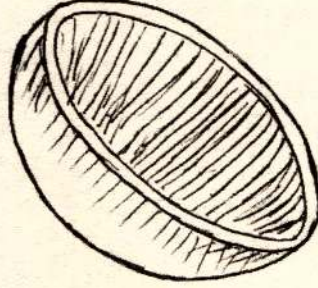
இடியப்பம் அவிக்கும் மேல் மூடி



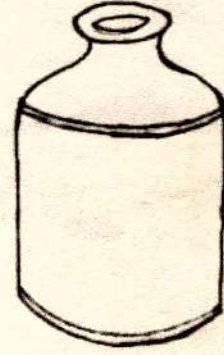
மட் கோப்பை



கூனா



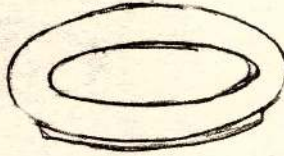
அரிச்சட்டி



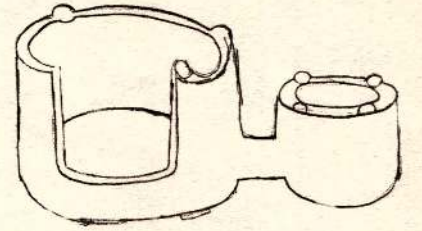
மட் போத்தல்



குவளை



பீங்கான் பீரிஸ் கோப்பை



அருப்பு



வெண்களியால் செய்யப்பட்ட குவளை, பூச்சாடி



பூச்சாடி

பூச்சாடி

நீர் காவி (குவளை)


சில மீன் வகைகள்



சூரை



அறக்குளா




டொல்பின்




இறால்




நெத்தலி



பறக்கும் மீன்



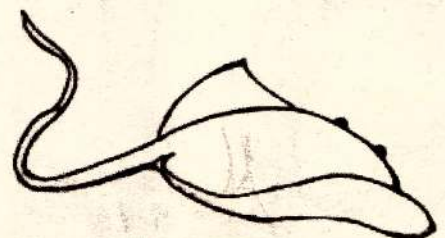
சுறா



சாலயா



கணவாய்



தீருக்கை


விடுகதைப் பாடல்

“நெட்டை யான காலுடனே
நீள மான கழுத்துடனே
சுட்டுப் பொசுக்கும் மணலில் கூடச்
சுமையைத் தூக்கிச் செல்லும் அது!
என்ன தெரியுமா? தம்பி
என்ன தெரியுமா?”

விடை : ஓட்டகம்

- குழந்தைக் கவிஞர் அழ. வள்ளியப்பா சேய் எலி

எலியும் சேவலும்



சின்னச் சின்னக் கோபுரம்

சின்னச் சின்னக் கோபுரம்
சிப்பி செய்யாக் கோபுரம்
என்னைப் போல மூன்றடி
இருக்கும் அந்தக் கோபுரம்

சின்னஞ் சிறிய கோபுரம்
செங்கல் நிறத்துக் கோபுரம்
மண்ணால் ஆன கோபுரம்
மனிதர் நுழையாக் கோபுரம்

அருமை யான கோபுரம்
யார் அமைத்த கோபுரம்?
கறையான் ஒன்று கூடியே
கட்டி வைத்த கோபுரம்.

- குழந்தைக் கவிஞர் அழ. வள்ளியப்பா

வெய்யிற் கொடுமையம்மா! மேனி
வேர்க்குதம்மா!
பைய உலாவி வரப் பரிந்து விடை
தாருமம்மா

பொல்லாத வெப்பம்மா! புழுங்கி
யவியுதம்மா
மெல்ல உலாவி வர விரும்பி விடை
ஈயுமம்மா!

தாய்எலி

ஆசை மிகுந்த மைந்தா! அன்பான
கண்மணியே!
மோசம் வரும் மகனே! முற்றத்திலும்
போக வேண்டாம்

பொல்லாத துட்டர் மைந்தா! புறத்தே
பதுங்கி நிற்பார்!
அல்லா தன புரிவார் ஐயா நீ போக
வேண்டாம்.

வெண்ணிலா

இரு விளக்கில் ஒரு விளக்காம்
வெண்ணிலாவே
இராக்காலத் தொளி கொடுப்பாய்
வெண்ணிலாவே

சூரியன் போய் மறைந்த பின்பு
வெண்ணிலாவே
தூயவொளி பரப்பிடுவாய்
வெண்ணிலாவே

- நவாலியூர் சோமசுந்தரப் புலவர் -
(தங்கத் தாத்தா)

நவாலியூர் சோமசுந்தரப்புலவர்
நன்றி :- சிறுவர் செந்தமிழ்

காலை மாலை உலாவி நிதம்
காற்று, வாங்கி வருவோரின்
காலைத் தொட்டுக் கும்பிட்டுக்
காலன் ஓடிப் போவானே.

கூழை யேநீ குடித்தாலும்
குளித்தபிறகு குடியப்பா!
ஏழை யேநீ ஆனாலும்
இரவில் நன்றாய் உறங்கப்பா!

ஹோசாப்பு

சின்னச் சின்ன ஹோசாப் பூ
சிவப்பு வெள்ளை ஹோசாப்பு
வண்ண வண்ண ஹோசாப் பூ
வாட்டமில்லா ஹோசாப் பூ

வட்டமான ஹோசாப்பு
வளர்ந்து நிற்கும் ஹோசாப் பூ
பட்டுப் போன்ற ஹோசாப் பூ
பார்த்து மகிழும் ஹோசாப் பூ


இனிய காலை நேரம்
இதழ் விரித்துச் சிரிக்கும்
பனி மணிகள் சூடி
பளபளக்கும் கண்ணில்



முள்ளு வேலிக்குள்ளே
முகத்தைக் காட்டும் ஹோசாப் பூ
பள்ளுப் பாடி வண்டு
பாசம் கொள்ளும் ஹோசாப் பூ

கவிஞர் : வாகரை வாணன்
நன்றி : சின்னச் சின்னப் பூக்கள்

வண்டிக்குாரன் பாடல்



“தன்னே னன்னானே ஏ.. ஏ..
னானே னன்னானே ஏ.. ஏ..
ஆ... ஆ..... ஆ.. ஆ..
மாடுரெண்டும் மாவெள்ள
மணிக ரெண்டும் தஞ்சாவூரு
குப்பிரெண்டும் கும்பகோணம் டக்குமிக்கு
டிக்குத்தாளம்
குலுங் குதடி சாலப் பாதை கடேக் கு
டிக்குத்தாளம்

மூலம் :- நாட்டார் இசை
தொலைக்கல்வித்துறை
தேசிய கல்வி நிறுவனம்

பறவைகள்



குக்கு குக்கு குயிலக்கா
கூட நானும் பாடவா
கிக்கி கிக்கி கிளியக்கா
சொன்ன பேச்சைச் சொல்லக்கா



கக்கா கக்கா அக்கக்கா
மாமா வாறதைச் சொல்லக்கா
கொக்கோ கொக்கோ கோழியக்கா
குஞ்சைக் கூப்பிட்டு வையக்கா



புள்ளி புள்ளி புறாவக்கா
போன சேதி என்னக்கா
ஆட்டம் போடும் மயிலக்கா
கால் வலிக்கும் நிலலக்கா



இங்கே ஒன்றாய் வாருங்கள்
எந்தன் ஆசையைக் கேளுங்கள்
உம்மைப் போலப் பறக்கவே
இறக்கை இரண்டு தாருங்கள்.



பாடம் படிப்போம்

புத்தகத்தை எடுப்போம்
புதிய பாடம் படிப்போம்
பத்திரமாய்க் காப்போம்
பையில் அதனை வைப்போம்

கணக்குப் பாடம் கற்போம்
கண்ணைப் போல நினைப்போம்
இனிக்கும் எங்கள் தமிழை
என்றும் நாங்கள் கற்போம்

.....
கவிஞர் வாகரை வாணன்
நன்றி :- சின்னச் சின்னப் பூக்கள்

மட்டக்களப்பு நகரம்

மீன் பாடு நகரம் - காற்று
மிதந்து வரும் நகரம்
தேன் ஓடும் நகரம் - வளர்
தென்னை மர நகரம்

கலை வாழும் நகரம் - தமிழ்க்
கவி பாடும் நகரம்
அலைகடல் நகரம் - இயற்கை
அழகு மிகு நகரம்

நெல் குவியும் நகரம் - பசு
நெய் கமழும் நகரம்
பல்லினமும் வாழும் - எங்கள்
பழந்தமிழர் நகரம்

வந்தவர்கள் தம்மை - அன்பாய்
வரவேற்கும் நகரம்
செந்தமிழின் ஓசை - கேட்டுச்
செவி குளிரும் நகரம்

புலவர் பெரியதம்பி - உலகம்
புகழும் விபுலானந்தர்
குலவி மகிழ்ந்த நகரம் - ஒரு
குடும்பம் போன்ற நகரம்.

கவிஞர் : வாகரைவாணன்

நன்றி : சின்னச் சின்னப் பூக்கள்

விந்தைச் சிலந்தி

தறியோ பாவோ இல்லா மல்
சிறிய கைகள் கால்களி னால்
செய்யும் நெசவின் அழகைப் பார்
சத்தம் எதுவும் செய்யா மல் //

பஞ்சில் எடுத்த நூ லோதான்
பட்டில் எடுத்த நூ லோதான்
கொஞ்சம் கூட இல்லாமல்
கூர்ந்து செய்யும் நெசவைப் பார் //

வயிற்றில் இருந்தே நூலாக்கி
வழவழப் புள்ள மெருகூட்டி
வெயிலின் ஒளியில் வலை பின்னும்
விந்தை அழகு நெசவைப் பார் //

முலை, முடுக்கு, முள்வேலி
முன் தாழ் வாரம், கதவிடுக்கில்
நூலைப் பூட்டி நெய்கின்ற
நுட்பமான நெசவாளி //

ஆதியில் மனிதன் ஆடைகளை
அருமை நூலால் நெய்வதற்கும்
போதித்துள்ள ஆசிரியர்
புகழ்ந்து சொல்வேன் சிலந்தியென //

- தமிழ் முடி -

ஒழுக்கம்

அன்பை வளாக்க வேண்டும் - கிளியே
அறிவைப் பெருக்க வேண்டும்
உன்போற் பிறரை எண்ணி - நல்ல
உதவி புரிய வேண்டும்.

தெய்வ நினைப்பு வேண்டும் - கிளியே
தேச நினைப்பு வேண்டும்
மெய்யம்மை ஒழுக்கம் வேண்டும் - நெஞ்சில்
வீர உறுதி வேண்டும்

அன்னை சொற் கேட்க வேண்டும் - தந்தை
ஆணைக்கிணங்க வேண்டும்
தன்னை வணங்க வேண்டும் - பிறர்
தம்மை மதிக்க வேண்டும்.

ஆசிரி யார்க்க டங்கி - கிளியே
அறிவை வளர்க்க வேண்டும்
தேசம் வாழும் தொழிலில் - மிக்க
திறமை ஓங்க வேண்டும்.

- சுத்தானந்த பாரதியார்

Digitized by Noolaham Foundation.
noolaham.org | aavanaham.org

கொழும்புத் தமிழ்ச் சங்கம் நூலகம் நாட்டுப்பாடல்


வானம் கறுக்க வேணும் - மழை
வயல்க ளெல்லாம் பெய்ய வேணும்
தேனான சம்பா நெல்லு - நம்ம
சீமை எல்லாம் விளையவேணும்

முத்து வெள்ளை சம்பா நெல்லு - வயல்
முற்றி விளைந்து குலுங்குதடா
கொத்தும் கிளி குருவி எல்லாம் - வந்து
கூட்டமாய் எங்கும் பறக்குதடா

கட்டான தரைகளெல்லாம் - நல்ல
காய் கனிகள் விளைய வேணும்
மட்டாக நாமுமுண்டு - நாட்டு
மக்களுக்கும் ஈயவேணும்

பஞ்சம் பறக்க வேணும் - எங்கும்
பல கலைகள் சிறக்க வேணும்
கஞ்சிக்கு அலையும் இந்தக் - கெட்ட
கஞ்சல் வாழ்க்கை ஓயவேணும்

- சுத்தானந்த பாரதியார்



மிகச் சிறிய விதையினால்
மிகப்பெரிய மரம் வரும்!
மிகச் சிறிய சிறுவனே
மிகப் பெரிய மனிதனாம்!

ஆலம் விதை சிறியது
ஆலமரம் பெரியது!
ஆலமர நிழலிலே
ஆயிரம் பேர் தங்கலாம்!

பறவை கூடு கட்டலாம்
பழமும் வெளவால் தின்னலாம்!
சிறகடிக்கும் பறவைகள்
சேர்ந்துகூடி வாழலாம்!

ஆலம் விதை போன்றவர்
அருமையான சிறுவர்கள்!
காலாகாலம் வளருவார்
கருணையோடு உதவுவார்!

கவிஞர் : செல்ல கணபதி
நன்றி : பிறந்த நாள்

எங்கள் கிராமம்

எங்களுக்கீ கிராமம்
எங்கும் இன்ப ராகம்
வானில் பறக்கும் கிளிகள்
கானம் நிறைக்கும் இனங்கள்
சேற்றில் வாழும் மணல்கள்
சோற்றை வழங்கும் கரங்கள்
இயற்கை வாழும் கோயில்
இன்னல் தாவும் வாயில்
உழைப்பே அங்கு பணியாகும்
சோம்பல் மக்களின் பிணியாகும்

- சத்யா

மங்கள் மகாவலி கங்கையவள் - மலையில்
தங்கும் அருவிகள் கூட்டி வந்தாள்
எங்கள் உணவாகி நீர் தருவாள் - எங்கும்
பொங்கும் பயிர்வளரப் போற்றிடுவோம்.

எங்கும் தொழில்வளம் கண்டிடுவோம் - நன்றாய்
ஏத்தும் உழுதொழில் செய்திடுவோம்
தங்க மின்சக்தியும் தான்தருவாள் - இங்கு
தொங்கிடும் மின்விளக்கு ஏற்றிடுவோம்.

தேயிலை றப்பர் மிளகுடனே - செறித்து
வாழை மா தென்னை வளம் பெருகும்
பாயும் நீள் மகாவலி நீரதனால் - நாட்டில்
பஞ்சம் பிணிநோய் பறந்திடுமே.

மயிலங்கூடல் த: கனகரத்தினம்
நன்றி : சிறுவர் பாடல்

சின்னக்குருவி சீறிய வீடு

குருவிக் கூடு சிறியது
குஞ்சு வாழச் சிறந்தது
உருவில் சிறிய கூடுதான்
உன்னால் கட்ட முடியுமா?

பன்னாடைகள் சருகுகள்
பனைமரத்தில் கிடைத்ததை
தன்னால் சேர்த்துக் குருவியும்
தானே கட்டிய சிறுகுடல்!

மழையைக் காற்றைத் தாங்கிடும்
வாழும் குஞ்சைக் காத்திடும்
வலிமை யான கூடுதான்
வடிவம் கூட அழகுதான்!

சின்னக் குருவி முயற்சியால்
சிறிய கூடு கட்டினால்
உன்னைப் போலச் சிறுவனால்
ஊரை வெல்ல முடியாதோ!

கவிஞர் : செல்ல கணபதி

மாணவர்களுக்குத் தேவையான சிங்களச் சொற்கள்

எண்கள்

ஏழை	-	பத்து
வியை	-	இருபது
நினை	-	முப்பது
நைநினை	-	நாற்பது
பனை	-	ஐம்பது
நை	-	அறுபது
நைநை	-	எழுபது
அழை	-	எண்பது
அழை	-	தொண்ணூறு
வியை	-	நூறு

அந்நாசி	-	அன்னாசி
பேர்	-	கொய்யாப் பழம்
தே	-	திராட்சை
ரஜை	-	ரம்புட்டான்

உணவுப் பண்டங்கள்

வெ	-	சோறு
பிடு	-	பிட்டு
கிடுவெ	-	பாற்சோறு
வெ	-	வடை
கை	-	தோசை
பா	-	பாண்
ஒடி அப்ப	-	இடியப்பம்
கடு	-	கடலை
அப்ப	-	அப்பம்

மரக்கற்கள்

வெ	-	கத்தரிக்காய்
அழை	-	சாம்பல் வாழை
வெ	-	வெண்டைக்காய்
பு	-	புடோல்
பீ	-	பீர்கங்காய்
பா	-	பாகற்காய்
கோ	-	கோவா
லீ	-	லீக்ஸ்
கர	-	கரட்
பீ	-	பீற்றூட்
மு	-	முருங்கைக்காய்

மரங்கள்

அரி மரம்	-	மாமரம்
கை மரம்	-	பலா மரம்
ஒடி மரம்	-	ஈரப்பலாமரம்
பை மரம்	-	தென்னைமரம்
கை மரம்	-	பனை மரம்
கை மரம்	-	வேப்ப மரம்
நா	-	நாக மரம்
கடு	-	கருங்காலி மரம்
மு	-	முதுரை மரம்
வா	-	வாகை மரம்
மு	-	முங்கில் மரம்

மலர்கள்

பிடு	-	மல்லிகைப் பூ
நை	-	தாமரை
பிடு	-	அல்லி
ரே	-	ரோசாப் பூ
நி	-	நித்தியகல்யாணி
செ	-	செவ்வந்தி
நீ	-	நீலோற்பவம்

தானியங்கள்

அரிசி	-	அரிசி
மா	-	மா
சீனி	-	சீனி
பருப்பு	-	பருப்பு
தேங்காய்	-	தேங்காய்
வெங்காயம்	-	வெங்காயம்
பச்சை மிளகாய்	-	பச்சை மிளகாய்
தேயிலை	-	தேயிலை

பழவகைகள்

அரி	-	மாம்பழம்
கை	-	வாழைப்பழம்
பலா	-	பலாப்பழம்
தோ	-	தோடம்பழம்
வி	-	விளம்பழம்

மாணவர்களுக்குத் தேவையான சிங்களச் சொற்கள்

நிறங்கள்

கை பாவ	- மஞ்சள் நிறம்
ஊத பாவ	- வெள்ளை நிறம்
கட பாவ	- கறுப்பு நிறம்
ரஞ பாவ	- சிவப்பு நிறம்
கொட பாவ	- பச்சை நிறம்
நில பாவ	- நீல நிறம்
கை பாவ	- மஞ்சள் நிறம்

සිංහයා

වලහා

කොටියා

අලියා

හාවා

උරා

මුවා

වදුරා

- சிங்கம்

- கரடி

- நரி

- யானை

- முயல்

- பன்றி

- மான்

- குரங்கு

உடல் உறுப்புகள்

கிண	- தலை
கூண	- கண்
கை	- காது
காண	- மூக்கு
கை	- வாய்
கெல்ல	- கழுத்து
கை	- மார்பு
கை	- வயிறு
கை	- கை
கை	- விரல்
கை	- கால்
கை	- பாதம்

பறவைகள்

கை	- காகம்
கை	- சேவல்
கை	- கோழி
கை	- கிளி
கை	- புறா
கை	- மயில்
கை	- குயில்
கை	- மைனா
கை	- தாரா
கை	- கொக்கு

மிருகங்கள்

கை	- ஆடு
கை	- மாடு
கை	- நாய்
கை	- பூனை
கை	- எருமை

எண்கள்

එක

දෙක

තුන

හතර

පහ

හය

හත

අට

නවය

දහය

එකොළහ

දොළහ

දහතුන

දහහතර

පහළப

දහසය

දහதை

දහඅට

දහநவ

විස්ස

විසි එක

විසි දෙක

විසි තුන

විසි හතර

විසි පහ

විසි හය

විසි හත

විසි අට

විසි නව

විසි

හත

- ஒன்று

- இரண்டு

- மூன்று

- நான்கு

- ஐந்து

- ஆறு

- ஏழு

- எட்டு

- ஒன்பது

- பத்து

- பதினொன்று

- பன்னிரண்டு

- பதின்மூன்று

- பதின்நான்கு

- பதினைந்து

- பதினாறு

- பதினேழு

- பதினெட்டு

- பத்தொன்பது

- இருபது

- இருபத்தொன்று

- இருபத்திரண்டு

- இருபத்திமூன்று

- இருபத்திநான்கு

- இருபத்திஐந்து

- இருபத்தாறு

- இருபத்தேழு

- இருபத்தெட்டு

- இருபத்தொன்பது

- முப்பது

மாணவர்களுக்குத் தேவையான ஆங்கிலச் சொற்கள்

School

chair	-	கதிரை
desk	-	மேசை
cupboard	-	அலுமாரி
table	-	மேசை
cloth	-	துணி
blackboard	-	கரும்பலகை
chalk	-	வெண்கட்டி
timetable	-	நேரகுசி
poster	-	சுவரொட்டி
picture	-	படம்
bag	-	பை
book	-	புத்தகம்
bottle	-	போத்தல்
eraser	-	அழிப்பான்
pen	-	பேனை
pencil	-	பென்சில்
lunch box	-	சாப்பாடுப்பெட்டி
register	-	இடாப்பு
record book	-	பதிவுப் புத்தகம்
gum	-	பசை
glue	-	பிசின், வஜ்ஜிரம்
clay	-	களி
principal	-	அதிபர்
vice principal	-	உப அதிபர்
teacher	-	ஆசிரியர்
class teacher	-	வகுப்பாசிரியர்
monitor	-	வகுப்புத் தலைவன்
captain	-	தலைவன்
group leader	-	குழுத் தலைவன்
security guard	-	பாதுகாவலர்
watcher	-	காவல்காரர்
peon	-	பணியாள்
art room	-	கலை அறை
class room	-	வகுப்பறை
dancing room	-	நடன அறை
music room	-	சங்கீத அறை
canteen	-	சிறுநுண்ணிச்சாலை
library	-	நூல் நிலையம்
office	-	

garden	-	தோட்டம்
toilet	-	மலசல கூடம்
play ground	-	விளையாட்டு மைதானம்
laboratory	-	விஞ்ஞானகூடம்
gate	-	வாயில்
lesson	-	பாடம்
ruler	-	அடிமட்டம்

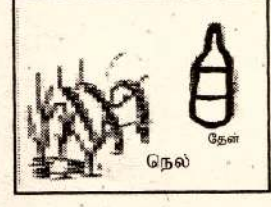
Outside the school

home	-	வசிப்பிடம்
house	-	வீடு
market	-	கடைத்தெரு / சந்தை
shop	-	கடை
fair	-	சந்தை
bakery	-	வெதுப்பகம்
dispensary	-	மருத்துவ நிலையம்
hospital	-	வைத்தியசாலை
mosque	-	மசூதி
pharmacy	-	மருந்துக் கடை
temple	-	கோயில்
airport	-	விமான நிலையம்
post office	-	தபால் அலுவலகம்
police station	-	பொலிஸ் நிலையம்
bus stop	-	பேருந்து தரிப்பிடம்
Railway station	-	புகையிரத நிலையம்


Persons

brother	-	சகோதரன்
sister	-	சகோதரி
father	-	அப்பா
mother	-	அம்மா
grand father	-	தாத்தா
grand mother	-	பாட்டி
aunt	-	மாமா
brother-in-law	-	மைத்துனன்
father-in-law	-	மாமா
mother-in-law	-	மாமா
daughter-in-law	-	மருமகள்
doctor	-	வைத்தியர்

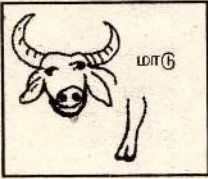
- இந்த நான்கு படங்களிலும் உள்ள பயிர்களிலிருந்து பெறக்கூடிய பொருள்களுள் பயிருக்குப் பொருத்தமற்ற பொருள் காணப்படும் படம் எது?



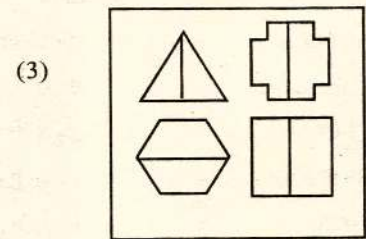
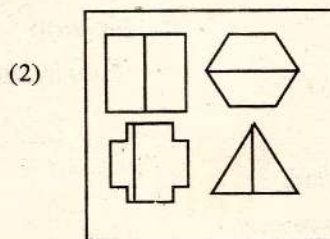
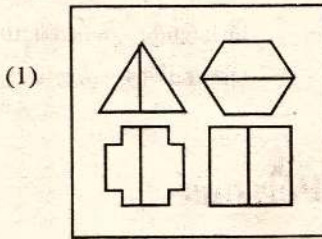



- இங்குள்ள மிருகங்களில் ஏனைய மூன்று மிருகங்களில் இருந்தும் வேறுபடும் மிருகம் எது?




- இங்குள்ள படங்களில் மிருகத்துக்குப் பொருத்தமற்ற பாதம் காணப்படும் படம் எது?



- பின்வரும் வினாக்கள் ஒவ்வொன்றிலும் உருக்கள் உள்ள மூன்று அடைப்புகள் தரப்பட்டுள்ளன. இவற்றுள் ஒன்று அதில் உள்ள உருக்களுக்கு ஏற்ப, ஏனைய இரண்டிலிருந்தும் வேறுபகின்றது. அவ்வாறு வேறுபடும் அடைப்பினைத் தெரிவு செய்க.




- ஒரு தடவை பல் துலக்குவதற்கு எடுக்க வேண்டிய பற்பசையின் அளவைக் காட்டும் உரு



(i)



(ii)



(iii)



(iv)

- ஊசித்துளைக் கமராவின் ஊடாகத் தொலைவில் உள்ள ஒரு தென்னையைப் பார்க்கும்போது அது காணப்படும் விதம்




(i)



(ii)




(iii)



(iv)

வாழ்க்கை வட்டங்கள்

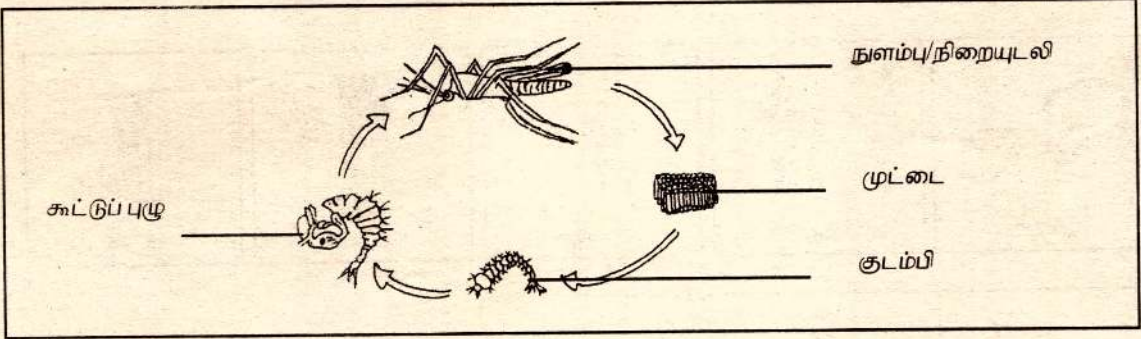
1. இலையானின் வாழ்க்கை வட்டப்படிக்கள்



2. வண்ணத்துப்பூச்சியின் வாழ்க்கை வட்டப்படிக்கள்




3. நுளம்பின் வாழ்க்கை வட்டப் படிக்கள்



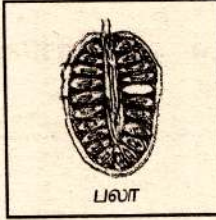
பழங்களும் வித்துக்களும் பரம்பல் அடையும் விதம்

● வித்துக்கள் பரம்பல் அடையும் முறைகள்

1. விலங்குகளினால் பரம்பல் அடையும் வித்துக்கள்



தோடை



பலா



ஆமணக்கு



புலி நகம்



ஆடையொட்டி



நாயுருவி



துத்திரி

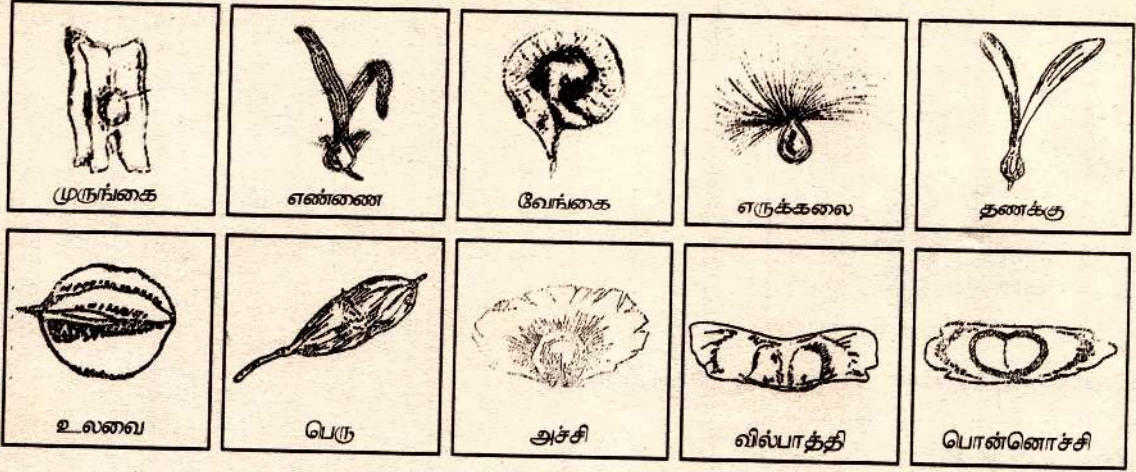


மூக்கிறைச்சி

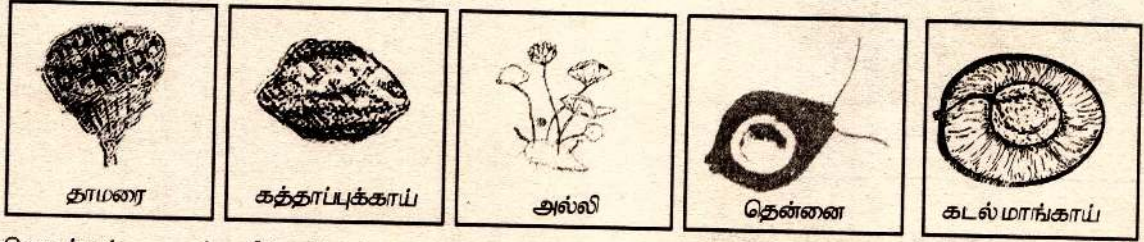


மரமுந்திரி

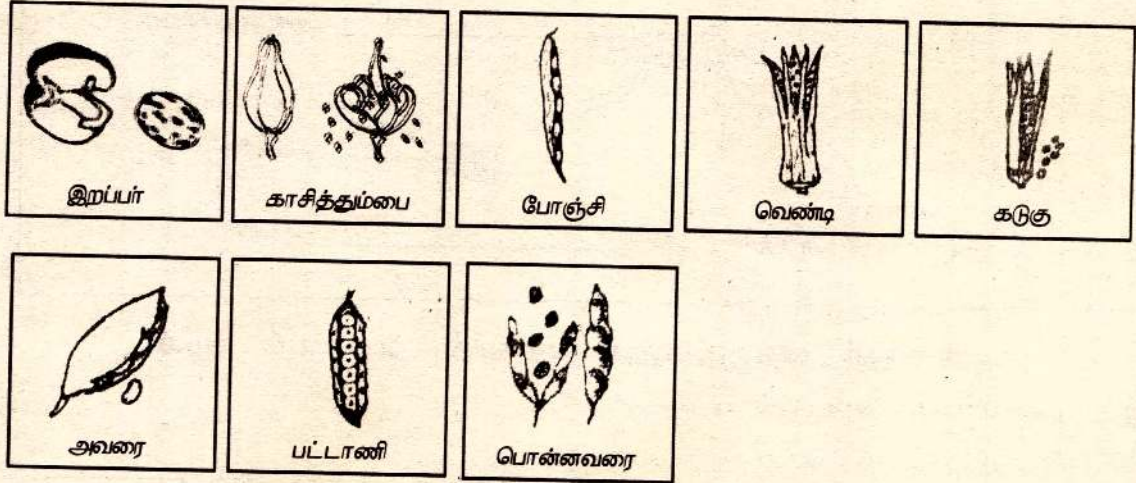
2. காற்றினால் பரம்பல் அடையும் வித்துக்கள்.



3. நீரினால் பரம்பல் அடையும் வித்துக்கள்.

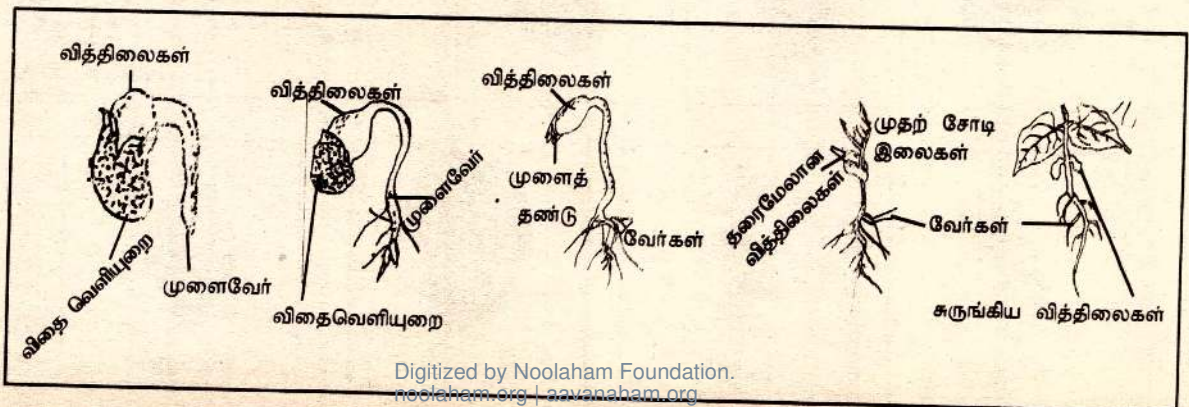


4. வெடித்துப் பரவும் வித்துக்கள்.

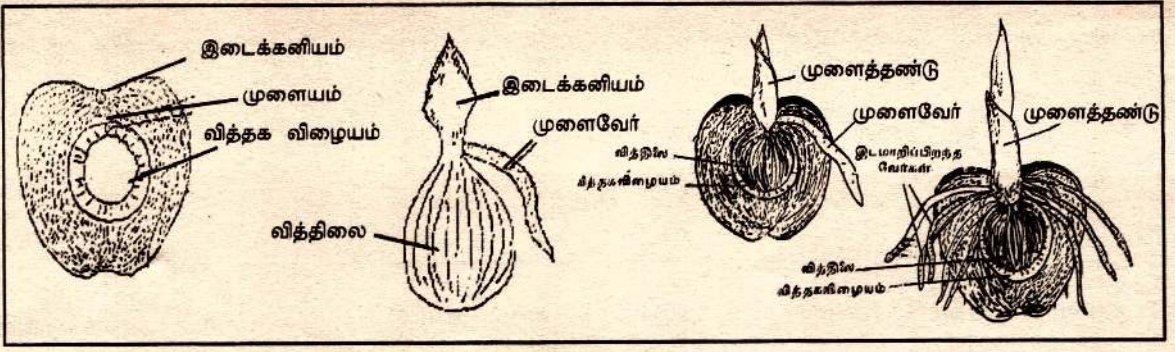


வித்து முளைக்கும் போது நீசமும் மாற்றங்கள்

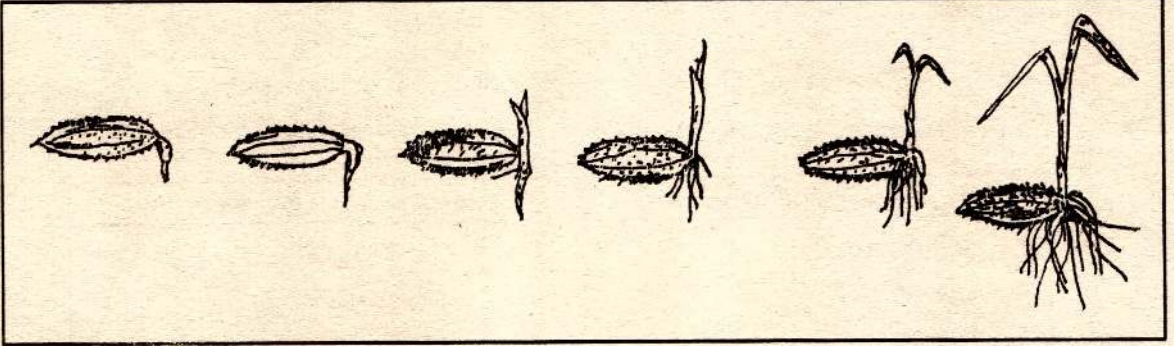
1. அவரை வித்து முளைத்தல்.



2. தேங்காய் வித்து முளைத்தல்



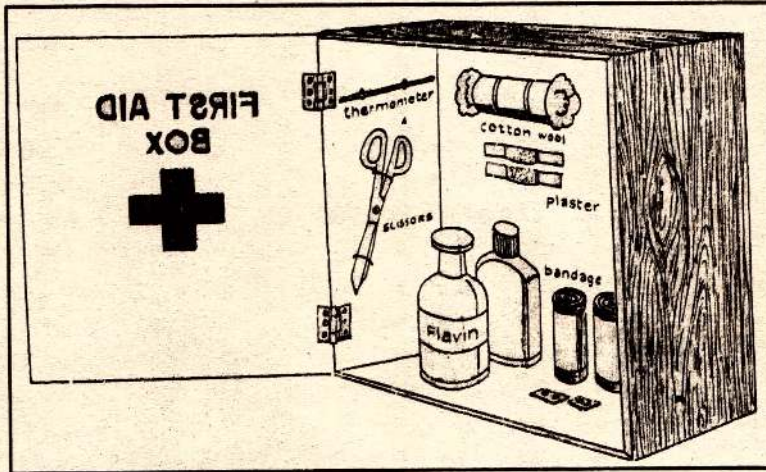
3. நெல் வித்து முளைத்தல்



முதலுதவி

முதலுதவி :- விபத்துக்குள்ளானவரை வைத்தியசாலைக்குக் கொண்டு செல்ல முன்னர் அவர்களுக்கு அளிக்கப்படும் சிகிச்சை முதலுதவி ஆகும்.

முதலுதவிப் பெட்டியில் இருக்க வேண்டியவை



- உடல் வெப்பமானி
- பிளேவின்
- பஞ்சு
- தொற்று நீக்கி
- சுநீர்ப்பை
- கத்தரிக்கோல்
- பனடோல், டிஸ்பிரின்
- சோடா உப்பு
- சவர்க்காரம்
- பனிக்கட்டிப்பை

கைத்தொழில்

கைத்தொழில் என்பது ஏதேனுமொரு மூலப்பொருளைப் பயன்படுத்தி மனித உழைப்பு, இயந்திரசக்தி ஆகியவற்றின் உதவியுடன் பொருட்களை உற்பத்தி செய்வதைக் குறிக்கும்.

* கைத்தொழில்களை மூன்று வகையாகப் பிரிக்க முடியும்.

கைத்தொழில்

குடிசைக் கைத்தொழில்

கயிறு திரித்தல்
கைத்தறி நெசவு
றேந்தை பின்னுதல்
பாயிழைத்தல்

நடுத்தரக் கைத்தொழில்

மின் உபகரணங்கள்
பிஸ்கட் வகைகள்
பிளாஸ்டிக் பொருட்கள்

பாரிய கைத்தொழில்

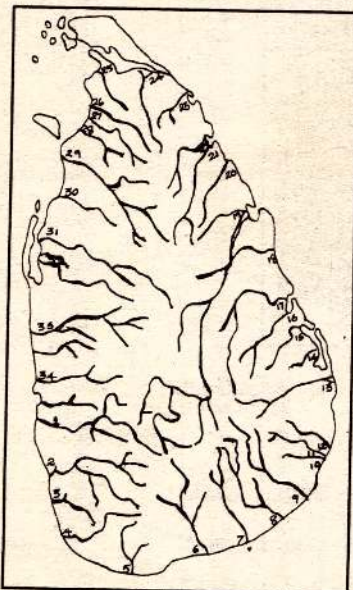
சீமெந்து
உருக்கு, இரும்பு
கைத்தொழில்

* குடிசைக் கைத்தொழிலில் அதிகளவு மனித உழைப்பே பயன்படுகிறது.

* பாரிய கைத்தொழிலில் இயந்திர சக்தியே அதிகம் பயன்படுகிறது.

கைத்தொழில்கள்	அமைந்துள்ள இடங்கள்
1. ஒட்டுப்பலகை	ஜின்தோட்டை
2. கடதாசி	வாழைச்சேனை
3. சீமெந்து	காங்கேசன்துறை, புத்தளம்
4. முகமுடி	அம்பலங்கொட
5. மரத்தளபாடம்	மொரட்டுவ
6. பீங்கான் பொருட்கள்	பிளியந்தல
7. புடைவை	துல்ஹிரிய, வெயங்கொட
8. டயர், ரியூப்	களனி
9. கண்ணாடி	நாத்தாண்டியா
10. இரும்பு	ஒறுவெல

இலங்கையின் உள்ள பிரதான ஆறுகள் 34



1. களனி கங்கை
2. களு கங்கை
3. பெருந்தோட்ட கங்கை
4. ஜின் கங்கை
5. நில்வளா கங்கை
6. வளவ கங்கை
7. கிரிந்தி ஓயா
8. மாணிக்க கங்கை
9. சும்புகன் ஓயா
10. வில் ஓயா
11. ஹெட ஓயா
12. கறந்த ஓயா
13. கல்லோயா
14. அந்தல்லை ஓயா
15. மஹல்விட்டன் ஆறு
16. முன்தெனி ஆறு
17. மாதறு ஓயா
18. மகாவலி கங்கை
19. கந்தளாய் கங்கை
20. பான்குளம் ஆறு
21. யான் ஓயா
22. மா ஓயா
23. பேயாறு
25. மண்டலை ஆறு
26. பாலி ஆறு
27. பறங்கி ஆறு
28. நாயாறு
29. மல்வத்து ஓயா
30. மோதறகம் ஆறு
31. கலா ஓயா
32. மீ ஓயா
33. தெதுறு ஓயா
34. மகா ஓயா

மத்திய மலைநாட்டில் அமைந்துள்ள நீர் வீழ்ச்சிகள்

நீர் வீழ்ச்சி	உயரம்	அமைந்துள்ள ஆறு
1. பம்பரகந்த	240 m	கிரிந்தி ஓயா
2. தியலும	170 m	கிரிந்தி ஓயா
3. ரம்பொட	119 m	மகாவலி கங்கை
4. லக்ஷபான	114 m	களனி கங்கை
5. அபடின்	90 m	களனி கங்கை
6. டெவோன்	85 m	மகாவலி கங்கை
7. துன்ஹிந்த	57 m	மகாவலி கங்கை
8. இராவணாஎல்ல	07 m	கிரிந்தி ஓயா

மத்திய மலைநாட்டில் அமைந்துள்ள மலைத்தொடர்கள்

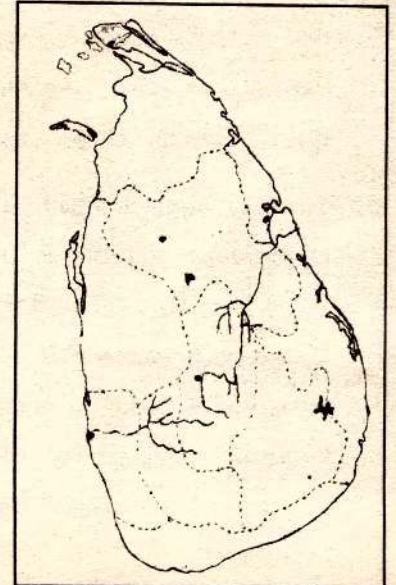
மலை	உயரம்	அமைந்துள்ள இடம்
1. பேதுருநாலகாலமலை	2524 m	நுவரெலியா
2. கிரிகல் பொத்த	2380 m	நுவரெலியா
3. கொட்டபொல	2346 m	நுவரெலியா
4. குடஹகல	2306 m	நுவரெலியா
5. ஹக்கல	2160 m	நுவரெலியா
6. நமுனுகுல	2024 m	பதுளை
7. நக்கில்ஸ்	1852 m	கண்டி
8. சிவனொளிபாதமலை	2265 m	ஹட்டன்

நீர்த்தேக்கங்கள்


1. விக்டோரியா நீர்த்தேக்கம்
2. கொத்மலை நீர்த்தேக்கம்
3. சேனாநாயக்க சமுத்திரம்
4. எந்தெனிகல நீர்த்தேக்கம்
5. உடவளவை நீர்த்தேக்கம்
6. போவந்தன நீர்த்தேக்கம்

வழங்கப்பட்டுள்ள இலங்கைப் படத்தில் பின்வரும் இடங்கள் குறிப்பிடப்பட்டுள்ளன. அவற்றிற்குப் பொருத்தமான இடங்களில் ஏற்ற ஆங்கில எழுத்தை எழுதுங்கள்.


- A இலங்கையின் பிரதான துறைமுகம்.
- B திருகோணமலையில் கடலுடன் கலக்கும் மிக நீளமான நதி.
- C தலதா மாளிகை அமைந்துள்ள நகரம்.
- D தென் மாகாணத்தைக் குறிக்கும் பிரதேசம்.
- E வடமாகாணத்தின் தலை நகர் அமைந்துள்ள இடம்.
- F வடமத்திய மாகாணத்தில் அமைந்துள்ள தாதுசேன மன்னனால் கட்டப்பட்ட குளம்.
- G வடமேல் மாகாணத்தைக் குறிக்கும் பிரதேசம்.




பயிருக்குத் தீங்கு செய்யும் பிராணிகள்




பயிருக்கு நன்மை செய்யும் பிராணிகள்



பயிருக்கு நன்மை, தீமை இரண்டையும் செய்யும் பிராணிகள்



பூக்கள்





விநியோகஸ்தர்கள் :

காயத்திரி பப்ளிகேஷன்

த. பெ. இல.: 64,

தெஹிவளை.

011 - 4981906

Digitized by Noolaham Foundation.
noolaham.org | aavanaham.org

விலை : 200/=